



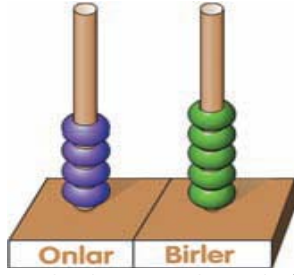
ADI-SOYADI:

Onluk-Birlik / Karşılaştırma / Sıra Sayıları

2

2.SINIF  
MATEMATİK

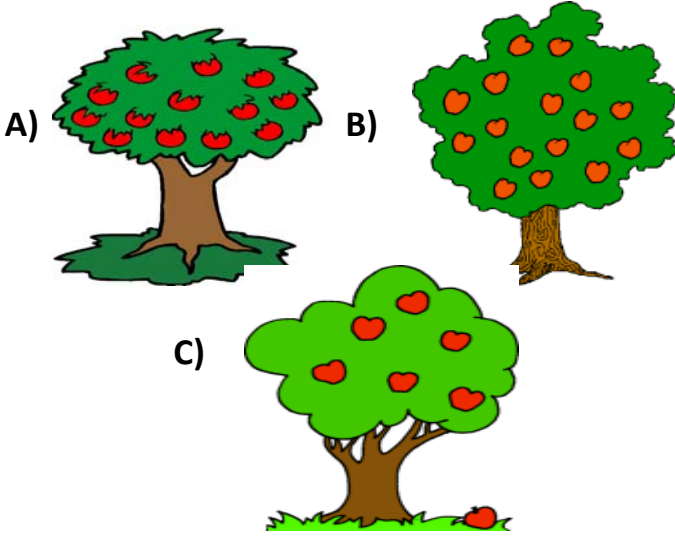
- 1) Metin, abaküste 35 sayısını göstermiş. O sırada kardeşi gelip abaküsü bozmuştur.



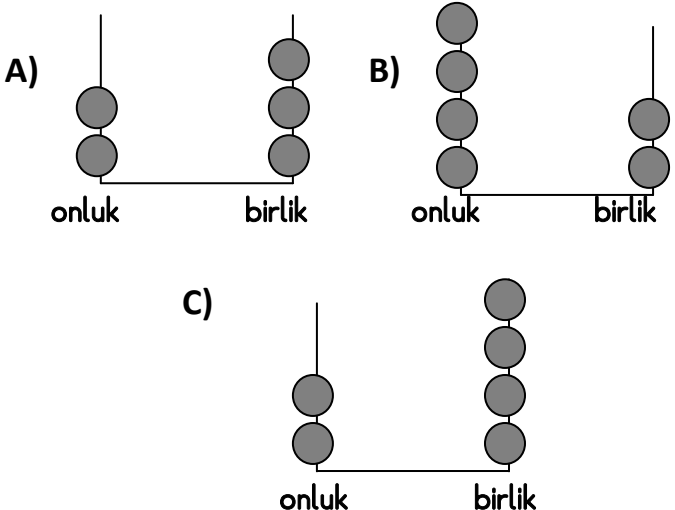
Metin' in kardeşinin abaküste bozduğu basamak hangisidir?

- A) Onluk bölümüne 1 fazla boncuk koymuştur.  
B) Birlik bölümünden 1 boncuk çıkarmıştır.  
C) Her iki bölüme de 1'er boncuk koymuştur.

- 2) Aşağıdaki ağaçlardan hangisinde 1 onluktan 3 fazla elma vardır?



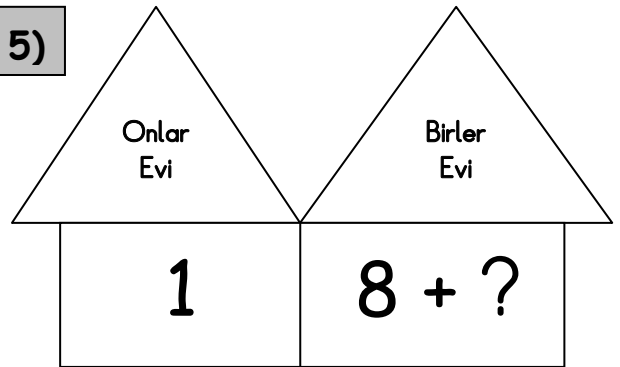
- 3) 4 onluk 2 birliği gösteren abaküs aşağıdakilerden hangisidir?



- 4) 3 onluktan oluşan bir sayıya 1 onluk, 2 birlik eklediğimizde evimizin kapı numarası ortaya çıkıyor. Bize ait kapı hangisidir?



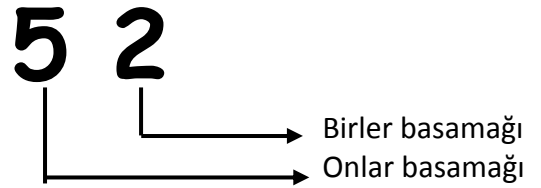
5)



Yukarıdaki birler evine en az kaç birlik eklenirse, birlikler oraya sığmayarak komşudaki onluk evine taşınırlar?

- A) 1 B) 2 C) 4

6)



52 sayısının birler basamağına kaç eklersek, onlar basamağını 1 artırmış oluruz?

- A) 4 B) 7 C) 8

7)



Aklımdan tuttuğum sayının birler basamağı, onlar basamağının yarısıdır.

Meltem' in aklından tuttuğu sayı hangisi olamaz?

- A) 63 B) 42 C) 24

8)

Onlar basamağı

Birler basamağı

6

.....

Yukarıdaki sayının onlar basamağı 6' dır. Buna göre birler basamağına kaç farklı rakam yazılabilir?

- A) 7 B) 9 C) 10

9)

Aşağıdaki çocuklar sevdikleri sayıları söylemişlerdir. Bu sayılardan hangi ikisini yan yana getirirsek en küçük sayı oluşur?



- A) Ömer – Azra B) Azra – Ömer  
C) Ali – Evlin

10)



Aklımdan tuttuğum sayı 52' den büyük, 56' dan küçüktür.

Cansu' nun aklından tuttuğu sayı aşağıdakilerden hangisi olamaz?

- A) 54 B) 55 C) 56

11)

Ayşe hanım, " Kaç yaşındasınız? " sorusuna şöyle yanıt veriyor:



30 yaşından küçük, 28 yaşından büyüğüm.

Açıklamasına göre Ayşe Hanım, kaç yaşındadır?

- A) 29 B) 27 C) 26

12)

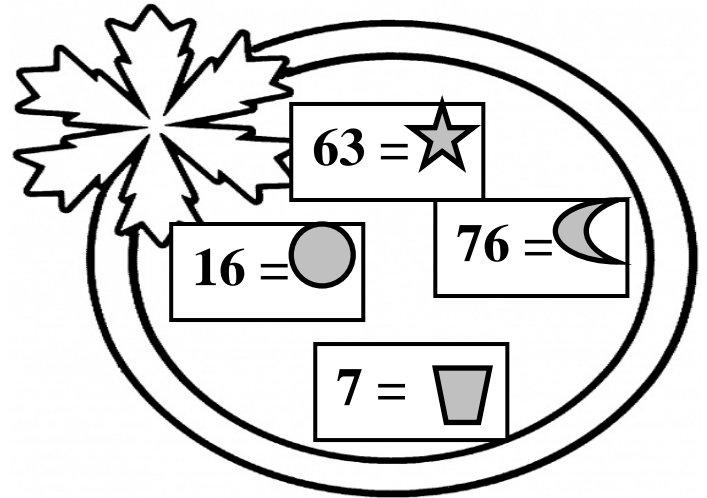
Aşağıdaki sayıları büyükten küçüğe doğru sıralarsak en başta ve en sonda yer alan sayılar hangileri olur?



- A) 76 – 16 B) 16 – 41  
C) 89 – 16

13)

Aşağıda bazı sayılarla şekiller eşitlenmiştir.



Sayıların yerine geçen şekilleri küçükten büyüğe doğru dizdiğimizde sıralama hangisi gibi olur?

- A) Circle, Trapezoid, Crescent, Star  
B) Trapezoid, Circle, Star, Crescent  
C) Trapezoid, Circle, Crescent, Star

14)



13 evin olduğu bir sokakta ortadaki eve mektup götürüyorum.

Postacı kaçıncı eve mektup götürmektedir?

- A) 6. B) 7. C) 8.

ŞİMDİ KONTROL ZAMANI...