

## Matematik Dersi Çalışma Kağıdı



Kilogram ağırlık ölçü birimidir. Kısaca “kg” sembolü ile gösterilir. Kilogram diye okunur. 1 kilogramın yarısına yarım kilogram denir. 1 kilogramda 2 tane yarım kilogram vardır.








Her cismin bir ağırlığı ( kütlesi ) vardır. Cisimlerin ağırlıklarını bulmak için tartarız. Yukarıda da bazı ağırlık ölçü araçları verilmiştir. ( İnceleyiniz )

Örnek:

Pazardan meyve ve sebze aldığımızda tartılır. Marketten fasülye, nohut, pirinç aldığımızda tartılır. Ya da kendi ağırlığımızı bulmak için tartılırız.

Aşağıdaki soruları yanıtlayınız.

1. Aşağıda resmi verilen ürünlerden hangileri tartılır?

- a)  b)  c) 
- d)  e)  f)  g) 

2. Aşağıdakilerden hangileri kilogramla ölçülür?

- a) Bir torbadaki patatesler e) kullandığım parfüm  
b) Elif'in ağırlığı f) Meyve suyum  
c) Tuğba'nın boyunun uzunluğu g) marketten aldığımız tavuk eti

3. Aşağıdaki mesleklerden hangilerini yapan kişiler, tartı aletini kullanırlar?

- a) Kumaş satan manifaturacı d) Mutfak dolabını yaptırdığımız marangoz  
b) Sokağımızdaki manav e) Penceremizin camını takan camcı  
c) Mahallemizdeki market f) Süt aldığımız sütçü

4) Aşağıdaki boşlukları doldurunuz.

- a) Uzunluk ölçme birimi ..... dir.  
b) zamanı ..... ile ölçeriz.  
c) Ağırlık ölçme birimi ..... dir.

5) 1 kilogram.....aldım

Yukarıdaki noktalı yere aşağıdakilerden hangileri yazılamaz.

- a) Soğan b) silgi c) ayran ç) limon  
d) muz e) üzüm f) fındık g) sıvı yağ

### Matematik Dersi Çalışma Kağıdı

6) Evimizde 4 paket şeker vardır. Şekerin bir paketi 3 kg'dır.Evimizde toplam kaç kg şeker vardır?



7. Annem pazardan elinde 6 poşet domatesle döndü. Her poşette 5 kg domates olduğuna göre ,annem pazardan kaç kg domates almıştır?



8. Köyden satmak için 8 çuval fındık geldi.. Her çuvalda 10 kg fındık olduğuna göre köyden kaç kg fındık gelmiştir?



9) Furkan 32 kg'dır, Ayşe 29 kg ve Kevser 35 kg'dır. Üçünün toplam ağırlığı kaç kg'dır?



10. Annem 89 babam 96 kg'dır. Babam annemden kaç kg ağırdır?



11. Fırıncı Alper'in 24 kg unu vardır. Fakat onun 41 kg una ihtiyacı vardır. Fırıncı Alper daha kaç kg un almalıdır?



12. Emre 36 kg'dır. Sude ise Emre'nin ağırlığının dörtte biri kadardır. Sude kaç kg'dır?



13. Sümeyra 18 kg'dır. Betül 'ün ağırlığı Sümeyra'nın ağırlığının yarısı kadardır. İkisinin toplam ağırlığı kaç kg'dır?

