

FEN BİLGİSİ DENEME SINAVI-2-

Adı-soyadı :

Sınıfı:

No:

1- Duyu organlarımızla ilgili verilen boşlukları doldurunuz.

- Görme organımız.....dür.
- Sesleri ile duyarız.
-ile tat alırız.
- Kokularıile alırız
- Bütünile hissederiz.

2- Aşağıdaki duyu organlarımızdan hangisi vücudumuzda daha geniş bir bölgededir ?

- A) Kulak B) Deri C) Burun

3- Aşağıdaki maymunlardan hangisi duyu organımızı göstermez?



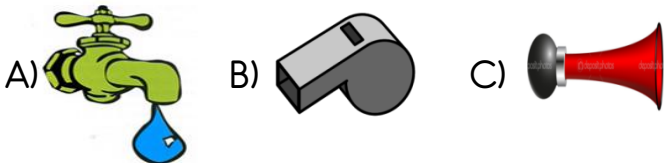
4-  Yarasanın hangi duyusu yoktur?

- A) Görme B) Duyma C) Koklama

5- Sağır, dilsiz ve kör olan bir insan hangi duyularını kullanamaz?

- A) Duyma , tat alma.
B) Görme ve tat alma.
C) Görme ve duyma

6- Verilen varlıklardan hangisi doğal ses kaynağıdır?



7- Aşağıdaki cümlelerden hangisinde doğal ses kaynağı kullanılmıştır?

- A) Arabanın kornasını bozuldu.
B) Minik kuş annesini çağırıyordu.
C) Sazımın teli koptu.

8- Aşağıdaki varlıklarla çıkardıkları sesi eşleştiriniz.



Tik tak tik tak



Tisssssssssssssssss

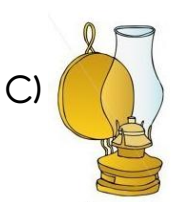
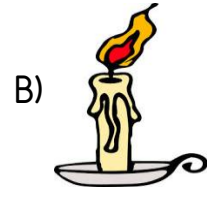
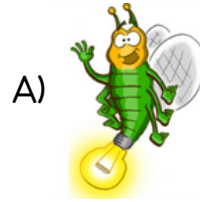


Dıpp dıpp dıpp dıpp



Gıyyy gıyyy gıyyy

11- Aşağıdaki ışık kaynaklarını gruplarsak hangisi dışarıda kalır?



12- Hangi seçeneğin tamamı yapay ışık kaynağına örnektir?

- A) Mum, güneş, lamba
B) Şimşek, kibrit , yıldız
C) Gaz lambası, meşale, el feneri

9- Hangi ışık kaynağı için ücret ödemiyoruz?

A) Işıldak B) Güneş C) Lamba

10- Aşağıdakilerden hangileri yapay ışık kaynağıdır?



1 2 3 4

A) 1-4 B) 3-4 C) 2-3

13- Aşağıdaki maddeleri durumlarına göre eşleştiriniz.



Gaz

Katı

Sıvı

14- Yandaki resimde maddenin hangi haline örnek yoktur ?

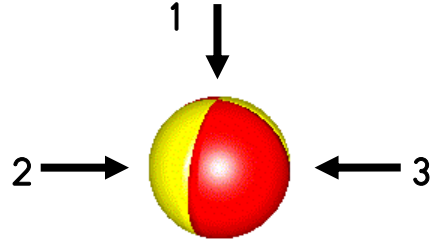


A) Katı B) Sıvı C) Gaz

15- Aşağıdaki ifadelerin doğru olanların başına "D", yanlış olanların başına "Y" harfini koyunuz.

- () Katıların belli şekilleri vardır.
- () Sıvılar konuldukları kabın şeklini alırlar.
- () Maddeler sadece katı halde bulunur.
- () Katı maddeler akışkan değildir.
- () Su buz halinde iken katıdır.
- () Gaz halindeki maddelerin şekli yoktur.

16-



Yukarıdaki topu hareket ettirmek için hangi numaralardan kuvvet uygulamak gerekir?

A) 1 ve 2 B) 2 ve 3 C) 1 ve 3

17- Aşağıdaki varlıklardan hangisi farklı bir yolla ile hareket eder ?



18-




Yandaki kemancı keman çubuğunu hareket ettirmek için hangi hareket çeşidini kullanmamıştır?

A) İtme B) Çekme C) Sallanma

19- Aşağıdakilerden hangisi çekme hareketine örnektir?

- A) Rüzgarda uçan uçurtma.
- B) Karıncanın ağır bir yiyeceği götürmesi.
- C) Alışveriş sepetinin hareketi.

20-



Aynı güce sahip iki adam bir kutuyu zıt yönde itiyorlar.

Buna göre aşağıdakilerden hangisi doğrudur ?

- A) Kutu, 1 numaralı adam yönünde hareket eder.
- B) Kutu, 2 numaralı adam yönünde hareket eder.
- C) Kutu hareket etmez.