

ADI:
SOYADI:
NO:
SINIF:

SOSYAL BİLGİLER-6

II. DÖNEM I. YAZILI SINAVI

..... ORTAOKULU



PUAN

6. SINIF

A) Aşağıda verilen cümlelerden doğru olanların başına "D" yanlış olanların başına "Y" yazınız. (11 PUAN)

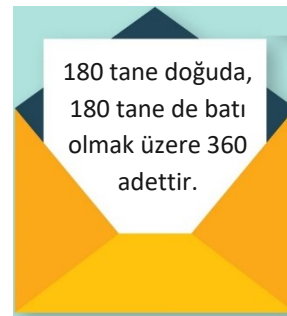
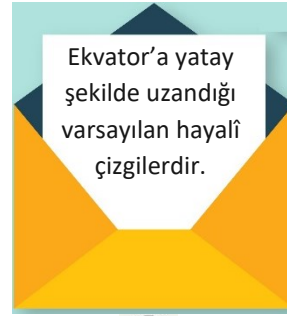
- ☐ İnsanların geçmişlerini, yaşadıkları çevreyi, yaşam tarzlarını ve kültürlerini inceleyen bilim dallarına sosyal bilimler adı verilir.
- ☐ Farklı fikirler üretebilmek, uygulanabilir çözümler sunabilmek yeniliklere kapalı olmakla mümkündür.
- ☐ Dilimiz, dinimiz ve tarihimiz bizleri bir arada tutan kültürel bağlar arasında yer alır.
- ☐ Patent belgesi sayesinde buluşun başka kişi ve kurumlar tarafından kullanılması engellenebilir.
- ☐ Bilimsel araştırma basamaklarının ilki kaynakça oluşturmaktır.
- ☐ Bir ülkenin sahip olduğu kaynaklar, o ülkede yapılan ekonomik faaliyetleri etkiler.
- ☐ Toplumla uyumlu bir şekilde yaşamamızı sürdürebilmek için farklılıklara saygı göstermek önemlidir.
- ☐ Tarım ürünlerini, uygun koşulları oluşturarak mevsimi dışında üretmeye seracılık adı verilir.
- ☐ Başlangıç meridyeni Londra'nın Greenwich (Griniç) kasabasından geçer ve 0° ile gösterilir.
- ☐ İslamiyet gelmeden önce de Arap Yarımadası'nda siyasi birlik vardı.
- ☐ İpek Yolu, Çin'in Şian şehrinden başlayıp Avrupa'ya kadar uzanan dünyaca ünlü bir ticaret yoludur.

B) Aşağıda verilen boşluklara uygun kelimeleri yazınız. (15 PUAN)

TARIM	BAHARAT	HİCRET	EKVATOR
İPEK	MADENCİLİK	KUTUP	MERİDYEN

- Müslümanların müşriklerin baskısından kurtulmak için Mekke'den Medine'ye yaptıkları göçe denir.
- Hindistan'dan başlayarak Avrupa'ya kadar uzanan ticaret yoluna yolu denir.
- ikliminde yıl boyunca hava sıcaklığı 0°C'nin altındadır.
- Dünya'yı tam ortadan ikiye ayırdığı varsayılan hayalî çizgiye denir.
- Türklerin, tarihte demir madenini işlemesi alanında geliştiklerini gösterir.

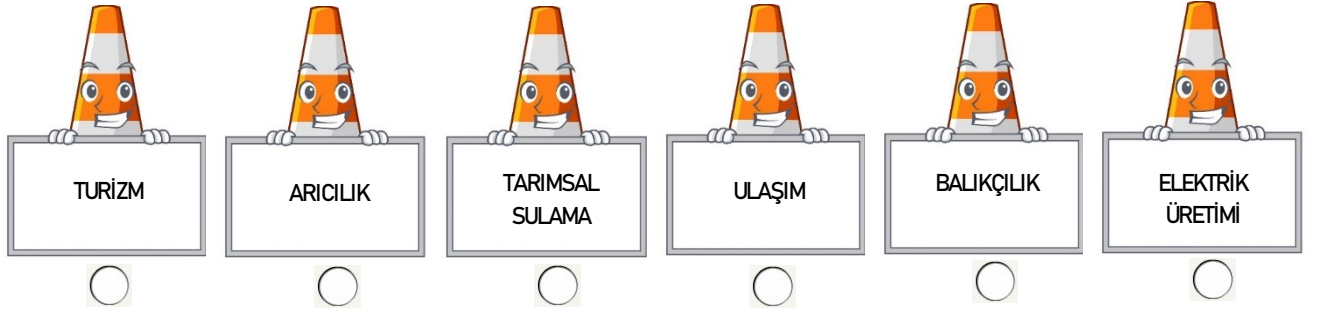
C) Verilen bilgilerden paralellere ait olanlara "P" meridyenlere ait olanlara ise "M" yazınız. (8 PUAN)



D) Verilen cümlelerden nüfusun dağılışını etkileyen doğal faktörleri "D", beşeri faktörleri ise "B" harfi ile gösteriniz. (10 Puan)

<input type="checkbox"/>	<input type="checkbox"/>	<input type="checkbox"/>	<input type="checkbox"/>	<input type="checkbox"/>
Ulaşımın rahat yapıldığı alanlarda nüfus daha fazladır.	İklim şartlarının olumsuz olduğu alanlar yerleşim için uygun değildir.	Ülkemizde tarımın yapıldığı ova ve platolarda nüfus fazladır.	Turizmin geliştiği alanlarda Nüfus fazladır.	Toprağın verimli olduğu alanlar yerleşim yeri olarak seçilir.

E) Su kaynaklarının kullanıldığı alanları "✓" sembolü ile işaretleyiniz. (12 Puan)



F) Aşağıda açıklaması verilen sosyal bilim dallarını uygun şekilde eşleştiriniz. (8 Puan)

1.

Geçmişte yaşamış insan topluluklarından kalan eserlerin ortaya çıkarılıp incelenmesini ve insanlığın yararına sunulmasını sağlayan bilim dalıdır.

2.

İnsanların geçmişteki faaliyetlerini, kültür ve medeniyetlerini, birbirleriyle olan ilişkilerini, sebep-sonuç ilişkisi içerisinde, yer ve zaman göstererek, belgelere dayalı olarak inceleyen bilim dalıdır.

3.

İnsanın içinde yaşadığı çevrenin doğal özelliklerini, insan ve doğal çevre arasındaki etkileşimi konu edinen bilim dalıdır.

4.

Toplumların örf ve adetlerini, yaşam biçimlerini, toplumsal olayların oluşumunu ve gelişimini inceleyen bilim dalıdır.

COĞRAFYA

ARKEOLOJİ

SOSYOLOJİ

TARİH

1



2019'un Göbeklitepe Yılı ilan edilmesiyle beklentilerin yükseldiği Şanlıurfa'da, kış mevsimi olmasına ve sezonun açılmamasına rağmen hareketlilik yaşanıyor. Özellikle hafta sonları çok sayıda kişinin geldiği kentte yaşanan yoğunluk, otel işletmecilerini ve esnafın yüzünü güldürüyor. Geçen yıl düzenlenen 42'nci Dünya Miras Komitesi Toplantısı'nda Dünya Mirası Kalıcı Listesi'ne dâhil edilen Göbeklitepe sayesinde ziyaretçi yoğunluğu yaşanan kentte, birçok otel bahar ayları için rezervasyonlarını tamamladı. (Genel ağ haberi)

Buna göre Göbeklitepe'nin Şanlıurfa'da aşağıdaki alanlardan hangisine katkı sağladığı söylenebilir?

- A) Tarım B) Turizm C) Madencilik D) Sanayi

2

Yazarların aylarca hatta yıllarca çalışarak, fikir üreterek, emek vererek yazmış oldukları eserleri, izin almadan gizlice çoğaltmak korsan ürün olarak nitelendirilir. Korsan ürünlerin satışı yasal olmadığı için, korsan satışlara vergilendirme yapılamamaktadır. Bununla birlikte eser sahipleri emeklerinin karşılığını almadıkları gibi yaratıcılıkları da etkilenmektedir.

Buna göre korsan ürün alım ve satımının aşağıdakilerden hangisine neden olduğu söylenemez?

- A) Devlet gelirlerinin azalmasına
B) Toplumun bilinçlenmesine
C) Üretkenliğin azalmasına
D) Fikir hırsızlığına



3

Güneydoğu Anadolu Projesi su kaynaklarını özellikle de Fırat ve Dicle nehirlerini etkili kullanarak sosyal, kültürel, ekonomik ve çevresel gelişmeyi içeren bir bölgesel kalkınma projesidir. GAP'ın bölgeye etkilerine şu örnekler verilebilir:

- GAP'tan sonra Şanlıurfa pamuk üretiminde ülke birincisi olmuştur.
- Bölgenin tarihi ve doğal güzelliklerinin fark edilmesi sağlanmıştır.
- Pamuklu dokuma fabrikaları açılmıştır.

Verilen örneklerde GAP'ın aşağıdaki alanlardan hangisine katkısından bahsedilmemiştir?

- A) Sanayi B) Tarım C) Madencilik D) Turizm



4

Doğal yollarla oluşan; toprak, su, maden, orman, rüzgâr ve güneş gibi insanların ihtiyaçlarını karşılayan her türlü zenginliğe doğal kaynak denir. İnsanlar, ekonomik faaliyetlerde bulunarak doğal kaynakları kazanca dönüştürmüştür.

Buna göre, aşağıdakilerden hangisi doğal kaynakların ekonomik faaliyetlere dönüşümüne örnek olarak gösterilemez?

- A) Eğitim fakültesinde okuyan Meltem Hanım'ın tarih öğretmeni olması
B) Ormanlık bir bölgede yaşayan Ali Bey'in kerestecilik yapması
C) Zeytin üretimi yapan Mustafa Bey'in zeytinyağı üretmesi
D) Deniz kıyısında yaşayan Ahmet Bey'in balık satması



5

Yardımlaşma ve dayanışma, hayatımızın vazgeçilmez değerleridir. Hayatta bazen yalnız iken yapamayacağımız, üstesinden gelemeyeceğimiz işler vardır. Böyle zamanlarda iş birliği yapmak, gücümüzü ve yeteneklerimizi birleştirmek gerekir. Bu konu sözlü edebiyat kültürümüze de yansımış yardımlaşma ve dayanışma ile ilgili birçok atasözü söylenmiştir.

Buna göre aşağıdaki atasözlerimizden hangisi yardımlaşma ve dayanışma kavramıyla ilgili değildir?

- A) Baş başa vermeyince taş yerinden kalkmaz.
- B) Yalnız taş duvar olmaz.
- C) Damlaya damlaya göl olur.
- D) Bir elin nesi var, iki elin sesi var.

6

Babasının tayininin yazın Ardahan'a çıkmasından dolayı ailesiyle birlikte İzmir'den yola çıkan Ahmet, Ardahan'a giderken Konya civarlarında yolların oldukça uzun ve düz, havanın ise oldukça sıcak olduğunu fark etmiştir. Sivas dolaylarında ise yolların dağların arasında geçtiğini gittikçe de havanın serinlediğini ve Erzurum ve Ardahan civarlarında da yolların biraz düzleşip serinliğin biraz daha arttığını fark etmiştir. Aynı zamanda ağaçların oldukça azaldığını ve bitki örtüsünün de geniş otlaklar şeklinde olduğunu gözlemlemiştir.

Yolculuk esnasında Ahmet'in gözlemlediği bu coğrafi değişiklik Türkiye'nin;

- I. İklim özellikleri,
- II. Yer şekilleri,
- III. Meridyen dereceleri

özelliklerinden hangileri ile ilgilidir?

- A) Yalnız I
- B) Yalnız II
- C) I ve II
- D) I ve III



7



Dünyanın en eski halılarından biri olan Pazırık Halısı'nın, MÖ III. yüzyılda Asya Hun Türklerine ait olduğu belirlenmiştir. Rus arkeolog C.I. Rudenko tarafından 1947-1949 yılları arasında Sibiry'a'da Altay Dağları eteklerinde, Türklere ait olan Pazırık kurganındaki oda şeklinde olan mezardan çıkarılmıştır.

Verilenlerden hareketle Pazırık Halısı, Türklerin özellikle hangi alanda geliştiklerinin göstergesidir?

- A) Madencilik
- B) Dokumacılık
- C) Askerlik
- D) Tarım