

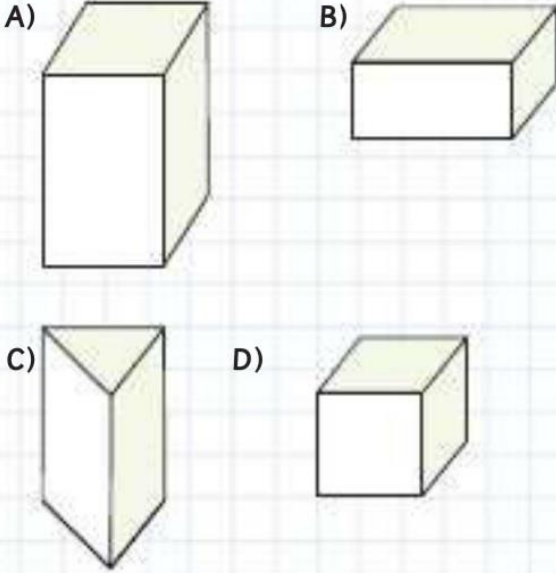
ÖĞRENCİNİN;

ADI/SOYADI:.....

SINIFI/NUMARASI:.....

1.

Aşağıdaki geometrik şekillerden hangisi kare prizmadır?



2.

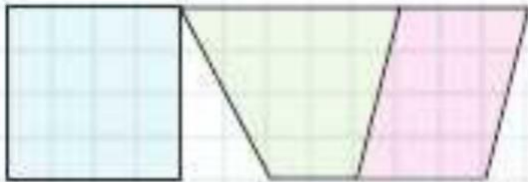
Ayşe	Ergün	Esra	Oğuz
$\frac{3}{30}$	$\frac{2}{6}$	$\frac{1}{5}$	$\frac{2}{3}$

Yukarıdaki tablo dört kişinin aynı kitabın kaçta kaçını okuduğunu gösteriyor.

Buna göre en fazla sayfayı kim okumuştur?

- A) Ayşe B) Ergün
C) Esra D) Oğuz

3.



Yukarıdaki kareli zeminde verilen şekilde aşağıdaki dörtgenlerden hangisi kullanılmamıştır?

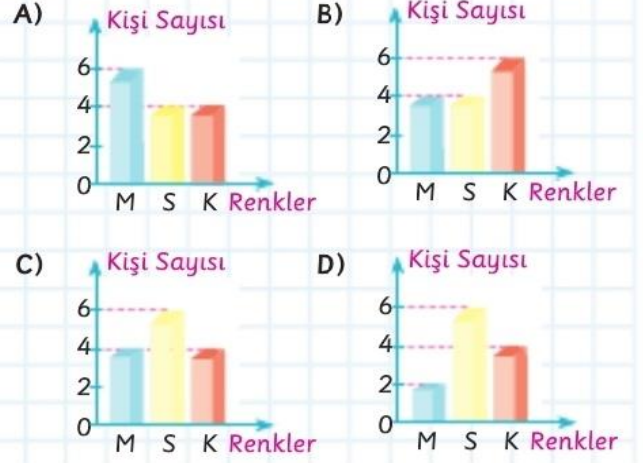
- A) Kare B) Eşkenar dörtgen
C) Yamuk D) Paralelkenar

4.

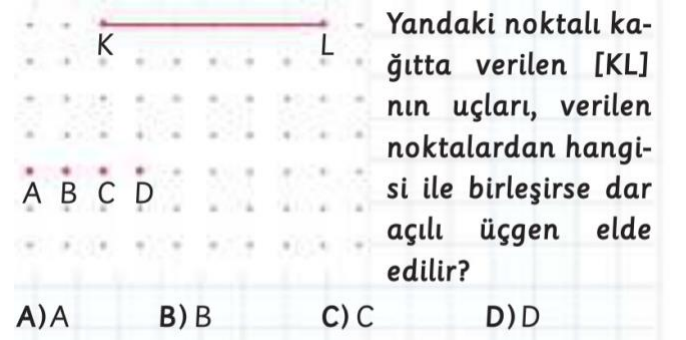
Bir sınıftaki öğrencilere “En sevdiğiniz renk hangisidir?” sorusu sorulmuş ve cevaplar aşağıdaki gibi olmuştur.

Sarı	Mavi	Sarı	Sarı	Sarı
Sarı	Kırmızı	Mavi	Mavi	Kırmızı
Mavi	Kırmızı	Sarı	Kırmızı	

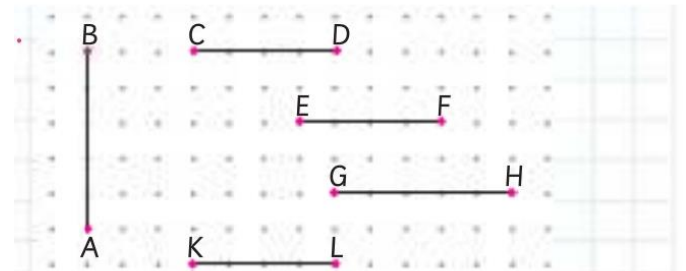
Buna göre bu verilerin gösterildiği sütun grafiği aşağıdakilerden hangisidir?



5.



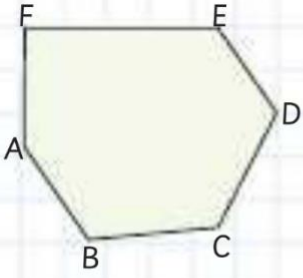
6.



Yukarıdaki noktalı kağıtta verilen doğru parçaları için aşağıdakilerden hangisi yanlıştır?

- A) $[AB] \cong [GH]$
B) $[CD] \cong [EF]$
C) $[EF] \cong [AB]$
D) $[KL] \cong [CD]$

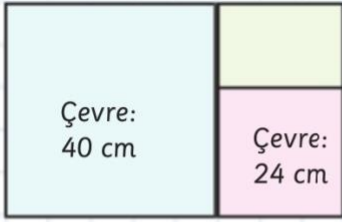
7.



Yanda verilen ABCDEF çokgeninde aşağıdaki köşelerden hangisi birleştirilirse köşegen elde edilmez?

- A) F ile C B) D ile A
C) A ile E D) F ile A

8.



Yandaki şekil karesel ve dikdörtgen-sel bölgeden oluşmuştur.

Karesel bölgelerin çevreleri verildiğine göre dikdörtgensel bölgenin alanı kaç cm^2 'dir?

- A) 12 B) 18 C) 24 D) 30

9.

Bir mağazadan gömlek alan Esra, kasiyere 100 TL verdiğinde 12,5 TL para üstü almıştır.

Buna göre gömleğin fiyatı kaç TL'dir?

- A) 97,5 B) 89 C) 87,5 D) 87

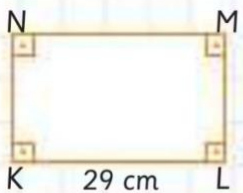
10.

Fatih fen bilimleri dersi için evlerinin bahçesi-ne 20 cm uzunluğunda bir fidan dikmiştir.

Fidan her gün 3 mm uzadığına göre bir ay sonra fidanın boyu kaç cm olur?(1 ay = 30 gün)

- A) 2009 B) 209 C) 29 D) 2,9

11.



Yanda verilen KLMN dikdörtgenin çevre uzunluğu 82 cm olduğuna göre KN kenarının uzunluğu kaç cm'dir?

- A) 13 B) 12 C) 11 D) 10

12.

Halil 80 TL parasının %30'u ile terlik, 23 TL'si ile de çorap almıştır.

Buna göre Halil'in kaç TL'si kalmıştır?

- A) 43 B) 33 C) 23 D) 13

13.

Kitap yazmaya 21.04.2006 tarihinde başlayan Arzu, 7 yıl 9 ay 4 gün sonra kitabını yazmayı bitirmiştir.

Arzu hangi tarihte kitabını yazmayı bitirmiştir?

- A) 25.10.2013 B) 25.01.2014
C) 25.10.2014 D) 25.01.2013

14.

Bir sınıf başkanlığı seçiminde oyların $\frac{4}{9}$ 'ünü

Feyza, $\frac{1}{3}$ 'ünü Yusuf, geriye kalanlarını ise Emre

almıştır.

Buna göre Emre tüm oyların kaçta kaçını almıştır?

- A) $\frac{1}{9}$ B) $\frac{2}{9}$ C) $\frac{3}{9}$ D) $\frac{4}{9}$

15.

Arda parasının $\frac{4}{7}$ 'ünü harcadıncaya geriye 63 TL'si kalıyor.

Buna göre Arda'nın parasının tamamı kaç TL'dir?

- A) 36 B) 72 C) 144 D) 147

16.

Çokgen	Sayı
Üçgen	8
Dörtgen	7
Beşgen	5

Çokgenlerle ilgili bir testteki soruların kaçar tanesinin hangi çokgenle ilgili olduğu tabloda verilmiştir.

Buna göre soruların % kaçı dörtgenlerle ilgilidir?

- A) % 25 B) % 30 C) % 35 D) % 40