

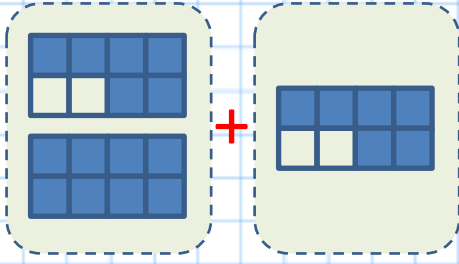
## 2. Dönem



1-) Aşağıdaki boşluklara kesirli sayılar yazarak sıralamayı uygun şekilde oluşturun. (5 Puan)

$$\frac{\dots}{\dots} > \frac{\dots}{\dots} > \frac{\dots}{\dots} > \frac{\dots}{\dots}$$

2-) Modellemesi verilen kesirli işlemi yapın. (5 Puan)



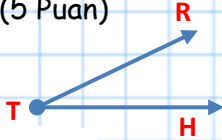
$$\frac{\dots}{\dots} + \frac{\dots}{\dots} = \frac{\dots}{\dots}$$

3-) Aşağıdaki dikdörtgeni ve kenarlarını isimlendirin. (5 Puan)

Şeklin ismi: .....  
1.Kenar: .....  
2.Kenar: .....  
3.Kenar: .....  
4.Kenar: .....



4-) Aşağıdaki açıyı üç farklı şekilde isimlendirin. (5 Puan)



1.İsim: .....  
2.İsim: .....  
3.İsim: .....

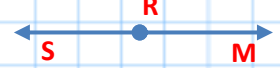
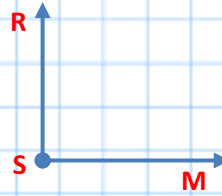
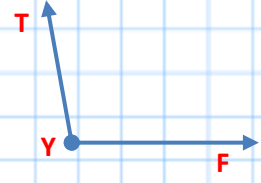
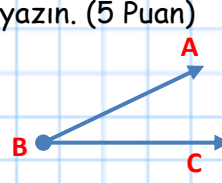
5-) Açıölçerinizi kullanarak aşağıya 120 derecelik bir açı çizin. (6 Puan)



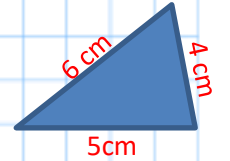
6-) Yandaki saatte yelkovan 12'yi, akrep ise 4'ü göstermektedir. Akrep ile yelkovan arasındaki açı kaç derecedir? (5 Puan)  
(Sonucu açıölçer kullanmadan matematik işlemleri ile bulun.)



7-) Aşağıdaki açıların çeşitlerini altlarına yazın. (5 Puan)

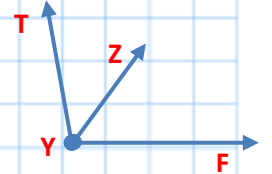


8-) Aşağıdaki üçgenlerin kenarlarına göre hangi çeşit üçgen olduklarını altlarına yazın. (6 Puan)



9-) Aşağıdaki açıları ile ilgili bilgiler verilmiştir. Buna göre bilinmeyen açı kaç derecedir? (5 Puan)

$$\begin{aligned} \angle TYF &= 110 \text{ derece} \\ \angle FYZ &= 45 \text{ derece} \\ \angle ZYT &= ? \end{aligned}$$



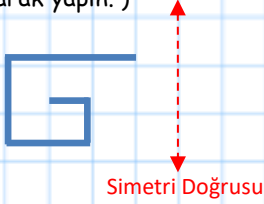
10-) Aşağıdaki saat, dakika dönüşümlerini yapın. (5 Puan)

16 sa = ..... dk  
240 dk = ..... sa  
72 sa = ..... dk  
5 sa = ..... dk  
180 sn = ..... dk

## 2. Dönem



- 11-) Tel ile oluşturulmuş aşağıdaki şeklin simetri doğrusuna göre simetrisini çizin. ( 5 Puan) ( Çizimi yaparken kağıttaki kareleri dikkate alarak yapın. )




- 12-) Aşağıdaki dikdörtgen şeklindeki parkurun çevresinde 3 tur atan Kübra 300 metre koşmuş oluyor. Parkurun bir kısa yolu 10 metre olduğuna göre bir uzun yolu kaç metredir? (5 Puan)



- 13-) Kağıt üzerindeki kare çizgileri dikkate alarak aşağıdaki şekillerin çevrelerinin kaç birim olduğunu yazın. (6 Puan)

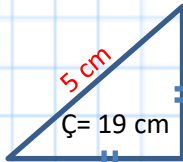
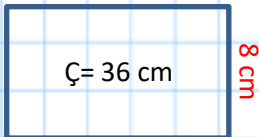


.....birim



.....birim

- 14-) Aşağıdaki çevre uzunlukları verilen şekillerin kenar uzunluklarını bulun. (6 Puan)

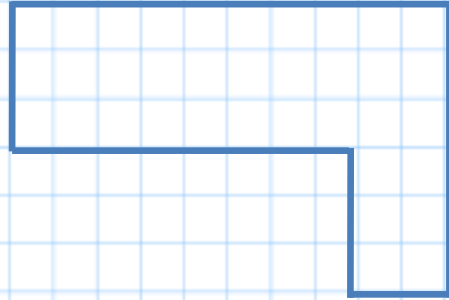


- 15-) Benim boyum kardeşimin boyunun 2 katıdır. İkimizin boyları toplamı 2 metre 76 cm uzunluğunda olduğuna göre kardeşimin boyu kaç santimetredir?? (5 Puan)

- 16-) Aşağıdaki uzunluk ölçülerinin çevrimlerini yapın. ( 5 Puan )

5 m = ..... cm  
580 mm = ..... cm  
46 km = ..... m  
584 cm = ..... m ..... cm  
3 m = ..... mm

- 17-) Aşağıdaki şeklin alanının kaç birim kare olduğunu bulun. (5 Puan) ( Kareli çizgileri dikkate alarak alanı hesaplayın.)



- 18-) Aşağıdaki geometrik şekillerin alanlarını hesaplayın. (6 Puan)



Dikdörtgenin Alanı

.....



Karenin Alanı

.....

- 19-) Aşağıdaki bilgilerden yola çıkarak GDEF karesinin alanını bulun? (5 Puan)

ABCD bir dikdörtgen

ABCD çevresi = 36cm

IBCI = 12 cm

IDCI = IECI

DÊC çevresi = 17 cm

GDEF bir kare

GDEF alanı = ?

