



5.
SINIF



A
KİTAPÇIK TÜRÜ

T.C.
MİLLÎ EĞİTİM BAKANLIĞI
ÖLÇME, DEĞERLENDİRME VE SINAV HİZMETLERİ
GENEL MÜDÜRLÜĞÜ

VEHBİ KOÇ VAKFI, KOÇ ÖZEL İLKOKULU VE ORTAOKULU SEVİYE TESPİT SINAVI
(4. Sınıftan 5. Sınıfa Geçenler)
12 HAZİRAN 2022 Saat: 10.00

Adayın Adı ve Soyadı :
Aday Numarası (T.C. No) :

DERS ADI	SORU SAYISI	TOPLAM SORU SAYISI	SINAV SÜRESİ (DAKİKA)
TÜRKÇE	20	100	120
MATEMATİK	20		
FEN BİLİMLERİ	20		
SOSYAL BİLGİLER	20		
İNGİLİZCE	20		

ÖĞRENCİLERİN DİKKATİNE!

1. Sınıf öğrenci yoklama listesinde belirtilen sınıfta ve sıra numarasında oturunuz.
2. Cevap kâğıdındaki kimlik bilgilerinin doğruluğunu kontrol ediniz.
3. Kitapçık türünü cevap kâğıdındaki ilgili alana kodlayınız.
4. Cevap kâğıdı üzerindeki kodlamaları kurşun kalemle yapınız.



SINAV BAŞLAMADAN ÖNCE KİTAPÇIĞIN ARKA KAPAĞINDAKİ UYARILARI MUTLAKA OKUYUNUZ.

1. Aşağıdaki cümlelerde altı çizili sözlerden hangisi anlamca diğerlerinden farklıdır?

- A) Çanakkale gezisine hemen hemen elli kişi katılmıştı.
 B) Arkadaşlarıyla ara sıra görüşmeyi ihmal etmez.
 C) Sahildeki küçük köyleri zaman zaman ziyaret ediyordu.
 D) Bazen insanları kıracak davranışlarda bulunabiliyoruz.

2. Aşağıdakilerin hangisinde altı çizili kelime, karşısında verilen anlama uygun kullanılmamıştır?

A)	Aradığı belge aslında çekmecedeki <u>duruyormuş</u> .	Bir yerde olmak veya bulunmak
B)	Bu yaz otelde yaptığım tatili halam <u>karşıladi</u> .	Masrafı ödemek
C)	Sebzeleri, bozulmasının diye dolapta <u>sakladı</u> .	Gizli tutmak
D)	Bu küçük kitaplık bunca kitabı <u>kaldırır</u> mı?	Çekmek, taşımak

3. 1. Ateşin etrafına toplanan kampçılar nihayet ısınabildiler.
 2. Kamp alanına vardıklarında güneş battığından hava soğumaya başlamıştı.
 3. Isınmış olmanın verdiği keyifle şarkılar söylemeye başladılar.
 4. Soğuyan havanın etkisiyle üşümek için ateş yaktılar.

Numaralanmış cümlelerle anlamlı bir metin oluşturulduğunda hangisi baştan üçüncü olur?

- A) 1 B) 2 C) 3 D) 4

4. Kirazın derisinin altında kiraz
 Narın içinde nar
 Benim yüreğimde boylu boyunca
 Memleketim var
 Canıma ciğerime dek işlemiş

Bu şiirin ana duygusu aşağıdakilerden hangisidir?

- A) Doğa hayranlığı
 B) Yaşama sevinci
 C) Vatan sevgisi
 D) Kavuşma heyecanı

5. (1) Uzun bir yürüyüşün ardından ormanın derinliklerindeki şatoya vardılar. (2) Bu şatoda daha önce hiç kimsenin görmediği biri yaşırdı. (3) Şatoya girdiklerinde içerde altın kanatlı bir at gördüler. (4) Hepsi hayretle birbirlerine baktılar.

Bu metindeki numaralanmış cümlelerin hangisi hayalî öge içermektedir?

- A) 1 B) 2 C) 3 D) 4

6. Son yıllarda sarf ettiği olağanüstü çabayla şirketteki herkesi gölgede bıraktı.

Bu cümledeki altı çizili sözün anlamı aşağıdakilerden hangisidir?

- A) Birinden daha üstün, daha başarılı olmak
B) Herkes tarafından çok sevilir, sayılır olmak
C) Bir şeyin değerini azaltacak işler yapmak
D) Herkes tarafından konuşulur olmak

7. Tüccar yaşadığı kasabadan uzak bir şehre gitmek için yola çıktı. Yolu çok uzundu. Ormanda mola vermek istedi. Sıcaktan korunmak ve dinlenmek için büyük bir ağacın altına oturdu. Kafasındaki külahı çıkarıp yanına koydu, uykuya daldı.

Bu metinde aşağıdaki hikâye unsurlarından hangisine yer verilmemiştir?

- A) Şahıs B) Olay
C) Mekân D) Zaman

8. Gideceği limanı bilmeyen gemiye hiçbir rüzgâr yardım edemez.

Bu cümleyle anlatılmak istenen aşağıdakilerden hangisidir?

- A) Mutluluk, amaçları olan insanlara daha yakındır.
B) Hedef belli değilse çaba göstermenin faydası yoktur.
C) Başarıya giden hiçbir yol engelsiz değildir.
D) Hayal kuramayan insanlar yaratıcı olamaz.

9. (1) Selvi olarak da bilinen servi, boyu 30-35 metreye kadar ulaşabilen bir ağaçtır. (2) Pullu yapraklarının yeşil rengi diğer iğne yapraklı ağaçlara göre daha koyudur. (3) Bu nedenle onları renklerine bakarak ayırt etmek daha kolaydır. (4) Koyu yeşil yapraklarının üzerindeki kozalaklarıyla zırh giymiş bir şövalyeyi andırır.

Bu metindeki cümlelerin hangisinde benzetmeye başvurulmuştur?

- A) 1 B) 2 C) 3 D) 4

10. (1) Samsun, Karadeniz Bölgesi'nde yer alan bir ilimizdir. (2) Bu bölgenin en işlek ve en büyük limanına sahip kentidir. (3) Kent pirinç, mısır, nohut gibi ürünlerin yetiştiği verimli topraklara sahiptir. (4) Samsun'da hem denizin hem de temiz havanın keyfini çıkarmak mümkündür.

Bu metindeki numaralanmış cümlelerin hangisinde karşılaştırmaya yer verilmiştir?

- A) 1 B) 2 C) 3 D) 4

11. Mimarlar, bir bina tasarlamaya başlamadan önce birçok konuda araştırma yapar. Binanın yapılacağı bölgenin genel mimari özelliklerini inceler. Bu bölgenin iklim özelliklerini araştırır. Ayrıca binanın yeriyile ilgili yapılan zemin incelemesini ve bunun yanında binanın yapımı için ayrılan bütçeyi göz önünde bulundurur. Bütün bunlar önemlidir çünkü mimar, projesini bu bilgiler ışığında biçimlendirir.

Bu metinde mimarlarla ilgili aşağıdakilerin hangisine değinilmemiştir?

- A) Bina için yapılacak harcamaları hesaba kattıklarına
B) Binanın yapılacağı zeminle ilgili incelemeyi dikkate aldıklarına
C) Bina yapılacak bölgenin iklim şartlarını araştırdıklarına
D) Bina yapılacak bölgenin gelişmişlik düzeyine

12. (1) Evden çıktığında trenin hareket etmesine daha bir saat vardı. (2) Ancak yoğun trafik yüzünden treni kaçırdı. (3) İstasyondan uzaklaşan trenin ardından bakakaldı. (4) Neyse ki bir sonraki trenin kalkmasına az kalmıştı.

Bu metindeki numaralanmış cümlelerin hangisinde neden-sonuç ilişkisi vardır?

- A) 1 B) 2 C) 3 D) 4

13. Bilim insanlarının yaptığı bir araştırmaya göre bitkiler insanların kendilerine dokunduğunu algılayabiliyor. Dokunulan bitkilerin protein üretiminde bazı değişiklikler oluyor. Bu durum, bitkiye dokunduktan sonraki birkaç dakika içinde başlıyor ve yaklaşık yarım saat sonra sona eriyor. Bitkiler cımbız, çubuk, kalem gibi araçlarla dokunulduğunda da aynı tepkileri veriyor. Bu değişiklikleri kendilerini tehlikelerden korumak amacıyla yapıyor.

Bu metne göre, bitkilerle ilgili aşağıdakilerden hangisi söylenemez?

- A) Dokunmaya verdikleri tepki aniden başlar ve kalıcıdır.
B) Dokunmaya tepki verme sebebi kendilerini savunmalarıdır.
C) Protein üretiminde farklılıklar görülür.
D) Farklı nesnelerle dokunulduğunda benzer tepkiler vermektedir.

14. Kediler, sahipleri eve geldiğinde genellikle sahiplerinin bacaklarına sürtünerek onları karşılar. Bu karşılama sevgilerini gösterme şeklidir. Kediler sahiplerine sürtünerek hem kendi kokularını bırakır hem de sahiplerinin kokularını alır. Böylece sahibiyle arasındaki sevgi bağı kuvvetlenir.

Bu metin kedilerle ilgili aşağıdaki sorulardan hangisine cevap vermek amacıyla yazılmıştır?

- A) Sevildiklerini nasıl anlar?
B) Sahiplerine nasıl alışır?
C) Sahiplerine niçin sürtünür?
D) Kokularını yaymak için ne yapar?

15. Teknolojinin günlük hayatımızdaki yerini düşünelim. Sabahları telefonun alarmıyla uyanıyoruz. Otomobil, otobüs gibi taşıtlarla okula, işe gidiyoruz. Cep telefonu ile hızlıca iletişim kurabiliyoruz. Bilgisayar ve tablet ile iş yerlerindeki çalışmalarını yürütüyoruz. Bulaşık ve çamaşır yıkamak gibi ev işlerini daha kısa sürede bitirebiliyoruz. Bankacılık işlemlerini sanal ortamda birkaç tuşa basarak yapabiliyoruz.

Bu metnin yazılma amacı aşağıdakilerden hangisidir?

- A) Teknolojik gelişmelerin sürecini açıklamak
B) Teknolojinin insan yaşamına katkılarını aktarmak
C) Teknolojinin iletişimdeki önemini belirtmek
D) Teknolojiyi bilinçli kullanmanın gerekliliğini vurgulamak

16. Hakan ()
— Haydi arkadaşlar () Bugün akşam oynayacağımız maç için takımları kuralım.
— Maçı hangi sahada oynayacağımız belli mi () diye seslendi Cengiz ()

Bu metinde yay ayraçla () gösterilen yerlere sırasıyla gelmesi gereken noktalama işaretleri aşağıdakilerin hangisinde verilmiştir?

- A) (;) (.) (,) (?)
B) (:) (!) (,) (.)
C) (;) (!) (?) (.)
D) (:) (.) (?) (...)

17. Aşağıdaki cümlelerin hangisinde büyük harflerin yazımıyla ilgili bir yanlışlık yapılmıştır?

- A) Arkadaşım, Gulliver'in Gezileri adlı kitabı okumaya başlamış.
B) Bizim sokakta Zübeyde Hanım Kütüphanesi vardı.
C) Bu yıl etkinlikler Gazi Meydanı'nda yapılacaktır.
D) Kardeşim, Yunus Emre mahallesindeki okula başladı.

18. Akşam olunca sokak canlandı, içimizi bir coşku sardı.
- 1 2 3
4

Bu cümledeki numaralanmış kelimelerden hangisi mecaz anlamda kullanılmıştır?

- A) 1 B) 2 C) 3 D) 4

19. Bir yarışmaya ait afiş aşağıda verilmiştir.



**5 HAZİRAN
DÜNYA ÇEVRE GÜNÜ
RESİM VE TASARIM YARIŞMASI**

KATILIM ŞARTLARI

- İlkokul öğrencileri “Hayalimdeki çevre” konusuyla resim dalında,
- Ortaokul öğrencileri atıklardan yaptıkları maketle tasarım dalında katılabilecektir.

SON BAŞVURU TARİHİ
26.05.2022

BAŞVURU YERİ
Çevre, Şehircilik ve İklim Değişikliği İl Müdürlüğü

ÖDÜLLER

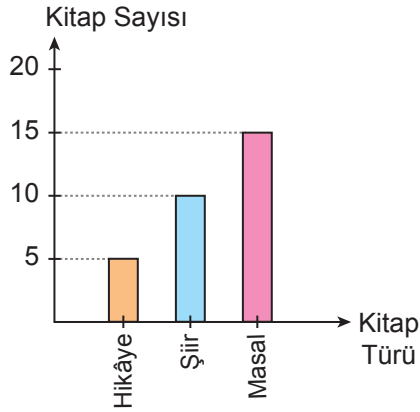
Birincilik ödülü : Bisiklet
İkincilik ödülü : Tablet
Üçüncülük ödülü : Akıllı saat



Bu afiştten hareketle aşağıdakilerden hangisi söylenebilir?

- A) Yarışmayı kazananlar 26.05.2022’de açıklanacaktır.
- B) Yarışmaya katılan her öğrenciye ödül verilecektir.
- C) Dereceye giren eserler Çevre ve Şehircilik İl Müdürlüğünde sergilenecektir.
- D) Yarışma ilkokul ve ortaokul öğrencileri için farklı dallarda yapılacaktır.

20. Ahmet'in, 4. sınıfın birinci döneminde okuduğu kitap türleri ve sayıları aşağıdaki grafikte verilmiştir.

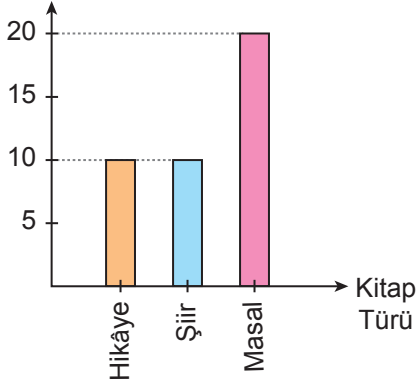


Ahmet'in ikinci dönem okuduğu kitaplarla ilgili bilinenler ise şöyledir:

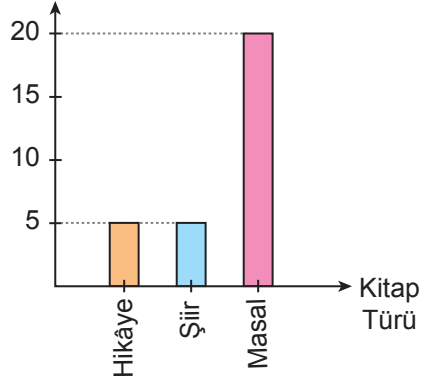
- Daha fazla sayıda masal kitabı okumuştur.
- Daha az sayıda şiir kitabı okumuştur.
- Okuduğu hikâye kitabı sayısı değişmemiştir.

Bu bilgilere göre, Ahmet'in ikinci dönem okuduğu kitap türlerini ve sayılarını gösteren grafik aşağıdakilerden hangisidir?

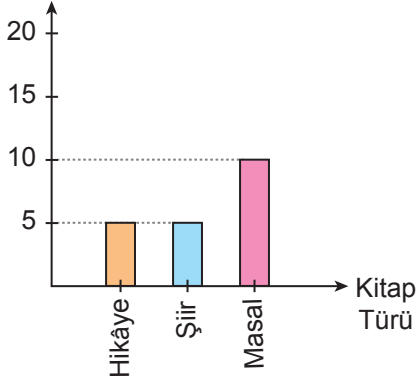
A) Kitap Sayısı



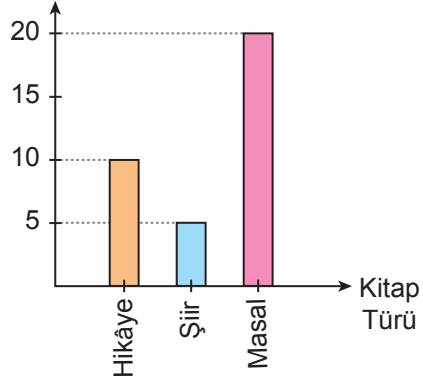
B) Kitap Sayısı



C) Kitap Sayısı



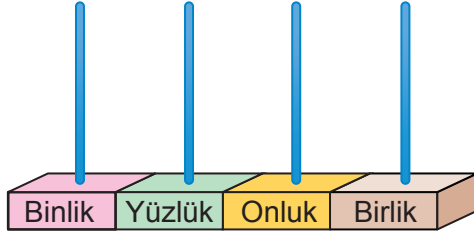
D) Kitap Sayısı



TÜRKÇE TESTİ BİTTİ.
MATEMATİK TESTİNE GEÇİNİZ.



1. Görseldeki abaküse boncuklar takılarak rakamları farklı, dört basamaklı bir doğal sayının modellenmesi yapılacaktır.



Modellenen sayı, en yakın yüzlüğe yuvarlandığında sonuç 3500 olmaktadır.

Buna göre, bu koşulu sağlayan sayılardan birini abaküslle modellemek için en az kaç tane boncuk kullanılır?

- A) 11 B) 10 C) 9 D) 8

2. Adımları arasındaki farkı sabit olan bir sayı örüntüsünün ilk dört adımı aşağıda verilmiştir.



Buna göre, bu örüntünün altıncı adımındaki sayı kaçtır?

- A) 240 B) 242 C) 252 D) 264

3. Bir doğal sayının 3478 fazlası, rakamları farklı dört basamaklı en büyük tek doğal sayıya eşittir.

Buna göre, bu doğal sayı kaçtır?

- A) 6397 B) 6398
C) 6407 D) 6497

- 4.

$$\begin{array}{r} 786 \text{ ●} \\ - 2 \text{ ■} 76 \\ \hline 54 \text{ ★} 9 \end{array}$$

Verilen çıkarma işleminde ★, ■ ve ● birer rakamdır.

Buna göre, ★ + ■ + ● işleminin sonucu kaçtır?

- A) 15 B) 16 C) 17 D) 18

5. Bir fındık üreticisinin yıllara göre fındık üretim miktarı tabloda verilmiştir.

Tablo: Yıllara Göre Fındık Üretim Miktarı

Yıl	Miktar (kg)
2020	3549
2021	4152

Tablodaki verileri kullanarak Murat iki yılın toplam üretim miktarını bulmuştur. Zehra ise iki yılın üretim miktarını en yakın yüz-lüğe yuvarlayarak tahmini toplam üretim miktarını bulmuştur.

Buna göre, Murat ile Zehra'nın buldukları sonuçlar arasındaki farkın kilogram cinsinden değeri aşağıdakilerden hangisidir?

- A) 1 B) 19 C) 101 D) 109

6. Bir müzeye dört günde gelen toplam ziyaretçi sayısı 7200'den fazladır. Bu müzeye birinci gün 2025, ikinci gün 1048 ve üçüncü gün 2012 ziyaretçi gelmiştir.

Buna göre, bu müzeye dördüncü gün gelen ziyaretçi sayısı en az kaçtır?

- A) 2113 B) 2114
C) 2115 D) 2116

7. Bir marketteki 214 tane paketin her birinin içinde 3 kg pirinç vardır. Bu paketlerden 15 tanesi satılmıştır.

Bu markette başka pirinç bulunmadığına göre, geriye kaç kilogram pirinç kalmıştır?

- A) 597 B) 587 C) 497 D) 487

- 8.

$$\begin{array}{r} \star \quad | \quad 28 \\ - \quad | \quad 35 \\ \hline \blacksquare \end{array}$$

Verilen bölme işleminde \star ve \blacksquare birer doğal sayıdır.

Buna göre, \blacksquare 'nin alabileceği en büyük değer için \star kaçtır?

- A) 980 B) 997 C) 1007 D) 1008

- 9.

$$\star + 27 = 1372 \div 4$$

Verilen eşitlikte \star bir doğal sayıdır.

Buna göre, \star kaçtır?

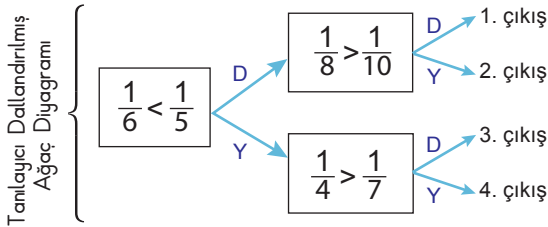
- A) 343 B) 326 C) 316 D) 306

10. Bir kırtasiyeci; 192 tane kalemi 12'li, 288 tane kalemi 16'lı gruplara ayırmıştır.

Buna göre, bu kalemlerle oluşturulan toplam grup sayısı kaçtır?

- A) 32 B) 34 C) 36 D) 38

11. Tanılayıcı dallandırılmış ağaç diyagramında verilen ifade doğru ise D yönündeki ok, yanlış ise Y yönündeki ok takip edilir.



Verilen tanılayıcı dallandırılmış ağaç diyagramı, karşılaştırmaların doğru ya da yanlışlığına göre takip edildiğinde hangi çıkışa ulaşılır?

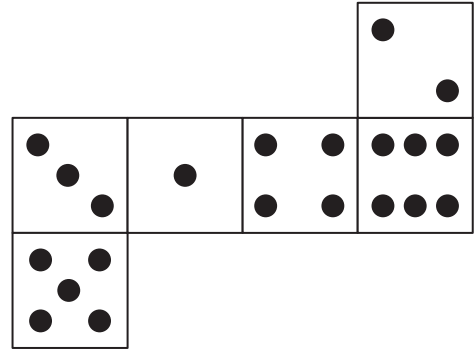
- A) 1. çıkış B) 2. çıkış
C) 3. çıkış D) 4. çıkış

12. Aslı'nın kalemlerinin $\frac{4}{19}$ 'ü kırmızı, $\frac{7}{19}$ 'si mavi, geriye kalanı ise siyah renklidir.

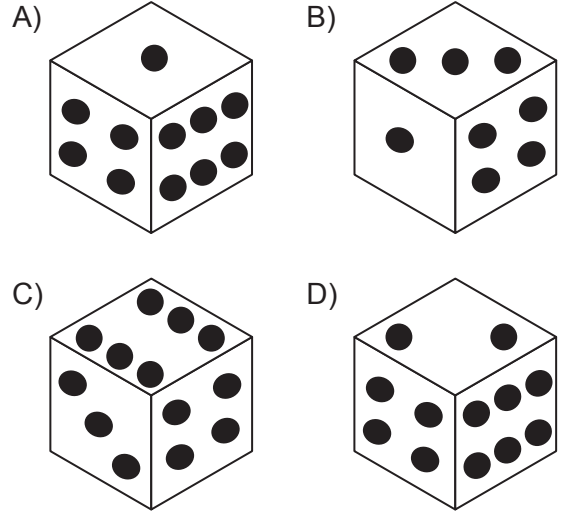
Buna göre, Aslı'nın kalemlerinin kaçta kaç siyah renklidir?

- A) $\frac{8}{19}$ B) $\frac{9}{19}$ C) $\frac{10}{19}$ D) $\frac{11}{19}$

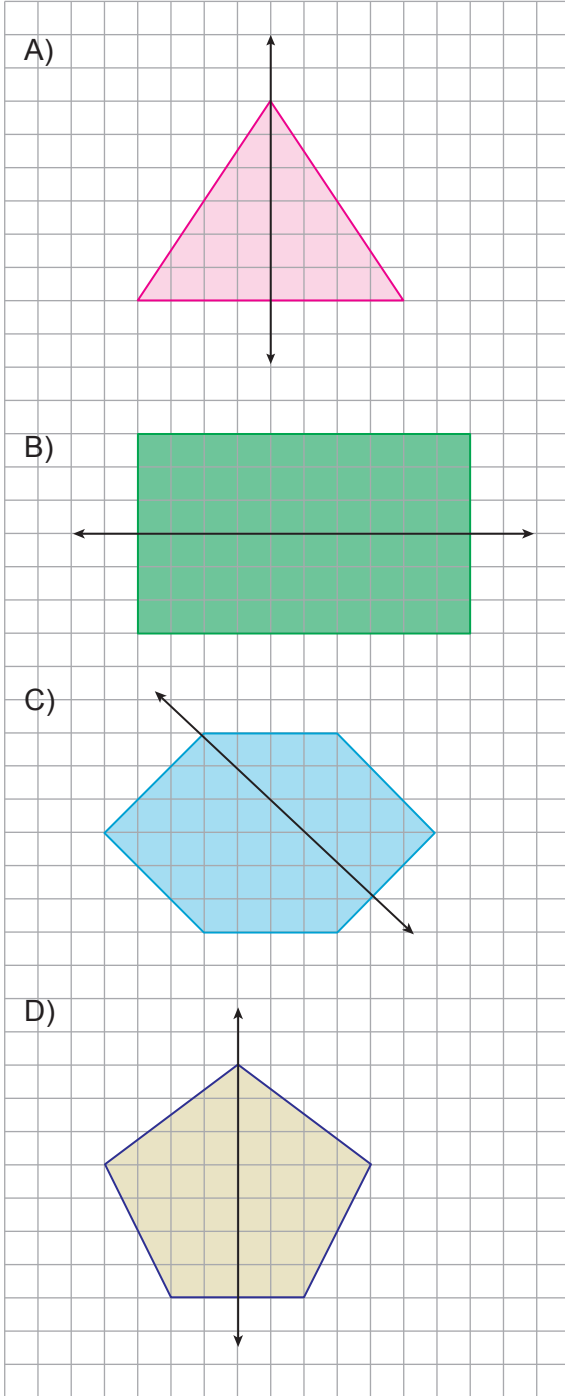
13. Aşağıda bir küpün açılımı verilmiştir.



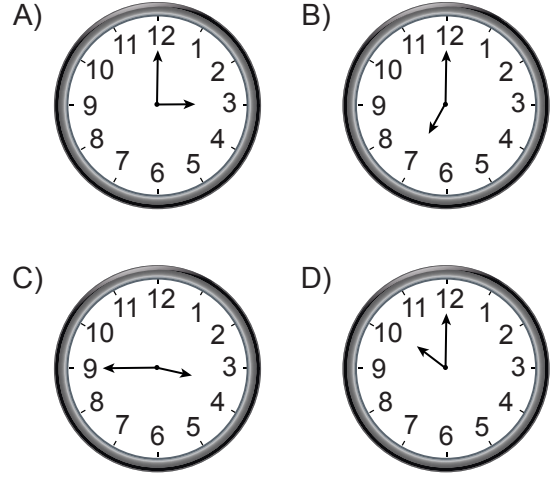
Buna göre, aşağıdakilerden hangisi bu küpün kapalı hâlinin bir görünümü olabilir?



14. Aşağıda kareli zeminde verilen geometrik şekillerden hangisinin simetri doğrusu yanlış çizilmiştir?



15. Aşağıdaki saat modellerinin hangisinde akrep ile yelkovanın arasında kalan açı bir dar açıya örnek olabilir?

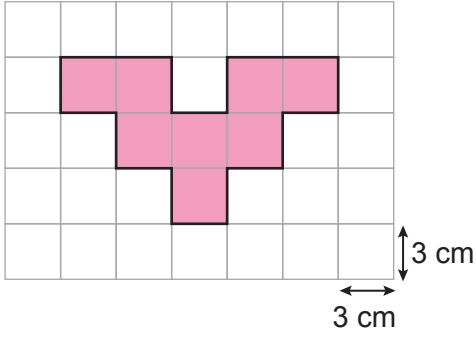


16. Uzunluğu 720 cm olan mavi bir tel 9 eş parçaya, uzunluğu 840 cm olan kırmızı bir tel 12 eş parçaya ayrılmıştır.

Buna göre, oluşan mavi parçalardan birinin uzunluğu ile kırmızı parçalardan birinin uzunluğunun toplamı kaç milimetredir?

- A) 1500 B) 1200
C) 150 D) 120

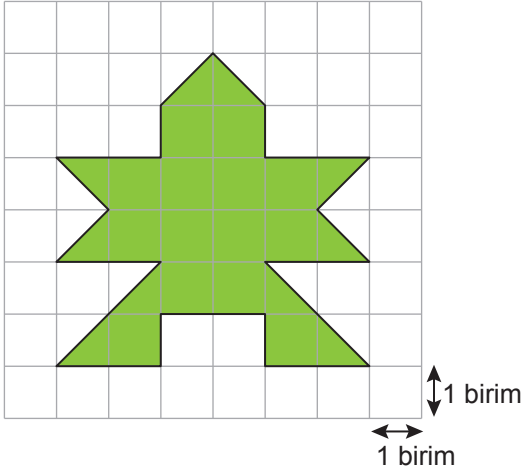
17.



Kareli zeminde verilen boyalı bölgenin çevresinin uzunluğu kaç santimetredir?

- A) 45 B) 48 C) 51 D) 54

18.



Kareli zeminde verilen boyalı bölgenin alanı kaç birimkaredir?

- A) 14 B) 17 C) 19 D) 24

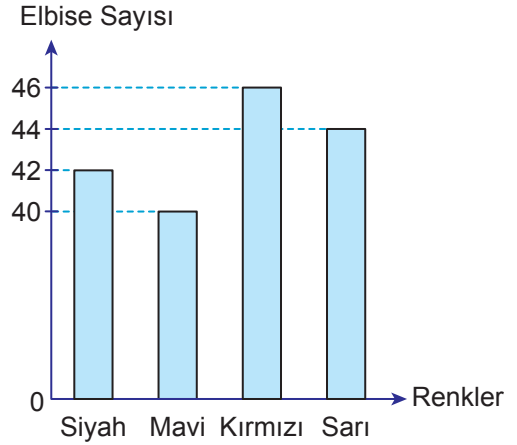
19. Canan işe gitmek için evden sabah 08.30'da çıkmıştır. Akşam ise 18.20'de eve girmiştir.

Buna göre, Canan'ın evinin dışında geçirdiği süre aşağıdakilerden hangisidir?

- A) 9 saat 40 dakika
B) 9 saat 50 dakika
C) 10 saat 40 dakika
D) 10 saat 50 dakika

20. Bir mağazadaki tüm elbiselerin renklerine göre sayıları grafikte verilmiştir.

Grafik: Renklerine Göre Elbise Sayıları



Grafiğe göre, aşağıdakilerden hangisi yanlıştır?

- A) Siyah elbiselerin sayısı, mavi elbiselerin sayısından 2 fazladır.
B) Toplam 162 elbise vardır.
C) Kırmızı elbiselerin sayısı, mavi elbiselerin sayısından 6 fazladır.
D) Siyah ve sarı elbiselerin toplam sayısı 86'dır.



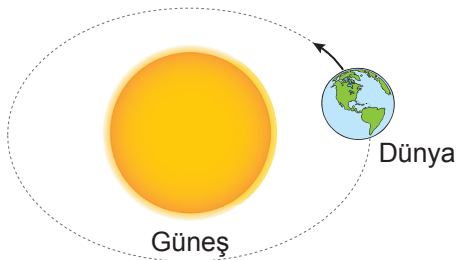
1. Aşağıdakilerden hangisi yer kabuğunun farklı derinliklerinden çıkarılan, ekonomik değeri olan, çeşitli kapların yapımında ve elektrik-elektronikte kullanılan kayalardan biridir?

A) Kaya
B) Çakıl
C) Bakır
D) Kum

2. Fosillerin oluşumuyla ilgili aşağıdakilerden hangisi doğrudur?

A) Canlı kalıntılarının fosilleşmesi yaklaşık bir yılda tamamlanır.
B) Ölen her canlının fosili oluşur.
C) Canlı kalıntılarının yumuşak kısımları fosilleşir.
D) Canlı kalıntılarının fosilleşmesi için hava ile teması kesilir.

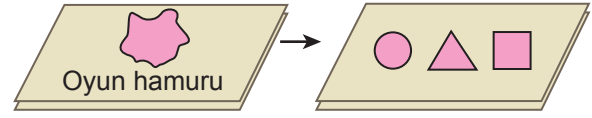
3. Dünya'nın Güneş etrafında dolanma hareketi şekilde gösterilmiştir.



Buna göre, aşağıdakilerden hangisi Dünya'nın dolanma hareketinin bir sonucudur?

A) Tamamlanma süresinin 24 saat olması
B) Mevsimlerin oluşması
C) Güneş'in gün içinde farklı konumlarda gözlemlenmesi
D) Gece ve gündüzün oluşması

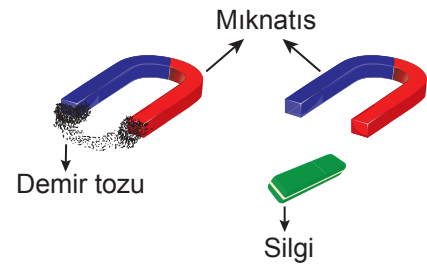
4. Bir etkinlikte öğrenciler oyun hamuruna kuvvet uygulayarak şekildeki cisimleri yapmışlardır.



Bu etkinlik, kuvvetin aşağıdaki etkilerinden hangisini gözlemlemek için yapılmıştır?

A) Yön değiştirme
B) Hızlandırma
C) Yavaşlatma
D) Şekil değiştirme


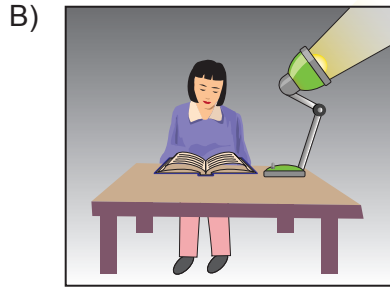
5. Bir deneyde demir tozlarına ve plastik silgiye mıknatıs yaklaştırıldığında demir tozlarının mıknatısın uç kısımlarında toplandığı, plastik silginin ise mıknatıs tarafından çekilmediği gözlemleniyor.



Bu deneyin sonucuyla ilgili aşağıdakilerden hangisi doğrudur?

A) Mıknatıs her maddeye etki etmez.
B) Mıknatısın büyüklüğü çekim gücünü etkiler.
C) Mıknatısın kutupları vardır.
D) Farklı şekillerde mıknatıslar vardır.

6. Uygun aydınlatılmış ortamda ders çalışmak isteyen bir öğrenci aşağıdaki ortamlardan hangisini tercih etmelidir?



7. Aşağıdakilerden hangisi ışık kirliliğini azaltmaya yönelik alınan önlemlerden biri değildir?

- A) Reklam amacıyla kullanılan ışıklı panoların zaman ayarlı olması
B) Binaların giriş kısımlarında harekete duyarlı lambaların kullanılması
C) Sokak aydınlatmalarında kullanılan lambaların aydınlatılacak bölgeye yönlendirilmesi
D) Tabelalarda aydınlatma seviyesinin gece geç saatlerde artırılması


8. Aşağıdaki teknolojik araçlardan hangisi ses şiddetini değiştirmek için kullanılır?




Megafon



CD



Taşıyıcı bellek



Kaset

9. Basit bir elektrik devresine ait K, L ve M ile belirtilen devre elemanlarının işlevleri tabloda verilmiştir.

Devre Elemanı	İşlevi
K	Elektrik enerjisini diğer devre elemanlarına iletir.
L	Elektrik enerjisini ısı ve ışık enerjisine dönüştürür.
M	Elektrik devresini açıp kapatmaya yarar.

Buna göre, K, L ve M ile belirtilen devre elemanları aşağıdakilerden hangisidir?

	K	L	M
A)	Bağlantı kablosu	Ampul	Anahtar
B)	Pil	Bağlantı kablosu	Anahtar
C)	Anahtar	Ampul	Pil
D)	Bağlantı kablosu	Pil	Ampul

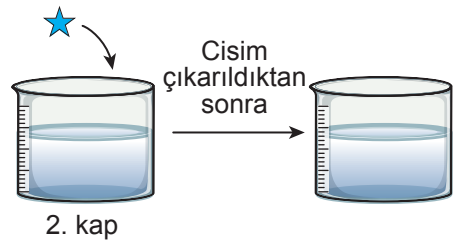
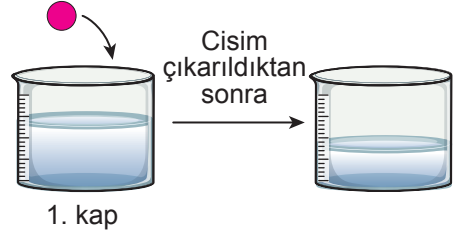
10. Bir öğrenci şekildeki devre elemanları ile basit bir elektrik devresi kurmak istiyor.



Öğrenci, ampulün ışık vermesi için kuracağı devreye aşağıdakilerden hangisini eklemelidir?

- A) Kablo
C) Ampul
B) Pil
D) Anahtar

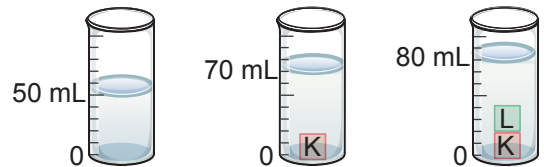
11. Bir öğrenci içinde eşit miktarda su bulunan numaralanmış kaplara ● ve ★ maddelerini bırakıyor. Bir süre sonra maddeleri kaplardan çıkardığında 1. kaptaki su miktarının azaldığını, 2. kaptaki su miktarının ise değişmediğini gözlemliyor.



Buna göre, öğrencinin suya bıraktığı ● ve ★ maddeleri aşağıdakilerin hangisinde doğru verilmiştir?

	●	★
A)	Cam bilye	Havlu
B)	Sünger	Havlu
C)	Plastik top	Cam bilye
D)	Sünger	Plastik top

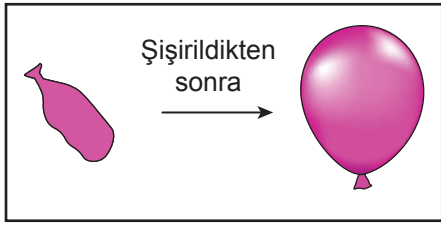
12. İçinde 50 mL su bulunan dereceli bir kaba önce K cismi, sonra L cismi şekildeki gibi bırakılmıştır.



Buna göre, K ve L cisimlerinin hacimleriyle ilgili aşağıdakilerden hangisi doğrudur?

- A) K cisminin hacmi 70 mL'dir.
B) L cisminin hacmi 10 mL'dir.
C) K ve L cisimlerinin hacimleri eşittir.
D) K ve L cisimlerinin toplam hacimleri 80 mL'dir.

13. Bir öğrencinin havayla doldurarak şişirdiği balon şekilde gösterilmiştir.



Buna göre, balonun içindeki havayla ilgili aşağıdakilerden hangisi yanlıştır?

- A) Akışkandır.
B) Gaz hâldedir.
C) Belirli bir şekli vardır.
D) Bulunduğu kabın tamamına yayılır.

14. Bir deneyde ısıtılan buz küplerinde meydana gelen değişimler şekilde gösterilmiştir.



Bu deneyle ilgili aşağıdakilerden hangisi yanlıştır?

- A) Su, ısı vermiştir.
B) Buz küpleri katı hâlden sıvı hâle geçmiştir.
C) Buz küpleri ısı almıştır.
D) Su, sıvı hâlden gaz hâle geçmiştir.

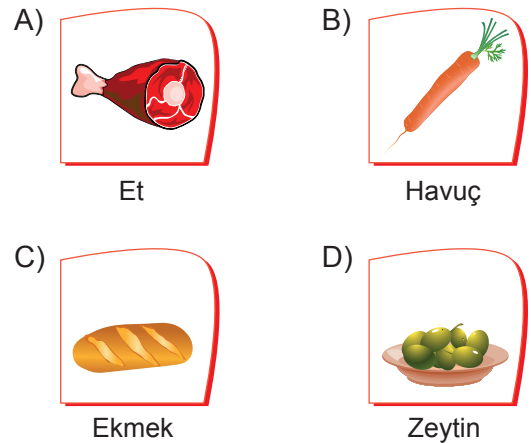
15. Bazı karışımlar şekildeki numaralanmış kaplarda gösterilmiştir.



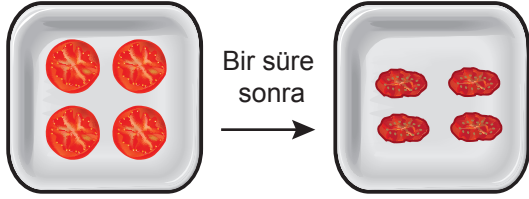
Buna göre, numaralanmış kaplardaki karışımları oluşturan maddeleri birbirinden ayırmak için kullanılan yöntemler aşağıdakilerin hangisinde doğru verilmiştir?

	1. Kap	2. Kap	3. Kap
A)	Eleme	Süzme	Mıknatısla ayırma
B)	Süzme	Eleme	Mıknatısla ayırma
C)	Eleme	Mıknatısla ayırma	Süzme
D)	Süzme	Mıknatısla ayırma	Eleme

16. Aşağıdaki besinlerden hangisi karbonhidrat içeriği bakımından diğerlerinden daha zengindir?



17. Bir tabağa konulan domates dilimlerinin bir süre sonra şekildeki gibi kuruyup küçüldüğü gözlemlenmiştir.



Bu gözlem sonucuna göre, besinlerin içeriğinde aşağıdakilerden hangisinin bulunduğu sonucuna ulaşılır?

- A) Su
C) Mineral
B) Karbonhidrat
D) Vitamin

18. Bir öğrenci, bazı beslenme alışkanlıklarını numaralanmış kartlara yazmıştır.

- 1 Öğünlerimde sadece karbonhidrat içerikli besinler tüketirim.
- 2 Besinleri yeteri kadar tüketirim.
- 3 İçeriğinde katkı maddesi olan paketlenmiş besinleri bol miktarda tüketirim.
- 4 Taze ve doğal besinleri tüketirim.

Buna göre, öğrencinin bu alışkanlıklarından hangileri sağlıklı beslenmesi için uygundur?

- A) 1 ve 2
C) 2 ve 4
B) 1 ve 3
D) 3 ve 4

19. Maddeler kullanıldığında açığa çıkan bazı atıklar farklı şekillerde değerlendirilerek yeniden kullanılabilir.

Buna göre, aşağıdakilerden hangisi atıkların yeniden kullanımına örnek değildir?

- A) Bir yüzü kullanılmış kağıdın diğer yüzünün de kullanılması
B) Cam kavanozların çöpe atılması
C) Kullanılmayan giysilerin ihtiyaç sahiplerine iletilmesi
D) Atık kumaş parçalarının bir araya getirilerek ev eşyalarına dönüştürülmesi

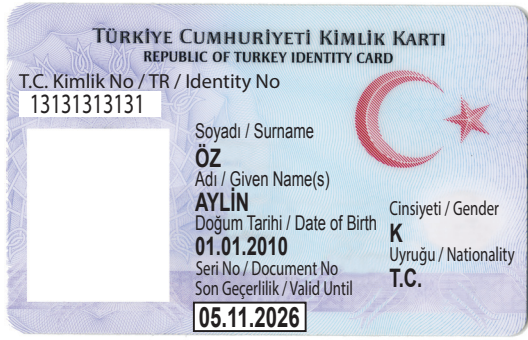
20. Bir okulda öğrenciler kağıt, cam ve plastik atıkları geri dönüşüm kutularına atmaktadır.

Buna göre, öğrencilerin bu davranışı yapma amacı aşağıdakilerden hangisi olamaz?

- A) Doğal kaynakları korumak
B) Enerji kaynaklarını tasarruflu kullanmak
C) Ülke ekonomisine katkı sağlamak
D) Çöpe atılan atık miktarını artırmak



1. Aşağıda Aylin'e ait kimlik kartı yer almaktadır.




Verilen kimlik kartına göre, Aylin ile ilgili hangi bilgiye ulaşılabilir?

- A) Türkiye Cumhuriyeti vatandaşı olduğuna
- B) Anne ve babasının adlarına
- C) Sahip olduğu kartın geçerlilik süresine
- D) Fiziksel özelliklerine

2. Yazılı kaynakları kullanarak aile tarihini oluşturmak isteyen bir öğrencinin aşağıdakilerden hangisini kullanması yanlış olur?

- A) Kıyafetler
- B) Mektuplar
- C) Tapu senedi
- D) Diplomalar

3. Feyza, aile albümünü incelerken kendine ait fotoğrafların albümde aşağıdaki gibi yerleştirildiğini gördü.



Bu fotoğrafları kronolojik sıraya göre albüme tekrar yerleştiren Feyza'nın yaptığı sıralama aşağıdakilerden hangisidir?

- A) 1 - 3 - 4 - 2
- B) 3 - 2 - 1 - 4
- C) 2 - 3 - 1 - 4
- D) 4 - 3 - 2 - 1

4. Bir resmin veya gökkuşağının güzelliği çeşitli renklerin bir arada bulunmasıyla mümkündür. Renkler gibi toplumu meydana getiren insanlar da birbirlerinden çeşitli özellikleri ile ayrılır. Bu nedenle insanlar başkalarının değişik duygu ve düşüncelere sahip olabileceği gerçeğini kabul ederek onlara anlayış göstermelidir.

Bu metne en uygun başlık aşağıdakilerden hangisidir?

- A) Nelerden Hoşlanıyorum?
- B) Farklılıklara Saygılıyım
- C) Onun Yerde Olsaydım
- D) Herkesin Bir Öyküsü Var

5. Aşağıdakilerden hangisi millî kültürümüzü yansıtmaz?

A)



El dokuması halı

B)



Çeyiz sandığı

C)



Gitar

D)



Osmanlı Dönemî'nden kalma çeşme

6.



Verilen görseldeki geleneksel çocuk oyunu aşağıdakilerden hangisidir?

- A) Topağ çevirme
- B) Aşık oyunu
- C) Dalye
- D) Saklambaç

7.



Haritada 1 ve 2 numara ile renklendirilmiş olarak gösterilen yerleri Mondros Ateşkes Antlaşması'na göre işgal eden ülkeler aşağıdakilerden hangisidir?

1

2

- | | |
|---------------|------------|
| A) İtalya | Yunanistan |
| B) Yunanistan | Fransa |
| C) İngiltere | İtalya |
| D) Fransa | İngiltere |

8.

- Millî Mücadele'nin önemli komutanlarından.
- Kurtuluş Savaşı'nda Doğu Cephesi Komutanlığı'na getirilmiştir.
- Doğu Anadolu'nun işgalden kurtarılmasında önemli rol oynamıştır.

Hakkında bilgi verilen Millî Mücadele kahramanı aşağıdakilerden hangisidir?

- A) Kâzım Karabekir
- B) Ali Saip Bey
- C) Fevzi Paşa
- D) İsmet İnönü

9. Sınıf panosundaki fiziki haritayı inceleyen Meltem: “Yaşadığım yer ve çevresinde deniz seviyesine göre yükseklik iki yüz metreden daha azdır. Yaşadığım yerin doğusuna, batısına ve kuzeyine doğru gidildikçe yeşil renk önce sarıya sonra kahverengiye dönüşür.”



Verilenlere göre, Meltem haritada numaralanmış yerlerin hangisinde yaşamaktadır?

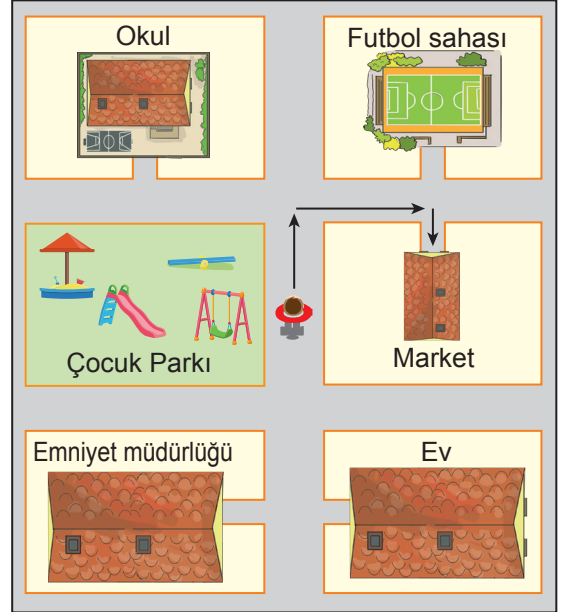
- A) 1 B) 2 C) 3 D) 4

10. 1. Yavuz Sultan Selim Köprüsü
2. Van Gölü
3. Peribacaları
4. Keban Barajı

Yukarıdakilerden hangileri doğal unsurlar arasında yer alır?

- A) 1 ve 2 B) 2 ve 3
C) 2 ve 4 D) 1 ve 3

11. Verilen krokide Göktuğ'un tepeden görünüşünü ve durduğu yerde öğle vakti oluşan gölgesini görüyorsunuz.



Bu krokiye göre, gölgesinden hareketle markete gitmek isteyen Göktuğ'un takip etmesi gereken yönler aşağıdaki-lerin hangisinde doğru sıralanmıştır?

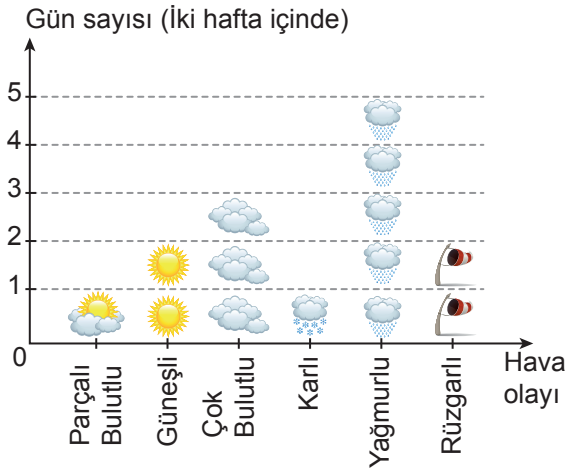
- A) Güney - Doğu - Güney
B) Kuzey - Batı - Kuzey
C) Güney - Batı - Kuzey
D) Kuzey - Doğu - Güney

12. Ulu sular ile akıp gidersin,
Tavşanlı dağına bakıp gidersin,
Uğradığın yeri yıkıp gidersin,
Git Karadeniz'e dol Kızılırmak.

Bu dörtlükte bahsedilen doğal afeti önlemek için aşağıdakilerden hangisi yapılmalıdır?

- A) Barajlar inşa edilmelidir.
B) Çok katlı binalar yapılmalıdır.
C) Kaynaklar tasarruflu kullanılmalıdır.
D) Acil toplanma yerleri belirlenmelidir.

13. Nuri, iki haftalık hava durumu gözlemi yaparak aşağıdaki grafiği oluşturmuştur.



Bu grafiğe göre, aşağıdakilerden hangisi söylenemez?

- A) Yağmurlu gün sayısı, güneşli güne göre daha fazladır.
B) Güneşli gün sayısı ile rüzgarlı gün sayısı eşittir.
C) İki hafta süresince hava durumunda değişimler yaşanmıştır.
D) Parçalı bulutlu gün sayısı, karlı gün sayısından azdır.

14.



Verilen görsel aşağıdakilerden hangisine örnek oluşturur?

- A) Teknolojik değişime
B) Seyahat türlerine
C) Reklamların etkisine
D) Haberleşmenin gelişimine

15. **Begüm:** Merhaba. Beşinci sınıfa gidiyorum. Saçlarımı tararken kopan saç telleri ve kepek parçacıkları saç fırçasının dişleri arasında birikiyor. Bu sorunu giderebilmek için bir ürün tasarladım. Bu ürün ile saç fırçamı rahatça temizlemeyi başardım.

Begüm'ün bu ifadelerine göre, aşağıdakilerden hangisini söylemek yanlıştır?



- A) İhtiyaçlar icatların temelini oluşturmaktadır.
B) İhtiyaçlar mucitlere yol göstermektedir.
C) İcatlar hayatı kolaylaştırmaktadır.
D) İcat yapabilmek için bilim insanı olmak gerekmektedir.

16. Cep telefonları, bilgisayarlar, kablosuz modem, kulaklık, fare ve klavyeler ile uzaktan kumandaların yaydıkları elektromagnetik dalgalar bizleri olumsuz etkiliyor. Örneğin, cep telefonları beyin ısını artırarak beyin hücrelerimizin ölmesine ve kulağımızın zarar görmesine yol açabiliyor.

Bu bilgide teknoloji kullanımı ile ilgili aşağıdakilerden hangisine vurgu yapılmıştır?

- A) Sosyal ilişkileri zamanla zayıflattığına
- B) Bilinçli bir tüketicinin hangi kurallara uyması gerektiğine
- C) Sağlık sorunlarına yol açabileceğine
- D) Ürünlerin kullanım kılavuzlarının incelenmesinin önemine

17.



Verilen görseller aşağıdaki ekonomik faaliyetlerden hangisine örnektir?

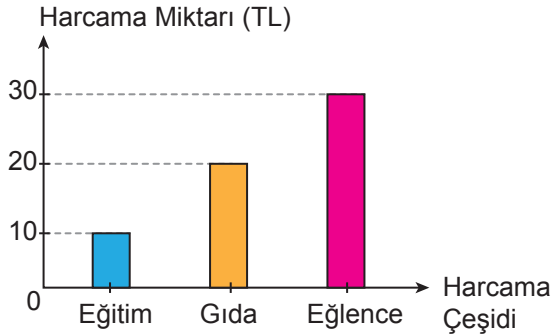
- A) Sanayi
- B) Tarım
- C) Turizm
- D) Balıkçılık

18. TBMM'nin açılışından sonra Mustafa Kemal bu durumu "Bütün cihan bilmelidir ki artık bu devletin ve bu milletin başında hiçbir kuvvet yoktur, hiçbir makam yoktur. Yalnız bir kuvvet vardır. O da millî egemenliktir." sözleriyle dile getirmiştir.

Mustafa Kemal'in bu sözüne göre, aşağıdakilerin hangisine ulaşılabilir?

- A) Başka devletlerin koruyuculuğu altına girildiğine
- B) Millî Mücadele'nin başarıya ulaştığına
- C) Yeni eğitim kurumlarının açıldığına
- D) Yönetme yetkisinin millete verildiğine

19. Barış'ın, bir haftalık harçlığı 60 TL'dir. Kendine bir bütçe hazırlayan Barış'ın harcamalarını gösteren grafik aşağıda verilmiştir.



Bu grafiğe göre, Barış ile ilgili aşağıdakilerden hangisini söylemek yanlıştır?

- A) Eğlenceye gıdadan daha fazla para harcamıştır.
- B) Harçlığından belirli bir miktar tasarruf etmiştir.
- C) En az harcamayı eğitim alanında yapmıştır.
- D) Eğitim ve gıdaya harcadığı para eğlenceye eşittir.

20.

Sami: Okulumuzda üretme kültürünü yaymak için "Kendi Projeni Yap" sloganı ile başlatılan harekete büyük ilgi oldu. Yapılan çalışmalar yıl sonunda bilim şenliği düzenlenerek sergilendi. Özellikle robot tasarımları büyük ilgi gördü. Okul müdürümüz teşekkür konuşmasında bizlere; "Sizler birer Maker Çocukları-sınız!" dediğinde çok şaşırdık. Şaşkınlığımız konuşma sonuna doğru mutluluğa dönüştü. Çünkü Maker Çocuklarının "tüketmeyen üreten çocuklar" olduğunu anlamıştık.

Buna göre, Maker Çocuklar ile ilgili aşağıdakilerden hangisine ulaşamaz?


- A) Aileleri tarafından teşvik edildiklerine
- B) Teknoloji ile ilgili çalışmalar yaptıklarına
- C) Zengin bir hayal gücüne sahip olduklarına
- D) Projelerinin beğeni topladığına

SOSYAL BİLGİLER TESTİ BİTTİ.
İNGİLİZCE TESTİNE GEÇİNİZ.



1 - 9. sorularda boş bırakılan yere / yerlere uygun gelen kelime ya da ifadeyi işaretleyiniz.

1.



Hello! I'm Arzu.
This is ---- brother.
---- name is Aras.

A) my / Your
C) her / Your

B) his / Her
D) my / His

2. I like singing, riding a bike and drawing pictures. These are my ----.

A) science experiments
B) free time activities
C) winter clothes
D) classroom rules

3. Kate : Would you like some orange juice?
Joe : Yes. ----.

A) Here you are
B) Say that again
C) I feel thirsty
D) I am full

4.



Sinop is in the ---- of Turkey.

A) north
C) east

B) south
D) west

5. Tom : ----?

Fred : At a police station.

A) What is your job
B) Where do you work
C) Where are you from
D) What do you like doing

6. Karen : It is rainy. May I take your ----?

Tina : No, sorry. I need it.

A) sunglasses
B) shorts
C) skirt
D) umbrella

7. I put on my gloves in ---- and ---- days.

A) cold / snowy
B) hot / cloudy
C) warm / sunny
D) hot / sunny

8.



Alex : What does Martin look like?

Andrew : He is ----.

A) short and he has a beard
B) plump and he has a moustache
C) tall and he has a moustache
D) fat and he has a beard

9.



Jack

Jack is a - - - -. He works at a restaurant.

- A) pilot B) waiter
C) farmer D) fireman

10.



- I am near Alex.
- I am behind Harry.

Verilenlere göre tarif edilen kişi kimdir?

- A) Emma B) Tom
C) Alex D) Sue

11. Valizlerin karışmaması için öğrenciler valizlerin üzerine ülkelerinin isimlerini yazmışlardır.

Buna göre, Adele'in valizi hangisidir?

Akira
JapaneseSam
FrenchAdele
AmericanKlaus
German

A)



B)



C)



D)



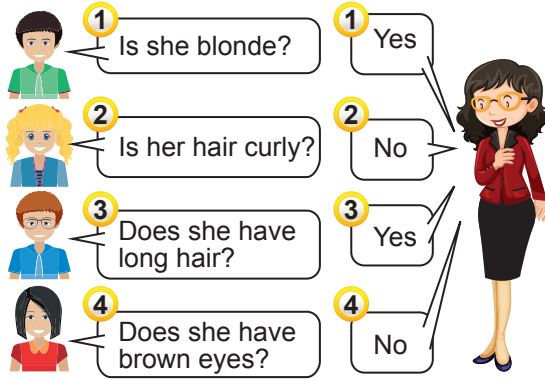
12.



Aşağıdaki cümlelerin hangisi görselle ilgili değildir?

- A) Let's do an experiment.
- B) Pour the water.
- C) Have fun with science.
- D) Fold the paper.

13. Öğretmen, sınıftan bir kız öğrenciyi aklında tutar ama kim olduğunu diğer öğrencilere söylemez. Öğrenciler, öğretmene sorular sorarlar ve öğretmenin verdiği cevaplara göre bu kişinin kim olduğunu bulmaya çalışırlar.



Öğretmenin aklında tuttuğu öğrenci aşağıdakilerden hangisidir?

- A)
- B)
- C)
- D)

14. Ayşegül is very hungry. She wants to eat soup, hamburger, pasta and salad.

Verilen bilgilere göre, Ayşegül aşağıdaki hangi menüyü seçmelidir?

- A)
- B)
- C)
- D)

15. Bulmacada bazı fiiller işaretlenmiştir.

W	A	T	C	H	U	E
S	O	P	R	E	A	D
W	I	N	X	C	F	T
I	S	D	J	L	N	P
M	Q	B	R	I	D	E

Verilen bulmacada işaretlenen fiillerle aşağıdaki görsellerden hangisi eşleşmemektedir?

A)



B)



C)



D)




16. Penny : I can ride a horse.

Sarah : I can dance.

Emily : I can sing.

Verilen cümlelerle görseller eşleştirildiğinde hangi görsel dışarıda kalır?

A)




B)



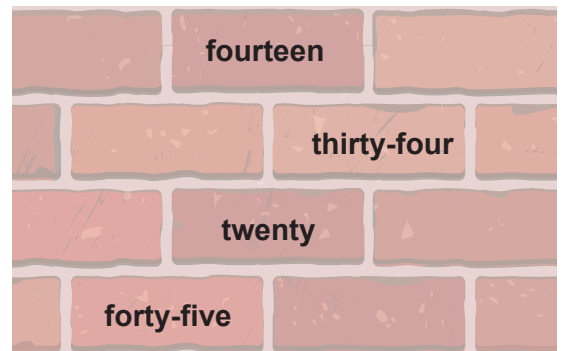
C)



D)



17.



Bu görselde aşağıdaki sayılardan hangisinin İngilizce yazılışı verilmiştir?

A) 12

B) 22

C) 34

D) 50

18. Öğretmen sınıfta her öğrenciye bir görev vermiştir.



Efe, turn on the lights!
Elif, close the door!
Ayşe, clean the board!
Kaan, give me the ruler!

Buna göre, hangi öğrenci kendisine verilen görevi yanlış yapmıştır?

- A) Efe



- B) Elif



- C) Ayşe



- D) Kaan



19 - 20. soruları aşağıdaki metne göre cevaplayınız.

I wake up and get dressed at 7 o'clock in the morning. I have breakfast and I go to school at 8 o'clock. I have lunch at 12 o'clock. After school, I do my homework at 4 o'clock. I go to bed at 10 o'clock.

19. I - - - - in the afternoon.

- A) get dressed
B) go to school
C) wake up
D) do homework

20. This paragraph is about - - - .

- A) free time activities
B) cartoon characters
C) daily routines
D) classroom rules

TEST BİTTİ.
CEVAPLARINIZI KONTROL EDİNİZ.



SINAV BAŞLAMADAN AŞAĞIDAKİ UYARILARI MUTLAKA OKUYUNUZ!

1. Öğrenciler, sınav kurallarına ve salon görevlilerinin tüm uyarılarına uymak zorundadırlar.
2. Cevap kâğıdındaki kimlik bilgilerinin doğruluğunu kontrol ediniz. Bilgiler size ait değilse veya cevap kâğıdı kullanılmayacak durumdaysa sınav görevlilerine bildiriniz.
3. Sınav başladıktan sonra öğrencilerin salon görevlileri ve birbirleri ile konuşmaları, kalem, silgi vb. şeyleri istemeleri yasaktır.
4. Değiştirmek istediğiniz bir cevabı, yumuşak silgiyle cevap kâğıdını yıpratmadan temizce siliniz ve yeni cevabınızı kodlayınız.
5. Cevap kâğıdınızı siyah kurşun kalemle imzalayınız.
6. Cevaplarınızı, cevap kâğıdındaki ilgili soru numarasını dikkate alarak yuvarlağın dışına taşırmadan kodlayınız.
7. Soru kitapçığının sayfalarını kontrol ediniz, baskı hatası var ise değiştirilmesini sağlayınız.
8. Soru kitapçığı üzerinde yapılp cevap kâğıdına işaretlenmeyen cevaplar değerlendirmeye alınmayacaktır.
9. Soru kitapçığının içindeki boş alanları çözümlerinizi için kullanabilirsiniz.
10. Cevaplamaya istediğiniz sorudan başlayabilirsiniz.
11. Cevabını bilmediğiniz sorular üzerinde fazla zaman kaybetmeden diğer sorulara geçiniz. Zamanınız kalırsa bu sorulara daha sonra dönebilirsiniz.
12. Sınav puanınızın hesaplanmasında 3 yanlış 1 doğru cevabınızı götürcektir. Alt testler bu şekilde hesaplanarak net puanlarının toplamı toplam net puanınızı verecektir.
13. Sınav bitiminde, soru kitapçığı ve cevap kâğıdını salon görevlilerine teslim ediniz.
14. Sınav sırasında çanta, cep telefonu, saat, kablosuz iletişim sağlayan cihazlar ve kulaklık, kolye, küpe, bilezik, yüzük, broş ve benzeri eşyalar ile her türlü elektronik ve/veya mekanik cihazları yanınızda bulundurmayınız. Bu araçları yanınızda bulundurmanız ve kopya çekmeye teşebbüs etmeniz hâlinde sınavınız geçersiz sayılacaktır.
15. Cevap kâğıdınızı sınav süresince hiçbir öğrencinin göremeyeceği şekilde önünüzde bulundurunuz.
16. Sınavınızın değerlendirilmesi aşamasında, toplu kopya tespiti veya başka adayın sınav evrakını kullanmanız durumunda sınavınız geçersiz sayılacaktır.
17. Soruları ve sorulara verdiğiniz cevapları kaydetmeyiniz, hiçbir şekilde dışarı çıkarmayınız.
18. İlk 15 dakika dışarı çıkılmayacaktır.
19. Sınav evraklarını teslim etmeyenlerin sınavı geçersiz sayılacaktır.

SINAV GÖREVLİLERİNCE SINAV BAŞLAMADAN ÖNCE ÖĞRENCİLERE YAPILACAK SON UYARI!

- Soracağınız bir şey var mı? Varsa, şimdi sorunuz.
- Sınav başladıktan sonra sorularınıza cevap verilmeyecektir.
- Başlama zilini bekleyiniz.

Hepinize başarılar dileriz.**(Sınav görevlisi başlama ve bitiş saatini tahtaya yazacaktır.)**

Bu kitapçığın her hakkı saklıdır. Hangi amaçla olursa olsun, kitapçığın tamamının veya bir kısmının Millî Eğitim Bakanlığı Ölçme, Değerlendirme ve Sınav Hizmetleri Genel Müdürlüğünün yazılı izni olmadan kopya edilmesi, fotoğraflarının çekilmesi, bilgisayar ortamına alınması, herhangi bir yolla çoğaltılması, yayımlanması veya başka bir amaçla kullanılması yasaktır. Bu yasağa uymayanlar, doğabilecek cezai sorumluluğu ve kitapçığın hazırlanmasındaki mali külfeti peşinen kabullenmiş sayılır.

**12 HAZİRAN 2022 TARİHİNDE YAPILAN VEHBİ KOÇ VAKFI,
KOÇ ÖZEL İLKOKULU VE ORTAOKULU SEVİYE TESPİT SINAVI
5. SINIF “A” KİTAPÇIĞI CEVAP ANAHTARI**

TÜRKÇE	MATEMATİK	FEN BİLİMLERİ	SOSYAL BİLGİLER
1. A	1. C	1. C	1. D
2. C	2. C	2. D	2. A
3. A	3. A	3. B	3. C
4. C	4. B	4. D	4. B
5. C	5. A	5. A	5. C
6. A	6. D	6. C	6. D
7. D	7. A	7. D	7. B
8. B	8. C	8. A	8. A
9. D	9. C	9. A	9. B
10. B	10. B	10. B	10. B
11. D	11. A	11. D	11. C
12. B	12. A	12. B	12. A
13. A	13. D	13. C	13. D
14. C	14. C	14. A	14. A
15. B	15. D	15. D	15. D
16. B	16. A	16. C	16. C
17. D	17. D	17. A	17. C
18. C	18. C	18. C	18. D
19. D	19. B	19. B	19. B
20. B	20. B	20. D	20. A

İNGİLİZCE

1. D
2. B
3. C
4. A
5. B
6. D
7. A
8. C
9. B
10. A
11. B
12. D
13. C
14. C
15. D
16. A
17. C
18. B
19. D
20. C