



3.
SINIF



T.C.
MİLLÎ EĞİTİM BAKANLIĞI
ÖLÇME, DEĞERLENDİRME VE SINAV HİZMETLERİ
GENEL MÜDÜRLÜĞÜ

A
KİTAPÇIK TÜRÜ

VEHBİ KOÇ VAKFI, KOÇ ÖZEL İLKOKULU VE ORTAOKULU SEVİYE TESPİT SINAVI
(2. Sınıftan 3. Sınıfa Geçenler)
12 HAZİRAN 2022 Saat: 10.00

Adayın Adı ve Soyadı :

Aday Numarası (T.C. No) :

DERS ADI	SORU SAYISI	TOPLAM SORU SAYISI	SINAV SÜRESİ (DAKİKA)
TÜRKÇE	20	60	80
MATEMATİK	20		
HAYAT BİLGİSİ	20		

ÖĞRENCİLERİN DİKKATİNE!

1. Sınıf öğrenci yoklama listesinde belirtilen sınıfta ve sıra numarasında oturunuz.
2. Cevap kâğıdındaki kimlik bilgilerinin doğruluğunu kontrol ediniz.
3. Kitapçık türünü cevap kâğıdındaki ilgili alana kodlayınız.
4. Cevap kâğıdı üzerindeki kodlamaları kurşun kalemle yapınız.



SINAV BAŞLAMADAN ÖNCE KİTAPÇIĞIN ARKA KAPAĞINDAKİ UYARILARI MUTLAKA OKUYUNUZ.

1. Sabah saatlerinde otobüs tenhaydı, kolayca yer buldum.

Bu cümledeki "tenha" kelimesinin zıt anlamlısı aşağıdaki altı çizili kelimelerden hangisidir?

- A) Elindeki dolu poşetlerin içindekileri raflara yerleştirdi.
 B) Tiyatro oyununu izlemeye gelen az kişi vardı.
 C) Bu gemi diğerlerinden fazla yük taşıyabilir.
 D) Market öylesine kalabalıktı ki sırada bekledim.

2. Teyzem, bize kırtasiyeden boya kalemi almış.

Bu cümlede aşağıdaki sorulardan hangisinin cevabı yoktur?

- A) Kim? B) Ne zaman?
 C) Ne? D) Nereden?

3. Aşağıdakilerin hangisinde altı çizili kelime, karşısında verilen anlama uygun kullanılmamıştır?

A)	Ayşe Hanım çok <u>hünerli</u> bir aşçıydı.	Becerikli olan
B)	Memleketimizin <u>bereketli</u> topraklarında her şey yetişir.	Verimli
C)	Parktaki yavru kedilerle <u>keyifli</u> zaman geçirmişti.	Sağlıklı
D)	Ahmet Usta <u>hoşgörülü</u> bir esnaftı.	Her şeyi anlayışla karşılayan

4. Erik ağacı bahçenin uzak bir yerindeydi.

Bu cümledeki altı çizili kelimenin eş anlamlısı aşağıdakilerden hangisidir?

- A) Yakın B) Irak C) Mesafe D) İleri

5. 1. Karışım kâselere doldurulup buzluğa konur.
2. Hazırlanan malzemeler bir çırpıcı yardımıyla karıştırılır.
3. Dondurma yapımı için gerekli malzemeler hazırlanır.
4. Kâselerdeki karışımın donması için 2-3 saat beklenir.

Numaralanmış cümleler oluş sırasına göre nasıl sıralanmalıdır?


- A) 2 - 1 - 3 - 4
B) 2 - 3 - 4 - 1
C) 3 - 2 - 1 - 4
D) 3 - 2 - 4 - 1

6. Günlük hayatta kullandığımız birçok şey bir ihtiyacı karşılamak için icat edilmiştir. Örneğin limon, portakal gibi meyveleri elle sıkmanın zorluğu görülüp meyve sıkacağı icat edilmiş. Uzaktakilerle haberleşmek için telefon icat edilmiş.

Bu metnin konusu aşağıdakilerden hangisidir?

- A) İhtiyaçların buluşlara etkisi
B) Zorluklarla mücadele
C) Yeniliklere uyum sağlamanın yolları
D) Teknolojinin çevreye faydaları

7.



Renk çarkı yapımıyla ilgili numaralanmış görsellerin oluş sırasına göre sıralanışı aşağıdakilerden hangisidir?

- A) 5 - 1 - 3 - 2 - 4
- B) 5 - 1 - 2 - 4 - 3
- C) 5 - 2 - 1 - 3 - 4
- D) 5 - 2 - 4 - 1 - 3

8. Aşağıdakilerin hangisinde “çıkmaq” kelimesi “bulunduğı yeri bırakıp başka yere gitmek” anlamında kullanılmıştır?

- A) Bu sokakların hepsi şehrin meydanına çıkar.
- B) Arkadaşlarıyla eşyalı, yeni bir eve çıktı.
- C) İş yerine varmak için her gün bu yolu çıkar.
- D) Güneş batarken serin bir rüzgâr çıktı.

9. Küresel ısınma ve iklim değişikliği nedeniyle Dünya'da mevsimler değişiyor, gezegenimiz ısınıyor. Bu durum canlıların tümünü olduğu gibi yusufçukları da etkiliyor. Yusufçuklar kanatlarındaki koyu renkli desenleri gitgide kaybediyor. Ayrıca sulak alanlarda yaşayan yusufçukların, küresel ısınma nedeniyle yaşam alanları giderek azalıyor.

Bu metne göre, yusufçukların kanatlarındaki değişimin sebebi aşağıdakilerden hangisidir?

- A) Yusufçukların sayılarının azalması
- B) Küresel ısınma ve iklim değişikliği
- C) Canlıların birbirini etkilemesi
- D) Yusufçukların sulak bölgelerde yaşaması

10. Aşağıdaki kelimeler sözlük sırasına göre dizildiğinde hangisi en sonda yer alır?

- A) Kutup B) Kuruş C) Kursiyer D) Kutlama

11. Aşağıdaki cümlelerin hangisinde büyük harflerin yazımıyla ilgili bir yanlışlık yapılmıştır?

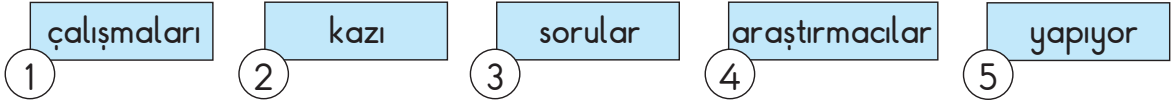
- A) Maması bitince kedimiz Yumak miyavlamaya başlar.
- B) Ezberlediğim şiiri Zafer Bayramı'nda okudum.
- C) 4 Temmuz 2021'de okulumuz adına turnuvaya katılacağız.
- D) Arkadaşım, iki yıldır Akdeniz caddesinde oturuyor.

12. Neşet Ertaş () ın önemli sanatçılarımızdan biri olduğunu biliyor musunuz ()
Sazı () sözü ve türküleriyle hepimizin kalbine dokunmuştur ()

Bu metinde yay ayraçla () gösterilen yerlere sırasıyla gelmesi gereken noktalama işaretleri aşağıdakilerin hangisinde verilmiştir?

- A) (') (?) (,) (.)
B) (-) (.) (,) (!)
C) (-) (?) (-) (.)
D) (') (.) (-) (!)

13.



Numaralanmış kelimelerle anlamlı bir cümle oluşturulduğunda hangisi dışarıda kalır?

- A) 1 B) 2 C) 3 D) 4

14. Batur, bugün bisikletini tamirciden alacaktı. Kahvaltısını yapar yapmaz tamirciye gitti. Önce ustaya selam verdi. Bisikletinin tamir olup olmadığını sordu. Usta, bisikletin neredeyse yeni gibi olduğunu söyledi. Bisikletin zincirini değiştirdiğini ve lastiğindeki patlağı onardığını söyledi. Bisikletini alan Batur, parktaki arkadaşlarının yanına gitmek için hızla pedal çevirdi.

Aşağıdakilerden hangisi Batur'un yaşadığı olaylardan biri değildir?

- A) Kahvaltı yapması
B) Bisikletini sürmesi
C) Ustayla konuşması
D) Arkadaşlarıyla yarışması

15. Bir yarışmaya ait afiş aşağıda verilmiştir.



Bu afiştten hareketle aşağıdakilerden hangisi söylenemez?

- A) Bir spor etkinliğiyle ilgilidir.
- B) Yarışmanın tarihi verilmiştir.
- C) Yarışma belediye binasından başlayacaktır.
- D) Yarışmaya başvuru için yaş şartı vardır.

16.

hanımeli

Aşağıdakilerden hangisi bu kelimeye ait bir hece değildir?

- A) ha
- B) nım
- C) me
- D) li

17. Ben elma ağacıyım. Ana vatanımız Orta Asya ama tüm dünyada yetiştiririz. Farklı farklı türlerimiz var. Meyvelerimiz kırmızı, yeşil, bordo, sarı olabiliyor. Meyvelerimizi birçok insan sever. Ve yaklaşık elli yıl meyve veririz.

Bu metinde “elma ağacı” ile ilgili aşağıdakilerden hangisine değinilmemiştir?

- A) Farklı renklerde meyve verdiklerine
- B) Dünyanın birçok yerinde yetiştiklerine
- C) Çeşitli vitaminler barındırdıklarına
- D) Meyve verme sürelerine

18. Bunu bilmeyecek ne var?
Çıkmayagörsün rüzgâr
Uçurtmam dünden hazır
Bir yumak ip de cebimde
Küçük kız kardeşimle
Koşarız karşı tepeye

Bu şiirin konusu aşağıdakilerden hangisidir?

- A) Uçurtma heyecanı
- B) Kardeş sevgisi
- C) Bahar sevinci
- D) Keşfetme isteği

19. (1) Uzun zaman sonra, çocukluğumun geçtiği köye doğru yola çıkmıştık. (2) İki kuzenim de bize katılmıştı. (3) Yol boyunca onlar aralarında konuşurken ben elektrik tellerini izlemiştim. (4) Trenin köye yaklaştığını fark edince çok heyecanlandım.

Bu metindeki numaralanmış cümlelerin hangisinde duygu bildiren bir ifade vardır?

- A) 1
- B) 2
- C) 3
- D) 4

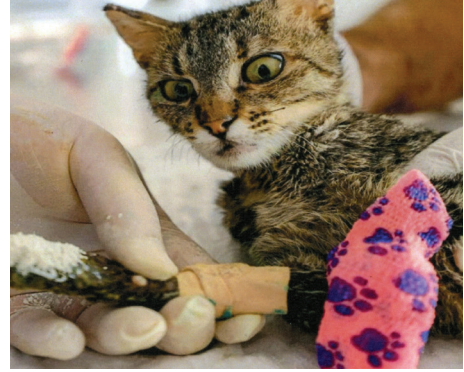
20. Çevremizde farkına bile varmadığımız birçok canlıyla birlikte yaşıyoruz. Ne şanslıyız ki bu eşsiz canlıları fark edip onlara yardım eli uzatan pek çok insan var. Onlar, gezegenimizin koruyucuları. Bizler de gerek çevremizde gerek vahşi doğada yaşayan hayvanları korumak için çabalamalıyız.

Aşağıdakilerden hangisi bu metinde anlatılanları destekleyen bir görsel olamaz?

A)



B)




C)




D)



TÜRKÇE TESTİ BİTTİ.
MATEMATİK TESTİNE GEÇİNİZ.



1. İçinde farklı sayılarda çilek bulunan üç tabak görselde verilmiştir.

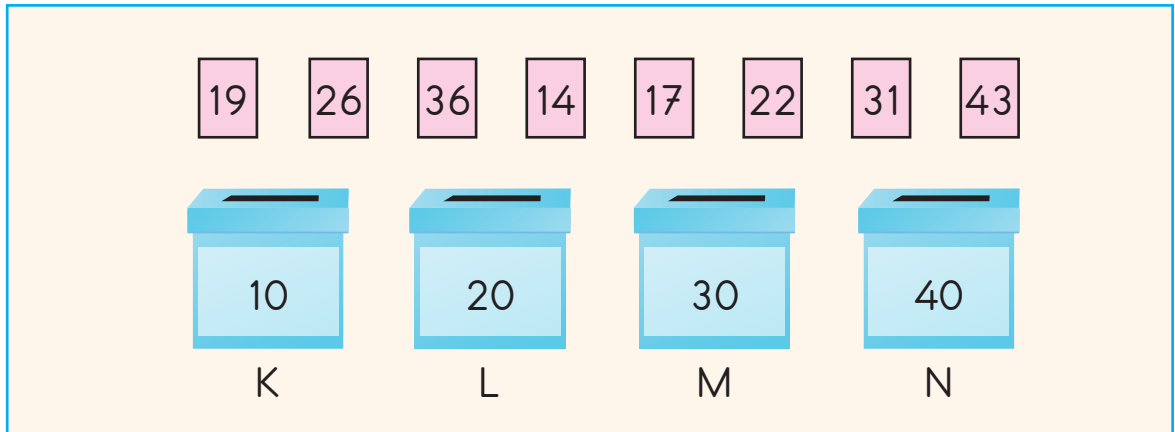


Bu tabaklara, her birinin içindeki çilek sayısı bir düzineye eşit olacak biçimde çilekler eklenecektir.

Buna göre, bu tabaklardan herhangi birine eklenecek olan çilek sayısı aşağıdakilerden hangisi olamaz?

- A) 10 B) 9 C) 8 D) 7

2. Üzerinde birer doğal sayı yazan kartlar ve kutular görselde verilmiştir.

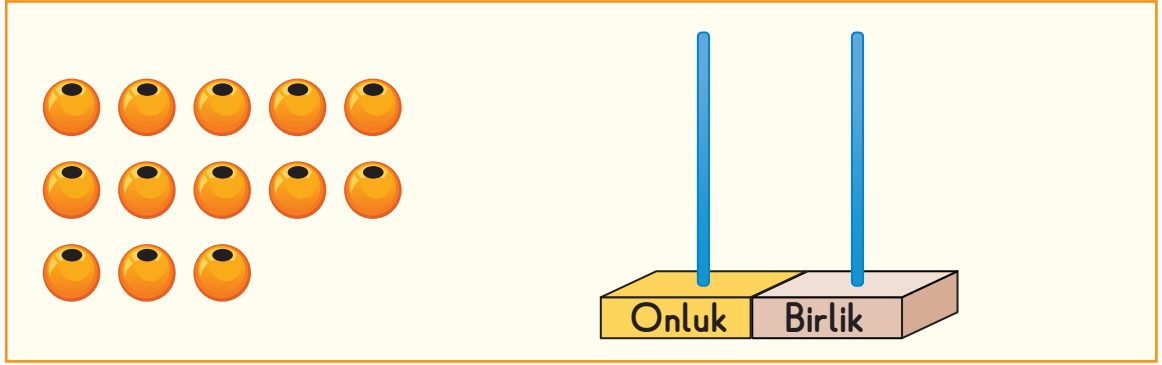


Bu kartlar, üzerinde yazan sayıların değerlerinin en yakın olduğu onluğun yazdığı kutuya atılacaktır.

Buna göre, kart atma işlemi tamamlandıktan sonra içindeki kart sayısı en fazla olan kutu aşağıdakilerden hangisidir?

- A) K B) L C) M D) N

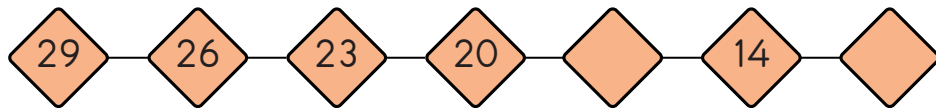
3. Aşağıdaki boncukların tamamı, verilen abaküse takılarak bir sayı modelleneyecektir.



Buna göre, modelleneyecek sayılardan biri aşağıdakilerden hangisi olamaz?

- A) 48 B) 67 C) 85 D) 94

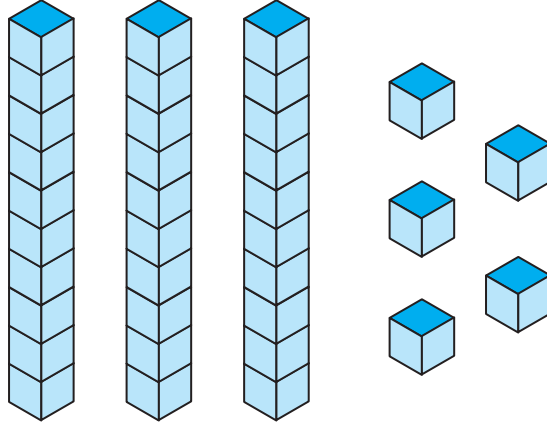
4. Adımları arasındaki farkı sabit olan bir sayı örüntüsü aşağıda verilmiştir.



Buna göre, bu sayı örüntüsünde boş bırakılan yerlere gelecek sayılar aşağıdakilerin hangisinde sırasıyla verilmiştir?

- A) 17 ve 11 B) 17 ve 10
C) 18 ve 11 D) 18 ve 10

5.



Yukarıdaki sayı bloklarının tamamı kullanılarak modellenmiş doğal sayı ile 29 sayısının toplamı kaçtır?

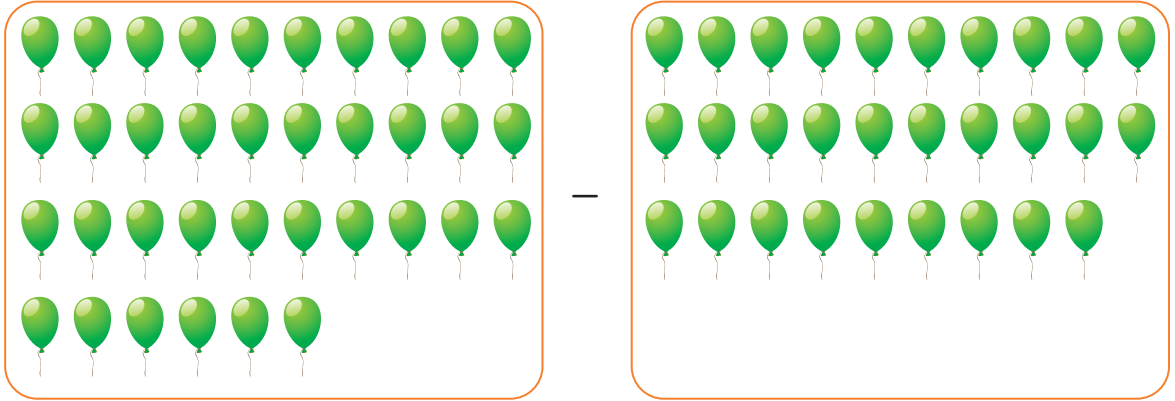
A) 54

B) 64

C) 72

D) 82

6.



Görselde modellenen çıkarma işleminin sonucu kaçtır?

A) 7

B) 8

C) 13

D) 17

7. Bir manavda, içinde mandalina bulunan iki kasadan birincisinde 38 tane mandalina vardır. İkinci kasadaki mandalina sayısı ise birinci kasadaki mandalina sayısından 7 fazladır.

Buna göre, bu iki kasadaki toplam mandalina sayısı kaçtır?

A) 72

B) 73

C) 82

D) 83

8. "Ozan, 43 sayfalık kitabının 18 sayfasını okumuştur. Ozan'ın geriye okuması gereken kaç sayfası kalmıştır?"

Verilen problemin çözümünde çokluklar arasındaki ilişkiyi veren sözel ifade aşağıdakilerin hangisidir?

- A) Toplam sayfa sayısı = Okunan sayfa sayısı – Kalan sayfa sayısı
 B) Kalan sayfa sayısı = Toplam sayfa sayısı – Okunan sayfa sayısı
 C) Kalan sayfa sayısı = Toplam sayfa sayısı + Okunan sayfa sayısı
 D) Toplam sayfa sayısı = Kalan sayfa sayısı – Okunan sayfa sayısı

9. Görseldeki sürahi 5 su bardağı su, su bardağı ise 2 fincan su almaktadır.



İçi tam dolu olan bu sürahiden 2 su bardağı ve 1 fincan su alınmıştır. Buna göre, bu sürahide geriye kalan suyun tamamı kullanılarak aşağıdaki boş kaplardan hangisi tam doldurulur?

- A) 
- B) 
- C) 
- D) 

10. Görselde bir şekil örüntüsü verilmiştir.



Verilen şekil örüntüsünün kuralı ile aynı kurala sahip ve ▲, ■, ● şekilleri ile oluşturulmuş geometrik örüntü aşağıdakilerden hangisidir?

- A) ● ■ ▲ ● ● ■ ▲ ● ● ■ ▲ ●
- B) ■ ▲ ● ● ■ ▲ ● ● ■ ▲ ● ●
- C) ▲ ● ■ ● ▲ ● ■ ● ▲ ● ■ ●
- D) ▲ ● ● ■ ▲ ● ● ■ ▲ ● ● ■

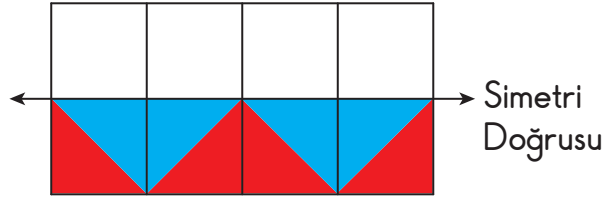
11. Görselde geometrik cisimlere benzeyen nesneler verilmiştir.



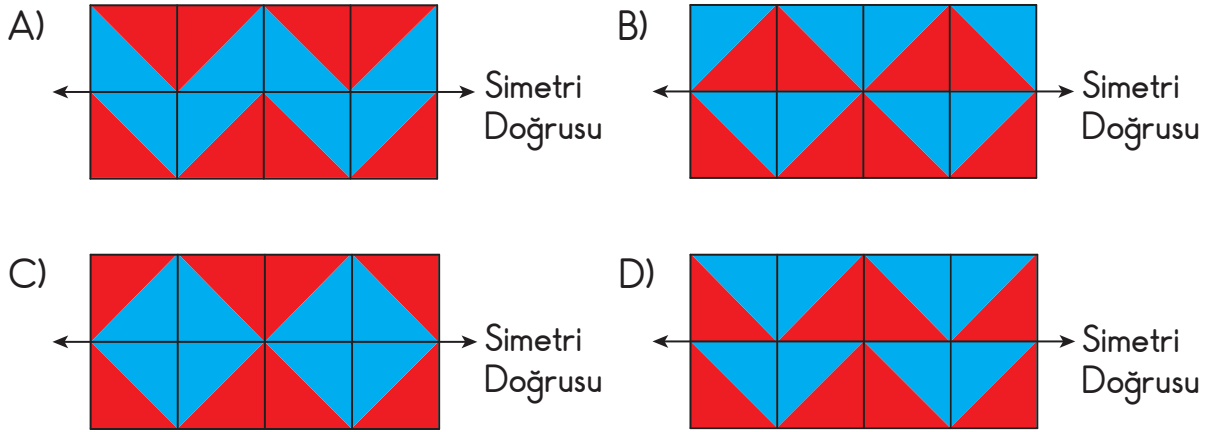
Görseldeki nesnelerin benzer oldukları geometrik cisimlere göre sayısı aşağıdakilerin hangisinde yanlış verilmiştir?

Geometrik cisim	Sayı
A) Küre	6
B) Dikdörtgen prizma	3
C) Silindir	5
D) Üçgen prizma	4


12. Şekildeki kırmızı ve maviye boyalı bölgenin verilen doğruya göre simetriği alınacaktır.



Buna göre, oluşan şekil aşağıdakilerden hangisidir?



13. Görseldeki tabakların her birinde eşit sayıda elma vardır.



Buna göre, bu tabaklardaki toplam elma sayısı kaçtır?

- A) 18 B) 20 C) 22 D) 24

14. Bir sitedeki 4 binanın her birinde 8 daire vardır.

Buna göre, bu binalardaki toplam daire sayısı kaçtır?

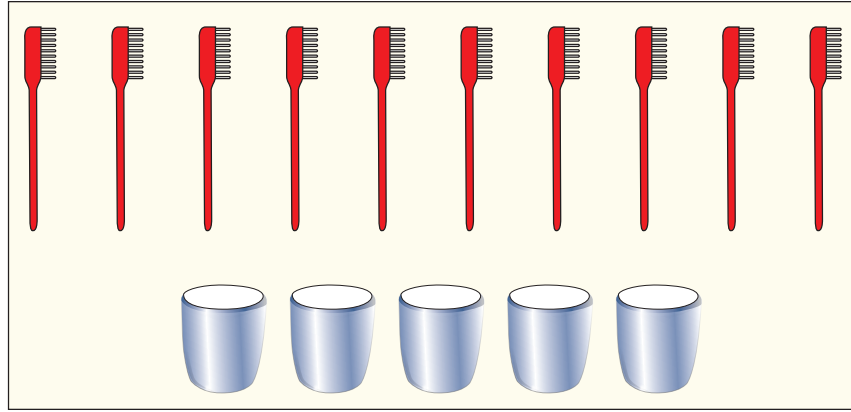
A) 12

B) 24

C) 32

D) 36

15. Görseldeki fırçalar, her birinde eşit sayıda fırça olacak biçimde verilen kaplara paylaştırılacaktır.



Buna göre, bir kaptaki fırça sayısı kaç olur?

A) 2

B) 3

C) 4

D) 5

16. Bir bukette 15 tane papatya vardır. Bu papatyalar, her vazoda eşit sayıda papatya olacak biçimde 5 vazoya paylaştırılacaktır.

Buna göre, bir vazodaki papatya sayısı kaç olur?

A) 5





B) 4

C) 3

D) 2

17. Bir grupta 6 kişi vardır. Bu gruptaki her kişiye 1 yarım 1 çeyrek portakal dağıtılmıştır.

Buna göre, bu gruptaki kişilerin tamamına dağıtılan toplam portakal miktarı aşağıdakilerden hangisi olabilir?

- A) 
Bütün Bütün Yarım Yarım Yarım Çeyrek Çeyrek
- B) 
Bütün Bütün Bütün Çeyrek Çeyrek Çeyrek Çeyrek Çeyrek Çeyrek
- C) 
Bütün Bütün Yarım Yarım Yarım Yarım Yarım Çeyrek
- D) 
Bütün Bütün Bütün Yarım Çeyrek Çeyrek Çeyrek Çeyrek

18. Berk, 14 Mart 2021 tarihinde oyuncağına bir pil takmıştır. Bu pil, oyuncağına takıldığı günden itibaren 90 gün sonra bitmiştir.





Buna göre, bu pilin bittiği gün hangi ayın içindedir?

- A) Mayıs B) Haziran C) Temmuz D) Ağustos

19. Aşağıda bir miktar para verilmiştir.



Bu paralar ile aşağıdakilerin hangisinde verilen paraların toplam değeri 10 TL olur?

- A) 
- B) 
- C) 
- D) 

20. Bir sınıftaki öğrencilerin katıldıkları spor etkinliğine göre sayıları şekil grafiğinde gösterilmiştir.

Grafik: Katıldıkları Spor Etkinliğine Göre Öğrenci Sayıları


Tenis	★ ★
Basketbol	★ ★ ★ ★
Hentbol	★ ★
Voleybol	★ ★ ★

Not: Her ★ şekli 2 öğrenciyi göstermektedir.

Bu sınıftaki öğrencilerin her biri sadece bir etkinliğe katıldığına göre, aşağıdakilerden hangisi yanlıştır?

- A) Tenise katılan öğrenci sayısı, hentbola katılan öğrenci sayısına eşittir.
- B) Voleybola katılan öğrenci sayısı, tenise katılan öğrenci sayısından 2 fazladır.
- C) Spor etkinliklerine katılan toplam öğrenci sayısı 22'dir.
- D) Hentbola katılan öğrenci sayısı, basketbola katılan öğrenci sayısından 2 eksiktir.

MATEMATİK TESTİ BİTTİ.
HAYAT BİLGİSİ TESTİNE GEÇİNİZ.



1. "Futbol oynamaktan hoşlandığım için futbol oynamayı seven çocuklarla arkadaşlık kuruyorum." diyen biri arkadaş olarak seçeceği kişinin - - - -

Bu cümle aşağıdakilerden hangisiyle tamamlanmalıdır?

- A) kendisiyle benzer özelliğe sahip olmasını istemektedir.
- B) yeteneklerinin farklı olmasını kabul etmektedir.
- C) ilgi alanlarının değişik olmasını hoş karşılamaktadır.
- D) bireysel farklılıklarına saygı duymaktadır.

2. Çağla'nın cuma günü katılacağı derslere ait program tabloda verilmiştir.

CUMA	
1. Ders	Hayat Bilgisi
2. Ders	Türkçe
3. Ders	Türkçe
4. Ders	Matematik
5. Ders	Matematik
6. Ders	Beden Eğitimi

Bu programa göre, çantasını hazırlayan Çağla'nın aşağıdakilerden hangisini çantasına koyması gerekir?

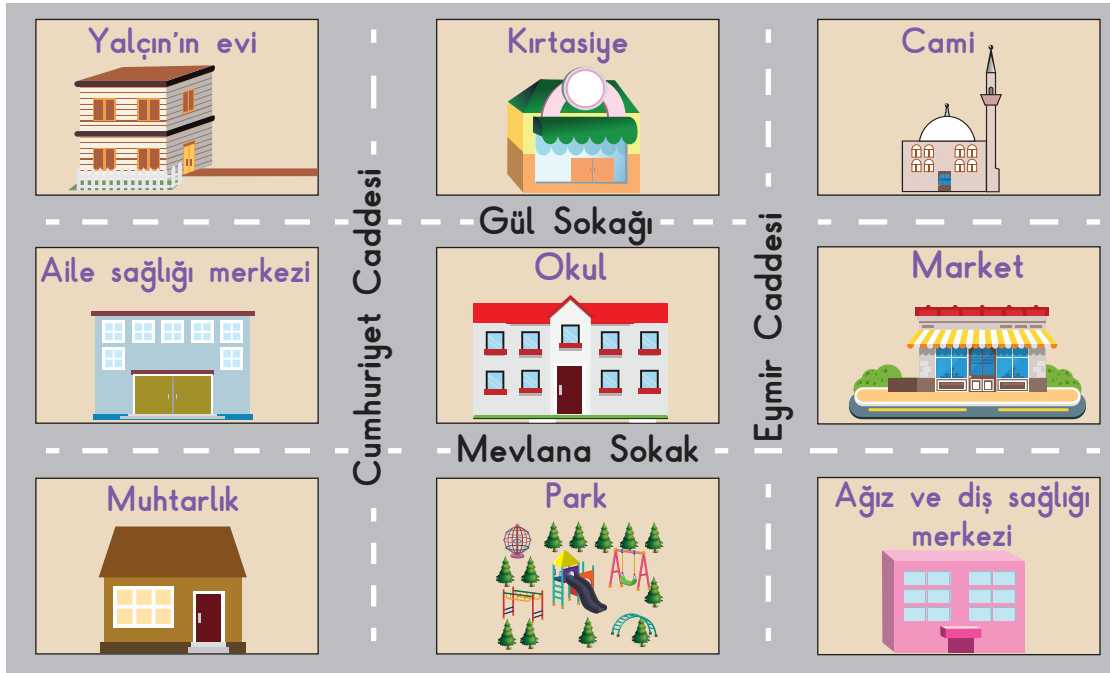
- A) Yabancı dil kitabı
- B) Flüt
- C) Spor ayakkabısı
- D) Resim defteri

3. Geçen sene sınıfımızda bazı sorunlar yaşamıştık. Sınıfımızdaki bu sorunları hep birlikte konuşarak çözmüştük. Bu tür sorunların tekrar yaşanmaması için fikirlerimizi söylemiştik. En sonunda sınıfımızda oylama yaparak kararlaştırılan fikirleri kural haline getirmiştik.

Buna göre, bu öğrenciler için aşağıdakilerden hangisi söylenebilir?

- A) Sınıf kurallarını birlikte belirlemişlerdir.
- B) Okul dışı etkinliklerde görev almışlardır.
- C) Sınıf kuralları ile ilgili kararı öğretmene bırakmışlardır.
- D) En çok konuşan kişinin fikrini kabul etmişlerdir.

4. Yalçın yaşadığı çevrenin krokiğini aşağıdaki gibi çizmiştir.



Bu krokiye göre, Yalçın'ın verdiği bilgilerden hangisi yanlıştır?

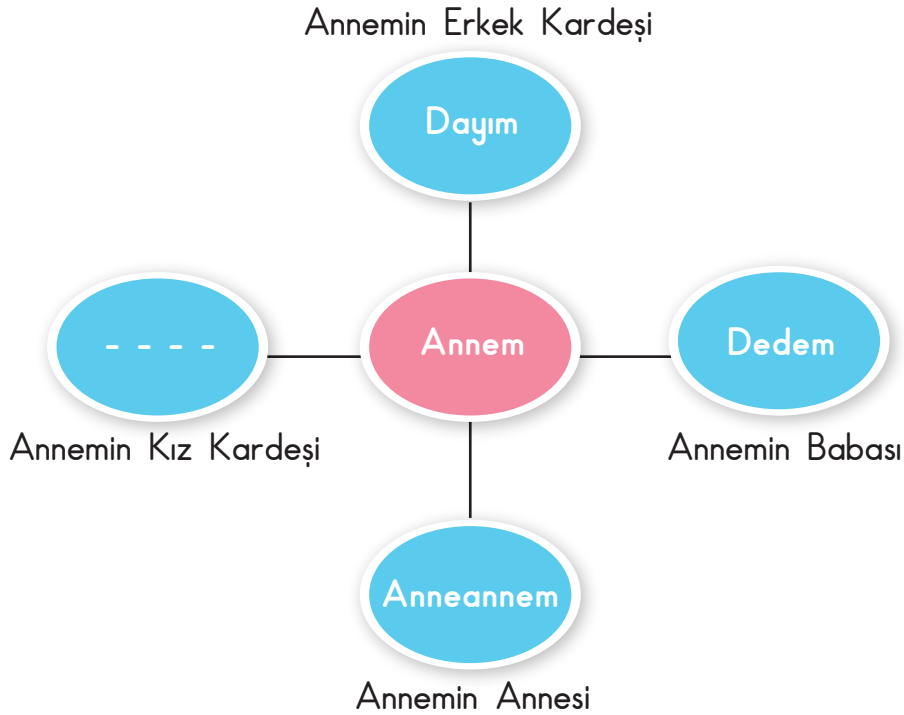
- A) Okuldan eve giderken Mevlana Sokak ve Cumhuriyet Caddesi'ni kullanırım.
- B) Okulumun sağında market, solunda aile sağlığı merkezi vardır.
- C) Evden parka giderken Cumhuriyet Caddesi'ni kullanırım.
- D) Ağız ve diş sağlığı merkezi, evimizin arkasındadır.

5. Eda, arkadaşı onu sertçe ittiğinde "Lütfen yapma." diyerek arkadaşını nazikçe uyarmıştır.

Buna göre, Eda için aşağıdakilerden hangisi söylenebilir?

- A) Tepkisini gösterirken kırıncı olmuştur.
B) İletişim kurarken kaba davranışlardan kaçınmıştır.
C) Aynı davranışı arkadaşına uygulamıştır.
D) Arkadaşına karşılık vermeyip ağlamıştır.

6.



Bu şemadaki boşluğa aşağıdakilerden hangisi getirilmelidir?

- A) Yengem B) Halam C) Teyzem D) Kuzenim

7. Aşağıda Esra'nın hayat bilgisi dersindeki bir konu ile ilgili yazdığı metin verilmiştir.

- - - -

Evlerimizde elektrik, su, doğalgaz, tüp gaz, kömür gibi kaynaklar kullanırız. Temizlik, bulaşık ve çamaşır yıkama gibi işlerde suya ve elektriğe ihtiyaç duyarız. Bunları ihtiyacımız kadar kullanmalıyız.

Bu metne getirilebilecek en uygun başlık aşağıdakilerden hangisidir?

- A) Planlı Yaşam
B) Tasarruflu Olmak
C) Temizlik Şart
D) Geri Dönüşüm
8. Emirhan, ailesi ile birlikte yemek yeme, odasını toplama, okula gitme, ders çalışma ve oyun oynama gibi işlerini planlamıştır. Emirhan bu planı uygulamayıp zamanının büyük bir bölümünü oyun ve eğlenceye ayırmıştır.

Buna göre, Emirhan ile ilgili aşağıdakilerden hangisi söylenebilir?

- A) Zamanını verimli kullanmıştır.
B) Günlük planına uymuştur.
C) İşlerini önem sırasına göre yapmıştır.
D) Görev ve sorumluluklarını ihmal etmiştir.

9.



Cemil

Benimkinden daha güzel bir bisiklet gördüm.
Onu bana alabilir misin?

Okullar açılmak üzere, önce okul ihtiyaçlarını
alalım, sonra istediğin bisikleti de alalım.




Baba

Cemil ve babasının konuşmalarına göre, aşağıdakilerden hangisini söylemek doğru olur?

- A) Her zaman isteklerimize öncelik verilmelidir.
B) İsteklerimizden önce ihtiyaçlarımız karşılanmalıdır.
C) Alışveriş listesi hazırlanırken isteklerimiz önce yazılmalıdır.
D) İhtiyaç olmadığı halde alışveriş yapılmalıdır.

10. Bir öğretmen derse girdiğinde aşağıdaki görseli kullanmıştır.



Bu görsele göre, öğretmen aşağıdakilerin hangisine dikkat çekmek istemiştir?

- A) Spor yapmanın önemine
- B) Dengeli beslenmeye
- C) Kişisel temizliğe
- D) Bol su tüketmenin gerekliliğine

11.



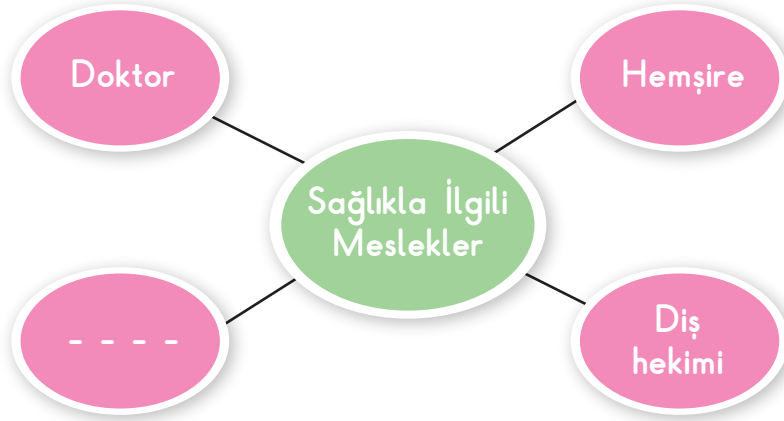
Zafer

Ağızda yemek varken konuşmam.
Tabağıma yiyebileceğim kadar yemek alırım.

Bu ifadeleri kullanan Zafer, aşağıdakilerden hangisine dikkat etmektedir?

- A) Görgü kurallarına uymaya ve israfı önlemeye
- B) Temizliğe ve sağlıklı büyümeye
- C) Planlı ve programlı olmaya
- D) İstek ve ihtiyaçlarını karşılamaya

12.



Bu şemada boş bırakılan yere aşağıdakilerden hangisi getirilmelidir?

- A) Polis
C) Eczacı
B) Öğretmen
D) İtfaiyeci

13. Öğretmenin, "Mevsimine uygun giyinme nasıl olmalıdır?" sorusuna karşılık, aşağıdaki öğrencilerden hangisi doğru cevabı vermiştir?

- A) Selma : Sonbaharda çok kalın olmayan, uzun kollu kıyafetler tercih edilmelidir.
B) Anıl : Kışın açık renkli, kısa kollu, ince kıyafetler giyilmelidir.
C) Çağrı : İlkbaharda atkı, bere ve eldiven kullanılmalıdır.
D) Kaan : Yazın koyu renkli, kalın ve yünlü kıyafetler giyilmelidir.

14. Tatilini Mersin'de geçirmek isteyen abim, Almanya'dan uçakla Ankara'ya gelmiş, oradan trene binerek Konya'ya ulaşmış ve kısa bir otobüs yolculuğundan sonra Mersin'deki oteline yerleşmiştir.

Buna göre, abim sırası ile hangi ulaşım türlerini kullanmıştır?

- A) Kara yolu - Hava yolu - Demir yolu
B) Hava yolu - Kara yolu - Demir yolu
C) Demir yolu - Kara yolu - Hava yolu
D) Hava yolu - Demir yolu - Kara yolu

15.



Alper

Ben on üç yaşındayım. Tatile giderken, arabamızda ben, annem, aracı kullanan babam ve üç yaşındaki kardeşim bulunuyorduk.

Bu yolculuk sırasında aşağıdakilerden hangisinin yapılması doğrudur?

- A) Alper'in kardeşinin, çocuk koltuğunda oturması
- B) Alper'in kapı kilitleriyle oynaması
- C) Babanın emniyet kemerini çıkarması
- D) Annenin konuşarak babanın dikkatini dağıtması

16. Vedat ve Suat, okul sonrası oynamak için sözleşmişti. Vedat buluşma yerine giderken annesinin cep telefonunu yanına almıştı. Suat'a 1-1-2 numaralı telefonu arayıp sel olduğunu söyleyerek çok eğlenebileceklerini söyledi.

Bu durum karşısında Suat'ın arkadaşına aşağıdakilerden hangisini söylemesi doğru olur?

- A) Acil telefon numaraları her zaman aranabilir.
- B) Gereksiz ihbarda bulunmanın sakıncası yok.
- C) Gerçekten ihtiyacı olan insanları zor durumda bırakabiliriz.
- D) Eğlenceli olabilir, hadi hemen arayalım.

17. Atalarım gökten yere
İndirmişler ay yıldızı,
Bir buluta sarmışlar ki
Rengi şafaktan kırmızı.

Verilen dördlükte aşağıdakilerin hangisinden bahsedilmektedir?

- A) Vatan
- B) Bayrak
- C) Başkent
- D) Ordu

18. Mustafa Kemal Atatürk ile ilgili verilen bilgilerden hangisi yanlıştır?

- A) Planlı ve disiplinli çalışırdı.
- B) Selanik şehrinde doğdu.
- C) Kurmay yüzbaşı olarak orduya katıldı.
- D) Kemal ismini Türkçe öğretmeni verdi.

19. Aşağıdakilerden hangisi Türk kültür mirası içinde yer almaz?

A)



B)




C)



D)



20.



Bu görselde üretim aşamaları verilen ürün aşağıdaki sektörlerin hangisinde kullanılır?

A) Tarım

B) Plastik

C) Tekstil

D) Demir-çelik



TEST BİTTİ.
CEVAPLARINIZI KONTROL EDİNİZ.

SINAV BAŞLAMADAN AŞAĞIDAKİ UYARILARI MUTLAKA OKUYUNUZ!

1. Öğrenciler, sınav kurallarına ve salon görevlilerinin tüm uyarılarına uymak zorundadırlar.
2. Cevap kâğıdındaki kimlik bilgilerinin doğruluğunu kontrol ediniz. Bilgiler size ait değilse veya cevap kâğıdı kullanılmayacak durumdaysa sınav görevlilerine bildiriniz.
3. Sınav başladıktan sonra öğrencilerin salon görevlileri ve birbirleri ile konuşmaları, kalem, silgi vb. şeyleri istemeleri yasaktır.
4. Değiştirmek istediğiniz bir cevabı, yumuşak silgiyle cevap kâğıdını yıpratmadan temizce siliniz ve yeni cevabınızı kodlayınız.
5. Cevap kâğıdınızı siyah kurşun kalemle imzalayınız.
6. Cevaplarınızı, cevap kâğıdındaki ilgili soru numarasını dikkate alarak yuvarlağın dışına taşırmadan kodlayınız.
7. Soru kitapçığının sayfalarını kontrol ediniz, baskı hatası var ise değiştirilmesini sağlayınız.
8. Soru kitapçığı üzerinde yapılıp cevap kâğıdına işaretlenmeyen cevaplar değerlendirmeye alınmayacaktır.
9. Soru kitapçığının içindeki boş alanları çözümlerinizi için kullanabilirsiniz.
10. Cevaplamaya istediğiniz sorudan başlayabilirsiniz.
11. Cevabını bilmediğiniz sorular üzerinde fazla zaman kaybetmeden diğer sorulara geçiniz. Zamanınız kalırsa bu sorulara daha sonra dönebilirsiniz.
12. Sınav puanınızın hesaplanmasında 3 yanlış 1 doğru cevabınızı götürcektir. Alt testler bu şekilde hesaplanarak net puanlarının toplamı toplam net puanınızı verecektir.
13. Sınav bitiminde, soru kitapçığı ve cevap kâğıdını salon görevlilerine teslim ediniz.
14. Sınav sırasında çanta, cep telefonu, saat, kablosuz iletişim sağlayan cihazlar ve kulaklık, kolye, küpe, bilezik, yüzük, broş ve benzeri eşyalar ile her türlü elektronik ve/veya mekanik cihazları yanınızda bulundurmamınız. Bu araçları yanınızda bulundurmanız ve kopya çekmeye teşebbüs etmeniz hâlinde sınavınız geçersiz sayılacaktır.
15. Cevap kâğıdınızı sınav süresince hiçbir öğrencinin göremeyeceği şekilde önünüzde bulundurunuz.
16. Sınavınızın değerlendirilmesi aşamasında, toplu kopya tespiti veya başka adayın sınav evrakını kullanmanız durumunda sınavınız geçersiz sayılacaktır.
17. Soruları ve sorulara verdiğiniz cevapları kaydetmeyiniz, hiçbir şekilde dışarı çıkarmayınız.
18. İlk 15 dakika dışarı çıkılmayacaktır.
19. Sınav evraklarını teslim etmeyenlerin sınavı geçersiz sayılacaktır.

SINAV GÖREVLİLERİNCE SINAV BAŞLAMADAN ÖNCE ÖĞRENCİLERE YAPILACAK SON UYARI!

- Soracağınız bir şey var mı? Varsa, şimdi sorunuz.
- Sınav başladıktan sonra sorularınıza cevap verilmeyecektir.
- Başlama zilini bekleyiniz.

Hepinize başarılar dileriz.

(Sınav görevlisi başlama ve bitiş saatini tahtaya yazacaktır.)

Bu kitapçığın her hakkı saklıdır. Hangi amaçla olursa olsun, kitapçığın tamamının veya bir kısmının Millî Eğitim Bakanlığı Ölçme, Değerlendirme ve Sınav Hizmetleri Genel Müdürlüğünün yazılı izni olmadan kopya edilmesi, fotoğraflarının çekilmesi, bilgisayar ortamına alınması, herhangi bir yolla çoğaltılması, yayımlanması veya başka bir amaçla kullanılması yasaktır. Bu yasağa uymayanlar, doğabilecek cezai sorumluluğu ve kitapçığın hazırlanmasındaki mali külfeti peşinen kabullenmiş sayılır.

**12 HAZİRAN 2022 TARİHİNDE YAPILAN VEHBİ KOÇ VAKFI,
ÖZEL KOÇ İLKOKULU VE ORTAOKULU SEVİYE TESPİT SINAVI
3. SINIF “A” KİTAPÇIĞI CEVAP ANAHTARI**

TÜRKÇE	MATEMATİK	HAYAT BİLGİSİ
1. D	1. C	1. A
2. B	2. B	2. C
3. C	3. A	3. A
4. B	4. A	4. D
5. C	5. B	5. B
6. A	6. A	6. C
7. C	7. D	7. B
8. B	8. B	8. D
9. B	9. C	9. B
10. A	10. B	10. B
11. D	11. A	11. A
12. A	12. C	12. C
13. C	13. D	13. A
14. D	14. C	14. D
15. C	15. A	15. A
16. B	16. C	16. C
17. C	17. D	17. B
18. A	18. B	18. D
19. D	19. C	19. A
20. A	20. D	20. C