



3.
SINIF



A
KİTAPÇIK TÜRÜ

T.C.
MİLLÎ EĞİTİM BAKANLIĞI
ÖLÇME, DEĞERLENDİRME VE SINAV HİZMETLERİ
GENEL MÜDÜRLÜĞÜ

TED ANKARA KOLEJİ VAKFI ÖZEL İLKOKULU VE ORTAOKULU SEÇME SINAVI
(2. Sınıftan 3. Sınıf Geçenler)
12 HAZİRAN 2022 Saat: 14.00

Adayın Adı ve Soyadı :

Aday Numarası (T.C. No) :

DERS ADI	SORU SAYISI	TOPLAM SORU SAYISI	SINAV SÜRESİ (DAKİKA)
TÜRKÇE	20	60	60
MATEMATİK	20		
HAYAT BİLGİSİ	20		

ÖĞRENCİLERİN DİKKATİNE!

1. Sınıf öğrenci yoklama listesinde belirtilen sınıfta ve sıra numarasında oturunuz.
2. Cevap kâğıdındaki kimlik bilgilerinin doğruluğunu kontrol ediniz.
3. Kitapçık türünü cevap kâğıdındaki ilgili alana kodlayınız.
4. Cevap kâğıdı üzerindeki kodlamaları kurşun kalemle yapınız.

3. SINIF 2022



SINAV BAŞLAMADAN ÖNCE KİTAPÇIĞIN ARKA KAPAĞINDAKİ UYARILARI MUTLAKA OKUYUNUZ.

1. Otobüs bugün erken hareket etmiş.

Bu cümledeki altı çizili kelimenin zıt anlamlısı aşağıdakilerin hangisinde vardır?

- A) Bu mevsimde hava hemen kararıyor.
- B) Müdür toplantıya geç katılacakmış.
- C) İlaçlarını kullanırsan çabuk iyileşirsin.
- D) Arkadaşlarına zaman ayırmak istiyordu.

2. Yarışmayı kazanan sonunda açıklanacaktı. Herkes salonda merakla bekliyordu. Kazanan açıklandığında büyük bir alkış koptu.

Bu metindeki altı çizili kelime aşağıdaki hikâye unsurlarından hangisidir?

- A) Mekân
- B) Zaman
- C) Olay
- D) Şahıs

3. “Dokunmak” kelimesi aşağıdaki cümlelerin hangisinde “sağlığını bozmak” anlamında kullanılmıştır?

- A) Rüzgâr estikçe kar taneleri yüzüme dokunuyor.
- B) Eve varınca usulca kapı koluna dokundu.
- C) Fazla yağlı yemekler ona dokunuyor.
- D) Bu kitap çocuk yetiştirme konusuna da dokunmuş.

4. Şair her şiirinde farklı duyguları kaleme almış.

Bu cümledeki altı çizili kelimenin eş anlamlısı aşağıdakilerden hangisidir?

- A) Amaç B) Hayal C) Fikir D) His

5. Ak koyunun kara kuzusu da olur.

Altı çizili kelimeler arasındaki anlam ilişkisinin benzeri aşağıdakilerin hangisinde vardır?

- A) Çocuk yatmadan önce sessizce odasını topladı.
B) Bugün yola çıkarsa iki gün sonra orada olacak.
C) Son sırada başladığı yarışı ilk sırada tamamladı.
D) Hastalığını öğrenen eşi dostu onu ziyarete gelmişti.

6. 1. büyük
2. İzmir'de
3. halasını
4. oturan

Arkadaşım - - - - - - - - - - ziyaret etmiş.

Anlamlı bir cümle oluşturmak için, numaralanmış kelimeler yukarıdaki boşluklara hangi sırayla yerleştirilmelidir?

- A) 2 - 1 - 4 - 3 B) 2 - 4 - 1 - 3
C) 3 - 4 - 1 - 2 D) 3 - 2 - 4 - 1

7. Karpuz, yaz aylarının en mükemmel meyvelerinden biridir. Çok sulu bir meyve olduğu için harika bir serinleticidir. Tam bir A vitamini deposu olan karpuzun, gözleri dinlendirdiği, bağışıklık sistemini güçlendirdiği bilinir. C vitamini açısından da zengin olan karpuz, uykusuzluk sorununu ve kas ağrılarını gidermeye yardımcıdır.

Bu metinde “karpuz” ile ilgili aşağıdaki sorulardan hangisinin cevabı yoktur?

- A) Sağlığa faydaları nelerdir?
- B) Hangi vitaminleri barındırır?
- C) Hangi mevsimin meyvesidir?
- D) Saklama koşulları nelerdir?

8. Aşağıdakilerin hangisinde büyük harflerin yazımıyla ilgili yanlışlık vardır?

- A) Bu sene Kurban Bayramı'nda dedemi ziyaret edeceğiz.
- B) Bizim ev Atatürk Mahallesi'ndedir.
- C) Okullar bu yıl 6 eylül 2021'de açıldı.
- D) Geçen yıl Cumhuriyet Bayramı'nı meydanda kutladık.

9. 1. Kamp alanında işlerimiz bitince yürüyüşe gittik.
2. Güneş doğarken kamp alanına vardık.
3. Çadırların içine eşyalarımızı yerleştirdik.
4. İlk işimiz bu alana çadırları kurmak oldu.

Numaralanmış cümleler oluş sırasına göre nasıl sıralanmalıdır?

- A) 2 - 4 - 3 - 1
- B) 2 - 1 - 3 - 4
- C) 3 - 4 - 2 - 1
- D) 3 - 1 - 4 - 2

10.

“Anma, kutlama gibi sebeplerle yapılan toplantı.”

Bu anlamı taşıyan kelime aşağıdaki cümlelerin hangisinde kullanılmıştır?

- A) İstiklâl Marşı okunurken bayrak göndere çekildi.
- B) İlçe kütüphanesi bugün hizmete girdi.
- C) Okul bahçesinde hepimiz sıraya geçtik.
- D) Törende, yarışmaya katılanlara ödülleri dağıtılacak.

11. Evin bacasından dalga dalga çıkan duman, dağın doruklarından
1 2 3 4
görünüyordu.

Bu cümledeki numaralanmış kelimelerin sözlük sırasına göre dizilişi aşağıdakilerden hangisidir?

- A) 1 - 2 - 4 - 3
- B) 1 - 3 - 2 - 4
- C) 3 - 1 - 4 - 2
- D) 3 - 4 - 2 - 1

12. Astronotlar, bulundukları yerin özelliklerine göre farklı giysiler kullanır. Uzay aracının içinde kullandıkları giysi turuncu ve parlaktır. Bu giysiyi araç yüksek hızlara çıktığı zaman güvenlik amacıyla giyerler. Uzay yürüyüşüne çıktıklarında, zararlı ışıklardan korunmak ve görünür olmak için ise beyaz renkli giysilerini giyerler.

Bu metnin konusu aşağıdakilerden hangisidir?

- A) Uzay yolculuğunun zorlukları
- B) Astronotların kıyafetleri
- C) Uzay aracının özellikleri
- D) Astronotların güvenlik sorunları

13. Aslı:
— Projeyi tamamlayan var mı ()
Hakan:
— Eyvah () Ben unuttum ()
Kemal:
— Şimdi ne yapacaksın ()

Bu konuşmada yay ayraçla () gösterilen yerlere sırasıyla gelmesi gereken noktalama işaretleri aşağıdakilerin hangisinde verilmiştir?

- A) (?) (!) (.) (?)
- B) (!) (!) (,) (.)
- C) (?) (,) (!) (?)
- D) (!) (,) (.) (!)

14.



Bu görsele en uygun slogan aşağıdakilerden hangisidir?

- A) Kitabı Temiz Tut!
- B) Kitap İhtiyaçtır!
- C) Öğrenmek Mutluluktur!
- D) Bilmek Zenginliktir!

15. Aşağıdaki kelimelerden hangisi hecelerine yanlış ayrılmıştır?

- | | |
|----------------|------------------|
| A) Alp-ars-lan | B) Kar-to-pu |
| C) Tür-ki-ye | D) Bil-gi-sa-yar |

16. İnsanları dinlerken dikkat edilmesi gereken noktalar olduğunu bilirim ve bunlara mutlaka uyarım. Örneğin arkadaşlarımı, onların sözünü kesme- den dinlerim. Aklıma takılan şeyleri sormak için arkadaşımın konuşmasının bitmesini beklerim. Arkadaşım konuşurken onunla göz teması kurarım. Onu dinlerken başka şeylerle uğraşmam. Çünkü arkadaşımın kendisini değersiz hissetmesini istemem.

Bu sözleri söyleyen biriyle ilgili aşağıdakilerden hangisi söylenemez?

- A) Konuşan kişinin el ve kol hareketlerini inceler.
- B) İnsanların duygularına önem verir.
- C) İletişimde nezaket kurallarına uyar.
- D) Dinleme kurallarına uygun davranır.

17. Seviyorsan canını,
Vücuduna iyi bak.
Kuvvetlendir kanını,
İstersen çok yaşamak.

...

Sen yaşarsan bu vatan,
Ancak yaşar yükselir.
Bunu bil böyle inan,
Varlık sağlıktan gelir.

Bu şiirde şair aşağıdaki önerilerden hangisini vurgulamaktadır?

- A) Vatani korumalıyız.
- B) Doğaya özen göstermeliyiz.
- C) Sevginin değerini bilmeliyiz.
- D) Sağlığımıza dikkat etmeliyiz.

18. Yerlerde gezen kıyafetleri yüzünden odası çok dağınıktı.

Bu cümledeki altı çizili kelimenin anlamı aşağıdakilerden hangisidir?

- A) Bir yere gitmek
- B) Unutmak
- C) Bulunmak
- D) Uğramak

19. Karıncaların her biri ayrı görevlere ve ayrı sorumluluklara sahiptir ama tek başlarına hareket etmezler. Karıncalar - - - -. Siz de onları gözlemlediğinizde bu ortak çalışmayı ve dayanışmayı rahatlıkla görürsünüz.

Bu metinde boş bırakılan yere düşüncenin akışına göre aşağıdakilerden hangisi getirilemez?

- A) birbirleriyle uyum içinde hareket eder
- B) kendi aralarında iş birliği yapar
- C) görevlerini yardımlaşarak yerine getirir
- D) işlerini bitirmek için çok çalışır

20. Emre'nin kedisi, genellikle zamanını uyuyarak geçirir. Emre okuldan geldikten sonra kedisi onun yanında olmaktan ve oyun oynamaktan keyif alır. Emre, rengi kar gibi olduğu için bazen onu "Kar tanem!" diye sever.

Buna göre, aşağıda özellikleri verilen kedilerden hangisi Emre'nin olabilir?

A)

**Duman**

Oyuncu, sahibiyile zaman geçirmeyi seven, uykuya düşkün olmayan bir kedir. Rengi gri-beyazdır.

B)

**Pamuk**

Uysal, eğlenceyi çok sevmeyen, yalnız kalmaktan hoşlanan beyaz bir kedir.

C)

**Yumak**

Sıcak yerlerde kıvrılıp günün büyük bir bölümünde uyur. Oyun oynamayı sever. Beyaz rengiyle oldukça sevimlidir.

D)


**Tarçın**

Ürkek bir kedir. İnsanlarla vakit geçirmeyi sevmez. Altın renkli, kabarık tüyleri vardır.

TÜRKÇE TESTİ BİTTİ.
MATEMATİK TESTİNE GEÇİNİZ.



1. İçinde farklı sayılarda kalem olan üç kalemlik görselde verilmiştir.

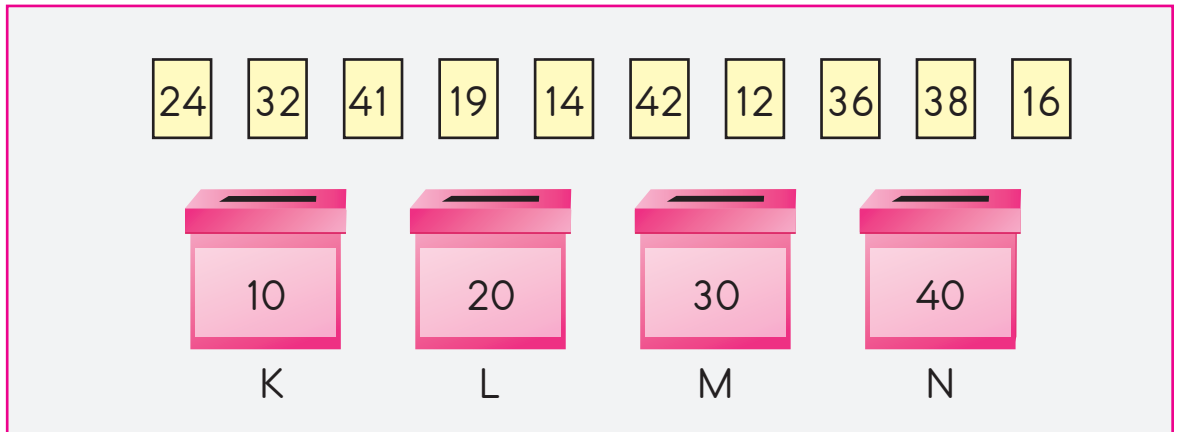


Bu kalemliklere, her birinin içindeki kalem sayısı bir desteye eşit olacak biçimde kalemler eklenecektir.

Buna göre, bu kalemliklerden herhangi birine eklenecek olan kalem sayısı aşağıdakilerden hangisi olamaz?

- A) 4 B) 5 C) 6 D) 7

2. Üzerinde birer doğal sayı yazan kartlar ve kutular görselde verilmiştir.



Bu kartlar, üzerinde yazan sayıların değerinin en yakın olduğu onluğun yazdığı kutuya atılacaktır.

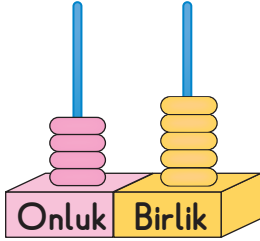
Buna göre, kart atma işlemi tamamlandıktan sonra içindeki kart sayısı en az olan kutu aşağıdakilerden hangisidir?

- A) K B) L C) M D) N

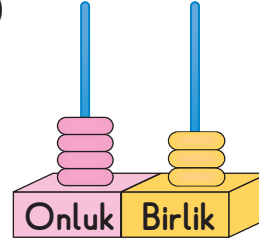
3. İki basamaklı bir sayının birler basamağındaki rakam 4'tür. Bu sayının onlar basamağındaki rakam ise 5'ten küçüktür.

Buna göre, bu sayının abaküs ile modellenmiş şekli aşağıdakilerden hangisi olabilir?

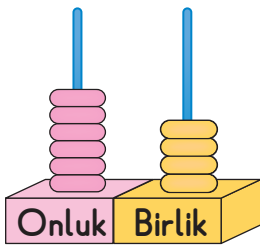
A)



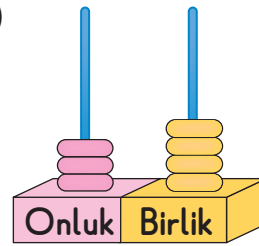
B)



C)



D)



4. Adımları arasındaki farkı sabit olan bir sayı örüntüsü aşağıda verilmiştir.



Buna göre, ★ ve ■ yerine gelecek sayılar aşağıdakilerin hangisinde sırasıyla verilmiştir?

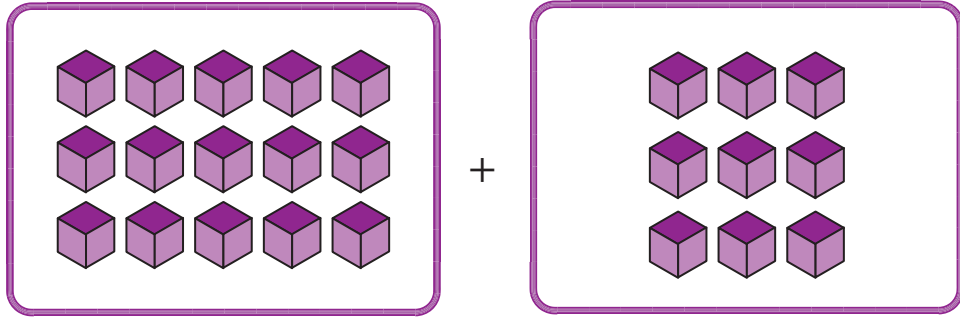
A) 18 ve 30

B) 18 ve 29

C) 17 ve 30

D) 17 ve 29

5. Aşağıda bir toplama işlemi modellenmiştir.



Buna göre, elde edilen toplam aşağıdakilerden hangisi ile gösterilebilir?

- A) 2 onluk 3 birlik B) 2 onluk 4 birlik
C) 3 onluk 2 birlik D) 4 onluk 2 birlik

6. Ömer'in 28 tane hikâye kitabı vardır. Annesi, Ömer'e 17 tane daha hikâye kitabı vermiştir.

Buna göre, Ömer'in toplam kaç tane hikâye kitabı olmuştur?

- A) 35 B) 41 C) 44 D) 45

7. $41 = 18 + \star$

Verilen eşitlikte \star bir doğal sayıdır.

Buna göre, \star kaçtır?

- A) 23 B) 28 C) 33 D) 39

8. $55 - 38 = 17$
 $17 - 9 = 8$

Verilen işlemler, aşağıdaki problemlerden hangisinin çözümü olabilir?

- A) Bir kitaplıktaki 55 tane kitabın 38 tanesi hikâye, 9 tanesi şiir, geriye kalanlar ise boyama kitabıdır. Buna göre, bu kitaplıktaki boyama kitaplarının sayısı kaçtır?
- B) Bir kutudaki 55 tane kalemin 9 tanesi kurşun, 8 tanesi keçeli, geriye kalanlar ise tükenmez kalem. Buna göre, bu kutudaki tükenmez kalem sayısı kaçtır?
- C) Bir bakkaldaki 55 kilogram bakliyatın 17 kilogramı mercimek, 9 kilogramı bulgur, geriye kalanlar ise pirinçtir. Buna göre, bu bakkaldaki pirincin kütlesi kaç kilogramdır?
- D) Bir buketteki 55 tane gülün 38 tanesi sarı, 8 tanesi kırmızı, geriye kalanlar ise beyazdır. Buna göre, bu buketteki beyaz güllerin sayısı kaçtır?

9. Görseldeki sürahi 9 kupa su, kupa ise 2 çay bardağı su almaktadır.

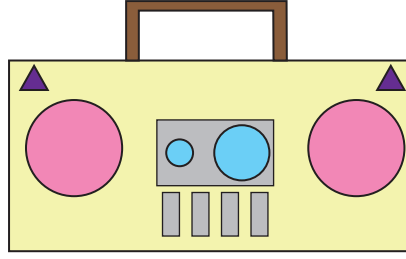


Boş bir sürahiye 2 kupa ve 4 çay bardağı su eklenmiştir.

Buna göre, bu sürahiyi tamamen doldurmak için kaç kupa su gerekir?

- A) 4 B) 5 C) 8 D) 10

10.

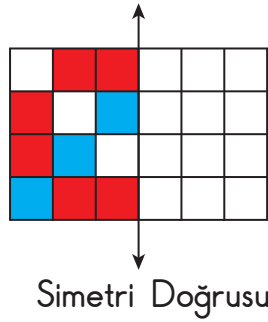


Aşağıdaki geometrik cisimlerden hangisinin bir yüzü verilen şekilde kullanılmamıştır?

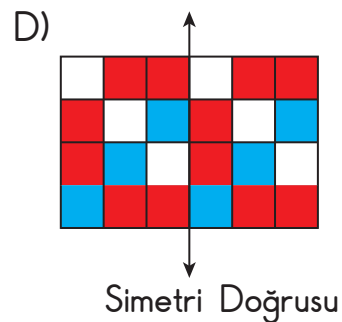
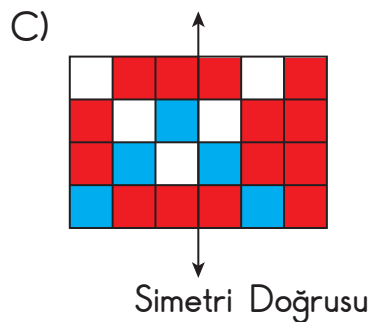
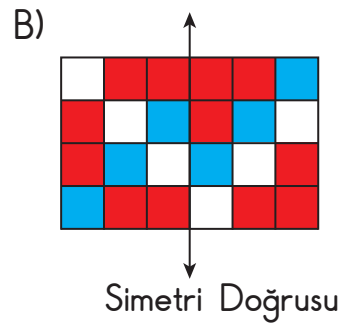
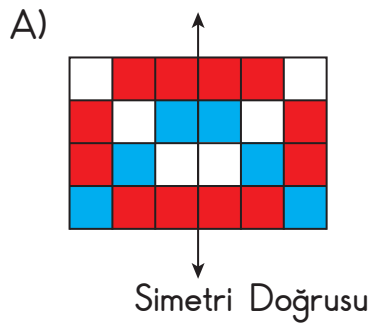
- A) Dikdörtgen prizma
C) Üçgen prizma

- B) Silindir
D) Küp

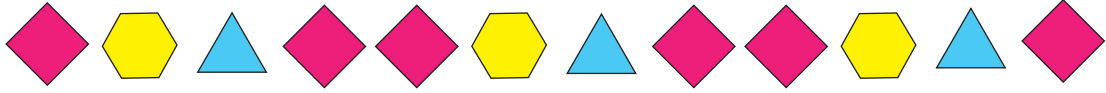
11. Şekildeki kırmızı, mavi ve beyaza boyalı bölgenin verilen doğruya göre simetriği alınacaktır.



Buna göre, oluşan şekil aşağıdakilerden hangisidir?



12.

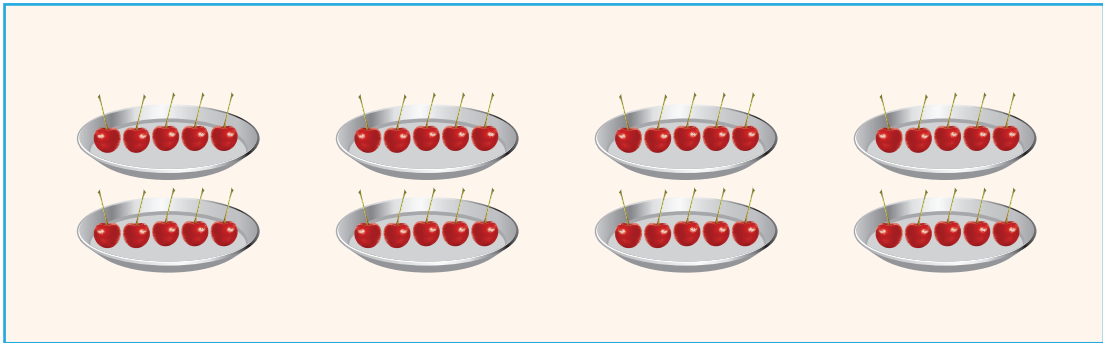


Verilen geometrik örüntünün kuralı ile aynı kurala sahip ve

■, ▼, ● şekilleri ile oluşturulmuş geometrik örüntü aşağıdakilerden hangisidir?

- A) ● ■ ■ ▼ ● ■ ■ ▼ ● ■ ■ ▼
- B) ■ ● ▼ ▼ ■ ● ▼ ▼ ■ ● ▼ ▼
- C) ■ ■ ▼ ● ■ ■ ▼ ● ■ ■ ▼ ●
- D) ● ▼ ■ ● ● ▼ ■ ● ● ▼ ■ ●

13. Görseldeki tabakların her birinde eşit sayıda kiraz vardır.



Buna göre, bu tabaklardaki toplam kiraz sayısı kaçtır?

- A) 30 B) 35 C) 40 D) 45

14. Her birinde 9 kalem olan paketlerden 4 tane vardır.

Buna göre, bu paketlerdeki toplam kalem sayısı kaçtır?

A) 45

B) 36

C) 32

D) 27

15. Görseldeki balonlar, 2 çocuğa eşit sayıda paylaştırılacaktır.



Buna göre, bir çocuğun alacağı balon sayısı kaç olur?

A) 5

B) 6

C) 7

D) 8

16. Bir çiçekçi, 1 düzine karanfilden her demette eşit sayıda karanfil olacak biçimde 3 demet oluşturacaktır.

Buna göre, bir demetteki karanfil sayısı kaç olur?

A) 3

B) 4

C) 5






D) 6

17. Görselde bütün elmalar verilmiştir.



Bu elmalardan 3 bütün, 3 yarım, 5 çeyrek elma yenmiştir.

Buna göre, geriye kalan elmalar aşağıdakilerden hangisi olabilir?


- A)  Yarım  Yarım  Yarım  Yarım  Çeyrek
- B)  Bütün  Yarım  Yarım  Çeyrek  Çeyrek
- C)  Bütün  Bütün  Çeyrek  Çeyrek  Çeyrek
- D)  Bütün  Yarım  Yarım  Yarım  Yarım

18. Her hafta perşembe günü yayımlanan bir derginin ilk sayısı 31 Mart 2022 tarihinde yayımlanmıştır.

Buna göre, bu derginin üçüncü sayısı hangi tarihte yayımlanmıştır?

- A) 10 Mart 2022
B) 17 Mart 2022
C) 14 Nisan 2022
D) 21 Nisan 2022

19. Aşağıda bir miktar para verilmiştir.




















Bu paralar ile aşağıdakilerin hangisinde verilen paraların toplam değeri 15 TL olur?



20. Bir bahçedeki ağaçların türlerine göre sayıları nesne grafiğinde gösterilmiştir.

Grafik: Ağaçların Türlerine Göre Sayıları

Elma					
Kiraz					
Armut					
Portakal					

Not: Her nesne 3 tane ağacı göstermektedir.


Grafiğe göre, aşağıdakilerden hangisi yanlıştır?

- A) Armut ve kiraz ağaçlarının sayısı birbirine eşittir.
- B) Portakal ağacı sayısı en azdır.
- C) Kiraz ağacı sayısı, portakal ağacı sayısından 6 fazladır.
- D) Armut ağacı sayısı, elma ağacı sayısından 3 eksiktir.


MATEMATİK TESTİ BİTTİ.
HAYAT BİLGİSİ TESTİNE GEÇİNİZ.



1. Aşağıdaki öğrencilerden hangisi ilgi alanından söz etmiştir?



Okul kurallarına uyarım.



Sarı saçlı, mavi gözlüyüm.



Arkadaşlarıma nazik davranırım.



Kitap okumayı severim.

2.

Bayram için sınıf
camlarını bayraklarla
süslemek istiyorum.
Sen ne dersin?



Emir

Çok iyi düşünmüşsün.
Bence de çok güzel
olur.



Merve

Buna göre, Emir için aşağıdakilerden hangisi söylenebilir?

- A) Kararları tek başına vermektedir.
- B) Sınıf etkinliklerinde arkadaşının fikrini almaktadır.
- C) Farklı fikirleri önemsiz görmektedir.
- D) Yeteneklerinin farkındadır.

3. Aşağıdaki öğrencilerin konuşmalarına göre, hangisinin okul kaynaklarını ve eşyalarını özenli kullandığı söylenebilir?

A)



Sıraların üstüne sevdiğim şekilleri çizerim.

B)



Gündüz sınıfta lambaları açık bırakırım.

C)



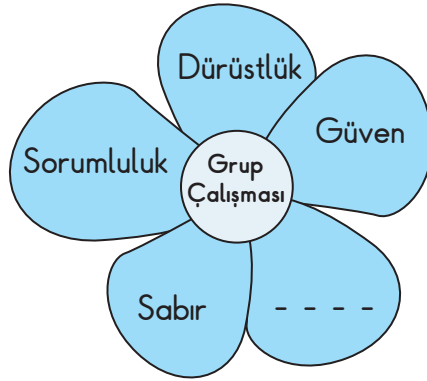
Çok köpük olsun diye sabunu bol kullanırım.

D)



Lavabo ve tuvaletleri temiz kullanırım.

4.



Bu görseldeki boşluğa aşağıdakilerden hangisi getirilmelidir?

A) İş birliği

B) Tutumluluk

C) Tasarruf

D) Kıskançlık

5. Bir sınıftaki öğrenciler, sınıf panosu için aşağıdaki yazıları hazırlamışlardır.

Arkadaşımı üzdüğümde
ondan özür dilerim.

Arkadaşım hastalandığında
ona "Geçmiş olsun." derim.

Arkadaşım hatalı
davrandığında
"Lütfen yapma." derim.

Bu yazılar aşağıdakilerden hangisiyle ilgilidir?

- A) İhtiyaç ve istekler
B) Grup çalışması
C) İletişim kuralları
D) Bireysel farklılıklar

6. Bir çocuğun yaşadığı evin adresini aşağıdaki durumların hangisinde kullanması yanlış olur?

- A) Kaybolduğunda
B) Bilgisayar oyunları oynadığında
C) Acil durumlarda
D) Okulda bazı formların doldurulmasında

7. “Benim ailemde bütün bireylerin söz hakkı vardır.” diyen Elif’in ailesi için aşağıdakilerden hangisini söylemek yanlış olur?

- A) Herkes fikrini özgürce söylemektedir.
- B) Aile içi iş bölümü yapılmaktadır.
- C) Ortak kararlar alınmaktadır.
- D) Farklı fikirlere saygı duyulmaktadır.

8. Beril’in gün içerisinde planladığı işlere ayırdığı süreler tabloda verilmiştir.

14.00 14.30	Spor yapma
15.00 19.00	Tablet ile oynama
20.00 21.00	Ödev yapma
21.30 22.00	Kitap okuma

Bu tabloya göre, zamanı verimli kullanmak isteyen Beril, aşağıdaki etkinliklerden hangisine daha fazla zaman ayırmıştır?


- A) Kitap okumaya
- B) Ödev yapmaya
- C) Tablet ile oynamaya
- D) Spor yapmaya

9. Aşağıdakilerden hangisi insanın temel ihtiyaçlarından biri değildir?


A)




B)



C)



D)



10. Erol: Kahvaltımı yaparak okula giderim. Yemeklerden sonra dişlerimi fırçalarım. Kişisel bakımına dikkat eder, düzenli spor yaparım.

Buna göre, Erol'da aşağıdakilerden hangisinin görülmesi beklenir?

- A) Uyku düzeninin bozulması
- B) Sağlıklı büyüüp gelişmesi
- C) Çabuk yorulması
- D) Derslerinde başarısız olması

11. Ceren, öğle yemeği için aşağıdaki listeyi hazırlamıştır.

Köfte - Pilav - Salata - Gazoz

Dengeli ve düzenli beslenmek isteyen Ceren, verilen listeden hangisini çıkarmalıdır?

- A) Köfteyi B) Pilavı C) Salatayı D) Gazozu

12.




İnsanların tedavisinde doktora yardımcı olurum.
Aşı yapar, hastaların tansiyonunu ölçerim.


Görevlerinden bazılarını anlatan sağlık çalışanı aşağıdakilerden hangisidir?

- A) Hemşire B) Eczacı C) Veteriner D) Diş hekimi


13.



Kış



Yaz



İlkbahar

Verilen görsellere göre, aşağıdaki sonuçlardan hangisine ulaşılabilir?

- A) Sebze ve meyveler yararlıdır.
- B) Mevsimlerin kendine ait sebze ve meyveleri vardır.
- C) Sebze ve meyveler yıkanıp yenmelidir.
- D) Sebze ve meyveler taze tüketilmelidir.

14. Eda, sınıfta babasının mesleğini tanıtırken aşağıdaki dördlüğü kullanmıştır.

Liman liman dolaşır,
Denizlerde yol alır.
Yolcu veya yük taşır,
Özledim seni canım babam...

Buna göre, Eda'nın babasının mesleği aşağıdakilerden hangisidir?

- A) Kaptan
- B) Madenci
- C) Pilot
- D) Vatman

15.



Görselleri verilen ulaşım araçlarından kaç tanesi toplu taşımada kullanılır?

A) 2

B) 3

C) 4

D) 5


16. Aşağıdakilerden hangisi yöresel yemeklerimizden biridir?

A)




Pizza

B)




Spagetti

C)



Yaprak sarması

D)



Hamburger

17. Selçuk öğretmenin “Oyun oynarken güvenliğiniz için nelere dikkat etmelisiniz?” sorusunu öğrenciler aşağıdaki gibi cevaplamıştır.

Merve: Tehlikeli alanlara kaçan oyun araçlarının peşinden gitmemeliyiz.

Kaan : Oyun araçlarını kullanmadan önce kontrol etmeliyiz.

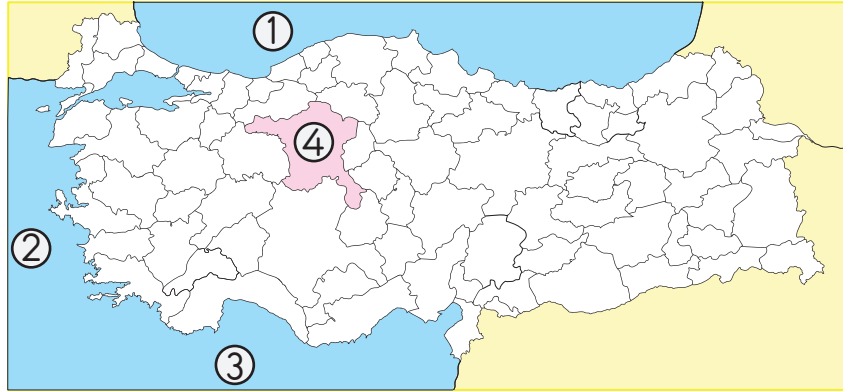
Harun: Bisiklet, paten, kayak gibi araçları kullanırken kask ve dizlik gibi koruyucular kullanmalıyız.

Caner: Bisiklet yollarında arkadaşlarımızla hız yarışması yapmalıyız.

Buna göre, hangi öğrencinin verdiği cevap yanlıştır?

- A) Merve B) Kaan C) Harun D) Caner

18.



Haritada numaralanmış alanların isimleri aşağıdakilerden hangisinde doğru verilmiştir?

- | | |
|----------------|-----------------|
| A) ① Karadeniz | B) ① Ege Denizi |
| ② Ege Denizi | ② Akdeniz |
| ③ Akdeniz | ③ Ankara |
| ④ Ankara | ④ Karadeniz |
| C) ① Akdeniz | D) ① Ankara |
| ② Ankara | ② Karadeniz |
| ③ Karadeniz | ③ Ege Denizi |
| ④ Ege Denizi | ④ Akdeniz |

19.



İrem

Hafta sonu ailece pikniğe gittik. Döndüğümüzde evin kapısının açık olduğunu fark ettik. İçeri girdiğimizde de etrafın dağınık olduğunu gördük.

Bu durumda İrem ve ailesinin aşağıdakilerin hangisinden yardım istemesi doğru olur?

A) İtfaiye

B) AFAD

C) Polis

D) Ambulans

20.



Fatih

Babam; bu yıl süt, peynir, tereyağı, deri ve yün satışından iyi gelir elde ettiğimizi böylelikle istediğim bilgisayarı alabileceğini söyledi.

Buna göre, Fatih'in babası aşağıdaki faaliyetlerden hangisini yapmaktadır?

A) Tarım

B) Hayvancılık

C) Turizm

D) Ormancılık

TEST BİTTİ.
CEVAPLARINIZI KONTROL EDİNİZ.



SINAV BAŞLAMADAN AŞAĞIDAKİ UYARILARI MUTLAKA OKUYUNUZ!

1. Öğrenciler, sınav kurallarına ve salon görevlilerinin tüm uyarılarına uymak zorundadırlar.
2. Cevap kâğıdındaki kimlik bilgilerinin doğruluğunu kontrol ediniz. Bilgiler size ait değilse veya cevap kâğıdı kullanılmayacak durumdaysa sınav görevlilerine bildiriniz.
3. Sınav başladıktan sonra öğrencilerin salon görevlileri ve birbirleri ile konuşmaları, kalem, silgi vb. şeyleri istemeleri yasaktır.
4. Değiştirmek istediğiniz bir cevabı, yumuşak silgiyle cevap kâğıdını yıpratmadan temizce siliniz ve yeni cevabınızı kodlayınız.
5. Cevap kâğıdınızı siyah kurşun kalemle imzalayınız.
6. Cevaplarınızı, cevap kâğıdındaki ilgili soru numarasını dikkate alarak yuvarlağın dışına taşırmadan kodlayınız.
7. Soru kitapçığının sayfalarını kontrol ediniz, baskı hatası var ise değiştirilmesini sağlayınız.
8. Soru kitapçığı üzerinde yapılp cevap kâğıdına işaretlenmeyen cevaplar değerlendirmeye alınmayacaktır.
9. Soru kitapçığının içindeki boş alanları çözümlerinizi için kullanabilirsiniz.
10. Cevaplamaya istediğiniz sorudan başlayabilirsiniz.
11. Cevabını bilmediğiniz sorular üzerinde fazla zaman kaybetmeden diğer sorulara geçiniz. Zamanınız kalırsa bu sorulara daha sonra dönebilirsiniz.
12. Sınav puanınızın hesaplanmasında 3 yanlış 1 doğru cevabınızı götürcektir. Alt testler bu şekilde hesaplanarak net puanlarının toplamı toplam net puanınızı verecektir.
13. Sınav bitiminde, soru kitapçığı ve cevap kâğıdını salon görevlilerine teslim ediniz.
14. Sınav sırasında çanta, cep telefonu, saat, kablosuz iletişim sağlayan cihazlar ve kulaklık, kolye, küpe, bilezik, yüzük, broş ve benzeri eşyalar ile her türlü elektronik ve/veya mekanik cihazları yanınızda bulundurmayınız. Bu araçları yanınızda bulundurmanız ve kopya çekmeye teşebbüs etmeniz hâlinde sınavınız geçersiz sayılacaktır.
15. Cevap kâğıdınızı sınav süresince hiçbir öğrencinin göremeyeceği şekilde önünüzde bulundurunuz.
16. Sınavınızın değerlendirilmesi aşamasında, toplu kopya tespiti veya başka adayın sınav evrakını kullanmanız durumunda sınavınız geçersiz sayılacaktır.
17. Soruları ve sorulara verdiğiniz cevapları kaydetmeyiniz, hiçbir şekilde dışarı çıkarmayınız.
18. İlk 15 dakika dışarı çıkılmayacaktır.
19. Sınav evraklarını teslim etmeyenlerin sınavı geçersiz sayılacaktır.

SINAV GÖREVLİLERİNCE SINAV BAŞLAMADAN ÖNCE ÖĞRENCİLERE YAPILACAK SON UYARI!

- Soracağınız bir şey var mı? Varsa, şimdi sorunuz.
- Sınav başladıktan sonra sorularınıza cevap verilmeyecektir.
- Başlama zilini bekleyiniz.

Hepinize başarılar dileriz.

(Sınav görevlisi başlama ve bitiş saatini tahtaya yazacaktır.)

Bu kitapçığın her hakkı saklıdır. Hangi amaçla olursa olsun, kitapçığın tamamının veya bir kısmının Millî Eğitim Bakanlığı Ölçme, Değerlendirme ve Sınav Hizmetleri Genel Müdürlüğünün yazılı izni olmadan kopya edilmesi, fotoğraflarının çekilmesi, bilgisayar ortamına alınması, herhangi bir yolla çoğaltılması, yayımlanması veya başka bir amaçla kullanılması yasaktır. Bu yasağa uymayanlar, doğabilecek cezai sorumluluğu ve kitapçığın hazırlanmasındaki mali külfeti peşinen kabullenmiş sayılır.

**12 HAZİRAN 2022 TARİHİNDE YAPILAN TED ANKARA KOLEJİ VAKFI
ÖZEL İLKOKULU VE ORTAOKULU SEÇME SINAVI
3. SINIF “A” KİTAPÇIĞI CEVAP ANAHTARI**

TÜRKÇE	MATEMATİK	HAYAT BİLGİSİ
1. B	1. C	1. D
2. A	2. C	2. B
3. C	3. D	3. D
4. D	4. A	4. A
5. C	5. B	5. C
6. B	6. D	6. B
7. D	7. A	7. B
8. C	8. A	8. C
9. A	9. B	9. D
10. D	10. D	10. B
11. C	11. A	11. D
12. B	12. D	12. A
13. A	13. C	13. B
14. B	14. B	14. A
15. A	15. C	15. C
16. A	16. B	16. C
17. D	17. A	17. D
18. C	18. C	18. A
19. D	19. A	19. C
20. C	20. D	20. B