



**2.**  
**SINIF**



**A**  
**KİTAPÇIK TÜRÜ**

**T.C.**  
**MİLLÎ EĞİTİM BAKANLIĞI**  
**ÖLÇME, DEĞERLENDİRME VE SINAV HİZMETLERİ**  
**GENEL MÜDÜRLÜĞÜ**

**TED ANKARA KOLEJİ VAKFI ÖZEL İLKOKULU VE ORTAOKULU SEÇME SINAVI**  
**(1. Sınıftan 2. Sınıfa Geçenler)**  
**12 HAZİRAN 2022 Saat: 14.00**

Adayın Adı ve Soyadı : .....  
Aday Numarası (T.C. No) : .....  
İmza : .....

DERS ADI	SORU SAYISI	TOPLAM SORU SAYISI	SINAV SÜRESİ (DAKİKA)
TÜRKÇE	20	60	60
MATEMATİK	20		
HAYAT BİLGİSİ	20		

## ÖĞRENCİLERİN DİKKATİNE!

1. Sınıf öğrenci yoklama listesinde belirtilen sınıfta ve sıra numarasında oturunuz.
2. Soru kitapçıkları üzerinde doğru olan seçeneği daire içine alınız.

### SALON BAŞKANI

Adı : .....  
Soyadı : .....  
T.C. Kimlik No: .....  
İmza : 

--	--	--	--	--	--	--	--	--	--

### GÖZETMEN

Adı : .....  
Soyadı : .....  
T.C. Kimlik No: .....  
İmza : 

--	--	--	--	--	--	--	--	--	--

**2. SINIF 2022**



**SINAV BAŞLAMADAN ÖNCE KİTAPÇIĞIN ARKA KAPAĞINDAKİ UYARILARI MUTLAKA OKUYUNUZ.**



1.

yo

ki

ma

ne

rum

ko

Karışık hâlde verilmiş bu hecelerden aşağıdaki kelimelerin hangisi oluşturulamaz?

A) yorum

B) koruma

C) makine

2.

1. çok

2. tatili

3. için

4. yaz

Ece - - - - - - - - - - - - - - - - heyecanlıydı.

Anlamlı bir cümle oluşturmak için, numaralanmış kelimeler yukarıdaki boşluklara hangi sırayla yerleştirilmelidir?

A) 2 - 1 - 3 - 4

B) 3 - 4 - 1 - 2

C) 4 - 2 - 3 - 1

3. Çocukken bu dar sokaklarda oyun oynardık.

Bu cümledeki altı çizili kelimenin zıt anlamlısı aşağıdakilerden hangisidir?

A) Geniş

B) Uzun

C) Büyük

4.



Aşağıdakilerden hangisi bu görsellerle ilgili değildir?

A) Sağlık

B) Spor

C) Uzay bilimi

5. Aşağıdakilerin hangisinde satıra sığmayan kelime, hecelerine yanlış ayrılmıştır?

A) Toplantı erte-  
lendi.B) Sonra konu-  
ruz.C) Odası dağın-  
ıktı.

6. Bir gün dünyanın en ünlü ressamı olacağım. Yaptığım tablolar resim sergilerini süsleyecek. Herkes tablolarımı görmek için can atacak. Bu hayalimi gerçekleştirmek için çalışmaya başladım bile.

Bu sözleri söyleyen biriyle ilgili aşağıdakilerden hangisi söylenebilir?

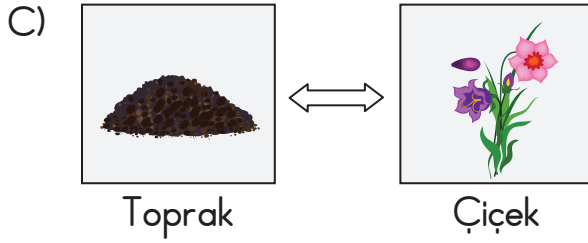
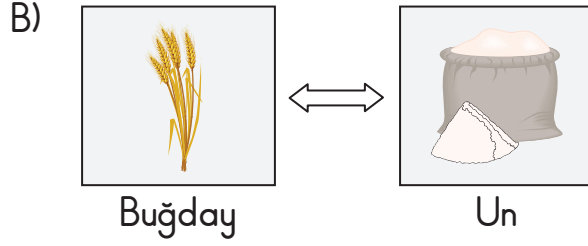
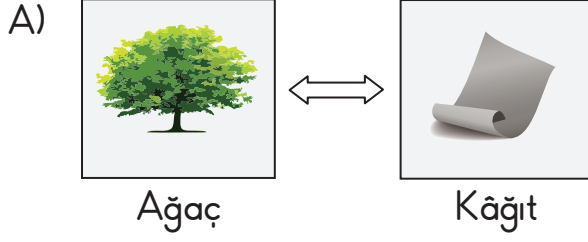
A) Başarılı olacağına inanır.

B) Resim sergilerine sürekli gitmektedir.

C) Ünlü ressamlarla tanışmıştır.



7. Aşağıdakilerin hangisinde görseller arasında diğerlerinden farklı bir ilişki vardır?



8. 1 kalktım 2 uyku 3 erken 4 bugün

Numaralanmış kelimelerle anlamlı bir cümle oluşturulduğunda hangisi dışarıda kalır?

A) 2

B) 3

C) 4

9. Kerpiç evler yapılırken kerpiç adı verilen tuğlalar kullanılır. Bu tuğlalar toprak, saman ve su karıştırılarak yapılır. Evin duvarları bu tuğlalarla örüldükten sonra çamurla sıvanır.

**Bu metinden aşağıdakilerin hangisine ulaşılabilir?**

- A) Kerpiç tuğla farklı maddelerin karışımından oluşur.  
B) Kerpiç evlerin çatısı yoktur.  
C) Kerpiç tuğla yapımı oldukça kolaydır.

10. Doğa, ailesi ile birlikte pikniğe gitti. Yemeğini yerken rengârenk bir şey fark etti. Önce onu kuş sandı. Fakat bu canlı, ağaçlara konmuyordu. Sesi de çıkmıyordu. Sürekli çiçeklere konuyordu. O bir kelebektir. Doğa, kelebeğe yaklaştı. Kelebek, pır pır ederek uçtu.

**Bu metne gelebilecek en uygun başlık aşağıdakilerden hangisidir?**

- A) Aile Gezisi                      B) Renkli Kelebek                      C) Sevimli Kuş

11. Aşağıdaki şiirlerden hangisinin konusu diğerlerinden farklıdır?

- A) Açıldı bugün bilgi yuvamız  
Burada olmak ne güzel  
Birlik olduk hepimiz  
Okumayı öğrendik bir güzel
- B) İçimde konuşan şen ses  
Baharda alırım nefes  
Yaşasın, yine ağaçlar çiçekli  
Yavru kuzular geziniyor benekli
- C) Sayesinde öğrendim hayatı  
İçimi şimdiden okul özlemi sardı  
Tatil yine geldi çattı  
Sıralar bomboş kaldı

12. 1. Kardeşimle birlikte orada atlıkarıncaya bindik.  
2. Lunaparktan çıkınca da dondurma yedik.  
3. Bu hafta sonu ailece lunaparka gittik.

Numaralanmış cümleler oluş sırasına göre nasıl sıralanmalıdır?

- A) 1 - 3 - 2                      B) 2 - 3 - 1                      C) 3 - 1 - 2

13. Meyvelerde bol vitamin ve mineral bulunur. Bunlar sağlığımız için oldukça yararlı maddelerdir. Bu maddeler, vücudumuzun hastalıklarla savaşmasına yardımcı olur.

Bu metnin konusu aşağıdakilerden hangisidir?

- A) Meyvelerin büyümemize etkisi  
B) Meyvelerin sağlığımıza faydası  
C) Meyvelerdeki vitamin çeşitleri

14. Öğleden sonra film gösterimi başlayacak.

Bu cümledeki altı çizili söz aşağıdaki sorulardan hangisinin cevabıdır?

- A) Ne zaman?                      B) Ne?                      C) Nereye?

15. Gözlem evleri gök cisimlerinin incelendiği yerlerdir. Gözlem evleri genellikle yerleşim alanlarından uzağa yapılır. Çünkü şehir ışıkları gökyüzünün gözlemlenmesini zorlaştırır. Gözlem evlerinde dev teleskoplar bulunur. Bu teleskoplar aracılığıyla gök cisimleri incelenir ve görüntüleri gözlem evlerinde kaydedilir.

**Bu metne göre, gözlem evlerinin uzak yerlere yapılmasının sebebi nedir?**

- A) Büyük yapılar olması
- B) İnsanlara rahatsızlık vermesi
- C) Gökyüzünün daha kolay gözlemlenmesi

16. Ahmet:  
— Köpeğimin kulübesini bitirdin mi ( )  
Ali Amca:  
— Az önce bitirdim ( )  
Ahmet:  
— Yaşasın ( )

**Bu metinde yay ayraçla ( ) gösterilen yerlere sırasıyla gelmesi gereken noktalama işaretleri aşağıdakilerin hangisinde verilmiştir?**

- A) (.) (!) (.)                      B) (?) (.) (!)                      C) (?) (?) (!)

17. Aşağıdaki cümlelerin hangisinde büyük harflerin yazımıyla ilgili bir yanlışlık vardır?

- A) Evimizin kedisi kırpık arkamıza takıldı.
- B) Ahmet, şiirine "İlkbahar Sevinci" başlığını koydu.
- C) Halam, bebeğinin adını Ömer koydu.


18. Zeybek oyununda müziğin başlamasıyla dansçılar önce oyun alanında karşılıklı olarak gezinir ve oyun başlar. Bir süre sonra erkekler kollarını iki yana açar. Kadınlar ise ellerini omuz hizasının biraz üzerine getirerek oynamaya devam ederler.

Aşağıdaki görsellerden hangisi bu metinde anlatılanlarla ilgilidir?

A)



B)



C)



19. Badminton, iki direk arasında gerilmiş filenin yer aldığı sahalarda oynanan bir spordur. Dünyanın en hızlı raket sporlarından biridir. Bu oyunu iki kişi karşılıklı oynayabildiği gibi, ikişer kişilik takımlar da oynayabilir.

Bu metinde "badminton" ile ilgili aşağıdakilerin hangisi açıklanmamıştır?

- A) Oyuncu sayısı      B) Sahasının özelliği      C) Raketinin şekli

20.



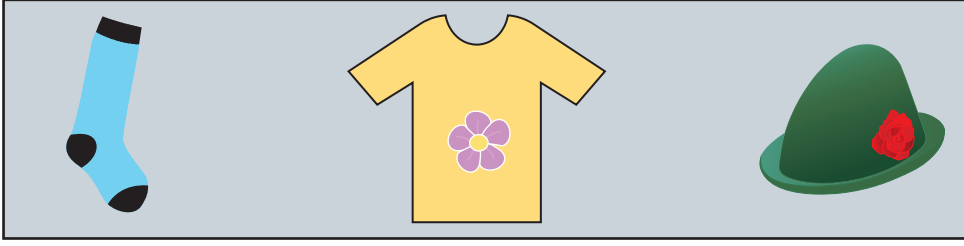
Aşağıdaki şiirlerden hangisinin konusu bu görsellerle ilgili değildir?

- A) Yine geldi soğuklar  
Kaldırımlar buz tutar  
Kardan bir adam  
Bahçeden bize bakar
- B) Bu mevsim gelince  
Yeşillenir doğa sevinçle  
Ağaçlar çiçek açar  
Kuşlar bir şarkıya başlar
- C) Kuşlar uzaklara göçtü  
Serin bir rüzgâr göründü  
Ağaçlar yaprak döktü  
Doğa sarıya büründü

TÜRKÇE TESTİ BİTTİ.  
MATEMATİK TESTİNE GEÇİNİZ.



1.




Görselde aşağıdakilerden hangisinin eşi yoktur?

A)



B)



C)



2. Görselde birer tane kitap, kalem, çanta ve kâğıt verilmiştir.



Buna göre, nesnelerin kütleleri ile ilgili aşağıdakilerden hangisi doğrudur?

- A) Kalem, kitaptan daha hafiftir.
- B) Kâğıt, çantadan daha ağırdır.
- C) Çanta ile kalemin kütlesi eşittir.

3. Bir miktar çilek görselde verilmiştir.

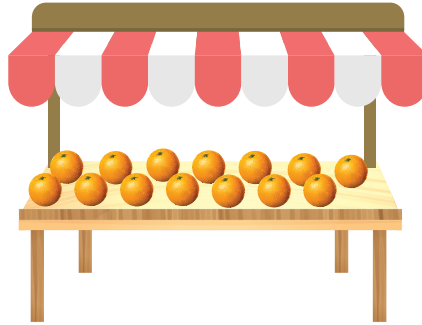


Bu çilekler ile eşit sayıdaki sayma çubukları eşleşecektir.

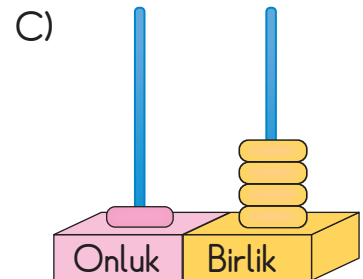
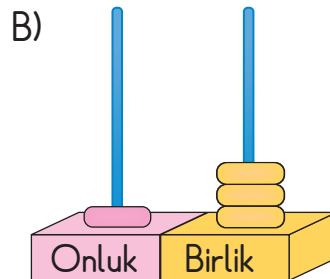
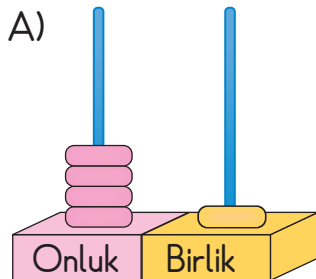
Buna göre, bu sayma çubukları aşağıdakilerden hangisi olabilir?



4. Üstünde bir miktar portakal olan meyve tezgâhı görselde verilmiştir.



Buna göre, bu meyve tezgâhındaki toplam portakal sayısının onluk ve birliklerine ayrılmış gösterimi aşağıdakilerden hangisidir?






5. Pelin, 19'dan başlayarak geriye doğru ikişer ritmik saymaktadır. Buna göre, Pelin'in altıncı sırada söylediği sayı kaçtır?

A) 7                                      B) 9                                      C) 11

6. Görseldeki bilet kuyruğunda 6 kişi bulunmaktadır.

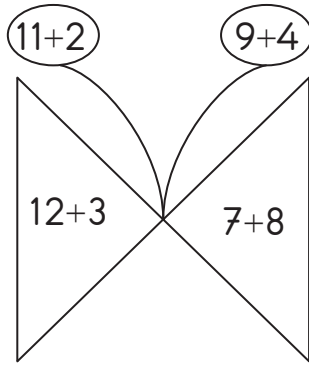


Bu kuyrukta Nermin baştan birinci sıradadır.

Buna göre, aşağıdakilerden hangisi yanlıştır?

- A) Berk, baştan üçüncü sıradadır.  
B) Kaan, sondan beşinci sıradadır.  
C) Erkan, sondan dördüncü sıradadır.

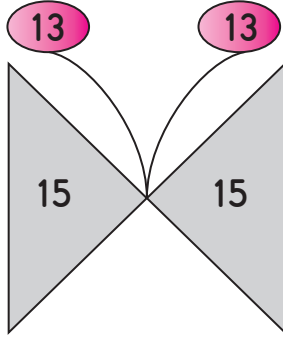
7. Görseldeki kelebek dört bölgeye ayrılmıştır. Bu bölgeler, üzerinde yazan işlemlerin sonuçlarına göre boyanacaktır.



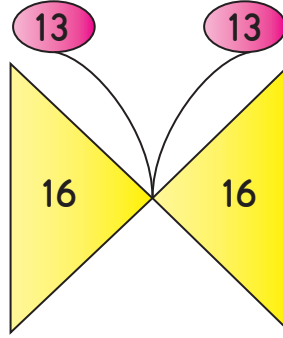
Sayıların Temsil Ettiği Renkler

Boyama işlemi tamamlandığında aşağıdaki görsellerden hangisi elde edilir?

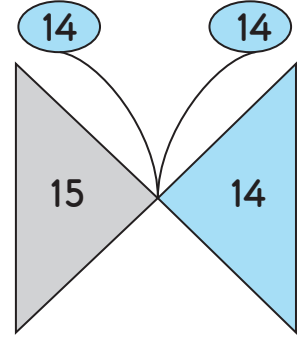
A)




B)



C)



8.



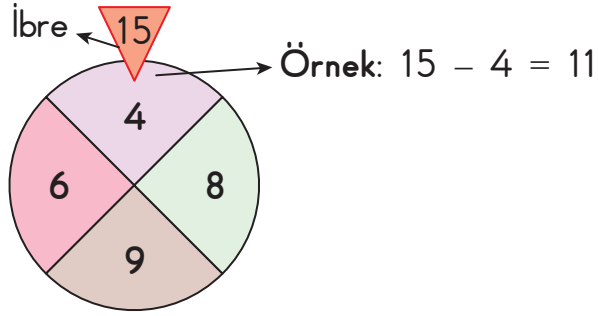
Modellenen toplama işleminin sonucu kaçtır?

A) 20

B) 19

C) 18

9. Her bölümünde farklı bir doğal sayı yazan görseldeki çark döndürülerek bir oyun oynanmaktadır. Bu oyunda, döndürülen çark durduğunda ibrenin ucunun geldiği bölmedeki sayı 15'ten çıkarılmaktadır.



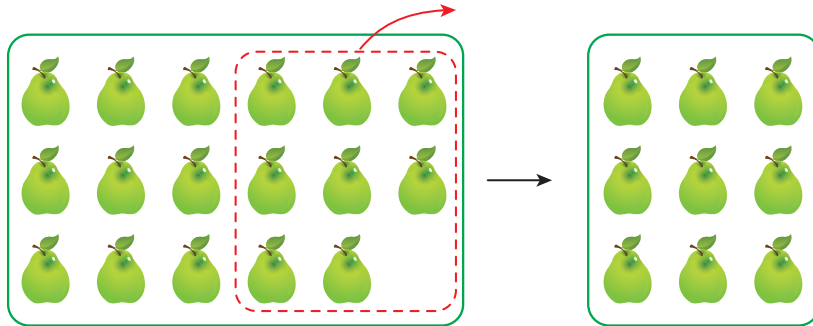
Buna göre, yapılan çıkarma işlemlerinden birinin sonucu aşağıdakilerden hangisi olamaz?

A) 7

B) 8

C) 9

10.



Modellenen çıkarma işlemi aşağıdakilerden hangisidir?

A)  $17 - 8 = 9$ B)  $17 - 9 = 8$ C)  $18 - 9 = 9$

11. Aşağıdakilerin hangisinde verilen paraların toplam değeri 18 TL değildir?

A)     

B)         

C)    

12. Bir sınıfta, 8 kız ve 5 erkek öğrenci vardır.

Buna göre, bu sınıftaki toplam öğrenci sayısı kaçtır?

A) 12


B) 13


C) 14


13.

$$\begin{array}{|c|c|c|c|c|} \hline \bullet & \bullet & \bullet & \bullet & \bullet \\ \hline \bullet & \bullet & \bullet & \bullet & \bullet \\ \hline \bullet & \bullet & \bullet & \bullet & \bullet \\ \hline \end{array} + ? = \begin{array}{|c|c|c|c|c|} \hline \bullet & \bullet & \bullet & \bullet & \bullet \\ \hline \bullet & \bullet & \bullet & \bullet & \bullet \\ \hline \bullet & \bullet & \bullet & \bullet & \bullet \\ \hline \bullet & \bullet & \bullet & \bullet & \bullet \\ \hline \end{array}$$

Modellenen toplama işleminde “?” yerine aşağıdakilerden hangisi gelmelidir?

A) 

B) 

C) 

14. Bir otoparktaki araçların tamamı görselde verilmiştir.



Bu otoparktan 9 tane araç ayrılmıştır.

Buna göre, bu otoparkta geriye kalan araç sayısı kaçtır?

A) 7






B) 8





C) 9






15. Görselde 6 bütün elmanın bir kısmı kullanıldıktan sonra geriye kalan elmalar verilmiştir.



Buna göre, kullanılan elmaların tamamı aşağıdakilerden hangisi olamaz?

A)       
Bütün Bütün Yarım Yarım Yarım

B)      
Bütün Bütün Bütün Yarım

C)       
Bütün Yarım Yarım Yarım Yarım

16. Doruk'un 18 tane misketi vardır. Doruk, misketlerinin 7 tanesini arkadaşına vermiştir.

Buna göre, Doruk'un geriye kalan misketlerinin sayısı kaçtır?

- A) 10                                      B) 11                                      C) 12

17. Aşağıdakilerin hangisinde gösterimi verilen saatlerin okunuşu yanlış yazılmıştır?

A)



Saat: 3

B)



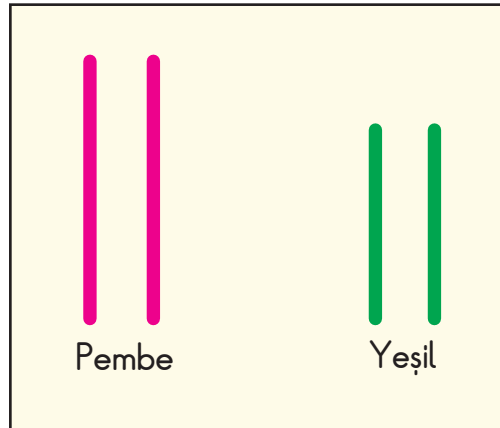
Saat: 4 buçuk

C)



Saat: 10 buçuk

18. Görseldeki esnek olmayan çubuklardan renkleri aynı olanların uzunlukları birbirine eşittir.




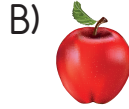
Buna göre, bu çubuklar ile aşağıdakilerden hangisi oluşturulamaz?

- A) Çember                                      B) Üçgen                                      C) Dikdörtgen

19. Belirli bir kurala göre sıralanan yiyeceklerle görseldeki gibi bir örüntü oluşturulmuştur.



Buna göre, bu örüntüde “?” yerine aşağıdakilerden hangisi gelmelidir?



20. Bir kırtasiyede bir günde satılan kalemlerin renklerine göre sayısı tabloda verilmiştir.

Tablo: Satılan Kalemlerin Renklerine Göre Sayısı

Kalem Rengi	Satış Sayısı
Siyah	13
Kırmızı	8
Mavi	10

Tabloya göre, satılan kalemlerle ilgili aşağıdakilerden hangisi yanlıştır?

- A) En fazla siyah kalem satılmıştır.  
 B) Kırmızı kalem sayısı, mavi kalem sayısından 2 fazladır.  
 C) Mavi kalem sayısı, siyah kalem sayısından 3 eksiktir.

MATEMATİK TESTİ BİTTİ.  
HAYAT BİLGİSİ TESTİNE GEÇİNİZ.



1.

Adım Mustafa. Sınıfın  
en uzun boylu öğrencisiyim.  
Basketbol oynamayı severim.



Adım Sibel. Sınıfın  
en heyecanlı öğrencisiyim.  
Resim yapmayı severim.



Bu bilgilere göre, Mustafa ve Sibel ile ilgili aşağıdakilerden hangisi söylenebilir?

- A) Boyları eşittir.
- B) Aynı şeylerden hoşlanırlar.
- C) Farklı özellikleri vardır.

2. Aşağıdakilerden hangisi güvenlik kurallarına göre yanlış bir davranıştır?

- A) Okul taşıtından koşarak inmek
- B) Okul taşıtında emniyet kemeri takmak
- C) Yürürken yaya kaldırımını kullanmak



3. Aşağıdaki görselde bir okulun bölümleri gösterilmiştir.

2. kat	2-A sınıfı	2-B sınıfı
1. kat	1-A sınıfı	1-B sınıfı
Zemin kat	Öğretmenler odası	Okul kantini

1-A sınıfı öğrencisi olan Melisa, arkadaşına bu görselden yararlanarak sınıfının yerini tarif etmektedir.

Buna göre, Melisa aşağıdakilerden hangisini söylerse sınıfının yerini doğru tarif etmiş olur?

- A) Öğretmenler odasının alt katındadır.
- B) 2-A sınıfının üst katındadır.
- C) 1-B sınıfının solundadır.

4. Sınıftaki şeref köşesinde aşağıdakilerden hangisi bulunmaz?



5. Aşağıdaki okul çalışanlarından hangisinin görevi yanlış verilmiştir?


- A) Okul müdürü → Okulu yönetir.
- B) Rehber öğretmen → Okulda uyum çalışmaları yapar.
- C) Kantin görevlisi → Okulun temizlik işleriyle ilgilenir.

6. Aşağıdakilerden hangisi okul kurallarına uygun bir davranış değildir?

A)



B)



C)




7. Salih, okulunda düzenlenen masa tenisi turnuvasında birinci olmuştur. Buna göre, Salih okuldaki hangi etkinliğe katılmıştır?

A) Halk oyunları

B) Resim

C) Spor

8. Esra bayramda babaannesinin elini öpüyor.



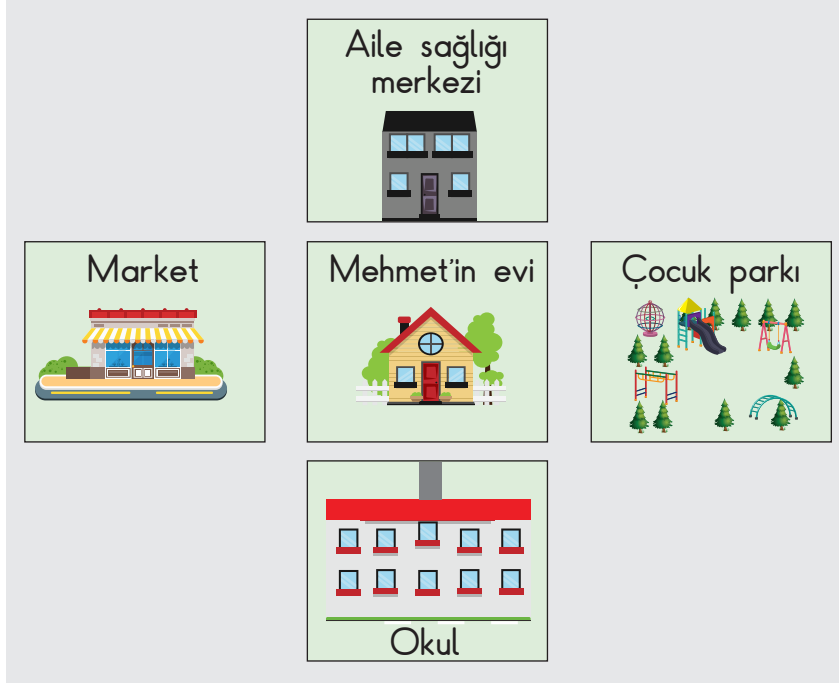
Esra'nın babaannesinin elini öpmesi ailede olması gereken değerlerden hangisine örnektir?

A) Şefkat

B) Saygı

C) Sorumluluk


9.



Bu görsele göre, Mehmet'in evi ile ilgili aşağıdakilerden hangisini söylemek doğru olur?

- A) Aile saęlıęı merkezinin solundadır.
- B) Okulun karşısındadır.
- C) Çocuk parkının saęındadır.

10. Aşağıdaki görsellerden hangisi kaynakların özenli kullanılmasına örnektir?



11. Aşağıdaki görsellerden hangisi ihtiyaç değildir?

A)



B)



C)




12. Aşağıdakilerden hangisi sağlıklı beslenme için doğru bir bilgidir?

- A) Açıkta satılan gıdalar sağlığa zararlı olabilir.
- B) Asitli içecekleri her gün tüketebiliriz.
- C) Kahvaltıda cips ve bisküvi yiyebiliriz.

13. Aşağıdakilerin hangisinde akşam öğününe uygun tüketebileceğimiz besinler birlikte verilmiştir?

A)



Çorba




Tavuk

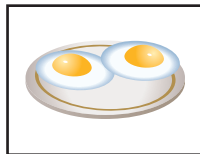


Pilav

B)



Peynir




Yumurta



Süt

C)



Kek



Salata




Çikolata

14. Aşağıdakilerden hangisi kitle iletişim araçlarının doğru kullanımına örnek gösterilebilir?

A)



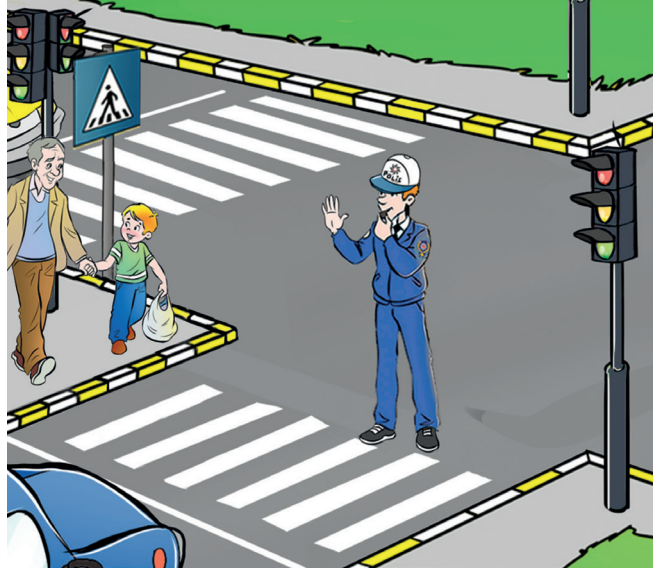
B)



C)



15.



Bu görseldeki yayalar aşağıdakilerden hangisinin yönlendirmesine uyarak karşıdan karşıya geçmelidir?

- A) Trafik ışıklarının
- B) Trafik polisinin
- C) Yaya geçidi levhasının

16. Mutfaktaki ocağın gaz kaçırdığını farkeden bir çocuğun aşağıdakilerden hangisini yapması doğru olur?

- A) Bulunduğu yeri terketmesi
- B) Ocağı tamir etmeye çalışması
- C) Çakmakla gaz kaçağını kontrol etmesi

17.



Bu görseldeki durumu yaşayan bir kişi aşağıdakilerin hangisinden yardım istemelidir?

A) Jandarmadan

B) Polisten

C) İtfaiyeden

18. Yerleşim yerlerinin büyükten küçüğe sıralanışı aşağıdakilerden hangisinde doğru olarak verilmiştir?

A) İlçe - Köy - İl

B) Köy - İl - İlçe

C) İl - İlçe - Köy

19. Atatürk'ün hayatı ile ilgili bilgi kartı aşağıda verilmiştir.

	
Doğduğu Yer: İstanbul	
Baba Adı	: Ali Rıza Bey
Anne Adı	: Zübeyde Hanım

Buna göre, Atatürk ile ilgili bilgilerden hangisi yanlıştır?

A) Baba adı

B) Doğduğu yer

C) Anne adı

20. 23 Nisan 1920 tarihinde Ankara'da Büyük Millet Meclisi açılmıştır. Bu gün - - - - olarak kutlanmaktadır.

Bu cümlede boş bırakılan yere aşağıdakilerden hangisi getirilmelidir?

A) Ulusal Egemenlik ve Çocuk Bayramı

B) Atatürk'ü Anma ve Gençlik ve Spor Bayramı

C) Cumhuriyet Bayramı

TEST BİTTİ.  
CEVAPLARINIZI KONTROL EDİNİZ.





**SINAV BAŞLAMADAN AŞAĞIDAKİ UYARILARI MUTLAKA OKUYUNUZ!**

1. Öğrenciler, sınav kurallarına ve salon görevlilerinin tüm uyarılarına uymak zorundadırlar.
2. Sınav başladıktan sonra öğrencilerin salon görevlileri ve birbirleri ile konuşmaları, kalem, silgi vb. şeyleri istemeleri yasaktır.
3. **Soru kitapçıkları üzerinde doğru olan seçeneği daire içine alınız.**
4. Değiştirmek istediğiniz bir cevabı, yumuşak silgiyle soru kitapçığını yıpratmadan temizce siliniz ve yeni cevabınızı işaretleyiniz.
5. Soru kitapçığının sayfalarını kontrol ediniz, baskı hatası var ise değiştirilmesini sağlayınız.
6. Soru kitapçığının içindeki boş alanları çözümlerinizi için kullanabilirsiniz.
7. Cevaplamaya istediğiniz sorudan başlayabilirsiniz.
8. Cevabını bilmediğiniz sorular üzerinde fazla zaman kaybetmeden diğer sorulara geçiniz. Zamanınız kalırsa bu sorulara daha sonra dönebilirsiniz.
9. Sınav puanınızın hesaplanmasında 2 yanlış 1 doğru cevabınızı götürecektir. Alt testler bu şekilde hesaplanarak net puanlarının toplamı toplam net puanınızı verecektir.
10. Sınav bitiminde, soru kitapçığını salon görevlilerine teslim ediniz.
11. Sınav sırasında çanta, cep telefonu, saat, kablosuz iletişim sağlayan cihazlar ve kulaklık, kolye, küpe, bilezik, yüzük, broş ve benzeri eşyalar ile her türlü elektronik ve/veya mekanik cihazları yanınızda bulundurmamınız. Bu araçları yanınızda bulundurmanız ve kopya çekmeye teşebbüs etmeniz hâlinde sınavınız geçersiz sayılacaktır.
12. Soru kitapçığınızı sınav süresince hiçbir öğrencinin göremeyeceği şekilde önünüzde bulundurunuz.
13. Sınavınızın değerlendirilmesi aşamasında, toplu kopya tespiti veya başka adayın sınav evrakını kullanmanız durumunda sınavınız geçersiz sayılacaktır.
14. Soruları ve sorulara verdiğiniz cevapları kaydetmeyiniz, hiçbir şekilde dışarı çıkarmayınız.
15. İlk 15 dakika dışarı çıkılmayacaktır.
16. Sınav evraklarını teslim etmeyenlerin sınavı geçersiz sayılacaktır.

**SINAV GÖREVLİLERİNCE SINAV BAŞLAMADAN ÖNCE ÖĞRENCİLERE YAPILACAK SON UYARI!**

- Soracağınız bir şey var mı? Varsa, şimdi sorunuz.
- Sınav başladıktan sonra sorularınıza cevap verilmeyecektir.
- Başlama zilini bekleyiniz.

**Hepinize başarılar dileriz.****(Sınav görevlisi başlama ve bitiş saatini tahtaya yazacaktır.)**

Bu kitapçığın her hakkı saklıdır. Hangi amaçla olursa olsun, kitapçığın tamamının veya bir kısmının Millî Eğitim Bakanlığı Ölçme, Değerlendirme ve Sınav Hizmetleri Genel Müdürlüğünün yazılı izni olmadan kopya edilmesi, fotoğraflarının çekilmesi, bilgisayar ortamına alınması, herhangi bir yolla çoğaltılması, yayımlanması veya başka bir amaçla kullanılması yasaktır. Bu yasağa uymayanlar, doğabilecek cezai sorumluluğu ve kitapçığın hazırlanmasındaki mali külfeti peşinen kabullenmiş sayılır.



**12 HAZİRAN 2022 TARİHİNDE YAPILAN TED ANKARA KOLEJİ VAKFI  
ÖZEL İLKOKULU VE ORTAOKULU SEÇME SINAVI  
2. SINIF “A” KİTAPÇIĞI CEVAP ANAHTARI**

TÜRKÇE	MATEMATİK	HAYAT BİLGİSİ
1. B	1. C	1. C
2. C	2. A	2. A
3. A	3. B	3. C
4. B	4. C	4. B
5. C	5. B	5. C
6. A	6. C	6. A
7. C	7. A	7. C
8. A	8. A	8. B
9. A	9. B	9. B
10. B	10. A	10. A
11. B	11. C	11. B
12. C	12. B	12. A
13. B	13. B	13. A
14. A	14. A	14. C
15. C	15. C	15. B
16. B	16. B	16. A
17. A	17. C	17. C
18. C	18. A	18. C
19. C	19. A	19. B
20. B	20. B	20. A