

TÜRKÇE

Dağ tepesinde bir çam olamazsan,
Vadide bir çalı ol.
Fakat oradaki en iyi küçük çalı sen olmalısın.
Çalı olamazsan bir ot parçası ol,
Bir yola neşe ver.
Bir misk çiçeği olamazsan, bir saz ol..
Fakat gölün içindeki en canlı saz sen olmalısın.
Hepimiz kaptan olamayız, tayfa olmaya
mecburuz.
Yapacağımız iş, bize en yakın olan iştir.
Cadde olamazsan patika ol.
Güneş olamazsan yıldız ol.
Kazanmak ya da kaybetmek ölçü değildir.
Sen her neysen, onun en iyisi ol..

1. Bu parçada anlatılmak istenen ana düşünce aşağıdakilerden hangisidir?

- A) İnsan her ne olursa olsun işini en iyi yapan olmalıdır.
B) İnsan hayattan zevk almayı bilmelidir.
C) Her canlı bir gün mutlaka ölür.
D) İnsan kaçan fırsatlardan dolayı üzülmemelidir.

2. Yağmur geçti kar geçti.
Soğuk rüzgarlar geçti.
Güneşli bahçelerden,
Güzel çocuklar geçti.

Yukarıdaki şiir hangi mevsimde söylenmiş olabilir?

- A) İlkbahar B) Yaz
C) Sonbahar D) Kış

3. Aşağıdaki cümlelerin hangisinde sebep-sonuç ilişkisi anlamsız olmuştur?

- A) Kağıtları geri dönüşüm kutularına atmalıyız çünkü çöpe attığımız her kağıtta ormanlarımızdan belki de bir ağaç yok oluyor.
B) Pazara kadar yürümek zorunda kaldım çünkü annem yarı yolda kalmıştı.
C) Bu savurganlığa biri dur demeli yoksa bir gün yiyecek bir şey bulamayacağız.
D) Arıza yaptığı için araba çalışmadı.

4. Aşağıdaki cümlelerde altı çizili kelimelerden hangisinin eş seslisi yoktur?

- A) Bahçeden bana en güzel gülü uzattı.
B) Bu kadar çok uçan kaz görmemiştim.
C) Sana böyle bir durum için söz veremem.
D) Evvel zaman içinde fakir bir kız varmış.

5. "kopmak" kelimesi hangi cümlede gerçek anlamıyla kullanılmıştır?

- A) Zil çalınca bir gürültü koptu.
B) Paketi çarşıdan getirinceye kadar kollarım koptu.
C) Arkadaşım bizim çevreden koptu.
D) Arabanın ipi koptu.

6. " ancak " kelimesi aşağıdaki cümlelerin hangisinde "ama/fakat" anlamıyla kullanılmıştır?

- A) Gördü ancak beni tanımadı.
B) Bu elbise ancak otuz milyon eder.
C) Bu yazılı ancak bir saatte biter.
D) Ancak bir deli suyun derinliğini ayaklarıyla anlar.

7. Gelmeden kış, yağmadan kar,
Gidin, gidin güzel kuşlar,
Uzak güney illerinde
Bol yiyecek, bol güneş var.

Aşağıdaki sorulardan hangisinin cevabını şiirde bulamayız?

- A) Nereye? B) Ne Zaman?
C) Niçin? D) Nasıl

8. Dur yolcu() Bilmeden basıp geçtiğin bu yer,
Bir devrin battığı yerdur....

Yukarıdaki mısralarda () bırakılan yere gelmesi gereken noktalama işareti aşağıdakilerden hangisidir?

- A) İki nokta B) Soru işareti
C) Ünlem D) Üç nokta

9. Aşağıdakilerden hangisi "Ayağını yorganına göre uzat." atasözünün vermek istediği mesajı ifade eder?

- A) Savurganlık B) Tasarruf
C) Cimrilik D) Bencilik

10. Aşağıdakilerden hangisinde "kırmızı-al" kelimelerindeki gibi bir ilişki vardır?

- A) Beyaz-kara B) Uçmak-düşmek
C) Acı-tatlı D) Geçmiş-mazi

11. Aşağıdaki kelimelerin hangisinde aldığı ekten dolayı yanlış yazılma olmamıştır?

- A) Mevsimi B) Ağızı
C) Burunu D) Resimi

12. Aşağıdaki cümlelerde geçen altı çizili kelimelerden hangisinin yazımı yanlıştır?

- A) Musa sevgiyle annesine baktı.
B) Dün sevgi teyze bize geldi.
C) Anne sevgisinin yerini ne doldurabilir?
D) Sevgiyi sevmek her kişinin işidir.

13. Aşağıdaki deyimlerden hangisi "ağzı sıkı" deyiminin zıt anlamlısıdır?

- A) Kulak tıkamak
B) Ağzı kulaklarına varmak
C) Ağız değiştirmek
D) Ağzında bakla ıslanmamak

14. Aşağıdaki cümlelerin hangisinde "kurutmak" kelimesi, mecaz anlamıyla kullanılmıştır?

- A) Bu yaz bolca sebze kuruttuk.
B) Güneş karları erittiği gibi yerleri de kuruttu.
C) Belediye çevredeki bataklığı kuruttu.
D) Ne uğursuz adam! Gittiği yeri kuruttu.

15. "Hidayet ve beni annem çağırdı." Cümlesinde 've' kelimesinin yerine aşağıdakilerden hangisini kullanırsak cümlemin anlamı bozulmaz?

- A) ile B) de C) ki D) dahi

16. Aşağıdaki cümlelerin hangisinde abartma anlamı vardır ?

- A) Dayımlar dün bize geldiler.
B) Dünyalar kadar malı fayda etmedi.
C) İşçiler çok çalışıyorlar.
D) Çiçekleri severiz.

17. Hangi cümlede altı çizili kelime bir varlığın niteliğini bildirmemektedir?

- A) Okulumuz sarı boya ile boyandı.
B) Mağazadan beyaz gömlek aldım.
C) Şişman kedi yürümekte zorlanıyordu.
D) Radyodan uzun hava dinliyorduk.

18. Aşağıda altı çizili kelimelerden hangisi yapım eki almamıştır?

- A) Senin solgun yüzlerini özledim.
B) Kardeşim gözlükçüde çalışıyor.
C) Başbakan iki günlük geziye çıktı.
D) Türkçe sondan eklemeli dillerdendir.

19. Aşağıdaki cümlelerin hangisinde "ki" nin yazımıyla ilgili bir yanlışlık yapılmıştır?

- A) Koşa koşa geldimki bir de ne göreyim!
B) Bir avuç kahraman ki asla unutulmayacaklar.
C) Sigaradaki yüzlerce zehir sağlığımızı tehdit ediyor.
D) Demek ki çok çalışkan

20. Aşağıdaki cümlelerin hangisinin sonuna ünlem (!) işareti gelir?

- A) Çocuk ağlayarak annesini kucakladı ()
B) Karşıkı köye nasıl ulaşırsız ()
C) Birden karşıma çıkmasın mı ()
D) Kuşlar yuvalarını unutmaz ()

MATEMATİK

1. $3 + ? = 7$? $+ 5 = ?$ ise ; ? \times ? işleminin sonucu kaçtır ?

- A)13 B)24 C) 36 D)72

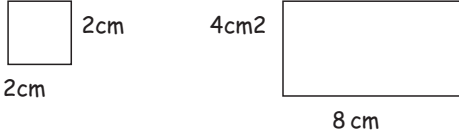
2. 4 kg portakal sıkılınca 3 bardak portakal suyu çıkmaktadır. 32 kg portakal sıkılınca kaç bardak portakal suyu elde ederiz?

- A)24 B)22 C)26 D)30

3.

1.şekil

2.şekil



Ahmet 1. şekildeki silgi ile 2. şekildeki ödev defterinin yüzeyini ölçüyor. Ödev defterinin yüzeyi silginin yüzeyinin kaç katıdır?

- A)5 B)6 C)7 D)8

4. Aşağıdaki ABC dik üçgeninin

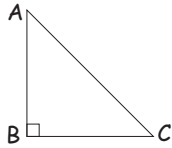
AB kenarı 6 cm,

BC kenarı ise 3 cm'dir.

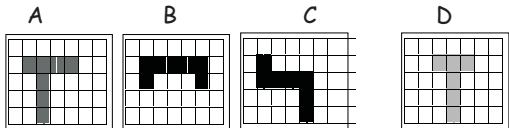
Bu dik üçgenin alanının iki katı kaç cm² 'dir?

- A)28 B)18

- C)36 D)10




5.Şule verilen şekiller içinden küpün açılımını bulmak istiyor. Doğru cevap hangisidir ?



6.Yandaki verilen şekilde kaç birim küp vardır?

- A)12 B)10

- C)11 D)9



7. Enes arkadaşlarının sevdiği hayvanlarla ilgili çetele tablosu oluşturmuştur.Çetele tablosunu dikkate alarak sıklık tablosu oluşturmak istediğinde tavşanı hangi sayı ile göstermesi gerekir?

Köpek	Tavşan	Fil	Kuş	Kedi
### //	### /	### ///	### ### ###	### ////

- A)7 B)8 C)11 D)10

8.Yandaki bölme işleminde "Z" sayısı en fazla kaç olabilir ?

$$\begin{array}{r} Z \quad 9 \\ 11 \end{array}$$

- A)106 B)107 C)108 D)109

9. $*?*: *?$ işleminin sonucu kaçtır?

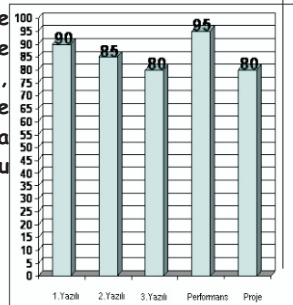
- A)1001 B)111 C)1010 D)101

10. 4 kişinin yaş ortalaması 18'dir. İçlerinden ikisi ayrılınca yaşları ortalaması yine 18 ise ayrılanların yaşları toplamı kaçtır ?

- A)18 B)36 C) 42 D)48

11.Aşağıdaki grafikte Fatma'nın Türkçe dersinden aldığı yazılı performans ve proje notları verilmiştir. Buna göre Fatma'nın yıl sonu ortalaması kaçtır?


- A)86 B)75 C)80 D)85



12. Verilen şeklin hacmi kaç birim küptür?

- A)74 B)84

- C)49 D)64



13. Düzlemlerle ilgili verilen örneklerden hangisi yanlıştır?

I- Sınıfın tavanı ile duvarı dik düzlemdir.

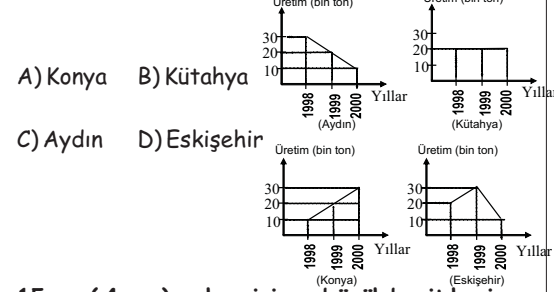
II- Durgun su yüzeyi bir düzlemdir.

III- Bulut bir düzlemdir.

IV- Sınıfın tavanı ile tabanı paralel düzlemdir.

- A)I B)II C)III D)IV

14. Aşağıdaki grafikler 4 ilin yıllara göre buğday üretimini göstermektedir. Hangi ilin üretimi sürekli artış göstermektedir?



- A) Konya B) Kütahya

- C) Aydın D) Eskişehir

15. $\frac{(4+z)}{8}$ kesrini en büyük basit kesir yazmak isteyen Merve "z" yerine en fazla kaç yazmalıdır?

- A)4 B)1 C)2 D)3

16. Aşağıdakilerden hangisi yanlıştır?

- A) Paydası sıfır olan kesir basit kesirdir.
B) Payı paydasından büyük veya eşit olan kesirlere bileşik kesirler denir.
C) Tam kısmı olan kesre tamsayılı kesir denir.
D) Paydası bir olan kesre birim kesir denir.

17. $2\frac{1}{5}$ kesrine kaç eklersek 3 tam eder?

- A) $1\frac{3}{5}$ B) $\frac{4}{5}$ C) $\frac{8}{5}$ D) $\frac{3}{5}$


18. Bir havuzun yarısı doludur. Havuzdaki suyun yarısını kullanınca 500 litre su kalıyor. Deponun tamamı dolarsa kaç litre su alır?

- A)100 B)1500 C)2000 D)2500

19. Bir sayının çeyreği 15 ise bu sayının iki katı kaç eder?

- A) 280 B) 140 C) 120 D) 30

20. Aşağıdaki verilen şekillerden kaç tanesinin birden fazla simetri eksenı vardır?



- A)1 B)4 C)3 D)2

FEN B.

1. Aşağıdakilerden hangisi temas gerektiren kuvvetlere örnek verilebilir?

- A) Elimizdeki kalemin yere düşmesi.
- B) Terzinin iğneleri mıknatısla toplanması.
- C) Yukarı fırlatılan top
- D) Havaya atılan topun yere düşmesi

2. 1-Oyuncağını iple çeken çocuk
2-Mıknatısın iğneleri çekmesi
3-Tarağın kağıt parçalarını çekmesi

yukarıdaki maddelerin hangilerinde uygulanan kuvvet temas gerektirmez?

- A) 1ve 2
- B) 2 ve 3
- C) 1 ve 3
- D) 1,2,3

3. Mıknatıslarda ;
1-Aynı cins kutuplar birbirini çeker.
2-Zıt kutuplar birbirini çeker.

İfadeleri için aşağıdakilerden hangisi geçerlidir?

- A) Yalnız 1 doğru
- B) Her ikisi de yanlış
- C) Her ikisi de doğru
- D) Yalnız 2 doğru

4. Aşağıdakilerden hangisi sürtünmeyi artırır?

- A) Halı zeminde oyuncak araba sürmek,
- B) Kapı menteşesini yağlamak,
- C) Fayansları cilalamak,
- D) Makinaları yağlamak,

5. Bir mıknatısta kuzey-güney kutbunu gösteren semboller aşağıdakilerden hangisinde doğru olarak verilmiştir?

- A) SN
- B) NN
- C) NO
- D) NS

6. Ahmet, aşağıdaki devrelerden hangisini kurarsa, ampuller diğerlerine göre daha parlak yanar?

- A) 3 pil, 1 ampul, kablo
- B) 2 pil, 1 ampul, kablo
- C) 4 pil, 2 ampul, kablo
- D) 3 pil, 3 ampul, kablo

7. Bir elektrik devresinde tüm elemanlar tam olmasına rağmen ampulün yanmama sebebi aşağıdakilerden hangisi olabilir?

- A) Anahtar açık konumdadır.
- B) Piller sağlamdır.
- C) Anahtar kapalı konumdadır.
- D) Kablolar doğru bağlanmışır?

8. Ercan, kurduğu elektrik devresinde pil sayısını sabit tutarak ampul sayısını artırmaktadır. Bu elektrik devresinde bağımlı değişken aşağıdakilerden hangisidir?

- A) Ampul sayısı
- B) Ampulün parlaklığı
- C) Duy sayısı
- D) Pil sayısı

9. Cemil, ışık veren el fenerinin arkasını açarak pillerini çıkarıyor. Sonra pilleri tekrar yerlerine yerleştirdiğinde el fenerinin ışık vermediğini gözlemliyor. El fenerinin ışık vermemesinin nedeni aşağıdakilerden hangisi olamaz?

- A) Pillerin ters yerleştirilmesi
- B) Ampulün duya yerleşmemesi
- C) Pillerin bitmiş olması
- D) Pillerin kalitesiz olması

10. 1-Güneş 2-Dünya 3-Ay
yukarıdakilerden hangileri küre şeklindedir?

- A) 1ve2
- B) 1ve3
- C) 1,2,3
- D) 2 ve 3

11. Sabahları Güneşin İzmir'de geç, Ağrı'da ise daha erken doğmasının nedeni aşağıdakilerden hangisidir?

- A) Dünyanın Güneş etrafında dönmesi
- B) Dünyanın kendi çevresinde batıdan doğuya doğru dönmesi
- C) Dünyanın yaklaşık küre biçiminde olması
- D) Kars'ın Edirne'den daha yüksekte bulunması

12. Hamza diyor ki: "Ay'ın kendi etrafındaki dönme süresi ile Dünya etrafındaki dönme süresi eşittir." Bunun sonucunda aşağıdakilerden hangisi meydana gelmektedir?

- A) Güneş tutulması oluşur.
- B) Ay'ın evreleri oluşur.
- C) Gece-gündüz oluşur.
- D) Dünya'dan bakıldığında Ay'ın hep aynı yüzü görülür.

13. Safa okula gelirken ve okuldan eve dönerken Güneş'in neden aynı yerde olmadığını merak ediyor. Siz olsaydınız Safa'ya nasıl açıklamada bulunurdunuz?

- A) Dünya kendi etrafında döndüğü için
- B) Güneş kendi etrafında döndüğü için
- C) Dünya Ay'ın etrafında döndüğü için
- D) Güneş Dünya etrafında döndüğü için

14. 1-Güneşin etrafında dönme
2-Kendi etrafında dönme
3-Ay'ın etrafında dönme
yukarıdakilerden hangileri Dünya'nın yaptığı hareketlerdendir?

- A) 1,2,3
- B) 1ve3
- C) 1ve2
- D) 2 ve 3

15. Aşağıdaki canlılardan hangisi besinini kendisi yapar?

- A) Çekirge
- B) Kertenkele
- C) Mantar
- D) Çam ağacı

16. ot-çekirge-kurbağa-yılan-kartal
Yukarıdaki besin zincirinde çekirge yok olunca hangi iki canlı daha çok olumsuz etkilenir?

- A) Kartal-yılan
- B) Kurbağa-yılan
- C) Ot-çekirge
- D) Yılan-çekirge

17. fok- papatya-böcek-sinek

Verilen canlılardan hangisinin yaşama alanı farklıdır?

- A) böcek
- B) papatya
- C) fok
- D) sinek

18. Aşağıdaki verilenlerden hangisi omurgalı hayvanlar gurubunda yer almaz?

- A) Kuş
- B) Yılan
- C) Balık
- D) Solucan

19. Nedim öğretmen derste yaprağın görevlerini anlatırken şunları söylüyor; Bitki yaprakları ile ;

- 1-Terleme yapar
- 2-Gaz alışverişi yapar
- 3-Fotosentez yapar
- 4-Solunum yapar

yukarıda söylenen ifadelerden hangileri doğrudur?

- A) 1,2,3
- B) 1,2,3,4
- C) 1,2
- D) Yalnız 3

20. 1-Çanak yaprak, taç yaprak çiçeğin bölümlerindendir.

2-Çiçekli bitkilerin üreme organı çiçektir.
3-Taç yaprak çiçeği dış etkilere korur.
Yukarıda verilen ifadelerin hangisi veya hangileri doğrudur?

- A) 1,2,3
- B) 1ve2
- C) Yalnız 1
- D) Yalnız 3

SOSYAL B.

1.Un,bisküvi,makarna fabrikalarının yoğunlukta olduğu bir yer için aşağıdakilerden hangisi söylenemez?

- A)Hammadde tarımdan elde edilir.
- B)Buğday üretimi yapılır.
- C)El sanatları yaygındır.
- D)Tarıma dayalı sanayi gelişmiştir.

2.Turizmin geliştiği kıyı bölgelerde ,bazı ekonomik faaliyetler de turizmin etkisiyle gelişmiştir.Aşağıdakilerden hangisi turizmin geliştirdiği alanlardan değildir?

- A)İnşaat
- B)Ulaşım
- C)Ticaret
- D)Hayvancılık

3. Yurdumuz ekonomisinde bazı yörelerimiz maden yataklarıyla önemli yer tutar. Altınla Bergama, kömürle Zonguldak, petrolle Batman, bor mineralleriyle Balıkesir vb. Ülkemizde yer altı kaynaklarımızın araştırılması görevini hangi kurum üstlenmiştir?

- A)MTA
- B)BOTAŞ
- C)TMO
- D)TEMA

4. Ülkemizin bir çok yerinde çeşitli ürünler yetiştirilmektedir. Bu ürünlerden bazıları yetiştirildiği yerle meşhur olmuştur. Yukarıdaki bilgiye göre aşağıdaki seçeneklerden hangisi bu bilgiye uymaz ?

- A)Elma - Amasya
- B)Üzüm - Manisa
- C)Fındık- Muğla
- D)Gül - Isparta

5. Aşağıdaki verilen ürünlerden hangisi en fazla Ege bölgesinde üretilir ?

- A)İncir
- B)Tahıl
- C)Şeker pancarı
- D)Mısır

6.Teknolojik ürünler hayatımızı kolaylaştırırken aynı zamanda teknolojik ürünlerin olumsuz yönlerini de görmekteyiz. Aşağıdakilerden hangisinin böyle bir durum oluşturduğunu söyleyemeyiz?

- A) Çevre kirliliğinin artması
- B) Teknolojik ürünleri kullanmanın rahat olması
- C) Fabrikaların zehirli atıklarının ekolojik dengeyi bozması
- D) Televizyonun aile içi iletişimi azaltması

7. Bir bilim adamının bilimsel bir buluş meydana getirebilmesi için aşağıdakileri hangi sıra ile uygulaması gerekir?

I. planlama II.merak etme III. araştırma

- A) II, I, III
- B) II, III, I
- C) III, II, I
- D) I, II, III

8. Teknolojinin insanların yaşamında önemli bir yeri vardır. Aşağıdakilerden hangisi bu ifadeye ters düşer ?

- A) Teknolojik gelişmeler ihtiyaçlar doğrultusunda ortaya çıkmıştır.
- B) Bir çok buluş yaşamımızı kolaylaştırır
- C) Teknolojik gelişmelerle beraber bir çok iş alanı oluşmuştur.
- D) Teknolojik gelişmeler çevreye ve doğal yaşama çok fazla zarar verir.

9.Sivil toplum kuruluşlarının fazla olduğu bir ülke için aşağıdakilerden hangisi söylenebilir?

- A)Sorunlara karşı toplumsal duyarlılık yoktur.
- B)Toplumda işbirliği ve dayanışma yoktur.
- C)Ülke insanları bilinçlidir.
- D)Ülkede yardımlaşma zayıftır.

10. I- Erozyonla mücadele etmek
II- Çayır ve meraları korumak
III- Ağaç ve ormanları korumak
IV- Çölleşmeyle mücadele etmek

Yukarıda faaliyetleri verilen sivil toplum kuruluşu hangisidir?

- A) THY
- B) TSE
- C) ÇEKÜL
- D) TEMA

11. I- İçki ve sigara ile mücadele
II- Uyuşturucu ile mücadele
Yukarıdaki faaliyetleri yürüten kuruluş aşağıdakilerden hangisidir?

- A) Yeşilay
- B) Kızılay
- C) TEMA
- D) TBMM

12. Bireylerin rolleri açısından sivil ve resmi toplum kuruluşları ile ilgili aşağıdakilerden hangisi söylenemez?

- A) Sivil toplum kuruluşları para kazanmayı amaç edinmemiştir.
- B) Sivil toplum kuruluşları gönüllü olarak çalışır.
- C) Resmi kurumlarda çalışanlar meslek gereği çalışmazlar.
- D) Sivil toplum kuruluşları devlet tarafından kurulmuştur.

13.Polis memuru Ali diyor ki: Şehir merkezlerinde huzurun korunması amacıyla güvenlik ve asayişten sorumlu görevliler bizleriz. Biz polislerin yakalama ve olayı önleme hakkı vardır. Buna göre aşağıdakilerden hangisi polisin sorumluluklarından değildir?

- A) Trafik düzenlemek
- B) Suçluları olay yerinde cezalandırmak
- C) Güvenliği sağlamak
- D) Suçluları ilgili makama iletmek.

14.Aşağıdakilerden hangisi Kızılay'ın görevlerindendir?

- A)Afetzedelere yardımda bulunmak.
- B) Fakir ve kimsesiz çocuklarının eğitimine imkan hazırlamak
- C) Doğal yaşamı koruma altına almak
- D) Anne ve çocukların eğitimine destek vermek.

15.Demokratik yönetimle ilgili aşağıdaki ifadelerden hangisi doğrudur?

- A)Yasaların kaldırılması başbakanın yetkisindedir.
- B) Zengin olan kişiler oy kullanırlar.
- C) Yönetim babadan oğla geçer.
- D) Halkı , kendi seçtikleri kişiler yönetir.

16. Aşağıdakilerden hangileri toplumun yazılı kurallarındandır?

I- Tüzük II- Kanun
III- Gelenek IV- Ahlak

- A) III ve IV
- B) I ve II
- C) I ve III
- D) II ve IV

17. Anayasamızın değiştirilemez maddeleri vardır.

Madde 1: “ Türkiye Devleti bir Cumhuriyettir,” maddesi de bu maddeler arasında yer alır.Aşağıdakilerden hangisi değiştirilemeyecek maddelerden değildir?

- A) Resmi dili “Türkçe” dir
- B) Başkenti “Ankara”dır.
- C) Parası “YTL” dir.
- D) Milli Marşı “İstiklal Marşı”dır.

18. Toplum düzenleyen kurallar olmasaydı aşağıdakilerden hangisi yaşanırdı?

- A) Birbirine saygı gösteren insanlar
- B) Toplumda huzursuzluk
- C) Güvenli bir ortam
- D) İşlenen suçların cezasız kalmaması

19.Aşağıdakilerden hangisi yerel yönetim birimlerindendir?

- A) Emniyet Müdürlüğü
- B) Valilik
- C) Kaymakamlık
- D) Belediye başkanlığı

20.Anayasa devletin temel yasasıdır.Yasalar anayasaya uymalıdır.Yasaları anayasa korur. Buna göre aşağıdakilerden hangisi söylenemez?

- A) Anayasa ,yasalardan sonra gelir.
- B) Anayasa bütün yasalardan üstündür.
- C) Yasalar anayasaya aykırı olamaz.
- D) Anayasaya uymak zorunludur.

