

Türkçe

1.



Benim kitaplarım hep çiçek kokar. Renk renk güzellik kokar. Barış ve sevgi yayılır onların ortamında. Belki bu yüzden, kitaplarımla birlikte evimizde daha güzel bir dünya oluşur. En güzeli, ben daha anlayışlı, daha içten, daha sevecen biri oluverdim. Kuşlarla, kelebeklerle, ağaçlarla, bulutlarla dost oldum. Onları bizim insan yaşamımızla bütünleyerek değerlendirmek ne yararlı bir oyunmuş meğer.

Aşağıdakilerden hangisi paragrafta sözü edilenlerden **değildir**?

- A) Kitapların insanların dünyasını güzelleştirdiğinden
- B) Kitapların insanların kişiliğini olumlu etkilediğinden
- C) Kitapların bulundukları ortama barış ve sevgi yaydığından
- D) Kitapların insanlar arasındaki iletişimi zamanla azalttığından

2.



Benim kitaplarım hep çiçek kokar. Renk renk güzellik kokar. Barış ve sevgi yayılır onların ortamında. Belki bu yüzden, kitaplarımla birlikte evimizde daha güzel bir dünya oluşur. En güzeli, ben daha anlayışlı, daha içten, daha sevecen biri oluverdim. Kuşlarla, kelebeklerle, ağaçlarla, bulutlarla dost oldum. Onları bizim insan yaşamımızla bütünleyerek değerlendirmek ne yararlı bir oyunmuş meğer.

Yukarıdaki paragrafta göre aşağıdakilerden hangisi kitapların yazar üzerindeki olumlu etkileri arasında **sayılmamıştır**?

- A) Daha anlayışlı olması
- B) Daha içten olması
- C) Daha başarılı olması
- D) Daha sevecen olması

3.



Benim kitaplarım hep çiçek kokar. Renk renk güzellik kokar. Barış ve sevgi yayılır onların ortamında. Belki bu yüzden, kitaplarımla birlikte evimizde daha güzel bir dünya oluşur. En güzeli, ben daha anlayışlı, daha içten, daha sevecen biri oluverdim. Kuşlarla, kelebeklerle, ağaçlarla, bulutlarla dost oldum. Onları bizim insan yaşamımızla bütünleyerek değerlendirmek ne yararlı bir oyunmuş meğer.

Yukarıdaki paragrafta geçen "içten" sözcüğünün anlamı aşağıdakilerden hangisidir?

- A) Candan, açık yüreklilikle davranan
- B) Kolay duygulanıp incinen, duygulu
- C) Gizli işi olmayan, apaçık, olduğu gibi
- D) Arası olan, uzaklığı bulunan

4. Aşağıdaki cümlelerin hangisinde altı çizili sözcük gurubu diğerlerinden farklı bir

? **sorunun yanıtıdır?**

- A) Kapının önünde minik bir kedi yavrusu vardı.
- B) Alışveriş için caddedeki markete gideceğiz.
- C) Arkadaşlarımla köşedeki parkta buluşacağız.
- D) Yaz akşamlarında salonun balkonunda otururuz.

5. Ahmet, Onur kadar konuşkan değildir. **cümlesi aşağıdaki cümlelerin hangisiyle yakın anlamlı değildir?**

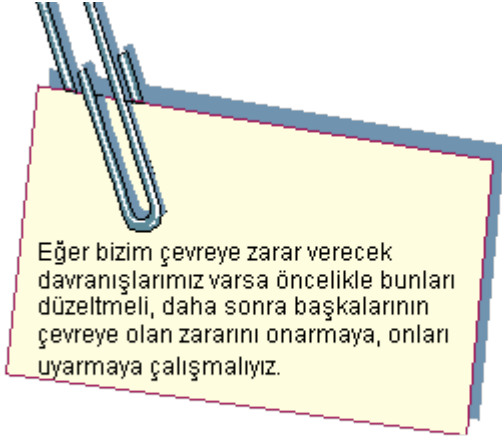
- A) Onur, Ahmetten daha konuşkandır.
- B) Ahmette konuşkandır ama Onur kadar değil.
- C) Ahmet de en az Onur kadar konuşkandır.
- D) Ahmet, Onurdan farklı olarak çok konuşkan değildir.

6. **Aşağıdaki cümlelerin hangisinde verilen işin sıklıkla yapılmadığı anlaşılır?**

- A) Genellikle akşamları erken yatarız.
- B) Babam çoğunlukla pazar günleri evde olur.
- C) Yakınlarımı her zaman arayıp sorarım.
- D) Kuzenim ara sıra bana mektup yazar.

7.

?

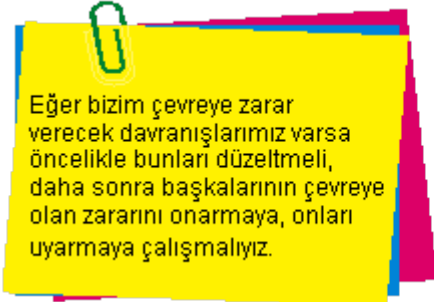


Yukarıdaki paragrafın konusu aşağıdakilerden hangisidir?

- A) Çevrenin korunmasında eğitimin önemi
- B) Çevreyle ilgili örgütler ve bunların çalışmaları
- C) Çevre kirliliği konusunda medyaya düşen görevler
- D) Çevreyle ilgili çalışmalarda dayanışma ve yardımlaşma

8.

?



Yandaki paragrafın ana fikri aşağıdakilerden hangisidir?

- A) Çevrenin korunması için çevre kuruluşlarıyla iletişim içinde olmalı, çalışmalarını izlemeliyiz.
- B) Çevremizi korumak için yalnızca kendimizin temiz olması yeterlidir.
- C) Çevrenin korunması eğitilmiş olmamız ve başkalarını bu konuda eğitmemizle mümkündür.
- D) Herkes kendi çevresinin temizliğinden ve bakımından sorumludur.

9.



Eğer bizim çevreye zarar verecek davranışlarımız varsa öncelikle bunları düzeltmeli, daha sonra başkalarının çevreye olan zararını onarmaya, onları uyarmaya çalışmalıyız.

Aşağıdakilerden hangisi paragrafa uygun bir başlık **değildir**?

- A) Çevre ve Eğitim
- B) Çevre Bilinci
- C) Bilinçli Tüketici
- D) Çevrenin Korunması

10.



Memleketim derdim, memleketim,
Dağına, taşına seslenirdim.
Yankılarda adını dinlerdim,
Sevdiğim göllerin, vadilerin.

Yandaki şiirin ana duygusu aşağıdakilerden hangisidir?

- A) Doğa sevgisi
- B) Vatan sevgisi
- C) Dinlemenin önemi
- D) Doğa olayları

11. Aşağıdakilerden hangisi başlığı Turistlere Saygı olan bir metinde yer alan cümle **olamaz**?

- A) Satıcılar turistlere zorla ürünlerini satmaya çalışmamalıdır.
- B) Turistlerin ülkemizde konuk olduklarını unutmamalıyız.
- C) Turistlerin konaklayacağı yerlerin temiz olmasına özen göstermeliyiz.
- D) Turistlerden kazandığımız paraları harcamayıp yatırım yapmalıyız.

12.



- I. Görüşmeden elde edilen bilgilerin düzenlenmesi
- II. Görüşme sırasında notlar alınması
- III. Görüşme yapılacak kişinin belirlenmesi

Yukarıda aile tarihi ile ilgili görüşmenin aşamaları karışık olarak verilmiştir. Doğru sıralama aşağıdakilerden hangisidir?

- A) I - III - II
- B) II - III - I
- C) III - II - I
- D) I - II - III

13. Kurum **sözcüğü** aşağıdaki cümlelerin hangisinde diğerlerinden farklı anlamda kullanılmıştır?

- A) Sobayı kurarken eli yüzü kurum içinde kaldı.
- B) Bu kurum Atatürk tarafından kurdurulmuştur.

- C) En küçük sosyal kurum olan aile çok önemlidir.
D) Resmî kurum olduğu için takım elbise giyiyorlar.

14.



Tahtadaki sözcüklerle anlamlı ve kurallı cümle yapılırsa sıralama nasıl olmalıdır?

- A) (II) - (III) - (I) - (IV)
B) (II) - (IV) - (III) - (I)
C) (IV) - (I) - (II) - (III)
D) (I) - (III) - (IV) - (II)

15. Aşağıdaki cümlelerden hangisinin sonuna **yanlış** noktalama işareti konulmuştur?



- A) Yavaş ol, elindekileri düşürecek sin!
B) Çocuklardan biri şöyle söyledi:
C) Nasıl da güzel oynuyorlar?
D) Hangi duraktan bineceklerini söyledim.

16. Aşağıdaki cümlelerin hangisinde altı çizili sözcük ünlü düşmesi kuralına uygun olarak yazılmıştır?



- A) Karınım acıkınca dolaptan bir şeyler atıştırdım.
B) Gönülünden geçenleri açıkça söylemelisin.
C) Oğulu geç kalınca onu çok merak etti.
D) Ağzına kadar dolu sürahiyi masaya getirdi.

17. Okul..... çıkar çıkmaz kütüphane..... gideceğiz. **cümlesinde noktalı yerlere sırasıyla hangi** ekler gelmelidir?



- A) -dan, -ye
B) -da, -yi
C) -da, -yi
D) -dan, -de

18. Televizyon günümüzde her yerde insanların yaşamının bir parçası olmuştur. Bizlere eğlenme olanağı sağlar. Televizyon dünyanın her yerinde önemli olaylarda yer alan kişileri izlememiz fırsatını verir.



Yukarıdaki paragrafı aşağıdaki cümlelerin hangisiyle tamamlayabiliriz?

- A) Televizyon olmadan da yaşamımızı güzel bir şekilde sürdürmemiz mümkündür.
B) İsteddiğimiz her an şarkı söyleyen, dans eden, konuşan insanların olduğu programları izleyebiliriz.
C) Televizyon insanların yüz yüze görüşmelerini engellemekte, ilişkileri olumsuz etkilemektedir.
D) Televizyon izlemesek de etrafımızda gelişen olaylardan haberdar olmamız mümkündür.

19.



Aşağıdakilerden hangisi yukarıdaki resmin ait olduğu metinde geçen bir konuşma olabilir?

- A) İyi akşamlar. Nasılsın?
İyiyim, sen nasılsın?
- B) Hoş geldiniz. Ne alırdınız?
Bir pasta ve bir kahve lütfen!
- C) Elinizdeki çay fincanını masaya bırakır mısınız?
Bu çay fincanı sizin değil.
- D) Buyurun, siparişleriniz!
Çok geç kaldım, gitmem lazım.

Matematik

20. **347 182** sayısının binler bölümündeki rakamların toplamı, birler bölümündeki rakamların toplamından kaç fazladır?



- A) 2
- B) 3
- C) 4
- D) 5

21. Aşağıdaki öğrencilerin söylediği sayılardan hangisi en yakın onluğa yuvarlandığında diğerlerinden farklı bir sayı elde edilir?



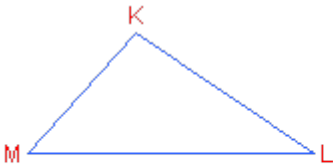
A)

B)

C)

D)

22.



Yukarıdaki üçgeninin kenar uzunlukları $|KL| = 6$ cm, $|LM| = 8$ cm, $|KM| = 5$ cm dir. Buna göre üçgeninin kenar uzunluklarına göre isimlendirilmesi hangi seçenekte doğru olarak verilmiştir?

- A) Eşkenar üçgen
- B) Dik üçgen
- C) Çeşitkenar üçgen
- D) İkizkenar üçgen

23.

?

$$\begin{array}{r}
 3 \text{ L } 4 \text{ 7} \\
 2 \text{ 3 } 5 \text{ K} \\
 + \\
 \hline
 \text{M} 1 \text{ 0 } 1
 \end{array}$$

Yandaki toplama işleminde verilmeyen K, L ve M rakamlarının toplamı $K + L + M$ kaçtır?

A) 17

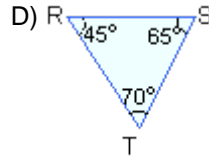
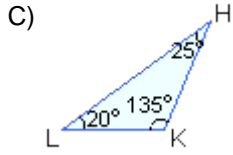
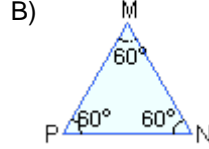
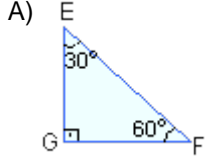
B) 16

C) 15

D) 14

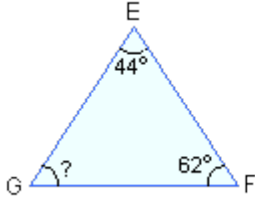
24. Açı ölçüleri verilen aşağıdaki üçgenlerden hangisi geniş açılı üçgendir?

?



25.

?



Yandaki üçgende $s(\hat{E}) = 44^\circ$, $s(\hat{F}) = 62^\circ$ olduğuna göre $s(\hat{G})$ açısının ölçüsü kaç derecedir?

A) 84

B) 74

C) 72

D) 70

26. Bir çamaşır makinesi fabrikasında ocak ayında 15 276, şubat ayında ocak ayından 1248 daha fazla, mart ayında ise ocak ve şubat ayında üretilenlerin toplamı kadar çamaşır makinesi üretilmiştir.

?

Buna göre bu fabrikada üç ayda kaç adet çamaşır makinesi üretilmiştir?

A) 63 600

B) 54 600

C) 31 800

D) 16 524

27.

?

$$\begin{array}{r}
 5132 \\
 - 2618 \\
 \hline
 \end{array}$$

Yanda verilen çıkarma işleminin sonucu kaçtır?

A) 2514

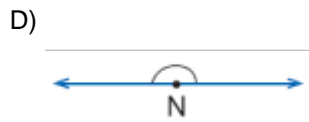
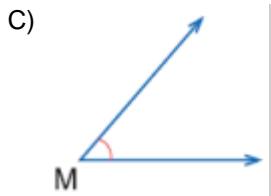
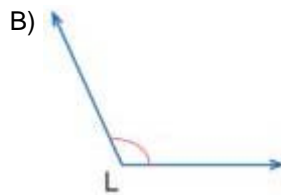
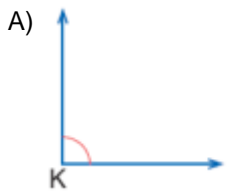
B) 2624

C) 2644

D) 2664

28. Aşağıda verilen açılardan hangisinin ölçüsü 40° olabilir?

?



29. Kerem Beyin evi ile iş yeri arası uzaklık 4370 mdir. Pazartesi günü Kerem Bey arabası ile evinden iş yerine gitmek için yola çıktı. 3140 m yol gittikten sonra cüzdanını evde unuttuğunu düşünüp geri döndü. Evinden cüzdanını alıp tekrar işine gitti.

Kerem Bey pazartesi günü işe her zaman gittiği mesafeden kaç metre fazla yol gitmiştir?

- A) 3140 B) 4140 C) 5280 D) 6280

30. Bir toptancı haftanın son gününde her birinde 24 şişe süt bulunan 144 kutu süt satmıştır.

Buna göre toptancı haftanın son gününde toplam kaç şişe süt satmıştır?

- A) 3456 B) 3024 C) 2736 D) 2592

31.

?

$$24 \times (18 \times 3) = ? \times (3 \times 24)$$

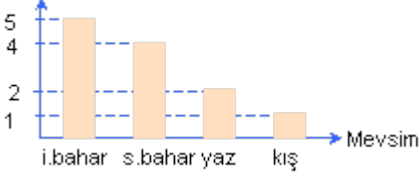
Tahtadaki eşitlikte "?" yerine gelmesi gereken sayı aşağıdakilerde hangisidir?

- A) 3 B) 18 C) 24 D) 36

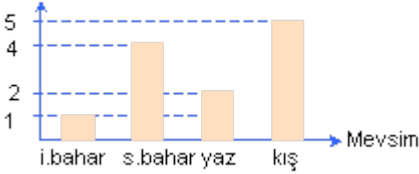
32. 12 kişilik bir gruptaki kişilerden 4ünün en çok sevdiği mevsim ilkbahar, 2sinin sonbahar, 5inin yaz ve birinin de kıştır.

Bu bilgiyi doğru olarak gösteren sütun grafiği aşağıdakilerin hangisinde verilmiştir?

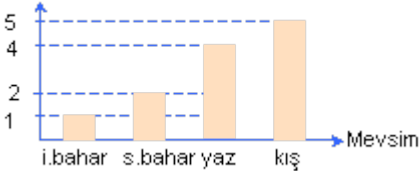
A) Kişi sayısı



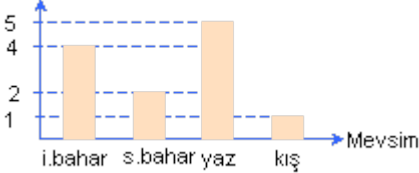
B) Kişi sayısı



C) Kişi sayısı



D) Kişi sayısı



33.

?



3 yıl 36 ay eder.

Dilek



3 ayda 12 hafta vardır.

Koray



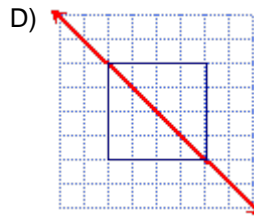
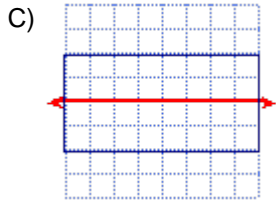
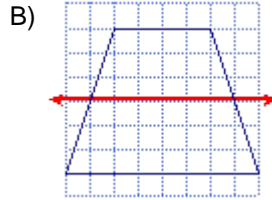
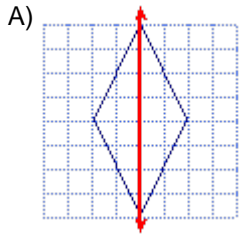
4 hafta 28 gündür.

Sibel

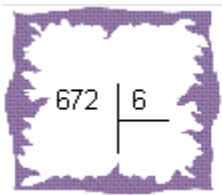
Yukarıdaki öğrencilerden hangilerinin söylediği ifadeler doğrudur?

- A) Dilek ve Koray
- B) Dilek ve Sibel
- C) Koray ve Sibel
- D) Dilek, Koray ve Sibel

34. Aşağıdaki şekillerden hangisinin simetri doğrusu **yanlış** çizilmiştir?



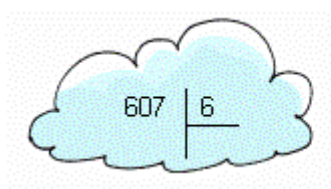
35.



Yandaki bölme işleminde bölüm kaç basamaklıdır?

- A) 1
- B) 2
- C) 3
- D) 4

36.



Yandaki bölme işleminde bölüm ve kalanın toplamı kaçtır?

- A) 11
- B) 100
- C) 101
- D) 102

37.



- I. Okul çantamızı taşıırken, eğilip kalkırken, bir eşyayı çekip iterken ani hareketlerden kaçınmak
- II. Sırada dik oturmak ve dik yürümeye dikkat etmek
- III. Düzenli beslenmek ve egzersiz yapmak

Tahtadakilerden hangileri iskelet ve kas sağlığını olumlu etkileyecek davranışlara örnektir?

- A) I ve II
B) I ve III
C) II ve III
D) I, II ve III

38.



Vücudumuzun hareket etmesi için enerjiye ihtiyaç vardır. Bu enerjiyi aldığımız besinlerden sağlarız. Besinlerdeki enerjiyi açığa çıkarabilmemiz için havadaki oksijene ihtiyaç vardır. Soluk aldığımızda havadaki oksijen kana geçer. Tüm vücudumuza kanla dağılan oksijen besinlerin enerjilerini açığa çıkarmada kullanılır.

Yukarıdaki cümlede boş bırakılan yere aşağıdakilerden hangisi gelmelidir?

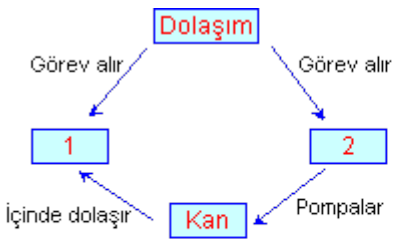
- A) karaciğerlerden
B) kalpten
C) akciğerlerden
D) yutaktan

39. Aşağıdakilerden hangisi burnumuzdan nefes almanın yararlarından birisi **değildir**?



- A) Havayı nemlendirir.
B) Havayı ısıtır.
C) Havanın içerisindeki oksijeni ayırır.
D) Hava içerisindeki toz zerreciklerini tutar.

40.



Yukarıdaki kavram haritasında 1 ve 2 numaralı yerlere yazılması gereken yapı veya organlar hangi seçenekte doğru olarak verilmiştir?

- | | 1 | 2 |
|----|----------|-----------|
| A) | Kalp | Beyin |
| B) | Damarlar | Kalp |
| C) | Akciğer | Damarlar |
| D) | Damarlar | Karaciğer |

41.



- I. Solunumla alınan oksijeni vücudun her tarafına taşımak
- II. Sindirilmiş besinleri vücudun her tarafına taşımak
- III. Besinlerin enerjisinin açığa çıkması sonucu oluşan karbondioksiti akciğerlere taşımak

Yukarıdakilerden hangisi ya da hangileri kanın görevidir?

- A) Yalnız I
- B) Yalnız II
- C) Yalnız III
- D) I, II ve III

42. Kerim 4-A sınıfında sağlıklı bir öğrencidir. Kerim sağlıklı ve zinde bir vücuda sahip olmak için düzenli olarak egzersiz yapmaktadır. Kerimin yaptığı egzersiz sırasında;

- I. Vücudun enerji ihtiyacı artar.
- II. Kanı daha hızlı dolaşmaya başlar.
- III. Nabız sayısı artar.

yukarıdakilerden hangileri gerçekleşir?

- A) I ve II
- B) I ve III
- C) II ve III
- D) I, II ve III

43. Maddeler farklı sertliğe sahiptir. Sertlik, çoğunlukla çizilmeye dayanıklı maddelerin bir özelliğidir. **Buna göre aşağıdaki maddelerin hangisinin sertliği diğerlerine göre daha azdır?**

- A) Tebeşir
- B) Mermer
- C) Demir levha
- D) Cam

44. I. Marangozun çeşitli eşyaları yapabilmek için kullandığı ağaç bir maddedir.
II. Bina yapımında kullanılan mala keser ve kürek birer alettir.
III. Evimizde bulunan koltuk ve sandalyeler eşyadır.

Yukarıdaki ifadelerden hangileri doğrudur?

- A) I ve II
- B) I ve III
- C) II ve III
- D) I, II ve III

45. **Aşağıdakilerden hangisi mıknatıs tarafından çekilebilir?**

- A) Tahta
- B) Nikel
- C) Taş
- D) Bakır

46. Aşağıda verilenlerden hangisi katılara ait bir özelliktir?

?

- A) Akıcı bir yapıya sahip olması
- B) Bulunduğu kabın şeklini alması
- C) Belirli bir şeklinin olması ve bu şeklin dışarıdan bir etki olmadıkça değişmemesi
- D) Bulundukları kabı tamamen doldurması

47.

?



Yandaki kabın içinde meyve suyu bulunmaktadır.
Kap ve meyve suyu maddenin hangi halleridir?

	Kap	Meyve suyu
A)	Katı	Gaz
B)	Gaz	Sıvı
C)	Sıvı	Gaz
D)	Katı	Sıvı

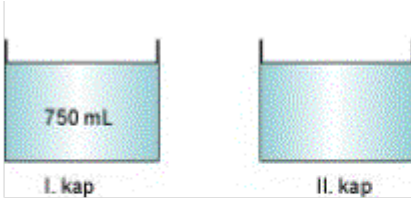
48. Kütle madde miktarının ölçüsüdür. Maddelerin kütlelerini doğru ve tam ölçmek için eşit kollu terazi adı verilen alet kullanılır. Kütle birimi olarak gram ve kilogram kullanılır. Maddenin kütlesi ile ilgili aşağıdaki dönüşümlerden hangisi **yanlıştır**?

?

- A) $2500 \text{ g} = 2 \text{ kg} + 500 \text{ gramdır.}$
- B) $2 \text{ kg} = 2000 \text{ gramdır.}$
- C) $1500 \text{ g} = 1 \text{ kg} + 500 \text{ gramdır.}$
- D) $3,5 \text{ kg} = 350 \text{ gramdır.}$

49.

?

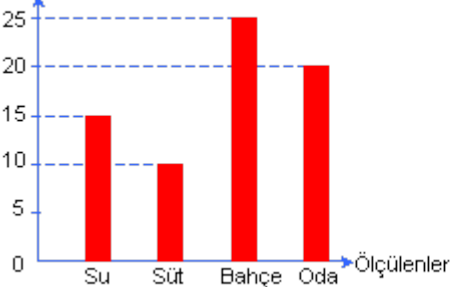


I. kap en fazla 1 L sıvı alabilmektedir ve içinde 750 mL sıvı vardır. II. kaptaki aynı cins sıvı I. kaba boşaltılınca dışarıya 300 mL sıvı taşıyor. Buna göre II. kaptaki sıvının ilk durumda hacmi kaç mL'dir?

- A) 250
- B) 400
- C) 550
- D) 600

50. Sıcaklık (°C)

?



Kerem termometre ile su, süt, bahçe ve odanın sıcaklığını ölçerek yandaki grafiği oluşturuyor.
Buna göre aşağıdaki ifadelerden hangisi **yanlıştır**?

- A) Odanın sıcaklığı 20°C dir.
- B) Bahçede sıcaklık 25°C dir.

- C) Suyun sıcaklığı odanın sıcaklığından 5°C fazladır.
D) Suyun sıcaklığı sütün sıcaklığından 5°C fazladır.

51. Bazı katı maddeler ısıtıldıklarında sıvı hale geçmez bozunur.



- I. Şeker
II. Margarin
III. Buz
IV. Tuz

Yukarıdaki maddelerden hangilerini ısıtırsak bozunmaya uğrar?

- A) I ve II B) I ve IV C) II ve IV D) II ve III

52.



- I. Karışımlar saf maddedir.
II. Birden fazla saf maddenin karıştırılmasıyla elde edilen karışımlardaki maddeler özelliklerini kaybetmezler.
III. Limonata ve ayran bir karışımdır.

Yukarıdaki ifadelerden hangileri doğrudur?

- A) I ve II B) I ve III
C) II ve III D) I, II ve III

53. Erime bir katının ısı alarak sıvı hale geçmesidir. Çözünme ise bir katının, bir sıvı içinde dağılıp görünmez hale geçmesi olayıdır.



Aşağıdakilerden hangisi suda çözünen bir maddedir?

- A) Şeker B) Kum
C) Karabiber D) Çakıl

Sosyal Bilgiler

54. Ayşe ile Serhat Televizyonda haberleri izlerken Afrikada açlık çeken çocukları görünce çok üzülmüşler ve harçlıklarından onlara yardım etmeye karar vermişlerdir.



Buna göre Ayşe ile Serhatın hangi özelliği bir diğer özelliğini etkilediği söylenebilir?

- A) Duyguları düşüncelerini
B) Düşüncelerini duygularını
C) Düşünceleri, fiziksel yapıların
D) Fiziksel yapıları düşüncelerini

55.



- Aykut, spor salonunda Emre'nin basketbol oynayıpını zevkle seyretmiştir.
- Aykut, Emre'ye kaba davranışlarından dolayı çok kızmaktadır.

Aykut'un bu iki durum karşısındaki yaklaşımları için aşağıdakilerden hangisi söylenebilir?

- A) Duygularını bastırdığı
- B) Çabuk sinirlenebildiği
- C) Farklı durumlara, farklı duygularla yaklaştığı
- D) Düşüncelerini gizlediği

56. **Nüfus cüzdanımızın olması aşağıdakilerden hangisini kanıtlar?**



- A) Çalışkan bir insan olduğumuzu
- B) Her kuruma rahatlıkla girebileceğimizi
- C) Zengin bir kişi olduğumuz
- D) Türkiye Cumhuriyeti vatandaşı olduğumuzu

57. Ailemizde ve çevremizde milli kültürü yansıtan öğelerden biri de geleneklerimizdir.



Aşağıdakilerden hangisi bunlardan biri olamaz?

- A) Bayramlar
- B) Yazılı yasalar
- C) Misafir ağırlamalar
- D) Düğünler

58. **Aşağıdakilerden hangisi kültürümüzün öğelerinin geçmişten günümüze değişerek geldiğine kanıt olabilir?**



- A) Haberleşmede mektubun yerini telefonun alması
- B) Tarım alanında hayvanların gücünün yerine makinelerden yararlanılması
- C) Düğünlerde gelinin at yerine otomobile binerek baba evinden ayrılması
- D) Yüksek katlı binalara merdiven yerine asansörle çıkılması

59. **Aşağıdaki gelişmelerden hangisinde Mustafa Kemal Atatürkün doğrudan bir katkısı yoktur?**



- A) Sivas Kongresinin toplanması
- B) Cumhuriyetin ilan edilmesi
- C) Mondros Ateşkes Antlaşmasının imzalanması

D) Amasya Genelgesinin yayınlanması

60. **Evimizin bahçesinde sabahleyin sağ kolunuzu Güneşin doğduğu tarafa uzattığınızda yüzünüz hangi tarafa bakar?**

A) 

B) 

C) 

D) 

61. **Çevremizdeki evleri, ağaçları yolları, binaları çizerek yerlerini ve birbirlerine göre durumlarını karşımızdakine en kolay nasıl anlatabiliriz?**

A) Haritayla

B) Planla

C) Krokiyle

D) Taslakla

62. **Çizdiğimiz krokilerde genellikle simge ya da semboller kullanmamızın nedeni aşağıdakilerden hangisidir?**

A) Kuş bakışı görülenleri belirtebilme

B) Krokinin güzel görünmesini sağlama

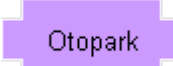
C) Başkalarının krokiyi kolayca anlamasını sağlama

D) Krokiyi çizimlerle orantılı hale getirme

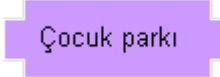
63. Hüseyinin evinin sağında bir okul onun yanında bir market ve evlerinin tam karşısında da bir eczane vardır.

Buna göre Hüseyinin çizeceği bir krokide aşağıdakilerden hangisi mutlaka bulunmalıdır?

A) 

B) 

C) 

D) 

64. **Bir yerin krokisini çizmek isteyen Tuna aşağıdaki bilgilerden hangisine gereksinim duymaz?**

A) Krokiyi nasıl çizeceği

B) Ne amaçla kullanılacağı

C) Hava koşullarının nasıl olacağı

D) Nelerden yararlanacağı

65. Orhan, televizyonda hava durumunu izlerken yaşadığı bölgenin haritasının üzerinde bulutun arasından çıkmış güneş resmini görmüştür.

Hava durumunu sunan spiker Orhanın yaşadığı bölgenin hava durumu ile ilgili olarak aşağıdakilerden hangisini söylemiş olabilir?

A) Güneşli

B) Parçalı bulutlu

C) Bulutlu

D) Yağmurlu

66.



Yukarıdaki haritaya bakarak aşağıdakilerden hangisi **söylenemez**?

- A) Antalya güneşli
- B) Erzurum kar yağışlı
- C) İstanbul sisli
- D) Ankara yağmurlu

67. **Sevgilerin köyünde bulunan aşağıdaki nesnelerden hangisi doğal unsurdur?**

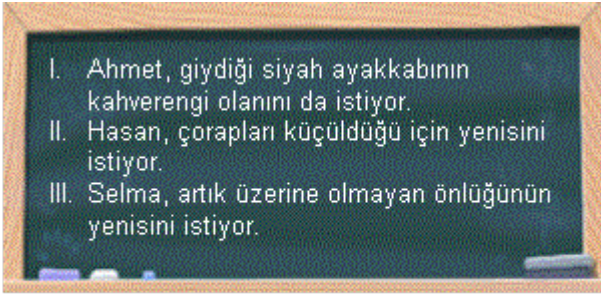
- A) Okul
- B) Köprü
- C) Dere
- D) Sağlık ocağı

68. Sapançada yalnızca gölün çevresinde gezinmedik. Günlerimizi ormanda, dağda geçirdik. Akşamları da dağın yamacındaki evde kaldık.

Yukarıdaki metinde beşeri unsur hangisidir?

- A) Dağ
- B) Ev
- C) Orman
- D) Göl

69.



Tahtadakilerden hangisinde ihtiyaçtan söz edilmiştir?

- A) I ve II
- B) I ve III
- C) II ve III
- D) I, II ve III

70. Emelin annesi geçen pazar günü, Emele kışın soğuklardan korunması için kalın bir kaban aldı.



Yukarıdaki bilgiye bakarak Emelin hangi temel ihtiyacı karşılanmıştır diyebiliriz?

- A) Barınma
- B) Beslenme
- C) Giyinme
- D) Eğlenme

İngilizce

71.

?



Yandaki resmi anlatan ifade
aşağıdakilerden hangisidir?

- A) Draw a Picture!
C) Open the door!

- B) Be quiet!
D) Sit down!

72. Aşağıdaki kelimelerden hangisi diğerlerinden farklıdır?

?

- A) father B) sister C) uncle D) brother

73.

?



"I have got"

Tırnak içinde verilen cümlede boş bırakılan yere
verilen resme göre aşağıdaki ifadelerden hangisi
gelebilir?

- A) jacket B) trousers C) dress D) shoes

74. Aşağıdaki kelimelerden hangisi diğerlerinden farklıdır?

?

- A) nose B) ear C) hair D) leg

75.

?

"It has got three"



Tırnak içinde verilen cümlede boş bırakılan yere verilen resme göre
aşağıdaki ifadelerden hangisi gelebilir?

- A) heads B) mouthes C) knees D) eyes

76. There is a computer on the table.

?

Yukarıdaki cümleyi ifade eden resim aşağıdakilerden hangisidir?

A)



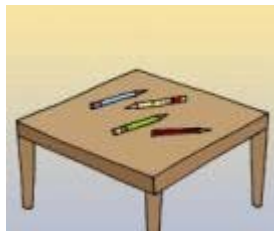
B)



C)



D)



77. Aşağıdaki kelimelerden hangisi diğerlerinden farklıdır?

?

- A) kitchen B) living room C) bedroom D) under

78.



.....




He is in the kitchen.

Konuşma balonunda boş bırakılan yere aşağıdaki ifadelerden hangisi gelebilir?

- A) Where is Berk? B) Is this a book?
C) How many chairs? D) What colour is it?

79.



A: Where is the TV?

B:

Diyalogda boş bırakılan yere aşağıdaki ifadelerden hangisi gelebilir?

- A) Yes, it is. B) It is a TV.
C) There is a TV. D) It is in the living room.

80.



Yandaki resmi ifade eden cümle aşağıdakilerden hangisidir?

- A) There is a lamp on the table.
B) There is a ball on the bed.
C) There are two chairs in the room.
D) There are three pictures on the wall.