

## TÜRKÇE GÜNLÜK ÖDEV

ADI SOYADI: .....

21 / 01 / 2011

### Konu Tarama Testi

1. Aşağıdaki cümlelerin hangisinde büyük ünlü uyumu kuralına uymayan sözcük vardır?

- A) Yağmurlu havalarda yanımıza şemsiye almalıyız.
- B) Bugün derste okuduğumuz hikâyeleri anlattık.
- C) Haftaya okullar arası bilgi yarışması var.

2. Aşağıdaki sözcüklerden hangisinin sonuna "-e" harfi getirilirse son harfinde ses değişikliği olur?

- A) güneş
- B) saat
- C) pirinç

3. Kesme işareti, ünlem, tırnak işareti aşağıdakilerden hangisinde doğru verilmiştir?

- A) ('), (?), (-)
- B) (" "), (!), (')
- C) (') , (!) , (" ")

4. Aşağıdaki cümlelerden hangisinin sonuna soru işareti konulmaz?

- A) Müzeleri gezmeye gittiniz mi
- B) Neden gördüklerini bize anlatmadın
- C) Ne zamandır sınav heyecanımı yenemedim

5. Aşağıdaki cümlelerin hangisinde kesme işareti (') yanlış kullanılmıştır?

- A) Köpeğim Karabaş'a yeni kulübe aldık.
- B) Kayseri'li arkadaşım bayramda bize geldi.
- C) İstanbul, Marmara Bölgesi'ndedir.

6. "Eyvah, suları açık unuttum ( )" cümlesinin sonuna aşağıdaki noktalama işaretlerinden hangisi konmalıdır?

- A) (!)
- B) (.)
- C) (?)

7. Aşağıdakilerden hangisinde iki noktanın (:) kullanımı doğrudur?

- A) Anlamlarına göre sözcükler üçe ayrılır:
- B) Ünlem işaretini nerelerde kullanıyoruz:
- C) Hafta sonu yoğun kar yağışı bekleniyor:

8. Aşağıdaki cümlelerin hangisinde noktalama işareti yanlış kullanılmıştır?

- A) Çabuk buraya gel!
- B) Yarın ne olacağı belli olmaz?
- C) Karşıdan karşıya geçerken sağıma, soluma bakarım.

9. "Tuhafiyeden iğne iplik ve kurdela almayı unutma." cümlesinde hangi sözcükten sonra virgöl konmalıdır?

- A) iğne
- B) iplik
- C) kurdela

Sevgili Arkadaşım ( )

Nasılsın ( ) Seni çok özledim ( ) Ne zaman Ankara( )ya geleceksin ( )

10. Parantezin olduğu yerlere sırasıyla hangi noktalama işaretleri konmalıdır?

- A) (:), (?), (.), (-), (?)
- B) (,) , (?), (.), ('), (?)
- C) (,) , (?) , (!) , ('), (.)

11. "Arkadaşlarım" sözcüğü, satır sonuna sığmadığında hangi seçenekteki gibi bölünebilir?

- A) Ark-adaşlarım
- B) Arkadaş-larım
- C) Arkada-şlarım

12. Aşağıdaki cümlelerin hangisinde tırnak işareti (" ") yanlış kullanılmıştır?

- A) Kardeşim, "Sinbad'ın Maceraları" adlı kitabı okuyor.
- B) Doktor, kontrolden sonra "Geçmiş olsun" Ege dedi.
- C) Babam, "Mezun olunca sana bilgisayar alacağım." diyor.

13. "Ne zamandır bu kadar eğlenmemiştim." cümlesinin sonuna hangi noktalama işareti konulmalıdır?

- A) (?)
- B) (.)
- C) (!)

14. Aşağıdaki cümlelerin hangisinde virgöl kaldırılırsa cümlelerin anlamı değişir?

- A) Küçük, kedisine her gün süt verir.
- B) Elif, okula başladığı için çok sevinçli.
- C) Onlar, boş zamanlarında basketbol oynuyorlar.

15. Aşağıdaki atasözlerinden hangisi diğerlerinden farklı anlamdadır?

- A) Düşenin dostu olmaz.
- B) Dostun attığı taş, baş yarmaz.
- C) Yıkılan ağaca balta vuran çok olur.

## MATEMATİK GÜNLÜK ÖDEV

ADI SOYADI: ..... 22 / 01 / 2011

### Konu Tarama Testi

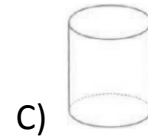
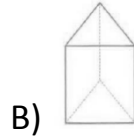
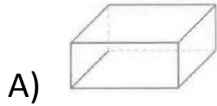
1. Aşağıdaki rakamlardan hangisinde açı yoktur?

A) 0

B) 4

C) 7

2. Aşağıdaki modellerden hangisini kullanarak açı çizemeyiz?



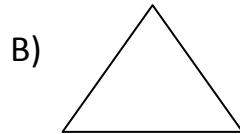
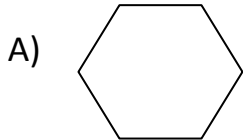
3. Aşağıdaki harflerden hangisinde açı vardır?

A) C



B) Z

C) S

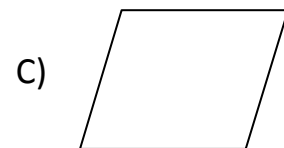
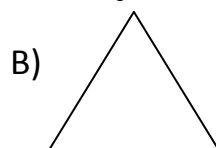
4. Aşağıdaki geometrik şekillerden hangisinin açı sayısı fazladır?



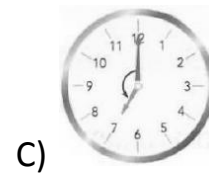

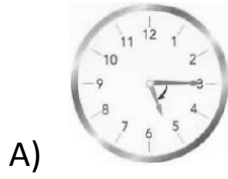
5. Aşağıdaki saatlerden hangisinde akrep ve yelkovan arasındaki açı dik açıdır?



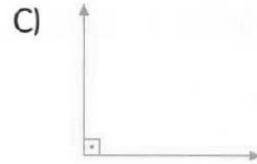
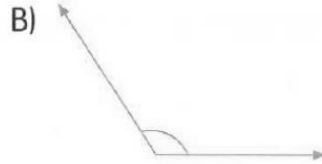

6. Aşağıdakilerden hangisinin tüm açıları dik açıdır?



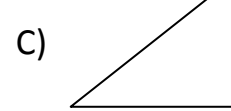
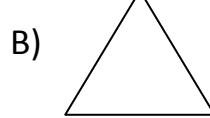
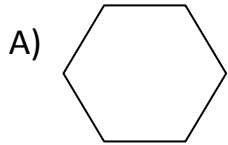
7. Aşağıdaki saatlerden hangisinde akrep ve yelkovan arasındaki açı geniş açıdır?



8. Aşağıdakilerden hangisi dar açıdır?



9. Aşağıdaki şekillerden hangisinin tüm açıları dar açıdır?



10. Yandaki saat modelinde akrep ile yelkovan arasındaki açı nasıl açıdır?

- A) Dar açı  
B) Geniş açı  
C) Doğru açı



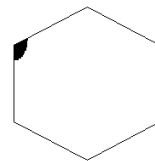
11. Yandaki düzlemsel şeklin açıları için aşağıdaki seçeneklerden hangisi doğrudur?

- A) Bir dik, bir dar, iki geniş açısı vardır.  
B) İki dik, bir dar, bir geniş açısı vardır.  
C) İki dar, bir geniş, bir dik açısı vardır.



12. Yandaki düzlemsel şekil üzerinde gösterilen açının çeşidi aşağıdakilerden hangisidir?

- A) Dar açı  
B) Dik açı  
C) Geniş açı



## HAYAT BİLGİSİ GÜNLÜK ÖDEV

ADI SOYADI: ..... 22 / 01 / 2011

1. Aşağıdakilerden hangisi fiziksel özelliklerinizden biri değildir?

- A) Saç renginiz
- B) Boy uzunluğunuz
- C) Kişilik özelliğiniz

2. Aşağıdakilerden hangisi insanların ortak özelliklerinden biri değildir?

- A) Merak etme
- B) Tepki verme
- C) Ten rengi

3. Aşağıdaki ifadelerden hangisi yanlıştır?

- A) Her insan kendi bedenini beğenmeli ve sevmeli
- B) Her insanın fiziksel özellikleri aynıdır.
- C) Her insanın ten, saç ve göz rengi farklıdır.

4. Aşağıdakilerden hangisi ile samimi iletişim kuramayız?

- A) Okul Müdürü
- B) Ailemiz
- C) Arkadaşlarımız

5. Konuşma engelli biri iletişim kurarken aşağıdakilerden hangisini kullanır?

- A) Konuşma
- B) Beden dili
- C) Şarkı söyleme

6. Aşağıdaki ifadelerden hangisi yanlıştır?

- A) İnsanlar sadece konuşarak iletişim kurarlar.
- B) İletişim kurarken herkesle aynı biçimde konuşamayız.
- C) Ortama göre konuşma biçimimiz değişir.

7. Aşağıdakilerden hangisi iletişim biçimlerinden biri değildir?

- A) Televizyon seyretmek
- B) Resim yapmak
- C) Beden dilini kullanmak

8. Nasıl davranırsak karşımızdaki insanlar duygularımızı anlamakta zorluk çeker?

- A) Fikirlerimizi açıklarsak
- B) Olayları yorumlarsak
- C) Olaylara tepkisiz kalırsak

9. Görme engelli insanların iletişim kurarken, görme duyusu yerine geliştirdikleri duyu organları hangileridir?

- A) Göz - kulak - el
- B) Kulak - burun - deri
- C) Burun - el - ayak

10. İşitme ve konuşma engelli kişiler iletişim kurarken en çok hangi duyu organını geliştirmek zorundadırlar?

- A) Kulak
- B) Göz
- C) Burun

11. Aşağıdakilerden hangisi annenizi algılama biçimlerinden biri değildir?

- A) Kokusu
- B) Sesi
- C) Yaşı

12. Aşağıdaki ifadelerden hangisi yanlıştır?

- A) İşitme engelliler en az görme duyusunu geliştirir.
- B) Beden duruşu ile karşımızdaki kişiye güven verebiliriz.
- C) İletişim kurmak için duyu organlarımızı kullanırız.

13. Aşağıdakilerden hangisi demokratik aile davranışıdır?

- A) Ailede kararları babanın alması
- B) Ailede kararların ortak alınması
- C) Aile bireylerinin birbirine yardımcı olmaması

14. Aile içinde, aşağıdaki davranışlardan hangisi etik bir davranış değildir?

- A) Babanın yemekten sonra televizyon seyretmesi
- B) Annenin yemek masasını toplaması
- C) Çocukların anneye yardım etmesi

15. Odanıza yeni eşya alınması konusunda, ailenizin size nasıl davranmasını beklersiniz?

- A) Kendi istediklerinin alınması
- B) Babamın tek başına karar vermesi
- C) Fikirlerimin sorulması

16. Aşağıdakilerden hangisi, aile içi görev dağılımında adil bir davranış değildir?

- A) Özge, ev işlerinde annesine yardım eder.
- B) Ahmet, okul çıkışında ayakkabı boyacılığı yapar.
- C) Arda, babasına araba yıkarken yardım eder.