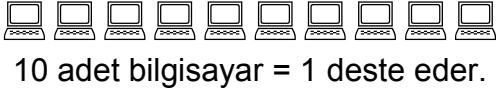
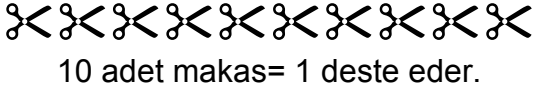


DESTE

Deste: Aynı türden 10 adet varlığın sayısına bir **deste** denir.



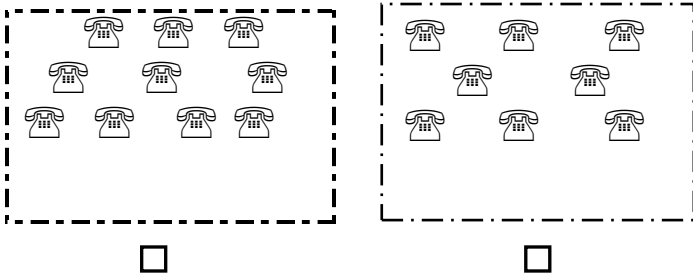
Sizde aşağıdaki varlıkları bir desteye tamamlayınız.



Bilgi: Deste sözcüğünü oluşturan harfleri 2'şer sayarsak bir destenin 10 tane ettiğini görürüz.

D E S T E → Bir deste 10 tanedir.
2 4 6 8 10

Aşağıdaki varlıkların hangisi bir destedir? İşaretleyiniz.

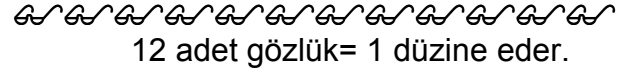


Aşağıdaki ifadelerdeki boşlukları doldurunuz.

Bir deste.....tanedir.	50 tane.....destedir.
5 deste.....tanedir.	10 tane.....destedir.
3 deste.....tanedir.	30 tane.....destedir.
2 deste.....tanedir.	40 tane.....destedir.
4 deste.....tanedir.	20 tane.....destedir.

DÜZİNE

Düzine: Aynı türden 12 adet varlığın sayısına bir **düzine** denir.



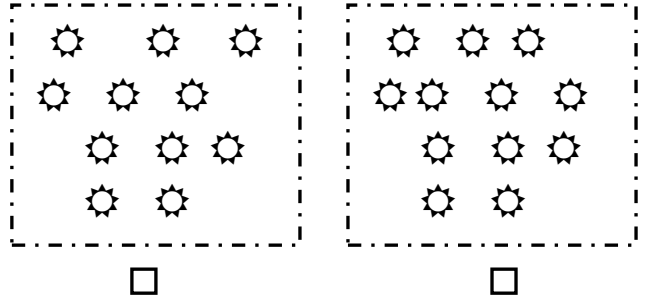
Sizde aşağıdaki varlıkları bir düzineye tamamlayınız.



Bilgi: Düzine sözcüğünü oluşturan harfleri 2'şer sayarsak bir düzinenin 12 tane olduğunu görürüz.

D Ü Z İ N E → Bir düzine 12 tanedir.
2 4 6 8 10 12

Aşağıdaki varlıkların hangisi bir düzinedir? İşaretleyiniz.



Problemler

1) Bir düzine kalemin 5 tanesi kayboldu. Kaç kalemim kaldı?

2) 9 bilyem var. Bir düzine olması için kaç bilyeye ihtiyacım var?