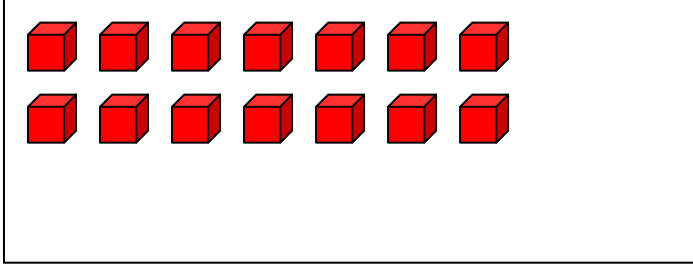




1-Aşağıdaki çoklukları onluk ve birliklerine ayırarak tabloya uygun şekilde yerleştiriniz.



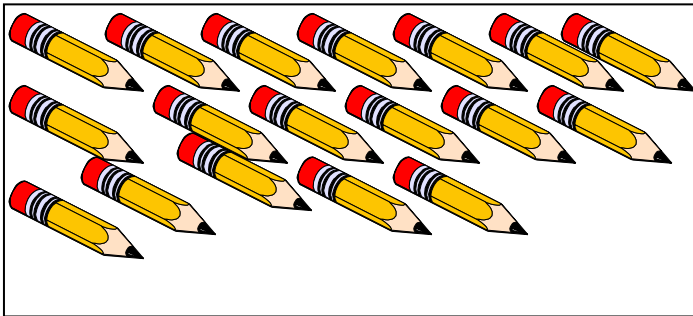
Onluk	binlik
1	4
14	




onluk	binlik



onluk	binlik



onluk	binlik



onluk	binlik

2-Aşağıda kutuda altta verilen sayıların onluk ve birliklerinin sayısını kutunun onluk ve birlik kısmına yazınız.

onluk	birlik
3	8
38	

onluk	birlik
57	

onluk	birlik
92	

onluk	birlik
65	

onluk	birlik
8	

onluk	birlik
41	

3-Aşağıda onluk ve birlikleri verilen sayıları yanlarına yazınız.

$$1 \text{ onluk} + 3 \text{ birlik} = 13.$$

$$7 \text{ onluk} + 5 \text{ birlik} = \dots$$

$$3 \text{ onluk} + 0 \text{ birlik} = \dots$$

$$5 \text{ onluk} + 2 \text{ birlik} = \dots$$

$$4 \text{ onluk} + 7 \text{ birlik} = \dots$$

$$8 \text{ onluk} + 9 \text{ birlik} = \dots$$

$$0 \text{ onluk} + 6 \text{ birlik} = \dots$$

$$6 \text{ onluk} + 4 \text{ birlik} = \dots$$

$$8 \text{ birlik} + 4 \text{ onluk} = \dots$$

$$5 \text{ birlik} + 0 \text{ onluk} = \dots$$

4-Aşağıda verilen sayıların kaç onluk ve kaç birlikten oluştuklarını yazınız.

$$13 = 1 \text{ onluk} + 3 \text{ birlik}$$

$$17 = \dots \text{ onluk} + \dots \text{ birlik}$$

$$23 = \dots \text{ onluk} + \dots \text{ birlik}$$

$$47 = \dots \text{ onluk} + \dots \text{ birlik}$$

$$90 = \dots \text{ onluk} + \dots \text{ birlik}$$

$$55 = \dots \text{ onluk} + \dots \text{ birlik}$$

$$83 = \dots \text{ onluk} + \dots \text{ birlik}$$

$$70 = \dots \text{ onluk} + \dots \text{ birlik}$$

