

Adı Soyadı:.....

Velinin İmzası:.....

ETKİNLİK SAYFASI

1. Abaküste gösterilen sayıları örnekteki gibi rakamla ve okunuşlarını yazarak tamamlayınız.

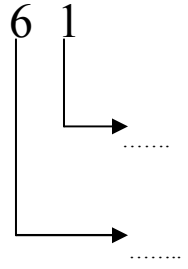
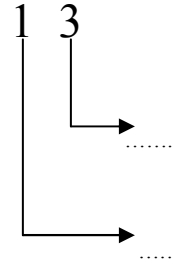
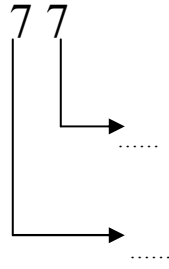
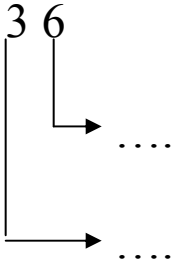
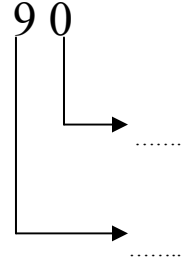
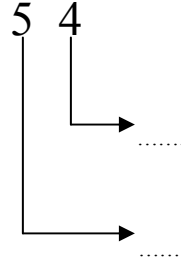
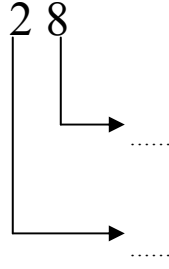
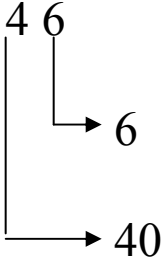
Onlar	Birler	Onlar	Birler	O	B	O	B
...35.....		
.....otuz beş.....		

2) Aşağıda verilen doğal sayıları örnekteki gibi abaküste göstererek okunuşlarını yazınız.

Onlar Bas.	Birler Bas.	Onlar Bas.	Birler Bas.	Onlar Bas.	Birler Bas.
...13..		...24....		...56....	
.....On üç.....		

Onlar Bas.	Birler Bas.	Onlar Bas.	Birler Bas.	Onlar Bas.	Birler Bas.
...70....		...61....		...32....	
.....		

3. Aşağıdaki doğal sayılardaki rakamların **basamak değerlerini** örnekteki gibi yazınız.



4. Aşağıda basamak değeri verilen doğal sayıları rakamlarla yazınız.

Onlar basamağındaki rakamın basamak değeri: 50 }
Birler basamağındaki rakamın basamak değeri: 6 } Sayı: 56

Birler basamağındaki rakamın basamak değeri: 4 }
Onlar basamağındaki rakamın basamak değeri: 60 } Sayı:

Onlar basamağındaki rakamın basamak değeri: 90 }
Birler basamağındaki rakamın basamak değeri: 2 } Sayı:

Birler basamağındaki rakamın basamak değeri: 8 }
Onlar basamağındaki rakamın basamak değeri: 20 } Sayı:

Onlar basamağındaki rakamın basamak değeri: 40 }
Birler basamağındaki rakamın basamak değeri: 1 } Sayı: