



ADI-SOYADI:

## Kesirler-2

2.SINIF  
MATEMATİK

1. Aşağıdaki yarım domateslerden kaç tane bütün domates oluşur?



- A) 2  
B) 3  
C) 4

2. Aşağıdaki yarım portakallardan kaç tane bütün portakal oluşur?



- A) 2  
B) 3  
C) 4

3. Aşağıdaki bütün pastalardan kaç tane yarım pasta oluşur?



- A) 10  
B) 13  
C) 14

4. 5 tane bütün ekmekten kaç tane çeyrek ekmek elde edebiliriz?




- A) 10  
B) 20  
C) 14

5. 4 tane bütün karpuzdan kaç tane çeyrek karpuz kesebiliriz?



- A) 8  
B) 14  
C) 16

6. 4 tane yarım silgi kaç tane bütün silgi eder?



- A) 8  
B) 2  
C) 5

7- Aşağıdaki noktalı yerleri uygun kelimelerle tamamlayınız.

Bir bütün , 2 eş parçaya ayrılırsa bu parçaların her birine ..... denir.

2 yarım bir ..... eder.

Bir bütün 4 eş parçaya ayrılırsa bu parçalardan her birine ..... denir.

4 tane çeyrek , bir ..... eder.


Bir bütünün içinde ..... tane yarım vardır.

Bir bütünün içerisinde ..... tane çeyrek vardır.


7. Aşağıdaki şekillerin altına **bütün**, **yarım**, **çeyrek** kelimelerinden uygun olanı yazınız.




.....




.....




.....



.....



.....



.....