

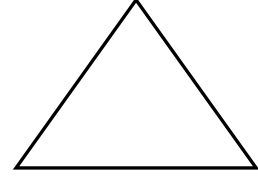


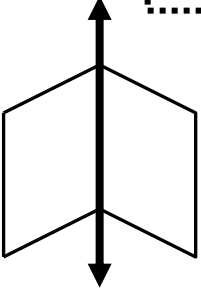


ADI-SOYADI:

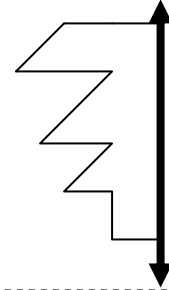
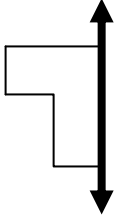
SİMETRİ- Simetrik şekiller

2.SINIF
MATEMATİK

Aşağıdaki şekillerin simetri doğrularını örnekteki gibi çizerek şekilleri iki eş parçaya ayırınız.



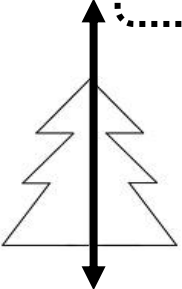
Aşağıdaki yarım parçaların simetriğini çiziniz.



Aşağıdaki harflerden hangileri iki eş parçaya ayrılmamıştır?
Daire içine alınız.



Aşağıdaki resimleri örnekteki gibi çizerek iki eş parçaya ayırınız.



Veli:.....

Öğretmen:.....