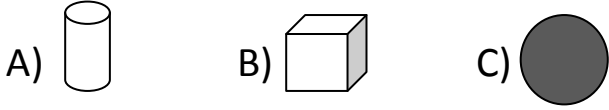


## 2.SINIF MATEMATİK DEĞERLENDİRME

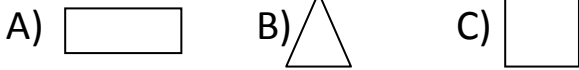
1)Aşağıdakilerden hangisi **küptür**?



2) Aşağıdakilerden hangisinin köşesi ve ayrıtı yoktur?

A) Koni B) Kare C) Dikdörtgen

3) Aşağıdakilerden hangisi **karedir**?



4) **Tablo:** Sınıfımızda en çok sevilen oyuncaklar

Oyuncaklar	Bebek	Araba	Uçak	Tren
Öğrenci sayısı	12	7	5	8

Yukarıdaki tabloya göre aşağıdaki soruları cevaplayınız.

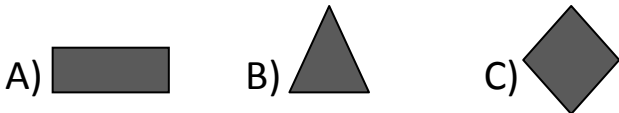
a)Tabloya göre en sevilen oyuncak hangisidir?

Yanıt:.....

b) Tabloya göre en az sevilen oyuncak hangisidir?

Yanıt: .....

5) Aşağıdakilerden hangisi **üçgensel** bölgedir?



6) Aşağıdakilerden hangisi standart uzunluk ölçme birimlerinden değildir?

A) Kulaç B) Metre C)Santimetre

7) Arzu ile Mete Türkçe kitabının boyunu ölçüyorlar. Hangi ölçme birimini kullanırlarsa ölçümleri aynı olur?

A)Santimetre B) Parmak C) Karış

8) Aşağıdaki cümleleri okuyunuz. Cümleler doğruysa noktalı yerlere "D" , yanlışsa "Y" yazınız.

- a)( )Topun köşesi ve ayrıtı yoktur.  
b)( )**Metre** standart olmayan ölçme birimlerindendir.  
c)( ) Üçgenin üç ayrıtı, üç köşesi vardır.  
d)( ) **Santimetre** standart ölçme birimlerindendir.  
e)( ) İki eş parçaya ayrılabilen nesneler ve şekiller **simetrik**dir.


9) Akrep 3 ile 4 arasında, yelkovan 6'nın üzerindeyken saat kaç gösterir?

A) Altı buçuk B) Dört buçuk  
C) Üç buçuk

10) Gün ışığından daha fazla yararlanmak için yaz saati uygulamasında saatler 1 saat ileri alınır. Saat 09.00'da saatini yaz saati uygulamasına göre ayarlayan Berkant'ın saati kaç gösterir?

A) 10.00 B) 08.00 C) 07.00

11) 35'ten başlayarak geriye beşer beşer sayınız. Aşağıdaki boşlukları doldurunuz.






7 9 11 13 ? 17 19

12) Yukarıdaki sayılar bir kurala göre dizilmiştir. ? yerine hangi sayı yazılmalıdır?

A) 14 B) 15 C) 16



13) Yukarıda verilen örüntüyü inceleyiniz. Örüntü sonundaki noktalı yere hangi şekil gelmelidir?

A)  B)  C) 

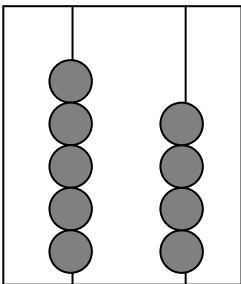
14) İki basamaklı en büyük doğal sayıyı yazınız

Cevap:.....

15) İki basamaklı en küçük doğal sayıyı yazınız.

Cevap: .....

Onluk Birlik



16) Yukarıdaki abaküsteki boncukların gösterdiği sayı kaçtır? Cevap: .....


17) Yirmi sekizinci ,sıra sayısının yazılışı hangisidir?

A) .28 B) 28 – C) 28.

18) Ahmet 8 yaşındadır. Ayça ise Ahmet'ten 2 yaş büyüktür. İkisnin yaşları toplamı kaçtır?

A) 10 B) 18 C) 20

19) Aşağıdakilerden hangi şeklin boyalı bölümü çeyreği göstermektedir?



20) Aşağıdakilerden hangisi bir düzineyi göstermektedir?

