



ETKİNLİK
1

Öğrenme Alanı: Sayılar

Alt Öğrenme Alanı: Geometrik cisimler ve şekiller

Tarih :

Süre :



1. Aşağıdaki varlıklardan küreye benzeyeni işaretleyiniz.



☐

☐

☐

2. Aşağıdaki varlıklardan silindire benzeyeni işaretleyiniz.


☐

☐

☐

3. Aşağıdaki varlıklardan dikdörtgenler prizmasına benzeyeni işaretleyiniz.


☐

☐

☐


4. Aşağıdaki varlıklardan kare prizmaya benzeyeni işaretleyiniz.


☐

☐

☐

5. Aşağıdaki varlıklardan üçgen prizmaya benzeyeni işaretleyiniz.


☐

☐

☐


ETKİNLİK
2

Öğrenme Alanı: Sayılar

Alt Öğrenme Alanı: Geometrik cisimler ve şekiller

Tarih :

Süre :



1. Aşağıdaki cisimlerden hangisinin köşesi yoktur? İşaretleyiniz.


☐

☐

☐

☐

2. Aşağıdaki cisimlerden hangisinin ayırıtı yoktur? İşaretleyiniz.


☐

☐

☐

☐

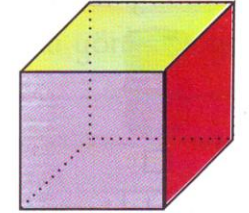
3. Aşağıdaki geometrik cisimlerin adlarını altlarına yazınız.



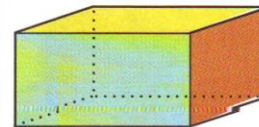
.....



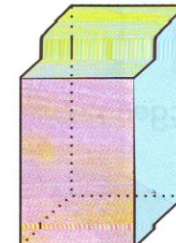
.....



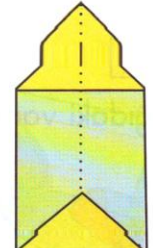
.....



.....



.....



.....



ETKİNLİK
3

Öğrenme Alanı: Sayılar

Alt Öğrenme Alanı: Geometrik cisimler ve şekiller

Tarih :

Süre :



✿ Küreye benzeyen üç varlık adı yazınız.

a. b. c.

✿ Silindire benzeyen üç varlık adı yazınız.

a. b. c.

✿ Küpe benzeyen üç varlık adı yazınız.

a. b. c.

✿ Küp ile dikdörtgenler prizmasının benzerlikleri nelerdir? Yazınız.

.....

.....

.....

✿ Küp ile dikdörtgenler prizmasının farklılıkları nelerdir? Yazınız.

.....

.....

.....

✿ Küp ile kare prizmanın benzerliklerini yazınız.

.....

.....

.....

✿ Küp ile kare prizmanın farklılıklarını yazınız.

.....

.....

.....

✿ Dikdörtgen prizması ile kare prizmanın benzer ve farklı yönlerini tartışınız.

ETKİNLİK
4

GEOMETRİK CİSİMLERİ TANIYALIM

Başta verilen geometrik cisimleri benzeyenleriyle eşleştiriniz.

