

O-2



MİLLÎ EĞİTİM BAKANLIĞI
ÖLÇME, DEĞERLENDİRME VE SINAV HİZMETLERİ
GENEL MÜDÜRLÜĞÜ

T

AÇIK ÖĞRETİM ORTAOKULU
2015-2016 ÖĞRETİM YILI 3. DÖNEM SINAVI
2. OTURUM: 12 HAZİRAN 2016 Saat: 14.00

<u>DERSLER</u>	<u>SAYFA</u>	<u>DERSLER</u>	<u>SAYFA</u>
(504) SOSYAL BİLGİLER – 5	2	(704) SOSYAL BİLGİLER – 7	21
(507) İNGİLİZCE – 5	4	(707) İNGİLİZCE – 7	23
(507) ALMANCA – 5	6	(707) ALMANCA – 7	24
(507) FRANSIZCA – 5	8	(707) FRANSIZCA – 7	26
(508) DİN KÜL. VE AHLAK BİLGİSİ – 5	10	(708) DİN KÜL. VE AHLAK BİLGİSİ – 7	28
(601) TÜRKÇE – 6	12	(801) TÜRKÇE – 8	30
(602) MATEMATİK – 6	15	(802) MATEMATİK – 8	33
(603) FEN VE TEKNOLOJİ – 6	18	(803) FEN VE TEKNOLOJİ – 8	36

ADAYLARIN DİKKATİNE!

- Her ders için **20** soru bulunmaktadır. Bu oturumda **150** dakikalık cevaplama süreniz vardır. Sınav başladıktan sonra ilk **30** dakika dolmadan dışarı çıkmayınız.
- Sınav sırasında sözlük, hesap cetveli veya makinesi, çağrı cihazı, cep telefonu, telsiz, radyo gibi elektronik iletişim araçlarını yanınızda bulundurmayınız. Bu araçları kullanmanız ve kopya çekmeye teşebbüs etmeniz hâlinde sınavınız geçersiz sayılacaktır.
- Başvuru şartlarını taşımadığınız hâlde sınava girmeniz, kopya çekmeniz, başka adayın sınav evrakını kullanmanız, geçerli kimlik belgenizi ve sınav giriş belgenizi ibraz edemediğiniz durumlarda sınavınız geçersiz sayılacaktır.
- Sınavın değerlendirilmesi aşamasında, bilgisayar ortamında yapılan kopya analizinde ikili veya toplu kopya tespiti hâlinde sınavınız geçersiz sayılacaktır.

CEVAP KÂĞIDI VE SORU KİTAPÇIĞI İLE İLGİLİ AÇIKLAMALAR

- Cevap kâğıdınızdaki bilgilerin doğruluğunu kontrol ediniz ve cevap kâğıdınızı mürekkepli kalemle imzalayınız.
- Cevap kâğıdı üzerinde kodlamalarınızı kurşun kalemle yapınız.
- Değiştirmek istediğiniz bir cevabı, yumuşak silgiyle cevap kâğıdını örselemeden temizce siliniz ve yeni cevabınızı kodlayınız.
- Soru kitapçığının sayfalarını kontrol ediniz, baskı hatası var ise değiştirilmesini sağlayınız.
- Soruların çözümü için size ayrıca boş kâğıt verilmeyecektir. Soru kitapçığının içindeki boş alanları soru çözümleri için kullanabilirsiniz.
- Her sorunun dört seçeneğinden sadece biri doğrudur. Doğru seçeneği, cevap kâğıdınızın ilgili sütununa soru numarasını dikkate alarak yuvarlağın dışına taşırmadan kodlayınız. **Soru kitapçığı üzerinde yapılan cevaplandırmalar dikkate alınmayacaktır.**
- Cevaplamaya istediğiniz dersin sorusundan başlayabilirsiniz. Cevabını bilmediğiniz sorular üzerinde fazla zaman kaybetmeden diğer sorulara geçiniz. Zamanınız kalırsa bu sorulara daha sonra dönebilirsiniz.
- Yanlış cevaplarınız dikkate alınmadan sadece doğru cevaplarınız üzerinden puanlama yapılacaktır.
- Soruları ve sorulara verdiğiniz cevapları, yanınızda götürmek amacıyla kaydetmeyiniz; hiçbir şekilde dışarı çıkarmayınız.
- Sınav bitiminde, soru kitapçığı ve cevap kâğıdını salon görevlilerine teslim ediniz.**

BAŞLAYINIZ DENİLMEDEN SORU KİTAPÇIĞINI AÇMAYINIZ.

2. OTURUM

(504) SOSYAL BİLGİLER – 5

1. Aşağıdaki Atatürk ilkelerinden hangisi inançlara, örf ve adetlere saygılı ve hoşgörülü olmayı öngörür?

A) Laiklik B) Halkçılık
C) Devletçilik D) Milliyetçilik

2. Aşağıdakilerden hangisi çocuk haklarının korunması konusunda çalışmalar yapan kurumlardan biri değildir?

A) Millî Eğitim Bakanlığı
B) Birleşmiş Milletler
C) TEMA Vakfı
D) UNICEF

3. Üyesi olduğumuz gruplarda üstlendiğimiz rollerden bazıları uzun süreli, bazıları da kısa süreli olabilir.

Aşağıdaki rollerimizden hangisi uzun süreli bir rol değildir?

A) İzcilik B) Ablalık
C) Annelik D) Terzilik

4. Ülkemizde yapılan milletvekili seçimleri cumhuriyetin aşağıdaki niteliklerinden hangisiyle ilişkilendirilebilir?

A) Laik Devlet
B) Sosyal Devlet
C) Hukuk Devleti
D) Demokratik Devlet

5. I. Halkın yaşamından uzaktır.
II. Hepsinin bir hikâyesi vardır.
III. Söz yazarları bellidir.
IV. Yaşatanların başında âşıklar ve ozanlar gelir.

Verilenlerden hangileri türkülerimizin özelliklerindendir?

A) Yalnız IV B) II ve IV
C) I, II ve III D) I, II, III ve IV

6. “Bugünün gereklerinden biri de kadınlarımızın her hususta yükselmelerini temindir.”

ATATÜRK

Atatürk’ün bu sözünü, aşağıdaki inkılaplardan hangisiyle ilişkilendirebiliriz?

A) Kabotaj Kanunu’yla
B) Modern çiftliklerin kurulmasıyla
C) Türk Medeni Kanunu’nun çıkarılmasıyla
D) Uluslararası ölçü birimlerinin kabul edilmesiyle

7. • En önemli akarsuları Kızılırmak ve Sakarya’dır.
• Yazlar sıcak ve kurak, kışlar kar yağışlı ve soğuk geçer.
• Erciyes, Karacadağ, Hasan Dağı gibi sönmüş volkanik dağlara sahiptir.
• Bölgenin önemli gölleri arasında Akşehir, Eber ve Seyfe gelir.
• Bitki örtüsü bozkır olan bölgenin önemli platoları da Uzunyayla ve Bozok’tur.

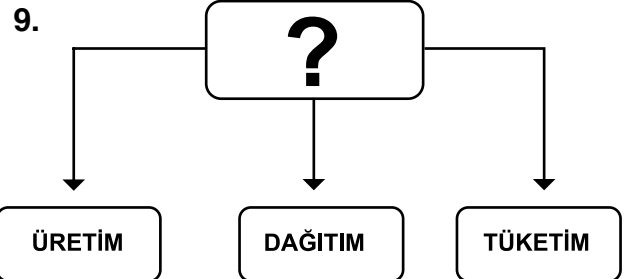
Bazı coğrafi özellikleri verilerek tanıtmaya çalışılan bölge aşağıdakilerden hangisidir?

A) İç Anadolu B) Karadeniz
C) Doğu Anadolu D) Güneydoğu Anadolu

8. I. Ormanları korumak
II. Eğimli arazileri ağaçlandırmak
III. Tarlaları genişletmek için ağaç kesmek
IV. Eğimli arazileri enine sürmek

Yukarıdakilerden hangileri erozyonu önlemek için alınabilecek tedbirlerdendir?

A) Yalnız I B) II ve III
C) I, II ve IV D) I, II, III ve IV



Şemada soru işareti (?) olan yere aşağıdakilerden hangisi yazılmalıdır?

A) Maden B) Ticaret
C) Enerji Kaynakları D) Ekonomik Faaliyetler

2. OTURUM

10. Baharda yeşerip çiçek açan yamaçlarda, çam ormanlarının ve meyve bahçelerinin bulunduğu yerlerde hangi tür hayvan yetiştiriciliği yapılmaktadır?

- A) Arıcılık
- B) Balıkçılık
- C) Büyükbaş hayvancılığı
- D) Küçükbaş hayvancılığı

11. • En çok Karadeniz Bölgesi'nde yetiştirilir.
• Pasta, çikolata ve yağ sanayisinde ham madde olarak kullanılır.
• Kuruyemiş olarak tüketilir.

Yukarıda hangi ürün tanıtılmaktadır?

- A) Çay
- B) Fındık
- C) Tütün
- D) Şeker Pancarı

12. Patent almaya kimler başvurabilir?

- A) Dul ve yetimler
- B) Öğretmenler
- C) Siyasi partililer
- D) Buluş yapanlar

13. Aşağıdakilerden hangisi, toplumun ihtiyaçlarını karşılamak için kurulan kurumlardan değildir?

- A) Öğrenci kulüpleri
- B) Özel kurumlar
- C) Resmî kurumlar
- D) Sivil Toplum Örgütleri

14. Atatürk'ün ülke sorunlarını çözmede bilimi kılavuz aldığına, aşağıdakilerden hangisi örnek olarak gösterilemez?

- A) Balıkçılık Enstitüsünü açması
- B) Okuma yazma seferberliği başlatması
- C) Tekâlifimillîye Emirleri'ni yayımlaması
- D) Dil ve Tarih-Coğrafya Fakültesinin kurması

15. Aşağıdaki illerin hangisinden ülkeler arası deniz ulaşımı yapılamaz?

- A) İzmir
- B) Burdur
- C) Mersin
- D) Çanakkale

16. Aşağıdakilerden hangisi bir kişinin yasalara uymadığında alabileceği cezalardan biridir?

- A) Kınama
- B) Dışlama
- C) Ayıplama
- D) Mahkûm olma

17. “Her devletin bağımsızlığını gösteren bazı sembolleri vardır. Bunlar şunlardır: - - - -”.

Verilen cümledeki boşluğa aşağıdakilerden hangisini yazılamaz?

- A) Bayrak
- B) Başkent
- C) Millî marş
- D) Mahkemeler

18. Aşağıdakilerden hangisi Bakanlar Kurulu üyesidir?

- A) Genelkurmay Başkanı
- B) Başbakan Yardımcıları
- C) Emniyet Genel Müdürü
- D) Diyanet İşleri Başkanı

19. “Halkın ortak kullandığı kapalı alanlarda sigara ve tütün ürünleri kullanmak yasaklanmıştır.”

Bu düzenlemeyi yapma görevi aşağıdaki kurumlardan hangisine aittir?

- A) İl Millî Eğitim Müdürlüklerine
- B) Anayasa Mahkemesine
- C) Türk Dil Kurumuna
- D) TBMM'ye

20. Aşağıdakilerden hangisi valinin görev ve sorumluluklarından biri değildir?


- A) Bakanlar Kuruluna başkanlık etmek
- B) Köy idarelerinin çalışmalarını denetlemek
- C) İl İdare Kurulu çalışmalarına başkanlık etmek
- D) Bayram törenlerinde halkın bayramını kutlamak

2. OTURUM

(507) İNGİLİZCE – 5

1-20. sorularda boş bırakılan yere uygun gelen kelime ya da ifadeyi işaretleyiniz.

1.



It is - - - - .

- A) twenty past eight B) a quarter to eight
C) half past eight D) eight o'clock

2.



A: What are they doing now?

B: - - - - .

- A) They are sleeping
B) They are taking photos
C) They are getting tickets
D) They are feeding the animals

3. - - - - , February, March, April.

- A) September B) November
C) August D) January

4.



He has a - - - - .

- A) stomachache B) backache
C) fever D) cough

5.



Özgür is - - - - .

- A) watering the vegetables
B) collecting the eggs
C) cleaning the barn
D) milking the cows

6. Kate : I have a stomachache and I feel terrible.

Teacher : You should - - - - .

- A) go home and rest
B) brush your teeth
C) eat chocolate
D) stay outside

7. A: - - - - you like playing football?

B: Yes, I - - - - .

- A) Do / does B) Do / do
C) Does / do D) Does / do

8. A: What time is Selim's birthday party?

B: - - - - .

- A) Ahmet and James B) On Sunday
C) At 9 pm D) At home

2. OTURUM

9.



A: What is your favourite class?

B: - - - - .

- A) Physical Education B) Social Studies
C) Music D) Science

10. **A: - - - - ?**

B: English.

- A) What are you doing
B) Where are you from
C) What nationality are you
D) Where is the birthday party

11.

Name	Jack
Nationality	German
- - - -	Germany

- A) Language B) Country
C) Hobby D) Job

12. **A: - - - - ?**

B: That sounds great.

- A) What is the movie about
B) How about watching TV
C) Can you play soccer
D) Do you like fishing

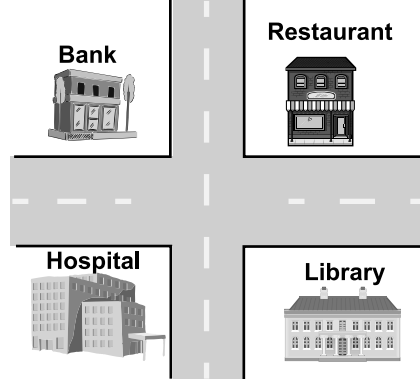
13.



They are playing - - - - .

- A) dodgeball B) football
C) hopscotch D) hide and seek

14.



A: Where is the restaurant?

B: It is - - - - the library.

- A) next to B) between
C) opposite D) under

15. **A: - - - - is your favourite cartoon character?**

B: Keloğlan.

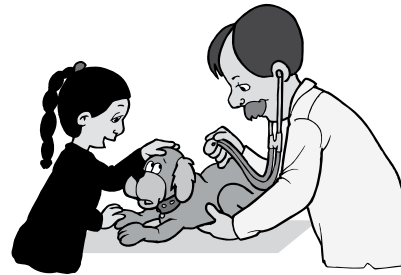
- A) What time B) Which one
C) Where D) When

16. **A: Let's watch a movie together.**

B: - - - - . I must study.

- A) Sure B) Great
C) I'm sorry D) Get well soon

17.



The dog is ill and the - - - - is examining it.

- A) police officer B) teacher
C) student D) vet

18. **A: Can Paul go to school tomorrow?**

B: - - - - . He feels hot and tired.

- A) Sure, he likes Maths
B) I'm afraid he can't
C) Of course he can
D) He is fine today

2. OTURUM

19. We dye eggs and play games on the - - - - .

- A) Easter B) Christmas
C) Children's Day D) Chinese New Year

20.



It is - - - - .

- A) Easter B) Hıdırellez
C) Christmas D) Halloween

(507) ALMANCA – 5

1-16. sorularda boş bırakılan yere uygun gelen kelime ya da ifadeyi işaretleyiniz.

1. April, - - - - , Juni

- A) März B) Mai C) Juli D) Februar

2. - - - - Frau, - - - - Kind, - - - - Mann


- A) der, die, das B) das, der, die
C) die, das, der D) die, der, das

3. A: Was trinkst du?

B: Ich - - - - ein Glas Milch.

- A) trinke B) trinkt
C) trinkst D) trinken

4.



Der Vogel ist - - - - dem Baum.

- A) im B) unter C) neben D) auf

5. Kemal : Was machst du Sibel?

Sibel : Ich - - - - ein Bild.

- A) malen B) malt C) male D) malst

6. Ich gehe - - - - 15 Uhr Tennis spielen.

- A) am B) um C) bei D) im

2. OTURUM

7. Der Junge hat - - - - Haare.


- A) kurze B) lang C) klein D) groß

8. Peter : Hallo Frank! - - - - gehen wir Fußball spielen?

Frank : Am Samstag.

- A) Wo B) Wie C) Wann D) Wohin

9.



A: Wie spät ist es?

B: Es ist - - - - .

- A) sieben Uhr B) sechs Uhr
C) acht Uhr D) neun Uhr


10. Eine Giraffe hat - - - - Beine.

- A) schön B) kurz C) lange D) groß

11. Ein - - - - arbeitet im Krankenhaus.

- A) Arzt B) Lehrer
C) Busfahrer D) Pilot

12.



Es ist - - - - in Izmir.

- A) regnet B) schneit
C) bewölkt D) sonnig

13. Wir laufen in der - - - - .

- A) Kino B) Sporthalle
C) Theater D) Badezimmer

14. Meine Hand tut weh. Ich kann nicht - - - - .

- A) lesen B) trinke
C) schreiben D) spiele

15. Ahmet hat - - - - neu- - - - Hose.

- A) ein / -es B) eine / -en
C) ein / -er D) eine / -e

16. A: Entschuldigung! - - - - ist der Supermarkt?
B: In der Bahnhofstrasse.

- A) Wo B) Wer C) Was D) Wie

17. Aşağıdaki kelimeler ile anlamlı bir cümle oluşturunuz.

<u>Brief</u>	<u>Serpil</u>	<u>einen</u>	<u>schreibt</u>
1	2	3	4


- A) 1 / 2 / 3 / 4 B) 2 / 4 / 3 / 1
C) 4 / 3 / 2 / 1 D) 3 / 4 / 1 / 2

18. Aşağıdakilerden hangisi fiil değildir?

- A) schreiben B) blau
C) trinken D) essen

2. OTURUM

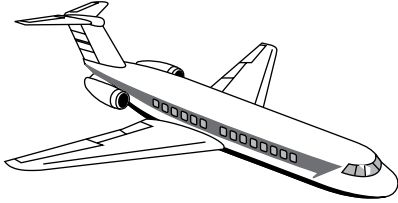
19.



Wie heit der Ort?

- A) Kino B) Schule
C) Bahnhof D) Spielplatz

20.



Was ist das?

- A) Auto B) Lastwagen
C) Zug D) Flugzeug

(507) FRANSIZCA – 5

1-12. sorularda bo bırakılan yere uygun gelen kelime ya da ifadeyi iaretleyiniz.

1. ----- s'appellent Erkan et Yiit .

- A) Tu B) Elles C) Ils D) Je

2. A: Vous avez quel ge?

B: -----.

- A) Elle est belge B) J'ai trente ans
C) C'est un voisin D) Il est avocat

3. A: ----- a va?

B: Trs bien, merci. Et toi?

- A) Comment B) Pourquoi
C) Quelle D) Parce que

4. A: -----?

B: Elle est espagnole.

- A) Elle a quel ge
B) O habite-t-elle
C) Quelle est ton adresse
D) Quelle est sa nationalit

5. İrem et Burak ----- anglais et un peu allemand.

- A) parlent B) vais
C) vont D) parlez

6. Diana et moi sommes anglais. Nous -----  Londres.

- A) habites B) habitez
C) habitent D) habitons

7. A: O est-ce qu'elle a mal?

B : Elle a mal ----- ventre.

- A)  la B) aux C) au D) 

2. OTURUM

8. Nicole : Tu as des chaussures rouges?
Sandra : Non, je n'ai pas - - - - chaussures rouges.

A) le B) de C) des D) la

9. Les Schmidt habitent - - - - Berlin.

A) aux B) à C) en D) au

10. A: - - - -?
B: C'est un garçon.

A) Quel temps fait-il B) C'est quoi
C) Comment D) Qui est-ce

11. A: C'est quoi?
B: C'est - - - - .

A) un bébé B) un homme
C) une trousse D) une jeune fille

12. M. Lafont est policier, il travaille - - - - .

A) dans une librairie
B) dans une pâtisserie
C) dans une pharmacie
D) dans un commissariat de police

13. Aşağıdakilerden hangisi "90" sayısının doğru yazılışıdır?


A) Quatre-vingt-dix B) Soixante-dix
C) Soixante D) Quatre-vingts

14. Aşağıdaki rakamlardan hangisinin yazılışı yanlış verilmiştir?

A) 2-deux B) 4-quatre
C) 6-dix D) 9-neuf

15 - 20.soruları resimleri dikkate alarak cevaplayınız.

15.



- A) Il est dix heures.
B) Il est dix heures sept.
C) Il est neuf heures et quart.
D) Il est neuf heures et demie.

16.



- - - - à Londres.

- A) Il y a du vent B) Il fait chaud
C) Il neige D) Il y a du soleil

17.



Le chien dort - - - - la porte .

- A) sous B) derrière
C) entre D) devant


2. OTURUM

18.



- A) Il y a du vent. B) Il fait du soleil.
C) Il neige. D) Il pleut.

19.



- A) Ils font du judo.
B) Elles dessinent.
C) Ils font du vélo.
D) Elles font de l'athlétisme.

20.



Il est - - - .

- A) dentiste B) pompier
C) serveuse D) pharmacien

(508) DİN KÜL. VE AHLAK BİLGİSİ – 5

1. “Hakkıdır hür yaşamış bayrağımın hürriyet.”
(Mehmet Akif Ersoy)

Bu mısra da aşağıdakilerden hangisi vurgulanmıştır?

- A) Bayrağımız bağımsızlığımızın sembolüdür.
B) Haklarımızı her zaman bilmek önemlidir.
C) Hürriyet her ülke için önemlidir.
D) Bayraklara saygı gösterilmelidir.

2. Aşağıdakilerden hangisi iyilik olarak nitelendirilemez?

- A) Güler yüzlü davranmak
B) Fakirlere gizlice yardım etmek
C) Hasta arkadaşımızı ziyaret etmek
D) Birinin kusurunu başkasına anlatmak

3. Aşağıdakilerden hangisi evrendeki düzen ve uyuma örnek oluşturmaz?

- A) Mevsimlerin oluşumu
B) Gezegenlerin dizilişi
C) Yağmurun yağması
D) Havanın kirlenmesi

4. “Bastığın yerleri ‘toprak!’ diyerek geçme, tanı:
Düşün altındaki binlerce kefensiz yatanı.”
(Mehmet Akif Ersoy)

Bu mısralarda aşağıdakilerden hangisi anlatılmak istenmiştir?

- A) Bu toprakları vatan yapmak için çok canlar verilmiştir.
B) Toprağı kutsal kılan, onun bereketli oluşudur.
C) Gaziler vatan toprağının kıymetini bilir.
D) Ölümlere kefen giydirilmesi gerekir.

2. OTURUM

5. “Bir baba evladına iyi bir terbiyeden daha güzel bir miras bırakamaz.”
Hz. Muhammed (sav.) bu hadisinde aşağıdaki mesajlardan hangisini vermiştir?

A) Çocuklara gelir getirecek miras bırakılmalıdır.
B) Soyun devamı için çocuk sahibi olunmalıdır.
C) Çocuklar güzel ahlaklı yetiştirilmelidir.
D) Çocuklar ana babaya saygılı olmalıdır.

6. Aşağıdakilerden hangisi Hz. Peygamberin çocuklarından biri değildir?

A) Kasım B) Meryem C) Zeynep D) Abdullah

7. Bülbülü altın kafese koymuşlar, “Ah vatanım!” demiş.

Bu atasözünde aşağıdakilerden hangisi anlatılmak istenmektedir?

A) Özgürlük ve vatan sevgisinin önemi
B) Vatan uğrunda ölünmesi gerektiği
C) Zenginliğin önemli bir değer olduğu
D) Kuşlara zarar verilmemesi gerektiği

8. “Bekâ” sıfatının anlamı aşağıdakilerden hangisidir?

A) Allah yarattıklarından hiç birine muhtaç değildir.
B) Her varlık ölümlüdür, Allah ise ölümsüzdür.
C) Allah her şeyi görür ve bilir.
D) Allah canlı ve diridir.

9. Aşağıdaki ayetlerden hangisi ibadetin davranışları güzelleştirdiğine işaret etmektedir?

A) “...Namazı kıl; muhakkak ki namaz hayâsızlıktan ve fenalıktan alıkoyar.”
(Ankebut suresi, 45. Ayet)
B) “Yetimlerin mallarını haksız olarak yiyenler şüphesiz karınlarına ancak ateş dolduruyorlar...”
(Nisa suresi, 10.ayet)
C) “Biz, elbette (zamanı gelince) yeryüzündeki her şeyi bir kuru toprak hâline getireceğiz.”
(Kehf suresi, 8. ayet)
D) “O göklerin ve yerin eşsiz yaratıcısıdır...”
(En’am suresi, 101.ayet)

10. Recep ayının yirmi yedinci gecesidir. Sevgili peygamberimiz bu gecede, Yüce Allah’ın izni ile Mekke’deki Mescid-i Haram’dan Kudüs’teki Mescid-i Akşa’ya gitmiştir. Oradan da Allah katına yükselmiştir. Beş vakit namaz da Allah tarafından bu gecede farz kılınmıştır.

Bu parçada hakkında bilgi verilen kutsal gece aşağıdakilerden hangisidir?

A) Berat B) Miraç C) Kadir D) Mevlit

11. I. Kul hüvellahu ehad,
II. Lem yelid ve lem yuled
III. Allahus samed
IV .Ve lem yekün lehu küfüven ehad.

Numaralanmış ayetlerden hangilerinin yeri değiştirilirse sure doğru yazılmış olur?

A) I ve III B) I ve IV C) II ve III D) II ve IV

12. Allah’ın doksan dokuz ismi (sıfatı) vardır. Bunlara - - - - denir.

Paragrafta boş bırakılan yere aşağıdakilerden hangisi gelmelidir?

A) Esmâ-i Hüsnâ B) Ayet-el Kürsi
C) Amentü D) İsm-i Azam

13. Aşağıdaki cümlelerden hangisi “Rabbenâ” duasında yer almaktadır?

A) Alemlerin rabbi olan Allah’a hamd olsun.
B) Tanıklık ederim ki Allah’tan başka ilah yoktur.
C) Şanı yüce ve övülmeye layık olan sensin.
D) Ey Rabbimiz! Bize dünyada ve ahirette iyilik ver.

14. “İman edip salih ameller işleyenlere gelince halkın en hayırlısı da onlardır.”
“... Allah kendilerinden hoşnut olmuş, onlar da Allah’tan hoşnut olmuşlardır...”

(Beyyine suresi,7-8.ayetler)

Bu ayetlere göre aşağıdakilerden hangisi Allah’ın hoşnut olduğu kimselerin davranışları arasında yer almaz?

A) Doğru sözlü olmak B) Yardımsever olmak
C) Dedikodu yapmak D) Sabırlı davranmak

2. OTURUM

15. “Allah yolunda öldürülenleri sakın ölümler sanma. Bilakis onlar diridirler, Rableri katında Allah’ın lütfundan, kendilerine verdiği nimetlerin sevincini yaşayarak rızıklandırılmaktadırlar.”
(Âl-i İmran suresi, 169. ayet)

Bu ayet aşağıdaki kavramlardan hangisi ile ilişkilendirilir?

- A) Şehitlik B) Gazilik
C) Yaşlılık D) Zenginlik

16. “...Allah kendisine secde eden kimsenin derecesini yükseltir...”

Bu hadiste aşağıdaki ibadetlerden hangisinin önemi vurgulanmıştır?

- A) Hac B) Oruç C) Namaz D) Zekât

17. Aşağıdakilerden hangisi sünnet kavramı içerisinde yer alır?

- A) Anaya babaya iyi davranmak
B) Teravih namazı kılmak
C) Zekât vermek
D) Oruç tutmak

18. Hz. Muhammed’in (sav.) aşağıdaki çocuklarından hangisi kendisinden sonra vefat etmiştir?

- A) Hz. Zeynep B) Hz. Rukiye
C) Hz. Fatıma D) Hz. Ümmü Gülsüm

19. Aşağıdaki ayetlerin hangisinde Allah’ın sıfatlarından birine değililmemiştir?

- A) “...Şüphesiz Allah bütün yaptıklarınızı görür.”
(Bakara suresi, 110. ayet)
B) “... O’nun benzeri hiçbir şey yoktur...”
(Şûrâ suresi, 11. ayet)
C) “Siz bir şeyi açığa vursanız da gizleseniz de, biliniz ki Allah her şeyi hakkıyla bilendir.”
(Ahzap suresi, 54. ayet)
D) “İman edip iyi işler yapanlara ne mutlu! Varılacak güzel yurt da onlar içindir.”
(Ra’d suresi, 29. ayet)

20. Camilerde imamın namaz kıldırıldığı yerin ismi aşağıdakilerden hangisidir?

- A) Minber B) Mihrap C) Hutbe D) Kâbe

(601) TÜRKÇE – 6

1. “Yer” kelimesi aşağıdaki cümlelerin hangisinde mecaz anlamıyla kullanılmıştır?

- A) Deniz kıyısında bir yere ev yapacaklar.
B) Sen benim yerimde olsan ne yapardın?
C) Böyle çorak yerde ot bitmez.
D) Bir yere izinsiz gitmek ne haddime.

2. “Ham” kelimesi aşağıdakilerin hangisinde “Oluğun altına bir sepet iri, olgun, renkli şeftali koymuşlar.” cümlesindeki “olgun” kelimesinin karşıt anlamı olarak kullanılmıştır?

- A) Ham vücutla ancak bu kadar koşabilirim.
B) Ham hayallerle kendinizi avutmaya çalışmayın.
C) Çocuklar, bahçedeki ham meyveleri toplayıp yemişler.
D) Onun ne kadar ham bir insan olduğunu yeni anladım.

3. Denizcilik tarihinin en ağır sorumluluklarından birini üstlenmişti.

“Ağır” kelimesi aşağıdaki cümlelerin hangisinde bu cümledeki anlamıyla kullanılmıştır?

- A) O kız, otuz yaşındaki bir yetişkinden daha ağır davranıyordu.
B) Kapıyı açınca odaya ağır bir koku yayıldı.
C) Cüneyt Bey sözlerini tartıyormuş gibi ağır konuşuyordu.
D) Benim işim kardeşime hep ağır geliyordu.

4. (1) Bolu il sınırlarının güneyinde bir yükselti Aladağ. (2) İl merkezine uzak sayılmaz, günümüzde bu yolları aşmak çok kolay. (3) Yollar artık daha iyi ve açık ama kış hâlâ inatçı. (4) Sonuçta Aladağ burası, zorlu kış şartlarıyla bilinen Bolu’nun çetin zirvesi.

Bu metinde numaralanmış cümlelerin hangisi anlatımı bakımından nesneldir?

- A) 1. B) 2. C) 3. D) 4.

2. OTURUM

5. Aşağıdaki cümlelerin hangisinde amaç-sonuç ilişkisi vardır?

- A) Çocukların yemek yedikleri yere gitti.
- B) Soğuktan korunmak için kalın giysilerini giydi.
- C) Yavaşça kapıya yaklaşp içeriye girdi.
- D) Gözünü bembeyaz örtüyle kaplı pencereye dikti.

6. (1) Gece, ellerimizde ayrıran bakraçlarıyla trenin gelmesini beklerdik. (2) Issız bozkır karanlığında, ışıklı saraylar gibi birden karşımızda duruveren tren vagonları bizi büyüledi. (3) Pencereden uyku içinde bir rüyadan kalkar gibi çehreler uzanırdı. (4) Sonra fersiz gözlerle etrafa bakarlardı.

Bu metinde numaralanmış cümlelerin hangisi "hayranlık" ifade etmektedir?

- A) 1. B) 2. C) 3. D) 4.

7. (1) Havada ne küçük bir esinti ne de bir ses vardı. (2) Yalnız dalgaların kıyı boyunca çıkardığı hışırtı işitiliyordu. (3) Körfezden, ıslanmış bitkilerle çürüylen ağaç kütüklerinin çıkardığı bir koku yükseliyordu. (4) Doktorun, çürük bir yumurtayı tadan biri gibi durmadan havayı kokladığını gördüm.

Bu parçada numaralanmış cümlelerin hangisinde benzetme yapılmıştır?

- A) 1. B) 2. C) 3. D) 4.

8. 1. Hava biraz ısındıktan sonra yani bir saat kadar sonra kara benzeyen bu şeyler eridi.
2. Bu olay, genellikle sonbahar ve ilkbahar aylarında gerçekleşiyormuş.
3. Meteoroloji olayları çok ilgimi çekiyor.
4. Sanki her şeyin üzeri hafifçe karla kaplıydı.
5. Bir sabah erken saatlerde gözlem yaptım.

Numaralanmış cümleler olayların oluş sırasına göre nasıl sıralanmalıdır?

- A) 3-1-2-4-5 B) 3-2-1-5-4
C) 3-4-2-5-1 D) 3-5-4-1-2

9. Karanlığa sevgiyle baktığım gece gördüm
Hâlâ o güven sevinciyle bakmakta gönlüm
Süründüğümüz bu çamur deryasından uzak
Bu yerlere uğramamış bir bahar içinde
Gerçekten cennet misali bir dünya kuracak
Gülbüz nesiller büyüyor sağlık içinde

Bu şiirin ana duygusu aşağıdakilerden hangisidir?

- A) Karamsarlık B) Özlem
C) Umut D) Korku

10. Çocukluğumda büyük bir zevkle, yutarcasına çizgi romanlar okurdum. Soğuk kış günlerinde odun sobasının çatırdayarak yandığı bir odada mindere yüzükoyun uzanıp dirseklerime yaslanırdım. Yanaklarımı avuçlarıma almış bir hâlde çizgi romanların baş döndürücü serüvenlerine dalar giderdim. Benim için mutluluk hâlâ bu görüntüde saklıdır.

Bu metnin yazarının, çocukluğunda mutlu olmasının asıl sebebi aşağıdakilerden hangisidir?

- A) Okuduğu çizgi romanlardaki maceraları hayal etmesi
B) Çizgi roman okurken rahatsız edilmemesi
C) Kitap okuduğu için ailesinin takdir etmesi
D) Çok fazla kitap okuma olanağının olması

11. Arazideki ikinci günümdü. Defalarca çalıştığım Armutlu çayırında bir gariplik vardı bugün. Tek bir hayvan görmemiştim. 2004'ün Ağustos ayıydı ve hava çok sıcaktı. Ormanın hemen kenarındaki çayırılıkta devrik bir göknaarın arkasına saklanmış, elimde fotoğraf makinem bekliyordum. Bir süre sonra ormandan köpek havlamaları gelmeye başladı. Sesler yaklaştı ve bir anda kesildi. Saatlerdir duyduğum tek sestti bu. Hiçbir gölge kıpırdamıyordu.

Bu metnin türü aşağıdakilerden hangisidir?

- A) Anı B) Söyleşi
C) Tiyatro D) Deneme

2. OTURUM

12. Kavrulmuş ve kurutulmuşlara has koyu rengiyle dikkat çeken bir helva, dövmeç. Karaçalıdan büyük ve derin bir havanda yapılıyor, dövülüyor. Sonuçta cevizler yağını salıyor, dutlar kokusunu. İkisinin de kendinden geçtiği anda dövmeç kıvamını buluyor.

Bu metinde “dövmeç”le ilgili aşağıdakilerden hangisine değinilmemiştir?

- A) Nasıl yapıldığına
B) Kıvamını nasıl aldığına
C) Ait olduğu yöreye
D) Nelerden oluştuğuna

13. Yazılan bir belgenin korunmaya ihtiyaç duyulmaya başladığı zamanı tespit etmek için yazının bulunduğu döneme gitmek gerekir. Başlangıçta kil üzerine yazılan eserler; kilden zarflara, papirüsler rulo yapılarak ağaç kovuklarına veya içi boşaltılmış kamışlara konmakta ve böylece uzun yıllar saklanmaktaydı. Yazının yazılacağı malzemenin çeşitlenmesinden sonra yazılı belgelerin daha kolay üretilebilir olmasına ihtiyaç duyulmaya başlandı.

Bu metinden aşağıdaki yargıların hangisi çıkarılamaz?

- A) Kitapların ilk dönem ağaç kovuklarında saklandığına
B) Yazılan belgelerin korunması gerektiğine
C) İlk yazılı eserlerin kil üzerine yazıldığına
D) Sonraki dönemlerde yazı yazılacak malzemelerin arttığına

14. Dünyada insanların mutlu olabilmesi için topu topu iki yol varmış. Bunlardan biri bütün istediklerini elde etmek ki şüphesiz bu fevkalade bir şeydir. İkincisi ise elde edebileceklerini istemeyi bilmektir. Birincisi pek zor, herkese nasip olmaz bir bağış olduğuna göre dünyaya böyle bir talih ile gelmeyenler, eğer akıllı iseler ikinci yoldan gitmeli imişler.

Bu metne göre aşağıdakilerden hangisine ulaşılabilir?

- A) Dünyada kendisinin akılsız olduğunu kabul eden tek bir insan yoktur.
B) Çoğumuz elde edemeyeceğimiz şeyleri istemek yüzünden üzüntülere uğruyoruz.
C) Dünyada insanlar arasında en iyi, isabetli dağıtılmış olan şey akıldır.
D) Hissemize düşen aklımıza güvenmeli ve isteyebildiğimiz kadar istemeliyiz.

15. (1) Ah ben ne kadar düşüncesizim! Başımdan geçenleri elbet bu kalemler bu defterlerle yazabilirim. (2) Bu kalemler bu defterler benim için benzersiz bir armağan belki de. (3) Ne kadar nankör ne kadar cahilce davranıyorum da bu armağanların gereksiz olduğunu düşünabiliyorum. (4) Ama kendime de haksızlık etmesem iyi olacak galiba. (5) Şu an yaşadığım şoku atlatınca bu değerli hediyelerin kıymetini anlayacağıma eminim.

Bu metindeki yazarın kendisi hakkındaki düşüncesi numaralı cümlelerin hangisinden itibaren değişmeye başlamıştır?

- A) 2. B) 3. C) 4. D) 5.

16. Aşağıdaki cümlelerin hangisinde belirtili isim tamlaması kullanılmıştır?

- A) Patika yollardan geçerek köyümüze vardık.
B) Hasta, ateşler içinde kavruluyordu.
C) Buralarda bolca akşamsefasını görebilirsin.
D) Paketin üstünde son kullanma tarihi yoktu.

17. Aşağıdakilerin hangisinde altılı çizili kelime belirtme durum eki almıştır?

- A) Yeni aldığı elbiseyi değiştirmek istiyordu.
B) Kardeşimle aynı odada kalıyorduk.
C) Diğer sokaktan gürültüler geliyordu.
D) Öğrencilerin gözünde çok değerlidir.

18. Aşağıdaki kelimelerin hangisinde kalınlık-incelik uyumu aranmaz?

- A) Dergiler B) Bakkal
C) Hissetmek D) Güzellik

19. Aşağıdaki cümlelerin hangisinde bir yazım yanlışı yoktur?

- A) Omuzunda bir ağrı varmış.
B) Sözlerime kulak vermelisin oğulum.
C) Boş sözlerle zaman kaybetmeyelim.
D) O kadar çok yemişim ki karınım hâlâ tok.

2. OTURUM

20. Maymunlarla açılan bu kitap
devekuşlarına, uğruyor, gergedanlardan sola dö-
nüyor, zebra larla koşuyor, sonra ceylanlarla zıpla-
mamızı sağlıyor.

Bu cümlede numaralanmış yerlere getirilen
virgüllerden hangisi yanlıştır?

- A) 1. B) 2. C) 3. D) 4.

(602) MATEMATİK – 6

1. Aşağıdakilerden hangisi 140 doğal sayısının
asal çarpanlarından biri değildir?

- A) 2 B) 3 C) 5 D) 7

2. Aşağıdakilerden hangisi yanlıştır?

- A) –4 ile 5 arasında üç tane negatif tam sayı
vardır.
B) –8 ile 3 arasında on tane tam sayı vardır.
C) –7 ile 2 arasında altı tane negatif tam sayı
vardır.
D) –3 ile 9 arasında dokuz tane pozitif tam sayı
vardır.

3. 1 pizzanın $\frac{1}{3}$ 'i, 2 çocuğa eşit olarak dağıtılsa
aynı şekilde 5 pizza aynı büyüklükteki parça-
larla kaç çocuğa eşit olarak dağıtılır?

- A) 30 B) 24 C) 18 D) 12

4. Aşağıdaki ondalık kesirlerden hangisinin
onlar ve binde birler basamaklarındaki rakam-
ların basamak değeri toplamı 40,004'tür?

- A) 485,403 B) 745,314
C) 4080,945 D) 6304,462

5. 50 soruluk bir sınavda 37 soruyu doğru
cevaplayan Sevgi bu soruların yüzde kaçını
doğru cevaplamıştır?

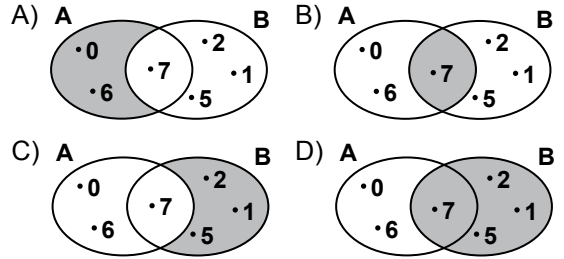
- A) 37 B) 44 C) 54 D) 74

6. Bir okul gezisine 24'ü kız olmak üzere 80 öğrenci
katılmıştır.

Buna göre kız öğrenci sayısının erkek öğrenci
sayısına oranı kaçtır?

- A) $\frac{6}{7}$ B) $\frac{4}{7}$ C) $\frac{3}{7}$ D) $\frac{1}{7}$

7. 3 ile 4 elemanları aşağıdaki boyalı bölgelerden
hangisine yerleştirilirse $A \setminus B$ kümesi değişir?



8. Bir dar açının bütünlerinin ölçüsü ile tümlerinin
ölçüsü arasındaki fark kaç derecedir?

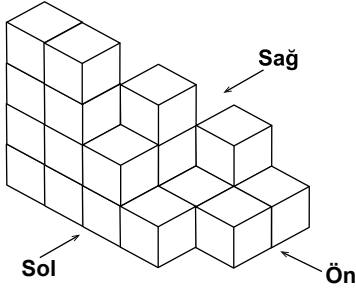
- A) 50 B) 70 C) 90 D) 110

9. $6 \times 6 \times 6 \times 6$
Yukarıdaki ifade aşağıdakilerden hangisine
eşittir?

- A) 4^6 B) 6^4 C) 6^6 D) 4×6

2. OTURUM


10.



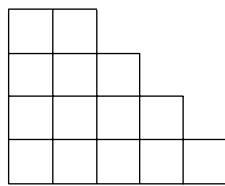
Yukarıdaki yapı 19 eş küpten oluşmuştur.

Bu yapının önden görünümü aşağıdakilerden hangisidir?

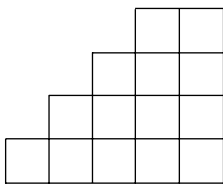
A)



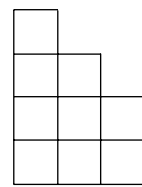
B)



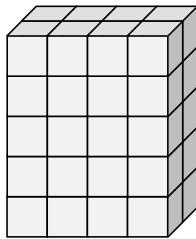
C)



D)



11.



Eş birim küplerle oluşturulan yukarıdaki dikdörtgenler prizması şeklindeki yapının hacmi kaç birimküptür?

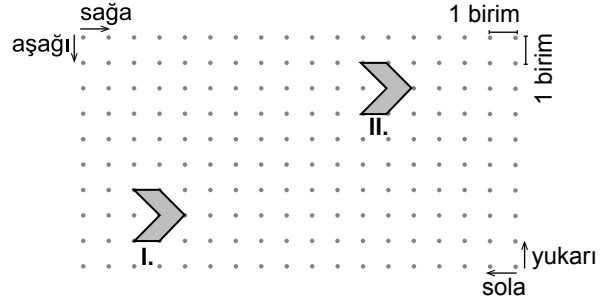
A) 40

B) 38

C) 36

D) 34

12.



Yukarıda I. konumdaki şekil ötelenerek II. konuma getirilmiştir.

Bunun için aşağıdaki hangi öteleme hareketi yapılmıştır?

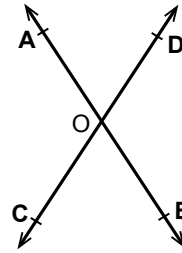
A) 9 birim sağa, 5 birim aşağı

B) 9 birim sağa, 5 birim yukarı

C) 9 birim sola, 5 birim yukarı

D) 9 birim sola, 5 birim aşağı

13.



Şekildeki AB doğrusu ile CD doğrusu O noktasında kesilmektedir.

$m(\widehat{AOD}) = 50^\circ$, $m(\widehat{COB}) = x + 10^\circ$ olduğuna göre x kaç derecedir?

A) 30

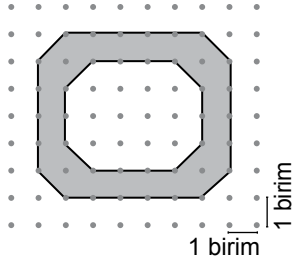
B) 40

C) 50

D) 60

2. OTURUM

14.



Şekildeki noktali kağıtta verilen boyalı bölgenin alanı kaç birimkaredir?

- A) 25 B) 23 C) 22 D) 20

15. Bir sürahideki 2,5 litre limonatanın tamamı 125 mililitrelik su bardakları ile en az kaç kişiye ikram edilebilir?

- A) 8 B) 10 C) 15 D) 20

16. Bir sayının 3 fazlasının yarısını belirten cebirsel ifade aşağıdakilerden hangisidir?

- A) $\frac{x+3}{2}$ B) $\frac{x}{2} + 3$ C) $\frac{3x+2}{2}$ D) $x + \frac{3}{2}$

17. 1'den 10'a kadar numaralandırılmış 10 tane özdeş kartın bulunduğu bir kutudan rastgele bir kart çekiliyor.

Buna göre çekilen kartın üzerindeki sayının 6'dan küçük olma olasılığı kaçtır?

- A) $\frac{1}{4}$ B) $\frac{1}{3}$ C) $\frac{1}{2}$ D) $\frac{3}{4}$

18. Aşağıdakilerden hangisi kesin bir olaya ait olasılık değeridir?

- A) 0 B) $\frac{1}{4}$ C) $\frac{1}{2}$ D) 1

19. Bir gruptaki 6 öğrencinin boyları 158 cm, 154 cm, 162 cm, 164 cm, 168 cm ve 158 cm'dir. Bu gruba bir öğrenci daha katıldığında grubun boy ortalaması 160 cm oluyor.

Katılan yeni öğrencinin boyu kaç santimetredir?

- A) 154 B) 156 C) 158 D) 160

20. 24 koli yumurta taşınırken yumurtalardan 17 tanesi kırılıyor.

Geriye 463 tane sağlam yumurta kaldığına göre taşımadan önce bir kolide kaç tane yumurta vardı?





- A) 20 B) 15 C) 10 D) 9

2. OTURUM

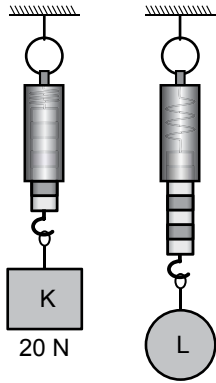
(603) FEN VE TEKNOLOJİ – 6

1. Aşağıda, hareketsiz duran özdeş cisimlere etki eden kuvvetler gösterilmiştir.

Buna göre cisimlerin hangisi hareketsiz kalmaya devam eder?

- A) 5N ←  → 10N
 B) 6N ←  → 4N
 C) $\frac{2N}{3N}$ ←  → 5N
 D) 8N ←  → 4N

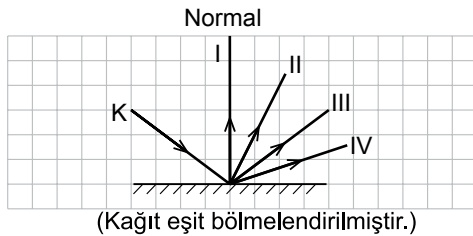
2. K ve L cisimlerinin havadaki ağırlıkları şekildeki gibi özdeş dinamometreler ile ölçülüyor.



K cisminin ağırlığı 20 N ölçüldüğüne göre L cisminin ağırlığı kaç N'dur?

- A) 10 B) 25 C) 40 D) 50

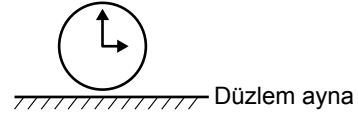
3.







Şekildeki düzlem aynaya gönderilen K ışınının aynadan yansıması numaralanmış ışıklardan hangisidir?

- A) I B) II C) III D) IV

4.



Düzlem aynanın önüne konulan saatin aynadaki görüntüsü aşağıdakilerden hangisi gibi olur?

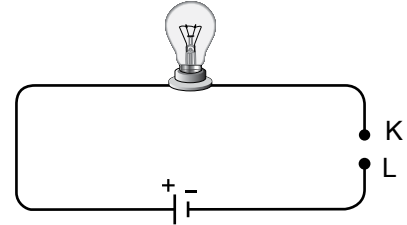
- A)  B)  C)  D) 

5. Bir öğrenci yaptığı deneyde havası boşaltılmış kapalı cam fanusun içindeki çalan saatin sesini işitememektedir.

Öğrenci, bu deneyden hangi sonuca ulaşır?

- A) Ses kapalı ortamlarda yayılmaz.
 B) Ses havasız ortamda yayılmaz.
 C) Cam yüzeyler sesi geçirmez.
 D) Saat havasız ortamda çalışmaz.

6. Şekilde basit bir elektrik devresi verilmiştir.



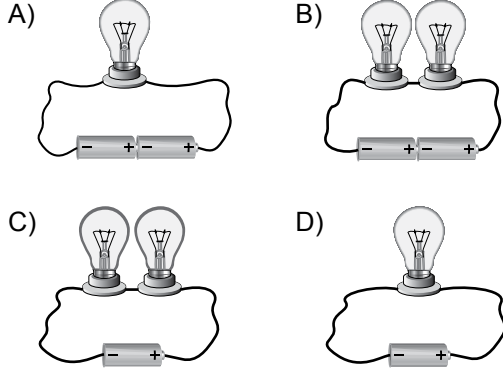
Bu devredeki ampulün ışık verebilmesi için, K – L noktaları arasında hangi cisim yerleştirilmelidir?

- A) Plastik çubuk B) Porselen kaşık
 C) Bakır tel D) Tahta çubuk

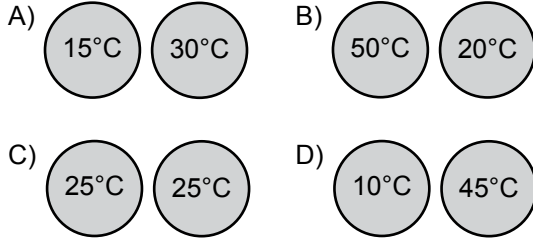
2. OTURUM

7. Özdeş teller ve özdeş ampuller kullanılarak aşağıdaki basit elektrik devreleri oluşturuluyor.

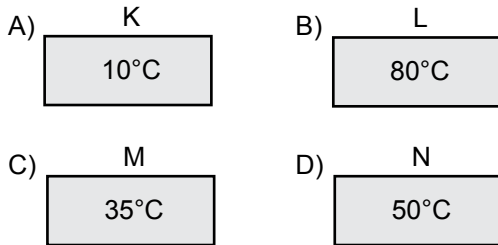
Buna göre aşağıdaki devrelerin hangisinde ampul daha parlak yanar?



8. Aşağıda sıcaklıkları verilen madde çiftleri birbirine temas ettirildiğinde hangileri arasında ısı alışverişi gerçekleşmez?



9. Sıcaklıkları farklı olan özdeş K, L, M ve N tuğlalarından hangisinin taneciklerinin titreşim hareketi en fazladır?



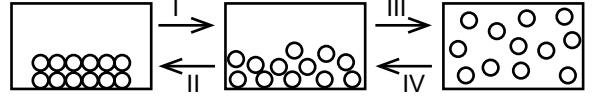
10. Aşağıdaki tabloda fiziksel ve kimyasal değişimlere örnek olaylar “✓” ile işaretlenmiştir.

Olay	Fiziksel değişim	Kimyasal değişim
I. Buzun erimesi		✓
II. Limonun küflenmesi		✓
III. Camın kırılması	✓	
IV. Yumurtanın pişirilmesi		✓

Bu sınıflandırma yapılırken hangi numaralı olay yanlış gösterilmiştir?

- A) I. B) II. C) III. D) IV.

11. Saf bir maddeye ait hâl değişim modeli verilmiştir.



Buna göre aşağıda verilen yargılardan hangisi doğrudur?

- A) I. olay sonucunda donma gerçekleşir.
 B) II. olayda maddenin düzensizliği artar.
 C) I ve III. olaylar gerçekleşirken madde çevreye ısı verir.
 D) IV. olay sonunda, maddenin tanecikleri arasındaki boşluk azalır.

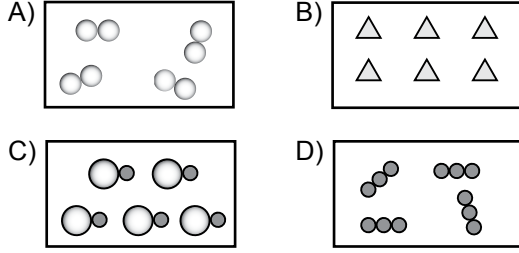
12. Yaz aylarında sıcaklığın artması ile demir yolu raylarında uzamalar görülür.

Bu durum, maddeye ait hangi özellik ile açıklanır?

- A) Erime B) Genleşme
 C) Yoğuşma D) Büzülme

2. OTURUM

13. Aşağıda tanecik modeli verilen maddelerden hangisi bir bileşiğe aittir?



14. Aşağıda verilen organellerden hangisi hem bitki hem de hayvan hücresinde bulunur?

- A) Hücre duvarı B) Sentriyol
C) Kloroplast D) Ribozom

15. Aşağıdaki canlılardan hangisi yumurtadan çıktığında ana canlıya benzemez?

- A) Serçe B) Kelebek
C) Fare D) Kertenkele

16. I. Bedensel ve ruhsal açıdan değişimler olur.
II. Büyüme ve cinsel gelişimin hızlı olduğu dönemdir.
III. Arkadaş grubu oldukça önem kazanır.

Bu özellikler insandaki hangi gelişim dönemine aittir?

- A) Çocukluk dönemi B) Okul çağı dönemi
C) Ergenlik dönemi D) Yetişkinlik dönemi

17. Aşağıdakilerden hangisi fasulye tohumunun çimlenebilmesi için gerekli olan ortam şartlarından biri değildir?

- A) Güneş ışığı B) Su
C) Uygun sıcaklık D) Oksijen

18. I. Kemiğin beslenmesini sağlama
II. Kan hücrelerini üretme
III. Kemiğin kalınlaşmasını sağlama

Yukarıda numaralanmış özelliklerden hangileri kemik zarının görevlerindendir?

- A) Yalnız I. B) I ve III.
C) II ve III. D) I, II ve III.

19. • Kanın pıhtılaşmasını sağlar.
• Çok küçük ve çekirdeksiz hücrelerdir.
• Kemik iliğinde üretilirler.

Bu bilgiler aşağıdaki yapılardan hangisine aittir?

- A) Lenf sıvısı B) Alyuvarlar
C) Akyuvarlar D) Kan pulcukları

20. Soluk alma sırasında soluk borusundan geçen havanın izlediği yol aşağıdakilerin hangisinde doğru verilmiştir?

- A) Bronş → Bronşçuk → Alveol
B) Bronşçuk → Bronş → Alveol
C) Alveol → Bronş → Bronşçuk
D) Alveol → Bronşçuk → Bronş

2. OTURUM

(704) SOSYAL BİLGİLER – 7

1. Aşağıdakilerden hangisi sözsüz iletişim öğelerinden değildir?

- A) Gözyaşı B) Mimikler
C) Etkili kelimeler D) El kol hareketleri

2. Aşağıdakilerden hangisi “tekzip etme” hakkını da içerir?

- A) Yerleşme ve seyahat hürriyeti
B) Düşünce ve kanaat hürriyeti
C) Konut dokunulmazlığı
D) Mülkiyet hakkı

3. Ülkemizde nüfusu en az olan il aşağıdakilerden hangisidir?

- A) Bayburt B) Tunceli
C) Sinop D) Rize

4. Türkiye’de ilk düzenli nüfus sayımı - - - - yılında yapılmıştır.

Verilen bilgi cümlesinin doğru olabilmesi için boş bırakılan yere, aşağıdakilerden hangisi yazılmalıdır?

- A) 1923 B) 1927
C) 1935 D) 1940

5. Yapılan nüfus sayımlarıyla ülkelerin;

- I. Eğitim durumları,
II. Kadın – erkek sayısı,
III. Nüfus artış hızı,
IV. Meslek grupları

ile ilgili bilgilerinden hangileri elde edilir?

- A) Yalnız II B) Yalnız III
C) I ve IV D) I, II, III ve IV

6. Sanayinin gelişmiş olduğu yerlerde kentsel nüfus oranı, kırsal nüfus oranından fazladır.

Aşağıdaki şehirlerden hangisi bu bilgiyle ilişkilendirilemez?

- A) Eskişehir B) İzmir
C) Bursa D) Bilecik

7. Aşağıdakilerden hangisi Türk millî eğitiminin temel amaçlarından biridir?

- A) Atatürk ilke ve inkılaplarına bağlı nesiller yetiştirmek
B) Farklı bölgelerde farklı eğitim programları uygulamak
C) İş güvencesi ve koruyucu standartları sağlamak
D) Ülke savunmasına katkıda bulunmak

8. Türkiye, Lozan Antlaşması gereğince aşağıdaki hangi ülke ile “Nüfus Mübadelesi” yapmıştır?

- A) İran B) İngiltere
C) Yunanistan D) Bulgaristan

9. 1040 tarihli Dandanakan Savaşı sonucunda yıkılma ve kurulma sürecine girmiş devletler aşağıdakilerin hangisinde doğru verilmiştir?

	Yıkılma süreci	Kurulma süreci
A)	Karahanlı	Gazne
B)	Gazne	Büyük Selçuklu
C)	Gazne	Türkiye Selçuklu
D)	Bizans	Osmanlı

10. Anadolu’da kurulan aşağıdaki ilk Türk beyliklerinden hangisi, Doğu ve Güneydoğu Anadolu’da üç kol hâlinde hüküm sürmüştür?

- A) Saltuklular B) Artuklular
C) Mengücekliler D) Danişmentliler

2. OTURUM

11. Anadolu'nun Türk yurdu olduğu, aşağıdaki Türkiye Selçuklu hükümdarlarından hangisinin döneminde tüm dünyaya kanıtlanmıştır?

- A) I. Alaeddin Keykubat
- B) I. İzzettin Keykavus
- C) II. Kılıçarslan
- D) I. Mesut

12. Haçlıların, Haçlı Seferleri'ni düzenlemekteki amaçları, kutsal kent olarak gördükleri Kudüs'ü Müslümanların elinden geri almaktı. Fakat IV. Haçlı Seferi bu amacından saparak - - - - üzerine yapılmıştır.

Verilen bilgi cümlesinin doğru olabilmesi için boş bırakılan yere, aşağıdakilerden hangisi yazılmalıdır?

- A) Moğol Devleti
- B) Eyyubi Devleti
- C) Türkiye Selçuklu Devleti
- D) Bizans İmparatorluğu

13. Aşağıdakilerden hangisi Osmanlı Devleti'nin büyümesinde etkili olan dış nedenlerden biridir?

- A) Balkanlarda mezhep çatışmalarının yaşanması
- B) Türkmenlerin ve Ahilerin desteğinin alınması
- C) Yetenekli padişahların iş başına gelmesi
- D) Merkezî otoritenin güçlü tutulması

14. Aşağıdaki savaşlardan hangisi Osmanlılarla Haçlılar arasında gerçekleşmemiştir?

- A) Sırp Sındığı
- B) I. Kosova
- C) Çirmen
- D) Ankara

15. Aşağıdakilerden hangisi Yeniçerilerle ilgili doğru bir bilgi değildir?

- A) Üç ayda bir ulufe denilen maaş alırlar.
- B) Osmanlı ordusunun yaya askerleridir.
- C) Komutanlarına Kaptanıderya denir.
- D) Evlenmeleri yasaktır.

16. Aşağıdakilerden hangisi İstanbul'un Fethi'nin dinî nedenlerindendir?

- A) Şehrin, Anadolu ve Rumeli toprakları arasında kalması nedeniyle Osmanlı toprak bütünlüğünü bozması
- B) Bizans'ın Osmanlı şehzadelerini kışkırtarak isyana teşvik etmesi
- C) Önemli kara ve deniz ticaret yolları üzerinde yer alması
- D) Fethi ve fethe katılanları öven hadislerin bulunması

17. Güneydoğu Anadolu Projesi (GAP) ile tarımda sulama yöntemine geçilerek bölgede üretimi artırılan ürün aşağıdakilerden hangisidir?

- A) Pamuk
- B) Tütün
- C) Fıstık
- D) Çay

18. Kâğıdı, mürekkebi ve barutu bulan uygarlık aşağıdakilerden hangisidir?

- A) Çin
- B) Sümer
- C) Hitit
- D) Lidya

19. Rönesans hareketleri ile Avrupa'da bilim ve teknikte ilerleme sağlanmış, skolastik düşünce yıkılmış ve yerini pozitif düşünce almıştır.

Bu gelişmeler Avrupa'nın toplumsal yaşantısında etkili olan aşağıdaki unsurlardan hangisinin etkisini azaltmıştır?

- A) Sanatseverlerin
- B) Heykeltıraşların
- C) Papaların
- D) Kralların

20. Aşağıdakilerden hangisinin çevre sorunlarına neden olduğu söylenemez?

- A) Küresel ısınma
- B) Tanker kazaları
- C) Fosil atıkların kullanılması
- D) Nadas alanlarının azaltılması

2. OTURUM

(707) İNGİLİZCE – 7

1-20. sorularda boş bırakılan yere uygun gelen kelime ya da ifadeyi işaretleyiniz.

1. My mother is washing the dishes - - - - .

- A) at the moment B) once a day
C) tomorrow D) yesterday

2. I will call you - - - - .

- A) usually B) yesterday
C) next week D) two days ago

3. The baby - - - - in the room now.

- A) are sleeping B) is sleeping
C) sleep D) slept

4. He plays tennis - - - - .

- A) sometimes B) every day
C) usually D) never

5. - - - - you always brush your teeth?

- A) Do B) Are
C) Were D) Does

6. We - - - - going to study English tomorrow.

- A) were B) will C) are D) do

7. She - - - - to the theatre three days ago.

- A) is going B) went
C) goes D) go

8. What - - - - they buy last month?

- A) were B) are C) did D) do

9. She painted the walls - - - - .

- A) yourself B) himself
C) myself D) herself

10. My father - - - - a lot in the past.

- A) is going to smoke
B) used to smoke
C) is smoking
D) will smoke

11. I - - - - use to read detective novels when I was young.

- A) didn't B) aren't
C) don't D) isn't

12. My brother speaks Turkish - - - - .

- A) quick B) good
C) slow D) well

13. Mathematics is more - - - - than History.

- A) difficult B) crowded
C) handsome D) expensive

14. A cheetah is - - - - animal in the world.

- A) fast B) faster
C) the fastest D) as fast as

2. OTURUM

15.

1.80 cm

1.70 cm



Osman

Hasan

Osman is - - - - than Hasan.

- A) older B) taller
C) shorter D) thinner

16. Mary's skirt is - - - - from Susan's skirt.

- A) as B) similar
C) the same D) different

17. A: I have got the flu.

B: You must - - - - .

- A) go to the hospital
B) brush your teeth
C) drink cold water
D) play football

18. I - - - - to drink a cup of coffee.

- A) has B) must
C) should D) would like

19. My sister - - - - swim when she was 10.

- A) could B) can
C) may D) must

20. A: Where - - - - you yesterday?

B: I was at home.

- A) is B) are C) were D) does

(707) ALMANCA – 7

1-18. sorularda boş bırakılan yere uygun gelen kelime ya da ifadeyi işaretleyiniz.

1. Oktober, - - - -, Dezember

- A) September B) November
C) August D) Januar

2. A: Was - - - - du später werden ?

B: Ich möchte Lehrer werden.

- A) willst B) bist
C) sind D) möchte

3. Der Film - - - - um 18 Uhr.

- A) ende B) beenden
C) endet D) enden

4. Wir duschen im - - - - .

- A) Wohnzimmer B) Garage
C) Küche D) Badezimmer

5. A: Hat Thomas neue Sportschuhe an?

B: Nein, er hat - - - - neue Sportschuhe an.

- A) keine B) alt
C) große D) kleine

6. A: Könnt ihr uns in Mathe helfen ?

B: Ja, wir - - - - .


- A) kann B) können
C) könnt D) kannst

7. - - - - Frau ist meine Großmutter.

- A) Mich B) Der
C) Seiner D) Diese

2. OTURUM

8.



A: Wo ist die Schule?

B: Die Schule ist - - - - der Post und dem Kino.

- A) neben B) zwischen
C) hinter D) unter

9. **A: - - - - endet deine Schule?**

B: - - - - Juni.

- A) Wo / Am B) Wer / Bei
C) Wann / Im D) Warum / Weil

10. **Zwölf Monate sind ein - - - - .**


- A) Tag B) Woche
C) Stunde D) Jahr

11. **A: Wo lebt dein Onkel?**

B: - - - - lebt in Ankara.

- A) Er B) Sie C) Es D) Wir

12.



Fatma und Klara - - - - auf dem Spielplatz.

- A) spielt B) spielen
C) spiele D) spielt

13. **A: Ist - - - - Geschenk für dich?**

B: Nein, - - - - ist für Klaus.

- A) der / das B) es / dies
C) dieses / es D) die / diese

14. **A: Wann ist deine Deutschprüfung?**

B: - - - - Mittwoch.

- A) Um B) Im C) Bei D) Am

15. **A: - - - - kommt Peter ?**

B: - - - - kommt aus Köln.

- A) Warum / Um B) Woher / Er
C) Wann / Aus D) Wie / Mit

16. **Wir fahren heute - - - - 10 Uhr - - - - Konya.**

- A) um / nach B) von / bis
C) am / zum D) nach / zu

17. **Der Zug fährt - - - - zwölf Uhr - - - - ?**

- A) der / um B) am / bis
C) um / ab D) im / zum

18. **Wie lange - - - - du mit dem Flugzeug bis Hamburg - - - - ?**

- A) seit / fliegen B) bin / fliege
C) sind / geflogen D) bist / geflogen

19.



Was ist das?

- A) Wanduhr B) Armbanduhr
C) Tasche D) Kühlschrank

20. **“trinken” fiilinin geçmiş hali (Partizip Perfekt) aşağıdakilerden hangisidir?**

- A) trank B) trinkt
C) getrunken D) trinke

2. OTURUM

(707) FRANSIZCA – 7

1-15. sorularda boş bırakılan yere uygun gelen kelime ya da ifadeyi işaretleyiniz.

1. Selin est pharmacienne, - - - - vend des médicaments.

- A) tu B) ils C) il D) elle

2. - - - - êtes- vous rentrés au bureau?

- A) À quelle heure B) Quel
C) Parce que D) Combien

3. A: Hervé a des amis italiens ?

B: Non, il n'a pas - - - - amis italiens.

- A) les B) des C) de (d') D) la

4. Mon neveu joue du piano et du violon - - - - il adore la musique.

- A) quand B) parce que (qu')
C) comment D) pourquoi

5. J'ai faim; je vais - - - - un sandwich au fromage.

- A) marcher B) manger
C) boire D) sortir

6. L'ascenseur ne marche pas, mon frère doit monter chez lui - - - -.

- A) en avion B) à moto
C) en métro D) à pied

7. Boris habite - - - - Sofia - - - - Bulgarie.

- A) en / à B) en / au
C) à / en D) à / aux

8. A: Tu connais la nouvelle directrice?

B: Oui, je - - - - connais.

- A) la B) des C) les D) le

9. A: Qu'est-ce qu'il fait dans la vie ?

B: - - - -.

- A) Il est architecte B) Elle est en avance
C) Elle est de Lille D) Il est dans sa chambre

10. Dimanche dernier, Mme et M. Dupuis sont - - - - pour le Maroc.

- A) partie B) parties
C) parti D) partis

11. En 2006, Stéphane a fait - - - - à bicyclette.

- A) le boulanger B) l'épicier
C) le tour de France D) le boucher

12. Mme Arnault : Florent, je n'ai plus de pain au chocolat, tu peux aller - - - - ?

Florent : D'accord, il faut autre chose ?

Mme Arnault : Oui, une baguette s'il te plaît.

- A) à la bibliothèque B) à la boulangerie
C) à la banque D) à la bijouterie

13. Le père de ma mère est - - - -.

- A) ma belle-mère B) mon cousin
C) mon grand-père D) ma nièce

14. A: C'est le vélo de Paul ?

B: Oui, c'est - - - - vélo.

- A) sa B) ses C) ton D) son

15. Je veux du fromage. Ça coûte - - - - le kilo ?

- A) comment B) combien
C) comme D) rien

2. OTURUM

16-20. soruları resimleri dikkate alarak cevaplayınız.


16.



Elle a - - - - et elle porte - - - - .

- A) un petit nez / une jolie robe
- B) les cheveux courts / un pantalon
- C) les yeux gris / un grand chapeau
- D) les cheveux longs / des lunettes de soleil

17.



Pascal partira cet été - - - - à Çeşme.

- A) faire de la voile
- B) faire de la boxe
- C) faire la vaisselle
- D) faire les magasins

18.



Le matin, il - - - - le bus pour aller au travail.

- A) va
- B) prend
- C) finit
- D) marche

19.



Elle est - - - - .

- A) avocat
- B) chanteuse
- C) serveur
- D) infirmière

20.



Selon la météo, il y aura - - - - la semaine prochaine à Gaziantep.

- A) de la neige
- B) du vent
- C) du soleil
- D) de la pluie

2. OTURUM

(708) DİN KÜL. VE AHLAK BİLGİSİ – 7

1. “Onlar harcamalarında israf etmezler, cimrilik de yapmazlar. Harcamalarında bu ikisi arasında orta bir yol izlerler.” (Furkan suresi, 67. ayet)

Bu ayette altı çizili bölümle anlatılmak istenen kavram aşağıdakilerden hangisidir?

- A) Tutumluluk B) Zenginlik
C) Çalışkanlık D) Yardımseverlik

2. Aşağıdakilerden hangisi hoşgörünün tanımıdır?

- A) Herkese eşit davranma
B) Sürekli sevap kazandıran sadaka
C) Farklı düşünce ve davranışları anlayışla karşılama
D) Kişinin düşünce ve davranışlarında tutarlı olması

3. “Kim içinde iyiliğe çağıran bir ses duyarsa bilsin ki o, meleğin sesidir. Hemen ona uysun ve Allah’a şükretsın. Kim içinde kötülüğe çağıran bir ses duyarsa bilsin ki o, şeytanın sesidir. Ondan uzaklaşsın ve Allah’a sığınsın.” (Hadisi şerif)

Buna göre aşağıdakilerden hangisi melek ile ilişkilendirilemez?

- A) İhtiyaç sahiplerine yardım etmeyi istemek
B) Kışın aç kalan hayvanlara yem vermeyi istemek
C) Yemeğini aç olan bir arkadaşıyla paylaşmayı istemek
D) Sınavda arkadaşının kendisinden düşük not almasını istemek

4. Alevilik - Bektaşilikte evrende bulunan her şeyin dönmesinden hareketle Allah’a olan aşk ve sevgiyi göstermek için yapılan ayine ne denir?

- A) Pervane B) Semah
C) Kudüm D) Sema

5. Dede, rehber, gözcü ve çerağcı kavramları aşağıdaki tasavvufi yorumların hangisinde yer alır?

- A) Mevlevilik B) Kadirilik
C) Alevilik D) Nakşibendilik

6. Orta Asya Türklerinin İslam’ı kabul etmesinde etkili olan mutasavvıf aşağıdakilerden hangisidir?

- A) Ahmet Yesevi
B) Mevlana Celalettin Rumî
C) Abdulkadir Geylani
D) Bahaeddin Nakşibend

7. Sema aşağıdaki tasavvufi yorumlardan hangisi ile ilişkilendirilebilir?

- A) Nakşibendilik B) Alevilik
C) Kadirilik D) Mevlevilik

8. Namaz , hac, oruç ve zekat gibi ibadetlerin nasıl ve ne zaman yapılacağının ayrıntılı bir şekilde açıklanmasına - - - - yorumlar denir.

Paragrafta boş bırakılan yere aşağıdaki kavramlardan hangisi getirilmelidir?

- A) tasavvufi B) fikhî
C) itikadî D) kelamî

9. “(Ey Muhammed!) Seni ancak âlemlere rahmet olarak gönderdik.” (Enbiya suresi, 107. ayet)

Bu ayetin Hz. Muhammed’i (sav.) aşağıdaki davranışlardan hangisine yönlendirdiği söyle-nemez?

- A) Cezalandırıcı davranmaya
B) Kötülüklere karşı uyarmaya
C) Sorunlara çözümler getirmeye
D) İyi işler yapanları müjdelemeye

2. OTURUM

10. “Kur’an okuduğun zaman, kovulmuş şeytandan Allah’a sığın. Gerçek şu ki; şeytanın, inanan ve yalnız Rablerine tevekkül eden kimseler üzerinde bir hâkimiyeti yoktur. Şeytanın hâkimiyeti, sadece onu dost edinenler ve Allah’a ortak koşanlar üzerindedir. (Nahl suresi 98-100. ayetler)

Buna göre Şeytan aşağıdakilerden hangisini etkisi altına alabilir?

- A) Kendisinden Allah’a sığınanları
- B) İman edip güzel işler yapanları
- C) Allah’a tevekkül edenleri
- D) Allah ile beraber başka tanrılara da inananları

11. İslam dini aşağıdakilerden hangisini batıl bir davranış olarak değerlendirmez?

- A) Fal bakmak
- B) Büyü yapmak
- C) Şifa için dua etmek
- D) Nazar boncuğu takmak

12. Aşağıdakilerden hangisi üç aylar olarak bilinen aylardan biri değildir?

- A) Ramazan
- B) Muharrem
- C) Recep
- D) Şâban

13. Bir kimsenin Kur’an’ı okuması ve onu dinleyen topluluğun da sessizce Kur’an’dan takip etmesine - - - - denir.

Bu tanımda boş bırakılan yere aşağıdaki kavramlardan hangisinin getirilmesi uygundur?

- A) teravih
- B) mukabele
- C) hatim
- D) tecvit

14. Aşağıdaki davranışlardan hangisi orucu bozmaz?

- A) Uyumak
- B) İlaç içmek
- C) İğne yaptırmak
- D) Bilerek yiyip içmek

15. Aşağıdaki kavramlardan hangisi sadece ramazan ayı ve oruç tutma ile ilgili değildir?

- A) Sahur
- B) İftar
- C) Fitre
- D) Sadaka

16. “...İnsanlara yol gösterici, doğrunun ve doğruyu eğriden ayırmanın açık delilleri olarak Kur’an’ın indirildiği aydır...” (Bakara suresi, 185. ayet)

Bu ayette bildirilen ay aşağıdakilerden hangisidir?

- A) Recep
- B) Şâban
- C) Ramazan
- D) Muharrem

17. Alevilik- Bektaşilikte dua aşağıdakilerden hangisi ile isimlendirilir?

- A) Gülbenk
- B) İlâhi
- C) Semah
- D) Ferraş

18. Aşağıdakilerden hangisi dört büyük melekten biridir?

- A) Münker
- B) Nekir
- C) Mikail
- D) Kiramen

19. “Üstelik biri insanın sağ tarafında, biri sol tarafında oturmuş iki alıcı melek de (onun yaptıklarını) alıp kaydetmektedir. İnsan hiçbir söz söylemez ki onun yanında (yaptıklarını) gözetleyen (ve kaydeden) hazır bir melek bulunmasın.”

(Kâf suresi 17. ve 18. ayetler)

Bu ayeti kendisine ilke edinen bir Müslümanın aşağıdaki davranışlardan hangisini yapması yanlıştır?

- A) Güzel söz söylemesi
- B) Fakirlere yardım etmesi
- C) Yalan ve gıybet gibi davranışları terk etmesi
- D) Devletin malını kendi özel işleri için kullanması

2. OTURUM

20. Aşağıdaki ayetlerden hangisi Hz. Muhammed'den (sav.) sonra peygamber gelmeyeceğini bildirmektedir?

- A) "...O, Allah'ın resulü ve nebilerin sonuncusudur..." (Ahzab suresi,40. ayet)
- B) "...Emrolunduğun gibi dosdoğru ol..." (Şurâ suresi,15.ayet)
- C) "...O'nun sözlerini değiştirecek kimse yoktur..." (En'am suresi, 115. ayet)
- D) "Biz,seni bütün insanlara ancak müjdeci olarak gönderdik..." (Sebe suresi,28.ayet)

(801) TÜRKÇE – 8

1. Hayırseverlik maskesiyle kendi çıkarlarını yürütüyor.

"Maske" kelimesi aşağıdaki cümlelerin hangisinde bu cümledeki anlamıyla kullanılmıştır?

- A) İtfaiye ekipleri yangına gaz maskelerini takıp müdahale etti.
- B) Yüzündeki yaraların iyileşmesi için yatmadan önce yüzüne maske yapardı.
- C) Azar işiteceğini bildiği için masumiyet maskesi takındı.
- D) Küçük çocuk tiyatro oyununa tavşan maskesiyle çıktı.

2. "Bu uçsuz bucaksız yolda ne kadar ilerlerseniz dönüp dolaşıp aynı yere varacaksınız." cümlesindeki altı çizili kelime grubunun cümleye kattığı anlam aşağıdakilerin hangisinde vardır?

- A) Baştan başa ormanla kaplıydı yollar.
- B) Ardı arkası kesilmeyen bir yağmur başlamıştı.
- C) Bu caddenin bir ucundan diğer ucuna kadar taş döşediler.
- D) Başı sonu olmayan bir şehirdi burası.

3. Bu deyim uzun yıllar eğitim görmüş, bir konuda derinlemesine bilgi sahibi olmuş kişiler hakkında kullanılır. Eski dönemlerde yazı yazan kişi bir hata yaptığında, diliyle serçe parmağını ıslatır ve parmağıyla hatalı kısmı silermiş. İşte bu gerçek durumdan yola çıkarak bu deyim kullanılır olmuş.

Bu metindeki açıklaması ve oluşum hikâyesi verilen deyim aşağıdakilerden hangisidir?

- A) Eline yüzüne bulaştırmak
- B) Mürekkep yalamak
- C) Mürekkebi kurumamak
- D) Parmak ısırmak

4. (1) Gece gündüz kendisini hayattan soyutlayarak çalışıyordu. (2) Çünkü bir ay sonra resim sergisini açacaktı. (3) Bu sergi aslında onun hayatının bir yansıması olacaktı. (4) Sanatçı için resim yaşamıydı.

Bu metinde hangi iki cümle arasında neden-sonuç ilişkisi vardır?

- A) 1-2 B) 1-3 C) 2-3 D) 3-4

5. Türkçenin deyimler yönüyle zengin bir dil olduğu şüphesizdir. Hepimiz konuşmalarımızda ve yazılarımızda deyimlerden faydalanırız ama birçoğumuz - - - -

Bu metin aşağıdakilerin hangisiyle tamamlanırsa anlatımın akışı bozulur?

- A) kullandığımız deyimlerin anlamını bilmeyiz.
- B) bunları ne zaman öğrendiğimizi bile hatırlamayız.
- C) fazla düşünmeyiz bunların anlam derinlikleri hakkında.
- D) deyimleri cümlelerimizde özellikle kullanırız.

2. OTURUM

6. Okuyucuyu alıp götüren, onu genişleten şiirler, sessizlikle dokunmuş olanlardır. Şair yalnızlığı içinde, kendini dinleyebildiği ölçüde insanı; onunla birlikte de şiiri bulur.

Bu metinde asıl anlatılmak istenen aşağıdakilerden hangisidir?

- A) Şiir zengin kelimelerle yazılır.
B) Sakin ortamlar yaratıcılığı geliştirir.
C) Kişi kendisiyle baş başa kalmalıdır.
D) İnsanı en iyi anlatan tür şiirdir.

7. Her mesleğin kendine özgü bir dili vardır. Bu dili geliştirmek uğruna, kafa patlatılır, ter dökülür, dirsek çürütülür. Meslek ve meslek bilgisi ne kadar gelişmişse dili de elbette o kadar gelişmiş olacaktır. Yabancı bir dil öğrenirken o dildeki bir mesleğe ait olan bölümü öğrenmek ayrı bir çabayı gerektirir. Dahası ana dilimizde bile bilmediğimiz bir mesleği veya onun sözlüğünü öğrenmek de ancak özel çabalarla olur.

Bu metinde aşağıdakilerden hangisine değinil-memiştir?

- A) Meslek dilinin geliştirilmesi için bir emek har-candığına
B) Mesleklerin kendine has bir dili olduğuna
C) Yabancı dil öğrenirken de meslek dillerinin öğ-renilmesinin zorunlu olduğuna
D) Meslek bilgisi olmayanın, o mesleğe ait dili zor öğrendiğine

8. 21 Mart 1923'te Yozgat'ta doğdu. Liseyi Yozgat'ta bitirdi. Yokluk yüzünden üniversiteye gidemedi. Kısa süreli memurluktan sonra yedek subay oldu. 1945'te İstanbul'da evlendi. Dört sömestr Türkoloji öğrenimi yaptı. Sonra Yozgat'a döndü. Politikaya girdi, bir süre sonra politikanın çıkar kavgalarına ayak uyduramadı. 1957'de politikadan el etek çekti. Şiir yazmayı sürdürürken romana döndü. 1989'da ikinci kez evlendi, Ayvalık'a yerleşti. 12 Ağustos 1999 tarihinde aramızdan ayrıldı.

Bu metnin türü aşağıdakilerden hangisidir?

- A) Deneme
B) Biyografi
C) Anı
D) Otobiyografi

9. Denizin sesi sustu. Küçük tepelerin sessizliği başladı. Göğün morlaşan kenarı menekşe rengine giriyordu. Etrafımızdaki çalılar, uyumuş seyirci gölgeler gibi göründü.

Bu metinde aşağıdaki söz sanatlarından han-gileri vardır?

- A) Konuşturma-benzetme
B) Kişileştirme- benzetme
C) Kişileştirme- abartma
D) Konuşturma-abartma

10. “Söz sanatlarıyla yüklenmiş, süslü bir anlatımın anlaşılması mümkün değildir. Düşünüldüğü gibi yazılmalı, gereksiz mecazlardan ve sanatlardan kaçınılmalıdır. Anlam dolgun olmalı, yazılanlar rahat anlaşılmalıdır.” **diyen bir yazar anlatımında neye vurgu yapmak istemiştir?**

- A) İçtenlik
B) Özgünlük
C) Akıcılık
D) Sadelik

11. (1) Heinrich Böll ismi tek bir kitabını okumamış olsak bile kulağımızda bir aşinalık hissi yaratır. (2) Üstelik ciddi edebiyat eserleriyle ciddi bir yazar olarak düşünürüz onu. (3) Nobel Edebiyat Ödülü sahibi olmasından da kaynaklanıyor olabilir bu, dilimize çevrilmiş eserlerinden de... (4) “Yolcu, Palyaço, Babasız Evler” onun eserlerinden sadece birkaçı.

Bu metinde numaralanmış cümlelerin hangi-sinde “olasılık” anlamı vardır?

- A) 1. B) 2. C) 3. D) 4.

12. **Aşağıdakilerden hangisi bir paragrafın giriş cümlesi olmaya uygun değildir?**

- A) Yani çocuk romanları günümüzde de üzerinde tartışılan bir türdür.
B) Zengin bir halk şiiri geleneğine sahibiz.
C) Öykü, şiir ile roman arasında hassas bir yapıya sahiptir.
D) Her edebi eser, okuyucusuna mesaj verir.

2. OTURUM

13. (1) Giydiklerimize dikkat ederek doğayı korumanın pek çok yolu vardır. (2) Sentetik ürünlerden uzak duralım. (3) Alışveriş yaparken organik pamuklu kumaştan yapılmış giysileri tercih edelim. (4) Doğal pamuk ilaçsız, hormonsuz olarak yetiştirilir.

Bu metinde numaralanmış cümlelerden hangisi anlatımın akışını bozmaktadır?

- A) 1. B) 2. C) 3. D) 4.

14. Ham adam, önünde olup bitenlere bakmakla yetinir. Kültürlü adam ise hissetmek ister. Düşünceye dalmaksa yalnız çok iyi yetişmiş adama zevk verir.

Bu metinde yararlanılan düşünceyi geliştirme yolu aşağıdakilerden hangisidir?

- A) Tanık gösterme B) Benzetme
C) Betimleme D) Karşılaştırma

15. Dedemin traktörü homurtuyla bozdu ortalığın sessizliğini. Dar bir yolda durmadan ilerledik. Evler, ağaçlar, çeşmeler bitene kadar. Sonra, düzlükler başladı. Birbirinden ayrılmış tarlalara geldik. Canlı toprağı, dedem uzaktan uzağa kaygılı ama ümitli süzdü. Çok şeyler bekliyordu bu canından çok sevdiği topraktan, tarlasından.

Bu metnin dil ve anlatım özellikleriyle ilgili aşağıdakilerden hangisi söylenemez?

- A) Anlatım üçüncü kişi ağzından yapılmıştır.
B) Kişileştirmeler yapılmıştır.
C) Betimleyici ifadeler kullanılmıştır.
D) Devrik cümlelere yer verilmiştir.

16. "Artık bundan böyle daha düzenli olmaya karar verdim." cümlesindeki anlatım bozukluğu aşağıdaki değişikliklerin hangisiyle giderilebilir?

- A) "düzenli" yerine "titiz" kelimesi getirilerek
B) "karar verdim" yerine "çalışacağım" getirilerek
C) "artık" kelimesi cümleden çıkarılarak
D) "daha" kelimesi ile böyle kelimesi yer değiştirilerek

17. Aşağıdaki cümlelerin hangisinde sıfat- fiil özne görevindedir?

- A) Akşam rüzgârı beni önüne katıp götürüyordu.
B) Yağmur sağanak hâlinde yeryüzüne inmeye başladı.
C) Batan güneşin ardından bakakaldım.
D) Eğilen ağaçların yeşil renkleri suyumuzla vuruyordu.

18. Aşağıdaki cümlelerin hangisinde zarf tamlayıcısı yoktur?

- A) Bir gün büyük bir şehirde konferanstaydım.
B) Genç kadının yumuşaklığı yüzüne yansımıştı.
C) Bu mektubu her gün çıkarıp okurum.
D) Sabah posta kutusunda birkaç mektup buldu.

19. Aşağıdakilerin hangisinde anlatım bozukluğu vardır?

- A) Kimse seni suçlamıyor, aksine herkes senin haklı olduğunu düşünüyor.
B) Kitabın yeni baskısındaki yanlışlıklar düzeltilerek kitap yeniden basılmış.
C) Bu konuyu yeniden bir hafta içinde tekrar görüşürüz.
D) Trafik kurallarına uyun, uymayanları uyarın.

20. Ünlü sanatçı, çocuk şiiri yazma ve çocuk konularındaki düşüncelerini şu cümlelerle ortaya koyar () () Çocuk konusu benim içimde sıcaklığını hep duyduğum bir konudur. Kalem elime aldığımdan beri çocuğa dönük bir adamım() ()

Bu metinde yay ayraçla belirtilen yerlere sırasıyla aşağıdaki noktalama işaretlerinden hangisi getirilmelidir?

- A) (:) (") (.) (") B) (;) (-) (...) (-)
C) (:) (-) (.) (-) D) (;) (") (...) (")

2. OTURUM

(802) MATEMATİK – 8

1. Aşağıdakilerden hangisi rasyonel sayıdır?

- A) $\sqrt{0,1}$ B) $\sqrt{12}$ C) π D) $\sqrt{16}$

2. $\sqrt{50}$ sayısı sayı doğrusunda aşağıdaki tam sayılardan hangisine en yakındır?

- A) 6 B) 7 C) 8 D) 9

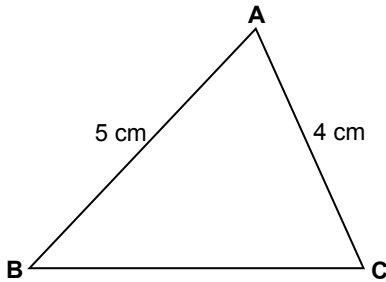
3. $\sqrt{108} + \sqrt{192}$ işleminin sonucu kaçtır?

- A) $10\sqrt{3}$ B) $14\sqrt{3}$ C) $20\sqrt{3}$ D) $28\sqrt{3}$

4. 8 kişilik gruptan 3 kişilik yarışma ekibi kaç farklı şekilde seçilebilir?

- A) 20 B) 35 C) 56 D) 84

5.



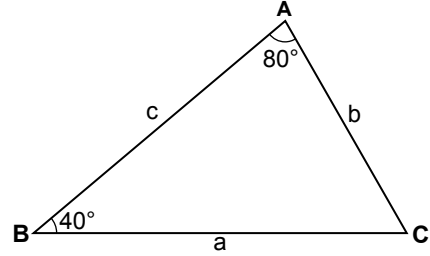
Şekildeki ABC üçgeninde $|AB| = 5$ cm ve $|AC| = 4$ cm olduğuna göre $|BC|$ santimetre cinsinden aşağıdakilerden hangisi olamaz?

- A) 9 B) 8 C) 7 D) 6

6. $(0,2)^a = 0,008$ ve $(0,5)^b = 0,25$ olduğuna göre $b - a$ kaçtır?

- A) 2 B) 1 C) -1 D) -2

7.



Şekilde verilen ABC üçgeninin kenar uzunluklarının küçükten büyüğe doğru sıralanışı aşağıdakilerden hangisidir?

- A) $c < b < a$ B) $b < c < a$
C) $a < b < c$ D) $a < c < b$

8. Bir torbada renkleri dışında özdeş 5 kırmızı, 4 mavi top vardır.

Torbaya geri atılmamak koşuluyla bu torbadan art arda çekilen iki toptan birincinin kırmızı ikincinin mavi olma olasılığı kaçtır?

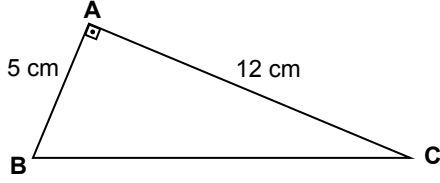
- A) $\frac{4}{9}$ B) $\frac{7}{18}$ C) $\frac{1}{3}$ D) $\frac{5}{18}$

9. Bir kare piramidin kaç yüzü vardır?

- A) 4 B) 5 C) 6 D) 7

2. OTURUM

10.



Şekildeki ABC üçgeninde $[AB] \perp [AC]$ 'tir.

$|AB| = 5 \text{ cm}$ ve $|AC| = 12 \text{ cm}$ olduğuna göre $|BC|$ kaç santimetredir?

- A) 13 B) 14 C) 15 D) 16

11. Kare dik prizma şeklindeki tahta yontularak tabanı ve yüksekliği, bu prizmanın tabanına ve yüksekliğine eş olan bir kare dik piramit oluşturuluyor.

Buna göre kare dik piramidin hacmi için aşağıdakilerden hangisi doğrudur?

- A) Kare dik prizmanın hacmine eşittir.
B) Kare dik prizmanın hacminin 3 katıdır.
C) Kare dik prizmanın hacminin $\frac{1}{3}$ 'üdür.
D) Kare dik prizmanın hacminin yarısıdır.

12. $2x - 1 < 5$ eşitsizliğinin çözüm kümesinin kalın çizgiyle gösterildiği sayı doğrusu aşağıdakilerden hangisidir?

- A)
B)
C)
D)

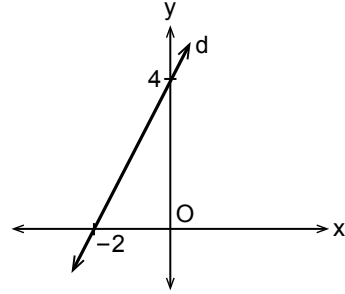
13. $x^2 + 5x + 6$ ifadesinin çarpanlarından biri $x + 2$ olduğuna göre diğer çarpanı hangisidir?

- A) $x + 1$ B) $x + 3$ C) $x + 4$ D) $x + 6$

14. İlk terimi 7, ortak farkı -4 olan aritmetik dizinin 7. terimi kaçtır?

- A) -35 B) -21 C) -17 D) 35

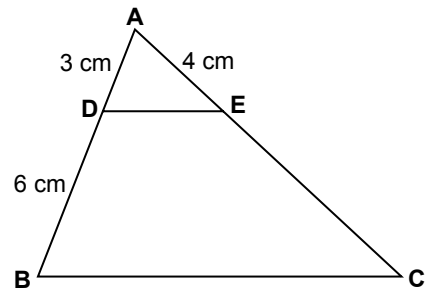
15.



Koordinat düzleminde verilen d doğrusunun eğimi kaçtır?

- A) -2 B) $-\frac{1}{2}$ C) $\frac{1}{2}$ D) 2

16.



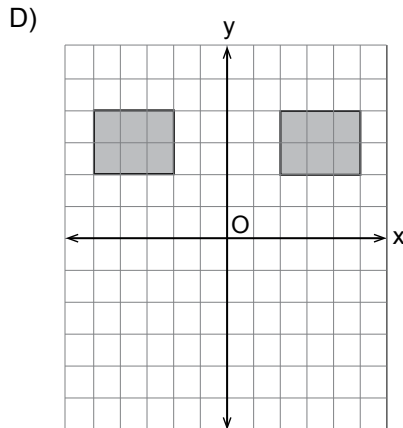
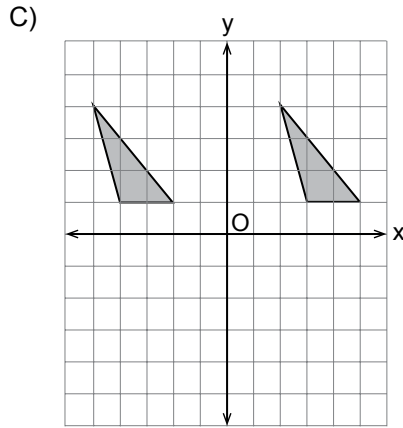
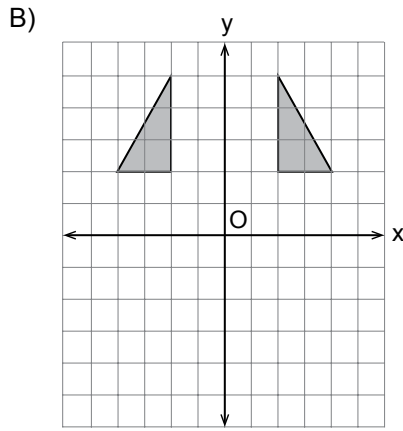
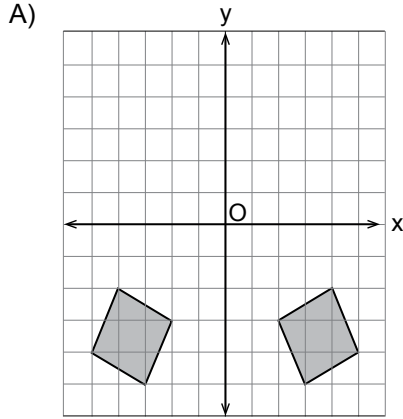
Şekildeki ABC üçgeninde $[DE] \parallel [BC]$ 'dir.

$|AD| = 3 \text{ cm}$, $|DB| = 6 \text{ cm}$ ve $|AE| = 4 \text{ cm}$ olduğuna göre $|EC|$ kaç santimetredir?

- A) 7 B) 8 C) 9 D) 10

2. OTURUM

17. Aşağıda verilen geometrik şekillerden hangisi y eksenine göre birbirinin yansıması değildir?



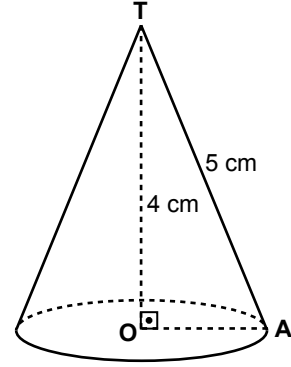
18. Çapının uzunluğu 12 cm olan bir kürenin hacmi kaç santimetreküptür? (π yerine 3 alınız.)

- A) 432 B) 486 C) 864 D) 1080

19. $\frac{2x-2}{3} = \frac{x+4}{2}$ denklemini sağlayan x değeri kaçtır?

- A) 16 B) 14 C) 12 D) 10

20.



Şekildeki dik dairesel konide $[TO] \perp [OA]$, $|TO| = 4$ cm ve $|TA| = 5$ cm'dir.

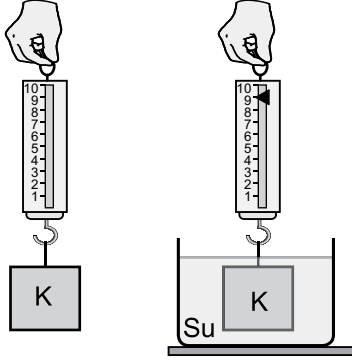
Buna göre koninin yüzey alanı kaç santimetrekaredir? (π yerine 3 alınız.)

- A) 36 B) 48 C) 64 D) 72

2. OTURUM

(803) FEN VE TEKNOLOJİ – 8

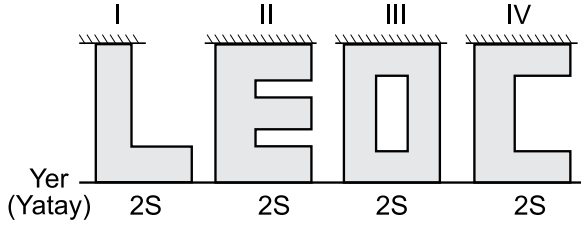
1. Şekilde gösterildiği gibi K cisminin su içindeki ağırlığı 9 N olarak ölçülmüştür.



Buna göre K cisminin havadaki ağırlığı aşağıdakilerden hangisi olabilir?

- A) 10 N B) 9 N C) 8 N D) 7 N

2. Aşağıda eşit ağırlıklı, farklı şekillerde katı cisimler verilmiştir.



Buna göre cisimler taralı yüzeyleri aşağıya gelecek şekilde ters çevrilirse, hangi numaralı cismin yere yaptığı basınç artar?

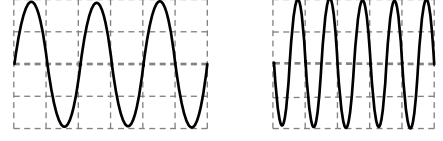
- A) I B) II C) III D) IV

3. Elif televizyon izlerken annesinin isteği üzerine televizyonun sesini kısıyor.

Buna göre Elif, ses dalgasının hangi özelliğini değiştirmiştir?

- A) Titreşim sayısını B) Frekansını
C) Genliğini D) Tınısını

4. İki farklı diyapazona eşit şiddette vurulduğunda elde edilen ses dalgaları aşağıda verilmiştir.



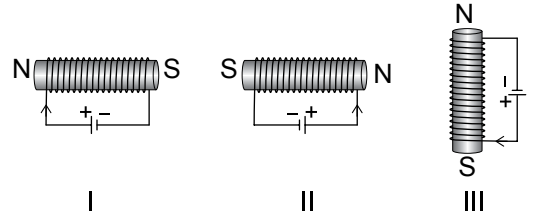
Buna göre ses dalgalarının hangi özelliği birbirine eşit değildir?

- A) Şiddet B) Gürlük
C) Genlik D) Frekans

5. Aşağıdaki araçların hangisinde yüksek dirençli uzun tel kullanılmaz?

- A) Elektrik lambası B) Su ısıtıcısı
C) Vantilatör D) Saç kurutma makinesi

- 6.



Yukarıda verilen elektromıknatıslardan hangilerinin kutupları doğru verilmiştir?

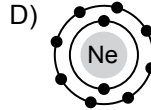
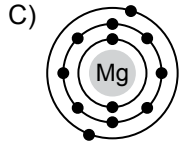
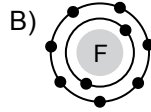
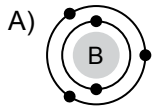
- A) Yalnız I. B) I ve II.
C) I ve III. D) II ve III.

7. Aşağıdakilerden hangisi yeryüzünün değişiminde etkili olan dış etmenlerden biri değildir?

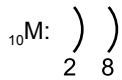
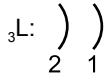
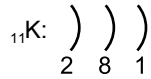
- A) Depremler B) Canlılar
C) Su D) Hava

2. OTURUM

8. Nötr hâldeki atomlarına ait elektron dağılımları verilen elementlerden hangisi kararlı yapıdadır?



9. Nötr hâldeki K, L ve M elementlerine ait elektron dağılımı verilmiştir.



Buna göre K, L ve M elementleri ile ilgili aşağıdakilerden hangisi söylenebilir?

- A) Atom numaraları arasındaki ilişki $M > L > K$ 'dir.
B) L ve M metal, K soy gazdır.
C) K ve L aynı grupta bulunur.
D) L'nin son katmanında $3e^-$ bulunur.

10. NH_4NO_3 bileşiğinde toplam kaç atom vardır?

- A) 10 B) 9 C) 8 D) 7

11.

[illegible]

Verilen periyodik tablodaki elementlerle ilgili aşağıdakilerden hangisi söylenebilir?

- A) H, metaldir.
B) Na ve Mg, aynı grupta bulunur.
C) F, elektron vermeye yatkındır.
D) Atom numarası en büyük olan Ar'dur.

12. Sirke ile ilgili aşağıda verilen özelliklerden hangisi doğrudur?

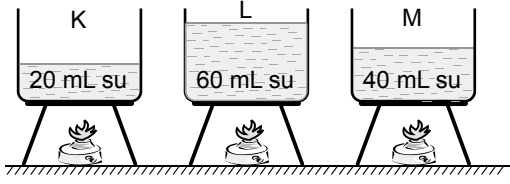
- A) Tatlı acıdır.
B) pH değeri 7'den büyüktür.
C) Suda çözüldüğünde OH^- iyonu oluşturur.
D) Mavi turnusol kağıdının rengini kırmızıya çevirir.

13. Sert sularla ilgili aşağıda verilen ifadelerden hangisi yanlıştır?

- A) Sert sularda bulunan kalsiyum, kemik sağlığı için zararlıdır.
- B) Çamaşır makinelerinin çalışmasını olumsuz yönde etkiler.
- C) Ca^{2+} ve Mg^{2+} suya sertlik özelliği veren iyonlardır.
- D) Deterjanların kir çıkarma etkisini azaltır.

2. OTURUM

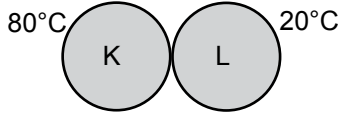
14. K, L ve M özdeş kaplarında aynı sıcaklıkta, belirtilen miktarlarda saf su bulunmaktadır. Kaplar özdeş ısıtıcılar ile eşit süre ısıtılıyor.



Buna göre suların son sıcaklıkları T_K , T_L ve T_M arasındaki ilişki nasıl olur?

- A) $T_M > T_L > T_K$ B) $T_K > T_L > T_M$
C) $T_L > T_M > T_K$ D) $T_K > T_M > T_L$

15. Kütleleri aynı, sıcaklıkları farklı K ve L cisimleri şekildeki gibi birbirine temas ettiriliyor.



Buna göre aşağıdaki ifadelerden hangisi doğrudur?

- A) K cisminin tanecikleri hızlanır.
B) L cisminin tanecikleri yavaşlar.
C) K cisminden L cismine ısı akışı olur.
D) L cisminin sıcaklığı düşer.

16. Şekilde $2n = 4$ kromozomlu bir hayvan hücresi verilmiştir.



Bu hayvan hücresi mitoz bölünme geçirirse oluşan yavru hücrelerin kromozom sayısı ve genetik yapısı aşağıdakilerden hangisi gibi olur?

	Kromozom sayısı	Genetik yapısı
A)	$2n=8$	
B)	$n=2$	
C)	$n=2$	
D)	$2n=4$	

17. Melez kahverengi gözlü bir anne ile melez kahverengi gözlü bir babanın çocuklarının mavi gözlü olma olasılığı yüzde kaçtır?
(K: Kahverengi göz, k: Mavi göz)

- A) %25 B) %50 C) %75 D) %100

18. "Canlıda çevre şartlarının etkisiyle ortaya çıkan ve kalıtsal olmayan değişikliklere modifikasyon denir."

Buna göre aşağıda verilenlerden hangisi modifikasyona örnek olamaz?

- A) Sirke sineklerinin 16°C 'ta yetiştirildiğinde düz kanatlı, 25°C 'ta yetiştirildiğinde kıvrık kanatlı olması
B) Sporcuların kaslı bir vücuda sahip olması
C) Bukalemunun bulunduğu ortama göre renk değiştirmesi
D) Arı sütüyle beslenen arıların kraliçe arı olması

2. OTURUM

19. Birinci zincir T G C A A T G C T
İkinci zincir

Birinci zincirinin nükleotid dizilişi verilen DNA molekülünün ikinci zincirindeki nükleotid dizilişi aşağıdakilerden hangisidir?

- A) T A T G G T C C A
B) A C G T T A C G A
C) A T C T A G C T A
D) G T G C A C T A G

20. Bitkisel ve hayvansal atıklardan yararlanılarak elde edilen enerji türü aşağıdakilerden hangisidir?

- A) Rüzgâr B) Biyokütle
C) Jeotermal D) Dalga

ÖLÇME, DEĞERLENDİRME VE SINAV HİZMETLERİ GENEL MÜDÜRLÜĞÜ

TEST BİTTİ.
CEVAPLARINIZI KONTROL EDİNİZ.

SINAV SÜRESİNCE UYULACAK KURALLAR

1. Adaylar, sınav kurallarına ve salon görevlilerinin tüm uyarılarına uymak zorundadırlar. Kurallara ve uyarılara uymayan adayların sınavları geçersiz sayılacaktır.
2. Sınav başladıktan sonra adayların salon görevlileri ve birbirleri ile konuşmaları, kalem, silgi vb. şeyleri istemeleri yasaktır.
3. Adaylar sınav süresince, sınav giriş belgesi ile birlikte kimlik belgelerinden birini (nüfus cüzdanı, pasaport veya sürücü belgesi) masalarının üzerinde bulundurmamak zorundadırlar.
4. Sınav evraklarını teslim etmeyen, soru kitapçıklarının sayfalarından bir kısmını eksik teslim edenlerin sınavları geçersiz sayılacaktır.

SALON GÖREVLİLERİNCE SINAV BAŞLAMADAN ÖNCE ADAYLARA YAPILACAK SON UYARI

- Soracağınız bir şey var mı? Varsa, şimdi sorunuz.
- Sınav başladıktan sonra sorularınıza cevap verilmeyecektir.
- Başlama zilini bekleyiniz.
- Hepinize başarılar dileriz.

(Salon başkanı başlama ve bitiş saatini tahtaya yazacaktır.)

Bu kitapçığın her hakkı saklıdır. Hangi amaçla olursa olsun, kitapçığın tamamının veya bir kısmının Millî Eğitim Bakanlığı Ölçme, Değerlendirme ve Sınav Hizmetleri Genel Müdürlüğünün yazılı izni olmadan kopya edilmesi, fotoğraflarının çekilmesi, bilgisayar ortamına alınması, herhangi bir yolla çoğaltılması, yayımlanması veya başka bir amaçla kullanılması yasaktır. Bu yasağa uymayanlar, doğabilecek cezai sorumluluğu ve kitapçığın hazırlanmasındaki mali külfeti peşinen kabullenmiş sayılır.

12 HAZİRAN 2016 TARİHİNDE YAPILAN
AÇIK ÖĞRETİM ORTAOKULU 2015-2016 ÖĞRETİM YILI 3. DÖNEM SINAVI
2. OTURUM CEVAP ANAHTARI

SOSYAL BİLGİLER – 7	ALMANCA – 7	DİN KÜLTÜRÜ ve AHLAK BİLGİSİ – 7	MATEMATİK – 8
1. C	1. B	1. A	1. D
2. B	2. A	2. C	2. B
3. A	3. C	3. D	3. B
4. B	4. D	4. B	4. C
5. D	5. D	5. C	5. A
6. D	6. B	6. A	6. C
7. A	7. D	7. D	7. B
8. C	8. B	8. B	8. D
9. B	9. C	9. A	9. B
10. B	10. D	10. D	10. A
11. C	11. A	11. C	11. C
12. D	12. B	12. B	12. A
13. A	13. C	13. B	13. B
14. D	14. D	14. A	14. C
15. C	15. B	15. D	15. D
16. D	16. A	16. C	16. B
17. A	17. C	17. A	17. C
18. A	18. D	18. C	18. C
19. C	19. B	19. D	19. A
20. D	20. C	20. A	20. D
İNGİLİZCE – 7	FRANSIZCA – 7	TÜRKÇE – 8	FEN ve TEKNOLOJİ – 8
1. A	1. D	1. C	1. A
2. C	2. A	2. D	2. A
3. B	3. C	3. B	3. C
4. B	4. B	4. A	4. D
5. A	5. B	5. D	5. C
6. C	6. D	6. B	6. B
7. B	7. C	7. C	7. A
8. C	8. A	8. B	8. D
9. D	9. A	9. B	9. C
10. B	10. D	10. D	10. B
11. A	11. C	11. C	11. D
12. D	12. B	12. A	12. D
13. A	13. C	13. D	13. A
14. C	14. D	14. D	14. D
15. B	15. B	15. A	15. C
16. D	16. A	16. C	16. D
17. A	17. A	17. D	17. A
18. D	18. B	18. B	18. C
19. A	19. D	19. C	19. B
20. C	20. C	20. A	20. B

12 HAZİRAN 2016 TARİHİNDE YAPILAN
AÇIK ÖĞRETİM ORTAOKULU 2015-2016 ÖĞRETİM YILI 3. DÖNEM SINAVI
2. OTURUM CEVAP ANAHTARI

SOSYAL BİLGİLER – 5	ALMANCA – 5	DİN KÜLTÜRÜ ve AHLAK BİLGİSİ – 5	MATEMATİK – 6
1. A	1. B	1. A	1. B
2. C	2. C	2. D	2. D
3. A	3. A	3. D	3. A
4. D	4. D	4. A	4. B
5. B	5. C	5. C	5. D
6. C	6. B	6. B	6. C
7. A	7. A	7. A	7. A
8. C	8. C	8. B	8. C
9. D	9. A	9. A	9. B
10. A	10. C	10. B	10. D
11. B	11. A	11. C	11. A
12. D	12. D	12. A	12. B
13. A	13. B	13. D	13. B
14. C	14. C	14. C	14. C
15. B	15. D	15. A	15. D
16. D	16. A	16. C	16. A
17. D	17. B	17. B	17. C
18. B	18. B	18. C	18. D
19. D	19. D	19. D	19. B
20. A	20. D	20. B	20. A
İNGİLİZCE – 5	FRANSIZCA – 5	TÜRKÇE – 6	FEN ve TEKNOLOJİ – 6
1. A	1. C	1. B	1. C
2. B	2. B	2. C	2. D
3. D	3. A	3. D	3. C
4. C	4. D	4. A	4. A
5. A	5. A	5. B	5. B
6. A	6. D	6. B	6. C
7. B	7. C	7. D	7. A
8. C	8. B	8. D	8. C
9. D	9. B	9. C	9. B
10. C	10. D	10. A	10. A
11. B	11. C	11. A	11. D
12. B	12. D	12. C	12. B
13. A	13. A	13. B	13. C
14. C	14. C	14. B	14. D
15. B	15. D	15. C	15. B
16. C	16. C	16. D	16. C
17. D	17. D	17. A	17. A
18. B	18. A	18. C	18. B
19. A	19. A	19. C	19. D
20. D	20. B	20. A	20. A