

T.C.
MİLLÎ EĞİTİM BAKANLIĞI
ÖLÇME, DEĞERLENDİRME VE
SINAV HİZMETLERİ GENEL MÜDÜRLÜĞÜ



AÇIK ÖĞRETİM LİSESİ / MESLEKİ AÇIK ÖĞRETİM LİSESİ
2017 - 2018 ÖĞRETİM YILI
2. DÖNEM SINAVI

3.
OTURUM

1 NİSAN 2018 Saat: 14.30

<u>DERS KODU VE ADI</u>	<u>SAYFA</u>	<u>DERS KODU VE ADI</u>	<u>SAYFA</u>	<u>DERS KODU VE ADI</u>	<u>SAYFA</u>
(113) DİN KÜL. AHL. BİL. – 3	3	(242) FRANSIZCA – 3	23	(468) SEÇ. MATEMATİK – 4	45
(114) DİN KÜL. AHL. BİL. – 4	4	(403) DİL VE ANLATIM – 3	24	(478) SEÇ. MANTIK – 1	46
(116) DİN KÜL. AHL. BİL. – 6	5	(405) DİL VE ANLATIM – 5	25	(500) İNGİLİZCE – 6	47
(122) FELSEFE – 2	7	(406) DİL VE ANLATIM – 6	27	(500) ALMANCA – 6	48
(124) SEÇMELİ FELSEFE – 2	8	(413) TÜRK EDEBİYATI – 3	28	(500) FRANSIZCA – 6	49
(133) TARİH – 3	9	(416) TÜRK EDEBİYATI – 6	29	(533) SEÇMELİ PEYGAMBERİMİZİN HAY. – 3	50
(134) TARİH – 4	10	(426) SEÇ. FİZİK – 2	31	(534) SEÇMELİ PEYGAMBERİMİZİN HAY. – 4	51
(142) T.C. İNK. TAR. ATA. – 2	12	(427) SEÇ. FİZİK – 3	32	(542) TÜRK DİLİ VE ED. – 2	53
(153) COĞRAFYA – 3	13	(428) SEÇ. FİZİK – 4	34	(543) TÜRK DİLİ VE ED. – 3	54
(154) COĞRAFYA – 4	14	(433) KİMYA – 3	36	(608) SEÇ. DEM. VE İNSAN HAK. – 2	56
(158) SEÇ. COĞRAFYA – 4	15	(434) KİMYA – 4	37	(615) SEÇ. DİL VE ANLA. – 5	57
(163) MATEMATİK – 3	17	(435) SEÇ. KİMYA – 1	38	(616) SEÇ. DİL VE ANLA. – 6	58
(165) SEÇ. MATEMATİK – 1	18	(445) SEÇ. BİYOLOJİ – 1	39	(626) SEÇ. TÜRK ED. – 6	60
(206) SEÇ. PSİKOLOJİ – 1	19	(448) SEÇ. BİYOLOJİ – 4	41	(975) SEÇ. GİRİŞİMCİLİK – 2	61
(209) SEÇ. SOSYOLOJİ – 2	20	(452) SEÇ. ÇAĞ. TÜRK DÜN. TAR. – 2	43		
(242) İNGİLİZCE – 3	21	(462) SEÇ. EKONOMİ – 2	44		
(242) ALMANCA – 3	22				

ADAYLARIN DİKKATİNE!

- Her ders için 20 soru bulunmaktadır. Bu oturumda **180** dakikalık cevaplama süreniz vardır. Sınav başladıktan sonra ilk **30** dakika tamamlanmadan dışarı çıkmayınız.
- Sınav sırasında çanta, cep telefonu, saat, kablosuz iletişim sağlayan cihazlar ve kulaklık, kolye, küpe, bilezik, yüzük, broş ve benzeri eşyalar ile her türlü elektronik ve/veya mekanik cihazları yanınızda bulundurmuyunuz. Bu araçları yanınızda bulundurmanız ve kopya çekmeye teşebbüs etmeniz hâlinde sınavınız geçersiz sayılacaktır.
- Başvuru şartlarını taşımadığınız hâlde sınava girmeniz, kopya çekmeniz, başka adayın sınav evrakını kullanmanız, geçerli kimlik belgenizi ve sınav giriş belgenizi ibraz edemediğiniz durumlarda sınavınız geçersiz sayılacaktır.
- Sınavın değerlendirilmesi aşamasında, bilgisayar ortamında yapılan kopya analizinde sistemin ikili ve/veya toplu kopya tespiti hâlinde sınavınız geçersiz sayılacaktır.
- Adaylar, sınav kurallarına ve salon görevlilerinin tüm uyarılarına uymak zorundadır. Kurallara ve uyarılara uymayan adayların sınavları geçersiz sayılacaktır.**
- Sınav başladıktan sonra adayların salon görevlileri ve birbirleri ile konuşmaları; kalem, silgi vb. şeyleri istemeleri yasaktır.
- Adaylar sınav süresince, sınav giriş belgesi ile geçerli kimlik belgelerinden birinin aslını (fotoğraflı nüfus cüzdanı, pasaport veya sürücü belgesi) masalarının üzerinde bulundurmamak zorundadır.
- Sınav evraklarını teslim etmeyen, soru kitapçıklarının sayfalarından bir kısmını eksik teslim edenlerin sınavları geçersiz sayılacaktır.**
- Sınav başlamadan önce kitapçığın arkasındaki açıklamaları okuyunuz.

BAŞLAYINIZ DENMEDEN SORU KİTAPÇIKLARINI AÇMAYINIZ.

3. OTURUM

(113) DİN KÜL. AHL. BİL. – 3

1. Aşağıdaki ayetlerin hangisinde Allah'ın birliğine vurgu yapılmıştır?

- A) "Eğer göklerde ve yerde Allah'tan başka ilahlar olsaydı, göklerin ve yerin düzeni bozulurdu..."
(Enbiyâ suresi, 22. ayet)
- B) "De ki: Eğer onların iddia ettiği gibi Allah'la beraber ilahlar olsaydı o zaman ilahlar da arşın sahibine ulaşmak için elbette bir yol ararlardı."
(İsrâ suresi, 42. ayet)
- C) "De ki: O Allah bir tektir. Allah Samed'dir. O doğurmamış ve doğurulmamıştır. Hiçbir şey O'na eş ya da denk değildir."
(İhlas suresi, 1-4. ayetler)
- D) "... Allah dilediğini yaratır. Bir işe hükmedince ona sadece 'ol' der, o da olur." (Âl-i İmrân suresi, 47. ayet)

2. Allah'ın "her şey kendisine muhtaç olduğu hâlde kendisi hiçbir şeye muhtaç olmayan" anlamına gelen ismi aşağıdakilerden hangisidir?

- A) Samed B) Latif
C) Hâlık D) Kerim

3. "İnsana bir sıkıntı dokundu mu gerek yan üstü yatarken, gerek otururken, gerekse ayakta iken bize dua eder. Ama biz onun bu sıkıntısını ondan kaldırdık mı, sanki kendisine dokunan bir sıkıntı için bize hiç yalvarmamış gibi geçer gider. İşte o haddi aşanlara yapmakta oldukları şeyleri böylece süslü gösterilmiştir."

(Yûnus suresi, 12. ayet)

Bu ayette aşağıdakilerden hangisi vurgulanmaktadır?

- A) Başkaları için dua etmenin güzel bir davranış olduğu
B) İyi ya da kötü her hâlde Allah'a dua etmek gerektiği
C) Belirli vakitlerde yapılan duaların daha makbul olduğu
D) Allah'ın yardımından hiçbir zaman ümit kesilmemesi gerektiği

4. Aşağıdakilerden hangisi tövbenin şartlarından değildir?

- A) Günahı terk etmek
B) Yaptığına pişman olmak
C) Abdestli olarak tövbe etmek
D) Bir daha yapmamaya karar vermek

5. Allah'ın var olması

- Allah'ın varlığının kendisinden olması
• Allah'ın istemesi, her şeyin onun istemesi ile var olması

Bu bilgilerde Allah'ın aşağıdaki sıfatlarından hangisinin anlamı yoktur?

- A) İrade
B) Vücut
C) Kıyam bi nefsihi
D) Muhalefetün lil havadis

6. "Yeryüzünde gerçekleşen ve sizin başınıza gelen herhangi bir musibet yoktur ki, biz onu yaratmadan önce bir kitapta yazılmış olmasın..." (Hadîd suresi, 22. ayet)

Bu ayette aşağıdaki inanç esaslarından hangisi vurgulanmaktadır?

- A) Kadere iman
B) Ahirete iman
C) Meleklerle iman
D) Peygamberlere iman

7. Sevap ve günahların tartıldığı özel bir tartıdır. Sevabı ağır basanlar cennete, günahı ağır basanlar cehenneme gider.

Bu bilgilerde ahiret hayatının hangi aşamasından bahsedilmektedir?

- A) Ölüm B) Mahşer
C) Mizan D) Ba's

8. Ahirete inanan bir kimseden aşağıdaki tutum ve davranışlardan hangisi beklenmez?

- A) Söz ve davranışlarında dikkatli ve ölçülü olması
B) Sıkıntı ve zorluklar karşısında ümitsizliğe düşmesi
C) Allah'ın emir ve yasaklarına uymaya özen göstermesi
D) Kalbini kötü duygu ve isteklerden arındırmaya çalışması

9. Aşağıdakilerden hangisi farz namazlardandır?

- A) Bayram namazı
B) Kuşluk namazı
C) Vitr namazı
D) Cuma namazı

10. "Onların ne etleri ne de kanları Allah'a ulaşır. Fakat ona sadece sizin takvanız (Allah'a karşı gelmekten sakınmanız) ulaşır..." (Hac suresi, 37. ayet)

Bu ayette aşağıdaki ibadetlerin hangisinden bahsedilmektedir?

- A) Hac B) Zekât
C) Kurban D) Oruç

11. "Namaz kılmak için abdest veya gusül abdesti almak" anlamına gelen kavram aşağıdakilerden hangisidir?

- A) Necasetten taharet
B) Hadesten taharet
C) İstikbal-i kible
D) Setr-i avret

12. Mazeretsiz ve bilerek oruç bozmanın cezası iki ay aralıksız oruç tutmaktır. Buna - - - - denir.

Verilen boşluğa aşağıdakilerden hangisi getirilmelidir?

- A) kefaret orucu
B) kaza orucu
C) nafile oruç
D) adak orucu

13. "Zekâtlar Allah'tan bir farz olarak ancak fakirler, düşkünler, zekât toplayan memurlar, kalpleri İslam'a ısındırılacak olanlarla köleler, borçlular, Allah yolunda cihad edenler ve yolda kalmış yolcular içindir..." (Tevbe suresi, 60. ayet)

Bu ayette aşağıdakilerden hangisi anlatılmaktadır?

- A) Kimlerin zekât vereceği
B) Kimlere zekât verileceği
C) Nelerden zekât verileceği
D) Zekâtın nasıl verileceği

14. Aşağıdakilerden hangisi haccın şartlarından biri değildir?

- A) Şeytan taşlamak
B) Tavaf etmek
C) Vakfe yapmak
D) İhrama girmek

3. OTURUM

15. Hz. Muhammed (sav.) akıllı ve zeki bir insandı. O, ileri görüşlü, dikkatli ve çabuk kavrayışlı, doğru ile yanlış ayırt edebilecek kabiliyete sahipti.

Bu özellikler Hz. Muhammed'in (sav.) aşağıdaki sıfatlardan hangisine sahip olduğunu göstermektedir?

- A) Sıdk
C) İsmet
- B) Emanet
D) Fetanet

16. "Ben ancak Allah'tan gelenleri tebliğ edebilirim..."
(Cin suresi, 23. ayet)

Bu ayette Hz. Muhammed (sav.) ile ilgili aşağıdakilerden hangisine değinilmiştir?

- A) Son peygamber olduğuna
B) İnsanlığa rahmet olduğuna
C) Vahiyleri insanlara ilettiğine
D) Güzel ahlakın tamamlayıcısı olduğuna

17. Aşağıdaki ayetlerden hangisinde doğru davranış vurgulanmaktadır?

- A) "İnanıp da salih ameller işleyenler için devamlı bir mükâfat vardır."
(Tîn suresi, 6. ayet)
- B) "Peygamberin üzerine düşen ancak tebliğdir. Allah sizin açıkladığınızı da, gizlediğinizi de bilir."
(Mâide suresi, 99. ayet)
- C) "De ki: Eğer Allah dileseydi, ben size onu okumazdım. Allah da size onu bildirmezdi..."
(Yûnus suresi, 16. ayet)
- D) "İlahınız bir tek ilahtır. Ondan başka ilah yoktur. O, rahmandır, rahimdir."
(Bakara suresi, 163. ayet)

18. *Ya açar Nazm-ı Cellil'in bakarız yaprağına,
Yahut üfler geçeriz bir ölü'nün toprağına,
İnmemiştir hele Kur'an, bunu hakkıyla bilin!
Ne mezarlıkta okunmak ne de fal bakmak için!*

Bu dizelerde Kur'an'la ilgili aşağıdakilerden hangisi vurgulanmaktadır?

- A) Kalplere şifa olduğu
B) Son İlahi kitap olduğu
C) Sadece belli bir millete gönderilmediği
D) Hem okunup hem de anlaşılacak için gönderildiği

19. Aşağıdakilerden hangisi Kur'an'ı anlama ve yorumlamada doğru tutum ve davranışlardan biri değildir?

- A) Bütünselliği içerisinde incelemek
B) İstek, çıkar ve ön kabuller doğrultusunda yorumlamak
C) Hz. Peygamber'in yorum ve açıklamalarından yararlanmak
D) Manasını anlamak ve içerdiği hükümleri öğrenmeye çalışmak

20. Aşağıdakilerden hangisi "Hz. Muhammed (sav.) nasıl bir insandı?" sorusuna doğru cevap oluşturmaz?

- A) Ahlakıyla insanlara örnekti.
B) Cesaretli, sabırlı ve hoşgörülüydü.
C) İnsanüstü güç ve özelliklere sahipti.
D) Bütün varlıklara karşı merhametliydi.

(114) DİN KÜL. AHL. BİL. – 4

1. Sözlükte "Adaletin, hukukun gerektirdiği veya birine ayırdığı şey" olarak tanımlanan kavram aşağıdakilerden hangisidir?

- A) İrade
C) Hak
- B) Özgürlük
D) Din

2. "... Kim, bir insanı, bir can karşılığı veya yeryüzünde bir bozgunculuk çıkarmak karşılığı olmaksızın öldürürse, o sanki bütün insanları öldürmüştür..."
(Mâide suresi, 32. ayet)

"Bir yerde veba hastalığı olduğunu duyan bir kimse oraya gitmesin."
(Hadisi şerif)

Bu ayet ve hadiste vurgulanan temel haklar aşağıdakilerin hangisinde birlikte verilmiştir?

- A) Eğitim hakkı - Seçme ve seçilme hakkı
B) Sağlık hakkı - Seçme ve seçilme hakkı
C) Yaşama hakkı - Eğitim hakkı
D) Yaşama hakkı - Sağlık hakkı

3. Son yıllarda kız çocuklarının okula gönderilmesi için devlet büyük çabalar sarf etmiş ve buna uygun olarak hem ilköğretimde hem de ortaöğretimde okul sayısını artırmıştır.

Bu çalışmalarla bireylerin aşağıdaki hak ve özgürlüklerin hangisinden faydalanması hedeflenmiştir?

- A) Eğitim hakkı
B) Yaşama ve sağlık hakkı
C) Düşünce ve ifade özgürlüğü
D) Özel yaşamın gizliliği hakkı

4. Aşağıdaki hak ve özgürlüklerden hangisi diğerlerine göre öncelikli öneme sahiptir?

- A) Düşünce özgürlüğü
B) Yaşama hakkı
C) Eğitim hakkı
D) İbadet özgürlüğü

5. • Mezheplerin ortaya çıkması
• Birbirlerinden ayrı görüşlerde kitaplar yazılabilmesi
• Tefsirlerde farklı düşünce ve anlatımların yer alması

Bu gelişmeler İslam dininin önem verdiği aşağıdaki hak ve özgürlüklerden hangisinin bir sonucudur?

- A) Eğitim hakkının
B) Özel yaşamın gizliliği hakkının
C) Düşünce ve ifade özgürlüğünün
D) Seyahat ve yerleşme özgürlüğünün

6. İslam dininde ticari ve ekonomik faaliyetler teşvik edilmiş, malın zenginler arasında dolaşıp durmaması istenmiş, elde edilen gelirden fakir ve muhtaçların da hakkının olduğu vurgulanmıştır. Harcamalarda aşırıya gidilmesi ve israf edilmesi yasaklanmış, canlı bir ekonomik hayat hedeflenmiştir.

Aşağıdaki ibadetlerden hangisi İslam'ın bu hedefini gerçekleştirme amacına yönelik değildir?

- A) Namaz
C) Zekât
- B) Sadaka
D) Fitre

7. Hak ve özgürlükler ile ilgili aşağıdakilerden hangisi yanlıştır?

- A) İnsanın ayrılmaz parçasıdır.
B) Kullanımında kimseye ayrıcalık tanınmaz.
C) İnsanın aklına her geleni ve istediğini yapmasıdır.
D) Şahsa bağlıdır, vazgeçilemez ve başkasına devredilemez.

3. OTURUM

8. Aşağıdaki kötü alışkanlıklardan hangisinin yaşama ve sağlık hakkını etkilediği söylenemez?

- A) İçki içmek
B) İsraf etmek
C) Sigara içmek
D) Uyuşturucu kullanmak

9. "Aranızda birbirinizin mallarını haksız yere yemeyin..."

(Bakara suresi, 188. ayet)

Bu ayet ile aşağıdaki davranışlardan hangisinin yasaklandığı söylenebilir?

- A) İçki içmek
B) Gıybet etmek
C) Rüşvet alıp vermek
D) Birinin evini gözetlemek

10. Hz. Ömer, halifeliği dönemindeki uygulamalarında karar verirken insanların mevkilerine, zenginliklerine ya da soylarına itibar etmemiştir. Dostluk ve akrabalık, suçluları sorguya çekmesine ve gerektiğinde cezalandırmasına engel olmamış, herkese hak ettiği şekilde davranmıştır.

Buna göre Hz. Ömer'in yönetim anlayışında aşağıdaki değerlerden hangisinin hâkim olduğu söylenir?

- A) Hoşgörü
B) Cesaret
C) Sabır
D) Adalet

11. Aşağıdakilerden hangisi bir düşünceye veya bir inanışa körü körüne bağlanmayı, aşırı taraf olmayı ifade eden kavramlardan biri değildir?

- A) Tefekkür
B) Taassup
C) Fanatiklik
D) Bağnazlık

12. "Eğer sana indirdiğimiz şeyden şüphe içinde isen, senden önce Kitab'ı okuyanlara sor. Andolsun ki, sana Rabb'inden hak gelmiştir. O hâlde sakın şüphe edenlerden olma! Sakın Allah'ın ayetlerini yalanlayanlardan da olma! Yoksa zarara uğrayanlardan olursun."

(Yûnus suresi, 94-95. ayetler)

Bu ayetler bilgi kaynaklarından hangisinin kesinliğine delil oluşturur?

- A) Akli bilginin
B) Vahyi bilginin
C) Duyular ve akli bilginin
D) Duyularla elde edilen bilginin

13. Kur'an-ı Kerim pek çok ayette "Düşünmez misiniz?", "Akletmez misiniz?" şeklinde sorular sormakta ve insanlara "... Hiç bilenlerle bilmeyenler bir olur mu?..." (Zümer suresi, 9) ayeti ile de yol göstermektedir.

Kur'an'ın bu yaklaşımı aşağıdakilerden hangisini engellemeye yöneliktir?

- A) Öfke
B) Cimrilik
C) Taassup
D) Gıybet

14. Aşağıdakilerden hangisi taassup sahibi insanların özellikleri arasında yer almaz?

- A) Yeniliklere kapalıdır.
B) Gelişmelere ayak uyduramazlar.
C) Kendi fikirlerini tek doğru kabul ederler.
D) Araştırma ve bilimsel verilere önem verirler.

15. İslam'ın ilk eğitim kurumlarından olan Suffe aşağıdaki mescitlerin hangisinin bünyesinde kurulmuştur?

- A) Mescid-i Aksa
B) Mescid-i Nebi
C) Mescid-i Haram
D) Mescid-i Kibleteyn

16. Aşağıdakilerden hangisi hadis ilmi alanında meşhur olmuş âlimlerden biri değildir?

- A) İbni Heysem
B) Tirmizi
C) Ebu Davud
D) İbni Mace

17. • İslam eğitim kurumlarından en etkili ve yaygın olanıdır.
• Türklerin İslam dünyasına girmesiyle daha da gelişmiştir.
• Selçuklu döneminde resmî kurum niteliğini kazanmıştır.

Hakkında bilgi verilen eğitim kurumu aşağıdakilerden hangisidir?

- A) Suffe
B) Küttap
C) Beyt'ül-Hikme
D) Medrese

18. "Taberî, Zemahşerî ve Elmalılı Muhammed Hamdi Yazır", aşağıdaki ilimlerden hangisinin tanınmış âlimleridir?

- A) Fıkıh
B) Hadis
C) Tefsir
D) Kelam

19. I. Ahmet Yesevi
II. Uluğ Bey
III. Evliya Çelebi
IV. Ali Kuşçu

Bu âlimlerden astronomi alanında çalışmaları ile bilinenler hangi seçenekte birlikte verilmiştir?

- A) I ve III.
B) I ve IV.
C) II ve III.
D) II ve IV.

20. Dünya haritasını günümüzdeki ölçülere yakın biçimde ilk çizen kişi aşağıdakilerden hangisidir?

- A) el-Avfi
B) Piri Reis
C) Barbaros Hayrettin
D) Tarık b. Ziyad

(116) DİN KÜL. AHL. BİL. – 6

1. Karı ve kocadan oluşan en küçük sosyal gruba ne ad verilir?

- A) Aile
B) Akraba
C) Millet
D) Soy

2. Evlilik kurumu ile ilgili aşağıdaki bilgilerden hangisi yanlıştır?

- A) Tarihin bütün dönemlerinde var olmuştur.
B) Bütün toplumlarda aynı kültür ve esaslara dayalı olarak kurulur.
C) Çoğalmanın ve neslin sağlıklı olarak devam etmesinin bir şartıdır.
D) Erkek ile kadının aile kurmak amacıyla yapmış oldukları anlaşmanın sonucudur.

3. İlk Diyanet İşleri Başkanı aşağıdakilerden hangisidir?

- A) Tayyar Altıkulaç
B) Ahmet Hamdi Akseki
C) Ömer Nasuhi Bilmen
D) Mehmet Rifat Börekçi

4. Aşağıdaki hadislerden hangisi "sıla-ı rahim" ile ilgili değildir?

- A) Yakınları ile ilgisini kesen kimse cennete giremez.
B) Allah'a ve ahiret gününe inanan kişi akrabasını görüp gözetin.
C) Küçüklerine merhamet etmeyen, büyüklerine saygı göstermeyen bizden değildir.
D) İyiliğin en mükemmel kişinin baba dostunu, hısm ve akrabalarını gözetmesidir.

3. OTURUM

5. **Diyanet İşleri Başkanlığının dini konularda en yüksek karar ve danışma organı aşağıdakilerden hangisidir?**
- A) Mushafı İnceleme ve Kıraat Kurulu
B) Eğitim Hizmetleri Genel Müdürlüğü
C) Dini Yayınlar Genel Müdürlüğü
D) Din İşleri Yüksek Kurulu
6. **Aşağıdakilerden hangisi Diyanet İşleri Başkanlığının görevleri arasında yer almaz?**
- A) Din hizmeti sunan kuruluşların faaliyetlerini değerlendirmek
B) Din Kültürü ve Ahlak Bilgisi öğretmeni yetiştirmek
C) Cami ve mescitleri ibadete açmak ve yönetmek
D) Din konusunda toplumu aydınlatmak
7. **Aşağıdaki hadislerden hangisi aile içi görev ve sorumluluklarla ilgili değildir?**
- A) Her biriniz elinizin altındakilerden sorumlusunuz... Kişi aile bireylerinden sorumludur.
B) Dikkat ediniz, sizin kadınlarınız üzerinde, kadınlarınızın da sizin üzerinizde hakları vardır.
C) Allah'a ve ahiret gününe iman eden kimse ya hayır söylesin ya sussun.
D) Allah'ın rızası, anne babanın rızasıdır.
8. Kur'an-ı Kerim-i okutmak, anlamını öğretmek, hafızlık yaptırmak, din eğitimi almak isteyenler için kurslar düzenlemek ve Kur'an kursları açmak **Görev tanımı verilen Diyanet İşleri Başkanlığı hizmet birimi aşağıdakilerden hangisidir?**
- A) Eğitim Hizmetleri Genel Müdürlüğü
B) Mushafı İnceleme ve Kıraat Kurulu
C) Dini Yayınlar Genel Müdürlüğü
D) Hac ve Umre Genel Müdürlüğü
9. **Aşağıdakilerden hangisi müezzinin görevlerindedir?**
- A) Dini müesseseleri yönetmek
B) Hac ve umre faaliyetlerini düzenlemek
C) Din görevlilerinin hizmetlerini denetlemek
D) Vakti geldiğinde ezan okumak, kamet getirmek
10. Cuma ve bayram namazlarında insanları dini konularda aydınlatmak ve onlara dini mesajlar vermek amacıyla yapılan konuşmaya - - - -, bu konuşmayı yapan kişiye ise - - - - denir. **Cümledeki boşluklara aşağıdakilerden hangisi getirilmelidir?**
- A) hutbe - hatip
B) dua - vaiz
C) sohbet - kayyım
D) tebliğ - hafız
11. **Aşağıdaki ayetlerden hangisi evrendeki ölçü ve ahenk ile ilgili değildir?**
- A) "... Allah her şeyi yaratmış, ona ölçü, biçim ve düzen vermiştir." (Furkân suresi, 2. ayet)
B) "Güneşi ışıklı, ayı da parlak kılan, yılların sayısını ve hesabını bilmeniz için aya bir takım menziller takdir eden Allah'tır..." (Yûnus suresi, 5. ayet)
C) "Erkek veya kadın, mümin olarak kim iyi amel işlerse, onu mutlaka güzel bir hayat ile yaşatırız..." (Nahl suresi, 97. ayet)
D) "Gökleri yedi kat yaratan O'dur. Rahman'ın bu yaratmasında bir düzensizlik bulamazsın. Gözünü çevir bir bak. Bir çatlak görebilir misin?" (Mülk suresi, 3 ve 4. ayetler)
12. Bir gün Hz. Peygamber'in yanına saç sakalı dağınık bir adam gelir. Hz. Peygamber o adamdan saçını sakalını düzeltmesini ister. Adam, bu isteği yerine getirdiğinde Hz. Peygamber; "Saçınızın bu şekilde olması, karışık olmasından daha iyi değil mi?" buyurur. **Bu olayda Hz. Peygamber'in aşağıdakilerden hangisine verdiği önem vurgulanmaktadır?**
- A) Sanata B) Estetiğe
C) Sevgiye D) Sağlığa
13. **Söz ola kese savaşı
Söz ola kestire başı
Söz ola ağulu aş
Yağ ile bal ede bir söz**
Bu dizelerde aşağıdakilerden hangisi vurgulanmaktadır?
- A) Yerinde ve doğru konuşmanın önemi
B) İyi davranışların çoğalması gerektiği
C) İnsanların farklı yeteneklere sahip olduğu
D) Söz ile davranışların tutarlı olması gerektiği
14. Allah, sanat ve çalışmasında hünerli olan kimseyi sever. **Bu hadis ile Hz. Peygamber aşağıdakilerden hangisinin önemini vurgulamıştır?**
- A) Sözde güzelliğin
B) Huyda güzelliğin
C) Davranışta güzelliğin
D) İş ve ürünlerde güzelliğin
15. **Darü'l-acezelerin kurulması İslam kültürünün aşağıdakilerden hangisine verdiği önemi göstermektedir?**
- A) Namaz ibadetine
B) İlim öğrenmeye
C) Yaşlılara
D) Yetimlere
16. **Duygu ve düşüncelerin belli bir sistem, ahenk ve ritim içerisinde seslerle ifade edilmesine ne ad verilir?**
- A) Resim B) Musiki
C) Hüsnühat D) Mimari
17. **Tezhip ile ilgili aşağıdakilerden hangisi yanlıştır?**
- A) Özel boyalarla su üzerinde yapılan şekillerin kağıda çıkarılmasıdır.
B) İslam medeniyetinde ortaya çıkan sanat dallarından biridir.
C) Altın tozu ve boya kullanılarak yapılan süsleme sanatıdır.
D) Bu sanat dalı ile uğraşan sanatkarlara müzehhip denir.
18. **Kâğıt veya deri üzerine yapılan, ışık, gölge ve derinliği olmayan küçük boyutlu ve renkli resim sanatına ne ad verilir?**
- A) Hüsnühat B) Tezhip
C) Minyatür D) Çini
19. "Güneş kendi için belirlenen yörüngede akar. İşte bu, aziz ve alim olan Allah'ın takdiridir. Ay içinde birtakım menziller tayin ettik. Nihayet o, eğri hurma dalı gibi olur da geri döner. Ne güneş aya yetişebilir ne de gece gündüzü geçebilir. Her biri bir yörüngede yüzerler." (Yâsin suresi, 38-40. ayetler)
Bu ayetlerden aşağıdaki sonuçlardan hangisi çıkarılamaz?
- A) Allah kainatı sistemli yaratmıştır.
B) Allah yüce ve her şeyi bilendir.
C) Kainatta bir düzen vardır.
D) Evren ezeli ve ebedidir.

3. OTURUM

20. Kur'an, ses ve anlam bütünlüğüne, ahenk ve şiirselliğe, konuların seçilişinde inceliğe sahip bir kitaptır. **Bu durum Kur'an mesajının aşağıdaki özelliklerinden hangisini göstermektedir?**

- A) Mesajının tüm insanlığa hitap ettiğini
B) Estetik bir güzelliğe sahip olduğunu
C) İnsanlar tarafından değiştirilemeyeceğini
D) Geçmiş toplumların hayatlarından bilgiler içerdiğini

(122) FELSEFE – 2

1. **Toplum düzenleyen ahlak kuralları üzerine derinlemesine düşünen felsefe alanı aşağıdakilerden hangisidir?**

- A) Varlık
B) Sanat
C) Ahlak
D) Bilim

2. **Bireyin bir baskı ve zorlama olmadan isteklerini gerçekleştirmesi aşağıdaki kavramlardan hangisiyle ifade edilir?**

- A) Ahlak yasası
B) Özgürlük
C) Kötü
D) İyi

3. İnsan içten ve dıştan gelen nedenlerle belirlenmiş bir varlıktır. İnsanın iradesini belirleyen bu nedenler bireyin özgürce karar vermesini engellemektedir.

Bu açıklama ahlak felsefesinin aşağıdaki sorularından hangisine cevap niteliğindedir?

- A) Evrensel ahlak yasası var mıdır?
B) Ahlaki eylemin amacı nedir?
C) Ahlak yargılarının özellikleri nelerdir?
D) İnsan ahlaki eylemde bulunurken özgür müdür?

4. Ahlak yargıları toplum içinde bireyin neyi yapıp neyi yapmayacağını belirten kurallardır.

Buna göre aşağıdakilerden hangisi bir ahlak yargısıdır?

- A) Hırsızlık yapmak kötüdür.
B) Bir gün 24 saattir.
C) Namaz kılmak sevaptır.
D) Cemal Süreya'nın şiirleri güzeldir.

5. Sokrates'e göre bilgi bizi doğru davranışa, bilgisizlik ise yanlış davranışa yönlendirir. Bilgi bizi erdemli ve mutlu kılar.

Buna göre Sokrates için ahlakın temelinde aşağıdakilerden hangisi vardır?

- A) Özgürlük
B) Ödev
C) Sezgi
D) Bilgi

6. "Öyle bir davran ki davranışına ölçü olarak aldığın ilke, tüm insanlar için evrensel bir yasa olabilsin." **diyen Kant bu sözle aşağıdakilerden hangisini amaçlamıştır?**

- A) En yüksek iyinin yarar olduğunu göstermeyi
B) Bireysel faydaya uygun davranmayı
C) Ahlak yasasını evrenselleştirmeyi
D) Ahlaki ilkeleri yok saymayı

7. **Aşağıdakilerden hangisi siyaset felsefesinin temel kavramlarından biri değildir?**

- A) Deney
B) Devlet
C) Bürokrasi
D) Sivil toplum

8. "İktidar, Tanrı'nın yeryüzündeki temsilcisidir. Görevi de Tanrı'nın kendisine gösterdiği amacı gerçekleştirmektir."

Bu parçada siyaset felsefesinin hangi temel sorusuna cevap verilmiştir?

- A) Bürokrasiden vazgeçilebilir mi?
B) İktidar kaynağını nereden alır?
C) Sivil toplumun önemi nedir?
D) Bireyin temel hakları nelerdir?

9. Platon'a göre devlet, hiçbir insanın kendi kendine yetememesi, ihtiyaçlarını gidermek için başkalarının yardımına muhtaç olması gibi doğal bir nedenden ortaya çıkmıştır.

Platon'a göre devletin ortaya çıkmasında aşağıdakilerden hangisi etkilidir?

- A) Bilgi arayışı
B) Tanrı buyruğu
C) Toplum sözleşmesi
D) İnsan ihtiyaçları

10. Protagoras'a göre her şeyin ölçüsü insan olduğu için bütün insanların üzerinde anlaşabilecekleri tek bir ideal düzen oluşturulamaz.

Protagoras bu düşünceleriyle aşağıdakilerden hangisini savunmuştur?

- A) İdeal bir devlet düzeni yoktur.
B) Devlet evrensel ahlakı sağlamak için vardır.
C) İdeal bir devlet özgürlükle mümkündür.
D) İnsanlar erdemli bir toplum oluşturabilirler.

11. Bu toplumda egemen güç teknolojidir. İnsanlar hastalanmaz, yaşlanmaz ve ölüm korkusu taşımazlar. Her şey önceden planlanmıştır. İnsanlar bu planlara uygun biçimde üretilmektedir.

Aldous Huxley'in sözü edilen toplum düzenini anlattığı eseri aşağıdakilerden hangisidir?

- A) Güneş Ülkesi
B) Devlet
C) Yeni Dünya
D) Erdemli Toplum

12. • 11. yüzyılda yaşamış ünlü Türk düşünürü ve şairidir.
• Birey, devlet ve yaşamı konu alan Kutadgu Bilig adlı eseriyle ün kazanmıştır.
• İdeal bir devletin akla, adalete, doğru ve adil yasalara dayanması gerektiğini söylemiştir.

Verilen bilgiler aşağıdaki düşünürlerden hangisine aittir?

- A) Yusuf Has Hacı
B) Montesquieu
C) Rousseau
D) Platon

13. **İnsanın çevresiyle kurduğu ilişkiyi estetik bir biçimde sunması aşağıdakilerden hangisiyle ifade edilir?**

- A) Siyaset
B) Bilim
C) Sanat
D) Din

14. Bir müzik parçası onu besteleyen sanatçının zihninde bir kez oluşur ve istese de aynı parçayı ikinci kez yapamaz.

Bu örnekte sanat eserinin aşağıda verilen özelliklerinden hangisi vurgulanmıştır?

- A) Alımlayıcıya gereksinim duyması
B) İçerik ve biçimden oluşması
C) Estetik hazza dayanması
D) Tek ve biricik olması

3. OTURUM

15. Aşağıdakilerden hangisi sanat felsefesinin sorularından biridir?

- A) Bilgimizin sınırı nedir?
- B) Sanat eseri nasıl oluşur?
- C) Varlık bir midir, çok mudur?
- D) Tanrı var mıdır?

16. "Zevkler ve renkler tartışılmaz." sözü aşağıdaki yargılardan hangisinin temel dayanağını oluşturur?

- A) Ortak estetik yargılar yoktur.
- B) Sanat toplum içindedir.
- C) Sanatçı doğayı taklit eder.
- D) Sanat insanı özgürleştirir.

17. Bir doğa parçasına bakıp oraya ev yapmasına yarayacağı için beğenen kişi estetik bir tavır içinde değildir. Aynı yeri sadece güzellik duygusuyla beğenen kişinin tavrı ise estetik bir tavidir.

Buna göre estetik tavrın belirleyicisi aşağıdakilerden hangisidir?

- A) Özgürlüğe ulaştırması
- B) Kişisel ölçütlere dayanması
- C) Toplumsal değerlere uygun olması
- D) Güzellik duygusuna bağlı bir beğeniye dayanması

18. • Tanrı'ya, buyruklarına ve kutsal kitaplara olan inançtır.
• Tanrı tarafından seçilmiş ve Tanrı'nın buyruklarını insanlara ileten kişidir.
• Oruç ve namaz gibi inancın ifadesi olarak düzenli olarak yapılan eylemlerdir.

Verilen tanımlar aşağıdaki kavramlarla eşleştirildiğinde hangisi açıkta kalır?

- A) Peygamber
- B) İbadet
- C) Yüce
- D) İman

19. Din felsefesinin amacı aşağıdakilerden hangisidir?

- A) Sanat eserleri üretmek
- B) Dinin doğasını açıklamak
- C) Bilimsel deneyler yapmak
- D) Toplumunu analiz etmek

20. Aşağıdakilerden hangisi Tanrı'nın varlığını kabul eden görüşler arasında yer almaz?

- A) Teizm
- B) Deizm
- C) Ateizm
- D) Panteizm

(124) SEÇMELİ FELSEFE – 2

1. İyi ile kötü arasında özgür bir seçim yapmayan birey, davranışlarından ahlaken sorumlu değildir.

Buna göre bireyin davranışından sorumlu olması aşağıdakilerden hangisine bağlıdır?

- A) Davranışın hazza dayanmasına
- B) Sonunda kişiyi mutlu etmesine
- C) Temelinde bilgi olmasına
- D) Özgürce yapılmış olmasına

2. İhtiyacı olan birisine yardım etmek iyidir ama sınavda arkadaşımıza yardım etmek iyi değildir.

Bu örneğe göre iyi kavramıyla ilgili olarak aşağıdakilerden hangisi söylenebilir?

- A) Duruma ve kişiye göre değişir.
- B) Değer verilir.
- C) Mutluluk verir.
- D) Evrenseldir.

3. Aristoteles'e göre erdem, iki aşırı uç arasında ortayı bulmaktır. Bir erdem olan cömertlik, savurganlık ile cimrilik arasındaki orta yoldur.

Buna göre Aristoteles için erdem aşağıdakilerden hangisidir?

- A) Haz peşinde koşmak
- B) Bencil davranmak
- C) Çıkarıcı olmak
- D) Ölçülü olmak

4. Her insan ben sevgisiyle donatılmıştır. Bu nedenle tüm insanlar yalnızca kendi mutluluklarını düşünür ve kendi ihtiyaçlarını gerçekleştirecek biçimde davranır.

Verilen düşünceler aşağıdaki ahlak görüşlerinden hangisine aittir?

- A) Ödev ahlakı
- B) Yararcılık
- C) Hazcılık
- D) Bencilik

5. Tasavvuf düşüncesine göre Tanrı'ya ulaşma ve O'nunla bütünleşme yolu aşağıdakilerden hangisidir?

- A) Fayda
- B) Duyu verileri
- C) Sezgi ve aşk
- D) Akıl ve irade

- 6. • Devlet nedir?
- Meşruiyetin ölçütü nedir?
- En iyi yönetim şekli nedir?

Verilen sorular aşağıdaki felsefe disiplinlerinden hangisine aittir?

- A) Bilgi
- B) Siyaset
- C) Bilim
- D) Varlık

7. Bir toprak parçası üzerinde, ortak kültüre sahip insan topluluğunun egemenlik içinde meydana getirdiği siyasal ve hukuksal yönetim mekanizmasına devlet denir.

Buna göre devletin varlığı için aşağıdakilerden hangisi zorunlu değildir?

- A) İnsan topluluğu
- B) Toprak bütünlüğü
- C) Egemenlik
- D) Kral

8. İdeal bir düzen oluşturulabilmesi için özgürlüğü temele alan liberalizm aşağıdakilerden hangisini savunur?

- A) Ortak mülkiyeti
- B) Güçlüleri korumayı
- C) Düşünce ve inanç özgürlüğünü
- D) İnsanları baskı altına almayı

9. Aşağıdakilerden hangisi sivil toplumu oluşturan öğelerden biri değildir?

- A) Karmaşa
- B) Hoşgörü
- C) Demokrasi
- D) Çoğulculuk

10. Bazı düşünürler içinde yaşadıkları toplumsal düzenin iyileştirilemeyeceğine inandıkları için mevcut düzeni eleştirmiş ve gerçekleşmesi mümkün olmayan ideal ya da düşsel bir toplum tasarlamışlardır. Daha mutlu ve iyi bir toplumda yaşama isteğinden doğan bu tasarımlara ütopya denir.

Buna göre ütopyalar için aşağıdakilerden hangisi söylenemez?

- A) İdeal bir düzen tasarımıdır.
- B) Var olan toplumsal düzeni eleştirir.
- C) Gerçekleşmesi mümkün olan bir toplumsal düzendir.
- D) İyi bir toplumda yaşama isteğinden kaynaklanır.

3. OTURUM

11. Montesquieu'ya göre iktidarın gücünün sınırlandırılması gerekir. Bunun için yasama, yürütme ve yargı ayrı ellerde olmalıdır.

Buna göre Montesquieu iktidarın gücünün sınırlandırılması için aşağıdakilerden hangisini önermiştir?

- A) İkel yaşamı
B) Güçler ayrılığı ilkesini
C) Devletsiz bir toplumda yaşamayı
D) Ahlaka bağlı bir yönetim olmasını

12. Aşağıdakilerden hangisinde sanat felsefesinin incelediği kavramlar bir arada verilmiştir?

- A) Çirkin - erdem - sanat eseri
B) Doğru - sanat - yaratım
C) Güzel - devlet - sanat eseri
D) Sanat - yaratım - güzel

13. "Renkler, sesler, şekiller kişiler tarafından farklı değerlendirilir. Bu nedenle kimse kendisinin güzel bulunduğunu başkalarının da güzel bulmasını bekleyemez. Estetiğin yargıları kişiye özgüdür."

Bu açıklama estetik yargıların hangi özelliğiyle ilgilidir?

- A) Öznel olmasıyla
B) Zorunlu olmasıyla
C) Zamana göre değişmesiyle
D) Kültürel özelliklerden etkilenmesiyle

14. I. Sanatçı açısından yaratma her zaman biriciktir.
II. Sanat eseri, aslını en güzel biçimiyle taklit ettiği sürece güzel sayılır.
III. Sanatın ortaya çıkmasında sanatçının yaratıcı gücünün önemli bir yeri vardır.

Yukarıda yaratma olarak sanat kuramı için verilenlerden hangileri doğrudur?

- A) Yalnız I. B) Yalnız II.
C) I ve III. D) II ve III.

15. "Bazı sanatçıların ortaya koyduğu eserler çok seyrediliyor, dinleniyor ve okunuyorsa bunlarda herkesin kabul ettiği yüksek estetik değerler olduğu içindir." diyen bir düşünür aşağıdakilerden hangisini kabul etmektedir?

- A) Sanatın taklit olduğunu
B) Ortak estetik yargıların varlığını
C) Güzelin topluma göre değiştiğini
D) Estetik beğenilerin kişisel olduğunu

16. Bir sanat eserinin en temel işlevi aşağıdakilerden hangisidir?

- A) Estetik bir duygu oluşturmak
B) Doğruyu göstermek
C) İyiye yönelmek
D) Yarar sağlamak

17. Filozofların din üzerine düşüncüğü, tartıştığı, eleştirdiği alan aşağıdakilerden hangisidir?

- A) Etik B) Estetik
C) Ontoloji D) Din felsefesi

18. Aşağıdakilerden hangisi Tanrı kanıtlamaları arasında yer almaz?

- A) Ontolojik B) Kozmolojik
C) Bilimsel D) Ereklilik

19. Aşağıdakilerden hangisi agnostisizmin temel iddiasıdır?

- A) Tanrı'nın varlığı ya da yokluğu bilinemez.
B) Tanrı ve evren bir ve özdeştir.
C) Tanrı evrene aşkındır.
D) Tanrı vardır.

20. Din felsefesi dinsel olgulara eleştirel ve sorgulayıcı bir gözle bakarken din kutsal kitaplarda yazan kesin doğru- lardan hareket eder.

Buna göre din felsefesini dinden ayıran özelliği aşağıdakilerden hangisidir?

- A) İnanca dayanması
B) Eleştirel bir tavrı olması
C) Belirli bir dini temel alması
D) Açıklamalarını kutsal kitaplara dayandırması

2. Birinci Kosova Savaşı'nda Anadolu beylikleri ilk defa asker göndererek Osmanlı Devleti'ne yardım etmeleri aşağıdakilerden hangisinin gerçekleşmesinde önemli bir adım olmuştur?

- A) Türk siyasi birliğinin kuruluşunda
B) Balkanlarda kesin hâkimiyet kurulmasında
C) Haçlı Seferleri'nin son bulmasında
D) Rumeli'nin fethinde

3. Niğbolu Zaferi'ni kazanması üzerine, dönemin halifesinin "Anadolu'nun Sultanı" anlamında Sultan-ı İklim-i Rum unvanı ile hitap ettiği padişah aşağıdakilerden hangisidir?

- A) I. Murat
B) Yıldırım Bayezit
C) Osman Bey
D) Orhan Bey

4. I. Murat Dönemi'nde "Ülke hanedanın ortak malıdır." anlayışı yerine "Ülke padişah ve oğullarındır." anlayışına geçilmesinin temel gerekçesi aşağıdakilerden hangisidir?

- A) Anadolu'da Türk siyasi birliğini sağlamak.
B) Balkanlardaki hâkimiyetini güçlendirmek.
C) Taht kavgalarının önüne geçmek.
D) İslam dünyasındaki saygınlığını artırmak.

5. Orhan Bey Dönemi'nde adalet, yönetim, askerlik, eğitim ve maliye alanında kurumların oluşturulması aşağıdakilerden hangisinin göstergesidir?

- A) Devletleşme sürecine geçildiğinin
B) Anadolu'da hâkimiyet kurulduğunun
C) Taht kavgalarının sona erdiğinin
D) Fetret Dönemi'nin sona erdiğinin

6. Osmanlı Devleti'nde herhangi bir meslek dalında çırağların kalfalığa, kalfaların ise ustalığa yükselmeleri ve gedik adı verilen dükkân açma hakkını elde edebilmeleri için aşağıdakilerden hangisinin izni gerekiyordu?

- A) Reayanın
B) Loncaların
C) Subaşlıların
D) Tımarlı Sipahilerin

(133) TARİH – 3

1. 14.yüzyıl başlarında Balkanlar ve Avrupa ile ilgili aşağıdaki bilgilerden hangisi yanlıştır?

- A) Siyasi karışıklıklar yoğun olarak yaşanmaktaydı.
B) İtalya'da şehir devletleri bulunmaktaydı.
C) Sırp Krallığı egemenlik alanını genişletme mücadelesi içerisindeydi.
D) Balkan milletleri arasında dinsel birliklilik vardı.

3. OTURUM

7. Bosna-Hersek aşağıdaki hangi padişah döneminde Osmanlı Devleti topraklarına katılmıştır?

- A) Kanuni Sultan Süleyman
- B) Fatih Sultan Mehmet
- C) Yıldırım Bayezit
- D) Yavuz Sultan Selim

8. "Hamlet, Romeo ve Jülyet" gibi tiyatro eserlerini dünya edebiyatına kazandıran ve İngiltere'de Rönesans'ın en önemli temsilcisi sayılan yazar aşağıdakilerden hangisidir?

- A) Leonardo da Vinci
- B) Dante
- C) William Shakespeare
- D) Martin Luhter

9. Aşağıdakilerden hangisi Rönesans'ın sonuçlarından biri değildir?

- A) Skolastik düşünce etkisini kaybetmeye başladı.
- B) Güzel sanatlar ve edebiyat alanında çok sayıda yazar, sanatçı yetişti.
- C) Bilim dallarında hızlı gelişmeler yaşandı.
- D) Yeni ticaret yolları keşfedildi.

10. Osmanlı Devleti'nde ülkeyi kırk altı yıl yöneterek en uzun süre tahtta kalan ve hukuk sistemindeki en köklü düzenlemeler yaptığı için "Kanuni" unvanını alan Padişah aşağıdakilerden hangisidir?

- A) II. Bayezit
- B) Murat Hüdavendigâr
- C) I. Sultan Süleyman
- D) I. Bayezit

11. Günümüzde 28 Eylül Türk Denizcilik Günü olarak kutlanmaktadır. Bunun nedeni 28 Eylül 1538'de Haçlı donanmasını Akdeniz'de yenen Barbaros Hayrettin Paşanın kazandığı büyük zaferdir.

Bu bilgiye bahsedilen savaş aşağıdakilerden hangisidir?

- A) İnebahtı Deniz Savaşı
- B) Preveze Deniz Savaşı
- C) Cerbe Deniz Savaşı
- D) Turnadağ Savaşı

12. Aşağıdakilerden hangisi Osmanlı Devleti'nin 16. yüzyılda Fransa'ya kapitülasyonlar vererek ulaşmak istediği amaçlar arasında sayılmaz?

- A) Baharat yolu ticaretini yeniden canlandırmak.
- B) Toplumun temel tüketim mallarına olan ihtiyacını karşılamak.
- C) Fransa'yı Avrupa'da kurulacak olan Haçlı ittifaklarından koparmak.
- D) Avrupa'daki bilim ve teknikteki gelişmeleri yakından takip etmek.

13. Osmanlı Devleti'nde minyatür sanatçılarına verilen isim aşağıdakilerden hangisidir?

- A) Nakkaş
- B) Matrakçı
- C) Hattat
- D) Ebruzen

14. Fatih Dönemi'nde Ayasofya Müderrisliği yapan, Ay'ın haritasını çıkaran ilk bilim adamı olarak tarihe geçen ve bu nedenle NASA (Amerikan Ulusal Havacılık ve Uzay Araştırmaları Merkezi) tarafından Ay'daki bir bölgeye ismi verilen bilim adamı aşağıdakilerden hangisidir?

- A) Ali Kuşçu
- B) Fuzuli
- C) İdris-i Bitlisi
- D) Piri Reis

15. Aşağıdakilerden hangisi 17. yüzyılda Osmanlı Devleti'nde çıkan isyanların ekonomik sonuçlarından biridir?

- A) Devlet otoritesinin zayıflaması
- B) Yeniçeri Ocağı'nın bozulması
- C) Devlet gelirlerinin azalması
- D) Şehirlerde barınma sorununun ortaya çıkması

16. Merkantilizm adı verilen ekonomik modeli benimseyen devletlerin temel amacı aşağıdakilerden hangisidir?

- A) Devlet otoritesini güçlendirmek
- B) Dış ticaret fazlası oluşturmak
- C) Değerli madenlerin ülkeye girişini yasaklamak
- D) İç ticarete vergileri artırmak

17. Osmanlıda Cuma günleri Müslümanların, Cumartesi Musevilerin, Pazar ise Hristiyanların tatil günleri idi.

Bu durum toplumun hangi alandaki özgürlüğü ile ilgilidir?

- A) Siyasi
- B) Ekonomik
- C) Askerî
- D) Dini

18. IV. Mehmet Dönemi'nde; devlet işlerinde alacağı kararlara, atacağı kişilere karışılmaması ve kendisi dinlenmeden hakkındaki şikâyetlere itibar edilmemesi şartıyla sadrazamlık görevini kabul eden kişi aşağıdakilerden hangisidir?

- A) Sokullu Mehmet Paşa
- B) Lala Mustafa Paşa
- C) Merzifonlu Kara Mustafa Paşa
- D) Köprülü Mehmet Paşa

19. Genç Osman 1621 yılında çıktığı Lehistan Seferi sırasında ordudaki yeniçerilerin isteksizliği üzerine hangi alanda islahat yapmaya karar vermiştir?

- A) Askerî
- B) Kültürel
- C) Dini
- D) Ekonomik

20. XVII. yüzyılda İstanbul'da Mimar Sedefkâr Mehmet Ağa tarafından yapılan ve Avrupalıların Mavi Camii olarak adlandırdıkları cami aşağıdakilerden hangisidir?

- A) Selimiye Camii
- B) Şehzade Camii
- C) Sultan Ahmet Camii
- D) Fatih camii

(134) TARİH – 4

1. XVIII. yüzyılda henüz siyasi birliğini sağlamamış devlet aşağıdakilerden hangisidir?

- A) İngiltere
- B) Fransa
- C) İspanya
- D) Almanya

2. Osmanlı Devleti'nde;

- İlk Türk matbaasının açılması,
- Yeni okullar ve kütüphaneler açılması

gelişmeleri aşağıdaki alanlardan hangisine katkı sağlamıştır?

- A) Kültürel
- B) Ekonomik
- C) Askerî
- D) Siyasi

3. OTURUM

3. Aydınlanma Çağı düşünürlerinin ortaya koyduğu "Aydınlanma Felsefesi" nin sonuçları arasında aşağıdakilerden hangisi yoktur?

- A) Avrupa'da bilimsel ve teknolojik gelişmeler hızlandı.
- B) Ekonomi alanında yeni görüşler ortaya çıktı.
- C) Dogmatizme dayalı skolastik düşünce güç kazandı.
- D) Jeoloji, antropoloji, paleontoloji gibi yeni bilim dalları ortaya çıktı.

4. Aşağıdaki devletlerden hangisi Sanayi İnkılabı'nın başlattığı sömürgecilik yarışında yer almamıştır?

- A) İngiltere
- B) Osmanlı
- C) Hollanda
- D) Portekiz

5. Osmanlı Devleti'nin Rusya'ya karşı kaybettiği savaştan sonra ilk kez savaş tazminatı ödemeyi kabul ettiği antlaşma aşağıdakilerden hangisidir?

- A) Küçük Kaynarca
- B) Belgrad
- C) Pasarofça
- D) Karlofça

6. ABD'nin kuruluşu Avrupa'da önemli değişiklikler ortaya çıkarmıştır. Aşağıdakilerden hangisi bu değişikliklerden biri değildir?

- A) Başta Fransız İhtilali olmak üzere önemli siyasi ve toplumsal gelişmelerin önünü açmıştır.
- B) Avrupa'dan Amerika'ya yapılan göçler artmıştır.
- C) ABD, Avrupa devletlerini dengeleyecek bir siyasi güç haline gelmiştir.
- D) Avrupa'da yeni devletlerin ortaya çıkmasını sağlamıştır.

7. 1789 Fransız İhtilali'nden önce Fransız halkı soylular, rahipler, burjuvalar ve köylüler olmak üzere dört ana gruba ayrılmıştı.

Bu bilgiye göre aşağıdakilerden hangisine ulaşılabilir?

- A) Din adamları toplumda ekonomik olarak en güçlü gruptur.
- B) Fransa'da toplum sınıflara ayrılmıştır.
- C) Kral ülkeyi bir meclisle birlikte yönetmektedir.
- D) Soylular toplumda nüfusun çoğunluğunu oluşturmaktadırlar.

8. XVIII. yüzyılda Osmanlı Devleti toprak kayıplarını durdurmak amacıyla aşağıdaki alanlardan hangisinde ıslahatlara önem vermiştir?

- A) Kültürel
- B) Siyasi
- C) Askerî
- D) Hukuk

9. Osmanlı Devleti'nde "Vaka-i Hayriye" olarak adlandırılan olay aşağıdakilerden hangisidir?

- A) Divanihümayu'nun kaldırılması
- B) Mekteb-i Harbiye'nin (Harp Okulu) açılması
- C) Yeniçeri Ocağı'nın kaldırılması
- D) Sened-i İttifak'ın kabul edilmesi

10. Osmanlı Devleti, Mısır sorununda İngiltere'nin desteğini almak için aşağıdaki antlaşmalardan hangisini imzalamıştır?

- A) Balta Limanı Ticaret Antlaşması
- B) Kütahya Antlaşması
- C) Hünkâr İskeleyi Antlaşması
- D) Kasr-ı Şirin Antlaşması

11. Osmanlı Devleti'nde gerçekleştirilen;

- I. Avrupa'ya öğrencilerin gönderilmesi,
- II. Divanihümayunun kaldırılması,
- III. Nizamıcedit Ordusu'nun kurulması,
- IV. Kütüphanelerin açılması

ıslahatlarından hangileri idari alanla ilgilidir?

- A) Yalnız I.
- B) Yalnız II.
- C) I ve III.
- D) II ve IV.

12. Aşağıdakilerden hangisi Tanzimat Fermanı ile getirilen yeniliklerden biri değildir?

- A) Herkesin mülkiyet ve miras hakkına sahip olması
- B) Askerlik süresinin belli bir zamanla sınırlandırılması
- C) Meşrutiyet yönetimine geçilmesi
- D) Vatandaşlardan gelirlerine göre vergi alınması

13. Osmanlı Devleti'nin bir Avrupa devleti kabul edildiği ve Avrupa devletler hukukundan yararlanma hakkı elde ettiği antlaşma aşağıdakilerden hangisidir?

- A) Yeşilköy Antlaşması
- B) 1856 Paris Antlaşması
- C) 1840 Londra Antlaşması
- D) Bükreş Antlaşması

14. Fransız İhtilali'nin ortaya çıkardığı özgürlükçü fikirleri benimseyen ve Osmanlı Devleti'nin iç ve dış sorunlarının Mutlakiyet yönetiminden Meşrutî yönetime geçmekle çözülebileceğini düşünen aydınların kurduğu cemiyet aşağıdakilerden hangisidir?

- A) Genç Osmanlılar
- B) Etnik-i Eteryâ
- C) Hürriyet ve İttifak Fırkası
- D) Ahrar Fırkası

15. Osmanlı tarihinde seyahat amacıyla yabancı ülkeleri ziyaret eden ilk ve son padişah aşağıdakilerden hangisidir?

- A) II. Abdülhamit
- B) III. Selim
- C) Abdülaziz
- D) I. Abdülmecit

16. Aşağıdakilerden hangisi Osmanlı Devleti'nin son dönemlerinde Osmanlılık düşüncesinin hayata geçirilmesi ile ilgili değildir?

- A) Islahat Fermanı
- B) I. Meşrutiyetin ilanı
- C) Tanzimat Fermanı
- D) Duyunuumumiye İdaresi

17. Ahmet Cevdet Paşa başkanlığında bir heyet tarafından hazırlanan ve Osmanlı Medeni Kanunu olarak da bilinen kanun hangisidir?

- A) Senedi İttifak
- B) Tevhiditedrisat
- C) Kanunuesasi
- D) Mecelle

18. İngiltere'nin Rusya'nın sıcak denizlere açılma politikası karşısında Osmanlı Devleti'ni desteklemesinin temel gerekçesi aşağıdakilerden hangisidir?

- A) Osmanlı'daki Hristiyan halkın tek koruyucusu olmak
- B) Rusya'nın Osmanlı Devleti ile ittifak kurmasını engellemek
- C) Osmanlı Devleti'nin güçlü olmasını sağlamak
- D) Sömürgelerine giden yolların güvenliğini sağlamak

3. OTURUM

19. XIX. yüzyılda Osmanlı toplumunda en göze çarpan olayların başında ülkede nüfusun yapısındaki ve kentlerdeki değişim gelmektedir.

Aşağıdakilerden hangisi bu değişimlerden biri değildir?

- A) Kırsal kesimden kentlere göçün yaşanması
- B) Kaybedilen topraklardaki Müslümanların Osmanlı'ya sığınması
- C) Gayrimüslim nüfusun Müslüman nüfusa oranla artması
- D) Batılı yaşam biçiminin özellikle kentlerde yaygınlaşması

20. Sultan Abdülmecit Dönemi'nde Mekatib-i Umumiye Nezareti kurularak rüştiyelerin artırılması ve öğretmen yetiştirmek üzere Darü'l Muallim Okulunun açılması aşağıdaki hangi alana önem verildiğinin göstergesidir?

- A) Eğitime
- B) Orduya
- C) Ekonomiye
- D) Sanata

(142) T.C. İNK. TAR. ATA. – 2

1. Yeni Türk Devleti'nde meclis başkanlığı ile hükümet başkanlığının birbirinden ayrılması aşağıdakilerin hangisiyle gerçekleşmiştir?

- A) TBMM'nin açılmasıyla
- B) Cumhuriyet'in ilan edilmesiyle
- C) Saltanatın kaldırılmasıyla
- D) 1921 Anayasası'nın kabul edilmesiyle

2. Aşağıdakilerden hangisi ekonomik alanda yapılan inkılaplardan biridir?

- A) Teşvik-i Sanayi Kanunu'nun kabul edilmesi
- B) Türk Tarih Kurumunun kurulması
- C) Türk Dil Kurumunun kurulması
- D) Soyadı Kanunu'nun kabul edilmesi

3. Türk karasularında yolcu ve yük taşıma hakkının sadece Türk gemilerine verilmesini sağlayan kanun aşağıdakilerden hangisidir?

- A) Teşvik-i Sanayi Kanunu
- B) Tehvid-i Tedrisat Kanunu
- C) Kabotaj Kanunu
- D) Türk Medeni Kanunu

4. Aşağıdakilerden hangisi Türkiye'de tarımın gelişmesi için yapılanlardan biri değildir?

- A) Köylüye ucuz tohum sağlanması
- B) Tarım Kredi Kooperatiflerinin kurulması
- C) Çiftçiden alınan aşar vergisinin kaldırılması
- D) Hıfzısıhha Enstitüsü'nün kurulması

5. Özel teşebbüsün gerçekleştiremediği yatırımların devlet eliyle yapılması Atatürk'ün hangi ilkesinin uygulamasıdır?

- A) Milliyetçilik
- B) Devletçilik
- C) Halkçılık
- D) Cumhuriyetçilik

6. Aşağıdakilerden hangisi ülkemiz yeraltı kaynaklarının araştırılması amacıyla kurulmuştur?

- A) Maden Tetkik ve Arama Enstitüsü
- B) Sümerbank
- C) Etibank
- D) Sanayi ve Maadin Bankası

7. I. Beş Yıllık Kalkınma Planının başarılı bir şekilde uygulanmasının ardından II. Beş Yıllık Kalkınma Planı hazırlandığı halde uygulanmamasının nedeni aşağıdakilerden hangisidir?

- A) I. Dünya Savaşı'nın çıkması
- B) II. Dünya Savaşı'nın çıkması
- C) 1929 Dünya ekonomik bunalımının Türkiye'yi etkilemesi
- D) Özel sektörün elinde yeterli sermayenin olmaması

8. Aşağıdakilerden hangisi Türk Ordusunun görevlerinden biri değildir?

- A) Yurdumuza yönelecek her türlü dış tehdidi önlemek
- B) Yurdumuza yönelecek her türlü iç tehdidi önlemek
- C) Türkiye Cumhuriyeti Devleti'ni korumak ve kollamak
- D) Ordunun beslenme, barınma, silah, araç ve gereç ihtiyaçlarını karşılamak

9. "Ülkesini,yüksek bağımsızlığını korumasını bilen Türk Milleti, dilini de yabancı diller boyunduruğundan kurtarmalıdır." diyen Atatürk bu düşünceyle aşağıdakilerden hangisini kurmuştur?

- A) Türk Tarih Kurumu'nu
- B) Maden Tetkik ve Arama Enstitüsü'nü
- C) Türk Dil Kurumu'nu
- D) Türk Hava Kurumu'nu

10. "İstikbal göklerde" diyen Atatürk'ün aşağıdakilerden hangisine önem verdiğini söyleyebiliriz?

- A) Havacılığa
- B) Tarıma
- C) Denizciliğe
- D) Araştırmaya

11. 1933'te iktidarı ele geçirek II. Dünya Savaşı'nın başlamasında önemli rolü olan Alman Nazi Partisi Lideri aşağıdakilerden hangisidir?

- A) Benito Musollini
- B) Franklin Roosevelt
- C) Adolf Hitler
- D) Winston Churchill

12. Misakımilli sınırları içerisinde yer almasına karşın Musul'un Irak'a bırakılmasına neden olan devlet aşağıdakilerden hangisidir?

- A) Fransa
- B) İngiltere
- C) İtalya
- D) ABD

13. Lozan Barış Antlaşması ile kurulan Boğazlar Komisyonu'nun Montrö Boğazlar Sözleşmesi ile kaldırılmasından sonra bu komisyonun görev ve yetkileri aşağıdakilerden hangisine devredilmiştir?

- A) Milletler Cemiyetine
- B) NATO'ya
- C) AET'ye
- D) Türkiye Cumhuriyeti Devleti'ne

14. I. Dünya Savaşı'ndan sonra dünya barışını sağlamak ve korumak amacıyla kurulan teşkilat aşağıdakilerden hangisidir?

- A) Milletler Cemiyeti
- B) Kuzey Atlantik Paketi
- C) Varşova Paketi
- D) OPEC

3. OTURUM

(153) COĞRAFYA – 3

15. Aşağıdakilerden hangisi Türk Devleti'nin üç temel organından biri değildir?

- A) Yasama B) Yürütme
C) Ordu D) Yargı

16. Yasama gücü millet adına aşağıdakilerden hangisi tarafından kullanılmaktadır?

- A) Bağımsız mahkemeler
B) Milli Güvenlik Kurulu
C) Bakanlar Kurulu
D) Türkiye Büyük Millet Meclisi

17. Her Türk vatandaşının yasalar karşısında eşit olması ve devletin imkânlarından eşit olarak yararlanması Atatürk'ün hangi ilkesinin bir gereğidir?

- A) Cumhuriyetçilik
B) Milliyetçilik
C) Halkçılık
D) Devletçilik

18. Türk Tarih Kurumu ve Türk Dil Kurumu'nun kurularak milli kültürümüzün gelişmesinin sağlanması Atatürk'ün hangi ilkesinin bir sonucudur?

- A) Cumhuriyetçilik
B) Halkçılık
C) Devletçilik
D) Milliyetçilik

19. Aşağıdakilerden hangisi Cumhuriyet Dönemi'nde sağlık alanında yapılan çalışmalardan biri değildir?

- A) Ankara Yüksek Ziraat Enstitüsü'nün açılması
B) Hıfzısıhha Enstitüsü'nün kurulması
C) Kızılay Hemşire Okulu'nun açılması
D) İstanbul ve Sivas'ta sağlık me-murları okullarının açılması

20. Birleşmiş Milletler Teşkilatı Güvenlik Konseyi'nin beş daimi üyesinden birisinin olumsuz oy kullanarak bir kararın alınmasına engel olma hakkı, aşağıdakilerden hangisidir?

- A) Barış B) Veto
C) Dava D) Müracaat

1. Aşağıdakilerden hangisi iç püskürük kayalardan biri değildir?

- A) Granit B) Kömür
C) Diyorit D) Siyenit

2. Tor topografyası, granitlerin fiziksel ve kimyasal yollarla ayrışması sonucunda birbiri üzerinde oluşan bloklardan meydana gelir.

Buna göre, tor topoğrafyası aşağıdaki kayaç gruplarından hangisi üzerinde oluşur?

- A) Püskürük
B) Başkalaşım
C) Kimyasal tortul
D) Organik tortul

3. Aşağıdaki kayalardan hangisi kalkerin metamorfizmaya uğramasıyla oluşmuştur?

- A) Elmas B) Granit
C) Mermer D) Gnays

4. Aşağıdakilerden hangisi su döngüsünde etkili olan unsurlardan biri değildir?

- A) Yüzey akışı
B) Buharlaşma
C) Yoğuşma
D) Toprak

5. Buzul aşındırması sonucunda oluşan çukur alanlarda suların birikmesiyle meydana gelen göllere ne ad verilir?

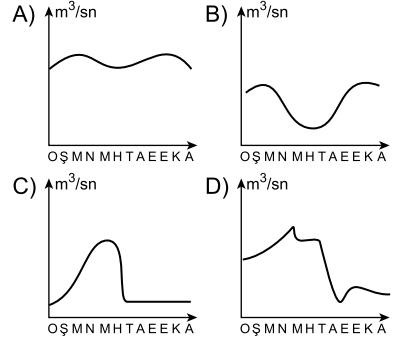
- A) Tektonik göl B) Karstik göl
C) Sirk gölü D) Volkanik göl

6. Yeryüzünde en geniş alan kaplayan su kaynağı aşağıdakilerden hangisidir?

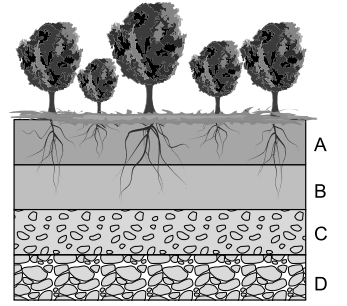
- A) Denizler B) Okyanuslar
C) Göller D) Barajlar

7. Akımı yıl içinde fazla değişiklik göstermeyen akarsular düzenli rejime sahiptir.

Buna göre aşağıda akım grafikleri verilen akarsulardan hangisinin rejimi diğerlerine göre daha düzenlidir?



8. Aşağıda toprağın katmanları (horizonları) gösterilmiştir.



Bu kesite göre bitki gelişimi hangi katmanda başlamıştır?

- A) D B) C C) B D) A

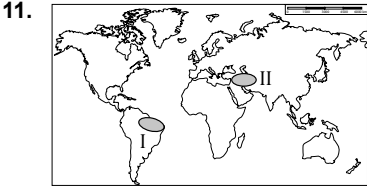
9. Soğuk ve nemli bölgelerin iğne yapraklı orman sahasında oluşan topraklar aşağıdakilerden hangisidir?

- A) Laterit B) Podzol
C) Tundra D) Çernezyom

10. Akdeniz bölgesinde kızılçam ormanlarının tahrip edilmesi sonucunda aşağıdaki bitki topluluklarından hangisi gelişmiştir?

- A) Maki
B) Sedir ormanı
C) Meşe ormanı
D) Karaçam ormanı

3. OTURUM



Harita üzerinde numaralandırılarak gösterilen alanlarda yaygın olan bitki örtüsü aşağıdakilerin hangisinde doğru verilmiştir?

- | | |
|-----------|--------|
| I | II |
| A) Bozkır | Tundra |
| B) Savan | Çayır |
| C) Tundra | Orman |
| D) Orman | Bozkır |

12. Osmanlı Devleti'nde ilk kapsamlı nüfus sayımı 1831 yılında padişah II. Mahmut döneminde yapılmıştır.

Bu dönemde yapılan nüfus sayımının temel amacı aşağıdakilerden hangisidir?

- A) Asker sayısını ve vergi yükümlülerini belirlemek
B) Nüfusun yaş gruplarına dağılımını belirlemek
C) Nüfusun cinsiyete göre dağılımını belirlemek
D) Nüfusun eğitim durumunu belirlemek

13. Aşağıdakilerden hangisi gelişmiş ülkelerde nüfus artış hızının düşük olmasının nedenlerinden biri değildir?

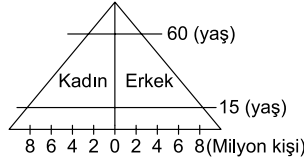
- A) Nüfus planlamasının yapılması
B) Eğitim seviyelerinin yüksek olması
C) İş gücüne duyulan ihtiyacın az olması
D) Kadınların çalışma hayatına girmesi

14. • Japonya
• Batı Avrupa
• ABD'nin doğu kıyıları

Yukarıda verilen yerlerde nüfusun yoğun olmasının ortak nedeni aşağıdakilerden hangisidir?

- A) Sanayi faaliyetleri
B) Turizm faaliyetleri
C) Tarımsal faaliyetler
D) Yer altı kaynakları

15.



Nüfus piramidi yukarıdaki gibi olan bir ülke ile ilgili aşağıdakilerden hangisi söylenebilir?

- A) Gelişmiş bir ülkedir.
B) Doğum oranı yüksektir.
C) Yaşlı nüfus oranı fazladır.
D) İşçi göçü almaktadır.

16. Aşağıdakilerden hangisi nüfusun Dünya üzerindeki dağılımını etkileyen doğal bir etmedir?

- A) Ulaşım
B) Turizm
C) İklim
D) Sanayi

17. Aşağıdaki ülkelerden hangisinin daha fazla beyin göçü aldığı söylenebilir?

- A) Cezayir
B) Nijerya
C) Kanada
D) Romanya

18. Aşağıdakilerden hangisi birincil ekonomik faaliyetlerdendir?

- A) Bankacılık
B) Turizm
C) Ticaret
D) Ormancılık

19. Aşağıdaki göçlerden hangisinin nedeni doğal afettir?

- A) Amerika kıtasının keşfedilmesiyle Avrupa'dan bu kıtaya yapılan göçler.
B) 2017 yılında Sri Lanka'da meydana gelen sel ve heyelan nedeniyle yapılan göçler.
C) II. Dünya Savaşı'ndan sonra Türkiye'den Almanya'ya yapılan göçler.
D) Lozan antlaşmasıyla Türkiye ile Yunanistan arasında yapılan göçler.

20. Aşağıdaki ülkelerden hangisinde üçüncül ekonomik faaliyet kolunda çalışan nüfus oranı daha fazladır?

- A) Nijerya
B) Mısır
C) Somali
D) Japonya

(154) COĞRAFYA – 4

1. Aşağıdakilerden hangisi Türkiye'nin özel (göreceli) konumunun sonuçlarından biridir?

- A) Yıl içinde dört mevsim özelliklerinin görülmesi
B) Akarsularının hidroelektrik enerji potansiyelinin yüksek olması
C) Kuzeyinden esen rüzgârların güneyinden esen rüzgârlara göre soğuk olması
D) Dağların güney yamaçlarında güneşlenme süresinin kuzey yamaçlarına göre daha fazla olması

2. Aşağıdaki platolardan hangisi kalkerli arazilerin yaygın olduğu alanlarda oluşmuştur?

- A) Taşeli
B) Bozok
C) Haymana
D) Ardahan

3. I. Ağrı Dağı
II. Erciyes Dağı
III. Küre Dağları

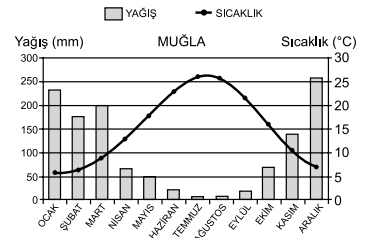
Yukarıdaki dağlardan hangileri volkanizma ile oluşmuştur?

- A) Yalnız I.
B) Yalnız III.
C) I ve II.
D) II ve III.

4. Türkiye'de batıdan doğuya doğru gidildikçe yükselti artmasının aşağıdakilerden hangisi üzerinde etkisi yoktur?

- A) Akarsuların beslenme kaynakları
B) Karın yerde kalma süresi
C) Yıllık sıcaklık ortalaması
D) Arazinin jeolojik yapısı

5. Aşağıda Muğla ilinin yıllık ortalama sıcaklık ve yağış grafiği verilmiştir.



Grafiğe bakılarak Muğla ile ilgili aşağıdakilerden hangisi söylenebilir?

- A) Yıl boyu düzenli yağış alır.
B) Yoğun kar yağışı görülür.
C) Yaz mevsimi kurak geçer.
D) En yağışlı mevsimi ilkbahardır.

3. OTURUM

6. Türkiye'ye güneydoğu yönünden esen ve yaz mevsiminin kurak geçmesine neden olan rüzgâr aşağıdakilerden hangisidir?

- A) Karayel B) Samyeli
C) Poyraz D) Lodos

7. Aşağıdaki iklim çeşitlerinden hangisi ülkemizde görülmez?

- A) Akdeniz B) Muson
C) Karasal D) Karadeniz



Harita üzerinde dağılışı gösterilen zonal toprak aşağıdakilerden hangisidir?

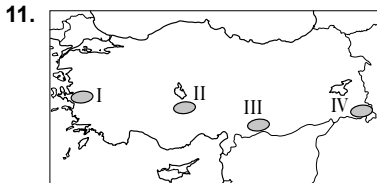
- A) Podzol
B) Çernezyom
C) Terra rossa
D) Kahverengi orman

9. Türkiye'de yaygın olan otsu bitki örtüsü aşağıdakilerden hangisidir?

- A) Bozkır B) Maki
C) Savan D) Tundra

10. Türkiye akarsuları aşağıdaki faaliyetlerden hangisi için büyük ölçüde uygun değildir?

- A) Kano B) Baraj yapma
C) Ulaşım D) Rafting



Harita üzerinde numaralandırılmış yerlerin hangisi yer şekillerinin engebeli ve iklim koşullarının elverişsiz olması nedeniyle seyrek nüfusludur?

- A) I B) II C) III D) IV

12. Aşağıdakilerden hangisi geçici kır yerleşmesidir?

- A) Yayla B) Mezra
C) Çiftlik D) Mahalle

13. Aşağıdaki şehirlerden hangisinin gelişmesinde taş kömürü madeninin etkisi olmuştur?

- A) Antalya B) Kırıkkale
C) Diyarbakır D) Zonguldak

14. Türkiye nüfusunun 1927 yılından günümüze kadar geçirdiği değişimler ile ilgili aşağıdaki bilgilerden hangisi doğrudur?

- A) Toplam nüfus miktarı artmıştır.
B) Kentsel nüfus oranı azalmıştır.
C) Sanayide çalışan nüfus oranı azalmıştır.
D) Tarımda çalışan nüfus oranı artmıştır.

15. Antalya'nın iklim şartları, doğal güzellikleri ve tarihi zenginlikleri turizmin gelişmesini sağlamıştır. İklim koşullarının elverişli olmasına bağlı olarak tarım oldukça gelişmiştir. Bundan dolayı Antalya göç alan yoğun nüfuslu şehirlerimize örnektir.

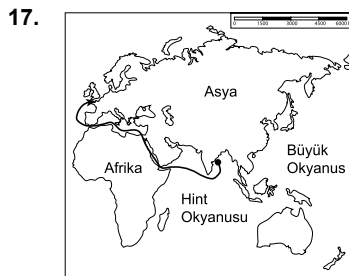
Metinde Antalya'nın yoğun nüfuslu olma sebeplerinin hangisinden söz edilmemiştir?

- A) İklim şartları
B) Ulaşım şartları
C) Tarımsal faaliyetler
D) Tarihi zenginlikler

16. I. Hatay'ın ana vatana katılması
II. Çalışmak için Türkiye'den yurt dışına yapılan işçi göçleri
III. Lozan Antlaşmasıyla Türkiye'ye yapılan göçler

Yukarıdakilerden hangileri Türkiye nüfusunun artmasında etkili olmuştur?

- A) Yalnız I. B) Yalnız III.
C) I ve II. D) I ve III.



Harita üzerinde gösterilen doğrultuda giden bir gemi aşağıdaki su yollarından hangisini kullanmaz?

- A) Panama Kanalı
B) Süveyş Kanalı
C) Babül Mendep Boğazı
D) Cebeli Tarık Boğazı

18. İstanbul'daki Yavuz Sultan Selim Köprüsü Asya kıtası ile aşağıdaki kıtalardan hangisini kara yolu ile birbirine bağlar?

- A) Amerika B) Afrika
C) Antarktika D) Avrupa

19. Can ve mal kayıplarına neden olan doğa olaylarına ne denir?

- A) Küresel ısınma
B) Doğal kaynak
C) Doğal afet
D) Fossil yakıt

20. Aşağıdaki ülkelerden hangisi Alp Himalaya deprem kuşağında yer almaz?

- A) Türkiye B) Brezilya
C) İtalya D) Yunanistan

(158) SEÇ. COĞRAFYA – 4

1. Cumhuriyet'in ilk yıllarında çok çocuklu ailelerin vergiden muaf olma, ödüllendirilme gibi uygulamaların hayata geçirilmesindeki öncelikli sebep aşağıdakilerden hangisidir?

- A) Bebek ölümlerinin yaygın olması
B) Ülke nüfusunu artırma isteği
C) Yeni savaşların çıkma ihtimalinin olması
D) Genel nüfusun kadın ve yaşlılardan oluşması

2. Aşağıdaki tabloda bazı yıllara göre Türkiye nüfus miktarları yaklaşık olarak verilmiştir.

Yıllar	Nüfus miktarı (Milyon kişi)
1927	13.7
1940	17.9
1950	21.0
1960	27.8
1970	35.6
1980	44.8
1990	56.5
2000	67.8
2010	73.2
2016	79.3

Sadece tablodaki verilere bakarak aşağıdaki yargılardan hangisine ulaşılır?

- A) Ülke nüfusu sürekli artış göstermiştir.
B) Nüfusumuzun eğitim seviyesi yükselmektedir.
C) Nüfus artışı kırsal bölgelerde daha yüksektir.
D) Nüfusumuzda kadın sayısı erkek sayısından fazladır.

3. OTURUM

3. Türkiye'deki bölgesel kalkınma projelerinin temel amaçları, bölgeler arasındaki gelişmişlik farkını azaltmak, bölgeye ait kaynaklardan verimli şekilde yararlanmak, büyük şehirlere yapılan göçleri durdurmaaktır.

Buna göre aşağıdakilerden hangisi projelerin uygulandığı bölgelerde görülmesi beklenmez?

- A) İşsizlik oranının azalması
- B) Tarımsal üretimin azalması
- C) Nüfus yoğunluğunun artması
- D) Bölge halkının refah seviyesinin artması

4. Güneydoğu Anadolu Projesi'nin (GAP) iki temel hedefi aşağıdakilerden hangisidir?

- A) Ziraat ve balıkçılık
- B) Sanayi ve İnşaat
- C) Elektrik üretimi ve sulama
- D) Hayvancılık ve turizm

5. Aşağıdaki illerimizden hangisi Doğu Karadeniz Bölgesel Gelişme Projesi'nin (DOKAP) kapsamı dışındadır?

- A) Bolu
- B) Artvin
- C) Ordu
- D) Gümüşhane

6. Aşağıdakilerden hangisi dünya jeopolitiğinde önemli bir yere sahip olan Osmanlı Devleti'nin İslam dünyası ve diğer ülkeler arasındaki önemini artıran sosyo-kültürel etkenlerden biridir?

- A) Akdeniz'in Türk Gölü haline gelmesi
- B) Petrolün önemli bir kaynak olarak ortaya çıkması
- C) Halifelik makamının Osmanlı Padişahlarına geçmesi
- D) Avrupa, Afrika ve Orta Doğu'da topraklarını genişletmesi

7. Türkiye uluslararası askeri, siyasi ve ekonomik alanlarda faaliyet gösteren birçok kuruluşa üyedir.

Türkiye'nin bu kuruluşlara üye olurken aşağıdakilerden hangisini hedeflediği söylenemez?

- A) Dünya barışına katkı sağlamak
- B) Ekonomik kalkınmasını hızlandırmak
- C) Uluslararası organizasyonların içinde yer almak
- D) Dış pazarlardan daha fazla ürün ithal etmek

8. Aşağıdakilerden hangisi ülkelerin gelişmişlik seviyesinin belirlenmesinde kullanılan ölçütlerden biridir?

- A) Nüfus miktarı
- B) Ülkeye gelen turist sayısı
- C) Tarımsal üretim miktarı
- D) Kişi başına düşen milli gelir

9. İnsani Gelişim Endeksi; ülkelerin çeşitli ekonomik, sosyal ve kültürel ölçütlere göre iyiden kötüye puanlandığı ve sıralandığı rapordur.

Buna göre aşağıdaki ülkelerden hangisi bu raporda diğerlerinden daha alt sırada yer almaktadır?

- A) Belçika
- B) Kenya
- C) İspanya
- D) Rusya

10. Gelişmiş ülkelerin aşağıdaki özelliklerinden hangisi ekonomisini olumsuz yönde etkileyen bir özelliktir?

- A) Kırsal nüfus oranlarının düşük olması
- B) Eğitime bütçeden yüksek pay ayırmaları
- C) Nüfusunda yaşlı insan oranının giderek artması
- D) Kişi başına düşen enerji tüketiminin fazla olması

11. Petrol ve doğal gaz kaynakları bakımından zengin bölgeler ile bu kaynakların nakil güzergâhları stratejik önem kazanan konuların başında gelmektedir.

Buna göre aşağıda verilen yerlerin hangisinin bu yönden önemli olduğu söylenemez?

- A) Bering Boğazı'nın
- B) Hazar Denizi'nin
- C) Hürmüz Boğazı'nın
- D) Süveyş Kanalı'nın

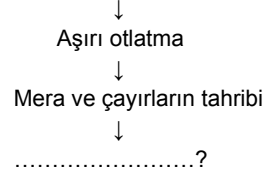
12. Türkiye, barajlarını doldurmak için aşağıdaki nehirlerden hangilerinin sularını fazla tutması halinde Suriye ve Irak su sıkıntısı çekecektir?

- A) Kızılırmak - Yeşilirmak
- B) Seyhan - Ceyhan
- C) Gediz - Manavgat
- D) Fırat - Dicle

13. Günümüzde doğal çevrenin bize sunduğu imkânlardan daha fazla yararlanmamızı sağlayan faktör aşağıdakilerden hangisidir?

- A) Teknolojinin gelişmesi
- B) Kentleşmenin artması
- C) Turizmin gelişmesi
- D) Nüfus artışı

14. Hayvancılık faaliyetleri



Verilen şemada soru işaretli boşluğa aşağıdakilerden hangisinin gelmesi uygundur?

- A) Orman yangını
- B) Erozyon
- C) Deprem
- D) Çiğ

15. Dünyamızın önemli sorunlarından biri de özellikle deniz ve okyanuslarda aşırı, bilinçsiz ve kaçak avlanmadır.

Aşağıdakilerden hangisi bu durumun sonuçlarından biri değildir?

- A) Bazı türlerin neslinin tükenmesi
- B) Ekosistemin işleyişinin bozulması
- C) Balık rezervinin büyük zarar görmesi
- D) Balık tüketiminin üretiminden fazla olması

16. İnsan ve doğa arasındaki etkileşimle ilgili olarak aşağıdakilerden hangisi kesinlikle doğrudur?

- A) Tarımsal üretimde kimyasal ilaçların kullanılması toprak kirliliğini azaltmıştır.
- B) Şehirleşmenin artması deprem sayısını artırmıştır.
- C) Artan nüfus ve sanayileşme hava kirliliğini artırmıştır.
- D) Küresel ısınmaya neden olan sera gazlarını geliştirmemiş ülkeler atmosfere salmaktadır.

17. Çok sayıda ülkede çöpler topluca değil, sınıflandırılarak toplanmaktadır.

Bu durum aşağıdakilerden hangisinde etkili değildir?

- A) Çöplerden elektrik üretmede
- B) Çöp toplama maliyetini azaltmada
- C) Hava kirlenmesini önlemede
- D) Atıkları geri dönüşüme kazandırmada

18. Aşağıdakilerden hangisi ülkemizdeki çevre sorunlarını önlemek amacıyla Türkiye'de kurulmuş çevreci örgütlerden biri değildir?

- A) TEMA
- B) Greenpeace
- C) Çekül
- D) Doğal Hayatı Koruma Derneği

3. OTURUM

19. İşe gitmek için sabah evden çıkan İrfan Bey otobüse bindi. Otobüsten indiğinde elinde bulunun su şişesini çöp torbasına attı. Binaya girince asansör yerine üçüncü kattaki odasına çıkmak için merdivenleri kullandı. Odaya vardığında aydınlık olduğu için gereksiz ışıkları söndürdü.

İrfan bey için aşağıdakilerden hangisi söylenemez?

- A) Tasarrufa önem verdiği
B) Sağlığına önem verdiği
C) Çevreye karşı duyarlı olduğu
D) Tüketim alışkanlığının yüksek olduğu

20. Çok sayıda sıcak su kaynağına sahip olan Yellowstone Milli Parkı hangi ülkededir?

- A) Amerika Birleşik Devletleri
B) Çin
C) Mısır
D) Rusya

(163) MATEMATİK – 3

1. $\frac{7!}{5!}$ işleminin sonucu kaçtır?

- A) 42 B) 36 C) 14 D) 7

2. 4 kişi bir sıraya yan yana kaç farklı şekilde sıralanabilir?

- A) 4 B) 8 C) 12 D) 24

3. Bir sınıfta 12 kız, 16 erkek öğrenci vardır.

Bu sınıftan rastgele seçilen bir öğrencinin kız öğrenci olma olasılığı kaçtır?

- A) $\frac{1}{3}$ B) $\frac{3}{7}$ C) $\frac{4}{5}$ D) $\frac{6}{7}$

4. Bir hastanede bulunan 4 doktor, 6 hemşire arasından seçilecek 3 kişilik bir sağlık ekibinde 1 doktor, 2 hemşire bulunma olasılığı kaçtır?

- A) $\frac{2}{3}$ B) $\frac{1}{2}$ C) $\frac{1}{3}$ D) $\frac{1}{4}$

5. Aşağıdakilerden hangisi çift fonksiyondur?

- A) $f(x) = 3x^3 + 4x - 1$
B) $g(x) = 2x^2 - 4x$
C) $h(x) = 2x^4 + 3x^2 - 1$
D) $k(x) = x^3 + 5$

6. $f(x) = 4x - 3$ fonksiyonuna göre $f(2)$ kaçtır?

- A) 5 B) 4 C) 3 D) 2

7. $f(x) = x^2 - 1$ ve $g(x) = x^2 + x - 4$ fonksiyonlarına göre $(f + g)(3)$ kaçtır?

- A) 9 B) 12 C) 16 D) 18

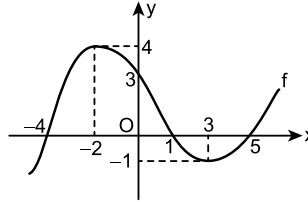
8. $f(x) = 2x - 3$ olduğuna göre f fonksiyonunun tersinin kuralı aşağıdakilerden hangisidir?

- A) $\frac{x+3}{2}$ B) $\frac{x+2}{3}$
C) $\frac{x-2}{3}$ D) $\frac{x-3}{2}$

9. $f(x) = 2x + 4$ ve $g(x) = 3x - 1$ fonksiyonlarına göre $(f \circ g)(2)$ kaçtır?

- A) 8 B) 10 C) 12 D) 14

- 10.



Yukarıda grafiği verilen f fonksiyonu için $f(3) + f^{-1}(4) + f(0)$ kaçtır?

- A) 1 B) 0 C) -1 D) -2

11. $A(-2)$, $B(x)$ ve $C(6)$ sayı doğrusu üzerinde bulunan üç nokta ve C , $[AB]$ 'nin orta noktasıdır.

Buna göre x kaçtır?

- A) 6 B) 8 C) 12 D) 14

12. $A(-2, -1)$ ve $B(3, 2)$ noktalarından geçen doğrunun denklemi aşağıdakilerden hangisidir?

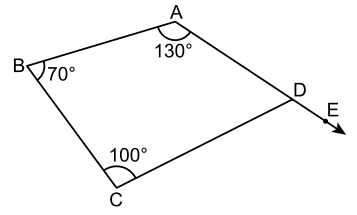
- A) $5x + 3y + 11 = 0$
B) $5x - 3y - 1 = 0$
C) $3x - 5y + 1 = 0$
D) $3x + 5y - 11 = 0$

13. Denklemleri

$ax + 4y - 5 = 0$ ve $2x - 5y + 9 = 0$ olan doğrular birbirine dik olduğuna göre a kaçtır?

- A) -10 B) -5 C) 5 D) 10

- 14.

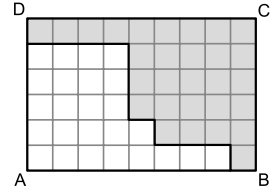


Şekilde A, D, E noktaları doğrusal ve $m(\widehat{DAB}) = 130^\circ$, $m(\widehat{ABC}) = 70^\circ$, $m(\widehat{BCD}) = 100^\circ$ dir.

Buna göre $m(\widehat{CDE})$ kaç derecedir?

- A) 120 B) 110 C) 100 D) 90

- 15.

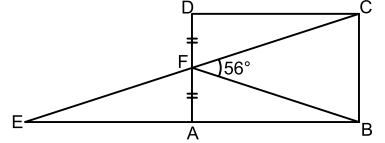


Şekildeki 54 tane eş kareye bölünmüş ABCD dikdörtgeninde $|AB| = 9$ cm ve $|BC| = 6$ cm'dir.

Buna göre boyalı bölgenin çevresi kaç santimetredir?

- A) 25 B) 28 C) 30 D) 32

- 16.

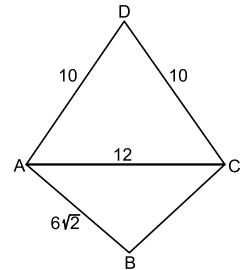


Şekilde ABCD dikdörtgen, E, F, C noktaları doğrusal, $|DF| = |FA|$ ve $m(\widehat{CFB}) = 56^\circ$ dir.

Buna göre $m(\widehat{CEB})$ kaç derecedir?

- A) 24 B) 28 C) 32 D) 36

- 17.



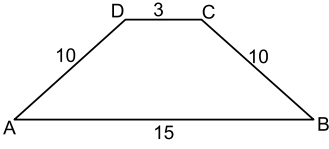
Şekildeki ABCD deltoidinde $|AD| = |DC| = 10$ cm, $|AC| = 12$ cm ve $|AB| = 6\sqrt{2}$ cm'dir.

Buna göre ABCD deltoidinin alanı kaç santimetrekaredir?

- A) 60 B) 72 C) 84 D) 98

3. OTURUM

18.



Şekildeki ABCD yamuğunda $[AB] \parallel [DC]$ ve $|AD| = |CB| = 10$ cm, $|DC| = 3$ cm, $|AB| = 15$ cm'dir.

Buna göre ABCD yamuğunun alanı kaç santimetrekaredir?

- A) 60 B) 72 C) 80 D) 96

19. Köşegen uzunlukları 12 cm ve 16 cm olan eşkenar dörtgenin alanı kaç santimetrekaredir?

- A) 120 B) 108 C) 96 D) 48

20. Kenar sayısı 18 olan düzgün çokgenin bir dış açısının ölçüsü kaç derecedir?

- A) 10 B) 16 C) 18 D) 20

(165) SEÇ. MATEMATİK – 1

1. İlk dört terimi 5, 8, 11, 14 olan aritmetik dizinin 6. terimi kaçtır?

- A) 18 B) 19 C) 20 D) 21

2. İlk terimi 12, ortak farkı 5 olan bir aritmetik dizinin 10. terimi kaçtır?

- A) 57 B) 59 C) 62 D) 65

3. Bir iş yeri çalışanlarına 2000 TL sabit maaş ve mesai dışında fazladan çalıştıkları her saat için 50 TL ek ücret ödemektedir.

Buna göre bu iş yeri bir ay içerisinde mesai dışında 10 saat fazla çalışan birine toplam kaç TL ödeme yapar?

- A) 2350 B) 2400
C) 2450 D) 2500

4. Mustafa'nın kumbarasında 3 TL vardır. Mustafa kumbarasına, her gün kumbarasındaki para miktarı kadar para atmaktadır.

Buna göre 4. gün sonunda Mustafa'nın kumbarasında kaç TL bulunur?

- A) 46 B) 48 C) 50 D) 52

5. 758 sayısının 5 ile bölümünden kalan kaçtır?

- A) 1 B) 2 C) 3 D) 4

6. Rakamları toplamı 9'un katı olan sayılar 9 ile tam bölünür.

Buna göre dört basamaklı 47a5 sayısının 9 ile tam bölünmesi için a kaç olmalıdır?

- A) 1 B) 2 C) 3 D) 4

7. 30 ile tam bölünen bir doğal sayı aşağıdakilerden hangisine kesinlikle tam bölünür?

- A) 4 B) 6 C) 8 D) 9

8. 30 litre su ve 42 litre yağın tamamını birbirine karıştırmadan eşit hacimli kaplara aktarmak için en az kaç kap gereklidir?

- A) 9 B) 10 C) 11 D) 12

9. EKOK($2^3 \cdot 3^1$, $2^2 \cdot 3^2$) ifadesinin değeri kaçtır?

- A) 72 B) 36 C) 24 D) 12

10. Dördün katı olan yıllara artık yıl denir. Buna göre 1999 – 2017 yılları arasında kaç tane artık yıl vardır?

- A) 3 B) 4 C) 5 D) 6

11. Etiket fiyatı 3000 lira olan bir televizyonu 2550 liraya satın alan bir kişi bu televizyonu etiket fiyatı üzerinden yüzde kaç indirimle almıştır?

- A) 10 B) 15 C) 20 D) 25

12. Bir aile yaptıkları alışverişte mutfak için 400 TL, giyim için 300 TL, ulaşım için 20 TL, temizlik malzemeleri için 130 TL harcamıştır.

Buna göre bu aile toplam kaç TL harcamıştır?

- A) 850 B) 900 C) 950 D) 1000

13. Barış 2600 liraya buzdolabı almış ve 500 lirasını peşin ödemiştir.

Barış kalan borcunu 15 eşit taksitle ödeyeceğine göre bir taksit kaç liradır?

- A) 180 B) 160 C) 140 D) 120

14. Aşağıdaki tabloda K, L, M, N şirketlerinin aylık gelir ve gider miktarları verilmiştir.

Şirket	Gelir (Bin lira)	Gider (Bin lira)
K	120	80
L	150	120
M	140	110
N	100	65

Tabloya göre bu şirketlerden hangisinin kâr miktarı diğerlerine göre daha fazladır?

- A) K B) L C) M D) N

15. Bir bankaya yatırılan 4000 TL yıllık % 10 basit faiz oranıyla 6 yılda kaç TL faiz getirir?

- A) 2100 B) 2200
C) 2300 D) 2400

16. Beş kişi aralarında eşit miktarda para toplayarak 100 TL değerinde bir hediye almayı planlıyor. Ancak bir kişi bu plana katılmadığından kalan dört kişi bu hediyeyi kendi aralarında eşit miktarda para toplayarak alıyor.

Buna göre bu dört kişi son durumda ilk yaptıkları plana göre kişi başı kaç TL fazla ödemiştir?

- A) 4 B) 5 C) 6 D) 7

17. 600 m² bahçe iki kardeşe 2 ve 3 sayıları ile doğru orantılı olacak biçimde paylaşılacaktır.

Buna göre payı çok olan kardeş bahçeden kaç metrekare almıştır?

- A) 120 B) 240 C) 280 D) 360

18. Bir şehirde tek kullanımlık otobüs bileti 3 TL'den, aylık sınırsız otobüs biniş kartı 110 TL'den satılmaktadır.

Bir kişi daha ekonomik olduğu için aylık sınırsız otobüs biniş kartı aldığına göre bu kişi bir ay içerisinde otobüse en az kaç defa binebilir?

- A) 36 B) 37 C) 38 D) 39

3. OTURUM

19. Mehmet aracıyla saatte 80 km sabit hızla mola vermeden 400 km'lik bir yolculuğa çıkacaktır.
Mehmet bu yolculuğa saat 14.00'da başlayacağına göre yolculuğu saat kaçta biter?

A) 17.30 B) 18.00
C) 18.30 D) 19.00

20. Bir ayın 1. günü pazartesi ise 18. günü hangi gündür?

A) Salı B) Çarşamba
C) Perşembe D) Cuma

(206) SEÇ. PSİKOLOJİ – 1

1. Pek çok bilimin konusu olan insanı psikoloji de ele alarak insanın neden, niçin ve nasıl davrandığını araştırır.

Buna göre psikoloji biliminin inceleme konusu aşağıdakilerden hangisidir?

A) Toplum yapısı
B) Doğa olayları
C) İnsan davranışları
D) Geçmişte yaşanmış olaylar

2. Aşağıdakilerden hangisi psikolojinin temel amaçlarındanidir?

A) Organizmanın davranışlarını açıklayarak genel yasalara ulaşmak
B) Farklı kültürleri incelemek
C) Toplumsal olayları araştırmak
D) İnsan topluluklarını yönetmek

3. Koşmak, gülmek gibi bazı davranışlarımız dışarıdan doğrudan gözlemlenebilir. Öğrenmek, hayal kurmak gibi davranışlarımız ise dolaylı olarak gözlemlenmektedir.

Buna göre aşağıdakilerden hangisi dolaylı olarak gözlenen davranışlara örnektir?

A) Ayşe'nin okula gitmek için yürümesi
B) Oynarken düşen Emre'nin ağlaması
C) Ece'nin arkadaşıyla konuşması
D) Şule'nin ödevini nasıl yapacağını düşünmesi

4. W. Wundt 1879'da açmış olduğu laboratuvarında insan zihninin davranışlar üzerindeki etkisini bilimsel yöntemler kullanarak ve deneysel çalışmalar yaparak incelemiştir.

W. Wundt'un bu çalışmaları aşağıdakilerden hangisinin bilim olmasını sağlamıştır?

A) Matematik B) Psikoloji
C) Coğrafya D) Tarih

5. Bireyin toplumla ilişkilerini inceleyen ve toplumun bireyi etkilemesiyle ilgili olaylar üzerinde araştırmalarını sürdüren psikoloji alanı aşağıdakilerden hangisidir?

A) Endüstri B) Fizyolojik
C) Sosyal D) Genetik

6. Ailesi kızları Ayşe'yi psikoloğa götürmüştür. Psikolog, Ayşe'yi gözlem odasına almış ve burada çeşitli oyuncaklarla oynayan Ayşe'nin davranışlarını ona hissettirmeden doğal durumda izlemiştir.

Buna göre psikolog, aşağıdaki araştırma yöntemlerinden hangisini kullanmıştır?

A) Görüşme
B) Doğal gözlem
C) Tarama yöntemi
D) Deneysel yöntem

7. Bir uyarıcının duyu organımıza gelerek onu etkilemesi sonucu oluşan deneyime duyum denir.

Buna göre aşağıdakilerden hangisi duyumun oluşması için gerekli koşullardan biridir?

A) Uyarıcıların duyu organlarını etkilemesi
B) Ortamın karanlık olması
C) Organizmanın heyecanlı olması
D) Ödüle bağlı olarak oluşması

8. Aşırı uyarılma kişinin alışılmıştan çok ya da yüksek şiddette uyarıcıya maruz kalmasıdır.

Buna göre aşağıdakilerden hangisi aşırı uyarılmaya örnek gösterilemez?

A) Şiddetli gürültü
B) Normal oda sıcaklığı
C) Yüksek ısı
D) Şiddetli ağrı

9. Bir fabrikada işçi olarak çalışmaya başlayan Mehmet, ilk günlerde fabrikadaki gürültüden çok rahatsız olmuşsa da zamanla bu gürültüleri duymamaya başlamıştır.

Bu örnekte Mehmet'in zamanla gürültüyü duymaması aşağıdaki kavramlardan hangisiyle ifade edilir?

A) Alışma B) Uyarıcı
C) Refleks D) Duyum eşliği

10. Eve geldiğimizde mutfaktan gelen kokuyu almamız duyumken bu kokunun fırında pişen kekin kokusu olduğunu anlamamız algıdır.

Buna göre aşağıdakilerden hangisi algı örneğidir?

A) Dışarıdan gelen bir ses duymamız
B) Uzakta belirsiz bir nesne görmemiz
C) Bir turistin bilmediğimiz bir dilde bize bir şey söylemesi
D) Yediğimiz şeyin ekşi elma tadı olduğunu anlamamız

11. Sosyal güdüler insana özgüdür ve öğrenmeyle oluşur. Bu güdüler benliğin savunulmasıyla ve başka kişilerle ilişki kurulmasıyla ilgilidir.

Buna göre aşağıdakilerden hangisi sosyal bir güdüdür?

A) Açlık
B) Susuzluk
C) Başarılı olmak
D) Oksijen eksikliği

12. Susuzluktan ağzı kuruyan Ahmet, yatağından kalkıp mutfaka gitmiş, bir bardak su içerek susuzluğunu gidermiş ve rahatlamıştır.

Bu ifade aşağıdakilerden hangisine örnektir?

A) İllüzyon B) Güdülenme
C) Duyum D) Alışma

13. Salyangoz yemeğinin bir Fransız için iştah açıcı, bir Türk için mide bulandırıcı olması algıyı etkileyen aşağıdaki etmenlerden hangisine örnek gösterilir?

A) İhtiyaçlar B) Beklentiler
C) Dikkat D) Kültür

3. OTURUM

14. Belirli bir uyarıcıya gösterilen, istem dışı gerçekleşen, hızlı ve öğrenilmemiş davranışlara refleks denir.

Buna göre aşağıdakilerden hangisi refleks örneği değildir?

- A) Belli bir dili konuşmamız
- B) Burnumuza toz kaçtığına hapşır-mamız
- C) Genzimize bir şey kaçtığına öksürmemiz
- D) Elimizi gözümüze yaklaştırdığı-mızda gözümüzü kırpmamız

15. Öğrenmenin gerçekleşmesi için,

- I. Yaşantı sonucu oluşma
- II. Süreklilik gösterme
- III. Davranışta gözlenme

özelliklerinden hangilerinin olması gerekir?

- A) I ve II.
- B) II ve III.
- C) I ve III.
- D) I, II ve III.

16. Limon gördüğümüzde hatta adını duyduğumuzda ağızımızın sulanması aşağıdaki öğrenme türlerinden hangisine örnektir?

- A) Edimsel koşullanma
- B) Klasik koşullanma
- C) Model alma
- D) Bilişsel

17. İşten eve döndüğünde beş yaşındaki kızı Zeynep'in topuklu ayakkabılar giyip makyaj yaptığını görünce şaşkına dönen anne, kızına neden böyle davrandığını sormuş ve şu cevabı almıştır: "Çünkü sen de böyle giyinip makyaj yapıyorsun anne."

Buna göre Zeynep'in bu davranışı için aşağıdakilerden hangisi söylenebilir?

- A) Cezadan kaçınmak için uygun davranışta bulunmuştur.
- B) Davranışı sonunda ödül elde etmiştir.
- C) Annesini model alarak öğrenmiştir.
- D) Sönme davranışı göstermiştir.

18. Bilinç, varlığımızın nerede ve ne durumda olduğumuzun, duygularımızın ve düşüncelerimizin farkında olmaktır. Bilinçlilik durumunda kişi ne yaptığını, ne yapmak istediğini ve ne düşündüğünü bilir.

Buna göre aşağıdaki durumlardan hangisinde bilinçlilik durumunun en düşük düzeyde olduğu söylenebilir?

- A) Sinema filmi izlerken
- B) Araba kullanırken
- C) Ders dinlerken
- D) Uyurken

19. Çözülmesi gereken bir problem olduğunda;

- I. Akıl yürütme
- II. Yeni çözüm yolları arama
- III. Problemi görmezlikten gelme

işlemlerinden hangilerinin yapılması gerekir?

- A) Yalnız I.
- B) Yalnız II.
- C) I ve II.
- D) II ve III.

20. Aşağıdakilerden hangisi unutmamanın nedenlerinden biri değildir?

- A) Öğrenilenlerin sık sık tekrar edilmesi
- B) Bilgilerin bilinçaltına atılması
- C) Beyinde hücre kaybının olması
- D) Öğrenilenlerin kullanılmaması

(209) SEÇ. SOSYOLOJİ – 2

1. Kişinin kendi kültürünü merkeze alarak diğer kültürleri kendi kültürü açısından değerlendirmesi aşağıdaki kavramlardan hangisiyle ifade edilir?

- A) Kültür merkezîliği
- B) Kültürel gecikme
- C) Kültürel çatışma
- D) Maddî kültür

2. Aşağıda verilen kültür özelliklerinden hangisi yanlıştır?

- A) Tarihseldir.
- B) Göreli bir sürekliliği vardır.
- C) Her toplum için aynıdır.
- D) Hem öğrenilir hem öğretilir.

3. İspanyolların boğa güreşleri bir Hintliye yanlış gelebilir. Hindistan'da ineklere gösterilen inanç ise bir İspanyol için anlamsız olabilir.

Verilen örnekte hareketle kültürle ilgili aşağıdakilerden hangisine ulaşılabılır?

- A) Gelenek ve görenekler zamanla değişime uğrarlar.
- B) Farklı kültürler aynı değer yargılarına sahiptir.
- C) Toplumlar hukuk kurallarını oluştururken ahlaktan etkilenirler.
- D) Bir kültürde değerli olan bir inanış, bir diğer kültür için farklı anlama gelebilir.

4. Örf, adet, gelenek ve görenekle ilgili aşağıdakilerden hangisi yanlıştır?

- A) Yazılı olan normlardır.
- B) Birlikte yaşamaktan doğmuşlardır.
- C) Bölgesel ve grupsal farklılıklar gösterirler.
- D) Toplumların tarihsel gelişim süreçlerinde oluşmuşlardır.

5. İnsan emeğinin toplumsal gelişme süreci içinde yarattığı araç ve gereçler maddî kültür olarak değerlendirilir.

Buna göre aşağıdakilerden hangisi maddî kültür ögesidir?

- A) Medeni Kanun
- B) Okul kuralları
- C) Üretim araçları
- D) Dinsel kurallar

6. Bir toplumsal kurum olarak siyaset aşağıdaki ilişkilerden hangisini konu edinir?

- A) Öğrenci, öğretmen, veli
- B) Yöneten, yönetilen
- C) Anne, baba, çocuk
- D) Alıcı, satıcı

7. Aşağıdakilerden hangisi eğitim kurumunun temel görevlerindedir?

- A) Yasaların düzenlenmesi
- B) Neslin devamının sağlanması
- C) Üretim, bölüşüm ve tüketimin düzenlenmesi
- D) Temel toplumsal değerleri kazandırması

8. Evlilik, kan bağı veya evlatlık yoluyla birbirine bağlı bireylerden oluşan ve aralarında karşılıklı hak ve ödevler bulunan küçük toplumsal birimdir.

Verilen tanım aşağıdaki kavramlardan hangisine aittir?

- A) Ekonomi
- B) Aile
- C) Din
- D) Hukuk

9. Duygusal bir ihtiyaç olan sevgi ihtiyacının karşılanması ailenin aşağıdaki temel işlevlerinden hangisiyle ilgilidir?

- A) Psikolojik
- B) Ekonomik
- C) Toplumsallaştırma
- D) Neslin devamlılığı

3. OTURUM

10. • Otorite annenin büyük erkek kardeşindedir.
• Akralalık kadın soyundan geçer.
Verilen özellikler aşağıdaki aile türlerinden hangisine aittir?

A) Büyük B) Ataerkil
C) Anaerkil D) Küçük

11. Doğa güçlerine tapma biçimindeki din anlayışına natürizm denir.
Buna göre natürizm inanışında aşağıdakilerden hangisine tapılmaz?

A) Güneş B) Ay
C) Yıldız D) Ruh

12. Aşağıdakilerden hangisi dinin toplumsal işlevlerindedir?

A) Bireyin nasıl bir hayat sürmesi gerektiğine dair önerilerde bulunur.
B) İnananların psikolojik olarak rahatlamalarını sağlar.
C) Bireyleri korku ve kaygılarından uzaklaştırır.
D) Toplumsal düzeni sağlamaya çalışır.

13. Aşağıdakilerden hangisi dayanıksız tüketim malıdır?

A) Araba B) Süt
C) Ev D) Televizyon

14. Mal ve hizmetlerin fiyatlarının sürekli bir biçimde artması sonucu paranın alım gücünün düşmesi enflasyon olarak tanımlanmaktadır.

Buna göre aşağıdakilerden hangisi enflasyonun yarattığı sorunlar arasında yer almaz?

A) Millî gelirin artması
B) Hayat pahalılığı
C) Toplumsal huzursuzluk
D) Suç oranlarının artması

15. Aşağıdakilerden hangisi kapitalist ekonomi sisteminin özelliklerinden değildir?

A) Üretim araçlarının mülkiyeti bireylerin elindedir.
B) Mallar satın alma gücüne sahip olanlar için üretilir.
C) Devletin ekonomiye müdahalesi en üst düzeydedir.
D) Üretimde temel amaç kar etmektir.

16. Aşağıdakilerden hangisi siyasetin temel kavramlarından değildir?

A) Ahlak B) Devlet
C) Demokrasi D) Egemenlik

17. • Yöneticiler Tanrı'nın temsilcileri olarak görülür.
• Yönetim dinsel kurallara göre düzenlenir.

Verilen özellikler aşağıdaki yönetim şekillerinden hangisine aittir?

A) Monarşi B) Aristokrasi
C) Oligarşi D) Teokrasi

18. Bedensel ve psikolojik farklılıkları ne olursa olsun insanlar arasında toplumsal ve siyasal haklar yönünden ayırım bulunmaması aşağıdaki kavramlardan hangisiyle ifade edilir?

A) Özgürlük B) Eşitlik
C) Adalet D) Hak

19. Ormanların yok edilmesi toplumsal değişmeyi etkileyen aşağıdaki faktörlerden öncelikle hangisiyle ilgilidir?

A) Nüfus B) Ekonomi
C) Fizik çevre D) Kültür

20. Aşağıdakilerden hangisi millî birlik bilincinin zayıflamasının nedenleri arasında yer alır?

A) İş bölümü ve gelir dağılımının adaletli olması
B) Toplumsal dayanışma kültürünün yaygınlaşması
C) Yeni koşullara ayak uyduran toplumsal kurumların geliştirilmesi
D) Aydınların topluma yabancılaşarak toplumsal sorunlara karşı duyarsızlaşması

(242) İNGİLİZCE – 3

1-20. sorularda boş bırakılan yere uygun gelen kelime ya da ifadeyi işaretleyiniz.

1. - - - - brothers or sisters have you got?

A) How old B) How many
C) How much D) How often

2. Steve : - - - - cleans your house?
Sally : My mother.

A) Who B) Why
C) Which D) When

3. - - - - house is that over there?

A) Why B) Who
C) Where D) Whose

4. Marcus : - - - - do you go on your summer holiday?
Richard : By plane.

A) How B) Who
C) Whom D) Why

5. Robert : - - - -?
Mary : He is an engineer.

A) What time do you get up
B) Where does your sister live
C) What is your husband's job
D) What kind of books do you like

6. Melanie : - - - - do you brush your teeth?
Jodie : Twice a day.

A) What about B) How often
C) How many D) What kind of

7. There is - - - - book in the bookcase.

A) a B) an
C) much D) many

8. - - - - books are interesting.

A) This B) That
C) Those D) There

9. This is - - - - new computer. My father bought it for me yesterday.

A) its B) whose
C) my D) their

10. Shhh. Be quiet! The baby - - - - at the moment.

A) slept B) sleep
C) was sleeping D) is sleeping

11. We are having dinner - - - -.

A) usually B) right now
C) last week D) last night

3. OTURUM

12. We always - - - - our dinner.

- A) has B) have
C) had D) having

13. Sam : Does Erica - - - - a nap every midday?

Clare : Yes, she does.

- A) to take B) taking
C) takes D) take

14. Nicole : How is your new car?

Edward : It - - - - some problems with the engine.

- A) has B) have
C) is having D) are having

15. I - - - - for my exam now.

- A) studies
B) to study
C) is studying
D) am studying

16. We must hurry - - - - we will miss the train.

- A) yet B) but
C) or D) nor

17. He lost his mobile phone, - - - - he bought a new one.

- A) so B) nor
C) because D) or

18. I came here to see you, - - - - you were not at home.

- A) so B) or
C) yet D) nor

19. That house over there is - - - -. I bought it last year.

- A) its B) me
C) mine D) them

20. My friend is a student at the university. He - - - - going to graduate next year.

- A) was B) am
C) are D) is

(242) ALMANCA – 3

1 - 14. sorularda boş bırakılan yere uygun gelen ek, kelime ya da ifadeyi işaretleyiniz.

1. Familie Aktaş geht - - - - ein- - - - - Feier. (die)

- A) auf / -e B) vom / -er
C) ab / -e D) zur / -er

2. Petek und Yiğit gehen - - - - Kino. (das)

- A) bei B) auf
C) ins D) unter

3. Ali : Wohin hast du das Buch gelegt?

Kemal : Auf - - - - Tisch.

Ömer : Nein, auf - - - - Tisch liegt es nicht.

- A) den / dem B) das / der
C) der / die D) dem / das

4. - - - - wollen Sie Deutsch lernen?

- A) Wer B) Warum
C) Weil D) Wohin

5. Ahmet und Hüseyin leb- - - - - in Stuttgart. Ahmet arbeite- - - - - bei der Firma Bosch und Hüseyin studier- - - - - Medizin.

- A) -t / -en / -t B) -en / -en / -t
C) -en / -t / -t D) -t / -n / -en

6. Özge - - - - morgens gern lange im Bett - - - - .

- A) Uhr / bleiben
B) seit / setzt
C) geht / bleibt
D) bleibt / liegen

7. Ayla fährt - - - - dem Bus - - - - Bahnhof.

- A) auf / aus B) mit / zum
C) von / zu D) bei / über

8. - - - - lebt deine Schwester?

- A) Wenn B) Wohin
C) Wo D) Weil

9. Zuerst will sie ein- - - - Zeitung kaufen.

- A) - B) -en C) -er D) -e

10. Ich gehe nächsten Samstag - - - - meiner Oma.

- A) zu B) ins C) von D) auf

11. Mustafa - - - - nach Nürnberg. Im Flugzeug neben ihm - - - - ein Deutscher.

- A) kommen / geht
B) fliegt / sitzt
C) schreibt / fährt
D) geht / sitzen

12. Ich - - - - (haben Plusquamperfekt) den Hund zuletzt auf der Straße - - - - (sehen Plusquamperfekt)

- A) hatte / gesehen
B) habe / sehe
C) hat / sah
D) habe / sehen

13. Die Familie Akdoğan - - - - (haben Plusquamperfekt) zwei Jahre in Berlin - - - - .

- A) haben / wohnte
B) hatte / wohnt
C) hatte / gewohnt
D) hat / gewohnt

14. Sie holt ihre Freundin ab, die - - - - Ankara kommt.

- A) bei B) aus C) zum D) in

15. Kurallı bir cümle oluşturunuz.

Fremdsprache	will	eine	lernen	Sie
1	2	3	4	5

- A) 5, 3, 1, 4, 2 B) 5, 2, 3, 1, 4
C) 2, 4, 5, 3, 1 D) 1, 3, 5, 2, 4

16. Verilen Türkçe cümlelerin Almanca karşılığını bulunuz.

Eylül ayında ne yapıyorsun?

- A) Besuchst du im Monat September deine Tante?
B) Fliegst du im Monat September nach Deutschland?
C) Was machst du im Monat September?
D) Fängt die Schule im Monat September an?

3. OTURUM

17. "gitmek" fiilinin "Präteritum" hâli aşağıdakilerden hangisidir?

- A) gehen
- B) ging
- C) ist gegangen
- D) war gegangen

18. Aşağıdakilerden hangisi "Perfekt" zamanlı bir cümledir?

- A) Ich schrieb ein Buch.
- B) Ich hatte ein Buch geschrieben.
- C) Ich schreibe ein Buch.
- D) Ich habe ein Buch geschrieben.

19. Verilenlerle "Präteritum" zamanlı bir cümle kurunuz.

Efe / in / die / Wohnung / zurückkommen

- A) Efe ist in die Wohnung zurückgekommen.
- B) Efe kommt in die Wohnung zurück.
- C) Efe hat in die Wohnung zurückgekommen.
- D) Efe kam in die Wohnung zurück.

20. "Bett, Uhr, Schrank" sözcüklerinin Artikel'leri aşağıdakilerden hangi seçenekte doğru verilmiştir?

- A) das / die / der
- B) die / das / der
- C) die / die / der
- D) das / der / die

(242) FRANSIZCA – 3

1 – 16. sorularda boş bırakılan yere uygun gelen kelime ya da ifadeyi bulunuz.

1. Mes nouveaux voisins ---- Mme. et M. Martin.

- A) s'appelle
- B) s'appeler
- C) vous appelez
- D) s'appellent

2. Alice : Tes parents vont bien ?
Selda : ----.

- A) Oui, ils vont bien
- B) Nous allons au nouveau supermarché
- C) Oui, demain à neuf heures du matin
- D) Vous allez en métro

3. Claire : Ferda ---- espagnol ?
Carole : Oui, elle parle espagnol.

- A) parler
- B) parle
- C) parles
- D) parlez

4. Sandra : ---- ?
Céline : Oui, elle est italienne.

- A) Elles ont deux frères en Italie
- B) Elle est actrice
- C) Sophia est italienne
- D) Elle a une copine italienne

5. Sabine : Vous avez quel âge ?
M.Leroux : ----.

- A) Je suis dentiste
- B) C'est mon ami d'enfance
- C) J'habite à 20 km d'ici
- D) J'ai cinquante ans

6. Serkan travaille ---- Pékin ----
Chine.

- A) à / aux
- B) à / en
- C) en / au
- D) au / à

7. Monique habite ---- ?

- A) c'est quoi
- B) où
- C) combien
- D) quelle

8. Marc : ---- ?
Éric : C'est Chantal. Elle est chanteuse d'opéra.

- A) Qui est-ce
- B) Comment
- C) Combien
- D) C'est quoi

9. Chloé : Tu aimes la danse sur glace ?
David : Non, je n'aime pas ----
danse sur glace.

- A) la
- B) de
- C) de la
- D) du

10. ---- matin, il est parti à sept heures de Paris par le premier TGV.

- A) Cet
- B) Ce
- C) Ces
- D) Cette

11. Vendeuse : Comment vous trouvez cette jupe ?

Cliente : Elle est très bien. ---- ?
Vendeuse : 40 euros.

- A) Tu n'aimes pas cette jupe
- B) Qu'est-ce que c'est
- C) Ça coûte combien
- D) Vous n'avez pas d'argent

12. Hale : Tu connais le jeune homme devant l'école ?
Marc : Ah, c'est Paul, ----, il m'attend.

- A) mes filles
- B) ses garçons
- C) mon cousin
- D) ma tante

13. Claude : ---- ?
Hakan : En général, j'y vais en voiture.

- A) En hiver, il préfère aller aux pays chauds
- B) Vous prenez cet ascenseur jusqu'à troisième étage
- C) Ça va bien
- D) Vous allez au centre sportif comment

14. Dans une bijouterie, ---- des bracelets et des boucles d'oreille.

- A) il vient
- B) il s' en va
- C) il y va
- D) il y a

15. Tu es en retard. ---- un taxi !

- A) Arrives
- B) Achetons
- C) Prends
- D) Tournes

16. ---- tu arrives dans un nouveau pays, achète un dictionnaire et étudie la langue.

- A) Quand
- B) Combien
- C) Qu'est-ce que
- D) Comment

17. "Le chanteur célèbre Johnny Halliday est mort à l'âge de 74 ans." cümlesindeki altı çizili sayımın yazılışı aşağıdaki seçeneklerden hangisinde doğru olarak verilmiştir?

- A) quatre-vingt-quatorze
- B) soixante-quatre
- C) quarante-sept
- D) soixante-quatorze

3. OTURUM

18 – 19. soruları planı dikkate alarak cevaplandırınız.

GARE	POSTE	HOTEL	PARKING
RUE DE LA JUSTICE			
PHARMACIE	BOUCHERIE	ÉPICERIE	CAFÉ

18. La pharmacie est - - - -.

- A) à droite du parking
B) en face de la gare
C) à côté de l'hôtel
D) entre la boucherie et l'épicerie

19. La boucherie est - - - -.

- A) entre la pharmacie et l'épicerie
B) devant le café
C) à côté de la poste
D) à gauche de la gare

20. soruyu görseli dikkate alarak cevaplayınız.

20.



Il est - - - -.

- A) médecin B) poissonnier
C) mécanicien D) boulanger

(403) DİL VE ANLATIM – 3

1. Çağlar : Bu akşam beraber matematik çalışabilir miyiz?

Özgür : Uygun olursam ben sana haber veririm.

Bu iletişim örneğinde aşağıdaki iletişim öğelerinden hangisi belirgin değildir?

- A) Gönderici B) Bağlam
C) Alıcı D) İleti

2. Reklamlarda tüketicinin ürünleri satın alması için teşvik edici bir dil kullanılır.

Buna göre reklamlarda dil hangi işleviyle kullanılır?

- A) Kanalı kontrol
B) Dil ötesi
C) Sanatsal (şîrsel)
D) Alıcıyı harekete geçirme

3. I. Dinleyicilerle etkili bir iletişim kurulmalıdır.

II. Sunum yapılacak yer önceden görülmelidir.

III. Sunum hazırlığında farklı kaynaklardan yararlanılmalıdır.

IV. Dinleyicilerin soru sormalarına izin verilmelidir.

Numaralanmış uygulamalardan hangileri sunumdan önce yapılması gerekenlerdendir?

- A) I ve III. B) I ve IV.
C) II ve III. D) II ve IV.

4. • Çok küçük yazı boyutu kullanılmalıdır.
• Sunum 15-20 dakikayı aşmamalıdır.
• Aşırı renkli grafiklerden kaçınılmalıdır.

“Sunum”la ilgili verilen bu cümleler doğru-yanlış bakımından değerlendirildiğinde sıralama aşağıdakilerden hangisi olur?

- A) D – Y – Y B) Y – Y – D
C) Y – D – D D) D – D – Y

5. Bir tartışmada başkanın aşağıdakilerden hangisini yapması uygun olmaz?

- A) Tarafını belli ederek tartışmayı yönlendirmek
B) Konuşmacıların konu dışına çıkmalarını engellemek
C) Kısa özetler yaparak konuyu toparlamak
D) Tartışma kurallarına uymayanları uyarmak

6. • Konuşmacı sayısı 3 ila 6 arasında değişir.

- Konuşmacılar, uzmanı oldukları konunun ayrı yönlerini ele alır.
• Karara varmaktan çok farklı anlayışları ortaya koymak amaçlanır.

Özellikleri verilen tartışma türü aşağıdakilerden hangisidir?

- A) Panel B) Konferans
C) Söylev D) Münazara

7. Garibim;
Ne bir güzel var avutacak gönlümü,
Bu şehirde,
Ne de tanıdık bir çehre;
Bir tren sesi duymayagöreyim,
İki gözüm
İki çeşme.

Bu dizelere hâkim olan tema aşağıdakilerden hangisidir?

- A) Özgürlük B) Yalnızlık
C) Kahramanlık D) Ölüm

8. Aşağıdaki konulardan hangisi diğerlerine göre daha az sınırlandırılmıştır?

- A) Masal türünün genel özellikleri
B) Türk edebiyatında masalın gelişimi
C) Binbir Gece Masalları'ndaki kahramanların tahlili
D) Türk masallarında coğrafi öğeler

9. Eşinin kulağının bir süredir iyi duymadığına artık inanmaya başlayan adam, bu duruma bir hayli üzülmüştü. Karısına sevgisi ve saygısı nedeniyle evde bu konuyu açmamaya özen gösteriyor, onu üzmemek için elinden geldiğince ona bu konuda tek söz söylemiyordu. Sonunda eşiyile bu konuyu konuşmaya karar verdi.

Bu parçanın anlatım biçimi aşağıdakilerden hangisidir?

- A) Açıklama B) Tartışma
C) Betimleme D) Öyküleme

10. Dönüp dolaşıp kendime sorduğum bir soruyu yeniden soruyorum: Dilin dünya görüşü dediğimizde bu dünya görüşü dilin neresindedir? Bir dilin dünya görüşü; o dile özgü bazı ortamlarda, bazı olaylarda yoğunlaşmış olsa bile dilin her yerindedir. Onun dilde sinmediği hiçbir yer yoktur.

Bu parçanın anlatımında aşağıdakilerden hangisi kullanılmıştır?

- A) Öyküleyici anlatım
B) Betimleyici anlatım
C) Tartışmacı anlatım
D) Lirik anlatım

3. OTURUM

11. I. Sanat eserinin değeri ancak topluma ne kadar ayna olabildiğiyle ölçülür.
II. Her yıl navruzlar, baharın ilk günlerinde güzel havaların müjdecisi olarak topraktan çıkmaya başlar.
III. Galata'daki Azapkapı ve Üsküdar'daki Paşakapısı İstanbul'un kapılı semtlerindedir.
IV. Nabizade Nazım'ın "Karabibik" adlı romanı edebiyatımızda köyü ele alan ilk eserdir.
- Numaralanmış cümlelerden hangileri nesnel anlatımlıdır?**

- A) I ve II. B) I ve III.
C) II ve IV. D) III ve IV.

12. Yazar bu romanında kendi yaşamını
I. II.
samimi cümlelerle anlatmış.
III. IV.

Bu cümledeki numaralanmış sözcüklerden hangisi cümleye öznellik katmaktadır?

- A) I. B) II. C) III. D) IV.

13. **Aşağıdaki parçaların hangisinde birinci kişili anlatım kullanılmıştır?**

- A) Mihail, yeni çevresine çok çabuk uyum sağladı. Nikolay ve diğer arkadaşlarıyla beraber geziyor, eğleniyorlardı. Mihail, özellikle de eski dostu Nikolay ile birlikte olmaktan mutluydu.
B) Diz çokünce kaplumbağa ile göz göze geldik. Yutkundum. Özür dilerken sesim titriyordu. Sesimi ona duyuracak gücüm kalmamıştı. Gözlerim kendiliğinden yumuldu.
C) Tekne kıyıya geldiğinde içinden, orta yaş çizgisini biraz geçmiş bir adam indi ve irice dört beş balığın bulunduğu kovasını teknedan aldı. Tam gitmeye hazırlanıyordu ki kendisine imrenerek bakan yabancıyla göz göze geldi.
D) Eşi gecenin geç saatlerinde rahatsızlanan adam, doktor aramak için kentin caddelerinden birinde sağa sola bakarak yürüyordu. Büyük bir apartmanın önünde durdu ve kapının yan tarafında dizili zilleri tek tek inceledi.

14. Büyük bir eleştirmen nasıl olur merak ediyor musunuz? O eleştirmenin ilk eseriyle son yazdığı eseri karşılaştırdın. İlk eserinde söylediği ve savunduğu şeyleri son eserinde de söyleyip savunuyorsa hiç çekinmeden o eleştirmenin peşinden gidin.

Bu parçada büyük bir eleştirmenin taşınması gereken hangi özellikten bahsedilmektedir?

- A) Tutarlılık B) İlginçlik
C) Doğallık D) Yaratıcılık

15. Bu uyarı ve ikazlarınız ilerleyen süreçte bize yol gösterici olacak.
Bu cümledeki anlatım bozukluğunun nedeni aşağıdakilerden hangisidir?

- A) Sözcüğün yanlış anlamda kullanılması
B) Anlamca çelişen sözcüklerin kullanılması
C) Sözcüğün yanlış yerde kullanılması
D) Gereksiz sözcük kullanımı

16. Savaşta kimyasal silahların kullanılması askerin daha çok ölmesine yol açtı.

Bu cümledeki anlatım bozukluğu aşağıdaki değişikliklerin hangisiyle giderilir?

- A) "Savaşta" sözcüğünün cümleden çıkarılmasıyla
B) "yol açtı" sözünün yerine "sağladı" sözünün getirilmesiyle
C) "daha çok" sözünün "askerin" sözcüğünden önce kullanılmasıyla
D) "kimyasal" sözcüğünün yerine "nükleer" sözcüğünün kullanılmasıyla

17. • Tartışmacı anlatımda düşünce ve duygular kısa ve kesin ifadelerle dile getirilir.
• Öyküleyici anlatım sözcüklerle resim çizme işidir.
• Öğretici anlatımda dil, daha çok göndergesel işlevde kullanılır.

Bu cümleler doğru-yanlış bakımından değerlendirildiğinde sıralama aşağıdakilerden hangisi olur?

- A) D – Y – D B) Y – Y – Y
C) D – D – D D) Y – D – Y

18. İş gelmez elinden gitmez bir kâre Aslında neslinde giymemiş hare Sandığı gömleksiz duran mekkâre Bedestene gelir kaftan beğenmez

Bu dizelerin anlatım türü aşağıdakilerden hangisidir?

- A) Emredici
B) Mizahi
C) Söyleşmeye bağlı
D) Kanıtlayıcı

19. • Dil, alıcıyı harekete geçirme işlevinde kullanılır.
• Emir, telkin, öneri anlamı taşıyan ifadeler yer verilir.
• Trafik kurallarında, bazı eşyaların kullanma kılavuzlarında bu anlatım kullanılır.

Özellikleri verilen anlatım türü aşağıdakilerden hangisidir?

- A) Düşsel
B) Emredici
C) Gelecekte söz eden
D) Öyküleyici

20. **Aşağıdakilerden hangisi bir paragrafın giriş cümlesi olamaz?**

- A) Mezopotamya'nın en önemli kentlerinden biri olan Mardin, çevresinde barındırdığı tarihî zenginliğin ortasında bir fener gibi parlıyor.
B) İnsan hayatı hep bir yerlerde bıraktığı şeylere yıllar sonra geri dönmek üzere kurgulanmıştır.
C) Yerde kullanılan bir söz kadar insanı mutlu kılan pek az şey vardır.
D) Bir toplumun dilini korumadan varlığını sürdürmeyeceğini burada eklemek gerekiyor.

(405) DİL VE ANLATIM – 5

1. **Aşağıdakilerden hangisi orta oyununun bölümlerinden değildir?**

- A) Sonuç B) Mukaddime
C) Fasil D) Muhavere

2. **Aşağıdakilerin hangisinde anlatmaya dayalı metinler bir arada verilmiştir?**

- A) Komedi – Karagöz – tarihî metinler
B) Halk hikâyesi – manzum hikâye – masal
C) Orta oyunu – masal – trajedi
D) Köy tiyatrosu – destan – roman

3. OTURUM

3. Ömer Seyfettin'in Forsa adlı hikâyesinin metin türü aşağıdakilerden hangisidir?

- A) Anlatmaya dayalı
- B) Göstermeye bağlı
- C) Coşku ve heyecanı dile getiren
- D) Öğretici

4. Özel mektuplarda genellikle dilin hangi işlevi kullanılır?

- A) Alıcıyı harekete geçirme
- B) Şiirsel
- C) Heyecana bağlı
- D) Dil ötesi

5. Farklı becerilere sahip insanların ilgili yerlerde istihdam edilebilmeleri için uygun özelliklerin işveren tarafından bilinmesi gerekir. Kişilerin bu amaçla hazırladıkları forma - - - - denir.

Bu cümlede boş bırakılan yere aşağıdakilerden hangisi getirilmelidir?

- A) mektup
- B) dilekçe
- C) hikâye
- D) öz geçmişi

6. 30.01.1956

Az konuşur olmayı erdem saymıyorum artık. Kendini kaçırmak, kendini gizlemek gibi geliyor bana.

Bu metnin türü aşağıdakilerden hangisidir?

- A) Anı
- B) Günlük
- C) Mektup
- D) Deneme

7. Anı türünün aşağıdaki metin türlerinden hangisiyle benzerliği en azdır?

- A) Gezi
- B) Otobiyografi
- C) Makale
- D) Günlük

8. Biyografi hakkında aşağıdaki bilgilerden hangisi yanlıştır?

- A) Yazar, ele aldığı kişi hakkında kendi görüşlerine yer verir.
- B) Anlatılanlar gerçek olmalı, sağlam delillere dayandırılmalıdır.
- C) Biyografisi yazılacak kişinin günlüklerinden, anılarından vb. yararlanır.
- D) Edebiyatta, sanatta, bilimde yer edinmiş kişiler hakkında yazılır.

9. Anı ve biyografi türünün ortak özelliği aşağıdakilerden hangisidir?

- A) Dilin sanatsal işlevde kullanılması
- B) Olayların günün gününe yazılma zorunluğunun olması
- C) Tanınmış kişilerin hakkında yazılmaları
- D) Öğretici metin türü olmaları

10. (I) Yeryüzü genelinde beş kıtaya dağılmış on beş turna türü bulunmaktadır. (II) Çöllerin, dağların, donmuş tundraların ve düzinelerce ülkenin sınırları üzerinden göç eder. (III) Bu narin kuşlar, yaşama alanlarını korumaya yönelik çalışmalarda birleşen çeşitli halklar arasında barış elçiliği de yapar. (IV) Ancak günümüzde pek çok turna türü, parklarla korunan arazi parçaları ve yaban hayatı sığınaklarıyla yetinmek zorundadır.

Yukarıdaki numaralanmış cümlelerin hangisinde öznel anlatım söz konusudur?

- A) I.
- B) II.
- C) III.
- D) IV.

11. Şiddetli bir gürültü patırtı cebinliği aşıp üzerime yükleniyor. Nerede olduğumu algılayabilmem için birkaç saniye geçmesi gerekiyor. Buraya yaptığım son seyahatte beni maymunların sabah çağrıları, fillerin gürlemeleri ve boynuzgagalıların kulakları tırmalayan sesleri uyandırmıştı. Şu anda ise uyku mahmurluğunu üzerimden atarken kamyon gürültüleri ve hidrolik pompaların çıkardığı gürültüleri birbirinden ayırt ediyorum. Burası Myanmar'ın Hukavng Vadisi'nin derinliklerine gizlenmiş ve bir zamanlar sadece birkaç yüz kişiye ev sahipliği yapan küçük sevimli Sinbiyang köyü.

Bu parça aşağıdaki öğretici metinlerin hangisinden alınmıştır?

- A) Deneme
- B) Gezi yazısı
- C) Günlük
- D) Makale

12. Beslenme, tüm yaş grupları için sağlıklı yaşamın temelidir. Vücut, ihtiyacı olan besin değerlerinden yoksun kaldığında, zamanla bazı hastalıklar ortaya çıkmaya başlar. Örneğin B grubu vitaminlerin yetersizliği deri enfeksiyonlarına ve çeşitli psikolojik rahatsızlıklara yol açar. Folik asit ve demir yetersizliği özellikle çocuklar ve gebe kadınlarda kansızlığa neden olmaktadır.

Bu metin aşağıdaki türlerin hangisinden alınmıştır?

- A) Makale
- B) Gezi yazısı
- C) Eleştiri
- D) Fıkra

13. Gazete yazısı olan fıkra Türk edebiyatının hangi döneminden itibaren görülmeye başlar?

- A) Klasik (Divan) Edebiyat
- B) Tanzimat Edebiyatı
- C) Millî Edebiyat
- D) Sözlü Edebiyat

14. İnsanın arkadaşının, can yoldaşının üç mahalle, beş mahalle ötede değil de cebinde olması ne güzel şey! Ama bu arkadaş bütün arkadaşlıklar gibi bir alışkanlığın, bir sevginin eseri. Kitapla eğer yaşınız daha pek küçük iken dost olmamışsanız yaşlılık günlerinizde onu sevip arkadaş olmanız mümkün değildir. Nitekim bugünün yaşlı insanları, türlü sebeplerle çocukluklarında kitapla arkadaşlık kurmak imkânını bulamamışlardır. Şimdi onun için yalnızdırlar.

Bu metin aşağıdaki türlerin hangisinden alınmıştır?

- A) Anı
- B) Günlük
- C) Deneme
- D) Makale

15. Aşağıdakilerden hangisi kişisel hayatı konu alan metinlerden biridir?

- A) Makale
- B) Deneme
- C) Anı
- D) Fıkra

16. Boya tüplerinde o renkleri bulamazsınız () onlar karışımlardan doğmuş () ara renklerdir ()

Yukarıda yay ayraçlarla gösterilen yerlere sırasıyla aşağıdaki noktalama işaretlerinden hangileri getirilmelidir?

- A) (;) (,) (.)
- B) (.) (,) (.)
- C) (;) (,) (,)
- D) (.) (;) (.)

17. Aşağıdaki cümlelerin hangisinde bağlaç olan "de" nin yazımında yanlışlık yapılmıştır?

- A) Annem de beni böyle severdi.
- B) İşte Mardin'in de böyle bir güzelliği vardı.
- C) Güzel bir film bulayım da seyredelim.
- D) Tamda o günlerde bir roman yazmaktaydım.

3. OTURUM

18. Bir sarı yaprak gibi düştü gönlüm yollarına
Buğulu gözlerimden geçmediğin gün olmaz

Bu dizelerdeki altı çizili sözcükte görülen ses olayı aşağıdakilerden hangisidir?

- A) Ses daralması
B) Ses düşmesi
C) Ses benzeşmesi
D) Ses türemesi

19. Yazılışları ve okunuşları aynı olduğu hâlde anlamları farklı olan kelimelere eş sesli kelime denir.

Buna göre aşağıdaki dizelerde geçen altı çizili sözcüklerden hangisi eş seslidir?

- A) Kente kapandık kaldık tutanaklarla belli,
Yüzlerimiz temmuzdan ötürü salanır ve uzar.
B) Bin atlı, akınlarda çocuklar gibi şendik;
Bin atlı, o gün dev gibi bir orduyu yendik!
C) Bir çok gidenin her biri memnun ki yerinden
Bir çok seneler geçti; dönen yok seferinden
D) Çok insan anlayamaz eski musikimizden,
Ve ondan anlamayan bir şey anlamaz bizden.

20. Yazarın herhangi bir konu hakkındaki kişisel duygu ve düşüncelerini okuyucuyla konuşuyormuş gibi bir anlatımla yazdığı yazılara - - - - denir.

Bu cümlede boş bırakılan yere aşağıdakilerden hangisi getirilmelidir?

- A) makale B) anı
C) sohbet D) eleştiri

(406) DİL VE ANLATIM – 6

1. Röportajlarda aşağıdaki anlatım türlerinden hangisi kullanılmaz?

- A) Açıklayıcı
B) Düşsel (fantastik)
C) Öğretici
D) Betimleyici

2. Röportaj için aşağıdakilerin hangisi söylenemez?

- A) Konusu güncel olaylardır.
B) Öncesinde araştırma yapılır.
C) Dayandığı sağlam bir tez vardır.
D) En az üç kişi tarafından gerçekleştirilir.

3. Aşağıdakilerden hangisi röportaj yapacak kişinin özelliklerinden olamaz?

- A) Bilgili B) Meraklı
C) Araştırmacı D) Çekingen

4. Röportajlarda;

- Çeşitli ses kayıtları, belge ve fotoğraflar bulunabilir.
- Amaç, konuyu belgesel şekilde sunarak halkı bilgilendirmektir.
- Yazar kendi düşüncelerine yer vermez.

Bu cümleler doğru-yanlış olarak değerlendirildiğinde sıralama aşağıdakilerden hangisi olur?

- A) D – D – Y B) D – Y – Y
C) Y – D – D D) Y – Y – D

5. Aşağıdakilerden hangisi röportaj türünde yazılmış bir eser değildir?

- A) Çalığışu
B) Doğudan Gezi Notları
C) Bugün de Diyorlar ki
D) Mezarlarında Yaşayanlar

6. “Karşılıklı buluşmak, görüşmek” anlamına gelen sözlü anlatım türü aşağıdakilerden hangisidir?

- A) Makale B) Deneme
C) Mülakat D) Nutuk

7. Mülakat için aşağıdakilerden hangisi söylenemez?

- A) Mülakat yapılacak olan kişiden randevu alınmalıdır.
B) Sorular kısa ve net olmalı, ayrıntıya girilmemelidir.
C) Sorulan sorulara verilen cevaplar aynen aktarılmalıdır.
D) Sadece belli kişilerin anlayabileceği, kapalı bir dil kullanılmalıdır.

8. Mülakatta dilin aşağıdaki işlevlerinden hangisi en az kullanılır?

- A) Şiirsel (sanatsal)
B) Göndergesel
C) Heyecana bağlı
D) Alıcıyı harekete geçirme

9. — Sizce 1955 yılının en başarılı şairleri kimlerdir?

— Dağlarca, Necati Cumalı, Attıla İlhan, Turgut Uyar, Kâmuran, S. Yüce, Cemal Süreya, Sezai Karakoç, Gülten Akın. Benim zihnimde bu yıl, en çok bu şairler yer etti.

— Peki, “Türkçeyi sanatçılar arıtacaktır.” sözü için ne dersiniz?

— Doğru derim. Ömer Seyfettin’den beri alınan mesafe düşünülürse...

Örneği verilen sözlü anlatım türü aşağıdakilerden hangisidir?

- A) Fıkra B) Günlük
C) Mülakat D) Nutuk

10. Söylev ile ilgili aşağıdakilerden hangisi söylenemez?

- A) Dinleyicilerin kültür düzeyleri, gereksinimleri dikkate alınır.
B) Ele alınan konu açık, kesin ve inandırıcı bir şekilde ortaya konur.
C) Muhatapları heyecanlandırarak bir düşünceyi kabul ettirmek esastır.
D) Özellikle sanatsal konularda hazırlanır.

11. • Söylev türünün ilk örnekleri, Eski Yunan ve Roma dönemlerinde ortaya konmuştur.
• Toplanma ve söz özgürlüğünün getirilmesi söylev türünün gelişimini etkilemiştir.
• Orhan Pamuk tanınmış bir söylevcimizdir.

Bu cümleler doğru-yanlış olarak değerlendirildiğinde sıralama aşağıdakilerden hangisi olur?

- A) Y – Y – D B) D – D – Y
C) Y – D – D D) D – Y – Y

12. Bilimsel toplantılarda ilim ve fen insanların yaptıkları konuşmalara - - - - söylev denir.

Bu cümlede boş bırakılan yere aşağıdakilerden hangisi getirilmelidir?

- A) siyasi B) akademik
C) hukuksal D) iktisadi

13. Aşağıdaki cümlelerin hangisinde anlatım bozukluğu vardır?

- A) Ankara’dan Antalya’ya arabayla üç saatte gitmiş.
B) Birden çocukluğunun geçtiği Bursa’daki babaevini hatırladı.
C) Yaz günlerinde, köpeğiyle kırlarda oynamaya bayılır.
D) Sağlıklı, sıhhatli bir bebek dünyaya getirmiş.

3. OTURUM

14. Aşağıdakilerden hangisi tanınmış söylevciler arasında gösterilemez?

- A) Halit Ziya Uşaklıgil
- B) Mustafa Kemal Atatürk
- C) Rıza Tevfik Bölükbaşı
- D) Süleyman Nazif

15. I. İslami toplumlarda dinsel söylevlere hatip denir.

II. Hutbe, orduların moral gücünü yükseltmeye yönelik söylevlere verilen addır.

III. İktisadi söylev ekonomik konularda yapılan konuşmalardır.

Söylev ile ilgili verilenlerden hangileri yanlıştır?

- A) Yalnız I.
- B) Yalnız III.
- C) I ve II.
- D) II ve III.

16. Büyük Türk Milleti!

On beş yıldan beri giriştiğimiz işlerde muvaffakiyet vadeden çok sözlerimi işittin. Bahtiyarım ki bu sözlerimin hiçbirinde, milletimin hakkımdaki itimadını sarsacak bir isabetsizliğe uğramadım. Bugün aynı iman ve katıyetle söylüyorum ki millî ölküye, tam bir bütünlükle yürümekte olan Türk milletinin büyük millet olduğunu, bütün medeni âlem az zamanda bir kere daha tanıyacaktır.

Mustafa Kemal Atatürk

Bu parçanın türü aşağıdakilerden hangisidir?

- A) Nutuk
- B) Mülakat
- C) Görüşme
- D) Röportaj

17. Aşağıdaki cümlelerin hangisinde noktanın (.) kullanımıyla ilgili hata yapılmıştır?

- A) Toplantının 13.30'a ertelenmesine karar verildi.
- B) Yeniçeri Ocağı, II. Mahmut tarafından kaldırılır.
- C) Hediye niçin şimdi açmıyorsun.
- D) Bu sene 25'ine basmış olacak.

18. Aşağıdaki altı çizili sözcüklerin hangisinde ses benzeşmesi yoktur?

- A) Simitçi, erkenden fırının yolunu tütmuş.
- B) Düzenli olarak buraya koşmaya gelir.
- C) Erik toplamak için çıktığı ağaçtan düştü.
- D) Arkadaşım da böcekten çok korkuyor.

19. Aşağıdakilerin hangisinde "ki" ile ilgili bir yazım yanlışı vardır?

- A) Benimki aldıktan iki gün sonra bozuldu.
- B) Konuyu bilmiyor ki soruları yanıtlasın.
- C) Ben, kardeşim, evdeki herkes bu gidişle sarsılacak.
- D) Duydumki unutmusun gözlerimin rengini.

20. Yakında tüm bölgeye barakalar konduracaklar () herkes prefabrik ev diyor () ne saçma değil mi () Zaten her şey çok saçma burada.

Bu parçada yay ayrıçlarla gösterilen yerlere sırasıyla aşağıdaki noktalama işaretlerinden hangisi getirilmelidir?

- A) (,) (;) (.)
- B) (;) (.) (.)
- C) (;) (.) (?)
- D) (;) (.) (?)

(413) TÜRK EDEBİYATI – 3

1. Aşağıdakilerden hangisi destanların genel özelliklerinden değildir?

- A) Savaş, göç, kıtlık gibi toplumu etkileyen olaylar anlatılır.
- B) Olağanüstü kişi ve olaylar görülür.
- C) Bilinen en eski edebiyat ürünlerindedir.
- D) Uzun mensur eserlerdir.

2. Uygur ülkesine bereket ve mutluluk veren Kutlu Dağ'ın Çinliler tarafından parça parça sökülüp taşınmasıyla bozulan uğur (tılsım) sonucu ülkede görülmemiş bir kıtlık başlar. Yaşam çekilmez hâle dönüşür. Bunun üzerine Uygur Türkleri güney batıda, Beş Balıg şehrinde kendilerine yeni bir yurt kurarlar.

Bu metinde sözü edilen destan aşağıdakilerden hangisidir?

- A) Göç
- B) Oğuz Kağan
- C) Manas
- D) Ergenekon

3. Alp Er Tunga öldü mü (Alp Er Tunga öldü mü)
Issız acun kaldı mı (Geçici dünya kaldı mı)
Ödlek için aldı mı (Felek öcünü aldı mı)
Emdi yürek yırtılır (Şimdi yürek yırtılır)

Bu dizelerle ilgili aşağıdakilerden hangisi yanlıştır?

- A) Nazım birimi dörtlüktür.
- B) 7'li hece ölçüsü ile yazılmıştır.
- C) Üçüncü dizede kişileştirme sanatı vardır.
- D) Kafiye düzeni "abab" şeklindedir.

4. Aşağıdakilerden hangisi İslamiyet öncesi sözlü edebiyat ürünlerindedir?

- A) Gazel
- B) Koşuk
- C) İlahi
- D) Semai

5. Aşağıdakilerden hangisi İslamiyet sonrası Türk destanlarından biridir?

- A) Koroğlu
- B) Oğuz Kağan
- C) Türeyiş
- D) Bozkurt

6. Aşağıdakilerden hangisi İslamiyet'in Türk dili ve edebiyatı üzerindeki etkilerinden değildir?

- A) Kullanılan alfabenin değişmesi
- B) Aruz vezninin kullanılmaya başlanması
- C) Roman, deneme, makale gibi türlerin görülmesi
- D) Türkçeye Arapça ve Farsça sözcüklerin girmesi

7. Orhun Yazıtları ile ilgili aşağıda verilen bilgilerden hangisi yanlıştır?

- A) Türk sözcüğünün geçtiği ilk metinlerdir.
- B) Uygurlar zamanında yazılmıştır.
- C) En önemlileri Tonyukuk, Kül Tigin ve Bilge Kağan adına dikilen kitabelerdir.
- D) Wilhelm Thomsen tarafından okunmuştur.

8. Tanrı gibi gökte olmuş Türk Bilge Kağanı, bu zamanda oturdum. Sözüümü tamamıyla işit. Bilhassa küçük kardeş yeğenim, oğlum, bütün soyum, milletim... Dokuz Oğuz beyleri, milleti! Bu sözüümü iyice işit, adamakıllı dinle: Doğuda gün doğusuna, batıda gün batısına, kuzeyde gece ortasına kadar onun içindeki millet hep bana tabidir. Bunca milleti hep düzene soktum. O şimdi kötü değildir.

Göktürk Yazıtları'ndan alınan bu metin aşağıdaki türlerden hangisine örnektir?

- A) Sohbet
- B) Makale
- C) Söylev
- D) Deneme

9. Aşağıdaki tarihî olaylardan hangisi Türk edebiyatının dönemlere ayrılmasında kullanılan ölçütlerden değildir?

- A) Tanzimat'ın İlanı
- B) Cumhuriyet'in İlanı
- C) Kavimler Göçü
- D) İslamiyet'in Kabulü

3. OTURUM

10. Yirmisekiz Çelebi Mehmet Efendi Osmanlı'nın Batılılaşma sürecinde önemli bir yer tutar. 1720 yılında Avrupa şehirlerinden birine elçi olarak atanır ve orada gördüğü saray, kale, opera, fabrika, rasathane ve benzerlerini anlattığı eserini kaleme alır. Bu eseriyle Batılılaşma hareketinin başlamasına katkıda bulunur.

Bu metinde sözü edilen eser aşağıdakilerden hangisidir?

- A) Fransa Sefaretnamesi
- B) Ateşten Gömlek
- C) Türk Edebiyatı Tarihi
- D) Fahim Bey ve Biz

11. Ağâh Sırrı Levent edebiyat tarihçisinin görevini şöyle anlatır: "Bugün git-tikçe zenginleşen kültür dünyasında edebiyatın ufku genişlemiş, edebiyat tarihi de ağır görevler yüklenmiştir. Çağdaş edebiyat tarihçisi, şairleri unutulmaktan kurtarmak ya da eski zevkleri hikâye etmek için eserini yazmıyor. Sadece bilgi vermeyi de yeterli bulmuyor. İncelemek, araştırmak, derinlere inmek, insanlığın gidişini, tarihini yazdığı ulusun dünya anlayışını dönemleriyle birlikte yansıtmak istiyor."

Bu metne göre edebiyat tarihçisinin asıl amacı nedir?

- A) Yazar ve şairleri unutulmaktan kurtarmak
- B) Eski zevkleri anlatmak
- C) Bugüne kadar yazılmış eserler hakkında bilgi vermek
- D) Bir milletin duygu ve düşüncede geçirdiği evreleri incelemek

12. Ülkemizde Batılı anlamda edebiyat tarihi çalışmaları Tanzimat Dönemi'nde başlar. Bu alandaki ilk kapsamlı çalışma - - - - tarafından yayımlanan Türk Edebiyatı Tarihi adlı eserdir.

Bu metinde boş bırakılan yere aşağıdakilerden hangisi getirilmelidir?

- A) Halide Edip Adıvar
- B) Yahya Kemal Beyatlı
- C) Mehmet Fuad Köprülü
- D) Abdülhak Şinasi Hisar

13. Aşağıdakilerden hangisi Kalyanamkara ve Papamkara adlı eserin özelliklerinden değildir?

- A) Budizm'i anlatmak için yazılmıştır.
- B) Divan Edebiyatı Dönemi'nde kaleme alınmıştır.
- C) Türk edebiyatının önemli eserlerinden biridir.
- D) İyi düşünceli prensle kötü düşünceli prensin hikâyesini anlatmaktadır.

14. Aşağıdakilerden hangisi Türklerin tarih boyunca kullandığı alfabelerden değildir?

- A) Göktürk
- B) Uygur
- C) Arap
- D) Çin

15. Kızıl sarıg arkaşıp (Kızıl sarı renkli çiçekler ardı ardına yerden bitiyor) Yıpgin yaşıl yüzkeşip (Mor ile yeşil yüz yüze geliyor) Bir bir kerü yörkeşip (Ve birbirlerine sarılıyorlar) Yalnguk anı tanglaşur (İnsan bu renk cümbüşünü görünce hayretler içinde kalıyor)

Bu dörtlüğün nazım şekli aşağıdakilerden hangisidir?

- A) Sav
- B) Sagu
- C) Koşuk
- D) İlahi

16. Aşağıdakilerden hangisi halk edebiyatının kollarından değildir?

- A) Fecriati
- B) Anonim
- C) Dini-tasavvufi
- D) Âşık tarzı

17. • İslamiyet öncesi sözlü ürünler kopuz eşliğinde söylenmiştir.
• Divan edebiyatı ağır, süslü, sanatlı bir dile sahiptir.
• Halk şairleri şiirlerinde çoğunlukla aruz ölçüsünü kullanmışlardır.

Bu cümleler doğru-yanlış olarak değerlendirildiğinde sıralama aşağıdakilerden hangisi olur?

- A) D – D – D
- B) D – D – Y
- C) Y – Y – D
- D) Y – D – D

18. MÖ 3000'lerde Mezopotamya'da doğmuştur. Bilinen en eski destandır. Bu destanda uzun arayışlardan sonra ölümsüzlük otunu bulup da bir yıla kapıran zalim Uruk kralı ile arkadaşı Enkidu'nun öyküsü anlatılmaktadır.

Bu metinde sözü edilen destan aşağıdakilerden hangisidir?

- A) Manas
- B) Alp Er Tunga
- C) Gılgamış
- D) Oğuz Kağan

19. Aşağıdakilerden hangisi Türklerde İslamiyet öncesinde şairlere verilen isimlerden değildir?

- A) Şaman
- B) Baksı
- C) Kam
- D) Âşık

20. Aşağıdakilerden hangisi Batı etkisinde gelişen Türk edebiyatının kollarından biridir?

- A) Tanzimat Edebiyatı
- B) Klasik Türk Edebiyatı
- C) Yazılı Edebiyat
- D) Sözlü Edebiyat

(416) TÜRK EDEBİYATI – 6

1. Aşağıdakilerden hangisi Servetifünun Dönemi'nde düzyazı türünün belli başlı sanatçılarından değildir?

- A) Halit Ziya Uşaklıgil
- B) Abdülhak Hamit Tarhan
- C) Mehmet Rauf
- D) Hüseyin Cahit Yalçın

2. Servetifünun Dönemi'nin en önemli şairlerinden biridir. Eserlerinde toplumsal konulara yer vermemiştir. Zengin bir hayal dünyasına sahip olan sanatçı yeni imgelerle hayal dünyasını aktarmaya çalışmıştır. O zamana kadar duyulmamış orijinal benzetme, mecaz ve istiareler yapmıştır. Şiirde ahenk sağlamak adına aruzun birden fazla kalıbını "Elhan-ı Şita" isimli şiirinde kullanmıştır.

Bu metinde sözü edilen sanatçı aşağıdakilerden hangisidir?

- A) Namık Kemal
- B) İbrahim Şinasi
- C) Cenap Şehabettin
- D) Ziya Paşa

3. Aşağıdaki eserlerden hangisi Halit Ziya Uşaklıgil'e ait değildir?

- A) Araba Sevdası
- B) Mai ve Siyah
- C) Aşk-ı Memnu
- D) Kırık Hayatlar

4. Aşağıdakilerden hangisi servetifünun edebiyatının özelliklerinden değildir?

- A) Aruz Türkçeye başarılı bir şekilde uygulanmıştır.
- B) Parça güzelliği yerine bütün güzelliği ön plana çıkmıştır.
- C) Aydın kimselere seslenildiği için ağır bir dil kullanılmıştır.
- D) Ağırlıklı olarak toplumsal konular ele alınmıştır.

3. OTURUM

5. Servetifünün edebiyatında hikâye ve roman türünde aşağıdaki akımlardan hangisinin etkisi daha fazladır?

- A) Sembolizm B) Realizm
C) Klasisizm D) Romantizm

6. Fecriati topluluğu sanatçıları, edebiyat ve sanattla ilgili görüşlerini Servet-i Fünun dergisinde açıklamışlardır. Bu açıklama edebiyatımızdaki - - - - .

Bu metinde boş bırakılan yere aşağıdakilerden hangisi getirilmelidir?

- A) ilk bildiridir B) ilk makaledir
C) ilk denemedir D) ilk fıkradır

7. İrmağız, her akan sele uymayız; Şarktan, garbtan esen yele uymayız; El uysun bize, biz ele uymayız; Biz dilmaç değiliz, yalvacız yalvaç **Bu dörtlük şekil ve içerik bakımından incelendiğinde aşağıdaki dönemlerin hangisinde yazıldığı söylenebilir?**

- A) Divan Edebiyatı
B) Millî Edebiyat
C) Tanzimat Edebiyatı
D) Fecriati Edebiyatı

8. • Şiir düzyazıya yaklaştırılmıştır.
• Fransız edebiyatından sone ve terza-rima nazım biçimleri alınmıştır.
• Aydın kimselere seslenildiği için ağır bil dil kullanılmıştır.

Özellikleri verilen edebî anlayış aşağıdakilerden hangisidir?

- A) Fecriati
B) Millî edebiyat
C) Servetifünün
D) Halk edebiyatı

9. Aşağıdakilerden hangisi Fecriati topluluğuna yöneltilen eleştirilerdendir?

- A) Halkı edebiyat ve sanat konularında bilgilendirme istekleri
B) "Güzellik" kavramını ön plana çıkarmaları
C) Batı'daki sanat kurumlarıyla ilişki kurmak istemeleri
D) Doğal olmayan dil ve üslup anlayışları

10. Aşağıdakilerden hangisi Millî Edebiyat Dönemi'nde olay çevresinde gelişen edebî türlerde eser veren sanatçılardan değildir?

- A) Halide Edip Adıvar
B) Yahya Kemal Beyatlı
C) Yakup Kadri Karaosmanoğlu
D) Reşat Nuri Güntekin

11. Sanatçı, Fecriati topluluğunda sanat yaşamına başlamıştır. Topluluk dağıldıktan sonra Millî Edebiyat Dönemi'nde şiirlerini yazmaya devam etmiştir. Şiirlerinde kapalılığa yer verirken düzyazılarında açıklığa önem vermiştir. Özellikle Fransız sembolist şairlerden etkilenmiştir. Eserlerinden bazıları şunlardır: Göl Saatleri, Piyale, Frankfurt Seyahatnamesi...

Bu metinde sözü edilen sanatçı aşağıdakilerden hangisidir?

- A) Ömer Seyfettin
B) Mehmet Emin Yurdakul
C) Ziya Gökalp
D) Ahmet Haşim

12. Günler kısaldı, Kanlıca'nın ihtiyarları Bir bir hatırlamakta geçen sonbaharları

Yalnız bu semti sevmek için ömrümüz kısa
Yazlar yavaşça bitmese, günler kısalmasa

Bu dizelerle ilgili aşağıdakilerden hangisi söylenemez?

- A) Halk edebiyatı geleneğinin izlerini taşır.
B) Bireysel bir tema tercih edilmiştir.
C) Dizeler kendi arasında uyaklıdır.
D) İhtiyarların geçmiş günlere olan özlemi dile getirilmiştir.

13. Aşağıdakilerden hangisi Safahat'ın bölümlerinden değildir?

- A) Süleymaniye Kürsüsü'nde
B) Hakkın Sesleri
C) İstiklal Marşı
D) Hatıralar

14. Aşağıdakilerden hangisi Millî Edebiyat Dönemi sanatçılarının amaçlarından değildir?

- A) İstanbul ağzını yazı dili hâline getirmek
B) Dilde sadeleşmeyi sağlamak
C) Yerli hayatı yansıtmak
D) Şiirde parça güzelliğine önem vermek

15. Yakup Kadri Karaosmanoğlu aşağıdaki türlerin hangisinde eser vermemiştir?

- A) Roman B) Edebiyat tarihi
C) Anı D) Mensur şiir

16. Ulusal edebiyatımızın halk edebiyatı olduğunu, Türk edebiyatının Batı edebiyatı ile birleşmesi gerektiğini savunmuştur. Dilde konuşma dilinin yazı dili olmasını, ulusal ölçümüzün hece ölçüsü olması gerektiğini belirtmiştir. Hece ile yazdığı şiirlerinde halk masallarından, Türk mitolojisinden, Dede Korkut Hikâyeleri'nden yararlanmış. Önemli eserleri şunlardır: Altın Işık, Türkleşmek – İslamlaşmak – Muasırlaşmak.

Bu metinde sözü edilen sanatçı aşağıdakilerden hangisidir?

- A) Ziya Gökalp
B) İbrahim Şinasi
C) Namık Kemal
D) Ahmet Mithat

17. Aşağıdaki sanatçı – eser eşleştirmelerinden hangisi yanlıştır?

- A) Mehmet Rauf – Eylül
B) Halit Ziya Uşaklıgil – Aşk-ı Memnu
C) Ahmet Haşim – Şermin
D) Mehmet Fuad Köprülü – Türk Edebiyatı Tarihi

18. Aşağıdaki eserlerden hangisi Ömer Seyfettin'e ait değildir?

- A) Kalp Ağrısı B) Falaka
C) Bomba D) Yüksek Ökçeler

19. Aşağıdaki romanların hangisinde kuşaklar arası çatışma işlenmiştir?

- A) Ankara B) Kiralık Konak
C) Panorama D) Hüküm Gecesi

20. Hikâye, roman ve anı türlerinde eserler verdi. Önceleri aşk teması üzerinde durdu. Kurtuluş Savaşı yıllarında ulusal temalara ağırlık verdi. Eserlerinden bazıları şunlardır: Ateşten Gömlek, Sinekli Bakkal, Vurun Kahpeye...

Bu metinde sözü edilen sanatçı aşağıdakilerden hangisidir?

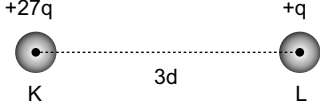
- A) Ömer Seyfettin
B) Halide Edip Adıvar
C) Faruk Nafiz Çamlıbel
D) Yakup Kadri Karaosmanoğlu

3. OTURUM

(426) SEÇ. FİZİK – 2

1. Coulomb'a göre noktasal iki elektrik yükü arasındaki elektriksel kuvvetin büyüklüğü F , yüklerin büyüklükleri (q_1) ve (q_2) ile doğru orantılı, aralarındaki uzaklık (d) ile ters orantılıdır. Bunun matematiksel modeli;
 $F = k \cdot \frac{q_1 \cdot q_2}{d^2}$ ile verilir.

Buna göre,

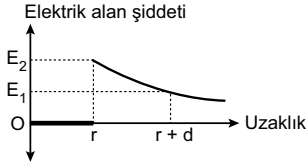


Şekildeki K ve L kürelerine etkiyen elektrik kuvveti kaç $k \cdot \frac{q^2}{d^2}$ olur?

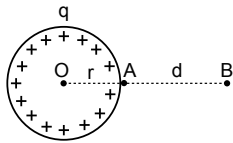
(k: Coulomb sabitidir.)

- A) 27 B) 9 C) 3 D) 1

2. O merkezli elektrik yüklü iletken bir kürenin elektrik alan şiddetinin uzaklığa bağlı değişim grafiği şekildeki gibidir.



Kürenin içinde ($E = 0$) elektrik alan şiddeti sıfır, kürenin yüzeyinde maksimum olur. Kürenin dışında ise uzaklık arttıkça azalır.



Metal yüklü küre

Buna göre pozitif yüklü kürenin O, A ve B noktalarındaki elektrik alan şiddetleri E_O , E_A ve E_B arasındaki ilişki aşağıdakilerden hangisidir?

- A) $E_O = E_A = E_B$
 B) $E_A > E_B > E_O$
 C) $E_A > E_O > E_B$
 D) $E_B > E_O > E_A$

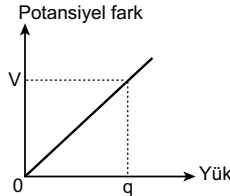
3. Elektrik yüklü cisimler, yüklerinin cinsine göre birbirlerini iter veya çekerler.
Buna göre aralarında belirli bir uzaklık bulunan q_1 ve q_2 noktasal elektrik yüklerinin birbirlerine uyguladıkları etkileşme kuvveti aşağıdaki seçeneklerin hangisinde doğru gösterilmiştir?

	q_1	q_2	Kuvvet (F)
A)	+	+	Çekme
B)	-	-	Çekme
C)	+	-	İtme
D)	+	+	İtme

4. Noktasal $+q$ elektrik yükünün kendisinden d kadar uzaktaki noktada elektrik potansiyeli $V = k \cdot \frac{q}{d}$ bağıntısıyla bulunur. Birim SI'de volt'dur.
Buna göre $4q$ ve $2d$ uzaklıkta noktada elektriksel potansiyel kaç V dir?
 (k: Coulomb sabitidir.)

- A) 8 B) 6 C) 4 D) 2

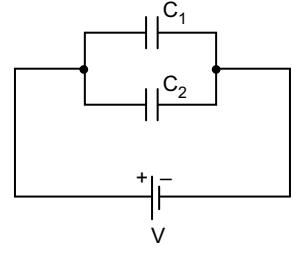
5. Bir sığacın levhaları arasındaki potansiyel farkının elektrik yüküne bağlı değişim grafiği şekildeki gibidir.



Buna göre V ve q bilindiğine göre aşağıdakilerden hangisi bulunabilir?

- A) Sığaçta biriken elektriksel enerji
 B) Sığacın levhalarının yüzey alanı büyüklüğü
 C) Sığacın levhalarının arasındaki uzaklık
 D) Sığacın levhalarının yapıldığı maddenin cinsi

- 6.



Şekildeki C_1 ve C_2 sığaçları uçları ortak noktalar ile bir üretece bağlanmıştır.

Bu şekildeki bağlanmaya ne ad verilir?

- A) Paralel bağlama
 B) Seri bağlama
 C) Karışık bağlama
 D) Ters bağlama

7. Sığaçları $2C$, $3C$ ve $6C$ olan üç tane sığaç seri bağlanıyor.

Buna göre sığaçların eş değer sığası kaç C olur?

- A) 6 B) 3 C) 2 D) 1

8. Günlük hayatımızda vantilatör ve çamaşır makinesi gibi elektrikli ev aletlerinde kullanılan, elektrik enerjisini mekanik enerjiye dönüştüren araçlara ne ad verilir?

- A) Alternatif akım jeneratörü
 B) Transformatör
 C) Elektrik motoru
 D) Elektrik anahtarı

9. Gerilim ve akımı değiştirebilen trafolardan çok küçük olan transformatörler hangi akımla çalışır?

- A) Doğru akım
 B) Alternatif akım
 C) Isı akımı
 D) Hava akımı

10. Transformatördeki primer ve sekonderin sarım sayıları ile giriş ve çıkış gerilimleri doğru orantılıdır.

Buna göre, primer sarım sayısı (N_p) 500 ve sekonder sarım sayısı (N_s) 100 olan ideal bir transformatörün giriş gerilimi 220 Volt ise çıkış gerilimi kaç Volt'tur?

- A) 220 B) 110 C) 55 D) 44

3. OTURUM

11. ℓ uzunluğundaki N sarımlı bir akım makarasından (bobinden) i akımı geçiyorsa merkezindeki manyetik alan şiddeti; $B = 4 \cdot \pi \cdot K \cdot \frac{i}{\ell} \cdot N$ şeklinde ifade edilir.

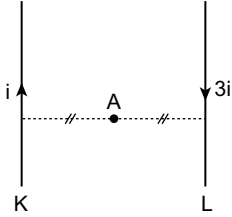
Buna göre,

- I. Akım şiddeti (i)
II. Bobindeki sarım sayısı (N)
III. Bobinin uzunluğu (ℓ)

verilen fiziksel niceliklerinden hangileri tek başına artırılırsa manyetik alan azalır?

- A) Yalnız I. B) Yalnız II.
C) Yalnız III. D) I ve II.

12. Üzerinden şekildeki gibi i ve $3i$ şiddetinde akımlar geçen sonsuz uzunluktaki K ve L telleri paralel olarak yerleştirilmiştir.



Buna göre tellerin tam ortasındaki A noktasında K telinin oluşturduğu manyetik alan şiddeti B ise L telinin A noktasında oluşturduğu manyetik alan şiddeti kaç B olur?

- A) 1 B) 2 C) 3 D) 4

13. Düzgün bir manyetik alan içinde üzerinden akım geçen tellere uygun koşullar sağlanırsa bir kuvvet etki eder. $F = B \cdot i \cdot \ell \cdot \sin\theta$ bağıntısı ile bulunur.

Bu kuvvete ne ad verilir?

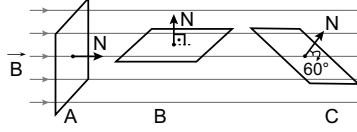
- A) Manyetik B) Elektrik
C) Coulomb D) Kaldırma

14. Bir araba, yerin manyetik alan şiddetinin düşey bileşenin $5 \cdot 10^{-3}$ T olduğu bir bölgedeki yatay yolda 100 m/s sabit hızla hareket etmektedir.

Bu arabanın 2 m uzunluğundaki çelik dingilinin uçları arasında oluşan indüksiyon Emk'sı kaç V'tur?

- A) 1 B) 5 C) 10 D) 100

15. Özdeş A, B ve C iletken çerçeveler manyetik alana aşağıda anlatıldığı gibi yerleştiriliyor.



- A: Manyetik alan ile çerçeve yüzeyin normali paralel
B: Manyetik alan ile çerçeve yüzeyin normali dik
C: Manyetik alan ile çerçeve yüzeyin normali arasındaki açı 60° .

Buna göre A, B ve C çerçevelerinden geçen manyetik akılar (Φ_A , Φ_B ve Φ_C) arasındaki büyüklük ilişkisi nasıldır?

(N: Yüzey normal)

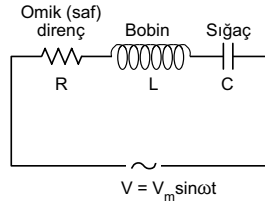
- A) $\Phi_A = \Phi_B = \Phi_C$
B) $\Phi_A > \Phi_C > \Phi_B$
C) $\Phi_B > \Phi_A > \Phi_C$
D) $\Phi_C > \Phi_B > \Phi_A$

16. Anlık değerinin zamana bağlı değişimi $V = 5\sqrt{2} \sin 100\pi t$ volt olan alternatif gerilim, 2Ω 'luk direncin uçlarına uygulanıyor.

Buna göre gerilimin frekansı kaç s^{-1} 'dir? ($V = V_m \sin 2\pi ft$)

- A) 50 B) 60 C) 80 D) 100

17. Direnç, bobin ve sığaç şekildeki gibi alternatif akım kaynağına bağlanmıştır.



Buna göre şekildeki devreye ne ad verilir?

- A) Paralel RLC devresi
B) Seri RLC devresi
C) Karışık RLC devresi
D) Doğru akım devresi

18. Günlük hayatta kullanılan transformatörler genellikle bir elektrik devresinde gerilimi düşürmek ve yükseltmek için kullanılır.

Buna göre aşağıdaki verilen örneklerin hangisinde transformatör kullanılmıştır?

- A) Elektrik motorlarında
B) Elektrik dinamosunda
C) Demirci ustalarının kaynak makinelerinde
D) Elektrikli ısıtıcılarda (ocaklarda)

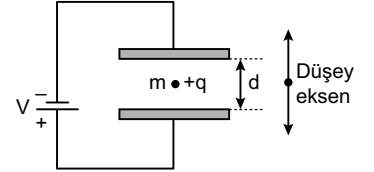
19. Alternatif akım ile ilgili,

- I. Alternatif akım uzak yerleşim yerlerine az enerji kaybıyla aktarılır.
II. Alternatif akım doğru akıma dönüştürülebilir.
III. Günümüzde alternatif akım elektrostatik boya teknolojisinde, elektroliz çalışmalarında kullanılmaz.

ifadelerinden hangileri doğrudur?

- A) Yalnız I. B) I ve II.
C) II ve III. D) I, II ve III.

20. Düşey düzlemde elektrik yükünün büyüklüğü $+q$ olan, m kütleli bir cisim şekildeki gibi V gerilimli üretece bağlanarak paralel levhalar arasında dengede kalmaktadır.



Buna göre aşağıdakilerden hangisi doğrudur? (Sürtünmeler önemsizdir)

- A) Cismin ağırlığı cisme etkleyen elektrik kuvvetinden büyüktür.
B) Cismin ağırlığı, cisme etkleyen elektrik kuvvetinden küçüktür.
C) Cismin ağırlığı, cisme etkleyen kaldırma kuvvetinden büyüktür.
D) Cismin ağırlığı, cisme etkleyen elektrik kuvvetine eşittir.

(427) SEÇ. FİZİK – 3

1. Çembersel hareket yapan bir cisim yarım tur yaptığında π radyanlık açı taramaktadır.
Buna göre tam bir tur döndüğünde cismin konum vektörü kaç radyan açı taramış olur?

- A) π B) 2π C) 3π D) 4π

2. Dönerek öteleme hareketi yapan cisimlerin hem dönme hem de öteleme kinetik enerjileri vardır.

Buna göre yuvarlanarak hareket eden bir cismin toplam kinetik enerjisi 60 J, öteleme kinetik enerjisi 40 J olduğuna göre, dönme kinetik enerjisi kaç J'dür?

- A) 100 B) 50 C) 20 D) 10

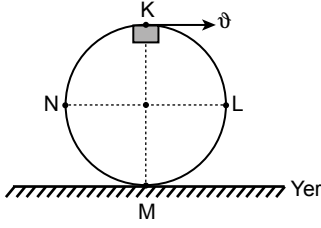
3. OTURUM

3. Bir cisim düşey düzlemde düzgün çembersel hareket yaparken cismi merkeze doğru bir kuvvet çekmektedir.

Bu kuvvete genel olarak verilen ad aşağıdakilerden hangisidir?

- A) Elektrik kuvveti
B) Manyetik kuvvet
C) Merkezci kuvvet
D) Miknatis kuvveti

4. Düşey düzlemde duran ray üzerinde bir cisim şekildeki gibi düzgün çembersel hareket yapmaktadır.



Buna göre cisim hareket ederken hangi noktada cismin ağırlığı ile rayın cisme uyguladığı tepki kuvveti (T) aynı yönlüdür?

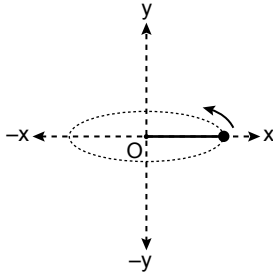
- A) K B) L C) M D) N

5. Bir otomobil sürtünme katsayısı k , eğrilik yarıçapı r olan bir viraja maksimum v hızıyla girdiğinde virajı güvenli alabiliyor.

Buna göre otomobil, sürtünme katsayısı aşağıdakilerden hangisi olursa virajı güvenli alamaz?

- A) $0,5k$ B) $2k$ C) $2,5k$ D) $3k$

6. Yatay düzlemde ipin ucuna bağlı bir cisim şekildeki gibi O noktası etrafında döndürülüyor.



Sağ elin dört parmağı dönme yönünü gösterdiğinde baş parmağın yönü açısal momentumun yönünü gösterdiğine göre açısal momentumun yönü aşağıdakilerden hangisinde doğru verilmiştir?

- A) x yönünde B) y yönünde
C) $-x$ yönünde D) $-y$ yönünde

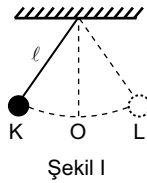
7. Bazı hareket örnekleri aşağıda verilmiştir.

- I. Yolda yürüyen adamın hareketi
II. Seyahat hâlindeki bir otomobilin tekerinin hareketi
III. Yerde yürüyen karıncanın hareketi

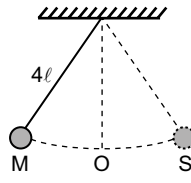
Bu örneklerden hangilerinde aynı anda dönme ve öteleme hareketi vardır?

- A) Yalnız I. B) Yalnız II.
C) I ve III. D) II ve III.

8. İp boyu ℓ (Şekil I) olan ve 4ℓ (Şekil II) olan sarkaçların harmonik hareket yaparken bir an için konumları görülmektedir.



Şekil I

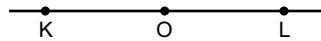


Şekil II

K ve M noktalarından aynı anda harekete başlayan sarkaçlardan; Şekil I'deki sarkacın ucundaki cisim tam bir salınım yaptığında Şekil II'deki sarkaca bağlı cisim nerede olur?

- A) M noktasında
B) M-O arasında
C) O noktasında
D) S noktasında

9. Şekildeki K-L arasında basit harmonik hareket yapan bir cisim K'den L'ye t sürede ulaşıyor.



Noktalar arası eşit olduğuna göre cismin salınım periyodu kaç t dir?

- A) 1 B) 2 C) 3 D) 4

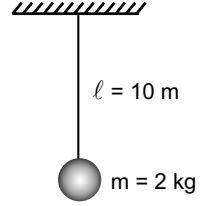
10. Yaylı sarkaçlarla ilgili,

- I. Cismin kütlesi arttıkça sarkacın salınımı yavaşlar.
II. Salınım periyodu genliğe bağlıdır.
III. Yay sabiti artarsa salınım periyodu artar.

sarkacın periyodu kütle ve yayın cinsine bağlı olduğuna göre yukarıdaki yargılardan hangileri doğrudur?

- A) Yalnız I. B) Yalnız II.
C) I ve II. D) II ve III.

11. Uzunluğu 10 metre olan bir ipin ucuna 2 kg 'lık noktasal bir cisim bağlanarak şekildeki basit sarkaç yapılıyor.

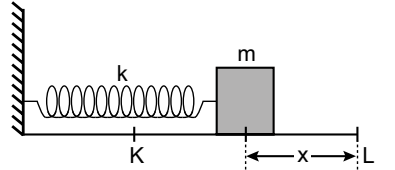


Cisim doğrultusundan biraz açılıp bırakıldığında basit harmonik hareket yaptığını göre cismin periyodu kaç saniyedir?

($\pi = 3$ ve $g = 10 \text{ m/s}^2$ alınız.)

- A) 2 B) 3 C) 5 D) 6

12. Kütle m olan cisim yay sabiti k olan bir yaya bağlanıp x kadar çekilip bırakıldığında cisim şekildeki gibi K-L arasında basit harmonik hareket yapıyor.



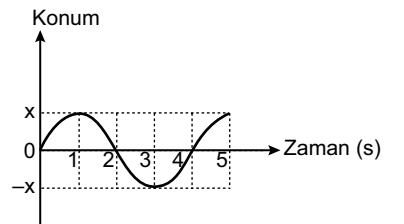
Buna göre cismin periyodu,

- I. m kütle
II. k yay sabiti
III. x uzanım miktarı

niceliklerinden hangilerine bağlıdır?

- A) I ve II. B) I ve III.
C) II ve III. D) I, II ve III.

13. Basit harmonik hareket yapan bir cisme ait birim kareler üzerine çizilmiş konum-zaman grafiği şekildeki gibidir.

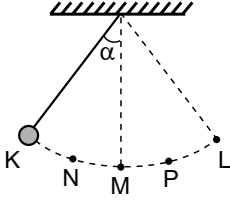


Buna göre cismin periyodu kaç saniyedir?

- A) 1 B) 2 C) 3 D) 4

3. OTURUM

14. İpin ucuna bağlı bir cisim tavana asılıp, α kadar çekilip bırakıldığında K-L arasında basit harmonik hareket yapıyor.



Mekanik enerji korunduğuna göre cismin sürati hangi noktada en fazladır?

- A) K B) N C) M D) P

15. Salınım hareketinde cismin bir tam salınım hareketi yapması için geçen süreyle ne ad verilir?

- A) Uzanım B) Periyot
C) Genlik D) Frekans

16. Metal bir hedefin yüksek enerjili elektronlarla bombardıman edilmesi sonucu elde edilen elektromanyetik dalgaların adı aşağıdaki-lerden hangisidir?

- A) X-ışınları
B) Gama ışınları
C) Radyo dalgaları
D) Morötesi dalgalar

17. Duran bir gözlemci, f frekanslı dalgalar üreten hareketli bir ses kaynağından çıkan sesleri olduğundan daha büyük frekanslı işitmektedir.

Buna göre gözlemci ve ses kaynağının hızları V_G ve V_K aşağıdakilerden hangisi olabilir?

- A) $V_G = 0$, $V_K = V$
B) $V_G = 0$, $V_K = 2V$
C) $V_G = 0$, $V_K = 2V$
D) $V_G = 0$, $V_K = 3V$

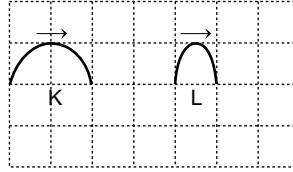
18. Tek yarıkla yapılan girişim deneyi ile ilgili;

- I. Merkezi aydınlık saçak diğerlerinden daha geniştir.
II. Bütün saçakları aynı genişliktedir.
III. Saçakların genişliği ışığın dalga boyu ile doğru orantılıdır.

yargılarından hangileri doğrudur?

- A) Yalnız I. B) Yalnız II.
C) Yalnız III. D) I ve III.

19. Su dalgalarına ait K ve L atmalarının bir anlık durumları şekilde gösterilmektedir.



Buna göre,

- I. K'nin genliği L'nin iki katıdır.
II. K ve L'nin genişlikleri eşittir.
III. K ve L'nin genliği eşittir.

yargılarından hangileri doğrudur?

- A) Yalnız I. B) Yalnız II.
C) Yalnız III. D) I ve II.

20. Bir dalga leğeninde dalga boyu λ olan su dalgaları, yarık genişliği ω olan takozlara gönderildiğinde,

- I. $\lambda > \omega$ ise kırınım gözlenir.
II. $\lambda = \omega$ ise kırınım gözlenmeye başlar.
III. $\lambda < \omega$ ise kırınım gözlenmez.

yargılarından hangileri doğru olur?

- A) I ve II. B) I ve III.
C) II ve III. D) I, II ve III.

(428) SEÇ. FİZİK – 4

1. "Atomlar negatif yüklü elektronların gömülü olduğu ve içinde pozitif yükün düzgün olarak dağıldığı küreler şeklinde maddedir." **diyen bu söylemiyle atomun üzümlü keke benzetilen ilk bilim insanı aşağıdakilerden hangisidir?**

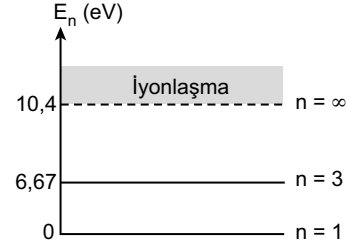
- A) Hulusi Behçet
B) Aziz Sancar
C) Joseph John Thomson
D) Aydın Sayılı

2. Hidrojen atomunda bir elektronun toplam enerjisinin $E_n = -13,6 \cdot \frac{Z^2}{n^2}$ olduğu bilinmektedir.

Buna göre hidrojen atomunun temel hâldeki enerjisi kaç eV'tur?

- A) -10,2 B) -13,6
C) -3,40 D) -1,51

3. Civa atomuna ait bazı uyarılma düzeyleri şekilde verilmiştir.



Fotonun sahip olduğu enerji atomun uyarılma düzeyine eşit olduğunda atomu uyardığı bilindiğine göre aşağıda enerjileri verilmiş olan hangi foton civa atomunu uyarabilir?

- A) 2,62 eV B) 3,82 eV
C) 6,67 eV D) 7,67 eV

4. Atom çekirdeğinde protonlar ve nötronlar bulunmaktadır.

Buna göre proton ve nötronun sembol gösterimi aşağıdakilerden hangisinde doğru verilmiştir?

- A) p, n B) p, e C) Σ , e D) Ω , n

5. Evrenin oluşumuna ya da doğuşuna dair birçok kuramın test edildiği Avrupa nükleer araştırma merkezi (CERN) hangi ülke sınırları içindedir?

- A) Suriye B) Türkiye
C) İsviçre D) İran

6. Bohr atom modeline göre,

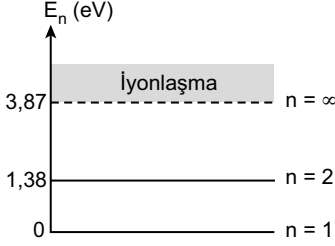
- I. Elektron yüksek enerjili bir seviyeden daha düşük alt enerji seviyesine inerken ışımaya yapar.
II. Elektronun iki farklı enerji seviyesi arasında geçişi esnasında yayılan fotonun enerjisi iki seviye arasındaki enerji farkına eşittir.
III. Elektronlar çekirdek çevresinde ışımaya yapmadan dönerler.

yargılarından hangileri doğrudur?

- A) Yalnız I. B) I ve II.
C) II ve III. D) I, II ve III.

3. OTURUM

7. Sezyum atomuna ait bazı uyarılma enerjileri şekilde verilmiştir.



Buna göre aşağıda enerjileri verilmiş olan elektronlardan hangisi sezyum atomunu uyarabilir?

- A) 1,38 eV B) 1,28 eV
C) 1,10 eV D) 1,00 eV

8. Atomlar,

- I. Isı etkisiyle uyarabilir.
II. Elektronlarla uyarabilir.
III. Fotonlarla uyarabilir.

yargılarından hangileri doğrudur?

- A) Yalnız I. B) I ve II.
C) II ve III. D) I, II ve III.

9. Doğadaki;

- I. Kütle çekim
II. Elektromanyetik
III. Güçlü nükleer
IV. Zayıf nükleer

kuvvetlerden hangileri temel kuvvettir?

- A) I ve II. B) II, III ve IV.
C) I, II ve III. D) I, II, III ve IV.

10. Nükleer fizik;

- I. Nükleer enerji üretiminde
II. Tıpta teşhis ve tedavi yöntemlerinde
III. Jeoloji ve arkeolojide faydalanılan bir bilim dalıdır.

İfadelerinden hangileri doğrudur?

- A) I ve II. B) II ve III.
C) I ve III. D) I, II ve III.

11. Bir fotoselin katotuna ışık düşürüldüğünde koparak devreden elektrik akımı geçmesine sebep olan parçacık aşağıdakilerden hangisidir?

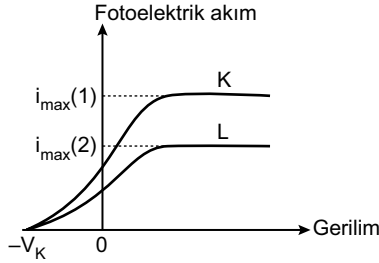
- A) Nötron B) Proton
C) Elektron D) Pozitron

12. Frekansı f olan bir fotonun enerjisi $E = h \cdot f$ dir. Dalga boyu λ olan foton c ışık hızında hareket ederse frekansı $f = \frac{c}{\lambda}$ olacaktır.

Buna göre fotonun enerjisinin h , c ve λ 'ye bağlı bağıntısı aşağıdakilerin hangisinde doğru verilmiştir?

- A) $\frac{h \cdot c}{\lambda}$ B) $h \cdot c \cdot \lambda$
C) $\frac{h \cdot \lambda}{c}$ D) $\frac{c \cdot \lambda}{h}$

13. Bir fotoसे K ve L ışınları gönderildiğinde fotoelektrik akımın anot-katot arasında uygulanan hızlandırıcı gerilime bağlı değişim grafiği şekilde verilmiştir.



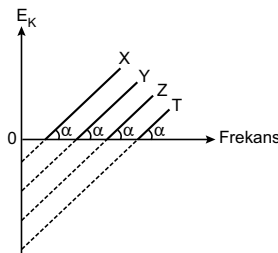
Buna göre,

- I. K ve L'nin fotoelektrik akım şiddetleri farklıdır.
II. K ve L'nin fotoelektrik akım şiddetleri aynıdır.
III. K ve L'nin frekansları aynıdır.

yargılarından hangileri doğrudur?

- A) Yalnız I. B) Yalnız II.
C) I ve III. D) II ve III.

14. Farklı katot metallerine düşürülen ışığın söktüğü foto-elektronların maksimum kinetik enerjilerinin, düşen ışığın frekansına bağlı değişim grafiği şekilde verilmiştir.



Buna göre X, Y, Z ve T metallerinden hangisinin eşik enerjisi diğerlerine göre daha büyüktür?

- A) X B) T C) Z D) Y

15. Compton olayında foton ve elektron esnek çarpışma yapmaktadır.

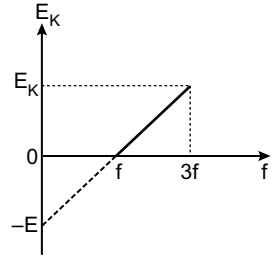
Buna göre çarpışmadan sonra,

- I. Momentum
II. Kinetik enerji
III. Kütle

niceliklerinden hangileri korunur?

- A) Yalnız I. B) I ve II.
C) II ve III. D) I, II ve III.

16. Bir metalden sökülen fotonların maksimum kinetik enerjisinin metal yüzeyine gönderilen fotonların frekansına bağlı grafiği şekilde gibidir.



Metalin eşik enerjisi E olduğuna göre frekansı $3f$ olan fotonların enerjisi kaç E 'dir?

- A) 1 B) 2 C) 3 D) 4

17. Aşağıdakilerden hangisi yarı iletken maddelere örnek gösterilebilir?

- A) Germanyum B) Altın
C) Mika D) Hava

18. Bazı görüntüleme cihazları aşağıda verilmiştir.

- I. Manyetik rezonans cihazı
II. Tomografi cihazı
III. Ultrason cihazı

Bu cihazlardan hangileri modern fiziğin teknolojideki uygulamalarına örnek gösterilebilir?

- A) Yalnız I. B) I ve II.
C) II ve III. D) I, II ve III.

19. Bazı bilim merkezleri aşağıda verilmiştir.

- I. TÜBİTAK
II. CERN
III. NASA

Bu bilim merkezlerinden hangileri ülkemizdedir?

- A) Yalnız I. B) Yalnız III.
C) I ve II. D) II ve III.

3. OTURUM

20. Günümüzde kullanılan teknolojik araçlardan;

- I. MAGLEV trenleri,
 - II. parçacık hızlandırıcıları,
 - III. manyetik rezonans (MR) cihazı
- hangilerinde süper iletken teknoloji kullanılmaktadır?

- A) Yalnız I. B) I, II ve III.
C) II ve III. D) I ve II.

(433) KİMYA – 3

1. Günlük hayatta kullandığımız aşağıdaki maddelerden hangisi asidik özelliktedir?

- A) Sirke B) Çamaşır suyu
C) Diş macunu D) Sabun

2. Aşağıdaki maddelerden hangisi suda çözüldüğünde ortama OH⁻ (hidroksit) iyonu verir?

- A) H₂SO₄ B) NaOH
C) NaCl D) HNO₃

3. X maddesi: Bazı metallerle tepkimeye girdiğinde H₂ gazı açığa çıkıyor.

Y maddesi: Kırmızı turnusol kağıdının rengini maviye çeviriyor.

Yukarıda birer özelliği verilen X ve Y, hangi maddeler olabilir?

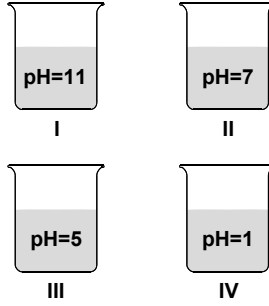
- | X | Y |
|-------------|----------------|
| A) Sabun | Çamaşır sodası |
| B) Tuzlu su | Sirke |
| C) Tuz ruhu | Çamaşır suyu |
| D) Karbonat | Limon tuzu |

4. I. pH = 2
II. pH = 9
III. pH = 13

Yukarıda pH değerleri verilen sulu çözeltilerden hangileri bazik özelliktedir?

- A) Yalnız I. B) I ve II.
C) II ve III. D) I, II ve III.

5.



Oda koşullarında hazırlanan yukarıdaki sulu çözeltilerden hangisi hem kırmızı hem de mavi turnusol kağıdının rengini değiştirmez?

- A) I. B) II. C) III. D) IV.

6. Bir asit çözeltisi için,

- I. pH < 7 dir.
 - II. Elektrik akımını iletir.
 - III. Mavi turnusolu kırmızıya çevirir.
- ifadelerinden hangileri doğrudur?

- A) Yalnız II. B) I ve II.
C) I ve III. D) I, II ve III.

7. Halk arasında "kezzap" diye bilinen asit aşağıdakilerden hangisidir?

- A) Nitrik asit
- B) Asetik asit
- C) Sülfürik asit
- D) Hidroklorik asit

8. Bir maddenin asit mi baz mı olduğunu anlamak için,

- I. turnusol kağıdı,
 - II. fenolftalein,
 - III. saf su
- maddelerinden hangileri indikatör olarak kullanılır?

- A) Yalnız I. B) I ve II.
C) II ve III. D) I, II ve III.

9. Camı aşındırma özelliği olan asit aşağıdakilerden hangisidir?

- A) HCl B) HNO₃
C) HF D) H₂SO₄

10. Halk arasında "çamaşır sodası" olarak bilinen madde aşağıdakilerden hangisidir?

- A) Sodyum klorür
- B) Kalsiyum sülfat
- C) Potasyum nitrat
- D) Sodyum karbonat

11. • Gazoz
• Hava
• Süt
• Su

Verilen maddelerden kaç tanesi karışımdır?

- A) 4 B) 3 C) 2 D) 1

12. Aşağıdaki maddelerden hangisi homojen karışımlara (çözeltilere) örnek verilebilir?

- A) Kolonya B) Ayran
C) Krema D) Toprak

13. "Tuzlu su" çözeltisini oluşturan çözünen ve çözücü maddelerin fiziksel hâleri aşağıdakilerin hangisinde doğru verilmiştir?

	Çözünen	Çözücü
A)	Sıvı	Katı
B)	Katı	Gaz
C)	Gaz	Sıvı
D)	Katı	Sıvı

14. I. Homojen karışımlardır.
II. Karışan maddeler arasında belirli bir oran yoktur.
III. Görünümleri berrak olup süzme işlemi ile bileşenlerine ayrılmazlar.


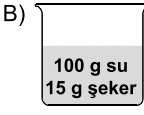
Yukarıda verilen özelliklerden hangileri sulu çözeltilere aittir?


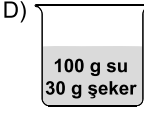
- A) Yalnız I. B) I ve III.
C) II ve III. D) I, II ve III.

3. OTURUM

(434) KİMYA – 4

15. Aynı şartlarda hazırlanan aşağıdaki çözeltilerden hangisi daha seyreltiktir?

A)  B) 

C)  D) 

16. 160 gram suda 40 gram yemek tuzu çözülerek hazırlanan tuzlu su çözeltisinin kütlece yüzde derişimi aşağıdakilerden hangisidir?

- A) 10 B) 20 C) 30 D) 40

17. 100 mL sulu metil alkol çözeltisinde 90 mL su bulunduğuna göre kaç mililitre metil alkol bulunur?

- A) 20 B) 15 C) 10 D) 5

18. Aynı şartlarda hazırlanan, bileşen miktarları verilmiş aşağıdaki çözeltilerden hangisi diğerlerine göre daha yüksek sıcaklıkta kaynamaya başlar?

- A) 100 g su + 30 g şeker
B) 100 g su + 15 g şeker
C) 100 g su + 7 g şeker
D) 100 g su + 2 g şeker

19. Ham petrolü bileşenlerine ayırmak için hangi yöntem kullanılır?

- A) Buharlaştırma
B) Diyaliz
C) Yüzdürme
D) Ayrımsal damıtma

20. Haşlanmış makarnayı suyundan ayırmak için kullanılan yöntem aşağıdakilerden hangisidir?

- A) Damıtma B) Süzme
C) Yüzdürme D) Eleme

1. Kömürün yapısında kütlece en fazla bulunan element aşağıdakilerden hangisidir?

- A) Karbon B) Hidrojen
C) Azot D) Kükürt

2. Aşağıda verilenlerden hangisi temiz enerji kaynağıdır?

- A) Doğal gaz B) Kömür
C) Benzin D) Rüzgâr enerjisi

3. I. Linyit
II. Antrasit
III. Fuel-oil

Yukarıda verilenlerden hangileri kömür çeşididir?

- A) Yalnız I. B) I ve II.
C) II ve III. D) I, II ve III.

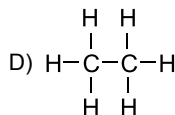
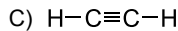
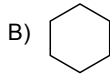
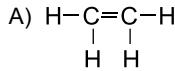
4. Ham petrol ile ilgili verilen aşağıdaki ifadelerden hangisi yanlıştır?

- A) Sıvı hâlde bulunur.
B) Ana bileşeni karbon elementidir.
C) Yenilenebilir enerji kaynaklarından değildir.
D) Pek çok hidrokarbondan oluşan bir karışımdır.


5. Ham petrolü bileşenlerine ayırmak için hangi ayırma yöntemi kullanılır?

- A) Yüzdürme (flotasyon)
B) Ayrımsal damıtma
C) Süzme
D) Kristallendirme (çöktürme)

6. Aşağıda verilenlerden hangisi "alkin" sınıfı bir bileşiktir?



7. Aşağıda verilenlerden hangisi "benzen" bileşigidir?

- A)  B) CH_4
C) C_2H_6 D) C_3H_8

8. Aşağıda verilenlerden hangisi yenilenebilir (temiz) enerji kaynaklarından değildir?

- A) Linyit B) Hidroelektrik
C) Güneş D) Jeotermal

9. İnsan sağlığını tehdit eden glikoz şurubu hangi bitkiden elde edilir?

- A) Buğday B) Mısır
C) Arpa D) Nohut

10. Aşağıdaki besin maddelerinden hangisini vücudumuz enerji kaynağı olarak kullanamaz?

- A) Proteinler B) Vitaminler
C) Yağlar D) Karbonhidratlar

11. I. Glikoz
II. Fruktoz
III. Nişasta

Verilenlerden hangileri monosakarittir?

- A) I ve II. B) I ve III.
C) II ve III. D) I, II ve III.

12. Aşağıdaki hangi element iyonları suya sertlik verir?

- A) Sodyum - Alüminyum
B) Oksijen - Klor
C) Lityum - Silisyum
D) Kalsiyum - Magnezyum

13. Doğal bir biçimde yeryüzüne çıkan yer altı suyu, aşağıdakilerden hangisidir?

- A) Deniz suyu B) Baraj suyu
C) Kaynak suyu D) Yağmur suyu

3. OTURUM

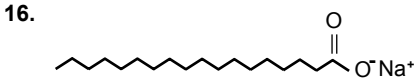
(435) SEÇ. KİMYA – 1

14. Su arıtımında, suda bulunan zararlı mikroorganizmaları yok etmek için uygulanan dezenfeksiyon işleminde aşağıdaki maddelerden hangisi kullanılır?

A) Kalsiyum B) Magnezyum
C) Oksijen D) Klor

15. Aşağıda verilen gıdalardan hangisi "hazır gıdalar" arasında yer almaz?

A) Sosis B) Çikolata
C) Yumurta D) Bisküvi



Yukarıda çizgi-bağ gösterimi verilen molekül hangi maddeye ait olabilir?

A) Sabun B) Gıda boyası
C) Saç boyası D) Çamaşır suyu

17. • İpek
• Kauçuk
• Protein
• Plastik

Verilen maddelerden kaç tanesi doğal polimerdir?

A) 4 B) 3 C) 2 D) 1

18. I. Şurup
II. Damla
III. Merhem

Yukarıda verilenlerden hangileri ilaç formlarındandır?

A) Yalnız I. B) I ve II.
C) II ve III. D) I, II ve III.

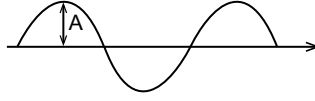
19. "Selüloz" maddesi aşağıda verilenlerden hangisinin ham maddesidir?

A) Tebeşir B) Kağıt
C) Silgi D) Mürekkep

20. Aşağıdakilerden hangisi su ve toprak kirliliğine neden olmaz?

A) Yeşil alanların çoğaltılması
B) Pillerin toprağa gömülmesi
C) Yapay gübrelemenin artırılması
D) Temizlikte bol deterjan kullanılması

1.



Şekildeki dalgada A ile gösterilen büyüklük aşağıdakilerden hangisidir?

A) Dalga boyu B) Genlik
C) Frekans D) Hız

2. Elektromanyetik spektrumda insan gözünün gördüğü tüm renkleri içeren ışınların oluşturduğu bölge aşağıdakilerden hangisidir?

A) Görünür bölge
B) Kızılötesi
C) Gama ışınları
D) Morötesi

3. s orbitaline karşılık gelen açısız momentum kuantum sayısının (ℓ) değeri aşağıdakilerden hangisidir?

A) 3 B) 2 C) 1 D) 0

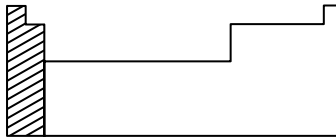
4. 4p orbitaline ait baş kuantum sayısının değeri kaçtır?

A) 5 B) 4 C) 3 D) 2

5. Elektron dizilişi $1s^2 2s^2 2p^3$ olan atom aşağıdakilerden hangisidir?

A) ${}_2\text{He}$ B) ${}_3\text{Li}$ C) ${}_7\text{N}$ D) ${}_{10}\text{Ne}$

6.



Verilen periyodik sistemde taranarak gösterilen blok aşağıdakilerden hangisidir?

A) s B) p C) d D) f

7. Aşağıdaki iyonlardan hangisinin yarıçapı en küçüktür?

A) ${}_{15}\text{P}^{3-}$ B) ${}_{16}\text{S}^{2-}$
C) ${}_{17}\text{Cl}^-$ D) ${}_{19}\text{K}^+$

8. "Magnezyum klorür" bileşiğinin formülü aşağıdakilerden hangisidir?

A) PCl_3 B) KCl
C) MgCl_2 D) CCl_4

9. 36 gram H_2O molekülü kaç mol'dür?

(H:1 g/mol, O:16 g/mol)

A) 0,5 B) 1 C) 2 D) 2,5

10. Mol kütlesi 30 g/mol olan bir bileşiğin basit formülü CH_3 olduğuna göre, molekül formülü aşağıdakilerden hangisidir?

(H:1 g/mol, C:12 g/mol)

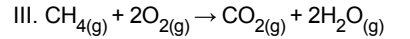
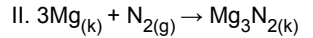
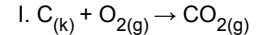
A) CH_4 B) C_2H_6
C) C_3H_8 D) C_4H_{10}

11. $\text{KClO}_{3(k)} \rightarrow \text{KCl}_{(k)} + \text{O}_{2(g)}$

Yukarıdaki kimyasal tepkime denklemini en küçük tam sayılarla denkleştirildiğinde KCl bileşiğinin katsayısı kaç olur?

A) 2 B) 3 C) 4 D) 5

12. Aşağıda bazı kimyasal tepkime denklemleri verilmiştir.



Buna göre verilenlerden hangileri yanma tepkimesidir?

A) Yalnız I. B) Yalnız II.
C) I ve III. D) I, II ve III.

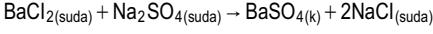
13. $2\text{Mg}_{(k)} + \text{O}_{2(g)} \rightarrow 2\text{MgO}_{(k)}$ tepkimesine göre 24 gram Mg metalinin yeteri kadar O_2 gazı ile tepkimesinden kaç gram MgO katısı oluşur?

(Mg:24 g/mol, O:16 g/mol)

A) 40 B) 30 C) 20 D) 10

3. OTURUM

14.



Yukarıdaki tepkimede oluşan çökelek (çökelti) hangisidir?

- A) BaCl_2 B) NaCl
C) Na_2SO_4 D) BaSO_4

15. Gazlar ile ilgili;

- I. Buldukları kabın hacmini ve şeklini alırlar.
II. Tanecikleri arasındaki boşluklar sıvılara göre fazladır.
III. Sıkıştırılabilirler.

bilgilerinden hangileri doğrudur?

- A) Yalnız III. B) I ve II.
C) II ve III. D) I, II ve III.

16. Aşağıdakilerden hangisi basınç birimi değildir?

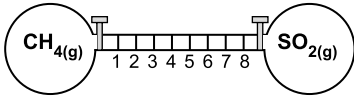
- A) Pa B) mol C) atm D) cmHg

17. 1 atm basınç, 0 °C sıcaklıkta 1 mol gazın kapladığı hacim kaç litre olur?

$$(R = 0,082 \frac{\text{L} \cdot \text{atm}}{\text{mol} \cdot \text{K}})$$

- A) 5,6 B) 11,2 C) 22,4 D) 44,8

18. Şekildeki musluklar aynı anda açılarak aynı koşullardaki CH_4 ve SO_2 gazları, eşit bölmeli cam boruya gönderiliyor.



Buna göre cam boruda gazlar ilk olarak kaç numaralı noktada karşılaşır?

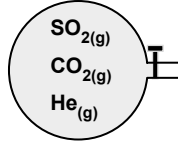
$$(\text{CH}_4:16 \text{ g/mol}, \text{SO}_2:64 \text{ g/mol})$$

- A) 6 B) 5 C) 4 D) 2

19. Soğutma sistemlerinde kullanılan soğutucu akışkanlarla ilgili olarak aşağıdakilerden hangisi yanlıştır?

- A) Çevreye zarar vermemelidir.
B) Yanıcı ve zehirli olmamalıdır.
C) Kaynama sıcaklığı düşük olmalıdır.
D) Metallerle tepkimeye girmemelidir.

20.



0,2 mol SO_2 , 0,1 mol CO_2 ve 0,3 mol He gazlarından oluşan karışımdaki He gazının kısmi basıncı 2 atm olduğuna göre gaz karışımının toplam basıncı kaç atm olur?

- A) 2 B) 3 C) 4 D) 6

(445) SEÇ. BİYOLOJİ – 1

1. ATP (adenozin tri fosfat) molekülü ile ilgili aşağıdaki ifadelerden hangisi yanlıştır?

- A) ATP tüm canlı hücrelerde enerjinin temel kaynağı olup bir hücrede sentezlenip başka bir hücreye taşınabilir.
B) Yeşil bitkiler fotosentezin başlangıç tepkimelerinde güneş ışınlarının enerjisinden yararlanarak sentezlediği ATP molekülünü kullanarak organik besin maddesi sentezler.
C) Besin maddelerindeki kimyasal bağlar, canlı hücrelerde solunum tepkimeleri sırasında, enzimlerin kontrolünde kademeli olarak yıkılır ve açığa çıkan enerji hücreye zarar vermeden kullanılır.
D) Tüm canlıların kullanabildiği enerji olan ATP'nin asıl kaynağı Güneş'tir.

2. Bitkilerin organik moleküllerinde depolanan enerji Güneş'ten gelmektedir. Bitkilerin kloroplastlarında fotosentezle organik madde üretilir. Fotosentez, canlıların besin ve oksijen ihtiyacını karşılar.

Yukarıdaki bilgiye göre aşağıdakilerden hangisi yanlıştır?

- A) Bitkiler güneş enerjisini kloroplastları ile kimyasal enerjiye dönüştürürler.
B) Fotosentez karbon ve oksijen döngüsünde görevlidir.
C) Kimyasal enerji organik moleküllerde depolanmaktadır.
D) Işık olmasa da fotosentez devam eder.

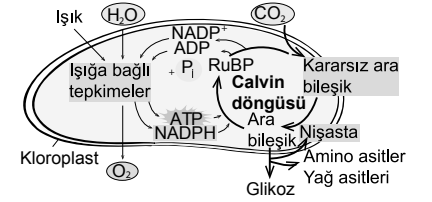
3. Güneş'ten gelen ışık enerjisini soğurarak bu enerjinin organik moleküllerde depolanmasına fotosentez denir. Buna göre,

- I. oğlena,
II. mantar,
III. bitki

canlılarından hangileri fotosentez yapabilir?

- A) Yalnız III. B) I ve III.
C) II ve III. D) I, II ve III.

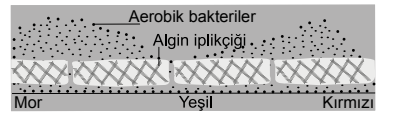
4. Aşağıda fotosentezde üretilen ve kullanılan maddeler gösterilmiştir.



Buna göre aşağıdakilerden hangisi söylenemez?

- A) Işığa bağımlı reaksiyonlar sonucunda ATP ve NADPH oluşmaktadır.
B) Fotosentez ışığa bağımlı reaksiyonlar ve Calvin döngüsü olarak iki aşamada gerçekleşir.
C) Işığa bağımlı tepkimelerde üretilen bazı maddeler Calvin döngüsünde kullanılır.
D) Glikozdaki oksijenin kaynağı sudur.

5. Engelmann'ın ışık dalga boyunun (renğinin) fotosenteze etkisini araştırdığı deneyinde iplikçi algı prizmanın altına yerleştirerek oksijenli solunum yapan bakterilerin en çok mor ve kırmızı ışık düşen kısımda toplandığını görmüştür.



Deneyi göre aşağıdakilerden hangisi doğrudur?

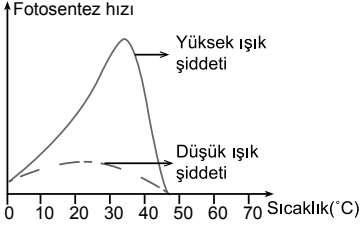
- A) Fotosentez en fazla kırmızı ve mor ışıkta olmaktadır.
B) Tüm ışıklarda fotosentez hızı aynıdır.
C) Işığın dalga boyu arttıkça fotosentez hızı artar.
D) Işığın dalga boyu fotosentez miktarını etkilemez.

3. OTURUM

6. Aşağıdakilerden hangisi fotosenteze etki eden kalıtsal faktörlerden birisidir?

- A) Karbondioksit miktarı
- B) Sıcaklık
- C) Klorofil miktarı
- D) Işık

7. Aşağıda fotosentez hızının sıcaklık ve ışık şiddetine bağlı değişimi grafiklenmiştir.



Grafiğe göre aşağıdaki ifadelerden hangisi yanlıştır?

- A) Sıcaklığın arttığı tüm koşullarda ışık şiddeti fotosentez hızını etkilemez.
- B) Yüksek ışık şiddetinde sıcaklık artışı fotosentez hızını belli bir değere kadar artırır.
- C) Düşük ışık şiddetinde sıcaklık artsa bile fotosentez hızında belirgin artış olmaz.
- D) Sıcaklık artışı fotosentez hızını belli bir değere kadar artırır.

8. Seracılıkta verimi artırmak için bazı yöntemler kullanılmaktadır.

Buna göre,

- I. karbondioksit gübrelemesi,
- II. yapay ışıklandırma,
- III. ozonlama

olaylarından hangileri bu yöntemlerdendir?

- A) Yalnız I.
- B) I ve II.
- C) II ve III.
- D) I, II ve III.

9. Tarımsal ürünlerin verimi ve kalitesi,

- I. iklimsel koşullar,
- II. toprak yapısı,
- III. bitki bakımı

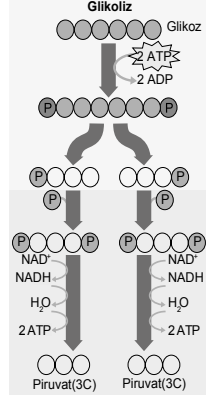
verilenlerden hangilerine bağlı olarak değişebilir?

- A) Yalnız II.
- B) I ve II.
- C) I ve III.
- D) I, II ve III.

10. Aşağıdakilerden hangisi kemosen-tez yapan canlılar için yanlıştır?

- A) Güneş enerjisi yerine inorganik maddelerin oksidasyonu ile elde edilen enerjiyi kullanırlar.
- B) Klorofil pigmenti içerirler.
- C) Hem gündüz hem gece kemosen-tez yapabilirler.
- D) Karbon kaynakları karbondiok-sittir.

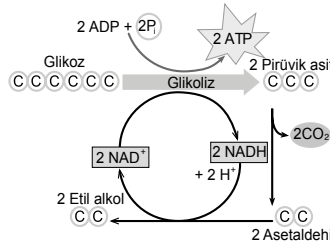
11. Aşağıda glikoliz olayı şematize edilmiştir.



Buna göre aşağıdaki ifadelerden hangisi yanlıştır?

- A) 2 NAD⁺ molekülü indirgenerek 2 NADH molekülü oluşmuştur.
- B) Net 2 ATP molekülü kazanç sağlanmıştır.
- C) 1 glikoz molekülünden 2 piruvat molekülü oluşmuştur.
- D) Olay sonunda hücredeki su miktarı azalmıştır.

12. Aşağıda etil alkol fermantasyonu şematize edilmiştir.



Buna göre,

- I. 6 karbonlu glikoz molekülü 2 karbonlu etil alkole kadar parçalanmıştır.
- II. Pirüvik asitin etil alkole dönüşürülmesi sırasında ATP sentezlenir.
- III. Glikoliz sırasında üretilen NADH molekülü, asetaldehit etil alkole dönüşürken kullanılır.

ifadelerinden hangileri doğrudur?

- A) Yalnız I.
- B) Yalnız II.
- C) I ve III.
- D) I, II ve III.

13. Laktik asit fermantasyonu ile ilgili aşağıdaki yargılardan hangisi doğrudur?

- A) Oksijenli solunuma göre daha fazla ATP üretilir.
- B) Çizgili kaslarda oksijen yetersizliğinde gerçekleşir.
- C) Uzun süreli kas aktivitesi sonucunda kasta biriken laktik asit kasların çalışmasını hızlandırır.
- D) Laktik asit fermantasyonu ile reçel üretimi yapılır.

14. Aşağıda yoğurt yapımı ile ilgili bir metin verilmiştir.

"Yoğurt bakterileri oksijensiz ortamda sütteki laktozu enerji kaynağı olarak kullanır. Fermantasyon metabolizmaları sonucu laktik asit oluşturur. Açığa çıkan asit, süütün pH'sini düşürerek sütteki proteinlerin denatüre olmasına yani pıhtılaşmasına neden olur. Bu pıhtı tüm süte yayılır ve katılaşmasına neden olarak yoğurt oluşmasını sağlar. Yoğurt bakterilerinin etkinliklerinin en iyi olduğu sıcaklık aralığı 45-50°C'tur. Bu nedenle sütü mayalarken bu sıcaklığa dikkat edilmelidir. Aksi takdirde yoğurt oluşmaz."

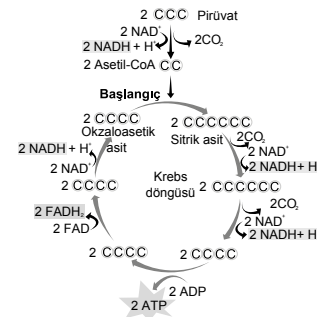
Buna göre;

- I. Yoğurt sütteki proteinlerin denatüre olması ile oluşan protein içerikli bir besindir.
- II. Süttten yoğurt yapımı tüm sıcaklık değerlerinde gerçekleşebilir.
- III. Yoğurt yapımı sırasında kabın ağız hava almayacak şekilde kapatılmalıdır.

yargılarından hangileri çıkarılabilir?

- A) Yalnız I.
- B) Yalnız II.
- C) I ve III.
- D) I, II ve III.

15. Aşağıda ökaryot bir hücrenin mitokondrisinde gerçekleşen Krebs döngüsü şematize edilmiştir.



Şekle göre aşağıdakilerden hangisi yanlıştır?

- A) Reaksiyonlar sırasında oksijen kullanılır.
- B) Bazı aşamalarında ATP üretimi olur.
- C) Reaksiyonlar sırasında karbondioksit gazı açığa çıkar.
- D) 2 karbonlu asetil CoA ile 4 karbonlu okzaloesetik asitin birleşmesiyle başlar.

3. OTURUM

16. Hücre solunumu ile ilgili aşağıdaki yargılardan hangisi doğrudur?

- A) Oksijenli solunumda organik besinlerin yıkımı ile açığa çıkan enerji fermentasyon sırasında açığa çıkan enerjiden daha azdır.
- B) Oksijenli solunumda sadece glikoliz evresinde ATP sentezlenir.
- C) Oksijenli solunumda sadece substrat düzeyinde fosforilasyon ile ATP sentezlenir.
- D) Oksijenli solunumun her basamağında ayrı enzim görev alır.

17. Aşağıdaki organik bileşiklerden hangisi birim ağırlık başına en fazla enerji verir?

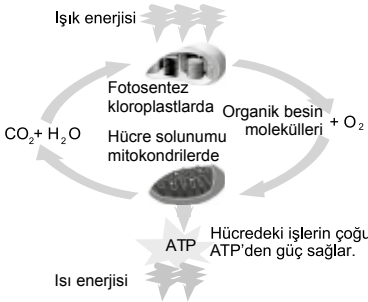
(Bileşiklerin oksijenli solunum yaptığı varsayılacaktır.)

- A) Proteinler
- B) Yağlar
- C) Karbonhidratlar
- D) Vitaminler

18. Bitkilerde gerçekleştirilen fotosentez hızı (I) ve solunum hızı (II) ile ilgili aşağıdaki ifadelerden hangisi doğrudur?

- A) I = II ise bitki yaşayamaz.
- B) I > II ise bitki dış ortamdan oksijen gazı alır, dış ortama karbondioksit gazı verir.
- C) II > I ise bitki dış ortamdan oksijen gazı alır, dış ortama karbondioksit gazı verir.
- D) Tüm ışıklı zamanlarda I > II dir.

19. Aşağıda fotosentez ve solunum ilişkisi şematize edilmiştir.



Şemaya göre aşağıdakilerden hangisi yanlıştır?

- A) Hücre ışık olmadan solunum yapamaz.
- B) Mitokondri oksijen ve organik besinleri kullanarak ATP sentezler.
- C) Kloroplast ışık enerjisini kullanarak oksijen ve organik besin üretir.
- D) Mitokondri hücredeki metabolik faaliyetler için ATP üretir.

20. Aşağıda yapay yaprakla elektrik üretimi konusunda Bilim ve Teknik Dergisi'nde yayımlanan bir metin bulunmaktadır. "Amerikan Kimya Topluluğu'nun 241. Ulusal Toplantısında konuşan bilim insanları yeşil bitkilerin Güneş ışığını ve suyu enerjiye çevirmek için kullandığı fotosentezi taklit eden, oyun kartı büyüklüğünde, bir Güneş pili geliştirdiklerini açıkladı. Bilim insanları yapay yaprağın, gelişmekte olan ülkelerdeki yoksul evler için ucuz elektrik kaynağı olacağını söylüyor. Oyun kartı şeklinde ama daha ince olan cihaz, kimyasal tepkimeleri hızlandıracak bileşenler kullanılarak tasarlanmıştır. Cihazın parlak güneş ışığı altında bir galon suya yerleştirildiğinde, gelişmekte olan ülkedeki bir evin günlük elektriğini karşılayacak kadar elektrik ürettiğini de sözlere ekliyor. Su iki bileşenine ayrıldığında, hidrojen ve oksijen gazı evin en üstüne ya da yanına yerleştirilen bir yakıt pilinde depolanıyor ve elektrik üretmek için kullanılıyor."

Bu metine göre;

- I. Fotosentezde gerçekleşen tepkimeler yapay ortamlarda gerçekleştirilemez.
- II. Verilen metin doğanın taklit edilmesine (biyomimetrik) örnek olarak verilebilir.
- III. Bilim ve teknolojinin gelişimi elektrik üretiminde kömür, petrol, doğalgaz gibi yenilenemez enerji kaynaklarına bağımlılığını azaltacaktır.

yargılarından hangileri çıkarılabilir?

- A) I ve II.
- B) I ve III.
- C) II ve III.
- D) I, II ve III.

(448) SEÇ. BİYOLOJİ – 4

1. Belirli bir alanda yaşayan, farklı türden popülasyonların oluşturduğu topluluğa verilen isim aşağıdakilerden hangisidir?

- A) Süksesyon
- B) Rekabet
- C) Komünite
- D) Ekoton

2. Komünitelerin içerdiği tür sayıları farklılık gösterebilir, buna tür çeşitliliği denir.

Aşağıdakilerden hangisi tür çeşitliliğini etkileyen faktörlerden değildir?

- A) Sıcaklık
- B) Rekabet
- C) Avcı türlerin sayısı
- D) Türlerin kromozom sayıları

3. Ekolojik nişi benzer olan türler arasında rekabet fazlayken ekolojik nişleri farklı olan canlılar arasında rekabet azdır. Benzer ekolojik nişe sahip canlıların aynı ortamda bulunması durumunda,

- I. Rekabet gücü az olan canlılar alanda yok olabilir.
- II. Rekabet gücü az olan canlılar başka bir kaynağı kullanmaya başlayabilir.
- III. Rekabeti kazanan canlılar mutlaka başka ortamlara göç ederler.

verilenlerden hangileri gerçekleşebilir?

- A) Yalnız I.
- B) I ve II.
- C) II ve III.
- D) I, II ve III.

4. Komüniteler keskin bir şekilde birbirinden ayrılmazlar ve birbirleriyle kesişim bölgeleri oluştururlar. Bu kesişim bölgelerine ekoton denir.

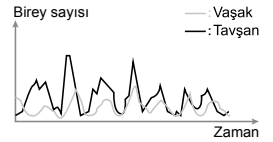
Ekoton bölgelerinde,

- I. Tür çeşitliliğinin fazla olması beklenir.
- II. Tür içi ve türler arası rekabet görülmez.
- III. Üretici canlılar bulunmaz.

ifadelerinden hangileri doğrudur?

- A) Yalnız I.
- B) I ve II.
- C) II ve III.
- D) I ve III.

5. Aşağıda bir komünite içerisinde yer alan iki canlının (tavşan – vaşak) birey sayısı değişimi grafiklenmiştir.



Buna göre verilen iki canlı arasındaki ilişki aşağıdakilerden hangisidir?

- A) Mutualizm
- B) Kommensalizm
- C) Av – Avcı
- D) Nötralizm

6. Birlikte yaşayan türlerin birbirine fayda sağladığı yaşam şekline mutualizm denir.

Aşağıdakilerden hangisi mutualizme örnek olabilir?

- A) İnsan bağırsağında yaşayan yassı solucanların bağırsaktaki besinlerle beslenmesi
- B) Çiçekten nektar emerek beslenen böceklerin, bitkilerin tozlaşmasını ve üremesini yardımcı olması
- C) Kenenin insanın kanını emerek beslenmesi
- D) Canavar otunun üzerinde yaşadığı bitkinin iletim demetlerinden besin alarak bitkiye zarar vermesi

3. OTURUM

7. Aşağıda bilimsel bir kaynaktan alınmış bir metin yer almaktadır. "Bazı deniz dokuzgözlülerinin, ağızları yuvardaktır ve diğer canlılara kolayca tutunmak üzere özelleşmiş dişleri vardır. Larva zamanı planktonlarla beslenirler. Ergin hâldeyken ise balıklara yapışıp onların kanlarını emerler."

Buna göre deniz dokuzgözlüleri ergin dönemde hangi beslenme tarzına sahiptir?

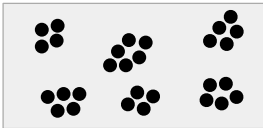
- A) Parazitlik
B) Mutualizm
C) Kommensalizm
D) Av – avcı

8. Akdeniz bölgesinde görülen orman yangını sonrası ormanlık alandaki ağaçlar büyük zarar görmüşlerdir. Bir süre sonra zarar gören alanda otsu bitkilerin yetişmeye başladığı görülmüş ve alanda canlılık belirtileri yeniden fark edilmiştir.

Buna göre bu alandaki değişim aşağıdakilerin hangisi ile adlandırılır?

- A) Mutualizm B) Ekoloji
C) Süksesyon D) Komünite

9. Aşağıda bir popülasyon dağılımı şematize edilmiştir.

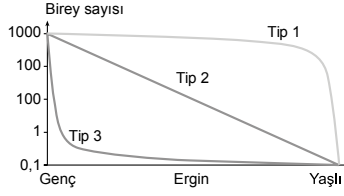


Bu dağılımda popülasyon içindeki bireyler grup, sürü oluşturarak bir arada bulunurlar. Topraktaki minerallerin yoğun olarak bulunduğu, bitkinin yaşaması için çevresel faktörlerin uygun olduğu bölgelerde görülen bu dağılım, kurt, aslan gibi bazı hayvanlarda üremek, avlanmak veya avcılarından korunmak amacıyla zaman zaman ortaya çıkabilir.

Buna göre şematize edilen ve bazı özellikleri verilen popülasyon dağılım şekli aşağıdakilerden hangisidir?

- A) Kümeli B) Düzenli
C) Rastgele D) Sıralı

10. Aşağıda popülasyonlarda görülen farklı hayatta kalma eğrileri verilmiştir.



Buna göre,

- I. Tip 1 hayatta kalma eğrisine sahip popülasyonlardaki bireylerin, genç ve ergin dönemlerde hayatta kalma oranı yüksektir.
II. Tip 2 hayatta kalma eğrisine sahip popülasyonlardaki bireylerin hayatta kalma oranı, her yaş için yaklaşık olarak aynıdır.
III. Tip 3 hayatta kalma eğrisine sahip popülasyonlarda bireylerin gençlik döneminde, hayatta kalma oranı oldukça düşüktür.

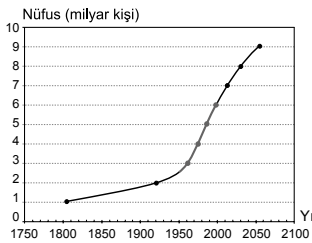
yargılarından hangileri doğrudur?

- A) Yalnız III. B) I ve II.
C) II ve III. D) I, II ve III.

11. Küçülmekte olan bir popülasyon için aşağıdakilerden hangisi söylenebilir?

- A) Dışarıdan göç alıyor olabilir.
B) Yoğunluğu artmaktadır.
C) Ölüm oranı doğum oranından yüksek olabilir.
D) Doğum oranı ve içe göç miktarı, ölüm oranı dışa göç miktarından fazladır.

12. Aşağıda yıllara göre dünyada insan nüfusunun artış grafiği verilmiştir.



Bu grafiğe göre,

- I. 1950'li yıllarda başlayan insan popülasyonundaki üstel büyüme bu şekilde devam edecek olursa yapılan tahminlere göre 2050 yılında dünya nüfusu 8 milyarı geçecektir.
II. 1800'lü yıllarda bir milyar olan insan nüfusu 1940'lı yıllarda iki milyarı bulmuştur.
III. Dünya nüfusunun artışı kişi başına düşen yaşam alanını artırmaktadır.

yargılarından hangileri doğrudur?

- A) Yalnız II. B) I ve II.
C) II ve III. D) I, II ve III.

13. Hardy – Weinberg prensibinde baskın alelin frekansı "p", çekinik alelin frekansı ise "q" simgesi ile gösterilmektedir. Bir karaktere etki eden alellerin frekanslarının toplamı %100'dür. Bu durum $p + q = 1$ şeklinde ifade edilir. Bir toplumdaki diploit genotipli tüm bireylerin frekansları $p^2 + 2pq + q^2 = 1$ eşitliğine sahiptir.

Buna göre çekinik alelin frekansının 0,4 olduğu bir popülasyonda homozigot baskın genotipli (AA) bireylerin bulunma sıklığı aşağıdakilerden hangisidir?

- A) 0,16 B) 0,24 C) 0,36 D) 0,48

14. Aşağıda bilimsel bir dergide yayımlanan Kaş orkidesi ile ilgili metin alıntılanmıştır. "Dünyada sadece Antalya'nın Kaş ilçesinde Ağullu köyü sınırları içindeki 10 dekarlık alanda yetişen "Kaş orkidesi", yok olma tehlikesine karşı koruma altına alınmıştır. Likya orkidesinin yok olma tehlikesinin nedeni, köklerinin salep ve dondurma üretimi amacıyla toplanmasıdır. Bölgede bilinçlendirme çalışmaları yapılarak türün neslinin devamı sağlanmaya çalışılmaktadır."

Buna göre Kaş orkidesi için yapılacak ekolojik tanımlama aşağıdakilerden hangisidir?

- A) Baskın tür
B) Endemik tür
C) İstilacı tür
D) Nesli tükenmiş tür

15. Dünyada ve ülkemizde bir çok canlının nesli tükenmiş ya da tehdit altına girmiştir.

Aşağıdakilerden hangisi canlıların nesillerinin tükenmesine ya da tehlike altına girmesinin sebeplerinden değildir?

- A) Aşırı avlama
B) Küresel iklim değişikliği
C) Habitat tahribatı
D) Koruma programları

16. Yapay seçim ile ilgili,

- I. İstenilen özelliklere sahip canlıların seçilip çoğaltılmasına dayalıdır.
II. Tarım ve hayvancılıkta ıslah çalışmalarının temelini oluşturur.
III. Yalnızca bitkisel ürünlere uygulanır.

ifadelerinden hangileri doğrudur?

- A) Yalnız II. B) I ve II.
C) I ve III. D) I, II ve III.

3. OTURUM

17. İnsanda hemoglobinin polipeptidinin toplam zincir uzunluğu 146 amino asitten meydana gelmektedir. Aşağıda çeşitli canlılardaki hemoglobinin molekülünün insan hemoglobininin farklılık gösteren amino asit sayıları verilmiştir.

Canlı	Farklı amino asit sayısı
Goril	1
Köpek	15
Fare	27
Tavuk	45

Buna göre aşağıdaki canlıların hangisinin hemoglobinin sentezinde sorumlu geni ile insandaki ilgili genin benzerliği en azdır?

- A) Tavuk B) Köpek
C) Fare D) Goril
18. **Canlıların akrabalık tespitinde aşağıdakilerin hangisinden yararlanılmaz?**
- A) Embriyolojik benzerlikler
B) Genetik benzerlikler
C) Fizyolojik benzerlikler
D) Kromozom sayı benzerlikleri
19. Hayvanların sudan karaya geçiş sürecinde, yeni anatomik ve fizyolojik mekanizmaların geliştirilmesi gerekli olmuştur.
- Buna göre,**
- I. Karada suyun kaldırma kuvveti olmadığından vücut ağırlığının taşınması için iskelet sistemleri gelişmiştir.
- II. Canlıların, besin arama ve avcılardan korunma gerekliliği, hareket yeteneğini geliştirebileceği ve üyelerini etkin bir şekilde kullanabileceği değişimler geçirmesine sebep olmuştur.
- III. Solunum organları vücut içine doğru çekilerek kuruması önlenmiş ve vücut içerisine doğru genişleme göstermiştir.
- yargılarından hangileri verilen duruma uygunluk göstermektedir?**
- A) Yalnız I. B) Yalnız III.
C) I ve II. D) I, II ve III.
20. **Aşağıdakilerden hangisi kalıtsal varyasyonlara (çeşitlilik) sebep olmaz?**
- A) Modifikasyon
B) Mayoz bölünme
C) Mutasyon
D) Dölllenme

(452) SEÇ. ÇAĞ.TÜRK DÜN.TAR. – 2

1. **İslam dünyasının hak ve çıkarlarını korumayı, üye devletler arasında işbirliği ve dayanışmayı güçlendirmeyi amaçlayan İslam Konferansı Örgütü'nün, 2011 Haziran ayında Astana'da düzenlenen 38. Dışişleri Bakanları Konseyi'nde aldığı yeni isim aşağıdakilerden hangisidir?**
- A) Güneydoğu Asya Milletleri Birliği
B) İslam İşbirliği Teşkilatı
C) Şanghay İşbirliği Örgütü
D) Bağımsız Devletler Topluluğu
2. **Aşağıdakilerden hangisi 1960-1980 döneminde yaşanan olaylardan biri değildir?**
- A) SSCB'nin Afganistan'ı işgali
B) Vietnam Savaşı
C) Çekoslovakya'nın SSCB tarafından işgali
D) Kore Savaşı
3. **1964'te Tonkin Körfezi'ndeki donanmasına yapılan saldırıyı gerekçe göstererek Şubat 1965'te Kuzey Vietnam'a savaş açan devlet, aşağıdakilerden hangisidir?**
- A) Kuzey Kore B) Japonya
C) ABD D) Çin
4. **1967 Arap-İsrail Savaşı'ndan sonra petrolün İsrail'e karşı siyasi bir silah olarak kullanılmasını sağlamak için kurulan "Petrol İhraç Eden Arap Ülkeleri Teşkilatı" aşağıdakilerden hangisidir?**
- A) UNESCO B) OAPEC
C) OPEC D) OECD
5. **26 Mart 1979'da İsrail'le Camp David Antlaşması'nı imzalaması sonucu Orta Doğu'daki etkinliğini kaybeden devlet, aşağıdakilerden hangisidir?**
- A) Mısır B) Suriye
C) Ürdün D) Irak
6. **Bosna Savaşı'nı sona erdiren antlaşma aşağıdakilerden hangisidir?**
- A) Paris Antlaşması
B) Roma Antlaşması
C) Dayton Antlaşması
D) Londra Antlaşması

7. **Aşağıdakilerin hangisi Soğuk Savaş Dönemi'nde Türk dış politikasının belirlenmesinde etkili olan gelişmelerden biri değildir?**
- A) Kıbrıs ve Ege adaları meselesi
B) Orta Doğu'daki Arap-İsrail savaşları
C) Ermeni terörü
D) Musul-Kerkük sorunu
8. **27 Aralık 1979'da Afganistan'ı işgal eden devlet aşağıdakilerden hangisidir?**
- A) SSCB B) Çin
C) İngiltere D) Hindistan
9. **Yumuşama Dönemi'nde Küba ve Vietnam gibi uzak bölgelerdeki grupların iktidar mücadelelerini kendi çıkarları doğrultusunda destekleyerek rekabetlerini sürdürmüş olan devletler, aşağıdakilerden hangileridir?**
- A) Çin-Hindistan
B) ABD-SSCB
C) Almanya-Japonya
D) İngiltere-Fransa
10. **Halkının büyük çoğunluğu Müslüman olan ve Pakistan'la Hindistan arasında çatışmalara neden olan bölge aşağıdakilerden hangisidir?**
- A) Keşmir B) Batı Şeria
C) Şattül-arap D) Karabağ
11. **1948 Arap-İsrail Savaşı'nın çıkış nedeni aşağıdakilerden hangisidir?**
- A) Mısır'ın Süveyş Kanalı'nı millileştirmesi
B) Mısır ve Suriye'nin kaybettiği toprakları İsrail'den geri almak istemeleri
C) Filistin topraklarında İsrail Devleti'nin kurulması
D) Mısır'ın Akabe Körfezi'ni İsrail'e kapatması
12. **Tito ve Nasır'ın öncülüğünde 25 ülkenin katılımıyla 1961'de yapılan Bağlantısızlık Hareketi'nin ilk teşkilatlı konferansı, aşağıdakilerden hangisidir?**
- A) Londra Konferansı
B) Yalta Konferansı
C) San Fransisco Konferansı
D) Belgrat Konferansı

3. OTURUM

13. Güneydoğu Anadolu Bölgesi'nde yürütülmekte olan çok sektörlü kalkınma projesi aşağıdakilerden hangisidir?

- A) GAP B) KOP
C) Mavi Akım D) FATİH

14. Sovyetler Birliği'nin dağılmasından sonra 21 Aralık 1991'de "Almatı Zirvesi" sonucu kurulan siyasi ve ekonomik birlik aşağıdakilerden hangisidir?

- A) COMECON
B) Bağımsız Devletler Topluluğu
C) COMINFORM
D) Varşova Paketi

15. 46 kez Dünya rekoru kırarak halterde Türkiye'ye çok sayıda altın madalya kazandıran ve tüm zamanların en iyi haltercisi kabul edilen sporcumuz, aşağıdakilerden hangisidir?

- A) Halil Mutlu
B) Hafız Süleymanoğlu
C) Naim Süleymanoğlu
D) Sinan Şamil Sam

16. Gorbaçov'un iktidara gelmesiyle SSCB'de başlayan değişimle beraber Azerbaycan'ın bağımsızlığına kavuşması için Ebulfez Elçibey'in önderliğinde kurularak mücadele eden örgüt, aşağıdakilerden hangisidir?

- A) Azerbaycan Kurtuluş Cephesi
B) Halk Cephesi
C) Bağımsızlık Cephesi
D) Azerbaycan Milli Cephesi

17. Aşağıdakilerden hangisi küresel sorunlardan biri değildir?

- A) Çevre kirliliği
B) Uluslararası terör
C) Küresel ısınma
D) Kıbrıs sorunu

18. Aşağıdakilerden hangisi insandan insana öksürme, hapşırma ve virüsün bulunduğu alanlara temas edilmesiyle bulaşan salgın bir hastalıktır?

- A) Hepatit
B) Sıtma
C) Domuz Gribi
D) AIDS

19. Başta Türkçe konuşulan ülkeler olmak üzere gelişme yolundaki ülkelerin kalkınmalarına yardımcı olmak, bu ülkelerle iş birliğini geliştirmek amacıyla kurulan teşkilat aşağıdakilerden hangisidir?

- A) Türk İşbirliği ve Koordinasyon Ajansı
B) Ulusal Ajans
C) Uluslararası Atom Enerjisi Ajansı
D) Milletlerarası Enerji Ajansı

20. Dağlık Karabağ sorunu aşağıdaki hangi devletler arasında yaşanmaktadır?

- A) Yunanistan-Türkiye
B) Gürcistan-Ermenistan
C) İran-Irak
D) Azerbaycan-Ermenistan

(462) SEÇ. EKONOMİ – 2

1. Üretim faktörlerinden toprağın geliri aşağıdakilerden hangisidir?

- A) Ücret B) Faiz
C) Kâr D) Rant

2. Gelirin özelliklerine göre aşağıdakilerden hangisi gelir çeşitlerinden biridir?

- A) Bağış B) Miras
C) Ücret D) Sadaka

3. Et fiyatlarının aşırı ölçüde artmasıyla insanların tavuk ve balığa olan taleplerinin yükselmesi, hangi ekonomi yasasına örnek olur?

- A) Arz yasasına
B) İkame yasasına
C) Talep yasasına
D) Enflasyon yasasına

4. Aşağıdakilerden hangisi ekonomik büyümenin göstergelerinden biridir?

- A) Ulusal gelirin artması
B) Ulusal gelirin düşmesi
C) İhracat ve ithalatın düşmesi
D) Kamu harcamalarının artması

5. Reel ücretin tanımı aşağıdakilerden hangisidir?

- A) Alınan ücretin satın alma gücü
B) Parça başına hesaplanan ücret
C) Zaman birimine göre hesaplanan ücret
D) İşçinin çalışmasına karşılık aldığı para miktarı

6. Malların doğrudan doğruya bir ihtiyacı karşılamak için kullanılmasına ne ad verilir?

- A) Dolaysız tüketim
B) Dolaylı tüketim
C) Dağıtım
D) Üretim

7. Doğa ve emeğin birleşmesiyle üretilmiş olan, mal veya hizmet üretiminde kullanılan her türlü maddi araçlara sermaye denir.

Bu tanıma göre, aşağıdakilerden hangisi sermayenin özelliklerinden değildir?

- A) Yeni bir üretimde kullanılırlar.
B) Önceden üretilmiş olan maddi araçlardır.
C) Doğada sınırsız miktarda bulunurlar.
D) Doğa ve emeğin birleşmesiyle meydana gelmişlerdir.

8. Hazırlık evresi ya da eğitim gerektiren işlerde çalışanların emeğine ne ad verilir?

- A) Vasıflı emek
B) Objektif emek
C) Vasıfsız emek
D) Subjektif emek

9. Üretim faaliyetine katılan aşağıdaki elemanlardan hangisi üretim sonucunda değişikliğe uğrar?

- A) Ulaşım araçları
B) Ham maddeler
C) Araziler
D) Makineler

10. Tasarruf aşağıdakilerden hangisinin oluşumunu sağlar?

- A) Giderin B) Üretimin
C) Gelirin D) Sermayenin

11. Banka mevduat hesabındaki paranın geri alınması ile sağlanan para ekonomide gelir kabul edilmez.

Bu durum, gelirin hangi özelliğine örnek oluşturur?

- A) Gelirin para ile ifade edilmesine
B) Gelirin sürekli ve düzenli olmasına
C) Gelirin kişilerin ekonomik güçlerini arttırmasına
D) Gelirin üretime katılmanın karşılığı olmasına

3. OTURUM

12. Malların insanlar arasında el değiştirmesine - - - - denir.

Boş bırakılan yere aşağıdakilerden hangisi yazılmalıdır?

- A) Üretim B) Mübadele
C) Tüketim D) İnkısam

13. Türkiye’de millî gelir hesaplamaları hangi yılda başlamıştır?

- A) 1923 B) 1924
C) 1926 D) 1927

14. Aşağıdakilerden hangisi rekabetin özelliklerinden değildir?

- A) Piyasada tekel oluşturması
B) İşletmeleri daha aktif hâle getirmesi
C) Yeni üretim yöntemlerini kullan-dırması
D) Genel olarak fiyatların düşmesini sağlaması

15. “Türkiye’nin asıl sahibi ve efendisi, gerçek üretici olan köylüdür. O hâlde herkesten daha çok refah, mutluluk ve servete hak kazanan ve layık olan da köylüdür...”

Atatürk, bu sözü ile aşağıdaki sektörlerden hangisinin önemini vurgulamıştır?

- A) Hizmet B) Tarım
C) Sanayi D) Ulaşım

16. • Ekonomik bir ünedir.
• Karar alma merkezidir.
• Üretim faktörlerini sağlayan ve kul-lanan bir ünedir.
• Mal ve hizmet üreten ve satan bir ünedir.

Bu özellikler aşağıdakilerden hangisine aittir?

- A) Üretime B) Girişime
C) Kişilere D) Sermayeye

17. Aşağıdakilerden hangisi çevre kir-liliğinin nedenlerindedir?

- A) Yeşil alanların artması
B) Altyapı işlerinin yapılması
C) Nüfusun aşırı artması
D) Çevre eğitiminin yaygınlaştırılması

18. Fiyatlar genel seviyesinin yüksel-mesine ne ad verilir?

- A) Talep B) Deflasyon
C) Enflasyon D) Arz

19. Millî gelirin üretim faktörlerinin üre-timden aldıkları paylara göre dağılı-mına - - - - dağılımı denir.

Boş bırakılan yere aşağıdakilerden hangisi yazılmalıdır?

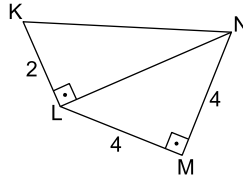
- A) kişisel B) sektörel
C) mesleksel D) fonksiyonel

20. Maden rantının ortaya çıkış nedeni aşağıdakilerden hangisidir?

- A) Maden üretiminde farklı teknoloji-ler kullanılması
B) Tarım yapılan toprakların verimlili-ğinin farklı olması
C) Bir madenin değişik alanlarda farklı maliyetlerde üretilmesi
D) Şehrin değişik yerlerindeki konut ve iş yeri kiralarının farklı olması

(468) SEÇ. MATEMATİK – 4

1.

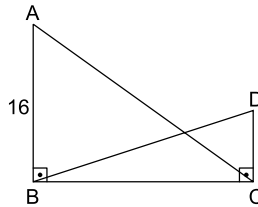


Şekildeki KLN ve LMN üçgenlerinde $m(\widehat{KLN}) = m(\widehat{LMN}) = 90^\circ$ ve $|ML| = |NM| = 4$ cm, $|LK| = 2$ cm’dir.

Buna göre |KN| kaç santimetredir?

- A) 3 B) 4 C) 5 D) 6

2.

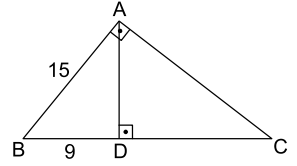


Şekildeki ABC ve BCD üçgenlerinde $m(\widehat{ABC}) = m(\widehat{BCD}) = 90^\circ$ ve $|AB| = 16$ cm, $|BD| = 13$ cm, $|DC| = 5$ cm’dir.

Buna göre |AC| kaç santimetredir?

- A) 10 B) 15 C) 20 D) 25

3.

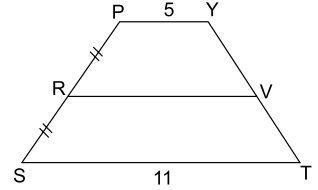


Şekildeki ABC üçgeninde D nok-tası [BC] üzerinde, $[AB] \perp [AC]$, $[AD] \perp [BC]$ ve $|AB| = 15$ cm, $|BD| = 9$ cm’dir.

Buna göre |DC| kaç santimetredir?

- A) 14 B) 15 C) 16 D) 17

4.

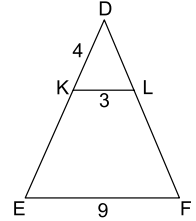


Şekilde $[PY] \parallel [RV] \parallel [ST]$, $|PR| = |RS|$ ve $|PY| = 5$ cm, $|ST| = 11$ cm’dir.

Buna göre |RV| kaç santimetredir?

- A) 7 B) 8 C) 9 D) 10

5.

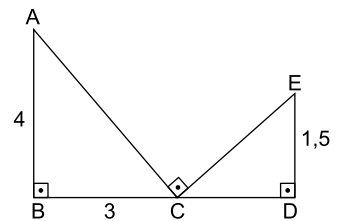


Şekildeki DEF üçgeninde $[KL] \parallel [EF]$ ve $|DK| = 4$ cm, $|KL| = 3$ cm, $|EF| = 9$ cm’dir.

Buna göre |KE| kaç santimetredir?

- A) 8 B) 9 C) 10 D) 12

6.



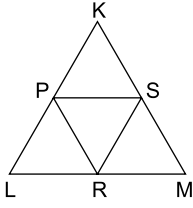
Şekildeki ABC ve CDE üçgenlerinde $m(\widehat{ABD}) = m(\widehat{BDE}) = m(\widehat{ACE}) = 90^\circ$ ve $|AB| = 4$ cm, $|BC| = 3$ cm, $|DE| = 1,5$ cm’dir.

Buna göre |CD| kaç santimetredir?

- A) 1,8 B) 2 C) 2,5 D) 3

3. OTURUM

7.

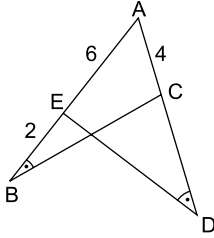


Şekildeki KLM üçgeninde P, R, S noktaları sırasıyla [KL], [LM], [KM] kenarlarının orta noktalarıdır.

KLM üçgeninin çevresi 36 cm olduğuna göre PRS üçgeninin çevresi kaç santimetredir?

- A) 18 B) 20 C) 22 D) 24

8.



Şekildeki ABC ve ADE üçgenlerinde $m(\widehat{ABC}) = m(\widehat{ADE})$ ve $|AE| = 6$ cm, $|EB| = 2$ cm, $|AC| = 4$ cm'dir.

Buna göre |CD| kaç santimetredir?

- A) 11 B) 10 C) 9 D) 8

9. Çevresi 32 cm olan bir üçgenin

kenarlarının uzunlukları $\frac{5}{4}$ katına çıkarıldığında oluşan üçgenin çevresi kaç santimetre olur?

- A) 55 B) 50 C) 45 D) 40

10. ABC üçgeninin kenar uzunlukları, KLM üçgeninin kenar uzunluklarının 3 katına eşittir.

Buna göre KLM üçgeninin alanının ABC üçgeninin alanına oranı kaçtır?

- A) $\frac{1}{9}$ B) $\frac{1}{3}$ C) 3 D) 6

11. 1976 dakikalık açının derece ve dakika türünden eşiti aşağıdakilerden hangisidir?

- A) $31^\circ 57'$ B) $32^\circ 56'$
C) $33^\circ 46'$ D) $34^\circ 54'$

12. 150° lik açının ölçüsü kaç radyandır?

- A) $\frac{2\pi}{5}$ B) $\frac{3\pi}{5}$ C) $\frac{2\pi}{3}$ D) $\frac{5\pi}{6}$

13. Ölçüsü 9760° olan açının esas ölçüsü kaç derecedir?

- A) 160 B) 60 C) 40 D) 10

14. $\sin 90^\circ \cdot \cos 180^\circ$ işleminin sonucu kaçtır?

- A) -1 B) $-\frac{1}{2}$ C) $\frac{1}{2}$ D) 1

15. $\sin 325^\circ$, $\cos 215^\circ$ ve $\tan 190^\circ$ değerlerinin işaretleri sırasıyla aşağıdakilerden hangisidir?

- A) +, -, - B) +, -, +
C) -, +, + D) -, -, +

16. $\sin(\pi - x) + \sin(\pi + x)$ ifadesi aşağıdakilerden hangisine eşittir?

- A) $-2 \sin x$ B) 0
C) 1 D) $2 \sin x$

17. $\tan 135^\circ + \sin 150^\circ + \cos 300^\circ$ işleminin sonucu kaçtır?

- A) 3 B) 2 C) 1 D) 0

18. $f(x) = \sin(3x + 4)$ fonksiyonunun periyodu aşağıdakilerden hangisidir?

- A) $\frac{\pi}{3}$ B) $\frac{\pi}{2}$ C) $\frac{2\pi}{3}$ D) π

19. $2 \sin x - 3 \cos y + 1$ ifadesinin alabileceği en büyük değer kaçtır?

- A) 6 B) 5 C) 4 D) 3

20. $(0, 2)$ noktası $y = f(x)$ fonksiyonunun grafiği üzerinde olduğuna göre $f(x)$ aşağıdakilerden hangisi olabilir?

- A) $2 \cos x + 1$ B) $-\cos x + 3$
C) $4 \sin x - 1$ D) $\sin x + 3$

(478) SEÇ. MANTIK – 1

1. Her çiçek güzeldir.
Karanfil bir çiçektir.

Verilen akıl yürütme örneğinde noktalara gösterilen yere aşağıdaki sonuçlardan hangisi gelirse doğru bir akıl yürütme elde etmiş oluruz?

- A) Öyleyse karanfil çiçek değildir.
B) O hâlde karanfil de güzeldir.
C) Öyleyse her çiçek karanfildir.
D) O hâlde çiçek güzel değildir.

2. • Kavramların dildeki ifadesine terim denir.

• Tek başına anlamı olmayan sözcükler terim sayılmazlar.

Buna göre aşağıdakilerden hangisi terimdir?

- A) Kedi B) Ve
C) Şu D) Ki

3. Bir yargının doğruluğundan söz edilmesi, onu doğru kılan sebeplerin yeterliliğiyle mümkün olmaktadır.

Verilen ifade aşağıdaki akıl yürütme ilkelerinden hangisiyle ilgilidir?

- A) Üçüncü durumun olanaksızlığı
B) Yeter-Neden
C) Çelişmezlik
D) Özdeşlik

4. I. İbn-i Sina
II. Frege
III. Farabi

Yukarıdakilerden hangileri İslam mantıkçıları arasında yer almaktadır?

- A) Yalnız I. B) Yalnız II.
C) I ve II. D) I ve III.

5. "İnsanlara yapılacak en büyük iyilik; onlara akıllarını kullanmayı öğretmektir."

Verilen ifadeden hareketle aşağıdakilerden hangisine ulaşılabılır?

- A) İnsanlara iyilik yapmak önemlidir.
B) İyi olmak iyi davranmakla mümkündür.
C) Aklı kullanmak öğrenme gerektiren bir süreçtir.
D) İnsanların faydasına yönelik eylemler gerçekleştirilmelidir.

6. Aşağıdakilerden hangisi genel kavramdır?

- A) Ayşe B) İnsan
C) Mars D) Karanfil

7. Eğer bir kavram, bireyler grubunu ifade edip bireyde gerçekleşiyorsa distribütif kavram adını alır. Örneğin futbol takımının distribütif kavramı "futbolcu"dur.

Buna göre aşağıdakilerden hangisi distribütif kavram örneğidir?

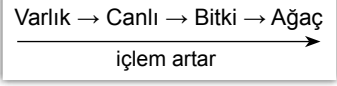
- A) Meclis B) Ordu
C) Asker D) Sendika

3. OTURUM

8. Aşağıda verilen kavram ve karşılı eşleştirmelerinden hangisi yanlıştır?

- A) Çirkin - güzel
B) Çok - az
C) Ak - kara
D) İyi - iyi olmayan

9.



Verilen şemaya göre aşağıdaki kavramlardan hangisinin içlemi en fazladır?

- A) Ağaç
B) Canlı
C) Bitki
D) Varlık

10.



Verilen şemadaki kavramlar arası ilişki aşağıdakilerden hangisiyle ifade edilir?

- A) Tüm kediler köpektir.
B) Hiçbir kedi köpek değildir.
C) Bazı kediler köpektir.
D) Bazı köpekler kedi değildir.

11. Birçok türde ortaklaşa bulunan özellikler ilinti olarak tanımlanır.

Buna göre aşağıdakilerden hangisi insanın ilintisi değildir?

- A) Uyumak
B) Büyümek
C) Kültür
D) Üremek

12. Bir kıyasta sonuca kaynaklık eden önermeler aşağıdakilerden hangisiyle ifade edilir?

- A) Kavram
B) Tanım
C) Sonuç
D) Öncül

13. Aşağıdakilerden hangisi tanım kavramıyla ilgili yanlıştır bir ifadedir?

- A) Kısır döngü bulunmamalıdır.
B) Her zaman çelişki taşıyan önermelerdir.
C) Aşk, nefret, keder, koku gibi kavramlar tanımlanamazlar.
D) Bir kavram kendisinden daha açık olmayan bir terimle tanımlanmalıdır.

14. "İnsan nasıl insan oldu?" cümlesiyle ilgili aşağıdaki ifadelerden hangisi doğrudur?

- A) Soru cümlesidir.
B) Bir önermedir.
C) Yargı bildirmektedir.
D) Doğruluk değerine sahiptir.

15. Bütün S'ler P'dir. (Tümel olumlu) Hiçbir S, P değildir. (Tümel olumsuz)



Bazı S'ler P'dir. (Tikel olumlu) Bazı S'ler P değildir. (Tikel olumsuz)

Verilen karşı olum karesine göre aşağıdakilerden hangisi tikel olumlu bir önermedir?

- A) Bazı çocuklar güzeldir.
B) Hiçbir çocuk güzel değildir.
C) Bütün çocuklar güzeldir.
D) Bazı çocuklar güzel değildir.

16. Birden fazla yargı ile yapılan önermelere bileşik önerme denir.

Buna göre aşağıdakilerden hangisi bileşik önermedir?

- A) Gökçe akıllıdır.
B) Ali çalışkandır.
C) Ayşe öğretmendir.
D) Bilim öğretici ve mantıksaldır.

17. Aşağıdakilerden hangisi zorunlu önermeye örnek olabilir?

- A) Mehmet'in öğretmen olması mümkündür.
B) Ayşe çalışırsa başarılı olur.
C) Pamuğun yumuşak olması zorunludur.
D) Papatya bitkidir.

18. Özne ve yüklemi aynı iki önerme hem nitelik hem de nicelik bakımından farklı ise aşağıdakilerden hangisiyle ifade edilir?

- A) Çelişik
B) Altık
C) Üst karşıt
D) Alt karşıt

19. Düz döndürme, bir önermenin nitelik ve doğruluk değerini değiştirmeden özne ve yüklem yerlerinin değiştirilmesidir.

Buna göre "Bütün kediler dört ayaklıdır." önermesinin düz döndürmesi aşağıdakilerden hangisidir?

- A) Hiçbir kedi dört ayaklı değildir.
B) Bazı dört ayaklılar kedidir.
C) Bazı kediler dört ayaklı değildir.
D) Bütün kedi olmayanlar dört ayaklıdır.

20. Her iki öncülde de tekrarlanan terim orta terim olarak ifade edilir.

Buna göre;

"Bütün insanlar iki ayaklıdır.

Bazı insanlar sarışındır.

O hâlde bazı iki ayaklılar sarışındır." örneğinde orta terim aşağıdakilerden hangisidir?

- A) bütün
B) sarışındır
C) insanlar
D) iki ayaklıdır

(500) İNGİLİZCE - 6

1-20. sorularda boş bırakılan yere uygun gelen kelime ya da ifadeyi işaretleyiniz.

1. I have been teaching English - - - - fifteen years.

- A) yet
B) for
C) since
D) lately

2. She - - - - in this city since 1986.

- A) lives
B) lived
C) is living
D) has been living

3. Will you be - - - - your computer this afternoon?

- A) studying
B) sleeping
C) using
D) going

4. I can't meet you at 10 - - - -. I will be teaching.

- A) tomorrow morning
B) last month
C) two days ago
D) since Wednesday

5. It is very cold here. - - - - you close the window, please?

- A) Is
B) Does
C) Could
D) Should

6. Joe : - - - -?

Ally : Yes, you can.

- A) Could you help your mother
B) Can I use your computer
C) Will you come with me
D) Did I come very early

3. OTURUM

7. My father doesn't like coffee so he - - - - drinks it.

- A) usually B) always
C) often D) never

8. It is raining outside and the roads are wet. Drive - - - -, please.

- A) carefully B) loudly
C) angrily D) easily

9. The questions were not difficult. Maria solved all of them very - - - -.

- A) easily B) loudly
C) extremely D) occasionally

10. The weather was - - - - hot that we couldn't go outside.

- A) such B) or
C) so D) as

11. You should take your coat on. It is - - - - cold today.

- A) many B) quite
C) much D) that

12. If you mix red and yellow, you - - - - orange.

- A) get B) to get
C) getting D) would get

13. If you - - - - water in the freezer, it turns into ice.

- A) expand B) divide
C) walk D) put

14. If it doesn't rain, we - - - - on a picnic this Saturday.

- A) goes B) went
C) will go D) have gone

15. If I earn a lot of money, - - - -.

- A) I get a scholarship
B) I will buy a new car
C) you will pass the class
D) you improve understanding skills

16. If I were you, I - - - -.

- A) can help sick people
B) must go to the seaside
C) will go to Antalya
D) would visit him

17. My brother wants to visit New York, - - - - there are lots of museums.

- A) where B) why
C) when D) who

18. The lady - - - - is sitting in front of the bus is a nurse.

- A) where B) when
C) who D) why

19. - - - - I was listening to the radio, the electricity went off.

- A) If B) After
C) While D) As soon as

20. - - - - Naomi studies a lot, she is not successful.

- A) If B) After
C) Before D) Although

(500) ALMANCA – 6

1 - 18. sorularda boş bırakılan yere uygun gelen ek, kelime ya da ifadeyi işaretleyiniz.

1. Wir schrieb- - - - (Konjunktiv II) einen Brief an deine Schwester!

- A) -e B) -est C) -et D) -en

2. Man sagt, sie - - - - wieder ein neues Handy. (Konjunktiv I)

- A) habest B) habet
C) habe D) hättet

3. Şenay lies- - - - ein Buch, aber wir hör- - - - Musik.

- A) -e / -en B) -t / -t
C) -t / -en D) -st / -

4. Mert geht - - - - Arzt, - - - - er Zahnschmerzen hat.

- A) in / denn B) bis / zum
C) ins / dass D) zum / weil

5. Das Kind, - - - - Fieber hat, muss zum Arzt gehen.

- A) der B) das
C) die D) deren

6. Die Frau, - - - - in der Post arbeitet, ist jung.

- A) der B) die
C) das D) dessen

7.



Hüseyin Ahmet

Hüseyin ist lang.

Ahmet ist - - - - als Hüseyin.

- A) länger B) mehr
C) kälter D) höher

8. Audi: 240 km/h
Mercedes: 260 km/h
Porsche: 280 km/h

Der Audi ist - - - - .
Der Mercedes ist - - - - .
Der Porsche ist - - - - .

- A) schneller / schneller / am schnellsten
B) am schnellsten / schnell / schneller
C) schnell / schneller / am schnellsten
D) schnell / am schnellsten / schneller

9. Naim Süleymanoğlu ist der - - - - Sportler in der Türkei.

- A) längste B) stärkste
C) wärmste D) höchste

10. Ağrı ist der - - - - Berg in der Türkei.

- A) höchste B) kleinste
C) heißeste D) schnellste

3. OTURUM

11. - - - - wollen Sie Deutsch lernen?

- A) Wer B) Wen
C) Weil D) Warum

12. Nevin: Ist das ein Bleistift?

Neval: Nein, das ist - - - - Bleistift.

- A) doch B) kein
C) auch D) ein

13. Aysun : - - - - kommst du?

Cennet: Um 7 Uhr.

- A) Weil B) Wer
C) Wann D) Wie

14. Deniz und Muzaffer leb- - - - - in Prag.

- A) -en B) -er C) -e D) -t

15. - - - -, Oktober, November, Dezember

- A) Januar B) September
C) Juni D) April

16. Aşağıdaki sözcüklerin zıt anlamlılarını hangi seçenekte doğru verilmiştir?

kalt X - - - -
lang X - - - -

- A) schön / klein
B) warm / kurz
C) groß / dünn
D) alt / neu

17. Benay: Wohin gehst du am Wochenende?

Filiz : Ich gehe - - - - Schwimmbad.

- A) bei B) zu C) auf D) zum

18. Hasan - - - - jeden Samstag mit seinen Freunden Fußball.

- A) trinkt B) liest
C) isst D) spielt

19. Aşağıda verilen sözcüklerden hangisi diğerlerinden farklıdır?

- A) Kaffee B) Brot
C) Kuchen D) Pizza

20.



Was ist sie von Beruf?

- A) Arzt B) Pilot
C) Lehrerin D) Polizei

(500) FRANSIZCA – 6

1 - 13. sorularda boş bırakılan yere uygun gelen sözcük ya da ifadeyi işaretleyiniz.

1. La femme de mon oncle est - - - -.

- A) chinois B) anglaises
C) française D) turcs

2. Jean : - - - - est votre profession ?

Paul : Je ne travaille pas. Je suis étudiant.

- A) Pourquoi B) Quelle
C) Quand D) Combien

3. Maman : Qu'est-ce que tu as ?
- - - - tu pleures ?

Enfant : Parce que j'ai perdu mon ballon.

- A) Comment B) Combien
C) Que D) Pourquoi

4. Elif : Tu te maries, c'est vrai ?

Sophie : Eh bien, oui. Tu connais déjà - - - -.

- A) mon fiancé B) ma mère
C) ma tante D) mon père

5. Sarp : - - - - est-ce que je peux aller au musée d'Orsay ?

Marc : En métro.

- A) Où B) Pourquoi
C) Combien D) Comment

6. Dans la salle de sport, on fait - - - -.

- A) de la musique
B) du dessin
C) du pain
D) de la gymnastique

7. Tuna : Tu fais de la natation ?

Caroline : Mais non, je - - - - nager.

- A) ne sais pas B) savoir
C) sait bien D) ne savez pas

8. Barış : - - - - travailles-tu jusqu'à minuit ?

Sylvie : Pour gagner plus d'argent.

- A) Où B) Pourquoi
C) Combien D) Comment

9. Müge : As-tu un problème avec ta sœur ?

Odile : Non, je n'ai pas - - - - problème avec elle.

- A) des B) une
C) de D) le

10. Jacques habite - - - - Rome, - - - - Italie.

- A) à / au B) en / à
C) à / en D) en / en

11. Albert : Qu'est-ce que c'est ?

Alper : C'est - - - -.

- A) une touriste anglaise
B) un agent de police
C) une jeune fille
D) un téléphone portable

12. Mert va - - - - pour prendre le train.

- A) à la station-service
B) à la gare
C) à l'aéroport
D) au café

13. Carole : Voulez-vous un peu de - - - - ?

Lucas : Non, merci, je viens de manger à la cantine.

- A) pizza
B) jus de pomme
C) petit-déjeuner
D) restaurant italien

14. Aşağıdakilerden hangisi "80" sayısının doğru yazılışdır?

- A) Quatre-vingts
B) Quatorze
C) Quarante-quatre
D) Quatre-vingt-quatorze

3. OTURUM

15 - 16. soruları planı dikkate alarak cevaplandırınız.

GARE	CINÉMA	PARKING	HÔTEL	POSTE
RUE DE LA FONTAINE				
PHARMACIE	BOUCHERIE	PÂTISSERIE	ÉPICERIE	CAFÉ

15. L' épicerie est - - - - .


- A) en face du café
B) entre la pâtisserie et le café
C) à droite de la poste
D) à gauche de la gare

16. La poste est - - - - .

- A) au coin de la rue
B) entre l'hôtel et le parking
C) à droite du café
D) en face de la pâtisserie

17 - 20. soruları görselleri dikkate alarak cevaplayınız.

17.



- A) Il est midi et demie.
B) Il est midi moins le quart.
C) Il est midi et quart.
D) Il est midi vingt.

18.



Elle est - - - - .

- A) fleuriste
B) chanteuse
C) infirmière
D) cuisinière

19.



Il est - - - - .

- A) pâtissier
B) ouvrier
C) chauffeur
D) serveur

20.



- A) Il est sept heures vingt-cinq.
B) Il est sept heures et quart.
C) Il est sept heures moins vingt-cinq.
D) Il est sept heures et demie.

(533) SEÇMELİ PEYGAMBERİMİZİN HAY. - 3

1. Mekke şehri ile ilgili aşağıdaki bilgilerden hangisi yanlıştır?

- A) Hz. Muhammed (sav.) burada vefat etmiştir.
B) Hicaz bölgesinde yer alan şehirlerden biridir.
C) Arap Yarımadası'nın inanç ve kültür merkezidir.
D) Hz. Muhammed'e (sav.) ilk vahiy burada indirilmiştir.

2. İslam öncesi Hicaz Bölgesi Araplarında aşağıdakilerden hangisi daha çok gelişmiştir?

- A) Tezhip sanatı
B) Sözlü edebiyat
C) Yazılı edebiyat
D) Resim ve minyatür

3. Aşağıdakilerden hangisi Yahudilerin İslam öncesinde yoğun olarak yaşadığı şehirlerden biri değildir?

- A) Hayber
B) Medine
C) Yemen
D) Mekke

4. Aşağıdakilerden hangisi Hz. Peygamber'in doğduğu çevrede toplumu oluşturan sınıflar arasında yer almaz?

- A) Hürler
B) Esirler
C) Din adamları
D) Köleler

5. Allah bana ondan daha hayırlısını vermedi. Halk bana inanmazken o, bana inandı. Herkes bana yalancı derken o, doğru söylediğimi kabul etti. Kimse bana bir şey vermezken o, malıyla beni destekledi ve Allah bana ondan çocuklar ihsan etti.

Hz. Muhammed (sav.), bu sözlerini aşağıdakilerden hangisi için söylemiştir?

- A) Hz. Zeynep
B) Hz. Hatice
C) Hz. Hafsa
D) Hz. Ayşe

6. Ebu Talip, Şam'a gitmek üzere on iki yaşındaki yeğeni Hz. Muhammed'i (sav.) de yanına alarak ticaret için yola çıkmıştı. Kervan, Busra denilen yerde konakladı. Ebu Talip orada yaşanan bazı gelişmeler üzerine Şam'a gitme düşüncesinden vazgeçip mallarını Busra'da satarak geri döndü.

Ebu Talip'in dönüş kararı almasında aşağıdakilerden hangisi etkili olmuştur?

- A) Yeğenin başına kötü bir hâl geleceği endişesi
B) Kervandaki insanların kendine güven vermemesi
C) Şam'a ulaşacak kadar yeterli yiyecek ve suyun olmayışı
D) Mallarını Şam'da satmasının kârını artırmayacağı düşüncesi

7. Hz. Muhammed (sav.) tüm Mekkelileri Safa Tepesi'nde toplayarak onları Allah'ın dinine davet etmiştir.

Bu olay aşağıdaki ayetlerden hangisinin nazil olması üzerine gerçekleşmiştir?

- A) "Sen kötülüğü en güzel bir tutumla sav. Biz onların yakıştırmakta olduğu şeyi çok iyi bilmekteyiz." (Mü'minün suresi, 96. ayet)
B) "O kafirlere ne oluyor ki, bölük bölük sağından ve solundan sana doğru koşuyorlar." (Meâric suresi, 36-37. ayetler)
C) "O, kalemle yazmayı öğretendir, insana bilmediğini öğretendir." (Alak suresi, 4 ve 5. ayet)
D) "Sana emrolunanı açıkça ortaya koy ve Allah'a ortak koşanlara aldırış etme." (Hicr suresi, 94. ayet)

(Hicr suresi, 94. ayet)

3. OTURUM

8. Hz. Peygamber'in "Kuşların cetsellerimizi didikleyip parçalamaya başladığını görseniz bile görev yerlerinizi terk etmeyiniz." **sözünü okçu birliğini uyardığı savaş aşığıdaki**lerden hangisidir?

- A) Bedir B) Hayber
C) Uhut D) Hendek

9. **Aşığıdakilerden hangisi Hudeybiye Antlaşması'nın bozulma sebebidir?**

- A) Müşriklerin Kâbe'ye gereken önemi vermemesi
B) Hz. Osman'ın müşrikler tarafından rehlin alınması
C) Müslümanların Kâbe'yi tavaf etme istek ve arzusu
D) Benî Bekir kabilesinin Huzâa kabilesine saldırması

10. **Aşığıdaki hadislerden hangisi "Tıbb-ı Nebevî" ile ilgilidir?**

- A) Selamı aranızda yayınız.
B) Yemeklerden önce ve sonra ellerinizi yıkayınız.
C) Siz yerdekilere merhamet edin ki göktekiler de size merhamet etsin.
D) İman etmedikçe cennete giremezsiniz, birbirinizi sevmedikçe de iman etmiş olmazsınız.

11. **Allah'ın aşığıdaki isimlerinden hangisi O'nun sağlık veren olduğunu ifade etmektedir?**

- A) Rahman B) Tevval
C) Şafi D) Rezzak

12. Hiçbir kişi midesinde daha tehlikeli bir kap doldurmamıştır. Oysa insana kendisini ayakta tutacak birkaç lokma yeter. Şayet çok yiyecekse midenin üçte birini yemeğe, üçte birini içeceğe, üçte birini de nefes almaya ayırmalıdır.

Bu hadiste sağlık için aşığıdakilerden hangisi tavsiye edilmektedir?

- A) Ölçülü yemek
B) Temiz olmak
C) Oruç tutmak
D) Yemek seçmek

13. **Aşığıdakilerden hangisi ibadetlerde dengeye örnek verilebilir?**

- A) Canlıların ekolojik bir sistem içinde hareket etmesi
B) Bütün peygamberlerin tevhit inancını tebliğ etmesi
C) Davranışlarda hem dünya hem de ahiretin gözetilmesi
D) Uzaydaki gök cisimlerinin bir ölçüye göre hareket etmesi

14. "Yahudiler Üzeyir Allah'ın oğludur dediler. Hristiyanlar da Mesih (İsa) Allah'ın oğludur dediler. Bu onların ağızlarıyla geveledikleri sözlerdir..." (Tevbe suresi, 30. ayet)

Bu ayet aşığıdakilerin hangisinde aşırılığa gidildiğine örnek oluşturur?

- A) İnançta B) İbadetlerde
C) Duygularda D) Davranışlarda

15. Bu ibadet tek başına yapıldığında kısa ya da uzun tutulabilir. Toplu hâlde yapıldığında ise yaşlı ve hasta insanlar düşünülerek uzun tutulmalıdır.

Bu cümlede denge gözetilmesi istenen ibadet aşığıdakilerden hangisidir?

- A) Hac B) Oruç
C) Umre D) Namaz

16. "Dostunu severken ölçülü sev çünkü günün birinde düşmanın olabilir. Düşmanına ölçülü bir şekilde buğzet, o da günün birinde dostun olabilir."

Bu hadis aşığıdakilerin hangisinde dengeli olunması gerektiğini vurgulamaktadır?

- A) İnançta B) Duygularda
C) İbadette D) Harcamalarda

17. **Aşığıdaki ayet ve hadislerin hangisinde harcamalarda dengeli olmaya vurgu yapılmamıştır?**

A) "Akrabaya, yoksula ve yolda kalmış yolcuya haklarını ver, fakat saçıp savurma." (İsrâ suresi, 26. ayet)

B) "Eli sıkı olma, büsbütün eli açık da olma. Sonra kınanır ve çaresiz kalırsın." (İsrâ suresi, 29. ayet)

C) Allah'ın en çok hoşuna giden ibadet, az da olsa devamlı olanıdır. (Hadis-i şerif)

D) Kibirlenmeden ve israf etmeden yiyiniz, içiniz, giyininiz ve sadaka veriniz. (Hadis-i şerif)

18. **Kur'an-ı Kerim'de Hz. Eyüp (as.) aşığıdaki özelliklerinden hangisi ile öne çıkarılmıştır?**

- A) Şefkatli ve merhametli olması
B) Sıkıntılara karşı sabretmesi
C) Misafirlerine ikram etmesi
D) Akrabalarını gözetmesi

19. "Kim Müslümanların gelip geçtiği yerden onları rahatsız eden bir şeyi kaldırıp atarsa Allah ona sevap yazar."

Bu hadis ile sağlığı koruma yollarından hangisi teşvik edilmektedir?

- A) Gıda temizliği
B) Beden temizliği
C) Giysi temizliği
D) Çevre temizliği

20. **Hz. Muhammed (sav.) ile ilgili aşığıdaki bilgilerden hangisi yanlıştır?**

- A) Elli üç yaşında vefat etmiştir.
B) Cenazesini Hz. Ali yıkamıştır.
C) Kabrine Ravza-i Mutahhara denir.
D) Hz. Ayşe'nin odasında vefat etmiştir.

(534) SEÇMELİ PEYGAMBERİMİZİN HAY. - 4

1. "Dinde zorlama yoktur. Artık doğrulukla eğriлик birbirinden ayrılmıştır..." (Bakara suresi, 256. ayet)

Bu ayette aşığıdakilerden hangisi vurgulanmaktadır?

- A) Dinin evrensel bir olgu olduğu
B) Dinin, insan hayatının her alanında etkili olduğu
C) Dine inanma konusunda insanın serbest olduğu
D) Dinin emir ve yasaklarından akıl sahibi insanların sorumlu olduğu

2. **Aşığıdaki ayetlerden hangisi inanç ve ibadet özgürlüğü ile ilgili değildir?**

A) "De ki: Hak, Rabbinizdendir. Öyle ise dileyen iman etsin, dileyen inkâr etsin..." (Kehf suresi, 29. ayet)

B) "O hâlde (Resûlüm), öğüt ver. Çünkü sen ancak öğüt vericisin. Onların üzerinde bir zorba değilsin." (Ğaşîye suresi, 21-22. ayetler)

C) "(Resûlüm!) Eğer Rabbin dileseydi, yeryüzündekilerin hepsi elbette iman ederlerdi. O hâlde sen, inancın için insanları zorlayacak mısın?" (Yûnus suresi, 99. ayet)

D) "Ey iman edenler! Sabır ve namaz ile Allah'tan yardım isteyin. Çünkü Allah muhakkak sabredenlerle beraberdir." (Bakara suresi, 153. ayet)

3. OTURUM

3. "... İş konusunda onlarla müşavere et..."
(Âl-i İmrân suresi, 159. ayet)

Bu ayet aşağıdaki hak ve özgürlüklerden hangisinin gelişmesine katkı sağlar?

- A) Özel hayatın gizliliği
B) Düşünce ve ifade
C) İnanç ve ibadet
D) Mülkiyet

4. İslam dini hırsızlık, gasp, faiz ve rüşvet gibi haksız kazanç yollarını yasaklayarak öncelikle aşağıdaki haklardan hangisini korumayı amaçlamıştır?

- A) Mülkiyet
B) Düşünce
C) Yaşam
D) İbadet

5. "Bir yerde bulaşıcı hastalık varsa oraya girmeyiniz. Bulaşıcı hastalık bulunan bir yerde iseniz oradan da çıkmayınız."

Bu hadis aşağıdaki temel hak ve özgürlüklerin hangisine kısıtlama getirmiştir?

- A) Özel hayatın gizliliğine
B) Düşünce ve ifadeye
C) İnanç ve ibadete
D) Seyahat etmeye

6. "Bir Müslümanın izinsiz olarak bir başkasının evinin içini gözetlemesi helal değildir. Böyle yapan günah işlemiş olur."

Bu hadiste aşağıdaki hak ve özgürlüklerden hangisine işaret edilmektedir?

- A) Özel hayatın gizliliği
B) Düşünce ve ifade
C) Mülk edinme
D) Tasarruf

7. Aşağıdaki temel hak ve özgürlüklerle ilgili ifadelerden hangisi yanlıştır?

- A) Ekonomik özgürlük helallerle sınırlıdır.
B) İfade özgürlüğü kamu düzenini bozuyorsa sınırlandırılır.
C) Kadının mülk edinme ve tasarrufu eşinin iznine bağlıdır.
D) Hak ve özgürlüklerin kullanımında kurallara uyulmalıdır.

8. "Hz. Peygamber döneminde halkın yöneticisine bağlılığını bildirmesi ve ona itaat edeceğine söz vermesi" anlamına gelen kavram aşağıdakilerden hangisidir?

- A) İstişare
B) Biat
C) Liyakat
D) Tevazu

9. Aşağıdakilerden hangisi Hz. Peygamber'in yönetim anlayışındaki ilkelerinden biri değildir?

- A) İstişare
B) İş ehline verme
C) Adalet ve hukuk
D) Yakınlara öncelik tanıma

10. Kureyş kabilesinden saygın bir ailenin kızı hırsızlık yapmıştı. Kabilenin ileri gelenleri Hz. Muhammed'in evlatlığı Üsâme b. Zeyd'i aracı yapılarak bu kızın cezalandırılmamasını istediler. Durumu öğrenen Hz. Muhammed onlara: "Sizden öncekiler işte bu yüzden helak olmuştur. Onlar kanunları fakirlere uygular, zenginleri ise affederlerdi. Allah'a yemin olsun ki kızım Fatıma dahi hırsızlık yapsaydı cezayı uygulardım."

Bu metinde vurgulanan ilke aşağıdakilerden hangisidir?

- A) Sadakat
B) Liyakat
C) Adalet
D) Ehliyet

11. Kim Müslümanların bir işini üstlenip de onların arasında daha layığı olduğunu bildiği hâlde, başkasını göreve getirirse Allah'a, Resul'üne ve bütün Müslümanlara ihanet etmiş olur.

Hadiste geçen "layığı" sözcüğünü aşağıdakilerden hangisi anlam bakımından karşılamaktadır?

- A) Ehil
B) Eşit
C) Yaşlı
D) Nüfuzlu

12. Aşağıdakilerden hangisi İslam dinine göre yöneticilerin uymaları gereken ilkelere biri değildir?

- A) Doğruya ve iyiye yönlendirmek
B) Menfaatini öne çıkarmak
C) İşini iyi yapmak
D) Adaletli olmak

13. "Bir toplumun efendisi ona hizmet edendir."

Bu hadiste yönetim görevinin hangi niteliği vurgulanmaktadır?

- A) Bir ibadet olması
B) Yeniliklere açık olması
C) Hak ve hukukun gözetilmesi
D) Toplum menfaatinin hedeflenmesi

14. • Zekâtları devlet eliyle toplatarak fakirlere dağıtırdı.
• Yardım etmeyi, sadaka vermeyi ve dayanışmayı teşvik ederdi.
• İhtiyaç sahiplerinin, yoksulların ve kimsesizlerin gözetilmesini isterdi.

Hz. Peygamber'in bu davranış ve tutumları aşağıdaki yönetim ilkelere hangisiyle ilişkilidir?

- A) İstişare etmek
B) Sosyal adaleti tesis etmek
C) Ehliyet ve liyakate önem vermek
D) Halkın yönetime katılımını sağlamak

15. Aşağıdakilerden hangisi Hz. Peygamber'in inanç ve ibadet özgürlüğüne yaklaşımını gösteren örneklerden biridir?

- A) Akabe Biatı
B) Kâbe Hâkemliği
C) Medine Sözleşmesi
D) Hilfu'l-Fudul Üyeliği

16. "Hepiniz sorumluluk sahibisiniz ve hepimiz elinizin altındakilerden sorumlusunuz. Erkek; ailesinden, eş ve çocuklarından sorumludur. Kadın, evinden ve ailesinden sorumludur..."

Bu hadiste aşağıdakilerden hangisi vurgulanmıştır?

- A) İnsanların hak ve görevlerinin olduğu
B) Eşlerin birbirlerine sadık olması gerektiği
C) Kadın ve erkeğin yaratılış gayesinin aynı olduğu
D) İnsanların farklı yeteneklere sahip olduğu

17. "Mümin erkeklere söyle gözlerini haramdan sakınsınlar... Mümin kadınlara da söyle gözlerini haramdan sakınsınlar..."
(Nûr suresi, 30 ve 31. ayetler)

Bu ayetlerde uyulması istenilen davranış aşağıdakilerden hangisidir?

- A) Hataları gizlemek
B) Mahremiyeti korumak
C) İnsan onuruna saygı göstermek
D) Kırıcı ve incitici olmaktan sakınmak

3. OTURUM

18. Aşağıdakilerden hangisi "empati" kavramının anlamıdır?

- A) İnançta birlik
- B) Hukukta eşitlik
- C) Davranışlarda denge
- D) Duygularda ortaklık

19. Hz. Peygamber Hz. Ali'ye: "Sana iki kişi hüküm vermen için geldiğinde hiç bir zaman ikisini de dinlemeden karar verme. Çünkü doğruyu bulman ancak her ikisini de dinlediğinde mümkün olur." buyurmuştur.

Bu hadis ile Hz. Peygamber'in bir konuda hüküm verilirken aşağıdakilerden hangisini tavsiye ettiği söylenemez?

- A) Aceleci davranmak
- B) Ön yargısız olmak
- C) Tarafları dinlemek
- D) Adaletli olmak

20. Aşağıdakilerden hangisi Allah katında kadın ile erkek arasında bir üstünlük sebebidir?

- A) Makam ve mevki sahibi olmak
- B) Temel haklara sahip olmak
- C) Takva sahibi olmak
- D) Hür olmak

(542) TÜRK DİLİ VE ED. – 2

1. Aşağıdaki metinlerden hangisi farklı bir bakış açısıyla yazılmıştır?

- A) Akakiy Akakiyeviç hiçbir eğlenceye kendisini kaptırmazdı. Hiç kimse onu bir gece toplantısında gördüğünü söyleyemezdi. Kana kana yazı yazdıktan sonra yatağa yatar, yarını düşünerek gülümserdi.
- B) Odanın köşesinde lamba güzel güzel yanıyor, ışığına bürünen eşyaların manzarası da bayramı hatırlatıyordu. Her şeyde bir ılıklik hissediliyordu; hâlbuki zavallı memura her şey soğuk, düzensiz geliyordu.
- C) Elimdeki fincandan bir yudum çay daha içtim; bu ilk içtiğim aynı idi; bir üçüncü yudum daha içtim ve bu sefer, ikinci yudumdan aldığım tadı bulamadım. Artık devam etmemeliydim çünkü içtikçe içtiğim çayın hassası azalıyordu.
- D) Kalbinin derinliklerinde, o, bir hadise daha bekliyordu. Umutsuz kalmış gemiciler gibi yaşlı gözlerini hayatının ıssızlığı üzerinde gezdiriyor, sisli ufuklarda beyaz bir yelken araştırıyordu.

2. Yolu kesen bir dereye, atların nalları gümüş renkli ıslak taşlara sürtünerek ses çıkardı ve hayvanlar yavaşladı. Danyar, kamçısını şaklattı ve türkü söylemeye başladı. Şüphesiz güzel sesi vardı Danyar'ın... İlerimizde bir açıklık görüldü. Orada boğaz bitiyor, geniş vadiye çıkıyorduk. Hafif bir rüzgâr esiyordu.

Bu metinde romanın yapı unsurlarından hangisi yoktur?

- A) Yer
- B) Zaman
- C) Olay
- D) Kişi

3. Etrafıma bakıyorum. Gözümün alabildiğince bir kumsaldayım. Kumlar da kazan gibi kayıyor, sıcak mı sıcak. Arkamda sıra sıra Hindistan cevizi ağaçları. Kimi yerinden sökülmüş, kimi kırılmış. Tayfunun gelişi geçtiğini bu ağaçlardan başka belli edecek hiçbir alamet yok.

Bu metinde verilen altı çizili sözcüklerden hangisi zamirdir?

- A) Gözümün
- B) Kumlar
- C) Kimi
- D) Tayfunun

4. Çorum, 6 Ekim 1942

Canım Ağabeyim,
Dün İskilip'ten döndüm. Filmleri, dergileri ve mektubunu buldum. Henüz terhis olmadığını anlayınca müthiş bir hüznü çöktü.

Bugünlerde çok kararsız bir hâldeyim. Bundan çok şikâyetçiyim. En ufak bir şeye karar vermek için buram buram terliyorum. Daha uzun yazamayacağım.

En kısa zamanda görüşmek dileğiyle.

Kardeşin İsmet

Bu metin aşağıdaki türlerden hangisine örnek olabilir?

- A) Mektup
- B) Hikâye
- C) Roman
- D) Biyografi

5. Sahne oyunlarında konuşanların birbirlerine söyledikleri sözlerden her birine - - - - denir.

Bu cümlede boş bırakılan yere aşağıdakilerden hangisi getirilmelidir?

- A) aksiyon
- B) replik
- C) skeç
- D) kulis

6. Aşağıdakilerden hangisi trajedinin özelliklerinden değildir?

- A) Erdem ve ahlaka değer verilir.
- B) Konularını tarih ve mitolojiden alır.
- C) Karakterler halkın her kesiminden olabilir.
- D) Üç birlik kuralına uyulur.

7. Yeşillikler bir anda sarardı, ertesi

I.
sene gülbüz ağaçlar kupkuru bir

II.

iskelet hâline geldi. Bahar bir hazan gibi girdi ve kimse baharın geldiğini anlayamadı. İri boylu otlar cüceleşti,

III.

cılızlaştı. Nihayet kayboldu.

IV.

Bu metinde numaralandırılmış sözcüklerden hangisi zarftır?

- A) I.
- B) II.
- C) III.
- D) IV.

8. Aşağıdaki eserlerden hangisi Turgut Özakman'a aittir?

- A) Cimri
- B) Şu Çılgın Türkler
- C) Vatan yahut Silistre
- D) Hürrem Sultan

9. Kaleme, kâğıda ilgisi çok erken yaşlarda başlayan Ömer'i dört yaşında iken mahalle mektebine verirler. Daha üç yaşında olmasına rağmen yalnız kâğıt ve kurşun kalemle oynadığını gören bir kadın hoca Ömer'in annesine "Maşallah çocuğun hevesi var, bana yollasanız da okutmaya başlasam." der. İşte böyle bir teklifle Ömer, dört yaşında mektebe başlar.

Bu metin aşağıdaki türlerin hangisinden alınmış olabilir?

- A) Mektup
- B) Günlük
- C) Makale
- D) Biyografi

10. Divan edebiyatında, kişilerin biyografisini çeşitli yönleri ile ele alan eserlerdir. Mensur yazılmakla birlikte içlerinde manzum kısımlar da yer alabilir. Bu eserler günümüz edebiyat tarihlerinin ve şiir antolojilerinin yerini tutmaktadır.

Bu metinde sözü edilen yazı türü aşağıdakilerden hangisidir?

- A) Tezkire
- B) Mektup
- C) Günlük
- D) Otobiyografi

3. OTURUM

11. Aşağıdaki cümlelerin hangisinde yazım yanlışı yapılmıştır?

- A) Üniversitenin 3'cü sınıfındayken okulu bırakmaya karar verdi.
B) TÜBİTAK'a verdiği proje, adının kısa sürede duyulmasını sağladı.
C) Sokakta karşılaştığı lise arkadaşıyla ayaküstü anılarından söz ettiler.
D) Evin her yeri ilgi çekiciydi: duvardaki tablolar, seçilen mobilyalar, yemek takımının rengi...

12. Bütün gece yatakta döndü durdu () bir türlü uyku tutmadı. Kitap sandığı'nın başına oturdu () Onlara ne kadar yakındı! Her kitapta onun düşüncelerinden bir şeyler () Kitapların her birinde, notlar, açıklamalar... Yahut kıymetli bulunduğu satırların altlarındaki çizgiler...

Bu metinde yay ayrıla gösterilen yerlere aşağıdaki noktalama işaretlerinden hangileri sırasıyla getirilmelidir?

- A) (;) (.) (...)
B) (,) (!) (,)
C) (,) (.) (...)
D) (;) (!) (?)

13. İsim soylu sözcüklerin yüklem görevinde kullanılmalarını sağlayan ekle-re ek-fiil denir.

Buna göre aşağıdaki cümlelerin hangisinde ek-fiil kullanılmıştır?

- A) Anlamadığım konuyu öğretmeni-me soracağım.
B) Masanın üstündeki menekşenin rengi çok güzeldi.
C) Çocukluğumdan beri bu mağazada çalışıyorum.
D) Bütün gece arkadaşıyla sohbet etti.

14. Aşağıdaki cümlelerden hangisinin yüklemi gereklilik kipiyle çekimlenmiştir?

- A) Fabrika düdüklü ile sabah karanlığında yollara düşmeyeceğim.
B) Adam sağına soluna bakmaktan yoruldu.
C) Boğaz vapurları tatlı bir sabah uykusuna dalmıştı.
D) Kitap yayımlayanlar eleştirilere hazırlıklı olmalı.

15. • Türk edebiyatındaki ilk örneği Bakî'nin Şikâyetnamesi'dir.
• Bağımsız bir tür olarak Tanzimat Dönemi'nde ortaya çıkmıştır.
• Özel mektuplar ve elektronik mektuplar olmak üzere ikiye ayrılır.

"Mektup" ile ilgili verilen bu cümleler doğru-yanlış bakımından değerlendirildiğinde sıralama aşağıdakilerden hangisi olur?

- A) Y – D – Y B) Y – D – D
C) D – Y – Y D) D – Y – D

16. Aşağıdakilerden hangisi açık oturumun özelliklerinden değildir?

- A) Geniş halk kitlelerini ilgilendiren bir konu tartışılır.
B) Amaç bir konuda dinleyicileri bilgilendirmektir.
C) Sonunda bir bildiri yayımlanır.
D) Süresi konuya göre ayarlanır.

17. 17 Nisan Cuma

Baktım, çocuklar uçurtma uçuruyor. Her yıl, ilkyaz aylarında uçurtma gördüm mü bir üzüntü duyarım içimde, ağlamaklı olurum. Ben uçurtma uçurmadım ki! Çocukluğumda pek isterdim, o renk renk kâğıtlardan yapılmış uçurtmaların havalanmasına içimi çekerek bakardım.

22 Eylül Salı

Kaç gündür ne yazdım ne de kitap okuyabildim. Dün döndüm Ankara'ya, İstanbul'daydım. Orada doğmuşum, orada büyüdüm ama sevmem o şehri.

Bu metin aşağıdaki türlerden hangisine örnek olabilir?

- A) Mektup B) Biyografi
C) Roman D) Günlük

18. Aşağıdaki cümlelerin hangisinde birleşik fiil vardır?

- A) O sırada Neriman, Şinasi'nin yüzüne bakmadan yürüyüvermişti.
B) Eskiden Sakarya bu köprü'nün altından akarmış.
C) Onlara bu işin nasıl yapılacağını anlatıyordu.
D) Edebiyat eğitici yönü olan bir sanat dalıdır.

19. Yüklemi edilgen fiil olan cümlelerde işi yapan belli değildir.

Buna göre aşağıdaki cümlelerden hangisinin fiili edilgendir?

- A) Öğrenciler ödevlerini yapmamışlar.
B) Babam yarın İstanbul'a gidiyor.
C) Ateşi yakmak için kibrit arıyordu.
D) Sınav sonuçları geçen hafta ilan edildi.

20. Aşağıdakilerden hangisi blog türünün özelliklerinden değildir?

- A) Üslup, içerik ve tasarım kişiden kişiye değişmez.
B) Yazar, gönderilerini gelen yorumlara göre şekillendirir.
C) Güncel konular üzerine yayımlanır.
D) Şirket bloglarında resmî, günlük bloglarda ise samimi bir dil kullanılır.

(543) TÜRK DİLİ VE ED. – 3

1. I. Birbirinden bağımsız yirmi hikâyeden oluşur.

II. Hem destan hem de halk hikâyesinin özelliklerini taşır.

III. Nazım-nesir karışık yazılmıştır. "Dede Korkut Hikâyeleri" ile ilgili bu özelliklerden hangileri doğrudur?

- A) I ve II. B) I ve III.
C) II ve III. D) I, II ve III.

2. Duydun Yûsuf'u kuyu içinde yay, Sabırla beklerdi kuyuda o ay.

O kuyu ne kadar derindir bilmez, Çağırır sesi dıştan işitilmez.

Çağırır, ses gitmeyince dışarı, Vazgeçti bu işten bağırırız gayrı.

Bir mesneviden alınan bu dizelerle ilgili aşağıdakilerden hangisi söylenemez?

- A) Beyitlerle yazılmıştır.
B) Halk şiiri geleneğine aittir.
C) Her beyit kendi içinde kafiyelenmiştir.
D) Bir kişinin başından geçen olay anlatılmaktadır.

3. Aşağıdakilerden hangisi Millî Edebiyat Dönemi hikâyecilerinden biridir?

- A) Ahmet Mithat Efendi
B) Samipaşazâde Sezaî
C) Nabizâde Nazım
D) Ömer Seyfettin

3. OTURUM

4. Haber kipleri zaman anlamı taşıırken dilek kipleri fiile gereklilik, şart, istek ve emir anlamlarını verir.

Buna göre aşağıdaki fiillerin hangisi haber (bildirme) kipiyle çekimlenmiştir?

- A) Koşacağım B) Geleyim
C) Gitmeliyiz D) Söyleseniz

5. Oluş fiilleri, zamanla meydana gelen değişmeyi gösteren fiillerdir ve kendiliğinden gerçekleşir.

Buna göre aşağıdaki cümlelerin hangisinde oluş fiili vardır?

- A) Narı elleriyle ikiye böldü.
B) Bu gürültüde uyuyamaz.
C) Kediciğe o gün yolda rastlar.
D) Vazodaki çiçekler çoktan solmuş.

6. Aşağıdaki altı çizili sözcüklerden hangisi azlık-çokluk (miktar) zarfıdır?

- A) Karanlıkta adamların yüzünü seçememiş.
B) Yazın dondurma yemeyi çok sever.
C) Etrafındakilere bağırarak emirler yağırdırıyordu.
D) Ders bugün geç başlayacak.

7. Göktürk Kitabeleri aşağıdakilerden hangisi adına dikilmemiştir?

- A) Kül Tigin B) Vezir Tonyukuk
C) Alp Er Tunga D) Bilge Kağan

8. 12. yüzyılda, Edip Ahmet Yükneki tarafından kaleme alınmıştır. Hakaniye lehçesiyle (Karahanlı Türkçesi) yazılmıştır. Eserde bilginin faydası, cehaletin zararları, iyi ve kötü huylar üzerinde durulmuştur. Dinî, ahlaki, didaktik bir eserdir.

Bu metinde sözü edilen eser aşağıdakilerden hangisidir?

- A) Kutadgu Bilig
B) Divanü Lûgati't Türk
C) Atabetü'l Hakayık
D) Divan-ı Hikmet

9. Uzaklar seçilmiyor
Gönüldür geçilmiyor
Gönül bir top ibrişim
Dolaşmış açılmıyor

Bu dörtlükle ilgili aşağıdakilerden hangisi söylenemez?

- A) Halk edebiyatı geleneğinin izlerini taşır.
B) Uyak düzeni "aaba" şeklindedir.
C) Hece ölçüsüyle yazılmıştır.
D) Koçaklama türüne örnektir.

10. Nesne alamayan fiillere geçişsiz fiil denir.

Buna göre aşağıdaki cümlelerden hangisinin fiili geçişsizdir?

- A) Teyzem bu evde yalnız oturuyor.
B) Anahtar kapının üstünde unuttum.
C) Arkadaşıyla sinema biletlerini almış.
D) Sanatçı, şiirlerinde sade bir dil kullanır.

11. Aşağıdaki cümlelerin hangisinde edat (ilgeç) kullanılmamıştır?

- A) Hastalandığı için İstanbul'daki fuara katılamayacak.
B) Annem ve babam başka şehirde yaşıyor.
C) Gündüz, çalışkan olduğu kadar saygılıdır da.
D) Bu kazak ona göre değil.

12. Aşağıdaki cümlelerin hangisinde bağlaç olan "de, da"nın yazımıyla ilgili yanlışlık yapılmıştır?

- A) Ya sen gel yada ben geleyim.
B) Sen de mi kardeşlerine verdiği sözünü unuttun?
C) Bu köyün havası da suyu da tertemiz.
D) Git de güzel haberler getir uzak diyarlardan.

13. Aşağıdakilerden hangisi İslamiyet'in kabulünden sonra oluşan Türk destanlarından?

- A) Şu B) Göç
C) Oğuz Kağan D) Danişmend Gazi

14. Aşağıdakilerden hangisi efsanenin özelliklerinden değildir?

- A) İlk söyleyeni belli değildir.
B) Kanıtlayıcı anlatımla aktarılır.
C) Gerçek ve olağanüstü öğeler barındırır.
D) Anonim halk edebiyatı ürünüdür.

15. • Anayasamıza göre her bir vatandaş dilekçe ve bilgi edinme hakkına sahiptir.
• Tutanaklarda görüş ve yorumlara yer verilir.
• Belli bir konuyu ihtiva etmeyen imzasız dilekçeler işleme konmaz.

Bu cümleler doğru-yanlış olarak değerlendirildiğinde sıralama aşağıdakilerden hangisi olur?

- A) D – D – Y B) D – Y – D
C) Y – D – Y D) Y – Y – D

16. Utku, marketten süt alacakmış.

Bu cümlelerin öge dizilişi aşağıdakilerden hangisidir?

- A) Özne – dolaylı tümleş – nesne – yüklem
B) Özne – zarf tümleş – nesne – yüklem
C) Dolaylı tümleş – özne – nesne – yüklem
D) Zarf tümleş – nesne – özne – yüklem

17. Çocuklar evde koşuştururken masadaki vazoyu kırdı.

Bu cümlelerin nesnesi aşağıdakilerden hangisidir?

- A) Çocuklar
B) kırdı
C) masadaki vazoyu
D) koşuştururken

18. 16. yüzyılın sonlarına doğru yazılan ---, roman türünün dünyadaki ilk başarılı örneği kabul edilir.

Bu cümlede boş bırakılan yere aşağıdakilerden hangisi getirilmelidir?

- A) Sefiller
B) Don Kişot
C) Suç ve Ceza
D) Güliver'in Gezileri

19. I. Destanlar, mesneviler ve halk hikâyeleri edebiyatımızda roman türünün oluşumuna zemin hazırlamıştır.
II. İlk yerli romanımız Gülnihal'dir.
III. İlk yerli roman örnekleri dil, anlatım ve teknik bakımından yetersizdir.

"Tanzimat roman" ile ilgili verilen bu cümlelerden hangileri yanlıştır?

- A) Yalnız I. B) Yalnız II.
C) I ve III. D) I, II ve III.

3. OTURUM

20. Servetifünün romanı ile ilgili aşağıdakilerden hangisi doğrudur?

- A) Namık Kemal üretken yazarlarındandır.
- B) Sade ve anlaşılır bir dil kullanılmıştır.
- C) Realizm ve natüralizmin etkisi altında kalınmıştır.
- D) Teknik açıdan yetersiz eserler ortaya konmuştur.

(608) SEÇ. DEM. VE İNSAN HAK. – 2

1. Kişileri devlete ve topluma karşı koruyan hak ve özgürlüklere koruyucu haklar denir.

Buna göre aşağıdakilerden hangisi koruyucu haklar arasında yer alır?

- A) Grev
- B) Çalışma
- C) Vatan hizmeti
- D) Kişi dokunulmazlığı

2. "Anayasada yer alan hak ve hürriyetlerden hiçbiri, Devletin ülkesi ve milletiyle bölünmez bütünlüğünü bozmayı ve insan haklarına dayanan demokratik ve laik Cumhuriyeti ortadan kaldırmayı amaçlayan faaliyetler biçiminde kullanılamaz."

1982 Anayasası'nda yer alan bu ifadeden hareketle aşağıdakilerden hangisine ulaşılabilir?

- A) Hak ve özgürlüklerin sınırlı olduğuna
- B) İnsanların yasalar karşısında eşit olduğuna
- C) Ödevlerin hakla bağlantılı olduğuna
- D) Herkesin yaşama hakkına sahip olduğuna

3. "Çevreyi geliştirmek, çevre sağlığını korumak ve çevre kirlenmesini önlemek devletin ve vatandaşların ödevidir."

Verilen ifade aşağıdaki haklardan hangisiyle ilgilidir?

- A) Dilekçe
- B) Haberleşme
- C) Sağlık
- D) Ailenin korunması

4. Hukuksal bir kurum olarak devletin işlevleri arasında aşağıdakilerden hangisi yer almaz?

- A) Kişiler arasındaki ilişkileri düzenlemek
- B) Bireyleri iç ve dış tehlikelere maruz bırakmak
- C) İnsanlar arasında iş bölümü sağlamak
- D) İnsanların ihtiyaçlarını karşılamak

5. Latince "laicus" kökünden gelen, kelime anlamı bakımından "ruhani olmayan, dine dayanmayan, dünyevi" gibi anlamlar içeren kavram aşağıdakilerden hangisidir?

- A) Laik
- B) Kanaat
- C) Vicdan
- D) İbadet

6. "Çoğulcu demokrasinin olmadığı bir yerde hukuk devletinden de bahsedilemez." ifadesi hukuk devleti olmanın aşağıdaki gerekliliklerinden hangisiyle ilgilidir?

- A) Devlet faaliyetlerinin belirliliği
- B) Kanun önünde eşitlik
- C) İdarenin hukuka bağlılığı
- D) Demokratik rejimin olması

7. Toplum ve devlet faaliyetlerini ilgilendiren belli bir konunun TBMM Genel Kurulunda görüşülmesidir.

Tanımı verilen kavram aşağıdakilerden hangisidir?

- A) Meclis araştırması
- B) Genel görüşme
- C) Seçim
- D) Soru

8. Aşağıdakilerden hangisi demokratik bir siyasal sistemin ilkeleri arasında yer almaz?

- A) İnsan haklarına dayanması
- B) Bireysel özgürlüğü koruması ve geliştirmesi
- C) Soylu bir azınlığın yönetimine dayanması
- D) Devletin, toplumun mutluluğu için çalışması

9. Anayasada bulunan "Hiçbir organ, makam, merci veya kişi, yargı yetkisinin kullanılmasında mahkemelere ve hâkimlere emir ve talimat veremez; genelge gönderemez; tavsiye ve telkinde bulunamaz." ibaresi aşağıdakilerden hangisiyle ilgilidir?

- A) Mahkemelerin bağımsızlığı
- B) İdarenin mali sorumluluğu
- C) Fırsat eşitliği
- D) Sosyal devlet

10. 23 Aralık 1876'da Kanuniesasi'nin ilanı ile başlayan dönem aşağıdakilerden hangisiyle adlandırılmaktadır?

- A) Cumhuriyet
- B) Nizam-ı Cedid
- C) I. Meşrutiyet
- D) II. Meşrutiyet

11. I. Hukukun üstünlüğü
II. Çoğulculuk
III. Seçimler

Yukarıdakilerden hangileri demokrasinin ilkeleri arasında yer alır?

- A) I ve II.
- B) I ve III.
- C) II ve III.
- D) I, II ve III.

12. İnsan Hakları Evrensel Bildirgesi'yle ilgili aşağıdaki bilgilerden hangisi doğru değildir?

- A) Birleşmiş Milletler Örgütü tarafından hazırlanmıştır.
- B) Bölgesel düzeyde bir belgedir.
- C) Kişisel, siyasal, ekonomik, sosyal ve kültürel haklara yer verilmiştir.
- D) İnsan hakları ve temel özgürlüklerle ilgili geniş bir alanı kapsar.

13. Birleşmiş Milletler Örgütü'nün ilk denetim organı aşağıdakilerden hangisidir?

- A) Irk Ayrımcılığının Kaldırılması Komitesi
- B) Ekonomik ve Sosyal Haklar Komitesi
- C) Apartheid'a Karşı Grup
- D) İşkenceye Karşı Komite

14. I. Uluslararası Af Örgütü
II. Türkiye İnsan Hakları Vakfı
III. Türk Demokrasi Vakfı

Yukarıdakilerden hangileri ulusal düzeyde faaliyet gösteren sivil toplum örgütleri arasında yer alır?

- A) I ve II.
- B) I ve III.
- C) II ve III.
- D) I, II ve III.

3. OTURUM

15. Avrupa Güvenlik ve İşbirliği Teşkilatı'na bağlı Çatışma Önleme Merkezi aşağıdaki faaliyetlerden öncelikle hangisini gerçekleştirmek için kurulmuştur?

- A) Hızlı nüfus artışını önlemek
- B) Ülkeler arası çatışmaların önlenmesini sağlamak
- C) İşbirliği amaçlı toplantılar düzenlemek
- D) Konseyin çalışmalarına yardımcı olmak

16. Aşağıdakilerden hangisi insan haklarının korunmasını güçleştiren sorunlardan değildir?

- A) Dünyada artarak devam eden terör olayları
- B) Toplumsal değişimin hızlı olması
- C) Dünyanın çeşitli bölgelerinde devam eden savaşlar
- D) Bütün dünya ülkelerinin gelişmiş düzeyde olması

17. Kant'ın "Aydınlanma, insanın kendi aklını kullanmaya başlamasıdır." ifadesinden hareketle aydınlanma dönemiyle ilgili aşağıdaki bilgilerden hangisine ulaşılabilir?

- A) İnsan aklı rehber olarak ön plana çıkmıştır.
- B) İnsanlar olayları gerçeküstü olgularla açıklamaya çalışmıştır.
- C) Her olaya büyü ve tılsımlıymış gibi yaklaşmıştır.
- D) Halkın geçerliliğini yitirmiş toplumsal kurullarla yönetilmesi sürmüştür.

18. Atatürk "Türk'ün hassasiyeti, izzeti nefsi ve kabiliyeti çok yüksek ve büyüktür. Böyle bir millet esir yaşamaktansa mahvolsun evladır. Binaenaleyh ya istiklal ya ölüm." sözüyle aşağıdakilerden hangisinin önemini vurgulamıştır?

- A) Halk egemenliğinin
- B) Özgürlüğün
- C) Çağdaşlaşmanın
- D) Bilimselliğin

19. • "Yurtta her nevi üretimin çoğalması için kişisel teşebbüs devlet açısından çok gereklidir."
• "Beyan etmeliyiz ki devlet ve fert birbirine karşı değil, birbirinin tamamlayıcısıdır."

Atatürk'ün bu ifadeleri aşağıdaki ilkelerinden hangisiyle ilgilidir?

- A) İnkılapçılık
- B) Laiklik
- C) Cumhuriyetçilik
- D) Devletçilik

20. Aşağıdakilerden hangisi Atatürk'ün demokrasi ve insan haklarıyla ilgili görüşleri arasında yer almaz?

- A) Düşünce ve vicdan hürriyetine önem verme
- B) Baskıcı yönetim anlayışını benimseme
- C) Egemenliğin halka ait olması gerektiğine inanma
- D) Başkalarına zarar veren düşünce ve davranışların sınırlandırılması savunma

(615) SEÇ. DİL VE ANLA. – 5

1. Etrafı izleyicilerle çevrili bir alanda oynanan, yazılı bir metne dayanmayan, içinde müzik, dans ve şarkı da bulunan doğaçlama bir oyundur.

Bu cümlede sözü edilen oyun türü aşağıdakilerden hangisidir?

- A) Karagöz
- B) Orta oyunu
- C) Drama
- D) Komedî

2. Aşağıdakilerin hangisinde öğretici metinler bir arada verilmiştir?

- A) Felsefi metinler – tarihî metinler – bilimsel metinler
- B) Destan – gazete çevresinde gelişen metinler – hikâye
- C) Mesnevi – tarihî metinler – roman
- D) Masal – bilimsel metinler – şiir

3. Attıla İlhan'ın "Ben Sana Mecburum" adlı şiirinin metin türü aşağıdakilerden hangisidir?

- A) Anlatmaya dayalı
- B) Göstermeye bağlı
- C) Coşku ve heyecanı dile getiren
- D) Öğretici

4. Akdeniz'in kahramanlık yuvası sınırsız ufuklarına bakan küçük tepe, mini mini bir çiçek ormanı gibiydi. İnce uzun dallı badem ağaçlarının alaca gölgeleri sahile inen keçi yoluna düşüyor. İlkbaharın tatlı rüzgârları sarhoş olan martılar, çılgın bağrıışlarıyla havayı cınlatıyordu. Badem bahçesinin yanı geniş bir bağdı. Beyaz taşlardan yapılmış kısa bir duvarın ötesindeki harabe, vadiye kadar iniyordu.

"Forsa" adlı hikâyeden alınan bu parçada ağır basan anlatım türü aşağıdakilerden hangisidir?

- A) Öğretici
- B) Kanıtlayıcı
- C) Açıklayıcı
- D) Betimleyici

5. Aşağıdaki mektuplardan hangisi özel mektuplar içinde yer almaz?

- A) Davet
- B) Taziye
- C) Dilekçe
- D) Teşekkür

6. Günlük aşağıdaki metin türlerinden en çok hangisiyle benzerlik gösterir?

- A) Biyografi
- B) Anı
- C) Deneme
- D) Fıkra

7. 1892 yılında doğan Ruşen Eşref, beş altı yaşlarında annesini kaybetti. Babasının Almanya'ya gitmesi üzerine yalnız kalan çocuğun yetiştirilmesini amcası Tevfik Paşa üzerine aldı. Ruşen Eşref 1900 yılında girdiği Galatasaray Sultanisini 1911'de Türkçe ve Fransızca bölümlerinden diploma alarak bitirdi. 1914 yılında da edebiyat fakültesinden mezun oldu. Aynı yıl öğretmen olarak çalışma hayatına başlayan Ruşen Eşref 1920 yılına kadar bazı okullarda Türkçe ve Fransızca öğretmenliği yaptı.

Bu metnin türü aşağıdakilerden hangisidir?

- A) Biyografi
- B) Makale
- C) Anı
- D) Otobiyografi

8. Aşağıdakilerden hangisi otobiyografi ile biyografinin ortak özelliklerinden değildir?

- A) Kişisel hayatı konu alan metin olmaları
- B) Üçüncü tekil kişili anlatım kullanılması
- C) Yazılanların belge ve kaynaklara dayandırılması
- D) Açık ve sade bir dille yazılmaları

3. OTURUM

9. İlk biyografi yazarı XV. yüzyılda - - - - 'dir. XX. yüzyılda - - - - ise modern anlamda biyografi türünün ilk örneklerini vermiştir.

Bu metinde boş bırakılan yerlere sırasıyla aşağıdakilerden hangisi getirilmelidir?

- A) Ömer Seyfettin – Necip Fazıl Kısakürek
B) Namık Kemal – Ahmet Kabaklı
C) Halit Ziya Uşaklıgil – Falih Rıfkı Atay
D) Ali Şir Nevai – Fuad Köprülü

10. I. Anı – olayları günü gününe yazma
II. Günlük – özel ifadelerle yer verme
III. Biyografi – 3. kişili anlatım
IV. Otobiyografi – 1. kişili anlatım

Yukarıda verilen tür - özellik eşleştirmelerinden hangisi yanlıştır?

- A) I. B) II. C) III. D) VI.

11. Çağlar boyunca temel besin maddesi olarak tüketilen ekmeğe, özellikle son yıllarda daha beyaz ekmeğe elde etmek için uygulanan yöntemlerle besleyici özelliğini önemli ölçüde yitirmiştir. Buğday beyaz una dönüşürken besin değerinin büyük bölümünü kaybetmektedir. Bu unun kullanılmasıyla üretilen ekmeğe, özellikle bizim gibi ekmeğin çok tüketildiği ülkelerde "yetersiz beslenme" sorununa yol açmıştır.

Bu metin aşağıdaki türlerin hangisinden alınmıştır?

- A) Deneme B) Makale
C) Sohbet D) Anı

12. İstanbul'un zengin tarihine tanık olmak üzere Ayasofya ve çevresinde dolaştım. Amerika ve Avrupa'dan gemilerle gelen turist orduları da aynı amaçla orada bulunuyordu. Etrafımda dolanan rehberleri başımdan savıp Süleymaniye'nin çevresini ve o mücevher gibi mimarının içini saatlerce inceledim. Özellikle Topkapı Sarayı Müzesinde sergilenen koleksiyondan çok etkilendim.

Bu metin aşağıdaki türlerin hangisinden alınmıştır?

- A) Fıkra B) Eleştiri
C) Gezi yazısı D) Makale

13. Bir yazarın gazetelerde, güncel olan herhangi bir konu üzerinde kişisel görüş ve düşüncelerini akıcı bir dille, belgelendirme gereği duymadan yazdığı ciddi veya nükteli yazılara - - - - denir.

Bu cümlede boş bırakılan yere aşağıdakilerden hangisi getirilmelidir?

- A) makale B) fıkra
C) anı D) deneme

14. Henüz ellisine varmadığı hâlde insanlarla hemhâl olmanın açtığı saçlarıyla, insana âdeta okşar gibi bakan mavi boncuk gözleriyle bu İngiliz yazarı bana evvela Merih'ten geliyormuş hissini verdi. Galiba, arada bir insana insanca hitap etmenin lezzetini, ona hem kendi hem de dış dünyanın sırlarını keşfettirmenin güzelliğini unutmuş olacağım ki A. Wilson'u bir adadan değil bir masal diyarından kalkıp gelmiş sandım.

Bu metin aşağıdaki türlerin hangisinden alınmıştır?

- A) Eleştiri B) Günlük
C) Makale D) Deneme

15. Aşağıdaki yazarlardan hangisi Türk Edebiyatında deneme türünün ilk örneklerini verenlerden değildir?

- A) Cenap Şehabettin
B) Ahmet Rasim
C) Necip Fazıl Kısakürek
D) Ahmet Haşim

16. Yazdıklarına dalmanın anlamı var mıydı () Masasına oturuyordu. Sokağın ritmini dinliyor () pencereye sığın manzarayı seyrediyordu ()

Yukarıda yay ayraçlarla gösterilen yerlere sırasıyla aşağıdaki noktalama işaretlerinden hangileri getirilmelidir?

- A) (?) (,) (.) B) (?) (;) (.)
C) (?) (,) (?) D) (.) (;) (.)

17. Aşağıdaki cümlelerin hangisinde bağlaç olan "ki"nin yazımında yanlışlık yapılmıştır?

- A) Söylediklerime itiraz eden olmadı ki.
B) Öyle sanıyorumki, bu şiiri en iyi sen yorumlarsın.
C) Araştırmacılar dikkatli olmalıdır ki keşifler yapılabilir.
D) Kabul etmeliyim ki bu düşüncemiz çok güzel.

18. Bir yarın göçtüğünü, çöktüğünü bir dağın Görmemek istiyorsan ardına bakmadan git!

Bu dizelerdeki altı çizili sözcükte görülen ses olayı aşağıdakilerden hangisidir?

- A) Ses daralması
B) Ses türemesi
C) Ses benzeşmesi
D) Ses yumuşaması

19. Aşağıdaki dizelerin hangisinde zıt anlamlı kelimeler bir arada kullanılmıştır?

- A) Çiçekler dağılmış renkler solmadan,
Kuşlar sükût etmiş hazan olmadan
B) Sular gene o sular, kıyı gene o kıyı,
Gene çamlar dinliyor uzaktan bir şarkıyı
C) Birlikte mısralar düşürüyoruz ama iyi ama kötü
Bir mısra daha söylesek her şey düzelecek
D) Akşam bir duman gibi geçince aynalardan
Bir gönül yanığıdır günlerimi karratan

20. Aşağıdakilerden hangisi eleştiri yazarının özelliklerinden değildir?

- A) Geniş bilgi ve kültür birikimine sahip olmalıdır.
B) Eleştirdiği eseri bir bütün olarak ele almalıdır.
C) Eserin sadece değersiz yönlerini göstermelidir.
D) Eleştirilerinde yıkıcı değil yapıcı olmalıdır.

(616) SEÇ. DİL VE ANLA. – 6

1. • Bir konu, eşya veya yerle ilgili olabilir.
• Gazete ve dergi incelemeleridir.
• Yazar kendi görüşlerini de yazısında belirtir.

Özellikleri verilen sözlü anlatım türü aşağıdakilerden hangisidir?

- A) Mülakat B) Röportaj
C) Günlük D) Nutuk

3. OTURUM

2. Aşağıdakilerin hangisinde ses düşmesi yoktur?

- A) Kitabının arasına ayraç koyarsan kaldığın yeri unutmazsın.
- B) Hava soğuyunca kalın şeyler giyinmiş.
- C) Uzun süre çalıştığından zihni çok yorgundu.
- D) O kadar acıktım ki karnım zil çalıyor.

3. Aşağıdaki eserlerden hangisinin türü röportaj değildir?

- A) Edebiyatçılarımız Ne Diyorlar?
- B) Ustalarla Konuşmalar
- C) Ben Sana Mecburum
- D) Edebiyatçılarımız Konuşuyor

4. Beş yaşındayken babası () renkli resimleri yırtarak muzip bir öneriyle ona ve küçük kız kardeşine bir kitap uzattı () Bu tuhaf bir eğitim biçimiydi () etkili de oldu.

Bu parçada yay ayrıla gösterilen yerlere sırasıyla aşağıdaki noktalama işaretlerinden hangileri getirilmelidir?

- A) (,) (.) (,)
- B) (;) (...) (,)
- C) (;) (.) (;)
- D) (,) (...) (,)

5. Röportajlar;

- gezi yazısı ve makale ile benzerlik gösterir.
- makaleden daha kısa yazılır.
- birtakım gerçeklerin ortaya çıkmasına katkı sağlar.

Bu cümleler doğru-yanlış olarak değerlendirildiğinde sıralama aşağıdakilerden hangisi olur?

- A) D – D – Y B) Y – D – Y
- C) Y – Y – D D) D – Y – D

6. Aşağıdakilerden hangisi edebiyatımızda röportajlarıyla ün kazanan yazarlardan değildir?

- A) Tevfik Fikret
- B) Yaşar Nabi Nayır
- C) Hikmet Feridun Es
- D) Necmi Onur

- 7. • Ünlü kişilerin çeşitli yönlerini tanıtmak için yapılabilir.
- Dil, şiirsel (sanatsal) işlevde kullanılır.
- Konuşma çeşitli fotoğraflarla desteklenebilir.

“Mülakat” ile ilgili verilen bu cümleler doğru-yanlış olarak değerlendirildiğinde sıralama aşağıdakilerden hangisi olur?

- A) D – D – Y B) D – Y – Y
- C) Y – Y – D D) Y – D – D

8. Aşağıdakilerden hangisi tanınmış mülakat yazarlarından değildir?

- A) Ruşen Eşref Ünaydın
- B) Orhan Veli Kanık
- C) Sermet Sami Uysal
- D) Mustafa Baysal

9. Aşağıdakilerden hangisi mülakatın röportajdan farkı olamaz?

- A) Sadece soru-cevap ile oluşturulur.
- B) Röportajlara göre daha dar kapsamlıdır.
- C) Konuşulanların dışına çıkılmaz.
- D) Merak edilen bir konuyu aydınlatır.

10. — Şiirlerinizden hangilerini daha çok seversiniz?

— Talihsizlerini daha çok severim. Talihli şiirlerimi zaten koruyanlar bulunuyor: Han Duvarları, Firâri, Çoban Çeşmesi, Kıskaç, At, Çankaya, Sen Neredesin?...

— Ya talihsizleri?
— En az bunlar kadar emek verdiğim hâlde boyunları bükülmüş, akıbetlerini bekleyen sahipsizler... Takdirini size bırakıyorum.

Örneği verilen sözlü anlatım türü aşağıdakilerden hangisidir?

- A) Mülakat B) Deneme
- C) Nutuk D) Günlük

11. Bir topluluğun önünde belli bir fikri, bir duyguyu aşlamak için yapılan etkili ve inandırıcı konuşmalara - - - - denir.

Bu cümlede boş bırakılan yere aşağıdakilerden hangisi getirilmelidir?

- A) mülakat B) röportaj
- C) görüşme D) nutuk

12. Aşağıdakilerden hangisi bir söylevde bulunması gereken özelliklerden değildir?

- A) Kısa, yalın ve içten cümleler kurmalıdır.
- B) Konunun bütün yönlerini iyi bilmelidir.
- C) Dikkat çekmek için jest ve mimiklerinde abartıya kaçmalıdır.
- D) Vurgu ve tonlamayı yerinde ve zamanında kullanmalıdır.

13. Söylevde dilin hangi işlevi karşımıza en az çıkar?

- A) Dil ötesi
- B) Kanalı kontrol
- C) Heyecana bağlı
- D) Alıcıyı harekete geçirme

- 14. • Parlamento
- İbadethane
- Mahkeme

Bu yerler aşağıdaki söylev türleriyle eşleştirildiğinde hangisi dışta kalır?

- A) Siyasi B) İktisadi
- C) Hukuksal D) Dinsel

15. Cumhuriyet Dönemi'nin en etkili konuşmacısı - - - - kabul edilir. Nutuk'ta bir tarih belgesi örneği vererek Türk ulusu ile birlikte Kurtuluş Savaşı'nda göstermiş olduğu kahramanlıkları ve Cumhuriyet'in ilan serüvenini ayrıntılarıyla anlatır ve yorumlar.

Bu cümlede boş bırakılan yere aşağıdakilerden hangisi getirilmelidir?

- A) Mustafa Kemal Atatürk
- B) Hamdullah Suphi Tanrıöver
- C) Osman Yüksel Serdengeçti
- D) Behçet Kemal Çağlar

16. • Söylev türünün ilk örnekleri Eski Yunan ve Roma Dönemlerinde görülür.

- Yunan, Latin ve Fransız edebiyatlarından tanınmış söylevciler çıkmıştır.
- Cicero, Türk edebiyatının ilk akla gelen söylevcisidir.

Bu cümleler doğru-yanlış olarak değerlendirildiğinde sıralama aşağıdakilerden hangisi olur?

- A) D – D – Y B) D – Y – D
- C) Y – D – Y D) Y – Y – D

3. OTURUM

(626) SEÇ. TÜRK ED. – 6

17. Dokuz Oğuz Beyleri, Milleti! Bu sözümü iyice işit, adamakıllı dinle: Doğuda gün doğusuna, güneyde gün ortasına, batıda gün batısına, kuzeyde gece ortasına kadar onun içindeki millet hep bana tabidir. Bunca milleti hep düzene soktum. O şimdi kötü değildir. Türk Kağanı, Ötüken Ormanı'nda otursa ilde sıkıntı yoktur.

Orhun Abideleri'nden alınan bu metin aşağıdakilerden hangisine örnektir?

- A) Röportaj B) Mülakat
C) Fıkra D) Hitabet

18. Röportaj için aşağıdakilerden hangisi söylenemez?

- A) Halkı aydınlatmak amaçlanır.
B) Araştırma, inceleme ve soruşturmaya dayanır.
C) Yapan kişi kendi görüş ve düşüncelerini yansıtmamaya özen gösterir.
D) Dikkat çekici bir şekilde düzenlenir.

19. Aşağıdakilerin hangisinde virgülün (,) kullanımıyla ilgili hata vardır?

- A) Kapısına kadar gidip zili çalar, beklemeye başlar.
B) Marketten incir, muz, çilek ve kiraz alıp eve dönmüş.
C) 30,05,2001 tarihinde Anadolu'nun bir köyünde doğar.
D) Poşetekileri tartınca 1,75 kilogram geldi.

20. Aşağıdaki cümlelerde altı çizili sözcüklerden hangisinin eş seslisi (sesteşi) yoktur?

- A) Evimizin yan tarafında bir bağ var.
B) Kalenin burçları çok uzaktan seçilebiliyordu.
C) Çayın demlenmesini beklerken koyu bir sohbete daldılar.
D) Uçağa yetişmek için acele etmeliyiz.

1. Aşağıdakilerden hangisi Servetifünun Dönemi'nde şiir türünün belli başlı sanatçılarından değildir?

- A) Tefik Fikret
B) Namık Kemal
C) Cenap Şehabettin
D) Süleyman Nazif

2. Servetifünun sanatçılarının benimsediği edebiyat anlayışına bağlı kalmakla birlikte şiirde yapılan yeniliklerin belirli bir ölçüsü bulunması gerektiğini savunmuştur. Dilin olduğundan daha ağır ve fazlasıyla sanatlı kullanılmasını da eleştirmiştir. Servetifünun Dönemi içerisinde şair olarak bilinen sanatçının eleştiri yazıları da bu dönemde önemli bir yer tutar. "Şiirimiz" adıyla Servet-i Fünun dergisinde yayımladığı makalesinde topluluğun anlayışını ve eleştirilerini dile getirmiştir.

Bu parçada sözü edilen sanatçı aşağıdakilerden hangisidir?

- A) Ali Ekrem Bolayır
B) Rezaizade Mahmut Ekrem
C) Ömer Seyfettin
D) Reşat Nuri Güntekin

3. Mehmet Rauf'un aşağıdaki eserlerinden hangisi Türk edebiyatındaki ilklerden biridir?

- A) Son Emel B) Sansar
C) Eylül D) Siyah İnciler

4. Aşağıdakilerden hangisi realizm akımının etkisiyle yazılmış eserlerden biridir?

- A) İntibah B) Şair Evlenmesi
C) Makber D) Aşk-ı Memnu

5. Servetifünun edebiyatında diğerlerine göre en az gelişme gösteren tür aşağıdakilerden hangisidir?

- A) Tiyatro B) Roman
C) Hikâye D) Şiir

6. Aşağıdakilerden hangisi Fecriati topluluğu sanatçılarından değildir?

- A) Ahmet Haşım
B) Tahsin Nahit
C) Tefik Fikret
D) Celal Sahir

7. İstersen, kapansın gökler üstüne; İstersen, bir tekne parçalanmasın. Haykırısın kıydan bir hasta nine. Yalnız gözlerini böyle yummasın.

Bu dörtlük şekil ve içerik bakımından incelendiğinde aşağıdaki dönemlerin hangisinde yazıldığı söylenebilir?

- A) Divan Edebiyatı
B) Millî Edebiyat
C) Servetifünun Edebiyatı
D) Fecriati Edebiyatı

8. Servetifünun edebiyatında şiir türü aşağıdaki akımların hangisinden etkilenmiştir?

- A) Sembolizm B) Realizm
C) Romantizm D) Natüralizm

9. Aşağıdakilerden hangisi Fecriati topluluğunun amaçlarından değildir?

- A) Edebiyatın ve diğer bilimlerin ilerlemesine katkı sağlamak
B) Genç yetenekleri, sanatçıları bir araya getirmek
C) Edebiyatımıza Doğulu bir kimlik kazandırmak
D) Halkı edebiyat ve sanat konularında bilgilendirmek

10. Aşağıdakilerden hangisi Millî Edebiyat Dönemi'nin temsilcilerinden biridir?

- A) Namık Kemal
B) Ziya Paşa
C) İbrahim Şinasi
D) Ömer Seyfettin

11. Yeni sözler gerekse Bunda da uy herkese Halkın söz yaratmada Yollarını benimse

Bu dörtlükle ilgili aşağıdakilerden hangisi söylenemez?

- A) Millî edebiyat geleneğinin etkisinde kalınmıştır.
B) Kapalı bir anlatıma yer verilmiştir.
C) Konuşma dilinden yararlanılması savunulmuştur.
D) Hece ölçüsüyle yazılmıştır.

3. OTURUM

12. Klasik şiirimizi Batı şiiri anlayışı içinde ele almıştır. Yeni Mecmua'da yayımladığı gazel, şarkı ve rubai tarzında yazdığı şiirlerle tanınmıştır. Şiirlerinde yalın bir dil ve aruz ölçüsü kullanmıştır. Şiirlerinde İstanbul sevgisi, vatan, deniz vb. temaları işlemiştir. Eserlerinden bazıları şunlardır: Aziz İstanbul, Kendi Gök Kubbemiz, Eğil Dağlar...

Bu metinde sözü edilen sanatçı aşağıdakilerden hangisidir?

- A) Yahya Kemal Beyatlı
B) Halit Ziya Uşaklıgil
C) Necip Fazıl Kısakürek
D) Yakup Kadri Karaosmanoğlu

13. Zannetme ki güldür, ne de lâle;
Âteş doludur, tutma yanarsın,
Karşında şu gül-gün piyale...

İçmişti Fuzûlî bu alevden,
Düşmüştü bu iksir ile Mecnûn
Şi'rin sana anlattığı hâle

Bu dizelerle ilgili aşağıdakilerden hangisi söylenemez?

- A) Süslü ve sanatlı bir anlatım kullanılmıştır.
B) Renk öğelerinden yararlanılmıştır.
C) Kapalı bir anlatım tercih edilmiştir.
D) Garip akımının etkisinde kalınmıştır.

14. Aşağıdaki şairlerden hangisi şiirlerinde toplumsal konulara yer vermiştir?

- A) Cenap Şehabettin
B) Ahmet Haşim
C) Tevfik Fikret
D) Abdülhak Hamit Tarhan

15. Bu şiir anlayışının Türk edebiyatındaki önemli temsilcileri Ahmet Haşim ve Yahya Kemal Beyatlı'dır. Asıl amaç, şiirde söze önem vermektir. Şiirde sözcüklerin belli bir ahenk içinde düzenlenmesi gerekir. Önce ritim sonra da dilin ahenginin sezdirilmesi amaçlanır. Anlam kapalı olduğu için okuyucudan okuyucuya farklılık gösterir. Sosyal temalardan çok bireysel duyarlılık tercih edilmiştir.

Bu metinde sözü edilen şiir anlayışı aşağıdakilerden hangisidir?

- A) Divan şiiri
B) Öz (saf) şiir
C) Halk şiiri
D) Fecriati şiiri

16. Yarının ilmi nedir hâlbuki? Gayret müdhiş:
Maddenin kudret-i zerriyesi, uğraştığı iş,
O yaman kudrete hâkim olabilsem diyerek,
Sarfedip durmada birçok kafa, binlerce emek,
Ona yükseldi mi artık değişir rûy-i zemin:
Çünkü bir damla kömürden edecektir temin,
Öyle milyonla değil nâmütenahî kudret,
İbret al kendi özünden aman oğlum, gayret!

Bu dizelerle ilgili aşağıdakilerden hangisi söylenebilir?

- A) Halk şiiri geleneğine uygun yazılmıştır.
B) Bilimin önemi işlenmiştir.
C) Sade ve yalın bir anlatım kullanılmıştır.
D) Kafiye düzeni "aabbccdd" şeklindedir.

17. Aşağıdaki sanatçı – eser eşleştirmelerinden hangisi yanlıştır?

- A) Tevfik Fikret – Kiralık Konak
B) Halit Ziya Uşaklıgil – Mai ve Siyah
C) Cenap Şehabettin – Elhan-ı Şita
D) Mehmet Âkif Ersoy – Safahat

18. Aşağıdakilerin hangisi Fecriati topluluğu sanatçıları için söylenemez?

- A) "Sanat toplum içindir." ilkesini benimsemişlerdir.
B) Edebiyatı araç değil amaç olarak görmüşlerdir.
C) Eserlerinde ağır bir dil kullanmışlardır.
D) Şiirde güzellik kavramını ön plana çıkarmışlardır.

19. Aşağıdakilerin hangisi Halide Edip Adıvar'ın farklı bir türde eseridir?

- A) Sinekli Bakkal
B) Ateşten Gömlek
C) Dağa Çıkan Kurt
D) Vurun Kahpeye

20. Aşağıdaki dergilerden hangisi Millî Edebiyat Dönemi'nin başlamasında etkisi olmamıştır?

- A) Genç Kalemler
B) Türk Yurdu
C) Yeni Mecmua
D) Servet-i Fünun

(975) SEÇ. GİRİŞİMCİLİK – 2

1. Aşağıda verilen etmenlerden hangisi bir işletmenin dış çevresinde yer alır?

- A) İş gücü
B) Personel
C) Üretim
D) Finans

2. Çelik üretiminde kullanılan pik demir, hangi tür üretim mallarındandır?

- A) Hammaddeler
B) Yatırım donatım malları
C) Üretim gereçleri ve malları
D) Yardımcı araçlar

3. Çevre ile ilgili kalite belgesi aşağıdakilerden hangisidir?

- A) ISO 8000
B) ISO 9000
C) ISO 14000
D) ISO 22000

4. Bir şirketin diğer işletmelere ait hisse senetlerine sahip olması yolu ile onları finansal ve yönetim olarak kontrolüne alma biçimine ne ad verilir?

- A) Tröst
B) Holding
C) Kartel
D) Konsorsiyum

5. "Hizmet işletmesi reklamı" hangi reklam çeşidi kapsamında değerlendirilmelidir?

- A) Reklam içeriği açısından
B) Hedef kitle açısından
C) Amaçlar açısından
D) Yapanlar açısından

6. Aşağıdakilerden hangisi günümüzde müteşebbisliğin çok önemli bir konuma sahip olmasının nedenlerinden biri olarak gösterilemez?

- A) İthalatın artmasını sağlar.
B) Kamu hizmetlerinin kalitesini artırır.
C) Vergi gelirlerinin artmasını sağlar.
D) Alt yapı hizmetlerinin giderilmesini sağlar.

3. OTURUM

7. Aşağıdakilerden hangisi bir işletmenin kuruluş yeri etmenlerinden birisi olarak düşünülemez?

- A) Sermaye faizi
- B) Askeri tehlike
- C) Personel giderleri
- D) Sosyal kültürel şartlar

8. Maslow'un ihtiyaçlar hiyerarşisine göre, bir insanın saygı ihtiyaçlarından sonra ortaya çıkacak ihtiyaçları aşağıdakilerden hangisidir?

- A) Fizyolojik
- B) Başarma
- C) Güvenlik
- D) Sevgi ve ait olma

9. Giyim mağazaları hangi tür işletmelere örnektir?

- A) Finans İşletmeleri
- B) Kiralama İşletmeleri
- C) Ticaret İşletmeleri
- D) Sanayi İşletmeleri

10. Bir kişinin araba satın alması aşağıdakilerden hangisine örnek teşkil eder?

- A) Arz
- B) Talep
- C) İstek
- D) Piyasa

11. Aşağıdakilerden hangisi franchising türü değildir?

- A) Ürün ve marka franchisingi
- B) Uluslararası franchising
- C) Ulusal franchising
- D) Patent franchisingi

12. Aşağıdakilerden hangisi fizibilite etüdünün yapılış amaçlarından biridir?

- A) Araştırma giderlerini artırmak
- B) İşletmenin hangi büyüklükte ve nerede kurulacağını belirlemek
- C) Prototip üretimi yapacak tesisi kurmak
- D) Müşterilerden gelen şikayetleri dinlemek

13. Mal ya da hizmetleri bireysel gereksinimleri için alanlara "son tüketici" denir.

Bu tanıma göre, aşağıdakilerden hangisi son tüketicidir?

- A) Normal insanlar
- B) Fabrikatörler
- C) Girişimciler
- D) Robotlar

14. Aşağıdakilerden hangisi kamu işletmesi değildir?

- A) Özel bütçeli işletmeler
- B) Kooperatifler
- C) Kamu İktisadi Teşekkülleri
- D) Özerk Bütçeli Devlet İşletmeleri

15. Aşağıdakilerden hangisi, iyi bir iş planının girişimciye sağlayacağı yararlarından biri değildir?

- A) Yatırım kararı almış girişimciye rehberlik eder.
- B) İşletmenin pazara yakınlığını sağlar.
- C) Girişimcilerin ve çalışanların dikkatini amaca yöneltir.
- D) İşletmenin pozisyonunu gösterir.

16. Aşağıdakilerden hangisi, hukuki şekilleri bakımından işletmeler grubunda yer almaz?

- A) Ticaret İşletmeleri
- B) Özel İşletmeler
- C) Kamu İşletmeleri
- D) Yabancı Sermayeli İşletmeler

17. Aşağıdaki bankalardan hangisi, ülkemizdeki KOBİ'lere (küçük ve orta büyüklükteki işletmeler) en büyük kredi desteği veren kuruluşur?

- A) Sümerbank
- B) Ziraat Bankası
- C) Türk Eximbank
- D) Türkiye Halk Bankası

18. Özel bir girişimcinin yapacağı yatırıma temel oluşturacak ön projelerin değerlendirilmesinde ana ölçüt, aşağıdakilerden hangisidir?

- A) İstihdam
- B) Üretimin temel süreçleri
- C) Projenin yöre için önemi
- D) Girişimin sağlayacağı kâr

19. Türk Ticaret Kanunu'na göre; bir ticari işletmeyi kısmen de olsa kendi adına işleten kişiye ne ad verilir?

- A) İşletmeci
- B) Müdür
- C) Tacir
- D) İşçi

20. İnternet girişimciliğinde paranın yerini, aşağıdakilerden hangisi almıştır?

- A) Hazine bonoları
- B) Kredi kartları
- C) Senet
- D) Çek

TEST BİTTİ.

CEVAPLARINIZI KONTROL EDİNİZ.

CEVAP KÂĞIDI VE SORU KİTAPÇIĞI İLE İLGİLİ AÇIKLAMALAR

1. Cevap kâğıdınızdaki bilgilerin doğruluğunu kontrol ediniz ve cevap kâğıdınızı mürekkepli kalemle imzalayınız.
2. Cevap kâğıdı üzerinde kodlamalarınızı siyah kurşun kalemle yapınız.
3. Değiştirmek istediğiniz bir cevabı, yumuşak silgiyle cevap kâğıdını örselemeden temizce siliniz ve yeni cevabınızı kodlayınız.
4. Soru kitapçığının sayfalarını görevlilerin uyarıları doğrultusunda kontrol ediniz, baskı hatası var ise değiştirilmesini sağlayınız.
5. Soruların çözümü için size ayrıca boş kâğıt verilmeyecektir. Soru kitapçığının içindeki boş alanları soru çözümleri için kullanabilirsiniz.
6. Her sorunun dört seçeneğinden sadece biri doğrudur. Doğru seçeneği, cevap kâğıdınızın ilgili sütununa soru numarasını dikkate alarak yuvarlağın dışına taşırmadan kodlayınız. Soru kitapçığı üzerinde yapılan cevaplandırmalar dikkate alınmayacaktır.
7. Cevaplamaya istediğiniz dersin sorusundan başlayabilirsiniz. Cevabını bilmediğiniz sorular üzerinde fazla zaman kaybetmeden diğer sorulara geçiniz. Zamanınız kalırsa bu sorulara daha sonra dönebilirsiniz.
8. Yanlış cevaplarınız dikkate alınmadan sadece doğru cevaplarınız üzerinden puanlama yapılacaktır.
9. Soruları ve sorulara verdiğiniz cevapları, yanınızda götürmek amacıyla kaydetmeyiniz; hiçbir şekilde dışarı çıkarmayınız.
10. Sınav bitiminde soru kitapçığı ve cevap kâğıdını salon görevlilerine teslim ediniz.

SALON GÖREVLİLERİNCE SINAV BAŞLAMADAN ÖNCE ADAYLARA YAPILACAK SON UYARILAR

- Soracağınız bir şey varsa şimdi sorunuz, sınav başladıktan sonra sorularınıza cevap verilmeyecektir.
- Başlama zilini bekleyiniz.

Hepinize başarılar dileriz.

(Salon başkanı başlama ve bitiş saatini tahtaya yazacaktır.)

Bu kitapçığın her hakkı saklıdır. Hangi amaçla olursa olsun, kitapçığın tamamının veya bir kısmının Millî Eğitim Bakanlığı Ölçme, Değerlendirme ve Sınav Hizmetleri Genel Müdürlüğünün yazılı izni olmadan kopya edilmesi, fotoğraflarının çekilmesi, bilgisayar ortamına alınması, herhangi bir yolla çoğaltılması, yayımlanması veya başka bir amaçla kullanılması yasaktır. Bu yasağa uymayanlar, doğabilecek cezai sorumluluğu ve kitapçığın hazırlanmasındaki mali külfeti peşinen kabullenmiş sayılır.

1 NİSAN 2018 TARİHİNDE YAPILAN AÇIKÖĞRETİM LİSESİ / MESLEKİ AÇIKÖĞRETİM LİSESİ
2017-2018 ÖĞRETİM YILI 2. DÖNEM SINAVI 3. OTURUM T KİTAPÇIĞI CEVAP ANAHTARI

(113) DİN KÜL. AHL. BİL. – 3

1. D
2. A
3. B
4. C
5. D
6. A
7. C
8. B
9. D
10. C
11. B
12. A
13. B
14. A
15. D
16. C
17. A
18. D
19. B
20. C

(116) DİN KÜL. AHL. BİL. – 6

1. A
2. B
3. D
4. C
5. D
6. B
7. C
8. A
9. D
10. A
11. C
12. B
13. A
14. D
15. C
16. B
17. A
18. C
19. D
20. B

(124) SEÇMELİ FELSEFE – 2

1. D
2. A
3. D
4. D
5. C
6. B
7. D
8. C
9. A
10. C
11. B
12. D
13. A
14. C
15. B
16. A
17. D
18. C
19. A
20. B

(134) TARİH – 4

1. D
2. A
3. C
4. B
5. A
6. D
7. B
8. C
9. C
10. A
11. B
12. C
13. B
14. A
15. C
16. D
17. D
18. D
19. C
20. A

(114) DİN KÜL. AHL. BİL. – 4

1. C
2. D
3. A
4. B
5. C
6. A
7. C
8. B
9. C
10. D
11. A
12. B
13. C
14. D
15. B
16. A
17. D
18. C
19. D
20. B

(122) FELSEFE – 2

1. C
2. B
3. D
4. A
5. D
6. C
7. A
8. B
9. D
10. A
11. C
12. A
13. C
14. D
15. B
16. A
17. D
18. C
19. B
20. C

(133) TARİH – 3

1. D
2. A
3. B
4. C
5. A
6. B
7. B
8. C
9. D
10. C
11. B
12. D
13. A
14. A
15. C
16. B
17. D
18. D
19. A
20. C

(142) T.C. İNK. TAR. ATA. – 2

1. B
2. A
3. C
4. D
5. B
6. A
7. B
8. D
9. C
10. A
11. C
12. B
13. D
14. A
15. C
16. D
17. C
18. D
19. A
20. B

1 NİSAN 2018 TARİHİNDE YAPILAN AÇIKÖĞRETİM LİSESİ / MESLEKİ AÇIKÖĞRETİM LİSESİ
2017-2018 ÖĞRETİM YILI 2. DÖNEM SINAVI 3. OTURUM T KİTAPÇIĞI CEVAP ANAHTARI

(153) COĞRAFYA – 3

1. B
2. A
3. C
4. D
5. C
6. B
7. A
8. D
9. B
10. A
11. D
12. A
13. C
14. A
15. B
16. C
17. C
18. D
19. B
20. D

(158) SEÇ. COĞRAFYA – 4

1. B
2. A
3. B
4. C
5. A
6. C
7. D
8. D
9. B
10. C
11. A
12. D
13. A
14. B
15. D
16. C
17. C
18. B
19. D
20. A

(165) SEÇ. MATEMATİK – 1

1. C
2. A
3. D
4. B
5. C
6. B
7. B
8. D
9. A
10. C
11. B
12. A
13. C
14. A
15. D
16. B
17. D
18. B
19. D
20. C

(209) SEÇ. SOSYOLOJİ – 2

1. A
2. C
3. D
4. A
5. C
6. B
7. D
8. B
9. A
10. C
11. D
12. D
13. B
14. A
15. C
16. A
17. D
18. B
19. C
20. D

(154) COĞRAFYA – 4

1. B
2. A
3. C
4. D
5. C
6. B
7. B
8. C
9. A
10. C
11. D
12. A
13. D
14. A
15. B
16. D
17. A
18. D
19. C
20. B

(163) MATEMATİK – 3

1. A
2. D
3. B
4. B
5. C
6. A
7. C
8. A
9. D
10. B
11. D
12. C
13. D
14. A
15. C
16. B
17. C
18. B
19. C
20. D

(206) SEÇ. PSİKOLOJİ – 1

1. C
2. A
3. D
4. B
5. C
6. B
7. A
8. B
9. A
10. D
11. C
12. B
13. D
14. A
15. D
16. B
17. C
18. D
19. C
20. A

(242) İNGİLİZCE – 3

1. B
2. A
3. D
4. A
5. C
6. B
7. A
8. C
9. C
10. D
11. B
12. B
13. D
14. A
15. D
16. C
17. A
18. C
19. C
20. D

1 NİSAN 2018 TARİHİNDE YAPILAN AÇIKÖĞRETİM LİSESİ / MESLEKİ AÇIKÖĞRETİM LİSESİ
2017-2018 ÖĞRETİM YILI 2. DÖNEM SINAVI 3. OTURUM T KİTAPÇIĞI CEVAP ANAHTARI

(242) ALMANCA – 3

1. A
2. C
3. A
4. B
5. C
6. D
7. B
8. C
9. D
10. A
11. B
12. A
13. C
14. B
15. B
16. C
17. B
18. D
19. D
20. A

(403) DİL VE ANLATIM – 3

1. B
2. D
3. C
4. C
5. A
6. A
7. B
8. A
9. D
10. C
11. D
12. C
13. B
14. A
15. D
16. C
17. A
18. B
19. B
20. D

(406) DİL VE ANLATIM – 6

1. B
2. D
3. D
4. A
5. A
6. C
7. D
8. A
9. C
10. D
11. B
12. B
13. D
14. A
15. C
16. A
17. C
18. B
19. D
20. C

(416) TÜRK EDEBİYATI – 6

1. B
2. C
3. A
4. D
5. B
6. A
7. B
8. C
9. D
10. B
11. D
12. A
13. C
14. D
15. B
16. A
17. C
18. A
19. B
20. B

(242) FRANZIZCA – 3

1. D
2. A
3. B
4. C
5. D
6. B
7. B
8. A
9. A
10. B
11. C
12. C
13. D
14. D
15. C
16. A
17. D
18. B
19. A
20. B

(405) DİL VE ANLATIM – 5

1. A
2. B
3. A
4. C
5. D
6. B
7. C
8. A
9. D
10. C
11. B
12. A
13. B
14. C
15. C
16. A
17. D
18. B
19. A
20. C

(413) TÜRK EDEBİYATI – 3

1. D
2. A
3. D
4. B
5. A
6. C
7. B
8. C
9. C
10. A
11. D
12. C
13. B
14. D
15. C
16. A
17. B
18. C
19. D
20. A

(426) SEÇ. FİZİK – 2

1. C
2. B
3. D
4. D
5. A
6. A
7. D
8. C
9. B
10. D
11. C
12. C
13. A
14. A
15. B
16. A
17. B
18. C
19. D
20. D

1 NİSAN 2018 TARİHİNDE YAPILAN AÇIKÖĞRETİM LİSESİ / MESLEKİ AÇIKÖĞRETİM LİSESİ
2017-2018 ÖĞRETİM YILI 2. DÖNEM SINAVI 3. OTURUM T KİTAPÇIĞI CEVAP ANAHTARI

(427) SEÇ. FİZİK – 3

1. B
2. C
3. C
4. A
5. A
6. B
7. B
8. D
9. B
10. A
11. D
12. A
13. D
14. C
15. B
16. A
17. C
18. D
19. C
20. D

(433) KİMYA – 3

1. A
2. B
3. C
4. C
5. B
6. D
7. A
8. B
9. C
10. D
11. B
12. A
13. D
14. D
15. A
16. B
17. C
18. A
19. D
20. B

(435) SEÇ. KİMYA – 1

1. B
2. A
3. D
4. B
5. C
6. A
7. D
8. C
9. C
10. B
11. A
12. C
13. A
14. D
15. D
16. B
17. C
18. A
19. A
20. C

(448) SEÇ. BİYOLOJİ – 4

1. C
2. D
3. B
4. A
5. C
6. B
7. A
8. C
9. A
10. D
11. C
12. B
13. C
14. B
15. D
16. B
17. A
18. D
19. D
20. A

(428) SEÇ. FİZİK – 4

1. C
2. B
3. C
4. A
5. C
6. D
7. A
8. D
9. D
10. D
11. C
12. A
13. C
14. B
15. D
16. B
17. A
18. D
19. A
20. B

(434) KİMYA – 4

1. A
2. D
3. B
4. C
5. B
6. C
7. A
8. A
9. B
10. B
11. A
12. D
13. C
14. D
15. C
16. A
17. B
18. D
19. B
20. A

(445) SEÇ. BİYOLOJİ – 1

1. A
2. D
3. B
4. D
5. A
6. C
7. A
8. B
9. D
10. B
11. D
12. C
13. B
14. C
15. A
16. D
17. B
18. C
19. A
20. C

(452) SEÇ. ÇAĞ. TÜRK
DÜN. TAR. – 2

1. B
2. D
3. C
4. B
5. A
6. C
7. D
8. A
9. B
10. A
11. C
12. D
13. A
14. B
15. C
16. B
17. D
18. C
19. A
20. D

1 NİSAN 2018 TARİHİNDE YAPILAN AÇIKÖĞRETİM LİSESİ / MESLEKİ AÇIKÖĞRETİM LİSESİ
2017-2018 ÖĞRETİM YILI 2. DÖNEM SINAVI 3. OTURUM T KİTAPÇIĞI CEVAP ANAHTARI

(462) SEÇ. EKONOMİ – 2

1. D
2. C
3. B
4. A
5. A
6. A
7. C
8. A
9. B
10. D
11. C
12. B
13. D
14. A
15. B
16. B
17. C
18. C
19. D
20. C

(478) SEÇ. MANTIK – 1

1. B
2. A
3. B
4. D
5. C
6. B
7. C
8. D
9. A
10. B
11. C
12. D
13. B
14. A
15. A
16. D
17. C
18. A
19. B
20. C

(500) ALMANCA – 6

1. D
2. C
3. C
4. D
5. B
6. B
7. A
8. C
9. B
10. A
11. D
12. B
13. C
14. A
15. B
16. B
17. D
18. D
19. A
20. C

(533) SEÇMELİ
PEYGAMBERİMİZİN HAY. – 3

1. A
2. B
3. D
4. C
5. B
6. A
7. D
8. C
9. D
10. B
11. C
12. A
13. C
14. A
15. D
16. B
17. C
18. B
19. D
20. A

(468) SEÇ. MATEMATİK – 4

1. D
2. C
3. C
4. B
5. A
6. B
7. A
8. D
9. D
10. A
11. B
12. D
13. C
14. A
15. D
16. B
17. D
18. C
19. A
20. B

(500) İNGİLİZCE – 6

1. B
2. D
3. C
4. A
5. C
6. B
7. D
8. A
9. A
10. C
11. B
12. A
13. D
14. C
15. B
16. D
17. A
18. C
19. C
20. D

(500) FRANSIZCA – 6

1. C
2. B
3. D
4. A
5. D
6. D
7. A
8. B
9. C
10. C
11. D
12. B
13. A
14. A
15. B
16. A
17. C
18. C
19. B
20. A

(534) SEÇMELİ
PEYGAMBERİMİZİN HAY. – 4

1. C
2. D
3. B
4. A
5. D
6. A
7. C
8. B
9. D
10. C
11. A
12. B
13. D
14. B
15. C
16. A
17. B
18. D
19. A
20. C

1 NİSAN 2018 TARİHİNDE YAPILAN AÇIKÖĞRETİM LİSESİ / MESLEKİ AÇIKÖĞRETİM LİSESİ
2017-2018 ÖĞRETİM YILI 2. DÖNEM SINAVI 3. OTURUM T KİTAPÇIĞI CEVAP ANAHTARI

(542) TÜRK DİLİ VE ED. – 2

1. C
2. B
3. C
4. A
5. B
6. C
7. D
8. B
9. D
10. A
11. A
12. C
13. B
14. D
15. A
16. C
17. D
18. A
19. D
20. A

(608) SEÇ. DEM. VE İNSAN
HAKLARI – 2

1. D
2. A
3. C
4. B
5. A
6. D
7. B
8. C
9. A
10. C
11. D
12. B
13. A
14. C
15. B
16. D
17. A
18. B
19. D
20. B

(616) SEÇ. DİL ANLA. – 6

1. B
2. B
3. C
4. A
5. D
6. A
7. B
8. B
9. D
10. A
11. D
12. C
13. A
14. B
15. A
16. A
17. D
18. C
19. C
20. D

(975) SEÇ. GİRİŞİMCİLİK – 2

1. A
2. C
3. C
4. B
5. D
6. A
7. C
8. B
9. C
10. B
11. D
12. B
13. A
14. B
15. B
16. A
17. D
18. D
19. C
20. B

(543) TÜRK DİLİ VE ED. – 3

1. C
2. B
3. D
4. A
5. D
6. B
7. C
8. C
9. D
10. A
11. B
12. A
13. D
14. B
15. B
16. A
17. C
18. B
19. B
20. C

(615) SEÇ. DİL ANLA. – 5

1. B
2. A
3. C
4. D
5. C
6. B
7. A
8. B
9. D
10. A
11. B
12. C
13. B
14. D
15. C
16. A
17. B
18. A
19. C
20. C

(626) SEÇMELİ TÜRK EDEB. – 6

1. B
2. A
3. C
4. D
5. A
6. C
7. B
8. A
9. C
10. D
11. B
12. A
13. D
14. C
15. B
16. B
17. A
18. A
19. C
20. D