

T.C.
MİLLÎ EĞİTİM BAKANLIĞI
ÖLÇME, DEĞERLENDİRME VE
SINAV HİZMETLERİ GENEL MÜDÜRLÜĞÜ



AÇIK ÖĞRETİM LİSESİ / MESLEKİ AÇIK ÖĞRETİM LİSESİ
2017 - 2018 ÖĞRETİM YILI
2. DÖNEM SINAVI

2.
OTURUM

31 MART 2018 Saat: 14.00

DERS KODU VE ADI	SAYFA	DERS KODU VE ADI	SAYFA	DERS KODU VE ADI	SAYFA
(117) DİN KÜL. AHL. BİL. – 7	3	(411) TÜRK EDEBİYATI – 1	21	(481) SEÇMELİ SANAT TARİHİ – 1	44
(118) DİN KÜL. AHL. BİL. – 8	4	(412) TÜRK EDEBİYATI – 2	23	(482) SEÇMELİ SANAT TARİHİ – 2	45
(131) TARİH – 1	5	(415) TÜRK EDEBİYATI – 5	24	(483) SAĞLIK BİLGİSİ – 1	46
(135) SEÇMELİ TARİH – 1	6	(422) FİZİK – 2	25	(492) TRAF. VE İLK YARD. – 2	47
(141) T.C. İNK. TAR. ATA. – 1	7	(423) FİZİK – 3	27	(501) İNGİLİZCE – 7	49
(152) COĞRAFYA – 2	8	(424) FİZİK – 4	28	(501) ALMANCA – 7	49
(156) SEÇMELİ COĞRAFYA – 2	9	(431) KİMYA – 1	30	(501) FRANSIZCA – 7	50
(164) MATEMATİK – 4	10	(437) SEÇMELİ KİMYA – 3	31	(512) FİKİH – 2	51
(182) İNGİLİZCE – 2	11	(438) SEÇMELİ KİMYA – 4	32	(531) SEÇMELİ PEYGAMBERİMİZİN HAYATI – 1	52
(182) ALMANCA – 2	12	(442) BİYOLOJİ – 2	33	(541) TÜRK DİLİ VE ED. – 1	53
(182) FRANSIZCA – 2	13	(444) BİYOLOJİ – 4	35	(612) KARŞ. DİN. TAR. – 2	55
(207) SEÇMELİ PSİKOLOJİ – 2	14	(447) SEÇMELİ BİYOLOJİ – 3	37	(625) SEÇ. TÜRK ED. – 5	56
(208) SEÇMELİ SOSYOLOJİ – 1	15	(451) SEÇMELİ ÇAĞDAŞ TÜRK VE DÜNYA TARİHİ – 1	38	(714) İSLAM KÜLTÜR VE MEDENİYETİ – 2	58
(221) SAĞLIK BİLGİSİ VE TRAFİK KÜLTÜRÜ – 1	16	(455) SEÇMELİ DEMOKRASİ VE İNSAN HAKLARI – 1	40	(818) AKAİD – 2	59
(243) İNGİLİZCE – 4	17	(466) TEMEL DİNİ BİL. – 2	41	(820) KELAM – 2	60
(243) ALMANCA – 4	18	(467) SEÇMELİ MATEMATİK – 3	42	(932) SİYER – 2	61
(243) FRANSIZCA – 4	19	(476) SEÇMELİ İŞLETME – 1	43	(998) MATEMATİK – 1	62
(404) DİL VE ANLATIM – 4	20				

ADAYLARIN DİKKATİNE!

- Her ders için 20 soru bulunmaktadır. Bu oturumda **180** dakikalık cevaplama süreniz vardır. Sınav başladıktan sonra ilk **30** dakika tamamlanmadan dışarı çıkmayınız.
- Sınav sırasında çanta, cep telefonu, saat, kablosuz iletişim sağlayan cihazlar ve kulaklık, kolye, küpe, bilezik, yüzük, broş ve benzeri eşyalar ile her türlü elektronik ve/veya mekanik cihazları yanınızda bulundurmuyunuz. Bu araçları yanınızda bulundurmanız ve kopya çekmeye teşebbüs etmeniz hâlinde sınavınız geçersiz sayılacaktır.
- Başvuru şartlarını taşımadığınız hâlde sınava girmeniz, kopya çekmeniz, başka adayın sınav evrakını kullanmanız, geçerli kimlik belgenizi ve sınav giriş belgenizi ibraz edemediğiniz durumlarda sınavınız geçersiz sayılacaktır.
- Sınavın değerlendirilmesi aşamasında, bilgisayar ortamında yapılan kopya analizinde sistemin ikili ve/veya toplu kopya tespiti hâlinde sınavınız geçersiz sayılacaktır.
- Adaylar, sınav kurallarına ve salon görevlilerinin tüm uyarılarına uymak zorundadır. Kurallara ve uyarılara uymayan adayların sınavları geçersiz sayılacaktır.**
- Sınav başladıktan sonra adayların salon görevlileri ve birbirleri ile konuşmaları; kalem, silgi vb. şeyleri istemeleri yasaktır.
- Adaylar sınav süresince, sınav giriş belgesi ile geçerli kimlik belgelerinden birinin aslını (fotoğraflı nüfus cüzdanı, pasaport veya sürücü belgesi) masalarının üzerinde bulundurmamak zorundadır.
- Sınav evraklarını teslim etmeyen, soru kitapçıklarının sayfalarından bir kısmını eksik teslim edenlerin sınavları geçersiz sayılacaktır.**
- Sınav başlamadan önce kitapçığın arkasındaki açıklamaları okuyunuz.

BAŞLAYINIZ DENMEDEN SORU KİTAPÇIKLARINI AÇMAYINIZ.

2. OTURUM

(117) DİN KÜL. AHL. BİL. – 7

1. “Evrende bulunan her şeyin yok olmasıyla ölen tüm insanların yaptıklarının hesabını vermek üzere diriltilecekleri zaman” olarak tanımlanan kavram aşağıdakilerden hangisidir?

- A) Araf B) Kıyamet
C) Cennet D) Mizan

2. Aşağıdakilerden hangisi ahirete imanin insana sağladığı faydalardan biri değildir?

- A) Maddi değerleri manevi değerlerin önünde tutmayı sağlar.
B) Haksızlıktan ve haram yemekten sakındırır.
C) Doğru ve dürüst olmaya yönlendirir.
D) Sorumluluk bilincini geliştirir.

3. Hz Muhammed’e (sav.) dürüst ve güvenilir olmasından dolayı verilen sıfat aşağıdakilerden hangisidir?

- A) En-Nebi B) Er-Resul
C) El-Emin D) Ebu’l Kasım

4. Aşağıdakilerden hangisi vefat eden kimse için yerine getirilmesi gereken görevlerden değildir?

- A) Defnetmek
B) Yıkayıp kefenlemek
C) Cenaze namazını kılmak
D) Eksik ibadetlerini tamamlamak

5. “Sizi boş ve anlamsız yere yarattığımızı ve bize dönmek zorunda olmadığınızı mı sanıyorsunuz?”
(Mü’minun suresi, 115. ayet)

Bu ayette aşağıdakilerden hangisi vurgulanmıştır?

- A) Evrenin işleyişinde bir sistemin olduğu
B) İnsanın yaratılmasında bir amaç olduğu
C) Her şeyin insana hizmet için yaratıldığı
D) İnsanın günahsız olarak doğduğu

6. Aşağıdakilerden hangisi Kütüb-ü Sitte eserlerinden biri değildir?

- A) Sahih-i Buhari
B) Sünen-i Tirmizi
C) Biharul-Envar
D) Sünen-i Ebu Davud

7. “İstiğfar” sözcüğünün anlamı aşağıdakilerden hangisidir?

- A) Günahlardan uzak durmak
B) Başka insanlar için dua etmek
C) Musibetlere karşı sabırlı olmak
D) Allah’tan bağışlanma dilemek

8. Aşağıdakilerden hangisi tasavvufi oluşumlardan biridir?

- A) Yesevilik B) Hanefilik
C) Haricilik D) Hanbelilik

9. • Ehl-i beyt sevgisi önemli bir yer tutar.

- “Makalât” temel kaynaklarından biridir.
• Dilenmek ve başkasının sırtından geçinmek kesinlikle reddedilmiştir.

Hakkında bilgi verilen tasavvufi oluşum aşağıdakilerden hangisidir?

- A) Kâdirîlik
B) Mevlevîlik
C) Nakşibendîlik
D) Alevîlik-Bektaşîlik

10. Aşağıdakilerden hangisi kıyamet gününde kişinin hesaba çekileceği konulardan biri değildir?

- A) Malını nerede kazanıp nerede harcadığı
B) Bildiği ile amel edip etmediği
C) Eğitimini kimden aldığı
D) Ömrünü nasıl geçirdiği

11. Alevi-Bektaşîlik’te Allah’ın güzel isimlerinden herhangi birini anarak, aşkla ayakta dönme şeklinde yapılan töreni ifade eden kavram aşağıdakilerden hangisidir?

- A) Semah B) Sohbet
C) Gülbenk D) Buyruk

12. Hz. Muhammed’in (sav.) değişik olaylar ve sorular karşısında insanları aydınlatmak, Kur’an’ın bazı ayetlerini daha açık bir dille ifade etmek amacıyla söylediği sözlerle ne denir?

- A) Kelam B) Hadis
C) Siyer D) Tasavvuf

13. Kur’an’ın herhangi bir hüküm getirmediği konularda, sünnetin Kur’an’ın bütünlüğüne uygun bir hüküm ortaya koymasındır.

Burada sünnetin Kur’an’ı açıklamadaki görevlerinden hangisi hakkında bilgi verilmektedir?

- A) Açıklayıcılık
B) Onaylayıcılık
C) Destekleyicilik
D) Hüküm koyuculuk

14. Aşağıdakilerden hangisi tasavvufi düşüncelerin ortaya çıkış sebeplerinden biri değildir?

- A) Kur’an’ın emir ve yasaklarını hafifletmek
B) Dinin özüne uygun yaşanmasını sağlamak
C) Dini ve ahlaki değerlerdeki yozlaşmanın önüne geçmek
D) Hz. Peygamber ve arkadaşlarının yaşayışlarını örnek almak

15. • XI. Yüzyılın sonlarına doğru Batı Türkistan’da, Sayram şehrinde doğmuştur.

- Türkistan’da “Hazreti Türkistan”, “Pir-i Türkistan” adıyla da anılır.

Hakkında bilgi verilen tasavvuf âlimi aşağıdakilerden hangisidir?

- A) Mevlana
B) Ahmet Yesevi
C) Hacı Bektaş Veli
D) Abdulkadir Geylânî

16. Alevilik-Bektaşîlikte, evli olan iki kişinin aileleriyle birlikte dede huzurunda kurban keserek hayat boyu yol kardeşi olmaya söz vermesine ne ad verilir?

- A) Deyiş
B) Nefes
C) Musahiplik
D) Üç sünnet yedi farz

17. Sevap ve günahların tartıldığı özel adalet terazisine ne ad verilir?

- A) Sür B) Sırat
C) Haşır D) Mizan

18. Aşağıdakilerden hangisi tasavvufi bir terim değildir?

- A) Derviş B) Nesh
C) Mürid D) Zikir

19. Hz. Ali’nin öğütlerinin, hutbelerinin ve güzel sözlerinin bir araya getirildiği eser aşağıdakilerden hangisidir?

- A) Nehcü’l-Belâğa
B) Divan-ı Hikmet
C) Mesnevi
D) Makalât

20. “... Şüphesiz ki Allah çok affedici ve çok bağışlayıcıdır.”
(Âl-i İmrân suresi, 89. ayet)

Bu ayet insanları aşağıdakilerden hangisine teşvik etmektedir?

- A) Tevekkül sahibi olmaya
B) İlim öğrenmeye
C) Tövbe etmeye
D) Şükretmeye

2. OTURUM

(118) DİN KÜL. AHL. BİL. – 8

1. Barışın hâkim olduğu toplumlarda aşağıdakilerden hangisinin ortaya çıkması beklenmez?

- A) Hoşgörü B) İlerleme
C) Güven D) Kargaşa

2. Ey insanlar! Rabbiniz birdir, babanız da birdir. Hepiniz Âdem'in çocuklarıdır.

Bu hadiste aşağıdakilerden hangisi vurgulanmıştır?

- A) İslamiyet'in evrensel bir din olduğu
B) Tüm insanların soyca birbirine eşit olduğu
C) Allah'ın her topluma bir peygamber gönderdiği
D) İlk insanın aynı zamanda ilk peygamber olduğu

3. Yolları ve gölgelikleri, insanların oturup dinlendikleri yerleri kirletmekten sakının.

Hz. Peygamber bu sözüyle aşağıdakilerden hangisinin önemini vurgulamıştır?

- A) Çevre temizliğinin
B) İnsan sevgisinin
C) Yol güvenliğinin
D) Beden temizliğinin

4. Aşağıdakilerden hangisi Müslümanların barışa ve birlikte yaşamaya verdiği öneme örnek oluşturmaz?

- A) Medine Sözleşmesi
B) Hudeybiye Antlaşması
C) Kur'an'ın yirmi üç yılda inmesi
D) Mekke'nin fethinden sonraki genel af

5. Aşağıdakilerden hangisi İslam dininin savaşa izin verdiği durumlardan biri değildir?

- A) Farklı inançları yok etme
B) Bağımsızlığı koruma
C) Adaleti hakim kılma
D) Nefsi müdafaa

6. Hz. Muhammed (sav.) İslam'a davet için Taif'e gittiğinde, kendisine yapılan olumsuz davranışlara karşı, beddua etmek yerine dua etmiştir.

Hz. Peygamber'in bu tutumunda aşağıdaki özelliklerinden hangisi öne çıkmaktadır?

- A) Kararlılığı B) Merhameti
C) Dürüstlüğü D) Cömertliği

7. "Ey insanlar! Bu günleriniz nasıl kutsal bir gün, bu aylarınız nasıl kutsal bir ay, bu Mekke nasıl kutsal bir şehir ise canlarınız, mallarınız ve namuslarınız da öyle kutsaldır."

Hz. Peygamber'in Veda Hutbesi'ndeki bu sözünden aşağıdaki yargılardan hangisine ulaşılabılır?

- A) Kâbe Müslümanların kıblesidir.
B) Müslümanlar birbirlerinin kardeşleridir.
C) Müşriklerin Kabe'yi ziyaret etmeleri yasaktır.
D) Canın, malın ve namusun dokunulmazlığı vardır.

8. İlahi dinlerin gönderilme amacı aşağıdakilerden hangisi olamaz?

- A) Güzel ahlakı yaymak
B) Tevhit inancını yerleştirmek
C) Örf ve âdetlerde birlik oluşturmak
D) Dünya ve ahiret mutluluğunu sağlamak

9. Aşağıdakilerden hangisi Atatürk döneminde din alanında yapılan çalışmalardan biri değildir?

- A) Türk Dil Kurumu'nun kurulması
B) Diyanet İşleri Başkanlığı'nın kurulması
C) Sahih-i Buhari'nin Türkçe'ye tercüme edilmesi
D) Hak Dini Kur'an Dili isimli tefsir kitabının yazılması

10. Atatürk'e göre din eğitiminin verilmesi gereken yer aşağıdakilerden hangisidir?

- A) Kütüphaneler B) Tekkeler
C) Medreseler D) Okullar

11. Hangi şey ki akla, mantığa, halkın menfaatine uygundur; biliniz ki o bizim dinimize de uygundur. Bir şey akıl ve mantığa, milletin menfaatine, İslam'ın menfaatine uygunsuzsa kimsese sormayın. O şey dindir. Eğer bizim dinimiz aklın, mantığın uyduğu bir din olmasaydı mükemmel olmazdı, son din olmazdı.

Atatürk'ün bu sözünden İslam dini hakkında aşağıdakilerden hangisine ulaşılamaz?

- A) Akla ve mantığa uygundur.
B) Hükümleri evrenseldir.
C) Son ve mükemmel bir dindir.
D) Toplumun menfaatini gözetir.

12. Aşağıdakilerden hangisi Atatürk döneminde yaşamış din bilginlerinden birisi değildir?

- A) Muhammed Hamdi Yazır
B) Mehmet Akif Ersoy
C) Ebu's-Suud Efendi
D) Rifat Börekçi

13. Taoizm, Konfüçyanizm ve Şintoizm aşağıdaki grupların hangisinde yer alır?

- A) Hint dinleri
B) Geleneksel dinler
C) Vahye dayalı dinler
D) Çin ve Japon dinleri

14. Din, insanın yaratılışından gelen bir olgudur. İnsan, yaratılışı itibarı ile her zaman sığınacağı, dua edip yalvaracağı yüce bir varlığa inanma ihtiyacı hissetmiştir.

Bu söz ile aşağıdakilerden hangisi vurgulanmaktadır?

- A) İnanma duygusu doğuştandır.
B) Her dinde dua etme şekli farklıdır.
C) Duada önemli olan samimiyettir.
D) İlahi dinlerin kaynağı Allah'tır.

15. • İslam hak dindir.
• İslam son ilahi dindir.
• Hz. Muhammed (sav.) son peygamberdir.

Bu bilgiler aşağıdaki ayetlerden hangisi ile ilişkilendirilemez?

- A) "Şüphesiz Allah katında din İslam'dır..."
(Âl-i İmrân suresi, 19. ayet)
B) "... Muhammed, Allah'ın resulü ve nebilerin sonuncusudur..."
(Ahzâb suresi, 40. ayet)
C) "Nereden yola çıkarsan çık, yüzünü Mescid-i Haram'a doğru çevir..."
(Bakara suresi, 50. ayet)
D) "Kim İslam'dan başka bir din ararsa, o din ondan kabul edilmeyecek ve o ahirette hüsrana uğrayanlardan olacaktır."
(Âl-i İmrân suresi, 85. ayet)

16. Tanrı Yehova, birdir ve âlemlerin Rabbidir. Sonsuz güç ve kudret sahibidir. Evreni altı günde yaratmış, yedinci gün olan cumartesi günü dinlenmiştir.

Tanrı inancı hakkında bilgi verilen din aşağıdakilerden hangisidir?

- A) Hristiyanlık B) Yahudilik
C) Taoizm D) Budizm

2. OTURUM

17. Aşağıdakilerden hangisi İslam dine ait bir özelliktir?

- A) Millî bir dindir.
- B) Ruhban sınıfı vardır.
- C) Tevhit inancına dayanır.
- D) İnsanın günahkar doğduğuna inanılır.

18. Kast sisteminde tüccar, esnaf ve çiftçilerin oluşturduğu sınıfa ne ad verilir?

- A) Sudralar
- B) Vaisyalar
- C) Kşatriyalar
- D) Brahmanlar

19. Aşağıdakilerden hangisi Konfüçyanizm'in kutsal kitaplarından biridir?

- A) Tora
- B) Zebur
- C) Vedalar
- D) Beş Klasik

20. • Sözlükte; rağbet edilen, çok istenilen şeyler anlamına gelir.
• Üç ayların başlangıcı olan Recep ayının ilk cuma gecesinde kutlanır.
• Allah'ın rahmetinin mümin kullarına bol bol ihсан edildiği bir gecedir.

Hakkında bilgi verilen kandil aşağıdakilerden hangisidir?

- A) Regaip
- B) Mevlit
- C) Berat
- D) Miraç

(131) TARİH – 1

1. Aşağıdakilerden hangisi tarih bilminde yararlanılan sözlü kaynaklardan biridir?

- A) Tabletler
- B) Efsaneler
- C) Kitabeler
- D) Resimler

2. Uygunlar ile ilgili araştırma yapan bir öğrenci ulaştığı kaynakları zamana, mekâna, konuya göre ayırıyorsa, araştırmanın hangi aşamasındadır?

- A) Eleştirme
- B) Kaynak arama
- C) Sınıflandırma
- D) Sentez

3. Aşağıdakilerden hangisi tarih bilimiyle ilgili doğru bir bilgi değildir?

- A) Deney ve gözlemden yararlanır.
- B) Araştırmalar için farklı bilim dallarından yararlanır.
- C) Millî kimliğin oluşumu için bir araçtır.
- D) Geçmiş olayları inceler.

4. Tarih biliminin araştırma konusu içerisindeki iki önemli unsur olan olay ve olgu arasında farklılıklar vardır. Tarihi olaylar özgündür, tekrarlanamazlar ve kısa sürede meydana gelirler ancak tarihi olgular geneldir, tekrar edilebilirler ve uzun sürede meydana gelirler.

Buna göre aşağıdakilerden hangisi bir olgudur?

- A) Hicret
- B) İstanbul'un Fethi
- C) Kurtuluş Savaşı
- D) İslamiyet'in yayılması

5. Dünyanın buzullarla kaplı olduğu dönem insan yaşamına uygun değildi. Buzulların erimesiyle birlikte ılıman iklim kuşakları oluşmuş, böylece ilk yerleşmeler ortaya çıkmıştır.

Buna göre dünyada ilk yerleşmelerin görülmesinde aşağıdakilerden hangisi etkili olmuştur?

- A) Ekonominin gelişmesi
- B) Dini inanışlar
- C) İklim değişiklikleri
- D) Teknolojinin gelişmesi

6. Kazı yolu ile toprak ve su altındaki maddi kalıntıları ortaya çıkaran bilim dalı aşağıdakilerden hangisidir?

- A) Arkeoloji
- B) Filoloji
- C) Epigrafi
- D) Nümizmatik

7. Anadolu'nun ilk yerleşim yerlerinden biri olan Çatalhöyük'te yapılan kazılar sonucu ezme ve öğütme taşlarının bulunması aşağıdakilerden hangisinin göstergesidir?

- A) Yazıyı bulduklarının
- B) Madeni işlediklerinin
- C) Avcılıkla uğraştıklarının
- D) Ekmek ihtiyaçlarını karşıladıklarının

8. İlk Çağ medeniyetlerinden Hititlerde kralların gücünü Tanrı'dan aldığına inanılırdı. Urartularda krallar yaptıkları işleri Tanrıları "Haldi" adına yaparlardı. Mısırlarda ise firavunlar Tanrı-Kral olarak kabul edilmişti.

Bu bilgilere dayanarak sözü edilen İlk Çağ medeniyetlerinin yönetimlerinde aşağıdakilerden hangisinin etkili olduğu söylenebilir?

- A) Hukuk
- B) Din
- C) Ekonomi
- D) Coğrafya

9. Yazılı hukuk kuralları ilk kez aşağıdaki medeniyetlerden hangisinde görülmüştür?

- A) Asur
- B) Sümer
- C) Hitit
- D) Fenike

10. İlk Çağ'dan itibaren devletler güçlü askeri teşkilat kurmaya özen göstermişlerdir.

Aşağıdakilerden hangisi bu durumun nedenlerinden biri değildir?

- A) Yeni topraklar fethetmek
- B) Varlıklarını koruyabilmek
- C) Huzuru ve düzeni sağlamak
- D) Yeni bir hukuk sistemi geliştirmek

11. Kadeş Antlaşması'nın önemi aşağıdakilerden hangisidir?

- A) Tarihte bilinen ilk yazılı antlaşma olması
- B) Müslüman devletler arasında imzalanması
- C) Sosyal sınıf ayrımlarını ortadan kaldırması
- D) Kolonicilik faaliyetlerini geliştirmesi

12. Aşağıdakilerden hangisi Dünya'daki ticaret yollarından biri değildir?

- A) Kürk Yolu
- B) Kara Yolu
- C) Baharat Yolu
- D) İpek Yolu

13. Doğu Akdeniz'de kurulup, deniz koloniciliğinde gelişen medeniyet aşağıdakilerden hangisidir?

- A) Asurlular
- B) Urartular
- C) Fenikeliler
- D) Hititler

14. Aşağıdakilerden hangisi İlk Çağ Anadolu medeniyetlerinden biridir?

- A) Babilliler
- B) Frigler
- C) Sümerler
- D) Elamlar

15. Moğol İmparatorluğu'nda hayvancılık, Roma İmparatorluğu'nda deniz ticareti, Çin İmparatorluğunda ise tarım önemli geçim kaynağı olmuştur.

Bu imparatorlukların geçim kaynaklarını belirleyen faktör aşağıdakilerden hangisidir?

- A) Dini inanışlar
- B) Yönetim biçimi
- C) Siyasi anlaşmazlıklar
- D) Coğrafi unsurlar

16. Avrupa'da Feodalizm aşağıdaki imparatorluklardan hangisinin zayıflamasıyla ortaya çıkmıştır?

- A) Roma
- B) Büyük İskender
- C) Çin
- D) Moğol

17. Babil Kralı'nın oluşturduğu "diş diş, göze göz" şeklinde değerlendirilen, suç işleyen aynı ağırlıkta cezayı içeren kanun aşağıdakilerden hangisidir?

- A) Türk Töresi
- B) On İki Levha
- C) Hammurabi
- D) Urkagina

2. OTURUM

18. Aşağıdakilerden hangisi tarih boyunca kullanılmış olan ticari mekânlara verilen isimlerden değildir?

- A) Kümbet B) Ribat
C) Han D) Karum

19. Tarih devirlerinin başlangıcı kabul edilen ve insanoğlunun deneyimlerini nesilden nesile aktarabilmesini sağlayan olay aşağıdakilerden hangisidir?

- A) Ateşin bulunması
B) Madenin işlenmesi
C) Yazının icadı
D) Atın evcilleştirilmesi

20. İlk insanların gökyüzü olaylarını incelemesi aşağıdaki bilimlerden hangisinin gelişmesini sağlamıştır?

- A) Arkeoloji B) Epigrafi
C) Filoloji D) Astronomi

(135) SEÇMELİ TARİH – 1

1. Karasuk kültürü, Yenisey Irmağı çevresinde ortaya çıkmıştır. Bu kültürde yenilik olarak demir madeni bulunmuş ve işlenmesine başlanmıştır. Bundan başka, dört tekerlekli arabalar ve keçeden Türk çadırları ilk defa bu kültürde ortaya çıkmıştır.

Bu bilgiye göre Karasuk kültürü insanı için aşağıdakilerden hangisi söylenebilir?

- A) Mimari alanda gelişmişlerdir.
B) Üretici insanlardır.
C) Yerleşik hayat sürmüşlerdir.
D) Tek tanrı inancına sahiptirler.

2. Atı evcilleştirip binen ve ondan bir savaş aracı olarak ilk yararlanan kavim aşağıdakilerden hangisidir?

- A) İngilizler B) Araplar
C) Çinliler D) Türkler

3. Aşağıdakilerden hangisi Orta Asya Türk göçlerinin nedenlerinden biri değildir?

- A) Türklerin Gök Tanrı inancına sahip olmaları
B) Fetih arzusu ve yeni vatan kurma fikri
C) Nüfus artışı ve otlakların yetersizliği
D) Siyasi anlaşmazlıklar

4. İskitler ile Persler arasındaki mücadeleleri konu alan eser aşağıdakilerden hangisidir?

- A) Divan-ı Lügat-it Türk
B) Kutadgu Bilig
C) Siyasetname
D) Şehname

5. Türk adına ilk olarak Çin yıllıklarında rastlanmıştır. Türk adını devlet adı olarak da ilk kez Kök Türkler kullanmışlardır. Çin kaynaklarında miğfer anlamında kullanılan Türk adı, Kök Türk Kitabelerinde Türk veya Türuk şeklinde geçmektedir.

Verilen bilgiye göre aşağıdakilerden hangisi söylenebilir?

- A) Tarihte bilinen ilk Türk devleti Büyük Hun Devleti'dir.
B) Türk adına ilk olarak İran kaynaklarında rastlanmıştır.
C) Türk adını ilk kez devlet adı olarak Kök Türkler kullanmışlardır.
D) Türk adı Çin kaynaklarında güçlü, kuvvetli anlamında kullanılmıştır.

6. Aşağıdakilerden hangisi Asya Hun hükümdarlarından biri değildir?

- A) Teoman B) Bumin
C) Mete D) Ki-ok

7. Kavimler Göçü sonucunda Avrupa'da kurulmuş olan Türk devleti aşağıdakilerden hangisidir?

- A) Uygurlar
B) Kök Türkler
C) Asya Hun Devleti
D) Avrupa Hun Devleti

8. Bizans üzerine I. ve II. Balkan seferlerini düzenleyen Avrupa Hun hükümdarı aşağıdakilerden hangisidir?

- A) Attila B) Uldız
C) Dengizik D) Balamir

9. Kutluk Devleti olarak da bilinen Türk devleti aşağıdakilerden hangisidir?

- A) I. Kök Türk B) II. Kök Türk
C) Uygur D) Avar

10. Maniheizm dinini kabul etmeleri Uygurların hayat anlayışlarında büyük değişiklik meydana getirmiştir. Bu değişikliklerden biri Uygurların yerleşik yaşama geçmesidir. Yerleşik hayata geçilmesiyle birlikte Türklerde sosyal yaşam değişmiş, tarım ve mimari gelişmiş, şehircilik ve şehir kültürü ortaya çıkmıştır.

Verilen bilgiye göre aşağıdakilerden hangisi Uygurların Maniheizm dinini kabul etmesinin sonuçlarından biri değildir?

- A) Yerleşik yaşama geçilmesi
B) Tarım ve mimarinin gelişmesi
C) Türklerin savaşçılık özelliklerinin gelişmesi
D) Şehircilik ve şehir kültürünün ortaya çıkması

11. Orta Asya'nın son derece elverişsiz olan tabiat ve iklim şartları, Türkleri devamlı bir mücadelenin içine itmiştir. Türk karakteri, yaşayışı, sanat anlayışı, örf ve adetleri üzerinde derin izler bırakmıştır.

Bu bilgide aşağıdakilerin hangisinden söz edilmiştir?

- A) Coğrafi şartların Türkler üzerindeki etkisinden
B) Örf ve adetlerin devlet yapısı üzerindeki etkisinden
C) İnançların mimariye etkisinden
D) Sanatın dine etkisinden

12. Batı kaynaklarında Avar, Çin kaynaklarında Juan – Juan adıyla anılan Avarlara, Kök Türkler Apar demişlerdir. Asya Hun Devleti'nin yıkılmasından sonra ortaya çıkan Avarlar, bugünkü Moğolistan'da bir devlet kurmuşlardır.

Bu bilgiye göre Avarlarla ilgili olarak aşağıdakilerden hangisi söylenemez?

- A) Sabar devleti tarafından yıkılmışlardır.
B) Çin kaynaklarında Juan – Juan adıyla anılmışlardır.
C) Asya Hun Devleti'nin yıkılmasından sonra ortaya çıkmışlardır.
D) Moğolistan'da devlet kurmuşlardır.

13. Türk tarihinde Museviliği kabul eden ilk ve tek Türk devleti aşağıdakilerden hangisidir?

- A) Peçeneler B) Kıpçaklar
C) Karluklar D) Hazarlar

14. İslamiyeti kabul eden ilk Türk topluluğu aşağıdakilerden hangisidir?

- A) Sibirler B) Uzlar
C) Karluklar D) Türgişler

15. Türk tarihinde kendi adına para bastıran ilk hükümdar aşağıdakilerden hangisidir?

- A) Sulu Kağan
B) Bağa Tarkan
C) Omurtag Han
D) Kurum Han

16. Aşağıdakilerden hangisi aileler birliği anlamına gelmektedir?

- A) Oguş B) Urug
C) Boy D) Bodun

17. Aşağıdakilerden hangisi ilk Türk devletlerinde hükümdarların kullandıkları unvanlardan biri değildir?

- A) Kağan B) Hakan
C) Han D) Uluş

2. OTURUM

18. Aşağıdakilerden hangisi ilk Türk devletlerinde, devlet işlerinin görüşülüp karara bağlandığı meclis için kullanılan isimlerden biri değildir?

- A) Tüz B) Toy
C) Kengeş D) Kurultay

19. Talas Savaşı'nda Türkler aşağıdakilerden hangisini desteklemişlerdir?

- A) İranlıları B) Rusları
C) Arapları D) Bizanslıları

20. Sasaniler Mazdek İsyanı'nı aşağıdakilerden hangisinin yardımıyla bastırılmışlardır?

- A) Kök Türkler B) Uygurlar
C) Avarlar D) Akhunlar

(141) T.C. İNK. TAR. ATA. – 1

1. II. Meşrutiyet'in demokrasi tarihimize getirdiği en önemli yeniliklerden birisi de siyasi partilerin kurulmasıdır. İttihat ve Terakki Fırkasına muhalefet olarak Osmanlı Ahrar Fırkası, Ahali Fırkası, Hürriyet ve İtilaf Fırkası gibi partiler kuruldu. Ayrıca yeni seçim kanunu kabul edilerek hükümetin padişaha değil, meclise karşı sorumlu olması getirilmiştir.

II. Meşrutiyet Dönemi ile ilgili verilen bilgilere göre aşağıdakilerden hangisi doğru değildir?

- A) Hükümet padişaha karşı sorumlu hale getirilmiştir.
B) İttihat ve Terakki Fırkasına muhalefet olarak partiler kurulmuştur.
C) Yeni seçim kanunu kabul edilmiştir.
D) Kurulan hükümetler meclise karşı sorumlu hale getirilmiştir.

2. I. Fransız İhtilali ile ortaya çıkan milliyetçilik akımı
II. TBMM'nin açılması
III. Rusya'nın panslavist politikası
IV. Osmanlı Devleti'nin I. Dünya Savaşı'na girmesi

Yukarıdakilerden hangileri Balkan devletlerinin isyan ederek bağımsızlıklarını kazanmalarının nedenleri arasında yer alır?

- A) I ve II. B) I ve III.
C) II ve III. D) III ve IV.

3. Aşağıdakilerden hangisi Millî Mücadele hareketini başarısızlığa uğratmak için kurulan zararlı cemiyetlerden biridir?

- A) Trakya- Paşaeli Müdafaa-i Hukuk Cemiyeti
B) Doğu Anadolu Müdafaa-i Hukuk Cemiyeti
C) Millî Kongre Cemiyeti
D) İngiliz Muhipleri Cemiyeti

4. I. Dünya Savaşı sonunda Osmanlı Hükümeti ile İtilaf devletleri arasında 10 Ağustos 1920'de imzalanan ancak uygulanamayan antlaşma aşağıdakilerden hangisidir?

- A) Mondros Ateşkes Antlaşması
B) Uşi Antlaşması
C) Sevr Antlaşması
D) Sen Jermen Antlaşması

5. Osmanlı Devleti I. Dünya Savaşı'nda sınırları dışında, müttefiklerine yardım amacıyla Galiçya, Romanya ve Makedonya cephelerinde savaştı. Galiçya ve Romanya cephelerinde Romanya'ya karşı Almanya ve Avusturya'nın yanında savaşa katıldı. Makedonya Cephesi'nde ise Bulgarlara yardımda bulunmuştur.

Verilen bilgiye göre aşağıdakilerden hangisi Osmanlı Devleti'nin sınırları dışında savaştığı cephelerden biri değildir?

- A) Galiçya B) Makedonya
C) Romanya D) Çanakkale

6. Aşağıdakilerden hangisi İtilaf Devletleri'nin Çanakkale Cephesi'ni açma nedenlerinden biridir?

- A) Boğazlar üzerinden Rusya'ya malzeme yardımı yapmak
B) Abadan ve Musul petrolerini korumak
C) İngiltere'nin, sömürgelerden gelen yardım yolunu açmak
D) Zor durumda olan Bulgarlara yardım etmek

7. Aşağıdakilerden hangisi Ermenilerin kurduğu zararlı cemiyetlerden biridir?

- A) Pontus Cemiyeti
B) Etniki Eterya
C) Mavi Mira
D) Taşnak Cemiyeti

8. 15 Mayıs 1919'da İzmir'i işgal eden devlet aşağıdakilerden hangisidir?

- A) Yunanistan B) İngiltere
C) Fransa D) İtalya

9. Atatürk'ün "Bu vatan çocuklarımız ve torunlarımız için cennet yapılmaya layıktır." sözü aşağıda verilenlerden hangisi ile açıklanabilir?

- A) Mantıklı ve gerçekçi oluşu
B) Vatan ve millet sevgisi
C) İleri görüşlülüğü
D) Cesaretliliği

10. Mustafa Kemal'in Manastır Askeri Lisesi'nden sonra devam ettiği okul aşağıdakilerden hangisidir?

- A) Selanik Askerî Ortaokulu
B) İstanbul Harp Akademisi
C) İstanbul Harp Okulu
D) Şemsi Efendi Okulu

11. Mustafa Kemal'in askerlik mesleğinden istifası sonrasında "Ben ve kolordum bundan sonra da emrinizdeyiz Paşam." diyerek Mustafa Kemal'i destekleyen 15. Kolordu Komutanı aşağıdakilerden hangisidir?

- A) Ali Fuat Cebesoy
B) Rauf Orbay
C) Kazım Karabekir
D) Refet Bele

12. Sivas Kongresi'nde seçilen Temsil Heyeti'nin yürütme yetkisini kullanarak Batı Anadolu Millî Kuvvetler Genel Komutanlığı'na atadığı kişi aşağıdakilerden hangisidir?

- A) Ali Fuat Cebesoy
B) Kazım Karabekir
C) Cemal Paşa
D) Rauf Orbay

13. İstanbul Hükümeti Temsil Heyetinin varlığını aşağıdakilerden hangisi ile tanımıştır?

- A) Sivas Kongresi
B) Erzurum Kongresi
C) Amasya Genelgesi
D) Amasya Görüşmeleri

14. • Bölgesel olmasına karşın aldığı kararlar bütün yurdu ilgilendirdiği için milli bir kongre özelliği taşımaktadır.

• 7 Ağustos 1919'da Mustafa Kemal'in başkanlığında dokuz kişilik bir Temsil Heyeti seçerek çalışmalarını tamamlamıştır.

Hakkında kısa bilgi verilen kongre, aşağıdakilerden hangisidir?

- A) Sivas Kongresi
B) Erzurum Kongresi
C) Balıkesir Kongresi
D) Alaşehir Kongresi

2. OTURUM

(152) COĞRAFYA – 2

15. TBMM Hükûmeti ile Fransa arasındaki Ankara Antlaşması hangi zafer sonucunda imzalanmıştır?

- A) I. İnönü B) II. İnönü
C) Sakarya D) Çanakkale

16. 20 Ocak 1921'de TBMM'de kabul edilen yeni Türk Devleti'nin ilk anayasası aşağıdakilerden hangisidir?

- A) Teşkilat-ı Esasiye Kanunu
B) Kanunu Esasi
C) Mecelle
D) Tehvid-i Tedrisat Kanunu

17. Aşağıdakilerden hangisi doğrudan doğruya İstanbul Hükûmeti tarafından Türkiye Büyük Millet Meclisi'ne karşı çıkarılan ayaklanmalardan biridir?

- A) Afyon Ayaklanması
B) Anzavur Ayaklanması
C) Konya Ayaklanması
D) Koçkiri Ayaklanması

18. Millî Cemiyetlerin birleştirilmesiyle kurulan cemiyet aşağıdakilerden hangisidir?

- A) Trakya-Paşaeli Müdafaa-i Hukuk Cemiyeti
B) Doğu Anadolu Müdafaa-i Hukuk Cemiyeti
C) Anadolu ve Rumeli Müdafaa-i Hukuk Cemiyeti
D) Millî Kongre Cemiyeti

19. Ermenilerin Doğu Anadolu'ya yönelik toprak taleplerinden resmen vazgeçtiklerini kabul ederek TBMM Hükûmeti ile 3 Aralık 1920'de imzaladıkları antlaşma aşağıdakilerden hangisidir?

- A) Mondros Ateşkes Antlaşması
B) Gümrü Antlaşması
C) Ankara Antlaşması
D) Mudanya Antlaşması

20. I. Dünya Savaşı'ndan sonra işgale uğrayan bölgelerde yaşayan halkın kendiliğinden harekete geçerek kurdukları direnme birlikleri aşağıdakilerden hangisidir?

- A) Teşkilat-ı Esasiye
B) Kanuni Esasi
C) Kuvayımilliye
D) Kuva-yi İnzibatiye

1. • Yiyecek ve eşyaları saklama,
• Güvenli bir yerde uyuma, dinlenme,
• Kötü hava koşullarından korunma

gibi temel ihtiyaçların karşılanması isteği insanlarda aşağıdaki olgulardan hangisinin ortaya çıkmasına neden olmuştur?

- A) Tarım yapma B) Göç etme
C) Savaşma D) Yerleşme

2. Aşağıdakilerden hangisi yerleşmeyi etkileyen doğal bir faktördür?

- A) Ticaret B) Ulaşım
C) İklim D) Turizm

3. Aşağıdakilerden hangisi buzul çağından sonra yerleşik düzene geçen ilk insanların mesken yapımında kullandığı malzemelerden biri değildir?

- A) Kamış B) Taş
C) Tuğla D) Kerpiç

4. Aşağıdakilerden hangisi tarihi bakımdan daha eski ve önemli şehirlerden biridir?

- A) İstanbul B) New York
C) Sidney D) Washington



Haritada taranarak verilen bölgelerin dünyada, yerleşmenin çok az olduğu yerlerden biri olmasında etkili olan faktör aşağıdakilerden hangisidir?

- A) Su kaynaklarının azlığı
B) Ormanların fazlalığı
C) Arazilerin engebesiz olması
D) Çok düşük sıcaklık değerleri

6. Yerleşme alanlarının sona erdiği en yüksek seviyeye yerleşme üst sınırı denir.

Buna göre aşağıdaki yerlerin hangisinde yerleşme üst sınırı diğerlerinden daha yüksektir?

- A) Sibirya
B) Avustralya
C) Ekvatorial bölge
D) Batı Avrupa

7. Aşağıdakilerden hangisi kırsal yerleşmelerin temel ekonomik faaliyetlerinden değildir?

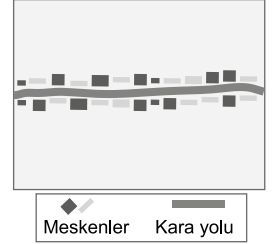
- A) Hayvancılık B) Bankacılık
C) Balıkçılık D) Ormancılık

8. Su kaynaklarının az, arazinin düz olduğu alanlardaki kırsal yerleşmelerde meskenler birbirine yakın ve toplu haldedir.

Bu durum aşağıdaki bölgelerin hangisinde yaygın değildir?

- A) Doğu Karadeniz'de
B) Doğu Anadolu'da
C) Güneydoğu Anadolu'da
D) İç Anadolu'da

9. Aşağıda bir kırsal yerleşmenin planı gösterilmiştir.



Buna göre verilen yer hangi yerleşme planı tipine girer?

- A) Işınsal planlı yerleşme
B) Yol boyu planlı yerleşme
C) Dairesel planlı yerleşme
D) Küme planlı yerleşme

10. ve 11. soruları aşağıdaki metne göre cevaplayınız

Cumhuriyet'in ilk yıllarında küçük bir kasaba özelliğinde olan Ankara başkent olmasıyla hızla büyümüş günümüzde beş milyonu aşan nüfusuyla ülkemizin ikinci büyük şehri olmuştur. Büyük üniversiteleri, müzeleri, tiyatroları, gelişmiş hastaneleri bünyesinde barındırır. Çimento, şeker ve traktör fabrikaları başta olmak üzere sanayi işletmeleri, bankacılık faaliyetleri ve çok katlı işyerleriyle önemli bir merkez haline gelmiştir.

10. Ankara fonksiyonel özellikleri göz önüne alındığında hangi şehir sınıfına girmez?

- A) İdari şehir B) Maden şehri
C) Sanayi şehri D) Kültür Şehri

2. OTURUM

11. Ankara için aşağıdakilerden hangisi söylenebilir?

- A) Tarım sektörünün gelişmesi ihmal edilmiştir.
- B) Nüfus yoğunluğu en yüksek şehrimizdir.
- C) Şehir yatay ve dikey yönde büyümüştür.
- D) Geleneksel şehir mimarisi örnekleri çoktur.

12. Aşağıdakilerden hangisi Türkiye'nin turizm şehirlerine iyi bir örnektir?

- A) İncirlik
- B) Marmaris
- C) İnegöl
- D) Ereğli

13. İç Anadolu, Doğu Anadolu ve Güneydoğu Anadolu'nun volkanik arazilerinin kırsal kesimlerinde hangi malzemeden yapılan meskenler daha çok görülür?

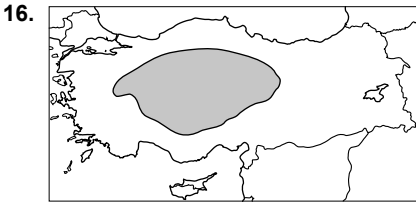
- A) Taş
- B) Ahşap
- C) Kerpiç
- D) Betonarme

14. Türkiye'de dağlık, yüksek ve engebeli alanlarda yerleşmelerin az olmasında aşağıdakilerden hangisinin etkisi yoktur?

- A) Ulaşımın zor olmasının
- B) Tarımsal düzlüklerin azlığının
- C) Sıcaklık değerleri düşüklüğünün
- D) Hayvancılık faaliyetine uygun olmasının

15. Dini inanış ve özelliklerine göre oluşturulan bölgeler hangi grupta sınıflandırılır?

- A) Doğal özelliklere göre
- B) Beşeri özelliklere göre
- C) Ekonomik özelliklere göre
- D) İşlevsel özelliklere göre



Türkiye haritasında taranarak verilen alan tarım ürünlerine göre yapılan sınıflamada hangi bölge türüne girer?

- A) Fındık
- B) Zeytin
- C) Tahıl
- D) Turunçgil

17. Aşağıdaki ülkelerden hangisi nüfus özelliklerine göre yapılan bir sınıflamada yoğun nüfuslu bölge grubuna girer?

- A) Hindistan
- B) Avustralya
- C) Kanada
- D) Moğolistan

18. "Şanghay Beşlisi"; 1996 yılında Asya Kıtası'nda yer alan beş ülkenin katılımıyla kurulan siyasi örgüttür. Amacı ABD'nin bölgelerindeki askeri etkinliğini engellemek ve bölgesel güvenlik alanında iş birliği yapmaktır. Teşkilat, Özbekistan'ın katılımıyla Şanghay İş Birliği Örgütü adını almıştır. Hindistan ve Pakistan'ın başvurusu üzerine üyelik için prosedürün başlatıldığı örgüt yetkililerince duyurulmuştur.

Verilen metne bakarak aşağıdaki çıkarımlardan hangisi yapılabilir?

- A) Siyasi özellikteki bölgelerin sınırları değişebilir.
- B) Siyasi bölgelerin oluşması için sınır komşuluğu gerekir.
- C) Bu örgütün esas hedefi ekonomik kalkınmayı sağlamaktır.
- D) Örgütü oluşturan ülkeler sanayi alanında gelişmişlerdir.

19. Marmaray ve Avrasya tünelleri temel olarak insanların hangi ihtiyacını gidermek için yapılmıştır?

- A) Beslenme
- B) Dinlenme
- C) Barınma
- D) Ulaşım

20. Aşağıdakilerden hangisi faaliyet halindeyken atmosferimizde kirliliğe sebep olmaz?

- A) Sanayi tesisleri
- B) Termik santraller
- C) Motorlu taşıtlar
- D) Rüzgâr değirmenleri

(156) SEÇMELİ COĞRAFYA – 2

1. İnsanların hepsi bir kültürün içinde doğmuş, büyüüp olgunlaştıkça da bu kültürü ailesinden ve çevresinden öğrenmişlerdir.

Yukarıda kültürün öncelikle hangi özelliğinden bahsedilmiştir?

- A) Dinamik bir yapıya sahip olmasından
- B) Nesilden nesile aktarılabilir olmasından
- C) Teknolojik gelişmelerden etkilenmesinden
- D) Farklı kültürlerin birbiriyle etkileşim içerisinde olduğundan

2. Türk kültürünün kendine has başka kültürlerde bulunmayan özellikleri vardır.

Aşağıdakilerden hangisi bunlardan biridir?

- A) Orhun kitabelerine sahip olması
- B) Başka kültürlerle etkileşime girmesi
- C) Mimarisinde dini simgelerin olması
- D) Gelişmesinde karasal iklimin etkili olması

3. Aşağıdaki yapılardan hangisi Türk kültürüne ait değildir?

- A) Edirne'de Selimiye Camii
- B) Sivas'ta Gök Medrese
- C) İstanbul'da Yerebatan Sarnıcı
- D) Erzurum'da Çifte Minareli Medrese

4. Aşağıda verilen ham maddeler ile bunların yoğun olarak üretildiği ülke eşleştirmelerinden hangisi yanlıştır?

Ham madde	Ülke
A) Petrol	İsviçre
B) Pirinç	Çin
C) Doğal gaz	Rusya
D) Pamuk	Özbekistan

5. Aşağıdaki yerlerden hangisi dünyadaki önemli sanayi üretim bölgeleri arasında gösterilemez?

- A) Orta Afrika
- B) Batı Avrupa
- C) Kuzey Amerika
- D) Güneydoğu Asya

6. Ender görülen doğal güzelliklerin, bitki ve hayvan türlerinin veya kültürel kaynakların korunması amacıyla kurulan bölgelere ne ad verilir?

- A) Ekosistem
- B) Turizm
- C) Milli park
- D) Tabiat

7. Günümüzde turizm, ülkeler arasında barış ve dostluğun gelişmesine katkı sağlar.

Yukarıda turizmin öncelikle hangi alandaki etkisinden söz edilmiştir?

- A) Ekolojik
- B) Politik
- C) Kültürel
- D) Ekonomik

8. Gelişmiş ülkelerde modern tarım yöntemleri uygulandığından tarımsal verimlilik yüksek olmaktadır.

Buna göre aşağıdaki ülkelerden hangisinde tarımsal verimlilik düşüktür?

- A) Fransa
- B) Hollanda
- C) Etiyopya
- D) Japonya

9. A ülkesinde tarımda çalışan nüfus oranı sanayi ve hizmet sektörlerinde çalışan nüfus oranından fazladır.

Buna göre bu ülke ile ilgili aşağıdakilerden hangisi söylenebilir?

- A) Yaşlı nüfus oranı fazladır.
- B) Sanayi üretimi fazladır.
- C) Sağlık hizmetleri gelişmiştir.
- D) Gelişmişlik seviyesi düşüktür.

2. OTURUM

10. İngiltere'de 1650-1750 yılları arasında sanayi faaliyetleri küçük atölyelerde ve insan gücü kullanılarak yapıyordu. Ülkenin bu dönemdeki en önemli sanayi alanı yünlü dokumacılıktı.

Ülkede yünlü dokumacılığın gelişmesinde aşağıdakilerden hangisinin etkisi olmuştur?

- A) Demir-çelik üretiminin
B) Ekip biçme faaliyetlerinin
C) Küçükbaş hayvancılığın
D) Ormancılık faaliyetlerinin

11. **Aşağıdaki ülkelerden hangisi Birleşmiş Milletler Güvenlik Konseyi'nin daimi üyelerinden biri değildir?**

- A) Fransa B) Hindistan
C) Rusya D) İngiltere

12. Yenilenemeyen enerji kaynaklarının rezervlerinin azalması, insanları yenilenebilir alternatif enerji kaynaklarına yöneltmiştir.

Aşağıdakilerden hangisi bu enerji kaynaklarından biridir?

- A) Kömür B) Petrol
C) Doğalgaz D) Rüzgâr

13. **Doğal kaynakların kullanımı üzerinde aşağıdakilerden hangisinin etkisi daha azdır?**

- A) İnsanların ihtiyaçları
B) Teknolojik gelişmeler
C) Doğal kaynağın potansiyeli
D) Doğal kaynağın çıkarıldığı bölge

14. Daha önce geçim kaynağı tarım ve hayvancılık olan bir yerde taş kömürü bulunmuş ve işletmeye açılmıştır.

Bu duruma bağlı olarak bu yerde aşağıdaki değişikliklerden hangisi beklenmez?

- A) İşçi göçü alması
B) Konut ihtiyacının artması
C) İşsizlik oranının artması
D) Sanayi üretiminin artması

15. **Aşağıdaki doğal kaynaklardan hangisinin bilinçsiz kullanımı yer altı su seviyesinin düşmesine ve tarım alanlarının çoraklaşmasına neden olur?**

- A) Akarsu B) Güneş
C) Jeotermal D) Uranyum

16. **Aşağıdakilerden hangisi çevre kirliliği oluşturmaz?**

- A) Hızlı nüfus artışı
B) Motorlu taşıt sayısının artması
C) Denetimsiz kentleşmenin artması
D) Mera alanlarının ıslah edilmesi

17. Geri dönüşümle elde edilen bir ton kâğıt, yaklaşık 20 ağacın kesilmemesi anlamına gelir.

Yukarıda geri dönüşümün öncelikle hangi alandaki faydasından bahsedilmiştir?

- A) Enerji tasarrufu sağlanması
B) Doğal kaynakların korunması
C) Ülke ekonomisine katkı sağlanması
D) Doğadaki atık miktarının azalması

18. I. Orman yangınları
II. Biyolojik çeşitlilik
III. Tarımsal üretim

Küresel ısınma sonucunda yukarıdakilerden hangilerinde artma beklenir?

- A) Yalnız I. B) Yalnız II.
C) I ve II. D) I ve III.

19. **Aşağıdaki kaynaklardan hangisinden nükleer enerji elde edilir?**

- A) Rüzgâr B) Doğal gaz
C) Uranyum D) Taş kömürü

20. **Aşağıdakilerden hangisi arazinin yanlış kullanılmasına örnektir?**

- A) Alüvyal tabanlı ovaların tarım amaçlı kullanılması
B) Dere yataklarının ıslah edilerek ağaçlandırılması
C) Tabiat güzelliklerinin bulunduğu alanların koruma altına alınması
D) Göl tabanlarının katı atık toplama yeri olarak kullanılması

(164) MATEMATİK - 4

1. $x^2 - 4x + (m + 1) = 0$ denkleminin gerçek kökü olmadığına göre m'nin alabileceği en küçük tam sayı değeri kaçtır?

- A) 3 B) 4 C) 5 D) 6

2. $i = \sqrt{-1}$ olmak üzere $i^{45} + i^{38} + i^{40}$ işleminin sonucu kaçtır?

- A) -1 B) -i C) i D) 1

3. $z_1 = -4 + i$ ve $z_2 = 2 + 5i$ karmaşık sayıları için $z_1 + z_2$ kaçtır?

- A) 6 + 6i B) 6 + 4i
C) -2 + 4i D) -2 + 6i

4. $x^2 - ax - 4 = 0$ denkleminin köklerinden biri 1 olduğuna göre a kaçtır?

- A) -3 B) -1 C) 1 D) 3

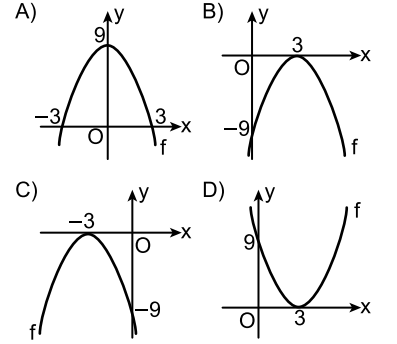
5. $3x^2 + 7x - 6 = 0$ denkleminin kökleri çarpımı kaçtır?

- A) -7 B) -4 C) -3 D) -2

6. $f(x) = 3x^2 - 9x + 1$ parabolünün tepe noktasının koordinatları aşağıdakilerden hangisidir?

- A) $(\frac{1}{3}, -\frac{2}{3})$ B) $(-\frac{3}{2}, -\frac{23}{4})$
C) $(\frac{3}{2}, -\frac{23}{4})$ D) $(-\frac{3}{2}, \frac{23}{4})$

7. $f(x) = -(x - 3)^2$ fonksiyonunun grafiği aşağıdakilerden hangisidir?



8. $P(x) = 6x + 3x^2 - 4x^3 - 8$ polinomunun baş katsayısı kaçtır?

- A) 6 B) 3 C) -4 D) -8

9. $P(x) = (m - 1)x^2 + (n + 3)x + k + 1$ ve $Q(x) = 5x^2 + x + 4$ polinomları veriliyor.

$P(x) = Q(x)$ olduğuna göre $m + n + k$ kaçtır?

- A) 7 B) 6 C) 5 D) 4

10. $P(x) = 3x^2 + 5x - 7$ polinomunun $x - 3$ ile bölümünden kalan kaçtır?

- A) 35 B) 29 C) 21 D) 15

11. $\frac{x^2 - 4x + 3}{x - 1} = 0$ olduğuna göre x kaçtır?

- A) 5 B) 4 C) 3 D) 2

2. OTURUM

12. $(2001)^2 - (1999)^2$ işleminin sonucu kaçtır?

- A) 1002 B) 1992
C) 4000 D) 8000

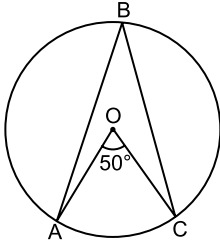
13. $\frac{x^2+6x+8}{x+4} : \frac{x^2-16}{x-4}$ ifadesinin en sade biçimi aşağıdakilerden hangisidir?

- A) $\frac{x+2}{x+4}$ B) $\frac{x+2}{x-4}$
C) $\frac{x-4}{x+2}$ D) $\frac{x+4}{x+2}$

14. $x - \frac{1}{x} = 3$ olduğuna göre $x^2 + \frac{1}{x^2}$ kaçtır?

- A) 7 B) 9 C) 10 D) 11

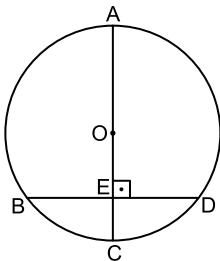
15.



Şekildeki A, B, C noktaları O merkezli çember üzerinde ve $m(\widehat{AOC}) = 50^\circ$ olduğuna göre $m(\widehat{ABC})$ kaç derecedir?

- A) 25 B) 50 C) 75 D) 100

16.

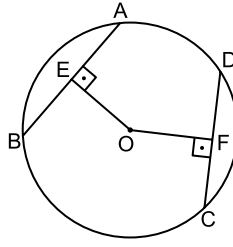


Şekildeki A, B, C, D noktaları O merkezli çember üzerinde ve $[AC] \perp [BD]$, $[AC] \cap [BD] = \{E\}$ 'dir.

$|BD| = 16$ cm ve $|OA| = 10$ cm olduğuna göre $|EC|$ kaç santimetredir?

- A) 3 B) 4 C) 5 D) 6

17.



Şekildeki A, B, C, D noktaları O merkezli çember üzerinde ve $[OE] \perp [AB]$, $[OF] \perp [DC]$, $|AB| = |DC| = 12$ cm, $|OE| = 2x + 1$ cm, $|OF| = 3x$ cm'dir.

Buna göre çemberin yarıçapının uzunluğu kaç santimetredir?

- A) 5 B) $3\sqrt{5}$
C) $\sqrt{37}$ D) 9

18. Yarıçapının uzunluğu 6 cm olan dairenin alanı kaç santimetrekaredir? (π yerine 3 alınız.)

- A) 72 B) 96 C) 108 D) 150

19. Bir ayrıtının uzunluğu 8 cm olan küpün hacmi kaç santimetreküpür?

- A) 384 B) 390
C) 448 D) 512

20. Boyutları 4 cm, 6 cm ve 8 cm olan dikdörtgenler prizmasının yüzey alanı kaç santimetrekaredir?

- A) 141 B) 196
C) 205 D) 208

(182) İNGİLİZCE – 2

1-20. sorularda boş bırakılan yere uygun gelen kelime ya da ifadeyi işaretleyiniz.

1. **Waitress** : What would you like to eat?

Customer : -----.

- A) That was expensive
B) I would like to go to movies
C) It is the list of books
D) I would like to have pizza

2. **Waiter** : How will you pay?

Customer : I will pay -----.

- A) in cash B) to order
C) on Sunday D) with coffee

3. **Peter** : Would you like to eat something?

Robert : No, -----.

- A) I am full
B) I am here
C) I will have a car
D) I have free time

4. **Kasey** : Can I help you?

Jerry : -----.

- A) No, it is famous for its delicious apples
B) Yes please. I would like to make a reservation
C) No, it takes two hours to get there
D) Yes, it starts at eleven on Saturday

5. I ---- to Amsterdam last February with my family.

- A) go B) gone
C) went D) am going

6. We ---- at a big hotel during our last holiday.

- A) are staying B) stayed
C) stays D) stay

7. She ---- an actress ten years ago.

- A) is B) am
C) was D) were

8. They ---- their last winter very well.

- A) spent B) spend
C) spends D) are spending

9. **Steve** : ----- did you pay for it?

Brian : 5 Dollars.

- A) Which B) Where
C) How much D) How many

10. I was a student -----.

- A) tomorrow
B) ten years ago
C) two days later
D) at the moment

11. **Timothy** : -----?

Samuel : I have a sore throat.

- A) What is your exact location
B) What's the matter with you
C) What should I drink to get well
D) What kind of an accident did you have

2. OTURUM

12.



He has got a - - - - .

- A) backache B) toothache
C) sore throat D) broken arm

13. You - - - - speak loudly in a library. It is a rule.

- A) must B) should
C) mustn't D) don't have to

14. Helen : I have got the flu.

Alex : You should - - - - .

- A) have a rest and take vitamins
B) be quiet during the lessons
C) stay close to the ground
D) go to a bookstore

15. Rebecca : - - - - go out and drink something?

Michael : That is a great idea.

- A) What time B) How much
C) How many D) Why don't we

16. Mark : Would you like to go to a camp with me?

Anabel : Sure. - - - - .

- A) No, thanks
B) Let's do that
C) Sorry, but I can't
D) I would rather not

17. Bruce : Hey! It is me, Bruce. What are you doing?

Betty : - - - - .

- A) See you later
B) I like that idea
C) I am reading a book
D) That sounds great

18. Paul : What do you think about the new TV programme?

Pam : - - - - .

- A) I think it is very interesting
B) I always read books after dinner
C) I should do my homework on time
D) I spend all my time to cook the meal

19. Carol : I think TV programmes are very interesting.

Daisy : Absolutely. - - - - .

- A) You are right
B) I am not sure
C) I don't think so
D) That is not the case

20. Jordan : When are you going to do the shopping?

Thomas : - - - - .

- A) Yesterday
B) Last month
C) Two days ago
D) Next weekend

(182) ALMANCA – 2

1 - 18. sorularda boş bırakılan yere uygun gelen ek, kelime ya da ifadeyi işaretleyiniz.

1. Ihr - - - - sehr müde. Ihr - - - - etwas schlafen.

- A) bin / ist
B) seid / müsst
C) sind / müssen
D) bist / hat

2. A: - - - - Auto möchtest du kaufen?
B: Das weiße Auto.

- A) Welcher B) Welchen
C) Welches D) Welche


3. Viel, - - - - , am meisten

- A) mehr B) viele
C) mehrere D) vieles

4. A: - - - - gehört der Bleistift?
B: Der Lehrerin.

- A) Was B) Wie
C) Wem D) Womit

5.



A: Wo ist die Tasche?
B: Sie ist - - - - dem Tisch.

- A) unter B) neben
C) auf D) über

6. Frau Çelik hat ihren Schlüssel - - - - .

- A) getrunken B) verloren
C) gemacht D) gegangen

7. A: Ist dieses Haus teuer - - - - billig?
B: Es ist teuer.

- A) oder B) weil
C) damit D) um

8. A: Ich komme - - - - Ankara und du?
B: - - - - Berlin.

- A) zu / Zu B) aus / Aus
C) aus / Zu D) zu / Aus

9. Susanne trinkt - - - - Tasse Kaffee?

- A) ein B) eins
C) einen D) eine

10. A: - - - - ist dein Kleid?
B: Das grüne.

- A) Welches B) Welcher
C) Welche D) Welchen

11. Er hat - - - - Tasche zu Hause vergessen.

- A) ihr B) seiner
C) ihrer D) seine

12. - - - - Unterricht soll man leise sein.

- A) Auf B) Zum
C) Ins D) Im

13. Wann schreiben wir - - - - Deutschprüfung?

- A) der B) die
C) das D) den

14. Ich mache viel Sport, - - - - ich fit bleibe.

- A) damit B) denn
C) aber D) darum

15. A: - - - - ist das Geschäft offen?
B: 20 Uhr.

- A) Um B) Wohin
C) Bis wann D) Mit wem

2. OTURUM

16. **A:** - - - - du auch Kuchen essen?
B: Ja, gerne.

A) Ist B) Bist
C) Willst D) Hast

17. **Das ist der Schüler, - - - - ich ein Buch geschenkt habe.**

A) der B) die
C) den D) dem

18. **Hakan lern- - - - . Wir les- - - - . Die Katzen schlaf- - - - .**

A) -en / -st / -e B) -st / -t / -en
C) -e / -en / -st D) -t / -en / -en

19. "kaufen" filinin "Perfekt" hâli aşağıdakilerden hangisidir?

A) kauft B) gekauft
C) kaufen D) kaufte

20. Aşağıdakilerden hangisi sıfattır? (Adjektiv)

A) lernen B) geht
C) rot D) lief

(182) FRANSIZCA – 2

1-16. sorularda boş bırakılan yere uygun gelen sözcük veya ifadeyi işaretleyiniz.

1. - - - - voyage souvent en avion.

A) Elles B) Il
C) Tu D) Ils

2. - - - - allons au lycée en bus ou en métro.

A) Ils B) Vous
C) Elles D) Nous

3. **Léa** : - - - - voyagez-vous ?
Max : Je voyage à moto.

A) Qui est-ce qui
B) Comment
C) Pourquoi
D) Combien

4. **A** : Pourquoi tu ne regardes pas la télévision?

B : - - - - je veux écouter la radio.

A) Parce que B) Combien
C) Depuis D) Comment

5. **Nazan va étudier le français - - - - neuf mois avant de partir en Belgique.**

A) il y a B) depuis
C) pendant D) l'été dernier

6. **Le 23 avril est une fête nationale - - - - Turquie.**

A) au B) à C) en D) aux

7. **La température - - - - au-dessous de zéro en janvier à Kars.**

A) prend B) monte
C) tolère D) tombe

8. **Le troisième - - - - de l'année, c'est mars.**

A) mois B) semaine
C) saison D) jour

9. **Je lis parce que - - - - .**

A) je bois un thé
B) je regarde la télé
C) je n'ai pas soif
D) je n'ai pas sommeil

10. **J'aime les petites voitures économiques - - - - roulent vite.**

A) d'où B) que C) qui D) dont

11. **Octobre, c'est le mois - - - - les feuilles tombent.**

A) où B) que C) qui D) dont

12. **Marc** : Cela ne m'intéresse pas.
Anne : Dis-moi - - - - t'intéresse, alors !

A) que B) ce qui
C) ce que D) c'est

13. **Décembre, janvier, février, ce sont - - - - .**

A) les jours de la semaine
B) des plats régionaux
C) les mois d'hiver
D) les mois d'été

14. **Paul** : Où as-tu acheté ces fleurs ?
Janine : Je - - - - ai achetées chez le fleuriste à côté de chez nous.

A) le B) les C) la D) leur

15. **Pierre** : Manges-tu de la viande ?

Can : Non, je n' - - - - mange pas, je suis végétarien.

A) les B) y C) de D) en

16. **Alain a mangé trois pommes, Jean a mangé trois pommes.**

Alors, Alain a mangé - - - - pommes - - - - Pascal.

A) autant de / que
B) plus de / que
C) moins de / que
D) beaucoup de / de

17. "Ahmet et Zeynep aiment beaucoup le tennis." cümlesinde altı çizili sözcüklerin yerine aşağıdaki şahıs zamirlerinden hangisi konulabilir ?

A) Elle B) Ils
C) Elles D) Il

18-20. sorularda verilen resme göre doğru ifadenin bulunduğu seçeneği işaretleyiniz.



Samsun se trouve - - - - .

A) au nord de la Turquie
B) à l'ouest d'Izmir
C) à l'est de la Turquie
D) au sud d'Ankara


- 19.

Ils font - - - - .

A) de l'escalade
B) de la voile
C) de la lutte
D) du tir à l'arc

2. OTURUM

20.



Lucie : Vous avez mangé - - - ?

Sylvie : Oui, j'en ai mangé.

- A) des légumes
- B) des gâteaux
- C) des épinards
- D) des fruits

(207) SEÇMELİ PSİKOLOJİ – 2

1. Aşağıdakilerden hangisi zeki bir insanda bulunan özelliklerden biri değildir?

- A) Geç öğrenme
- B) Doğru akıl yürütme
- C) Yeni çözüm yolları bulma
- D) Problem çözmede başarılı olma

2. J. Piaget'nin geliştirdiği bilgi işleme kuramına göre zihin dört evreden geçerek olgunluk düzeyine ulaşır. Her evrede çocuğun zihinsel gelişimi ve buna bağlı olarak neleri yapabileceği farklılaşır.

Buna göre bilgi işleme kuramı aşağıdakilerden hangisini açıklamayı amaçlamıştır?

- A) Genel yetenekleri
- B) Kişilik yapısını
- C) Kalıtım ve çevre ilişkisini
- D) Zihinsel gelişimin evrelerini

3. Eşit ikizler zekâ bakımından da eşit kalıtsal özelliklere sahiptir. Ancak farklı çevrelerde büyüyen eşit ikizlerin zekâ düzeylerinde farklılık görülmüştür. Kültürel bakımdan uygun çevre koşulları zekânın gelişimine katkı sağlarken uyarıcının az olduğu çevre zekânın gelişmesini engeller.

Bu parçada zekânın gelişimiyle ilgili olarak aşağıdakilerden hangisinin önemi vurgulanmaktadır?

- A) Yaşın
- B) Çevrenin
- C) Cinsiyetin
- D) Kalıtımın

4. Kişiliğin tutum, davranış ve görünüş gibi nesnel bir yanı vardır. Bir de düşünüş ve duyuş gibi öznel bir yanı vardır. Kişiliğin öznel ve nesnel yanı birbirinden ayrı düşünülemez.

Bu parçadan hareketle kişilik için aşağıdakilerden hangisi söylenebilir?

- A) Tek yönlü bir yapıdır.
- B) Kültürel yapıyla açıklanır.
- C) Öznel ve nesnel görünüşlerin toplamıdır.
- D) Sadece biyolojik etmenlerden oluşur.

5. Temel eğilim kuramına göre kişilik tıpkı saç rengi, göz rengi, burun yapısı gibi doğuştan getirdiğimiz bir yapıdır. Kalıtımla sınırlı olan kişiliğimiz beden yapımızdan ve hormon dengemizden etkilenir.

Buna göre aşağıdakilerden hangisi temel eğilim kuramının iddialarından biri olamaz?

- A) Kişiliğin gelişmesinde aşâğılık duygusu etkilidir.
- B) Beden yapısıyla kişilik arasında bağ vardır.
- C) İç salgı bezleri kişilik üzerinde etkilidir.
- D) Kişilik doğuştan gelen bir yapıdır.

6. **Bilinçaltına itilen duygu, düşünce, arzu ve isteklerin insanın kişiliğini etkilediğini söyleyen kişilik kuramı aşağıdakilerden hangisidir?**

- A) Temel eğilim
- B) Psikodinamik
- C) Varoluşçu
- D) Öğrenme

7. **Kişilik ölçekleri,**

- I. Gözlenebilen kişilik özelliklerini saptama
- II. Kişiliğin sübjektif yansımalarını yorumlama
- III. Zekâ düzeyini belirleme

amaçlarından hangilerini gerçekleştirmek için hazırlanmıştır?

- A) Yalnız I.
- B) Yalnız II.
- C) I ve II.
- D) I ve III.

8. Bir insan normal yaşamını sürdürabiliyor, çalışabiliyor, gülüp eğlenebiliyorsa sağlıklı bir insandır.

Buna göre aşağıdakilerden hangisi sağlıklı insan davranışına örnek gösterilemez?

- A) Ali'nin her gün işine gitmesi
- B) Meltem'in arkadaşlarıyla buluşması
- C) Onur'un aşırı kaygı yüzünden okula devam etmekte zorlanması
- D) Kerem'in ödevlerini düzenli yapması

9. Bir eşeğin önüne aynı uzaklıkta, aynı tazelikte ve aynı miktarda ot konulmuş. Eşek "Hangisini önce yesem ki?" diye düşünmekten bir karar verememiş ve sonunda açlıktan ölmüş.

Bu hikâyedeki eşeğin durumu aşağıda verilenlerden hangisine örnek oluşturur?

- A) Engellenme
- B) Çatışma
- C) Dengelenme
- D) Sağlıklı olma

10. Stresin pek çok nedeni vardır. Bu nedenleri, dış çevreden kaynaklanan ve denetimimiz dışında bulunan "çevresel nedenler" ve iç çevreden kaynaklanan ve denetleme şansımız olan "psikolojik nedenler" olarak ayırabiliriz.

Buna göre aşağıdakilerden hangisi psikolojik nedenlerden kaynaklanan bir stres faktörüdür?

- A) Çevre kirliliği
- B) Doğal afetler
- C) İklim ve doğa şartları
- D) Düşünsel düzeydeki nedenler

11. **Bedensel bakımdan zayıf olduğu için sporda başarılı olamayan birinin ünlü bir şair olması aşağıdaki savunma mekanizmalarından hangisine örnek oluşturur?**

- A) Mantiğa bürüme
- B) Ödünleme
- C) Bastırma
- D) Yansıtma

12. **Aşağıdakilerden hangisi stresse baş etme yöntemlerinden biri değildir?**

- A) Gereksiz konularda aşırı kaygı yapma
- B) Kendine zaman ayırma
- C) Keyif aldığı işleri yapma
- D) Sakin olma

13. Normal davranış yere, zamana, kurallara ve koşullara uygun davranıştır.

Buna göre aşağıdakilerden hangisi normal bir davranış değildir?

- A) Sinemada sessizce film izlemek
- B) Hasta olunca doktora gitmek
- C) Kütüphanede yüksek sesle konuşmak
- D) Konserde eğlenmek

2. OTURUM

14. I. Hafif ruh hastalıklarıdır.
II. Halüsinasyonlar ve çeşitli hezeyanlar görülür.
III. Kişinin çevresiyle uyumunu zorlaştırırsa da hayattan tamamen koparmaz.
- Yukarıda verilenlerden hangileri nevroitik bozuklukların özellikleri arasında yer alır?**
- A) Yalnız I. B) Yalnız III.
C) I ve II. D) I ve III.
15. İnsanın saçma olduğunu bildiği halde bazı şeylerden aşırı derecede korkmasına fobi denir.
- Buna göre aşağıdakilerden hangisi fobiye örnektir?**
- A) Örümcekten korkma
B) Sürekli temizlik yapma
C) Yaşantının bir bölümünün unutulması
D) İki ya da daha fazla kişiliğe sahip olma
16. Anormal davranışın tedavisinde, bir hasta grubunun bilinçaltı tıkanıklıklarının giderilmesi için seçtikleri rolleri oynamaları aşağıdakilerden hangisiyle ifade edilir?
- A) İş terapisi
B) Psikanaliz
C) Grup terapisi
D) Psikodrama
17. Ali bir film seyreder, sıkıcı bulur. Sonra aynı filmi izleyen arkadaşlarının tartışmasına katılır; onlar filmi beğenmişlerdir. Ali de sosyal çevresinin etkisiyle "aynı düşüncede olduğunu" söyler. Artık görüşü değişmiştir.
- Buna göre Ali'nin düşüncesindeki değişiklik aşağıdakilerden hangisi sonucunda oluşmuştur?**
- A) Obsesyon B) Sosyal etki
C) Liderlik D) Ruhsal hastalık
18. Aşağıdakilerden hangisi tutumun işlevlerinden biri değildir?
- A) Bireyin psikolojik bütünlüğünü korur.
B) Bireyin grup üyeleriyle ilişkisini güçlendirir.
C) Bireyin üyesi olduğu gruba uyumunu kolaylaştırır.
D) Bireyin çelişkili düşüncelere sahip olmasına neden olur.

19. Çocukluğun ilk döneminde anne ve babanın taklit edilmesi, onların yargılarının ve davranışlarının benimsenmesi özdeşim kurma olarak adlandırılır.
- Buna göre aşağıdakilerden hangisi özdeşim kurma örneğidir?**
- A) Anne babaya karşı gelme
B) Arkadaşlarına önem verme
C) Anne baba davranışlarının aynısını yapma
D) Kendi isteklerinde ısrarcı olma
20. Aşağıdakilerden hangisi kimlik oluşumunu gerçekleştirmiş bir bireyin özellikleri arasında yer almaz?
- A) Toplumla ilgisiz kalması
B) Kendine özgü bir birey olması
C) Sosyal çevreyle uyumlu olması
D) Davranışlarında tutarlılık ve süreklilik göstermesi

(208) SEÇMELİ SOSYOLOJİ – 1

1. İçinde yaşanılan toplumu, toplumsal grupları, kurumları ve ilişkileri bilimsel olarak anlayıp açıklamak için aşağıdaki bilimlerden hangisine ihtiyaç duyulur?
- A) Fizik B) Matematik
C) Sosyoloji D) Coğrafya
2. Yeri ve zamanı belli olan değişimler birer toplumsal olay örneğidir.
- Buna göre aşağıdakilerden hangisi toplumsal olaydır?**
- A) Göç etme
B) İstanbul'un fethi
C) Seçim yapma
D) Evlilik kararı alma
3. Ölçülebilen olayların sayısal olarak gösterilmesi aşağıdakilerden hangisiyle ifade edilir?
- A) Sosyometri
B) Görüşme
C) Monografi
D) İstatistik analizler
4. Aşağıdakilerden hangisi sosyoloji biliminin amaçları arasında yer almaz?
- A) Toplum bilimsel yöntemle anlamaya çalışmak
B) Toplumların nasıl değiştiğini ortaya çıkarmak
C) Bireysel duyguların nedenlerini araştırmak
D) Kurumların yapısını açıklamak

5. Belli bir coğrafyaya yerleşen, ihtiyaçlarını karşılamak için ilişkiler kuran, birbirlerini etkileyen, ortak bir kültürey paylaşan insan birlikteliğine toplum denir.
- Verilen tanımda toplumla ilgili aşağıdakilerden hangisine değnilmemiştir?**
- A) Sürekli değişen düşünceler taşımaya
B) Ortak bir kültürey paylaşmaya
C) İhtiyaca yönelik ilişkiler içinde olmaya
D) Belli bir toprak parçasında yerleşmiş olmaya
6. - - - bilimi insanın kökenini, evrimini ve ilkel toplulukları konu edinir.
- Verilen ifadede noktalı yere aşağıdakilerden hangisi getirilmelidir?**
- A) Mantık B) Antropoloji
C) Coğrafya D) Ekonomi
7. Araştırılacak bir konunun çeşitli yönleri vardır. Tek bir araştırmayla bir konuyu bütünüyle açıklığa kavuşturmak olanaksızdır. Bu nedenle araştırmacı, incelediği konunun sınırlarını çizmeli, neyi araştıracağını belirlemelidir.
- Bu ifade bilimsel çalışmalarda uyulan aşağıdaki ilkelere hangisiyle ilgilidir?**
- A) Nedensellik
B) Bilmediğini varsaymak
C) Konunun sınırlandırılması
D) Toplumsal olayların değişebilirliği
8. Bilimsel bir araştırmada öne sürülen varsayımların sınanması aşaması aşağıdakilerden hangisidir?
- A) Genelleme B) Gözlem
C) Varsayım D) Deneyleme
9. Araştırmacının bir işçi gibi görünüp uzun bir süre işçilerle çalışarak ve yaşayarak onlar hakkında bilgi edinmesi aşağıdaki kavramlardan hangisine örnek olabilir?
- A) Katılımlı gözlem
B) Tüme varım
C) Sistematik gözlem
D) Tümden gelim
10. I. Öznellik
II. Evrensellik
III. Genelleyicilik
- Yukarıdakilerden hangileri bilimin ilkelerindendir?**
- A) Yalnız I. B) Yalnız III.
C) I ve II. D) II ve III.

2. OTURUM

11. Araştırılan konuyla ilgili bireylerle yapılan karşılıklı konuşma şeklinde gerçekleşen sosyolojik araştırma tekniği aşağıdakilerden hangisidir?

- A) Olay inceleme
- B) Görüşme
- C) Sosyometri
- D) Monografi

12. Doğuştan gelen ve çoğunlukla değişmeyen statülere, verilmiş statü denir.

Buna göre aşağıdakilerden hangisi verilmiş statüye örnek olabilir?

- A) Doktor olmak
- B) Sanatçı olmak
- C) Dişi olmak
- D) Tüccar olmak

13. Toplumun belirli bir statüde bulunan bireyden beklediği davranışlar toplumsal rol olarak tanımlanmaktadır.

Buna göre aşağıdakilerden hangisi toplumsal rol örneği değildir?

- A) Bir annenin aynı zamanda doktor olması
- B) Öğretmenin öğrencileri eğitmesi
- C) Hâkimin tarafsız davranması
- D) Yargıcın adil olması

14. Aşağıdakilerden hangisi hukuk kurallarını ifade eden yazılı ya da resmi normlarla ilgili doğru bir bilgidir?

- A) Yaptırımları ayıplama biçimindedir.
- B) Örf ve adetler yazılı normlardır.
- C) Aynı normlar her zaman geçerlidir.
- D) Toplum bu normlara uymak zorundadır.

15. Kırsal alanın olumsuz koşulları ile kentsel alanın olumlu özellikleri bireylerin köyden kente akışına neden olmaktadır.

Buna göre aşağıdakilerden hangisi kırsal alanın olumsuz koşullarından biridir?

- A) Daha iyi hayat standardına ulaşma olanağı
- B) Eğitim, sağlık ve diğer olanakların eksikliği
- C) İş bulma olanaklarının fazlalığı
- D) Tüketim ürünlerinin bolluğu

16. Aşağıdakilerden hangisi küçük gruplar arasında yer almaz?

- A) Arkadaş grupları
- B) Oyun grupları
- C) Şehir
- D) Aile

17. Aşağıdakilerden hangisi sanayileşme ile birlikte ortaya çıkan bir toplumsal grup olan cemiyetin özelliğidir?

- A) İnsanlar birbirlerine yardım amaçlı yaklaşır.
- B) Resmî ve akılcı ilişkiler geçerlidir.
- C) Yüz yüze ilişkilerin olduğu gruptur.
- D) Geleneklerin etkisi vardır.

18. Kurtuluş Savaşı'nın halka dayanarak kazanılmış olması aşağıdaki Atatürk ilkelerinden hangisine örnek olabilir?

- A) Halkçılık
- B) Devletçilik
- C) Laiklik
- D) İnkılapçılık

19. Aşağıdakilerden hangisi milleti oluşturan ortak unsurlar arasında yer almaz?

- A) Dil
- B) Ekonomi
- C) Bencillik
- D) Kültür

20. Bir tabakada yer alan bireyin yaşam koşulları değişmeksizin iş yerini ve çevresini değiştirmesine yatay hareketlilik denir.

Buna göre aşağıdakilerden hangisi yatay hareketlilik örneğidir?

- A) Bir esnafın kendisine kalan mirasla marketler zinciri kurması
- B) Büyük bir şirket çalışanının, şirketin sahibi olması
- C) Bir fabrikatörün iflas ederek işçi olması
- D) Bir işçinin bir fabrikadan diğerine geçmesi

(221) SAĞLIK BİLGİSİ VE TRAFİK KÜLTÜRÜ – 1

1. Kişinin toplumdan ve devletten sağlığının korunmasını, gerektiğinde tedavi edilerek iyileştirilmesini isteyebilmesine ve toplumun sağladığı imkânlardan faydalanabilmesine ne ad verilir?

- A) Sağlık hakkı
- B) Hastalık hakkı
- C) Engellilik hakkı
- D) Rehabilitasyon hakkı

2. Evsel nitelikli atıklar için hangi renkli atık torbası kullanılmalıdır?

- A) Mavi
- B) Sarı
- C) Kırmızı
- D) Siyah

3. En üst düzeyde tıp teknolojisi kullanılan üniversite hastaneleri, kanser araştırma merkezleri, ruh ve sinir hastalıkları hastaneleri ve sanatoryumlardır.

Yukarıdaki açıklamada verilen sağlık kuruluşları, tedavi edici sağlık hizmetlerinin kaçınıcı basamağında yer alır?

- A) Birinci
- B) İkinci
- C) Üçüncü
- D) Dördüncü

4. Aşağıdakilerden hangisi su ve besin hijyeninde dikkat edilmesi gereken hususlardandır?

- A) Temizliğinden emin olunmayan suların içilmesi
- B) Gıdaları satın alırken son kullanma tarihine dikkat edilmesi
- C) Sokakta ya da açıkta satılan ve kaynağı bilinmeyen yiyeceklerin tüketilmesi
- D) Hastalık yapabilecek şüpheli besinlerin, özellikle küflenmiş olanların yenilmesi

5. I. Estetik olarak yüze bir bütünlük vermesi
II. Konuşmayı ve seslerin doğru bir şekilde çıkmasını sağlaması
III. Kendini çevreleyen destek dokuları koruması ve gelişmelerini sağlaması

Yukarıdakilerden hangileri dişlerin görevlerindedir?

- A) Yalnız I.
- B) I ve II.
- C) II ve III.
- D) I, II ve III.

6. Aşağıdakilerden hangisi fiziksel aktivitelerin zihinsel ve sosyal yararlarından biri değildir?

- A) Bireyler arası iletişim becerilerini geliştirilmesi
- B) Olumlu düşünme ve stresle başa çıkabilme yeteneğini azaltması
- C) Her yaşta bireyler için sosyal uyum ve kabul görme oranını artırması
- D) Vücut düzgünlüğünü geliştirerek bedeni ile barışık, özgüvenli bireyler oluşturması

7. Beslenme piramidinin en altını hangi besin grubu oluşturur?

- A) Tahıllar
- B) Proteinler
- C) Yağ ve şekerler
- D) Sebze ve meyveler

2. OTURUM

8. I. Yeterli fiziksel aktivite
II. Sosyo-kültürel etmenler
III. Aşırı ve yanlış beslenme alışkanlıkları

Yukarıdakilerden hangileri obezitenin oluşmasında başlıca risk etmenlerindendir?

- A) I ve II. B) I ve III.
C) II ve III. D) I, II ve III.

9. Beden kitle indeksi, yetişkin bir insanın kilosunun boyuna göre normal olup olmadığını gösteren bir parametredir.

Buna göre beden kitle indeksi "18,5 kg/m²'nin altında" olan kişiler için ne söylenebilir?

- A) Zayıf B) Normal kilolu
C) Fazla kilolu D) I. derece obez

10. **Stresin yol açabileceği rahatsızlıklarla ilgili olarak verilenlerden hangisi doğrudur?**

- A) Stresin vücut fonksiyonlarına etkisi yoktur.
B) Stresin yol açtığı en ciddi hastalıklardan birisi kalp krizidir.
C) Fizyolojik stres, bağışıklık sistemi üzerinde olumlu bir etki yapar.
D) Stres altında olan beyin, vücutta kortizol hormonu üretimini azaltır.

11. **Aşağıdakilerden hangisi sınav esnasında sınav kaygısıyla başa çıkma önerilerindendir?**

- A) Sınava uykusuz olarak girmek
B) Sınavdan erken çıkanları takip etmek
C) Yapılamayan sorularla inatlaşıp zaman kaybetmek
D) Duruş ve pozisyonu değiştirerek rahatlamaya çalışmak

12. **Aşağıdakilerden hangisi okullarda şiddeti önlemek için yapılabilecek davranışlardan biri değildir?**

- A) Zorba kişilerin ve riskli grupların belirlenmesi
B) Okulda çalışan tüm personelin ve öğrencilerin, zorbalığın tanımını bilmesi
C) Zorba öğrencilere, öfkelerini kontrol etmeye yönelik tekniklerin öğretilmesi
D) Yaş olarak daha büyük öğrencilerin, kendilerinden daha küçük öğrencilere destek olmalarının engellenmesi

13. **Tütün ve sigaranın sağlığa zararlarıyla ilgili olarak verilenlerden hangisi doğrudur?**

- A) Sigarada asıl bağımlılık yapan madde amonyaktır.
B) Sigara içen kişilerin yanında bulunanlar etkilenmez.
C) Pasif içici olmanın etkileri; sigara dumanına maruz kalmanın zamanı, yoğunluğu ve sıklığına göre değişir.
D) Koklanarak burundan çekilen ya da çiğnenen dumsuz tütünlere, nikotin kadar yüksek düzeyde zehir içermez.

14. **Aşağıdakilerden hangisi madde kullanımıyla mücadelede yapılması gereken davranışlardandır?**

- A) Gerektiğinde "hayır" diyebilme becerisine sahip olmayan gençler yetiştirilmesi
B) Kişiyi her yönüyle tanımaya çalışılan, karşılıklı saygı ve kabul anlayışlarına dayalı aile ilişkileri geliştirilmesi
C) Madde kullanımıyla mücadele ile ilgili bilgi ve bilinç sahibi olmaktan kaçınılması
D) Madde kullanımıyla ilgili baskılara direnmek için kararsız ve tutarsız olunması

15. **İlk yardımla ilgili olarak verilenlerden hangisi doğrudur?**

- A) Tıbbi araç gereç kullanılması
B) İlaçlı uygulamaları kapsaması
C) Sadece ambulansla yapılması
D) İlk yardımcı tarafından uygulanması

16. **Aşağıdakilerden hangisi ilk yardımın öncelikli amaçlarındandır?**

- A) Trafikteki kaza sayısını azaltmak
B) Hayati tehlikeyi ortadan kaldırmak
C) Sağlık personelinin mesleki başarısını artırmak
D) İnsanları zararlı alışkanlıklarından uzaklaştırmak

17. **Hasta/yaralıya sözlü uyarıya ya da hafifçe omzuna dokunarak "İyi misiniz?" diye sorulması hasta/yaralının hangi durumunun değerlendirilmesi için yapılır?**

- A) Bilinç
B) Dolaşım
C) Solunum
D) Solunum yolu açıklığı

18. **Aşağıdakilerden hangisi kısmi tıkanması olan kişide görülebilecek belirtilerdendir?**

- A) Konuşamaması
B) Nefes alamaması
C) Yutkunmaya çalışması
D) Morarmaya başlaması

19. **Burun kanamalarında uygulanan ilk yardımda, hasta/yaralının burun kanatları iki parmakla en az kaç dakika sıkılır?**

- A) 2 B) 3 C) 4 D) 5

20. **Kalp-damar sisteminin yaşamsal organlara uygun oranda kanlanma yapamaması nedeniyle ortaya çıkan ve tansiyon düşüklüğü ile seyreden ani gelişim yetmezliğine ne ad verilir?**

- A) Şok
B) Tıkanma
C) Kalp durması
D) Solunum durması

(243) İNGİLİZCE – 4

1-20. sorularda boş bırakılan yere uygun gelen kelime ya da ifadeyi işaretleyiniz.

1. Last summer I - - - - to Miami for my holiday.

- A) go B) goes
C) went D) to go

2. Lucas : - - - - ?
Ali : In 1990.

- A) When were you born
B) Who did you see last weekend
C) What time did you sleep yesterday
D) What did you do before you go to bed

3. We - - - - guests last Saturday.

- A) swam B) had
C) ate D) bet

2. OTURUM



There's a boy - - - - the door.

- A) in B) on
C) behind D) between



The mechanic is - - - - the car. He is repairing it.

- A) near B) under
C) next to D) opposite

6. Leslie : What time did you go to the cinema last Sunday?

Joel : - - - - .

- A) In 2005
B) In August
C) At the weekend
D) At seven o'clock

7. An elephant is - - - - than a bear.

- A) the biggest B) biggest
C) bigger D) big

8.



Tom is - - - - than Michael.

- A) taller B) safer
C) easier D) harder

9. I had English exam on Monday. So, I - - - - for it last weekend.

- A) studying B) studied
C) studies D) study

10. My brother - - - - a new car last month.

- A) buy B) buys
C) buying D) bought

11. Kevin: Did you see the lions when you went to the zoo?

Steve: No, - - - - .

- A) I did B) I didn't
C) I do D) I don't

12. Where - - - - your sister last Tuesday?

- A) am B) have
C) was D) are

13. My teacher was born - - - - 1983.

- A) of B) under
C) at D) in

14. Carol was born - - - - the 17th of November.

- A) on B) under
C) next to D) opposite

15. İstanbul is the - - - - city in Türkiye. Many people live there.

- A) more crowded
B) most crowded
C) more handsome
D) most handsome

16. My sister has a difficult exam tomorrow. She - - - - study hard.

- A) would B) wouldn't
C) should D) shouldn't

17. Our boss has lived in Ankara - - - - five years.

- A) already B) before
C) yet D) for

18. I - - - - him for eight years. He has been abroad since 2010.

- A) will see B) has seen
C) hasn't seen D) haven't seen

19. I must finish my project - - - - . I don't have much time.

- A) quickly B) sincerely
C) suddenly D) unexpectedly

20. Lionel Messi has - - - - for Barcelona football team for a long time.

- A) given B) fallen
C) played D) taught

(243) ALMANCA – 4

1 - 19. sorularda boş bırakılan yere uygun gelen ek, kelime ya da ifadeyi işaretleyiniz.

1. A: - - - - du mir beim Kochen helfen?
B: Ja, ich - - - - .

- A) Kannst / kann
B) Kann / kannst
C) Können / kann
D) Kann / können

2. - - - - Vater und - - - - Kind spielen Tennis.

- A) Das / die B) Die / das
C) Der / den D) Der / das


3. - - - - das Fenster!

- A) Offen B) Öffne
C) Öffnen D) Öffnest

4. A: - - - - ihr auch Döner essen?
B: Ja, gerne.

- A) Wollt B) Wollen
C) Willst D) Will

5.



Die weiße Hose ist - - - - ?

- A) am billigsten
B) am teuersten
C) teurer
D) genauso billig

2. OTURUM

6. Der Junge freut sich darauf, ----- er Ferien hat.

- A) denn B) dass
C) dann D) um

7. gut, besser, ----- .

- A) gute B) beste
C) am besten D) besseres

8. A: ----- kannst du heute im Schwimmbad schwimmen?
B: Zwei Stunden.

- A) Warum B) Wie oft
C) Weshalb D) Wie lange

9. Ich möchte mir ein rot----- Auto kaufen.

- A) -e B) -en C) -es D) -er

10. ----- gesund zu sein, muss ich Sport machen.

- A) Um B) Bei C) Zu D) Am

11. ----- du willst, können wir zusammen lernen.

- A) Wenn B) Das
C) Warum D) Um

12.



Die Tomate ist ----- .

- A) Getränk B) Obst
C) Fleisch D) Gemüse

13. Das Kind schläft zu viel. Der Vater sagt: "----- nicht so viel!" (Imperativ)

- A) Schlafen B) Schlaf
C) Schläft D) Geschlafen

14. Am Wochenende ----- ich meine Hausaufgaben schreiben.

- A) ist B) sein
C) will D) hat

15. Die Arbeiter müssen jeden Tag 8 Stunden ----- .

- A) arbeiten B) arbeitet
C) arbeitest D) arbeite

16. Die klein----- Katze und der klein----- Hund spielen zusammen.

- A) -en / -es B) -e / -er
C) -er / -en D) -e / -e

17. A: Soll ich dich morgen anrufen?
B: Nein, du ----- um 12 Uhr zu mir kommen.

- A) bist B) kannst
C) sollen D) müssen

18. Um ein Land besser kennenzulernen, ----- man es besuchen.

- A) wollen B) sein
C) sollte D) hat

19. Alle Schüler müssen ----- Samstag ----- 10 Uhr in der Schule sein.

- A) um / am B) am / um
C) von / bis D) bis / zu

20. Kurallı bir cümle oluşturunuz.

dein – gib – Buch – mir.
1 2 3 4

- A) 1 / 2 / 3 / 4 B) 4 / 3 / 2 / 1
C) 2 / 4 / 1 / 3 D) 3 / 1 / 4 / 2

(243) FRANSIZCA – 4

1 – 16. sorularda boş bırakılan yere uygun gelen kelime ya da ifadeyi bulunuz.

1. Pierre ----- de l'haltérophilie.

- A) font B) faites
C) fait D) fais

2. Alain : Pourquoi ton fils se lève tôt le dimanche ?

Sophie : ----- .

- A) Parce que son cours de natation commence à neuf heures
B) Elle sort deux fois par semaine avec ses amis
C) Elle aime se coucher tard
D) Elle va souvent à la piscine

3. Léa : ----- ?

Zoé : Il fait mauvais.

- A) Qui fait le ménage chez toi
B) Buvez-vous du jus d'orange
C) Je vous dois combien
D) Quel temps fait-il aujourd'hui

4. Samedi après-midi, je vais ----- exposition d'art moderne.

- A) à l' B) de la
C) au D) aux

5. Lale a quinze ans. Sarah a seize ans.

Sarah est ----- âgée que Lale.

- A) aussi B) plus
C) moins D) meilleur

6. Annie : Vous avez ----- s'il vous plaît?

Marc : Oui, il est 9h 45.

- A) envie de regarder un film d'action
B) un animal domestique
C) de nouveaux voisins
D) l'heure

7. Alice et Philippe ----- du cinéma et ils rentrent chez eux vers minuit.

- A) se promènent
B) finissent
C) connaissent
D) sortent

8. Le fils de ma sœur est ----- .

- A) mon neveu B) mon cousin
C) mon frère D) ma fille

9. Je ne préfère pas voir ce film d'horreur. Ça dure deux heures et il a l'air ----- .

- A) nul B) génial
C) bon D) comique

10. ----- il neige, je me promène dans le parc.

- A) Quel B) Comment
C) Quand D) Combien

11. Quand il y a du soleil, tu dois ----- tes lunettes de soleil.

- A) connaître B) mettre
C) faire D) savoir

2. OTURUM

12. **Sabine** : Vous buvez - - - - ?
Meral : Oui, merci.

- A) de la salade verte
- B) du gâteau au chocolat
- C) du thé vert
- D) de la tarte aux pommes

13. - - - - une minute, l'ascenseur est au troisième étage !

- A) Prends
- B) Achète
- C) Attends
- D) Va

14. Dans une boulangerie, on achète, - - - -.

- A) du fromage
- B) de la viande
- C) du poisson
- D) du pain

15. Vous êtes - - - -. Entrez s'il vous plaît, le directeur vous attend.

- A) en été
- B) à l'arrêt de bus
- C) à l'heure
- D) en coton

16. **Erkan** : - - - - commence à quelle heure ?

Sandra : À 7h 30 du matin.

- A) Le dîner
- B) La journée
- C) Le déjeuner
- D) Le petit déjeuner

17. Aşağıdaki cümlelerin hangisinde «futur proche» kullanılmıştır ?

- A) Il va à la gare pour chercher sa tante.
- B) À midi, mange au restaurant universitaire.
- C) J'écris un courriel à mon ami français.
- D) Elle va repasser les chemises de son fils.

18. «Mets ta voiture au garage ! Il fait froid aujourd'hui.» cümlesinde altı çizili fiil hangi zamanda kullanılmıştır?

- A) Impératif
- B) Passé récent
- C) Futur proche
- D) Présent

19. Aşağıdaki cümlelerin hangisinde «passé composé» kullanılmıştır ?

- A) Mon fils cherche du travail à Paris.
- B) Hier soir, j'ai fait un bon repas pour mes invités.
- C) Sophie et son mari vont partir en voyage en Afrique du Sud.
- D) Lave-toi les mains avant de manger !

20. soruda verilen resme göre doğru ifadenin bulunduğu seçeneği işaretleyiniz.

20.



- A) Elle est vieille et elle est sérieuse.
- B) Elle est jeune et elle a un gros chapeau.
- C) Elle est mince et elle a des lunettes de soleil.
- D) Elle est longue et elle porte une écharpe.

(404) DİL VE ANLATIM – 4

1. Aşağıdakilerin hangisinde olay farklı bir kişi ağzından aktarılmıştır?

- A) Babam bahçeyle yol arasındaki bir yerin uygun olduğunu söyledi ve o akşam benim yerime toprağı kazdı. Küçük ağacımı oraya diktim.
- B) Ertesi sabah horoz sesleriyle uyandım. Dışarı çıktım. Otelin önü sebze bahçesi... Tavuklar dolaşiyor. Önümüz Marmara Denizi... Küçük ve sevimli bir köyde olduğuma sevindim.
- C) Neden sonra ışıklar yandı. Kadın, çocuğundan uzun süredir ses çıkmadığını fark etti ve birden salona koştu. Yavrucağ, küçük dizlerini karnına çekerek uyuyakalmıştı.
- D) Arkadaşlarım bana bakıyorlardı, ben de onlara bakıyordum. Hayır hayır, onlara kızgınlıkla bakmıyordum. Çünkü hepsini seviyordum ama benimle alay etmelerine kızyıyordum.

2. Ayırılığın yırtıcı hislerini besteler I. II. Sonu gelmez yollarda kağrı gıcirtıları Hasret çeken yolcuya kavuşmayı III. müjdelere Savrulurken rüzgârda kağrı gıcirtıları IV.

Bu dizelerde numaralanmış sözcüklerden hangisi somut isimdir?

- A) I. B) II. C) III. D) IV.

3. İstiklal Caddesi'ni dik kesen Bekâr Sokak üzerinde şirin bir dükkân... Davetkâr vitrininin önüne beyaz dantel örülmüş yuvarlak bir masa ile iki sandalye iliştilmiş. Dükkânın ahşap çerçevesi kapısını aralamamla her katından incik boncukların, keçe meleklerin, zarif zincirlerin sarktığı, iki insan boyunda bir ağaç beliriyor. Bildiğimiz ağaçlardan değil o; katman katman, heybetli, gösterişli...

Bu parçanın anlatım türü aşağıdakilerden hangisidir?

- A) Betimleyici B) Destansı
- C) Kanıtlayıcı D) Düşsel

4. Aşağıdaki cümlelerde bulunan altı çizili sözcüklerden hangisi sıfat olarak kullanılmıştır?

- A) Mümtaz, burada büyük kayalara oturup akşamı seyretmeyi severdi.
- B) Zaman öldüren oyunların yerine artık sayısal ve sözel oyunlar var.
- C) Burada sizi harika bir görsel şölen bekliyor.
- D) Ağaç dallarının arasında bir saksağan yuvasının olduğunu fark ettim.

5. I. Sözcükler genellikle gerçek anlamlarıyla kullanılır. II. Bu anlatımda duygular ön plandadır. III. Dil, göndergesel işleviyle kullanılır. IV. Daha çok roman, şiir, hikâye gibi türlerde bu anlatımdan yararlanılır.

Numaralanmış özelliklerden hangileri lirik anlatıma ait değildir?

- A) I ve II. B) I ve III.
- C) II ve IV. D) III ve IV.

6. Aşağıdaki altı çizili sözcüklerden hangisi zamirdir?

- A) Buraya ev yapılması fikri kime ait?
- B) Ünlü yazar, kaçınıcı yüzyılda yaşamıştı?
- C) Fırtınanın bu kadar şiddetli olacağı tahmin edilmedi mi?
- D) Bizim isteklerimizi neden dikkate almıyorlar?

2. OTURUM

7. Tarihin dilinden düşmez bu destan,
Nehirler gazidir, dağlar kahraman,
Her taşı bir yakut olan bu vatan,
Can verme sırrına erenlerindir.

Bu dizelerde kullanılan anlatım türü aşağıdakilerden hangisidir?

- A) Gelecekte söz eden
B) Mizahi
C) Öyküleyici
D) Destansı

8. • 50 km hızı aşmayınız.
• Tünel girerken aracınızın farlarını açınız.
• Ağır araçlar sağdan gidiniz.

Bu örneklerde aşağıdaki anlatım türlerinden hangisi kullanılmıştır?

- A) Kanıtlayıcı
B) Emredici
C) Gelecekte söz eden
D) Tartışmacı

9. Kip ve şahıs eki almış fiillere çekimli fiil denir.

Buna göre aşağıdaki cümlelerin hangisinde yüklem çekimli fiildir?

- A) Akın'ın babası çok başarılı bir öğretmenmiş.
B) Bize aylardır bahsettiğin arkadaşın bu muydu?
C) Bu bölge, bünyesinde barındırdığı güzellikle çok fazla turist çekiyor.
D) Çocukluğumdan aklımda kalan en güzel şey bahçemizdeki ıhlamur ağacıydı.

10. • Verilen bilgiler örnek ve tanımlarla pekiştirilir.
• Daha çok öznel cümleler kullanılır.
• Üslup, sade ve gösterişsizdir.

"Öğretici anlatım"la ilgili bu cümleler doğru-yanlış bakımından değerlendirildiğinde sıralama aşağıdakilerden hangisi olur?

- A) D – Y – D B) Y – Y – D
C) D – D – D D) Y – D – D

11. Çağlar boyunca nar; umudun, verimliliğin ve bolluğun simgesiydi. Sanatın, mitolojinin ve edebiyatın da ortak noktası oldu. Eski Mısırlılar yenden doğmak umuduyla narlarla görmülüyordu. Hitit tarım tanrısı kullarını nar, üzüm ve buğday ile kutsuyordu. Romalılar narın kabuğunu kurutup kösele olarak kullanıyordu. Nar, boya ve dekor işlerinde de kullanılıyordu.

Bu parçanın anlatım türü aşağıdakilerden hangisidir?

- A) Betimleyici
B) Açıklayıcı
C) Mizahi
D) Söyleşmeye bağlı

12. Bir yazarın inandırma, aydınlatma, kendi görüşünü kabul ettirme amacıyla yazdığı bir yazıda - - - - anlatımı tercih etmesi beklenir.

Bu cümlede boş bırakılan yere aşağıdakilerden hangisi getirilmelidir?

- A) betimleyici B) öyküleyici
C) kanıtlayıcı D) düşsel

13. Yılların verdiği yorgunluk dedemi epey yaşlandırmıştı.

Bu cümledeki altı çizili zarfın türü aşağıdakilerden hangisidir?

- A) Durum
B) Zaman
C) Yer-yön
D) Nicelik (azlık-çokluk)

14. • Olaylar hayal ürünüdür.
• Kişiler, olağanüstü özellikler taşıyor.
• Hayal, varsayım, abartma ve kişileştirme gibi unsurlar sıkça kullanılır.

Özellikleri verilen anlatım türü aşağıdakilerden hangisidir?

- A) Mizahi
B) Düşsel
C) Açıklayıcı
D) Söyleşmeye bağlı

15. Şimdiye kadarki en etkili kasırgalardan olan Irma'nın Küba ve Karayiplerden sonra iki gün içinde ABD'nin Florida eyaletine ulaşması bekleniyor. Kasırganın Florida'da su baskını ve yıkımlara neden olabileceği tahmin ediliyor.

Bu parçanın anlatımında aşağıdakilerden hangisi kullanılmış olabilir?

- A) Gelecekte söz eden
B) Düşsel
C) Mizahi
D) Destansı

16. Aşağıdaki cümlelerin hangisinde edat (ilgeç) kullanılmamıştır?

- A) Hilmi Bey, çoğu kişiye göre fedakâr bir insandı.
B) O gün eve gitmek için üç araç değiştirmek zorunda kaldım.
C) Kitaplara sığınmak gibi bir zevk var mı bu dünyada?
D) Türkçe dersinde sınıfımıza okul müdürümüz geldi.

17. Aşağıdaki cümlelerin hangisinde bağlaç, sıfat türündeki sözcükleri bağlamıştır?

- A) Hem babama hem de anneme söz vermiştim sınava hazırlanacağıma.
B) Evin ve arabanın anahtarını dün spor salonunda unutmuşum.
C) İki saat sonra onu ve seni burada bekliyor olacağım.
D) Yemeği gayet şık ve ünlü bir restoranda yedik.

18. Sohbet, mülakat, diyalog ve monolog metinlerinde aşağıdaki anlatım türlerinden hangisi kullanılır?

- A) Öyküleyici
B) Betimleyici
C) Söyleşmeye bağlı
D) Emredici

19. Aşağıdakilerden hangisi mizahi anlatıma örnek olabilecek eserlerden biridir?

- A) Leyla ile Mecnun
B) Harnâme
C) Aşk-ı Memnu
D) Yaprak Dökümü

20. • Aaa, öğretmenimiz de buradaymış!
• Vah vah, çocuk yere çok kötü düştü!
• Oh! Biz çalışalım, sen yat.

Bu ünlem cümlelerinde aşağıdaki duygulardan hangisi yoktur?

- A) Sitem B) Şaşırma
C) Acıma D) Hüzün

(411) TÜRK EDEBİYATI – 1

1. Her gün bu kadar güzel mi deniz? Böyle mi görünür gökyüzü her zaman? Her zaman güzel mi bu kadar, Bu eşya, bu pencere?

Bu dizelerin konusu aşağıdakilerden hangisidir?

- A) Aile sevgisi
B) Gurbet acısı
C) Yaşama sevinci
D) Memleket özlemi

2. OTURUM

2. Nuran'ın gitmesiyle zihnî hayatı durmuş gibiydi. Sanki genç kadın bu mazi rüyasının bütün canlı ve güzel taraflarını beraberinde götürmüş, yerinde tıpkı Mümtaz'ın hayatı gibi bir kül yığını bırakmıştı. O kadar dikkatle hazırladığı, beraberinde yaşadığı kahramanlar, bir daha dirilmelerine imkân olmayan gölgeler, sıska ve cansız kuklalar olmuşlardı.

Bu parçaya göre edebiyatın hangi bilim dalıyla ilişkisi olduğu söylenebilir?

- A) Tarih B) Psikoloji
C) Sosyoloji D) Biyoloji

3. Aşağıdakilerden hangisi sözlü anlatımın özelliklerinden **değildir**?

- A) Ses tonu, vurgu, tonlama gibi unsurlara yer verilir.
B) Yazım kurallarına ve noktalama işaretlerine uyulur.
C) Kısa ve devrik cümlelerle sözün gücü artırılır.
D) Dinlenen konunun bire bir tekrar edilme olanağı yoktur.

4. Rüya gibi bir yazdı. Yarattın hevesinle Her anını, her rengini, her şiirini hazdan Hâlâ doludur bahçeler en tatlı sesinle! Bir gün, bir uzak hatıra özlersen o yazdan

Bu dörtlükle ilgili aşağıdakilerden hangisi söylenemez?

- A) Bilimsel metinlere örnek teşkil etmektedir.
B) Duygular dile getirilirken benzetmelerden faydalanılmıştır.
C) Kelimeler yan ve mecaz anlamlarıyla kullanılmıştır.
D) İnsanların duygu, düşünce ve hâyal dünyasını zenginleştirmektedir.

5. Dağlar ile taşlar ile
Çağırayım Mevlâm seni
Seherlerde kuşlar ile
Çağırayım Mevlâm seni

Bu dörtlük Türk şiirinde hangi geleneğe ait olabilir?

- A) Millî edebiyat şiiri
B) Tanzimat şiiri
C) Divan şiiri
D) Tasavvuf şiiri

6. Aşağıdakilerden hangisi divan edebiyatı nazım biçimlerinden biridir?

- A) Koşma B) Mâni
C) Türkü D) Mesnevi

7. Aşağıdakilerden hangisi fonetik (işitsel) sanatlardandır?

- A) Heykel B) Resim
C) Edebiyat D) Mimari

8. Aşağıdakilerden hangisi anlatmaya dayalı edebî metinlerden **değildir**?

- A) Roman B) Dram
C) Hikâye D) Destan

9. Bugün Boğaz masmavi, gür ve koyu yeşil. Yamaçlar çıldırılmış renklerle bezenmiş. Aydınlık kimi kez bir tarafa, kimi kez öbür tarafa sığıyor. Alçak boylu, tüylü ilginler, erguvanların eksik bıraktığı etekleri dolduruyor uçuk pembe rengiyle.

Bu parçayla ilgili aşağıdakilerden hangisi söylenemez?

- A) Betimleyici anlatımdan yararlanılmıştır.
B) Anlatımda nesnel bir tavır sergilenmiştir.
C) Görme duyusuna ait ayrıntılara yer verilmiştir.
D) Kişileştirmeye başvurulmuştur.

10. Aşağıdakilerden hangisinde hece ölçüsü kullanılmıştır?

- A) Benim doğduğum köylerde
Buğday tarlaları yoktu
Dağit saçlarını bebek
Savur biraz
B) Sen durub raks idesen karşına
ben boynum egem
İne zülfün koca sen sîm-beri döne
döne
C) Uzun ince bir yoldayım
Gidiyorum gündüz gece
Bilmiyorum ne hâldeyim
Gidiyorum gündüz gece
D) Sevğileri yarınlara bıraktınız
Çekingen, tutuk, saygılı.
Bütün yakınlarınız
Sizi yanlış tanıdı

11. Aramızı kesti dumanlı dağlar
Tepesinden aşan yollar yücedir
Artıyor efkârım yine bu çağlar
Bilmiyorum nazlı yârim nicedir

Yukarıdaki dörtlük ile ilgili verilen bilgilerden hangisi yanlıştır?

- A) Ayrılık temasını dile getirmektedir.
B) Hece ölçüsü ile yazılmıştır.
C) Ek hâlinde redif vardır.
D) Sarma uyak örgüsü kullanılmıştır.

12. Beni candan usandırdı cefâdan yâr
usanmaz mı
Felekler yandı âhımdan murâdım
şem'i yanmaz mı

Bu beyitte görülen en belirgin söz sanatı aşağıdakilerden hangisidir?

- A) Mübalağa (abartma)
B) Teşhis (kişileştirme)
C) Tezat (zıtlık)
D) İntak (konuşurma)

13. Herkesçe bilinen tarihî bir olayın, şahsın veya sözün hatırlatılması sanatına telmih denir.

Buna göre aşağıdakilerden hangisinde telmih sanatına yer verilmiştir?

- A) Konuştun güneşi hatırlıyordum
Gariptin yepyeni bir sesin vardı
Bu ses öyle benim öyle yabancı
Bu ses saçlarımı ıslatan sessiz bir kardı
B) Gönlünü Şirin'in aşkı sarınca
Yol almış hayatın ufuklarınca
O hızla dağları Ferhat yarınca
Başlamış akmağa çoban çeşmesi
C) Altın kulelerden yine kuşlar
Tekrârını ömrün eder îlân
Kuşlar mıdır onlar ki her akşam
Âlemlerimizden sefer eyler
D) Seni düşünürken
Bir çakıl taşı ısınır içimde
Bir kuş gelir yüreğimin ucuna
konar
Bir gelincik açılır ansızın

14. İncecikten bir kar yağar
Tozar Elif Elif diye
Deli gönül abdal olmuş
Gezer Elif Elif diye

Bu dörtlük Türk şiirinde hangi geleneğe ait olabilir?

- A) Halk şiiri
B) Tanzimat şiiri
C) Divan şiiri
D) Fecriyatı şiiri

15. Yiğitler çağrışır yaman gün olur
Allah Allah derler yüksek ün olur
Çarha çarha döğüşecek hun olur
Hasmın arar koçlar meydan içinde

Bu dörtlük koşma türlerinden hangisine örnek olabilir?

- A) Güzelleme B) Taşlama
C) Koçaklama D) Ağıt

16. Aşağıdakilerden hangisi Tasavvuf şairlerinden **değildir**?

- A) Pir Sultan Abdal
B) Yunus Emre
C) Karacaoğlan
D) Ahmet Yesevi

17. Gözlerimi gün gibi kamaştıran yüzünü
Daha candan görürüm senden uzaklaşınca.
Sararırın dönüşte görünce öksüzünü,
Bir gelinlik kız olur aşkım senin yaşınca.

Bu şiirin konusuna göre türü aşağıdakilerden hangisidir?

- A) Epik B) Lirik
C) Pastoral D) Satirik

2. OTURUM

18. Aşağıdakilerden hangisi âşık edebiyatının özelliklerinden değildir?

- A) Nazım birimi dörtlüktür.
- B) Hece ölçüsü kullanılır.
- C) Ağır ve sanatlı bir dili vardır.
- D) Sözlü bir edebiyattır.

19. Sabahtan kalktım da sütü pişirdim Sütün köpüğünü yere taşırdım Burçak tarlasında aklım şaşırđım

Aman ne zor imiş burçak yolması
Burçak tarlasında gelin olması

Bu dizeler şekil ve içerik özellikleri dikkate alındığında aşağıdakilerden hangisine örnek olabilir?

- A) Kaside
- B) Mesnevi
- C) Gazel
- D) Türkü

20. Perîşân-hâlin oldum sormadın hâl-i perîşânım Gamından derde düştüm kılmadın tedbîr-i dermânım Ne dersin rüzgârım böyle mi geçsin güzel hânım Gözüm cânım efendim sevdiğim devletlü sultânım

Bu dizelerle ilgili aşağıdakilerden hangisi söylenemez?

- A) Toplumsal bir konu dile getirilmiştir.
- B) Arapça, Farsça sözcükler kullanılmıştır.
- C) Divan edebiyatına ait bir şiirdir.
- D) Aruz ölçüsüyle yazılmıştır.

(412) TÜRK EDEBİYATI – 2

1. Aşağıdakilerin hangisinde kahraman anlatıcı bakış açısı kullanılmıştır?

- A) Yolu kesen bir deryeden geçerken, atların nalları gümüş renkli ıslak taşlara sürtünerek ses çıkardı ve hayvanlar yavaşladı. Dereyi geçtikten sonra Danyar kamçısını şaklattı ve birdenbire türkü söylemeye başladı.
- B) Giysi pazarına indim. Nasıl olursa olsun ceketimin altına giyecek bir şeyim bulunsun istiyor, pazardan bir yelek satın alırım diye düşünüyordum.
- C) Çölde tuzağa düşen bir ceylanı ve bir güvercini kurtaran Mecnun; bundan sonra vahşi hayvanlarla birlikte dolaşır, kuşlar başında yuva yaparlar.
- D) Yedigey devenin yanına geldiği zaman, Sabitcan'la yaptığı konuşmanın etkisinden, kızgınlığından kurtulmuş değildi. Böyle bir durumla karşılaşacağını önceden anlamıştı zaten.

2. Ben, sanatı ve edebiyatı insan varlığının en kutsal yaratışlarından biri sayarım. Gerçek sanat eserlerinin de yarına kalmayı hedefleyen sanatçıların ellerinden çıkacağına inanıyorum. Zaten bana bu satırları yazdıran bu inanış oldu. Tabii yarını, geleceği masal sayanlar, günü gününe yaşamakla yetinenler, diledikleri gibi düşünüp yazarlar. Bu onların bileceği iştir.

Bu metnin türü aşağıdakilerden hangisidir?

- A) Anı
- B) Biyografi
- C) Makale
- D) Deneme

3. Aşağıdakilerden hangisi fıkranın özelliklerinden değildir?

- A) Günlük olaylarla ilgili kişisel görüşler aktarılır.
- B) Yalın bir dil ve samimi bir üslupla yazılır.
- C) Düşünceler kısa ve öz bir şekilde dile getirilir.
- D) Ele alınan düşüncenin kanıtlanması gerekir.

4. Aşağıdakilerden hangisi geleneksel Türk tiyatrosu türlerinden değildir?

- A) Karagöz
- B) Orta oyunu
- C) Dram
- D) Meddah

5. Battaniyesinin yarısı üzerinde, yarısı denizde, güverteye uzanmış. Göğsüne, başına, ayaklarına, kollarına kuşlar konmuş! Adamı uyandırdık. Utandı. Fakat ne bileyim; o bizden utandığı için biz daha beter utandık. Laf ve iş olsun diye suyumuz olmadığı için geldiğimizi söyledik. Teknedeki varilin suyunu denize boşaltıp Ahmet'ten su aldık.

Bu metinde öykü öğelerinden hangisine yer verilmemiştir?

- A) Zaman
- B) Yer
- C) Kişi
- D) Olay

6. Şüphesiz yalnızlık fena bir şeydir. Ama eğer yalnız kalmak bir kaderin icabı ise ona karşı da tedbirli olmaya mecbur değil miyiz? Bu gençlik günleri böyle sürüp gitmez. Bir gün siz de yaşlanacak ve yaşlandıkça yalnız kalacaksınız. O zaman boş vakitlerinizi doldurmakta büyük zorluk çekeceksiniz.

Bu metnin türü aşağıdakilerden hangisidir?

- A) Makale
- B) Deneme
- C) Gezi yazısı
- D) Anı

7. Romancı da şair de iç içe giren geçmişin özlemi ile geleceğin umudunu kişi olarak, toplum olarak bütün yoğunluğu ile yaşamakta, yazdığını bu iç yaşayışın etkisi altında yazmaktadır. Yaşadığı güzel bir anı ebedileştirmeyi, birbirine benzer günlerin renksizliğinden kurtulmayı, geçmiş güzel günleri daha da güzelleştirmeyi amaçlar. Özlemine taşıdığı bir dünya canlandırmak, onu bütün insanlarla paylaşmak, içindeki ağırlıkları atmamak için yazar.

Bu parçada yazı yazmakla ilgili aşağıdakilerden hangisine değildir?

- A) Gündelik hayatın monotonluğundan kurtardığına
- B) Sosyal aksaklıkları düzelttiğine
- C) Geçmişini daha değerli kıldığına
- D) Yaşanılan anları ölümsüzleştirdiğine

8. Âmine Hatun Muhammed anesi Ol sedeften doğdu ol dür dânesi

Ol gice kim doğdu Hayrû'l-Beşer
Anesi anda neler gördü neler

Bu dizeler aşağıdaki mesnevi türlerinden hangisine ait olabilir?

- A) Şehrengiz mesnevi
- B) Aşk hikâyeleri mesnevisi
- C) Dinî-tasavvufi mesnevi
- D) Cenk destanları mesnevisi

9. Aşağıdakilerden hangisi anlatmaya bağlı metin türlerinden değildir?

- A) Eleştiri
- B) Masal
- C) Destan
- D) Hikâye

10. Aşağıdakilerden hangisi doğal destandır?

- A) Alp Er Tunga
- B) Kurtarılmış Kudüs
- C) Kaybolmuş Cennet
- D) Üç Şehitler

11. Bu eserde bölümler, zaman dilimlerini işaret etmektedir. Daha değişik bir ifadeyle, birbirinden rakamla ayrılan her bölüm, ayrı bir zaman diliminde vuku bulan hadiselerin ve bu hadiselerin çevresinde yapılan tahlillerin anlatılmasına tahsis edilmiştir. Ancak yazarın tahlillerinde başarılı olduğunu söylemek zordur.

Bu parçanın türü aşağıdakilerden hangisidir?

- A) Anı
- B) Gezi yazısı
- C) Mektup
- D) Eleştiri

2. OTURUM

12. Adı üstünde, Deli Mahmut demişler, davranıp susturdu herkesi, uzaklaştırdı Garip'in yamacından. "Hele oturun boş bulduğunuz yere, sesinizi soluğunuzu tutun da ağzında kalan diline vursun, diyeceğini bitirsin âşık." diye bağırdı. Bıraktığı yerden başladı Garip:

Bir ulu çay vardır ortadan akar
Güzelleri her gün bağlara çıkar
Âşıklar bağrını odlara yakar
Ötüşür bülbül, gülü Tebriz'in

Söz bitti, saz asıldı, duyan duymayan parmak ısırıldı, alkış tuttu Garip'e.

Bu parçaya bakılarak Âşık Garip hikâyesi ile ilgili aşağıdakilerden hangisi söylenemez?

- A) Nazım ve nesir karışık söylendiği
- B) Müzik eşliğinde anlatıldığı
- C) Öğretici bir metin olduğu
- D) Sade ve akıcı bir dil kullanıldığı

13. • Oyuncunun oyun gereği kullandığı eşyalar
• Oyuncunun sahnede canlandırdığı kişilik
• Unutulan sözleri oyuncuya fısıldayan kişi

Aşağıdaki tiyatro terimlerinden hangisinin tanımı yukarıda verilmemiştir?

- A) Figüran
- B) Aksesuar
- C) Rol
- D) Süflör

14. **Aşağıdakilerden hangisi edebiyat akımlarına göre roman türlerinden değildir?**

- A) Romantik
- B) Natüralist
- C) Polisiye
- D) Realist

15. I. Olaylar serim, düğüm ve çözüm bölümlerine uygun olarak anlatılır.
II. Duygu, düşünce ve hayaller ön plandadır.
III. Bu tarz öykü Anton Çehov tarafından başlatılmıştır.
IV. Ömer Seyfettin edebiyatımızda bu türün en bilinen temsilcilerindedir.

Numaralanmış özelliklerden hangileri olay öyküsü için söylenbilir?

- A) I ve II.
- B) I ve IV.
- C) II ve III.
- D) III ve IV.

16. Bebekle oynar gibi seve seve, sevine sevine Munise'yi süsledim. Küçük kıza, bir el aynası içinde kendisini gösterdiğim vakit, sevinçten kıpkırmızı oldu. Pembe bir kurdele ile iki yandan örülmüş saçlarına, lacivert yünülden kısa entarisine, uzun siyah çoraplarına, bir yabancı seyrederek korka korka bakıyordu. Sonradan anladığıma göre, Munise'nin süsü günlerce Zeyniler köyünde dedikodu malzemesi olmuş.

Bu parçadan hareketle metnin ait olduğu döneme ilişkin aşağıdakilerden hangisine ulaşılabilir?

- A) Siyasi yapı
- B) Askerî yapı
- C) Toplumsal yapı
- D) Ekonomik yapı

17. İlk defa yazı kullandığı kabul edilen Sümerler pişmiş kilden yaptıkları tabletlere çivi yazısıyla duygu, düşünce, hayal ve bilgilerini kaydetmişler; düzenli okullarda yazmayı ve okumayı öğretmişlerdir. Sümerlerden, Babillilerden ve Asurlulardan kalma on binlerce tabletlik kütüphaneler 19. ve 20. yüzyılda bulunmuş; onlar sayesinde Mezopotamya'nın yüksek medeniyeti bugünün insanları tarafından öğrenilmiştir.

Bu metnin türü aşağıdakilerden hangisidir?

- A) Makale
- B) Deneme
- C) Fıkra
- D) Mektup

18. Bir varmış, bir yokmuş; vaktin zamanında fakir bir değirmenci varmış. Bu değirmencinin de beş altı tane tavuğu varmış. Bu tavuklara da bir tilki dadanmış, günde gelir bir tanesini boğar atarmış. Değirmenci bir gün belindeki kayışını çıkarmış, tilkiyi beklemeye başlamış. Tilki damdan atlayınca hemen kayışı boğazına geçirivermiş. Tilki dile gelmiş: "Etme tutma değirmenci dayı, sen beni öldürme; ben seni zengin edeceğim."

Bu metin ile ilgili aşağıdakilerden hangisi söylenemez?

- A) Tekerlemeye yer verilmiştir.
- B) Olayın geçtiği zaman bellidir.
- C) Kişileştirme yapılmıştır.
- D) Olağanüstü bir olay anlatılmaktadır.

19. **Aşağıdakilerden hangisi hikâye (öykü) türünde eser vermiştir?**

- A) Mehmet Âkif Ersoy
- B) Orhan Veli Kanık
- C) Tevfik Fikret
- D) Ömer Seyfettin

20. Yılın yaklaşık 150 günü karla örtülü, Türkiye'nin en yüksek ve en soğuk illerinden Erzurum'da bulunan Palandöken, Doğu'nun en popüler kayak merkezi. Uzunlukları toplamda 28 km olan 21 pistin yer aldığı merkezde, yüksek irtifa, kaliteli kar ve uzun kış mevsimi sınırsız bir kayak keyfi sunuyor.

Bu metin türü aşağıdakilerden hangisidir?

- A) Deneme
- B) Gezi yazısı
- C) Fıkra
- D) Sohbet

(415) TÜRK EDEBİYATI – 5

1. Bir edebî eser incelenirken yazarın ruh hâlini anlayabilmek için - - - - biliminden; eserin yazıldığı dönemin toplumsal şartları, askerî ve siyasi gelişmelerini kavrayabilmek için - - - - ve - - - - bilimlerinden faydalanmak gerekir.

Bu metinde boş bırakılan yerlere aşağıdakilerden hangisi getirilemez?

- A) arkeoloji
- B) psikoloji
- C) sosyoloji
- D) tarih

2. **Aşağıdakilerden hangisi Tanzimat'ın Birinci Dönemi'nde şiirde ağırlıklı olarak ele alınan temalardan değildir?**

- A) Hak
- B) Aşk
- C) Eşitlik
- D) Adalet

3. **Tanzimat edebiyatının başlangıcı olarak kabul edilen olay aşağıdakilerden hangisidir?**

- A) İlk özel gazetenin çıkarılması
- B) Batılı tarzda okulların açılması
- C) Yabancı ülkelere elçiler gönderilmesi
- D) Gülhane Hattı Hümayûnu'nun okunması

4. **Aşağıdakilerden hangisi Tanzimat Dönemi'nde edebiyatımıza giren türlerden değildir?**

- A) Makale
- B) Deneme
- C) Eleştiri
- D) Şiir

5. **Türkçeye ilk çevrilen roman aşağıdakilerden hangisidir?**

- A) Robenson Cruzoe
- B) Monte Kristo
- C) Telemak
- D) Sefiller

2. OTURUM

6. Aşağıdakilerden hangisi Tanzimat'ın İkinci Dönemi'nin özelliklerinden değildir?

- A) Toplumsal temalar kullanılmaya başlanmıştır.
- B) Dilde sadeleşme çabaları bırakılmıştır.
- C) Romantizmden realizme geçilmiştir.
- D) "Sanat sanat içindir." anlayışı hâkim olmuştur.

7. Aşağıdaki sanatçılardan hangisi Tanzimat'ın Birinci Dönem temsilcilerindedir?

- A) Recaizâde Mahmut Ekrem
- B) Abdülhak Hamit Tarhan
- C) Cenap Şehabettin
- D) Namık Kemal

8. Aşağıdakilerden hangisi İbrahim Şinasi'nin Türk edebiyatında gerçekleştirdiklerinden değildir?

- A) İlk makalenin yazılması
- B) İlk tiyatronun yazılması
- C) İlk edebî romanın kaleme alınması
- D) İlk kez noktalama işaretlerinin kullanılması

9. Doğu edebiyatını çok iyi öğrenmiştir. Ahmet Mithat Efendi ile tanıştıktan sonra Batı edebiyatını öğrenmiş ve Fransız sanatçılardan çeviriler yapmıştır. Yeni anlayışla şiirler yazmakla birlikte eskiye daha çok bağlı kalmıştır. Eserlerinden bazıları Ateş-pare, Füzûzan ve Demdeme'dir.

Bu metinde sözü edilen sanatçı aşağıdakilerden hangisidir?

- A) Muallim Naci
- B) Şemsettin Sami
- C) Abdülhak Hamit Tarhan
- D) Recaizâde Mahmut Ekrem

10. Bed-asla necabet mi verir hiç üniforma Zer-dûz palan ursan eşek yine eşektir

Nush ile yola gelmeyi etmeli tekdîr Tekdîr ile uslanmayanın hakkı kötüktir

Bu dizelerle ilgili olarak aşağıdakilerden hangisi söylenemez?

- A) Nazım birimi beyittir.
- B) Ölçü ve kafiye kullanılmamıştır.
- C) Toplumsal bir konu dile getirilmiştir.
- D) Tanzimat'ın Birinci Dönemi'nin özelliklerini taşır.

11. Aşağıdakilerden hangisi Namık Kemal'in eserlerinden biridir?

- A) Küçük Şeyler
- B) Şerare
- C) Vatan yahut Silistre
- D) Talim-i Edebiyat

12. Tanzimat Dönemi Edebiyatı hikâye ve roman yazarlarındandır. Eserlerinde gerçek yaşamda karşılaşılabilecek olayları ele alır; gereksiz tasvirlerden kaçınır, romantizmden realizme geçiş açıkça görülür. Sergüzeşt adlı romanı Türk edebiyatında kölelik ve insan ticareti üzerine yazılmış en ünlü eserlerden biridir.

Bu metinde sözü edilen sanatçı aşağıdakilerden hangisidir?

- A) Ahmet Mithat Efendi
- B) Recaizâde Mahmut Ekrem
- C) Muallim Naci
- D) Samipaşazâde Sezaî

13. Aşağıdaki sanatçılardan hangisi terkibi bent nazım şeklinin Tanzimat Dönemi'ndeki en bilinen temsilcisidir?

- A) Muallim Naci
- B) Ziya Paşa
- C) Namık Kemal
- D) Recaizâde Mahmut Ekrem

14. Mahv eder kendini bülbül bile hürriyyet için
Çekilir mi bu belâ âlem-i pür-mihnet için
Dîn için Devlet için can çekişen millet için
Azme hâil mi olmuş bu çürük ten kafesi

Namık Kemal'e ait olan bu dördlünün konusu nedir?

- A) Ayrılık hüznü
- B) Memleket hasreti
- C) Vatan sevgisi
- D) Yalnızlık acısı

15. Aşağıdaki eserlerden hangisi farklı bir edebî türde yazılmıştır?

- A) Zavallı Çocuk
- B) Vatan yahut Silistre
- C) Şair Evlenmesi
- D) Araba Sevdası

16. Romantizm akımı ile ilgili aşağıdakilerden hangisi söylenemez?

- A) Öncüsü Fransız yazar Victor Hugo'dur.
- B) Kurallara sıkı sıkıya bağlı kalınır.
- C) Klasisizme tepki olarak doğmuştur.
- D) Akıl ve sağduyu yerine duygu ve hayaller ön plandadır.

17. Aşağıdakilerden hangisi Tanzimat Dönemi'nde Batı'dan yapılan ilk şiir tercümelerinin toplandığı eserdir?

- A) Cezmi
- B) Taaşuk-ı Talat ve Fitnat
- C) Tercüme-i Manzume
- D) Şair Evlenmesi

18. Bir vezirin oğlu olan Bihruz Bey Batılı bir yaşama özenen, mirasyedi bir gençtir. Çamlıca'da Periveş adında güzel bir kız görür ve ondan çok etkilenir. Yüksek bir aileden geldiğini sandığı Periveş'in izini kaybeder. Sonra kızı bulur ancak kızın zannettiği gibi biri olmadığını anlar ve karşısında komik duruma düşer.

Bu metinde sözü edilen eser aşağıdakilerden hangisidir?

- A) İntibah
- B) Araba Sevdası
- C) Cezmi
- D) Küçük Şeyler

19. Aşağıdaki sanatçılardan hangisi roman türünde eser yazmamıştır?

- A) Ziya Paşa
- B) Namık Kemal
- C) Ahmet Mithat Efendi
- D) Recaizâde Mahmut Ekrem

20. Aşağıdakilerden hangisi "İntibah" adlı romanın özelliklerinden biridir?

- A) Şemsettin Sami tarafından kaleme alınmıştır.
- B) Türk edebiyatındaki ilk edebî romandır.
- C) Realizm akımının tesiriyle yazılmıştır.
- D) Millî Edebiyat Dönemi'ne aittir.

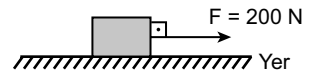
(422) FİZİK – 2

1. I. Oturarak hareketsiz kitap okuyan kişi
II. Market arabasının itilerek hareket etmesi
III. Ağaç dalında duran portakal

Yukarıdakilerden hangileri fiziksel anlamda iş yapmaya örnek verilebilir?

- A) Yalnız I.
- B) Yalnız II.
- C) I ve III.
- D) II ve III.

2. Bir cisim üzerinde yapılan iş; uygulanan kuvvet ile alınan yolun çarpımıyla bulunur.



Sürtünmenin önemsiz olduğu bir ortamda şekildedeki sandık yere paralel olarak 200 N'luk kuvvetle 3 m çekilmektedir.

Buna göre yapılan iş kaç Joule'dür?

- A) 200
- B) 400
- C) 600
- D) 800

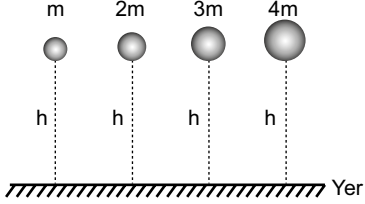
2. OTURUM

3. Harcadığımız elektrik enerjisinin miktarı Güç (W) × Zaman (s) ile bulunur.

Buna göre gücü 100 watt olan elektrikli bir alet 1 saat çalıştırıldığında harcanan elektrik enerjisi kaç Joule'dür?
(1 saat = 3600 saniye)

- A) 360 B) 3600
C) 36 000 D) 360 000

4. Kütleleri m, 2m, 3m ve 4m olan top- lar şekildeki gibi h yüksekliğinden serbest bırakılıyor.



Buna göre hangi kütlelin yerçekimi potansiyel enerjisi en fazladır?

- A) m B) 2m C) 3m D) 4m

5. Aşağıdakilerden hangisi esnek cisimlere örnek verilemez?

- A) Yay B) Paket lastiği
C) Tahta D) Sünger

6. Esnek bir yayın esneklik potansiyel enerjisi,

- I. Yayın yay sabiti
II. Yayın sıkışma ya da gerilme miktarı
III. Yayın rengi

ifadelerinden hangilerine bağlıdır?

- A) Yalnız I. B) I ve II.
C) II ve III. D) I, II ve III.

7. Besinlerden alınan enerji yeterli miktarda ise vücudun enerji dengesi sağlanmış olur.

Buna göre,

- I. Günlük beslenmede çeşitli besin gruplarından yeterli miktarda tüketilmeli
II. Besin gruplarından herhangi birinin fazla ya da az alınması insan sağlığını bozar.
III. Besinlerden elde edilen enerji miktarı joule ya da kalori birimi ile ifade edilir.

ifadelerinden hangileri doğrudur?

- A) I ve II. B) II ve III.
C) I ve III. D) I, II ve III.

8. Enerji verimliliğinin yüksek olması insanlara ekonomik anlamda tasarruf sağlar.

Buna göre,

- I. Binalarda ısı yalıtımı yapılması
II. Çamaşır ve bulaşık makinelerinin tam dolmadan çalıştırılmaması
III. Toplu taşıma araçları yerine kişiye ait özel araçların kullanılması

ifadelerinden hangileri enerji verimliliğinde ekonomik anlamda tasarruf sağlar?

- A) I ve II. B) II ve III.
C) I ve III. D) I, II ve III.

9. Fosil yakıtlar ile ilgili;

- I. Kömür doğalgaz ve petrol gibi kaynaklardan elde edilir.
II. Fosil yakıtlardan elektrik, ısı ve ışık enerjisi elde edilir.
III. Fosil yakıtlar canlı kalıntılarının yüzyıllarca basınç altında kalması ile oluşur.

ifadelerinden hangileri doğrudur?

- A) I ve II. B) II ve III.
C) I ve III. D) I, II ve III.

10. Ekmek üretilen bir fırında fırının sıcaklığını ölçmek için aşağıdaki hangi ölçü aleti kullanılır?

- A) Kronometre
B) Metal termometre
C) Dinamometre
D) Dereceli silindir

11. Bir metal parçasının sıcaklığı Kelvin termometresi ile ölçüldüğünde 275 K olarak belirleniyor.

Aynı metalin sıcaklığını Celsius termometresi ile ölçersek aşağıdakilerden hangisine karşılık gelir?

- A) 2 B) 3 C) 8 D) 9

12. Öz ısı saf bir maddenin birim kütle- sinin sıcaklığını 1 °C arttırmak için gerekli ısı miktarı olarak tanımlanır.

Buna göre,

- I. Öz ısı saf maddeler için ayırt edici bir özelliktir.
II. Öz ısı madde miktarına bağlı değildir.
III. Öz ısı maddenin ağırlığına bağlıdır.

ifadelerinden hangileri doğrudur?

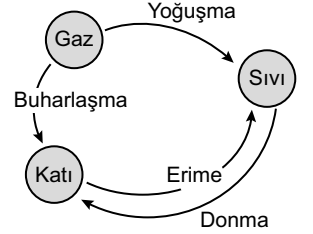
- A) I ve II. B) II ve III.
C) I ve III. D) I, II ve III.

13. Bir maddenin sıcaklığını 1 °C değiştirmek için gerekli ısı miktarına ısı sığası denir ve maddenin kütlesi ile öz ısısının çarpımı ile bulunur.

Buna göre ısı sığası ile ilgili aşağıdaki ifadelerden hangisi doğrudur?

- A) Isı sığası maddenin kütlesine bağlı değildir.
B) Isı sığası maddenin öz ısısı ve kütlesine bağlıdır.
C) Isı sığası maddeler için ayırt edici bir özelliktir.
D) Isı sığasının birimi gramdır.

14. Katı, sıvı ve gaz maddenin hâl değişimi şeklindeki oklarla gösterilmiştir.



Buna göre hangi ifade yanlış okla gösterilmiştir?

- A) Erime B) Buharlaşma
C) Donma D) Yoğuşma

15. Isının iletim yolları aşağıdaki gibidir.

- I. Işıma
II. Konveksiyon
III. İletim

Buna göre ısının iletiminde hangilerinde maddesel ortama gerek yoktur?

- A) Yalnız I. B) I ve II.
C) II ve III. D) I, II ve III.

16. Tabloda bir bölgeye ait hava durumu raporu verilmiştir.

Saat	Beklenen Hadise	Sıcaklık (°C)	Hissedilen Sıcaklık (°C)
Salı 09.00-12.00		31	37
Salı 12.00-15.00		36	53

Buna göre sıcaklık ve hissedilen sıcaklık arasındaki sayısal farklılıklar,

- I. İklimsel çevre
II. Giysilerin ısıyı iletme hızı
III. Kişinin vücut yapısı ve hareketliliği gibi durumlardan kaynaklanır.

İfadelerinden hangileri ile açıklanır?

- A) I ve II. B) II ve III.
C) I ve III. D) I, II ve III.

2. OTURUM

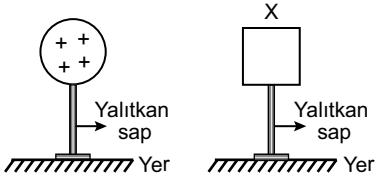
17. Turizm ve seyahat amacıyla kullanılan, sıcak hava balonlarının havada yükselmesi gazların hangi özelliği ile ilgilidir?

- A) Erime B) Donma
C) Genleşme D) Yoğuşma

18. Aşağıdakilerden hangisi elektrik yüklerine ait bir özellik değildir?

- A) Elektriklenme elektron alışverişi ile olur.
B) Nötr bir cisim elektron verirse pozitif elektrik yüklü olur.
C) Doğada dört cins elektrik yükü vardır.
D) Nötr bir cisim elektron alırsa negatif elektrik yüklü olur.

19. Şekildeki pozitif yüklü küre yalıtkan ayaklar üzerinde duran nötr iletken X cismine yaklaştırılıyor.



Buna göre iletken X cisminin yük durumu aşağıdakilerden hangisi gibi olabilir?

- A) B)
C) D)

20. Aşağıdakilerden hangisi yalıtkan bir maddedir?

- A) Kâğıt B) Tuzlu su
C) Altın D) Bakır

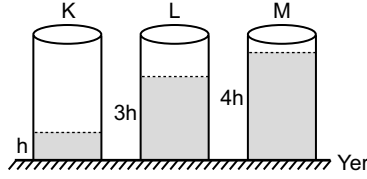
(423) FİZİK – 3

1. Katı cisimlerde basınç etkisi cismin ağırlığının yüzey alanına oranı ile hesaplanır. Buna göre Hülya ayakta dururken zeminde oluşturduğu basınç P'dir.

Hülya tek ayak üzerinde durunca yeni oluşan basınç kaç P olur?

- A) P B) 2P
C) P/2 D) P/4

2. Bir kaptta bulunan sıvının basıncı; Sıvının yüksekliği, sıvının yoğunluğu ve yer çekimi ivmesinin çarpımı ile bulunur.



Buna göre şekildeki özdeş K, L ve M kaplarında bulunan h, 3h ve 4h yüksekliğindeki suların kabın dibinde oluşturduğu basınçların (P_K, P_L, P_M) büyüklük ilişkisi nedir?

- A) $P_M > P_L > P_K$
B) $P_K = P_L = P_M$
C) $P_L > P_M > P_K$
D) $P_K > P_L > P_M$

3. Birim yüzeye dik olarak etki eden kuvvete basınç denir. Basıncın etkisini, yüzey alanını büyüterek veya küçülterek değiştirebiliriz.

Buna göre,

- I. Çivinin ucunun sivri olması
II. Karda yürürken kar ayakkabısı giyilmesi
III. İş makinelerinin tekerlerinin yere değen kısmının kalın ve büyük olması

İfadelerinden hangileri basınç etkisini azaltmak için kullanılmıştır?

- A) Yalnız I. B) I ve II.
C) II ve III. D) I, II ve III.

4. Otomobil lastiklerinin basıncı aşağıdaki hangi ölçme aracı ile ölçülür?

- A) Manometre B) Termometre
C) Dinamometre D) Barometre

5. Durgun sıvı basıncı ile ilgili olarak,

- I. Sıvının yoğunluğu ile doğru orantılıdır.
II. Kabın sıvıyla temas yüzeyine diktir.
III. Kabın şekline ve sıvının miktarına bağlı değildir.

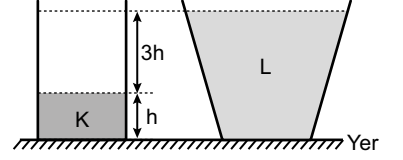
İfadelerden hangileri doğrudur?

- A) I ve II. B) II ve III.
C) I ve III. D) I, II ve III.

6. Aşağıdakilerden hangisi açık hava basıncıyla çalışan araçtır?

- A) Gezi balonları
B) Sabit makara
C) Televizyon
D) Araba

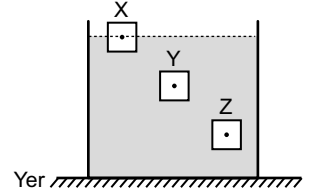
7. Şekildeki kaplarda bulunan ve yoğunlukları d_K ve d_L olan K ve L sıvılarının kap tabanında oluşturduğu basınçlar eşittir.



Buna göre K sıvısının yoğunluğu (d_K), L sıvısının yoğunluğunun (d_L) kaç katıdır?

- A) 3 B) 4 C) 6 D) 8

8. Şekildeki eşit kütleli X, Y ve Z cisimleri sıvıda yüzmektedir.



Cisimlere etki eden kaldırma kuvveti F_X, F_Y ve F_Z arasındaki büyüklük ilişkisi nasıldır?

- A) $F_Z > F_Y > F_X$
B) $F_Y > F_X > F_Z$
C) $F_X = F_Y = F_Z$
D) $F_Z > F_X = F_Y$

9. Elektrik yüklerinin temel özellikleri ile ilgili aşağıdaki hangi ifade doğrudur?

- A) Doğada iki cins elektrik yükü vardır.
B) Aynı cins yükler birbirini çeker.
C) Elektrik yükleri tanecikli özelliğe sahip değildir.
D) Nötr bir cismin yükü pozitifdir.

10. Okulda yapılan bir deneyde nötr cam çubuğu nötr yünü kumaşa sürterek cam çubuk yünü kumaşa elektron verir.

Bu durumda cam çubuk ve yünü kumaş hangi cins yüklerle yüklenir?

	Cam Çubuk	Yünü Kumaş
A)	-	-
B)	+	-
C)	+	+
D)	-	+

2. OTURUM

11. Bir maddenin elektron sayısı değiştirilerek yük dengesinin bozulmasına elektrikleme denir.

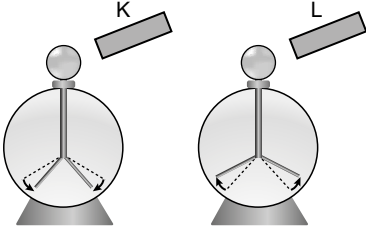
Buna göre,

- I. Sürtünme ile
II. Dokunma ile
III. Etki ile

verilenlerden hangileriyle elektrikleme gerçekleşir?

- A) Yalnız I. B) I ve II.
C) II ve III. D) I, II ve III.

12. Pozitif yüklü elektroskoba şekildeki K cismi yaklaştırıldığında yapraklarının biraz kapandığı L cismi yaklaştırıldığında ise yapraklarının biraz açıldığı gözleniyor.



Buna göre K ve L'nin yüklerinin işaretleri nedir?

- | K | L |
|------|---|
| A) + | - |
| B) - | - |
| C) - | + |
| D) + | + |

13. Aşağıdakilerden hangisi elektrik akımını en iyi ileten maddedir?

- A) Tahta B) Bakır
C) Kâğıt D) Cam

14. Aralarındaki mesafe d olan q_1 ve q_2 yüklerinin elektriksel etkileşim kuvveti $F = k \cdot \frac{q_1 \cdot q_2}{d^2}$ dir.

Buna göre mesafe 3d olduğunda elektriksel etkileşim kuvveti kaç


$$k \cdot \frac{q_1 \cdot q_2}{d^2} \text{ dir?}$$

- A) $\frac{1}{3}$ B) $\frac{1}{6}$ C) $\frac{1}{9}$ D) $\frac{1}{10}$

15. Elektrik yüklü noktasal bir cismin

$$\text{oluşturduğu elektriksel alan } E = k \frac{q}{d^2}$$

bağıntısıyla bulunur.



Buna göre şekildeki K, L ve M noktalarındaki elektriksel alan (E_K , E_L ve E_M) büyüklükleri arasındaki ilişki nasıldır?

- A) $E_M > E_L > E_K$
B) $E_K > E_L > E_M$
C) $E_K = E_L = E_M$
D) $E_L > E_K > E_M$

16. Bir iletkenin uçları arasındaki potansiyel farkı iletkenin direnci ile iletken üzerinden geçen akım şiddetinin çarpımı ile hesaplanır.

Buna göre direnci 10Ω ve üzerinden geçen akım şiddeti 2A olan bir telin uçları arasındaki potansiyel farkı kaç volt olur?

- A) 10 B) 12 C) 16 D) 20

17. Elektrik enerjisiyle çalışan bir ütünün elektriksel gücü, ütüye uygulanan gerilim ve ütüden geçen akım şiddetinin çarpımı ile hesaplanır.

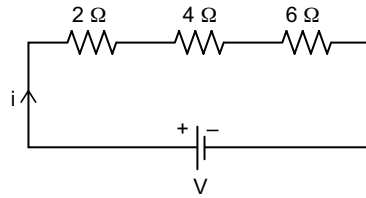
Buna göre 220 V'luk gerilimle çalışan ütüden geçen akım şiddeti 2A ise ütünün gücü kaç watt olur?

- A) 110 B) 220 C) 440 D) 800

18. Aşağıdaki cisimlerden hangisini mıknatıs çeker?

- A) Tahta B) Kâğıt
C) Toplu iğne D) Su

19. Elektrik devrelerinde dirençler seri bağlandığında eşdeğer direnç tüm dirençlerin toplamı ile bulunur.



Buna göre şekildeki 2 Ω , 4 Ω , ve 6 Ω lük dirençlerle kurulan devrede eşdeğer direnç kaç ohm'dur?

- A) 6 B) 8 C) 10 D) 12

20. Dünya'nın manyetik alanı ile ilgili;

- I. Dünya'nın neresinde olursa olsun pusula ibresi daima kuzey-güney doğrultusunu alır.
II. Dünya, içinde çubuk mıknatıs bulunan bir küre gibidir.
III. Dünya'nın manyetik alanı Güneş'ten savrulan nükleer parçacıkları sapıtarak yeryüzünü bu zararlı parçacıklardan korur.

İfadelerinden hangileri doğrudur?

- A) I ve II. B) II ve III.
C) I ve III. D) I, II ve III.

(424) FİZİK – 4

1. I. Oyun parkındaki salıncakta bir çocuğun salınması
II. Yaylı bir müzik aletinin tellerinin titreşmesi
III. Sarkaçlı bir saatin sarkacının hareketi

İfadelerinden hangileri titreşim hareketine örnek verilir?

- A) Yalnız I. B) II ve III.
C) I ve III. D) I, II ve III.

2. Periyodik dalgalar üreten bir kaynağın birim zamanda oluşturduğu dalga sayısına frekans denir.

Buna göre 2 s'de 10 dalga üreten kaynağın frekansı kaç s^{-1} 'dir?

- A) 5 B) 10 C) 12 D) 20

3. Sarmal bir yayda oluşturulan dalgaların yayılma hızını artırmak için,

- I. Yayı geren kuvvetin büyüklüğünü azaltmak
II. Yayı geren kuvvetin büyüklüğünü artırmak
III. Daha hafif yay kullanmak

İfadelerinden hangileri yapılmalıdır?

- A) Yalnız I. B) II ve III.
C) Yalnız III. D) Yalnız II.

4. I. Ses dalgaları
II. Su dalgaları
III. Deprem dalgaları

Dalga çeşitlerinden hangileri mekanik dalgalara örnek verilir?

- A) I ve II. B) II ve III.
C) I ve III. D) I, II ve III.

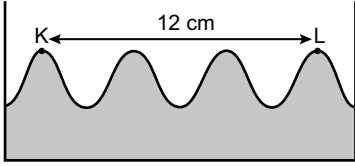
2. OTURUM

5. Su yüzeyindeki dalgaların yansımada gelme açısı yansıma açısına eşittir.

Buna göre bir dalga leğeninde su yüzeyinde oluşturulan periyodik doğrusal dalgalar düzlem engele 45° lik gelme açısı ile gönderilirse yansıma açısı kaç derecedir?

- A) 30° B) 45° C) 60° D) 90°

6. Bir dalga leğeninde dalga üreticinin oluşturduğu dalgalarda şekildeki gibi K ve L noktalarında dalga tepeleri arası uzaklık 12 cm'dir.



Dalga leğeni

Buna göre dalga boyu kaç cm'dir?

- A) 1 B) 2 C) 3 D) 4

7. Ses dalgaları ile ilgili;

- I. Maddesel ortamlarda yayılır.
II. Enerji taşır.
III. Boşlukta yayılır.

İfadelerinden hangileri doğrudur?

- A) I ve II. B) II ve III.
C) I ve III. D) I, II ve III.

8. Kayalardan oluşan yer kabuğu esnek bir ortamdır. Kırılan yer kabuğunun yarattığı titreşimler bu esnek ortamda her yöne yayılır.

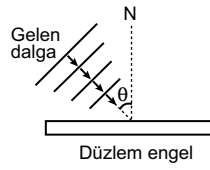
Bu yayılma aşağıdaki hangi dalga türü ile ifade edilir?

- A) Su dalgası
B) Yay dalgası
C) Deprem dalgası
D) Radyo dalgası

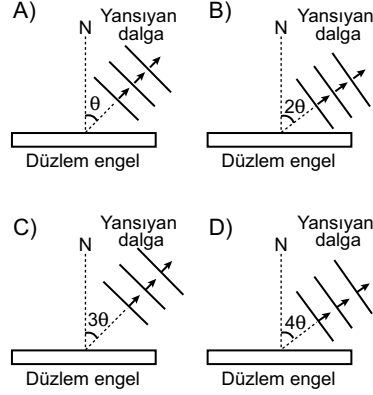
9. Aşağıdakilerden hangisi boşlukta yayılır?

- A) Ses dalgası
B) Su dalgası
C) Yay dalgası
D) Radyo dalgası


- 10.



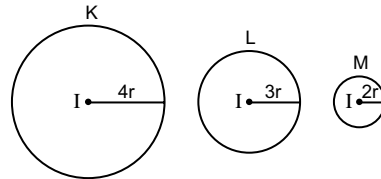
Şekildeki düzlem engele θ açısı ile gelen doğrusal su dalgası nasıl yansır? (N: Yüzeyin normali)



11. Güç miktarları üzerinde yazılı ampullerin hangisinin ışık şiddeti en fazladır?



12. Bir ışık kaynağından birim zamanda çıkan ışık ışınlarının miktarına ışık akısı denir. $4r$, $3r$ ve $2r$ yarıçaplı K, L ve M kürelerinin merkezlerinde özdeş ışık şiddeti I olan kaynaklar bulunmaktadır.



Buna göre kürelerin iç yüzeylerindeki ışık akıları ϕ_K , ϕ_L ve ϕ_M arasındaki ilişki nasıldır?

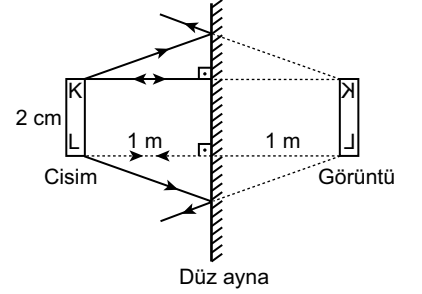
- A) $\phi_K > \phi_L > \phi_M$ B) $\phi_K = \phi_L = \phi_M$
C) $\phi_M > \phi_L > \phi_K$ D) $\phi_L > \phi_K > \phi_M$

13. Üzerine düşen ışığı geçirmeyen cisimlere saydam olmayan cisimler denir.

Buna göre aşağıdakilerden hangisi saydam olmayan cisimlerdenidir?

- A) Cam B) Su
C) Tahta D) Hava

14. Düz aynada boyu 2 cm olan KL cisminin görüntüsü şekildeki gibidir.

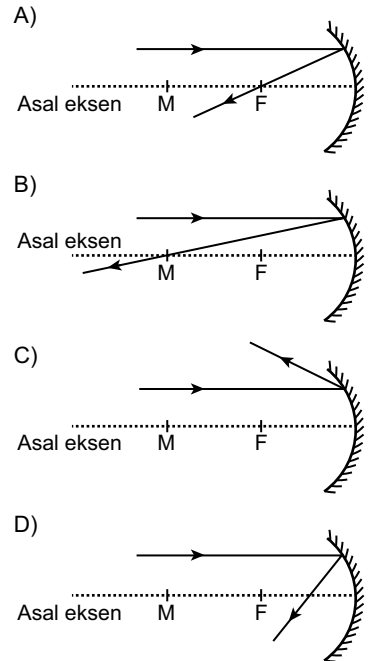


KL cisminin görüntüsü ile ilgili aşağıdaki ifadelerden hangisi doğrudur?

- A) Görüntü ile cisim arası uzaklık 1 m'dir.
B) Cismin boyu görüntünün boyuna eşittir.
C) Görüntünün düz aynaya olan uzaklığı 2 m'dir.
D) Görüntünün boyu 4 cm'dir.

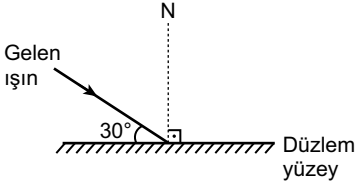
15. Çukur aynalarda asal eksene paralel gelen ışın odaktan geçecek şekilde yansır.

Buna göre aşağıdaki çizimlerden hangisi doğru çizilmiştir? (M: Merkez noktası, F: Odak noktası)



2. OTURUM

16.



Şekildeki düzlem yüzeyle 30° açı yaparak gelen ışın kaç derecelik yansımaya açısı ile yansır?
(N: Yüzeyin normali)

- A) 20° B) 30° C) 60° D) 90°

17. Işığın kırılması ile ilgili;

- I. Işığın bir ortamdan diğer ortama geçerken doğrultu ve yön değişmesi olayıdır.
- II. Gelen ışın kırılan ışın normal aynı düzlemedir.
- III. Gelme açısının sinüsüyle kırılma açısının sinüsü arasındaki oran sabittir.

İfadelerinden hangileri doğrudur?

- A) Yalnız I. B) II ve III.
C) I ve II. D) I, II ve III.

18. Tabloda bazı ortamların kırıcılık indisleri verilmiştir.

Ortam	Kırıcılık indisi
Hava	1
Su	1,33
Pencere Camı	1,52
Elmas	2,42

Buna göre ışık hangi ortamda çok kırılır?

- A) Hava B) Su
C) Elmas D) Pencere camı

19. Bir merceğin görüntüyü yaklaştırma ya da ışığı kırma derecesine yakınsama denir ve Y ile gösterilir.

Yakınsama = $\frac{1}{\text{Odak uzaklığı (m)}}$
oranı ile hesaplanır.

Buna göre odak uzaklığı 0,5 m olan merceğin yakınsaması kaç m^{-1} dir?

- A) 2 B) 4 C) 6 D) 8

20. Aşağıdakilerden hangisi optik aletlere örnek verilemez?

- A) Büyüteç
B) Fotoğraf makinesi
C) Mikroskop
D) Dinamometre

(431) KİMYA – 1

1. I. Sınama yanılmaya dayalıdır.
II. Teorik temelleri yoktur.
III. Sistematik bilgi birikimi sağlar.

Simya ile ilgili verilen yukarıdaki bilgilerden hangileri doğrudur?

- A) I ve II. B) I ve III.
C) II ve III. D) I, II ve III.

2. Simyacılar değersiz madenleri hangi maddeye dönüştürmeye çalışmışlardır?

- A) Bakır B) Altın
C) Demir D) Gümüş

3. Maddelerin bölünemeyen en küçük parçacığına "atom" adını veren bilim insanı kimdir?

- A) Empedokles B) Aristo
C) Democritus D) Lavoisier

4. Karbon (C) bulunduran bileşiklerin yapılarını, özelliklerini ve tepkimelerini inceleyen kimya disiplini aşağıdakilerden hangisidir?

- A) Organik Kimya
B) Fizikokimya
C) Biyokimya
D) Analitik Kimya

5. Aşağıdaki mesleklerden hangisi kimya bilimi ile ilgili değildir?

- A) Kimyager
B) Mimar
C) Maden Mühendisi
D) Kimya Mühendisi

6. "C", hangi elementin sembolüdür?

- A) Klor B) Hidrojen
C) Karbon D) Azot

7. Aşağıdaki maddelerden hangisi bileşiktir?

- A) NH_3 B) He C) P D) Ar

8. "HNO₃ (nitrik asit)" bileşiğinin yaygın adı aşağıdakilerden hangisidir?

- A) Tuz ruhu B) Zaç yağı
C) Kireç taşı D) Kezzap

9. I. Saf maddelerdir.
II. Formülle gösterilirler.
III. Fiziksel yöntemlerle bileşenlerine ayrıştırılabilirler.

Bileşikler için verilen yukarıdaki bilgilerden hangileri doğrudur?

- A) Yalnız II. B) I ve II.
C) I ve III. D) I, II ve III.

10.



Yukarıda verilen güvenlik işaretinin bulunduğu madde hangi özelliğe sahiptir?

- A) Radyoaktif B) Yakıcıdır
C) Patlayıcıdır D) Tahriş edicidir


11.



Kimya laboratuvarlarında kullanılan, yukarıda verilen malzemenin adı aşağıdakilerden hangisidir?

- A) Büret B) Erlenmayer
C) Balon jöje D) Beherglas

12.



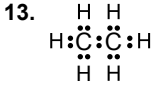
"Üzümlü kek" modeli diye de bilinen yukarıdaki atom modeli hangi bilim insanına aittir?

- A) Thomson B) Rutherford
C) Dalton D) Bohr

13. Bir element atomunun çekirdeğinde bulunan proton ve nötron sayılarının toplamı, aşağıdakilerden hangisidir?

- A) Elektron Sayısı
B) Atom Numarası
C) Kütle Numarası
D) Çekirdek Yükü

2. OTURUM



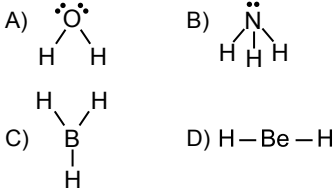
Lewis formülü verilen bileşik aşağıdakilerden hangisidir?

- A) C_2H_2 B) CH_6
C) C_2H_4 D) C_2H_6

14. $\text{H}-\text{C}\equiv\text{C}-\text{H}$ bileşiğinde bulunan pi bağı sayısı kaçtır?

- A) 1 B) 2 C) 3 D) 4

15. Aşağıda verilen molekül örneklerinden hangisinin geometrisi doğrusaldır?



16. CH_4 molekülünün VSEPR gösterimi aşağıdakilerden hangisidir?

($1\text{H}, 6\text{C}$)

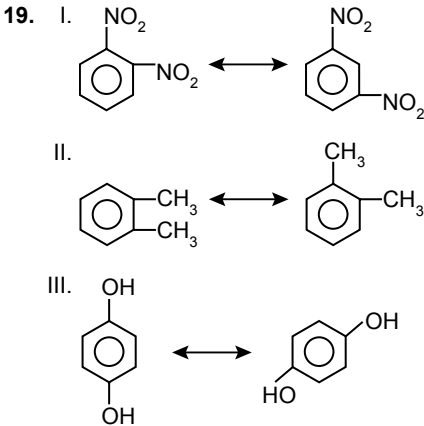
- A) AX_2 B) AX_3 C) AX_4 D) AX_3E

17. “-O-” fonksiyonel grubunu bulandıran bileşik sınıfının genel adı aşağıdakilerden hangisidir?

- A) Eter B) Alkan
C) Alken D) Alkin

18. Aşağıda verilen hidrokarbonlardan hangisinin izomeri yoktur?

- A) C_6H_{14} B) C_5H_{12}
C) C_4H_{10} D) CH_4



Verilen bileşik çiftlerinin hangilerinde konum izomerisi görülmez?

- A) Yalnız I. B) I ve II.
C) I ve III. D) II ve III.

20. Aşağıda verilen ifadelerden hangisi yanlıştır?

- A) Bütün organik bileşiklerde karbon, hidrojen ve kükürt atomu bulunur.
B) Karbon atomları kendi aralarında ikili ve üçlü bağlar oluşturabilir.
C) Aldehitler ile ketonlar, karbon atomu sayıları aynı ise fonksiyonel grup izomeridir.
D) Karbon atomu sp , sp^2 , sp^3 hibritleşmesi yapabilir.

(438) SEÇMELİ KİMYA - 4

1. Aşağıdaki bileşiklerden hangisi hidrokarbon değildir?

- A) C_2H_6 B) C_5H_{12}
C) C_6H_6 D) CH_3OH

2. I. $\text{CH}_3-\text{CH}_2-\text{CH}_3$

II. $\text{CH}_2=\text{CH}-\text{CH}_2-\text{CH}_3$

III. $\text{CH}_3-\text{C}\equiv\text{C}-\text{CH}_3$

Verilenlerden hangileri “alkan” bileşiğidir?

- A) Yalnız I. B) Yalnız III.
C) I ve II. D) II ve III.

3. “2-metil pentan” bileşiği aşağıdakilerden hangisidir?

A) $\text{CH}_3-\text{CH}_2-\text{CH}_2-\text{CH}_3$

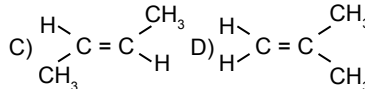
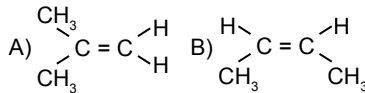
B) $\begin{array}{c} \text{CH}_3 \\ | \\ \text{CH}_3-\text{CH}-\text{CH}_2-\text{CH}_2-\text{CH}_3 \end{array}$

C) $\text{CH}_3-\text{CH}_2-\text{CH}_3$

D) CH_3-CH_3

4. $\text{CH}_3-\text{CH}=\text{CH}-\text{CH}_3$ bileşiğinin

trans izomerisi aşağıdakilerden hangisidir?



5. “Birinci karbon atomunda üçlü bağ taşıyan alkinlere uç alkin denir.”

Buna göre aşağıdakilerden hangisi uç alkindir?


- A) $\text{CH}\equiv\text{CH}$
B) $\text{CH}_3-\text{C}\equiv\text{C}-\text{CH}_3$
C) $\text{CH}_3-\text{CH}_2-\text{C}\equiv\text{C}-\text{CH}_3$
D) $\text{CH}_3-\text{CH}_2-\text{C}\equiv\text{C}-\text{CH}_2-\text{CH}_3$

6.


	Bileşik	Adı
I.		Benzen
II.		Fenol
III.		Anilin

I. 

Benzen

II. 

Fenol

III. 

Anilin

Yukarıda verilen bileşiklerden hangilerinin adı yanlış yazılmıştır?

- A) Yalnız II. B) Yalnız III.
C) I ve II. D) II ve III.

7. Aşağıdakilerden hangisi “polialkol” olarak sınıflandırılabilir?

- A) CH_3-OH
B) $\text{CH}_3-\text{CH}_2-\text{OH}$
C) $\text{CH}_3-\text{CH}_2-\text{CH}_2-\text{OH}$

D) $\begin{array}{c} \text{CH}_2-\text{OH} \\ | \\ \text{CH}_2-\text{OH} \end{array}$

8. “Bir karbonlu monoalkol olan - - - çok zehirli bir maddedir.”

Verilen açıklamada boş bırakılan yere aşağıdakilerden hangisi yazılmalıdır?

- A) pentanol B) bütanol
C) metil alkol D) etanol

9. I. $\text{CH}_3-\text{O}-\text{CH}_3$

II. $\text{CH}_3-\text{O}-\text{CH}_2-\text{CH}_3$

III. $\text{CH}_3-\text{CH}_2-\text{O}-\text{CH}_2-\text{CH}_3$

Verilenlerden hangileri “simetrik eter” olarak sınıflandırılabilir?

- A) Yalnız II. B) I ve II.
C) I ve III. D) II ve III.

2. OTURUM

10. "Alkil amin bileşiklerinde azot atomuna bağlı bulunan metil grubu sayısı arttıkça bazlık kuvveti artar."

Buna göre aşağıdaki bileşiklerden hangisinin bazlık kuvveti en fazladır?

- A) $(CH_3)_3N$ B) $(CH_3)_2NH$
C) CH_3NH_2 D) NH_3

11.

Bileşik **Adı**

- I. $CH_3 - CH_2 - \overset{\overset{O}{||}}{C} - CH_3$ Etilmetil keton
II. $CH_3 - \overset{\overset{O}{||}}{C} - CH_3$ Dimetil keton
III. $CH_3 - \underset{\underset{CH_3}{|}}{CH} - \overset{\overset{O}{||}}{C} - CH_2 - CH_3$ 2-metil 3-pentanon

Yukarıda verilen bileşiklerden hangileri IUPAC sistemine göre adlandırılmamıştır?

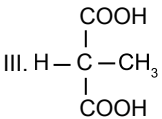
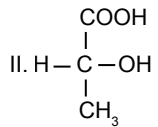
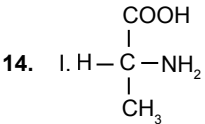
- A) Yalnız II. B) I ve II.
C) I ve III. D) II ve III.

12. **Isırgan otunda ve karıncaların salgılarında bulunan en küçük karboksilik asit aşağıdakilerden hangisidir?**

- A) $CH_3 - CH_2 - COOH$
B) $CH_3 - CH_2 - CH_2 - COOH$
C) $CH_3 - COOH$
D) $H - COOH$

13. **Aşağıdakilerden hangisi doymuş yağ asidi bulundurur?**

- A) Zeytinyağı B) Mısır yağı
C) Tereyağı D) Ayçiçeği yağı



Yukarıda verilen bileşiklerden hangileri optikçe aktiflik gösterir?

- A) Yalnız I. B) I ve II.
C) II ve III. D) I, II ve III.

15. **Aşağıdakilerden hangisi polisakarittir?**

- A) Nişasta B) Maltoz
C) Sakkaroz D) Laktoz

16. **Petrolün rafinasyonunda elde edilen ilk ürün aşağıdakilerden hangisidir?**

- A) Benzin B) Mazot
C) LPG D) Fuel oil

17. I. Susam
II. Zeytin
III. Fındık

Verilen bitkilerin hangilerinden yağ elde edilir?

- A) Yalnız II. B) I ve II.
C) II ve III. D) I, II ve III.

18. **Yüzey aktif maddeler ile ilgili;**

- I. Sıvının yüzey gerilimini düşürür.
II. Sabun ve deterjan yüzey aktif maddelerdir.
III. Kararlı yapıda emülsiyon oluşturma işlemlerinde de kullanılır.

bilgilerinden hangileri doğrudur?

- A) I ve II. B) I ve III.
C) II ve III. D) I, II ve III.

19. **Kapı ve pencere profilleri, cephe kaplama vb. alanlarda kullanılan polimer aşağıdakilerden hangisidir?**

- A) Polietilen (PE)
B) Polivinil klorür (PVC)
C) Polistiren (PS)
D) Polietilen tereftalat (PET)

20. **Aşağıdakilerden hangisi yapay tatlandırıcı değildir?**

- A) Sakkaroz B) Aspartam
C) Sakarin D) Siklamat

(442) BİYOLOJİ – 2

1. **Aşağıdakilerden hangisi doğal (filogenetik) sınıflandırma yaparken dikkate alınan özelliklerden biri değildir?**

- A) Hücre yapısı
B) Embriyonik gelişmeler ve tabakalar
C) Yaşam ortamı ve dış görünüş
D) Anatomik ve fizyolojik yapılar

2. Sınıflandırmada belli bir hiyerarşide düzenlenmiş basamaklara takson denir. Günümüzde kullanılan filogenetik sınıflandırmada canlılar tür ile başlayıp âlem ile biten yedi farklı grupta (taksonda) incelenir.

Buna göre tür basamağından âlem basamağına doğru gidildikçe değişen özelliklerle ilgili aşağıdakilerden hangisi doğrudur?

- A) Protein benzerliği artar.
B) Canlı sayısı artar.
C) Canlı çeşitliliği azalır.
D) Analog organ sayısı azalır.

3. **Aşağıda bazı canlıların Latince adları verilmiştir.**

- I. *Ursus arctos* (boz ayı)
II. *Ursus maritimus* (kutup ayısı)
III. *Ursus thibetanus* (tibet ayısı)

Tür adları verilen canlılar için aşağıdakilerden hangisi söylenemez?

- A) Bu ayılar *Ursus* cinsi içinde yer almaktadır.
B) Bu ayılar, aynı türe aittir.
C) Aynı âlem içinde yer alırlar.
D) Birbirleri ile akraba canlılardır.

4. **Aşağıdaki canlı alemlerinin hangisinin hücrelerinde, DNA bir zarla çevrili olmayıp sitoplazmada dağılım halde bulunur?**

- A) Arkeler B) Mantarlar
C) Bitkiler D) Hayvanlar

5. **Aşağıdakilerden hangisi prokaryot ve ökaryot hücrelerde ortak olarak bulunur?**

- A) Mitokondri B) Çekirdek
C) Golgi aygıtı D) Ribozom

6. Arkeler, yüksek tuzluluk, düşük oksijenli ortam, yüksek sıcaklık, yüksek ya da düşük pH gibi zorlu çevre şartlarına uyum sağlamış canlılardır.

Buna göre;

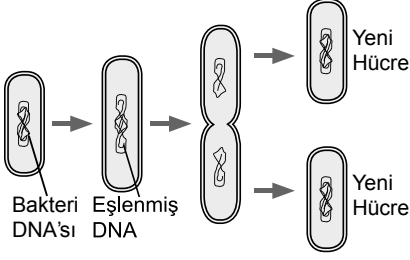
- I. sıcak su kaynağı,
II. bataklıklar,
III. aşırı tuzlu göl

ortamlarından hangilerinde arkelere rastlanabilir?

- A) Yalnız I. B) I ve II.
C) II ve III. D) I, II ve III.

2. OTURUM

7. Aşağıda bir bakterinin çoğalması şematize edilmiştir.



Buna göre çoğalma olayı ile ilgili,

- I. DNA eşlenmeden önce, çekirdek zarı erimştir.
- II. Önce DNA eşlenmesi, sonra sitoplazma bölünmesi gerçekleşmektedir.
- III. Oluşan yeni bakteriler genetik olarak birbirinden farklıdır.

ifadelerinden hangileri doğrudur?

- A) Yalnız II. B) I ve III.
C) II ve III. D) I, II ve III.

8. Protista alemindeki canlılar için aşağıdakilerden hangisi ortaktır?

- A) Fotosentez yapma
B) Ökaryot hücre yapısına sahip olma
C) Kontraktil koful bulundurma
D) Parazit beslenme

9. Protista aleminde yer alan bir canlıya ait bazı özellikler şunlardır:

- Tek veya çok hücreli formları bulunur.
- Çoğunluğu suda yaşar.
- Fotosentez yaparlar.
- Genellikle taşıdıkları renk pigmentlerine ve şekillerine göre adlandırılırlar.

Bazı özellikleri verilen protista çeşidi aşağıdakilerden hangisidir?

- A) Plazmodyum
B) Cıvık mantar
C) Algler
D) Terliksi hayvan

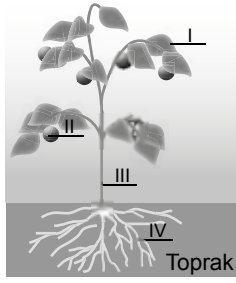
10. Günlük hayatımızdaki,

- I. yoğurt yapımı,
- II. hamurun mayalanması,
- III. açık havada bırakılan besinlerin küflenmesi

olaylarından hangileri mantarlar tarafından gerçekleştirilir?

- A) Yalnız I. B) Yalnız III.
C) I ve II. D) II ve III.

11. Aşağıda çiçekli bir bitkinin kısımları şematize edilmiştir.



Şekle göre aşağıdakilerden hangisi yanlıştır?

- A) IV nolu kısımdaki hücreler kloroplastlıdır.
B) III nolu kısım toprak üstü yapıları taşır.
C) II nolu kısım tohumun uzak yerlere taşınmasını sağlar.
D) I nolu kısım fotosentez yapar.

12. Çiçekli bir bitkide;

- I. çiçek,
- II. gövde,
- III. kök

yapılarından hangileri eşeyli üreme ile ilgili organları taşır?

- A) Yalnız I. B) Yalnız II.
C) I ve II. D) II ve III.

13. Aşağıdaki hayvanlardan hangisi omurgasızdır?

- A) Timsah B) Yunus
C) Deniz anası D) Zürafa

14. İki yaşamlılar aşağıdaki özelliklerin hangisiyle memelilerden ayırt edilir?

- A) Besinlerini katı parçacıklar halinde tüketme
B) Ayrı eşeyli olma
C) Kemik yapılı iç iskelete sahip olma
D) Gelişimleri sırasında başkalaşım (metamorfoz) geçirme

15. Aşağıdakilerden hangisi memeli hayvanların özelliklerinden birisi değildir?

- A) Yavrularını sütle besleme
B) Sıcakkanlı olma
C) Dış iskelete sahip olma
D) Akciğer solunumu yapma

16. Aşağıdakilerden hangisi bakterilerin olumsuz etkilerinden birisidir?

- A) Aşı ve serumların hazırlanmasında kullanıma
B) Dişlerin çürümeye neden olma
C) İnce bağırsakta B ve K vitamini üretme
D) Atıkların temizlenmesinde kullanıma

17. Günümüzdeki iş kollarından;

- I. ilaç ve kozmetik,
- II. mobilya,
- III. tekstil

hangilerinde bitkilerden faydalanılır?

- A) Yalnız I. B) I ve II.
C) II ve III. D) I, II ve III.

18. Aşağıdaki omurgalı hayvan sınıflarından hangisinde vücut sıcaklığı çevre sıcaklığına bağlı olarak değişmez?

- A) Balıklar B) İki yaşamlılar
C) Memeliler D) Sürüngenler

19. Aşağıda virüslerle ilgili bir metin verilmiştir.

“Bubble boy, gen mutasyonu sonucu oluşan adenoazin deaminaz (ADA) enzimi eksikliğine bağlı bir hastalıktır ve bağışıklık sistemi hücrelerinin yok olmasına neden olur. Bu hastalığın tedavisi için hastalara ADA enzimi ve kemik iliği nakli yapılmaktadır. Ancak 1990’da kopyalanmış ADA enzimleri pasifleştirilmiş bir virüse aktararak hastaya verilmiştir. Bu virüs, hastanın T-hücrelerine yerleşip çoğalarak tedavi edilmesini sağlamıştır.”

Buna göre,

- I. Virüsler başka bir hücre içerisine girerek çoğalabilir.
- II. Virüsler tedavi amaçlı kullanılabilir.
- III. Virüslerde kalıtım materyali olarak DNA ya da RNA bulunur.

yargılarından hangilerine bu metinden ulaşılabilir?

- A) I ve II. B) I ve III.
C) II ve III. D) I, II ve III.

2. OTURUM

20. Aşağıda virüslerin neden olduğu bir hastalığa ait bazı özellikler verilmiştir.
- Kedi, köpek, tilki, yarasaya gibi bazı hayvanların salyasında bulunur ve genellikle ısırma yoluyla insana bulaşır.
 - Bu hastalığa yol açan virüs sinir sistemine yerleşerek etkisini gösterir.
 - Tedavi sürecinde en etkili yöntem aşıdır. Sahipsiz başıboş hayvanlar tarafından bir kişi ısırıldığına, hemen yara bol sabunlu su ile yıkanmalı, zaman geçirilmeden bir sağlık kuruluşuna başvurulmalıdır. Gerek duyulduğu takdirde aşı yapılarak, ısırılan hayvan 10 gün boyunca gözetim altında tutulmalıdır.

Buna göre özellikleri verilen virüs kaynaklı hastalık aşağıdakilerden hangisidir?

- A) Hepatit B B) Kuduz
C) AIDS D) Uçuk (Herpes)

(444) BİYOLOJİ – 4

1. Eski zamanlardan itibaren canlılar birbirleriyle ve çevreleriyle etkileşim halinde bulunurlar. Canlıların yaşamını sürdürdüğü, dolaylı ya da dolaysız olarak etkilediği çevre; canlıların yaşamı üzerinde etkili olan bir faktördür. Biyolojinin canlılar ve onların çevreleriyle olan ilişkilerini inceleyen bilim dalına ekoloji denir.
- Yukarıdaki açıklamaya göre aşağıdakilerden hangisi söylenemez?**
- A) Canlılar birbirini ve cansız çevrelerini etkiler.
B) Ekoloji biyolojinin alt dallarından biridir.
C) Çevre içinde yaşayan canlıları etkilemez.
D) Canlılar çevreyi dolaylı ya da dolaysız etkileyebilir.
2. Belirli bir bölgede yaşayan, aynı türden bireylerin oluşturduğu topluluğun yapısını, gelişimini ve değişimini inceleyen ekoloji alanı aşağıdakilerden hangisidir?
- A) Birey ekolojisi
B) Popülasyon ekolojisi
C) Komünite ekolojisi
D) Ekosistem ekolojisi

3. Habitat, bir türün bireylerinin yaşamsal faaliyetlerini en iyi şekilde devam ettirebildiği doğal yaşam alanıdır.

Buna göre,

- I. kaya parçasının altı,
II. okyanus,
III. bağırsak

ortamlarından hangileri habitat olabilir?

- A) Yalnız I. B) Yalnız II.
C) II ve III. D) I, II ve III.

4. Aynı alan içerisinde birbirleriyle ilişkili tüm popülasyonların oluşturduğu topluluğa komünite denir.

Buna göre aşağıda verilenlerden hangisi bir komünitedir?

- A) Bir çayırıldaki bitki, hayvan ve ayrıştırıcı canlı türleri
B) Bir ormandaki kara çamlar
C) Bir denizdeki katil balinalar
D) Bir göldeki turna balıkları

5. Komünitelerin yaşamlarını sürdürmek için ihtiyaç duydukları alan biyotop olarak tanımlanabilir.

Biyotopların büyüklüğü,

- I. iklim,
II. coğrafi özellikler,
III. popülasyonların birey sayısı

faktörlerinden hangilerine bağlı olarak değişebilir?

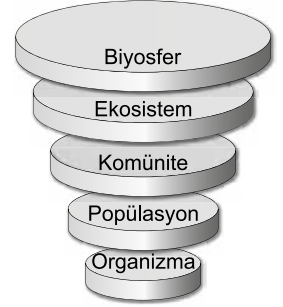
- A) Yalnız I. B) I ve III.
C) II ve III. D) I, II ve III.

6. Doğada komüniteler birbirinden bağımsız değildir. Komşu komüniteler arasında geçiş bölgelerine ekoton denir. Ekoton alanlar her iki komünitenin özelliklerini de kısmen içerdiklerinden hem tür ve birey sayısı, hem de sahip olunan özellikler açısından farklılık gösterir.

Buna göre aşağıdakilerden hangisi ekotonlar için söylenemez?

- A) Tür çeşitliliği fazladır.
B) Çevredeki komünitelerden bağımsızdır.
C) Çevreden farklı özellikler gösterebilir.
D) Çevredeki ekosistemlerden farklı türler barındırabilirler.

7. Aşağıda ekolojik organizasyon düzeyleri verilmiştir.



Bu düzeylerle ilgili aşağıdakilerden hangisi söylenebilir?

- A) En büyük ekolojik organizasyon düzeyi biyosferdir.
B) Komünitede aynı tür canlılar bulunur.
C) Ekosistemde sadece canlı öğeler vardır.
D) Popülasyondaki bireyler başka türlerle etkileşim içinde değildir.
8. "Kuzey Kıbrıs'ta bataklıkları kurutmak için suyu çok tüketen okaliptüs ağaçları dikilmiştir. Okaliptüs ağaçları bataklıkları kurutmanın yanı sıra yer üstü sularıyla birlikte yer altı sularını da tüketmiştir. Sonuçta bölgede susuzluk ve iklim değişiklikleri görülmeye başlamıştır."

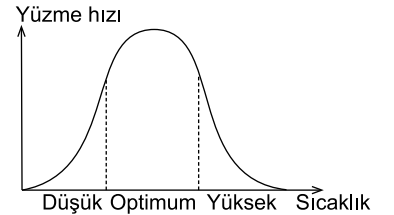
Yukarıdaki açıklamalardan,

- I. Ekosistemlere yapılan müdahaleler olumlu ve olumsuz sonuçlar doğurabilir.
II. Okaliptüs ağaçları ekosistemin yapısını değiştirmiştir.
III. Okaliptüs ağaçları bölgedeki avcı hayvan sayısını artırmıştır.

yargılarından hangilerine ulaşılabilir?

- A) Yalnız II. B) I ve II.
C) I ve III. D) I, II ve III.

9. Aşağıda bir balık türünün sıcaklığa bağlı yüzme hızındaki değişimler verilmiştir.



Grafik ile ilgili aşağıdakilerden hangisi doğrudur?

- A) Balıklar optimum sıcaklıklarda daha hızlı yüzerler.
B) Yüzme hızı sıcaklığa bağlı değildir.
C) Sıcaklık arttıkça balıkların yüzme hızı sürekli olarak artar.
D) Düşük sıcaklıklarda balıklar sürekli olarak hızlı yüzmektedir.

2. OTURUM

10. Ekosistemdeki canlılığın devamı biyotik faktörlerin arasındaki ilişkinin sürekliliğine bağlıdır. Bunlardan birindeki bozulma ya da yok olma, diğerlerinin de ekosistemdeki varlığını etkileyecektir.

Buna göre biyotik faktörlerle ilgili aşağıdakilerden hangisi doğrudur?

- A) Ekosistemler biyotik faktörler olmadan da canlılığını devam ettirebilir.
B) Biyotik faktörlerden birinin ortadan kalkması ekosistemi etkilemez.
C) Ekosistemin devamlılığı için biyotik faktörlerin birbirleri ile sürekli etkileşimi gereklidir.
D) Ekosistemdeki canlılar yok olmazlar.

11. Aşağıdakilerden hangisi fotosentez yapan üretici canlıların özelliklerinden değildir?

- A) Otçul hayvanların besin ihtiyacını karşılar.
B) Atmosferin oksijen ve karbondioksit dengesinin korunmasında işlev görür.
C) Kökleri ile erozyonu önler.
D) Küresel ısınmanın artmasına neden olur.

12. Doğada canlılar arasında görülen etkileşimler (+, -, 0 işaretleri konularak) aşağıdaki tabloda gösterilmiştir.

Simbiyotik ilişki	Tür 1	Tür 2
Mutualizm	(I)	+
Kommensalizm	+	(II)
Parazitlik	+	(III)

(+; fayda görür, - ; zarar görür, 0; yarar ya da zarar görmez ifade eder.)

Tabloda I, II ve III ile gösterilen yerlere aşağıdakilerden hangisi gelmelidir?

	I	II	III
A)	+	0	+
B)	-	-	+
C)	+	0	-
D)	+	+	+

13. Besinlerini katı parçalar halinde alan heterotrof (tüketici) organizmalara holozoik canlılar denir. Bu canlılar herbivor (otobur), karnivor (etobur) ve omnivor (hem otobur hem etobur) olmak üzere üçe ayrılır.

Buna göre aşağıdaki canlılardan hangisi omnivor beslenme göstermez?


- A) Keçi
B) İnsan
C) Ayı
D) Karga

14. Birincil tüketiciler otçul (herbivor); ikincil tüketiciler ise etçildir (karnivor). Ayrıca etçiller üzerinden beslenen tüketiciler de vardır; bunlara üçüncü dereceden tüketiciler denir. Bir ekosistemdeki üreticiler ile tüketici canlı grupları arasında beslenmeye dayalı besin zincirleri oluşur.

Buna göre aşağıda verilen canlılardan oluşan besin zincirinde üçüncü dereceli tüketici canlı hangisidir?

- A) Çayır otu
B) Çekirge
C) Kartal
D) Yılan

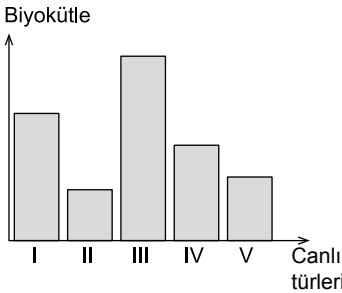
15. Aşağıda bir enerji piramidi verilmiştir.



Bu enerji piramidine göre aşağıdakilerden hangisi yanlıştır?

- A) Güneşten gelen enerjinin hepsi kullanılamaz.
B) Güneş enerjisinden en fazla ikincil tüketiciler faydalanır.
C) Enerjinin tamamı bir üst basamağa aktarılamaz.
D) Bu piramitte enerjinin asıl kaynağı güneştir.

16. Aşağıda bir çayır ekosistemindeki besin zincirinde yer alan beş canlının biyokütleleri grafik halinde gösterilmiştir.



Bu canlı türleri ile ilgili aşağıdaki ifadelerden hangisi yanlıştır?

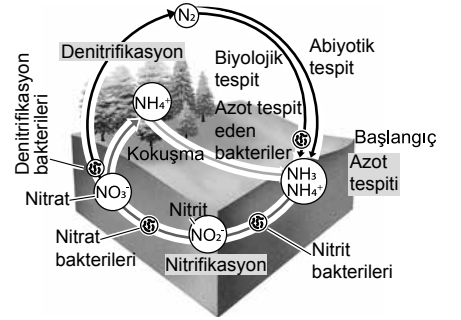
- A) Ortama karışan zehirli bir madde II numaralı canlının vücudunda en fazla oranda birikir.
B) III numaralı canlı üreticidir.
C) I numaralı canlı etoburdur.
D) I, II, IV ve V numaralı canlılar tüketicidir.

17. Doğal ortamda bazı zararlı maddeler biyolojik olarak zararsız hale getirilemezler. Bu tip maddeler organizmaların dokularında birikerek zararlı düzeye ulaşabilir. Bu olaya biyolojik birikim denir.

Buna göre aynı besin zincirinin halkalarını oluşturan aşağıdaki canlılardan hangisinde biyolojik birikimin en fazla olması beklenir?

- A) Ot
B) Fare
C) Çekirge
D) Yılan

18. Aşağıda azot döngüsü şematize edilmiştir



Şema ile ilgili aşağıdaki ifadelerden hangisi doğrudur?

- A) Azotun yeryüzündeki tek bileşik hali topraktaki nitrattır.
B) Atmosferdeki serbest azotun toprağa geçişi biyolojik ve abiyotik tespit ile gerçekleşir.
C) Denitrifikasyon olayı toprağı azot bakımından zenginleştirir.
D) Toprağı azot bileşikleri yalnızca ölü bedenlerin ayrışması ile katılabilir.

19. Biyomlar geniş coğrafi bölgeleri kaplayan büyük ekosistem çeşitleridir. **Buna göre;**

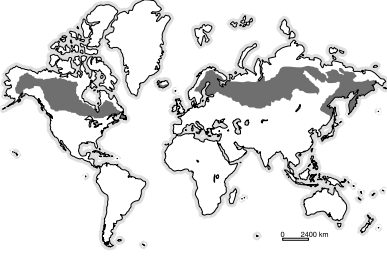
- ekvator kuşağına yakın bölgelerde bulunan,
- baskın ağaçları çok uzun olduğu için güneş ışığını alt bölgelere ulaşmasını engelleyen,
- tür zenginliğinin çok yüksek olduğu,

biyom aşağıdakilerden hangisidir?

- A) Tundra
B) Çöl
C) Ilıman bölge çayırları
D) Tropikal yağmur ormanları

2. OTURUM

20. Aşağıda dünya üzerinde bir biyomun dağılışı verilmiştir.



Bu biyoma ait bazı özellikler şunlardır:

- Yapraklarını tamamen dökmeyen bu nedenle sürekli yeşil görünen ağaçlar baskın türdür.
- Kışlar çok soğuk ve kar yağışlıdır. Kar kalınlığının fazla olması toprağın çok derinlere kadar donmasını engeller.
- Yaz aylarında toprak altı buzları erir ve bitki örtüsü bol miktarda gelişmeye başlar.

Buna göre coğrafik dağılışı ve bazı özellikleri verilen bu biyom aşağıdakilerden hangisidir?

- A) İğne yapraklı ormanlar
B) Ilıman bölge yaprak döken ormanları
C) Tropikal yağmur ormanları
D) Tundra

(447) SEÇMELİ BİYOLOJİ – 3

1. DNA'nın hücredeki görevleriyle ilgili aşağıdakilerden hangisi **yanlıştır**?

- A) Kalıtsal bilginin gelecek nesillere aktarılmasını sağlar.
B) Protein sentezinde ribozomun yapısına katılır.
C) Hücredeki metabolik olayları düzenler.
D) Kalıtsal bilgiyi depo eder.

2. Nükleik asitlerle ilgili aşağıda verilen bilgilerden hangisi **yanlıştır**?

- A) Canlılarda akrabalık derecesi arttıkça DNA benzerliği de artmaktadır.
B) DNA çift sarmal yapıdadır.
C) RNA çift sarmal yapıda olup kendini eşleyebilir.
D) Prokaryot hücrelerde DNA ve RNA sitoplazmada birlikte bulunur.

3. Eşit sayıda nükleotide sahip iki farklı DNA molekülü için aşağıdakilerden hangisi **kesinlikle aynıdır**?

- A) Deoksiriboz sayısı
B) Nükleotid dizilimleri
C) Hidrojen bağı sayısı
D) Adenin nükleotit sayısı

4. Normal azot (^{14}N) atomu taşıyan bir DNA molekülü ağır azot (^{15}N) taşıyan ortamda iki nesil çoğaltılacak olursa oluşan DNA'ların % kaçını melezdir?

- A) 25 B) 50 C) 75 D) 100

5. Bir ribonükleotit molekülü en küçük yapı birimine kadar hidroliz edildiğinde seçeneklerdeki hangisi kesinlikle açığa **çıkamaz**?

- A) Riboz şekeri
B) Urasil organik bazı
C) Timin bazı
D) Fosfat grubu

6. Aşağıda RNA çeşitleri verilmiştir.

- I. mRNA
II. tRNA
III. rRNA

Buna göre verilen RNA çeşitlerinden hangileri protein sentezinde görevlidir?

- A) Yalnız I. B) I ve II.
C) II ve III. D) I, II ve III.

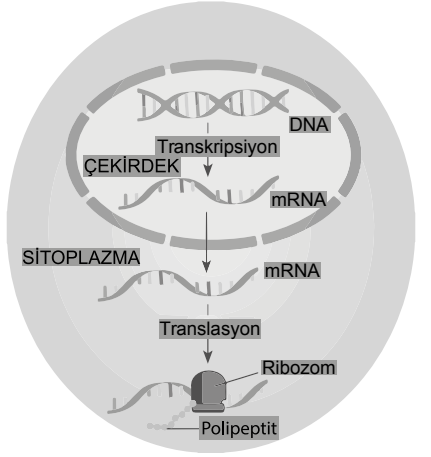
7. Aşağıda DNA ve RNA'nın farkları ile ilgili tablo verilmiştir.

	DNA	RNA
I.	İki zincirden oluşur.	Tek zincirden oluşur.
II.	Deoksiriboz şekeri bulundurulur.	Riboz şekeri bulundurulur.
III.	Prokaryot hücrelerde çekirdekte bulunur.	Prokaryot hücrede sitoplazmada ve ribozomda bulunur.
IV.	A = T, G = C eşitliği bulunur.	A = U ve G = C eşitliği bulunmaz.

Buna göre numaralandırılmış satırlarda verilen ifadelerden hangisi **yanlıştır?**

- A) I. B) II. C) III. D) IV.

8. Aşağıda ökaryot bir hücrede santral dogma verilmiştir.



Şekle göre aşağıdakilerden hangisi **yanlıştır?**

- A) mRNA çekirdek dışına çıkamaz.
B) DNA'dan mRNA sentezi çekirdek içinde gerçekleşir.
C) Polipeptit sentezi sitoplazmada gerçekleşir.
D) Transkripsiyonda DNA'daki şifre mRNA'ya aktarılır.

9. Anlamli ipliğinin dizilişi "TAT GAC CGG" olan DNA molekülünden sentezlenecek mRNA molekülünün nükleotit dizilişi aşağıdakilerden hangisidir?

- A) TAT GAC CGG
B) ATA CTG GCC
C) AUA CUG GCC
D) UAU GAC CGG

10. GDO'lu bitki üretiminin,

- I. genetiği değiştirilen bitkilerin, tarım zararlılarının istilasına karşı daha dayanıklı hâle gelmesiyle ürün kayıplarının azaltılması,
II. kuraklık, don ya da aşırı sıcaklık gibi iklim koşullarına karşı dayanıklılık sağlanması,
III. kültür bitkilerine yeni genlerin eklenmesi ile ürünlerin besleyici niteliğinin artırılması

olaylarından hangilerinin gerçekleştirilmesine katkı sağlar?

- A) Yalnız I. B) I ve II.
C) II ve III. D) I, II ve III.

2. OTURUM

11. Aşağıda bitkisel yapılar ve görevleri ile ilgili eşleştirmelerden hangisi **yanlıştır**?

Yapı	Görev
A) Kütikula	Işığı ve suyu geçirme
B) Özümleme parankiması	Fotosentez
C) Ksilem	Su ve mineralleri taşıma
D) Uç meristem	Boyuna büyüme

12. Temel doku; bitkinin kök, gövde, yaprak gibi organlarının tamamında bulunan doku çeşididir. **Buna göre aşağıda verilen doku çeşitlerinden hangisi temel dokular grubunda incelenemez?**

- A) Parankima B) Floem
C) Sklerenkima D) Kollenkima

13. Epidermisten farklılaşan yapılar ile ilgili,

- I. Stomalar, yapraklarda gaz alışverişinin gerçekleştiği, iki hücrenin aralarında açıklık bırakarak oluşturduğu yapılardır
II. Yapraklardaki bazı tüyler, güneş ışınlarının doğrudan yaprak üzerine gelmesini engelleyerek, bitkiyi buharlaşma yoluyla yaşanan su kaybından korur.
III. Havadaki nem oranının fazla olduğu durumlarda terleme ile atılmayan fazla suyun damlama yolu ile dışarı atılmasını hidatotlar sağlar.

ifadelerden hangileri **doğrudur**?

- A) Yalnız II. B) I ve II.
C) II ve III. D) I, II ve III.

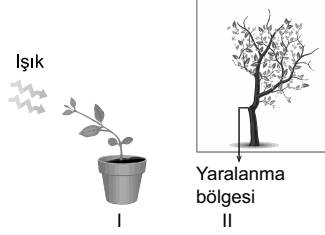
14. Aşağıdakilerden hangisi kökün görevlerinden birisi **değildir**?

- A) Fotosentez yapma
B) Bitkiyi toprağa bağlama
C) Toprakta su ve mineralleri alma
D) Toprakta alınan maddeleri gövdeye iletme

15. Aşağıda verilen bitki çeşitlerinden hangisinde yaprak bir sap (yaprak sapı) aracılığı ile gövdeye bağlanır?

- A) Mısır B) Domates
C) Arpa D) Buğday

16. Aşağıda bitkilerdeki bazı tropizma hareketleri verilmiştir.



Tropizma hareketleri ile ilgili, eşleştirmelerden hangileri **doğrudur**?

- I II
A) Fototropizma Travmatropizma
B) Travmatropizma Fototropizma
C) Hidrotropizma Kemotropizma
D) Kemotropizma Travmatropizma

17. Üretildiği yerden daha uzak bölgelere taşınacak bazı meyveler olgunlaşmadan toplanır. Yolda bunların üzerine püskürtülen bir hormon sayesinde olgunlaşması sağlanarak ürün kaybı engellenmiş olur.

Meyvelerin yolda olgunlaşmasını sağlayan gaz şeklindeki bu hormon aşağıdakilerden hangisidir?

- A) Sitokinin B) Etilen
C) Absisik asit D) Oksin

18. Bitkilerde odun borusunda madde taşınması ile ilgili aşağıda verilen yargılardan hangisi **yanlıştır**?

- A) Bitkinin topraktan aldığı suyun oluşturduğu hidrostatik basınç kök basıncıdır.
B) Odun borularında madde taşınması sırasında en etkili kuvvet terleme – kohezondur.
C) Yapılan araştırmalar suyun odun borusunda yükselmesinde kılcallık mekanizmasının diğer mekanizmalardan daha etkili olduğunu göstermiştir.
D) Kök basıncı etkisi ile yukarı doğru itilen su, havadaki nem oranının yüksek ve su alımının hızlı olduğu durumlarda yaprak kenarında bulunan ve sürekli açık olan hidatod adı verilen yapılardan damlama şeklinde dışarı atılır.

19. Aşağıda çiçekli bir bitkinin yaşam döngüsünde;

- I. tozlaşma,
II. dölleme,
III. tohum oluşumu

olayları hangi sıra ile gerçekleşir?

- A) II - III - I B) II - I - III
C) I - III - II D) I - II - III

20. Aşağıda verilen bitki çeşitlerinden hangisinde çiçeklenme **görülmür**?

- A) Gül B) Kabak
C) Çam D) Lale

(451) SEÇMELİ ÇAĞDAŞ TÜRK VE DÜNYA TARİHİ – 1

1. Osmanlı egemenliğinde sorunsuz yaşayan Orta Doğu halkı, İngiltere ve Fransa gibi sömürgeci devletlerin sözlerine inanarak bağımsızlıklarının verilmesini bekledi. Ancak vaatlerini yerine getirmeyen büyük devletlerin izledikleri politikalar, bölgede yeni bir siyasi harita ve statü ortaya çıkardı. Bu durum günümüze kadar süren sorunların çıkmasında etkili oldu.

Verilen bilgilerden hareketle aşağıdakilerden hangisi **söylenemez**?

- A) Fransa ve İngiltere'nin izledikleri politikalar Orta Doğu'da yeni sorunlar çıkmasına yol açmıştır.
B) Orta Doğu halkı Osmanlı egemenliğinde huzurlu yaşamıştır.
C) Orta Doğu'da yeni siyasi harita ve statü ortaya çıkmıştır.
D) Fransa ve İngiltere gibi büyük devletler verdikleri sözleri eksiksiz yerine getirmişlerdir.

2. Birçok imparatorluğun yıkılmasına, milyonlarca insanın ölmesine veya sakat kalmasına yol açan ve 1914 yılında başlayıp 1918 yılında sona eren savaş aşağıdakilerden hangisidir?

- A) Birinci Balkan Savaşı
B) İkinci Balkan Savaşı
C) Birinci Dünya Savaşı
D) İkinci Dünya Savaşı

3. "... 'Siyasi Düşünceler Tarihi' yazarı, Nazizm ve faşizm ideolojilerinin doğuş sebeplerini şöyle izah ediyor: Her iki ideoloji de savaşın ve bozgunun çocuğudurlar. Yani bir öfke, bir hınc, bir isyan belirtirler. Ayrıca bu ideolojiler, sefalet ve buhrandan, işsizlikten ve açlıktan doğdular... Bir isyan ve bir ümitsizlik hamlesi olarak ortaya çıktılar."

Yazara göre aşağıdakilerden hangisi nazizm ve faşizm ideolojilerinin doğuş nedenlerinden biri **değildir**?

- A) Sefalet ve buhran
B) İnsan sevgisi
C) Açlık
D) İşsizlik

2. OTURUM

4. ABD'nin I. Dünya Savaşı sonrası yalnızlık politikasına dönmesi aşağıda verilen hangi devletlerin Ortadoğu'da serbestçe hareket etmelerine fırsat vermiştir?
- A) İngiltere-Fransa
B) Rusya-İspanya
C) Almanya-İtalya
D) Yunanistan-Bulgaristan
5. I. Dünya Savaşı sırasında yanında yer alan yerel liderlere İngiltere'nin bağımsızlık vaadi üzerine kendini "Arap Ülkeleri Kralı" ilan eden Hicaz Emiri aşağıdakilerden hangisidir?
- A) Abdülaziz İbni Suud
B) Şerif Hüseyin
C) Emir Faysal
D) Kral Abdullah
6. 1867'de tahta geçen İmparator Mutsuhito'nun aydınların Batı tarzı yenilikler yapılması fikirlerine destek vermesiyle Japonya'da başlayan reform süreci aşağıdakilerden hangisidir?
- A) Rönesans
B) Sanayi İnkılabı
C) Meiji Restorasyonu
D) Aydınlanma Çağı
7. On İki Ada Türkiye'nin Ege kıyılarına yaklaşık 2 km mesafedeki Sisam ile Rodos adaları arasında yay şeklinde dizilmiş olan 20 adadan oluşmaktadır. 1912'de Uşi Antlaşması ile İtalya'nın eline geçen bu adalar Mussolini'nin devrilmesi ve İtalya'nın savaştan çekilmesi üzerine Almanlar tarafından işgal edildi. Almanya'nın teslim olmasından sonra da Müttefiklerin eline geçti ve aynı yıl Yunanistan'a bırakıldı.
- Bu bilgilere göre On İki Ada ile ilgili aşağıdakilerden hangisi söylenemez?**
- A) Uşi Antlaşması ile İtalya'nın eline geçmiştir.
B) Müttefikler tarafından Yunanistan'a verilmiştir.
C) Yirmi adadan oluşmaktadır.
D) Halen İtalya'nın elinde bulunmaktadır.
8. Türkiye, Irak, İran ve Afganistan arasında 8 Temmuz 1937'de imzalanan antlaşma aşağıdakilerden hangisidir?
- A) Bağdat Paktı
B) Balkan Paktı
C) Sadabat Paktı
D) Briand-Kellogg Paktı
9. Atatürk 15 Mart 1923'te Adana'da yaptığı konuşmada "Kırk asırlık Türk yurdu, düşman elinde esir kalmaz!" diyerek Türkiye için milli bir mesele olduğunu aşağıda verilenlerden hangisi için söylemiştir?
- A) Musul
B) Artvin
C) Kerkük
D) Hatay
10. Filistin'de "Yahudi Yurdu" kurulmasına izin vermeyen Osmanlı padişahı aşağıdakilerden hangisidir?
- A) II. Abdülhamit
B) II. Mahmut
C) I. Selim
D) IV. Murat
11. Aşağıdakilerden hangisi II. Dünya Savaşı'nın siyasi sonuçlarından biri değildir?
- A) Nazizm ve faşizm rejimlerinin yıkılması
B) Almanya ve Avusturya topraklarının işgal edilmesi.
C) İngiltere ve Fransa'nın sömürgele-ri üzerindeki etkilerini artırması
D) SSCB'nin savaş sonunda büyük bir güç haline gelmesi
12. Uluslararası çalışma örgütü aşağıdakilerden hangisidir?
- A) FAO
B) ILO
C) WHO
D) UNESCO
13. I. Dünya Savaşı sonunda Osmanlı Devleti ile İtilaf Devletleri arasında 30 Ekim 1918'de imzalanan antlaşma aşağıdakilerden hangisidir?
- A) Mudanya Ateşkes Antlaşması
B) Mondros Ateşkes Antlaşması
C) Ankara Antlaşması
D) Lozan Barış Antlaşması
14. II. Dünya Savaşı sonunda SSCB liderliğinde, ideolojik ayrılığa dayalı oluşan blok aşağıdakilerden hangisidir?
- A) Doğu Bloku
B) Batı Bloku
C) Kuzey Bloku
D) Güney Bloku
15. 1957'de Roma Antlaşması ile kurulmuş olan birlik aşağıdakilerden hangisidir?
- A) Kuzey Atlantik İttifakı
B) Avrupa Konseyi
C) Comecon
D) Avrupa Ekonomik Topluluğu
16. Demokrat Parti'nin kurucularından olup 1950-1960 yılları arasında Türkiye'de başbakanlık yapmış siyasetçi aşağıdakilerden hangisidir?
- A) Adnan Menderes
B) Turgut Özal
C) Süleyman Demirel
D) Bülent Ecevit
17. Afrika'daki devletler, bağımsızlıklarını kazanmalarına rağmen insanlar dünya standartlarının altında yaşamaktadırlar. Kabilecilik anlayışının hâkim olması demokratikleşmenin önünde en büyük engeldir. Serbest seçim, özgür basın vb. kavramların toplum nazarında pek bir değeri yoktur. Ülkelerin çoğunda tek parti ve askerî diktatörlükler işbaşındadır.
- Verilen bilgiye göre Afrika devletlerinde demokratikleşmenin önündeki en büyük engel, aşağıdakilerden hangisidir?**
- A) Bağımsızlıklarını kazanmaları
B) Kabilecilik anlayışının hakim olması
C) Serbest seçimlerin yapılması
D) Halkının fakir olması
18. Basmacı Hareketi'nin içinde bulunan, Türkistan Millî Birliği'nin kurucusu ve ilk başkanı olan ünlü Türk tarihçisi, aşağıdakilerden hangisidir?
- A) Cengiz Aytmatov
B) Yusuf Akçura
C) İsmail Gaspiralı
D) Zeki Velidi Togan
19. Nisan 1920'de toplanan San Remo Konferansı'nda Irak, Filistin ve Ürdün aşağıdaki devletlerden hangisinin mandasına bırakılmıştır?
- A) İngiltere
B) Fransa
C) İtalya
D) ABD
20. II. Dünya Savaşı'nda Japonya'nın Hiroşima ve Nagazaki şehirlerine atom bombası atarak 150.000 kişinin ölmesine neden olan ülke, aşağıdakilerden hangisidir?
- A) Rusya
B) ABD
C) Çin
D) İngiltere

2. OTURUM

(455) SEÇMELİ DEMOKRASİ VE İNSAN HAKLARI – 1

1. Açık lisede okuyan bir öğrencinin bütün kredilerini tamamladıktan sonra diploma alabilmesi, herhangi bir konuda mağdur olan birisinin mahkemeye dava açarak mağduriyetinin giderilmesini istemesi bu kavrama örnek verilebilir.

Verilen örnekler aşağıdaki kavramlardan öncelikle hangisiyle ilgilidir?

- A) Hak B) Eşitlik
C) Özgürlük D) Hukuk

2. Kişinin siyasal gücün kullanılmasına katılmasını sağlayan haklara katılma hakları denir.

Buna göre aşağıdakilerden hangisi katılma hakları arasında yer alır?

- A) Dinlenme
B) Mülkiyet
C) Seçme ve seçilme
D) Özel hayatın gizliliği

3. "Herkes yaşama, maddi ve manevi varlığını koruma ve geliştirme hakkına sahiptir." ifadesiyle anayasal güvenceye kavuşturulan hak aşağıdakilerden hangisidir?

- A) Basın özgürlüğü
B) Yaşama
C) Konut dokunulmazlığı
D) Ailenin korunması

4. I. Kuvvetler ayrılığı
II. Üniter devlet yapısı
III. Hukukun üstünlüğü

Yukarıdakilerden hangileri Türkiye Cumhuriyeti devletinin dayandığı temel esaslar arasında yer alır?

- A) I ve II. B) I ve III.
C) II ve III. D) I, II ve III.

5. Aşağıdakilerden hangisi hukuk devleti olmanın gereklerindendir?

- A) Sosyal güvenlik
B) Gelir adaleti ve eşitlik
C) Kanun önünde eşitlik
D) Tam istihdam ve işsizlikle mücadele

6. "Halk iktidarı", "halk egemenliği" anlamlarına gelen kavram aşağıdakilerden hangisidir?

- A) Yasa B) Demokrasi
C) Seçim D) Egemenlik

7. Kuvvetler ayrılığının anlamı aşağıdakilerin hangisinde doğru olarak ifade edilmiştir?

- A) Yasama, yürütme ve yargı güçleri ayrı ellerde olmalıdır.
B) Hukuk devletin varlığı demokratik rejime bağlıdır.
C) Temel hak ve özgürlükler güvence altında olmalıdır.
D) Devletin yapacağı faaliyetler önceden belirlenmelidir.

8. Kısıtlı oy türünde oy kullanma belli şartlara bağlı olarak yerine getirilir.

Bu bilgiye göre aşağıdakilerden hangisi kısıtlı oy olarak değerlendirilemez?

- A) Irka dayalı oy kullanma
B) Cinsiyete bağlı oy kullanma
C) Vergi ödemeye bağlı oy kullanma
D) Seçme yeterliliğine sahip herkesin oy kullanması

9. Aşağıdakilerden hangisi Cumhuriyet öncesi gelişmeleri arasında yer almaz?

- A) İslahat Fermanı
B) Nizam-ı Cedit
C) 1924 Anayasası
D) Sened-i İttifak

10. Aşağıdakilerden hangisi insan haklarının gerçekleştirilmesinde karşılaşılan engellerdendir?

- A) Yanlış olarak nitelendirilen töre ve geleneklerin varlığı
B) Devletin ekonomik olanaklarının yeterli olması
C) Kamu düzeni ve temel hakların dengeli olması
D) Eğitim düzeyinin yüksek olması

11. Aşağıdakilerden hangisi demokrasiyi yaşama biçimi olarak benimseyen bireyden beklenmeyen bir durumdur?

- A) Alınacak kararlarda ailedeki her bireye söz hakkı tanınması
B) Kendisinden farklı görünen insanların aşağılanması
C) Günlük eylemlerinde demokrasiye uygun davranması
D) Farklı düşüncelere karşı saygılı olması

12. Birleşmiş Milletlerin 10 Aralık 1948'de imzaladığı belge aşağıdakilerden hangisidir?

- A) Versailles Barış Antlaşması
B) İngiliz Haklar Bildirgesi
C) Virginia Haklar Bildirgesi
D) İnsan Hakları Evrensel Bildirgesi

13. I. Avrupa Konseyi
II. Birleşmiş Milletler
III. Avrupa Birliği

Yukarıdakilerden hangileri evrensel düzeyde faaliyet gösteren kuruma organları arasında yer alır?

- A) Yalnız I. B) Yalnız II.
C) I ve II. D) I ve III.

14. İşkenceye ve Başka Zalimce İnsanlık Dışı ya da Onur Kırıcı Ceza ya da Davranışlara Karşı Sözleşme aşağıdaki komitelerden hangisi tarafından kabul edilmiştir?

- A) Kadınlara Karşı Ayrımcılığın Kaldırılması Komitesi
B) Ekonomik Sosyal ve Kültürel Haklar Komitesi
C) İşkenceye Karşı Komite
D) Apartheid'a Karşı Grup

15. Avrupa Güvenlik ve İşbirliği Teşkilatı'na taraf olan devletlerde seçimlerin sağlıklı bir biçimde yapılabilmesini sağlayan organ aşağıdakilerden hangisidir?

- A) Hür Seçimler Bürosu
B) Danışma Komitesi
C) Çatışma Önleme Merkezi
D) Kıdemli Memurlar Komitesi

16. Aşağıdakilerden hangisi uluslararası sivil toplum örgütlerinin faaliyet alanlarından değildir?

- A) Savaşları ortadan kaldırma
B) İşkenceyle mücadele
C) Cehaleti önleme
D) Çevre kirliliğini artırma

17. I. Ülke
II. Egemenlik
III. Çatışma

Yukarıdakilerden hangileri devletin varlığı için gerekli olan unsurlar arasında yer alır?

- A) Yalnız I. B) I ve II.
C) II ve III. D) I, II ve III.

18. Çağdaş uygarlık seviyesini yakalamak ve bunun ötesine geçmek için yapılan çalışmalar aşağıdakilerden hangisiyle ifade edilir?

- A) İnkılap B) Reform
C) Bilimsellik D) Çağdaşlaşma

19. Aşağıdakilerden hangisi Atatürk inkılabının ilkeleri arasında yer almaz?

- A) Milliyetçilik B) Devletçilik
C) Uygarlık D) Halkçılık

2. OTURUM

20. Egemenlik hakkının tek bir kişiye ya da bir zümreye değil, halkın tamamına ait olması aşağıdaki Atatürk ilkelerinden hangisiyle ilgilidir?

- A) Cumhuriyetçilik
- B) İnkılapçılık
- C) Devletçilik
- D) Laiklik

(466) TEMEL DİNİ BİL. – 2

1. “Kişinin günlük hayatında faydasına ve zararına olan şeyleri bilmesi” **şeklinde tanımlanan ilim aşağıdakilerden hangisidir?**

- A) Kelam
- B) Fıkıh
- C) Akaid
- D) Siyer

2. **Fakih kavramı aşağıdakilerden hangisi ile aynı anlama gelmektedir?**

- A) Muhaddis
- B) Müfessir
- C) Müçtehit
- D) Mücahit

3. **Aşağıdakilerden hangisi İslam hukukunun “ferai” başlığı altında incelenir?**

- A) Miras ve vasiyet
- B) Suçlar ve cezalar
- C) Evlenme ve boşanma
- D) Günlük hayatla ilgili akideler

4. Aynı dönemde yaşayan müçtehitlerin dini bir konunun hükmü hakkında görüş birliği içinde olmalarıdır.

Bu tanım aşağıdaki kavramlardan hangisine aittir?

- A) İstihsan
- B) Hadis
- C) Kıyas
- D) İcma

5. **Aşağıdakilerden hangisi İslam hukukunun temel kaynaklarından biri değildir?**

- A) Kur'an
- B) Sünnet
- C) Gelenek
- D) Kıyas

6. **Hukuk ile ahlak ilişkisi değerlendirildiğinde aşağıdakilerden hangisi söylenemez?**

- A) Hukuk dışsal, ahlak ise içseldir.
- B) Ahlakın yaptırımı zorlayıcı, hukukun ise vicdanidir.
- C) Hukuk, insanların ahlaki ilkelere göre yaşaması için vardır.
- D) Ahlak iyiyi yaşam biçimi olarak sunar, hukuk ise buna yönelik ihlalleri engeller.

7. **Aşağıdakilerden hangisi İslam hukukunun temel ilkelerinden biri değildir?**

- A) Cezalarda keyfilik
- B) Helallerde genişlik
- C) Tekliflerde kolaylık
- D) Adaletin gözetilmesi

8. **Mecelle’de yer alan “Zaruretlere, memnu olan şeyleri mübah kılar.” ilkesinin anlamı aşağıdakilerden hangisidir?**

- A) Yasaklanmamış olan her şey helaldir.
- B) Suç ile ceza arasında doğru orantı olmalıdır.
- C) Kişi, suçu kanıtlanıncaya kadar masum kabul edilir.
- D) Yasaklanan fiiller, zorunlu hâllerde geçici olarak kaldırılır.

9. “... Hiçbir suçlu başkasının suçunu yüklenmez...”
(En’âm suresi, 164. ayet)

Bu ayet İslam hukukunun aşağıdaki temel ilkelerinden hangisi ile ilgilidir?

- A) Suçun şahsiliği
- B) Haramlarda sınırlılık
- C) Kamu yararının gözetilmesi
- D) Suç ve ceza arasındaki orantı

10. **Aşağıdakilerden hangisi mükellef olmanın genel şartlarından biri değildir?**

- A) Buluş çağına erişmiş olmak
- B) Akıl sahibi olmak
- C) Müslüman olmak
- D) Zengin olmak

11. Beşeri münasebetlerde hoşgörülü, bağışlayıcı ve medeni davranışlar sergileyemeyi sağlayan ahlaki erdemler - - - - denir.

Bu tanımda boşluğa getirilmesi gereken kavram aşağıdakilerden hangisidir?

- A) teenni
- B) hilim
- C) havf
- D) tevekkül

12. **Dinin emir ve tavsiyelerine uyma, haram ve günahlardan kaçınma hususunda gösterilen titizlik olarak tanımlanan kavram aşağıdakilerden hangisidir?**

- A) Tefekkür
- B) Marifet
- C) Takva
- D) Ta’zim

13. “Ben cinleri ve insanları ancak bana kulluk etsinler diye yarattım.”
(Zâriyât suresi, 56. ayet)

Bu ayette Allah’a karşı vazifelerimizden hangisi vurgulanmıştır?

- A) Ubudiyet
- B) Muhabbet
- C) Tövbe
- D) Reca

14. **Aşağıdakilerden hangisi kul hakkı ihlaline örnek oluşturur?**

- A) Suçluya hak ettiği cezayı vermek
- B) Verilen sözü yerine getirmek
- C) Mahremiyetleri araştırmak
- D) Trafik kurallarına uymak

15. İnsanlardan bir grup, Allah’ın evlerinden bir evde toplanırlar. Allah’ın kitabını (Kur’ân’ı) okurlar ve onu aralarında konuşarak manasını anlamaya çalışırlarsa, üzerlerine sükûnet (huzur ve gönül rahatlığı) iner.

Bu hadiste Kur’an-ı Kerim ile ilgili aşağıdakilerden hangisi vurgulanmaktadır?

- A) Bozulmadan günümüze kadar ulaşmıştır.
- B) Anlamak için çaba gösterilmelidir.
- C) Hükümleri evrenseldir.
- D) Son ilahi kitaptır.

16. Kadın ve erkek her Müslümana ilim öğrenmek farzdır.

Bu hadiste aşağıdakilerden hangisinin önemine vurgu yapılmıştır?

- A) İbadetin
- B) Helal rızık
- C) İrade ve özgürlüğün
- D) Eğitim ve öğretimin

17. “... Kim bir cana kıymayan veya yüzünde bozgunculuk çıkarmayan bir kimseyi öldürürse bütün insanları öldürmüş gibi olur. Kim de bir kimsenin yaşamasını sağlarsa bütün insanları yaşatmış gibi olur...”
(Mâide suresi, 32. ayet)

Bu ayette aşağıdaki ilkelere hangisi vurgulanmıştır?

- A) Dinin korunması
- B) Canın korunması
- C) Aklın korunması
- D) Namusun korunması

2. OTURUM

18. Aşağıdakilerden hangisi Hz. Muhammed'e (sav.) duyulması gereken saygı ve itaati emreden ayetlerden biri değildir?

- A) "Ey iman edenler! Allah'a ve Resulüne itaat edin ve (Kur'an'ı) işittiğiniz hâlde ondan yüz çevirmeyin."
(Enfâl suresi, 20. ayet)
- B) "Şüphesiz Allah ve melekleri Peygamber'e salât ediyorlar. Ey iman edenler! Siz de ona salât edin."
(Ahzâb suresi, 56. ayet)
- C) "(Ey Muhammed!) Kitaptan sana vahyolunanı oku, namazı da dosdoğru kıl. Çünkü namaz insanı hayâsızlıktan ve kötülükten alıkozar..."
(Ankebût suresi, 45. ayet)
- D) "Ey iman edenler! Seslerinizi, Peygamber'in sesinin üstüne yükseltmeyin. Birbirinize bağırdığınız gibi, Peygamber'e yüksek sesle bağırmayın, yoksa siz farkına varmadan işledikleriniz boşa gider."
(Hucurât suresi, 2. ayet)

19. Sizden biriniz kendisi için istediğini Müslüman kardeşleri için de istemedikçe gerçek anlamda mümin olamaz.

Bu hadiste aşağıdakilerden hangisine karşı görev ve sorumluluklar vurgulanmaktadır?

- A) Allah B) Kur'an
C) Peygamber D) İnsanlar

20. Aşağıdakilerden hangisi İslam hukukunun ikinci kaynağı olarak kabul edilir?

- A) Sünnet B) Kıyas
C) Kitap D) İcma

(467) SEÇMELİ MATEMATİK – 3

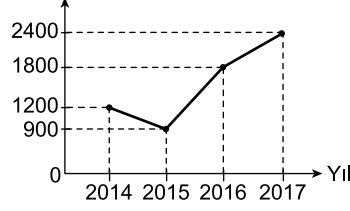
1. A ve B atletlerinin 5 gün boyunca günde kaç km koştukları aşağıdaki tabloda verilmiştir.

Gün	1.	2.	3.	4.	5.
A	17	14	a	14	15
B	13	15	16	18	b

Tabloya göre bu iki atletin 5 gün boyunca koştukları toplam yol miktarı eşit ise $a - b$ kaçtır?

- A) -2 B) -1 C) 1 D) 2

2. Konut Sayısı (Adet)



Yukarıdaki grafikte bir ilde 2014-2017 yılları arasında satılan konut sayısının yıllara göre değişimi verilmiştir.

Grafığe göre bu ilde 2014-2017 yılları arasında satılan konut sayısının yıllık bazda ortalama değişimi kaç (konut sayısı/yıl) olur?

- A) -500 B) -400
C) 400 D) 500

3. A otoparkına park eden bir araçtan 5 TL giriş ücreti ve kalınan her saat için 1 TL alınmaktadır. B otoparkına park eden bir araçtan 7 TL giriş ücreti ve kalınan her saat için 0,75 TL alınmaktadır.

A ve B otoparklarına eşit süre park eden ve aynı ücreti ödeyen iki araç bu otoparklarda kaç saat kalmıştır?

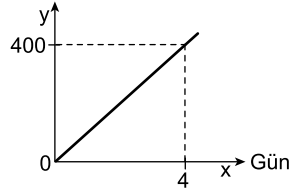
- A) 5 B) 6 C) 7 D) 8

4. Bir şirketin kuruluşundan itibaren geçen süre x yıl ve bu şirketin sermayesi y lira olmak üzere x ile y arasındaki ilişki $y = 10\,000 + 3000x$ fonksiyonuyla tanımlanmıştır.

Buna göre bu şirketin sermayesi kuruluşundan 5 yıl sonra kaç liradır?

- A) 25 000 B) 22 000
C) 20 000 D) 18 000

5. Sayfa Sayısı

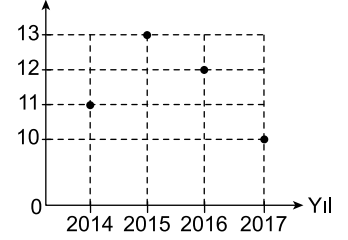


Bir öğrencinin zamana bağlı okuduğu toplam sayfa sayısını gösteren fonksiyonun grafiği yukarıda verilmiştir.

Grafığe göre bu öğrencinin zamana bağlı okuduğu toplam sayfa sayısı fonksiyonu aşağıdakilerden hangisidir?

- A) $f(x) = 50x$ B) $g(x) = 75x$
C) $h(x) = 100x$ D) $k(x) = 125x$

6. Sıcaklık Ortalaması (°C)

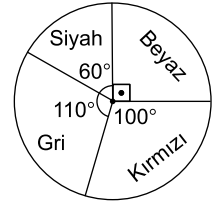


Yukarıdaki grafikte bir şehrin 2014 – 2017 yılları arasındaki yıllık sıcaklık ortalamaları verilmiştir.

Grafığe göre bu şehrin 2014-2017 yılları arasındaki yıllık sıcaklık ortalamaları ile ilgili olarak aşağıdakilerden hangisi yanlıştır?

- A) En sıcak yıl 2015'tir.
B) 2017 yılında ortalama sıcaklık bir önceki yıla göre 2°C düşmüştür.
C) 2016 yılında ortalama sıcaklık 12°C'dir.
D) Sıcaklıklar her geçen yıl düşmüştür.

7.

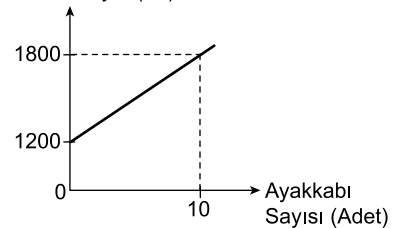


Yukarıdaki daire grafiğinde bir otomobil firmasının sattığı otomobillerin sayısının renklere göre dağılımı verilmiştir.

Grafığe göre bu otomobil firması en çok hangi renk otomobil satmıştır?

- A) Beyaz B) Gri
C) Kırmızı D) Siyah

8. Maliyet (TL)



Yukarıdaki grafikte bir atölyede üretilen ayakkabı sayısına göre maliyetin değişimi verilmiştir.

Grafığe göre bu atölyede 4 ayakkabı üretildiğinde maliyet kaç TL olur?

- A) 1440 B) 1480
C) 1520 D) 1560

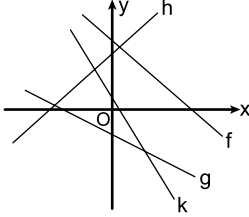
2. OTURUM

9. Denklemi $y = mx + n$ biçiminde yazılan doğrusal fonksiyonun değişim hızı m 'dir.

Buna göre $y = (3a - 2)x + 7$ doğrusal fonksiyonunun değişim hızı 4 ise a kaçtır?

- A) 1 B) 2 C) 3 D) 4

10.



Yukarıda grafikleri verilen f , g , h ve k fonksiyonlarından hangisinin eğimi pozitiftir?

- A) f B) g C) h D) k

11. $\frac{3^3 \cdot 3^3}{3^3 + 3^3 + 3^3}$ işleminin sonucu kaçtır?

- A) 9 B) 6 C) 3 D) 1

12. $4^x = 8^6$ olduğuna göre x kaçtır?

- A) 6 B) 7 C) 8 D) 9

13. $2^x = a$ ve $3^x = b$ olduğuna göre 72^x in a ve b türünden eşiti aşağıdakilerden hangisidir?

- A) a^2b B) a^2b^2
C) a^2b^3 D) a^3b^2

14. $f(x) = a^x$ üstel fonksiyonunda $0 < a < 1$ ise fonksiyon azalandır.

Buna göre aşağıdaki fonksiyonlardan hangisi azalandır?

- A) $\left(\frac{1}{2}\right)^x$ B) $\left(\frac{3}{2}\right)^x$
C) 3^x D) 5^x

15. $f(x) = 5 \cdot 2^x$ fonksiyonuna göre $f(2)$ kaçtır?

- A) 25 B) 20 C) 10 D) 5

16. 2^{-2} ifadesinin eşiti aşağıdakilerden hangisidir?

- A) $\frac{1}{4}$ B) $\frac{1}{2}$ C) 1 D) 2

17. İçinde 2 litre su bulunan bir depodaki su miktarı her günün sonunda 2 katına çıkmaktadır.

Buna göre 5 günün sonunda bu depoda kaç litre su bulunur?

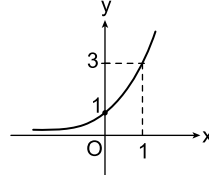
- A) 2^4 B) 2^5 C) 2^6 D) 2^7

18. 2011-2017 yılları arasında nüfus artış hızı 1000 kişi /yıl olan bir şehirde 2011 yılındaki nüfus 80 000'dir.

Buna göre bu şehrin 2017 yılındaki nüfusu kaçtır?

- A) 86 000 B) 85 500
C) 85 000 D) 84 500

19.



Yukarıda grafiği verilen üstel fonksiyon aşağıdakilerden hangisidir?

- A) 2^x B) 3^x C) 4^x D) 5^x

20. $f(x) = k \cdot 2^x$ fonksiyonunun grafiği (1,6) noktasından geçtiğine göre k kaçtır?

- A) 1 B) 2 C) 3 D) 4

(476) SEÇMELİ İŞLETME – 1

1. "Mal ve hizmetlerin insan gereksinimlerini karşılama özelliğine denir." ifadesi, aşağıdakilerden hangisinin tanımıdır?

- A) Hizmet B) Mal
C) Fayda D) İhtiyaç

2. Ticari işletmelerin öncelikli amacı aşağıdakilerden hangisidir?

- A) Hizmet etmek
B) Mal üretmek
C) İşsizliği azaltmak
D) Kâr elde etmek

3. Aşağıdakilerden hangisi işletmelerin amaçlarına uygun değildir?

- A) Kâr elde etme
B) Tekel oluşturma
C) Mal ve hizmet üretme
D) Sosyal fayda yaratma

4. Aşağıdakilerden hangisi kamu işletmelerinin kurulma amaçlarındandır?

- A) Varolan ulusal kaynakların etkin kullanımını sağlamak
B) Rekabet yaparak her alanda tekel piyasası oluşturmak
C) Özel işletmelerin yatırım yapmalarını engellemek
D) Olabildiğince yüksek kâr elde etmek

5. Sermaye şirketlerinde ortakların borçlarından dolayı sorumlulukları ne ile sınırlanmıştır?

- A) Şirketin toplam borcu ile
B) Şirketin toplam sermayesi ile
C) Ortakların tüm mal varlıkları ile
D) Ortakların sermaye payları ile

6. İnsanların çeşitli ihtiyaçlarını karşılayacak mal ve hizmetlerin elde edilmesi faaliyetlerine ne denir?

- A) Üretim B) Tüketim
C) İhtiyaç D) Girişim

7. I. Doğal kaynak
II. Sermaye
III. Ticaret
IV. İhtiyaç
V. Emek

Mal veya hizmet üretmek için yukarıdakilerden hangisi/hangileri işletmelerde bir araya getirilir?

- A) Yalnız I. B) III ve IV.
C) I, II ve V. D) II, III, IV ve V.

2. OTURUM

8. Aşağıdakilerden hangisi dayanıklı mallara örnek olur?

- A) Kâğıt B) Otomobil
C) Konserve D) Peynir

9. Aşağıdakilerden hangisi işletme yöneticilerinin görevlerindedir?

- A) İşletmenin yapacağı yeni yatırımlarda en son kararı vermek
B) İşletme kârının ortaklara hangi oranlarda dağıtılacağına karar vermek
C) Astlarının üstlenmiş oldukları işleri yapmak
D) İşletme çalışanlarının görevlerini belirlemek

10. Otel işletmelerinin ana faaliyet konusunu oluşturan hizmet aşağıdakilerden hangisidir?

- A) İletişim B) Konaklama
C) Ulaşım D) Finans

11. İşletmelerde amaçların belirlenmesi ve bunlara ulaşmayı sağlayacak araçların belirlenmesi hangi yönetim fonksiyonu ile sağlanır?

- A) Denetim
B) Planlama
C) Koordinasyon
D) Organizasyon

12. Aşağıdakilerden hangisi işletmenin başlıca işlevlerindedir?

- A) Finansman B) Planlama
C) Denetim D) Organizasyon

13. Aşağıdakilerden hangisi personel yönetimi kapsamında değildir?

- A) İşletme çalışanlarının izin işlemleri
B) İşletme çalışanları ile sendika ilişkileri
C) İşletmeye gerekli krediyi sağlama
D) İşletmeye yeni personel alma

14. İşletmenin amaçlarına ulaşabilmesi için, işletme çalışanlarının ortak amaçlar çerçevesinde düzenli çalışmalarının sağlanması işlevi aşağıdakilerden hangisidir?

- A) Muhasebe B) Üretim
C) Pazarlama D) Yönetim

15. İşletmeyi değişen koşullara göre yeniden düzenlemek için, aşağıdakilerden hangisi yapılır?

- A) Aşırı örgütlenme
B) Eksik örgütlenme
C) Yeniden örgütlenme
D) Hiyerarşik örgütlenme

16. Aşağıdaki işletme türlerinden hangisi üretim araçlarının mülkiyetine göre işletmeler sınıflandırması içinde yer alır?

- A) Özel işletmeler
B) Hizmet işletmeleri
C) Endüstri işletmeleri
D) Tarım sektöründeki işletmeler

17. • Üretim faktörleri bir kişide toplanır.
• İşletmenin sahibi ve yöneticisi aynı kişidir.
• En basit, en eski ve çok görülen bir işletme biçimidir.

Yukarıda özellikleri verilen işletme türü hangisidir?

- A) Kamu işletmesi
B) Hizmet işletmesi
C) Tek sahipli işletme
D) Dayanıksız mal üreten işletme

18. Aşağıdakilerden hangisi hizmet işletmelerine örnek olmaz?

- A) Hastaneler B) Fabrikalar
C) Bankalar D) Okullar

19. • Müşterilerin mal ve hizmet alımını sürdürmelerini sağlamak
• İşletmenin mal veya hizmetlerinin tanıtımını yapmak
• Yeni müşteriler kazanmak

Yukarıdaki faaliyetler hangi işletme işlevi ile yerine getirilir?

- A) Pazarlama B) Üretim
C) Yönetim D) Finansman

20. Aşağıdakilerden hangisi, işletmelerde organizasyon aşamasında gerçekleştirilmez?

- A) İşleri yapacak personelin göreve atanması
B) Yapılacak işlerin belirlenmesi ve gruplandırılması
C) Göreve atanan kişilerin yetki ve sorumluluklarının belirlenmesi
D) Planlamada belirlenen hedeflere hangi ölçüde ulaşıldığının araştırılması

(481) SEÇMELİ SANAT TARİHİ – 1

1. Aşağıdakilerden hangisi plastik sanatlardan biridir?

- A) Müzik B) Edebiyat
C) Tiyatro D) Mimari

2. Olayları gülünç ve toplumsal, siyasal yergi öğeleri içererek anlatan müzikal sahne oyununu aşağıdakilerden hangisidir?

- A) Operet B) Mimari
C) Resim D) Heykel

3. Ülkemizdeki kültürel varlıkların korunması, bakım ve onarımından sorumlu bakanlık aşağıdakilerden hangisidir?

- A) Enerji ve Tabii Kaynaklar Bakanlığı
B) Millî Eğitim Bakanlığı
C) Kültür ve Turizm Bakanlığı
D) Ekonomi Bakanlığı

4. Lidya uygarlığının en büyük özelliği ilk kez parayı kullanıma sokmuş olmalarıdır. Başkentleri Sardes'teki ihtişamlı resmi daireler, saraylar, pazar yerleri günümüze kadar ulaşmıştır.

Buna göre Lidyalıların aşağıdaki alanlardan hangisinde güçlü oldukları sonucu çıkarılabilir?

- A) Siyasi B) Kültürel
C) Ekonomik D) Askerî

5. • Homeros'un yazdığı İlyada Destanı'nda anlatılan Çanakkale'de bulunan antik kenttir.

• Etrafı surlarla çevrili kentteki evler, tapınaklar ve saraylar megaron planlı yapıdır.

Yukarıda hakkında bilgi verilen antik kent aşağıdakilerden hangisidir?

- A) Kültepe B) Truva
C) Çatalhöyük D) Alacahöyük

6. Sümerlerin çarpma ve bölme işlemlerini basitleştirmek için cetveller hazırlamaları, uzunluk alan ve hacim ölçülerini bulmaları aşağıdaki alanlardan hangisinde geliştiklerini gösterir?

- A) Matematik B) Yönetim
C) Sanat D) Edebiyat

7. Aşağıdakilerden hangisi Mezopotamya sanatına ait eserlerden biridir?

- A) Ziggurat B) Stadyum
C) Ağora D) Bazilika

2. OTURUM

(482) SEÇMELİ SANAT TARİHİ – 2

8. Erzincan-Altıntepe, Ağrı Patnos, Van-Toprakkale, Adilcevaz'daki kazılarda çıkarılan eserlerle zengin bir Urartu koleksiyonuna sahip olan ve Ankara'da yer alan müze hangisidir?
- A) Devlet Resim ve Heykel Müzesi
B) MTA Müzesi
C) Etibank Arkeoloji Müzesi
D) Anadolu Medeniyetler Müzesi
9. Yeryüzündeki anıt kabirlerin en eskisi ve en büyüklerinin bulunduğu ülke aşağıdakilerden hangisidir?
- A) Rusya
B) Yunanistan
C) Mısır
D) Afganistan
10. "Disk Atan Atlet, Marsiyas ve Athena" heykelleri ile tanınan Yunan Klasik Dönem heykeltıraşı aşağıdakilerden hangisidir?
- A) Phidias
B) Polykletos
C) Praksiteles
D) Miron
11. Aşağıdakilerden hangisi Rönesans Dönemi dinî mimari örneklerinden biri değildir?
- A) Kilise
B) Köşk
C) Şapel
D) Bazilika
12. Aşağıdakilerden hangisi Rönesans Dönemi resim sanatının genel özelliklerinden biri değildir?
- A) Doğaya uygunluk ve güzellik ön planda tutulmuştur.
B) Güncel konular resimlerde yer almaya başlamıştır.
C) Resimlerde açık renkler yerine koyu renklere yöneliş söz konusudur.
D) İnsanı gerçeğe daha uygun biçimde gösterme çabasına girilmiştir.
13. Rönesans'a tepki olarak ortaya çıkmış olan sanat akımı aşağıdakilerden hangisidir?
- A) Maniyerizm
B) Gotik
C) Dadaizm
D) Fütürizm
14. Aşağıdaki sanatçılardan hangisi Romantizmin önemli temsilcileri arasında yer alır?
- A) Lorenzo Bernini
B) Francisco Goya
C) El Greco
D) Tintoretto
15. Empresyonizmin isim babası olan Claude Monet'in eserleri arasında aşağıdakilerden hangisi yoktur?
- A) Kırdı Öğle Yemeği
B) Saman Yığınları
C) Fırtınalı Deniz
D) Mona Lisa
16. Fovizm akımı sanatçılarının renk açısından en çok etkilendikleri sanatçı aşağıdakilerden hangisidir?
- A) Claude Monet
B) Rubenis
C) Van Gogh
D) Sandro Botticelli
17. Cezanne'nin "Doğa'daki her şey koni, küre ve silindir gibi geometrik biçimlerden meydana gelir" sözünü benimseyerek oluşan sanat akımı aşağıdakilerden hangisidir?
- A) Kübizm
B) Romantizm
C) Realizm
D) Sürrealizm
18. Aşağıdaki sanatçılardan hangisi İspanya'daki iç savaşa duyduğu tepkiyi "Guernica" adlı başyapıtı ile bütün dünyaya duyurmuştur?
- A) Botticelli
B) Pablo Picasso
C) Bernini
D) Raoul Dufy
19. Roma mimarisinin en önemli eserlerinden biri olan Pisa Katedrali aşağıdaki ülkelerden hangisinde yer almaktadır?
- A) Fransa
B) İspanya
C) İtalya
D) Almanya
20. Metafizik resim akımı ile ilgili aşağıdaki bilgilerden hangisi yanlıştır?
- A) Savaşın neden olduğu yalnızlık ve huzursuzluğun etkilerini konu edinmiştir.
B) Resimlerde derinlik geometrik şekillerle oluşturulmuştur.
C) Giorgio De Chirico ve Carlo Carrà bu akımın en ünlü sanatçılarıdır.
D) Bu akımın sanatçıları akılcılığı ve mantığı ön planda tutmuşlardır.
1. Hunlardan kalan kurganlarda ortaya çıkarılan Pazırık halısı o dönemle ilgili aşağıdaki alanlardan hangisi hakkında bilgi verebilir?
- A) Hat sanatı
B) Dokuma sanatı
C) Minyatür sanatı
D) Ahşap sanatı
2. Uygurlar Soğdlardan alıp geliştirdikleri Uygur alfabesini kullanmışlardır. Kendi kâğıtlarını yapıp Uygur harfleri ile kitap basmış ve edebiyat alanında önemli eserler vermişlerdir.
- Buna göre Uygurlar aşağıdaki alanlardan hangisinde gelişmişlerdir?**
- A) Heykel
B) Opera
C) Yazı
D) Resim
3. Göktürklerde mimari eserlere pek rastlanmamasının nedeni aşağıdakilerden hangisidir?
- A) Göçebe olmaları
B) Şamanizm dinini benimsemeleri
C) Salgın hastalıklar
D) Siyasi anlaşmazlıklar
4. İslam inancına göre Müslümanlardan tavaf etmesi istenen, Mekke'de bulunan küp şeklindeki yapı aşağıdakilerden hangisidir?
- A) Kâbe
B) Mescid-i Aksa
C) Kubbet'üs Sahra
D) Küfe
5. Aşağıdakilerden hangisi dini mimari örneklerinden biri değildir?
- A) Arap Ata Türbesi
B) Akçakale Kervansarayı
C) Şam Emeviye Camisi
D) Divriği Ulu Camisi
6. Silindirik ya da çokgen gövde üzerine oturan, konik bir külahtan oluşan anıtsal mezarlara verilen isim aşağıdakilerden hangisidir?
- A) Ribat
B) Medrese
C) Kümbet
D) Han

2. OTURUM

7. Geçmişte Türk-İslam dünyasında din, felsefe, matematik, hukuk gibi derslerin verildiği eğitim-öğretim kurumu aşağıdakilerden hangisidir?

- A) Medrese B) Han
C) Türbe D) Cami

8. Aşağıdakilerden hangisi Abbasiler Dönemi'nde kurulan şehirlerden biri değildir?

- A) Samarra B) Rakka
C) Bağdat D) Şam

9. Sedefkâr Mehmet Ağa tarafından yapılan Sultan Ahmet Camisi İstanbul'da bulunmaktadır. Klasik üslubun en güzel örneklerinden birisi olan bu caminin bezemelerinde mavi çini kullanılmıştır. 6 minare ve 260 pencereden oluşmaktadır.

Bu metne göre Sultan Ahmet Camisi hakkında aşağıdaki bilgilerden hangisine ulaşılamaz?

- A) Mimarı
B) Yapıldığı tarih
C) Yeri
D) Mimarî özellikleri

10. Nizamiye Medresesi aşağıdaki devletlerden hangisi zamanında yapılmıştır?

- A) Karahanlılar
B) Gazneliler
C) Büyük Selçuklular
D) Memlukler

11. Yoldan geçen yolcuların ve kervanların dinlenmesi ve güvenliklerinin sağlanması amacıyla inşa edilen yapı aşağıdakilerden hangisidir?

- A) Medrese B) Türbe
C) Kurgan D) Ribat

12. Aşağıdakilerden hangisi Mimar Sinan'ın eserlerinden biri değildir?

- A) Selimiye Camisi
B) Süleymaniye Camisi
C) Şehzade Camisi
D) Nusretiye Camisi

13. Günümüzde modern müze olarak kullanılan, Mustafa Kemal Atatürk'ün yaşama gözlerini kapadığı yer aşağıdakilerden hangisidir?

- A) Dolmabahçe Sarayı
B) İshak Paşa Sarayı
C) Elhamra Sarayı
D) Topkapı Sarayı

14. Türklerde - - - sanatı sehpa, sandık, kaşık gibi gündelik eşyaların yanı sıra giriş, konsol, pencere ve dolap kapağı gibi mimarlık öğelerinde uygulanmıştır.

Yukarıdaki boşluğa getirilmesi uygun olan sanat türü aşağıdakilerden hangisidir?

- A) Deri B) Cam
C) Ahşap D) Hat

15. Mimaride yüzey kaplama olarak kullanılan fırınlanmış, çeşitli renk ve motiflerle süslenmiş malzeme verilen isim aşağıdakilerden hangisidir?

- A) Hat B) Çini
C) Minyatür D) Ebru

16. "Beyan-ı Menazil-i Sefer-i Irakeyn" ve "Süleymanname"deki minyatürleriyle ün salan Osmanlı sanatçısı aşağıdakilerden hangisidir?

- A) Seyyid Lokman
B) Şerafeddin Sabuncuoğlu
C) Ahmet Karahisari
D) Matrakçı Nasuh

17. Aşağıdakilerden hangisi güzel yazı yazma sanatıdır?

- A) Hat B) Minyatür
C) Çini D) Ebru

18. Yaptığı kazılarda İskender Lahdi'ni bularak ünlenen, figürlü resmin ilk temsilcisi aşağıdakilerden hangisidir?

- A) İbrahim Çallı
B) Hüseyin Zekai Paşa
C) Şeker Ahmet Paşa
D) Osman Hamdi Bey

19. Anadolu'nun geleneksel motifleriyle çağdaş batı resmini harmanlayan, Bedri Rahmi Eyüpoğlu'nun öğrencilerinin kurduğu grup aşağıdakilerden hangisidir?

- A) Yeniler Grubu
B) D Grubu
C) Onlar Grubu
D) Müstakil Ressam ve Heykeltıraşlar Birliği

20. Aşağıdakilerden hangisi İzmir Saat Kulesi ve Eski Türkiye Büyük Millet Meclisi'nin mimarıdır?

- A) Kemalettin Bey
B) Vedat Tek
C) Cihat Burak
D) Orhan Peker

(483) SAĞLIK BİLGİSİ – 1

1. "Normal bir kişinin kişisel ya da sosyal yaşantısında kendi kendisine yapması gereken işleri, bedensel veya ruhsal yeteneklerindeki kalıtsal ya da sonradan olma herhangi bir noksanlık sonucu yapamayanlardır."

Yukarıda tanımı verilen kavram hangisidir?

- A) Sağlıklı B) Bağışık
C) Engelli D) Antiseptik

2. Aşağıda fizik tedaviyle ilgili verilenlerden hangisi yanlıştır?

- A) Seanslar hâlinde yapılması
B) Rehabilitasyondan daha kısa bir süreç olması
C) Bozulan kas mekanizmasının düzeltilmesinde de kullanılması
D) Eklem kısıtlılığı olan hastalara yaptırılan hareketlerin ağırsız olması

3. Bir takvim yılındaki toplam canlı doğum sayısının, toplumun yıl ortası nüfusa bölümünün bin ile çarpımı sonucu elde edilen sağlık ölçütü aşağıdakilerden hangisidir?

- A) Kaba doğum hızı
B) Nüfus artış hızı
C) Kaba ölüm hızı
D) Ana ölüm hızı

4. Nüfus artış oranı bir ülkenin sağlık düzeyini gösteren ölçütler arasındadır. Gelişmiş ülkelerde nüfus artışı az, geri kalmış ülkelerde ise fazladır.

Ülke	Yıllık Nüfus Artışı (%)
I.	1,7
II.	0,6
III.	3,5
IV.	1,8

Yukarıdaki açıklamaya göre tabloda verilen ülkelerden hangisi daha gelişmiştir?

- A) I. B) II. C) III. D) IV.

5. Herhangi bir konuda bilgi sahibi olmak, yetenek ve becerileri iletme-dir.

Bu cümlede tanımı yapılan kavram aşağıdakilerden hangisidir?

- A) Öğrenme B) Gelişme
C) Olgunlaşma D) Büyüme

2. OTURUM

6. • Uyku ve temizlik alışkanlıkları büyük ölçüde kazanılmıştır.
• Büyük oyuncakları itip çekerken önüne çıkan engelleri aşabilir.
• Çevresinde kendisinden bağımsız bir dünyanın varlığını kabul eder.
• Son derece benmerkezcidirler ve çoğunlukla kendi başlarına oynarlar.

Yukarıda özellikleri verilen büyüme ve gelişme dönemi hangisidir?

- A) Ergenlik dönemi
B) Bebeklik dönemi
C) Çocukluk dönemi
D) Okul çağı dönemi

7. **Aşağıdakilerden hangisi yetişkinlik dönemi yaş aralığını göstermektedir?**

- A) 12 - 15 B) 21 - 65
C) 65 - 85 D) 85 - 95

8. Büyüme ve gelişme için

- I. Büyüme hormonuna,
II. Tiroksin hormonuna ihtiyaç duyulur.

Verilenler için aşağıdakilerden hangisi söylenebilir?

- A) I. doğru, II. yanlış
B) I. yanlış, II. doğru
C) Her ikisi de doğru
D) Her ikisi de yanlış

9. **Aşağıdakilerden hangisi birincil koruma hizmetlerinden biri değildir?**

- A) Beslenme
B) Sağlık eğitimi
C) Aile planlaması
D) Tedavi hizmetleri

10. Şişmanlığı saptamak için kullanılan yöntemlerin en çok tercih edileni beden kitle indeksine (BKİ) göre değerlendirme yöntemidir.

Buna göre beden kitle indeksi "18,5 - 24,9 kg/boy (m²)" arasında olan kişiler için ne söylenebilir?

- A) Zayıf B) Normal
C) Şişman D) Hafif şişman

11. **Aşağıdakilerden hangisi manikür ve pedikür yapılırken kullanılan araçların steril olmaması sonucu bulaşma riski olan hastalıklardandır?**

- A) AIDS B) Akromegali
C) Gut hastalığı D) Altıparmaklılık

12. I. Sinüzit
II. Diş çürüğü
III. Diş eti hastalıkları

Verilenlerden hangileri ağız kokusunun nedenlerindedir?

- A) I ve II. B) I ve III.
C) II ve III. D) I, II ve III.

13. **Aşağıdaki durumlardan hangisi kişinin ruh sağlığını olumsuz yönde etkileyebilir?**

- A) Aileyi oluşturan bireylerin birbirini anlaması
B) Spor, müzik, edebiyat vb. alanlarda hobilerinin bulunması
C) Kalıtsal veya sonradan meydana gelen bir hastalığının olmaması
D) Yoğun çalışma temposu ve risikin fazla olduğu mesleğe sahip olması

14. **Sağlıklı birey, sağlıklı aile ve sağlıklı toplum oluşturma çalışmalarını kapsayan koruyucu ruh sağlığı hizmeti aşağıdakilerden hangisidir?**

- A) Birincil koruma
B) İkincil koruma
C) Üçüncül koruma
D) Dördüncü koruma

15. I. Korku
II. Sinirlilik
III. Kalp çarpması
IV. Mide bulantısı
V. Solunumun hızlanması

Sınav kaygısı sonucu oluşan bu belirtilerden hangileri fizyolojiktir?

- A) I ve IV. B) I, II ve V.
C) II, III ve IV. D) III, IV ve V.

16. **İletinin göndericiden alıcıya ulaştığı yol veya araca ne ad verilir?**

- A) Mesaj B) Kanal
C) Kaynak D) Geri bildirim

17. **Aşağıdakilerden hangisi madde kullanımını ve bu bağlamda suç işlemeyi artırıcı yönde rol oynayan faktörlerden biri değildir?**

- A) Çocuk istismarı
B) Aile içi iletişimsizlik
C) Doğru ve yeterli eğitim
D) Baskıcı disiplin yöntemleri

18. **Aşağıdakilerden hangisi tütünde esas bağımlılık yapan maddedir?**

- A) Metan B) Nikotin
C) Naftalin D) Kadmiyum

19. **Aşağıdakilerden hangisi alkolün sindirim sistemine etkilerindedir?**

- A) Gastrit
B) Hafıza kaybı
C) Denge bozukluğu
D) Konuşmada zorlanma

20. Uyuşturucu madde bağımlılığının tedavisi, tedavi ve rehabilitasyon olmak üzere iki aşamada gerçekleştirilir.

Buna göre aşağıdakilerden hangisi bağımlı kişiye "rehabilitasyon aşamasında" yapılması gereken uygulamalardandır?

- A) Hastanede gözlem altında tutulması
B) Yoksunluğa bağlı geçirdiği krizlere karşı dikkatli olunması
C) Bağımlı olduğu maddeden uzaklaştırılarak yoksunluk belirtileriyle savaştırılması
D) Tekrar iş gücü kazandırılarak çalışabilecek ve topluma yararlı olacak hâle getirilmesi

(492) TRAF. VE İLK YARD. – 2

1. **Aşağıdakilerden hangisi bir ilk yardımcıda bulunması gereken özelliklerdendir?**

- A) Heyecanlı ve telaşlı olmak
B) İyi bir iletişim becerisine sahip olmak
C) Eldeki olanaklardan yararlanmamak
D) Önce kazazedenin can güvenliğini korumak

2. **Bilinci kapalı olan bir kazazedenin "dolaşımı" nasıl değerlendirilmelidir?**

- A) Hava yolu açıklığı kontrol edilerek
B) Bak-Dinle-Hisset yöntemi kullanılarak
C) Şah damarından 5 saniye nabız alınarak
D) Hafifçe omzuna dokunup "iyi misiniz?" diye sorularak

3. **Aşağıdakilerden hangisi taşıtlarda bulunması gereken ilk yardım malzemelerinden biri değildir?**

- A) Üçgen sargı
B) Esmark bandajı
C) Antiseptik solüsyon
D) Vücut termometresi

2. OTURUM

4. • Yaralı sayısının ve türlerinin belirlenmesi
• Tekrar kaza olma riskinin ortadan kaldırılması

Verilenler aşağıdakilerden hangisini değerlendirmenin amacıdır?

- A) Solunumu
B) Olay yerini
C) Kazaya uğrayan aracı
D) Temel yaşam desteğini

5. **Aşağıdakilerden hangisi kazazedinin ikinci değerlendirilme aşamalarından olan "Görüşerek Bilgi Edinme" basamağında yer alır?**

- A) Hoşgörülü ve nazik davranarak güven sağlanması
B) Bilinç düzeyi, anlama ve algılamanın kontrol edilmesi
C) Solunum sayısı, ritmi ve derinliğinin değerlendirilmesi
D) Vücut veya cilt ısı, nemi ve renginin değerlendirilmesi

6. I. Kazazedinin sert bir zemin üzerine sırtüstü yatırılması
II. Kalp basısı uygulamak için göğüs kemiğinin alt ve üst ucunun tespit edilmesi
III. Göğüs kemiğine, yandan bakıldığında göğüs yüksekliğinin 1/2'si kadar aşağı inecek şekilde kalp basısı uygulanması

Yukarıdakilerden hangileri yetişkinlerde temel yaşam desteğinin uygulama basamaklarındandır?

- A) Yalnız I. B) I ve II.
C) II ve III. D) I, II ve III.

7. **Aşağıdakilerden hangisi tam tıkanıklık olan bebeklerde hava yolunun açılması için yapılması gereken ilk yardım uygulamalarından biri değildir?**

- A) Başparmak ve diğer parmakların yardımıyla bebeğin çenesinin kavranarak boynundan tutulması
B) 5 kez el bileğinin iç kısmı ile bebeğin sırtına kürek kemiklerinin arasına hafifçe vurulması
C) Bebeğin ilk yardımcının bir kolu üzerine ters olarak yatırılması
D) Bebeğin başının gergin ve gövdesinden yukarıda bir pozisyonda tutulması

8. **Aşağıdakilerden hangisi "şah damarı" baskı yeridir?**

- A) Kasık B) Uyluk
C) Boyun D) Koltuk altı

9. **Uzuv kopması durumunda, kopan parçanın konduğu torba en geç kaç saat içinde sağlık kuruluşuna sevk edilmelidir?**

- A) 15 B) 12 C) 9 D) 6

10. **Aşağıdakilerden hangisi şokun belirtilerindendir?**

- A) Hızlı ve zayıf nabız
B) Yavaş ve derin solunum
C) Bilinç seviyesinde artma
D) Kan basıncında yükselme

11. I. Kenarları birleşmeyen yaralar
II. Kanaması durdurulamayan yaralar
III. Yabancı cisim saplanmış olan yaralar

Verilenlerden hangileri ciddi (ağır) yaralanmalardandır?

- A) Yalnız I. B) Yalnız II.
C) Yalnız III. D) I, II ve III.

12. **Aşağıdakilerden hangisi göze bir cisim batması ya da metal cisim kaçması durumunda yapılacak ilk yardım uygulamalarındandır?**

- A) Üst göz kapağının açık tutulması
B) Göze hiçbir şekilde dokunulmaması
C) Nemli temiz bir bezle çıkarılmaya çalışılması
D) Kazazedeye gözünü kırıştırtmasının söylenmesi

13. **Aşağıdakilerden hangisi sıcak çarpmasından korunmak için alınması gereken önlemlerdendir?**

- A) Bol miktarda sıvı tüketilmesi
B) Koyu renkli giysiler giyilmesi
C) Direkt güneş ışığında kalınması
D) Gereksiz ve bilinçsiz ilaç kullanılması

14. **Dıştan veya içten etki eden kuvvetlerle kemik dokusunda oluşan ayrılmaya veya bu sebeplerle kemiğin anatomik bütünlüğünün ve devamlılığının bozulmasına ne ad verilir?**

- A) Çıkık B) Kırık
C) Yanık D) Burkulma

15. **Aşağıdakilerden hangisi bilinç kaybının en ileri durumudur?**

- A) Şok B) Bayılma
C) Koma D) Baş dönmesi

16. **Aşağıdakilerden hangisi sara krizi nedeniyle oluşan havalede yapılacak ilk yardım uygulamalarındandır?**

- A) Hastaya su içirilmesi
B) Sıkran giysilerin gevşetilmesi
C) Hastanın bağlanmaya çalışılması
D) Kilitlemiş çenesinin açılmaya çalışılması

17. I. Bilinç kaybı varsa koma pozisyonu verilir.
II. Özellikle yakıcı maddelerin alındığı durumlarda hasta kusturulmaya çalışılır.

Sindirim yoluyla zehirlenmelerde ilk yardım uygulamasıyla ilgili olarak verilenler için ne söylenebilir?

- A) I. doğru, II. yanlış
B) I. yanlış, II. doğru
C) Her ikisi de doğru
D) Her ikisi de yanlış

18. **Aşağıdakilerden hangisi kedi, köpek gibi hayvan ısırıkları durumunda yapılacak ilk yardım uygulamalarından biri değildir?**

- A) Yaranın üstünün temiz bir bezle kapatılması
B) Kazazedinin yaşamsal bulgular yönünden değerlendirilmesi
C) Ciddi yaralanma ve kanama varsa yaraya müdahale etmekten kaçınılması
D) Hafif yaralanmalarda yaranın 5 dakika süreyle sabun ve soğuk suyla yıkanması

19. **Aşağıdakilerden hangisi yaralı taşımamanın temel kurallarındandır?**

- A) Yaralının baş-boyun-gövde eksenine esas alınarak en az altı destek noktasından kavranması
B) İlk yardımcının kendi kapasitesinden fazla ağırlık taşıması
C) Yaralının mümkün olduğunca çok hareket ettirilmesi
D) İlk yardımcının kendi sağlığını riske sokması

20. "Özellikle, çok kilolu ve iri yarı kişilerin taşınması gerekiyorsa; dar, basık ve geçiş güçlüğü olan bir yerden çıkarmalarda herhangi bir yaralanmaya neden olmamak için seçilebilecek bir tekniktir."

Yukarıdaki açıklama yaralı taşıma tekniklerinden hangisine aittir?

- A) Sırtta taşıma
B) Köprü tekniği
C) Kucakta taşıma
D) Sürükleme tekniği

2. OTURUM

(501) İNGİLİZCE – 7

1-20. sorularda boş bırakılan yere uygun gelen kelime ya da ifadeyi işaretleyiniz.

1. This village is ---- of new cars.

- A) responsible B) famous
C) full D) late

2. The headmaster is responsible ---- the school.

- A) with B) for
C) of D) at

3. John is ---- of failure.

- A) afraid B) ready
C) busy D) bad

4. My father is not ---- with Chinese traditions.

- A) crazy B) worried
C) familiar D) responsible

5. I have bought a new car. I am very pleased ---- it.

- A) at B) for
C) from D) with

6. Aslı: "I study my lessons regularly."
Aslı said that she ---- her lessons regularly.

- A) study B) studies
C) studied D) studying

7. John: "I will go to Türkiye tomorrow."
John said that he would go to Türkiye ----.

- A) the next day
B) previous day
C) tomorrow
D) that day

8. Marcus said: "Close the door."
Marcus ---- me to close the door.

- A) spoke B) knew
C) said D) told

9. They said: "Play with us, Henry."
They told Henry to play with ----.

- A) they B) them
C) we D) us

10. Ted: "Do you like football?"
Ted asked me ---- I liked football.

- A) if B) when
C) what D) unless

11. Martin ---- gone to Paris. He will be here next week.

- A) doesn't B) isn't
C) have D) has

12. I have ---- seen such a beautiful scene before.

- A) yet B) just
C) so far D) never

13. I can't eat anything more because I have ---- too much.

- A) read B) eaten
C) played D) watched

14. Jenny : Where is your sister?
Tom : ----.

- A) He has been sleeping all day
B) I am cleaning the attic
C) We have been playing football since morning
D) She is studying for her exam in the room

15. When I arrived at the station, the train ----.

- A) have left B) had left
C) can leave D) will leave

16. Daughter : Can I go out now? I ---- my homework.

Mother : Yes, you can.

- A) have finished B) has finished
C) finishing D) finishes

17. I had seen Ayşe before she ---- to her new flat.

- A) tidied B) played
C) moved D) watched

18. I had ---- at the bus stop for two hours before the bus arrived.

- A) wait B) will wait
C) waiting D) been waiting

19. I had been sleeping ---- you phoned.

- A) never B) when
C) ever D) just

20. Sally needs to learn German ---- study in Germany.

- A) in order to B) because
C) since D) for

(501) ALMANCA – 7

1 - 20. sorularda boş bırakılan yere uygun gelen ek, kelime ya da ifadeyi işaretleyiniz.

1. Lehrer(in) : Wie geht es euch, Kinder?

Die Schüler: Danke, es geht ---- gut.

- A) mir B) dir C) uns D) ihm

2. A: Wie geht es deinem Vater?
B: ----

- A) Es geht ihr gut.
B) Es geht ihnen gut.
C) Es geht ihm gut.
D) Es geht mir gut.

3. Tanem: Ich habe ein Heft. Hast du auch ein Heft?

Asya : Nein, ich habe ---- Heft.

- A) kein B) ein
C) einen D) keinen

4. A: Hast du Kinder?
B: Ja, ich habe ---- Kinder.

- A) mein B) ein
C) kein D) zwei

5. Wie heißt ---- ? (Sevgi)

- A) er B) ihm C) ihn D) sie

2. OTURUM

6. Wie geht es ---- Frau?

- A) deinem B) deiner
C) deine D) deinen

7. Für ---- ist dieses Paket?

- A) wer B) warum
C) wen D) wo

8. Wann ---- du ins Kino gehen?

- A) willst B) will
C) wollen D) wollt

9. A: Was ist das?

B: Ich ---- es nicht.

- A) wisst B) wissen
C) weißt D) weiß

10. Ich gratuliere ---- zum Geburtstag. (der Mann)

- A) mir B) dir
C) ihm D) ihr

11. Der Tee schmeckt ---- nicht gut. (ich)

- A) mir B) ihr
C) dir D) ihnen

12. Ich habe am ---- Geburtstag. (24 Eylül)

- A) vierundzwanzigsten Juli
B) neunten August
C) elften Oktober
D) vierundzwanzigsten September

13. Was will er ---- ?

- A) werdet B) werden
C) willst D) wollt

14. Er liebt es ---- Computer zu spielen.

- A) in die B) ins
C) der D) mit dem

15. Was ---- er von Beruf?

- A) werden B) hat
C) ist D) möchte

16. Der Unterricht ---- um 8 Uhr ----.

- A) fängt / an
B) kommt / zurück
C) kauft / ein
D) fährt / ab

17. Ich ---- gern im Supermarkt ----.

- A) kaufe / ein
B) kommt / an
C) rufen / an
D) fahre / ab

18. Er schläft ----.

- A) in der Garage
B) im Schlafzimmer
C) in der Badewanne
D) im Fernseher

19. Ich ---- es falsch verstanden.

- A) bin B) kannst
C) gehe D) habe

20. Die Spülmaschine ist ----.

- A) im Kinderzimmer
B) in der Küche
C) im Wohnzimmer
D) in der Toilette

(501) FRANSIZCA – 7

1 – 20. sorularda boş bırakılan yere uygun gelen sözcük veya ifadeyi işaretleyiniz.

1. Anne : Bonjour! Tu t'appelles comment ?

Yusuf : Moi, je ---- Yusuf.

- A) s'appelle
B) m'appelle
C) t'appelles
D) vous appelez

2. Lucie : Tu as quel âge ?

Burak : ----.

- A) à Bursa B) 79 kilos
C) 1m.82 D) 21 ans

3. Nicole : Tu habites où ?

Pierre : J'habite ---- Espagne ---- Madrid.

- A) en / à B) à / à
C) aux / en D) au / aux

4. Metin : Vous ---- italien ?

Alain : Non, je ---- français.

- A) suis / est B) avez / ont
C) êtes / suis D) suis / êtes

5. Hacer ---- un frère.

- A) as B) est C) a D) es

6. Sylvie : ---- ?

Marie : Je suis dentiste.

- A) Où habitez-vous
B) Vous allez bien
C) Vous vous appelez comment
D) Qu'est-ce que vous faites dans la vie

7. Max : ---- tu ne viens pas au cinéma ?

Rose : Parce que j'ai du travail.

- A) Pourquoi B) Comme
C) Quelle D) Qu'est-ce que

8. Ce matin, j'ai raté mon rendez-vous car ---- un accident sur la route.

- A) c'était B) il y avait
C) il faisait D) il nageait

9. Pour acheter de la viande je vais chez ----.

- A) le pharmacien
B) le boucher
C) le libraire
D) le boulanger

10. Canan a soif. Elle commande ----.

- A) des frites
B) un sandwich
C) des épinards
D) un jus d'orange

2. OTURUM

11. La sœur de mon père est - - - - .

- A) ma fille B) mon oncle
C) ma tante D) ma cousine

12. Si tu - - - - , tu dois porter un masque.

- A) as la grippe
B) donne des conseils
C) prend des kilos
D) a une écharpe

13. M. Dupont soigne les dents malades.
Il est - - - - .

- A) architecte B) serveuse
C) dentiste D) chanteuse

14. Pierre : - - - - ?

Denise : J'y vais à moto.

- A) Comment vas-tu au bureau
B) Tu vas bien
C) Pourquoi vas-tu à la réunion
D) Où vas-tu ce soir

15. - - - - , il neige beaucoup à Erzurum.

- A) En été B) En avion
C) En coton D) En hiver

16. Claire : Quelle langue parlez-vous ?

Biol : Je parle - - - - .

- A) la géographie
B) l'anglais
C) les maths
D) la lettre

17. J'aime beaucoup les fruits, surtout - - - - .

- A) le thé et le chocolat chaud
B) les carottes et les pommes de terre
C) les pommes et les oranges
D) le saumon et le poulet rôti

18. Sabine : Pardon Madame, c'est combien le paquet de sucre ?

Vendeuse : - - - - .

- A) 2 euros B) 70 ans
C) 1m.70 D) 4 verres

19. On achète de l'eau de toilette à - - - - .

- A) la pâtisserie
B) la boulangerie
C) la banque
D) la parfumerie

20. Si tu as froid, - - - - .

- A) il faut acheter vos billets
B) tu peux prendre ma veste
C) il faut arrêter de manger fast-food
D) tu peux inviter tes amis au dîner

(512) FIKIH – 2

1. "Ey şu eksiksiz davetin ve kılnacak namazın Rabbi Allah'ım! Muhammed'e (sav.) vesileyi ve fazileti ver. Onu, kendisine vadettiğin makâm-ı mahmûda ulaştır, Muhakkak ki sen vaadinden dönmezsin."

Anlamı verilen dua aşağıdakilerden hangisidir?

- A) Yemek duası B) Ezan duası
C) Yağmur duası D) İftar duası

2. Abdestini tutamayacak şekilde devamlı bir rahatsızlığı bulunan kimse aşağıdakilerden hangisiyle isimlendirilir?

- A) Mükellef B) Tertip sahibi
C) Mümeyyiz D) Özür sahibi

3. Aşağıdakilerden hangisi Hanefi mezhebine göre abdestin sünnetlerindenidir?

- A) Niyet etmek
B) Başını mesh etmek
C) Yüzü yıkamak
D) Ayakları yıkamak

4. Teyemmüm ile ilgili aşağıdaki bilgilerden hangisi yanlıştır?

- A) Toprak veya toprak cinsinden temiz bir şeyle alınan abdesttir.
B) Suyu kullanma imkânı doğduğunda teyemmüm bozulur.
C) Başını mesh etmek teyemmümün farzlarındandır.
D) Hem namaz abdesti hem de boy abdesti yerine geçer.

5. Namaz kılarken namazın farzlarından birini geciktiren kimse için aşağıdakilerden hangisi doğrudur?

- A) Herhangi bir şey yapması gerekmez.
B) Sehv secdesi yapması gerekir.
C) Namazını yeniden kılmalıdır.
D) Namazı bozulmuştur.

6. Kur'an'daki secde ayetlerinden birinin okunması veya duyulması durumunda yapılması vâcib olan secdeye ne ad verilir?

- A) Sehv secdesi
B) Şükür secdesi
C) Tilavet secdesi
D) Namaz secdesi

7. Yatsı namazını eda edip bir süre uyuduktan sonra kalkarak en az iki rekât kılnan ve "gece namazı" olarak isimlendirilen ibadet aşağıdakilerden hangisidir?

- A) Duhâ namazı
B) Evvâbîn namazı
C) Terâvih namazı
D) Teheccüt namazı

8. Aşağıdakilerden hangisi zekât verecek kişide aranan şartlardan biri değildir?

- A) Nisap miktarı mala sahip olmak
B) Müslüman ve hür olmak
C) Bedenen sağlıklı olmak
D) Akıllı baliğ olmak

9. Bir fakire borç veren kişi daha sonra bunu alamayacağını düşünerek verdiği borcu zekâtına saysa caiz olmaz.

Bu hüküm zekâtın şartlarından hangisinin eksikliğinden kaynaklanmaktadır?

- A) Niyet
B) Havâic-i asliyye
C) Havl-i havelan
D) Malın zekâta uygun olması

10. Bir kimse aşağıdakilerden hangisine zekât verebilir?

- A) Karısına B) Kardeşine
C) Oğluna D) Babasına

2. OTURUM

11. Temel ihtiyaçlarının dışında belli bir miktar mala sahip olan Müslümanların, kendileri ve bakmakla yükümlü oldukları her kişi için Ramazan ayında vermeleri gereken sadakadır.

Hakkında bilgi verilen kavram aşağıdakilerden hangisidir?

- A) Zekât B) Sadaka-i cariye
C) Fidyeye D) Sadaka-i fitr

12. Ertuğrul, "İstediğim bölümü kazandıysam Allah rızası için üç gün oruç tutacağım" diye söz vermiştir. İsteddiği bölümü kazandığında da verdiği sözü yerine getirmiştir.

Ertuğrul'un tuttuğu bu oruca ne ad verilir?

- A) Yemin kefareti orucu
B) Kaza orucu
C) Adak orucu
D) Nafile oruç

13. Aşağıdakilerden hangisi orucun şartlarından biri değildir?

- A) Niyet etmek
B) Zengin olmak
C) Müslüman olmak
D) Oruç tutmaya gücü yetmek

14. Aşağıdaki durumlardan hangisinde oruç bozulur?

- A) Kan alındığında veya hacamat yaptırıldığında
B) Oruçlu olduğunu unutarak bir şeyler yenip içildiğinde
C) Gül, çiçek, esans, misk gibi güzel kokular koklandığında
D) İftar vaktinin geldiğini zannederek vakit gelmeden oruç açıldığında

15. Aşağıdakilerden hangisi Hanefilere göre haccın vaciplerindedir?

- A) Sa'y yapmak
B) Tavaf yapmak
C) İhrama girmek
D) Arafat'ta vakfe yapmak

16. Hacda yapılan şeytan taşlama görevi aşağıdaki yerlerden hangisinde yapılır?

- A) Arafat B) Müzdelife
C) Mina D) Safa-Merve

17. • Kurban Bayramı günlerinde kesilen kurbanı denir.
• Şartlarını taşıyan kişi için bu kurbanı kesmek vaciptir.
• Kesen kişi ve yakınları bu kurbanın etini yiyebilir.

Hakkında bilgi verilen kurban aşağıdakilerden hangisidir?

- A) Adak B) Şükür
C) Akika D) Udhiye

18. Bir ülke parasını başka bir ülke parasıyla değiştirmeye İslam fıkhında ne ad verilir?

- A) Sarf B) Faiz
C) Karz D) Kâr

19. Nikah sırasında kocanın evleneceği kadına verdiği veya vermeyi taahhüt ettiği para yahut mala ne ad verilir?

- A) Nafaka B) Mehir
C) Tazminat D) Temlik

20. "Mal getirip de bunu piyasaya süren kişi Allah tarafından rızıklandırılır. İhtiyaç duyulan malı saklayıp piyasa değerini yükseltmeye çalışan kişi ise Allah'ın lanetine uğramıştır."

Hz. Peygamber'in bu hadisiyle yasakladığı davranış aşağıdakilerden hangisidir?

- A) Karaborsacılık
B) Hileli satış
C) Tefecilik
D) Cimrilik

(531) SEÇMELİ PEYGAMBERİMİZİN HAYATI – 1

1. "Andolsun, Allah'ın Resülünde sizin için; Allah'a ve ahiret gününe kavuşmayı uman, Allah'ı çok zikreden kimseler için güzel bir örnek vardır."
(Ahzâb suresi, 21. ayet)

Bu ayette aşağıdakilerden hangisinin önemi vurgulanmaktadır?

- A) Ahiret hayatına iman etmenin
B) Hz. Muhammed'i (sav.) örnek almanın
C) Kur'an-ı Kerim'i anlayarak okumanın
D) Davranışlarda Allah'ın rızasını gözetmenin

2. Hz. Peygamber'in doğumundan vefatına kadar hayatını konu alan ilim aşağıdakilerden hangisidir?

- A) Hadis B) Akaid
C) Siyer D) Fıkıh

3. İslamiyet'in doğduğu dönemde İran'da hâkim olan Sasani devletinin resmî dini aşağıdakilerden hangisidir?

- A) Hristiyanlık B) Putperestlik
C) Haniflik D) Zerdüştlük

4. Arapların İslam'dan önceki inanç, tutum ve davranışlarını, İslami devirden ayırt etmek için kullanılan kavram aşağıdakilerden hangisidir?

- A) Cahiliye dönemi
B) Fetret dönemi
C) Hanif dönemi
D) Mekke dönemi

5. Aşağıdakilerden hangisi İslam öncesi Arap toplumundaki dinî inançlardan biri değildir?

- A) Sabîlik B) Yahudilik
C) Budistlik D) Haniflik

6. Aşağıdakilerden hangisi "Ficar Savaşları" kavramına ait bir açıklama değildir?

- A) Hz. Peygamber'in katılıp komuta ettiği savaşlar
B) Arapların haram kabul ettiği aylarda yaptıkları savaşlar
C) İslam öncesi Arap kabilelerin, diğer milletlerle yaptığı savaşlar
D) Hz. Peygamber'in kendisinin katılmayıp ordu gönderdiği savaşlar

7. İslam öncesi Arap toplumunun sosyal hayatı ile ilgili aşağıdakilerden hangisi söylenemez?

- A) Kız çocuklarına değer verilmezdi.
B) Tefecilik, kâhinlik, falcılık gibi işler yaygındı.
C) Toplum; hürler, köleler ve mevalilerden oluşmaktaydı.
D) Hanif inancını yaşayanlar toplumun çoğunluğunu oluşturmaktaydı.

2. OTURUM

8. Peygamberler gönderildikleri toplumun gelişmiş yönlerini aciz bırakacak şekilde mucizelerle desteklenmişlerdir. Hz Muhammed'e (sav.) mucize olarak gönderilen Kur'an-ı Kerim de dil, üslup, mana ve ahengi ile Araplara meydan okumuştur.

Buna göre İslam öncesi Arap toplumunun aşağıdakilerden hangisinde ileri olduğu söylenebilir?

- A) Şiir ve hitabet
B) Sihir ve büyü
C) Tıp ve eczacılık
D) Fizik ve astronomi

9. Aşağıdakilerden hangisi Mekke'de bulunan mekânlardan biri değildir?

- A) Beytül-Haram
B) Nur Dağı
C) Daru'n-Nedve
D) Mescid-i Nebi

10. I. Sakif kabilesinin bulunduğu şehirdi.
II. Hicret'ten önce Yesrib adı ile biliniyordu.
III. Hz. Peygamber burada doğdu ve büyüdü.
IV. Yahudi kabileler ekonomiye hâkimdi.

Bu bilgilerden hangileri "Medine" şehrine aittir?

- A) I ve II. B) I ve III.
C) II ve IV. D) III ve IV.

11. Mekke'de Hz. İbrahim dinine bağlı olan, Allah'ın birliğine inanan, putperestliği reddeden ve Kureyş'in yanlış inanç ve davranışlarına karşı çıkan kişilere verilen isim aşağıdakilerden hangisidir?

- A) Hanif B) Yahudi
C) Hristiyan D) Sabii

12. "Muhammed" isminin anlamı aşağıdakilerden hangisidir?

- A) Seçilmiş olan
B) Çok övülen
C) Allah'ın kulu
D) Bereketli olan

13. Aşağıdakilerden hangisi Arap toplumunda çocukların süt anneye verilme sebeplerinden biri değildir?

- A) Mekke'nin sıcak havasından çocukları korumak
B) Çocukların Arapçayı daha iyi öğrenmesini sağlamak
C) Çocukların aileleri için oluşturduğu malî yükü hafifletmek
D) Çocukların sağlık açısından daha iyi yetişmesini sağlamak

14. • Hz. Peygamber'in amcası Zübeyr başkanlığında Mekke'deki haksızlıklara karşı kurulmuştur.
• Hz. Peygamber, yirmili yaşlarda olmasına rağmen bu topluluğa davet edilmiştir.
• Hz. Peygamber, daha sonraki yıllarda da bu topluluktan övgü ile bahsetmiştir.

Hakkında bilgi verilen kavram aşağıdakilerden hangisidir?

- A) Hıfû'l-Fudûl
B) Dar'ül-Erkam
C) Ehl-i Beyt
D) Ashab-ı Suffe

15. Hz. Peygamber'e ilk vahiy geldikten sonra Hz. Hatice Peygamber'e şöyle demiştir. "Allah seni asla utandırmaz. Çünkü sen akrabayı gözetirsin, sözü doğru söylersin, muhtaç olanların bakımını üstlenirsin, aç ve açıkta olanı koruyup kollarsın, misafire ikram edersin ve zorda kalanlara yardım edersin."

Bu metinden Hz. Peygamber ile ilgili aşağıdakilerden hangisine ulaşılabılır?

- A) Peygamberlerin sonucusudur.
B) Saygın bir aileye mensuptur.
C) Tüm insanlık için bir uyarıcıdır.
D) Nübüvvetten önce de güzel ahlaka sahiptir.

16. Allah'ın ayetleri, yarattığı tüm varlıklar ve olaylar üzerine kafa yorup düşünmek; Allah ile kâinat arasındaki ilişkiyi kavramak için gayret etmek ve bunlardan ibret almaktır.

Açıklaması yapılan kavram aşağıdakilerden hangisidir?

- A) Tebliğ B) Tefekkür
C) Tevekkül D) İstişare

17. Aşağıdakilerden hangisi Hz. Peygamber'in çocuklarından biridir?

- A) Selma B) İsmail
C) Abdullah D) Sevede

18. "Fetânet" sıfatı peygamberlerin hangi özelliğini ifade etmektedir?

- A) Emin ve güvenilir olmalarını
B) Akıllı, zeki ve uyanık olmalarını
C) Günah işlemekten uzak olmalarını
D) Allah'ın emirlerini eksiksiz şekilde iletmelerini

19. Mekke, Medine ve Taif şehirlerini içine alan ve İslam tarihi açısından Arap Yarımadası'nın en önemli bölgesi kabul edilen yer aşağıdakilerden hangisidir?

- A) Yemen B) Necit
C) Tihame D) Hicaz

20. Aşağıdakilerden hangisi Hz. Muhammed'in (sav.) güvenilirliğini gösteren örneklerden biri değildir?

- A) Geçimini ticaret yaparak sağlama
B) Kâbe hakemliği olayında adaletle karar vermesi
C) Mekkelilerin kıymetli eşyalarını O'na emanet etmesi
D) Mekke'de Muhammed'ül-Emin unvanı ile nitelendirilmesi

(541) TÜRK DİLİ VE ED. – 1

1. Duygu, düşünce ve hayallerin söz veya yazıyla güzel, etkili bir şekilde anlatılmasına - - - - denir.

Bu cümlede boş bırakılan yere aşağıdakilerden hangisi getirilebilir?

- A) resim B) tarih
C) sosyoloji D) edebiyat

2. Osman Bey, âdeti olduğu üzere kısıdan giderek Selçuklu Sultanlığı'nın neden yalnız seksen yıl rahat ettiğiğini, yüz elli yıldan beri niçin can çekişmekten kurtulamadığını anlattı. Toprağın iktâ düzeni bozulduğu için devletin vergiden, haraçtan bir şey umamayacağını, şimdiki Sultan Gıyasüddin Keyhüsrev'i indirip yerine oturmakla hiçbir şeyin değişmeyeceğini söyledi. Bir ülke nasıl ele geçirilir, nasıl elde tutulur, bilmeyenlere bu işlerin neden kolay geldiğini utangaç bir gülümsemeyle açıkladı.

Bu metinden hareketle edebiyatın hangi bilim dalıyla ilişkisi olduğu söylenebilir?

- A) Tarih B) Psikoloji
C) Sosyoloji D) Felsefe

2. OTURUM

3. • Bir ülke içinde aynı dilin farklı konuşma şekillerine denir.
• Bir dilin bilinen tarihî seyri içinde kendinden ayrılmış olup bazı farklılıklar gösteren kollarıdır.
• Genel dilin kelimelerine yeni anlamlar yükleyerek ya da dile yeni kelimeler katarak oluşturulan özel dildir.

Bu cümleler aşağıdaki kavramlarla eşleştirildiğinde hangisi dışarıda kalır?

- A) Argo B) Şive
C) Lehçe D) Ağız

4. Aşağıdakilerden hangisi yazma sürecinin aşamalarından değildir?

- A) Planlama B) Hazırlık
C) Tartışma D) Düzeltme

5. Dağlar içinde, göl kenarında bir yerleşim yeri İznik. Bereketli toprağı, ılıman iklimi, her mevsim rengârenk olan doğası kadar farklı uygarlıklara ait tarihî eserleri ve Osmanlı coğrafyasının farklı noktalarındaki mimari eserleri süsleyen çinileri ile biliniyor.

Bu parçada aşağıdaki anlatım türlerinden hangisi kullanılmıştır?

- A) Kanıtlayıcı B) Öyküleyici
C) Açıklayıcı D) Tartışmacı

6. Aşağıdaki cümlelerin hangisinde soyut isim kullanılmıştır?

- A) Saygı, insan ilişkilerinde en önemli unsurdur.
B) Evdeki eşyaları iki gün önce satışa çıkardı.
C) Antalya'da gezerken arkadaşımı gördüm.
D) Toprağı bu sene nadasa bırakmaya karar verdik.

7. Aşağıdaki cümlelerin hangisinde hâl eki kullanılmamıştır?

- A) Üzüntüyle geçmiş yıllarıma bakıyorum.
B) Kalemimi okulda unutmuşum.
C) Sınavdan kaldığını öğrenince çok üzüldü.
D) İki saat aralıksız sohbet ettiler.

8. Satıcı iskemlesine oturdu; Hasan da merakla karşısına geçti. Bu dört yanı duvarlı, tek kat, basık ve toprak evde öyle canı sıkılıyordu ki... Şaşarak, eğlenerek seyrediyordu: Mukavvaya benzettiği kalın deriyi iki tarafı keskin incecik sapsız bıçağı ile kesişine, ağzına bir avuç çivi dolduruşuna, deri parçalarını pis bir suya koyup ıslatışına bakıyordu.

Bu metinde hikâyenin yapı unsurlarından hangisi yoktur?

- A) Mekan B) Zaman
C) Olay D) Kişi

9. Aşağıdaki metinlerden hangisi farklı bir bakış açısı ile yazılmıştır?

- A) Evin avlusuna sırtında çuval kaplı bir yayvan torba, elinde bir ufacak iskemle ve uzun bir demir parçası, dağınık kılıklı bir adam girdi. Torbasında da mukavva gibi bükülmüş bir tomar duruyordu.
B) Okula yeni başladığım yıllardı. Melahat abla alırdı beni karşısına. El işi ödevlerimi yapar, derslerimi anlatırdı bana. Pabuçlarımı odanın kapısında çıkarırdım. Minderde, pencerenin önünde, onun dizleri dibine oturur, onun hünerli ellerini seyre daldardım.
C) Yirmi yaşında Karadeniz kıyıcığında bir köyün beş sınıflı, tek derslikli okulunda yalnız başıma öğretmenlik yapmaktaydım... Gecelerimi gaz lambasının ışığında kitaplar okuyarak, pilli radyomu dinleyerek ve ikinci gün vereceğim derslerin hazırlığını yaparak geçiriyordum.
D) Mazinin bu hayalleri gözümün önünde o kadar hakikat damgası ile damgalı geçip gidiyorlardı ki ben âdeta uyuşmuş gibi idim. Hiçbir şeyi görmüyor, işitemiyordum.

10. Uyku esnasında yürümem beni korkutmamıştı. Beni mahveden hakikatle hayal arasındaki bu korkunç ayrılıktı.
I. II.
Bitkin bir hâlde yavaş yavaş eve
III.
döndüm. Dönemeçte yarı giyinik bir hâlde perişan babama rastladım.
IV.

Bu metindeki numaralandırılmış sözcüklerden hangisi türemiş isimdir?

- A) I. B) II. C) III. D) IV.

11. Aşağıdaki dizelerin hangisinde farklı bir ölçü kullanılmıştır?

- A) Geldi güzel günler çiçekler çoktur
Şükrolsun Hüda'ya kederim yoktur
B) Sözdür güher-i hazîne-i dil
Izhâr-ı sîfât u zâta kâbil
C) Bağırma basarım taşlar
Akıttım gözümden yaşlar
D) Bugün ben yârimi gördüm
Tâzelendi eski derdim

12. İnsan dışındaki canlı ve cansız varlıkları, düşünen, duyan ve hareket eden bir insan gibi gösterme sanatına teşhis (kişileştirme) denir.

Buna göre aşağıdaki dizelerin hangisinde teşhis (kişileştirme) sanatı yoktur?

- A) Sen, deniz ve akşam
Bu saat demir atarsanız yüreğime
Miçolara bu saat gülümser rüzgâr
B) Üşür evlerimiz bir kaygılar koyağında
Tam çiğdemlerin nergislerin yanında
C) Kolay kolay unutulmaz adına yakıtığım türküler
Kapanmaz yüreğime açtığın yara
D) Uykulu sahiller gelir kollarına
Yayından kaçan okun ardından

13. Yiğit kendini öğende
Oklar menzilin döğende
Şeşper kalkana değende
Kalkan gümbür gümbürlerini

Bu dörtlük konusuna göre aşağıdaki şiir türlerinden hangisine örnekdir?

- A) Epik B) Lirik
C) Didaktik D) Satirik

14. titrek bir mum ışığı kadar mahzun
I.
yarısı kapalı pencerelerden geliyor
bir türkü
II.
kenara çekilip biraz durduk
eskiden o türküden daha mahsunduk
III.
nasıl çatlarsa dal uçları arzuyla öyle
IV.
istekle geçiyor bulutlar

Bu metindeki altı çizili sözcüklerden hangisi sıfat değildir?

- A) I. B) II. C) III. D) IV.

2. OTURUM

15. İsim ya da fiil kök ve gövdelerine getirilen isim yapım ekleriyle oluşturulan sıfatlara türemiş sıfat denir.

Buna göre aşağıdaki cümlelerin hangisinde türemiş sıfat kullanılmıştır?

- A) Beyaz pantolonunu makinede yıkadı.
B) Eski mahallemi çok özlüyorum.
C) Ülkemizi aydınlık günler bekliyor.
D) Bu sözleri neden söylediğini anlamadım.
16. Dinlenen konuyla ilgili bilgilerden sadece ilgi ve ihtiyaca yönelik olanlara odaklanmaya - - - - denir.

Bu cümlede tanımı verilen dinleme türü aşağıdakilerden hangisidir?

- A) Yaratıcı dinleme
B) Seçici dinleme
C) Katılımlı dinleme
D) Katılımsız dinleme
17. Vakti zamanında çok yardımsever bir padişah varmış... Fakirlere ramazanlarda yiyecek, bayramlarda giyecek dağıtmış... Yılda bir gün de sarayının karşısındaki çeşmenin bir musluğundan yağ, bir musluğundan da bal akıtır, herkesin duasını almış... Gene böyle çeşmenin musluklarından yağ ile bal aktığı bir gün ihtiyar bir kadın çeşmeye gelmiş. Elindeki testiye yağ doldurmuş. O sırada padişahın yaramaz oğlu da sarayın penceresinden okunu çekip ihtiyar kadının testisini parçalamış. Zavallı kadın da "Hey oğlum, ben sana ne yaptım da testimi kırdın?" demiş.

Bu metinde aşağıdaki anlatım türlerinden hangisi kullanılmıştır?

- A) Tartışmacı B) Kanıtlayıcı
C) Öyküleyici D) Açıklayıcı
18. • Buzun üzerine bastığı gibi göletin I.
içine gömüldü.
• Cebinde bilet almaya yetecek kadar II.
parası yoktu.
• Bundan sonra da bir iki ay için III.
Ankara izinlisiyim.
• Çocuk ve babası evlerine varmak IV.
üzereydi.

Bu cümlelerdeki numaralandırılmış sözcüklerden hangisi edat değildir?

- A) I. B) II. C) III. D) IV.

19. Bir kartal, yüksek bir kayanın üzerinden çullanıp bir kuzuyu kapıvermiş. Onu görünce kargaya da bir heves gelmiş: "Ben yapamaz mıyım sanki? Nem eksik? Ben de kuşum!" demiş. Hemen atılıp koca bir koça konmaz mı? Tırnakları büküm büküm yünlere takılmış, bir türlü kurtaramamış. O öyle çırpınadursun, öte yandan çoban da, "Buna ne oluyor?" diye bakarmış. Kalkıp gelmiş, tutup kanatlarının ucunu kesmiş, akşam olunca da çocuklarına götürmüştü. Çocuklar, "Bu ne kuşudur?" diye sorunca çoban: "Benim bildiğim alakarga ama kendisine sorarsan kartalım diyor." demiş.

Bu metin aşağıdaki edebî türlerden hangisine örnek olabilir?

- A) Fabl B) Roman
C) Hikâye D) Destan

20. Aşağıdaki cümlelerin hangisinde bağlaç kullanılmamıştır?

- A) Bazen çok iyi anlaşılır bazen de kavgaya tutuşuverirler.
B) Ya otur kendisini bekle ya da yarın telefonla ara.
C) Arkadaşlarla toplanır, okur ve ders çalışırdık.
D) Turgut, Orhan'ı yemeğe davet etti.

(612) KARŞ. DİN. TAR. – 2

1. • Çok tanrılı bir dindir.
• Vedalar ve Destanlar kutsal kitaplarındandır.
• İnananları tarafından Sanatana Dharma adıyla isimlendirilir.

Hakkında bilgi verilen din aşağıdakilerden hangisidir?

- A) Hinduizm B) Budizm
C) Sihizm D) Taoizm

2. Aşağıdakilerden hangisi Budizm'in "Dört Yüce Hakikat" anlayışı içinde yer almaz?

- A) Hayat acı ve ıstıraptır.
B) Acı ve ıstıbrabın kaynağı istek ve arzulardır.
C) İstek ve arzulardan vazgeçilirse acılar sona erecektir.
D) Dünyada acı ve ıstırap çekmeyen ölümden sonra çekecektir.

3. Ne ekersen onu biçersin şeklinde formüle edilir ve kişilerin, kendi kaderlerini kendilerinin şekillendirdiğine inanılır.

Hakkında bilgi verilen Hinduizm'deki bu inanca ne ad verilir?

- A) Mesih B) Karma
C) Yoga D) Sangha

4. Budizm'in kutsal kitabı aşağıdakilerden hangisidir?

- A) Eski Ahit B) Adi Grant
C) Tripitaka D) Avesta

5. • Kurucusu Kong-zi'dir.
• Çin'de doğup gelişmiştir.
• Tanrı, ahiret ve kutsal kitap inancına sahiptir.

Bu bilgiler aşağıdaki dinlerden hangisine aittir?

- A) Konfüçyanizm B) Yahudilik
C) Mecusilik D) Sihizm

6. İdeal bir devlet, ahlaki eğitiminin en üst seviyesine yükselmiş olan ve bilge kral diye isimlendirilen bir hükümdar tarafından yönetilen devlettir.

Bu görüş aşağıdaki din kurucularından hangisine aittir?

- A) Guru Nanak B) Lao-tzu
C) Konfüçyüs D) Buda

7. Saoşyant, Avesta ve Ahura Mazda kavramları aşağıdaki dinlerden hangisi ile ilgilidir?

- A) Taoizm B) Mecusilik
C) Brahmanizm D) Hristiyanlık

8. Aşağıdakilerden hangisi Konfüçyüs'e göre idarecilerde bulunması gereken beş üstün özellikten biri değildir?

- A) İsrafa kaçmadan faydalı olmak
B) Korkutucu olmadan yüce olmak
C) Gururlu olmadan itibar kazanmak
D) Öğrenci olmadan usta olmak

9. Tenasüh inancı İslam dinindeki aşağıdaki inançlardan hangisi ile daha çok ilişkilidir?

- A) Tanrı B) Peygamber
C) Ahiret D) Melek

2. OTURUM

10. Aşağıdakilerden hangisi çok tanrılı bir dindir?

- A) Taoizm B) Sihizm
C) Musevilik D) Konfüçyanizm

11. Ermeni Kilisesi Noel'i aşağıdaki tarihlerden hangisinde kutlar?

- A) 1 Ocak B) 6 Ocak
C) 21 Mart D) 20 Aralık

12. 1293-1932 yılları arasında Süryanilerin ana merkezi olan "Deyru'z-Zaferan Manastırı" aşağıdaki şehirlerden hangisinde yer almaktadır?

- A) Efes B) Şanlıurfa
C) Trabzon D) Mardin

13. Hristiyanlıkta Ortodoksluk başta olmak üzere Doğu Kiliseleri'nin başında bulunan en üst rütbeli din adamına ne ad verilir?

- A) Haham B) Patrik
C) Papaz D) Rahip

14. Yezidilik ile ilgili aşağıdaki bilgilerden hangisi yanlıştır?

- A) Sabah ve akşam vakti güneşe dönerek ayin yapılır.
B) Tanrı Hudâ, evreni yedi melek aracılığı ile yönetir.
C) Kutsal kitapları Mushaf-ı Reş ve Kitabu'l-Cilve'dir.
D) Kıyafetlerde Melek Tavus'un rengi olan mavi tercih edilir.

15. Yehova Şahitleri nerede ve kim tarafından kurulmuştur?

- A) Amerika - Charles Taze Russell
B) Türkiye - Pavli Karahisaroğlu
C) Almanya - Martin Luther
D) Irak - Adı b. Müsafir

16. Aşağıdakilerden hangisi Yehova Şahitleri'nin özelliklerinden biri değildir?

- A) Evlere ziyaret, posta, yayın ve broşür gönderme yoluyla misyonerlik yaparlar.
B) Kendilerini Yehova'nın askerleri olarak görürler ve askerliği reddederler.
C) Ayinlerinde resim ve heykel (ikon) kullanılmasına izin vermezler.
D) Diğer Hristiyan grupların teslis inancını aynen kabul ederler.

17. • Kurucusu Mirza Ali Muhammed'dir.
• Nebi ve resuller, Allah'ın tezahürü olarak kabul edilir.
• Kitabu'l-Akdes'in tüm kutsal kitapların hükmünü kaldırdığına inanılır.

Hakkında bilgi verilen dini akım aşağıdakilerden hangisidir?

- A) Vehhabilik B) Bahailik
C) Mecusilik D) Yezidilik

18. Aşağıdakilerden hangisi Bahailiğin inançları içerisinde yer almaz?

- A) 19 rakamı kutsaldır, 2-21 Mart tarihleri arasında 19 gün oruç tutulmalıdır.
B) Hac için Bahauallah'ın Bağdat'taki evini ziyaret, zengin erkeklere farzdır.
C) Cennet ve cehennem gerçekte var olmayıp birer sembolden ibarettir.
D) Hz. Muhammed (sav.) son peygamberdir.

19. Aşağıdakilerden hangisi yeni dini hareketlerin ortaya çıkmasına etki eden temel unsurlardan biri değildir?

- A) İnsanların yeni din söylem arayışları
B) Aşırı dünyevileşmenin yarattığı hayal kırıklığı
C) İnsanların manevî yönden doyuma ulaşmış olmaları
D) Geleneksel dinlerin modern dönemin ihtiyaçlarına cevap verememesi

20. Hristiyanlıkta bir kimsenin dine kazandırılması için yapılan sistematik faaliyetlere - - - - denir.

Boşluğa getirilmesi gereken kavram aşağıdakilerden hangisidir?

- A) misyonerlik B) ekümeniklik
C) evanjelizm D) şahitlik

(625) SEÇ. TÜRK ED. – 5

1. Edebiyatın tanımı aşağıdakilerden hangisidir?

- A) Olay, düşünce, duygu ve hayallerin dil aracılığıyla sözlü ve yazılı olarak ifade edilmesidir.
B) Toplumların yüzyıllar boyunca geçirdiği aşamaları inceleyen bilim dalıdır.
C) Olayları yer ve zaman göstererek sebep-sonuç ilişkisi içinde inceleyen bilim dalıdır.
D) Bir toplumun maddi ve manevi varlıklarının tümüdür.

2. Tanzimat Fermanı'nın ilan edilmiş amacı aşağıdakilerden hangisidir?

- A) Yönetim şeklini değiştirmek
B) Devletin sınırlarını genişletmek
C) Meclisi kurarak padişahın yetkilerini kısıtlamak
D) Devleti Batı esaslarına göre yeniden yapılandırmak

3. Aşağıdakilerden hangisi Tanzimat Edebiyatı Birinci Dönem'in özelliklerinden?

- A) Şiirde Batı'dan alınan yeni biçimler kullanılmıştır.
B) Dili sadeleştirme çalışmalarına ara verilmiş, dil ağırlaşmıştır.
C) Eserlerde toplumsal konular tercih edilmiştir.
D) Romantizm akımından realizm akımına geçilmiştir.

4. Aşağıdaki eser – tür eşleştirmelerinden hangisi yanlıştır?

- A) Cezmi – roman
B) Terkibent – roman
C) Şair Evlenmesi – tiyatro
D) Makber – şiir

5. Aşağıdakilerden hangisi Recaizâde Mahmut Ekrem için söylenemez?

- A) Yenilik taraftarı gençleri Servet-i Fünûn çatısı altında toplamıştır.
B) Batılı anlamda ilk tiyatro oyununu yazmıştır.
C) Edebiyat konularını öğreten Talim-i Edebiyat adlı eseri yazmıştır.
D) Şiir, roman, tiyatro, eleştiri türlerinde eser vermiştir.

2. OTURUM

6. Türk edebiyatında yeniliklerin öncüsüdür. İlk özel gazeteyi çıkarmış, ilk makaleyi ve ilk piyesi yazmıştır. La Fontaine ve Lamartine'den tercüme-ler yapmıştır. Mustafa Reşit Paşa için yazdığı iki kasidesi eski kasidelerden biçim ve içerik olarak farklıdır.

Bu metinde sözü edilen sanatçı aşağıdakilerden hangisidir?

- A) İbrahim Şinasi
B) Namık Kemal
C) Ziya Paşa
D) Abdülhak Hamit Tarhan

7. Aşağıdakilerden hangisi Tanzimat edebiyatının genel özelliklerinden değildir?

- A) Şiirler genellikle aruz ölçüsü ile yazılmıştır.
B) Şiirlerde bütün güzelliğine değil beyit güzelliğine önem verilmiştir.
C) Batı edebiyatından yeni türler edebiyatımıza girmiştir.
D) Günlük hayatla ilgili her tür olay, duygu ve düşünce şiirde işlenme-ye başlanmıştır.

8. Edebiyatımızdaki ilk yerli roman aşağıdakilerden hangisidir?

- A) İntibah
B) Sergüzeşt
C) Taaşşuk-ı Talat ve Fitnat
D) Telemak

9. Beslemişken bu kadar âdemi ihسانیyle
Gitti biçâre vatan ağlıyarak şâniyle
Yaz bu mersiyeyi taşa şühedâ kaniyle
Vatanın bağına düşman dayadı
hançerini
Yoğ imiş kurtaracak bahtı kara
mâderini

Bu dizelerle ilgili aşağıdakilerden hangisi söylenemez?

- A) Ek hâlinde redif kullanılmıştır.
B) Tanzimat Edebiyatı Birinci Dönem'in özelliklerini taşır.
C) Arapça ve Farsça sözcükler kul-lanılmıştır.
D) Bireysel bir konu işlenmiştir.

10. Ali Bey hâli vakti yerinde, iyi bir ailenin tek çocuğudur. Babasını kaybedince üzüntüye kapılır, sık sık Çamlıca'ya gezintiye çıkar. Bu esna-da Mehpeyker adlı kötü bir kadınla tanışır. Ali Bey kötü alışkanlıklar edinir. Annesi oğlunu bu kadından kur-tarmak için Dilâşup adlı bir cariyeyle evlendirir. Mehpeyker buna çok kızar ve Ali Bey'den intikam alır.

Bu metinde sözü edilen eser aşağıdakilerden hangisidir?

- A) Felâton Bey ile Rakım Efendi
B) Yaban
C) İntibah
D) Şair Evlenmesi

11. Tercüman-ı Ahval Mukaddimesi için aşağıdakilerden hangisi söy-lenemez?

- A) Türk edebiyatının ilk makalesidir.
B) Ziya Paşa tarafından yazılmıştır.
C) Noktalama işaretleri ilk kez kulla-nılmıştır.
D) Gazetenin önemi ve çıkış sebe-binden söz edilmiştir.

12. Aşağıdakilerden hangisi Abdülhak Hamit Tarhan için söylenemez?

- A) Türk şiirine Batılı bir kimlik kazan-dırmıştır.
B) Tiyatro türünde eserleri vardır.
C) En ünlü şiirlerinden biri "Vatan Mersiyesi"dir.
D) Şiirlerinde bireysel temaları işle-miştir.

13. Aşağıdaki sanatçılardan hangi-si Tanzimat Edebiyatı'nın İkinci Dönem temsilcilerindendir?

- A) Mehmet Âkif Ersoy
B) Ahmet Haşim
C) Tevfik Fikret
D) Samipaşazâde Sezai

14. Aşağıdakilerden hangisi realist bir roman değildir?

- A) İntibah
B) Araba Sevdası
C) Sergüzeşt
D) Zehra

15. Osmanlı Devleti'nin ilk resmî gaze-tesi aşağıdakilerden hangisidir?

- A) Malumat
B) Takvim-i Vekayi
C) İbret
D) Hürriyet

16. Şair Evlenmesi adlı eserin konusu aşağıdakilerden hangisidir?

- A) Kölelik sistemi
B) Yanlış Batılılaşma
C) Görücü usulüyle evlilik
D) Batıl inançlar

17. Tanzimat edebiyatı şair ve yazarla-rındandır. Şiir, makale, hiciv, mizah, antoloji vb. birçok alanda eser ver-miştir. Şiirlerinde divan edebiyatı na-zım biçimlerini kullanmıştır. Harabat, Zafername eserlerinden bazılarıdır.

Bu metinde sözü edilen sanatçı aşağıdakilerden hangisidir?

- A) Mehmet Fuat Köprülü
B) Şemsettin Sami
C) Ömer Seyfettin
D) Ziya Paşa

18. Gençlik gitse de hâle heyhât!
Gençlik gitti bütün mahv oldu
Ne kadar varsa gönülde hevesât
Geçti ru'yâ gibi âh ol demler!
O güzel günler o hoş âlemler!

Bu dizeler aşağıdaki gelenekler-den hangisine ait olabilir?

- A) Halk şiiri
B) Millî edebiyat şiiri
C) Cumhuriyet şiiri
D) Tanzimat şiiri

19. Aşağıdakilerden hangisi Abdülhak Hamit Tarhan'ın eser verdiği tür-lerden biridir?

- A) Tiyatro
B) Roman
C) Hikâye
D) Edebiyat tarihi

20. Yâ Rab, öleyim mi neyleyim ben?..
Ayrı yaşayım mı sevdiğimden?..
Verdin bana böyle bir musîbet,
Ettin beni düşmen-i muhabbet.
Yâ bir kulu sevmiyor musun sen?..
Yâ böyle ölüm değil mi erken?..
Hiç bulmamak üzere gaib ettim,
Mecnun gibi ben onu severken.

Bu dizelerin konusu aşağıdakiler-den hangisidir?

- A) Vatan özlemi
B) Hürriyet aşkı
C) Ölüm acısı
D) Yaşama sevgisi

2. OTURUM

(714) İSLAM KÜLTÜR VE MEDENİYETİ – 2

1. İslam sanatında estetik zevk ile fonksiyonellik birbirini tamamlar. Amaçsız ve sadece zevk için eser ortaya koyma anlayışının İslam sanatında yeri yoktur.

Bu durum İslam sanatının aşağıdaki özelliklerinden hangisi ile ilgilidir?

- A) Tevhidî duyarlılık hâkimdir.
B) İslam sanatı işlevseldir.
C) Soyutlama esastır.
D) Tekâmül esastır.

2. Kahramanlık konularının anlatıldığı eserler aşağıdakilerden hangisi ile isimlendirilir?

- A) Seyahatname
B) Siyasetname
C) Fetihname
D) Tezkire

3. Aşağıdakilerden hangisi İslamî kültüre ait bir eserdir?

- A) Kutadgu Bilig
B) Gılgamış Destanı
C) Dacameron
D) İlyada

4. Yol boylarında, daha çok çeşme başlarında, yolcuların namaz kılmaları için yapılan, üstü açık mescitlere ne ad verilir?

- A) Musalla
B) Tekke
C) Zaviye
D) Namazgâh

5. Türklerin Anadolu'da inşa ettikleri ilk cami aşağıdakilerden hangisidir?

- A) Ulu Camii (Mardin)
B) Menucehr Camii (Kars)
C) Süleymaniye Camii (İstanbul)
D) Halilurrahman Camii (Şanlıurfa)

6. Osmanlı geleneğinde sultanlar ya da sultan anneleri tarafından yaptırılan, birden fazla minare ve şerefeye sahip camilere ne ad verilir?

- A) Ulu cami
B) Fetih camii
C) Cuma camii
D) Selatin camii

7. "Kitabü'l-Musiki el-Kebir" adlı eser aşağıdaki âlimlerden hangisine aittir?

- A) Farabi
B) Levni
C) Biruni
D) Hafız Osman

8. El-Maverdi'nin "idari ve cezai kaideleri yürüten bir idarecinin, kazai hükümleri yerine getiren bir hâkimin bulunduğu yer" olarak tanımladığı yerleşim bölgesi aşağıdakilerden hangisidir?

- A) Mahalle
B) Mezra
C) Şehir
D) Köy

9. Aşağıdakilerden hangisi İslam medeniyetine seyahatnameleri ile katkı yapan seyyahlardan biri değildir?

- A) İbn Fadlan
B) Şeyh Gâlip
C) İbn Batûta
D) Evliya Çelebi

10. Büyük yerleşim yerlerinde mabetler genellikle şehrin merkezinde yer alır. Örneğin Kâbe'nin etrafında Mekke şehri kurulmuş, Orta Çağ Hristiyan şehirlerinde de kilise şehrin merkezinde yer almıştır.

Bu durum aşağıdakilerden hangisine daha çok delil oluşturur?

- A) Dinler, şehirlerin kurulup gelişmesinde etkili olmuştur.
B) İnsan, var oluşundan itibaren topluluk halinde yaşamıştır.
C) Şehir, gelişmiş bir toplum yapısı ve örgütlenme biçimidir.
D) Şehir kurmak ve şehirleşme, insanın önemli keşiflerindedir.

11. Aşağıdakilerden hangisi doğrudan Müslümanlar tarafından kurulmuş bir şehir değildir?

- A) Basra
B) Küfe
C) Bağdat
D) Hayber

12. Aşağıdakilerden hangisi İslam şehirlerinin genel özellikleri arasında yer almaz?

- A) Hayatın akışını ibadetlerin yapılma süreçleri düzenler.
B) Farklı inançların serbestçe yaşandığı mekânlardır.
C) Şehrin mimari yapılanmasında gösteriş esastır.
D) Yöneticilerle halk aynı muhiti paylaşır.

13. • Hz. Ömer tarafından garnizon şehiri olarak kurulmuştur.
• El-Ezher Camii ve Darülhikme gibi önemli eserleri bünyesinde barındırır.
• İlk adı Fustat olan bu şehir, Bağdat'tan sonra Abbasilerin hilafet merkezi olmuştur.

Hakkında bilgi verilen şehir aşağıdakilerden hangisidir?

- A) Kudüs
B) Kurtuba
C) İsfahan
D) Kahire

14. "Türkiye Diyanet Vakfı İslam Ansiklopedisi" adlı eser aşağıdaki kuruluşların hangisi tarafından hazırlanmıştır?

- A) Medeniyet Araştırma Merkezi
B) İslam Araştırmalar Merkezi
C) Bilim ve Sanat Vakfı
D) Birlik Vakfı

15. Aşağıdakilerden hangisi İslam kültür ve medeniyeti üzerine yaptığı çalışmalarla tanınan şarkiyatçılardan biri değildir?

- A) Emile Durkheim
B) Corci Zeydan
C) Ignaz Goldziher
D) Theodor Nöldeke

16. Aşağıdakilerden hangisi 19. Yüzyılda yaşayan fikir öncülerinden biri değildir?

- A) Cemalettin Afgani
B) Muhammed İkbâl
C) İbn Hazm
D) Muhammed Abduh

17. İslam medeniyeti, yeryüzündeki nimetleri ve imkânları, herkesin hakkı sayar. Farklılıkları fitratın gereği olarak görür. Adaletin, mülkün ve yönetimin temeli olduğunu vurgular. Bu ilkeleri insanlığın hakkı kabul eder.

Bu metinde İslam medeniyetinin aşağıdaki ilkelerinden hangisine değinilmemiştir?

- A) Hakkı gözetme
B) Bilimsellik
C) Hoşgörü
D) Eşitlik

2. OTURUM

18. Bireyci-modern toplumlarda aşağıdakilerden hangisine daha az değer verildiği görülür?

- A) Sanat ve edebiyat
B) Müzik ve spor
C) Akrabalık ilişkileri
D) Teknoloji

19. Caminin ana ibadet yerine ne ad verilir?

- A) Harem
B) Kürsü
C) Minber
D) Mahfil

20. Aşağıdaki eserlerden hangisi Cemil Meriç'e aittir?

- A) Din ve Uyarlık
B) Kültür ve Medeniyet
C) Medeniyet-i İslamiyye
D) Umrandan Uyarlığa

(818) AKAİD – 2

1. Aşağıdaki terimlerden hangisi diğerlerinden farklı bir anlam ifade etmektedir?

- A) Elçi
B) Peygamber
C) Tebliğ
D) Resul

2. "Eğer (Peygamber) bize isnat ederek bazı sözler uydurmuş olsaydı, mutlaka onu kudretimizle yakalardık. Sonra da onun şah damarını mutlaka keserdik. Hiçbiriniz de bu cezayı engellemeyip ondan savamazdı."
(Hakka suresi, 44-47. ayetler)

Bu ayette aşağıdakilerden hangisi vurgulanmaktadır?

- A) Allah her topluma bir peygamber göndermiştir.
B) Peygamberler davranışları ile insanlara örnek olmuşlardır.
C) Hz. Peygamber tebliğ görevine yakın çevresinden başlamıştır.
D) Hz. Peygamber vahyi insanlara Allah'tan geldiği şekliyle iletmiştir.

3. Peygamberlerin güvenilir olmalarını ifade eden sıfat aşağıdakilerden hangisidir?

- A) Emanet
B) Fetanet
C) Tebliğ
D) İsmet

4. Peygamberlerin Kur'an'da bildirilenler ile sınırlı olmadığını aşağıdaki ayetlerden hangisi işaret etmektedir?

- A) "Sen yüzünü hanîf olarak dine, Allah insanları hangi fitrat üzere yaratmışsa ona çevir. Allah'ın yaratışında değişme yoktur. İşte dosdoğru din budur..."
(Rum suresi, 30. ayet)
B) "Andolsun, senden önce de peygamberler gönderdik. Onlardan sana kıssalarını anlattığımız kimseler de var, durumlarını sana bildirmedikimiz kimseler de var..."
(Mü'min suresi, 78. ayet)
C) "Ey Resul! Rabbinden sana indirileni tebliğ et. Eğer bunu yapmazsan O'nun elçiliğini yapmamış olursun..."
(Mâide suresi, 67. ayet)
D) "Ey örtüsüne bürünen. Kalk ve uyar. Rabbini yücelt."
(Müddessir suresi, 1-3. ayetler)

5. Mucize ile ilgili aşağıdaki bilgilerden hangisi yanlıştır?

- A) Peygamberlere, kendi dönemlerinin şartlarına uygun mucizeler verilmiştir.
B) İnsanların, benzerlerini getirmekten aciz kaldığı olağanüstü olaylardır.
C) Peygamberler, mucizeleri kendi güç ve kudretleri ile gösterirler.
D) Kur'an-ı Kerim, Hz. Muhammed'e (sav.) verilmiş bir mucizedir.

6. Aşağıdakilerden hangisi suhuf gönderilen peygamberlerdendir?

- A) Hz. Yahya
B) Hz. İdris
C) Hz. İsmail
D) Hz. Süleyman

7. İbranice dilinde indirilmiştir.
• Diğer adı "Tora"dır.
• Kanun, şeriat anlamına gelir.

Hakkında bilgi verilen kutsal kitap aşağıdakilerden hangisidir?

- A) Tevrat
B) Zebur
C) İncil
D) Kur'an-ı Kerim

8. Kur'an-ı Kerim ile ilgili aşağıdakilerden hangisi yanlıştır?

- A) En çok ezberlenen kitaptır.
B) Tüm insanlığa gönderilmiştir.
C) Bozulmadan günümüze kadar gelmiştir.
D) Ayetleri toplu hâlde bir defada indirilmiştir.

9. "O, hanginizin daha güzel amel yapacağını sınamak için ölümü ve hayatı yaratandır..."
(Mülk suresi, 2. ayet)

Bu ayette aşağıdakilerden hangisi vurgulanmaktadır?

- A) Dünya hayatı fânidir.
B) Dünya hayatı insan için bir imtihandır.
C) Yeri ve gökleri yaratan Allah'tır.
D) Ahiret hayatı sonsuzdur.

10. Aşağıdakilerden hangisi ahiret hayatının varlığını ortaya koyan deliller arasında gösterilemez?

- A) İnsanın başıboş yaratılmadığı düşüncesi
B) Varoluşun bir anlam taşıması gerekliliği
C) Tüm canlıların ölümlü olması
D) Mutlak adalet isteği

11. "İki şey arasındaki engel anlamına gelen ve ölümlü başlayıp yeniden dirilmeye kadar devam edecek süreç" olarak ifade edilen kavram aşağıdakilerden hangisidir?

- A) Berzah
B) Mizan
C) Mahşer
D) Ba's

12. Aşağıdakilerden hangisi Kur'an-ı Kerim'de kıyamet için kullanılan kavramlardan biri değildir?

- A) Kâria (Kapıyı çalacak gerçek)
B) Gâşiye (Şiddeti ile birdenbire halkı saran)
C) Vâkıa (Kesin olarak meydana gelecek olan)
D) Furkan (Doğru ile yanlışı birbirinden ayırt eden)

13. "Sur'a üflenince, Allah'ın diledikleri müstesna olmak üzere göklerde ve yerde ne varsa hepsi ölecektir. Sonra ona bir daha üflenince, bir de ne göresin, onlar ayağa kalkmış bakıyorlar."
(Zümer suresi, 68. ayet)

Ayette altı çizili bölüm aşağıdaki kavramlardan hangisini ifade etmektedir?

- A) Ba's
B) Sırat
C) Havz
D) A'râf

14. İnsana verilen sınırlı özgürlük ve tercih etme kabiliyetini ifade eden kavram aşağıdakilerden hangisidir?

- A) Tevekkül
B) Kader-i mutlak
C) Cüz'i irade
D) Külli irade

2. OTURUM

15. "Mizan" kavramı aşağıdakilerden hangisini ifade etmektedir?

- A) Ahirette herkesin göreceği yol veya köprüyü
- B) Dünyada yapılanların kaydedildiği defteri
- C) Cennet ve cehennem arasındaki yeri
- D) İlahi adalet terazisini

16. Kadere iman konusu ile ilgili aşağıdaki bilgilerden hangisi yanlıştır?

- A) İnsandaki iman şuurunun artmasına yol açar.
- B) İnsanın irade ve sorumluluğunu ortadan kaldırır.
- C) Allah'ın ezeli ilim ve kudretine iman etmeyi gerektirir.
- D) İnsanın zorluklar karşısında daha güçlü ve inançlı olmasını sağlar.

17. Allah dilemedikçe insanlar dileyemez.

Bu cümlede Allah'ın aşağıdaki sıfatlarından hangisi vurgulanmaktadır?

- A) İrade
- B) İlim
- C) Tekvin
- D) Hayat

18. Aşağıdaki ayetlerin hangisinde aklin kullanılması teşvik edilmiştir?

- A) "İnsan için kendi çalışmasından başka bir şey yoktur."
(Necm suresi, 39. ayet)
- B) "Rabb'inden sana indirilenin hak olduğunu bilen kimse, kör (inkâr eden) kimse gibi olur mu? Fakat bunu ancak akıl sahipleri anlar."
(Ra'd suresi, 19. ayet)
- C) "İşte Allah gaybı da görünen âlemi de bilendir, mutlak güç sahibidir..."
(Secde suresi, 6. ayet)
- D) "Nerede olursanız olun ölüm size ulaşır. Sarp ve sağlam kalelerde olsanız bile..."
(Nîsâ suresi, 78. ayet)

19. Rızık konusu ile ilgili aşağıdakilerden hangisi doğrudur?

- A) Rızık yalnızca gıdalardan ibarettir.
- B) Ehl-i sünnet âlimlerine göre haramlar rızık kabul edilmez.
- C) Rızık verenin Allah olduğunun bilinmesi insanı tembelleğe iter.
- D) Allah rızık konusunda insanları zenginlik ya da fakirlikle imtihan eder.

20. Hayır ve şer kavramları ile ilgili aşağıdaki bilgilerden hangisi yanlıştır?

- A) Hayır da şerri de yaratan Allah'tır.
- B) Allah, hayrı mükafatlandırarak, şerri ise cezalandıracaktır.
- C) Allah'ın şerri yaratması insanın şer işlemesini zorunlu kılar.
- D) Hayır, Allah'ın razı olduğu ve sevdiği davranışlar anlamındadır.

(820) KELAM – 2

1. Aşağıdakilerden hangisi yorum farklılıkları sonucunda ortaya çıkan toplulukları ifade eden kavramlardan biri değildir?

- A) Ashap
- B) Mezhep
- C) Fırka
- D) Ekol

2. Dinin temel kaynaklarında hakkında açık ve kesin hüküm bulunan konularda yorum yapılamaz.

Buna göre aşağıdakilerden hangisi yoruma açık konulardandır?

- A) Namazın farzıyeti
- B) Allah'ın varlığı ve birliği
- C) Hz. Muhammed'in (sav.) peygamber olması
- D) Hz. Peygamber'den sonra halifenin belirlenmesi

3. • Ehl-i Sünnet'in öncüleri olarak kabul edilir.
• Görüşleri Hanbeli ekolüne mensup âlimler tarafından devam ettirilmiştir.
• Ayet ve hadislerin yorum yapılma-dan olduğu gibi kabul edilmesini savunur.

Hakkında bilgi verilen mezhep aşağıdakilerden hangisidir?

- A) Maturidilik
- B) Selefilik
- C) Haricilik
- D) Mutezilik

4. Aşağıdakilerden hangisi Ehl-i Sünnet'in görüşlerindedir?

- A) Amel imanının parçasıdır.
- B) Cennet ve cehennem sonludur.
- C) İman kalp ile tasdik dil ile ikrardır.
- D) Halifelik nas ve tayin yoluyla Hz. Ali soyuna verilmiştir.

5. Aşağıdakilerden hangisi yorum farklılıklarının ortaya çıkmasında etkili olmamıştır?

- A) İnsanın düşünen bir varlık olması
- B) Dini metinlerde kullanılan lafızlar
- C) Müslümanlar arasındaki iç savaşlar
- D) Peygamberlerin Allah tarafından seçilmesi

6. Aşağıdakilerden hangisi Ehl-i Sünnet ekollerinden biri değildir?

- A) Cebriye
- B) Selefiyye
- C) Eş'ariyye
- D) Maturidiyye

7. Mutezile mezhebi aşağıdaki âlimlerden hangisinin görüşleri doğrultusunda oluşmuştur?

- A) Hasan Basrî
- B) Vâsıl b. Atâ
- C) Cehm b. Safvan
- D) Nureddin es-Sabuni

8. Büyük günah işleyen kimsenin inancı ve ahiretteki durumu ile ilgili herhangi bir karar vermeyip hükümünü Allah'a havale eden mezhep aşağıdakilerden hangisidir?

- A) Cebriye
- B) Maturidilik
- C) Mürcie
- D) Haricilik

9. Aşağıdakilerden hangisi kelim ilminin konusudur?

- A) Dinleri objektif olarak incelemek
- B) İslam itikadını delilleriyle savunmak
- C) İbadetlerle ilgili prensipleri ele almak
- D) Hadislerin sahih ve zayıf derecelerini araştırmak

10. Aşağıdakilerden hangisi Maturidiliğin görüşlerinden biri değildir?

- A) Allah ahirette görülmecektir.
- B) İnsan, davranışlarından sorumludur.
- C) İnsan akıl yolu ile Allah'ın varlığına ulaşabilir.
- D) Kur'an'ın harfleri ve sesleri sonradan yaratılmıştır.

2. OTURUM

11. Fetihlerle hızla yayılan İslam; Roma, Mısır ve Sasaniler ile yüz yüze gelmiş hem onları etkilemiş hem de onlardan etkilenmiştir.

Bu durum İslam düşüncesindeki yorum farklılıklarının ortaya çıkma sebeplerinden hangisi ile daha çok ilgilidir?

- A) İnsanın anlayış seviyesi
- B) Hilafet meselesi ve siyaset
- C) Kültür ve medeniyetlerin etkisi
- D) İslam'ın tanıdığı fikir ve vicdan hürriyeti

12. Aşağıdakilerden hangisi Haricilerin görüşlerinden biridir?

- A) Yöneticiler adil de olsalar zalim de olsalar itaat edilmelidir.
- B) Hakem olayını kabul edenler küfre düşmüşlerdir.
- C) Büyük günah işleyen kişi dinden çıkmaz.
- D) Halife Kureyş'ten olmalıdır.

13. Aşağıdakilerden hangisi "Yeni İlm-i Kelam" dönemi ile özdeşleşen konulardan biridir?

- A) Hilafet meselesi
- B) Allah'ın sıfatları
- C) İnsan iradesi ve özgürlüğü
- D) Kadının toplumsal konumu

14. Kâinat, Allah tarafından tasarlanan, hareketi başlatılan, fakat dışarıdan müdahale olmadan doğa kanunlarına uygun şekilde işleyen bir bütünlüktür.

Bu düşünce, aşağıdaki tanrı anlayışlarından hangisine aittir?

- A) Teizm
- B) Ateizm
- C) Deizm
- D) Agnostisizm

15. Hayatı ve evreni kötümser ve karamsar bakış açısıyla değerlendiren, hayatın anlamını boşluk, hiçlik, anlamsızlık gibi kavramlara indirgeyen ve bu olumsuz bakış açısının etkisiyle varlık, bilgi ve değer başlıklarında olumsuz yaklaşımları öne çıkaran anlayışa - - - - denir.

Cümlede boş bırakılan yere aşağıdakilerden hangisi getirilmelidir?

- A) nihilizm
- B) pozitivism
- C) sekülerizm
- D) satanizm

16. Hayır ve şer kavramı ile ilgili aşağıdakilerden hangisi İslam'ın ilkelere uygun bir görüş değildir?

- A) İnsan her zaman hayrı istemelidir.
- B) Allah'ın şerre rızası ve yardımı yoktur.
- C) Hayır görünende şer, şer görünende de hayır olabilir.
- D) Şerrin yaratılmış olması, insanı kötülük yapmaya mecbur kılar.

17. Aşağıdakilerden hangisi politeizmin görüşlerinden biri değildir?

- A) Dinlerde asıl olan tevhitir.
- B) Tanrıların farklı görevleri vardır.
- C) İlahi gerçeklik, özü itibarı ile çoktur.
- D) Allah'tan başka varlıklar da ilahi güçlere sahiptir.

18. Aşağıdakilerden hangisi peygamberlik iddiasında bulunmuştur?

- A) Ebu Leheb
- B) Ubey b. Selül
- C) Varaka b. Nevfel
- D) Müseylmetü'l-Kezzab

19. • İntihar ve şiddet eğilimlidirler.
• Şeytanı ve şeytanla ilgili sembolleri yüceltirler.
• Genel olarak tüm dinlere ve değerlere karşıdır.
• Ayinlerde büyüye yer vermek bilinen özellikleridir.

Bu özellikler aşağıdakilerden hangisine aittir?

- A) Sekülerizm
- B) Satanizm
- C) Pozitivizm
- D) Agnostisizm

20. Tenasüh ve reenkarnasyon terimleri aşağıdaki kavramlardan hangisi ile ilgilidir?

- A) Melek
- B) Şeytan
- C) Ruh
- D) Put

(932) SİYER – 2

1. Zerdüştüğün diğer adı aşağıdakilerden hangisidir?

- A) Haniflik
- B) Mecusilik
- C) Putperestlik
- D) Sabîlik

2. İlk vahiy ile ilgili aşağıdaki bilgilerden hangisi yanlıştır?

- A) 620 yılında nazil olmuştur.
- B) Hira Mağarası'nda gelmiştir.
- C) Ramazan ayında indirilmiştir.
- D) Alak suresinin ilk beş ayetidir.

3. Hz. Peygamber, ilk vahiy geldikten sonra başından geçen olayları anlattığında bunların peygamberlik işaretleri olduğunu söyleyen kişi aşağıdakilerden hangisidir?

- A) Ebu Talip
- B) Hz. Ebu Bekir
- C) Rahip Bahira
- D) Varaka b. Nevfel

4. Aşağıdakilerden hangisi peygamberlerde bulunması gereken özelliklerden biri değildir?

- A) Akıllı ve zeki olmak
- B) Güvenilir olmak
- C) Zengin olmak
- D) Doğru sözlü olmak

5. Hz. Muhammed'in (sav.) peygamberliği sürecinde "Fetret-i vahiy" olayı ne zaman yaşanmıştır?

- A) Alak suresi, 1-5. ayetlerinin indirilişinden sonra
- B) Müslümanlara boykot uygulanmasından sonra
- C) Bedir ve Uhut savaşları arasındaki sürede
- D) Mekke'den Medine'ye hicret esnasında

6. Ümeyye b. Halef'ten, Bilâl-i Habeşî'yi satın alarak kölelikten kurtaran sahabe hangisidir?

- A) Zübeyr b. Avam
- B) Hz. Osman
- C) Hz. Ömer
- D) Hz. Ebu Bekir

7. Hz. Peygamber'in kızlarından hangisi Habeşistan'a yapılan ilk hicrette yer almıştır?

- A) Hz. Zeynep
- B) Hz. Rukayya
- C) Hz. Ümmü Gülsüm
- D) Hz. Fatıma

2. OTURUM

8. 617 yılında Habeşistan'a hicret eden kabileye aşağıdaki sahabelerden hangisi başkanlık etmiştir?

- A) Osman b. Afvan
- B) Abdurrahman b. Avf
- C) Cafer b. Ebi Talip
- D) Abdullah b. Mes'ud

9. Hz. Peygamber'i öldürmeye giderken uğradığı kız kardeşinin evinde okunan Hadid suresinden etkilenip Hz. Muhammed'in (sav.) huzurunda İslam'ı seçen sahabe kimdir?

- A) Hz. Halid b. Velid
- B) Hz. Hamza
- C) Hz. Mus'ab b. Umeyr
- D) Hz. Ömer

10. • Müslümanlara merhamet edilmeyecek
• Müslümanların evlerine ziyarete gidilmeyecek
• Müslüman ailelerinden kız alınıp verilmeyecek

Müşriklerin aldığı bu kararlar aşağıdakilerden hangisi ile ilgilidir?

- A) Hıf'ul Fudul
- B) Boykot uygulaması
- C) Medine Sözleşmesi
- D) Hudeybiye Antlaşması

11. Hz. Ebu Bekir'e "sıddık" denilmesinin sebebi aşağıdakilerden hangisidir?

- A) Servetinin çoğunu Allah yolunda harcaması
- B) Hicrette Hz. Muhammed'e (sav.) yol arkadaşlığı yapması
- C) Hz. Peygamber'in İslam'a davetini ilk kabul edenlerden olması
- D) Miraç olayını Hz. Peygamber'den işitmediği hâlde "O söyledi ise doğrudur." diyerek kabul etmesi

12. Hz. Peygamber'in hicret yolunda aşağıdaki güzergâhlardan hangisi yer almaz?

- A) Taif şehri
- B) Sevr Dağı
- C) Ranuna Vadisi
- D) Kubâ köyü

13. Aşağıdaki olaylardan hangisi Mekke döneminde gerçekleşmiştir?

- A) Ezanın belirlenmesi
- B) İsrâ ve Miraç hadisesi
- C) Mescid-i Nebî'nin inşası
- D) Nüfus sayımı yapılması

14. • Sözlük manası gölgeliktir.
• Mescid-i Nebî'nin giriş kısmında yer alırdı.
• Medine'de evleri ve kalabilecek yakınları olmayan sahabelerin barınması için yapılmıştır.

Hakkında bilgi verilen kavram aşağıdakilerden hangisidir?

- A) Akabe
- B) Han
- C) Mabeyn
- D) Suffe

15. Ensar-muhacir kardeşliğinde aşağıdakilerden hangisi ölçü alınmamıştır?

- A) Kardeşleşecek ailelerin kura yolu ile belirlenmesi
- B) Kardeş olacak ailelerin ortak özelliğe sahip olması
- C) Mallardan ortak faydalanılması ve kazanç için hep beraber çalışılması
- D) Ensardan maddi imkânları iyi olanların, muhacirlerden bir aileyi yanına alması

16. Aşağıdakilerden hangisi bir Yahudi kabilesi değildir?

- A) Benî Kurayza
- B) Benî Kaynuka
- C) Benî Ümeyye
- D) Benî Nadîr

17. "Rıdvân Biat'ı" aşağıdaki yerlerin hangisinde gerçekleşmiştir?

- A) Hudeybiye
- B) Akabe
- C) Hıra
- D) Medine

18. Aşağıdakilerden hangisi Hristiyanlarla yapılan savaşlardan biridir?

- A) Huneyn
- B) Hayber
- C) Hendek
- D) Mute

19. Aşağıdakilerden hangisi münafıkların Kur'an-ı Kerim'de belirtilen davranışlarından biri değildir?

- A) Hz. Peygamber'e isyan konusunda gizli faaliyetler yürütmeleri
- B) Allah'ı ve Peygamber'i açıktan inkâr etmeleri
- C) Dua ve ibadetlerde isteksiz davranmaları
- D) Allah'ı ve müminleri alaya almaları

20. Aşağıdakilerden hangisi Yahudilerin Medine'den sürülmesini hazırlayan sebeplerden biri değildir?

- A) Hendek Savaşı'nda müşriklerle işbirliği yapmaları
- B) Arap kabilelerini Müslümanları yok etmeleri için kışkırtmaları
- C) Ticaret ile uğraşarak Medine'nin en zenginlerinden olmaları
- D) Medine Sözleşmesi'ne aykırı hareket etmeleri

(998) MATEMATİK – 1

1. Aşağıdaki önermelerden hangisinin doğruluk değeri 0 (sıfır) dır?

- A) p : "İki basamaklı en küçük doğal sayı 10'dur."
- B) r : "Bir hafta 7 gündür."
- C) s : "100 çift sayıdır."
- D) t : "3 > 5'tir."

2. $(p \vee p) \Rightarrow (q \wedge 1)$ ifadesinin en sade şekli aşağıdakilerden hangisidir?

- A) p
- B) q
- C) $p \Rightarrow q$
- D) $p \vee q$

3. $M = \{1, \{2, 3\}, 4, \{5\}\}$ kümesinin alt küme sayısı kaçtır?

- A) 8
- B) 16
- C) 32
- D) 64

4. $(A' \cup B)' \cap B$ ifadesinin eşiti aşağıdakilerden hangisidir?

- A) \emptyset
- B) E
- C) A
- D) B

2. OTURUM

5. Bir sınıftaki 22 öğrenciden 14'ü fizik dersinden, 15'i matematik dersinden başarılı olmuştur.

Buna göre bu iki dersten başarılı olan öğrenci sayısı en az kaç olabilir?

- A) 6 B) 7 C) 8 D) 9

6. $\sqrt{5}$ sayısı aşağıdaki kümelerden hangisinin elemanıdır?

- A) \mathbb{N} B) \mathbb{Z} C) \mathbb{Q} D) \mathbb{Q}'

7. a ve b doğal sayılar olmak üzere $a + b = 10$ ise $a \cdot b$ ifadesinin en büyük değeri kaçtır?

- A) 25 B) 30 C) 35 D) 40

8. $4x - 7 = 11 - 2x$ denkleminin çözüm kümesi aşağıdakilerden hangisidir?

- A) {4} B) {3} C) {2} D) {1}

9. $2x + 7 < 18$ eşitsizliğini sağlayan en büyük x doğal sayısı kaçtır?

- A) 7 B) 6 C) 5 D) 4

10. $-1 < x < 4$ olduğuna göre $|x + 1| + |4 - x|$ ifadesinin değeri kaçtır?

- A) 0 B) 2 C) 3 D) 5

11. $\begin{cases} 2x + y = 8 \\ x - 2y = 9 \end{cases}$

denkleminin çözüm kümesi aşağıdakilerden hangisidir?

- A) {(5, 4)} B) {(5, -2)}
C) {(-2, -5)} D) {(2, -2)}

12. 4^8 sayısının yarısı kaçtır?

- A) 2^{15} B) 2^{11} C) 2^8 D) 2^4

13. $2 \cdot 4^x - 3 \cdot 4^x + 5 \cdot 4^x = 64$ olduğuna göre x kaçtır?

- A) 0 B) 1 C) 2 D) 4

14. $\sqrt{9 \cdot \sqrt{3} \cdot \sqrt{27}}$ işleminin sonucu kaçtır?

- A) $\sqrt{3}$ B) 3 C) $3\sqrt{3}$ D) 9

15. $\frac{x}{15} = \frac{4}{5}$ olduğuna göre x kaçtır?

- A) 10 B) 12 C) 20 D) 25

16. Hangi sayının $\frac{1}{3}$ 'ü ile $\frac{1}{4}$ 'ünün toplamı 42'dir?

- A) 35 B) 56 C) 72 D) 84

17. A kentinden B kentine saatte 100 km sabit hızla gidip, durmaksızın saatte 80 km sabit hızla A'ya geri dönen bir sürücünün bu yolculuğu toplam 9 saat sürmüştür.

Buna göre A kentinin B kentine uzaklığı kaç kilometredir?

- A) 400 B) 450 C) 500 D) 550

18. Cebinde 600 lirası olan Ceren parasının % 25'i ile ayakkabı, kalan parasının % 20'si ile pantolon alıyor.

Buna göre Ceren'in geriye kaç lirası kalır?

- A) 240 B) 300 C) 320 D) 360

19. Bir pantolon maliyet fiyatı üzerinden % 25 kâr ile 75 liraya satılıyor.

Buna göre bu pantolonun maliyet fiyatı kaç liradır?

- A) 48 B) 56 C) 60 D) 70

20. Sunay'ın yaşının 3 katının 4 eksiği babasının yaşına eşittir.

Sunay ve babasının yaşları toplamı 60 olduğuna göre Sunay'ın 3 yıl sonraki yaşı kaçtır?

- A) 24 B) 19 C) 16 D) 13

TEST BİTTİ.

CEVAPLARINIZI KONTROL EDİNİZ.

CEVAP KÂĞIDI VE SORU KİTAPÇIĞI İLE İLGİLİ AÇIKLAMALAR

1. Cevap kâğıdınızdaki bilgilerin doğruluğunu kontrol ediniz ve cevap kâğıdınızı mürekkepli kalemle imzalayınız.
2. Cevap kâğıdı üzerinde kodlamalarınızı siyah kurşun kalemle yapınız.
3. Değiştirmek istediğiniz bir cevabı, yumuşak silgiyle cevap kâğıdını örselemeden temizce siliniz ve yeni cevabınızı kodlayınız.
4. Soru kitapçığının sayfalarını görevlilerin uyarıları doğrultusunda kontrol ediniz, baskı hatası var ise değiştirilmesini sağlayınız.
5. Soruların çözümü için size ayrıca boş kâğıt verilmeyecektir. Soru kitapçığının içindeki boş alanları soru çözümleri için kullanabilirsiniz.
6. Her sorunun dört seçeneğinden sadece biri doğrudur. Doğru seçeneği, cevap kâğıdınızın ilgili sütununa soru numarasını dikkate alarak yuvarlağın dışına taşımadan kodlayınız. Soru kitapçığı üzerinde yapılan cevaplandırmalar dikkate alınmayacaktır.
7. Cevaplamaya istediğiniz dersin sorusundan başlayabilirsiniz. Cevabını bilmediğiniz sorular üzerinde fazla zaman kaybetmeden diğer sorulara geçiniz. Zamanınız kalırsa bu sorulara daha sonra dönebilirsiniz.
8. Yanlış cevaplarınız dikkate alınmadan sadece doğru cevaplarınız üzerinden puanlama yapılacaktır.
9. Soruları ve sorulara verdiğiniz cevapları, yanınızda götürmek amacıyla kaydetmeyiniz; hiçbir şekilde dışarı çıkarmayınız.
10. Sınav bitiminde soru kitapçığı ve cevap kâğıdını salon görevlilerine teslim ediniz.

SALON GÖREVLİLERİNCE SINAV BAŞLAMADAN ÖNCE ADAYLARA YAPILACAK SON UYARILAR

- Soracağınız bir şey varsa şimdi sorunuz, sınav başladıktan sonra sorularınıza cevap verilmeyecektir.
- Başlama zilini bekleyiniz.

Hepinize başarılar dileriz.

(Salon başkanı başlama ve bitiş saatini tahtaya yazacaktır.)

Bu kitapçığın her hakkı saklıdır. Hangi amaçla olursa olsun, kitapçığın tamamının veya bir kısmının Millî Eğitim Bakanlığı Ölçme, Değerlendirme ve Sınav Hizmetleri Genel Müdürlüğü'nün yazılı izni olmadan kopya edilmesi, fotoğraflarının çekilmesi, bilgisayar ortamına alınması, herhangi bir yolla çoğaltılması, yayımlanması veya başka bir amaçla kullanılması yasaktır. Bu yasağa uymayanlar, doğabilecek cezai sorumluluğu ve kitapçığın hazırlanmasındaki mali külfeti peşinen kabullenmiş sayılır.

31 MART 2018 TARİHİNDE YAPILAN AÇIKÖĞRETİM LİSESİ / MESLEKİ AÇIKÖĞRETİM LİSESİ
2017-2018 ÖĞRETİM YILI 2. DÖNEM SINAVI 2. OTURUM T KİTAPÇIĞI CEVAP ANAHTARI

(117) DİN KÜL. AHL. BİL. – 7

1. B
2. A
3. C
4. D
5. B
6. C
7. D
8. A
9. D
10. C
11. A
12. B
13. D
14. A
15. B
16. C
17. D
18. B
19. A
20. C

(131) TARİH – 1

1. B
2. C
3. A
4. D
5. C
6. A
7. D
8. B
9. B
10. D
11. A
12. B
13. C
14. B
15. D
16. A
17. C
18. A
19. C
20. D

(141) T.C. İNK. TAR. ATA. – 1

1. A
2. B
3. D
4. C
5. D
6. A
7. D
8. A
9. B
10. C
11. C
12. A
13. D
14. B
15. C
16. A
17. B
18. C
19. B
20. C

(156) SEÇMELİ COĞRAFYA – 2

1. B
2. A
3. C
4. A
5. A
6. C
7. B
8. C
9. D
10. C
11. B
12. D
13. D
14. C
15. A
16. D
17. B
18. A
19. C
20. D

(118) DİN KÜL. AHL. BİL. – 8

1. D
2. B
3. A
4. C
5. A
6. B
7. D
8. C
9. A
10. D
11. B
12. C
13. D
14. A
15. C
16. B
17. C
18. B
19. D
20. A

(135) SEÇMELİ TARİH – 1

1. B
2. D
3. A
4. D
5. C
6. B
7. D
8. A
9. B
10. C
11. A
12. A
13. D
14. C
15. B
16. B
17. D
18. A
19. C
20. D

(152) COĞRAFYA – 2

1. D
2. C
3. C
4. A
5. D
6. C
7. B
8. A
9. B
10. B
11. C
12. B
13. A
14. D
15. B
16. C
17. A
18. A
19. D
20. D

(164) MATEMATİK – 4

1. B
2. C
3. D
4. A
5. D
6. C
7. B
8. C
9. A
10. A
11. C
12. D
13. A
14. D
15. A
16. B
17. B
18. C
19. D
20. D

31 MART 2018 TARİHİNDE YAPILAN AÇIKÖĞRETİM LİSESİ / MESLEKİ AÇIKÖĞRETİM LİSESİ
2017-2018 ÖĞRETİM YILI 2. DÖNEM SINAVI 2. OTURUM T KİTAPÇIĞI CEVAP ANAHTARI

(182) İNGİLİZCE – 2

1. D
2. A
3. A
4. B
5. C
6. B
7. C
8. A
9. C
10. B
11. B
12. D
13. C
14. A
15. D
16. B
17. C
18. A
19. A
20. D

(182) FRANSIZCA – 2

1. B
2. D
3. B
4. A
5. C
6. C
7. D
8. A
9. D
10. C
11. A
12. B
13. C
14. B
15. D
16. A
17. B
18. A
19. C
20. D

(208) SEÇMELİ SOSYOLOJİ – 1

1. C
2. B
3. D
4. C
5. A
6. B
7. C
8. D
9. A
10. D
11. B
12. C
13. A
14. D
15. B
16. C
17. B
18. A
19. C
20. D

(243) İNGİLİZCE – 4

1. C
2. A
3. B
4. C
5. B
6. D
7. C
8. A
9. B
10. D
11. B
12. C
13. D
14. A
15. B
16. C
17. D
18. D
19. A
20. C

(182) ALMANCA – 2

1. B
2. C
3. A
4. C
5. A
6. B
7. A
8. B
9. D
10. A
11. D
12. D
13. B
14. A
15. C
16. C
17. D
18. D
19. B
20. C

(207) SEÇMELİ PSİKOLOJİ – 2

1. A
2. D
3. B
4. C
5. A
6. B
7. C
8. C
9. B
10. D
11. B
12. A
13. C
14. D
15. A
16. D
17. B
18. D
19. C
20. A

(221) SAĞLIK BİLGİSİ VE
TRAFİK KÜLTÜRÜ – 1

1. A
2. D
3. C
4. B
5. D
6. B
7. A
8. C
9. A
10. B
11. D
12. D
13. C
14. B
15. D
16. B
17. A
18. C
19. D
20. A

(243) ALMANCA – 4

1. A
2. D
3. B
4. A
5. A
6. B
7. C
8. D
9. C
10. A
11. A
12. D
13. B
14. C
15. A
16. D
17. B
18. C
19. B
20. C

31 MART 2018 TARİHİNDE YAPILAN AÇIKÖĞRETİM LİSESİ / MESLEKİ AÇIKÖĞRETİM LİSESİ
2017-2018 ÖĞRETİM YILI 2. DÖNEM SINAVI 2. OTURUM T KİTAPÇIĞI CEVAP ANAHTARI

(243) FRANSIZCA – 4

1. C
2. A
3. D
4. A
5. B
6. D
7. D
8. A
9. A
10. C
11. B
12. C
13. C
14. D
15. C
16. D
17. D
18. A
19. B
20. B

(411) TÜRK EDEBİYATI – 1

1. C
2. B
3. B
4. A
5. D
6. D
7. C
8. B
9. B
10. C
11. D
12. A
13. B
14. A
15. C
16. C
17. B
18. C
19. D
20. A

(415) TÜRK EDEBİYATI – 5

1. A
2. B
3. A
4. D
5. C
6. A
7. D
8. C
9. A
10. B
11. C
12. D
13. B
14. C
15. D
16. B
17. C
18. B
19. A
20. B

(423) FİZİK – 3

1. B
2. A
3. C
4. A
5. D
6. A
7. B
8. C
9. A
10. B
11. D
12. C
13. B
14. C
15. B
16. D
17. C
18. C
19. D
20. D

(404) DİL ve ANLATIM – 4

1. C
2. D
3. A
4. C
5. B
6. A
7. D
8. B
9. C
10. A
11. B
12. C
13. D
14. B
15. A
16. D
17. D
18. C
19. B
20. D

(412) TÜRK EDEBİYATI – 2

1. B
2. D
3. D
4. C
5. A
6. B
7. B
8. C
9. A
10. A
11. D
12. C
13. A
14. C
15. B
16. C
17. A
18. B
19. D
20. B

(422) FİZİK – 2

1. B
2. C
3. D
4. D
5. C
6. B
7. D
8. A
9. D
10. B
11. A
12. A
13. B
14. B
15. A
16. D
17. C
18. C
19. A
20. A

(424) FİZİK – 4

1. D
2. A
3. B
4. D
5. B
6. D
7. A
8. C
9. D
10. A
11. B
12. B
13. C
14. B
15. A
16. C
17. D
18. C
19. A
20. D

31 MART 2018 TARİHİNDE YAPILAN AÇIKÖĞRETİM LİSESİ / MESLEKİ AÇIKÖĞRETİM LİSESİ
2017-2018 ÖĞRETİM YILI 2. DÖNEM SINAVI 2. OTURUM T KİTAPÇIĞI CEVAP ANAHTARI

(431) KİMYA – 1

1. A
2. B
3. C
4. A
5. B
6. C
7. A
8. D
9. B
10. D
11. B
12. A
13. C
14. D
15. D
16. B
17. C
18. B
19. C
20. A

(438) SEÇMELİ KİMYA – 4

1. D
2. A
3. B
4. C
5. A
6. B
7. D
8. C
9. C
10. A
11. B
12. D
13. C
14. B
15. A
16. C
17. D
18. D
19. B
20. A

(444) BİYOLOJİ – 4

1. C
2. B
3. D
4. A
5. D
6. B
7. A
8. B
9. A
10. C
11. D
12. C
13. A
14. C
15. B
16. C
17. D
18. B
19. D
20. A

(451) SEÇMELİ ÇAĞDAŞ TÜRK
VE DÜN. TAR – 1

1. D
2. C
3. B
4. A
5. B
6. C
7. D
8. C
9. D
10. A
11. C
12. B
13. B
14. A
15. D
16. A
17. B
18. D
19. A
20. B

(437) SEÇMELİ KİMYA – 3

1. A
2. C
3. B
4. B
5. A
6. D
7. B
8. D
9. A
10. B
11. C
12. A
13. D
14. B
15. D
16. C
17. A
18. D
19. D
20. A

(442) BİYOLOJİ – 2

1. C
2. B
3. B
4. A
5. D
6. D
7. A
8. B
9. C
10. D
11. A
12. A
13. C
14. D
15. C
16. B
17. D
18. C
19. A
20. B

(447) SEÇMELİ BİYOLOJİ – 3

1. B
2. C
3. A
4. B
5. C
6. D
7. C
8. A
9. C
10. D
11. A
12. B
13. D
14. A
15. B
16. A
17. B
18. C
19. D
20. C

(455) SEÇ. DEMOKRASİ VE
İNSAN HAKLARI – 1

1. A
2. C
3. B
4. D
5. C
6. B
7. A
8. D
9. C
10. A
11. B
12. D
13. B
14. C
15. A
16. D
17. B
18. D
19. C
20. A

31 MART 2018 TARİHİNDE YAPILAN AÇIKÖĞRETİM LİSESİ / MESLEKİ AÇIKÖĞRETİM LİSESİ
2017-2018 ÖĞRETİM YILI 2. DÖNEM SINAVI 2. OTURUM T KİTAPÇIĞI CEVAP ANAHTARI

(466) TEMEL DİNİ BİL. – 2

1. B
2. C
3. A
4. D
5. C
6. B
7. A
8. D
9. A
10. D
11. B
12. C
13. A
14. C
15. B
16. D
17. B
18. C
19. D
20. A

(476) SEÇMELİ İŞLETME – 1

1. C
2. D
3. B
4. A
5. D
6. A
7. C
8. B
9. D
10. B
11. B
12. A
13. C
14. D
15. C
16. A
17. C
18. B
19. A
20. D

(482) SEÇMELİ SANAT TARİHİ – 2

1. B
2. C
3. A
4. A
5. B
6. C
7. A
8. D
9. B
10. C
11. D
12. D
13. A
14. C
15. B
16. D
17. A
18. D
19. C
20. B

(492) TRAF. VE İLK YARD. – 2

1. B
2. C
3. D
4. B
5. A
6. B
7. D
8. C
9. D
10. A
11. D
12. B
13. A
14. B
15. C
16. B
17. A
18. C
19. A
20. D

(467) SEÇMELİ MATEMATİK – 3

1. D
2. C
3. D
4. A
5. C
6. D
7. B
8. A
9. B
10. C
11. A
12. D
13. D
14. A
15. B
16. A
17. C
18. A
19. B
20. C

(481) SEÇMELİ SANAT TARİHİ – 1

1. D
2. A
3. C
4. C
5. B
6. A
7. A
8. D
9. C
10. D
11. B
12. C
13. A
14. B
15. D
16. C
17. A
18. B
19. C
20. D

(483) SAĞLIK BİLGİSİ – 1

1. C
2. D
3. A
4. B
5. A
6. C
7. B
8. C
9. D
10. B
11. A
12. D
13. D
14. A
15. D
16. B
17. C
18. B
19. A
20. D

(501) İNGİLİZCE – 7

1. C
2. B
3. A
4. C
5. D
6. C
7. A
8. D
9. B
10. A
11. D
12. D
13. B
14. D
15. B
16. A
17. C
18. D
19. B
20. A

31 MART 2018 TARİHİNDE YAPILAN AÇIKÖĞRETİM LİSESİ / MESLEKİ AÇIKÖĞRETİM LİSESİ
2017-2018 ÖĞRETİM YILI 2. DÖNEM SINAVI 2. OTURUM T KİTAPÇIĞI CEVAP ANAHTARI

(501) ALMANCA – 7

1. C
2. C
3. A
4. D
5. D
6. B
7. C
8. A
9. D
10. C
11. A
12. D
13. B
14. D
15. C
16. A
17. A
18. B
19. D
20. B

(512) FIKİH – 2

1. B
2. D
3. A
4. C
5. B
6. C
7. D
8. C
9. A
10. B
11. D
12. C
13. B
14. D
15. A
16. C
17. D
18. A
19. B
20. A

(541) TÜRK DİLİ VE ED. – 1

1. D
2. A
3. C
4. C
5. C
6. A
7. D
8. B
9. A
10. B
11. B
12. C
13. A
14. D
15. C
16. B
17. C
18. D
19. A
20. D

(625) SEÇ. TÜRK ED. – 5

1. A
2. D
3. C
4. B
5. B
6. A
7. B
8. C
9. D
10. C
11. B
12. C
13. D
14. A
15. B
16. C
17. D
18. D
19. A
20. C

(501) FRANSTZCA – 7

1. B
2. D
3. A
4. C
5. C
6. D
7. A
8. B
9. B
10. D
11. C
12. A
13. C
14. A
15. D
16. B
17. C
18. A
19. D
20. B

(531) SEÇ. PEYGAMBERİMİZİN
HAYATI – 1

1. B
2. C
3. D
4. A
5. C
6. B
7. D
8. A
9. D
10. C
11. A
12. B
13. C
14. A
15. D
16. B
17. C
18. B
19. D
20. A

(612) KARŞ. DİN. TAR. – 2

1. A
2. D
3. B
4. C
5. A
6. C
7. B
8. D
9. C
10. A
11. B
12. D
13. B
14. D
15. A
16. D
17. B
18. D
19. C
20. A

(714) İSLAM KÜLTÜR VE
MEDENİYETİ – 2

1. B
2. C
3. A
4. D
5. B
6. D
7. A
8. C
9. B
10. A
11. D
12. C
13. D
14. B
15. A
16. C
17. B
18. C
19. A
20. D

31 MART 2018 TARİHİNDE YAPILAN AÇIKÖĞRETİM LİSESİ / MESLEKİ AÇIKÖĞRETİM LİSESİ
2017-2018 ÖĞRETİM YILI 2. DÖNEM SINAVI 2. OTURUM T KİTAPÇIĞI CEVAP ANAHTARI

(818) AKADİD – 2

1. C
2. D
3. A
4. B
5. C
6. B
7. A
8. D
9. B
10. C
11. A
12. D
13. A
14. C
15. D
16. B
17. A
18. B
19. D
20. C

(932) SİYER – 2

1. B
2. A
3. D
4. C
5. A
6. D
7. B
8. C
9. D
10. B
11. D
12. A
13. B
14. D
15. A
16. C
17. A
18. D
19. B
20. C

(820) KELAM – 2

1. A
2. D
3. B
4. C
5. D
6. A
7. B
8. C
9. B
10. A
11. C
12. B
13. D
14. C
15. A
16. D
17. A
18. D
19. B
20. C

(998) MATEMATİK – 1

1. D
2. C
3. B
4. A
5. B
6. D
7. A
8. B
9. C
10. D
11. B
12. A
13. C
14. D
15. B
16. C
17. A
18. D
19. C
20. B