

T.C.
MİLLÎ EĞİTİM BAKANLIĞI
ÖLÇME, DEĞERLENDİRME VE
SINAV HİZMETLERİ GENEL MÜDÜRLÜĞÜ



AÇIK ÖĞRETİM LİSESİ / MESLEKİ AÇIK ÖĞRETİM LİSESİ
2017 - 2018 ÖĞRETİM YILI
2. DÖNEM SINAVI

1.
OTURUM

31 MART 2018 Saat: 09.30

DERS KODU VE ADI	SAYFA	DERS KODU VE ADI	SAYFA	DERS KODU VE ADI	SAYFA
(111) DİN KÜL. AHL. BİL. – 1	2	(407) DİL VE ANLATIM – 7	21	(502) FRANZISZCA – 8	45
(112) DİN KÜL. AHL. BİL. – 2	2	(408) DİL VE ANLATIM – 8	22	(511) FIKİH – 1	46
(115) DİN KÜL. AHL. BİL. – 5	3	(414) TÜRK EDEBİYATI – 4	24	(532) SEÇMELİ	
(121) FELSEFE – 1	4	(417) TÜRK EDEBİYATI – 7	25	PEYGAMBERİMİZİN HAY. – 2	47
(123) SEÇMELİ FELSEFE – 1	6	(418) TÜRK EDEBİYATI – 8	26	(544) TÜRK DİLİ VE EDEBİYATI – 4	48
(132) TARİH – 2	7	(421) FİZİK – 1	27	(609) SEÇ. MATEMATİK – 2	49
(136) SEÇ. TARİH – 2	8	(425) SEÇ. FİZİK – 1	29	(611) KARŞ. DİN. TAR. – 1	51
(151) COĞRAFYA – 1	9	(432) KİMYA – 2	30	(617) SEÇ. DİL VE ANLA. – 7	52
(155) SEÇ. COĞRAFYA – 1	10	(436) SEÇ. KİMYA – 2	31	(618) SEÇ. DİL VE ANLA. – 8	53
(157) SEÇ. COĞRAFYA – 3	11	(441) BİYOLOJİ – 1	32	(627) SEÇ. TÜRK ED. – 7	54
(181) İNGİLİZCE – 1	12	(443) BİYOLOJİ – 3	34	(628) SEÇ. TÜRK ED. – 8	56
(181) ALMANCA – 1	13	(446) SEÇ. BİYOLOJİ – 2	36	(713) İSLAM KÜLTÜR VE MEDENİYETİ – 1	57
(181) FRANZISZCA – 1	14	(461) SEÇ. EKONOMİ – 1	37	(817) AKAİD – 1	58
(222) SAĞ. BİL. VE TRAFİK KÜLTÜRÜ – 2	15	(465) TEMEL DİNİ BİL. – 1	38	(819) KELAM – 1	59
(244) İNGİLİZCE – 5	16	(477) SEÇ. İŞLETME – 2	39	(931) SİYER – 1	60
(244) ALMANCA – 5	17	(479) SEÇ. MANTIK – 2	40	(974) SEÇ. GİRİŞİMCİLİK – 1	61
(244) FRANZISZCA – 5	17	(484) SAĞLIK BİLGİSİ – 2	41	(999) MATEMATİK – 2	62
(401) DİL VE ANLATIM – 1	18	(491) TRAF. VE İLK YARD. – 1	42		
(402) DİL VE ANLATIM – 2	19	(502) İNGİLİZCE – 8	44		
		(502) ALMANCA – 8	44		

ADAYLARIN DİKKATİNE!

- Her ders için 20 soru bulunmaktadır. Bu oturumda **180** dakikalık cevaplama süreniz vardır. Sınav başladıktan sonra ilk **30** dakika tamamlanmadan dışarı çıkmayınız.
- Sınav sırasında çanta, cep telefonu, saat, kablosuz iletişim sağlayan cihazlar ve kulaklık, kolye, küpe, bilezik, yüzük, broş ve benzeri eşyalar ile her türlü elektronik ve/veya mekanik cihazları yanınızda bulundurmuyunuz. Bu araçları yanınızda bulundurmanız ve kopya çekmeye teşebbüs etmeniz hâlinde sınavınız geçersiz sayılacaktır.
- Başvuru şartlarını taşımadığınız hâlde sınava girmeniz, kopya çekmeniz, başka adayın sınav evrakını kullanmanız, geçerli kimlik belgenizi ve sınav giriş belgenizi ibraz edemediğiniz durumlarda sınavınız geçersiz sayılacaktır.
- Sınavın değerlendirilmesi aşamasında, bilgisayar ortamında yapılan kopya analizinde sistemin ikili ve/veya toplu kopya tespiti hâlinde sınavınız geçersiz sayılacaktır.
- Adaylar, sınav kurallarına ve salon görevlilerinin tüm uyarılarına uymak zorundadır. Kurallara ve uyarılara uymayan adayların sınavları geçersiz sayılacaktır.**
- Sınav başladıktan sonra adayların salon görevlileri ve birbirleri ile konuşmaları; kalem, silgi vb. şeyleri istemeleri yasaktır.
- Adaylar sınav süresince, sınav giriş belgesi ile geçerli kimlik belgelerinden birinin aslını (fotoğraflı nüfus cüzdanı, pasaport veya sürücü belgesi) masalarının üzerinde bulundurmamak zorundadır.
- Sınav evraklarını teslim etmeyen, soru kitapçıklarının sayfalarından bir kısmını eksik teslim edenlerin sınavları geçersiz sayılacaktır.**
- Sınav başlamadan önce kitapçığın arkasındaki açıklamaları okuyunuz.

BAŞLAYINIZ DENMEDEN SORU KİTAPÇIKLARINI AÇMAYINIZ.

1. OTURUM

(111) DİN KÜL. AHL. BİL. – 1

1. Aşağıdakilerden hangisi insanın “yaratılmışların en üstünü olması” sıfatına uygun davranışlardan biri değildir?
- A) Allah’ın emir ve tavsiyelerine uygun yaşaması
B) Akıl ve iradesini olumlu kullanabilmesi
C) Sorumluluk bilinci ile hareket etmesi
D) Arzu ve isteklerinin esiri olması
2. İslam anlayışına göre “inanma” ile ilgili aşağıdaki ifadelerden hangisi doğrudur?
- A) Doğuştan gelen bir duygudur.
B) Tüm canlıların ortak özelliğidir.
C) İnsanın maddi yönü ile ilgilidir.
D) Korku ve endişelerin sebebidir.
3. Aşağıdakilerden hangisi dinin amaçlarından biri değildir?
- A) İnsana kuvvetli bir irade ve sağlam bir karakter kazandırmak
B) İnsanın dünya nimetlerinden uzak yaşamasını sağlamak
C) İnsanın hayatı anlamlandırmasına yardımcı olmak
D) İnsanı iyi ve güzel davranışlara yönlendirmek
4. İslam’ın “tek tanrı” inancını ifade eden kavram aşağıdakilerden hangisidir?
- A) İhlas
B) Tebliğ
C) Tevhit
D) İhsan
5. Vahye dayalı dinlerin ortak özellikleri ile ilgili aşağıda verilen bilgilerden hangisi doğrudur?
- A) Millî bir tanrı anlayışı hâkimdir.
B) Monoteist bir yapıya sahiptirler.
C) Tanrının ebedi ve ezeli olduğu reddedilir.
D) Birden çok tanrının var olduğu kabul edilir.
6. “İnsanın Allah’a karşı olan sevgi, saygı ve inancını çeşitli davranışlarla ortaya koyması” şeklinde tanımlanan kavram aşağıdakilerden hangisidir?
- A) İman
B) Ahlak
C) İbadet
D) Tevekkül
7. İbadet ile ilgili aşağıdakilerden hangisi doğru değildir?
- A) Tüm ibadetlerin gizli yapılması zorunludur.
B) Bir ibadet başka bir ibadetin yerine geçemez.
C) İnsanlara güler yüzlü davranmak da bir ibadettir.
D) İbadetler insanın güzel ahlak sahibi olmasına yardımcı olur.

8. İslam’da temizliği; maddi, manevi ve hem maddi hem de manevi temizlik olarak üçe ayırmak mümkündür. Buna göre aşağıdakilerden hangisi sadece manevi temizliğe örnek oluşturur?
- A) Abdest almak
B) Dişleri temizlemek
C) Gusül abdesti almak
D) Güzel ahlaklı olmak
9. Hz. Peygamber, annesinin ölümünden sonra kimin yanında kalmıştır?
- A) Babası Abdullah
B) Dedesi Abdulmuttalib
C) Sütanesi Halime
D) Amcası Abbas
10. Aşağıdakilerden hangisi hicreti hazırlayan sebeplerden biri olarak gösterilemez?
- A) Ebu Talip ve Hz. Hatice’nin vefat etmiş olmaları
B) Müşriklerin Hz. Peygamber’i öldürme kararı almaları
C) Müşriklerin Müslümanlara karşı baskılarını artırmaları
D) Müslümanların Mekke’de dinlerini özgürce yaşayamamaları
11. Aşağıdakilerden hangisi Hz. Peygamber’in Medine’de yaptığı toplumsal barışa yönelik faaliyetlerden biridir?
- A) Hilf-ül Fudûl’a üye olması
B) Kâbe’nin imarında rol alması
C) Ticari seyahatlerde bulunması
D) Muhacir ile ensarı kardeş ilan etmesi
12. Aşağıdakilerden hangisi Hz. Peygamber hicret ettiğinde Medine’de yaşayan kabilelerden biri değildir?
- A) Evs
B) Hazreç
C) Âlu Cefne
D) Beni Nadir
13. Aşağıdakilerden hangisi Hz. Peygamber’in İslam’a davet mektubu gönderdiği ülkelerden biri değildir?
- A) Bizans
B) Hindistan
C) İran
D) Mısır
14. Hz. Peygamber’in vefatı ile ilgili aşağıdaki bilgilerden hangisi yanlıştır?
- A) Kabri Mescid-i Haram’da bulunmaktadır.
B) Cenazesi Hz. Ali tarafından yıkılmıştır.
C) Hz. Aişe’nin odasına defnedilmiştir.
D) Altı yüz otuz iki yılında vefat etmiştir.

15. İndirildiği dönemde Kur’an-ı Kerim’in daha iyi kavranıp yaşanmasında aşağıdakilerden hangisi daha etkili olmuştur?
- A) Kadir gecesinde indirilmiş olması
B) Cebraîl vasıtası ile gönderilmesi
C) Gönderilen son kutsal kitap olması
D) Zamana yayılarak indirilmiş olması
16. Hz. Osman döneminde çoğaltılan Kur’an nüshalarının gönderildiği yerler arasında aşağıdaki şehirlerden hangisi yer almaz?
- A) Basra
B) Kûfe
C) Kudüs
D) Şam
17. “Kur’an ayetlerini; indirildiği zaman, mekân ve olayları da göz önünde bulundurarak açıklamak ve yorumlamak” anlamına gelen kavram aşağıdakilerden hangisidir?
- A) Tercüme
B) Tefsir
C) Meal
D) Tecvit
18. Kur’an-ı Kerim toplam kaç cüzden oluşmaktadır?
- A) 10
B) 20
C) 30
D) 40
19. “Hak Dini Kur’an Dili” adlı eser aşağıdaki âlimlerden hangisine aittir?
- A) Seyyit Kutup
B) Süleyman Ateş
C) Mehmet Vehbi Efendi
D) Muhammed Hamdi Yazır
20. Oturup dil dökecek yerde gidip dökene ter!
Bin çalış gayen için, bir kazan ömründe yeter
Kim kazanmazsa bu dünyada bir ekmek parası
Dostunun yüzkarası düşmanın mas-karası!
Mehmet Akif’in bu dizelerde eleştirdiği davranış aşağıdakilerden hangisidir?
- A) Tembellik
B) Korkaklık
C) İnançsızlık
D) Savurganlık

(112) DİN KÜL. AHL. BİL. – 2

1. Aşağıdakilerden hangisi evrensel değerlere örnek oluşturmaz?
- A) Teravih namazı kılmak
B) Doğru sözlü olmak
C) Adaletli olmak
D) Yardımlaşmak
2. Değerler ile ilgili aşağıdakilerden hangisi doğrudur?
- A) Hepsi evrenseldir.
B) İlk olduğu yer okuldur.
C) Davranışları yönlendirmede etkisi yoktur.
D) Toplumun benimsediği birleştirici unsurlardır.

1. OTURUM

3. Aşağıdakilerden hangisi toplumumuzda İslam dininin etkisi ile oluşan örf ve âdetlere örnektir?

- A) İftar daveti vermek
- B) Ağaçlara bez bağlamak
- C) Nazar boncuğu takmak
- D) Yolcunun arkasından su dökmek

4. "Utanmadıktan sonra dilediğini yap."

Bu hadiste aşağıdaki değer türlerinden hangisi vurgulanmıştır?

- A) Millî
- B) Ahlakî
- C) Kültürel
- D) Sanatsal

5. Aşağıdakilerden hangisi İslam dininin tavsiye ettiği ahlaki tutum ve davranışlardan biri **değildir**?

- A) Anne ve babaya saygı göstermek
- B) Hastaları ziyaret etmek
- C) Doğru sözlü olmak
- D) Haset etmek

6. Aşağıdakilerden hangisi İslam öncesienden başlayıp günümüzde de devam eden örf ve âdetlerdendir?

- A) Düğün yemeği vermek
- B) Kandil gecelerini kutlamak
- C) Mevlit törenleri düzenlemek
- D) Ölünün arkasından Kur'an okumak

7. "Yavrum! Şüphesiz yapılan iş bir hardal tanesi ağırlığında olsa ve bir kayanın içinde, yahut göklerde ya da yerin içinde bile olsa, Allah onu çıkarır, getirir. Çünkü Allah, en gizli şeyleri bilendir, (her şeyden) hakkıyla haberdar olandır."

(Lokman suresi, 16. ayet)

Bu ayette aşağıdakilerden hangisi vurgulanmaktadır?

- A) İş güzel yapmak ibadettir.
- B) Allah yapılan her şeyi bilir ve karışılığını verir.
- C) Özel hayatı araştırmak iyi bir davranış değildir.
- D) Allah göklerin ve yerin yaratıcısıdır.

8. *Dalgalandığin yerde ne korku ne keder,*

Gölgende bana da, bana da yer ver. Sabah olmasın, günler doğmasın ne çıkar,

Yurda ay-yıldızın ışığı yeter.

Bu şiirde Milletimizi birleştiren aşağıdaki ortak değerlerden hangisinin önemi vurgulanmaktadır?

- A) İstiklal Marşı
- B) Ezan
- C) Bayrak
- D) Aile

9. Aşağıdakilerden hangisi İslam dininin korunmasını istediği "beş temel ilke" arasında **yer almaz**?

- A) Can
- B) Din
- C) Kültür
- D) Akıl

10. "Ey İnsanlar! Bugünleriniz nasıl mukaddes bir gün ise, bu aylarınız nasıl mukaddes bir ay ise, bu şehriniz nasıl mübarek bir şehir ise; canlarınız, mallarınız, namuslarınız da öyle mukaddestir, her türlü saldırıdan korunmuştur...."

Hz. Peygamber bu konuşmasını nerede yapmıştır?

- A) Hudeybiye
- B) Arafat
- C) Akabe
- D) Medine

11. "Ve de ki: Hak, Rabbinizdendir. Öyle ise dileyen iman etsin, dileyen inkâr etsin..."

(Kehf suresi, 29. ayet)

Bu ayette aşağıdaki konuların hangisi vurgulanmıştır?

- A) İrade
- B) Ecel
- C) Takva
- D) Tevekkül

12. Laiklik ile ilgili verilen bilgilerden hangisi **yanlıştır**?

- A) T.C. Anayasası'na 1937 yılında girmiştir.
- B) Din ile devlet işlerinin birbirinden ayrılmasıdır.
- C) Devletin tüm inançlara eşit mesafede durmasıdır.
- D) İlk olarak İslam'ın yaygın olduğu ülkelerde ortaya çıkmıştır.

13. Aşağıdakilerden hangisi Türklerin İslam dinini benimsemesinde etkili olan sebeplerden biri **değildir**?

- A) Tasavvuf ehli dervişlerin samimi yaşayışları
- B) Müslüman tüccarların dürüst davranışları
- C) İslam dinini seçmeye zorlanmış olmaları
- D) İslam dininin fitrata uygun bir din olması

14. "Fıkıh-ı Ekber" ve "el-Âlim ve'l Mûteallim" adlı eserler aşağıdaki âlimlerden hangisine aittir?

- A) Ebu Hanife
- B) Maturidi
- C) Eş'arî
- D) Şafîî

15. • 874 yılında Basra'da doğmuştur.

- Ehli sünnet ekolünün iki önemli temsilcisinden biridir.
- Önceleri Mutezile mezhebinin tesirinde kalmış sonraları bu görüşleri terketmiştir.

Hakkında bilgi verilen İslam âlimi aşağıdakilerden hangisidir?

- A) Ahmet b. Hanbel
- B) Maliki
- C) Şafii
- D) Eş'arî

16. Üyelerinin uyması gereken kural-ların yazılı olduğu "Fütüvvetnâme" adlı belge aşağıdakilerden hangisi ile ilgilidir?

- A) Kadirilik
- B) Ahilik
- C) Mevlevilik
- D) Bayramilik

17. • Mevlana, halkı aydınlatma faaliyetlerinde bulunurken onunla karşılaşmıştır.

- Mevlana'nın hayatında bir dönüm noktası olmuştur.
- Mevlana'nın kendisinden çok etkilendiği bu zât, onun müşşidi olmuştur.

Hakkında bilgi verilen mutasavvıf aşağıdakilerden hangisidir?

- A) Ahi Evran
- B) Taptuk Emre
- C) Şems-i Tebrizi
- D) Hacı Bektaş Veli

18. Aşağıdaki âlimlerden hangisi tefsir alanında çalışmalar yapmıştır?

- A) Birunî
- B) Zemaşşerî
- C) Harezmi
- D) Ali Kuşçu

19. Aşağıdakilerden hangisi ünlü Müslüman Türk denizci ve coğrafyacısıdır?

- A) Piri Reis
- B) İbni Sina
- C) Uluğ Bey
- D) Razî

20. • Türklere has bir sanattır.

- Nakşî, Levnî ve Nigarî en ünlü sanatçılarıdır.
- Sulu boya veya altın yıldız kullanılarak kağıt ya da deri üzerine resim yapma sanatıdır.

Hakkında bilgi verilen sanat dalı aşağıdakilerden hangisidir?

- A) Ebru
- B) Heykel
- C) Tezhip
- D) Minyatür

(115) DİN KÜL. AHL. BİL. – 5

1. Aşağıdakilerden hangisi kader kavramı ile doğrudan ilişkili **değildir**?

- A) Rızık
- B) Özgürlük
- C) Tevekkül
- D) Cömertlik

2. Farklı durumlardan, seçeneklerden birini tercih etmek ve onu yapmaya veya yapmamaya karar vermektir.

Tanımı verilen kavram aşağıdakilerden hangisidir?

- A) Kader
- B) Kaza
- C) İrade
- D) Sorumluluk

1. OTURUM

3. "Yeryüzündeki her canlının rızkı yalnızca Allah'a aittir..."
(Hüd suresi, 6. ayet)

Bu ayette aşağıdakilerin hangisi vurgulanmaktadır?

- A) Rızkı yaratan Allah'tır.
B) Canlılar rızka ihtiyaç duyarlar.
C) Rızık, helal yoldan kazanılmalıdır.
D) Canlıların yaşamı için yaratılan her şey rızıktır.

4. "... Kararını verdiği zaman artık Allah'a dayanıp güven. Çünkü Allah kendisine dayanıp güvenenleri sever."
(Âi-i İmrân suresi, 159. ayet)

Bu ayet aşağıdaki kavramlardan hangisi ile ilişkilendirilebilir?

- A) Adalet B) Tevekkül
C) Merhamet D) Hoşgörü

5. "Başınıza gelen herhangi bir musibet, kendi ellerinizle işledikleriniz yüzündendir..."
(Şûrâ suresi, 30. ayet)

Aşağıdakilerden hangisi bu ayetin mesajına örnek oluşturmaz?

- A) Her canlı için bir ecel takdir edilmesi
B) Söndürülmeyen ateş sonucu yangın çıkması
C) Fay hattı üzerindeki evlerin depremde yıkılması
D) İhmal sonucu trafik kazasına sebebiyet verilmesi

6. **Aşağıdakilerden hangisi ibadetlerdeki kolaylık ilkesine örnek oluşturur?**

- A) Hac ibadetinde ihramlı olmak
B) Ramazan orucu için sahura kalkmak
C) Abdest alırken mest üzerine mesh yapmak
D) Akşam namazının farzını sünnettinden önce kılmak

7. **İbadetlerin içtenlikle, maddi çıkar gözetmeden, yalnız Allah'ın rızasını kazanmak için yapılması aşağıdaki kavramlardan hangisiyle isimlendirilir?**

- A) İnfak B) İctihat
C) İtikat D) İhlas

8. **Aşağıdakilerden hangisi ibadet ile ilgili temel ilkelerden biri değildir?**

- A) Kolaylık ve güç yetirebilirlik
B) Menfaat ve çıkar sağlamak
C) Gösteriştan uzak olmak
D) İsteklilik ve samimiyet

9. "Kullarım sana, beni sorduğunda (söyle onlara): Ben çok yakınım. Bana dua ettiği vakit dua edenin dileğine karşılık veririm. O hâlde (kullarım da) benim davetime uysunlar ve bana inansınlar ki doğru yolu bulsunlar."
(Bakara suresi, 186. ayet)

Bu ayette aşağıdakilerden hangisi vurgulanmaktadır?

- A) Ezan okunduğunda namazın hemen kılınması
B) Duanın kabulü için günahlardan kaçınılması
C) Dua ve ibadetlerle Allah'a yakınlanın sağlanması
D) İbadetlerde gösteriştan uzak durulması

10. **Aşağıdakilerden hangisi ibadetlerin toplumsal faydalarından biridir?**

- A) Sosyal yardımlaşmayı teşvik etmek
B) Kişiye güven duygusu kazandırmak
C) İnsanın iç huzura kavuşmasını sağlamak
D) İnsan ile yaratıcı arasındaki ilişkiyi güçlendirmek

11. "Onlar yalan yere şahitlik etmezler, boş sözlerle karşılaşıklarında vakar ile oradan geçip giderler."
(Furkân suresi, 72. ayet)

Bu ayette aşağıdakilerden hangisi vurgulanmaktadır?

- A) Tevazu sahibi olmak
B) Dürüst ve onurlu olmak
C) Cömert ve yardımsever olmak
D) Bağışlayıcı ve merhametli olmak

12. **Aşağıdakilerden hangisi kültürümüzde Hz. Muhammed'e (sav.) duyulan sevgiyi ifade eden bir semboldür?**

- A) Menekşe B) Sümbül
C) Lale D) Gül

13. "Ehl-i Beyt" kavramı aşağıdakilerden hangisini ifade etmektedir?

- A) Hz. Peygamber'in ev halkını
B) Ashab-ı suffeyi
C) İlk Müslümanları
D) Bedir şehitlerini

14. "Biliniz ki, ben Allah'a hepinizden daha saygılıyım. Bununla birlikte bazı günler oruç tutarım, bazı günler tutmam. Namaz da kılarım, uyku da uyurum."

Hız. Peygamber bu sözü ile aşağıdakilerden hangisini vurgulamıştır?

- A) Gösteriştan uzak durmayı
B) İbadetlerde samimiyeti
C) Aşırılıktan kaçınmayı
D) Adaletli davranmayı

15. "er-Risale ve el-Ümm" adlı eserler aşağıdaki âlimlerden hangisine aittir?

- A) İmam Ebu Hanife
B) İmam eş-Şafii
C) Ahmet bin Hanbel
D) İmam Cafer-i Sadık

16. **Aşağıdakilerden hangisi İslam düşüncesinde yorum farklılıklarının sonuçlarından biri değildir?**

- A) Düşünce zenginliği
B) Mezheplerin oluşumu
C) Dini yaşamada kolaylık
D) Taassubun yaygınlaşması

17. Birden çok anlama gelebilen, manası herkes tarafından kolayca anlaşılabilen, açıklaması için başka delillere ihtiyaç duyulan ayetlerdir.

Tanımı verilen kavram aşağıdakilerden hangisidir?

- A) Müteşabih ayetler
B) Muhkem ayetler
C) Mekkî ayetler
D) Medenî ayetler

18. "El menzilü beynel menzileteyn" kavramı aşağıdaki mezheplerden hangisi ile ilişkilidir?

- A) Maturîdilik B) Haricilik
C) Mu'tezile D) Eş'arilik

19. **Aşağıdakilerden hangisi İslam düşüncesinde yorum farklılığı bulunan konulardan biridir?**

- A) Ahiret hayatının varlığı
B) Allah'ın varlığı ve birliği
C) Kur'an'ın Allah kelamı olduğu
D) Amelin imanın bir parçası olduğu

20. • Büyük günah işleyen kimse dinden çıkmaz.

- Peygamberler olmasa da kişi akıyla Allah'ı bulabilir.

- İman; dil ile ikrar ve bunu kalp ile de tasdik etmektir.

Temel görüşlerinden bir kısmı verilen itikadi mezhep aşağıdakilerden hangisidir?

- A) Eş'arilik B) Maturîdilik
C) Haricilik D) Mu'tezile

(121) FELSEFE – 1

1. Felsefe, insanın kendisi ve yaşamın anlamı üzerine soru sorma etkinliğidir.

Buna göre aşağıdakilerden hangisi bir felsefe sorusudur?

- A) Bir yıl kaç gündür?
B) Sporun faydaları nelerdir?
C) Bugün hava nasıl olacak?
D) İnsan yaşamının anlamı nedir?

1. OTURUM

2. Bilen öznenin bilinmek istenen nesneye yönelmesiyle ortaya çıkan ürüne bilgi denir.

Buna göre bilginin oluşmasında aşağıdakilerden hangisi etkili değildir?

- A) Bilen özne
B) Bilinen nesne
C) Nesnenin güzel olması
D) Öznenin nesneye yönelmesi

3. • Sanat nedir?
• Varlık var mıdır?
• Bilginin kaynağı nedir?

Verilen sorularla felsefenin alanları eşleştirildiğinde aşağıdakilerden hangisi açıkta kalır?

- A) Siyaset felsefesi
B) Varlık felsefesi
C) Sanat felsefesi
D) Bilgi felsefesi

4. Felsefi bilginin merak eden, soran, araştırma yapan ve sorgulayan bir tavrın ürünü olması felsefenin aşağıda verilen özelliklerinden hangisiyle ilgilidir?

- A) Düzenlilik B) Evrensellik
C) Eleştirelilik D) Birikimsellik

5. Aşağıdakilerden hangisi bilginin ne olduğunu, hangi yollardan elde edildiğini ve doğruluğunu araştıran bilgi felsefesinin konuları arasında yer almaz?

- A) Bilginin ölçütü
B) Evrenin oluşumu
C) Bilginin kaynağı
D) Bilginin imkanı

6. Sofistlere göre bilginin kaynağı duyumlardır. Duyum ve algıysa kişiden kişiye değişir. Bu nedenle herkesin kabul edebileceği doğrular yoktur.

Sofistlerin bu görüşlerinden hareketle aşağıdaki yargılardan hangisine ulaşılabılır?

- A) Kesin bilgi vardır.
B) İdeaların bilgisi doğru bilgidir.
C) Doğru bilgi doğuştan getirilir.
D) Genel geçer doğru bilgi yoktur.

7. Aşağıdakilerden hangisi rasyonalizmin temel görüşüdür?

- A) Doğru bilgi imkansızdır.
B) Bilginin kaynağı akıldır.
C) Duyu verileri bilginin oluşumu için yeterlidir.
D) Sezgiyle doğru bilgiye ulaşılır.

8. Kant'a göre doğru bilgiye ulaşmak yalnızca deneyle mümkün değildir. Deneyden gelen verileri düzene sokacak bir öge daha gereklidir. Bu ise akıldır. Akıl deneyden gelen hammaddeyi biçimlendirerek bilgiye dönüştürür.

Buna göre Kant doğru bilgiye ulaşmada aşağıdakilerden hangilerinin gerekli olduğunu savunmuştur?

- A) Deney ve akıl
B) Yarar ve akıl
C) Sezgi ve deney
D) Nesne ve sezgi

9. Felsefenin görevinin olgular ve olgular arasındaki ilişkileri incelemek olduğunu söyleyen akım aşağıdakilerden hangisidir?

- A) Sezgicilik B) Akılcılık
C) Yarırcılık D) Olguculuk

10. Hume'a göre zihinde bulunan her şeyin temelinde dış dünyanın duyu verileriyle deneyimlenmesi vardır.

Buna göre Hume için bilginin kaynağı aşağıdakilerden hangisidir?

- A) Akıl B) Sezgi
C) Deney D) İnanç

11. Bilimin yapısını, doğasını, bilimsel kuramla gerçeklik arasındaki ilişkiyi ve bilimde yöntem problemini inceleyen felsefe disiplini aşağıdakilerden hangisidir?

- A) Ahlak B) Bilim
C) Varlık D) Sanat

12. Klasik bilim anlayışına göre bilimin ürünü olan bilgi, onu ortaya koyan bilim insanının inançlarından, kanaatlerinden dünya görüşünden bağımsız bir bilgidir. Bilim insanı araştırmalarını bilimsel yöntemle tarafsız bir biçimde yapar.

Bu parçada klasik bilim anlayışına göre bilimin hangi özelliği konu edilmiştir?

- A) Objektif bilgi üretmesi
B) Birikerek ilerlemesi
C) Olgusal olması
D) Eleştirel olması

13. Aşağıdakilerden hangisi bilimsel yöntemin aşamalarından biri değildir?

- A) Kuram B) Gözlem
C) Deney D) Kaygı

14. Thomas Kuhn'un bilim felsefesinde kullanmış olduğu kavram aşağıdakilerden hangisidir?

- A) Estetik B) Sezgi
C) Paradigma D) İnanç

15. Bilim,

- I. Bilim adamı topluluğunun bir etkinliğidir.
II. Dönemin değerlerinden ve inançlarından etkilenir.
III. Bilimsel çalışma sonucunda ortaya çıkan üründür.

Verilen bilgilerden hangileri etkinlik olarak bilim anlayışına ait değildir?

- A) Yalnız I. B) Yalnız III.
C) I ve II. D) II ve III.

16. Felsefenin varlığı parçalamadan, bütün olarak ele alması aşağıdaki özelliklerinden hangisine dayandırılabilir?

- A) Bütüncüllüğüne
B) Eleştireliliğine
C) Öznelliğine
D) Akılsallığına

17. • Herakleitos'a göre evrende değişmeyen hiçbir şey yoktur. Her şey bir değişim ve oluş içindedir.
• Hegel'e göre gerçek varlık olan Geist durağan değil, değişen farklılaşan manevi bir varlıktır.

Bu iki filozofun varlığa yaklaşımlarındaki ortak yön aşağıdakilerden hangisidir?

- A) Varlığın yokluğunu iddia etmeleri
B) Varlığı değişimle açıklamaları
C) Varlığın temeli olarak maddeyi kabul etmeleri
D) Deney ve gözlemle varlığı ele almaları

18. Descartes'e göre varlık hem ruh hem de maddenin ürünüdür. Ruh tözü düşünme, madde tözüyse yer kaplama özelliğine sahiptir.

Bu parçadan hareketle aşağıdaki yargılardan hangisine ulaşılabılır?

- A) Varlık hiçliktir.
B) Varlık bilinemez.
C) Madde yaratıcı tözdür.
D) Varlık iki farklı tözden meydana gelmiştir.

19. Materyalizme göre varlığın temelinde aşağıdakilerden hangisi vardır?

- A) Madde B) Oluş
C) Fenomen D) Düşünce

20. "İki çeşit varlık vardır; mümkün varlık ve zorunlu varlık. Mümkün varlıklar, kendi başlarına var olamayan ve var olmak için Tanrı'ya ihtiyaç duyan varlıklardır. Zorunlu varlık ise bir ve gerçek olan Tanrı'dır."

Bu görüşler aşağıdaki filozoflardan hangisine aittir?

- A) Spinoza B) Platon
C) Farabi D) Hegel

1. OTURUM

(123) SEÇMELİ FELSEFE – 1

1. Felsefe kelime anlamı olarak bilgelik sevgisi ya da hikmet arayışı demektir.
Bu arayış içerisinde bilgeliği seven, bilgiyi arayan ve ona ulaşmak isteyen kişilere aşağıdaki adlardan hangisi verilir?
- A) Filozof B) Sanatçı
C) Sporcu D) Bilim adamı
2. İnsanlar, ekinin biçilmesini kolaylaştırmak için orak, eşyaların daha az emekle taşınması için el arabasını yapmışlardır. Doğada var olan nesnelere araç gerece dönüşürebilen insan, bu ürettiği bilgiyle yaşamını da kolaylaştırmıştır.
Bu parçada söz konusu edilen bilgi türü aşağıdakilerden hangisidir?
- A) Dinî B) Teknik
C) Sanat D) Felsefi
3. **Aşağıdakilerden hangisi dinî bilginin özelliklerinden biri değildir?**
- A) Yöntem olarak deneyi kullanır.
B) İnananlar için kesindir.
C) İnanca dayalıdır.
D) Sistemattir.
4. İnsanların karşılaştığı sorunlara açık, seçik, objektif, ön yargısız ve doğru bakabilmesi ancak felsefi düşünmeyle mümkündür.
Bu parçada felsefenin işlevlerinden hangisi konu edilmiştir?
- A) İnsanın varoluşunu anlamasına yardımcı olması
B) Demokrasinin gelişimine katkı sağlaması
C) Toplumsal olaylara yön vermesi
D) Doğru ve tarafsız düşünmeyi öğretmesi
5. Sözcük anlamı "fizik ötesi" olan metafizik, duyu organlarıyla algılanan gerçeklikle değil, duyuyla algılanamayan alana dair sorunlarla ilgilidir.
Buna göre aşağıdakilerden hangisi metafiziğin konusu değildir?
- A) Öteki dünya
B) Tanrı'nın varlığı
C) Ruhun ölümsüzlüğü
D) Duyularla algılanan nesnelere
6. I. İnanç
II. Hayal gücü
III. Deney ve gözlem
Yukarıdakilerden hangileri sanat bilgisinde özne ile nesne arasında bağ kurulmasını sağlar?
- A) Yalnız I. B) Yalnız II.
C) I ve II. D) II ve III.

7. "İnsan neyi bilebilir?", "Bilgi nedir?", "İnsan bilgisinin sınırı var mıdır?" sorularıyla ilgilenen felsefe dalı aşağıdakilerden hangisidir?
- A) Bilgi B) Ahlak
C) Varlık D) Din
8. **Aşağıdakilerden hangisi bilgi felsefesinin temel kavramları arasında yer almaz?**
- A) Temellendirme
B) Uygunluk
C) Siyaset
D) Doğruluk
9. Aristoteles'e göre edilgen ve etkin olmak üzere iki tür akıl vardır. Edilgen akıl bilginin malzemesini verir. Etkin akıl ise bu malzemesi biçimlendirerek doğru bilgiye ulaşır.
Aristoteles'in bu görüşleri aşağıdaki yargılardan hangisiyle uyumludur?
- A) Duyu verileri güvenilirdir.
B) Tüm bilgi deneyden gelir.
C) Doğru bilgi akılla elde edilir.
D) Sezgi doğru bilgi edinmemizi sağlar.
10. "Bir bilgi karşılaştığımız bir problemi başarıyla çözmeye yarar sağlıyorsa doğrudur." diyen bir kişi için bilginin doğruluk ölçütü aşağıdakilerden hangisidir?
- A) Deney B) İnanç
C) Sezgi D) Fayda
11. Antik Yunan'da büyük filozofların aynı zamanda büyük bilim adamı olduğu görülür. İlk filozof Thales aynı zamanda astronom ve matematikçidir. Aristoteles ise hem büyük bir filozof hem de iyi bir biyologdur.
Bu parçadan hareketle Antik Yunan dönemiyle ilgili aşağıdakilerden hangisi doğrudur?
- A) Felsefe ve bilim iç içedir.
B) Teknoloji ileri düzeydedir.
C) Bilgi sadece yarar için kullanılmıştır.
D) Bilimsel çalışmalar geri plana atılmıştır.
12. **Aşağıdakilerden hangisi bilim felsefesinin cevaplamaya çalıştığı sorulardan biri değildir?**
- A) Bilim nedir?
B) Bilimin değeri nedir?
C) Güzelin kaynağı nedir?
D) Bilimsel yöntemin aşamaları nelerdir?

13. İslam dünyasında 8. yüzyılda "Beytül Hikme" adlı çeviri merkezlerinde Eski Yunan düşünürlerine ait eserler Arapçaya çevrilmiştir. Harezmi ise ilk cebir kitabını yazmış, yer ve gök yüzü haritaları çizmiştir.
Buna göre İslam dünyasıyla ilgili olarak aşağıdakilerden hangisi söylenebilir?
- A) Sanat alanında tartışmalar yapılmıştır.
B) Bilim ve felsefeye önem verilmiştir.
C) Mitoloji, din ve büyü iç içedir.
D) Deneysel çalışmalara ağırlık verilmiştir.
14. I. Nesnellik
II. Evrensellik
III. Mantıksallık
Yukarıdakilerden hangileri bilimsel bilginin özelliklerindedir?
- A) Yalnız I. B) Yalnız III.
C) I ve II. D) I, II ve III.
15. Bilim, ne kesintisiz olarak ilerler ne de birikimsel bir süreç izler. Bilimde sapmalar, inişler ve çıkışlar söz konusu olduğundan düzgün doğrusal devam eden bir süreçten bahsedemeyiz.
Bu parçada aşağıdakilerden hangisi eleştirilmiştir?
- A) Bilimin ilkeleri
B) Bilimsel yasalar
C) Bilimin doğrusal bir şekilde ilerlemesi
D) Bilim insanının tarafsız olması
16. • Varlık düşüncedir.
• Varlık maddedir.
Bu görüşler varlık felsefesinin aşağıda verilen sorularından hangisine cevap niteliğindedir?
- A) Varlık var mıdır?
B) Varlık nedir?
C) Varlığın bir amacı var mıdır?
D) Dış dünyadaki varlıklar gerçek midir?
17. Bilim varlığı incelerken onu bir bütün olarak ele almaz. Biyoloji canlı organizmayı, fizik hareketi, astronomiyse yıldızları konu edinir.
Buna göre bilimin varlığa yaklaşımı için aşağıdakilerden hangisi söylenebilir?
- A) Varlığı konu edinmez.
B) Soyut, düşünsel varlığı ele alır.
C) Varlığın var olup olmadığını sorgular.
D) Her bilim dalı varlığın bir parçasını araştırır.

1. OTURUM

18. "Evrende değişmeyen hiçbir şey yoktur. Her şey sürekli değişim içindedir." diyen bir filozofa göre varlık aşağıdakilerden hangisidir?

- A) İdea B) Oluş
C) Madde D) Fenomen

19. "Düşünceden bağımsız bir nesnelere dünyası yoktur, var olan her şey düşünceye bağlıdır. Madde gerçek değildir ve var olan her şey zihinseldir."

Bu parçadaki düşünceler aşağıdaki felsefi öğretilerden hangisiyle uygunluk içindedir?

- A) İdealizm B) Nihilizm
C) Materyalizm D) Rasyonalizm

20. Evrende her şeyin sonsuz sayıda atomdan meydana geldiğini, tek varlıkların bu atomların birleşmesi veya ayrılmasıyla oluştuğunu söyleyen filozof ve görüşü aşağıdakilerden hangisidir?

- A) Descartes'in ikiciliği
B) Platon'un idealizmi
C) Demokritos'un atomculuğu
D) Husserl'in fenomenolojisi

(132) TARİH – 2

1. Türklerin bilinen ilk anayurdu Orta Asya'dır. Orta Asya, batıda Hazar Denizi, kuzeyde Kırgız Bozkırları ve Altay Dağları, doğuda Moğolistan ve Çin'in batısı, güneyde ise Tibet Platosu ile Hindikuş Dağları arasında yer alır.

Buna göre Türkler hakkında aşağıdakilerden hangisi söylenebilir?

- A) Savaşçı özelliklerinin olduğu
B) Göçebe topluluk oldukları
C) Geniş bir coğrafyaya yayıldıkları
D) Boylar halinde yaşadıkları

2. Eski Türklerde kağana devlet yönetme yetkisinin Gök Tanrı tarafından verildiğine inanılmıştır.

Buna göre Eski Türklerin devlet yönetimiyle ilgili aşağıdaki yorumlardan hangisi yapılabilir?

- A) Kağanın gücünün kaynağı ilahidir.
B) Hatun, devlet yönetiminde yer almıştır.
C) Demokratik yönetim biçimi vardır.
D) Kağan Tanrı-Kral sayılmıştır.

3. "Türk devlet teşkilatında yılda üç kez toplanılarak devlet işlerinin görüşüldüğü yerdir."

Yukarıda açıklaması yapılan tanım aşağıdakilerden hangisidir?

- A) Buyruk B) Aygucı
C) Kurultay D) İlteber

4. Aşağıdakilerden hangisi Orta Asya Türk göçlerinin ekonomik sebeplerinden biridir?

- A) Yeni yerler fethetme arzusu
B) Otlakların yetersiz kalması
C) Çin ve Moğol baskıları
D) Türk boyları arasındaki mücadeleler

5. Eski Türk toplumunda sözlü hukuk kuralları olan töreye kağanlar da dâhil herkesin uyması zorunludur. Töre, kağanın keyfi hareket etmesini engellemiş ve halkına adil davranması için bir kontrol mekanizması olmuştur.

Buna göre töre ile ilgili aşağıdakilerden hangisi söylenebilir?

- A) Kağanın yetkilerini sınırsız kılmıştır.
B) Diğer milletlerle etkileşimde bulunmayı sağlamıştır.
C) Törelere oluşumunda kut anlayışı etkili olmuştur.
D) Devlet yönetiminde adaleti sağlamıştır.

6. Sahte ricat ve pusudan oluşan Türklere özgü savaş taktiği aşağıdakilerden hangisidir?

- A) Boş Kale B) Hilal
C) Açık Uçlu D) Karakol

7. Aşağıdakilerden hangisi Cahiliye Dönemi Arap toplumunun özelliklerinden biri değildir?

- A) Toplum sosyal sınıflara ayrılmıştır.
B) Haram aylarda savaş yapılmamıştır.
C) Kabileler arasında kan davaları görülmüştür.
D) Kadın ve erkeklere eşit haklar tanınmıştır.

8. Hz. Muhammed Mekke'den Medine'ye hicreti sonrasında burada bulunan gayrimüslim topluluklarla Medine Sözleşmesi'ni imzalamıştır. Bu sözleşmeye göre Medine'ye bir saldırı olduğunda Müslüman ve gayrimüslimlerin birlikte hareket etmeleri karara bağlanmıştır.

Buna göre Hz. Muhammed Medine Sözleşmesiyle aşağıdakilerden hangisini amaçlamıştır?

- A) Kabilecilik anlayışını devam ettirmeyi
B) Yeni savaş taktikleri geliştirmeyi
C) Düşmana karşı ortak savunma yapmayı
D) Müslümanları gayrimüslimlerden üstün kılmayı

9. Aşağıdakilerden hangisi Dört Halife Dönemi'nde gerçekleştirilen askerî bir gelişmedir?

- A) İlk düzenli ordunun kurulması
B) Kur'an-ı Kerim'in kitap haline getirilmesi
C) İlk hicri takvimin düzenlenmesi
D) Beytülmal'in kurulması

10. Emeviler Dönemi'nde Ömer bin Abdülaziz'in Arap olmayan Müslümanlardan alınan cizye vergisini kaldırması aşağıdakilerden hangisini ortadan kaldırmıştır?

- A) Kabilecilik anlayışını
B) Toplumsal eşitsizliği
C) Farklı dini inançları
D) Fetih hareketlerini

11. İspanya'da kurularak bu bölgede İslamiyet'in yayılmasını sağlayan devlet aşağıdakilerden hangisidir?

- A) Karahanlılar
B) Gazneliler
C) Abbasiler
D) Endülüslü Emevileri

12. Aşağıdakilerden hangisi İslam medeniyetinde dini ilimlerden biri değildir?

- A) Fizik B) Fıkıh
C) Tefsir D) Kelam

13. Tıp alanındaki "El-kanun fı't-tıb" adlı eseriyle ünlü, İslam aleminde "Şeyh el-Reis" adıyla anılan bilim insanı aşağıdakilerden hangisidir?

- A) İbn-i Sina B) Farabi
C) İmam Gazali D) İbn-i Rüşd

14. Türkler Müslüman Araplarla ilk kez hangi savaştan sonra karşı karşıya gelmiştir?

- A) Malazgirt B) Nihavent
C) Katvan D) Dandanakan

15. Türklerin İslamiyet'i kabul etmesiyle devlet yapısında birçok değişiklik yaşanmıştır. Aşağıdakilerden hangisi bu değişimlerden biri değildir?

- A) Askeri teşkilata önem vermeye başlamaları
B) Hükümdarların sultan unvanını kullanması
C) Şer'i hukukun uygulanması
D) Hükümdarlığın halife tarafından onaylanması

16. Türk tarihinin ilk sözlüğü kabul edilen eser aşağıdakilerden hangisidir?

- A) Divan-ı Hikmet
B) Kutadgu Bilig
C) Divânü Lügati't-Türk
D) İhya'ü'ulümü'd-din

1. OTURUM

17. Malazgirt Zaferi'nden sonra Abbasi halifesinin "İslam Ülkelerinin Sultanı" unvanı verdiği hükümdar aşağıdakilerden hangisidir?

- A) Tuğrul Bey B) Attila
C) Mete Han D) Alp Arslan

18. Büyük Selçuklu Devleti'nde devletin iç ve dış yazışmalarına bakan divan aşağıdakilerden hangisidir?

- A) Divan-ı İstifa B) Divan-ı Arz
C) Divan-ı İnşa D) Divan-ı Berid

19. Selçuklularda eyaletlere gönderilen şehzadeleri yetiştirmek ve işlerini idare etmek amacıyla gönderilen görevliye verilen isim aşağıdakilerden hangisidir?

- A) Çetr B) Kadı
C) Tıraz D) Atabey

20. Aşağıdakilerden hangisi Malazgirt Zaferi'nden sonra Anadolu'da kurulan beyliklerden biri değildir?

- A) Danişmentliler
B) Karahanlılar
C) Saltuklular
D) Mengücekliler

(136) SEÇ. TARİH – 2

1. İslam dinini tebliğ eden peygamber aşağıdakilerden hangisidir?

- A) Hz. İsa
B) Hz. Musa
C) Hz. Davut
D) Hz. Muhammed

2. Hz. Muhammed'in babası aşağıdakilerden hangisidir?

- A) Abdullah B) Abdülmuttalip
C) Ebu Talip D) Vehb

3. Aşağıdakilerden hangisi ilk Müslümanlardan biri değildir?

- A) Hz. Ali
B) Hz. Hatice
C) Hz. Osman
D) Hz. Ebubekir

4. Arapların genel olarak hayat biçimleri göçebe ve yerleşik hayata dayalıydı. Göçebe hayat süren Araplara bedevi, kentlerde yaşayanlara ise medeni denilirdi. Göçebelerin en önemli geçim kaynağı hayvancılık, yerleşiklerin ise tarım ve ticaretti.

Bu bilgilere göre aşağıdakilerden hangisi söylenebilir?

- A) Arabistan'da siyasi birlik yoktu.
B) Göçebe Araplara bedevi denirdi.
C) Yerleşik Arapların en önemli geçim kaynağı hayvancılıktı.
D) Kentlerde yaşayan Araplara emir denirdi.

5. İslamiyetten önce Arapların çoğu putlara tapardı. Bunlara müşrik denirdi. Arabistan'da az da olsa Hristiyanlık ve Musevilğe inananlar da vardı. Ayrıca Araplar arasında kendilerine hanif adı verilen ve Hz. İbrahim'in dinine inanan insanlar da bulunuyordu.

Verilen bilgede İslam öncesi Arabistan'ın hangi özelliği anlatılmıştır?

- A) Siyasi B) Dini
C) Ekonomik D) Askerî

6. İnşidoğulları Devleti'ne aşağıdakilerden hangisi son vermiştir?

- A) Fatimiler
B) Abbasiler
C) Harzemşahlar
D) Karahanlılar

7. Aşağıdakilerden hangisi Mısır'da kurulan bir devlettir?

- A) Gazneliler
B) Karahanlılar
C) Harzemşahlar
D) Tolunoğulları

8. Karahanlı Devleti, Orta Asya'da kurulan ilk Müslüman Türk devletidir. Karahanlılara ayrıca İlek Hanlar da denilmiştir. İranlılar ise bu devlete Al-i Afrasiyab ismini vermişlerdir.

Bu bilgilere göre Karahanlılar ile ilgili aşağıdakilerden hangisi söylenemez?

- A) Orta Asya'da kurulan ilk Müslüman Türk devletidir.
B) Bilinen ilk hükümdarı Satuk Buğra Han'dır.
C) İlek Hanlar olarak da bilinmektedirler.
D) İranlılar tarafından Al-i Afrasiyab olarak isimlendirilmişlerdir.

9. Türk tarihinde sultan unvanını ilk defa kullanan hükümdar aşağıdakilerden hangisidir?

- A) Sebük Tegin
B) Satuk Buğra Han
C) Gazneli Mahmut
D) Alp Arslan

10. Aşağıdaki savaşlardan hangisi Alp Arslan Dönemi'nde yapılmıştır?

- A) Malazgirt B) Dandanakan
C) Pasinler D) Katvan

11. Aşağıdakilerden hangisi Türkler tarafından kabul edilen dinlerden değildir?

- A) Mecusilik B) Musevilik
C) Hristiyanlık D) İslamiyet

12. Büyük Selçuklu Devleti'ndeki atabeylik kurumu Osmanlı'da hangi isimle devam etmiştir?

- A) Yabgu B) Naib
C) Hacıp D) Lala

13. Büyük Selçuklu Devleti'nde, devletin çeşitli konulardaki yazışma işlerine bakan divan aşağıdakilerden hangisidir?

- A) İstifa Divanı B) Tuğra Divanı
C) İşraf Divanı D) Arz Divanı

14. Büyük Selçuklu Devleti'nde eyaletlerin ve vilayetlerin başında bulunan askerî görevlilerden hükümdar soyundan olanlara ne denirdi?

- A) Şihne B) Amid
C) Melik D) Amil

15. Karahanlılar Dönemi Türk edebiyatı eserlerindedir. Uygur harfleriyle yazılmıştır. Eserin adı hakikatlerin eşiği anlamına gelmektedir. Konusu dinî ve ahlakidir. Yazarı Edip Ahmet Yükneki'dir.

Hakkında bilgi verilen eser aşağıdakilerden hangisidir?

- A) Atabetü'l – Hakayık
B) Divanü Lügat-it Türk
C) Kutadgu Bilig
D) Divan-ı Hikmet

16. Hittin Zaferi ile Kudüs'ü Haçlılardan alan hükümdar aşağıdakilerden hangisidir?

- A) Melikşah
B) Alp Arslan
C) Gazneli Mahmut
D) Selahaddin Eyyubi

17. Osmanlı-Memluk ilişkileri ilk defa hangi Osmanlı padişahı zamanında bozulmuştur?

- A) Kanuni Sultan Süleyman
B) Yavuz Sultan Selim
C) Fatih Sultan Mehmet
D) II. Bayezit

18. Moğol İmparatorluğu parçalandıktan sonra İran'da hangi devlet kurulmuştur?

- A) İlhanlılar
B) Kubilay Hanlığı
C) Çağatay Hanlığı
D) Altın Orda Devleti

19. Moğollarda tüccarlardan ve pazara getirilen mallardan alınan vergiye ne denirdi?

- A) Suyurgal B) Kopçur
C) Tamga D) Kalan

1. OTURUM

20. Muhakemet'ül Lûgateyn adlı eserin yazarı aşağıdakilerden hangisidir?

- A) Kadızâde-i Rumî
B) Ali Şîr Nevaî
C) Hüseyin Baykara
D) Ebul Gazi Bahadır Han

(151) COĞRAFYA – 1

1. "Doğaya karşı değil, onunla birlikte olun." sloganı ile aşağıdakilerden hangisi anlatılmak istenmektedir?

- A) Doğayla uyumlu yaşamak
B) Doğal çevre koşullarını değiştirmek
C) Doğal kaynakları bilinçsizce tüketmek
D) Doğanın olumsuz koşullarıyla mücadele etmek

2. Aşağıdakilerden hangisi fiziki coğrafyanın inceleme alanına girer?

- A) Ağrı ilinin iklim özellikleri
B) İzmit ilindeki sanayi tesisleri
C) Ankara ilinin nüfus özellikleri
D) Mersin ilinde yetişen tarım ürünleri

3. Maki bitki örtüsü ile ilgili aşağıda verilen ifadelerden hangisi coğrafya biliminin dağılış ilkesine örnektir?

- A) Yaz kuraklığına dayanıklıdır.
B) Kısa boylu, bodur ağaçlardır.
C) Düşük sıcaklığa karşı dayanıksızdır.
D) Akdeniz ve Ege kıyılarında yaygındır.

4. Osmanlı denizcisi olan Piri Reis'in coğrafi araştırmalarının yer aldığı eseri aşağıdakilerden hangisidir?

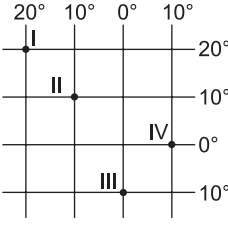
- A) Seyahatname
B) Kitabı Bahriye
C) Coğrafya Kılavuzu
D) Divân-u Lûgat-it -Türk

5. I. Kutuplara doğru gidildikçe boyları kısalır.
II. Ardı ardına gelen ikisi arasındaki zaman farkı her yerde 4 dakikadır.
III. Aralarındaki uzaklık ekvatorдан kutuplara gidildikçe daralır.

Yukarıda verilenlerden hangileri paralellere ait özelliklerdendir?

- A) Yalnız I. B) Yalnız III.
C) I ve II. D) II ve III.

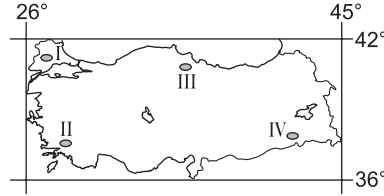
6. İki merkez arasında meridyen farkı arttıkça aralarındaki yerel saat farkı da artmaktadır.



Buna göre koordinat sistemi üzerinde numaralarla gösterilen yerlerden hangi ikisi arasında yerel saat farkı daha fazladır?

- A) I ve II. B) I ve IV.
C) II ve III. D) III ve IV.

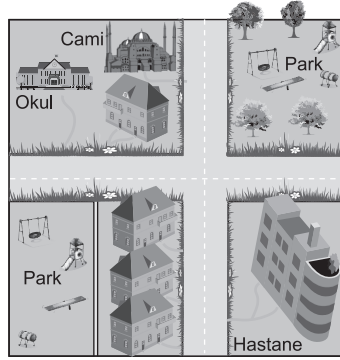
7.



Harita üzerinde numaralar ile gösterilen yerlerin hangisi 42° kuzey paraleli ile 26° doğu meridyenin kesiştiği noktaya daha yakındır?

- A) I B) II C) III D) IV

8. Aşağıda bir alanın kabataslak (ölçeksiz) çizimi gösterilmiştir.



Bu tür çizimlere ne denir?

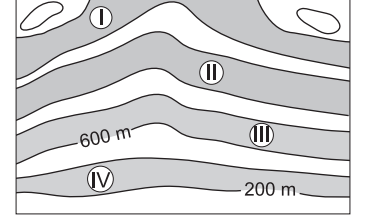
- A) Plan B) Harita
C) Kroki D) Atlas

9. Yeryüzünde bulunan doğal unsurlar ve beşeri yapılar haritalara aktarıırken noktasal, çizgisel ve alansal olmak üzere üç çeşit yöntemle gösterilir.

Buna göre aşağıdaki doğal unsurlardan hangisi haritalarda çizgisel yöntemle gösterilir?

- A) Göller B) Platolar
C) Ormanlar D) Akarsular

10. Renklendirme yöntemiyle çizilen fiziki haritalarda 0 – 500 metre arasındaki yüksekliğe kadar olan yerler yeşil renk ile gösterilir.



Yukarıdaki izohips haritası renklendirme yöntemiyle çizilirse numaralandırılarak gösterilen taranmış alanların hangisi yeşil renkle gösterilir?

- A) I B) II C) III D) IV

11. Aşağıda iki farklı Türkiye haritasında Ankara ve Mersin arasındaki uzaklık gösterilmiştir.

	Ankara – Mersin arası uzaklık
I. harita	32,2 cm
II. harita	24,1 cm

Ankara ile Mersin arasındaki gerçek uzaklık değişmediği halde haritalarda bu mesafenin farklı olmasının nedeni aşağıdakilerden hangisidir?

- A) Harita çizim yöntemlerinin farklılığı
B) Haritaların kullanım amaçlarının değişmesi
C) Haritaların küçültme oranlarının değişmesi
D) Haritaları çizen kişi ve kurumların farklılığı

12. Aşağıdakilerden hangisi dünyanın günlük hareketi sonucunda gerçekleşir?

- A) Mevsimlerin oluşması
B) Muson rüzgârlarının oluşması
C) Yerel saat farklarının oluşması
D) Matematik iklim kuşaklarının oluşması

13. Ekvatordan kutuplara doğru gidildikçe aşağıdakilerden hangisinde bir azalma meydana gelmez?

- A) Sıcaklık
B) Gölge boyları
C) Kalıcı kar alt sınırı
D) Denizlerdeki tuzluluk oranı

14. Türkiye'de aşağıdaki tarihlerin hangisinde gündüz süresi daha uzundur?

- A) 23 Eylül B) 21 Aralık
C) 21 Haziran D) 21 Mart

1. OTURUM

15. Yeryüzü ile temas eden ve içeri-
sinde hava olayları gerçekleşen
atmosfer katmanını aşağıdakilerden
hangisidir?

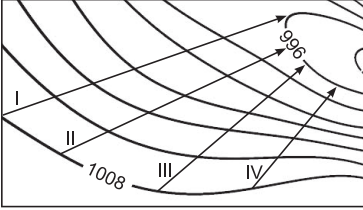
A) Ekzosfer B) Mezosfer
C) Troposfer D) Termosfer

16. Belirli bir yerde kısa süreli meydana
gelen hava olaylarına hava durumu
denir.

**Buna göre aşağıdaki ifadelerin
hangisinde hava durumundan söz
edilmektedir?**

A) Ankara'da Ocak ayı soğuk geçer.
B) Antalya'da yaz mevsimi kurak
geçer.
C) Ağrı'da kış mevsimi genellikle kar
yağışlıdır.
D) Giresun'da bugün öğleden sonra
hava güneşli olacak.

17. Aşağıda bir bölgenin izobar (eş basınç)
haritası verilmiştir.



Yüksek basınç merkezi ile alçak
basınç merkezi arasındaki uzaklık
arttıkça rüzgârın hızı azalır.

**Buna göre izobar haritası üzerinde
numaralandırılmış oklar yönünde
eseyen rüzgârlardan hangisinin hızı-
nın daha az olması beklenir?**

A) I B) II C) III D) IV

18. Aşağıdaki iklim tiplerinden hangisi
Türkiye'de görülmez?

A) Akdeniz B) Karadeniz
C) Karasal D) Tropikal

19. Yıllık bulutluluk oranı fazla olan yerde
güneşlenme süresi azdır.

**Buna göre aşağıda verilen illerden
hangisinin güneşlenme süresi di-
ğerlerine göre daha azdır?**

A) Konya B) Rize
C) Mardin D) Mersin

20. Türkiye'nin kıyı kesimlerinde günlük
sıcaklık farkı iç kesimlerine göre
daha azdır.

**Bu durumun temel nedeni aşağı-
dakilerden hangisidir?**

A) Enlem
B) Nemlilik
C) Toprak özellikleri
D) Kayaç özellikleri

(155) SEÇ. COĞRAFYA – 1

1. I. Bir bölgedeki genlerin, türlerin,
ekosistemlerin, ekolojik olayların
oluşturduğu bütündür.
II. Bitki ve hayvan topluluklarının
yaşadıkları ortamdır.

Numaralandırılarak verilen tanımların karşılığı aşağıdakilerden hangisinde doğru verilmiştir?

I II
A) Milli park Habitat
B) Habitat Adaptasyon
C) Biyoçeşitlilik Milli park
D) Biyoçeşitlilik Habitat

2. Bitkilerin gelişmesi ve büyümesi için
belirli bir sıcaklığa ve yağışa ihtiyaç
vardır. Bu nedenle sıcaklık ve yağış
bitki çeşitliliği ve bunların yayılış alanı
üzerinde etkilidir.

**Yukarıda bitkilerin gelişmesi ve
büyümesi üzerinde etkili olan fak-
törlerden hangisinin öneminden
söz edilmiştir?**

A) Toprak özellikleri
B) Yer şekilleri
C) İklim özellikleri
D) Su kaynakları

3. Benzer bitki ve hayvan türlerini bar-
dıran bölgelere biyom denir. Her
biyomun kendine özgü iklim, bitki ve
hayvan türleri vardır.

**Buna göre biyomlar ile ilgili aşağı-
daki ifadelerden hangisi yanlıştır?**

A) Her biyomun kendine has bitki
türleri bulunur.
B) Tatlı su biyomları okyanus ekosis-
teminde yer alır.
C) Aynı biyom içerisinde benzer hay-
van türleri bulunur.
D) İklim özellikleri benzer olan
bölgeler aynı biyom içerisinde yer
alır.

4. Suyun sıvı halden sıcaklığın etki-
siyle gaz haline dönüşmesi olayıdır.
Yeryüzündeki su kaynakları bu olay
sayesinde atmosferde nem oluşma-
sını sağlar.

**Yukarıda su döngüsünün hangi
aşamasından söz edilmiştir?**

A) Buharlaşıma B) Yağış
C) Yoğuşma D) Yüzey akışı

5. Aşağıdakilerden hangisi dünyanın
en fazla nüfusa sahip ülkesidir?

A) Fas B) Çin
C) Japonya D) Pakistan

6. • Endonezya'da daha az çocuk
sahibi olmayı teşvik eden nüfus
politikaları uygulanmaktadır.
• Fransa 1995 yılında başlattığı
nüfus politikası ile ailelerin daha
fazla çocuk sahibi olmalarını teş-
vik etmektedir.

**Buna göre Fransa ve Endonezya
karşılaştırıldığında aşağıdakiler-
den hangisi söylenebilir?**

A) Fransa'nın genç nüfus oranı daha
azdır.
B) Endonezya'nın nüfus artış hızı
daha azdır.
C) Fransa'nın toplam nüfusu daha
fazladır.
D) Endonezya daha fazla göç almak-
tadır.

7. Aşağıdakilerden hangisi liman
şehri değildir?

A) Marsilya B) Hamburg
C) Moskova D) Amsterdam

8. I. Fırat
II. Amazon
III. İndus

**Yukarıdakilerden hangileri çev-
resinde ilk şehirlerin kurulduğu
akarsulardandır?**

A) Yalnız I. B) Yalnız II.
C) I ve II. D) I ve III.

9. Mal ve hizmetlerin imal edilmesi
veya oluşturulması için yapılan
ekonomik etkinliklere ne denir?

A) Üretim B) Dağıtım
C) Turizm D) Ticaret

10. Çay, şekerpancarı gibi çabuk bozu-
labilen ham maddeleri işleyen sanayi
tesisleri ham madde kaynağına yakın
yerlere kurulmaktadır.

**Buna göre aşağıdaki sanayi kolla-
rından hangisinin yer seçiminde
ham madde kaynaklarına yakınlık
daha çok dikkate alınır?**

A) Otomotiv B) Beyaz eşya
C) Demir-çelik D) Gıda

11. İnsanlar tarafından yapılan etkinlikle-
rin tümüne beşeri faaliyetler denir.

**Buna göre aşağıdakilerden
hangisi üretim, dağıtım ve tüketim
faaliyetlerini etkileyen beşeri
faktörlerden biridir?**

A) Su kaynakları
B) Ulaşım yolları
C) İklim koşulları
D) Yer şekilleri

1. OTURUM

12. Aşağıdaki ülkelerden hangisi doğal kaynak bakımından zengin olmasına rağmen yeterince gelişmemiştir?

- A) Nijerya B) Almanya
C) Japonya D) Güney Kore

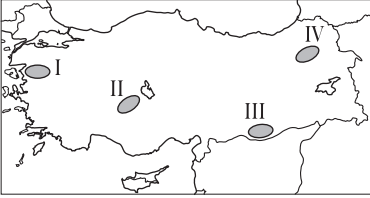
13. Aşağıdakilerden hangisi Türkiye topraklarının ev sahipliği yaptığı medeniyetlerden biri değildir?

- A) Hitit B) Urartu
C) Maya D) Frigya

14. Aşağıda verilen tarım ürünlerinden hangisinin üretimi devlet kontrolü altındadır?

- A) Arpa B) Haşhaş
C) Pamuk D) Mısır

15. Türkiye’de büyükbaş hayvancılık, yaz aylarının serin ve yağışlı geçtiği, gür çayır ve otlakların bulunduğu yerlerde yaygın olarak yapılmaktadır.



Buna göre harita üzerinde numaralandırılmış yerlerin hangisinde büyükbaş hayvancılık daha yaygındır?

- A) I B) II C) III D) IV

16. • Elektrik-elektronik sanayisinde kullanılır.
• Elektrik iletme özelliği bulunan yumuşak bir metaldir.
• Mutfak eşyası ve süs eşyası yapımında da kullanılmaktadır.
• Murgul (Artvin) çıkartıldığı ve işlendiği yerlerdendir.

Yukarıdaki bazı özellikler verilen maden hangisidir?

- A) Bakır B) Demir
C) Krom D) Fosfat

17. Sıcak su kaynaklarından elde edilen enerjiye jeotermal enerji denir.

Türkiye’nin jeotermal enerji potansiyelinin yüksek olmasının nedeni aşağıdakilerden hangisidir?

- A) İklim koşulları
B) Jeolojik yapısı
C) Ortalama yükselti
D) Bitki örtüsü

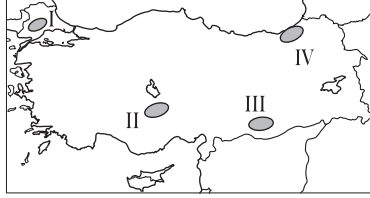
18. Türkiye’de aşağıdaki sanayi kollarından hangisi daha yaygındır?

- A) Çay B) Otomotiv
C) Unlu gıda D) Demir çelik

19. Hamitabad (Kırklareli) termik santurali aşağıdaki enerji kaynaklarından hangisini kullanarak elektrik üretmektedir?

- A) Linyit B) Petrol
C) Doğalgaz D) Taş kömürü

20. Heyelan, yer şekillerinin engebeli ve yağış miktarının fazla olduğu yerlerde daha kolay meydana gelir.



Buna göre harita üzerinde numaralandırılarak verilen yerlerin hangisinde heyelan oluşma ihtimali daha fazladır?

- A) I B) II C) III D) IV

(157) SEÇ. COĞRAFYA – 3

1. Yeryüzünde günlük sıcaklık farkının en az olduğu yerler Ekvator çevreleri iken, çöller gece gündüz arasında sıcaklık farklarının en fazla görüldüğü yerlerdir.

Buna sebep olan temel faktör aşağıdakilerden hangisidir?

- A) Bakı şartları B) Yükselti farkı
C) Nem oranı D) Toprak çeşidi

2. Aşağıdakilerden hangisi aşırı yağışların sonuçlarından biri değildir?

- A) Akarsuların yataklarından taşması
B) Hidroelektrik üretiminin düşmesi
C) Kirli suların temiz sulara karışması
D) Altyapı ve üstyapının zarar görmesi

3. Bilim insanları, yaptıkları araştırmalar sonucunda insan faaliyetlerine bağlı olarak atmosferdeki karbondioksit artışının dünyamızda sıcaklık ortalamalarını düzenli şekilde artırdığını, bunun da küresel iklim değişimine yol açtığını belirtmiştir. Bu durumda gıda üretiminin azalacağını, önlem alınmazsa bunun kitlesel canlı ölümlerine neden olabileceğini düşündüklerinden bazı çözüm önerileri sunmuşlardır.

Aşağıdakilerden hangisi bu önerilerden biri olamaz?

- A) Sanayi faaliyetlerine son vermek
B) Yenilenebilir kaynaklara yönelmek
C) Geri dönüşüm uygulamalarını arttırmak
D) Dünya ormanlarını koruyup genişletmek

4. I. El sanatlarının gelişmesi
II. Verimli toprakların bulunması
III. Suya erişebilirlik

Verilenlerden hangileri ilk medeniyetlerin akarsu boylarında gelişmesine neden olmuştur?

- A) Yalnız I. B) Yalnız II.
C) I ve II. D) II ve III.

5. Fırat ve Dicle nehirlerinin arasında kalan bölgeye Mezopotamya denir.

Buna göre aşağıdakilerden hangisi Mezopotamya’da yaşamış medeniyetlerden biridir?

- A) İnka B) Maya
C) Sümer D) Mısır

6. Asya kıtasında Ganj ve İndus nehirleri kıyılarında kurulan Hint medeniyetinin temel besini olan ve günümüzde de o bölgede yaşayan insanlar için önemini koruyan tarım ürünü aşağıdakilerden hangisidir?

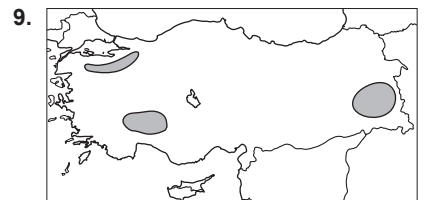
- A) Pamuk B) Pirinç
C) Zeytin D) İncir

7. Aşağıdakilerden hangisi sanayileşen bir ülkede gözlemlenen bir durum değildir?

- A) Kentlerde nüfus yoğunluğunun artması
B) Sosyal ve kültürel yapının değişmesi
C) Hizmet sektörünün gerilemeye başlaması
D) Kentlerde çalışanların gelirlerinin artması

8. Aşağıdakilerden hangisi küresel ekonominin gelecekte karşılaşılabileceği durumlardan biridir?

- A) İş alanları azalıp gelirler düşecektir.
B) Teknoloji, üretim ve ticareti kolaylaştıracaktır.
C) İnsanların temel ihtiyaçları pahalılaşacaktır.
D) Üretim yavaşlayıp ürün kalitesi azalacaktır.



Türkiye haritasında taranarak verilen üç alan aşağıdaki bölge türlerinden hangisinin içerisinde yer alır?

- A) Göller bölgesi
B) Maden bölgesi
C) Plato bölgesi
D) Sanayi bölgesi

1. OTURUM

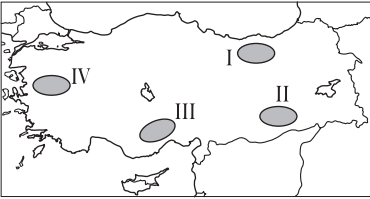
10. Bir ülkedeki ulaşım yollarının sıklığı ve kalitesi, o ülkenin gelişmişlik ve refah düzeyinin göstergesidir.

Verilen bilgiye dayanarak aşağıdaki çıkarımlardan hangisi yapılamaz?

- A) Kaliteli yol yapımı pahalı bir yatırımdır.
B) Yol yapımı teknolojik bilgi ve birikim ister.
C) Ekonomi ve ticaret geliştikçe yol ağıda gelişir.
D) Ülkeler arası ticarete hava yolu daha çok kullanılır.
11. Türkiye, geçmişten günümüze kadar önemli yolların kesiştiği yer olma özelliği kazanmıştır. Bu nedenle kıtalar arasında kara yolu, demir yolu, deniz yolu, hava yolu ve enerji taşımacılığında merkez konumundadır. **Ülkemizin hangi özelliği bu duruma etki eden en önemli faktördür?**

- A) Yer şekilleri
B) Coğrafi konumu
C) İklim özellikleri
D) Nüfus yoğunluğu
12. Yeryüzü şekilleri engebeli ve dağlık oldukça kara ve demiryolu yapımı zorlaşmakta, yol yapım maliyetleri artmaktadır. **Buna göre aşağıda verilen yerlerin hangisinde yeryüzü şekilleri yol yapımı için diğerlerine göre daha uygun özelliklere sahiptir?**

- A) İç Anadolu
B) Doğu Anadolu
C) Karadeniz
D) Akdeniz
13. Kalkanlı, Doğu Anadolu'yu Trabzon'a bağlayan geçittir.



Buna göre Kalkanlı Geçidi haritada kaç numaralı yerdedir?

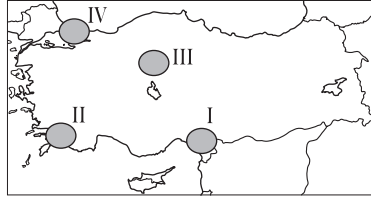
- A) I B) II C) III D) IV
14. Türkiye'deki demiryollarıyla ilgili aşağıda verilen genel bilgilerden hangisi yanlıştır?
- A) Demiryolu hatlarının genel uzanışı doğu - batı yönlüdür.
B) Yer şekilleri demiryolu yapım maliyetini yükseltmektedir.
C) 1950'lerden sonra demiryolu yapımı hız kazanmıştır.
D) Çeşitli maden ve tarım ürünlerinin taşınmasında da yararlanılır.

15. **Aşağıdaki illerimizin hangisinde havalimanı yoktur?**

A) İzmir B) Mardin
C) Erzurum D) Artvin

16. • Coğrafi konumu
• Nüfusunun yoğun olması
• Ekonomik etkinliklerin gelişmiş olması

Yukarıda belirtilen özellikler haritada numaralandırılarak verilen yerlerin hangisinde ulaşım sistemlerinin daha çok gelişmesini sağlamıştır?



A) I B) II C) III D) IV

17. **Aşağıdakilerden hangisi bir malın veya hizmetin ticari başarısını etkileyen en önemli vafıdır?**

A) Bol miktarda üretilmesi
B) Kaliteli ve ucuz olması
C) Geri dönüşüme uygun olması
D) Üretimini el emeğine dayanması

18. **Dünya genelinde turizm sektörünün gelişmesinde aşağıdakilerden hangisi daha az etkili olmuştur?**

A) Ulaşım hizmetlerinin artması
B) Reklam sektörünün gelişmesi
C) İnsanların gelir düzeyinin artması
D) Konaklama tesislerinin çoğalması

19. **Turistik gezi için Güneydoğu Anadolu'yu planlayan birinin aşağıdaki yerlerden hangisini gezmesi beklenemez?**

A) Balıklı gölü
B) Harran evlerini
C) Aspandos Tiyatrosunu
D) Nemrut Dağı heykellerini

20. **Aşağıdakilerden hangisi 1980'lerden sonra ülkemizde turizm sektörünün geliştiğinin doğrudan kanıtı değildir?**

A) Otel sayısının artması
B) Turist sayısının artması
C) Turizm gelirlerinin artması
D) Çevreye verilen önemin artması

(181) İNGİLİZCE - 1

1-19. sorularda boş bırakılan yere uygun gelen kelime ya da ifadeyi işaretleyiniz.

1. **Emma** : Hi, what is your name?
James : Hi, - - - -.

A) fine thanks
B) my name is James
C) I am from London
D) I am fifteen years old

2. **George** : - - - -?
Elaine : I am twelve years old.

A) How are you
B) How old are you
C) Where are you from
D) What is your occupation

3. **Mel** : How many brothers do you have?
Tim : I - - - - two brothers.

A) is B) are
C) has got D) have got

4. **Steve** : What - - - - is Robert?
Carol : He is English.

A) movies B) country
C) nationality D) occupation

5. - - - - sisters have you got?

A) Do B) Does
C) How much D) How many

6. **Edward** : - - - - ?
Andrea : She is medium height and slim.

A) How old is Julia
B) What does Bella look like
C) Is Olivia a teacher
D) Has Heidi got long dark hair

7. **Richard** : Excuse me! - - - -?

Jackson : Go ahead about 200 metres and turn left; it is on your left.

A) How can I get to the police station
B) How many brothers do you have
C) What do you have in your bag
D) What are you going to do

8. **Amanda is - - - - student in the class.**

A) as hardworking as
B) hardworking than
C) more hardworking
D) the most hardworking

1. OTURUM

9. A cheetah is - - - - an elephant.

- A) fast B) faster
C) faster than D) the fastest

10. My grades from English are - - - - the ones from History.

- A) good B) better than
C) better D) the best

11.



The cat is - - - - the box.

- A) in B) next
C) under D) in front of

12.



The girl is - - - - the tree.

- A) on B) under
C) behind D) between

13. Tina : - - - - ?

Anna : My favourite movie is Star Wars series.

- A) What's your favourite movie
B) How do you go to the cinema
C) How many movies do you have
D) What are your leisure time activities

14. Thomas : - - - - ?

Nicole : I prefer comedy movies. I think they are fun.

- A) How can we go to the cinema
B) Do you invite your friends to your party
C) What can we learn from a documentary
D) Do you prefer to watch comedy or action movies

15. - - - - about getting a cup of coffee?

- A) Why B) How
C) Where D) Which

16. Darren : Why don't we play football after school?

Melinda : Of course, - - - - .

- A) I'm too busy today
B) I have another plan
C) I would love to do that
D) I'm sorry but I can't

17. Catherina enjoys - - - - in the sea.

- A) swim B) swam
C) swims D) swimming

18.



It is - - - - .

- A) half past ten
B) ten past eleven
C) quarter to eleven
D) ten past five

19. Susan : - - - - ?

Sally : At seven o'clock.

- A) What time do you get up
B) What kind of films does Amy like
C) Where do you have your breakfast
D) How often do you brush your teeth

20.

Countries	Nationalities
France	French
(I)	Italian
Germany	(II)

Tabloda (I) ve (II) ile gösterilen boşluklara gelebilecek olan ifadeleri işaretleyiniz.

- | | I | II |
|----|---------|---------|
| A) | Egypt | Dutch |
| B) | Italy | German |
| C) | Spain | Russian |
| D) | Albania | Finnish |

(181) ALMANCA – 1

1 - 20. sorularda boş bırakılan yere uygun gelen ek, kelime ya da ifadeyi işaretleyiniz.

1. A: - - - - kommt Hasan nach Hause?
B: Um 13 Uhr.

- A) Wann B) Wo
C) Wie D) Wer

2. A: - - - - heißt sein Vater?
B: Turgut.

- A) Wer B) Was
C) Wo D) Wie

3. A: - - - - ist dein Fahrrad?
B: Es ist zu Hause.

- A) Wie B) Wo
C) Was D) Wer

4. A: Hast du - - - - angerufen?
B: Ja, ich habe - - - - angerufen.

- A) mir / dir B) mich / dich
C) mein / dein D) ich / dich

5. A: - - - - die Schüler heute krank?
B: Ja.

- A) Sind B) Ist
C) Hat D) Haben

6.



A: Wo ist das Kind?
B: Das Kind ist - - - - Auto.

- A) neben B) im
C) unter D) in

7.



Das ist eine - - - - .

- A) Heft B) Brief
C) Buch D) Zeitung

8. A: - - - - Sie einen Hund oder eine Katze?

B: Ich - - - - eine Katze.

- A) Habe / habe
B) Habe / haben
C) Haben / habe
D) Hast / hat

9. A: - - - - lebt in Italien?

B: Marco.

- A) Wo B) Wann
C) Wer D) Wie

10. A: - - - - machst du?

B: Ich trinke Milch.

- A) Wer B) Wie
C) Wo D) Was

1. OTURUM

11. **A:** - - - - Ali gestern Tennis gespielt?
B: Nein.
- A) Habe B) Hat
C) Hast D) Haben
12. **A:** Kaufst du die Schuhe?
B: Ja, ich kaufe - - - - .
- A) er B) der
C) sie D) es
13. **A:** - - - - du in Ankara geboren?
B: Nein, ich - - - - in Kırşehir geboren.
- A) Bist / bin B) Ist / bist
C) Bin / bist D) Ist / ist
14. **Das ist Mustafa und - - - - Schwester Yasemin.**
- A) ihre B) ihr
C) sein D) seine
15. **A:** - - - - ist es?
B: Es ist elf Uhr.
- A) Was B) Wie spät
C) Warum D) Wie lange
16. **Lehrer :** Hallo liebe Schüler! Was - - - - ihr später werden?
Schüler: Wir - - - - Arzt werden.
- A) will / willst
B) wollen / will
C) wollen / wollen
D) wollt / wollen
17. **A:** - - - - gehören die Buntstifte?
B: Sie gehören Melis.
- A) Wem B) Wer
C) Wann D) Warum
18. **Ahmet lernt viel, - - - - sein Vater Lehrer ist.**
- A) denn B) weil
C) ob D) damit
- 19.



A: Wo sind die Schuhe?
B: Sie sind - - - - dem Schrank.

A) in B) über
C) neben D) unter

20. **Hasan - - - - kein neues Fahrrad.**
- A) hat B) bist
C) sind D) ist

(181) FRANSIZCA – 1

1 – 16. sorularda boş bırakılan yere uygun gelen sözcük veya ifadeyi işaretleyiniz.

1. - - - - a 75 ans.

A) Tu B) Nous
C) Vous D) Il

2. Êtes- - - - français ?

A) nous B) vous
C) elles D) ils

3. L'été dernier, elles sont - - - - en Italie.

A) allés B) allées
C) aller D) allez

4. Ils - - - - sortis du cinéma à 14 heures.

A) sont B) est
C) avons D) ont

5. Suna s'est - - - - les mains.

A) se laver B) laver
C) lavé D) lavez

6. **Paul :** Combien mesures-tu ?
Anne : - - - - .

A) 75 kilos B) 17 ans
C) 1m.70 D) en 2017

7. **Nicole :** Connais-tu le père de Paul ?
Sylvie : Non, je ne - - - - connais pas.

A) le B) la C) les D) leur

8. **Mme. Dupont :** Voulez-vous encore du thé ?

M. Gautier : Non, je ne veux - - - - de thé.

A) quelqu'un
B) personne
C) quelque chose
D) plus

9. **Les Dumont ont visité - - - - .**

A) sa carte d'identité
B) les informations à la radio
C) des escarpins marron
D) la tour de Galata

10. **Marc :** Comment est - - - - ?
Aydan : Elle est large.

A) la boîte
B) le tee-shirt rouge
C) les taxis
D) le pantalon

11. **Jean :** À quoi sert un piano ?
Hülya : Ça sert à - - - - .

A) enfoncer un clou
B) écrire à l'ordinateur
C) faire de la musique
D) faire la cuisine

12. **Alain :** - - - - est le drapeau turc ?
Nevin : Il est rouge et blanc.

A) En quoi
B) Quelle
C) À quoi
D) De quelle couleur

13. **Le film Titanic a gagné - - - - en 1998.**

A) des plats régionaux
B) onze oscars
C) six journaux originaux
D) un bijou merveilleux

14. **Pierre :** Tu attends quelqu'un ?
Janine : Non, je n'attends - - - - .

A) jamais B) aucun
C) rien D) personne

15. **Il a neigé - - - - la semaine à Ağrı.**

A) tout B) chaque
C) toute D) tous

16. **S'il faisait chaud, j'- - - - à la piscine.**

A) irais B) iront
C) allons D) allez

17. "Avoir" eyleminin "participe passé" si hangi seçenekte verilmiştir ?

A) eu B) été C) pris D) lu

18. **Cümleler sırasıyla okunduğunda anlam bütünlüğünü bozan cümleyi bulunuz.**

(I) Le saxophone est un instrument de musique. (II) Ça sert à faire la cuisine. (III) C'est en cuivre, c'est doré ou argenté. (IV) On l'utilise beaucoup pour jouer du jazz.

A) I B) II C) III D) IV

1. OTURUM

19 -20. sorularda verilen resme göre doğru ifadenin bulunduğu seçeneği işaretleyiniz.

19.



- A) Elle a les cheveux frisés et elle porte un foulard.
B) Elle a de grandes oreilles et elle porte un chapeau de paille.
C) Elle a les cheveux longs et elle porte des lunettes.
D) Elle porte des bracelets et elle a les lèvres épaisses.

20.



- A) Il est blond et il a de grandes dents.
B) Il a de petites lunettes et il est musclé.
C) Il a les cheveux courts et il porte une casquette.
D) Il est chauve et il a une moustache et de la barbe.

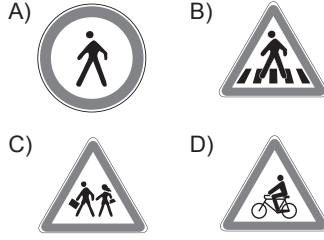
(222) SAĞ. BİL. VE TRAFİK KÜLTÜRÜ – 2

1. Toplumda bulunan insanların trafik ortamında birbirlerine karşı olan tutum ve davranışlarına - - - - denir. Verilen cümlede boş bırakılan yere aşağıdakilerden hangisi yazılmıştır?
- A) trafik adabı
B) trafik kazası
C) trafik cezası
D) trafik kuralları
2. Bireyin aşağıdaki değerlerden hangisine sahip olması trafik ortamındaki iletişimi olumlu etkiler?
- A) Öfke
B) Empati
C) Sabırsızlık
D) Yıkıcı konuşma üslubu

3. Toplu taşıma araçlarında yolculuğun emniyetli ve huzurlu geçmesi için aşağıdakilerden hangisi yapılmalıdır?

- A) Yüksek sesle sohbet edilmeli
B) Kapılara ani ve hızlı hareket edilmeli
C) Çevredekilerin kişisel alanlarına saygı gösterilmeli
D) Durakta inmeyecek olan yolcular kapı önünü işgal etmeli

4. Aşağıdaki trafik işaretlerinden hangisi bir yasaklama veya sınırlama belirtir?



5. Aşağıdakilerden hangisi trafik işaret ve levhalarının özelliklerinden biri değildir?

- A) Yol ve çevre hakkında bilgi vermesi
B) Trafiğin düzenli akmasını sağlaması
C) Sürücü, yaya ve yolcuların ortak dili olması
D) Yolculuk süresini uzatması ve can sıkıcı hâle getirmesi

6. Aşağıdakilerden hangisi kara yolunda uyulması gereken şerit takip kurallarındandır?

- A) Gidişe ayrılan yol bölümünün en sol şeridini sürekli işgal etmek
B) Bölümlü yollarda karşı yöndeki trafik için ayrılan yol bölümüne girmek
C) Trafiği aksatmayacak veya tehlikeye düşürmeyecek şekilde şerit değiştirmek
D) Geçme, dönme, durma ve park etme gibi mecburi hâller dışında şerit değiştirmek

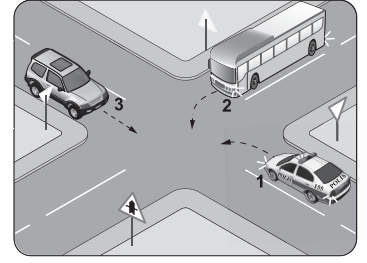
7. Aşağıdakilerden hangisi trafiğin düzenlenmesinde diğerlerine göre önceliğe sahiptir?

- A) Yol çizgileri
B) Trafik görevlisi
C) Trafik ışıkları
D) Trafik levhaları

8. Aksine bir işaret yoksa erişme kontrollü kara yollarında otobüs için azami hız sınırı saatte kaç kilometredir?

- A) 50 B) 70 C) 90 D) 100

9.



Şekildeki kavşakta geçiş hakkı sıralaması nasıl olmalıdır?

- A) 1 - 2 - 3 B) 1 - 3 - 2
C) 2 - 1 - 3 D) 3 - 2 - 1

10. Daha güvenli bir trafik ortamının oluşturulabilmesi aşağıdakilerden hangisi ile mümkün olur?

- A) Trafik cezalarının artırılması
B) Trafik ortamında hata yapanların öfkeyle uyarılması
C) İnsanların trafik kurallarını bir yaşam biçimi olarak benimsemesi
D) Bireylerin daha konforlu araçlarla seyahat etmelerinin sağlanması

11. Aşağıdakilerden hangisi Millî Eğitim Bakanlığının trafikle ilgili görev ve yetkilerinden biri değildir?

- A) Motorlu araç sürücülerinin yetiştirilmesi amacıyla sürücü kursları açmak
B) Okullarında ders programlarına eğitim amacıyla trafik ve ilk yardım derslerini koymak
C) Çocuk trafik eğitim parklarının yapılma, açılma, eğitim ve çalışma esaslarını belirlemek
D) Kara yollarında meydana gelen kaza nedenlerini araştırmak ve gerekli tedbirleri almak

12. İlk defa sürücü belgesi alanlar, belgenin alındığı tarihten itibaren kaç yıl süreyle "aday sürücü" olarak kabul edilir?

- A) 1 B) 2 C) 3 D) 4

13. I. Yaş
II. Sınava
III. Öğrenim

Verilenlerden hangileri sürücü adaylarında aranan şartlardandır?

- A) Yalnız I. B) I ve II.
C) II ve III. D) I, II ve III.

1. OTURUM

14. I. Zorunlu trafik sigortası olmayan araçlar, tespit edildikleri anda trafikten çekilir.
II. Zorunlu trafik sigortası, araç sahibinin kendi zararlarının tamamını karşılar.

Zorunlu trafik sigortasıyla ilgili verilenler için ne söylenebilir?

- A) I. doğru, II. yanlış
B) I. yanlış, II. doğru
C) Her ikisi de doğru
D) Her ikisi de yanlış
15. Kara yolunda bir otomobilin içinde veya toplu taşıma araçlarında yolculuğun güven içinde devam etmesi öncelikle kimin sorumluluğundadır?
- A) Yayanın
B) Yolcunun
C) Sürücünün
D) Trafik görevlisinin
16. Aşağıdakilerden hangisi raylı sistemlerde güvenli yolculuk için yapılması gerekenlerdendir?
- A) Tren tamamen durmadan kapıların açılması
B) Peronlarda, emniyet çizgilerinin içinde beklenmesi
C) Koridor ve ara geçiş kapılarının önünde beklenmesi
D) Raylı sistem taşıtlarını kullanırken inmek isteyenlerden önce binilmesi
17. İstatistiklere göre aşağıdakilerden hangisi trafik kazalarında kusur oranları içinde **en büyük** paya sahiptir?
- A) Yol
B) Araç
C) Çevre
D) İnsan
18. Aşağıdakilerden hangisi trafik kazalarına neden olan faktörlerden çevre ve iklim koşulları içinde yer alır?
- A) Yolun buzlanması
B) Yolun geometrik durumu
C) Yüksek hızda araç kullanılması
D) Araç fren sisteminin arızalanması
19. I. Kaza mağduru bireyler sosyal hayattan uzaklaşmaktadır.
II. Trafik kazalarının getirdiği külfet, kişi başına düşen millî geliri olumlu yönde etkiler.
III. Trafik kazası yaşayan bireyler, kaza sonrası güvensizlik, içe kapanma, bunalım, korku gibi psikolojik rahatsızlıklar yaşamaktadır.
- Verilenlerden hangileri trafik kazalarının sonuçlarındandır?**
- A) Yalnız I.
B) I ve III.
C) II ve III.
D) I, II ve III.

20. Aşağıdakilerden hangisi trafiğin çevreye verdiği zararları **en aza indirmek için alınacak önlemlerden biri değildir?**

- A) Toplu taşıma araçlarının kullanılması
B) Araç bakımlarının zamanında yaptırılması
C) Araçlarda kalitesiz yakıtların kullanılması
D) Kısa mesafelerde, yürüyerek gitmenin alışkanlık hâline getirilmesi

(244) İNGİLİZCE – 5

1-20. sorularda boş bırakılan yere uygun gelen kelime ya da ifadeyi işaretleyiniz.

1. I haven't seen Arda - - - - two years.
- A) for
B) ever
C) since
D) never
2. They - - - - a picnic when the rain started.
- A) has
B) having
C) to have
D) were having
3. What - - - - Ahmet doing yesterday morning?
- A) did
B) was
C) will
D) have
4. - - - - I was sleeping, the phone rang.
- A) While
B) Before
C) Since
D) After
5. We went to a rock concert and listened to great songs - - - -.
- A) next Friday
B) tomorrow
C) last week
D) soon
6. Max : - - - -?
Ali : For five years.
- A) Did you use to live in Ankara
B) How long have you been a teacher
C) What were you doing last night
D) Have you seen your uncle
7. Sinan has been married since - - - -.
- A) two days
B) five weeks
C) next month
D) last weekend
8. My brother has - - - - the living room.
- A) listened
B) eaten
C) cleaned
D) talked

9. When I was a child, my father - - - - tell stories.

- A) used to
B) have to
C) should
D) must

10. There used to - - - - a cinema in the city ten years ago.

- A) be
B) fly
C) play
D) wake

11. I didn't use to - - - - a car when I was 20 years old.

- A) cry
B) tell
C) wear
D) drive

12. Martha : Where is your brother? He is late.

Joanna: I think he - - - - in two minutes.

- A) came
B) will come
C) come
D) has been coming

13. I will visit my friend in Antalya - - - -.

- A) next year
B) last year
C) now
D) ago

14. Adam : I don't know how to use this computer.

William: I will - - - -, don't worry!

- A) have a long holiday
B) be a doctor
C) teach you
D) carry it

15. I - - - - check my e-mails in two minutes.

- A) does
B) has
C) will
D) did

16. You never drink coffee, - - - -?

- A) didn't you
B) hasn't you
C) will you
D) do you

17. Özgür goes to school everyday, - - - -?

- A) is he
B) does he
C) isn't he
D) doesn't he

18. You went on a holiday last year, - - - -?

- A) haven't you
B) didn't you
C) have you
D) did you

1. OTURUM

19. **İstanbul is - - - - city in Türkiye**
There are more people in İstanbul than other cities.

- A) the most crowded
- B) more crowded
- C) so crowded
- D) crowded than

20. **This car is - - - - than that one.**

- A) earlier
- B) richer
- C) faster
- D) healthier

(244) ALMANCA – 5

1 - 18. sorularda boş bırakılan yere uygun gelen ek, kelime ya da ifadeyi işaretleyiniz.

1. Ankara Antalya İstanbul
0° C 5° C 2° C

In Antalya ist es kalt.
In İstanbul ist es - - - - .
In Ankara ist es - - - - .

- A) warm / am wärmsten
- B) kälter / am kältesten
- C) am wärmsten / kälter
- D) am kältesten / kälter

2. **A:** Wozu sparen Sie Geld?

B: Ich spare Geld, - - - - mir eine Wohnung - - - - kaufen.

- A) um / zu
- B) damit / um
- C) zu / damit
- D) zu / um

3. **Ich lebe in Antalya, - - - - es dort schön warm ist.**

- A) dass
- B) damit
- C) weil
- D) denn

4. **Der Monat April ist im - - - - .**

- A) Herbst
- B) Winter
- C) Sommer
- D) Frühling

5. **Hasan hat jeden Dienstag - - - - 14 Uhr - - - - 16 Uhr Deutschunterricht.**

- A) um / von
- B) von / bis
- C) zu / bei
- D) bis / um

6. **Wir haben - - - - August Ramadanfest.**

- A) im
- B) bei
- C) zu
- D) um

7. **Man soll im Verkehr - - - - vorsichtig sein.**

- A) ein
- B) immer
- C) kein
- D) bis wann

8. **Ich weiß nicht, - - - - ich so müde bin.**

- A) wer
- B) womit
- C) denn
- D) warum

9. **Die - - - - Stadt der Türkei ist İstanbul.**

- A) billig
- B) schnellste
- C) größte
- D) meiste

10. **Ich bin - - - - Jahre 2000 geboren.**

- A) im
- B) um
- C) bei
- D) in

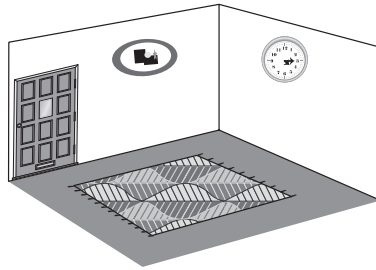
11. **- - - - Montag ist es sehr kalt in Kayseri.**

- A) Im
- B) Um
- C) Zum
- D) Seit

12. **Was - - - - Ayşe und Susanne in der Bibliothek?**

- A) machst
- B) machen
- C) sind
- D) ist

13.



A: Wo ist der Teppich ?

B: Er ist - - - - dem Boden.

- A) unter
- B) auf
- C) in
- D) über

14. **A:** - - - - hast du deiner Mutter zum Geburtstag gekauft ?

B: Ich habe ihr eine Uhr gekauft.

- A) Wer
- B) Wo
- C) Was
- D) Wie

15.



A: Wie spät ist es?

B: Es ist - - - - .

- A) halb elf
- B) Viertel vor zwölf
- C) viertel nach zwölf
- D) halb zwölf

16. **Ali nimmt seine Medikamente nicht. - - - - kann er nicht gesund werden.**

- A) Deshalb
- B) Damit
- C) Weshalb
- D) Weil

17. **A:** - - - - kochst du Mama?

B: Eine Hühnersuppe.

- A) Wie
- B) Wo
- C) Was
- D) Wer

18. **A:** Gehört dir der Hund?

B: Ja, - - - - gehört mir.

- A) sie
- B) es
- C) er
- D) ihr

19. **Welcher Monat ist im Herbst?**

- A) Oktober
- B) Dezember
- C) April
- D) Juli

20. **Kurallı bir cümle oluşturunuz.**

Izmir – in – Das Wetter – schön – ist
1 2 3 4 5

- A) 3 / 5 / 2 / 1 / 4
- B) 1 / 5 / 4 / 2 / 3
- C) 5 / 4 / 3 / 1 / 2
- D) 3 / 1 / 2 / 4 / 5

(244) FRANSIZCA – 5

1 – 19. sorularda boş bırakılan yere uygun gelen kelime ya da ifadeyi bulunuz.

1. **Anne** : Vous venez à la bibliothèque universitaire ?

Elif : Non, nous - - - - de finir nos devoirs.

- A) venez
- B) vient
- C) venons
- D) viennent

2. **Jean adore les animaux. Il veut être - - - - .**

- A) architecte
- B) vétérinaire
- C) actrice
- D) coiffeuse

3. **Mon mari et ma fille, - - - - font des exercices de français.**

- A) elle
- B) ils
- C) elles
- D) nous

4. **Philippe** : Tu prépares les dossiers du directeur ?

Valérie : Oui, je - - - - prépare.

- A) des
- B) le
- C) les
- D) du

5. **Vendeuse** : Vous faites - - - - peinture ?

Sandra : Je fais du 38.

- A) quelle
- B) parce que
- C) comment
- D) quand

1. OTURUM

6. **Léa** : As-tu une robe noire pour la soirée ?
Ela : Oui, je(j') - - - - ai une.
- A) les B) y
C) le (l') D) en
7. **A** : Tous les trains sont en retard ?
B : Non, - - - - de Paris est à l'heure.
- A) ceux B) celles
C) celui D) celle
8. **Marc** : Tu vois quelqu'un dans le jardin ?
Pelin : Non, je ne vois - - - - dans le jardin.
- A) rien B) personne
C) pas D) jamais
9. **Le vélo est - - - - rapide que la moto.**
- A) autant B) moins
C) plus de D) moins de
10. **Le berger - - - - perdu ses moutons dans la montagne.**
- A) es B) sont
C) est D) a
11. **En hiver, nous allons - - - - pour faire du ski.**
- A) à la montagne
B) au concert rock
C) à la librairie
D) au café
12. **Selon les prévisions météorologiques, - - - - il va pleuvoir à Ankara.**
- A) le week-end passé
B) demain
C) hier
D) lundi dernier
13. **Lucie** : Tu ne prends pas ton petit déjeuner à la cantine ?
Sibel : - - - -, je prends mon petit déjeuner à la cantine.
- A) Non merci B) Si
C) Oui D) Non
14. **Pendant les grandes - - - -, nous avons visité tous les châteaux de la Loire.**
- A) maisons B) mois
C) vacances D) cahiers
15. **Sylvie** : Elif va à l'école de langue ?
Sinan : Oui, elle - - - - va depuis un mois.
- A) la(l') B) le(l')
C) en D) y

16. **Tu te lèves tôt demain matin, va te coucher dans ton - - - - !**

A) lit B) table
C) cuisine D) piscine

17. **Mon fils va à l'école à vélo - - - - notre maison n'est pas loin.**

A) parce que B) pourquoi
C) quand D) pour

18. **Le week-end dernier, mon père - - - - fait du bricolage.**

A) avons B) est
C) es D) a

19. **- - - - 2011, il a reçu sa première médaille d'or - - - - Madrid.**

A) En / à B) À / en
C) Au / en D) En /aux

20. **Cümleler sırasıyla okunduğunda anlam bütünlüğünü bozan ifadeyi bulunuz.**

(I) Je me réveille à 6 heures. (II) Puis je me lave et je m'habille. (III) D'abord je me rase (IV) Ensuite je prends mon petit déjeuner.

A) I B) II
C) III D) IV

(401) DİL VE ANLATIM – 1

1. Dil, insanlara özgü bir iletişim aracıdır. Çevremizde gördüğümüz canlı varlıklar birtakım sesler çıkarır. Örneğin köpekler havlayarak, kediler miyavlayarak, atlar kişneyerek kendi aralarında anlaşır. İnsanlar ise kendi aralarında konuşarak, yazarak iletişim kurarlar.

Bu parçanın konusu aşağıdakilerden hangisidir?

A) İletişimin önemi
B) İletişim yolları
C) İletişim engelleri
D) İletişim yanlışları

2. Rasim Öğretmen dil ve anlatım dersinde "kılavuz" sözcüğünün hangi dilden dilimize geçmiş olabileceğini öğrencilere sormuş, daha sonra bu sözcüğün öz Türkçe olduğunu belirtmiştir.

Rasim Öğretmen'in verdiği bu bilgi dil bilgisinin hangi bölümünün inceleme alanına girer?

A) Köken bilim B) Biçim bilgisi
C) Anlam bilim D) Cümle bilgisi

3. • Konuşma dili, günlük yaşamda konuşulan dildir.
• Konuşma dilinde el-kol hareketleri, ses tonu ve vurgu önemsizdir.
• Konuşma dili, işitme duyumuza hitap eder.

Bu cümleler doğru-yanlış bakımından değerlendirildiğinde sıralama aşağıdakilerden hangisi olur?

A) Y – Y – Y
B) D – Y – D
C) D – D – D
D) Y – D – D

4. En güçlü iletişim - - - - ile yapılan iletişimidir.

Bu cümlede boş bırakılan yere aşağıdakilerden hangisi getirilmelidir?

A) jest ve mimik B) işaret
C) resim D) dil

5. I. Hint-Avrupa dillerini konuşan uluslar aynı soydan gelmektedir.
II. Diller arasındaki yakınlık ve benzerlik dil ailelerini oluşturmuştur.
III. Yeryüzündeki diller yapı ve köken olmak üzere iki bakımdan incelenmektedir.
IV. Türkçe, yapı bakımından tek heceli dillerdendir.

Numaralanmış cümlelerin hangilerinde bilgi yanlış yapılmıştır?

A) I ve II. B) I ve IV.
C) II ve III. D) III ve IV.

6. **Dilimizin ilk yazılı kaynağı olan Göktürk Kitabeleri Türkçenin hangi dönemine aittir?**

A) Yeni Türkçe B) Orta Türkçe
C) Eski Türkçe D) Modern Türkçe

7. **Aşağıdaki dörtlülüklerden hangisi vurgu ve tonlamaya göre diğerlerinden farklı okunur?**

A) Aşkın ateşidir sinemi yakan
Lütfuna irer mi cevriyi çeken
Kolların boynuma dolanmış iken
Seni öpmelere kıyamadım ben
B) Ala gözlerini sevdiğim dilber
Kokuya benzettim güller içinde
İnceciktir belin, hilâldir kaşın
Selviye benzettim dallar içinde
C) Hayal hayal oldu karşımda dağlar
Eşinden ayrılan ah çeker ağlar
Dökülmüş yapraklar bozulmuş
başlar
Bülbülün konuştuğu güller perişan
D) Bugün meydan günü doğuş olucu
Kötüler de geri geri durucu
Koç yiğit elinde tartar kılıcı
Kılıcı kalkanınan vuruşur bugün

1. OTURUM

8. Anlatıma duygu, düşünce, heyecan, yumuşaklık, sertlik katmak amacıyla seste yapılan değişikliktir.

Bu cümlede tanımı yapılan kavram aşağıdakilerden hangisidir?

- A) Jest B) Mimik
C) Tonlama D) Yazı dili

9. Artık demir almak günü gelmişse
I.
zamandan,
II.

Meçhule giden bir gemi kalkar bu
III. IV.
limandan.

Bu dizelerdeki altı çizili sözcüklerden hangisi büyük ünlü uyumu kuralına uymaz?

- A) I. B) II. C) III. D) IV.

10. **Aşağıdaki cümlelerin hangisinde ünlü düşmesine uğramış bir sözcük vardır?**

- A) Her gün birçok kez geçtiğim bu yol bugün bana daha bir uzun geldi.
B) Bugün, öğle yemeğinden sonra karnıma bir ağrı girdi.
C) Mahallenin sessizliğini keskin bir siren sesi bozdu.
D) Zaman, avuçlarımızın içinden kayıp gidiyor, onun kıymetini iyi bilmeliyiz.

11. Türkçe kökenli sözcüklerde ilk heceden sonra o, ö ünlüsü bulunmaz.

Aşağıdaki cümlelerin hangisinde bu kurala uymayan bir sözcük kullanılmıştır?

- A) Rıhtıma vardığında son motor kalkmak üzereydi.
B) Kullanılacak tüm malzemeleri denetlemek için gelmiş.
C) Belki ömrümün sonuna kadar böyle kalacağım.
D) O zaman, bu güzelim İstanbul'da ailece yaşadık.

12. (I) Ali ağa o gün tarlaya gitmemişti. (II) Onun yerine sabah erkenden Muhtar Osman'la konuşmak için kahveye gitti. (III) Muhtarın yanında Hasan Öğretmen'i gördü. (IV) Bunun üzerine konuşmaktan vazgeçerek imamin yanına gitmeye karar verdi.

Bu parçada numaralanmış cümlelerin hangisinde büyük harflerin kullanımıyla ilgili bir yazım yanlışı vardır?

- A) I. B) II. C) III. D) IV.

13. Belli bir tarih bildiren gün ve ay adları büyük harfle başlar.

Aşağıdakilerin hangisinde bu kurala uymamaktan kaynaklanan bir yazım yanlışı vardır?

- A) Her sene şubat tatilinde Uludağ'a gitmek bir alışkanlık oldu.
B) Takımımız haftaya pazar, ligin en kritik maçını oynayacak.
C) 12 Haziran Cuma günü öğrenciler için tatil başlayacak.
D) Arif, kasımın 21'inde mi askere gidecekti?

14. Türkçede bağlaç olan "ki" ayrı yazılır.

Aşağıdaki cümlelerin hangisinde bu kurala uyulmamıştır?

- A) Dostum bil ki tüm küskünlükler lüzumsuzdur bu dünyada.
B) Bir de baktımki sınıfta kimse kalmamış.
C) Gümrükteki memur başını kaldırıp adını sordu.
D) Konuşmaya başlamıştım ki elektrikler kesildi.

15. **Aşağıdaki birleşik sözcüklerin hangisi ses aşınması (düşmesi) yoluyla oluşmuştur?**

- A) Hanımeli B) Eskişehir
C) Zeytinyağı D) Kahvaltı

16. Etmek, olmak, eylemek, kılmak yardımcı eylemleriyle kurulan birleşik fiillerde herhangi bir ses düşmesi veya türemesi oluyorsa sözcükler bitişik yazılır.

Aşağıdakilerin hangisinde bu kurala uymamaktan kaynaklanan bir yazım yanlışı yapılmıştır?

- A) Yardım edelim de teyze kolayca karşıya geçsin.
B) Gözlüğü az önce buradaydı, nereye kayboldu?
C) Öyle bir teklifle geldik ki bu sefer reddedemeyeceksiniz.
D) Bu duruma ne kadar sabır edebiliyorum, bilmiyorum.

17. **Aşağıdaki cümlelerin hangisinde noktanın (.) kullanımı yanlıştır?**

- A) Bugün sınıf olarak Ulus'taki ilk T.B.M.M.'yi ziyaret ettik.
B) Ünlü yazar 20.12.1930'da doğmuş.
C) Prof. Dr. Halil İnalçık arkasında birçok değerli eser bırakmıştır.
D) III. Selim pek çok değişime öncülük etmiştir.

18. **Aşağıdaki cümlelerde yay ayrıla gösterilen yerlerden hangisine iki nokta (:) getirilmelidir?**

- A) Sonbahar geldi () rüzgârlar artık daha sert esmeye başladı.
B) Arkadaş () Yurduma alçakları uğratma sakın.
C) Programımızda konferans vereceğimiz üç şehir var () Balıkesir, Elazığ, Artvin.
D) Öğretmen tane tane konuşmaya başladı () belli ki önemli bir şey söyleyecekti.

19. Karadeniz'de balıkçılar teknelerine evlatlarıymış gibi bakar () Hatta onlara verdikleri isimlerle ruhlarını () sevgilerini ve özlemlerini ortaya koyarlar: Köroğlu, Godik, Darıcalı, Yorgun Gözler ()

Bu parçada yay ayrıla gösterilen yerlere aşağıdaki noktalama işaretlerinden hangileri sırasıyla getirilmelidir?

- A) (.) (;) (.)
B) (...) (,) (.)
C) (!) (:) (...)
D) (.) (,) (...)

20. **Aşağıdaki cümlelerde altı çizili sözlerin hangisinde kesme (') işareti kullanılmamalıdır?**

- A) Kültür Bakanlığının açtığı bu yarışmaya katılmayı arzuluyorum.
B) Ankaranın kuzeyi çok yoğun yağış aldı.
C) 1993ten beri babam marangozlukla uğraşıyor.
D) Bu konuyla ilgili en güncel istatistikleri TÜİKten edinebilirsiniz.

(402) DİL VE ANLATIM – 2

1. Dört mevsim hep aynı güzelliği
I.
sunan Maşukiye, keyifli bir hafta
II.
sonu kaçamağı için size göz kırıyor.
III. IV.
- Bu cümlede numaralanmış sözcüklerden hangilerinin kökü fiildir?**
- A) I ve II. B) I ve III.
C) II ve IV. D) III ve IV.

2. **Aşağıdaki cümlelerde bulunan altı çizili sözcüklerden hangisi yapım eki almıştır?**

- A) Hakan Bey'in eşi, o gün oldukça yapıcı konuşmuştu.
B) Babam, bu çarşıda yıllarca çantaçı olarak çalışmış.
C) Eve şöyle alıcı gözle bakıp almaya karar verdik.
D) Kalıcı eserler vermek istiyorsan insani meseleleri ele almalısın.

1. OTURUM

3. Ne yârdan geçilir ne serden;
Korkuyorum bu gecelerden.
I. II.
Bel bağladığım tepelerden
III.
Gün doğmayabilir bir daha.
IV.

Bu dörtlükteki numaralanmış sözcüklerden hangisi birleşik yapıdır?

- A) I. B) II. C) III. D) IV.

4. "Hava" sözcüğü aşağıdaki cümlelerin hangisinde soyut anlamda kullanılmıştır?

- A) Hava, denize girmek için oldukça uygun bugün.
B) Haziran ayına girmemize karşın havalar hâlâ ısınmadı.
C) Girdiğimiz her işten havamızı aldık bugüne kadar.
D) Karadeniz'in havası nemli olduğundan bana yaramıyor.

5. I. Şu çocuğa göz değecek diye ödüm kopuyor.
II. İki göz bir ev kiraladık İstanbul'da.
III. Gözlüğün dolabın diğer gözünde duruyor.
IV. Alper Bey, çok iyi bir göz doktorudur.

Numaralanmış cümlelerin hangilerinde "göz" sözcüğü yan anlamıyla kullanılmıştır?

- A) I ve III. B) I ve IV.
C) II ve III. D) II ve IV.

6. Aşağıdaki sözcük gruplarından hangisi zıt sözcüklerden oluşmuştur?

- A) Kalmak – kalmamak
B) Aşağı – yukarı
C) İyi – kötü
D) Tembel – çalışkan

7. I. Belki öğretmen beni de tahtaya kaldırdır.
II. Kendin gitmesen bile en azından ona haber verseydin.
III. Buraya kadar gelmişken hiç olmazsa teyzemi görelim.
IV. Elbette her insan hayatını şekillendirmekte özgürdür.

Numaralanmış cümlelerdeki altı çizili sözlerden hangileri yakın anlamlıdır?

- A) I ve II. B) I ve III.
C) II ve III. D) III ve IV.

8. Yıllardır ki bir kılıcım, kapalı kında,
I.
Kimsesizlik dört yanımda bir duvar gibi.
II.
Muzdaribim bu duvarın dış tarafında
III.
şefkatine inandığım biri var gibi.
IV.

Bu dizelerdeki altı çizili tamlamalardan hangisinin türü diğerlerinden farklıdır?

- A) I. B) II. C) III. D) IV.

9. İsim veya fiil köklerine yapım ekleri getirilerek oluşturulan sözcüklere türemiş sözcük denir.

Buna göre aşağıdaki dizelerdeki altı çizili sözcüklerden hangisi türemiş sözcüktür?

- Sevgilim güvenme güzelliğine,
I.
Senin de saçların tarumar olur;
II.
Aldanma talihin pembe rengine,
III.
Hayatın uzun bir intizar olur.
IV.

- A) I. B) II. C) III. D) IV.

10. Birden çok yargıyı, düşünce ve isteği bildiren cümlelere birleşik cümle denir.

Buna göre aşağıdaki cümlelerden hangisi birleşik cümledir?

- A) Tüm kuruluşlar tek bir çatı altında toplandı.
B) Kendimi bir bıraksam hemen uyuyacaktım.
C) Her akşam eve yorgun dönüyorum.
D) Annemin içine bir hüznün çökmüştü.

11. Yüklemi isim veya isim grubundan olan cümlelere isim cümlesi denir.

Buna göre aşağıdakilerden hangisi isim cümlesidir?

- A) Sabahları sadece bir veya iki bardak süt içerdi.
B) Sınav heyecanını yenemiyordum.
C) Bursa'nın güzelliği, tabiatın ve tarihin iş birliğidir.
D) Hayatın anlamını yeni öğrenmiştim.

12. Çocuklar yağmurdan sonra güle oynaya bahçeye çıktılar.

Bu cümlemin dolaylı tümleci aşağıdakilerden hangisidir?

- A) çıktılar
B) yağmurdan sonra
C) çocuklar
D) bahçeye

13. Aşağıdaki cümlelerden hangisi bildirdiği anlama göre diğerlerinden farklıdır?

- A) Çevresine neşe saçan insanlar her zaman sevilir.
B) Eve otobüsle gitmek istemiyorum.
C) Bilgili insanlardan yararlanmak gerekir.
D) Günden güne yeni eve alışıyorum.

14. Aşağıdaki cümlelerin hangisinde yüklem gereklilik kipiyle çekimlenmiştir?

- A) Yolculuk boyunca film seyrettim.
B) Bu sınavda başarılı olacağımı zannetmiyorum.
C) Bu işin böyle sonuçlanacağını bilmeliydim.
D) Her gün erken kalkıp yürüyüş yaparım.

15. Bugün pek çok tiyatro, seyircisizlikten yakınıyor. Ama seyirci çekebilme için tiyatrodaki farklı dil arayışları, yeni ve farklı metin arayışlarına girmek akıllarına gelmiyor. Bütün bunlar da "Körler sağırılar birbirini ağırlar." durumundan bizi çıkaramıyor.

Bu metinde aşağıdakilerden hangisine değinilmemiştir?

- A) Tiyatro oyunlarının çok az seyredildiği
B) Yeni oyunlara ihtiyaç duyulduğu
C) Tiyatroya seyirci çekmek için kimse çaba göstermediği
D) Tiyatronun gelişiminde eleştirinin önemli yer tuttuğu

16. Hiçbir edebiyat yapıtını salt dili için sevmeyiz. Dil bir ön kabuldür. O dilin ardındaki duyguyu, düşünceyi ve son noktada onların ifade edilme yöntemini severiz. Eserlerde duygu ve düşünceler, olabilecek en iyi biçimde sunulmalıdır ki iyi bir yapıt olabilsinler. Yoksa tencere boş, kapak üzerine kapanmış, yuvarlanıp giderler.

Bu metinden aşağıdakilerin hangisi çıkarılabilir?

- A) Evrensel temaları işleyen eserler kalıcı olur.
B) Duygu ve düşüncelerin güzel anlatılması eserleri değerli kılar.
C) Eserlerin sevilmesinin tek nedeni dilleridir.
D) İyi bir yazar, eserlerinde zekâsını gösterir.

1. OTURUM

(407) DİL VE ANLATIM – 7

17. (I) Tartışmalardan uzak durmak ve kendi bildiği yolda gitmek inatçılık gibi görünse de aslında kalender bir tavidir. (II) Ancak bazı durumlarda fikir beyan etmenin de bir sakıncası yoktur. (III) Nasıl olsa dünya bildiği gibi dönecek, herkes bildiği gibi yazacak. (IV) Söylesek ne değişecek?

Numaralanmış cümlelerden hangisi düşüncenin akışını bozmaktadır?

- A) I. B) II. C) III. D) IV.

18. Sümerler bundan dört bin yıl önce, belirli bir ağaç türünün kabuğunu kazıyıp bu kabuğu yediklerinde ağrılarının dindiğini keşfettiler. Sümerlerin kabuğunu sıyırdıkları ağaç, bugün aspirin olarak bildiğimiz ilacın öncüsü niteliğindeki söğüt idi. Tarihte aspirinin etkin maddesi salisilik asidi barındıran söğüt kabuğunun reçete edildiği ilk kaynak, MÖ 2000 yıllarına ait bir Sümer tabletidir.

Bu paragrafta ağır basan anlatım türü aşağıdakilerden hangisidir?

- A) Betimleyici B) Öyküleyici
C) Açıklayıcı D) Emredici

19. Şiir, dil içinde bir sözcük serüvenidir. Bu serüven aynı zamanda kuşaklar boyu bir arada yaşanılmış uzun bir geçmişin saflaştırılmış ve damıtılmış özünü içerir. Çünkü dil, bir kültür taşıyıcısıdır ve şair kullandığı dilin kültürüne sıkı sıkıya bağlıdır. Şair bu kültürü özümseyip önce bir dil, sonra da bir şiir serüvenine dönüştürür. Şairin dil içindeki bu sözcük serüveni, bize yaşanılmış geçmişin duygularını biriktirir.

Bu paragrafta asıl anlatılmak istenen aşağıdakilerden hangisidir?

- A) Şair farklı kültürlerden beslendiği ölçüde başarılıdır.
B) Şiir, bir toplumun kültürünü en iyi yansıtan vasıtasıdır.
C) Bir toplumun kültürü dili vasıtasıyla kuşaktan kuşağa aktarılır.
D) Şair, toplumunun kültürünü iyi özümseyerek şiirini oluşturur.

20. Ankara Anadolu Medeniyetleri Müzesinde sergilenen ve MÖ 6200 yıllarından kalan Çatalhöyük şehri planı, 5800 yıllık olarak bilinen harita tarihini 2400 yıl daha geriye götürmüştür. Bundan yaklaşık 8205 yıl önce yapılan bu ilk harita Çatalhöyük'teki kazılarda bir evin duvarında bulunmuştur.

Bu metinde aşağıdakilerden hangisine değinilmemiştir?

- A) Tarihin ilk dönemlerinde insanlar şehir düzenine önem vermişlerdir.
B) Haritacılık tarihi ile ilgili ilerleme kaydedilmesini sağlayan önemli bir bilgi edinilmiştir.
C) Tarihi yerleşim yerlerinin birçoğu henüz aydınlatılmamış gizlerle doludur.
D) Arkeolojik kazılarda elde edilen eserler müzelerde sergilenir.

1. Sanat metinleri için aşağıdakilerden hangisi söylenemez?

- A) Okuyucuya estetik zevk vermek amaçlanır.
B) Olaylar gerçek veya kurmacadır.
C) Resmî, açık ve sade bir dille; üslup kaygısı olmadan yazılır.
D) Hayallere ve mecaz anlatımlara yer verilir.

2. I. Harnâme
II. Tahir ile Zühre
III. La Fontaine
IV. Kerem ile Aslı

Verilen eserlerden hangileri Türk halk hikâyelerindedir?

- A) I ve II. B) II ve III.
C) II ve IV. D) III ve IV.

3. Aşağıdakilerden hangisi masal ile ilgili derleme veya araştırma çalışmaları YAPMAMIŞTIR?

- A) Ziya Gökalp
B) Necip Fazıl Kısakürek
C) Naki Tezeli
D) Eflatun Cem Güney

4. Çözülen bir demetten indiler birer birer,
Bırak, yorgun başları bu taşlarda uyusun.
Tutuşmuş ruhlarına bir damla gözyaşı sun,
Bir sebile döküldü bembeyaz güvercinler...

Bu parça aşağıdaki metin türlerinden hangisine örnektir?

- A) Öğretici
B) Anlatıma bağlı
C) Göstermeye bağlı
D) Coşku ve heyecanı dile getiren

5. Gel, Kelile hikâyesini dinle
Bundan bir hisse almazlık etme.
Av hayvanları meskenleri olan ovada arslan korkusundan muzdariptirler.

Arslan onları avlardı. Bu yüzden hep sine otlak dar gelir oldu.

Topluca gidip ona: "Her gün birimiz senin lokman olsun."

"Kismetini al, avlanmaya gitme; böylece bize de su ve ot acılaşmasın." dediler.

Arslan dedi ki: "Sözünüzde dursanız, hile ve cefa olmasa bu hoş bir şeydir.

Çalışıp kazanmak, tevekküle tercih edilir. Şüphesiz böylece Hakk'ın sevgilisi olursun."

Mesnevi'den alınan bu parça hangi edebî metnin özelliklerini taşımaktadır?

- A) Fabl B) Roman
C) Komedi D) Tiyatro

6. Fabllar ile ilgili aşağıdakilerden hangisi söylenemez?

- A) Olayların kahramanları çoğunlukla hayvanlardır.
B) Anlatılanların her zaman bir ders vermesi beklenmez.
C) Teşhis ve intak sanatlarına baş vurulur.
D) Genellikle öyküleyici anlatım kullanılır.

7. Yazım tarihi MÖ 300 yılları olarak kabul edilir. Bu eser, Beydeba unvanını taşıyan bir bilgin-filozof tarafından meydana getirilmiştir. Beydeba, eserini Debşelem adlı Hint hükümdarı zamanında yazmış ve ona sunmuştur. Eserde yurt yönetimi, felsefe ve eğitimle ilgili sorunlar dolaylı olarak tartışma ve eleştirme konusu yapılmaktadır.

Bu metinde bahsedilen eser aşağıdakilerden hangisidir?

- A) Dede Korkut
B) Aisopos (Ezop)
C) Kelile ve Dimne
D) La Fontaine

8. Bu masalarda padişahlar, vezirler; zengin tüccarlar; sıradan, yoksul insanlar gibi gerçek dünyadan alınma kişiler vardır. Zengin-fakir ilişkileri, çocukların karşılaştıkları güçlükler, üvey anne kıskançlığı gibi konular işlenir.

Bu metinde sözü edilen masal türü aşağıdakilerden hangisidir?

- A) Olağanüstü B) Güldürücü
C) Zincirleme D) Gerçekçi

9. Halk hikâyesinin - - - bölümünde sevip kavuşamayanlar için Tanrı'dan bir dilekte bulunulur. Hikâye anlatıcı (Âşık) alçakgönüllülük göstererek "Ustamızın adı Hıdır, elimizden gelen budur." der.

Bu metinde boş bırakılan yere aşağıdakilerden hangisi getirilmelidir?

- A) düğüm B) döşeme
C) çözüm D) dua

10. Aşağıdakilerden hangisi masal ile fablın benzerliklerinden biridir?

- A) Olağanüstülükler barındırması
B) Tekerlemeyle başlaması
C) Manzum şekilde kaleme alınması
D) Sonunda ahlak dersi verilmesi

1. OTURUM

11. Aşağıdakilerden hangisi diğerlerinden farklı bir bakış açısı ile yazılmıştır?

- A) Bugüne kadar dolu dolu yaşadığını sanan Rıza Bey, aslında pek boş yaşadığını, hayatını hiçbir amaç üzerine kurmadığını, mavi gökyüzü altında tatlı esintilerin etkisiyle sağa sola neşeli yalpalayışlar yapan çimenlerden öteye bir şey olamadığını acı acı hissetti.
- B) Kaportacı birkaç gün uğramamıştı yanına. Onun da içindeki kuşku biraz yatıştır gibi oldu. Gönlünde tomur tomur yine pembe karanfiller açtı. En pembelerini tahtaya geçirirken fes rengine boyadı. Boyarken kendini yorgun hissediyordu.
- C) Bir an önce kitaplara ulaşmak istedi, geriye doğru bu sonsuz yolculuk bitsin istedi. Eski balo ayakkabısını ayağından çıkarmaya çalıştı. Sonra, arkası kapalı yumuşak terliklerini bulamadı bir türlü. Sendeleyerek el fenerine doğru yürüdü.
- D) Annemin onları nereden tanıdığını çıkaramıyorum. Belki uzaktan bir yakınlık, hisimlik vardı aramızda. Bizim geldiğimizi görünce delicesine sevinirlerdi. İffet Hanım beni kucaklar, saçlarımı defalarca öpüp koklardı.

12. Aşağıdakilerden hangisi aşk hikâyelerinden değildir?

- A) Emrah ile Selvihan
B) Kerem ile Aslı
C) Danışmend Gazi
D) Arzu ile Kanber

13. Türk edebiyatı, Batılı anlamdaki öykü türü ile hangi edebî dönemde tanışmıştır?

- A) Tanzimat Edebiyatı
B) Divan Edebiyatı
C) Halk Edebiyatı
D) Sözlü Edebiyat

14. Dış âlemdeki olaylardan çok, kahramanların iç dünyasını, ruh hallerini ele alarak kişilerin toplumla ilişkilerini, bunların birbirinden nasıl etkilediklerini anlatan romanlardır. Türk edebiyatında bu türün ilk örneği ise Mehmet Rauf'un "Eylül" adlı romanıdır.

Bu metinde sözü edilen roman türü aşağıdakilerden hangisidir?

- A) Psikolojik
B) Macera
C) Sosyal
D) Tarihî

15. • Küçük Ağa ünlü tarihî romanları-mızdandır.
• İlk tarihî romanımız Dokuzuncu Hariciye Koşuşu'dur.
• Yazar tarihî gerçekleri kendi hayal gücüyle birleştirerek anlatır.

Tarihî romanla ilgili verilen bu cümleler doğru-yanlış olarak değerlendirildiğinde sıralama aşağıdakilerden hangisi olur?

- A) D – Y – Y
B) D – Y – D
C) Y – D – D
D) Y – D – Y

16. (Türkanların evinde salon. Lüks, gösterişli... Karşıda ve sağda salona açılan iki kapı. Öğle sonrası. Türkan, salonu gözden geçirirken vazodaki çiçekleri özenle düzelterek içli, duygulu bir şarkı mırıldanır. Annesi Safinaz yandaki kapıdan girer.)

SAFİNAZ— Şimdiye kadar hiç bu şekilde titizliğini görmemiştim.
TÜRKAN— (Güler.) Şimdiye kadar hiç olmayan bir durumla karşı karşıyayız da ondan.
SAFİNAZ— Kaçta geleceklerdi?
TÜRKAN— Neredeyse gelirler...

Bir tiyatro metninden alınan bu parçada aşağıdakilerden hangisine yer verilmemiştir?

- A) Dekor
B) Aksesuar
C) Diyalog
D) Aktör

17. I. "Üç birlik" kuralına uyulur.
II. Kişiler çoğunlukla halktan insanlardır.
III. Erdeme ve ahlaka değer verilir.

Bu özelliklerden hangileri traged-yalar (trajedi) için söylenebilir?

- A) I ve II.
B) II ve III.
C) I ve III.
D) I, II ve III.

18. Aşağıdakilerden hangisi geleneksel Türk halk tiyatrosu türlerinden değildir?

- A) Karagöz
B) Meddah
C) Dram
D) Orta oyunu

19. Karanfil oylum oylum
Geliyor servi boylum
Servi boylum gelirse
Şen olur deli gönlüm

Bu dördümlük ile ilgili aşağıdakilerden hangisi söylenemez?

- A) Halk şiiri geleneğine aittir.
B) Tariz (iğneleme) sanatına yer verilmiştir.
C) 7'li hece ölçüsüyle yazılmıştır.
D) Sade ve açık bir dil kullanılmıştır.

20. Aşağıdaki dördümlüklerden hangisinin kafiye düzeni (uyak örgüsü) diğerlerinden farklıdır?

- A) Bu dervişlik bir dilektir,
Bilene büyük örnektir,
Yensiz yakasız gömlektir,
Giyemezsin demedim mi?
- B) Zihni derd elinden her zaman ağlar,
Vardım ki bağ ağlar, bağıban ağlar,
Sümbüller perişan, güller kan ağlar
Şeyda bülbül terk edeli bu bağı.
- C) Ok atılır kal'asından,
Hak saklasın belasından,
Koroğlu'nun narasından
Her yan gümbür gümbür lenir!
- D) Bir şey ki hava gibi, ekmek gibi, su gibi
Lazım insana, lazım, onsuz yaşanılmıyor.
Ana, baba gibi, dost gibi, yavuklu gibi,
Kalp titremeden, göz yaşarmadan anılmıyor.

(408) DİL VE ANLATIM – 8

1. Aşağıdakilerden hangisi sözlü anlatım türlerinden biridir?

- A) Roman
B) Makale
C) Biyografi
D) Açık oturum

2. Konferansla ilgili aşağıdakilerden hangisi söylenemez?

- A) Konunun dinleyicilerin ilgisini çekmesine dikkat edilir.
B) Yazılı anlatım türlerindedir.
C) Amaç, bir düşünceyi benimsetmektir.
D) Konuşmacılar, özgün düşüncelerini dile getirir.

3. Aşağıdakilerden hangisi bir konferansçının konferans sırasında dikkat etmesi gerekenlerden değildir?

- A) Konuşmasında bayağı ve argo sözlere yer vermelidir.
B) El, kol ve vücut hareketlerini uygun yerlerde kullanmalıdır.
C) Dinleyicilerin kültür ve zevk düzeyini dikkate almalıdır.
D) Ses tonunu konuşmaya göre ayarlamalıdır.

4. Açık oturum:

- I. Radyo ve televizyonlarda yayımlanabilir.
II. Sonunda izleyicilere soru sorma imkânı verilirse foruma dönüşür
III. Alanında uzman tek bir kişinin görüşlerini halk karşısında açıklamasına dayanır.

Açık oturumla ilgili verilen bu bilgilerden hangileri doğrudur?

- A) Yalnız I.
B) I ve II.
C) II ve III.
D) I, II ve III.

1. OTURUM

5. Aşağıdakilerden hangisi açık oturumu yöneten başkanın görevlerinden değildir?

- A) Giriş konuşması yapmak
- B) Konuşmacılara puan vermek
- C) Konuyu belirtip konuşmacıları tanıtmak
- D) Oturum sonunda düşünceleri özetlemek

6. Aşağıdakilerden hangisi sempozyum başkanının görevlerinden değildir?

- A) Sunu ve tartışma sürelerini belirlemelidir.
- B) Oturumdan önce konuşmacıların sunum salonunda hazır bulunmalarını sağlamalıdır.
- C) Oturumun amaç ve hedefini dinleyicilere açıklamalıdır.
- D) Beğenmediği konuşmaları eleştirebilir.

7. Sempozyum ile ilgili aşağıdakilerden hangisi söylenemez?

- A) Sempozyum sonunda bir bildiri yayımlanır.
- B) Konuşmacıların hitap becerisi önemlidir.
- C) Dinleyici kitlesinin eğitim düzeyi önemsenmez.
- D) Bilimsel bir konuda yenilik getirmek amaçlanır.

8. I. Sempozyum oturumlar hâlinde düzenlenir.
II. Sempozyum bildirisi açık ve anlaşılır olmalıdır.
III. Bir konunun farklı yönlerini, sempozyum boyunca aynı konuşmacı anlatır.

Yukarıda sempozyum ile ilgili verilen bilgilerden hangileri yanlıştır?

- A) Yalnız I. B) Yalnız III.
- C) I ve II. D) II ve III.

9. Aşağıdakilerden hangisi forumda söz alan dinleyicilerin dikkat etmesi gereken özelliklerden değildir?

- A) Özel sorunlarına değinmemek
- B) Sorularını kısa, açık ve net sormak
- C) Saygılı ve nazik olmaya dikkat etmek
- D) Verilen cevapları bir kağıda not almak

10. • Forumda amaç belli kararlara varmak değil konuyu farklı boyutlarıyla ortaya koymaktır.
• Forum kırıkcılıktan uzak, samimi bir hava içerisinde gerçekleştirilmelidir.
• Forumda genellikle dil ötesi işlev kullanılır.

Bu cümleler doğru-yanlış olarak değerlendirildiğinde sıralama aşağıdakilerden hangisi olur?

- A) D – Y – D B) D – D – Y
- C) Y – D – Y D) Y – Y – D

11. Forumun panelden farkı - - - -

Bu cümlede boş bırakılan yerin aşağıdakilerden hangisiyle doldurulması uygun olur?

- A) dinleyicilerin de tartışmaya katılarak fikirlerini beyan etmeleridir.
- B) öne sürülen düşüncenin kanıtlanmak zorunda olmasıdır.
- C) ciddi bir üslup kullanılarak gerçekleştirelmesidir.
- D) konuşmacı sayısının daha fazla olmasıdır.

12. Daha önceden belirlenmiş bir konuda farklı görüşlere sahip kişilerin veya grupların bir araya gelerek kendi görüşlerini açıklamak, kanıtlamak ve kabul ettirmek için bir jüri önünde yaptıkları tartışmaya - - - - denir.

Bu cümlede boş bırakılan yere aşağıdakilerden hangisi getirilmelidir?

- A) sempozyum B) açık oturum
- C) münazara D) konferans

13. Aşağıdakilerden hangisi bilimsel yazıların özelliklerinden değildir?

- A) Kurallı cümlelerle oluşturulurlar.
- B) Anlatılanların kanıtlanması gerekir.
- C) Amaç okuyucuyu bilgilendirmektir.
- D) Genellikle betimleyici anlatım kullanılır.

14. Aşağıdakilerden hangisi bilimsel bir metinden alınmış olabilir?

- A) Yüzünün birbirine o kadar yakın duran buruşuklukları açıldı. Fakat bu defa gülmek için değil. Bir şeye şaşmış gibi açık ve ayrık olan yuvarlak gözlerinden yaşlar dökülmeye başladı.
- B) Evin önünden geçerken açık pencereme baktım. Babam gelene kadar dönerim. Taa mendireğe kadar gittim, sıcağın kan ter içinde kaldığım için biraz oturdum, denize baktım.
- C) Farklı zamanlarda yaşamış ama yaşadığı bazı yıllar çakışan ağaçların halkalarından bir veri tabanı oluşturulur. Tahtadan yapılmış bir buluntudaki halkalar bu veri tabanıyla karşılaştırılır ve buluntunun ait olduğu ağacın yaşadığı zaman tespit edilir.
- D) Mehmet atından atladı, gemi ona verdi. Hayvan köruk gibi soluyor, yeri eşeliyor, bir an önce ahırına gitmek için huysuzlanıyordu. Tek tük kar düşmeye başlamıştı.

15. Aşağıdakilerden hangisi okullarda münazara düzenlenmesinin öğrencilere sağladığı yararlarından olamaz?

- A) Ders dışında araştırma yapmaya teşvik etmek
- B) Karşı fikre saygı duyma düşüncesini edindirmek
- C) Başkalarına ait düşünceleri sorgulamadan kabul etmelerini sağlamak
- D) Toplum önünde konuşma alışkanlığı kazandırmak

16. Bilimsel yazılarda;

- Dilin sanatsal işlevi kullanılır.
- Anlaşılması zor bir dil kullanılır.
- Yazar başkasının görüşlerini alır ve bunu belirtmezse buna intihal denir.

Bu cümleler doğru-yanlış olarak değerlendirildiğinde sıralama aşağıdakilerden hangisi olur?

- A) Y – Y – D B) Y – D – Y
- C) D – D – Y D) D – Y – D

17. Bu tarz makaleler daha önce yayımlanmış yazıları veya eserleri değerlendirmek, eleştirmek amacıyla; sınırlandırılmış bir konu üzerine yazılır. Araştırma yapmak için faydalı olur ve içerisinde hangi eserlerin hangi bakımlardan ele alınacağı belirtilir.

Bu parçada anlatılan bilimsel yazı türü aşağıdakilerden hangisidir?

- A) Toplantı Özetleri
- B) Bilimsel Makaleler
- C) Konferans Raporları
- D) Tarama ve Değerlendirme Makaleleri

18. Aşağıdakilerden hangisi bir münazaranın konusu olmaya uygun değildir?

- A) İnternet yararlı mıdır, zararlı mıdır?
- B) İhtiyacı olan kişilere daha fazla yardım ulaştırabilmek için neler yapılmalıdır?
- C) Ormanların korunmasında yasalar mı çevre bilinci mi daha etkili olur?
- D) İnsanlar, hayvanlara nasıl davranmaları gerektiği konusunda bilinçli midir?

19. Son görüşmemizin üzerinden kısa bir zaman geçmesine rağmen daha sağlıklı, sıhhatli görünüyordu.

Bu cümle açık bir anlatımın aşağıdaki özelliklerinden hangisine aykırıdır?

- A) İfadenin hiçbir engele uğramadan akıp gitmesi
- B) Metnin dil ve ifadesinin sade ve açık olması
- C) Anlaşılması güç cümle kullanılmaması
- D) Gereksiz söz tekrarlarından kaçınılması

1. OTURUM

20. Forumda dil ağırlıklı olarak hangi işlevde kullanılır?

- A) Göndergesel B) Dil ötesi
C) Sanatsal D) Heyecana bağlı

(414) TÜRK EDEBİYATI – 4

1. • Hayalî denen bir kişi tarafından oynatılır.
• Gölge oyunu olarak da bilinir.
• Tuzsuz Deli Bekir, Bebe Ruhî, Çelebi gibi tipler bulunur.

Yukarıda özellikleri verilen geleneksel Türk halk tiyatrosu türü aşağıdakilerden hangisidir?

- A) Karagöz
B) Meddah
C) Orta oyunu
D) Köy seyirlik oyunu

2. Divan edebiyatında öykü ve romanın yerini tutan önemli bir türdür. Aşk, tasavvuf, din, ahlak, tarih temalarında yazılır. Bu türün en ünlü örneklerinden biri Leyla ve Mecnun'dur.

Bu metinde sözü edilen nazım şekli aşağıdakilerden hangisidir?

- A) Mesnevi B) Koşma
C) Sagu D) Semai

3. Aliş'imın kaşları kare
Sen açtın sineme yâre
Bulamadım derdime çare

Görmedin mi ah civan Aliş'imi Tuna boyunda

Evleri var hâre hâre
Benleri var dâne dâne
Saramadım kana kana

Görmedin mi ah civan Aliş'imi Tuna boyunda

Bu dizeler aşağıdakilerden hangisine örnektir?

- A) Gazel B) Semai
C) Koşma D) Türkü

4. Gidene bak gidene
Güller sarmış dikene
Mevlâ sabırlar versin
Gizli sevda çekene

Bu mâni ile ilgili aşağıdakilerden hangisi söylenemez?

- A) Hecenin 11'li kalıbıyla söylenir.
B) Tek dörtlükten oluşur.
C) Uyak düzeni "aaba" şeklindedir.
D) Anonim halk şiiri nazım şekillerindedir.

5. Aşağıdaki şair – eser eşleştirmelerinden hangisi yanlıştır?

- A) Mevlid – Süleyman Çelebi
B) Divanü Lûgatî't Türk – Şeyhi
C) Leyla ve Mecnun – Fuzulî
D) Mesnevi – Mevlana

6. Aşağıdakilerden hangisi anonim halk şiirinin özelliklerinden değildir?

- A) Nazım birimi dörtlüktür.
B) Hece ölçüsü ile yazılır.
C) Süslü ve sanatlı bir anlatım vardır.
D) Daha çok yarım uyak kullanılır.

7. Bağ-ı dehrin hem hazanın hem bahârın görmüşüz
Biz neşâtın da gamın da rûzgârın görmüşüz

Bu dizeler aşağıdaki şair geleneklerinin hangisiyle yazılmış olabilir?

- A) İslamiyet öncesi Türk şiiri
B) Serbest şiir
C) Halk şiiri
D) Divan şiiri

8. Aşağıdakilerden hangisi dinî-tasavvufî Türk şiirinin temsilcilerinden biridir?

- A) Ziya Paşa
B) Âşık Veysel
C) Karacaoğlan
D) Yunus Emre

9. Türkçenin ilk sözlüğü ve dil bilgisi kitabıdır. İçinde, yazıldığı döneme ait çok sayıda Türkçe sözcük, deyimler, atasözleri, Türk halk edebiyatından alınmış şiir örnekleri ve Türk boylarını gösteren harita bulunmaktadır.

Bu metinde sözü edilen eser aşağıdakilerden hangisidir?

- A) Atabetü'l Hakayık
B) Divanü Lûgatî't Türk
C) Divan-ı Hikmet
D) Kutadgu Bilig

10. Aşağıdakilerden hangisi Dede Korkut Hikâyeleri'nin özelliklerinden değildir?

- A) Destan-hikâye özelliği taşır.
B) 12 hikâyeden oluşur.
C) Divan edebiyatının özelliklerini gösterir.
D) Müslüman Oğuzların iç ve dış mücadelelerini anlatır.

11. Bitir bir işi gayre sonra tut yüz
Ki bir koltukta sığmaz iki karpuz

Nasîhat edicek dinle uluyu
Kalırsın dinlemez isen uluyu

Bir mesneviden alınan bu dizelerle ilgili aşağıdakilerden hangisi söylenemez?

- A) Divan şiiri geleneğine örnektir.
B) Beyitlerle yazılmıştır.
C) Kafiye düzeni aa bb... şeklindedir.
D) Aşk teması işlenmiştir.

12. I. Ağır ve sanatlı bir dile sahiptir.
II. Aruz ölçüsü ile kaleme alınmıştır.
III. Anonim, dinî-tasavvufî ve âşık tarzı olmak üzere üç kola ayrılır.
IV. Arap ve Fars edebiyatlarının izlerini taşıyan yazılı bir edebiyattır.

Divan edebiyatı ile ilgili yukarıda verilen bilgilerden hangisi yanlıştır?

- A) I. B) II. C) III. D) IV.

13. Köröğlü'yum medhim merde yeğine
Koçyiğit değişmez cengi düğüne
Sere serpe gider düşman önüne
Ölümü karşılar meydan içine

Bu dörtlük aşağıdaki koşma türlerinden hangisine örnektir?

- A) Güzelleme B) Koçaklama
C) Taşlama D) Ağıt

14. - - - - klasik edebiyatta üç veya daha çok mısradan oluşan bentlerle kurulan nazım şekillerinin genel adıdır.

Bu cümlede boş bırakılan yere aşağıdakilerden hangisi getirilmelidir?

- A) Gazel B) Kaside
C) Musammat D) Mesnevi

15. Senden boşalan bağıma gözyaşları dolmuş
Gördüm ki yazın bastığımız otları solmuş
Son demde bu mevsim gibi benzin de kül olmuş
Geçtim yine dün eski hazan bahçelerinden

Bir şarkıdan alınan bu dizelerle ilgili aşağıdakilerden hangisi söylenemez?

- A) Aşk temasını işlemiştir.
B) Nazım birimi beyittir.
C) Sade bir dille kaleme alınmıştır.
D) Benzetme sanatından faydalanılmıştır.

16. Tarih, coğrafya, biyoloji, tıp, sosyoloji vb. birçok sahada eser veren yazar, 17. yüzyılda yaşamıştır. Eserlerinin bir kısmı Arapça bir kısmı Türkçedir. Yazdığı eserlerle bilim dünyasına önemli katkılarda bulunmuştur. Eserlerinden bazıları Cihannüma, Fezleke, Keşfü'z-zün'dur.

Yukarıda tanıtılan yazar aşağıdaki-lerden hangisidir?

- A) Ömer Seyfettin
B) Ziya Gökalp
C) Kâtip Çelebi
D) Reşat Nuri Güntekin

17. Aşağıdakilerden hangisi orta oyununun bölümlerinden değildir?

- A) Giriş B) Gelişme
C) Fasil D) Bitiş

1. OTURUM

18. Şarkı nazım şeklinin divan edebiyatındaki en bilinen temsilcisidir. XVIII. yüzyıl Lale Devri'ni, bu dönemin İstanbul'unu canlı ve renkli anlatımıyla ölümsüzleştirmiştir. Günlük konuşma dilinin güzelliklerini onun şiirlerinde görmek mümkündür.

Bu metinde sözü edilen şair aşağıdakilerden hangisidir?

- A) Namık Kemal B) Mevlana
C) Nedim D) Fuzuli

19. Battalname ile ilgili aşağıdaki bilgilerden hangisi **yanlıştır**?

- A) İslamiyet Öncesi Dönem'e aittir.
B) Sözlü gelenek ürünüdür.
C) Türk destanlarından biridir.
D) Kahramanlık konusu işlenir.

20. Seyahatname türünün Türk edebiyatındaki en büyük temsilcisidir. XVII. yüzyılda Osmanlı topraklarının büyük bir bölümünü gezmiş, padişahlarla seferlere katılmıştır. Gördüğü yerlerin sanatını, tarihini, coğrafyasını, folklorunu, geleneklerini "Seyahatname" adlı eserinde ayrıntılı bir biçimde anlatmıştır.

Bu metinde sözü edilen yazar aşağıdakilerden hangisidir?

- A) Kaygusuz Abdal
B) Evliya Çelebi
C) Mütercim Asım
D) Tıflı Çelebi

(417) TÜRK EDEBİYATI – 7

1. II. Dünya Savaşı'ndan sonra yetişen hikâye ve roman yazarlarımızdandır. Eserlerinde Çukurova bölgesindeki köylülerin yaşamlarını anlatmıştır. Romanlarında tabiat ve insan sevgisi ağır basmaktadır. Anadolu efsanelerini, halk öykülerini destan ve masallarını çağdaş roman anlayışıyla birleştirmiştir. Romanlarından bazıları şunlardır: Yer Demir Gök Bakır, Ölmez Otu, İnce Memed...

Bu metinde sözü edilen yazar aşağıdakilerden hangisidir?

- A) Kemal Tahir B) Yaşar Kemal
C) Peyami Safa D) Tarık Buğra

2. Aşağıdakilerden hangisi Cumhuriyet'in ilk yıllarında ürün vermiş olan Müshahipzade Celal'in yazmış olduğu tiyatrolardan **değildir**?

- A) Şair Evlenmesi
B) İstanbul Efendisi
C) Aynaros Kadısı
D) Bir Kavuk Devrildi

3. I. Ece Ayhan, imgeler yüklü I. Yeni'nin özgün şairlerindedir.
II. Sezai Karakoç, gerçeküstü üslupla Türk-İslam mistisizminin ifade eden özgün şiirler yazmıştır.
III. Ahmet Hamdi Tanpınar, toplumcu şiirin gelişmesinde pay sahibi olan sanatçılardandır.
IV. Faruk Nafiz Çamlıbel'in "Han Duvarları" şiiri memleketçi şiirin en güzel örneklerinden biridir.

Numaralanmış cümlelerin hangilerinde bilgi yanlışlığı vardır?

- A) I ve II. B) I ve III.
C) II ve III. D) II ve IV.

4. I. Haldun Taner, romanlarında toplum hayatının aksayan yanlarını, mizahi bir üslupla anlatmıştır.
II. Sabahattin Ali, Anadolu köy ve kasaba hayatını gerçekçi ve gözlemci bir şekilde yazmıştır.
III. Sait Faik Abasıyanık, Alemdağ'da Var Bir Yılan adlı hikâye kitabında gerçek ve hayali iç içe almıştır.
IV. Ahmet Hamdi Tanpınar, Çalıkuşu adlı romanında uygarlığın yarattığı sosyal çatışmayı ele alır.

Numaralandırılmış cümlelerin hangilerinde bilgi yanlışlığı vardır?

- A) I ve II. B) I ve IV.
C) II ve III. D) III ve IV.

5. Tiyatromuza büyük katkı yapan oyun yazarlarımızdan biridir. Oyunlarının ayırıcı özelliği hayata felsefi olgun bir bakışla bakması ve tarih bilincine sahip olmasıdır. En tanınmış tiyatro eseri "Keşanlı Ali Destanı"dır.

Bu metinde sözü edilen tiyatro yazarı aşağıdakilerden hangisidir?

- A) Necip Fazıl Kısakürek
B) Tarık Buğra
C) Haldun Taner
D) Melih Cevdet Anday

6. Aşağıdaki sanatçılardan hangisi Türk edebiyatındaki ilk denemeciler arasında **sayılamaz**?

- A) Cenap Şehabettin
B) Falih Rıfkı Atay
C) Yakup Kadri Karaosmanoğlu
D) Ahmet Ümit

7. Aşağıdakilerden hangisi Kurtuluş Savaşı sürecinde makale türünün gelişmesini sağlayan gazetelerden **değildir**?

- A) Tasvir-i Efkâr B) İrade-i Milliye
C) Akşam D) Vakit

8. Çocuklarımız kendi heveslerimize ve arzularımıza göre yetişirlerse şüphesiz mesut oluruz. Şayet yetişmezlerse onları da bedbaht etmemiz tehlikesi vardır. Biz arzularımızdan vazgeçelim ama çocuğumuz mesut olsun. Onların saadeti bizi yine hoşnut edecektir. Çünkü başlarken de söylediğim gibi çıktığı yolculukta varmak istediği hedefe ulaşmış olan her insan mesut olur.

Bu parça aşağıdaki metin türlerinin hangisinden alınmış olabilir?

- A) Gezi yazısı B) Deneme
C) Makale D) Hatıra

9. Çocuğun kişilik yapısının oluşmasında anne-baba etkisinin önemli bir yeri vardır. Uyumlu ve baskıdan uzak bir ailede, tutarlı ve sağlıklı ilişkiler içinde yetişen çocuk, özerk bir birey olarak yetişkin yaşamına ulaşabilir. Çocuk; kültürel değerlerini, temel alışkanlıklarını, gelişim görevlerine karşı yaklaşımlarını aile ortamında kazanır. Çocuğun olumlu bir benlik oluşturmada ve yeterlilik duygusu kazanmasında anne-babası ile etkileşiminden aldığı geri bildirimler çok önemli rol oynar.

Bu parça aşağıdaki metin türlerinin hangisinden alınmış olabilir?

- A) Sohbet B) Biyografi
C) Hatıra D) Makale

10. Aşağıdaki sanatçı – eser eşleştirmelerinden hangisi **yanlıştır**?

- A) Falih Rıfkı Atay – Hind
B) Ahmet Haşim – Frankfort Seyahatnamesi
C) Reşat Nuri Güntekin – Bir Adam Yaratmak
D) Nedim Gürsel – Seyir Defteri

11. Yeşil bir yamaca sırtını dayamış, zeytin ve şeftali ağaçları, erguvanlar arasından heybetle dikilen evleri, cumbaları, beyaz duvarları, taş sokakları ve güzel insanlarıyla eski adı "Çirkince"ye hiç de yakışmayan bir görünümü var bu köyün. Köy dediysen söz gelişi elbette; yeni adıyla "Şirince" hafta sonları kalabalık bir pazar yerini andırıyor, hafta içinde sessiz ve sakin bir Anadolu kasabası. Bir süre burada kalmak, sabah horoz sesleriyle uyanıp ev ekmeğiyle otlu peynirden ibaret kahvaltımı eski köy kahvesinin tahta masalarının birinde yapmak isterdim.

Bu parça aşağıdaki metin türlerinin hangisinden alınmış olabilir?

- A) Gezi yazısı B) Sohbet
C) Hatıra D) Deneme

1. OTURUM

(418) TÜRK EDEBİYATI – 8

12. Aşağıdaki eserlerden hangisi anı türünün Türk edebiyatındaki ilk örneklerinden sayılır?

- A) Anabasis B) Baburname
C) Kırk Yıl D) Hatıralar

13. Aşağıdakilerden hangisi fikrayı makaleden ayıran temel özelliklerden değildir?

- A) Makaleye göre daha kısa bir yazı türüdür.
B) Bilimsel gerçekleri ortaya koymaz.
C) Fikirlerin kanıtlanma zorunluluğu yoktur.
D) Öğretici metin türlerinden biridir.

14. Aşağıdaki sanatçılardan hangisi Beş Hececiler'den değildir?

- A) Faruk Nafiz Çamlıbel
B) Orhan Seyfi Orhon
C) Necip Fazıl Kısakürek
D) Yusuf Ziya Ortaç

15. Ben 1. sınıf öğretmeniyim. Çocukları evlerinde kamera olduğuna ve her akşam ödevlerini yapıp yapmadıklarını kontrol ettiğime inandırdım. Uyanıklardan biri inanmamış ve elini kaldırarak annesine "Madem öyle öğretmenim bu hareketi görüyor mu bakalım?" demiş. Annesi geldi, bana çocuğundan habersiz durumu anlattı. Ben de derse girer girmez kızgınca "Ahmet dün akşam bana niye böyle hareket yaptın?" dedim. Zavallı öğrenci az kalsın bayılıyordu, o anki durumu çok komikti. Artık öğrencilerimin hepsi kamera olduğuna inanıyor ve her akşam bana el sallıyor.

Bu parça aşağıdaki metin türlerinin hangisinden alınmış olabilir?

- A) Anı B) Gezi yazısı
C) Sohbet D) Deneme

16. Sanatçı, 20. yüzyılın son yirmi yılında yazdığı yirmiden fazla oyunuyla seyirciyi hayata, alışkanlıkların engeline takılmadan yeni bir gözle bakmaya ve vicdanları doğrulara açmaya yönlendirmiştir. Oyunlarının renkli dünyasında sanatçılar, garsonlar, kabadayılar ve satıcılar yer alır. "Cumhuriyetin Kızı, Yangın Yeriinde Orkideler, Maskeli Süvari" belli başlı oyunlarıdır.

Bu metinde sözü edilen sanatçı aşağıdakilerden hangisidir?

- A) Nazım Hikmet Ran
B) Memet Baydur
C) Oktay Rıfat Horozcu
D) Peyami Safa

17. Hikâye ve roman anlayışları göz önüne alındığında aşağıdaki sanatçılardan hangisi diğerlerinden farklı bir grupta yer alır?

- A) Peyami Safa
B) Fakir Baykurt
C) Kemal Tahir
D) Necati Cumalı

18. Zelzele, dün gece İstanbul'u uykusunun en derin yerinde oynattı. Garip şey! Haftalardan beri komşu toprakları sarsan ve şimdi gizli adımlarla bize yaklaşır gibi olan afetin, faaliyete geçmek için insan gafletini kollayıp gösterdiği şeytani dikkate bakılırsa bunun cana kastetmiş müthiş bir zekânın işi olduğuna hükmetmek lazım geliyor. Öyle ya! Muharebelerde düşmanın, dalgın karargâhları topa tutmak ve hırsızın soyacağı evin duvarına tırmanmak için seçtiği saat, daima zelzelenin de harekete geçmek için beklediği saattir.

Bu parça aşağıdaki türlerin hangisinden alınmış olabilir?

- A) Anı B) Gezi yazısı
C) Makale D) Fıkra

19. I. Yakup Kadri Karaosmanoğlu, Tanzimat'tan Cumhuriyet'e toplumun geçirdiği aşamaları konu edinmiştir.
II. Halide Edip Adivar, ilk yıllarında bireysel duyguları konu alan romanlar yazmıştır.
III. Reşat Nuri Güntekin, duygusal gerçeklikle İstanbul'a, İstanbul insanının dünyasına eğilmiştir.
IV. Peyami Safa, eserlerini toplumcu - gerçekçi bir bakış açısıyla kaleme almıştır.

Numaralandırılmış cümlelerin hangilerinde bilgi yanışı vardır?

- A) I ve II. B) II ve IV.
C) II ve III. D) III ve IV.

20. Aşağıdakilerden hangisi 1900'lü yıllarda başmakaleleriyle ün kazanmış sanatçılardan değildir?

- A) Hüseyin Cahit Yalçın
B) Abdülhak Hamit Tarhan
C) Ahmet Emin Yalman
D) Asım Us

1. Karadutum, çatal karam, çingenem
Nar tanem, nur tanem, bir tanem
Ağaç isem dalımsın salkım şaçak
Petek isem balımsın ağıulum
Günahımsın, vebalımsın

Bu dizelerle ilgili aşağıdakilerden hangisi söylenemez?

- A) Sevgiliye duyulan aşk anlatılmıştır.
B) Belli bir uyak düzeni yoktur.
C) Halk söyleyişlerine yer verilmiştir.
D) Öz şiir anlayışının etkileri görülmektedir.

2. Kargalar sakın anneme söylemeyin
Bugün toplar atılırken evden kaçıp
Harbiye Nezareti'ne gideceğim
Söylemezseniz size macun alırım

Bu dizelerin teması aşağıdakilerden hangisidir?

- A) Çocukluk B) Aşk
C) Yalnızlık D) Özlem

3. Sana dün bir tepeden baktım aziz
İstanbul!
Görmedim: Gezmediğim, sevmediğim
hiçbir yer.
Ömrüm oldukça, gönül tahtıma key-
fince kurul!
Sâde bir semtini sevmek bile bir
ömre değer.

Bu dizelerle ilgili aşağıdakilerden hangisi söylenemez?

- A) İstanbul sevgisi konu olarak işlenmiştir.
B) Uyak düzeni "abab" şeklindedir.
C) Serbest nazım biçiminden faydalanılmıştır.
D) Sade, anlaşılır bir dil kullanılmıştır.

4. "Orda bir köy var uzakta / O köy bizim köyümüzdür..." dizeleriyle tanınan sanatçı Cumhuriyet'in getirdiği ulusal kültür ortamının etkisiyle folklor araştırmalarına yönelmiştir. Sanatçının tiyatro oyunlarında da yurdu sevmeye, tanıtmaya ve memleketçi bir çabanın izleri görülür.

Bu metinde sözü edilen sanatçı aşağıdakilerden hangisidir?

- A) Aşık Veysel Şatıroğlu
B) Ahmet Kutsi Tecer
C) Mehmet Âkif Ersoy
D) Orhan Veli Kanık

5. Böyle havada âşık oldum.
Eve ekme ve tuz götürmeyi,
Böyle havalarda unuttum.
Şiir yazma hastalığım,
Böyle havalarda nüksetti;
Beni bu güzel havalarda mahvetti.

Bu dizeler aşağıdaki şiir anlayışlarından hangisine ait olabilir?

- A) Halk şiiri B) Tanzimat şiiri
C) Öz şiir D) Garip şiiri

1. OTURUM

6. Aşağıdakilerden hangisi Garip şiirinin özelliklerinden değildir?

- A) Ölçü ve kafiye reddedilir.
- B) Günlük konuşma dili kullanılır.
- C) Parça güzelliği önem kazanmıştır.
- D) Mizahi ve nükteli söyleyişlere yer verilmiştir.

7. Ben bu aşkın çilesini
Yanar çektim, tüter çektim
Yedim gonca sillesini
Bülbül gibi öter çektim

Bu dizelerle ilgili aşağıdakilerden hangisi söylenemez?

- A) Koçaklama türünde yazılmıştır.
- B) Uyak düzeni "abab" şeklindedir.
- C) Hece ölçüsü kullanılmıştır.
- D) Halk şiiri geleneğine aittir.

8. Durakta üç kişi
Adam kadın ve çocuk
Adam hüzünlü
Hüzünlü şarkılar gibi hüzünlü
Kadın güzel
Güzel anılar gibi güzel

Bu metin aşağıdaki şiir anlayışlarından hangisine ait olabilir?

- A) Divan şiiri
- B) İkinci Yeni şiiri
- C) Halk şiiri
- D) Millî edebiyat şiiri

9. Aşağıdakilerden hangisi II. Yeni şiirinin özelliklerinden biridir?

- A) Bireyci bir şiir anlayışı söz konusudur.
- B) Söz sanatlarına yer vermemişlerdir.
- C) Günlük konuşma dilini kullanmışlardır.
- D) "Şiir; basit, sıradan ve alelade olmalıdır." görüşünü benimsemişlerdir.

10. Annemin bana öğrettiği ilk kelime Allah, şah damarımdan yakın bana benim içimde

Annem bana gülü şöyle öğretti
Gül, Onun, o sonsuz iyilik güneşinin teriydi

Bu dizeler aşağıdaki II. Yeni şairlerinden hangisine ait olabilir?

- A) Tevfik Fikret
- B) Ziya Gökalp
- C) Sezai Karakoç
- D) Cenap Şehabettin

11. Seni bana veren o yüce Ganî
Alırlar elimden korkarım seni
Kaddimi büküp öldürsen beni
Üstüme düşmanım güldürme beni

Bu dördümlük aşağıdaki nazım türlerinden hangisine ait olabilir?

- A) Koçaklama
- B) Taşlama
- C) Ağıt
- D) Güzelleme

12. Aşağıdaki eserlerden hangisi hikâye ve romanda mekân olarak İstanbul'dan Anadolu'ya geçişin örneklerinden değildir?

- A) İki Yeşil Su Samuru
- B) Karabibik
- C) Küçük Paşa
- D) Memleket Hikâyeleri

13. 1950'den sonra Garip şiirinin çıkış noktasından uzaklaşması sonucu yeni arayışlara yönelen Cemal Süreya, Edip Cansever gibi şairler toplumcu şiir dışında yeni bir akım başlattılar. Bu akım anlamda kapalılığı, somuta karşı soyutlamayı, değişik çağrışımlarla imgeci bir şiir anlayışını savunmuştur.

Bu metinde sözü edilen şiir anlayışı aşağıdakilerden hangisidir?

- A) Millî edebiyat
- B) Beş Hececiler
- C) Garip
- D) II. Yeni

14. Aşağıdakilerden hangisi Cumhuriyet Dönemi Türk Edebiyatı'nda deneme ve eleştiri türünde eser vermiş sanatçılardan değildir?

- A) Nurullah Ataç
- B) Buket Uzuner
- C) Suut Kemal Yetkin
- D) Sabahattin Eyuboğlu

15. Aşağıdakilerden hangisi Mehmet Âkif Ersoy'un edebî özelliklerinden değildir?

- A) İslami duyarlılığıyla millî kaygılarını birleştirmiştir.
- B) Konuşma dilini şiirlerinde kullanmıştır.
- C) Aruz ve heceyi reddeden bir şiir anlayışına sahiptir.
- D) Kuvvetli gözlemleriyle hayat sahanelerini eserlerine yansıtmıştır.

16. Aşağıdakilerden hangisi Türk edebiyatında hikâye türünün önde gelen yazarlarından değildir?

- A) Tevfik Fikret
- B) Ömer Seyfettin
- C) Necati Cumalı
- D) Aziz Nesin

17. 1980 sonrası Türk romancılar arasında anlatım teknikleri ve postmodern yaklaşımlarıyla dikkat çekmiştir. II. Meşrutiyet'ten 12 Mart'a kadar bir zaman dilimi içinde bir ailenin yaşamını anlattığı ilk romanı, Cevdet Bey ve Oğulları'dır. Yeni Hayat adlı romanı ise onun romancılık hayatındaki yolunu belirlemiştir.

Bu metinde sözü edilen yazar aşağıdakilerden hangisidir?

- A) İpek Ongun
- B) İnci Aral
- C) Nazım Hikmet
- D) Orhan Pamuk

18. Aşağıdakilerden hangisi 1980 sonrası şiir anlayışı için söylenemez?

- A) Konu açısından incelendiğinde şehirli kimlik ön plandadır.
- B) Şiirlerde imgelere yer verilmemiştir.
- C) Şiir düz yazıya yaklaştırılmıştır.
- D) Yapı ve söyleyişten çok içerik önemsenmiştir.

19. Aşağıdakilerden hangisi psikolojik roman tarzında eser veren yazarlardan değildir?

- A) Mehmet Rauf
- B) Peyami Safa
- C) Recaizâde Mahmut Ekrem
- D) Cemil Süleyman

20. Aşağıdakilerden hangisi Garip dışında yeniliği sürdüren şiir anlayışının temsilcilerinden değildir?

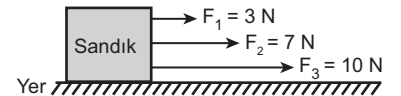
- A) Orhan Veli Kanık
- B) Behçet Necatigil
- C) Fazıl Hüsnü Dağlarca
- D) Necati Cumalı

(421) FİZİK – 1

1. Madde ve enerji arasındaki etkileşimi inceleyen doğada gerçekleşen olaylarla ilgili mantıklı açıklamalar getirmeye çalışan bilim dalı aşağıdakilerden hangisi ile açıklanır?

- A) Kimya
- B) Fizik
- C) Arkeoloji
- D) Biyoloji

2. Şekildeki sandık üç kişi tarafından aynı yön ve doğrultuda 3 N, 7 N ve 10 N'luk kuvvetlerle çekilmektedir.



Sandığa etki eden bileşke kuvvet kaç Newton'dur? (Sürtünmeler önemsizdir.)

- A) 10
- B) 17
- C) 20
- D) 23

3. Aşağıdaki ifadelerden hangisi vektörel bir büyüklüktür?

- A) Fizik dersi süresi 40 dakikadır.
- B) Ankara'nın hava sıcaklığı $18\text{ }^\circ\text{C}$ 'dir.
- C) Rüzgarın hızı kuzeyden güneye doğru 72 km/h 'dir.
- D) Suyun özkütlesi 1 g/cm^3 dür.

4. Aşağıdakilerden hangisi fizik biliminin alt dallarından biri değildir?

- A) Mekanik
- B) Termodinamik
- C) Elektrik
- D) Botanik

1. OTURUM

5. Yoğurt ve sudan elde edilen bir karışım olan ayrandan tereyağının geleneksel usullerle üretilmesi,

- I. Özkütle
- II. Hacim
- III. Koku

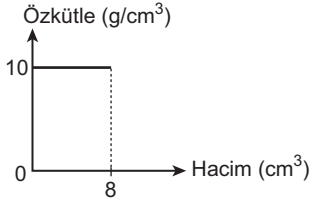
maddenin niceliklerinden hangileri ile açıklanır?

- A) Yalnız I.
- B) I ve II.
- C) II ve III.
- D) I ve III.

6. Bir futbol topunun kütlesi 400 g olduğuna göre bu topun kilogram cinsinden değeri kaçtır? (1 kg = 1000 g)

- A) 0,04
- B) 0,4
- C) 4
- D) 40

7. Bir cisme ait özkütle – hacim grafiği şeklindeki gibidir.



Buna göre cismin hacmi 2 cm³ olduğunda özkütlesi kaç g/cm³ olur?

- A) 2
- B) 4
- C) 8
- D) 10

8. Hülya yeşil marul yapraklarını mavi renkli suyun içine koyup bir süre beklettikten sonra yaprakların renginin değiştiğini görüyor.

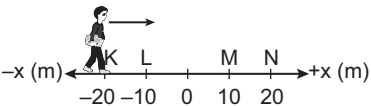
Bu olay fizik bilimi içerisinde aşağıdakilerden hangisi ile açıklanır?

- A) Yüzey gerilimi
- B) Yapışma (Adezyon)
- C) Kılcallık
- D) Ağırlık

9. Aşağıdaki hareketlerden hangisi hem dönme hem de öteleme hareketine örnek verilebilir?

- A) Salıncakta sallanma
- B) Gitar telinin hareketi
- C) Bisiklete binen çocuk yolda ilerlerken bisikletin tekerleklerinin hareketi
- D) Arının uçarken kanatlarının hareketi

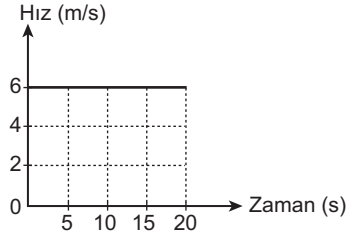
10.



Şekildeki doğrusal yolda +x yönünde hareket eden öğrenci K noktasından N noktasına geldiğinde kaç metre yer değiştirmiş olur?

- A) 20
- B) 40
- C) 60
- D) 80

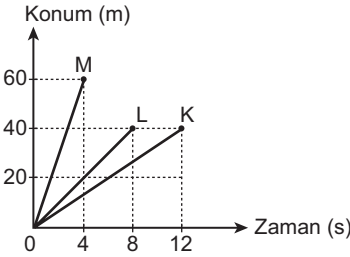
11. Düzgün doğrusal hareket yapan bir arabanın hız – zaman grafiği şekildeki gibidir.



Buna göre araba (0-10) saniyede kaç metre yol almıştır?

- A) 20
- B) 60
- C) 100
- D) 120

12.



Konum – zaman grafikleri şekildeki gibi olan K, L ve M arabalarının hızlarının büyüklükleri (V_K, V_L, V_M) arasındaki ilişki nedir?

- A) $V_K = V_L > V_M$
- B) $V_L > V_M > V_K$
- C) $V_K > V_L > V_M$
- D) $V_M > V_L > V_K$

13. Oya evden çıkıp 4 km uzaklıktaki okuluna gidip ders bitiminde tekrar yürüyerek evine geliyor.

Buna göre Oya'nın toplam yer değiştirmesi kaç km'dir?

- A) 0
- B) 2
- C) 4
- D) 8

14. Trafikte Yeşil Dalga koordinasyon sistemi uygulaması sonucu;

- I. Araçların kırmızı ışığa yakalanmadan kavşaklardan geçebilmesi sağlanır.
- II. Seçilen yollarda araçlar belli bir ortalama hızla geçerler.
- III. Bu uygulamaya yolun başından bakıldığında art arda ve belli zaman aralıklarıyla yanan yeşil ışık görülür.

İfadelerinden hangileri doğrudur?

- A) I ve II.
- B) II ve III.
- C) I ve III.
- D) I, II ve III.

15. Çevremizdeki kuvvetler etkileşim sonucu oluşur.

Buna göre aşağıdakilerden hangisi temas gerektirmeyen kuvvettir?

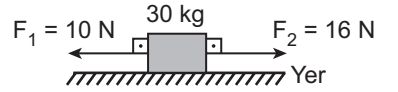
- A) Sürtünme kuvveti
- B) Havanın direnç kuvveti
- C) Kütle-çekim kuvveti
- D) Kaldırma kuvveti

16. Okul sırasını iki kişi 15 N'luk kuvvetlerle zıt yönde çekmektedir.

Buna göre sıraya etki eden net kuvvet kaç Newton'dur?

- A) 0
- B) 15
- C) 30
- D) 45

17. Bir cisme etki eden net kuvvetin kütle miktarına bölümü ivmeyi verir.



Sürtünmenin önemsiz olduğu bir düzlemde duran 30 kg'lık cisme yere paralel olarak şekildeki kuvvetler etki etmektedir.

Buna göre cismin ivmesi kaç m/s² dir?

- A) 0,2
- B) 0,5
- C) 0,7
- D) 1

18. Bir cismin kütlesi ile yerçekimi ivmesinin çarpımı cisme ait olan ağırlık değerini verir.

Buna göre Oya'nın kütlesi 45 kg olduğuna göre ağırlığı kaç Newton'dur? (g = 10 m/s²)

- A) 0,45
- B) 4,5
- C) 450
- D) 4500

19. Aşağıdakilerden hangisi sürtünme kuvvetinin dezavantajlarından biridir?

- A) Yürüeyebilmek
- B) Yazı yazmak
- C) Cisimlerin olduğu yerde durması
- D) Araba motorlarında pistonların aşınması

20. • Hız --▲-- bir büyüklüktür.
• Düzgün doğrusal harekette --●-- sabittir.
• Pusulanın iğnesinin dönmesi --■-- gerektirmeyen bir kuvvettir.

Yukarıdaki ▲, ● ve ■ boşlukları aşağıdakilerden hangileri ile eşleştirilirse doğru olur?

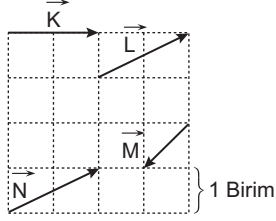
- | | | |
|-------------|----------|----------|
| ▲ | ● | ■ |
| A) Temas | Hız | Vektörel |
| B) Vektörel | Hız | Temas |
| C) Hız | Temas | Vektörel |
| D) Temas | Vektörel | Hız |

1. OTURUM

(425) SEÇ. FİZİK – 1

1. Yönü ve büyüklüğü aynı olan vektörlere eşit vektörler denir.

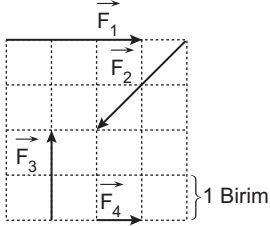
Buna göre kareli sistemde verilen,



şekildeki vektörlerden hangileri eşit vektördür?

- A) \vec{K} ve \vec{L} B) \vec{L} ve \vec{M}
C) \vec{L} ve \vec{N} D) \vec{K} , \vec{M} ve \vec{N}

2. Kareli sistem ve aynı düzlemde $\vec{F}_1, \vec{F}_2, \vec{F}_3$ ve \vec{F}_4 kuvvetleri verilmiştir.



Buna göre hangi kuvvetin büyüklüğü (şiddeti) en küçüktür?

- A) \vec{F}_1 B) \vec{F}_2 C) \vec{F}_3 D) \vec{F}_4

3. Bir cismin bir gözlemciye göre olan hareketine bağlı hareket, hızına ise bağlı hız denir.

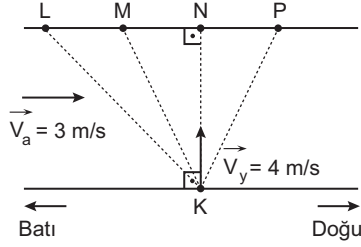
Buna göre doğrusal bir otoyolda 100 km/h sabit hızla doğu yönünde giden bir otobüste arka tarafta oturan bir yolcu, otobüs şoförünü hangi bağlı hızla görür?

- A) 100 km/h sabit hızla doğu yönünde görür.
B) 100 km/h sabit hızla batı yönünde görür.
C) (0 km/h = hızı sıfırdır) duruyor görür.
D) 100 km/h doğu yönünde hızlandığını görür.

4. Doğu yönünde 60 km/h büyüklüğünde sabit hızla esen rüzgârlı bir havada, havaya göre 200 km/h büyüklüğünde ve rüzgârla aynı yönde hareket eden bir uçağın bileşke hızının (yere göre hız) büyüklüğü nedir?

- A) 260 km/h doğu yönde
B) 260 km/h batı yönde
C) 140 km/h doğu yönde
D) 140 km/h batı yönde

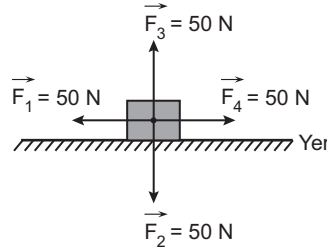
5. Akıntı hızı sabit $V_a = 3$ m/s büyüklüğünde bir nehirde, bir yüzücü suya göre $V_y = 4$ m/s büyüklüğünde sabit hızla şekildeki gibi K noktasından dik olarak harekete geçiyor.



Buna göre akıntı yönü doğu yönde olan nehirde yüzücü L, M, N ve P noktalarından hangisinde karaya çıkabilir?

- A) L B) M C) N D) P

6. Ağırlık, bir cismin kütlesi (m) ve yerçekim ivmesi (g) çarpımı ile hesaplanır.



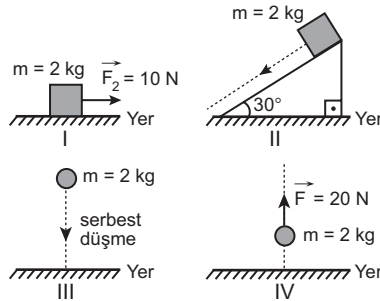
Buna göre, kütlesi 5 kg olan cisim için şekildeki gösterilen $\vec{F}_1, \vec{F}_2, \vec{F}_3$ ve \vec{F}_4 kuvvetlerinden hangisi ağırlık yerine gösterilmiştir?

($g = 10$ m/s²)

- A) \vec{F}_1 B) \vec{F}_2 C) \vec{F}_3 D) \vec{F}_4

7. Bir cisim hareket hâlinde iken hızında değişim varsa ivmeli hareket eder. İvme, net kuvvetin cismin kütlesine bölümü ile bulunur.

Buna göre sürtünmenin önemsiz olduğu ortamlarda;

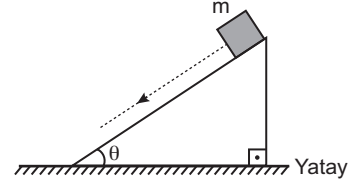


şekilde verilen hareketli cisimlerden I, II, III ve IV hangisinin ivmesinin büyüklüğü en fazladır?

($\sin 30^\circ = \frac{1}{2}$ ve $g = 10$ m/s²)

- A) I B) II C) III D) IV

8. Sürtünmesi önemsiz eğik düzlemde m kütleli cisim serbest bırakılıyor.



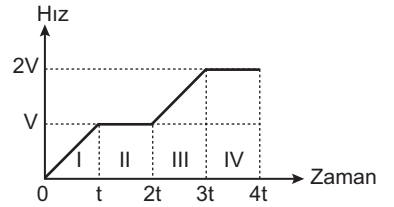
Buna göre hareketli cismin ivmesi;

- I. yerçekim ivmesi (g)
II. eğik düzlemin eğim açısı (θ)
III. cismin kütlesi (m)

ifadelerinden hangilerine bağlıdır?

- A) Yalnız I. B) I ve II.
C) II ve III. D) I, II ve III.

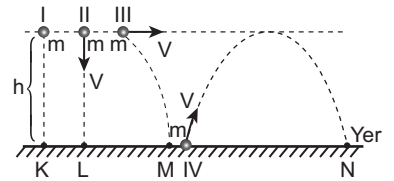
9. Bir arabaya ait hız–zaman grafiği şekildeki gibidir.



Buna göre I, II, III ve IV zaman aralıklarının hangilerinde arabanın ivmesi sıfırdır?

- A) Yalnız I. B) Yalnız III.
C) II ve IV. D) I ve III.

10. Hava sürtünmesinin önemsiz olduğu bir ortamda serbest düşme (I), aşağıya doğru düşey atış (II), yatay atış (III) ve eğik atış (IV) hareketi yapan eşit kütleli cisimler şekildeki gibidir.



Buna göre K, L, M ve N noktalarında yere çarpma hızlarının büyüklüğü hangisinde en küçüktür?

(V = Cisimlerin ilk hız büyüklüğüdür.)

- A) K B) L C) M D) N

11. Hava ortamında serbest bırakılan bir cisim düşerken hava direnç kuvveti, yer çekim kuvvetine eşit olduğu anda limit hızla düşer. Bu anda cisme etki eden net kuvvet sıfırdır.

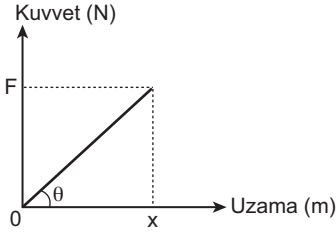
Buna göre,

- I. Yağmur damlasının hızı
II. Kar tanelerinin hızı
III. Paraşütle aşağı inen kişinin hızı
verilen örneklerden hangileri limit hızla hareket edebilir?

- A) Yalnız I. B) Yalnız II.
C) I ve II. D) I, II ve III.

1. OTURUM

12. Bir yaya uygulanan kuvvetle, yayın uzama miktarı arasındaki grafik şekildedir.



Buna göre F , x ve θ değerleri bilindiğine göre aşağıdaki verilen fiziksel niceliklerden hangisi bulunabilir?

- A) Yayın kesit alanı
B) Yayın kuvvet sabiti
C) Yayın cinsi
D) Yayın uzunluğu

13. Sürtünmesi önemsiz ortamda ve sürtülmeli ortamlarda enerji korunumu ilkesine göre aşağıdakilerden hangisi yanlış olur?

- A) Sürtünmesiz ortamda kinetik enerji ile potansiyel enerji toplamı mekanik enerjii verir.
B) Sürtünmesiz ortamda serbest düşme hareketi yapan cismin başlangıçtaki potansiyel enerjisi yere çarpma anındaki kinetik enerjisine eşittir.
C) Sürtünmesiz ortamda sabit hızla hareket eden bir cismin kinetik enerjisi değişmez.
D) Sürtülmeli ortamda serbest düşme hareketi yapan cismin başlangıçtaki potansiyel enerjisi yere çarpma anındaki kinetik enerjisinden küçüktür.

14. İtme, bir cisme uygulanan net kuvvet ile bu kuvvetin uygulama süresinin çarpımı olarak verilir. İtme vektörel bir büyüklüktür.

Buna göre kütlesi 5 kg olan bir cisim 20 m yükseltile serbest bırakılıyor. Yere düşene kadar cisme etki eden itme kaç $N \cdot s$ 'dir? (Sürtünmeler önemsiz ve $g = 10 \text{ m/s}^2$)

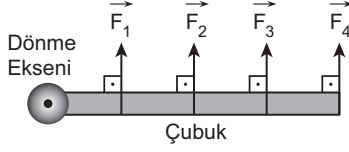
- A) 100 B) 50 C) 10 D) 5

15. Kütlesi m , hızının büyüklüğü V olan bir cismin momentumunun büyüklüğü P 'dir.

Buna göre kütlesi $3m$, hızının büyüklüğü $4V$ olan cismin momentumunun büyüklüğü kaç P olur?

- A) 12 B) 9 C) 7 D) 1

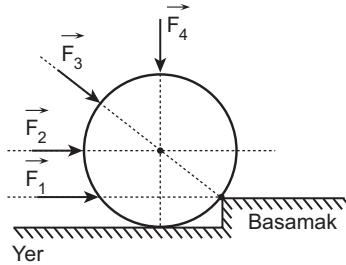
16. Bir kuvvetin bir noktaya göre döndürme etkisine tork denir.



Buna göre, şekildedeki çubuğa etki eden $\vec{F}_1, \vec{F}_2, \vec{F}_3$ ve \vec{F}_4 kuvvetlerinin büyüklükleri eşit ise dik olarak etki eden bu kuvvetlerden hangisinin dönme eksenine göre torku en fazladır?

- A) \vec{F}_1 B) \vec{F}_2 C) \vec{F}_3 D) \vec{F}_4

17. Günlük hayatta kapıyı açarken uygulanan kuvvet menteşe doğrultusunda olursa kapıyı açamaz veya kapamazsınız.



Buna göre, şekildedeki silindir biçimindeki cisim hangi kuvvet tek başına basamağa çıkarabilir?

- A) \vec{F}_1 B) \vec{F}_2 C) \vec{F}_3 D) \vec{F}_4

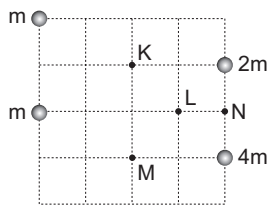
18. Günlük hayatta kullanılan basit makineler;

- Kuvvetten kazanç
 - Yoldan kazanç
 - İş kolaylığı
- sağlaması için kullanılır.

Buna göre aşağıdaki basit makinelerden amacına uygun olarak kullanıldığından hangisinde kuvvet kazancı sağlanır?

- A) Maşa
B) Sabit makara
C) El arabası
D) Tahterevalli

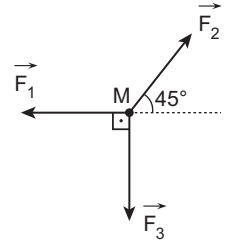
19. Kareli sistem ve yatay düzlemde m , m , $2m$ ve $4m$ kütleli cisimler şekildedeki gibi yerleştirilmiştir.



Buna göre sistemin kütle merkezi hangi noktadadır?

- A) K B) L C) M D) N

20. Yatay ve sürtünmesiz düzlemdeki noktasal M cismi, şekildedeki gibi aynı düzlemde bulunan \vec{F}_1, \vec{F}_2 ve \vec{F}_3 kuvvetlerin etkisiyle dengededir.



Buna göre bu kuvvetlerin büyüklükleri arasındaki ilişki nasıldır?

$$\left(\sin 45^\circ = \cos 45^\circ = \frac{1}{\sqrt{2}} \right)$$

- A) $\vec{F}_2 > \vec{F}_1 = \vec{F}_3$
B) $\vec{F}_2 = \vec{F}_1 > \vec{F}_3$
C) $\vec{F}_2 > \vec{F}_1 > \vec{F}_3$
D) $\vec{F}_1 = \vec{F}_2 = \vec{F}_3$

(432) KİMYA – 2

1. • F_2



Verilen kimyasal türlerden kaç tanesi "iyon" sınıfında yer alır?

- A) 1 B) 2 C) 3 D) 4

2. I. nötron
II. proton
III. elektron

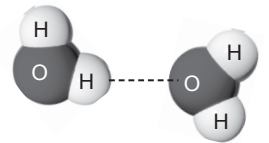
Yukarıda verilen taneciklerden hangileri atomun çekirdeğinde bulunur?

- A) Yalnız III. B) I ve II.
C) II ve III. D) I, II ve III.

3. Negatif (–) elektrik yüklü kimyasal türe ne ad verilir?

- A) Molekül B) Anyon
C) Atom D) Bileşik

- 4.



Şekilde verilen H_2O molekülleri arasında bulunan, kesikli çizgi (---) ile gösterilmiş bağ aşağıdakilerden hangisidir?

- A) İyonik bağ B) Kovalent bağ
C) Metalik bağ D) Hidrojen bağı

1. OTURUM

(436) SEÇ. KİMYA – 2

5. ${}^2\text{He}$ elementinin Lewis yapısı aşağıdakilerden hangisidir?
A) :He: B) :He• C) •He• D) •He
6. "NaCl" bileşiğinin adı aşağıdakilerin hangisinde verilmiştir?
A) Kükürt dioksit
B) Potasyum florür
C) Sodyum klorür
D) Alüminyum nitrür
7. Ba^{2+} ve O^{2-} iyonlarından oluşan bileşiğin formülü hangisinde doğru verilmiştir?
A) BaO B) Ba_2O
C) BaO_2 D) Ba_2O_3
8. Metallerin erime ve kaynama noktalarının yüksek olmasına neden olan bağ, aşağıdakilerden hangisidir?
A) İyonik bağ B) Kovalent bağ
C) Metalik bağ D) Hidrojen bağı
9. Aşağıdakilerden hangisi fiziksel değişmeye örnektir?
A) Limonun küflenmesi
B) Sütten yoğurt yapılması
C) Odunun yanması
D) Camın kırılması
10. Aşağıda verilen bileşiklerden hangisinin atomları arasında apolar kovalent bağ bulunur?
(${}_1\text{H}$, ${}_7\text{N}$, ${}_8\text{O}$, ${}_{17}\text{Cl}$)
A) H_2O B) O_2
C) NH_3 D) HCl
11. Aşağıda verilen olaylardan hangisi gerçekleşirken madde dışarıya ısı verir?
A) Erime B) Buharlaşma
C) Donma D) Süblimleşme
12. • Katı
• Sıvı
• Gaz
• Plazma
Yukarıda verilenlerden kaç tanesi maddenin fiziksel hâllerindedir?
A) 1 B) 2 C) 3 D) 4
13. I. Maddenin en düzenli hâlidir.
II. Belirli bir şekli ve hacmi vardır.
III. Tanecikleri titreşim ve öteleme hareketi yapar.
Verilen özelliklerden hangileri maddenin "Katı" hâline aittir?
A) Yalnız I. B) I ve II.
C) II ve III. D) I, II ve III.

14. "Sıvılaştırılmış petrol gazı" diye adlandırılan madde aşağıdakilerden hangisidir?
A) Benzin B) Mazot
C) LPG D) Fuel oil
15. Aşağıdakilerden hangisi kristal katıya örnek verilemez?
A) Plastik B) Elmas
C) Tuz D) İyot
16. I. Su
II. Bal
III. Zeytinyağı
Yukarıda verilen maddelerin eşit miktarlarının oda sıcaklığındaki akıcılıkları arasındaki ilişki hangisinde doğru verilmiştir?
A) I > II > III B) I > III > II
C) II > III > I D) III > I > II
17. Bir sıvı yeterli ısı enerjisi aldığı anda sıvı yüzeyindeki taneciklerin sıvı yüzeyinden ayrılmasına - - - - denir.
Verilen tanımda boş bırakılan yere aşağıdakilerden hangisi yazılmalıdır?
A) süblimleşme B) yoğuşma
C) buharlaşma D) kırılgılaşma
18. Deniz seviyesinden yükseklik değerleri verilen I, II, III ve IV numaralı şehirlerin hangisinde ölçülen atmosfer basıncı en düşüktür?
A) I. şehir – 75 metre
B) II. şehir – 245 metre
C) III. şehir – 850 metre
D) IV. şehir – 1300 metre
19. Yeryüzündeki su kaynaklarının en büyük miktarını aşağıdakilerden hangisi oluşturur?
A) Yer altı suları
B) Denizler ve okyanuslar
C) Göller
D) Buz dağları ve buzullar
20. • Piller
• Plastikler
• Deterjanlar
• Ağır metaller
Yukarıda verilenlerden kaç tanesi su ve toprak kirliliğine neden olur?
A) 4 B) 3 C) 2 D) 1

1. "Genellikle polar maddeler I çözücülerde, apolar maddeler II çözücülerde iyi çözünür."

Yukarıdaki açıklamada I ve II numaralı boşluklara aşağıdakilerden hangisi yazılmalıdır?

- | | I | II |
|----|--------|--------|
| A) | apolar | polar |
| B) | apolar | iyonik |
| C) | polar | apolar |
| D) | iyonik | polar |

2. I. Molarite
II. Kütlece yüzde
III. ppm (milyonda bir kısım)
Verilenlerden hangileri çözelti derişim birimleridir?
A) Yalnız II. B) I ve II.
C) II ve III. D) I, II ve III.

3. 90 gram suda 10 gram şekerin çözünmesiyle oluşan şekerli su çözeltisi kütlece yüzde kaçtır?
A) 10 B) 15 C) 20 D) 30

4. 200 mL 2 M NaCl çözeltisine kaç mililitre su eklenirse çözelti derişimi 1 M olur?
A) 150 B) 200 C) 300 D) 500

5. Aşağıdakilerden hangisi çözeltilerin koligatif özelliklerinden değildir?
A) Buhar basıncı düşmesi
B) Kaynama sıcaklığı yükselmesi
C) Molalite
D) Donma sıcaklığı düşmesi

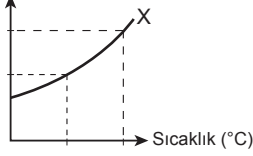
6. 2 g NaCl 8 g NaCl 12 g NaCl 20 g NaCl
I II III IV
100 mL saf su 100 mL saf su 100 mL saf su 100 mL saf su

Yukarıdaki kaplarda aynı şartlarda, belirtilen miktarlarda NaCl çözünecek hazırlanan çözeltilerden hangisi daha seyreltiktir?

- A) I. B) II. C) III. D) IV.

1. OTURUM

7. Çözünürlük (g/100 g su)



Verilen çözünürlük-sıcaklık grafiğine göre, X maddesinin çözünürlüğü sıcaklıkla nasıl değişim göstermiştir?

- A) Sabit kalmıştır.
B) Artmıştır.
C) Azalmıştır.
D) Önce artmış, sonra sabit kalmıştır.
8. Aşağıdakilerden hangisi sabit basınçlı sistemdir?
A) İzokorik B) İzotermal
C) İzole D) İzobarik
9. "Entropi bir sistemin düzensizliğinin ölçüsüdür."
Aşağıdaki olayların hangisinde sistemin entropisi azalır?
A) Suyun donması
B) Buzun erimesi
C) Suyun 30 °C'tan 60 °C'a ısıtılması
D) Tuzun suda çözünmesi
10. Aşağıda bazı tepkime denklemleri ve entalpi değişimleri verilmiştir.
 $H_2(g) + \frac{1}{2}O_2(g) \rightarrow H_2O(g) \quad \Delta H_1$
 $H_2O(s) \rightarrow H_2(g) + \frac{1}{2}O_2(g) \quad \Delta H_2$
Buna göre; $H_2O(s) \rightarrow H_2O(g)$ tepkimesinin entalpi değişimi aşağıdaki eşitliklerden hangisi ile hesaplanır?
A) $\Delta H = \Delta H_1 - \Delta H_2$
B) $\Delta H = 2\Delta H_1 + \Delta H_2$
C) $\Delta H = \Delta H_1 + \Delta H_2$
D) $\Delta H = \Delta H_2 - \Delta H_1$
11. Tek basamakta gerçekleşen $X(g) + Y(g) \rightarrow Z(g)$ tepkimesinin derecesi aşağıdakilerden hangisidir?
A) 0 B) 1 C) 2 D) 3
12. Hız bağıntısı $k \cdot [N_2][H_2]^3$ şeklinde olan tek basamaklı tepkime aşağıdakilerden hangisi olabilir?
A) $2N_2(g) + 3H_2(g) \rightarrow NH_3(g)$
B) $N_2(g) + 3H_2(g) \rightarrow 2NH_3(g)$
C) $NH_3(g) \rightarrow N_2(g) + H_2(g)$
D) $2NH_3(g) \rightarrow N_2(g) + 3H_2(g)$

13. Tepkime hızı ile ilgili;
I. Sıcaklık artışı tepkime hızını artırır.
II. Mekanizmalı tepkimelerde tepkime hızını yavaş gerçekleştiren basamak belirler.
III. Tepkime hızı, tepkimeye giren maddelerin derişimlerine bağlı olabilir.
Bilgilerinden hangileri doğrudur?
A) Yalnız I. B) I ve II.
C) II ve III. D) I, II ve III.
14. $2C_{(k)} + O_{2(g)} \rightleftharpoons 2CO_{(g)}$ tepkimesinin denge bağıntısı aşağıdakilerden hangisidir?
A) $K_c = \frac{[CO]^2}{[O_2]}$
B) $K_c = \frac{[CO]^2}{[C]^2[O_2]}$
C) $K_c = [C]^2[O_2]$
D) $K_c = [CO]^2$
15. $A_{(g)} + B_{(g)} \rightleftharpoons 2C_{(g)}$ tepkimesinin belli bir sıcaklıktaki K_c değeri 2'dir.
Buna göre;
 $2A_{(g)} + 2B_{(g)} \rightleftharpoons 4C_{(g)}$ tepkimesinin aynı şartlardaki K_c değeri kaçtır?
A) 1 B) 2 C) 4 D) 8
16. $PCl_3(g) + Cl_2(g) \rightleftharpoons \frac{1}{2}PCl_5(g)$
Yukarıda verilen denge tepkimesinin sabit sıcaklıkta 1 yönünde ilerlemesi için;
I. Ortama bir miktar PCl_3 gazı eklemek,
II. Ortama bir miktar PCl_5 gazı eklemek,
III. Tepkimenin gerçekleştiği kabın hacmini küçültmek
işlemlerinden hangileri uygulanabilir?
A) Yalnız II. B) I ve II.
C) I ve III. D) II ve III.
17. 25 °C'taki sulu çözeltinin pH değeri 4 ise pOH değeri kaçtır?
A) 14 B) 10 C) 6 D) 2
18. CH_3COOH asidinin konjuge bazı aşağıdakilerden hangisidir?
A) NHO_3 B) H_3O^+
C) SO_4^{2-} D) CH_3COO^-

19. 25 °C'taki sulu çözeltiler için,
I. pH<7 ise çözelti asidiktir.
II. pH>7 ise çözelti baziktir.
III. pH=7 ise çözelti nötrdür.
İfadelerinden hangileri doğrudur?
A) Yalnız III. B) I ve II.
C) II ve III. D) I, II ve III.
20. $CaF_2(k) \rightleftharpoons Ca^{2+}_{(suda)} + 2F^{-}_{(suda)}$ tepkimesinin çözünürlük çarpımı bağıntısı aşağıdakilerden hangisinde doğru yazılmıştır?
A) $K_{çç} = [Ca^{2+}][F^-]^2$
B) $K_{çç} = [Ca^{2+}][F^-]$
C) $K_{çç} = [Ca^{2+}]^2[2F^-]$
D) $K_{çç} = [2Ca^{2+}][F^-]^2$

(441) BİYOLOJİ – 1

1. Bilimin doğası ile ilgili;
I. Doğa üstü olaylar bilimin çalışma konusu değildir.
II. Bilimsel araştırmalarda tek metot-
tan yararlanılır.
III. Bilim tümüyle gözlem ve deneye dayalı değildir.
İfadelerinden hangileri doğrudur?
A) Yalnız II. B) I ve II.
C) II ve III. D) I, II ve III.
2. Bilimsel bilgi üretilirken tümdengelim ve tümevarım yaklaşımları kullanılır. Tümdengelim genelden özele akıl yürütmedir. Tümevarım ise çok sayıdaki özel gözlemden genellemeler çıkarılmasıdır.
Buna göre aşağıda verilenlerden hangisi tümdengelimdir?
A) Bit, yaras, koyun, solucan besinlerini dış ortamdan hazır olarak alırlar. O hâlde hayvanlar da besinlerini dış ortamdan hazır olarak alırlar.
B) Bütün organizmalar hücrelerden yapılmıştır. O hâlde insanlar da hücrelerden yapılmıştır.
C) Bitki, mantar ve bakteri hücreleri hücre duvarına sahiptir. O hâlde bütün canlılar hücre duvarına sahiptir.
D) Bakterilerde zarla çevrili organeller bulunmaz. O hâlde prokaryot organizmalarda da zarla çevrili organeller bulunmaz.

1. OTURUM

3. "Tüm bitki çeşitleri kendi besinlerini kendileri üretir." hipotezini kuran bir bilim insanı bazı bitki türlerinin besinlerini dış ortamdan hazır olarak aldığı tespit etmiştir.

Buna göre bilim insanının yapması gereken ilk iş aşağıdakilerden hangisidir?

- A) Hipotezini gözden geçirerek yeni bir hipotez kurmalıdır.
B) Hipotezini kanunlaştırmalıdır.
C) Hipoteze dayalı yeni tahminler de bulunmalıdır.
D) Hipotezini gerçek haline getirmelidir.

4. **DNA onarımı, kanser tedavisi ve biyolojik saat üzerinde çalışmalar yapan, 2015 yılında Nobel Kimya Ödülünü alan Türk bilim insanı aşağıdakilerden hangisidir?**

- A) İbn-i Sina
B) İbn-i Heysem
C) Aziz Sançar
D) Fuat Sezgin

5. **Günlük hayatta karşılaşılan;**

- I. gıda sıkıntısı ve beslenme,
II. sağlık,
III. çevre kirliliği

gibi sorunlardan hangilerinin çözümüne biyoloji bilimi katkı sağlar?

- A) Yalnız I. B) Yalnız II.
C) Yalnız III. D) I, II ve III.

6. **Aşağıdakilerden hangisi vücutta homeostaziyi korumak için geliştirilen adaptasyonlardan birisi değildir?**

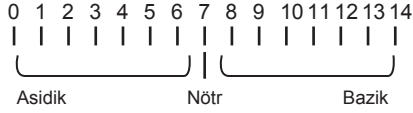
- A) Aktif taşıma ile hücreden su atılması
B) Koşmaya başlayan bir insanın enerji ihtiyacını karşılamak için hızlı soluk alıp vermesi
C) Kandaki şeker miktarını belli bir düzeyde tutmak için insülin hormonu salgılanması
D) Sıcak havalarda artan vücut ısısını düşürmek için terleme yapılması

7. "Deniz ve okyanus gibi büyük su kütlelerinin yaz mevsiminde ya da gündüzleri, güneşten büyük miktarda ısı almalarına rağmen sıcaklıkları aşırı miktarda artmaz. Kışın ya da gece olduğunda ise ortama ısı vermelerine rağmen sıcaklıkları aşırı miktarda azalmaz. Böylece, kıyı bölgelerinde ılıman bir iklim oluşur."

Yukarıda belirtilen durum suyun hangi özelliğinden kaynaklanmaktadır?

- A) Adhezyon yapabilmesi
B) Kohezyon yapabilmesi
C) Öz ısısının yüksek olması
D) İyi bir çözücü olması

8. Şekilde bir pH metre gösterilmiştir.



Buna göre aşağıdakilerden hangisi doğrudur?

- A) pH 7 olduğunda madde ya da ortam nötrdür.
B) pH 0'dan 7'ye doğru gittikçe asitlik artar.
C) pH 7'den 14'e gittikçe baziklik azalır.
D) pH değeri 7,4 olan kan, asidik özellik gösterir.

9. • Kalsiyumla birlikte kemik ve diş yapısına katılır.
• Nükleik asitlerin ve ATP'nin yapısına katılır.

Yukarıda bazı özellikleri verilen mineral aşağıdakilerden hangisidir?

- A) Sodyum B) Magnezyum
C) Fosfor D) Çinko

10. **Akşam yemeğinde makarna ve patates yiyen Süleyman, aşağıdaki besin gruplarından hangisinden daha çok tüketmiştir?**

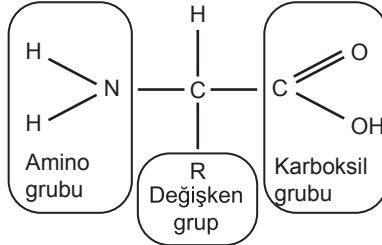
- A) Mineraller B) Protein
C) Yağlar D) Karbonhidrat

11. Nötral yağların yapısındaki yağ asitleri doymuş ve doymamış yağ asitleri olarak iki grupta incelenir. Doymuş yağlar oda sıcaklığında katı iken, doymamış yağlar oda sıcaklığında sıvıdır.

Yukarıdaki parçaya göre aşağıdaki yağlardan hangisi doymuş yağlardandır?

- A) Zeytinyağı
B) Tereyağı
C) Ayçiçek yağı
D) Mısır özü yağı

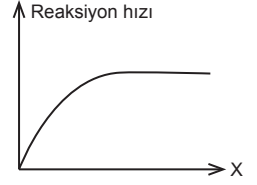
12. Aşağıda bir aminoasit şematize edilmiştir.



Buna göre aşağıdakilerden hangisi doğrudur?

- A) Amino grubu aminoasite asidik özellik verir.
B) Tüm aminoasitlerin yapısı birbirinin aynısıdır.
C) Aminoasitlerin çeşitliliğini değişken grup belirler.
D) Karboksil grubu aminoasite bazik özellik katar.

13. Aşağıda enzimatik bir reaksiyonun X faktörüne bağlı reaksiyon hızı değişimi grafiklenmiştir.



Buna göre X faktörü aşağıdakilerden hangisi olabilir?

- A) Substrat yüzeyi
B) Substrat miktarı
C) Sıcaklık
D) Enzim miktarı

14. **Vitaminlerle ilgili;**

- I. Enerji kaynağı olarak kullanılabilirler.
II. Düzenleyici ve direnç artırıcıdır.
III. Yağda ve suda çözünenler olmak üzere iki temel grupta incelenir.

İfadelerinden hangileri doğrudur?

- A) Yalnız I. B) Yalnız II.
C) I ve II. D) II ve III.

15. Aşağıda DNA ve RNA moleküllerinin karşılaştırılması ile ilgili bir tablo verilmiştir.

Özellik	DNA	RNA
I.	Yapısında deoksiriboz şekeri vardır.	Yapısında riboz şekeri vardır.
II.	Çift ipliklidir.	Tek ipliklidir.
III.	Protein sentezinde görev alır.	Protein sentezinde görev alır.
IV.	Kendini eşleyebilir ve onarabilir.	Kendini onarabilir, fakat eşleyemez.

Buna göre numaralandırılmış ifadelerden hangisi yanlıştır?

- A) I. B) II. C) III. D) IV.

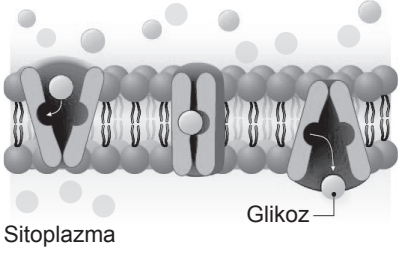
16. **Hücre zarı ile ilgili aşağıdakilerden hangisi yanlıştır?**

- A) Hücreye şekil verir.
B) Madde alışverişini düzenler.
C) Bitkilerde selüloz yapılıdır.
D) Hücreler arası iletişimi sağlar.

1. OTURUM

17. Aşağıda bir maddenin yoğunluk farkı yönünde hücre içine geçişi şematize edilmiştir.

Hücre dışı alan



Sitoplazma

Bu olay ile ilgili,

- I. Özel taşıyıcı proteinlerle gerçekleştirilmektedir.
- II. Kesinlikle enerji harcanarak gerçekleştirilir.
- III. Sitoplazma ile hücreler arası sıvı arasındaki yoğunluk farkını artırır.

yargılarından hangileri doğrudur?

- A) Yalnız I. B) I ve III.
C) II ve III. D) I, II ve III.

18. "Böbrek hastalarında, böbrekler tarafından süzülüp atılmayan zararlı maddeler ile suyun fazlasının, seçici geçirgen bir zardan geçirilerek madde yoğunlukları özel olarak ayarlanmış sıvıya aktarılmasına _ _ X _ _ denir."

Yukarıdaki tanımda "X" yerine aşağıdakilerden hangisi yazılmaktadır?

- A) Endositoz
B) Hemodiyaliz
C) Pinositoz
D) Fosforilasyon

19. Hücredeki yapıların bazıları zarlı bazıları zarsızdır.

Buna göre aşağıdaki eşleştirmelerinden hangisi doğrudur?

Zarsız Zarlı

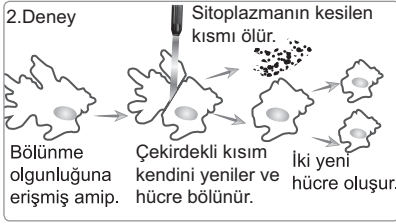
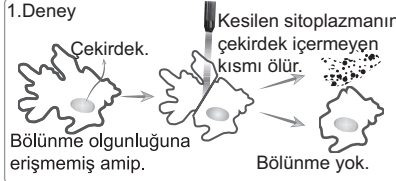
- A) Golgi aygıtı Ribozom
B) Lizozom Golgi aygıtı
C) Mitokondri Kloroplast
D) Ribozom Golgi aygıtı

20. Enerji ihtiyacı fazla olan hücrelerde aşağıdaki organellerden hangisinin sayısı daha fazladır?

- A) Mitokondri
B) Koful
C) Endoplazmik retikulum
D) Sentrozom

(443) BİYOLOJİ – 3

1. Aşağıda hücre bölünmesinin nedenini araştırmak için amiple yapılan iki deney şematize edilmiştir.



Deneye göre;

- I. Hücre bölünmek için belli bir büyüklüğe ulaşmalıdır.
- II. Çekirdeği olmayan hücre kısmı uzun süre yaşayabilir.
- III. Amipin bölünüp iki yeni hücre oluşturması için kalıtsal materyale sahip olması gerekir.

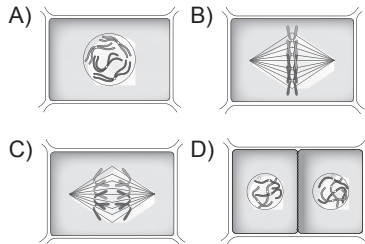
İfadelerinden hangileri doğrudur?

- A) Yalnız I. B) I ve II.
C) I ve III. D) I, II ve III.

2. Aşağıda mitoz bölünmenin bir evresinde gerçekleşen olaylar tanımlanmıştır.

"Birbiriyle aynı özelliklere sahip kardeş kromatitlerin ayrılması bu evrede gerçekleşir. Bütün kromatitlerin sentromerleri ani bir sıçrayışla birbirinden ayrılır. Kromatitler birbirinden ayrıldıktan sonra kromozom olarak adlandırılır."

Buna göre tanımlanan evre aşağıdaki seçeneklerden hangisinde şematize edilmiştir?



3. Aşağıda hayvan ve bitki hücresinin mitoz bölünmelerine ait karşılaştırma tablosu verilmiştir.

Özellik	Hayvan hücresi	Bitki hücresi
Sitoplazma bölünmesi	Boğumlanma	Ara lamel oluşumuyla
İğ ipliği oluşumu	I	II

Buna göre I ve II numaralı yerlere gelmesi gereken ifadeler hangi seçenekte verilmiştir?

- I II
- A) Var Var
B) Var Yok
C) Yok Var
D) Yok Yok

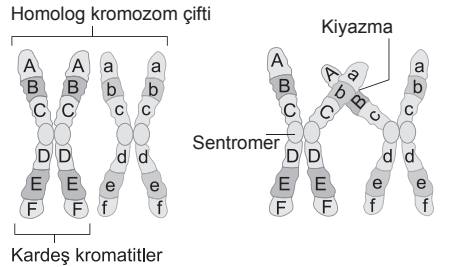
4. Hücre döngüsünün kontrolünün bozulması ile kanser adı verilen kontrolsüz hücre çoğalmaları meydana gelir.

Buna göre kanser ile ilgili,

- I. Erken teşhis hastalığın tedavisi için önemlidir.
 - II. Tüm kanser çeşitlerinin tedavisinde aynı yöntem kullanılır.
 - III. Tüm kanser çeşitleri kalıtsaldır.
- yargılarından hangileri doğrudur?**

- A) Yalnız I. B) I ve III.
C) II ve III. D) I, II ve III.

5. Aşağıda cross – over olayı şematize edilmiştir.



Buna göre cross – over ile ilgili aşağıdaki ifadelerden hangisi yanlıştır?

- A) Homolog kromozomların kardeş olmayan kromatitleri arasında gerçekleşir.
B) Olay sonunda gen sayısında değişiklik olur.
C) Gen değişimi kiyazma bölgelerinde gerçekleşir.
D) Canlılarda kalıtsal çeşitliliği (varyasyon) sağlar.

1. OTURUM

6. Aşağıdaki eşeysiz üreme ile ilgili ifadelerden hangisi yanlıştır?

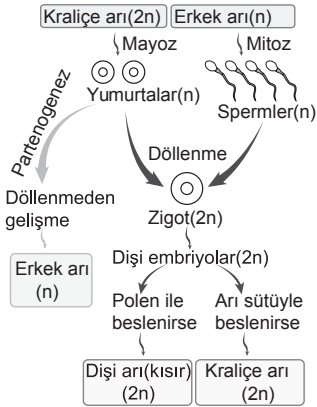
- A) Canlının gelişmişlik düzeyi arttıkça eşeysiz üreme yeteneği azalır.
- B) Tek hücreli canlılar bölünerek eşeysiz çoğalır.
- C) Eşeysiz üremede döllenme olmaz.
- D) Eşeysiz üremede oluşan yavruların genetik yapısı genellikle birbirinden farklıdır.

7. Mayoz ve mitoz bölünmenin farkları ile ilgili aşağıdaki ifadelerden hangisi yanlıştır?

Mitoz **Mayoz**

- A) Vücut hücrelerinde görülür. Üreme ana hücrelerinde görülür.
- B) Sonucunda iki hücre oluşur. Sonucunda dört hücre oluşur.
- C) Oluşan hücrelerin genetik yapısı ana hücreyle aynıdır. Oluşan hücrelerin genetik yapısı ana hücrelerden farklıdır.
- D) Kromozom sayısı yarıya iner. Kromozom sayısı değişmez.

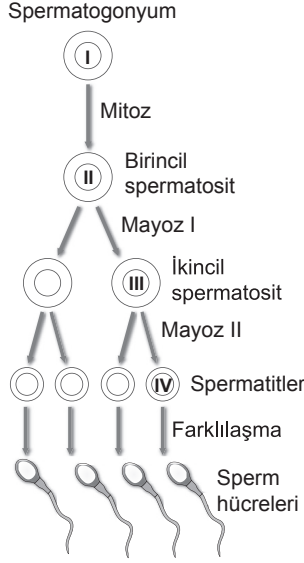
8. Aşağıda partenogenez olayı gösterilmiştir.



Yukarıdaki şemaya göre partenogenez için aşağıdakilerden hangisi yanlıştır?

- A) Arı popülasyonundaki tüm bireyler 2n kromozomludur.
- B) Dişi embriyolar beslenme şekline göre işçi veya kraliçe arıya gelişebilir.
- C) Erkek arı ile ürettiği spermin genotipi aynıdır.
- D) Kovandaki bazı bireyler kısırdır.

9. Aşağıda spermatogenez olayı şematize edilmiştir.



Buna göre numaralandırılmış yapılardan hangilerinde homolog kromozom çiftleri (2n) bir arada bulunur?

- A) Yalnız I. B) I ve II.
- C) II ve IV. D) III ve IV.

10. Zigottan başlayıp yeni bireyin oluşumuyla sonlanan olayların tümüne embriyonik gelişim denir.

İnsanda embriyonik gelişimin sağlıklı tamamlanabilmesi için hamile kadın aşağıdakilerden hangisini yapmamalıdır?

- A) Alkol, sigara ve uyuşturucu madde kullanmamalıdır.
- B) Sağlıklı ve düzenli beslenmelidir.
- C) Zorunlu olmadıkça röntgen çekmemelidir.
- D) Her gün en az 10 km yürüyüş ya da koşu yapmalıdır.

11. Aşağıda sağlıklı bir dişi bireyin menstrüal döngüsüne ait evreler verilmiştir.

- I. Folikül evresi
- II. Ovulasyon evresi
- III. Korpus luteum evresi

Buna göre verilen evrelerin gerçekleşme sırası hangi seçenekte doğru olarak sıralanmıştır?

- A) I – II – III B) I – III – II
- C) II – III – I D) II – I – III

12. "AA Bb Nn Rr Zz" genotipli bir bireyden AbnRZ genotipli gamet oluşma olasılığı kaçtır?

- A) 1/8 B) 1/16 C) 1/32 D) 1/64

13. Heterozigot genotipte sarı tohumlu bezelyelerin çaprazlanması ile oluşacak yavruların genotip ve fenotip ayrışım oranları aşağıdakilerden hangisidir?

(Sarı tohum aleli, yeşil tohum aleline baskındır.)

	Genotip	Fenotip
A)	1:3:1	3:1
B)	1:2:2	2:1
C)	1:2:1	3:1
D)	1:1:1	1:2

14. Aslanagözü bitkilerinde eksik baskınlık görülür. Kırmızı ve beyaz çiçekli aslanagözü bitkileri çaprazlandığında pembe çiçekli bireyler ortaya çıkar. Buna göre pembe çiçekli iki birey çaprazlandığında kırmızı çiçekli birey oluşma olasılığı kaçtır?

- A) 1 B) 1/2 C) 1/3 D) 1/4

15. A kan gruplu anne ile B kan gruplu babanın ilk çocukları O kan grubuna sahiptir.

Buna göre anne ve babanın genotipleri aşağıdakilerin hangisidir?

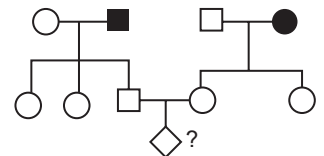
	Anne	Baba
A)	AA	BB
B)	AO	BB
C)	AO	BO
D)	AA	BO

16. Renk körlüğü X kromozomunda taşınan çekinik bir hastalıktır.

Buna göre renk körlüğü bakımından taşıyıcı bir anne ile sağlıklı bir babanın renk körü kız çocukları olma olasılığı nedir?

- A) 0 B) 1/4 C) 3/4 D) 1

17. Aşağıda bir aileye ait soyağacı verilmiştir.

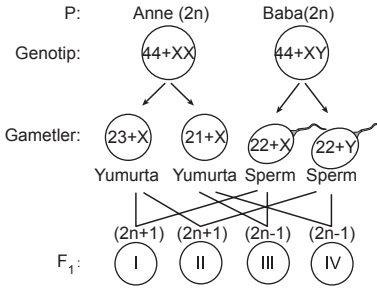


Taralı bireyler X'e bağlı çekinik bir özelliği fenotipinde gösterdiğine göre "?" bireyde bu hastalığın görülme olasılığı kaçtır?

- A) 1/2 B) 1/4 C) 3/4 D) 9/16

1. OTURUM

18. Aşağıda bir anne ve babanın oluşturabileceği çocuklar F_1 dölünde verilmiştir.



Buna göre numaralandırılmış bireylerden hangisi otozom fazlağından ortaya çıkan down sendromlu erkek birey olabilir?

- A) I. B) II. C) III. D) IV.

19. Aşağıda verilenlerden hangisi genetiği değiştirilmiş organizma (GDO) üretiminin başlıca amaçlarından biri olamaz?

- A) Raf ömrü uzun ürünler elde etmek
 B) İnsülin gibi önemli hormonları üretmek
 C) Yeni bitki ve hayvan türleri üretmek
 D) Bitki zararlılarına karşı dayanıklı bitkiler elde etmek

20. Aşağıda verilen biyoteknolojik gelişmelerden hangisi diğerlerinden daha sonra ortaya çıkmıştır?

- A) Mayalı ekmeği üretimi
 B) Aşıların üretimi
 C) Tahılların ıslah edilmesi
 D) Genetik olarak değiştirilmiş organizma üretimi

(446) SEÇ. BİYOLOJİ – 2

1. Canlı dokularının, organlarının görevlerini ve bu görevleri nasıl yerine getirdiğini inceleyen bilim dalı aşağıdakilerden hangisidir?

- A) Fizyoloji B) Ekoloji
 C) İhtiyoloji D) Genetik

2. Aşağıdakilerden hangisi merkezi sinir sistemi elemanlarından birisi değildir?

- A) Omurilik
 B) Beyincik
 C) Hipotalamus
 D) Sempatik sinir sistemi

3. Getirici (duyu) nöronlar, reseptörlerden aldıkları uyarıları merkezi sinir sistemine taşıyan nöronlar, merkezi sinir sistemine iletilen bilgileri analiz edip çözümlenerek cevap oluşturan nöronlara ara nöron denir. Merkezi sinir sisteminden aldığı uyarıyı kas ya da endokrin bezlere götürerek tepki oluşmasını sağlayan nöronlara ise götürücü (motor) nöronlar denir.

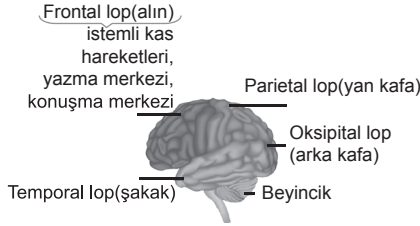
Buna göre kullanılan bir kimyasal madde ile belli bir grup motor nöronlarının faaliyeti engellenmiş bir hayvanda,

- I. Uyarılar reseptörler tarafından alınmaz.
 II. Uyarılara merkezi sinir sistemince cevap oluşturulmaz.
 III. Merkezi sinir sisteminden cevabın tepki organlarına iletilmesi gerçekleştirilmez.

verilenlerden hangilerinden bir aksama meydana gelir?

- A) Yalnız I. B) Yalnız III.
 C) I ve II. D) II ve III.

4. Aşağıda bir insan beyni şematize edilmiş ve frontal lop (alın) da kontrol edilen faaliyetler verilmiştir.



Buna göre frontal lobu hasar görmüş bir kişi aşağıdaki faaliyetlerden hangisini yerine getirmede sorun yaşamaz?

- A) Elindeki kalemi masaya koyma
 B) Soluk alıp verme
 C) Bir metni defterine yazma
 D) Sevdiği bir şiiri sorunsuz okuma

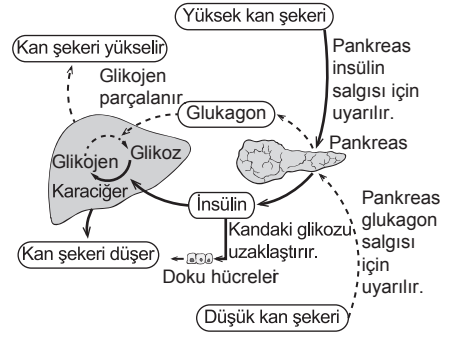
5. Hipofizden salgılanan aşağıdaki hormonlardan hangisi herhangi bir endokrin bezi uyararak hormon salgılanmasını kontrol etmez?

- A) Folikül uyarıcı hormon (FSH)
 B) Adrenokortikotropik hormon (ACTH)
 C) Somatotropin (büyüme) hormonu
 D) Tiroit uyarıcı hormon (TSH)

6. Aşağıdaki duylardan hangisinden gelen nöronlar talamusa uğramadan beyin kabuğundaki merkezine iletilir?

- A) Koku B) Tat
 C) Duyuma D) Görme

7. Aşağıda sağlıklı bir insandaki şeker metabolizması verilmiştir.



Buna göre,

- I. Kan şekerinin artması durumunda pankreastan insülin hormonunun salgılanması artar.
 II. Kan şekerinin azalması durumunda glukagon hormonunun uyarısı ile karaciğerdeki glikojen depoları parçalanır.
 III. Kan şekerinin ayarlanmasında sadece karaciğer görevlidir.

yorumlarından hangileri doğrudur?

- A) Yalnız I. B) Yalnız II.
 C) I ve II. D) II ve III.

8. Sınıfta yapılan bir deneyde Ahmet'in ağız iyice kurutulduktan sonra dilinin üstüne şeker konulmuş. Fakat Ahmet'in tadı algılaması için bir süre beklemesi gerekmiştir. Bir süre sonra Ahmet şekerin tadını almıştır.

Ahmet'in şekerin tadını geç almasının nedeni aşağıdakilerden hangisidir?

- A) Ahmet'in vücut sıcaklığı uygun değildir.
 B) Ahmet tatları algılayamamaktadır.
 C) Ahmet'in dili şekerin tadını algılayamamaktadır.
 D) Tat alınması için şekerin tükürükte çözülmesi gerekir.

9. Aşağıda denetleyici ve düzenleyici sistem hastalıklarından birinin bazı özellikleri verilmiştir.

- Olayları karıştırma ve hafıza kaybıyla karakterize olan bir çeşit zihinsel bozukluktur.
- Görülme sıklığı yaşla bağlantılı olarak artmaktadır.
- Hastalık, ilerleme gösteren özelliğe sahiptir ve hastaların başkaları tarafından giydirilmesi, yıkanması ve beslenmesini gerektiren durumlara ulaşabilir.
- Hasta, yakın aile fertlerini bile tanıyamamaktadır.

Özellikleri verilen hastalık aşağıdakilerden hangisidir?

- A) Alzheimer B) Epilepsi
 C) Parkinson D) Felç

1. OTURUM

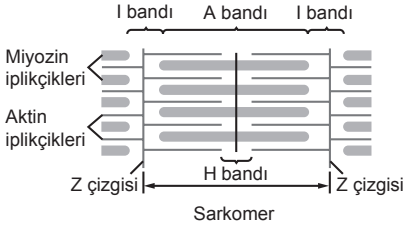
10. İnsan vücudunda bulunan,

- I. düz kas,
- II. kalp kası,
- III. iskelet kası

kas çeşitlerinden hangileri otonom (istemsiz) olarak çalışır?

- A) Yalnız I.
- B) Yalnız II.
- C) I ve II.
- D) I ve III.

11. Aşağıda bir çizgili kasın mikroskobik yapısı şematize edilmiştir.



Buna göre verilen yapılardan hangisi bir kasın kasılması sırasında değişmez?

- A) A bandının boyu
- B) Z çizgileri arasındaki mesafe
- C) H bandının boyu
- D) Miyozin iplikçikleri arasındaki mesafe

12. İnsanda karbonhidratların sindirimi ile görevli enzimlerden biri olan amilaz tükürük bezi ve pankreasta üretilir.

Buna göre insanda nişastanın sindirimi aşağıdaki organların hangisinde başlar?

- A) Mide
- B) Ağız
- C) İnce bağırsak
- D) Yutak

13. Aşağıdakilerden hangisi karaciğerin görevlerinden biri değildir?

- A) Kanda bulunan fazla glikozu, glikojene dönüştürerek depolar.
- B) Bazı durumlarda amino asitlerin yağ asitleri ve glikoza dönüşümünü sağlar.
- C) Provitamin A' dan A vitamini sentezler.
- D) Zararlı üre maddesini doğrudan vücut dışına atar.

14. Aşağıdakilerden hangisi kalbin ritmik çalışma hızını yavaşlatır?

- A) Korku ve heyecan
- B) Vücut sıcaklığı artışı
- C) Kanda karbondioksit düzeyinin artması
- D) Parasempatik sinir ile uyarılması

15. Aşağıda büyük ve küçük kan dolaşım sistemi şematize edilmiştir.



Buna göre karaciğer toplardamarına verilen ineretik karbon atomu taşıyan üre molekülü, böbreklerden vücut dışına atılana kadar aşağıda verilen organ kılcallarının hangisinden geçmek zorundadır?

- A) Beyin
- B) Akciğer
- C) Karaciğer
- D) Mide

16. Aşağıdakilerden hangisi lenf sisteminin görevlerinden değildir?

- A) Fazla doku sıvısını tekrar kan dolaşımına katmak
- B) Yağ monomerleri ve yağda çözünen vitaminleri dolaşım sistemine taşımak
- C) Kanda oksijen taşınmasını sağlamak
- D) Bağışıklığa destek olmak

17. Aşağıdakilerden hangisi hastalık etkenini ayırt etmeksizin bağışıklık sisteminin birinci hattında yer alarak savunma sağlar?

- A) Fagositik hücreler
- B) Antikorlar
- C) Antimikrobiyal proteinler
- D) Deri

18. Aşağıdaki olaylardan hangisi soluk verme sırasında gerçekleşir?

- A) Kaburgalar arası kaslar kasılır.
- B) Diyafram kasılarak düzleşir.
- C) Göğüs boşluğu hacmi azalır ve akciğerlerin iç basıncı artar.
- D) Atmosfer basıncı, akciğer iç basıncından yüksek olur.

19. Sağlıklı bir insanda böbrek kılcallarından (glomerulus) aşağıdaki moleküllerden hangisi Bowman kapsülüne geçmesine rağmen tamamı kana geri emilerek idrar yolu ile dışarı atılmaz?

- A) Üre
- B) Glikoz
- C) Potasyum
- D) İlaçlar

20. Şehir merkezlerindeki güvercinlerin insanlardan kaçmaması aşağıda verilen öğrenme çeşitlerinden hangisi ile açıklanabilir?

- A) Alışma
- B) Şartlanma
- C) Deneme – yanılma
- D) İzlenim

(461) SEÇ. EKONOMİ – 1

1. Pirinç fiyatlarının aşırı yükselmesiyle tüketicilerin bulgura olan taleplerinin artması ihtiyaçların hangi özelliğine örnek olur?

- A) Biyolojik ihtiyaçların kapsam bakımından sınırlı olmasına
- B) İhtiyaçların kişiden kişiye değişiklik göstermesine
- C) İhtiyaçların birbirinin yerine geçmesine
- D) İhtiyaçların sınırsız olmasına

2. Aşağıdakilerden hangisi malın özelliklerinden değildir?

- A) Emek harcanarak elde edilmesi
- B) Doğada bol miktarda bulunması
- C) Üretimimin mümkün olması
- D) İhtiyaçları karşılamaya elverişli olması

3. Daha çok zihinsel faaliyet gerektiren emek türü aşağıdakilerden hangisidir?

- A) Objektif emek
- B) Yönetici emek
- C) Uygulayıcı emek
- D) Subjektif emek

4. Enerjinin kaynağını hangi üretim faktörü oluşturmaktadır?

- A) Tabiat
- B) Emek
- C) Sermaye
- D) Girişimci

5. Paranın ödünç verilerek gelir sağlama amacıyla kullanılması hangi sermayeye örnek olur?

- A) Mali yönden sermayeye
- B) Ekonomik anlamda sermayeye
- C) Hukuksal anlamda sermayeye
- D) Muhasebe tekniği açısından sermayeye

1. OTURUM

(465) TEMEL DİNİ BİL. – 1

6. Üretim faktörlerini sağlayarak kâr amacı ile mal ve hizmet üretim faaliyetinde bulunan kişilere ne ad verilir?

- A) Müdür B) Yönetici
C) Lider D) Girişimci

7. Ekonominin temel konusu aşağıdakilerden hangisidir?

- A) İnsan ihtiyaçları
B) Memur maaşları
C) Bütçe giderleri
D) Vergi gelirleri

8. Aşağıdakilerden hangisi sanayi üretimine örnek olur?

- A) Toprağın işlenerek pamuk üretilmesi
B) Termik santralinde elektrik üretilmesi
C) Koyunlardan yünün elde edilmesi
D) Otelde konaklama hizmeti verilmesi

9. Aşağıdakilerden hangisi Atatürk'ün devletçilik anlayışına uygun değildir?

- A) Kalkınmada devletin kaynaklarından yararlanılır.
B) Kişisel girişimler desteklenir.
C) Özel girişimler yönlendirilir.
D) Özel mülkiyete yer verilmez.

10. Aşağıdakilerden hangisi tekel piyasasının özelliklerinden değildir?

- A) Tek satıcının olması
B) Çok sayıda alıcının olması
C) Çok sayıda satıcının bulunması
D) Fiyatı teknelci firmanın belirlemesi

11. Aşağıdakilerden hangisi rekabetin olumsuz yönlerinden biridir?

- A) İşletmelerin gelişmesine katkı sağlaması
B) Bazen kalitenin düşmesine neden olması
C) Yeni üretim yöntemlerini geliştirilmesi
D) Fiyatların düşmesine neden olması

12. I. Faiz
II. Bağış
III. Rant
IV. Miras
V. Ücret

Gelirin özelliklerine göre yukarıdakilerden hangisi/hangileri ekonomide gelir kabul edilir?

- A) Yalnız V. B) II ve IV.
C) I, II ve IV. D) I, III ve V.

13. Bir madenin değişik alanlarda farklı maliyetle çıkarılıp aynı fiyatla satılması hangi rantı meydana getirmiştir?

- A) Şehir rantını
B) Mevki rantını
C) Maden rantını
D) Toprak rantını

14. Aşağıdakilerden hangisi ekonomik büyümenin göstergelerinden biridir?

- A) Millî gelirin artması
B) Kamu giderlerinin artması
C) Vergi gelirlerinin artması
D) İthalat giderlerinin artması

15. Üretim miktarına göre belirlenen ücrete ne denir?

- A) Zamana göre ücret
B) Parça başına ücret
C) Gerçek ücret
D) Aynı ücret

16. Girişimcinin üretim faaliyetine katılmasının karşılığı olarak elde ettiği gelire ne ad verilir?

- A) Kâr B) Ücret
C) Faiz D) Maaş

17. Aşağıdaki tanımlardan hangisi mübadeleyi ifade etmektedir?

- A) Üretim faaliyeti sonucu elde edilen gelirin dağıtımıdır.
B) Malların insanlar arasında el değiştirmesidir.
C) Mal ve hizmetlerin elde edilmesi faaliyetidir.
D) İhtiyaçların karşılanması için malların tüketilmesidir.

18. Aşağıdakilerden hangisi enflasyonun nedenlerinden biridir?

- A) Faiz oranlarının düşmesi
B) Ürün maliyetlerinin azalması
C) Dolaşımdaki para miktarının artması
D) Mal ve hizmet üretiminin artması

19. Türkiye'de aşağıdaki bankalardan hangisi kâğıt para basma yetkisine sahiptir?

- A) Halk Bankası
B) Ziraat Bankası
C) Vakıflar Bankası
D) Merkez Bankası

20. Çalışmak isteyen herkese iş alanı sağlanmasıyla aşağıdakilerden hangisi gerçekleştirilmiş olur?

- A) Tam istihdam
B) Ekonomik denge
C) Ekonomik büyüme
D) Gelir dağılımında eşitlik

1. • Ailenin huzuru için eşler arasında olması gereken duygu ve tutumlarından biridir.

- İhanet etmeme, aldatmama, güven duyma, sözünde durma, doğruyu söyleme anlamlarına gelir.

Hakkında bilgi verilen kavram aşağıdakilerden hangisidir?

- A) Muhabbet B) Sadakat
C) Hüsnüzan D) Şefkat

2. Aşağıdakilerden hangisi toplumda emniyet ve güven ortamının oluşmasını engelleyen etkenlerden biridir?

- A) Sevgi ve saygı
B) Yardımlaşma
C) Adalet
D) Fitne

3. Aşağıdakilerden hangisi evliliğin psikolojik ve sosyal amaçları arasında yer almaz?

- A) Sevme ve sevilme ihtiyacını karşılama
B) Dayanışma duygusunu hissetme
C) Toplumsal hayattan soyutlanma
D) Dünyaya yeni nesiller getirme

4. Müslüman bir erkeğin, evleneceği kadının ekonomik haklarının güvencesi olarak nikâhta vermesi gereken maddi değere ne ad verilir?

- A) Mehir B) Hibe
C) Sadaka D) Nafaka

5. "Eğer müminlerden iki grup birbiriyle savaşırsa hemen aralarını düzeltin..." (Hucurât suresi, 9. ayet)

Bu ayette sosyal hayatı düzenleyen kurallardan hangisine işaret edilmiştir?

- A) Doğruluk B) Paylaşma
C) Eşitlik D) Sulh

6. Hz. Peygamber'in amcası Zübeyr tarafından Mekke'de kurulan Hilfü-l Fudûl derneğinin kuruluş amacı aşağıdakilerden hangisidir?

- A) Kan davalarına son vermek
B) Hac hizmetlerini yürütmek
C) Hak ve adaleti sağlamak
D) Köleliği kaldırmak

7. Aşağıdakilerden hangisi Müslümanların birbirlerine karşı görevleri arasında yer almaz?

- A) Cenazesine katılmak
B) Yanlışlarını desteklemek
C) Karşılaştığında selam vermek
D) Hastalandığında ziyaret etmek

1. OTURUM

8. "Hiçbir kişisel çıkar ve kazanç gözetmeksizin sırf Allah rızası için ihtiyaç sahibine borç vermek" anlamına gelen kavram aşağıdakilerden hangisidir?

- A) Karz-ı hasen B) Teberru
C) Zekât D) Lütuf

9. Aşağıdakilerden hangisi İslam dininin helal saydığı kazanç yollarından biridir?

- A) Karaborsa B) Rüşvet
C) Miras D) Faiz

10. "... Birbirinizin mahremiyetlerini ve kusurlarını araştırmayın..." (Hucurât suresi, 12. ayet)

Bu ayette aşağıdakilerden hangisi yasaklanmıştır?

- A) Hile B) Yalan
C) İhtikâr D) Tecessüs

11. Kul hakkı, insanların birbiri ile olan münasebetlerinden doğan hak ve sorumluluklardır.

Buna göre aşağıdakilerden hangisi kul hakkı ihlali kapsamında değerlendirilmez?

- A) Hırslı olmak
B) Kopya çekmek
C) Dedikodu yapmak
D) Tartıda hile yapmak

12. Aşağıdakilerden hangisi işverenin çalışanına karşı olan hak ve sorumluluklarından biri değildir?

- A) Adaletli olmak
B) Borçlarını ödemek
C) İş güvenliğini sağlamak
D) Ücretini zamanında ve tam ödemek

13. İnfak, Allah'ın hoşnutluğunu kazanmak için kişinin ihtiyaç sahiplerine maddi manevi yardımda bulunması demektir.

Buna göre aşağıdakilerden hangisi infak kapsamında değerlendirilmez?

- A) Sadaka B) Zekât
C) Borç D) Fitre

14. Alışveriş yapanlar, eğer dürüst davranırlar ve malın kusurunu açıkça söylerlerse alışverişleri bereketlidir. Fakat kusuru gizler ve yalan söylerlerse, yaptıkları alışverişin bereketi gider.

Bu hadiste aşağıdaki sakınılması gereken davranışlardan hangisine değinilmiştir?

- A) Gasp B) Rüşvet
C) Tefecilik D) Hileli satış

15. "Riba" kavramının karşılığı aşağıdakilerden hangisidir?

- A) Faiz B) Yalan
C) Hırsızlık D) Kumar

16. Aşağıdakilerden hangisi ekonomik hayatı olumsuz etkileyen uygulamalardan biri değildir?

- A) Rüşvet
B) Tasarruf
C) Karaborsacılık
D) Yapay olarak fiyatlarla oynama

17. Müslüman toplumlarda infak ve yardımlaşma kültürünü en iyi temsil eden kurum aşağıdakilerden hangisidir?

- A) Vakıf
B) Enderun
C) Divan-ı Hümayun
D) Kütüphane

18. Hz. Muhammed (sav.), aşağıdakilerden hangisini münafığın alametleri arasında saymamıştır?

- A) Emanete ihanet etmek
B) Sözünde durmamak
C) Yalan söylemek
D) Sabırsız olmak

19. Sizin hanımlarınız üzerinde haklarınız olduğu gibi hanımlarınızın da sizin üzerinizde hakları vardır.

Bu hadiste, eşler arası ilişkiler konusunda aşağıdakilerden hangisine dikkat çekilmektedir?

- A) Çocukların eğitim ve terbiyesinden öncelikle aile sorumludur.
B) Eşlerin birbirlerine karşı hak ve sorumlulukları vardır.
C) Evlilikler ahlaki temeller üzerine kurulmalıdır.
D) Aile içi ilişkiler toplumu etkiler.

20. Aşağıdakilerden hangisi ailenin huzuru için eşlerin birbirlerine karşı olan görev ve sorumluluklarından biri değildir?

- A) Evlilik akdini gözetmek
B) Sabırlı ve anlayışlı olmak
C) Temel hakları sınırlandırmak
D) Maddi, manevi destek olmak

(477) SEÇ. İŞLETME – 2

1. Özel işletmelerin kamu işletmelerinden farklı olan amacı aşağıdakilerden hangisidir?

- A) Verimli olmak
B) Kâr elde etmek
C) İstihdamı sürekli kılmak
D) Mal veya hizmet üretmek

2. Aşağıdakilerden hangisi kamu işletmelerinin özelliklerinden değildir?

- A) Sermayelerinin devlete ait olması
B) Asıl amaçlarının tekel oluşturmak olması
C) Kamu yönetimine doğrudan ya da dolaylı olarak bağlı olması
D) Özel yasalarla kurulup özel hukuk kurallarına göre işletiliyor olması

3. Aşağıdakilerden hangisi üretim yapan bir endüstri işletmesidir?

- A) Demir çelik fabrikası
B) Ticaret işletmesi
C) Banka
D) Okul

4. Bir işletmedeki başlıca birimleri, bunlar arasındaki karşılıklı ilişkileri ve işi yürütmekle görevli olanları aşağıdakilerden hangisi gösterir?

- A) İşletme bütçesi
B) Teşkilat şeması
C) Kâr/zarar tablosu
D) İşletme bilançosu

5. Aşağıdakilerden hangisi sermaye şirketlerinin şahıs işletmelerine göre olumlu yönlerindedir?

- A) Faaliyetlerin gizli olması
B) Kurulmasının kolay olması
C) Yetkililerin bir kişide toplanmış olması
D) Yönetimin belli bir sisteme bağlı olması

6. İnsan ihtiyaçlarını karşılamak üzere, ekonomik mal ve hizmet üretmek için faaliyette bulunan kuruluşlara ne denir?

- A) Fabrika B) İşletme
C) Dükkân D) Büro

7. İşletme	Hizmet
I. Banka	Finans
II. Okul	Konaklama
III. Otel	Eğitim
IV. Hastane	Sağlık

Yukarıdaki işletme hizmet eşleştirmelerinden hangisi/hangileri doğrudur?

- A) Yalnız I. B) II ve III.
C) I ve IV. D) II, III ve IV.

8. Aşağıdakilerden hangisi dayanıklı mallara örnek olur?

- A) Fırın B) Konserve
C) Makarna D) Kağıt

1. OTURUM

9. Aşağıdakilerden hangisi işletme yöneticilerinde olması gereken özelliklere göre yanlıştır?

- A) Personelinin çalışmalarından haberdar olması
- B) Çalışanlarının işle ilgili görüşlerini alması
- C) Sorumluluk almaya hazır olması
- D) Yetki almaktan kaçınması

10. Kamu kuruluşları bünyesinde faaliyetinde bulunan kreşlerin kurulma amaçları, işletmelerin hangi amacına örnek olur?

- A) Kâr elde etmek
- B) İşsizliği azaltmak
- C) Mal ve hizmet üretmek
- D) Toplumla hizmet etmek

11. İşletme yönetiminin organizasyon işlevinde son olarak aşağıdakilerden hangisi yapılır?

- A) Yapılacak işlerin belirlenmesi
- B) Yetki ve sorumlulukların belirlenmesi
- C) İşleri yapacak kişilerin göreve atanması
- D) Çalışma yerleri, kullanılacak araç ve yöntemlerin seçilmesi

12. İşletmelerin çalışanlarını memnun etmek ve onların daha verimli olmalarını sağlamak için aşağıdakilerden hangisini yapmaları etkili olur?

- A) Toplumla hizmet etmek
- B) Çalışanlarına iyi ücret ödemek
- C) Kaliteli mal ve hizmet üretmek
- D) Tüketicileri doğru bilgilendirmek

13. Aşağıdakilerden hangisi işletmelerin çalışanlarına karşı olan sorumluluklarından biridir?

- A) Vergi ödeme
- B) Çevreyi kirlenmemeye
- C) İş güvenliğini sağlama
- D) Kaliteli mal ve hizmet üretme

14. Bir işletmenin kurulması ve işletilmesi için gerekli paranın sağlanması hangi işletme fonksiyonu ile yerine getirilir?

- A) Finansman
- B) Pazarlama
- C) Üretim
- D) Yönetim

15. Hiyerarşik denetimde işletme yöneticisi aşağıdaki kişilerden hangisini denetleyebilir?

- A) İşletme ortaklarını
- B) Üst kademe yöneticisini
- C) İşletmenin genel müdürünü
- D) Alt kademesinde çalışanlarını

16. Aşağıdakilerden hangisi şahıs işletmelerinin özelliklerinden biridir?

- A) Büyüme yeteneği sınırsızdır.
- B) Yönetim belli bir sisteme bağlıdır.
- C) İşletmede yetkiler bir kişide toplanır.
- D) İşletmeden alacaklı olanlara karşı sorumlulukları sınırlıdır.

17. I. Gerekli kredileri sağlama
II. Mal ve hizmetleri üretme
III. Ticari faaliyetleri kaydetme
IV. Satışları artırmak için reklam yapma

Yukarıdakilerden hangisi/hangileri işletmenin pazarlama fonksiyonu kapsamında yerine getirilir?

- A) Yalnız I.
- B) Yalnız IV.
- C) II ve III.
- D) III ve IV.

18. Yönetimin planlamadan sonra gelen işlevi aşağıdakilerden hangisidir?

- A) Denetim
- B) Sevk ve idare
- C) Organizasyon
- D) Koordinasyon

19. İşletmelerde bilinen organizasyon kurallarının uygulanmaması veya gözden kaçırılması sonucu aşağıdakilerden hangisi oluşur?

- A) Tam örgütlenme
- B) Aşırı örgütlenme
- C) Eksik örgütlenme
- D) Yeniden örgütlenme

20. Aşağıdakilerden hangisi işletmelerin başlıca işlevlerinden biri değildir?

- A) Tüketim
- B) Üretim
- C) Pazarlama
- D) Finansman

(479) SEÇ. MANTIK – 2

1. Herhangi bir önermede yüklem sadece tek bir "ad" a yüklenirse birli yüklem, "iki ad" a yüklenirse ikili yüklem, "n sayıda ad" a yüklenirse n'li yüklem adını alır.

Buna göre aşağıdakilerden hangisi "üçlü yüklemli" bir önermedir?

- A) 2 çift sayıdır.
- B) Sokrates filozoftur.
- C) Ankara Türkiye'nin başkentidir.
- D) Ali, Ahmet ve Mehmet çalışkandır.

2. Sürekli kitap okuyan öğretmen başarılı olur.

Canan sürekli kitap okur.

O hâlde, Canan başarılı öğretmen olur.

Verilen akıl yürütmeye aşağıdakilerden hangisi sonuç önermesidir?

- A) Canan sürekli kitap okur.
- B) Sürekli kitap okuyan öğretmendir.
- C) O hâlde, Canan başarılı öğretmen olur.
- D) Sürekli kitap okuyan öğretmen başarılı olur.

3. Basit önermeleri bileşik hâle getiren mantık değişmezlerine önerme eklemi denir.

Buna göre "Ahmet avukat veya savcıdır." cümlesinin önerme eklemi aşağıdakilerden hangisidir?

- A) Ahmet
- B) veya
- C) avukat
- D) savcıdır

4. Günlük dildeki önermelerin ve çıkarımların, önerme sembolleri ve mantık değişmezleriyle sembolik dile çevrilmesi aşağıdakilerden hangisiyle ifade edilir?

- A) Geçerlilik
- B) Tutarlılık
- C) Yorumlama
- D) Sembolleştirme

5. "Tekin yaramaz değildir." önermesinin sembolleştirilmiş hâli aşağıdakilerden hangisidir?

- A) $\sim p$
- B) $p \wedge q$
- C) $p \vee q$
- D) $p \rightarrow q$

6. Bir bileşik önermede önermenin tümünü etkileyen ekleme ana eklem denir.

Buna göre $\sim[(p \vee q) \leftrightarrow (p \wedge q)]$ önermesinin ana eklemi aşağıdakilerden hangisidir?

- A) \wedge
- B) \vee
- C) \sim
- D) \leftrightarrow

7. " $(p \leftrightarrow q)$ " şeklinde sembolleştirilen önerme aşağıdakilerden hangisidir?

- A) Ayşe veya Ali başarılı.
- B) Ali çalışkansa başarılı.
- C) Ahmet ve Mehmet başarılıdır.
- D) Gökhan ancak ve ancak çalışırsa başarılı.

1. OTURUM

8. Bir önermenin tutarlı olabilmesi için yorumlarından en az birinin doğru olması yeterlidir.

Buna göre;

I	II	III
p	q	r
D	D	Y
D	Y	Y

Önermelerinden hangileri tutarlıdır?

- A) Yalnız I. B) I ve II.
C) I ve III. D) II ve III.
9. Aşağıdakilerden hangisi niceleyici değildir?
- A) her B) bazı
C) ise D) hiçbir
10. Tüm yorumlamaları doğru olan önermeye geçerli önerme denir. Buna göre aşağıdakilerden hangisi geçerli bir önermedir?
- A) \underline{p} B) \underline{p} C) \underline{p} D) \underline{p}
D D Y Y
Y D D Y
11. "p ∨ q" tikel evetleme önermesinin çözümleyici çizelgedeki çözümleme kuralı aşağıdakilerden hangisidir?
- A) $\begin{array}{c} (p \vee q) \\ / \quad \backslash \\ p \quad q \end{array}$ B) $\begin{array}{c} (p \vee q) \\ \sim p \\ \sim q \end{array}$
- C) $\begin{array}{c} (p \vee q) \\ / \quad \backslash \\ p \quad \sim q \end{array}$ D) $\begin{array}{c} (p \vee q) \\ p \\ q \end{array}$
12. "Osman öğretmendir." önermesinin niceleme mantığındaki sembolik ifadesi aşağıdakilerden hangisidir?
- A) Fabc B) ~Fa
C) ~Fab D) Fa
13. "Fa → Gb" şeklinde sembolleştirilen önerme aşağıdakilerden hangisidir?
- A) Öğretmen güzel anlatır ise biz kolay öğreniriz.
B) Cengiz, Filiz ve Kardelen bencil değildir.
C) Gökhan ve Gülen evlidir.
D) Namık doktor değildir.

14. I. Banu filozoftur.
II. Abbas filozoftur.
III. Sokrates filozoftur.
Yukarıdakilerden hangileri "x filozoftur." açık önermesini gerçekler?
- A) Yalnız I. B) Yalnız III.
C) I ve II. D) II ve III.
15. "E = {altın, gümüş, demir}" evreninde doğrulanan açık önerme aşağıdakilerden hangisidir?
- A) $\forall x$ (x madendir.)
B) $\forall x$ (x insandır.)
C) $\forall x$ (x hayvandır.)
D) $\forall x$ (x çiçektir.)
16. "Vardır." biçiminde ifade edilen mantık değişmezi "E!" sembolüyle gösterilir. Buna göre "Anka kuşu vardır." önermesinin varlık mantığına göre sembolleştirilmiş hâli aşağıdakilerden hangisidir?
- A) E!a B) $\square p$
C) $\diamond p$ D) $\sim E!a$
17. Aşağıdakilerden hangisi bir kuramın oluşturulmasında yer almaz?
- A) Tanım B) Aksiyom
C) Teorem D) Sanat
18. Doğa bilimleri kendi konuları üzerinde deneysel yöntemi kullanarak ispat yapmaya çalışır. Buna göre;
- I. kimya,
II. fizik,
III. mantık
alanlarından hangileri doğa bilimleri arasında yer alır?
- A) Yalnız III. B) I ve II.
C) I ve III. D) II ve III.
19. "Mantık ilkelerinin temel kaynağı nedir?" sorusu mantık felsefesinin aşağıdaki sorunlarından hangisiyle ilgilidir?
- A) Geçerlilik kavramıyla ilgili sorunlar
B) Doğruluk ve varlıkla ilgili sorunlar
C) Mantık ilkeleriyle ilgili sorunlar
D) Mantık kavramıyla ilgili sorunlar
20. Aşağıdakilerden hangisi mantık felsefesinin soruları arasında yer alır?
- A) Varoluşun anlamı nedir?
B) Ahlaki değerler evrensel midir?
C) Ortak estetik yargılar var mıdır?
D) Mantık ilkeleri birbiriyle ilişkili midir?

(484) SAĞLIK BİLGİSİ – 2

1. Aşağıdakilerden hangisi genel anlamda çekirdek ailenin özelliklerindedir?
- A) Anne, baba, dede, nine, hala vb. akrabalar ile çocuklardan oluşur.
B) Bu aile tipi, endüstrileşme ile gelen sosyal ve ekonomik değişimin bir sonucudur.
C) Ailedeki bireylerin aile yapısına gösterdiği bağlılık ve sadakat onların kişisel özgürlüklerini sınırlar.
D) Aile bireylerinin aralarında top-rağa bağlı üretimi amaçlayan ve ekonomik birlikteliğe dayalı bir düzen vardır.
2. Aşağıdakilerden hangisi çocuklarının bakımı konusunda iş birliği içerisinde olan ebeveynlerin özelliklerindedir?
- A) Birbirlerinin annelik ve babalık haklarına saygı duyarlar.
B) Çocuklarıyla ilgili neyin iyi olduğuna tek bir ebeveyn karar verir.
C) Çocuklarına sergileyecekleri ebeveynlik yaklaşımı konusunda farklı fikirlere sahiptirler.
D) Birbirlerine karşı öfke ve gücensizlik duygularını, çocuklarının bakımıyla ilgili görev ve sorumluluklarına yansıtırlar.
3. Ülkemizde çiftlerin büyük bir kısmı geleneksel, güvenilirliği düşük ve sağlık açısından sakıncalı doğum kontrolü yöntemlerini uygulamaya çalışmaktadır. Buna göre aşağıdakilerden hangisi bu duruma neden olan faktörlerdendir?
- A) Anne sağlığını koruması
B) Gerekli eğitimin sağlanması
C) Yetersiz ve yanlış bilgiye sahip olunması
D) Tıbbi destekten yeterince yararlanılması
4. Aşağıda verilen gebeliği önleyici yöntemlerden hangisi anne sütünün miktarını azalttığı ve yapısını değiştirdiği için emzirirken kullanılmaz?
- A) Hap B) Diyafram
C) Spermisit D) Rahim içi araç
5. Doğuma kadar embriyonun anne ile bağlantısını, beslenmesini ve korunmasını sağlayan yapıya ne ad verilir?
- A) Zigot B) Lohusa
C) Döllenme D) Plasenta

1. OTURUM

6. Aşağıdakilerden hangisi gebelik döneminde alınması gereken demirden zengin besinlerdendir?

- A) Meyve B) Sebze
C) Kırmızı et D) Unlu gıdalar

7. Aşağıdakilerden hangisi gebelikte görülen mide-bağırsak rahatsızlıklarındandır?

- A) Diyabet B) Kabızlık
C) Kansızlık D) Osteomalasia

8. Doğum sonrası hijyen ile ilgili olarak verilenlerden hangisi doğrudur?

- A) Sentetik iç çamaşırını tercih edilmelidir.
B) Kullanılan petler sert, renkli ve kokulu olmalıdır.
C) Temizlik, arkadan öne doğru tuvalet kâğıdı ile yapılmalıdır.
D) Dikişli doğumlarda temizliğe dikkat edilirse yara 1-2 hafta içinde iyileşir.

9. I. İnek sütü anne sütünden daha fazla laktoz bulundurduğundan daha tatlıdır.

II. Elzem yağ asitleri bakımından anne sütü inek sütünden 5 kat daha zengindir.

III. İnek sütü ile anne sütünün besleyici değeri karşılaştırıldığında, yağ oranı itibarıyla fazla bir fark olmadığı görülür.

Anne sütü ve inek sütünün karşılaştırılmasıyla ilgili olarak verilenlerden hangileri doğrudur?

- A) I ve II. B) I ve III.
C) II ve III. D) I, II ve III.

10. Türkiye’de çocuklara zorunlu olarak uygulanan aşı takvimine göre

- I. BCG aşısı 2. ayın sonunda,
II. Hep B aşısı; doğumda, 1. ve 6. ayın sonunda yaptırılmaktadır.

Aşılar ile ilgili olarak verilenler için ne söylenebilir?

- A) I. doğru, II. yanlış
B) I. yanlış, II. doğru
C) Her ikisi de doğru
D) Her ikisi de yanlış

11. Aşağıdakilerden hangisi kanserden korunma yollarındandır?

- A) A, C, D ve E vitamini içeren gıdalardan yeterli miktarda alınması
B) Günlük tuz tüketiminin 25-30 gramın altına düşmemesi
C) Yağ tüketiminin artırılıp mümkün olduğunca yağlı etlerin tercih edilmesi
D) Yiyecekleri hazırlarken kızartma, kavurma ve tutsüleme gibi pişirme yöntemlerinin kullanılması

12. Aşağıdakilerden hangisi şeker hastalarının uymaları gereken kurallardandır?

- A) Nasır oluşumunu önlemek için ayağı sıkı ayakkabıların tercih edilmesi
B) Şeker oranını dengede tutmak için egzersiz yapmaktan kaçınılması
C) Cilt kuruluğu sebebiyle çıplak ayakla dolaşılması
D) Yılda en az bir kez göz ve böbrek muayenesi yaptırılması

13. Talasemi minör ile ilgili olarak verilenlerden hangisi doğrudur?

- A) Bebeklerde 3-4 aylıkken başlar.
B) Hafif seyredir ve kan gereksinimi azdır.
C) Kemiklerde ve yüz şeklinde değişiklikler görülür.
D) Karaciğer ve dalağın büyümesi sonucu karın şişer.

14. Bazı bulaşıcı hastalıkların belirli toplumlarda sürekli olarak bilinen oranlarda görülmesine ne ad verilir?

- A) Portör B) Vektör
C) Epidemik D) Endemik

15. Aşağıdakilerden hangisi bulaşıcı hastalıklardan korunmak için bulaşma yollarına yönelik olarak alınacak önlemlerdendir?

- A) Hastaları ayırmak
B) Hastaları tedavi etmek
C) Sağlamlara ilaç vermek
D) Dengeli ve yeterli beslenmek

16. Su ve besinlerle bulaşan hastalıklarla ilgili olarak verilenlerden hangisi yanlıştır?

- A) Bağırsak enfeksiyonlarında hastanın sıvı kaybı giderilmeli ve sıvı elektrolit dengesi sağlanmalıdır.
B) Gıda üretiminde çalışanların portör muayeneleri düzenli olarak yaptırılmalıdır.
C) Tifo, kolera, ishal hastalıkları su ve besinlerle bulaşır.
D) Genellikle kış aylarında görülür.

17. Aşağıdakilerden hangisi vektörlerle bulaşan ve uluslararası bildirim zorunlu olan hastalıklardan biri değildir?

- A) Veba B) Sıtma
C) Sarıhumma D) Lekeli humma

18. Cinsel yolla bulaşan hastalıklardan “frenji” ile ilgili olarak verilenlerden hangisi doğrudur?

- A) Kuluçka süresi 1-10 gündür.
B) Hastalığın etkeni bir tür virüstür.
C) Plasenta yoluyla anneden bebeğe geçebilir.
D) Hastaların lenf bezlerinde küçülme görülür.

19. Ateşli havalede, musluk suyu ile iletılan havlu veya küçük bez parçalarının direkt olarak vücudun hangi bölgelerine konulması sakıncalıdır?

- A) Dirseklerin iç yüzü
B) Karın ve göğüs
C) Koltuk altları
D) Kasıklar

20. Evde hasta bakımı ile ilgili olarak verilenlerden hangisi doğrudur?

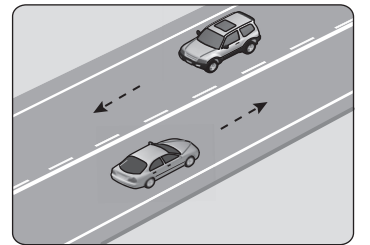
- A) Hasta odasının nemi fazla olmalıdır.
B) Hastanın yorganı kalın ve ağır olmalıdır.
C) Solunum güçlüğü çeken hastanın baş tarafı yüksek tutulmalıdır.
D) Bakıcının hareket kolaylığı yönünden hasta yatağının çok alçak olması gerekir.

(491) TRAF. VE İLK YARD. – 1

1. Aşağıdakilerden hangisi trafik kazalarında insan faktörünün birinci sırada yer almasına neden olan etkenlerdendir?

- A) Araç sayısının artması
B) Yolların yetersiz olması
C) Yasaklama ve sınırlamaların belirlenmemesi
D) Bireylerde trafik kültürü ve bilincinin oluşmaması

2.



Şekildeki kara yoluna ne ad verilir?

- A) Bölünmüş kara yolu
B) Tek yönlü kara yolu
C) İki yönlü kara yolu
D) Bağlantı yolu

1. OTURUM

3. Trafik ortamını paylaşanlarda, aşağıdaki tutum ve davranışlardan hangisinin bulunması trafik düzeni ve güvenliğini olumlu yönde etkiler?

- A) Yapılan hata karşısında hoşgörülü olunması
B) Keyfî ve kasıtlı davranışlarda bulunulması
C) Sorumluluktan uzak durulması
D) Olaylara aşırı tepki verilmesi

4. Aşağıdakilerden hangisi trafikte çevreyi korumaya yönelik davranışlardan biri değildir?

- A) Yiyecek ve içecek atıklarını araç dışına atmaktan kaçınılması
B) Araç bakımlarının zamanında ve tam olarak yaptırılması
C) Tehlikeli maddelerin gerekli önlemler alınarak taşınması
D) Ekonomik ömrünü tamamlamış araçların atıl şekilde bırakılması

5. • Yola birden çıkmak

- Duran aracın önünden veya arkasından çıkmak

Yukarıda verilenlerin yapılması trafik kazalarında rol oynayan kusurlardan hangisinin içinde değerlendirilir?

- A) Araç kusurları
B) Yaya kusurları
C) Yolcu kusurları
D) Sürücü kusurları

6. Aşağıdakilerden hangisi trafik kazalarının birey ve toplum üzerindeki olumsuz etkilerinden biri değildir?

- A) Yük ve insan taşımacılığını hızlı hâle getirmesi
B) Toplumdaki engelli insan sayısını artırması
C) Parçalanmış aile sayısını artırması
D) Sağlıksız bir toplum oluşturması

7.



Şekildeki trafik işareti neyi bildirir?

- A) Kavşağa 70 metre kaldığını
B) Azami hızın saatte 70 km olduğunu
C) Takip mesafesinin en az 70 metre olduğunu
D) Araçların 70 metre içinde park edemeyeceğini

8.



Kara yolu üzerine çizilen yukarıdaki yatay işaretlemelerden hangisi yaya geçidini belirtir?

- A) I. B) II. C) III. D) IV.

9.

- I. Üzerlerine yazı yazılması
II. Görülmelerinin engellenmesi
III. Eskiye trafik levhalarının değiştirilmesi

Trafik işaret ve levhalarıyla ilgili olarak verilenlerden hangilerinin yapılması trafiği tehlikeye düşürür?

- A) Yalnız I. B) I ve II.
C) II ve III. D) I, II ve III.

10.

- I. Çocukların taksilerde seyahatleri sırasında, çocuk bağlama sistemleri kullanmaları zorunludur.
II. Çocuklar, hava yastığı devre dışı bırakılmadan, ön hava yastığı ile korunan bir yolcu koltuğunda yüzü geriye dönük çocuk bağlama sistemi kullanılarak taşınabilirler.

Araçta kullanılan çocuk bağlama sistemiyle ilgili olarak verilenler için ne söylenebilir?

- A) I. doğru, II. yanlış
B) I. yanlış, II. doğru
C) Her ikisi de doğru
D) Her ikisi de yanlış

11.

- Güvenle seyahat etmek yüksek seviyede konsantrasyon gerektirir.

Buna göre aşağıdaki davranışlardan hangisi sürücünün konsantrasyonunu olumsuz yönde etkiler?

- A) Belirli sürelerde mola vermek
B) Seyahat öncesinde yeterli uyumak
C) Araç içinde yüksek sesle tepkiler vermek
D) Kullanacağı güzergâhlar hakkında yeterince bilgi sahibi olmak

12.

Sürücünün aşağıdakilerden hangisini yapması kara yollarında şerit takip kuralına uygundur?

- A) İki yönlü ve üç şeritli yollarda en sol şeride girmesi
B) Aracın cinsine ve hızına uygun olan şeritten gitmesi
C) Gidişe ayrılan yol bölümünün en sol şeridini sürekli işgal etmesi
D) Geçme, dönme, duraklama, durma ve park etme gibi hâller dışında sürekli şerit değiştirmesi

13.

Aşağıdaki tabloda aksine bir işaret yoksa otomobilin kara yolları türlerine göre azami hız sınırlamaları verilmiştir.

Araç Cinsi	Yerleşim Yeri Dışında		Otoyollarda
	Şehirler Arası Çift Yönlü Kara Yollarında	Bölünmüş Yollarda	
Otomobil	90	110	?

Buna göre tabloda “?” işareti ile belirtilen yere hangisi yazılmalıdır?

- A) 120 B) 130 C) 140 D) 150

14.

Aşağıdakilerden hangisi takip mesafesinin artırılmasını gerektiren durumlardandır?

- A) Araç yakıtının azalması
B) Öndeki aracın ağır yüklü olması
C) Kara yolunun bölünmüş yol olması
D) Kara yolunun ıslanması veya buzlanması

15.

Geçiş üstünlüğüne sahip araçların bir kavşakta karşılaşmaları durumunda ilk olarak aşağıdakilerden hangisi geçmelidir?

- A) İtfaiye aracı
B) Yaralı taşıyan hususi otomobil
C) Görevdeki sivil savunma hizmetlerine ait araç
D) Genel güvenlik ve asayiş için olay yerine giden zabıta aracı

16.

Aşağıdakilerden hangisi duraklamada alınacak önlemlerdendir?

- A) El freninin tespit edilmemesi
B) Banket üzerinde duraklama yapılmaması
C) Uzun süreli duraklamalarda motorun çalışır durumda bırakılması
D) Diğer araçların geçişini zorlaştırmayacak şekilde duraklama yapılması

17.

Aşağıdakilerden hangisi yolda kalan araçların işaretlenmesi sırasında uyulması gereken kurallardandır?

- A) Geceleyin park ve kuyruk ışıklarını yakmak
B) Bozulan aracı, gerekli tedbirleri almadan arızalandığı şeritte bırakmak
C) Bozulan araç tehlikeli madde taşıyorsa sadece ikaz uyarı ışıklarını yakarak aracı terk etmek
D) Aracın ön ve arkasına diğer sürücülerin 30 metre mesafeden görülebileceği şekilde kırmızı yansıtıcı koymak

1. OTURUM

18. Sürücüler yaya ve okul geçitlerine yaklaşıırken nasıl davranmalıdır?

- A) Aracın hızını sabit tutmalı
- B) Varsa öndeki aracı geçmeli
- C) İlk geçiş hakkını yayaya vermeli
- D) Okul veya yaya geçitlerine girenleri korna çalarak uyarmalı

19. Taşıt yolunun karşı tarafına geçmek isteyen yayalar, aşağıdaki yerlerden hangisini kullanmaları durumunda kazalara neden olabilirler?

- A) Okul geçitlerini
- B) Kavşak giriş ve çıkışlarını
- C) Trafik ışıklarının bulunduğu yerleri
- D) Trafik akışının hızlı olduğu yerleri

20. Aşağıdakilerden hangisinin yapımaması aracın trafikten men edilmesini gerektirir?

- A) Kasko sigortasının
- B) Mali sorumluluk sigortasının
- C) Araç periyodik bakımlarının
- D) Motor yağ seviyesi kontrolünün

(502) İNGİLİZCE – 8

1-20. sorularda boş bırakılan yere uygun gelen kelime ya da ifadeyi işaretleyiniz.

1. I - - - - be sleeping at 9 tonight, you can call me.

- A) have not
- B) did not
- C) doesn't
- D) won't

2. This time tomorrow, I will be - - - - Bursa by bus.

- A) eating
- B) playing
- C) going to
- D) drinking

3. I will be flying to South America - - - -.

- A) this time tomorrow
- B) until yesterday
- C) every day
- D) last week

4. I will have - - - - the e-mail by tomorrow morning.

- A) arrived
- B) moved
- C) built
- D) sent

5. Mark - - - - repaired his motorbike by four o'clock.

- A) will have been
- B) will have
- C) will be
- D) will

6. If you - - - - iron, it expands.

- A) heat
- B) wait
- C) feel
- D) go

7. If you - - - - sick, see the doctor.

- A) feeling
- B) to feel
- C) feel
- D) felt

8. If I lived by the sea, I - - - - fishing.

- A) would go
- B) going
- C) to go
- D) gone

9. If the weather were nice, we would - - - - football.

- A) like
- B) rain
- C) help
- D) play

10. If I - - - - ill, I wouldn't go out.

- A) have
- B) were
- C) am
- D) be

11. - - - - I was cleaning the house, the children were playing in the garden.

- A) In order to
- B) As long as
- C) While
- D) Until

12. I will phone you - - - - I arrive there.

- A) until
- B) because
- C) when
- D) whatever

13. Gökçe can't go there by herself - - - - she is too young.

- A) before
- B) after
- C) until
- D) as

14. - - - - Ayşe was young, she was very active.

- A) Since
- B) As soon as
- C) Whenever
- D) In order to

15. All the students rushed out of the school - - - - the bell rang.

- A) while
- B) although
- C) as soon as
- D) in order to

16. The pyramids - - - - by the ancient Egyptians.

- A) was building
- B) were built
- C) building
- D) to build

17. The cleaning is - - - - by the workers.

- A) done
- B) worn
- C) caught
- D) bought

18. Joy : - - - - ?

Mel : In London.

- A) Who went to London last week
- B) Who was born in London
- C) Where were you born
- D) When was the party

19. The letters - - - - by the secretary yesterday.

- A) writes
- B) will write
- C) are writing
- D) were written

20. French is - - - - in France.

- A) are speaking
- B) spoken
- C) spoke
- D) speak

(502) ALMANCA – 8

1 - 20. sorularda boş bırakılan yere uygun gelen ek, kelime ya da ifadeyi işaretleyiniz.

1. Ich gehe zum Arzt, - - - - ich bin krank.

- A) um
- B) nach
- C) denn
- D) seit

2. Ich kaufe mir ein Kleid, - - - - mein Vater mir Geld gibt.

- A) zum
- B) wenn
- C) dass
- D) als

3. Das ist mein Auto. Das Auto gehört - - - - .

- A) mir
- B) dir
- C) ich
- D) mich

4. Maria hilft - - - - alten Mann.

- A) die
- B) der
- C) den
- D) dem

5. Ceren - - - - in Ankara. "studieren" fiilinin "Präteritum" hâli aşağıdakilerden hangisidir?

- A) studiert
- B) studierte
- C) studiere
- D) studieren

6. Ayla - - - - Jura studieren. "wollen" fiilinin "Präteritum" hâli aşağıdakilerden hangisidir?

- A) wolltest
- B) wollten
- C) wolltet
- D) wollte

7. Mehmet ist so fleißig - - - - Murat.

- A) genauso
- B) wie
- C) als
- D) gleich

1. OTURUM


8. Kemal springt - - - - als Furkan.

- A) höher B) höchste
C) hoch D) am höchsten

9. der intelligent- - - - - Frau. (Dativ)

- A) -en B) -e C) - D) -et

10.



Die Frau ist - - - - .

Das Kind ist - - - - .

Das Baby ist - - - - .

- A) jung / jung / jünger
B) jünger / junge / am jüngsten
C) jung / jünger / am jüngsten
D) am jüngsten / jünger / jung

11. Das Zimmer - - - - Kindes ist groß.

- A) den B) das C) der D) des

12. Ich gehe nach Hause, - - - - es ist zu spät.

- A) weil B) denn
C) als D) dass

13. Die Frau kann weiterfahren, - - - - die Ampel grün ist.

- A) dass B) als
C) wenn D) zum

14. Das ist unser Zimmer. Das Zimmer gehört - - - - .

- A) uns B) mein
C) wir D) ihr

15. Sie liest - - - - Zeitung.

- A) der B) dem
C) die D) des

16. A: Kaufst du die Hose?
B: Nein, ich kaufe - - - - nicht.

- A) den B) die
C) er D) sie

17. A: Wie heißt er?
B: Er - - - - Cem.

- A) heißen B) heißt
C) heiß D) heiße

18. Ayda läuft - - - - schnell wie Asya.

- A) als B) gleich
C) genau D) so

19. Kars ist kälter - - - - Eskişehir.

- A) als B) wie
C) denn D) um

20. dem klein- - - - - Kind.

- A) - B) -e C) -en D) -es

(502) FRANSIZCA – 8

1 – 20. sorularda boş bırakılan yere uygun gelen sözcük veya ifadeyi işaretleyiniz.

1. - - - -, elle doit participer à une réunion au bureau.

- A) La semaine d'avant
B) L'été dernier
C) Hier
D) Aujourd'hui

2. Le poisson - - - - Sylvie a mangé était délicieux.

- A) dont B) que C) qui D) où

3. Nicole : Comment voyages-tu ?
Arda : Je voyage - - - - .

- A) en mars B) en été
C) en fer D) en car

4. La Statue de la liberté est - - - - New York, - - - - Etats-Unis.

- A) en / au B) aux / à
C) à / aux D) au / en

5. Le mois de juillet est - - - - .

- A) en été
B) au mois de mai
C) en janvier
D) en coton

6. Aykan : Ton frère habite à Berlin ?
Marie : Oui, il - - - - travaille depuis trois ans.

- A) le B) à C) y D) en

7. Si je veux acheter une robe, je vais - - - - .

- A) dans une boutique célèbre
B) à la poissonnerie
C) chez le marchand de chaussures
D) chez le boucher

8. Sandra : Combien - - - - La Statue de la liberté de New York ?

Alain : 46 mètres.

- A) pèse B) mesure
C) habite D) marche

9. Je bois de l'eau minérale parce que - - - - .

- A) j'ai tort
B) j'ai raison
C) je n'ai pas soif
D) j'ai soif

10. Quand il neige, j'aime faire du ski - - - - .

- A) au cybercafé
B) à la montagne
C) à l'opéra
D) à la bibliothèque

11. J'aime les animaux. Je vais souvent - - - - .

- A) au centre commercial
B) à la patinoire
C) au zoo
D) à la plage

12. Ayla : On va au cinéma ?

Marc : S'il y a un bon film, - - - - .

- A) je veux aller
B) il change de travail
C) je pense t'aider
D) il n'a pas de courage

13. Akile : Ce soir, je fête mes 17 ans.

Jean : - - - - !

- A) Bon voyage
B) Bon courage
C) Bon anniversaire
D) Bonne année

14. Paul : - - - - as-tu acheté ces fleurs ?

Janine : Je les achetées chez le fleuriste.

- A) Combien B) Avec qui
C) Quand D) Où

15. En juillet, il - - - - chaud et - - - - du soleil.

- A) il y a / il y a B) fait / il y a
C) fait / fait D) il y a / fait

16. Cette fille est très - - - - .

- A) timide B) riches
C) joyeux D) heureux

17. M. Toprak : Bonjour mademoiselle, comment- - - - - vous ?

Anne : Très bien.

- A) vas B) sommes
C) allez D) êtes

1. OTURUM

18. **Eda** : Tu as regardé Survivor hier soir ?

Max : - - - - .

- A) Non, je n'ai rien acheté
- B) Non, je ne l'ai pas bu
- C) Je n'ai plus d'argent
- D) Je ne regarde jamais ça

19. **Un cuisinier travaille** - - - - .

- A) dans un restaurant
- B) au musée
- C) à la banque
- D) dans un jardin

20. **Hier, - - - la pluie je suis arrivé en retard au bureau.**

- A) grâce à
- B) à cause de
- C) parce que
- D) pourquoi

(511) FIKIH – 1

1. **Evlenme-boşanma konuları fikhin aşağıdaki bölümlerinden hangisi ile ilgilidir?**

- A) Ferâiz
- B) Ukûbat
- C) Münâkehât
- D) Muâmelât

2. **Fikhî ilmi, bir meselenin şer'i hükümünü tespit ederken aşağıdaki ilimlerin hangisinden doğrudan yararlanır?**

- A) İktisat
- B) Tefsir
- C) Mantık
- D) Coğrafya

3. **"Hukuk-i İslamiyye ve Istilâhât-i Fikhiyye Kâmusu" adlı eserin müellifi kimdir?**

- A) İbn Ruşd el-Hafid
- B) Vehbe ez-Zuhayli
- C) Hayreddin Karaman
- D) Ömer Nasuhi Bilmen

4. **İslam, insanın sorumlu tutulduğu emirleri yerine getirmesinde zorlanması durumunda bazı kolaylaştırıcı hükümler getirmiştir.**

Aşağıdakilerden hangisi bu konuya örnek oluşturmaz?

- A) Orucunu mazeretsiz bozan birinin kefareti orucu tutması
- B) Ayakta namaz kılamayanın oturarak namaz kıması
- C) Ramazan orucunun yolcular için zorunlu olmaması
- D) Su bulamayan birinin teyemmüm etmesi

5. **Aşağıdaki imamlardan hangisi Hicaz ekolünü temsil etmektedir?**

- A) Hammad b. Ebi Süleyman
- B) Abdullah b. Mesud
- C) Ahmed b. Hanbel
- D) Ebu Hanife

6. **Aşağıdakilerden hangisi içtihadın konusu olamaz?**

- A) Subût ve delâleti kat'i olan naslar
- B) Delâlet bakımından zannî deliller
- C) Tek kişiden rivayet edilen âhâd haberler
- D) Hakkında hüküm bulunmayan meseleler

7. **Aşağıdakilerden hangisi müctehitte aranan şartlardan biri değildir?**

- A) Kur'an'a vâkif olmak
- B) Fıkıh usulünü bilmek
- C) Dinin genel amaçlarını bilmek
- D) Kur'an'ı baştan sona ezberlemek

8. **"Hakim, çaba ve gayretiyle hüküm verir ve isabet ederse kendisine iki mükafat, ancak hata ederse bir mükafat vardır."**

Bu hadiste aşağıdakilerden hangisi teşvik edilmiştir?

- A) İctihat
- B) İstişare
- C) Kolaylık
- D) Yardımseverlik

9. **Aşağıdakilerden hangisi sahabe dönemi içtihadına örnektir?**

- A) Uhut Savaşı'nın meydan savaşı olarak yapılmasına karar verilmesi
- B) Teravih namazının cemaatle kılınmasına karar verilmesi
- C) Namaza çağırının ezan ile yapılmaya başlanması
- D) Kan naklinin mubah görülmesi

10. **Aşağıdakilerden hangisi günümüzde müntesibi olmayan mezhep imamıdır?**

- A) Malik b. Enes
- B) Ca'fer es-Sadık
- C) Davut b. Ali
- D) Ahmet b. Hanbel

11. **Hüküm çıkarırken kitap, sünnet ve sahabe icmaı sıralamasına uyar.**

- Kıyas, istihsan ve örf gibi delillerle icthad eder.
- Tabiî fetvasının kendini bağlamayacağını ifade eder.

Hüküm çıkarma metodu hakkında bilgi verilen mezhep imamı aşağıdakilerden hangisidir?

- A) Ebu Hanife
- B) İmam Şafii
- C) İmam Malik
- D) Ahmet b. Hanbel

12. **İmam Şafii ile ilgili aşağıdaki bilgilerden hangisi yanlıştır?**

- A) Gazze'de dünyaya gelmiştir.
- B) İmam-ı Âzam'a hocalık yapmıştır.
- C) Risale ve Umm gibi eserlerin sahibidir.
- D) Mısır'daki görüşleri mezheb-i cedit adıyla bilinir.

13. **Yazılmış olan eserlere şerhler ve haşiyeler yapılmıştır.**

- Resmi veya sivil olarak hazırlanan fetva kitapları yazılmıştır.
- Görüşlerin, daha kuvvetli ve tercihe değer olanları tespit edilmiştir.
- Umumiyetle âlimleri ve özelde mezhepleri müdafaa eden eserler yazılmıştır.

Bu çalışmalar aşağıdaki dönemlerin hangisinde gerçekleşmiştir?

- A) Sahabe dönemi
- B) Tabiun dönemi
- C) Mezhepler dönemi
- D) Mezhepler sonrası dönem

14. **"Allah, bir kimseyi ancak gücü ölçüsünde sorumlu kılar..."**
(Bakara suresi, 286. ayet)

Bu ayette aşağıdakilerden hangisi vurgulanmaktadır?

- A) İctihat
- B) Helallerde genişlik
- C) Güç yetirebilirlik
- D) Hükümlerde tedricilik

15. **Aşağıdaki durumların hangisiyle kişinin "edâ (yapma) ehliyeti"ne sahip olduğu kabul edilir?**

- A) Anne karnında can bulmasıyla
- B) Âkil ve balığ olmasıyla
- C) Sağ olarak doğmasıyla
- D) Evlenmesiyle

16. **Yapılması dinen zorunludur.**

- Terk edilmesi Allah katında cezayı gerektirir.
- İnkârı kişinin dinden çıkmasına sebep olur.

Bu bilgiler aşağıdaki hükümlerin hangisi ile ilgilidir?

- A) Farz
- B) Sünnet
- C) Mubah
- D) Müstehap

17. **Hz. Muhammed'in (sav.) fiillerini, insan olması sebebiyle yaptığı davranışlar ve peygamber olması sebebiyle yaptığı davranışlar olarak ikiye ayırmak mümkündür.**

Buna göre aşağıdakilerden hangisi Hz. Muhammed'in (sav.) insan olması sebebiyle yaptığı davranışlarına örnektir?

- A) "Namazı benim kıldığım şekilde kılın." buyurması
- B) Hac uygulamalarına dair hükümler koyması
- C) Vahyi insanlara ulaştırması
- D) Savaşlara karşı tedbir alması

1. OTURUM

18. İsrâ suresi 23. ayetinde: "Rabbin sadece kendisine ibadet etmenizi ve anne babanıza iyilik yapmanızı emretti..." buyrulmuştur. Hz. Peygamber de "Kime iyilik edeyim?" diye soran sahabeye: "Annene, annene, annene sonra babana." demiştir.

Bu durum sünnetin aşağıdaki yönlerinden hangisine örnek oluşturur?

- A) Teyit edici sünnet
- B) Sınırlandırıcı sünnet
- C) Ayetleri açıklayıcı sünnet
- D) Yeni hüküm getiren sünnet

19. Aşağıdakilerden hangisi kıyas yoluyla ortaya konulmuş uygulamalara örnektir?

- A) Domuz etinin haram kılınması
- B) Kur'an'ın mushaf haline getirilmesi
- C) Teravih namazının cemaatle kılınması
- D) Uyuşturucu madde kullanımının yasak sayılması

20. Bir zamanda mevcut olan durumun, değiştiğine dair bir delil bulunmadıkça, hâlen varlığını koruduğuna hükmetmektir.

Tanımı verilen kavram aşağıdakilerden hangisidir?

- A) İstihsan
- B) İstishap
- C) Sedd-i Zerâi
- D) Mesalih-i Mürsele

(532) SEÇMELİ PEYGAMBERİMİZİN HAY. – 2

1. Aşağıdakilerden hangisi Hz. Peygamber'in ilk vahiyden önce Hira Mağarası'na gitme sebeplerinden biridir?

- A) Vahyin gelişini beklemesi
- B) Allah'ı tefekkür etmek istemesi
- C) Kâbe'yi uzaktan seyretmek istemesi
- D) Kutsal bir mekân olduğunu düşünmesi

2. Hz. Peygamber ilk vahyi aldığı anda başından geçenleri endişe ile eşi Hz. Hatice'ye anlatmıştır. Hz. Hatice, Hz. Muhammed'de (sav.) bulunan bir takım özellikleri gerekçe göstererek Allah'ın kendisini utandırmayacağını söylemiş ve onu sakinleştirmiştir.

Aşağıdakilerden hangisi Hz. Hatice'nin gerekçe gösterdiği bu özelliklerden biri değildir?

- A) Akriba hakkına riayet etmesi
- B) Misafire ikramda bulunması
- C) Ticaretle uğraşması
- D) Doğru konuşması

3. Aşağıdaki ayetlerden hangisi Hz. Peygamber'in davet metodu hakkında bilgi vermektedir?

- A) "Sen onlara Allah'ın lütfu sayesinde yumuşak davrandın. Eğer kaba, katı kalpli olsaydın hiç şüphesiz etrafından dağılır giderlerdi..."

(Âl-i İmrân suresi, 159. ayet)

- B) "Rabbin seni terk etmedi ve sana darılmadı da. Muhakkak ki ahiret senin için dünyadan daha hayırlıdır."

(Duhâ suresi, 3-4. ayetler)

- C) "Hayır! İnsan kendini yeterli gördüğü için mutlaka azgınlık eder. Şüphesiz dönüş ancak Rabb'inedir."

(Alâk suresi, 6-8. ayetler)

- D) "Ey iman edenler! Allah ve Resulü'nün önüne geçmeyin, Allah'a itaatsizlikten sakının! Şüphesiz Allah her şeyi işitmekte ve bilmektedir."

(Hucurât suresi, 1. ayet)

4. Hz. Muhammed'in (sav.) peygamberliğine ilk iman eden kişi aşağıdakilerden hangisidir?

- A) Hz. Zeynep
- B) Hz. Ayşe
- C) Hz. Fatma
- D) Hz. Hatice

5. Hz. Peygamber'e inanmış, O'nu görmüş, sohbetinde bulunmuş ve Müslüman olarak vefat etmiş olan kimselere ne ad verilir?

- A) Sahabe
- B) Tabiin
- C) Ehlibeyt
- D) Muallim

6. İslam'ın ilk dönemlerinde Kureyş kâfirleri bazı Müslümanların fakirliği ile "İçimizde Allah'ın lütfuna nail olanlar bunlar mı?" diyerek alay ediyorlardı. Hz. Peygamber ise insanlara Allah katındaki yüceliğin maddi zenginlikle değil, Allah'a olan samimiyetle olacağını anlatmaktaydı.

Aşağıdaki hadislerden hangisi Hz. Peygamber'in bu tutumuna örnek oluşturmaktadır?

- A) Kolaylaştırınız, güçleştirmeyiniz. Müjdeleyiniz, nefret ettirmeyiniz.
- B) Allah, sizden birinizin yaptığı işi, ameli ve görevi sağlam ve iyi yapmasından hoşnut olur.
- C) Allah sizin dış görünüşünüze ve mallarınıza bakmaz ancak o sizin kalplerinize ve işlerinize bakar.
- D) Başkasının kusurlarını anlatmak istediğinde hemen kendi kusurlarını hatırla.

7. "Sen, sana buyrulmanı açıkça duyur, müşriklere aldırış etme!"

(Hicr suresi, 94. ayet)

Bu ayette tebliğ ile ilgili aşağıdakilerden hangisi vurgulanmıştır?

- A) Yumuşak bir üslup benimsenmesi
- B) Zengin fakir ayırılmaması
- C) Yakın çevreden başlanması
- D) Aleni bir şekilde yapılması

8. Hz. Peygamber'in, Müslümanları hicret için Habeşistan'a yönlendirmesinde, Habeş hükümdarı Necasî'nin aşağıdaki özelliklerinden hangisi etkili olmuştur?

- A) Cömertliği
- B) Adaleti
- C) Cesareti
- D) Affediciliği

9. Aşağıdakilerden hangisi müşriklere İslam'a karşı çıkma sebeplerinden biri değildir?

- A) Sosyal statülerini kaybetme endişeleri
- B) Atalarının inançlarına olan bağlılıkları
- C) Maddi çıkarlarının zedelenmesi
- D) Hz. Peygamber'in Kureyş kabilesinden olması

10. Müslümanların ilk defa Kâbe'de saf tutup namaz kılmaları aşağıdakilerden hangisi ile gerçekleşmiştir?

- A) Hz. Ömer'in Müslüman olması
- B) Boykot kararlarının kalkması
- C) Habeşistan'a hicret
- D) İlk vahyin gelmesi

11. Hz. Peygamber İslam'ı anlatmak için Taif'e gittiğinde büyük sıkıntılarla karşılaşmış, halk tarafından eziyete uğramış ve üzüntüyle Taif'ten ayrılmıştır. Fakat şehrin dışında sığındığı bağda kendisine üzüm getiren bir köle ile konuşup İslam'ı anlattığında o köle Müslüman olmuştur.

Bu metinden Hz. Peygamber ile ilgili aşağıdaki sonuçlardan hangisi çıkarılamaz?

- A) Her durumda İslam'ı anlatmak için çalışmıştır.
- B) Zorluklar karşısında sabırlı ve kararlı davranmıştır.
- C) Karar verirken diğer insanların da fikrini önemsemiştir.
- D) İnsanlar arasında ayırım yapmadan tebliğde bulunmuştur.

12. Hz. Muhammed (sav.) hicretten önce Medinelilere İslam'ı öğretmesi için gönderdiği kişi aşağıdakilerden hangisidir?

- A) Hz. Talha
- B) Hz. Mus'ab
- C) Hz. Bilal
- D) Hz. Ali

1. OTURUM

13. Hz. Peygamber'in Medine'ye hicreti esnasında yaptırdığı İslam'ın ilk mescidi aşağıdakilerden hangisidir?

- A) Mescid-i Kibleteyn
- B) Mescid-i Nebevi
- C) Kuba Mescidi
- D) Mescid-i Aksa

14. Hz. Peygamber, Medine'ye hicretinden kısa bir zaman sonra sosyal, siyasal ve askerî açıdan toplumun temelini oluşturacak bir takım düzenlemelerde bulunmuştur.

Aşağıdakilerden hangisi bunlardan biri değildir?

- A) Medine Sözleşmesi'nin imzalanması
- B) Müslümanların kardeş ilan edilmesi
- C) Nüfus sayımı yapılması
- D) Haccın farz kılınması

15. Mescid-i Nebi öncelikle bir ibadet yeri olmakla birlikte ilmi faaliyetlerin yürütüldüğü eğitim kurumu, kararların alındığı meclis, yaralı askerlerin tedavisinde ve elçilerin kabulünde kullanılan bir mekândır.

Bu metne göre Mescid-i Nebi ile ilgili aşağıdakilerden hangisi söylenebilir?

- A) Pek çok işleve sahip olduğu
- B) Yapımında Hz. Peygamber'in de çalıştığı
- C) Bitişinde Hz. Peygamber'in evinin bulunduğu
- D) Günümüzde en çok ziyaret edilen mescitlerden olduğu

16. Hz. Peygamber'in katılmayıp bir sahabenin komutasında yapılan seferlere seriyye denir.

Buna göre aşağıdakilerden hangisi seriyye olarak kabul edilir?

- A) Bedir
- B) Batn-ı Nahle
- C) Huneyn
- D) Tebük

17. Medine'deki ekonomik hayatı Yahudilerin tekelinden kurtarmak için Hz. Peygamber aşağıdakilerden hangisini uygulamıştır?

- A) Hristiyanlarla ticari ilişkileri geliştirmiştir.
- B) Yahudilerle alışverişi yasaklamıştır.
- C) Medine'de bir pazar kurdurmuştur.
- D) Yahudilerden vergi almıştır.

18. Mekkeliler ile Müslümanların yaptığı son savaş aşağıdakilerden hangisidir?

- A) Mute
- B) Hendek
- C) Uhud
- D) Bedir

19. Hz. Peygamber'in Mescid-i Dırar'ı ortadan kaldırma sebebi aşağıdakilerden hangisidir?

- A) Medine'ye uzak olması
- B) Yahudilere ait bölgede bulunması
- C) Eğitim faaliyetleri için tahsis etmek istemesi
- D) Münafıkların bir araya gelmelerini engellemek istemesi

20. Aşağıdakilerden hangisi Hz. Peygamber'in İslam'a davet için gönderdiği elçiyi şehit ederek Mute Savaşı'na sebep olmuştur?

- A) Gassani Meliki
- B) İran Kısrası
- C) Mısır Mukavkısı
- D) Bizans İmparatoru

(544) TÜRK DİLİ VE EDEBİYATI – 4

1. • İpli, el, araba, parmak, iskemle gibi türleri vardır.
 - Anadolu'da korçak, kudurcuk, kaburcuk, koğurcak gibi isimlerle yaşar.
 - Türk oyununda iki tane başkahramanı bulunmaktadır. Bunlar İbiş ve İhtiyar'dır.

Özellikleri verilen geleneksel Türk halk tiyatrosu türü aşağıdakilerden hangisidir?

- A) Meddah
- B) Kukla
- C) Karagöz
- D) Orta oyunu

2. Geleneksel Türk halk tiyatrosundaki Pişekâr, Karagöz oyunundaki hangi kahramana benzemektedir?

- A) Hacivat
- B) Zenne
- C) Arnavut
- D) Tuzsuz Deli Bekir

3. Aşağıdaki cümlelerden hangisi anlamına göre olumsuzdur?

- A) Patika yolda kısa bir yürüyüş yaptık.
- B) Kardeşim üç dilim pasta yemiş.
- C) Çayına şeker istemedi.
- D) İzmir'e uçakla gideceğim.

4. Aşağıdaki eser – yazar eşleştirmelerinden hangisi yanlıştır?

- A) Vatan yahut Silistre – Namık Kemal
- B) Duhter-i Hindu – Abdülhak Hamit Tarhan
- C) Zavallı Çocuk – İbrahim Şinasi
- D) Çok Bilen Çok Yanılır – Recaizâde Mahmut Ekrem

5. Aşağıdaki cümlelerden hangisinin yüklemi fiildir?

- A) Karşımdaki yirmi beş yaşlarında genç bir adamdı.
- B) İşte bu, gençken kıyısında oturup huzur olduğumuz engin deniz.
- C) Bize haberi ulaştırmak için arkamızdan koştuğundan nefes nefeseydi.
- D) Ansızın uyandığında daha güneş doğmamıştı.

6. Aşağıdakilerden hangisi kurallı bir cümle değildir?

- A) Ertesi gün buluşmak için sözleştikten sonra vedalaştılar.
- B) Evin hanımı haberi aldığı anda yüzünde güller açmış.
- C) Gözleri; uçsuz bucaksız, derin okyanuslara benziyordu.
- D) Onu ne kadar çok sevdiğini söyleyememişti şimdi uzaklarda olan babasına.

7. Yanlış geleneklerin eleştirildiği, Batılı anlamdaki ilk tiyatro oyunumuz - - - -
Bu cümlede boş bırakılan yere aşağıdakilerden hangisi getirilmelidir?

- A) Şair Evlenmesi'dir.
- B) Akif Bey'dir.
- C) İçli Kız'dır.
- D) Kokana Yatıyor'dur.

8. Birden çok yargıyı, düşünce ve isteği bildiren cümlelere birleşik cümle denir.

Buna göre aşağıdakilerden hangisi yapısına göre birleşik cümle değildir?

- A) Geziden dönen öğrenciler çok eğlendiklerini söyledi.
- B) Annesi telefonda oğluna "Eve sakin geç kalma!" diye tembihlemiş.
- C) Kızı doğduğundan beri gözü başkasını görmüyor.
- D) Çiçekçiden annesine rengârenk güller alacakmış.

9. Çocukluğumda bir arife günü Eyüp Türbesi'nde içimi dolduran derin heyecan ve garip huşu yine ortaya çıkmıştı. O sabah sekiz tane kınalı kocaman koyunun ahırdan memeleri iştiliyordu. Bahçenin bir köşesinde derin bir çukur kazılmış, büyükbabam kollarını sıvamış kurbanları kesmeye hazırlanıyordu. Her koyunun kimin için kesildiğini anlattı: "Bu Kemal'in, bu Refet'in ruhu için, şu senin."

Bu metin aşağıdaki türlerden hangisine örnektir?

- A) Haber yazısına
- B) Destana
- C) Gazete reklamına
- D) Anıya

1. OTURUM

(609) SEÇ. MATEMATİK – 2

10. • Anılar yaşandığı dönemi yansıtan bir belge niteliği taşır.
• Türk edebiyatında ilk anı örneği Divanü Lügati't Türk'tür.
• Anı türü "anı portre" ve "düz anı" olmak üzere iki grupta toplanır.

Bu cümleler doğru-yanlış olarak değerlendirildiğinde sıralama aşağıdakilerden hangisi olur?

- A) D – D – Y B) D – Y – D
C) Y – D – Y D) Y – Y – D

11. **Aşağıdaki cümlelerin hangisinde anlatım bozukluğu yapılmıştır?**

- A) Lise öğrencisiyken âşık atışmalarını dinleme fırsatı bulmuştum.
B) Atalarımız aşağı yukarı tam dört yüz yıl önce buraya yerleşmiş.
C) Bu eser, yurt dışındaki yüz milyonlarca insana Türk edebiyatını tanıttı.
D) Yaz böceği zayıf asma dallarının birinde sanki feryat ediyor.

12. **Aşağıdakilerden hangisi haberi oluşturan unsurlardan (5N – 1K kuralı) değildir?**

- A) Kim B) Ne zaman
C) Kaçınıcı D) Nerede

13. **Bilinçsizce kullanılan sanayi tipi aletler ölüme hatta yaralanmalara neden olabilir.**

Bu cümledeki anlatım bozukluğunu gidermek için yapılması gereken aşağıdakilerden hangisidir?

- A) "ölüme" ve "yaralanmalara" ifadelerinin yerini değiştirmek
B) "sanayi tipi" ifadesini cümleden atmak
C) "Bilinçsizce kullanılan" ifadesini cümleden çıkarmak
D) "neden olabilir" yerine "yol açabilir" ifadesini getirmek

14. **Aşağıdakilerden hangisi Batı kültürü etkisinde gelişen Türk edebiyatının dönemlerinden değildir?**

- A) Divan Edebiyatı
B) Millî Edebiyat
C) Fecriati
D) Servetifünun

15. **Aşağıdakilerden hangisi reklam metinlerinin oluşturulmasındaki temel ilkelerdendir?**

- A) Anlaşılabilirlik B) Öznellik
C) Soyutluk D) Eleştirelilik

16. **Batı'da da şiir hem bir yetenek hem de sabırlı bir bilgi işi olarak anlatılmıştır. Bazı edebî anlayışlar daha çok ilhama bazıları daha çok zekâ gücüne önem vermişlerse de şiir hepsinde bilen, arayan, bulan hele dilin doğrusu yanlışı kendinden sorulan adamdır. Batı'da sanatçıların en şuurulusu, işini en bile yapan, tesadüfe en az pay bırakan şairdir diyebilirim.**

Bu parça aşağıdaki öğretici metinlerin hangisinden alınmış olabilir?

- A) Anı B) Haber
C) Deneme D) Tutanak

17. **Aşağıdaki eserlerden hangisinin türü deneme değildir?**

- A) Karalama Defteri
B) Mai ve Siyah
C) Bize Göre
D) Bu Ülke

18. **Yeni ressamlar geçmişi yok saymak şöyle dursun ona her zamankinden daha fazla başvuruyorlar. Eski ressam için geçmiş çok defa kendi ustasından ibaretken yeni ressam bütün insanlığın geçmişini, mağara devrinden bu yana, kendi geçmişi biliyor. Hiçbir devirde resmin geçmişi ressamların önüne bugünkü kadar cömertlikle serilmemiş ve eserlerine girmemiştir.**

Bir denemeden alınan bu metinde aşağıdakilerden hangisi ağır basmaktadır?

- A) Öyküleme
B) Betimleme
C) Karşılaştırma
D) Sayısal verilerden faydalanma

19. **Aşağıdaki reklam türlerinden hangisi diğerlerine göre daha etkilidir?**

- A) Televizyon B) Gazete
C) Radyo D) Dergi

20. **AYŞE : Gece mi çıkacaksın yola?
AHMET : Evet, bu gece...
AYŞE : Geriye dönecek misin?
AHMET : Bilmem, belki bir gün...**

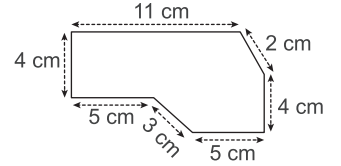
Bu diyalogda Ahmet'in kurduğu cümleler aşağıdakilerden hangisine örnektir?

- A) Kurallı cümle
B) Eksiltili cümle
C) Devrik cümle
D) Soru cümlesi

1. **Gerçekte 50 km olan bir uzunluk, ölçeği $\frac{1}{10000}$ olan planda kaç metredir?**

- A) 5 B) 10 C) 20 D) 50

- 2.

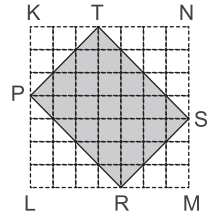


Şekilde ölçeği $\frac{1}{400}$ olan bir arsanın planı verilmiştir.

Bu arsanın gerçek çevresi kaç metredir?

- A) 68 B) 102 C) 126 D) 136

- 3.



Şekildeki eş karelere ayrılmış KLMN karesinin alanı 49 birimkaredir.

Buna göre A(PRST) kaç birimkaredir?

- A) 22 B) 23 C) 24 D) 25

4. **Yüzey alanı 96 cm² olan küpün bir ayrıntının uzunluğu kaç santimetredir?**

- A) 1 B) 2 C) 3 D) 4

5. **Tabanına ait dik kenarlarının uzunlukları 7 cm ve 8 cm olan dik üçgen prizmanın yüksekliği 12 cm olduğuna göre bu prizmanın hacmi kaç santimetreküptür?**

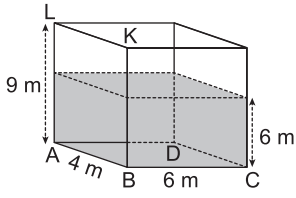
- A) 336 B) 144 C) 96 D) 84

6. **Ayrıtlarından birinin uzunluğu 3 m olan küp şeklindeki boş bir su deposunun tamamen dolması için boyutları 30 cm, 50 cm ve 60 cm olan dikdörtgenler prizması şeklindeki bir kapla en az kaç kez su taşınmalıdır?**

- A) 180 B) 200 C) 250 D) 300

1. OTURUM

7.



Boyutları 4 m, 6 m ve 9 m olan dik-dörtgenler prizması biçimindeki su deposu düz bir zeminde ABCD yüzeyi üzerinde şekildeki gibi durduğunda deponun içindeki suyun yüksekliği 6 m olmaktadır.

Bu su deposu aynı zeminde ABKL yüzeyi üzerinde durduğunda içindeki suyun yüksekliği kaç metre olur?

- A) 2 B) 3 C) 4 D) 5

8. Yarıçapının uzunluğu 4 cm olan kürenin yüzey alanı kaç santimetrekaredir? (π yerine 3 alınız.)

- A) 180 B) 192 C) 220 D) 244

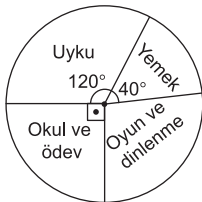
9. Taban yarıçapının uzunluğu 3 cm, yüksekliği 5 cm olan bir dik dairesel silindirin yüzey alanı kaç π santimetrekaredir?

- A) 48 B) 46 C) 44 D) 42

10. 34, 26, 21, 78, 81 sayılarından oluşan veri grubunun aritmetik ortalaması kaçtır?

- A) 46 B) 48 C) 50 D) 52

11.

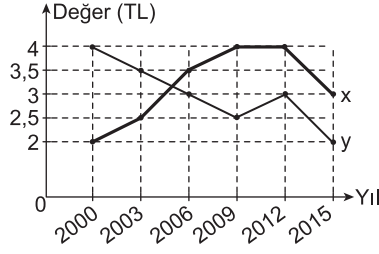


Yukarıdaki dairesel grafikte bir öğrencinin bir günlük etkinliklerinin dağılımı verilmiştir.

Grafiğe göre bu öğrencinin okul ve ödev etkinliğine ayırdığı süre kaç saattir?

- A) 4 B) 6 C) 8 D) 12

12.

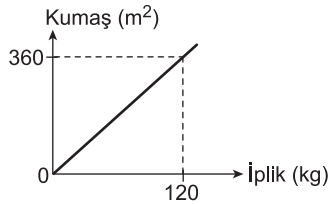
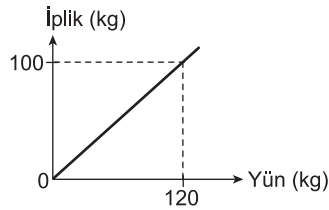


Yukarıdaki grafikte x ve y dövizlerinin Türk lirası cinsinden değerlerinin 2000 – 2015 yılları arasındaki değişimi verilmiştir.

Grafiğe göre aşağıda verilenlerden hangisi yanlıştır?

- A) x, 2000-2009 yılları arasında sürekli artmıştır.
B) 2006-2009 yılları arasında x artarken y azalmıştır.
C) 2012-2015 yılları arasında x ve y azalmıştır.
D) y, 2000-2015 yılları arasında sürekli azalmıştır.

13.

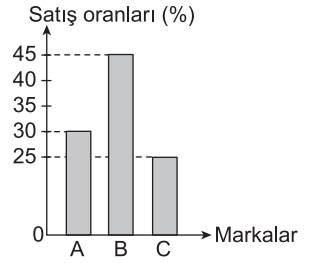


Yukarıdaki grafiklerde yünden elde edilen iplik miktarı ve iplikten elde edilen kumaş miktarı verilmiştir.

Buna göre 600 m² kumaş elde etmek için kaç kilogram yün gereklidir?

- A) 160 B) 200 C) 240 D) 300

14.



Yukarıdaki grafikte bir mağazadaki A, B ve C marka televizyonların bir haftalık satış oranları yüzde (%) olarak verilmiştir.

Grafiğe göre bu mağazada bir haftada toplam 40 televizyon satıldığına göre A marka televizyondan kaç tane satılmıştır?

- A) 12 B) 15 C) 18 D) 20

15.

Yaş Grupları	İşçi Sayısı
18 - 25	200
26 - 33	120
34 - 41	160
42 ve üstü	240

Yukarıdaki tabloda bir fabrikada çalışan işçilerin sayısının yaş gruplarına göre dağılımı verilmiştir.

Bu veriler daire grafiğine yerleştirildiğinde 34 - 41 yaş grubunda çalışan işçilerin sayısını veren daire diliminin merkez açısının ölçüsü kaç derece olur?

- A) 60 B) 80 C) 100 D) 120

16. Bir sınıftaki 30 öğrenciden 18'i müzik, 12'si resim dersini seçmiştir.

Bu sınıftan rastgele seçilen bir öğrencinin resim dersini seçmiş olma olasılığı kaçtır?

- A) $\frac{2}{3}$ B) $\frac{1}{2}$ C) $\frac{2}{5}$ D) $\frac{3}{10}$

17. Bir okuldaki 3 matematik, 2 fizik öğretmeni arasından oluşturulan 3 kişilik komisyonda 2 matematik ve 1 fizik öğretmeni bulunma olasılığı kaçtır?

- A) $\frac{1}{4}$ B) $\frac{2}{5}$ C) $\frac{1}{2}$ D) $\frac{3}{5}$

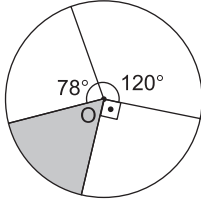
18. "ANKARA" sözcüğündeki harflerin her biri aynı özellikteki boş kağıtlara tek tek yazılarak bir torbaya atılıyor.

Bu torbadan rastgele seçilen bir kağıdın üzerindeki harfin "A" olma olasılığı kaçtır?

- A) $\frac{2}{3}$ B) $\frac{1}{2}$ C) $\frac{1}{3}$ D) $\frac{1}{6}$

1. OTURUM

19.



Şekildeki O merkezli daire biçimindeki hedef tahtasına atış yapan bir kişi hedef tahtasını vurduğuna göre bu atışı beyaz olmayan bölgeye isabet ettirme olasılığı kaçtır?

- A) $\frac{1}{5}$ B) $\frac{1}{3}$ C) $\frac{2}{3}$ D) $\frac{3}{4}$

20. Bir torbada renkleri dışında aynı özelliklere sahip 4 beyaz, 6 kırmızı top vardır.

Torbaya geri atılmamak koşuluyla art arda rastgele çekilen 3 top en az birinin beyaz renkte olma olasılığı kaçtır?

- A) $\frac{2}{5}$ B) $\frac{3}{5}$ C) $\frac{2}{3}$ D) $\frac{5}{6}$

(611) KARŞ. DİN. TAR. – 1

1. Kur'an-ı Kerim'e göre mutlak din aşağıdakilerden hangisidir?

- A) Mecusilik B) Sabiilik
C) İslam D) Hinduizm

2. "Gemiye bindikleri zaman dini Allah'a has kılarak O'na dua ederler. Onları kurtarıp karaya çıkardığı zaman ise bir de bakarsın ki, Allah'a ortak koşuyorlar."

(Ankebût suresi, 65. ayet)

Bu ayetteki din kelimesinin anlamı aşağıdakilerden hangisidir?

- A) Kanun ve kurallar
B) İnanç ve ibadet
C) Sorumluluk
D) Örf ve âdet

3. Aşağıdakilerden hangisi Kur'an-ı Kerim'de mutlak dini ifade etmek için kullanılan kavramlardan biri değildir?

- A) Ed-dîn
B) Dînu'l-hak
C) Yevmu'd-dîn
D) Dînu'l-kayyime

4. • Dine giriş ve asli gûnahtan kurtuluş için uygulanır.
• Bebek veya kişinin suya daldırılması ya da su serpilmesi şeklinde yapılır.

Hakkında bilgi verilen sakrament aşağıdakilerden hangisidir?

- A) Günah itirafı
B) Rahip takdisi
C) Son yağlama
D) Vaftiz

5. Dinler tarihi ile ilgili aşağıda verilen bilgilerden hangisi yanlıştır?

- A) Tüm dinlerin tarihini; inanç, ibadet, ahlak ilkeleri ile kurumlarını inceleyen bir bilim dalıdır.
B) Dinleri incelerken hak-batıl, doğruluk-yanlışlık bakımından değerlendirmeye tabi tutar.
C) Mensubu bulunan veya bulunmayan geçmişte yaşamış ve günümüzde yaşayan tüm dinler, konusunu oluşturur.
D) Tüm dinleri tasvir edici bir yöntemle, duygular ve ön yargılardan bağımsız bir şekilde ele alır inceleyenler.

6. İslam tarihinde diğer dinlerle ilgili bilgi verme geleneği aşağıdakilerden hangisi ile başlamıştır?

- A) Kur'an-ı Kerim
B) Hadis kitapları
C) Tarih kitapları
D) Coğrafya kitapları

7. I. er-Reddû'l-Cemil
II. Beyanu'l-Edyan
III. Tahkîku Mâ li'l-Hind
IV. el-Fark Beyne'l-Fırak

Bu eserlerden hangileri Modern Dinler Tarihi'nin amaç ve metotlarına uygundur?

- A) I ve III. B) I ve IV.
C) II ve III. D) II ve IV.

8. Aşağıdakilerden hangisi "el-milel ve'n-nihal" kavramının anlamını ifade eder?

- A) Tek tanrılı dinler
B) Dinlerin başlangıcı ve sonları
C) Sonradan bozulmuş olan dinler
D) Vahye dayalı dinler ve diğer dinler

9. Bîrûnî'nin yazmış olduğu "Tahkîku Mâ li'l-Hind" isimli eser aşağıdaki dinlerden hangisini konu edinir?

- A) Hinduizm B) Yahudilik
C) Zerdüştlük D) Konfüçyanizm

10. Aşağıdakilerden hangisi Medine döneminde gerçekleşen olaylardan biridir?

- A) İlk vahyin gelişi
B) Habeşistan'a hicret edilmesi
C) Ekonomik boykot uygulanması
D) Hudeybiye Antlaşması'nın yapılması

11. "Hulefâ-yı Raşidîn" kavramı ile aşağıdakilerden hangisi kast edilmektedir?

- A) Suffe ehli
B) İlk dört halife
C) Hicret edenler
D) Vahiy kâtipleri

12. Mâverâünnehir, Sind ve Endülüs'ün İslam topraklarına katılması aşağıdaki dönemlerin hangisinde gerçekleşmiştir?

- A) Emeviler B) Abbasiler
C) Dört halife D) Selçuklular

13. Batı ve Orta Afrika'da İslam'ın yayılması öncelikle aşağıdakilerden hangisi ile başlamıştır?

- A) Din âlimleri
B) Azat edilen köleler
C) Osmanlı akıncıları
D) Müslüman tüccarlar

14. Aşağıdaki ayetlerin hangisi "sünnet"nin dinin kaynaklarından olduğuna delil oluşturur?

- A) "Andolsun, size kendi içinizden öyle bir peygamber gelmiştir ki, sizin sıkıntıya düşmeniz ona çok ağır gelir..."
(Tevbe suresi, 128. Ayet)
B) "... Peygamber size ne verdiyse onu alın, neyi de size yasak ettiyse ondan vazgeçin. Allah'a karşı gelmekten sakının..."
(Haşr suresi, 7. ayet)
C) "Muhammed, sizin erkeklerinizden hiçbirinin babası değildir. Fakat o, Allah'ın Resûlü ve nebîlerin sonuncusudur..."
(Ahzâb suresi, 40. ayet)
D) "Muhammed, ancak bir peygamberdir. Ondan önce de peygamberler gelip geçmiştir. Şimdi o ölür veya öldürülürse gerisin geriye (eski dininize) mi döneceksiniz?..."
(Âl-i İmrân suresi, 144. ayet)

1. OTURUM

15. I. Hz. Musa
II. Hz. Davut
III. Hz. Zekeriya
IV. Hz. Süleyman

Bu peygamberlerden hangileri Yahudilerin kutsal kitapları Tanah'ta sadece kral olarak anılır?

- A) I ve III. B) I ve IV.
C) II ve III. D) II ve IV.

16. Aşağıdakilerden hangisi Kur'an'da adı geçen inanç gruplarından biri değildir?

- A) Şamanistler B) Hristiyanlar
C) Mecusiler D) Sabîiler

17. • Konuştuğunda yalan söyler.
• Söz verdiğinde yerine getirmeyiz.
• Kendisine güvenildiğinde hainlik eder.

Hız. Peygamber, bu vasıfların aşağıdakilerden hangisinin özelliği olduğunu bildirmiştir?

- A) Kâfir B) Müşrik
C) Münafık D) Mümin

18. Kur'an'da iki yerde geçen "İsrail" terimi aşağıdaki peygamberlerden hangisi için kullanılmıştır?

- A) Hz. İbrahim B) Hz. Yakup
C) Hz. Yusuf D) Hz. İshak

19. Beytullahim'in (Betlehem) Hristiyanlarca kutsal bir mekân olarak kabul edilmesinin sebebi aşağıdakilerden hangisidir?

- A) Hz. İsa'nın doğduğu yer olması
B) Hz. Meryem'in doğduğu yer olması
C) Hz. İsa'nın çarşıya gerildiği yer olması
D) Son akşam yemeğinin yendiği yer olması

20. I. Beytullahim
II. Kıyamet Kilisesi
III. Aziz Pavlus Kuyusu
IV. Meryem Ana Kilisesi

Hristiyanlarca kutsal kabul edilen bu mekânlardan hangileri Türkiye'de bulunmaktadır?

- A) I ve II. B) I ve III.
C) II ve IV. D) III ve IV.

(617) SEÇ. DİL VE ANLA. – 7

1. Öğretici metinler için aşağıdakilerden hangisi söylenemez?

- A) Hayaller ve mecazlarla zenginleştirilir.
B) Dil, göndergesel işlevde kullanılır.
C) Okuyucuya bilgi vermek amacıyla yazılır.
D) Gerçekler olduğu gibi anlatılır.

2. I. Şiir
II. Masal
III. Roman
IV. Tiyatro

Yukarıda verilen türlerden hangileri anlatmaya bağlı metinlerdendir?

- A) I ve II. B) I ve III.
C) II ve III. D) III ve IV.

3. Aşağıdakilerden hangisi "masal"ın özelliklerinden değildir?

- A) Yer ve zaman kavramları belirsizdir.
B) Manzum şekilde yazılır.
C) İlk söyleyeni bilinmez, halkın ortak malıdır.
D) Tekerleme (döşeme), olay ve dilek bölümlerinden oluşur.

4. Aşağıdakilerden hangisi bir sanat metninden alınmıştır?

- A) Geyikler sonbahara doğru boy-nuzlarını ağaç gövdelerine ve kalın dallara sürterek bu dokunun dökülmesini sağlar. Bazen de bunu bölgelerini işaretlemek için yaparlar. Bu, ağaçların gövdelerinde derin izler oluşmasına neden olur.
B) Ay'da gündüz ve gece sıcaklıkları arasındaki fark çok fazladır. Gündüz Güneş tam tepede olduğu sırada sıcaklık 123 dereceye kadar yükselebilir.
C) Güney Kıbrıs'ın antik bir kentindeki mezar kazısında bulunan kedi kemikleri, insan ile kedi tanışıklığını 9 bin 500 yıl öncesine taşıdı. Kedilerin MÖ 2000 yıllarında Mısırlılar tarafından evcilleştirildiği kabul ediliyordu.
D) İçeriki odaya girmek canım istemiyor. Herhâlde o da kalkıp çoktan gitmiş olacaktı. Kuşla beraber pencereden çıkmış olacaktı. Ama oda herhâlde hâlâ sıcaktı. Ağacı yerinden söküp balkon kapısından fırlattım. Dumanla bulut da onun arkasından kendi kendilerine gittiler.

5. Aşağıdakilerden hangisi fabl türünde ortaya konan eserlerden değildir?

- A) Gülistan
B) Harnâme
C) La Fontaine Masalları
D) Köroğlu

6. Fabllar;

- hayvanların konuşturulduğu metinlerdir.
- gerçek hayatta karşılaşılabilecek olayları anlatır.
- basit ahlak ilkelerine değinir.

Bu cümleler doğru-yanlış olarak değerlendirildiğinde sıralama aşağıdakilerden hangisi olur?

- A) D – Y – Y
B) D – Y – D
C) Y – D – Y
D) Y – D – D

7. • "Kıssadan hisse" verilir.

- Olay beklenmedik bir sonla biter.
- Olaylar ve hayvanlar tanıtılır.

Fabldeki hangi bölümün içeriği yukarıda verilmemiştir?

- A) Düşüm B) Öğüt
C) Çözüm D) Serim

8. Sözlü gelenekten derlendiği düşünülen ilk Türkçe masal kitabının - - - olduğu bilinmektedir.

Bu cümlede boş bırakılan yere aşağıdakilerden hangisi getirilmelidir?

- A) Kelile ve Dimne
B) Bahtiyarnâme
C) Billur Köşk Masalları
D) Sindbadnâme

9. Aşağıdakilerden hangisi Türk masalları üzerine derleme ve çalışma yapan araştırmacılardan değildir?

- A) Umay Günay
B) Bilge Seyidoğlu
C) Sait Faik Abasıyanık
D) Pertev Naili Boratav

10. Aşağıdakilerden hangisi Türk kaynaklı halk hikâyelerinden değildir?

- A) Köroğlu
B) Dede Korkut
C) Kerem ile Aslı
D) Gazavat-ı Ali

11. Dünyada öykü türünün ilk örneği aşağıdakilerden hangisidir?

- A) Küçük Şeyler
B) Decameron
C) Kıssadan Hisse
D) Binbir Gece Masalları

1. OTURUM

12. Mümtaz, hiç istemeden girdiği bu karışık bahisten çıkmak ister gibi etrafına bakındı. Akşam, geniş musiki faslına başlamıştı. Aydınlığın bütün sazları güneşin veda şarkısını söylemeye hazırlanıyordu. Ve her şey aydınlığın saziydi. Hatta Nuran'ın yüzü, kahve kaşığı ile oynayan eli bile...

Bu parçada aşağıdaki hikâye öğelerinden hangisi yoktur?

- A) Yer B) Zaman
C) Olay D) Kişi

13. Aşağıdakilerden hangisi durum (kesit) hikâyesi için söylenemez?

- A) Serim, düğüm, çözüm planına uyulmaz.
B) Fransız yazar Guy de Maupassant tarafından yaygınlaştırıldığı için "Maupassant tarzı hikâye" de denir.
C) Merak ögesi ikinci plandadır.
D) Okuyucunun kendine göre yorumlar yapmasına uygundur.

14. Aşağıdaki cümlelerin hangisinde gözlemci anlatıcının bakış açısı kullanılmıştır?

- A) Alarmı kurmama rağmen uyuyakalmışım.
B) Cengiz'in içinde kopan fırtınalardan haberim yoktu.
C) Kapıyı açtı, sınıfa girdi ve sırasına ilerledi.
D) Gökyüzü masmaviyse bize gülümsediğini zannedirim.

15. Aşağıdakilerden hangisi Millî Edebiyat Dönemi romancılarından biridir?

- A) İpek Ongun
B) Buket Uzuner
C) Orhan Pamuk
D) Halide Edip Adıvar

16. Şair Evlenmesi Türk edebiyatında;

- Batı tarzında yazılan ilk tiyatro oyunudur.
- noktalama işaretlerinin ilk kez kullanıldığı eserdir.
- Namık Kemal tarafından yazılmıştır.

Bu cümleler doğru-yanlış olarak değerlendirildiğinde sıralama aşağıdakilerden hangisi olur?

- A) D – D – Y B) D – Y – D
C) Y – Y – D D) Y – D – Y

17. Aşağıdakilerden hangisi komedyanın (komedi) bir özelliği değildir?

- A) Güldürme yoluyla düşündürme amacı vardır.
B) Nazımla (şiir şeklinde) yazılır.
C) Yüksek ve soylu bir üslup kullanılır.
D) Acı veren olaylar seyircinin gözünde canlandırılabilir.

18. Bir olay veya hikâyenin seyirciler önünde tek kişi tarafından hareket ve taklitlerle canlandırıldığı geleneksel Türk halk tiyatrosuna - - - - adı verilir. Taklitler ve hareketler sayesinde anlatılan şeyler hikâye olmaktan çıkıp bir tiyatro oyununu andırır.

Bu parçada boş bırakılan yere aşağıdakilerden hangisi getirilmelidir?

- A) Karagöz B) meddah
C) orta oyunu D) trajedi

19. Sineden derd ile bir ah edeyim kim dönsün
Aksine devr-i felek, mihr-i dirahşanı bile

Bu beyitle ilgili aşağıdakilerden hangisi söylenemez?

- A) Ağır bir dille yazılmıştır.
B) Divan şiiri geleneğine aittir.
C) Söz sanatlarına yer verilmiştir.
D) Hece ölçüsü kullanılmıştır.

20. Aşağıdakilerin hangisinde teşhis (kişileştirme) sanatı kullanılmıştır?

- A) Akıl ersin ermesin sevdama
Senden yanayım dedi yeşeren dal, senden yana.
B) Söz anladım ki uzun hem de pek uzun sürecek,
Benimse vardı o gün pek çok işlerim görecek.
Bıraktım onları, saptım bir yoldan
Ne oldu şimdi acep, kim bilir, zavallı Hasan?
C) Haliç'te bir vapuru vurdular dört kişi
Demirlemişti, eli kolu, bağlıydı ağlıyordu.
D) O zaman başından aşkındı derdi,
Mermeri oyardı, taşı delerdi.
Kaç yanık yolcuya soğuk su verdi,
Değdi kaç dudağa çoban çeşmesi!

(618) SEÇ. DİL VE ANLA. – 8

1. Aşağıdakilerden hangisi sözlü anlatım türlerinden değildir?

- A) Sempozyum B) Münazara
C) Deneme D) Forum

2. • Halkın türlü konularda eğitimini ve aydınlatılmasını sağlar.

- Alanında uzman bir kişi tarafından verilir.
- Özellikle üniversiteler ve bilim kuruluşları tarafından sürekli düzenlenir.

Özellikleri verilen sözlü anlatım türü aşağıdakilerden hangisidir?

- A) Konferans B) Açık Oturum
C) Panel D) Münazara

3. Aşağıdakilerden hangisi münazarada hakem kurulunun konuşmaları değerlendirme esaslarında değildir?

- A) Sözcüklerin ve cümlelerin doğru bir şekilde ifade edilmesi
B) Konuşmacıların katıldıkları münazara sayısı
C) Beden dilinin doğru kullanılıp kullanılmadığı
D) Savunmada inandırıcı olunması

4. Konferans planı şöyle düzenlenebilir:

- a. Konunun sunuluşu
b. Sonuç
c. Sorular ve cevaplar
d. Konferansın amacı
e. Hitap cümlesi

Konferans planının aşamaları karışık verilmiştir.

Buna göre doğru sıralama aşağıdakilerden hangisidir?

- A) a – b – e – d – c
B) c – e – a – d – b
C) d – e – a – b – c
D) b – a – d – c – e

5. Konuşmacı sayısının altı kişiyi geçmemesi tercih edilir. Süresi konuya göre ayarlanır. Amaç problemlere yeni bir bakış açısı getirmektir. Bu sebeple sonunda bir karara varılmaz. Bir konu üzerinde dinleyicilerle birlikte düşünme isteği söz konusudur.

Bu parçada bahsedilen sözlü anlatım türü aşağıdakilerden hangisidir?

- A) Sempozyum B) Münazara
C) Konferans D) Açık Oturum

6. Aşağıdakilerden hangisi açık oturumda yapılan konuşmaların özelliklerinden değildir?

- A) Akıcı bir dille gerçekleştirilmelidir.
B) Doğal bir anlatım kullanılmalıdır.
C) Kullanılan dil herkes tarafından anlaşılmalıdır.
D) Argo tabirlere yer verilmelidir.

7. • Sempozyumda her oturumun bir başkanı vardır.

- Sempozyumun sonunda bir bildiri yayımlanır.
- Sempozyumda konuşmacıların süre sınırlaması yoktur.

Bu cümleler doğru-yanlış olarak değerlendirildiğinde sıralama aşağıdakilerden hangisi olur?

- A) D – Y – Y B) D – D – Y
C) Y – Y – D D) Y – D – Y

1. OTURUM

(627) SEÇ. TÜRK ED. – 7

8. Aşağıdakilerden hangisi sempozyum başkanının görevlerinden değildir?

- A) Oturumun başarı ve etkinliğinden sorumludur.
- B) Sempozyum başlarken konuyla ilgili kısa bir giriş konuşması yapmalıdır.
- C) Bildiri sonlarında konuşmacıları eleştirmelidir.
- D) Konuşmaların sonunda sorular varsa konuşmacılar tarafından yanıtlanmasını sağlamalıdır.

9. Sempozyum ile ilgili aşağıdakilerden hangisi söylenemez?

- A) Alınan kararların bilimsel değeri yoktur.
- B) Konusu önceden belirlenir ve katılımcılara duyurulur.
- C) Aynı konu farklı bakış açılarından ele alınır.
- D) Önceden belirlenmiş bir konuşmacı grubu tarafından sunulur.

10. Hem soru sormak hem de açıklamalarda bulunmak üzere dinleyicilere söz hakkı verilen tartışma türü aşağıdakilerden hangisidir?

- A) Münazara B) Forum
- C) Sempozyum D) Konferans

11. Aşağıdakilerden hangisi forum başkanında bulunması gereken özelliklerden değildir?

- A) Arabulucudur.
- B) Ön hazırlık yapar.
- C) Eleştirel bir tavrı olmalıdır.
- D) Kültürlü ve anlayışlıdır.

12. Münazara başkanı;

- tartışmacıların düşüncelerini rahatlıkla söyleyebilecekleri bir ortam yaratır.
- münazaranın sonunda kazananı belirler.
- tartışmanın konu dışına çıkmasını ve gergin bir durum almasını önler.

Bu cümleler doğru-yanlış olarak değerlendirildiğinde doğru sıralama aşağıdakilerden hangisi olur?

- A) D – D – Y B) D – Y – D
- C) Y – Y – D D) Y – D – Y

13. Aşağıdakilerden hangisi münazara tartışmacıların uyması gereken kurallardan değildir?

- A) Konuşmaları ilgiyle dinlemek
- B) Tartışmayı kişisel sorun hâline getirmek
- C) Ortaya çıkan sonucu hoşgörüyü karşılamak
- D) Düşüncelerini açık ve anlaşılır bir şekilde ifade etmek

14. Sayfa içinde geçen herhangi bir düşünce veya bilgi ile ilgili olarak sayfa altına konulan açıklamaya - - - - denir.

Bu cümlede boş bırakılan yere aşağıdakilerden hangisi getirilmelidir?

- A) dipnot B) indeks
- C) kaynakça D) dokümantasyon

15. Aşağıdakilerden hangisi bilimsel yazıların bölümlerinden değildir?

- A) Giriş
- B) Başlık
- C) Serim
- D) Sonuç ve tartışma

16. Aşağıdakilerden hangisi Namık Kemal'in makalelerinde sıkça kullanıldığı temalardan değildir?

- A) Vatan B) Millet
- C) Hürriyet D) Aşk

17. Aşağıdakilerden hangisi bilimsel yazıların giriş bölümünde dikkat edilmesi gerekenlerden değildir?

- A) Çalışmanın gerekliliği ortaya konulmalıdır.
- B) Genellikle öznel bir anlatım kullanılır.
- C) Yazıda geçen her türlü terim ve kısaltmanın anlamı açıklanmalıdır.
- D) Ele alınan konuyla ilgili temel bilgiler verilmelidir.

18. - - - - ; konuşan veya yazar kişinin, dinleyicilerin veya okuyucuların duygularını okşamayı gaye edinir. Eğer konuşmacılar tarafından kullanılırsa münazaraların öğreticilik yönü zayıflar ve münazara amacına hizmet etmez.

Bu parçada boş bırakılan yere aşağıdakilerden hangisi getirilmelidir?

- A) İntihal B) Demagoji
- C) Beden dili D) Çeşitli belgeler

19. Aşağıdakilerden hangisi bilimsel bir yazı olarak kabul edilebilir?

- A) Roman B) Deneme
- C) Hikâye D) Makale

20. Açık oturumda ağırlıklı olarak dilin hangi işlevi kullanılır?

- A) Sanatsal
- B) Heyecana bağlı
- C) Alıcıyı harekete geçirme
- D) Göndergesel

1. Sanatçının en önemli özelliği romanlarında sosyal konuları tarihî arka plan içinde ele almasıdır. Romanlarının konusu Orta Anadolu coğrafyasının köy ve kasabalarında geçer. Onun romanları, gücünü tasvir ve üslubundan alır. "Yol Ayrımı" ve "Devlet Ana" ünlü romanlarıdır.

Bu metinde sözü edilen yazar aşağıdakilerden hangisidir?

- A) Tarık Buğra
- B) Yakup Kadri Karaosmanoğlu
- C) Aziz Nesin
- D) Kemal Tahir

2. I. Necip Fazıl Kısakürek, içe dönük, maneviyatçı şiirin başarılı örneklerini vermiştir.
II. Cahit Sıtkı Tarancı, karamsar ve yitik bir kuşağın şairidir.
III. Cahit Külebi, şiirlerinde Doğu mistizmiyle tasavvufu birleştirmiştir.
IV. Faruk Nafiz Çamlıbel, divan şiiri geleneğinden yararlanarak yurt güzelliklerini anlatmıştır.

Numaralandırılmış cümlelerin hangilerinde bilgi yanlış vardır?

- A) I ve II. B) I ve IV.
- C) II ve III. D) III ve IV.

3. Ne atom bombası
Ne Londra Konferansı;
Bir elinde cımbız,
Bir elinde ayna;
Umurunda mı dünya!

Bu dizeler aşağıdaki şiir geleneklerinden hangisine ait olabilir?

- A) Garip
- B) Millî edebiyat
- C) Servetifünun
- D) Divan edebiyatı

4. I. Cevat Şakir Kabaağaçlı, Halikarnas Balıkcısı takma adıyla hikâye ve romanlar yazmıştır.
II. Memduh Şevket Esendal, olay hikâyeleriyle ön plana çıkmıştır.
III. Aziz Nesin, Doğu-Batı sentezini en başarılı şekilde yapabilen, psikolojik konulara ağırlık veren yazarlarımızdandır.

IV. Necati Cumalı, sosyal konuları işlerken güzellik duygusunu, insan sevgisini hiç bırakmamıştır.

Numaralandırılmış cümlelerin hangilerinde bilgi yanlış vardır?

- A) I ve II. B) I ve IV.
- C) II ve III. D) III ve IV.

1. OTURUM

5. Aşağıdakilerden hangisi Reşat Nuri Güntekin'in tiyatro eserlerinden değildir?

- A) Yaprak Dökümü
B) Eski Şarkı
C) Midasin Kulakları
D) Balıkesir Muhasebecisi

6. Bizim nesil, renk diye belli başlı bir dünyanın var olduğunu anlayalı çok olmadı. Hemen hemen hepimiz resme basmakalıp renklerle başladık. İşte yirmi sene hep aynı renkler içinde dönüp dolaştık. Neden sonra aklımız başımıza geldi, ama zamanla bazı renklere tütün gibi alıştık. Tütün kadar belalı huylar edindik. Ben kendi hesabıma, doğruluğuna, çıkar yol olduğuna yüzde yüz inandığım hâlde, senelerin biriktirdiği huylardan kurtulup tam manasıyla renklere sarılamıyorum.

Bu parça aşağıdaki metin türlerinin hangisinden alınmış olabilir?

- A) Makale B) Deneme
C) Gezi yazısı D) Hatıra

7. Aşağıdakilerden hangisi günümüz deneme yazarlarından değildir?

- A) Doğan Hızlan B) Enis Batur
C) Bilge Karasu D) Ahmet Rasim

8. Toplum ve kişi sağlığından bahsedildiği zaman akla ilk olarak "bedenen sıhhatli ve arızalardan ari olmak" gelmektedir. Ancak en az bunun kadar önem arz eden, ruh sağlığı konusunda problemi olan insanlardır. Toplumsal önyargılardan çekinmeleri dolayısı ile ruhsal yönden hasta olmalarına rağmen kendilerini hasta olarak kabul etmemekte, tedaviye de yanaşmamaktadırlar. Bu durum ruhsal rahatsızlığı bulunan kişilerin kendisine ve çevresine zorluklar yaratmaktadır.

Bu parça aşağıdaki metin türlerinin hangisinden alınmış olabilir?

- A) Makale B) Deneme
C) Gezi yazısı D) Sohbet

9. Aşağıdakilerden hangisi makalenin özelliklerinden değildir?

- A) Okuyucu kitlesinin eğitim düzeyine dikkat edilir.
B) İşlenen düşüncenin okuyucuya benimsetilmesi amaçlanır.
C) Özne bir tutum sergilenir.
D) Sade ve yalın bir anlatım kullanılır.

10. Aşağıdaki sanatçı – eser eşleştirmelerinden hangisi yanlıştır?

- A) Buket Uzuner – Gezi Notları
B) Ziya Gökalp – Fas'a Yolculuk
C) Yaşar Kemal – Bu Diyar Baştan Başa
D) Falih Rıfkı Atay – Bizim Akdeniz

11. Afganistan'ın kuzeyinde, geçmiş zamanların kavşak noktası Belh kentindeyiz. Merkezin hemen dibinde Hacı Golak köyünde. Kubbeleri çökmüş, duvarları göçmüş, kerpiç bir medrese harabesi... Diyorlar ki Mevlana'nın babası burada ders verdi ve Mevlana bu köyde doğdu. Harabenin biraz berisinde yeni patlamış dut ağaçlarının altındayız. Yağmur yağıyor. Her damla toprak kalıntıdan bir parçayı kapıp götürüyor.

Bu parça aşağıdaki metin türlerinin hangisinden alınmış olabilir?

- A) Sohbet B) Deneme
C) Gezi yazısı D) Fıkra

12. Anı türü aşağıdaki türlerden hangisiyle en çok benzerlik gösterir?

- A) Makale B) Deneme
C) Fıkra D) Otobiyografi

13. Aşağıdakilerden hangisi Türk edebiyatında fıkra türünün gelişmesine katkı sağlayan sanatçılardan değildir?

- A) Edip Cansever
B) Ahmet Rasim
C) Refik Halit Karay
D) Ahmet Haşim

14. Aşağıdakilerden hangisi Beş Hececiler'in ortak özelliklerindedir?

- A) Şiirde ölçü ve uyağa karşı çıkmışlardır.
B) Halk şiiri geleneğinden yararlanarak yurt güzelliklerini dile getirmişlerdir.
C) Daha önce kullanılmamış imgelelere yönelmişlerdir.
D) Toplumcu gerçekçi şiirin başarılı örneklerini vermişlerdir.

15. 1980'li yıllarda tiyatro edebiyatımızın en büyük kazanımlarından biri sanatçının tiyatromuza yeniden canlılık getiren oyunları olmuştur. "Mahmud ile Yezida, Taziye, Geyikler Lanetler" isimli oyunlarından oluşan üçleme seyircinin düş gücünü zorlamış, seyirciyi Güneydoğu Anadolu söylencelerinin gizemli yolculuğuna götürmüştür.

Bu metinde sözü edilen yazar aşağıdakilerden hangisidir?

- A) Murathan Mungan
B) Turan Oflazoğlu
C) Ahmet Kutsi Tecer
D) Adalet Ağaoglu

16. Hemen her akşam eve içim sikkın dönüyorum. Niçin? Bunun yanıtı yok. Bir işim mi sarpa sardı? Bir yerim mi ağrıyor? Birisiyle mi çatıştım? Hayır! Sadece içim sikkın. Belki siz de benim gibisiniz. Belki herkes, bütün vatandaşlar böyle nedensiz bir bunaltı içindeler... Hayır, hayır, bu üzüntülerin nedeni yok mu sizce, tabii ki var. Dikkat ediyorum, bizim bütün şikâyetlerimiz küçük şikâyetlerimizin toplamıdır.

Bu parça aşağıdaki metin türlerinin hangisinden alınmış olabilir?

- A) Makale B) Fıkra
C) Anı D) Gezi Yazısı

17. Aşağıdaki yazarlardan hangisi köyü konu edinen roman yazmamıştır?

- A) Fakir Baykurt
B) Kemal Tahir
C) Ahmed Arif
D) Yaşar Kemal

18. Şiir anlayışları göz önüne alındığında aşağıdaki sanatçılardan hangisi diğerlerinden farklı bir grupta yer alır?

- A) Orhan Veli Kanık
B) Melih Cevdet Anday
C) Oktay Rifat Horozcu
D) Cahit Külebi

19. Galatasaray'da bir lokantada otuyordum. Sait Faik'in dalgın adımlarla lokantaya girdiğini gördüm ve ona seslendim. Masaya geldi, biraz sohbet ettik ve derdini anlatmaya başladı:

- İşsizim Peyami'ciğim. Hiç sorma, canım müthiş sıkılıyor. İşsizliğin ne demek olduğunu iyi biliyordum. Şefkatle elinden tuttum ve üzüntüyle:
- Vah kardeşim, vah Sait'im! Vah! Sonra onu sakinleştirmeye çalıştım:
- Ama bu kadar üzülmeye Sait'im, elbette icabına bakarız. Sait Faik'in bakışlarındaki mahzun ifade birden kayboldu:
- Sen de bu kadar üzülmeye Peyami'ciğim. Üzülüyorum dediysem, yokluktan değil.

Bu parça aşağıdaki metin türlerinin hangisinden alınmış olabilir?

- A) Anı B) Gezi yazısı
C) Makale D) Deneme

20. Aşağıdakilerden hangisi Tanzimat Dönemi makale yazarlarından değildir?

- A) Namık Kemal
B) Tevfik Fikret
C) Ziya Paşa
D) İbrahim Şinasi

1. OTURUM

(628) SEÇ. TÜRK ED. – 8

1. Yeşil pencereden bir gül at bana
Işıklarla dolsun kalbimin içi.
Geldim işte mevsim gibi kapına,
Gözlerimde bulut, saçlarımda çiğ.
Bu dizeler için aşağıdakilerden hangisi söylenemez?
- A) Hece ölçüsü kullanılmıştır.
B) Halk edebiyatı geleneğinin izlerini taşır.
C) Bireysel bir tema işlenmiştir.
D) Garip akımının etkisiyle yazılmıştır.
2. **Aşağıdakilerden hangisi Nazım Hikmet'in eserlerinden değildir?**
- A) Kuvâyi Milliye Destanı
B) Memleketimden İnsan Manzaraları
C) Kaldırımlar
D) Son Şiirler
3. Bilmem ki nasıl anlatsam;
Nasıl, nasıl derdimi,
Bir dert ki yürekler acısı,
Bir dert ki düşman başına
Gönül yarası desem,
Değil!
Ekmek parası desem...
Değil!
Bir dert ki...
Dayanılır şey değil!
Bu dizeler aşağıdaki şiir anlayışlarından hangisine ait olabilir?
- A) Garip
B) Beş Hececiler
C) Toplumcu gerçekçi
D) Millî edebiyat
4. **Aşağıdaki sanatçılardan hangisi Cumhuriyet Dönemi'nde öz şiir anlayışını devam ettiren sanatçılardan değildir?**
- A) Ahmet Hamdi Tanpınar
B) Mehmet Âkif Ersoy
C) Ahmet Muhip Dıranas
D) Cahit Sıtkı Tarancı
5. Çocuklar ormanda
Çocuklar dağda bayırda,
Çocuklar uykularında ahırda
Çocuklar Süreyya Paşa fabrikasında
Çocuklar pamuk topluyorlar,
Sarı ellerine bakarak,
Çukurova mıntıkasında
Bu dizeler aşağıdaki anlayışların hangisine ait olabilir?
- A) Tanzimat şiiri
B) Millî edebiyat şiiri
C) Toplumcu şiir
D) Servetifünun şiiri
6. **Aşağıdakilerden hangisi günümüz hikâye ve romancılarından değildir?**
- A) Orhan Pamuk
B) Murathan Mungan
C) Elif Şafak
D) Kemal Tahir

7. **Aşağıdaki eserlerden hangisinin türü diğerlerinden farklıdır?**
- A) Tutunamayanlar
B) Çoban Çeşmesi
C) Bingöl Çobanları
D) Kaldırımlar
8. **Aşağıdaki sanatçılardan hangisinin sanat anlayışı diğerlerinden farklıdır?**
- A) Orhan Veli Kanık
B) Melih Cevdet Anday
C) Yaşar Nabi Nayır
D) Oktay Rifat Horozcu
9. **Aşağıdakilerden hangisi 1940'lardan sonra gelişen şiir anlayışlarından değildir?**
- A) Toplumcu gerçekçilik
B) Millî edebiyat
C) II. Yeniciler
D) Garip
10. İkinci Yeni'ye has dil ve söylem özelliklerini kullanarak İslam dinini esas alan konulara yöneldi. Onun şiiri İslam'ın geleneksel metinlerinde görülen merkez çevre ilişkisi üzerine kurulmuştur. O şiir dilindeki semboller aracılığıyla geleneği geleceğe taşımıştır.
Bu metinde sözü edilen II. Yeni şairi aşağıdakilerden hangisidir?
- A) Faruk Nafiz Çamlıbel
B) Nazım Hikmet
C) Tevfik Fikret
D) Sezai Karakoç
11. Dadaloğlu yarın kavga kurulur
Öter tüfek davlumbazlar vurulur
Nice koç yiğitler yere serilir
Ölen ölür kalan sağlar bizimdir
Bu dördlük aşağıdaki nazım türlerinden hangisine ait olabilir?
- A) Koçaklama B) Taşlama
C) Ağıt D) Güzelleme
12. **Aşağıdakilerden hangisi 1940 sonrası Türk hikâye ve romanında toplumcu gerçekçi çizgide eser veren yazarlardan değildir?**
- A) Orhan Kemal
B) Cevdet Kudret
C) Sabahattin Ali
D) Reşat Nuri Güntekin
13. **Aşağıdaki sanatçı – eser eşleştirmelerinden hangisi yanlıştır?**
- A) Yusuf Atılgan – Anayurt Oteli
B) Oğuz Atay – Tutunamayanlar
C) Yakup Kadri Karaosmanoğlu – Karabibik
D) Ebubekir Hazım Tepeyran – Küçük Paşa

14. Şiirde millî edebiyat akımının en tipik sürdürücüleri olan bu anlayışın temsilcilerinden bazıları Faruk Nafiz Çamlıbel, Orhan Seyfi Orhan ve Enis Behiç Koryürek'tir. Bu anlayışı savunanların ortak özelliği halk şiiri geleneğinden yararlanarak yurt güzelliklerini dile getiren duygusal şiirler yazmış olmalarıdır.
Metinde sözü edilen şiir anlayışı aşağıdakilerden hangisidir?
- A) Yedi Meşaleciler
B) Beş Hececiler
C) Garip
D) II. Yeni
15. Cumhuriyet Dönemi'nin ilk edebî topluluğudur. Memleketçi edebiyat anlayışına tepki olarak doğmuştur. Türk şiirine yeni ufuklar açmayı amaçlayan bu şairlerin girişimi özde ve biçimde yenilik getiremedikleri için başarısızlıkla sonuçlanmıştır. Ziya Osman Saba, Vasfi Mahir Kocatürk bu anlayışın temsilcilerindedir.
Bu metinde sözü edilen edebî topluluğun adı aşağıdakilerden hangisidir?
- A) Toplumcu Gerçekçiler
B) Yedi Meşaleciler
C) Garipçiler
D) II. Yeniciler
16. **Aşağıdakilerden hangisi Necip Fazıl Kısakürek'in edebî özelliklerinden değildir?**
- A) İçeride dönük, maneviyatçı, bireysel şiirin başarılı örneklerini vermiştir.
B) Halk şiirinin incelikleriyle Fransız şiirinin yetkinliğini birleştirmiştir.
C) Şiirlerini oturmuş bir dil ve sağlam bir teknikte yazmıştır.
D) Toplumcu şiir anlayışını benimsemiştir.
17. **Aşağıdakilerden hangisi günümüz halk şairlerinden değildir?**
- A) Ercişli Emrah
B) Murat Çobanoğlu
C) Şeref Taşlıova
D) Halil Karabulut
18. **Aşağıdakilerden hangisi köyü konu alan eserlerden değildir?**
- A) Ankara
B) Yaban
C) Küçük Paşa
D) Memleket Hikâyeleri
19. **Aşağıdakilerden hangisi halk şiirinde ağırlıklı olarak işlenen temalardan değildir?**
- A) Yiğitlik
B) Ölüm
C) Yabancılaşma
D) Aşk

1. OTURUM

20. Aşağıdakilerden hangisi millî edebiyat zevk ve anlayışını sürdüren şairlerin özelliklerinden değildir?
- A) Hece ölçüsüyle şiirler yazmışlardır.
B) Eserlerinde soyut ifadeler kullanmışlardır.
C) Halk şiirinin duygu ve deyişlerinden esinlenmişlerdir.
D) Anadolu'ya yönelerek toplumsal sorunları dile getirmişlerdir.

(713) İSLAM KÜLTÜR VE MEDENİYETİ – 1

1. "Bir milletin dinî, ahlakî, iktisadî, lisanî, aklî birikimlerinin bir bütünüdür."
Ziya Gökalp bu ifadeyle aşağıdakilerden hangisini tanımlamıştır?
- A) Örf
B) Kültür
C) İnanç
D) İlim
2. Kültür ile ilgili aşağıdakilerden hangisi yanlıştır?
- A) İnsan ürünüdür.
B) Tarihî süreçte oluşur.
C) İnsanın ihtiyaçlarına göre şekillenir.
D) Değişkenlik göstermez, sürekli ve sabittir.
3. Aşağıdakilerden hangisi kültürün maddî unsurlarındandır?
- A) Dil
B) İnanç
C) Yazılı eserler
D) Dünya görüşü
4. "Medeniyet, tanımı itibariyle bütün insanlığa hitap eden tarih olgusudur. Tek kişi ya da insanlığa dönük cephesiyle medeniyet, insanın sadece fiziki ya da fizyolojik ihtiyaçlarına cevap veren bir sistem olmakla kalmaz aynı zamanda manevî-ahlaki, metafizik ve kültürel isteklerini de karşılamak amacını taşır. İnsanı bütün cepheleriyle ele alır."
Bu tanımda medeniyetin aşağıdaki özelliklerinden hangisine ulaşılabılır?
- A) Evrensel olduğuna
B) Kültür ile aynı anlamda kullanıldığına
C) Modernleşme kavramından farklı olduğuna
D) Toplu hâlde yaşamının gereği olduğuna
5. Aşağıdakilerden hangisi Kur'an-ı Kerim'de "akl-ı selim" kavramının karşılığı olarak kullanılmıştır?
- A) Ulû'l-emr
B) Ulû'l-azm
C) Ulû'l-cenne
D) Ulû'l-ebşâr

6. Aşağıdakilerden hangisi tevhit anlayışına uygun değildir?
- A) Şirkin reddedilmesi
B) Türbelerden medet beklenmesi
C) Helal işlere besmele ile başlaması
D) Her durumda Allah rızasının gözetilmesi
7. "... Artık dileyen inansın, dileyen inkâr etsin..."
(Kehf suresi, 29. ayet)
Bu ayette aşağıdakilerden hangisi vurgulanmaktadır?
- A) İnsan iradesinin sınırlı olduğu
B) Hayatın bir gayesinin bulunduğu
C) İnsanın özgür iradeye sahip olduğu
D) İnsanın inanmaya yatkın bir varlık olduğu
8. Aşağıdakilerden hangisi İslam'ın hürriyet anlayışına uygun değildir?
- A) İnsan hürriyete doğuştan sahip olur.
B) İnsanın davranışları, iradesinin bir sonucudur.
C) Allah insana iradesini iyi yönde kullanmasını tavsiye eder.
D) Ahlaki ilkelerden sorumlu olmak kişinin tercihine bırakılmıştır.
9. İslam kültür ve medeniyeti, karşılaştığı İran, Yunan ve Hint gibi medeniyetlerden aldıklarını İslam potasında eritmiş, bunlardan tevhide uygun olanını kullanmış, aykırı olanını ise ya ıslah etmiş ya da reddetmiştir.
Bu durum İslam kültür ve medeniyetinin aşağıdaki esaslarından hangisi ile ilgilidir?
- A) Özgünlük
B) Yerellik
C) İlmîlik
D) Sulh
10. Aşağıdakilerden hangisi İslam'ın yerelliğe verdiği öneme örnek oluşturmaz?
- A) Örf ve adetlere İslam hukukunun kaynakları arasında yer vermesi
B) Kur'an-ı Kerim'de "Ey insanlar!" hitabının sıkça yer alması
C) Kültürel farklılıkları zenginlik olarak değerlendirmesi
D) Kültürel asimilasyona karşı çıkması
11. Aşağıdakilerden hangisi İslam medeniyetinde yönetim anlayışının esaslarından biri değildir?
- A) Taassup
B) Emanet
C) Adalet
D) Meşruyet

12. "İş, ehli olmayan kişilere verilince kıyameti bekle, kıyametin kopması pek yakındır."
Bu hadiste aşağıdaki kavramlardan hangisinin önemi vurgulanmaktadır?
- A) Sadakat
B) İstişare
C) Liyakat
D) Vefa
13. Aşağıdakilerden hangisi İslam medeniyetinin temel özelliklerinden biri değildir?
- A) Vahiy, akıl ve duygunun uyumudur.
B) Denge üzerine kurulmuştur.
C) Bir hukuk medeniyetidir.
D) Arap toplumuna aittir.
14. Aşağıdakilerden hangisi İslam kültür ve medeniyetinde ilim kurumlarından biridir?
- A) Kümbetler
B) Hanlar
C) Medreseler
D) Hamamlar
15. Kütüb-ü Sitte adı ile bilenen eserler hangi alanda yazılmıştır?
- A) Fıkıh
B) Hadis
C) Kelam
D) Tefsir
16. Şehir halkının şer'i emir ve yasaklara uymasını sağlamakla görevli olan, ölçü, tartı, mal ve ücretleri kontrol eden, şehirdeki ticari ve bazı amme davalarına bakan belediye teşkilatına hisbe denir.
Buna göre İslam toplumunda hisbe faaliyetinin yerleşmesinde aşağıdaki ayetlerden hangisinin etkili olduğu söylenebilir?
- A) "Sizden hayra çağırın, iyiliği emreden ve kötülükten sakındıran bir topluluk bulunsun..."
(Âl-i İmrân, 104. ayet)
B) "Kim tövbe edip iyi davranış gösterirse şüphesiz o, tövbesi kabul edilmiş olarak Allah'a döner."
(Furkân suresi, 71. ayet)
C) "... İş konusunda onlarla müşavere et. Bir kere de karar verip azmettin mi, artık Allah'a tevekkül et..."
(Âl-i İmrân suresi, 59. ayet)
D) "İnsana bir nimet verdiğimiz zaman bizden yüz çevirir ve yan çizer. Fakat ona bir şer dokunduğu zaman da yalvarıp durur."
(Fussilet suresi, 51. ayet)
17. Bir müminin, Allah'ı görüyormuş gibi işlerini en güzel şekilde yapması anlamına gelen kavram aşağıdakilerden hangisidir?
- A) İman
B) Tevekkül
C) Tevhit
D) İhsan

1. OTURUM

18. İnsanın mensup olduğu dine, etnik kökene, toplumsal konuma ve cinsiyetine bakılmaksızın can, mal, namus, inanç ve aklının korunması ilkesidir.

Tanımı verilen kavram aşağıdakilerden hangisidir?

- A) Âdemiyet B) Sulh
C) Merhamet D) İsar

19. • Tasavvufun sosyal hayattaki kurumsal yapılarıdır.
• Şiir, musiki ve güzel sanatlar alanında önde gelmektedir.
• Esas görevi, mensuplarına İslam ahlakını ve tasavvuf terbiyesini kazandırmaktır.

Bazı bilgileri verilen kurum aşağıdakilerden hangisidir?

- A) Cami B) Tekke
C) Vakıf D) Ahilik

20. "İstanbul'da Kırkçeşme sularını Sarıyer ormanlarından uzun bir isale hattı ile İstanbul'a getiren Mimar Sinan, boru hattının her iki tarafından yirmişer arşınlık bir mesafe içinde bina, mandıra ve ahır yapımını ve gübre yığılmasını bir ferman ile yasaklatmıştır."

Bu yasak ile aşağıdakilerden hangisi hedeflenmiştir?

- A) Hayvancılığın geliştirilmesi
B) Orman ve yeşilin korunması
C) Temizlik ve sağlığın korunması
D) Üretim ve ekonominin geliştirilmesi

(817) AKAİD – 1

1. "Göklerde ve yerde ne varsa O'nundur, din de yalnız O'nundur. O halde Allah'tan başkasından mı kuyorsunuz?"
(Nahl suresi, 52. ayet)

Bu ayet ile aşağıdakilerden hangisi vurgulanmaktadır?

- A) Dinin kişiye hak ile batılı gösterdiği
B) Dinin sahibinin ve kaynağının Allah olduğu
C) İnsanda din duygusunun doğuştan var olduğu
D) Dinin muhatabının akıl sahibi kimseler olduğu

2. Aşağıdakilerden hangisi "Akaid" kapsamına giren bir kavramdır?

- A) Kültür B) İbadet
C) İman D) Ahlak

3. "... Sen de onlara: 'Eğer sahiden doğru söylüyorsanız iddianızı kanıtlayın.' de."
(Bakara suresi, 111. ayet)

Bu ayette İslam akaidinin hangi özelliği ön plana çıkmaktadır?

- A) Kesin delillere dayanır.
B) Mutedil ve dengelidir.
C) Sade ve anlaşılırdır.
D) Fitrata uygundur.

4. Aşağıdakilerden hangisi İslam akaidinin kaynakları arasında yer almaz?

- A) Kur'an B) Sünnet
C) Akıl D) Örf

5. İslam akaidi artma ve eksilmeyi, bozulma ve değiştirilmeyi kabul etmeyen, sabit ve değişmez akîdelerden oluşmaktadır.

Aşağıdaki ayet ve hadislerin hangisinde bu duruma değilmiştir?

- A) "... Bugün sizin için dininizi ke-male erdirdim. Size nimetimi tamamladım ve sizin için din olarak İslam'ı seçtim..."
(Mâide suresi, 3. ayet)
B) "Yoksa onların Allah'ın izin vermediği bir dini getiren ortakları mı var? ..."
(Şûrâ suresi, 21. ayet)
C) "Şüphesiz ki Allah suretlerinize ve mallarınıza bakmaz. Ancak kalplerinize ve amellerinize bakar."
(Hadis-i şerif)
D) "Her kim bizim şu din işimizle ilişkin onda olmayan bir şey icat ederse o reddedilmiştir."
(Hadis-i şerif)

6. Taklidi iman için aşağıdakilerden hangisi söylenemez?

- A) Delillere, araştırma ve bilgiye dayanır.
B) Çevredeki insanlardan görerek inanmaktır.
C) Ehl-i sünnet âlimlerinin çoğunluğuna göre geçerlidir.
D) İslam toplumunda doğup büyümenin doğal bir sonucudur.

7. Hz. İbrahim Allah'tan ölüleri nasıl dirilttiğini göstermesini istemiş, Allah'ın "İnanmadın mı?" sorusuna "... İnandım fakat kalbimin mutmain olması için görmek istedim..." cevabını vermiştir.

Hz. İbrahim'in bu tutumu aşağıdakilerden hangisine örnek oluşturur?

- A) İnanma duygusu insanın fitratında bulunmaktadır.
B) İnanç esaslarının tümüne birden inanmak gerekir.
C) İman ile amel arasında bir bağ bulunmaktadır.
D) İman kuvvet yönünden artıp eksilebilir.

8. "... Allah'ın rahmetinden ümit kesmeyin. Çünkü kâfirler topluluğundan başkası Allah'ın rahmetinden ümidini kesmez."
(Yûsuf suresi, 87. ayet)

- "Yoksa Allah'ın tuzağından emin mi oldular? Ziyana uğrayan kavimden başkası Allah'ın tuzağından emin olamaz."
(A'râf suresi, 99. ayet)

Bu ayetler birlikte değerlendirildiğinde çıkabilecek sonuç aşağıdakilerden hangisidir?

- A) İman esaslarından birini inkâr anlamına gelen davranışlardan kaçınmalıdır.
B) Allah'ın rahmetinden ne ümitsiz ne de emin olunmalıdır.
C) İman, hür iradeye dayalı bir tercih olmalıdır.
D) Gayba ait bilgilere de iman edil-melidir.

9. Aşağıdaki ayetlerin hangisinde münafıklardan bahsedilmektedir?

- A) "İnsanlardan, inanmadıkları hâlde, 'Allah'a ve ahiret gününe inandık' diyenler de vardır."
(Bakara suresi, 8. ayet)
B) "İnkâr edip o hâlde ölenler var ya işte Allah'ın, meleklerin ve insanların hepsinin laneti onlarıdır."
(Bakara suresi, 161. ayet)
C) "Ey kitap ehli! Gerçeğe şahit olduğunuz hâlde niçin Allah'ın ayetlerini inkâr ediyorsunuz?"
(Âl-i İmrân suresi, 70. ayet)
D) "Şüphesiz, iman edip, salih amel-ler işleyenler var ya; işte onlar yaratıkların en hayırlısıdır."
(Beyyine suresi, 7. ayet)

1. OTURUM

(819) KELAM – 1

10. Tevrat, Zebur ve İncil'e inanan kimseler için kullanılan kavram aşağıdakilerden hangisidir?

- A) Ehl-i beyt
- B) Ehl-i kitap
- C) Mütেকaddimîn
- D) Müellefe-i kulûb

11. Allah'ın varlığı ve birliği konusunda birçok delil ortaya konulmuştur.

Aşağıdakilerden hangisi bu delillerin amaçlarından biridir?

- A) Ahlakî ilkeleri İslam toplumunda yaygınlaştırmak
- B) İbadet ve uygulamaların yapılışını öğretmek
- C) Yaşayan dinler hakkında bilgi vermek
- D) Müminin imanını sağlamlaştırmak

12. "İnsan, daha önce hiçbir şey değil iken kendisini yarattığımızı düşünmez mi?"

(Meryem suresi, 67. ayet)

Bu ayette Allah'ın varlığı ve birliği ile ilgili aşağıdaki delillerden hangisi vurgulanmaktadır?

- A) Temanû
- B) Kemâl
- C) Hudûs
- D) Gaye ve nizam

13. "Esmâ'ül-hüsna" kavramı aşağıdakilerden hangisini ifade etmektedir?

- A) İslam dininin temel kaynaklarını
- B) Allah'ın varlığı ve birliğini
- C) İslam'ın inanç esaslarını
- D) Allah'ın güzel isimlerini

14. Allah'a mahsus olup O'ndan başkasına verilemeyen sıfatlara zâtî sıfatlar denir.

Buna göre aşağıdakilerden hangisi zâtî sıfatlardan biridir?

- A) Hayat
- B) Basar
- C) Bekâ
- D) İlim

15. "... Şüphesiz Allah, her şeye hakkıyla gücü yetendir."

(Nahl suresi, 77. ayet)

Bu ayette Allah'ın sıfatlarından hangisi vurgulanmaktadır?

- A) Kudret
- B) Semi
- C) Basar
- D) Kelam

16. "Onlar, Rahmân'ın kulları olan melekleri de dışı saydılar. Onların yaratılışına şahit mi oldular? Onların (yalan) şahitlikleri yazılacak ve sorgulanacaklardır."

(Zuhrûf suresi, 19. ayet)

Bu ayet meleklerin aşağıdaki özelliklerinden hangisi ile ilişkilendirilebilir?

- A) Nurdan yaratılmışlardır.
- B) Cinsiyetleri yoktur.
- C) Günah işlemezler.
- D) Gaybı bilemezler.

17. Kabirde soru sormakla görevli melekler aşağıdakilerden hangisidir?

- A) Hamele-i Arş
- B) Kirâmen Kâtibin
- C) Münker ve Nekir
- D) Hazene-i Cennet ve Cehennem

18. Melekler, cinler ve insanlar için aşağıdakilerden hangisi ortak olarak söylenebilir?

- A) İrade sahibidirler.
- B) Gaybı bilemezler.
- C) Çeşitli şekillere bürünebilirler.
- D) Aynı maddeden yaratılmışlardır.

19. "Şeytanın hâkimiyeti, sadece onu dost edinenler ve Allah'a ortak koşanlar üzerindedir."

(Nahl suresi, 100. ayet)

Bu ayette şeytan ile ilgili aşağıdakilerden hangisi vurgulanmaktadır?

- A) Allah'ın salih kulları üzerinde bir etkisi yoktur.
- B) Kötülüğün, inkârın ve gururun sembolüdür.
- C) Kıyamete kadar süre verilmiştir.
- D) Ateşten yaratılmıştır.

20. Kur'an-ı Kerim'de "iman edenler ve salih amel işleyenler" ifadesinin geçtiği pek çok ayet vardır. Bu ayetlerde "iman edenler" ve "salih amel işleyenler" ayrı ayrı zikredilmiştir.

Buna göre aşağıdakilerden hangisine ulaşılabilir?

- A) İmanın hür iradeye dayalı bir tercih olması gerekir.
- B) İman ile amel birbirinden ayrıdır.
- C) İman esaslarında artma ve eksilme olmaz.
- D) İmanın hakikati ve özü, kalp ile tasdiklidir.

1. Kelam ilminin, "İlm-i tevhid" olarak da isimlendirilmesinin öncelikli nedeni aşağıdakilerden hangisidir?

- A) Temel inanç ilkelerini konu edinmesi
- B) Fıkhın inançla ilgili yönlerini ele alması
- C) Yöntem olarak daha çok düşünme ve akıl yürütmeyi seçmesi
- D) Konularının çoğunluğunu Allah'ın birliği ve sıfatlarının oluşturması

2. Aşağıdakilerden hangisi kelam ilminin amaçlarındandır?

- A) Hz. Peygamber'in hayatı hakkında detaylı bilgi vermek
- B) Kişinin imanını taklitten tahkik derecesine yükseltmek
- C) İbadetlerin nasıl yapılması gerektiğini anlatmak
- D) Fıkhî kurallar ortaya koymak

3. • 632 yılından sonra başlayıp hicri birinci asrı içine alan dönemdir.
• Bu dönemde yaşanan siyasi olaylar ve ihtilaflar nedeniyle inançla ilgili bazı tartışmalar ve farklı yeni yorumlar ortaya çıkmıştır.

Bu bilgilerde kelam ilminin aşağıdaki dönemlerinin hangisinden bahsedilmektedir?

- A) İlk fikri hareketler ve ihtilaflar dönemi
- B) Müteahhirin kelam dönemi
- C) Yeni ilm-i kelam dönemi
- D) Hz. Peygamber dönemi

4. Kelam ilminde dönüm noktası kabul edilen İmam Gazalî'den önceki kelamcılara - - - - kelamcılar, sonrakilere ise - - - - kelamcıları denir.

Bu boşluklara aşağıdakilerden hangileri getirilirse anlamca doğru olur?

- A) halef - selef
- B) mühaddisun - mütefekkirün
- C) mütেকaddimin - müteahhirin
- D) yeni ilm-i kelam dönemi - eski ilm-i kelam dönemi

5. Kelam ile ilgili aşağıdaki eser-yazar eşleştirmelerinden hangisi yanlıştır?

- A) Kitâbu't-Tevhîd - Nureddin es-Sâbunî
- B) Yeni İlm-i Kelam - İsmail Hakkî İzmirli
- C) el-Fıkhü'l Ekber - İmam-ı Azam Ebu Hanife
- D) Muvazzah İlm-i Kelam - Ömer Nasuhi Bilmen

1. OTURUM

6. Aşağıdakilerden hangisi kelim ilmini felsefeden ayıran özelliklerinden biridir?

- A) Aklın verilerini kullanması
B) Vahyi belirleyici kaynak olarak görmesi
C) Beş duyu organını bilgi kaynağı kabul etmesi
D) Varlıkların başlangıç ve sonlarından bahsetmesi

7. Kelim ilminin meselelere yaklaşımı normatiftir. Yani inanç ve düşünce ile alakalı hususlarda kesin hükümler ve kurallar ortaya koyar.

Buna göre aşağıdakilerden hangisinin normatif olduğu söylenebilir?

- A) Allah vardır ve birdir.
B) İman kalp ile tasdikdir.
C) Ahirette Allah görülebilir.
D) Cennet ve cehennem haklıdır.

8. Aşağıdakilerden hangisi kelim ilminin temel konularından biri değildir?

- A) Tevhid B) Ahiret
C) Nübüvvet D) Muamelat

9. Aklın varlığı ve gerçekleşmesi mümkün olmayan şeylere "mümteni" denir.

Buna göre aşağıdakilerden hangisi mümteniye örnektir?

- A) Bir şey hem hareketli hem hareketsiz olamaz.
B) Ezeli olanın ebedi olması zorunludur.
C) Yaratılanlar bir yaratıcıya muhtaçtır.
D) Her yaratılmış olan mümkün varlıktır.

10. Aşağıdakilerden hangisi İslam'daki dinî hükümlerden biri değildir?

- A) İtikadî hüküm B) Amelî hüküm
C) Batınî hüküm D) Ahlakî hüküm

11. Aşağıdakilerden hangisi "Ashabul-hadis" akımının öncüsü kabul edilir?

- A) İbn Küllâb
B) İmam Maturidi
C) Haris el-Muhâsibî
D) Ahmed b. Hanbel

12. Allah'ın bilgisi, herhangi bir vasıtaya, duylara, düşünmeye vs. ihtiyaç duymayan, ezeli ve ebedi, yokluğu düşünülmemeyen bir bilgidir. Buna ---- denir.

Tanımda verilen boşluğa aşağıdakilerden hangisi getirilmelidir?

- A) hâdis bilgi B) kadîm bilgi
C) ilk bilgi D) zaruri bilgi

13. Ulaşılan veriler üzerine düşünerek, birtakım vasıtalara başvurarak ve delil getirerek oluşan bilgiye nazari bilgi denir.

Aşağıdakilerden hangisi nazari bilgi anlamında kullanılamaz?

- A) İstidlali bilgi B) Kesbi bilgi
C) Bedihi bilgi D) İktisabi bilgi

14. Aşağıdakilerin hangisi ilk dönem kelim konularından biri değildir?

- A) İmamet meselesi
B) Mucize-bilim ilişkisi
C) Büyük günah işleyeninin durumu
D) Kur'an'ın yaratılıp yaratılmadığı

15. Aklın yalan üzerine birleşmelerini imkânsız gördüğü bir topluluğun rivayet ettiği habere ne ad verilir?

- A) Mütevatir B) Bedihi
C) Ahad D) Vehbi

16. Aşağıdakilerden hangileri "Haber-i sadık"ın bölümlerinden biridir?

- A) Akl-ı selim
B) Zannî haber
C) Havass-ı selime
D) Peygamberden gelen haber

17. "Kulları içerisinde ancak bilenler Allah'a karşı gereğince saygı ve korku hisseder."
(Fâtır suresi, 28. ayet)

Bu ayette aşağıdakilerden hangisinin önemi vurgulanmaktadır?

- A) Duyu organlarının
B) Doğru bilginin
C) Güzel ahlakın
D) Tebliğin

18. Kelam ilminde "Vacib li-zatihî" ile aşağıdakilerden hangisi kastedilmektedir?

- A) Allah B) Evren
C) Akıl D) İnsan

19. I. Önerme: Bütün insanlar ölümlüdür.
II. Önerme: Ali bir insandır.
Sonuç: O hâlde Ali de ölümlüdür.

Bu çıkarım aşağıdaki akıl yürütme metotlarından hangisine örnek oluşturur?

- A) Parçadan parçaya gidiş
B) Sonuçtan sebebe gidiş
C) Bütünden parçaya gidiş
D) Parçadan bütüne gidiş

20. Aşağıdakilerden hangisi itikadi hükümlerin özelliklerinden biri değildir?

- A) Kesinlik B) Açıklık
C) Bölünmezlik D) Değişkenlik

(931) SİYER – 1

1. Hz. Muhammed'in (sav.) aşağıdaki yakınlarından hangisi Hüzün Yılı'nda vefat etmiştir?

- A) Dedesi B) Babası
C) Hanımı D) Annesi

2. Siyer alanında yazılan ilk eser aşağıdakilerden hangisidir?

- A) Siret-u İbni İshak
B) Tarihu't-Taberî
C) el-Bidâye ve'n-Nihâye
D) Tabakâtü'l-Kübrâ

3. Hz. Peygamber'in; boyu, yüzü, gözleri, kaşları, yürüyüşü gibi cismî sıfatlarını anlatan eserler aşağıdakilerden hangisi ile isimlendirilmişlerdir?

- A) Miraçnâme
B) Hilye
C) Delâil-i Nübüvve
D) Megazi

4. Aşağıdakilerden hangisi Arap Yarımadası'nda yer alan şehirlerden biri değildir?

- A) Mekke B) Medine
C) Taif D) Kahire

5. Aşağıdakilerden hangisi siyer kitaplarının sınıfları arasında yer almaz?

- A) Miraçnâmeler
B) Hicretnâmeler
C) Seyahatnâmeler
D) Şemâil-i Şerifeler

6. Sabîlik'te aşağıdakilerden hangisine tapılmaktadır?

- A) Ateşe
B) Bir olan Allah'a
C) Allah'a ve putlara
D) Yıldızlara ve Güneş'e

7. "De ki: "Ben de ancak sizin gibi bir insanım. Fakat bana ilâhınızın yalnızca bir tek ilâh olduğu vahyediliyor. Artık O'na yönelin ve O'ndan başışlanma dileyin. Allah'a ortak koşanların vay hâline!"
(Fussilet suresi, 6. ayet)

Bu ayette aşağıdaki inanç gruplarından hangisine öncelikle bir uyarı vardır?

- A) Hanifler B) Müşrikler
C) Museviler D) Hristiyanlar

1. OTURUM

(974) SEÇ. GİRİŞİMCİLİK – 1

8. Mekke'de putperestlik ilk defa aşağıdakilerden hangisi ile başlamıştır?

- A) Huzaa Kabilesi
- B) Cürhümlüler
- C) Kurayza Oğulları
- D) Kelp Kabilesi

9. Haniflerin özellikleri ile ilgili aşağıda verilen bilgilerden hangisi yanlıştır?

- A) Allah'ın birliğine inanırlardı.
- B) Putlara ibadeti reddederlerdi.
- C) Cahiliye âdetlerinin çoğunu kabul ederlerdi.
- D) Kız çocuklarının öldürülmesine karşı çıkarlardı.

10. "İşlerinde doğru olarak kendini Allah'a veren ve İbrahim'in, Allah'ı bir tanıyan dinine tabi olan kimseden dince daha güzel kim vardır? Allah İbrahim'i dost edinmiştir."
(Nisâ suresi, 125. ayet.)

Bu ayette aşağıdaki inanç gruplarından hangisine vurgu yapılmaktadır?

- A) Hristiyanlık
- B) Haniflik
- C) Yahudilik
- D) Sabiilik

11. Semud kavmine aşağıdaki peygamberlerden hangisi gönderilmiştir?

- A) Hz. Salih
- B) Hz. Şuayb
- C) Hz. İsmail
- D) Hz. Davut

12. "Eyyâmü'l-Arab" kavramı ile aşağıdakilerden hangisi kastedilmektedir?

- A) Haksızlıkları önlemek için kurulan Hılful Fudul
- B) Araplarca kutsal kabul edilen hac ibadeti
- C) Mekke'de düzenlenen Ukaz Panayırı
- D) Kabile savaşlarını anlatan nesirler

13. "Darü'n-Nedve" aşağıdaki şehirlerin hangisinde bulunmaktaydı?

- A) Mekke
- B) Medine
- C) Taif
- D) Şam

14. Cürhümlüler tarafından içi toprakla doldurularak kapatılan zenzem kuyusunu bulup yeniden halkın hizmetine sunan kişi aşağıdakilerden hangisidir?

- A) Kusay
- B) Ebu Talip
- C) Abdulmuttalip
- D) Vehb b. Münebbih

15. Aşağıdakilerden hangisi Hz. Peygamber'in amcalarından biri değildir?

- A) Ebu Talip
- B) Hamza
- C) Abbas
- D) Halid b. Velid

16. Aşağıdakilerden hangisi Hz. Peygamber'in isimlerinden biri değildir?

- A) Ahmed
- B) Musa
- C) Mahmut
- D) Mustafa

17. Aşağıdakilerden hangisi Hz. Muhammed'in (sav.) doğduktan sonra sütanneye verilmesinin gerekçeleri arasında yer almaz?

- A) Geleneklerin etkisi
- B) Daha sağlıklı yetişmesi
- C) Arapçayı güzel öğrenmesi
- D) Yanlış inançlardan korunması

18. Hz. Muhammed (sav.) ile ilgili aşağıda verilen bilgilerden hangisi doğrudur?

- A) Sütannesinin yanında iki yıl kalmıştır.
- B) Sekiz yaşında iken dedesi vefat etmiştir.
- C) İki yaşında babası, dört yaşında annesi vefat etmiştir.
- D) Annesinin ölümünden sonra bakımını amcası üstlenmiştir.

19. "Abdullah bin Cüdan'ın evinde amcalarımla birlikte hazır bulundum. O meclisten o kadar memnun oldum ki ona bedel bana kızıl develer (yani en kıymetli dünya malı) verilse, o kadar sevinmezdim. O antlaşmaya şimdi de çağırılsam, yine icabet ederim."

Hz. Peygamber'in bu sözünde bahsettiği anlaşma aşağıdakilerden hangisidir?

- A) Hudeybiye Antlaşması
- B) Boykot kararları
- C) Medine Vesikası
- D) Hılful-Fudul

20. Aşağıdakilerden hangisi Mekkelilerin Hz. Muhammed'i (sav.) gençliğinde "Muhammed'ül-Emin" diye isimlendirmelerinin gerekçelerinden biri değildir?

- A) Adaletli olması
- B) Güvenilir olması
- C) Peygamber olması
- D) Doğru sözlü olması

1. İhtiyaçlar hiyerarşisine göre insanın fizyolojik ihtiyaçlarından sonra ortaya çıkan ihtiyacı aşağıdakilerden hangisidir?

- A) Güvenlik ihtiyacı
- B) Saygı ihtiyacı
- C) Başarma ihtiyacı
- D) Sevgi ve ait olma ihtiyacı

2. Müteşebbis ile ilgili verilen bilgilerden hangisi yanlıştır?

- A) Kâr amacı güder.
- B) Örgütsel birimler oluşturur.
- C) Mal ve hizmet üretimi yapar.
- D) Doğabilecek risklerden uzak durur.

3. Üretim sırasında doğrudan kullanılmayan mallara ne denir?

- A) Yardımcı araçlar
- B) İşletme gereçleri
- C) Yatırım donatım malları
- D) Üretim gereçleri ve parçaları

4. Aşağıdakilerden hangisi müteşebbisliğin en önemli özelliklerinden birisidir?

- A) Uyumluluk
- B) Kararlılık
- C) İş bitiricilik
- D) İnisiyatif kullanma

5. Aşağıdakilerden hangisi müteşebbislerin teminat altına alınmış haklarından biri değildir?

- A) İsteddiği kâr elde etme hakkı
- B) Sözleşme yapma hakkı
- C) Meslek seçme hakkı
- D) Mülkiyet hakkı

6. Üretim yönetimi dönüşüm sürecinde aşağıdakilerden hangisi çıktı olarak kabul edilir?

- A) Emek
- B) Sermaye
- C) Girişimci
- D) Hizmetler

7. Aşağıdakilerden hangisi talebin özelliklerinden biri değildir?

- A) Satın alma gücü
- B) Piyasanın olması
- C) Satın alma isteğinin var olması
- D) Geniş bir zaman dönemini kapsaması

8. Etkili denetimin ilkelerine aykırı bir açıklama hangi seçenekte verilmiştir?

- A) Denetleme gizli olmalıdır.
- B) Denetleme esnek olmalıdır.
- C) Denetleme şekli işletmeye uygun olmalıdır.
- D) Denetlenme standartları önceden belirlenmelidir.

1. OTURUM

9. Bir işletmenin kuruluş sürecinde, projenin niteliğine göre kuruluş ve konum yeri durumu, fabrika binası, üretim teçhizatı, güvenlik araştırması, doğal afet ve çevre kirliliği gibi konularda yapılan araştırma türü aşağıdakilerden hangisidir?

- A) Ekonomik araştırma
B) Teknik araştırma
C) Mali araştırma
D) Yasal araştırma

10. Satış sürecinin sunuş aşamasıyla ilgili verilen bilgilerden hangisi yanlıştır?

- A) Dikkat çekme
B) İlginin isteğe dönüşmesi
C) İsteğin arza dönüşmesi
D) Satışın gerçekleştirilmesi

11. Mal ve hizmet üretiminde insanların sarf ettikleri bedensel ve zihinsel çabalara ne denir?

- A) Emek
B) Rant
C) Ücret
D) Fayda

12. Aşağıdakilerden hangisi üretim faktörlerinden değildir?

- A) Emek
B) Mal
C) Tabiat
D) Sermaye

13. Aşağıdakilerden hangisi müteşebbislerde olması gereken özelliklerden değildir?

- A) Kararlılık
B) Tutarlılık
C) Riski göze alabilme
D) Sorumluluktan kaçınma

14. İşletme kurma sürecinde devlet teşvikleri ve alınması gereken izinler, hangi araştırmaları kapsar?

- A) Ekonomik araştırmaları
B) Teknik araştırmaları
C) Yasal araştırmaları
D) Mali araştırmaları

15. Girişimcilerin üretim elemanlarını bir araya getirip kâr amacıyla mal ve hizmet üretmek için oluşturdukları hukuki, mali ve örgütsel yapılara ne ad verilir?

- A) Girişim
B) Fabrika
C) Dükkan
D) Mağaza

16. Aşağıdakilerden hangisi işletmenin özel amaçlarındandır?

- A) Kâr sağlamak
B) Topluma hizmet etmek
C) İşletmenin yaşamını devam ettirmek
D) Mal ve hizmet kalitesini sürekli arttırmak

17. Aşağıdakilerden hangisi işletmelerin temel işlevlerinden biridir?

- A) Koordinasyon
B) Pazarlama
C) Planlama
D) Denetim

18. Aşağıdakilerden hangisi girişimcilerin ekonomik hayattaki önemini vurgular?

- A) Topluma hizmet ederek sosyal yarar sağlaması
B) Pazardaki şartları günün koşullarına uyarlaması
C) İnsan yaşamını kolaylaştıran yenilikler çıkarması
D) İnsan ihtiyaçlarını karşılayacak mal ve hizmet üretmesi

19. Başka mal ya da hizmet üretiminde kullanılan mallara üretim malları denir.

Bu tanıma göre aşağıdakilerden hangisi üretim mallarına örnek olur?

- A) Torna tezgâhı
B) Cep telefonu
C) Makarna
D) Elbise

20. İşletme kurma sürecinde, ön proje çalışmalarından kârlılık ve verimlilik sağlanacağı sonucu çıktığında hangi aşamaya geçilir?

- A) Ön araştırmalara
B) Deneme üretimine
C) Kesin projeye
D) Ön projeye

(999) MATEMATİK – 2

1. Aşağıdaki sayılardan hangisi 2 ile tam bölünür?

- A) 5243
B) 4523
C) 3254
D) 2345

2. Bir raftaki kitaplar onar ve onikişer sayıldığında her seferinde 7 kitap artıyor.

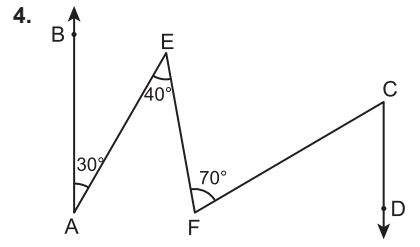
Buna göre bu raftaki kitap sayısı aşağıdakilerden hangisi olabilir?

- A) 57
B) 67
C) 77
D) 87

3. Hilal dört günde bir spor yapmaktadır.

Buna göre ilk defa salı günü spor yapan Hilal 10. defa hangi gün spor yapar?

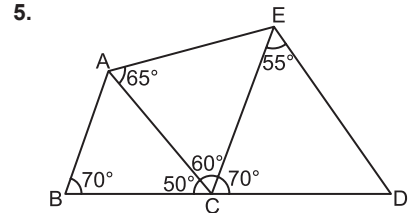
- A) Çarşamba
B) Perşembe
C) Cuma
D) Cumartesi



Şekilde $[AB] \parallel [CD]$ ve $m(\widehat{BAE}) = 30^\circ$, $m(\widehat{AEF}) = 40^\circ$, $m(\widehat{EFC}) = 70^\circ$ dir.

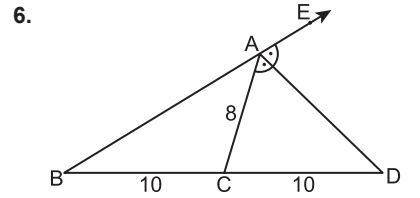
Buna göre $m(\widehat{FCD})$ kaç derecedir?

- A) 100
B) 90
C) 80
D) 60



Şekilde verilenlere göre en kısa kenar aşağıdakilerden hangisidir?

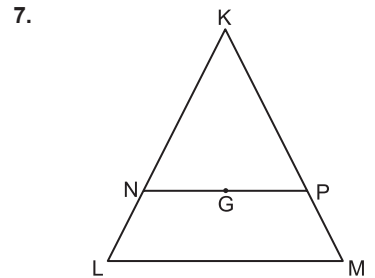
- A) $[AB]$
B) $[AE]$
C) $[AC]$
D) $[CD]$



Şekilde E, A, B noktaları doğrusal, $m(\widehat{EAD}) = m(\widehat{DAC})$ ve $|BC| = |CD| = 10$ cm, $|AC| = 8$ cm'dir.

Buna göre $|AB|$ kaç santimetredir?

- A) 13
B) 14
C) 15
D) 16



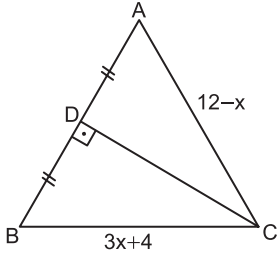
Şekildeki KLM üçgeninde G noktası ağırlık merkezi, $[NP] \parallel [LM]$ ve $|NP| = 8$ cm'dir.

Buna göre $|LM|$ kaç santimetredir?

- A) 8
B) 10
C) 12
D) 14

1. OTURUM

8.



Şekildeki ABC üçgeninde $[AB] \perp [DC]$, $|AD| = |DB|$ ve $|BC| = 3x + 4$ cm, $|CA| = 12 - x$ cm'dir.

Buna göre x kaçtır?

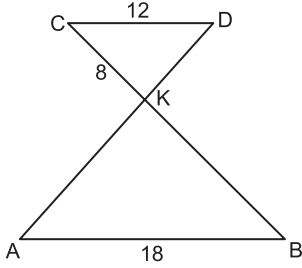
- A) 1 B) 2 C) 3 D) 4

9. \widehat{KLM} ve \widehat{PRS} eş üçgenlerdir.

Buna göre aşağıdakilerden hangisi kesinlikle doğrudur?

- A) $|KL| = |RS|$
B) $m(\widehat{M}) = m(\widehat{R})$
C) $A(\widehat{KLM}) = A(\widehat{PRS})$
D) $|KM| = |PR|$

10.

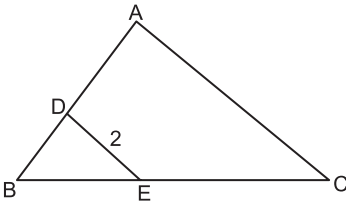


Şekildeki KAB ve KCD üçgenlerinde $[AD] \cap [BC] = \{K\}$, $[AB] \parallel [CD]$ ve $|AB| = 18$ cm, $|CD| = 12$ cm, $|CK| = 8$ cm'dir.

Buna göre |BK| kaç santimetredir?

- A) 12 B) 13 C) 14 D) 15

11.

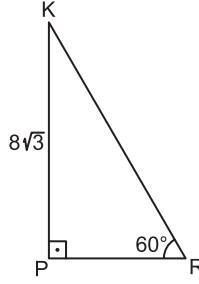


Şekildeki BAC üçgeninde $[DE] \parallel [AC]$, $|EC| = 4 \cdot |BE|$ ve $|DE| = 2$ cm'dir.

Buna göre |AC| kaç santimetredir?

- A) 4 B) 6 C) 8 D) 10

12.

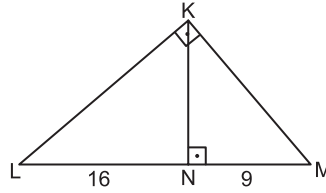


Şekildeki KPR üçgeninde $[KP] \perp [PR]$, $m(\widehat{KRP}) = 60^\circ$ ve $|KP| = 8\sqrt{3}$ cm'dir.

Buna göre |KR| kaç santimetredir?

- A) 8 B) $12\sqrt{3}$
C) 16 D) $16\sqrt{3}$

13.

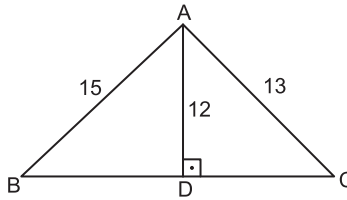


Şekildeki KLM üçgeninde $[KL] \perp [KM]$, $[KN] \perp [LM]$ ve $|LN| = 16$ cm, $|NM| = 9$ cm'dir.

Buna göre |KN| kaç santimetredir?

- A) 14 B) 12 C) 10 D) 8

14.



Şekildeki ABC üçgeninde $[AD] \perp [BC]$ ve $|AB| = 15$ cm, $|AD| = 12$ cm, $|AC| = 13$ cm'dir.

Buna göre |BC| kaç santimetredir?

- A) 10 B) 12 C) 14 D) 16

15. Bir kenarının uzunluğu 4 cm olan eşkenar üçgenin alanı kaç santimetrekaredir?

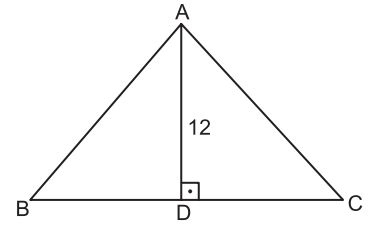
- A) 2 B) $2\sqrt{3}$
C) 4 D) $4\sqrt{3}$

16. Üç kişinin ağırlıkları 63 kg, 70 kg ve 72 kg'dır.

Bu üç kişiye bir kişi daha katıldığında ağırlıkları ortalaması 70 kg olduğuna göre katılan kişinin ağırlığı kaç kilogramdır?

- A) 65 B) 70 C) 72 D) 75

17.



Şekildeki ABC üçgeninde $[AD] \perp [BC]$ ve $|AD| = 12$ cm'dir.

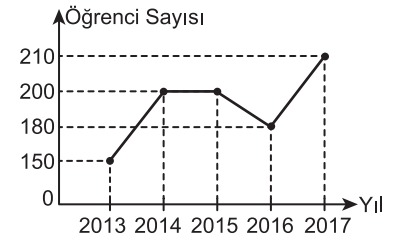
$A(\widehat{ABC}) = 60$ cm² olduğuna göre |BC| kaç santimetredir?

- A) 10 B) 9 C) 8 D) 7

18. 3, 2, 6, 1, 5, 1, 2, 6, 4, 5, 2, 6 sayılarından oluşan veri grubunun tepe değeri kaçtır?

- A) 2 ve 6 B) 2
C) 6 D) 3 ve 4

19.

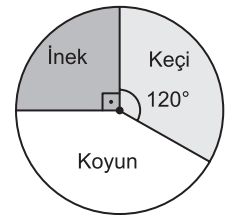


Grafikte bir okula 2013 – 2017 yılları arasında kayıt yaptıran öğrencilerin sayısının yıllara göre değişimi verilmiştir.

Grafiğe göre bu okula kayıt yaptıran öğrencilerin sayıları ile ilgili olarak aşağıdakilerden hangisi doğrudur?

- A) 2013 yılında en çoktur.
B) 2017 yılında en azdır.
C) 2014 ve 2015 yıllarında eşittir.
D) 2013 – 2017 yılları arasında sürekli artmıştır.

20.



Grafikte bir çiftlikteki hayvanların sayısının dağılımı verilmiştir.

Bu çiftlikteki koyunların sayısı keçilerin sayısından 20 fazla olduğuna göre çiftlikte kaç inek vardır?

- A) 50 B) 60 C) 70 D) 80

TEST BİTTİ.

CEVAPLARINIZI KONTROL EDİNİZ.

CEVAP KÂĞIDI VE SORU KİTAPÇIĞI İLE İLGİLİ AÇIKLAMALAR

1. Cevap kâğıdınızdaki bilgilerin doğruluğunu kontrol ediniz ve cevap kâğıdınızı mürekkepli kalemle imzalayınız.
2. Cevap kâğıdı üzerinde kodlamalarınızı siyah kurşun kalemle yapınız.
3. Değiştirmek istediğiniz bir cevabı, yumuşak silgiyle cevap kâğıdını örselemeden temizce siliniz ve yeni cevabınızı kodlayınız.
4. Soru kitapçığının sayfalarını görevlilerin uyarıları doğrultusunda kontrol ediniz, baskı hatası var ise değiştirilmesini sağlayınız.
5. Soruların çözümü için size ayrıca boş kâğıt verilmeyecektir. Soru kitapçığının içindeki boş alanları soru çözümleri için kullanabilirsiniz.
6. Her sorunun dört seçeneğinden sadece biri doğrudur. Doğru seçeneği, cevap kâğıdınızın ilgili sütununa soru numarasını dikkate alarak yuvarlağın dışına taşırmadan kodlayınız. Soru kitapçığı üzerinde yapılan cevaplandırmalar dikkate alınmayacaktır.
7. Cevaplamaya istediğiniz dersin sorusundan başlayabilirsiniz. Cevabını bilmediğiniz sorular üzerinde fazla zaman kaybetmeden diğer sorulara geçiniz. Zamanınız kalırsa bu sorulara daha sonra dönebilirsiniz.
8. Yanlış cevaplarınız dikkate alınmadan sadece doğru cevaplarınız üzerinden puanlama yapılacaktır.
9. Soruları ve sorulara verdiğiniz cevapları, yanınızda götürmek amacıyla kaydetmeyiniz; hiçbir şekilde dışarı çıkarmayınız.
10. Sınav bitiminde soru kitapçığı ve cevap kâğıdını salon görevlilerine teslim ediniz.

SALON GÖREVLİLERİNCE SINAV BAŞLAMADAN ÖNCE ADAYLARA YAPILACAK SON UYARILAR

- Soracağınız bir şey varsa şimdi sorunuz, sınav başladıktan sonra sorularınıza cevap verilmeyecektir.
- Başlama zilini bekleyiniz.

Hepinize başarılar dileriz.

(Salon başkanı başlama ve bitiş saatini tahtaya yazacaktır.)

Bu kitapçığın her hakkı saklıdır. Hangi amaçla olursa olsun, kitapçığın tamamının veya bir kısmının Millî Eğitim Bakanlığı Ölçme, Değerlendirme ve Sınav Hizmetleri Genel Müdürlüğünün yazılı izni olmadan kopya edilmesi, fotoğraflarının çekilmesi, bilgisayar ortamına alınması, herhangi bir yolla çoğaltılması, yayımlanması veya başka bir amaçla kullanılması yasaktır. Bu yasağa uymayanlar, doğabilecek cezai sorumluluğu ve kitapçığın hazırlanmasındaki mali külfeti peşinen kabullenmiş sayılır.

31 MART 2017 TARİHİNDE YAPILAN AÇIKÖĞRETİM LİSESİ / MESLEKİ AÇIKÖĞRETİM LİSESİ
2017-2018 ÖĞRETİM YILI 2. DÖNEM SINAVI 1. OTURUM T KİTAPÇIĞI CEVAP ANAHTARI

(111) DİN KÜL. AHL. BİL. – 1

1. D
2. A
3. B
4. C
5. B
6. C
7. A
8. D
9. B
10. A
11. D
12. C
13. B
14. A
15. D
16. C
17. B
18. C
19. D
20. A

(115) DİN KÜL. AHL. BİL. – 5

1. D
2. C
3. A
4. B
5. A
6. C
7. D
8. B
9. C
10. A
11. B
12. D
13. A
14. C
15. B
16. D
17. A
18. C
19. D
20. B

(123) SEÇMELİ FELSEFE – 1

1. A
2. B
3. A
4. D
5. D
6. B
7. A
8. C
9. C
10. D
11. A
12. C
13. B
14. D
15. C
16. B
17. D
18. B
19. A
20. C

(136) SEÇ. TARİH – 2

1. D
2. A
3. C
4. B
5. B
6. A
7. D
8. B
9. C
10. A
11. A
12. D
13. B
14. C
15. A
16. D
17. C
18. A
19. C
20. B

(112) DİN KÜL. AHL. BİL. – 2

1. A
2. D
3. A
4. B
5. D
6. A
7. B
8. C
9. C
10. B
11. A
12. D
13. C
14. A
15. D
16. B
17. C
18. B
19. A
20. D

(121) FELSEFE – 1

1. D
2. C
3. A
4. C
5. B
6. D
7. B
8. A
9. D
10. C
11. B
12. A
13. D
14. C
15. B
16. A
17. B
18. D
19. A
20. C

(132) TARİH – 2

1. C
2. A
3. C
4. B
5. D
6. B
7. D
8. C
9. A
10. B
11. D
12. A
13. A
14. B
15. A
16. C
17. D
18. C
19. D
20. B

(151) COĞRAFYA – 1

1. A
2. A
3. D
4. B
5. A
6. B
7. A
8. C
9. D
10. D
11. C
12. C
13. B
14. C
15. C
16. D
17. A
18. D
19. B
20. B

31 MART 2017 TARİHİNDE YAPILAN AÇIKÖĞRETİM LİSESİ / MESLEKİ AÇIKÖĞRETİM LİSESİ
2017-2018 ÖĞRETİM YILI 2. DÖNEM SINAVI 1. OTURUM T KİTAPÇIĞI CEVAP ANAHTARI

(155) SEÇ. COĞRAFYA – 1

1. D
2. C
3. B
4. A
5. B
6. A
7. C
8. D
9. A
10. D
11. B
12. A
13. C
14. B
15. D
16. A
17. B
18. C
19. C
20. D

(181) İNGİLİZCE – 1

1. B
2. B
3. D
4. C
5. D
6. B
7. A
8. D
9. C
10. B
11. A
12. C
13. A
14. D
15. B
16. C
17. D
18. C
19. A
20. B

(181) FRANSIZCA – 1

1. D
2. B
3. B
4. A
5. C
6. C
7. A
8. D
9. D
10. A
11. C
12. D
13. B
14. D
15. C
16. A
17. A
18. B
19. C
20. D

(244) İNGİLİZCE – 5

1. A
2. D
3. B
4. A
5. C
6. B
7. D
8. C
9. A
10. A
11. D
12. B
13. A
14. C
15. C
16. D
17. D
18. B
19. A
20. C

(157) SEÇ. COĞRAFYA – 3

1. C
2. B
3. A
4. D
5. C
6. B
7. C
8. B
9. A
10. D
11. B
12. A
13. A
14. C
15. D
16. D
17. B
18. B
19. C
20. D

(181) ALMANCA – 1

1. A
2. D
3. B
4. B
5. A
6. B
7. D
8. C
9. C
10. D
11. B
12. C
13. A
14. D
15. B
16. D
17. A
18. B
19. C
20. A

(222) SAĞ. BİL. VE
TRAFİK KÜLTÜRÜ – 2

1. A
2. B
3. C
4. A
5. D
6. C
7. B
8. D
9. A
10. C
11. D
12. B
13. D
14. A
15. C
16. B
17. D
18. A
19. B
20. C

(244) ALMANCA – 5

1. B
2. A
3. C
4. D
5. B
6. A
7. B
8. D
9. C
10. A
11. D
12. B
13. B
14. C
15. D
16. A
17. C
18. C
19. A
20. A

31 MART 2017 TARİHİNDE YAPILAN AÇIKÖĞRETİM LİSESİ / MESLEKİ AÇIKÖĞRETİM LİSESİ
2017-2018 ÖĞRETİM YILI 2. DÖNEM SINAVI 1. OTURUM T KİTAPÇIĞI CEVAP ANAHTARI

(244) FRANSIZCA – 5

1. C
2. B
3. B
4. C
5. A
6. D
7. C
8. B
9. B
10. D
11. A
12. B
13. B
14. C
15. D
16. A
17. A
18. D
19. A
20. C

(402) DİL ve ANLATIM – 2

1. D
2. B
3. D
4. C
5. C
6. A
7. C
8. D
9. A
10. B
11. C
12. D
13. B
14. C
15. D
16. B
17. B
18. C
19. D
20. C

(408) DİL ve ANLATIM – 8

1. D
2. B
3. A
4. B
5. B
6. D
7. C
8. B
9. D
10. B
11. A
12. C
13. D
14. C
15. C
16. A
17. D
18. B
19. D
20. A

(417) TÜRK EDEBİYATI – 7

1. B
2. A
3. B
4. B
5. C
6. D
7. A
8. B
9. D
10. C
11. A
12. B
13. D
14. C
15. A
16. B
17. A
18. D
19. D
20. B

(401) DİL ve ANLATIM – 1

1. B
2. A
3. B
4. D
5. B
6. C
7. D
8. C
9. C
10. B
11. A
12. A
13. D
14. B
15. D
16. D
17. A
18. C
19. D
20. A

(407) DİL ve ANLATIM – 7

1. C
2. C
3. B
4. D
5. A
6. B
7. C
8. D
9. D
10. A
11. D
12. C
13. A
14. A
15. B
16. D
17. C
18. C
19. B
20. D

(414) TÜRK EDEBİYATI – 4

1. A
2. A
3. D
4. A
5. B
6. C
7. D
8. D
9. B
10. C
11. D
12. C
13. B
14. C
15. B
16. C
17. B
18. C
19. A
20. B

(418) TÜRK EDEBİYATI – 8

1. D
2. A
3. C
4. B
5. D
6. C
7. A
8. B
9. A
10. C
11. D
12. A
13. D
14. B
15. C
16. A
17. D
18. B
19. C
20. A

31 MART 2017 TARİHİNDE YAPILAN AÇIKÖĞRETİM LİSESİ / MESLEKİ AÇIKÖĞRETİM LİSESİ
2017-2018 ÖĞRETİM YILI 2. DÖNEM SINAVI 1. OTURUM T KİTAPÇIĞI CEVAP ANAHTARI

(421) FİZİK – 1

1. B
2. C
3. C
4. D
5. A
6. B
7. D
8. C
9. C
10. B
11. B
12. D
13. A
14. D
15. C
16. A
17. A
18. C
19. D
20. B

(432) KİMYA – 2

1. A
2. B
3. B
4. D
5. C
6. C
7. A
8. C
9. D
10. B
11. C
12. D
13. B
14. C
15. A
16. B
17. C
18. D
19. B
20. A

(441) BİYOLOJİ – 1

1. B
2. B
3. A
4. C
5. D
6. A
7. C
8. A
9. C
10. D
11. B
12. C
13. B
14. D
15. D
16. C
17. A
18. B
19. D
20. A

(446) SEÇ. BİYOLOJİ – 2

1. A
2. D
3. B
4. B
5. C
6. A
7. C
8. D
9. A
10. C
11. A
12. B
13. D
14. D
15. B
16. C
17. D
18. C
19. B
20. A

(425) SEÇ. FİZİK – 1

1. C
2. D
3. C
4. A
5. D
6. B
7. C
8. B
9. C
10. A
11. D
12. B
13. D
14. A
15. A
16. D
17. B
18. C
19. B
20. A

(436) SEÇ. KİMYA – 2

1. C
2. D
3. A
4. B
5. C
6. A
7. B
8. D
9. A
10. C
11. C
12. B
13. D
14. A
15. C
16. C
17. B
18. D
19. D
20. A

(443) BİYOLOJİ – 3

1. C
2. C
3. A
4. A
5. B
6. D
7. D
8. A
9. B
10. D
11. A
12. B
13. C
14. D
15. C
16. A
17. B
18. B
19. C
20. D

(461) SEÇ. EKONOMİ – 1

1. C
2. B
3. D
4. A
5. C
6. D
7. A
8. B
9. D
10. C
11. B
12. D
13. C
14. A
15. B
16. B
17. B
18. C
19. D
20. A

31 MART 2017 TARİHİNDE YAPILAN AÇIKÖĞRETİM LİSESİ / MESLEKİ AÇIKÖĞRETİM LİSESİ
2017-2018 ÖĞRETİM YILI 2. DÖNEM SINAVI 1. OTURUM T KİTAPÇIĞI CEVAP ANAHTARI

(465) TEMEL DİNİ BİL. – 1

1. B
2. D
3. C
4. A
5. D
6. C
7. B
8. A
9. C
10. D
11. A
12. B
13. C
14. D
15. A
16. B
17. A
18. D
19. B
20. C

(479) SEÇ. MANTIK – 2

1. D
2. C
3. B
4. D
5. A
6. C
7. D
8. B
9. C
10. B
11. A
12. D
13. A
14. B
15. A
16. A
17. D
18. B
19. C
20. D

(491) TRAF. VE İLK YARD. – 1

1. D
2. C
3. A
4. D
5. B
6. A
7. C
8. D
9. B
10. A
11. C
12. B
13. A
14. D
15. B
16. D
17. A
18. C
19. D
20. B

(502) ALMANCA – 8

1. C
2. B
3. A
4. D
5. B
6. D
7. B
8. A
9. A
10. C
11. D
12. B
13. C
14. A
15. C
16. D
17. B
18. D
19. A
20. C

(477) SEÇ. İŞLETME – 2

1. B
2. B
3. A
4. B
5. D
6. B
7. C
8. A
9. D
10. D
11. D
12. B
13. C
14. A
15. D
16. C
17. B
18. C
19. C
20. A

(484) SAĞLIK BİLGİSİ – 2

1. B
2. A
3. C
4. A
5. D
6. C
7. B
8. D
9. C
10. C
11. A
12. D
13. B
14. D
15. A
16. D
17. B
18. C
19. B
20. C

(502) İNGİLİZCE – 8

1. D
2. C
3. A
4. D
5. B
6. A
7. C
8. A
9. D
10. B
11. C
12. C
13. D
14. A
15. C
16. B
17. A
18. C
19. D
20. B

(502) FRANSIZCA – 8

1. D
2. B
3. D
4. C
5. A
6. C
7. A
8. B
9. D
10. B
11. C
12. A
13. C
14. D
15. B
16. A
17. C
18. D
19. A
20. B

31 MART 2017 TARİHİNDE YAPILAN AÇIKÖĞRETİM LİSESİ / MESLEKİ AÇIKÖĞRETİM LİSESİ
2017-2018 ÖĞRETİM YILI 2. DÖNEM SINAVI 1. OTURUM T KİTAPÇIĞI CEVAP ANAHTARI

(511) FIKIH – 1

1. C
2. B
3. D
4. A
5. C
6. A
7. D
8. A
9. B
10. C
11. A
12. B
13. D
14. C
15. B
16. A
17. D
18. A
19. D
20. B

(544) TÜRK DİLİ VE EDEBİYATI – 4

1. B
2. A
3. C
4. C
5. D
6. D
7. A
8. D
9. D
10. B
11. B
12. C
13. A
14. A
15. A
16. C
17. B
18. C
19. A
20. B

(611) KARŞ. DİN. TARİHİ – 1

1. C
2. B
3. C
4. D
5. B
6. A
7. C
8. D
9. A
10. D
11. B
12. A
13. D
14. B
15. D
16. A
17. C
18. B
19. A
20. D

(618) SEÇ. DİL ve ANLA. – 8

1. C
2. A
3. B
4. C
5. D
6. D
7. B
8. C
9. A
10. B
11. C
12. B
13. B
14. A
15. C
16. D
17. B
18. B
19. D
20. D

(532) SEÇMELİ PEYGAMBERİ-
MİZİN HAY.-2

1. B
2. C
3. A
4. D
5. A
6. C
7. D
8. B
9. D
10. A
11. C
12. B
13. C
14. D
15. A
16. B
17. C
18. B
19. D
20. A

(609) SEÇ. MATEMATİK – 2

1. A
2. D
3. C
4. D
5. A
6. D
7. C
8. B
9. A
10. B
11. B
12. D
13. C
14. A
15. B
16. C
17. D
18. B
19. A
20. D

(617) SEÇ. DİL ve ANLA. – 7

1. A
2. C
3. B
4. D
5. C
6. B
7. A
8. C
9. C
10. D
11. B
12. A
13. B
14. C
15. D
16. A
17. C
18. B
19. D
20. B

(627) SEÇ. TÜRK ED. – 7

1. D
2. D
3. A
4. C
5. C
6. B
7. D
8. A
9. C
10. B
11. C
12. D
13. A
14. B
15. A
16. B
17. C
18. D
19. A
20. B

31 MART 2017 TARİHİNDE YAPILAN AÇIKÖĞRETİM LİSESİ / MESLEKİ AÇIKÖĞRETİM LİSESİ
2017-2018 ÖĞRETİM YILI 2. DÖNEM SINAVI 1. OTURUM T KİTAPÇIĞI CEVAP ANAHTARI

(628) SEÇ. TÜRK ED. – 8

1. D
2. C
3. A
4. B
5. C
6. D
7. A
8. C
9. B
10. D
11. A
12. D
13. C
14. B
15. B
16. D
17. A
18. A
19. C
20. B

(817) AKAD – 1

1. B
2. C
3. A
4. D
5. C
6. A
7. D
8. B
9. A
10. B
11. D
12. C
13. D
14. C
15. A
16. B
17. C
18. B
19. A
20. B

(931) SİYER – 1

1. C
2. A
3. B
4. D
5. C
6. D
7. B
8. A
9. C
10. B
11. A
12. D
13. A
14. C
15. D
16. B
17. D
18. B
19. D
20. C

(999) MATEMATİK – 2

1. C
2. B
3. A
4. D
5. A
6. D
7. C
8. B
9. C
10. A
11. D
12. C
13. B
14. C
15. D
16. D
17. A
18. A
19. C
20. B

(713) İSLAM KÜLTÜR
VE MEDENİYETİ – 1

1. B
2. D
3. C
4. A
5. D
6. B
7. C
8. D
9. A
10. B
11. A
12. C
13. D
14. C
15. B
16. A
17. D
18. A
19. B
20. C

(819) KELAM – 1

1. D
2. B
3. A
4. C
5. A
6. B
7. C
8. D
9. A
10. C
11. D
12. B
13. C
14. B
15. A
16. D
17. B
18. A
19. C
20. D

(974) SEÇ. GİRİŞİMCİLİK – 1

1. A
2. D
3. B
4. D
5. A
6. D
7. D
8. A
9. B
10. C
11. A
12. B
13. D
14. C
15. A
16. A
17. B
18. D
19. A
20. C