



**AÇIK ÖĞRETİM ORTAOKULU  
2017 - 2018 ÖĞRETİM YILI  
2. DÖNEM SINAVI**

**21 NİSAN 2018**

**Saat: 09.30**

<b>DERSLER</b>	<b>SAYFA</b>	<b>DERSLER</b>	<b>SAYFA</b>
(631) MATEMATİK – 6	2	(735) ALMANCA – 7	21
(632) FEN BİLİMLERİ – 6	4	(735) FRANSIZCA – 7	22
(634) İNGİLİZCE – 6	6	(736) DİN KÜL. VE AHLAK BİLGİSİ – 7	24
(634) ALMANCA – 6	7	(830) TÜRKÇE – 8	26
(634) FRANSIZCA – 6	9	(831) MATEMATİK – 8	28
(635) DİN KÜL. VE AHLAK BİLGİSİ – 6	10	(832) FEN BİLİMLERİ – 8	30
(730) TÜRKÇE – 7	12	(834) T.C. İNK. TAR. VE ATATÜRK. – 8	33
(731) MATEMATİK – 7	14	(835) İNGİLİZCE – 8	34
(732) FEN BİLİMLERİ – 7	16	(835) ALMANCA – 8	36
(733) SOSYAL BİLGİLER – 7	18	(835) FRANSIZCA – 8	37
(735) İNGİLİZCE – 7	19	(836) DİN KÜL. VE AHLAK BİLGİSİ – 8	39

**ADAYLARIN DİKKATİNE!**

- Her ders için 20 soru bulunmaktadır. Bu oturumda **150** dakikalık cevaplama süreniz vardır. Sınav başladıktan sonra ilk **30** dakika tamamlanmadan dışarı çıkmayınız.
- Sınav sırasında çanta, cep telefonu, saat, kablosuz iletişim sağlayan cihazlar ve kulaklık, kolye, küpe, bilezik, yüzük, broş ve benzeri eşyalar ile her türlü elektronik ve/veya mekanik cihazları yanınızda bulundurmuyunuz. Bu araçları yanınızda bulundurmanız ve kopya çekmeye teşebbüs etmeniz hâlinde sınavınız geçersiz sayılacaktır.
- Başvuru şartlarını taşımadığınız hâlde sınava girmeniz, kopya çekmeniz, başka adayın sınav evrakını kullanmanız, geçerli kimlik belgenizi ve sınav giriş belgenizi ibraz edemediğiniz durumlarda sınavınız geçersiz sayılacaktır.
- Sınavın değerlendirilmesi aşamasında, bilgisayar ortamında yapılan kopya analizinde sistemin ikili ve/veya toplu kopya tespiti hâlinde sınavınız geçersiz sayılacaktır.
- Adaylar, sınav kurallarına ve salon görevlilerinin tüm uyarılarına uymak zorundadır. Kurallara ve uyarılara uymayan adayların sınavları geçersiz sayılacaktır.**
- Sınav başladıktan sonra adayların salon görevlileri ve birbirleri ile konuşmaları; kalem, silgi vb. şeyleri istemeleri yasaktır.
- Adaylar sınav süresince, sınav giriş belgesi ile geçerli kimlik belgelerinden birinin aslını (fotoğraflı nüfus cüzdanı, pasaport veya sürücü belgesi) masalarının üzerinde bulundurmamak zorundadır.
- Sınav evraklarını teslim etmeyen, soru kitapçıklarının sayfalarından bir kısmını eksik teslim edenlerin sınavları geçersiz sayılacaktır.**
- Sınav başlamadan önce kitapçığın arkasındaki açıklamaları okuyunuz.

**BAŞLAYINIZ DENMEDEN SORU KİTAPÇIKLARINI AÇMAYINIZ.**

**(631) MATEMATİK – 6**

1. Aşağıdaki sayılardan hangisi 3 ile kalansız bölünür?

A) 537 B) 425 C) 301 D) 178

2. Aşağıdaki sıralamalardan hangisi yanlıştır?

A)  $-4 > -1$  B)  $-13 < -11$   
C)  $-7 < 5$  D)  $25 > -35$

3. Efe cebindeki paranın  $\frac{1}{4}$ 'ini bir kalem ve bir silgi olarak harcıyor.

Silgi için 2 lira, kalem için 3 lira ödeyen Efe'nin başlangıçta kaç lirası vardı?

A) 5 B) 10 C) 15 D) 20

4. %40'ı kız öğrencilerden oluşan bir sınıfın mevcudu 30'dur.

Bu sınıfta kaç erkek öğrenci vardır?

A) 14 B) 16 C) 18 D) 20

5. Çözümlemiş biçimi

$2 \times 10^2 + 5 \times 1 + 7 \times \frac{1}{10} + 2 \times \frac{1}{100}$  olan ondalık kesir aşağıdakilerden hangisidir?

A) 25,72 B) 25,702  
C) 205,702 D) 205,72

6.  $K = \{2, 5, 12, 17\}$  olduğuna göre aşağıdakilerden hangisi yanlıştır?


A)  $s(K) = 4$  B)  $15 \in K$   
C)  $3 \notin K$  D)  $2 \in K$

7. Bir otobüste 15 kadın, 25 erkek yolcu vardır.

Buna göre otobüsteki kadın yolcuların sayısının tüm yolcuların sayısına oranı kaçtır?

A)  $\frac{3}{8}$  B)  $\frac{3}{5}$  C)  $\frac{5}{8}$  D)  $\frac{8}{15}$

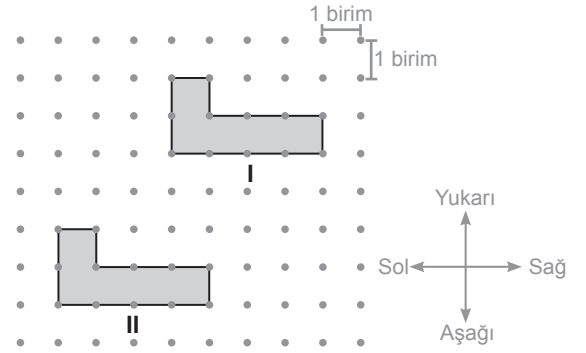
- 8.



Verilen geometrik şeklin sembolle gösterimi aşağıdakilerden hangisidir?

A) LN B) [LN C) [NL D) [LN]

- 9.

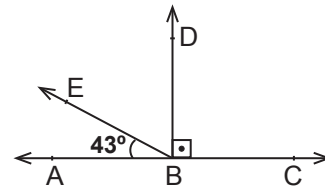


Yukarıdaki noktalı kâğıtta verilen I. konumdaki şekil ötelenerek II. konuma getirilmiştir.

Buna göre bu öteleme hareketi aşağıdakilerden hangisi olabilir?

A) 3 birim sağa, 3 birim aşağı  
B) 3 birim sola, 4 birim aşağı  
C) 7 birim sola, 6 birim yukarı  
D) 6 birim sağa, 2 birim yukarı

- 10.

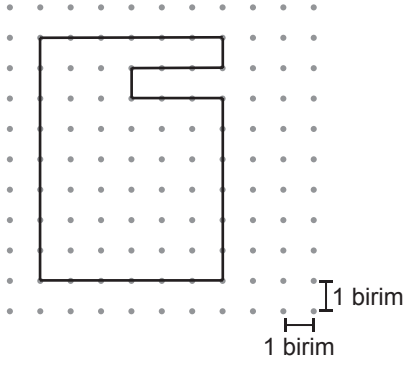


Şekilde  $[BD \perp AC$  ve  $s(\widehat{ABE}) = 43^\circ$  dir.

Buna göre  $s(\widehat{EBD})$  kaç derecedir?

A) 47 B) 53 C) 57 D) 63

11.



Yukarıda noktalı kâğıtta verilen şeklin çevresi kaç birimdir?

- A) 28 B) 31 C) 34 D) 37

12. Ayırıt uzunluğu 4 m olan küp şeklindeki su deposu yarısına kadar su ile doldurulmuştur.

Buna göre depoda kaç metreküp su vardır?

- A) 16 B) 32 C) 48 D) 64

13. Bir pastane 150 bardak meyve suyu satmıştır. Her bardakta 200 mililitre meyve suyu olduğuna göre bu pastane kaç litre meyve suyu satmıştır?

- A) 15 B) 20 C) 30 D) 35

14. Kesin olayın gerçekleşme olasılığı kaçtır?

- A) 0 B)  $\frac{1}{2}$  C)  $\frac{1}{3}$  D) 1

15. 5, 8, 21, 42, 55

Yukarıdaki veri grubunun açıklığı kaçtır?

- A) 50 B) 37 C) 35 D) 30

16. 5 farklı gömleği ve 3 farklı pantolonu olan Serkan 1 gömlek ve 1 pantolonu kaç farklı biçimde giyebilir?

- A) 2 B) 8 C) 12 D) 15

17.  $8^2$  ifadesinin değeri kaçtır?

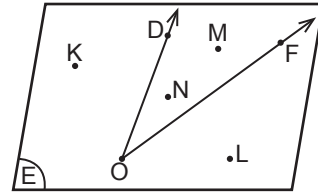
- A) 8 B) 16 C) 64 D) 256

18. Kumbarasında 18 lira olan Kerem, her gün babasından aldığı 5 lira harçlığın 3 lirasını harcayıp kalanını kumbarasına atacaktır.

“n” gün sayısını belirttiğine göre, Kerem’in kumbarasında biriken parayı gösteren cebirsel ifade aşağıdakilerden hangisidir?

- A)  $3n - 18$  B)  $2n - 18$   
C)  $3n + 18$  D)  $2n + 18$

19.

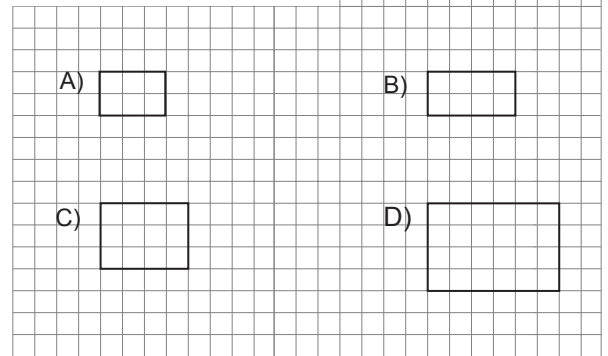
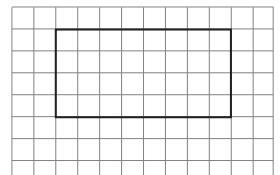


Yukarıda görülen E düzleminde DOF açısı ve K, L, M, N noktaları verilmiştir.

Şekle göre DOF dar açısının dış bölgesindeki noktaların kümesi aşağıdakilerden hangisidir?


- A)  $\{N, M\}$  B)  $\{N, K\}$   
C)  $\{K, L\}$  D)  $\{M, L\}$

20. Kareli kâğıtta verilen yandaki şekle aşağıdakilerden hangisi benzerdir?



(632) FEN BİLİMLERİ – 6

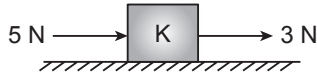
1. Şekildeki dinamometreye 10 N'luk cisim asıldığında dinamometre yayındaki uzama miktarı iki bölme kadar oluyor.



Aynı dinamometreye 25 N'luk cisim asıldığında dinamometre yayındaki uzama miktarı kaç bölme olur?

- A) 3 B) 4 C) 5 D) 6

2. Sürtünmesiz yatay zeminde bulunan K cismini aynı doğrultuda iki kuvvet şekildeki gibi etki ediyor.



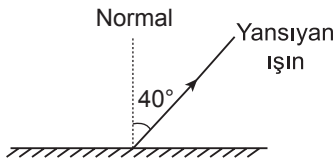
Buna göre K cismine etki eden bileşke kuvvet kaç N olur?

- A) 2 B) 3 C) 5 D) 8

3. Aşağıdakilerden hangisi sesin soğurulması için yapılan uygulamalardan değildir?

- A) Bina duvarlarında tuğla ile sıva arasına yalıtım malzemesi konulması  
B) Sinema ve tiyatro salonlarında duvarların kumaşla kaplanması  
C) Bina duvarlarının beyaz boya ile boyanması  
D) Araba egzozlarının art arda odacıklı yapılması

4. Şekildeki düzlem aynada ışının yansıma açısı  $40^\circ$ 'dir.



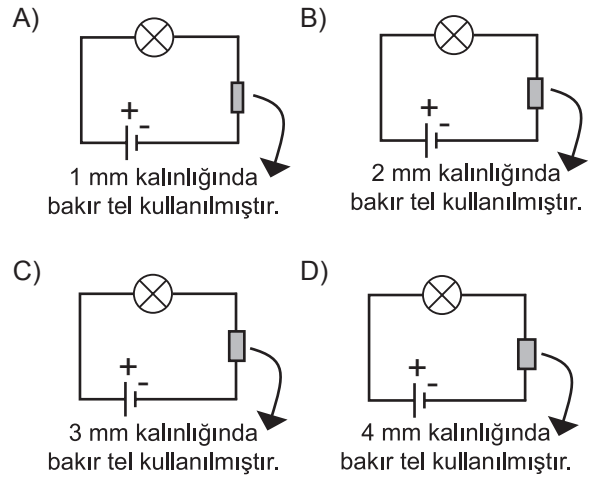
Bu ışının gelme açısı kaç derecedir?

- A) 40 B) 50 C) 60 D) 90

5. Aşağıdaki durumların hangisi elektrik enerjisinin güvenli kullanımına örnektir?

- A) Elektrik çarpan bir kişiyi hemen kolundan elimizle tutup çekmek  
B) Banyo gibi ıslak ortamlarda elektrikli aletleri kullanmak  
C) Yıpranmamış elektrik kabloları kullanmak  
D) Elektrikli araçları üzerinde yazılan değerden daha büyük değerde elektrik enerjisiyle çalıştırmak

6. Özdeş piller ve özdeş ampuller kullanılarak kurulan aşağıdaki devrelerden hangisinde ampul en parlak yanar?



7. Fosillerin yararları ile ilgili;

- I. Bulunduğu katmanın oluşum tarihi ve biçimi hakkında bilgi verir.  
II. Soyu tükenmiş canlıları tanımamızı sağlar.  
III. Dünyada meydana gelen iklim ve yeryüzü değişimleri hakkında bilgi verir.

ifadelerinden hangileri doğrudur?

- A) Yalnız I B) Yalnız II C) II ve III. D) I, II ve III.

8. • Tarım için en elverişli topraktır.  
• Koyu renkli ve yumuşaktır.  
• İçerisinde bitki ve hayvan kalıntılarını barındırır.

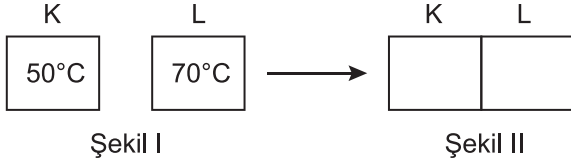
Yukarıda verilen özellikler hangi toprak çeşidine aittir?

- A) Kumlu B) Humuslu C) Killi D) Kireçli

9. Bir kabın içindeki buz parçaları ısıtılıp su hâline getiriliyor.  
**Bu hâl değişiminde madde tanecikleri ile ilgili olarak aşağıdakilerden hangisi söylenemez?**

A) Dışarıya ısı vermiştir.  
B) Düzensiz yapı oluşturmuştur.  
C) Hareketli yapıya ulaşmıştır.  
D) Aralarındaki uzaklık artmıştır.

10. Sıcaklıkları farklı olan özdeş K ve L blokları Şekil II'deki gibi temas ettiriliyor.



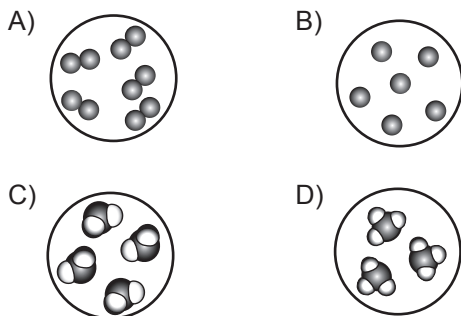
**Buna göre K ve L blokları ile ilgili aşağıdakilerden hangisi söylenemez?**

A) Sıcaklıkları farklı olduğu için ısı alışverişi olmuştur.  
B) Isı alışverişi K ve L bloklarının sıcaklıkları eşit olana kadar devam eder.  
C) Isı akışının yönü L bloğundan K bloğuna doğrudur.  
D) K ve L blokları arasında alınan ısı, verilen ısıdan fazladır.

11. Aşağıdaki olaylardan hangisi fiziksel değişime örnek verilir?

A) Sütün mayalandırılarak yoğurt hâline getirilmesi  
B) Etin kıyma hâline getirilmesi  
C) Yaprığın sararması  
D) Demirin paslanması

12. Aşağıdaki modellerden hangisi element molekülünü temsil eder?



13. Aşağıdakilerden hangisinde maddedeki değişim ve örnek yanlış eşleştirilmiştir?

A) Kimyasal değişim → Elmanın çürümesi  
B) Kimyasal değişim → Sütün ekşimesi  
C) Fiziksel değişim → Demirin paslanması  
D) Fiziksel değişim → Şekerin suda çözünmesi

14. Aşağıdaki maddelerden hangisi ısı yalıtımı için binalarda kullanılmaz?

A) Silikon yünü  
B) Metal levha  
C) Plastik köpük  
D) Ahşap levha

15. • Hücreye belirli bir şekil verir.  
• Canlı bir yapıya sahiptir.  
• Seçici geçirgen özelliktedir.

**Bazı özellikleri verilen hücredeki yapı aşağıdakilerden hangisidir?**

A) Sitoplazma  
B) Mitokondri  
C) Hücre duvarı  
D) Hücre zarı

16. I. Su  
II. Oksijen  
III. Güneş ışığı  
IV. Uygun sıcaklık

**Yukarıdakilerden hangileri fasulye tohumunun çimlenmesi için gereklidir?**

A) Yalnız I  
B) II ve III.  
C) I, II ve IV.  
D) II, III ve IV.

17. Aşağıdakilerden hangisi ergenlik döneminde kız ve erkeklerde görülen ortak değişimlerden değildir?

A) Vücudun bazı bölgelerinde kıllanmaların oluşması  
B) Gırtlaktaki kemik çıkıntısının belirgin hâle gelmesi  
C) Yağ bezlerinin faaliyetinin artması  
D) Üreme organlarının gelişmesi

18. • Kırmızı kemik iliğinde üretilir.  
• Oksijen ve karbondioksit taşımakla görevlidir.

**Bu özellikler kandaki hangi yapıya aittir?**

A) Plazma  
B) Alyuvarlar  
C) Akyuvarlar  
D) Kan pulcukları

19. Aşağıdaki hayvanlardan hangisi üreme şekline göre diğerlerinden farklıdır?

- A) Yarasa B) Kaplumbağa  
C) Leylek D) Yılan

20. I. Çizgili kas  
II. Düz kas  
III. Kalp kası

Yukarıdaki kas türlerinden hangileri isteğimiz dışında çalışır?

- A) Yalnız I B) Yalnız III  
C) I ve II. D) II ve III.

### (634) İNGİLİZCE – 6

1-20. sorularda boş bırakılan yere uygun gelen kelime ya da ifadeyi işaretleyiniz.

1. My brother Jack works at a restaurant. He ---- a waiter.

- A) is B) am C) are D) does

2. My sister is a teacher and ---- name is Tina.

- A) my B) his C) her D) their

3. Salesman : What size ---- your jumper?  
Customer : Large.

- A) were B) do C) are D) is

4.

tall	x	short
poor	x	----
thin	x	----

- A) rich / fat B) new / old  
C) hot / cold D) old / young

5. We have a car but ---- is very old.

- A) I B) it C) we D) you

6. ---- has got a mobile phone?

- A) Which B) Where  
C) What D) Who

7. Ethan : Can you ride a horse?

Jason : No, I can't, but ----.

- A) I can ride a horse  
B) I can't ride a horse  
C) I can ride a motorbike  
D) I can't ride a motorbike

8.



The bicycle shop is ---- the supermarket and the bookstore.

- A) in front of B) between  
C) behind D) under

9. Max : Excuse me, ----?

Tom : It is half past nine.

- A) how are you B) how old are you  
C) what is his name D) what is the time

10.



It is ----.

- A) quarter past eleven B) quarter to eleven  
C) quarter past ten D) quarter to ten

11. A: What ---- are you?

B: I am German.

- A) country B) nationality  
C) city D) number

12. ---- names are Jack and Jill.

- A) His B) Her C) Their D) Its

13. Is ---- a chair?

- A) this B) they C) these D) those

14. A: What is this?

B: - - - -.

- A) They are cars      B) Those are cars  
C) These are cars      D) It is a car

15. David - - - - a new watch.

- A) have      B) don't have  
C) haven't got      D) has got

16. A: Whose umbrella is it?

B: It is - - - -.

- A) an umbrella      B) Mike's umbrella  
C) Mike's umbrellas      D) Mike's umbrella's

17. My brother is tall. He can - - - - basketball.

- A) speak      B) drive      C) play      D) draw

18. Today is Tuesday and tomorrow is - - - -.

- A) Friday      B) Monday  
C) Saturday      D) Wednesday

19. - - - - your brother go to the cinema at the weekends?

- A) Do      B) Does      C) Is      D) Has

20. - - - - students are there in the classroom?

- A) Who      B) How  
C) How many      D) How much

### (634) ALMANCA – 6

1-15. sorularda boş bırakılan yere uygun gelen ek, kelime ya da ifadeyi işaretleyiniz.

1. A: Wer ist sie?

B: Sie - - - - Karin.

- A) bist      B) ist      C) sind      D) seid

2. A: Woher kommt er?

B: Er kommt - - - - Spanien.

- A) aus      B) bei      C) ins      D) zum

3. A: - - - - ist sie?

B: Sie ist 12.

- A) Wer      B) Wo  
C) Wie alt      D) Wie oft

4. A: Warum lebst du in Izmir?

B: Ich lebe in Izmir, - - - - es dort schön ist.


- A) denn      B) oder      C) ob      D) weil

5. Der Bleistift gehört - - - -.



- A) meiner Freund  
B) mein Freunden  
C) meinem Freund  
D) meine Mutter

6. Paul ist - - - - als Can.



Paul

Can

- A) dicker      B) dünner  
C) länger      D) kurz

7. Heidi ist nicht so schnell - - - - Peter.

- A) als      B) wie      C) um      D) mit

8. Das Haus ist klein, das Auto ist kleiner, aber das Fahrrad ist - - - - (superlative)

- A) groß      B) am größten  
C) klein      D) am kleinsten

9. Der Junge hat - - - - Schuhe.

- A) neu B) neues  
C) neue D) neuen

10. Der Junge hat eine - - - - an. (Pantolon)



- A) Hose B) Kleid  
C) Brille D) Hut

11. A: Was - - - - sie im Supermarkt ein?  
B: Milch.

- A) essen B) geht  
C) ist D) kauft

12. A: - - - - kommst du?  
B: Ich komme - - - - Mersin.

- A) Wann / um B) Wie / bis  
C) Woher / aus D) Von / bis

13. Zweiunddreißig, - - - -, vierunddreißig

- A) dreiundzwanzig  
B) sechunddreißig  
C) achtundzwanzig  
D) dreiunddreißig

14. A: Wie geht es deiner Mutter?  
B: Danke, - - - -.

- A) es geht ihm gut  
B) es geht uns gut  
C) es geht ihr gut  
D) es geht mir gut

15. A: Was - - - - Sie heute Abend?  
B: Eine Suppe, Fisch und Salad.


- A) essen B) isst  
C) esse D) esst

16. Was machen die Kinder?



- A) schwimmen B) tanzen  
C) schlafen D) essen

17. Wie spät ist es?



- A) zehn vor neun  
B) zehn vor acht  
C) zehn nach neun  
D) zehn nach acht

18. Was ist das?



- A) Stuhl B) Tisch  
C) Kühlschrank D) Fernseher

19. Aşağıdakilerden hangisinin çoğul eki doğru verilmiştir?

- A) Das Buch – Der Buch  
B) Das Haus – Die Häuser  
C) Der Mann – Des Mannes  
D) Der Stift – Die Stiften

20. “neunundzwanzig” sayısı aşağıdakilerden hangisidir?

- A) 19 B) 29 C) 39 D) 49



(634) FRANSIZCA – 6

1-15. sorularda boş bırakılan yere uygun gelen kelime ya da ifadeyi işaretleyiniz.

1. - - - - êtes suisse.

- A) Nous B) Elles  
C) Tu D) Vous

2. Marc : Tu as quel âge ?

Berk : - - - -.

- A) Je suis étudiant  
B) J'ai dix-huit ans  
C) J'habite à La Rochelle  
D) Je parle trois langues

3. Marie : - - - - ?

Sabri : Elle est canadienne.

- A) Elle a quel âge  
B) Quelle est son adresse  
C) Quelle est sa nationalité  
D) Où habite-t-elle

4. Aline : - - - - va votre mari ?

Arzu : Il va très bien, merci.

- A) Comment B) Parce que  
C) Pourquoi D) Quelle

5. Sabine et Sylvie sont belges, mais elles - - - - à Rome.

- A) habitent B) habitons  
C) ont D) avez

6. Sophia - - - - très bien français et un peu espagnol.

- A) parlé B) parlez  
C) parle D) parler

7. Ma fille étudie - - - - Los Angeles - - - - États-Unis.

- A) à / au B) en / au  
C) en / à D) à / aux

8. Dans les pâtisseries, on vend - - - -.

- A) du poisson rouge  
B) des gâteaux  
C) des légumes  
D) des chaussures de sport

9. - - - - est le mont Fuji ?

- A) Combien B) Ou  
C) Quand D) Où

10. Chantal : Tu es marié ?

Pierre : Non, je suis - - - -.

- A) beau  
B) divorcé  
C) avocat  
D) un jeune homme

11. Koray : Tu montes sur la montgolfière ?  
Camille : Non, je - - - - sur la montgolfière.

- A) ne pas monter  
B) est monté  
C) ne monte pas  
D) monter

12. Maman : Ta copine, - - - - elle s'appelle ?  
André : Elle s'appelle Laura.

- A) où B) pourquoi  
C) comment D) quel

13. Alice : Pourquoi ta femme ne fait pas de sport ?  
Patrick : - - - - elle n'aime pas ça.

- A) Combien B) Comment  
C) Quelle D) Parce que (qu')

14. Alpay : Tu ranges ta chambre ?

Laurent : Oui, je - - - - range souvent.

- A) les B) la C) lui D) le

15. Daniel : Est-ce qu'il y a des livres en latin dans la bibliothèque ?

Lucie : Non, il n'y a pas - - - - livres en latin dans la bibliothèque.

- A) le B) des C) de D) la

16 - 17. soruları planı dikkate alarak cevaplayınız.

PARKING		HÔTEL	CAFÉ	KIOSQUE À JOURNAUX
RUE DE LA FONTAINE				
POSTE	BOULANGERIE	CABINET MÉDICAL	PHARMACIE	BANQUE

16. - - - - est entre la boulangerie et la pharmacie.

- A) Le cabinet médical B) L'hôtel  
C) Le café D) Le parking

17. La poste est - - - -.

- A) en face du parking  
B) derrière le kiosque à journaux  
C) à côté du café  
D) devant l'hôtel


18 - 20. soruları resimleri dikkate alarak cevaplayınız.

18.



- A) Il est huit heures et demie.  
B) Il est huit heures.  
C) Il est huit heures moins le quart.  
D) Il est huit heures et quart.

19.



Il est - - - -.

- A) boulanger B) cuisinier  
C) infirmier D) architecte

20.



Elle est - - - - et elle a les cheveux - - - -.

- A) souriante / courts et blonds  
B) sérieuse / longs et ondulés  
C) gaie / courts et frisés  
D) brune / courts et raides

### (635) DİN KÜL. VE AHLAK BİLGİSİ – 6

1. Aşağıdakilerden hangisi farz namazlardan değildir?

- A) Beş vakit namaz B) Teravih namazı  
C) Cenaze namazı D) Cuma namazı

2. Zebur hangi peygambere gönderilmiştir?

- A) Hz. İsa B) Hz. Musa  
C) Hz. Davut D) Hz. Süleyman

3. Peygamberimizin dinin direği olarak ifade ettiği ibadet aşağıdakilerden hangisidir?

- A) Namaz B) Oruç  
C) Zekât D) Hac

4. Bedir Savaşı'nda esir düşen bazı Mekkelilerin 10 müslüman çocuğa okuma yazma öğretmeleri karşılığı serbest bırakılması Hz. Muhammed'in (sav.) hangi özelliğini ön plana çıkarmaktadır?

- A) Hoşgörülü olma  
B) İnsanları birlik ve beraberliğe çağırma  
C) Toplum içinde barış ve huzuru sağlama  
D) Eğitim-öğretim faaliyetlerine önem verme

**5. Aşağıdakilerden hangisi peygamberlerin insanlardan seçilme nedenini açıklar?**

- A) "Senden önce gönderdiğimiz her peygambere; "Şüphesiz, benden başka ilah yoktur." öyleyse bana ibadet edin." diye vahyetmişizdir."  
(Enbiya suresi, 25. ayet)
- B) "...Eğer yeryüzünde yurt tutup dolaşanlar melekler olsaydı o zaman onlara elçi olarak şüphesiz gökten bir melek indirirdik."  
(İsra suresi, 95. ayet)
- C) "Peygamber, Rabbi tarafından kendisine indirilene iman etti, müminler de (iman ettiler)..."  
(Bakara suresi, 285. ayet)
- D) "Böylece sizi orta bir ümmet yaptık ki insanlara şahit olasınız. Elçi de size şahit olsun..."  
(Bakara suresi, 143. ayet)

**6. Peygamberlerin sıfatlarıyla ilgili aşağıdaki eşleştirmelerden hangisi yanlıştır?**

- A) Zeki olmak → İsmet  
B) Doğru olmak → Sıdk  
C) Güvenilir olmak → Emanet  
D) Allah'tan aldıkları vahyi topluma ulaştırmak → Tebliğ

**7. Türk-İslam kültürünün en önemli eserlerinden biri olarak kabul edilen ve tasavvuf düşüncesinin ana konularının ele alındığı "Mesnevi" adlı eser aşağıdakilerden hangisine aittir?**

- A) Fuzulî  
B) Ahmet Yesevi  
C) Hacı Bektaş Veli  
D) Mevlana Celaleddin-i Rumi

**8. Hastalığa gösterdiği sabırdan dolayı, Kur'an-ı Kerim'in bize örnek gösterdiği peygamber aşağıdakilerden hangisidir?**

- A) Hz. Yusuf  
B) Hz. Şuayb  
C) Hz. Eyüp  
D) Hz. Davut

**9. Aşağıdaki şahsiyetlerden hangisi fıkıh alanında meşhurdur?**

- A) Maturidi  
B) Ebu Hanife  
C) Yunus Emre  
D) Ahmet Yesevi

- 10.** • Kiblenin belirlenmesi  
• Namaz vakitlerinin belirlenmesi  
• Zekatın hesaplanması ve mirasın bölünmesi

**Müslümanların bu problemleri çözüme kavuşturmalarında aşağıdaki bilim dallarından hangisine ihtiyaçları yoktur?**

- A) Tarih  
B) Astronomi  
C) Coğrafya  
D) Matematik

**11. Peygamber isimlerinden sonra yazılan "as."nin açılımı aşağıdakilerden hangisidir?**

- A) Aleykum selam  
B) Allahümme salli  
C) Aleyhisselam  
D) Allah senden razı olsun

**12. Peygamberlerin aşağıdaki sıfatlarından hangisi onların ilahi mesajı iletme görevlerini ifade etmektedir?**

- A) İsmet  
B) Fetanet  
C) Emanet  
D) Tebliğ

**13. Dört rekat kılınan aşağıdaki sünnet namazlardan hangisinin ilk oturuşunda salli ve barik duaları okunmaz?**

- A) Öğle namazının sünnetinde  
B) İkinci namazının sünnetinde  
C) Yatsı namazının sünnetinde  
D) Teravih namazında

**14. Hz. Muhammed'in (sav.) hicreti ile ilgili aşağıda verilen bilgilerden hangisi doğrudur?**

- A) Hz. Muhammed'in (sav.) yol arkadaşı Hz. Ali'dir.  
B) Yolculuk esnasında Sevr Mağarası'nda üç gün gizlenmişlerdir.  
C) Hz. Muhammed'in (sav.) emanetlerini sahipleri-ne Hz. Ebu Bekir dağıtmıştır.  
D) Medine'ye girişte Uhut Dağı'nda bir süre kalmış ve burada bir mescit yaptırmıştır.

**15. Muavvizeteyn yani "İki koruyucu" olarak da isimlendirilen sureler hangileridir?**

- A) Kureyş - Nasr  
B) Yasin - Fatiha  
C) Kevser - İhlas  
D) Felak - Nas

16. Batılıların Aristo'dan sonra en büyük felsefeci kabul ettikleri ve "Muallim-i Sani" olarak isimlendirdikleri âlim hangisidir?

- A) Zemahşeri B) Uluğ Bey  
C) Farabi D) Ali Kuşçu

17. Aşağıdakilerden hangisi namazın kılınış şartlarından (namazın içindeki farzlardan) biridir?

- A) Necasetten taharet  
B) Hadesten taharet  
C) Setr-i avret  
D) İftitah tekbiri

18. Aşağıdakilerden hangisi namaz abdestinin farzlarından biri değildir?

- A) Ayakları topuklarla beraber yıkamak  
B) Elleri dirseklerle birlikte yıkamak  
C) Kulak içlerini temizlemek  
D) Yüzü yıkamak

19. Peygamberimizin ölüm yeri ve yılı hangi seçenekte doğru verilmiştir?

- A) Medine - 632 B) Mekke - 630  
C) Mekke - 628 D) Medine - 626

20. Hz. Muhammed'e (sav.) ilk inen ayetler hangi surede yer almaktadır?

- A) Fatiha B) Alak  
C) Bakara D) Yasin

### (730) TÜRKÇE – 7

1. Aşağıdaki altı çizili sözcüklerden hangisi mecaz anlamıyla kullanılmıştır?

- A) Her gün kırda dolaşmayı çok sever.  
B) Bizim şairlerimiz sanatın sanat için olduğuna inanırlar.  
C) Böyle bir yolculuğa katlanacak hâlde değildi.  
D) Nefes nefese koşan anneme, başını çevirmeden cevap verdi.

2. Aşağıdaki atasözlerinin hangisinde karşıt anlamlı sözcükler bir arada kullanılmamıştır?

- A) Dost başa, düşman ayağa bakar.  
B) Borç yiyen kesesinden yer.  
C) Saçın ak mı kara mı önüne düşünce görürsün.  
D) Alçak yerde yatma sel alır, yüksek yerde yatma yel alır.

3. "Yol" sözcüğü aşağıdaki cümlelerin hangisinde bir deyim içerisinde kullanılmıştır?

- A) Yolda oynayan çocuklara ne olduğunu sordu.  
B) Bahçe ile ev arasında bir toprak yol vardı.  
C) Eskişehir'e gitmek için bu yolu tercih ediyorlar.  
D) İyi davranışıyla arkadaşlarına yol gösteriyordu.

4. Tavşan dağa küsmüş, dağın haberi olmamış. Bu atasözü aşağıdaki tutum ve davranışlardan hangisiyle eşleştirilebilir?

- A) Hâlden anlamamak  
B) Umudunu kaybetmemek  
C) Umrunda olmamak  
D) Affetmek

5. Tüyden hafif olurum böyle sabahlar;  
Karşı damda bir güneş parçası,  
İçimde kuş cıvıltıları, şarkılar;  
Bağıra çağıra düşerim yollara;  
Döner döner durur başım havalarda.

Bu şiirin ana duygusu aşağıdakilerden hangisidir?

- A) Mutluluk B) Özlem  
C) Merak D) Cesaret

6. Aşağıdaki cümlelerin hangisinde benzetme vardır?

- A) Küçük kızın dişleri oldukça beyazdı.  
B) Yüzü bir kır çiçeği gibi güzeldi.  
C) Kardeşimin aldığı hediye çok beğendim.  
D) Bizim kapımız herkese açıktır.

7. Amacı "Dinlenenlerin yorumlanması ve bunlardan yeni düşünceler üretilmesi" olan dinleme yöntemi ve tekniği aşağıdakilerden hangisidir?

- A) Empati kurma B) Katılımlı dinleme  
C) Not alarak dinleme D) Yaratıcı dinleme

8. İki hafta sonra, aynı saatte Ali Bey dükkânın önünde görüldü. Namık Efendi, bir dilekçe yazıyordu. Müşterisini görünce güldü.

Bu metindeki altı çizili ifade, hikâyenin hangi unsurudur?

- A) Zaman B) Olay  
C) Yer D) Şahıs

9. Kendinize ille de bir dost bulmak isterseniz onu kitaplar arasında aramalısınız. Her şeyden, herkesten vefasızlık gelir; kitaplardan gelmez. Dahası insanoğlu dost bellediği bir kitaptan uzaklaşmak istese bile, bilir ki o kitap canciğer oluşlarından önce neyse sonra da odur.

**Bu metnin ana fikri aşağıdakilerden hangisidir?**

- A) İnsanlar kitaplardan uzaklaşmak istemez.  
B) Kitaplar en vefalı dostlardır.  
C) Kitapların dostluğu kısa sürelidir.  
D) İnsana herkesten kötülük gelebilir.

10. Okuma ve birlikte çalışma becerilerinin geliştirilmesi amaçlanır. Bir şiirin ya da düz yazının belli bölümlere ayrılarak bir grup tarafından birlikte okunmasıdır.

**Bu açıklama, aşağıdaki okuma yöntemlerinin hangisine aittir?**

- A) Söz korusu  
B) Tahmin ederek okuma  
C) Özetleyerek okuma  
D) Metinlerle ilişkilendirme

11. 1. Bu yüzden bütün kuşlar bu ağaca konuyor.  
2. Sadece bir ağaç kaldı.  
3. Onu da keserlerse, sokağımıza kuşlar uğramaz olur.  
4. Sokağımızdaki ağaçları kestiler.

**Numaralanmış cümlelerle anlamlı bir paragraf oluşturulduğunda sıralama nasıl olmalıdır?**

- A) 3-2-4-1  
B) 4-2-1-3  
C) 2-1-3-4  
D) 1-2-3-4

12. Bir kimsenin, özellikle tanınmış kişilerin yaşadıkları dönemde gördükleri ya da yaşadıkları ilginç olayları gözlemlerine ve bilgilerine dayanarak anlattıkları yazı türü aşağıdakilerden hangisidir?

- A) Tutanak  
B) Öykü  
C) Söyleşi  
D) Anı

13. Çalı kuşu gibi daldan dala konan kararsız bir çocuktur.

**Bu cümledeki altı çizili deyimın anlamı aşağıdakilerden hangisidir?**

- A) Sık sık iş, konu veya düşünce değiştirmek  
B) Güvenilecek, dayanılacak bir insana ihtiyaç duymak  
C) Bir düşünce veya hayal ile bulunduğu ortamdan uzaklaşmak  
D) Birinin dalgınlığından faydalanıp kendi istediğini gerçekleştirmek

14. Aşağıdaki altı çizili sözcüklerden hangisi bir terimdir?

- A) Son yağmurlar biraz yüzümüzü güldürdü.  
B) Bu iş ancak bir ay sonra biter.  
C) Derste dörtgen konusunu işledik.  
D) İnsanlar, kerpiç evlerin damlarına çıkmışlardı.

15. Aşağıdakilerin hangisinde fiil, olumlu soru şeklinde çekimlenmiştir?

- A) Söyledi mi  
B) İçmez  
C) Gelmeyelim mi  
D) Biliyor

16. Vurgulanmak istenen sözcük yüklemın hemen önünde yer alır.

**Buna göre "Aslı memleketine yarın gidecekmiş." cümlesinde hangi sözcük vurgulanmak istenmiştir?**

- A) Aslı  
B) memleketine  
C) yarın  
D) gidecekmiş

17. Aşağıdaki cümlelerden hangisinin sonuna soru işareti (?) konmalıdır?

- A) Metni önce sessiz, sonra sesli okumalıyız  
B) Kurtuluş, bilimsel düşünüşe dayalı eğitimle olur  
C) Atatürk, TBMM'yi açış konuşmasında şöyle der  
D) Sağlıklı yaşamının yolu dengeli beslenmeden mi geçer

18. Aşağıdakilerin hangisinde fiil (eylem) yoktur?

- A) Gel kardeşim.  
B) Sevelim, birlik olalım.  
C) Yarınlar selam salalım.  
D) Mutluluk bizim de hakkımız.

19. Aşağıdaki altı çizili sözcüklerden hangisi zaman zarfıdır?

- A) Aslı içeride resim yapıyor.  
B) Kışın Erciyes'te kayak yapacağız.  
C) Bunca yolu koşarak nasıl gideriz?  
D) Bana biraz okulundan bahseder misin?

20. Aşağıdaki cümlelerin hangisinde sayıların yazımıyla ilgili bir yanlışlık yapılmıştır?

- A) Merdivenleri ikişer ikişer çıkıyordu.  
B) İki hafta sonra izne ayrılacaktım.  
C) Projeyi otuziki günde bitirebildi.  
D) Yarışma yarın 11.00'de başlayacak.

### (731) MATEMATİK – 7

1.  $(-12) \cdot (-1) \cdot (-2)$  işleminin sonucu kaçtır?

- A) -24 B) -12 C) 12 D) 24

2.  $\frac{2}{7}, -\frac{1}{2}, -\frac{3}{8}$  sayılarının doğru sıralanışı aşağıdakilerden hangisinde verilmiştir?

- A)  $\frac{2}{7} < -\frac{3}{8} < -\frac{1}{2}$   
B)  $-\frac{3}{8} < -\frac{1}{2} < \frac{2}{7}$   
C)  $\frac{2}{7} < -\frac{1}{2} < -\frac{3}{8}$   
D)  $-\frac{1}{2} < -\frac{3}{8} < \frac{2}{7}$

3.  $1 + \frac{1}{3}$  işleminin sonucu kaçtır?

- A)  $\frac{5}{2}$  B)  $\frac{5}{3}$  C)  $\frac{13}{5}$  D)  $\frac{12}{5}$

4. 2 saatte 350 ekmek üretilen bir fırında 4 saatte kaç ekmek üretilir?

- A) 1400 B) 1000 C) 700 D) 500

5. Bir ürünün etiket fiyatı üzerinden %50 indirim yapılıyor.

İndirimli fiyatı 84 lira olan bu ürünün etiket fiyatı kaç liradır?

- A) 160 B) 168 C) 175 D) 178

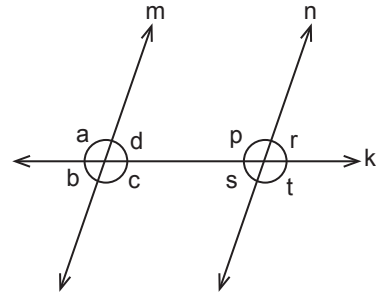
6. Aşağıdakilerden hangisi 8 ile çarpılırsa çarpım 8! şeklinde yazılabilir?

- A) 1! B) 7! C) 8! D) 9!

7. Yarıçapının uzunluğu 4 cm olan dairenin alanı kaç santimetrekaredir? ( $\pi$  yerine 3 alınız.)

- A) 30 B) 36 C) 40 D) 48

8.

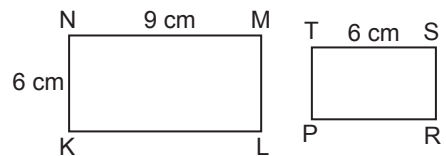


Yukarıdaki şekilde  $m \parallel n$  ve  $a > 90^\circ$  dir.

Buna göre aşağıda verilen açılardan hangi ikisi bütündür?

- A) t ve c B) r ve b C) d ve s D) b ve p

9.

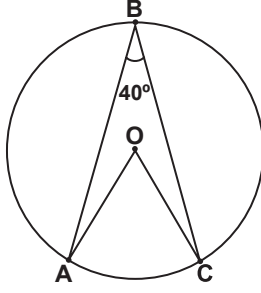


Yukarıdaki şekilde KLMN ve PRST dikdörtgenleri birbirine benzerdir.

$|PT| < |TS|$  olduğuna göre  $|PT|$  kaç santimetredir?

- A) 3 B) 4 C) 5 D) 6

10.

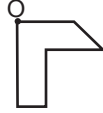


Yukarıdaki O merkezli çemberde A, B ve C noktaları çember üzerindedir.

$s(\widehat{ABC}) = 40^\circ$  olduğuna göre  $s(\widehat{AOC})$  kaç derecedir?

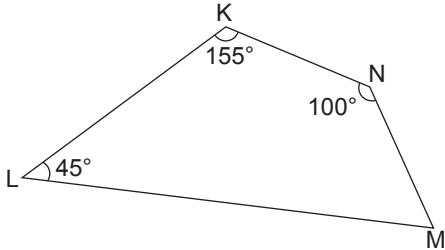
- A) 20      B) 40      C) 80      D) 140

11. Aşağıdakilerden hangisi yandaki şeklin O noktası etrafında saat yönünde  $270^\circ$  döndürülmesiyle elde edilebilir?



- A)      B)
- C)      D)

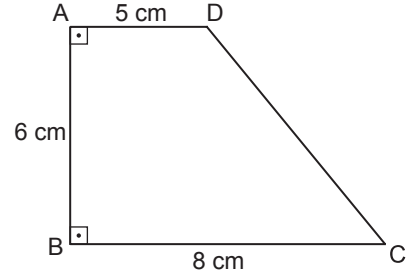
12.



Yukarıdaki şekilde verilenlere göre  $s(\widehat{LMN})$  kaç derecedir?

- A) 40      B) 50      C) 60      D) 70

13.



Şekilde  $[AD] \parallel [BC]$  ve  $[AB] \perp [BC]$  'tir.

Verilenlere göre ABCD yamuğunun alanı kaç santimetrekaredir?

- A) 30      B) 33      C) 36      D) 39

14. Silindirik şeklindeki bir ilaç kutusunun taban yarıçapının uzunluğu 2 cm ve yüksekliği 6 cm'dir.

Bu kutunun hacmi kaç santimetreküptür? ( $\pi$  yerine 3 alınız.)

- A) 216      B) 72      C) 36      D) 12

15. Yarıçapının uzunluğu 18 cm olan çemberin  $90^\circ$  lik merkez açısının gördüğü çember yayının uzunluğu kaç santimetredir? ( $\pi$  yerine 3 alınız.)

- A) 27      B) 30      C) 33      D) 36

16. 15, 34, 22, 17, 22, 17, 34, 22

Yukarıdaki veri grubunun tepe değeri kaçtır?

- A) 15      B) 17      C) 22      D) 34

17.  $6x - 12$  cebirsel ifadesi ile  $40 + 2x$  cebirsel ifadesinin toplamı aşağıdakilerden hangisidir?

- A)  $4x + 52$       B)  $8x + 52$   
C)  $46x - 24$       D)  $8x + 28$

18. Bir sınıftaki 24 öğrenciden 8'i gözlüklüdür.

Bu sınıftan rastgele seçilen iki öğrenciden birincinin gözlüklü diğeri gözlüksüz olma olasılığı kaçtır?

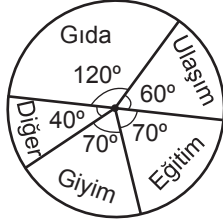
- A)  $\frac{16}{69}$       B)  $\frac{16}{33}$       C)  $\frac{8}{24}$       D)  $\frac{8}{23}$



19. Aşağıdaki noktalardan hangisi, denklemi  $y = 2x - 3$  olan doğru üzerinde değildir?

- A)  $(-1, -5)$  B)  $(0, -3)$   
C)  $(2, 1)$  D)  $(-3, 6)$

20. **Grafik:** Ahmet'in Maaşının Aylık Harcamalara Dağılımı



Maaşı 3600 TL olan Ahmet'in bir aylık harcamaları yukarıdaki grafikte gösterilmiştir.

Buna göre gıda için ayrılan harcama eğitim için ayrılan harcamadan kaç lira fazladır?

- A) 500 B) 600 C) 700 D) 1200

### (732) FEN BİLİMLERİ – 7

1. Yayların özellikleri ile ilgili verilen;

- I. Kuvvetin etkisi ile şekilleri hiçbir zaman değişmez.  
II. Kuvvetin etkisi ile gerilip sıkıştırılabilir.  
III. Uzama miktarı uygulanan kuvvetle doğru orantılıdır.

bilgilerinden hangileri doğrudur?

- A) Yalnız I B) Yalnız III  
C) II ve III. D) I, II ve III.

2. I. Hareket hâlindeki araba → Kinetik enerji  
II. Dalında duran elma → Çekim potansiyel enerjisi  
III. Sıkıştırılmış yay → Kinetik enerji  
IV. Rafta duran kitap → Çekim potansiyel enerjisi

Yukarıda verilen cisimler ve sahip olduğu enerji eşleştirmelerinden hangileri doğrudur?

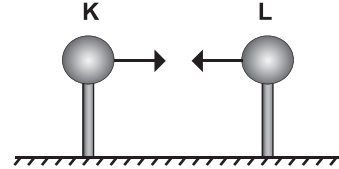
- A) Yalnız I B) II ve III.  
C) I, II ve IV. D) II, III ve IV.

3. I. Newton  
II. Newton × metre  
III. Joule

Yukarıda verilenlerden hangileri iş birimi olarak kullanılır?

- A) Yalnız I B) Yalnız III  
C) I ve II. D) II ve III.

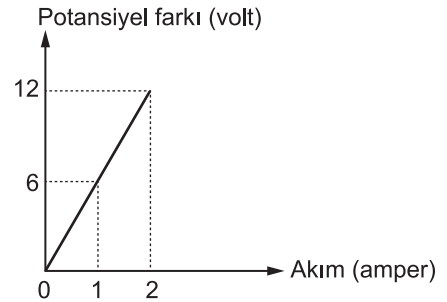
4. Şekildeki elektrik yüklü K ve L küreleri birbirine çekme kuvveti uyguluyor.



Buna göre kürelerin yükleri aşağıdakilerden hangisi olabilir?

	K	L
A)	+	+
B)	+	—
C)	—	—
D)	nötr	nötr

5. Fen Bilimleri dersinde öğrencilerin kurduğu elektrik devresinin potansiyel farkı-akım grafiği verilmiştir.



Buna göre devrenin direnci kaç ohm'dur?

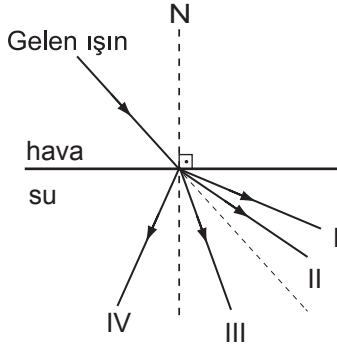
- A) 2 B) 6 C) 12 D) 24

6. Aşağıdaki ışık türlerinden hangisi gözümüzle görebildiğimiz ışıktır?

- A) Beyaz ışık B) X ışını  
C) Mor ötesi D) Gama ışını



7. Şekilde hava ortamından su ortamına gönderilen bir ışık ışını gösterilmiştir.



Buna göre gelen ışın su ortamına geçtiğinde kaç numaralı yolu izler?

- A) I B) II C) III D) IV

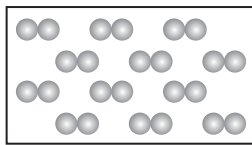
8. Dünya'ya en yakın yıldız aşağıdakilerden hangisidir?

- A) Küçük ayı B) Büyük ayı  
C) Kutup yıldızı D) Güneş

9. Atom ile ilgili verilen bilgilerden hangisi doğrudur?

- A) Bir elementin tüm atomları aynı sayıda proton içerir.  
B) Proton sayısı kütle numarasına eşittir.  
C) Elektronlar yüksüz taneciklerdir.  
D) Nötronlar artı (+) yüklü taneciklerdir.

10. Şekilde oksijen elementinin molekül modeli verilmiştir.



Buna göre oksijen molekülü ile ilgili aşağıdakilerden hangisi söylenemez?

- A) Saf maddedir.  
B) Molekül formülü OH dir.  
C) Her bir molekül aynı özellik gösterir.  
D) İki aynı cins element atomunun bağlanmasıyla oluşmuştur.

11. • Moleküler yapıli bileşiktir.  
• Aralarında kovalent bağ vardır.  
• İki hidrojen bir oksijen atomundan oluşmuştur.

Verilen özellikler formülle gösterilen hangi bileşiğe aittir?

- A) CO<sub>2</sub> B) OH  
C) NH<sub>3</sub> D) H<sub>2</sub>O

12. Bir bardak su içine bir tane kesme şeker atılarak elde edilen seyreltik çözelti ile ilgili aşağıdakilerden hangisi söylenir?

- A) Bir miktar su eklenirse daha seyreltik hâle gelir.  
B) Bir kaç şeker atılırsa daha seyreltik hâle gelir.  
C) Çözünen miktarı çözücü miktarından fazladır.  
D) Çözünen ve çözücü madde miktarı eşittir.

13. Aşağıdakilerden hangisi çok atomlu iyondur?

- A) Ca<sup>2+</sup> B) Li<sup>+</sup> C) S<sup>2-</sup> D) OH<sup>-</sup>

14. Aşağıda verilenlerden hangisi çözelti örneği değildir?

- A) Lehim B) Gazoz  
C) Su - kum karışımı D) Şeker - su karışımı

15. • Bu göz kusuru olan gözlerde görüntü sarı lekenin arkasında oluşmaktadır.  
• Bu göz kusurunda yakındaki cisimler net görülemez.

Özellikleri verilen göz kusuru ve tedavisinde kullanılacak mercek aşağıdakilerin hangisinde birlikte verilmiştir?

- A) Hipermetrop - Kalın kenarlı mercek  
B) Hipermetrop - İnce kenarlı mercek  
C) Miyop - Kalın kenarlı mercek  
D) Miyop - İnce kenarlı mercek

16. Aşağıdakilerden hangisi deride vücut sıcaklığının sabit kalmasına yardımcı olan yapılardan değildir?

- A) Kıl kökleri B) Ter bezleri  
C) Kan damarları D) Yağ bezleri

17. Aşağıdakilerden hangisi hipofiz bezinin görevlerinden değildir?

- A) Büyüme hormonu salgılamak.
- B) Tüm salgı bezlerinin çalışmasını düzenlemek.
- C) Kanla hücreler arasındaki şeker geçişini düzenlemek.
- D) İç salgı bezleri ile sinir sistemi arasındaki uyumu sağlamak.

18. • Besinler burada uzun süre bekletilir.  
• Proteinlerin kimyasal sindirimi burada başlar.  
• Hem mekanik hem de kimyasal sindirim gerçekleşir.

Yukarıda bazı görevleri verilen organ hangisidir?

- A) İnce bağırsak
- B) Kalın bağırsak
- C) Ağız
- D) Mide

19. Mısır → Çekirge → Kurbağa → Yılan → Baykuş  
Yukarıda verilen besin zincirinin bulunduğu bir bölgede yapılan çalışmalarla çekirge sayısı azalıyor. **Bunun sonucunda öncelikle hangi canlının sayısında azalma görülür?**

- A) Mısır
- B) Kurbağa
- C) Yılan
- D) Baykuş

20. Aşağıdakilerden hangisi ülkemizdeki biyolojik zenginliğin nedenlerinden değildir?

- A) Coğrafi konum ve iklim farklılığının fazla olması
- B) Bazı kuş türlerinin, göç yolları üzerinde bulunması
- C) Erozyon olayının hızlı bir şekilde yaşanması
- D) Bitki ve hayvan türlerinin fazla sayıda olması

### (733) SOSYAL BİLGİLER – 7

1. Aşağıdakilerden hangisi iletişimde "Sen" dilinin özelliklerindendir?

- A) Anlaşmazlıkları azaltır.
- B) Karşı tarafı savunmaya iter.
- C) Konuşan kişiyi rahatlatır.
- D) Suçluluk hissettirmez.

2. Aşağıdaki illerimizin hangisinde görülen nüfus yoğunluğunun nedeni sanayisinin gelişmiş olmasıdır?

- A) İzmir
- B) Antalya
- C) Erzurum
- D) Şanlıurfa

3. Aşağıdakilerden hangisi en fazla göç alan ille-  
rimizden biri değildir?

- A) Adana
- B) Bursa
- C) Ankara
- D) Muş

4. Anadolu kapılarının Türklere açılmasını sağlayan savaş aşağıdakilerden hangisidir?

- A) Miryokefalon
- B) Pasinler
- C) Malazgirt
- D) Köseadağ

5. Osmanlı Devleti ilk kez hangi dönemde Viyana, Paris gibi Avrupa başkentlerine elçiler göndermiştir?

- A) Tanzimat Dönemi
- B) I. Meşrutiyet Dönemi
- C) II. Meşrutiyet Dönemi
- D) Lale Devri

6. Sanayi İnkılabı ilk kez aşağıdaki ülkelerden hangisinde başlamıştır?

- A) Almanya
- B) İngiltere
- C) Fransa
- D) Rusya

7. Birinci Dünya Savaşı'nda Mustafa Kemal'in askerî başarılarıyla tüm dünyada tanındığı cephe aşağıdakilerden hangisidir?

- A) Çanakkale
- B) Kafkas
- C) Filistin
- D) Irak

8. Ülkemizde radyo ve televizyon yayınlarını düzenleyen ve denetleyen kuruluşun kısa adı aşağıdakilerden hangisidir?

- A) TRT
- B) PTT
- C) RTÜK
- D) AA

9. Aşağıdakilerden hangisi ülkemizde nüfus yoğunluğunun farklı dağılmasına sebep olan unsurlardan biri değildir?

- A) Dağlar
- B) Ormanlar
- C) Yağış miktarı
- D) İl sınırları

10. Aşağıdaki illerimizden hangisinin nüfusu, yaz mevsiminde turizm faaliyetlerine bağlı olarak artış gösterir?

- A) Ankara B) Bayburt  
C) Muğla D) Kayseri

11. Önemli kara ve deniz ticaret yolları üzerinde bulunması nedeniyle İstanbul'un fethi, Osmanlı Devleti'ne aşağıdaki alanlardan hangisine daha fazla katkı sağlar?

- A) Ekonomik B) Askerî  
C) Dini D) İdari

12. "İstanbul tuhaf bir şehir. Dört millet bir arada yaşıyor ve birbirlerinden nefret etmiyorlar..."

Gerard de Nerval  
Fransız Edebiyatçısı

Fransız edebiyatçısı, yukarıdaki anlatımıyla Osmanlı toplumunun hangi özelliğine vurgu yapmaktadır?

- A) Çalışkanlığına B) Savaşçılığına  
C) Hoşgörüsüne D) Zenginliğine

13. Devletlerin yasama ve yargı dışındaki diğer temel görevi, aşağıdakilerden hangisidir?

- A) Medya B) Yürütme  
C) Kamuoyu D) Muhalefet

14. Sivas Kongresi'nden sonra halkın Millî Mücadele'ye desteğini sağlamak için, 14 Eylül 1919'da çıkarılmaya başlayan gazete aşağıdakilerden hangisidir?

- A) İradeyimilliyе B) Sebilürreşad  
C) Hakimiyetimilliyе D) Minber

15. Aşağıdakilerden hangisi Haçlı Seferleri'nin ekonomik nedenini oluşturur?

- A) Papa II. Urban'ın Haçlı Seferlerine katılacakların günahlarının affolunacağını söylemesi  
B) Malazgirt Zaferi'nden sonra Anadolu'yu fetheden Türklerin Balkanlara geçmesinin önlenmek istenmesi  
C) 11. yüzyılda Avrupa'nın yoksulluk ve sefalet içinde olmasına karşılık İslam dünyasının ileri ve zengin durumda olması  
D) Bizans'ın Türklerle karşı Haçlıları yardıma çağırması

16. Anadolu'daki Türk beyliklerinin çoğunu hakiyetine alarak ilk kez siyasi birliği sağlayan padişah aşağıdakilerden hangisidir?

- A) Fatih Sultan Mehmet  
B) Orhan Bey  
C) II. Murat  
D) Yıldırım Bayezit

17. Aşağıdakilerden hangisinin yıldönümü olan 28 Eylül, her yıl "Türk Denizcilik Günü" olarak kutlanmaktadır?

- A) Preveze Deniz Zaferi  
B) Kıbrıs Adası'nın fethi  
C) İnebahtı Deniz Savaşı  
D) Çeşme Baskını

18. Hümanizm, bilim ve sanatta - - - - esas alan bir düşünce akımıdır.

Bu cümlede boş bırakılan yere aşağıdakilerden hangisi yazılmalıdır?

- A) doğayı B) insanı  
C) akli D) estetiği

19. Aşağıdaki buluşlardan hangisi coğrafi keşiflerin yapılmasında daha fazla etkili olmuştur?

- A) Yazı B) Kâğıt  
C) Tekerlek D) Pusula

20. Aşağıdakilerden hangisi demokrasinin temel ilkelerinden biri değildir?

- A) Seçimler B) Devletçilik  
C) Özgürlük D) Katılımcılık

### (735) İNGİLİZCE – 7

1-20. sorularda boş bırakılan yere uygun gelen kelime ya da ifadeyi işaretleyiniz.

1. He - - - - milk very often.

- A) drink B) drinking  
C) don't drink D) doesn't drink

2. The weather is sunny today, I think it - - - - .

- A) will rain B) won't rain  
C) is raining D) isn't raining

3. Jack - - - - late for the school because he - - - - very slow.

- A) was / wasn't      B) were / was  
C) was / was      D) were / were

4. My father usually - - - - at 6 o'clock but he - - - - at 8 o'clock yesterday.

- A) gets up / got up      B) get up / gets up  
C) got up / got up      D) gets up / gets up

5. I used to - - - - bed early when I was a child.

- A) speak      B) go to      C) play      D) sleep

6. John speaks German - - - - .

- A) good      B) bad      C) careful      D) well

7. Kars is - - - - than Antalya.

- A) cold      B) coldest      C) colder      D) cool

8. This old car isn't - - - - that new one.

- A) expensive      B) more expensive  
C) as expensive as      D) the most expensive

9. When I was 10 years old, I - - - - speak English but now I - - - - .

- A) couldn't / can      B) can't / can  
C) can't / could      D) could / couldn't

10.



- - - - park here.

- A) Isn't      B) Haven't      C) Don't      D) Doesn't

11. I always - - - - TV but I never - - - - to the cinema.

- A) watch / go      B) drinks / go  
C) write / goes      D) breaks / goes

12. - - - - , he is going to visit his grandparents.

- A) In the past      B) Next week  
C) Yesterday      D) Last night

13. Robin : - - - - you at home?

Robert : No, I - - - - .

- A) Was / was      B) Were / was  
C) Were / wasn't      D) Was / weren't

14. February is - - - - month of the year.

- A) short      B) shorter  
C) so short      D) the shortest

15. A car isn't - - - - cheap - - - - a bicycle.

- A) as / as      B) same / as  
C) the / same      D) more / than

16. Merlin : Where is your brother?

Dorothy : He is - - - - the kitchen.

- A) in      B) at      C) on      D) of

17. - - - - I was in China, I visited many different places.

- A) Where      B) Who  
C) When      D) So

18. Neville : - - - - we drink coffee?

Daisy : No, let's not.

- A) Did      B) Must      C) Could      D) Shall

19. Jackson used to - - - - computer games when he was a child.

- A) go      B) drink      C) eat      D) play

20. You look bad, you - - - - see a doctor.

- A) need      B) should  
C) don't have to      D) doesn't have to

(735) ALMANCA – 7

1-16. sorularda boş bırakılan yere uygun gelen ek, kelime ya da ifadeyi işaretleyiniz.

1. A: - - - - du auch Tee trinken?

B: Nein, danke.

- A) Will B) Kann C) Hast D) Willst

2. A: Wann - - - - du zum Arzt?

B: Um 10 Uhr.

- A) geht B) gehst C) gehen D) ging

3.



A: Wo sind die Blumen?

B: - - - - der Vase.

- A) In B) Unter  
C) Neben D) Auf

4. Alle Schüler - - - - um 8 Uhr in der Schule sein.

- A) müssen B) muss  
C) kann D) sein

5. A: Warum machst du keine Hausaufgaben?

B: - - - - ich krank bin.

- A) Denn B) So  
C) Weil D) Als

6. A: Wer ist - - - - Sohn?

B: Mustafa.

- A) ihre B) sein C) sie D) ihm

7. Es geht - - - - heute nicht gut. Ich habe Bauchschmerzen.

- A) mir B) mich C) dein D) sein

8. Ali und Thomas - - - - mit dem Auto nach Çeşme.

- A) komme B) laufen  
C) fahren D) fliegen

9. A: Wo ist - - - - Jacke?

B: Sie hängt im Kleiderschrank.

- A) dein B) deine C) ihr D) ihm

10. Sie will ein\_ - - - - neu\_ - - - - Kleid haben.

- A) -e / -en B) - / -  
C) -er / -e D) - / -es

11. A: - - - - ihr mir sagen, wo das Krankenhaus ist?

B: Ja, es ist hinter dem Bahnhof.

- A) Könnt B) Kann  
C) Können D) Kannst

12. Das Flugzeug nach München - - - - um 16 Uhr.

- A) läuft B) fährt  
C) fliegt D) macht

13. A: - - - - Sie Frau Müller?

B: Ja, ich - - - - Frau Müller.

- A) Bist / bist B) Bin / ist  
C) Seid / bin D) Sind / bin

14. Ich möchte mir ein Auto kaufen - - - - ich habe kein Geld.

- A) denn B) aber  
C) weil D) ob

15. Die Katze gehört - - - - Tante.

- A) meiner B) meinem  
C) mein D) mir

16.



A: Was machen die Kinder?

B: Sie - - - - Fußball.

- A) lesen B) schwimmen  
C) spielen D) laufen

17.



Was ist ihr Beruf?

- A) Lehrer B) Arzt  
C) Polizist D) Lehrerin

18.




Wie spät ist es?

- A) Viertel vor sechs  
B) Viertel nach sechs  
C) Viertel nach fünf  
D) Viertel vor fünf

19. "lesen" fiilinin geçmiş hali (partizip perfekt) hali aşağıdakilerden hangisidir?

- A) gelesen B) lese  
C) lies D) liest

20.



Was ist das?

- A) Stuhl B) Tisch  
C) Schrank D) Bett

(735) FRANSIZCA – 7

1 - 15. sorularda boş bırakılan yere uygun gelen sözcük ya da ifadeyi işaretleyiniz.

1. - - - - portes souvent des costumes noirs.

- A) Vous B) Je  
C) Tu D) Nous

2. - - - - tu te lèves dans la semaine ?

- A) Quelle  
B) Combien  
C) À quelle heure  
D) Parce que

3. Mme Martin : Vous avez une brochure d'informations ?

Employé : Non madame, nous n'avons pas - - - - brochure d'informations.

- A) des B) de  
C) les D) la

4. Mon fils veut être acteur ou avocat - - - - il aime bien parler.

- A) pourquoi  
B) comment  
C) quand  
D) parce que (qu')

5. Il a faim ; il - - - - manger un sandwich au fromage.

- A) vas                      B) aller  
C) vont                    D) va

6. L'ascenseur ne marche pas, ma mère doit monter chez elle - - - -.

- A) en bus                      B) à vélo  
C) à pied                      D) en avion

7. Mon oncle vit - - - - Tokyo - - - - Japon.

- A) à / au                      B) à / en  
C) en / à                      D) en / aux

8. Max : Tu vois le chat noir du voisin ?  
Luc : Oui, je - - - - vois. Comme il est gros !

- A) la                              B) le  
C) des                            D) les

9. Asya : Qu'est-ce qu'elle fait dans la vie ?  
Eric : - - - -.

- A) Elle est à côté du tableau blanc  
B) Elle est en avance  
C) Elle est dans la salle d'attente  
D) Elle est infirmière

10. Ce matin, nous sommes - - - - au marché.

- A) allées                      B) aller  
C) allé                        D) allée

11. Nous avons fait - - - - en bateau sur la Mer Noire.

- A) un vélo                      B) un tour  
C) une rue                      D) un carrefour

12. Colette : Thomas, je n'ai plus de poulet, tu peux aller - - - - ?

Thomas : D'accord, il faut autre chose ?  
Colette : Oui, un kilo de viande hachée.

- A) au café  
B) à la bijouterie  
C) à la boucherie  
D) à la mairie

13. Le fils de ma tante est - - - -.

- A) mon oncle                      B) ma sœur  
C) mon cousin                    D) mon frère

14. Émilie : C'est la voiture de Jacques ?

Jeanne : Oui, c'est - - - - voiture.

- A) votre                      B) sa  
C) ta                            D) son

15. Deux bouteilles d'eau, s'il vous plaît ! Je vous dois - - - - ?

- A) combien                      B) comme  
C) rien                            D) personne

16 - 20. soruları resimleri dikkate alarak cevaplayınız.

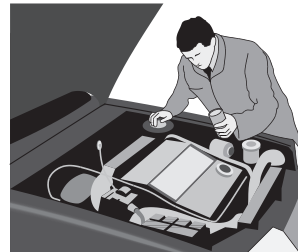
16.



Il a - - - - et il porte - - - -.

- A) les cheveux longs / des lunettes de soleil  
B) les cheveux courts / des baskets  
C) les grands yeux / une cravate rayée  
D) un gros nez / une casquette

17.



Il est - - - -.

- A) mécanicien                      B) avocat  
C) médecin                        D) infirmier




18.



Cette année, Monique partira - - - en janvier.

- A) faire de la plongée
- B) faire du ski
- C) faire du cheval
- D) faire de la marche à pied

19.



Les élèves déjeunent - - - à la cantine.

- A) à midi moins le quart
- B) à midi et demi
- C) à midi et quart
- D) à midi

20.



Selon la météo, il - - - le week-end prochain à Istanbul.

- A) y aura de la neige
- B) y aura du vent
- C) fera chaud
- D) fera du soleil

### (736) DİN KÜL. VE AHLAK BİLGİSİ – 7

1. “Ben cinleri ve insanları ancak bana kulluk etsinler diye yarattım.”

(Zâriyât suresi, 56. ayet)

Bu ayet cinler ile ilgili aşağıdaki özelliklerden hangisini vurgulamaktadır?

- A) Ateşten yaratıldıklarını
- B) Duyu organları ile algılayamayacaklarını
- C) İman ve ilahi emirlere itaat etmekle yükümlü olduklarını
- D) Allah'ın izni olmadıkça hiç kimseye zarar veremeyeceklerini

2. Ahirette insanların bütün davranışlarının değerlendirileceği adalet terazisi için kullanılan kavram aşağıdakilerden hangisidir?

- A) Kıyamet
- B) Berzah
- C) Mahşer
- D) Mizan

3. Aşağıdakilerden hangisi Ramazan ayına özgü ibadetlerden biri değildir?

- A) İtikâf
- B) Zekât
- C) Fitre
- D) Teravih namazı

4. Aşağıdakilerden hangisi Hz. Peygamber'in İslam'a davet amacı ile mektup gönderdiği devlet başkanlarından biri değildir?

- A) Çin İmparatoru
- B) Bizans Hükümdarı
- C) Gassan Kralı
- D) İran Kısrası

5. Aşağıdaki ayetlerden hangisinde Hz. Muhammed'in (sav.) son peygamber olduğu ifade edilmektedir?

- A) “... Ve sen elbette üstün bir ahlak sahibisin.”  
(Kalem suresi, 4. ayet)
- B) “Sana düşen sadece duyurmaktır (tebliğ etmektir). Hesap görmek bize aittir.”  
(Ra'd suresi, 40. ayet)
- C) “... Biz Rabb'inin bir rahmeti olarak peygamberler göndermekteyiz. O işitendir, bilendir.”  
(Duhan suresi, 5-6 ayetler)
- D) “... O, Allah'ın elçisi ve peygamberlerin sonuncusudur, Allah her şeyi en iyi bilendir.”  
(Ahzab suresi, 40. ayet)



6. Aşağıdakilerden hangisi İslam dinindeki inanç-  
la ilgili yorumlardan biridir?

- A) Eşarilik B) Şafiilik  
C) Malikilik D) Hanbelilik

7. Hz. Peygamber Hicret'ten sonra müslümanları birbirine kaynaştırmak ve sosyal adaleti sağlamak amacıyla Mekke'li muhacir ile Medine'li ensarı kardeş ilan etmiştir. "Ey Ali! Sen dünyada da ahirette de benim kardeşimsin." diyerek Hz. Ali'yi de kendisine kardeş yapmıştır.

**Bu durum Alevi-Bektaşî geleneğinde aşağıdakilerden hangisinin ortaya çıkmasına sebep olmuştur?**

- A) Semah B) Musahiplik  
C) Gülbenk D) Cem

8. İslam'ın "Hayırdır yarışın." emri Müslümanlar arasında aşağıdakilerden hangisini teşvik etmiştir?

- A) Adalet B) Tevekkül  
C) İnfak D) Doğruluk

9. İslam dini topluma yerleşen örf ve adetleri dikkate almıştır. Fakat bu uygulamalardan bazılarını hoş karşılamamıştır.

**Aşağıdakilerden hangisi İslam dininin hoş karşılamadığı uygulamalardan biridir?**

- A) Kan davası B) Asker uğurlama  
C) Hasta ziyareti D) Düğün merasimi

10. İslam dininde ilim öğrenmenin teşvik edilmesi aşağıdakilerden hangisinin ortaya çıkmasını sağlamıştır?

- A) Cami B) Darülaceze  
C) Medrese D) Hat sanatı

11. Peygamberlere vahiy getirmekle görevli melek aşağıdakilerden hangisidir?

- A) Mikail B) Cebrail  
C) İsrail D) Azrail

12. Tasavvufi yorumlar ile ilgili aşağıda verilen bilgilerden hangisi yanlıştır?

- A) Hoşgörü, sevgi gibi değerlerin toplum içinde yayılmasına katkı sağlamıştır.  
B) İçtenlikle Allah'a kulluk ederek dini yaşamak için ortaya çıkmıştır.  
C) İnsanları manevi açıdan eğitmeyi ve olgunlaştırmayı amaçlar.  
D) İnanç esaslarının yorumlanmasına dayanır.

13. "... Kim hasta olur, yahut yolculukta bulunursa tutamadığı günler sayısınca başka günlerde oruç tutsun..."

(Bakara suresi, 185.ayet)

**Bu ayet aşağıdaki oruçlardan hangisi hakkındadır?**

- A) Kaza B) Adak C) Nafile D) Kefaret

14. "İnanıp da imanlarına herhangi bir haksızlık (zulüm) bulaştırmayanlar var ya, işte korkudan emin olmak onların hakkıdır ve onlar doğru yolu bulanlardır" (En'am suresi, 82) ayetinin müslümanlarca tam anlaşılmadığını gören Hz. Muhammed, ayette geçen "haksızlık (zulüm)" kelimesinin Allah'a ortak koşmak (şirk) anlamında olduğunu söylemiştir.

**Bu durum Hz. Muhammed'in (sav.) aşağıdaki hangi özelliği ile ilgilidir?**

- A) Son peygamber olması  
B) Kur'an'ı açıklayıcı olması  
C) Güzel ahlak örneği olması  
D) İnsanlar için rahmet olması

15. Mevlevî dervişlerinin ney, kudüm, rebap gibi çalgılar ve ilahiler eşliğinde kollarını iki yana açıp dönerek yaptıkları ayin aşağıdakilerden hangisidir?

- A) Hatim B) Zikir C) Mevrit D) Sema

16. Aşağıdakilerden hangisi Muharrem ayı ile ilgili bir kavramdır?

- A) Fitre B) Hatim C) Aşure D) Akika

17. “Bana şunlar hakkında söz verin, ben de size cenneti müjdeleyeyim:  
- Konuştuğunuz zaman doğruyu konuşun!  
- Söz verdiğiniz zaman sözünüzü yerine getirin!  
- Size emanet edileni koruyun!...”  
**Peygamberimiz bu sözü ile insanlar arasında aşağıdakilerden hangisini tesis etmeyi hedeflemiştir?**
- A) Güveni B) Hoşgörüyü  
C) Merhameti D) Tevazuyu
18. **Aşağıdakilerden hangisi Ramazan ayının “on bir ayın sultanı” olarak isimlendirilmesinin nedenleri arasında yer almaz?**
- A) Kur’an’ın bu ayda indirilmeye başlanması  
B) Farz olan orucun tutulduğu ay olması  
C) Kadir gecesinin bu ayda olması  
D) Bu ayın sonunda bayram yapılması
19. **Aşağıdakilerden hangisi peygamberimize “el-Emin” denilmesinin sebeplerinden biri değildir?**
- A) Doğru sözlü olması  
B) Cesur olması  
C) Güven vermesi  
D) Emanetleri koruması
20. “Akrobaya, fakire ve yolcuya hakkını ver! Elindekini saçıp savurma. Çünkü saçıp savuranlar şeytanın kardeşleridir... Eli sıkı olma, büsbütün de tutumsuz olma. Yoksa pişman olur, açıkta kalırsın.”  
(İsra suresi, 26-29. ayetler)  
**Yukarıda verilen ayetlerde ahlakî güzelliklerin hangisinden bahsedilmemiştir?**
- A) Cömertlik B) Tutumluluk  
C) Alçak gönüllülük D) Yardımseverlik

### (830) TÜRKÇE – 8

1. “Saf” sözcüğü aşağıdakilerin hangisinde “dizi, sıra” anlamında kullanılmıştır?
- A) Bu kadar saf ve berrak bir su görmedim.  
B) Senin bu kadar çocukça saf olduğunu bilmezdim.  
C) Bütün askerler saf oluşturup selama durdu.  
D) Açık sözlü, saf bir kadıncağızdır.

2. **Aşağıdaki cümlelerin hangisinde “uzun süren bir muhabbette bulunmak, çok konuşmak” anlamı taşıyan bir deyim vardır?**
- A) Bu adam çok laf taşır.  
B) Birden lafa karışıp düşüncesini söyledi.  
C) Ben odaya girince aniden lafı değiştirdi.  
D) Kapının önünde yine lafa daldı.
3. **Aşağıdaki cümlelerin hangisinde sebep-sonuç ilişkisi vardır?**
- A) Ona, bildiği her şeyi öğretmiş.  
B) Mutlu olduğu için etrafına neşe saçıyordu.  
C) Eninde sonunda her sorunun çözülebileceğine inanıyorum.  
D) Kendinize başkalarının gözüyle bakmaya çalışın.
4. **Aşağıdaki cümlelerin hangisinde kişileştirme yapılmıştır?**
- A) Bülbüllerin sevgisi, gülleri çok duygulandırmıştı.  
B) Bu sabah konağa iki yabancı girdi.  
C) Ağaçların arasında dolaşırken sohbet ediyorlardı.  
D) Bahçeyi el birliğiyle iyice temizlediler.
5. **Aşağıdaki cümlelerin hangisinde karşıt anlamlı sözcükler bir arada kullanılmıştır?**
- A) Arabanın hem içini hem de dışını yıkattım.  
B) Koridorun dar ve uzun olmasına şaşırdı.  
C) İşten gelince evi temizlemeye başladı.  
D) Gülmek için odadan hızlıca çıktım.
6. **Aşağıdaki cümlelerden hangisi öznel bir yargı bildirmektedir?**
- A) Nusretname kitabı 1584’te atlas kumaşla kaplanmıştır.  
B) III. Selim yağlı boya portrelerini yaptırmıştır.  
C) Nakkaş Osman sarayda resimli el yazmalarını hazırlamıştır.  
D) Evliya Çelebi’nin “Seyahatname”si en çok okunan ve beğenilen eserlerimizdendir.

7. İnsanların beğenileri birbirine uymaz. O belki kırmızıdan hoşlanıyor, siz yeşili seviyorsunuz. O belki Wagner'in müziğini beğeniyor, siz Mozart'ı yeğliyorsunuz. Beğenileri sizinkine uymuyor diye, onu beğenisizlikle, kabalıkla mı suçlayacaksınız? Ona kızacak mısınız? Kuşkusuz ki hayır. Onun beğenilerine de anlayış ve saygı göstermelisiniz.

**Bu paragrafta asıl vurgulanmak istenen aşağıdakilerden hangisidir?**

- A) Hoşgörülü olmanın gerekliliği  
B) Her düşüncenin bir kusuru olabileceği  
C) Beğenilerde seçici olmak gerektiği  
D) İnsan isteklerinin sınırsız olduğu

8. Artık onun sözlerini dinlemiyor ( ) kendimi iknaya çalışıyordum ( )

**Bu cümlede ayrıca belirtilen yerlere sırasıyla hangi noktalama işaretleri getirilmelidir?**

- A) (;) (...) B) (,) (.)  
C) (!) (?) D) (...) (.)

9. Geniş ve manzaralı bir odada geçirildi gece. Sabah erkenden balık tutmaya çıkıldı. Hava bir tuhaftı. Uzakta fırtına bulutuna da benzer bir sis vardı.

**Bu parçadaki altı çizili ifade, hikâyenin hangi ögesidir?**

- A) Yer B) Olay  
C) Zaman D) Ana karakter

10. Gel bahar, gel bahar... Yakınlarda gül, Sulara renginden armağan bırak; Ufuklarda gezin, göklere süzül Sonra yavaş yavaş in, içime ak...

**Bu şiirin ana duygusu aşağıdakilerden hangisidir?**

- A) Endişe B) Cesaret  
C) Özlem D) Sevinç

11. Yazma çalışması bittikten sonra yapılan çalışmanın değerlendirilmesi için aşağıdakilerden hangisine dikkat edilmez?

- A) Hangi kaynaklardan yararlanacağım?  
B) Hazırladığım plana uygun bir yazma çalışması yapabildim mi?  
C) Yazımda bir bütünlük sağlayabilmiş miyim?  
D) Yazdıklarım yazım ve noktalama yönünden doğru mu?

12. İkinci hecesinde “ı, i, u, ü” ünlüsü bulunan bir sözcük ünlüyle başlayan bir ek alırsa bu ünlüler düşer. Örnek: burun-u → burnu

**Bu açıklamaya göre aşağıdaki cümlelerdeki altı çizili sözcüklerin hangisinde ünlü düşmesi vardır?**

- A) Bir saattir, aldığı kitabı inceliyor.  
B) Kazak yıkanınca küçülmüş.  
C) Yükselen balonlara bakıyordu.  
D) Kıştan bu yana omzu ağrıyordu.

13. Hücrelerimizin çekirdeğinde çok değerli bir hazine taşıyoruz. Tam 46 kromozom. Kromozom, DNA içeren, kıvrık çubuk biçimindeki kalıtsal yapıdır. Kromozomlar, canlılarda bazı özelliklerin bireyden bireye aktarılmasını sağlar.

**Bu metnin anlatım biçimi aşağıdakilerden hangisidir?**

- A) Açıklama B) Betimleme  
C) Öyküleme D) Tartışma

14. Bir dileği bildirmek için kurum ve kuruluşlara yazılan, imzamızın ve adresimizin yer aldığı yazılara ne ad verilir?

- A) Telgraf B) Dilekçe  
C) Mektup D) Davetiye

15. Aşağıdaki altı çizili fiillerin hangisinde “tezlik, çabukluk” anlamı vardır?

- A) Bu problemi çözebilirim.  
B) Sizi de işinizden alıkoyduk.  
C) Öz geçmişini bilgisayarda yazıverdi.  
D) Arabadan inerken düşeyazdım.

16. Kardeşim anlattıklarımı sessizce dinledi.

**Bu cümledeki fiilin zamanı aşağıdakilerden hangisidir?**

- A) Geçmiş zaman B) Şimdiki zaman  
C) Geniş zaman D) Gelecek zaman

**17. Aşağıdakilerin hangisinde “genellikle” anlamı vardır?**

- A) Akşama doğru eve gidip onun da onayını alacağız.
- B) Bu güzel ve şaşırtıcı habere yalnızca iki kişi sevindi.
- C) Kendisini, uzun zamandır hissetmediği kadar mutlu hissetti.
- D) Meyve ağaçlarını çok sever, çoğunlukla bahçesinde vakit geçirirdi.

**18. Çocuk, kedinin meraklı bakışları altında sobanın yanındaki mindere iyice kuruldu. Romanın ilk sayfasını okumaya başladı. Okurken çocuğun - - - - . Çünkü sobanın sıcaklığı uykusunu getirmişti. Daha fazla devam edemedi, oracıkta uyuverdi.**

**Bu parçada boş bırakılan yere aşağıdakilerden hangisi getirilirse metnin anlam bütünlüğü sağlanmış olur?**

- A) karnı acıktı
- B) gözleri ağırlaştı
- C) aklına bir fikir geldi
- D) coşkusu görülmeye değerdi

**19. 1. Yataktan fırlayıp camdan dışarı baktım.  
2. Çam ağaçlarının kokusu daha bir yoğundu burada.  
3. Çabucak giyinip bahçeye çıktım.  
4. Horozun kulak çınlatan sesiyle uyandım.  
5. Ağaçların daha sık olduğu yere gittim.**

**Numaralandırılmış cümleler, olayların oluş sırasına göre nasıl sıralanmalıdır?**

- A) 1 - 2 - 5 - 3 - 4
- B) 1 - 4 - 5 - 2 - 3
- C) 4 - 5 - 3 - 2 - 1
- D) 4 - 1 - 3 - 5 - 2

**20. Aşağıdaki cümlelerin hangisinde karşılaştırma vardır?**

- A) Konser biletlerini çok önceden almıştı.
- B) Yaşlı kadına yer vermek için ayağa kalktı.
- C) Kasabada, o güne kadar görülmemiş bir şenlik vardı.
- D) Defterlerini çantasına koydu ama kalemlerini unuttu.

**(831) MATEMATİK – 8**

**1.  $(-4)^{-3}$  işleminin sonucu kaçtır?**

- A) -64
- B)  $-\frac{1}{64}$
- C)  $\frac{1}{12}$
- D) 12

**2.  $\sqrt{1,69}$  sayısı aşağıdakilerden hangisine eşittir?**

- A) 16,9
- B) 1,6
- C) 1,3
- D) 0,13

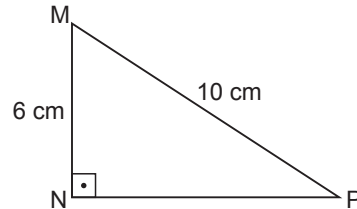
**3. Aşağıdakilerden hangisi bir irrasyonel sayı değildir?**

- A)  $\sqrt{7}$
- B)  $\sqrt{28}$
- C)  $\sqrt{0,2}$
- D)  $\sqrt{4}$

**4.  $\sqrt{15}$  sayısı aşağıdaki hangi iki tam sayı arasındadır?**

- A) 3 ve 4
- B) 4 ve 5
- C) 10 ve 12
- D) 14 ve 16

**5.**



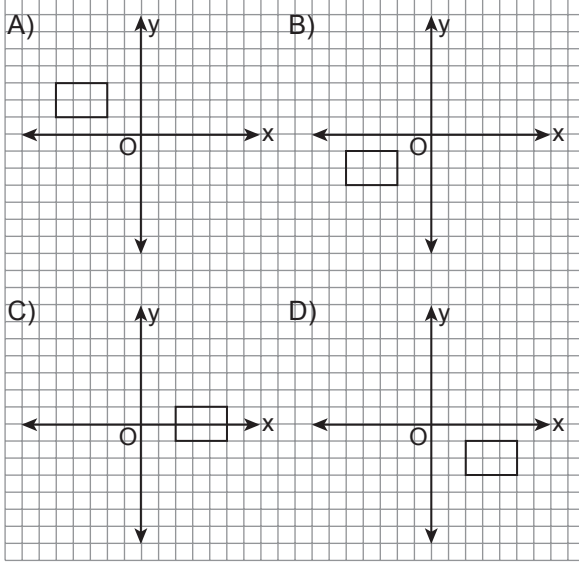
Şekilde  $|MN| = 6$  cm ve  $|MP| = 10$  cm'dir.  $m(\widehat{MNP}) = 90^\circ$  olduğuna göre  $\cos(\widehat{NMP})$  kaçtır?

- A)  $\frac{3}{5}$
- B)  $\frac{4}{5}$
- C)  $\frac{3}{4}$
- D)  $\frac{4}{3}$

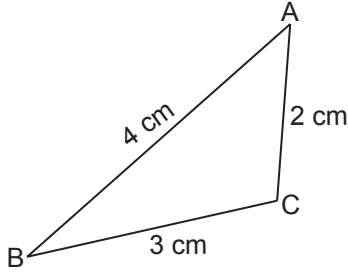
**6. Beşgen piramit, tabanına paralel olan bir düzlemle kesildiğinde arakesit aşağıdaki düzlemsel şekillerden hangisi olur?**

- A) Altıgen
- B) Beşgen
- C) Kare
- D) Üçgen

7. Şekilde kareli kâğıtta verilen dörtgenin y eksenini boyunca 3 birim aşağı ötelenerek elde edilen görüntüsünün, x eksenine göre simetliği aşağıdakilerden hangisidir?



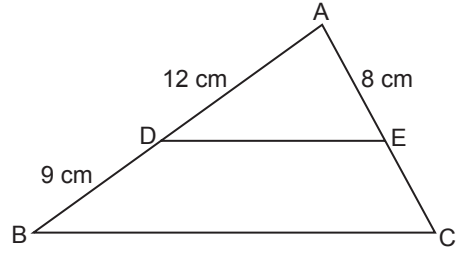
8.



Şekilde verilenlere göre ABC üçgeninin açıları-  
nın ölçüleri aşağıdakilerden hangisinde doğru  
sıralanmıştır?

- A)  $m(\widehat{B}) > m(\widehat{A}) > m(\widehat{C})$   
 B)  $m(\widehat{C}) > m(\widehat{A}) > m(\widehat{B})$   
 C)  $m(\widehat{A}) > m(\widehat{B}) > m(\widehat{C})$   
 D)  $m(\widehat{C}) > m(\widehat{B}) > m(\widehat{A})$

9.



Şekildeki ABC üçgeninde  $[DE] \parallel [BC]$ 'dir.

$|AD| = 12$  cm,  $|DB| = 9$  cm ve  $|AE| = 8$  cm ol-  
duğuna göre  $|EC|$  kaç santimetredir?

- A) 7 B)  $\frac{13}{2}$  C) 6 D)  $\frac{11}{2}$

10. Taban ayrıtlarından birinin uzunluğu 8 cm ve  
yüksekliği 6 cm olan kare piramidin hacmi kaç  
santimetreküptür?

- A) 192 B) 156 C) 128 D) 96

11. Çapının uzunluğu 16 cm olan bir kürenin yü-  
zey alanı kaç santimetrekaredir?  
( $\pi$  yerine 3 alınız.)

- A) 256 B) 768 C) 1024 D) 3072

12. Dik kenarlarının uzunlukları 60 m ve 80 m olan  
dik üçgen şeklindeki bahçenin etrafına iki sıra tel  
çekilecektir.

Bu iş için en az kaç metre tele ihtiyaç vardır?

- A) 100 B) 140 C) 360 D) 480

13.  $C(4,2)$  değeri kaçtır?

- A) 4 B) 6 C) 8 D) 12

14. İçerisinde renkleri dışında tüm özellikleri aynı olan  
2 sarı, 3 mavi ve 1 kırmızı boncuk bulunan torba-  
dan art arda iki boncuk çekiliyor.

Çekilen bu boncuklardan birincinin sarı, ikin-  
cinin kırmızı olma olasılığı kaçtır?

- A)  $\frac{1}{5}$  B)  $\frac{1}{10}$  C)  $\frac{1}{15}$  D)  $\frac{1}{18}$

15. 2, 5, 8, 11, ...

Ardışık iki terim arasındaki farkı sabit olan yukarıdaki sayı örüntüsünde 6. ve 8. adımdaki sayıların toplamı kaçtır?

- A) 30 B) 33 C) 36 D) 40

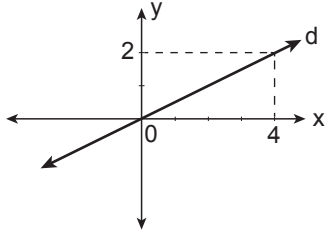
16.  $\frac{x^2 - 2x}{x^2 - 4}$  ifadesi aşağıdakilerden hangisine eşittir?

- A)  $\frac{x}{x+2}$  B)  $\frac{x}{x-2}$  C)  $\frac{1}{x+2}$  D)  $x - 2$

17. Aşağıda verilen denklemlerden hangisi bir özdeşliktir?

- A)  $\frac{x}{4} = 3$   
B)  $x + 3 = -x + 3$   
C)  $3(x + 2) = x$   
D)  $2(x - 3) = 2x - 6$

- 18.



Şekildeki d doğrusu orijinden ve (4,2) noktasından geçtiğine göre bu doğrunun eğimi nedir?

- A) 2 B)  $\frac{3}{2}$  C) 1 D)  $\frac{1}{2}$

19.  $3x - 5 \leq 4$  eşitsizliğinin çözüm kümesi aşağıdaki sayı doğrularından hangisinde koyu çizgi ile gösterilmiştir?

- A)  $\overleftarrow{\text{---}3\text{---}} \rightarrow$  B)  $\overleftarrow{\text{---}3\text{---}} \rightarrow$   
C)  $\overleftarrow{\text{---}3\text{---}} \rightarrow$  D)  $\overleftarrow{\text{---}3\text{---}} \rightarrow$

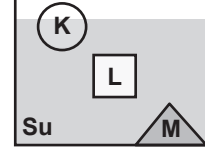
20. 5, 5, 5, 5

Yukarıdaki veri grubunun standart sapması kaçtır?

- A) 0 B) 4 C) 5 D) 20

## (832) FEN BİLİMLERİ – 8

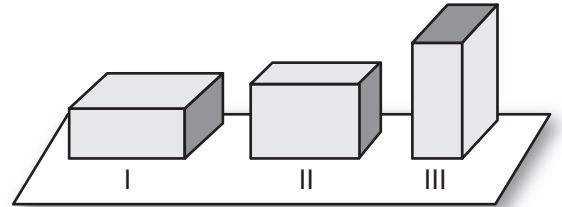
1. Şekilde K, L ve M cisimlerinin su içindeki denge konumları verilmiştir.



Buna göre cisimlere etki eden kaldırma kuvvetlerinin yönü aşağıdakilerin hangisinde doğru gösterilmiştir?

- |    |   |   |   |
|----|---|---|---|
|    | K | L | M |
| A) | ↑ | ↓ | ↑ |
| B) | ↑ | ↑ | ↑ |
| C) | ↓ | → | ↓ |
| D) | ↓ | ← | ↓ |

2. Bir cisim yatay zemine şekildeki gibi sırayla üç farklı durumda yerleştiriliyor.

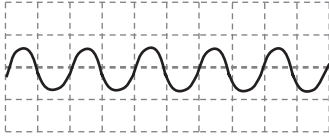


Bu cismin yatay zemine temas eden yüzeyleri arasındaki ilişki  $S_I > S_{II} > S_{III}$  şeklindedir.

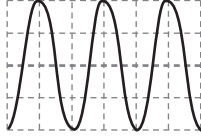
Buna göre cismin II. ve III. durumlarda yere yaptığı basınç I. duruma göre nasıl değişir?

- |    |           |            |
|----|-----------|------------|
|    | II. durum | III. durum |
| A) | Azalır    | Azalır     |
| B) | Artar     | Azalır     |
| C) | Azalır    | Artar      |
| D) | Artar     | Artar      |

3. Aşağıda aynı ortamdaki kedi ve aslana ait 1 saniyede oluşan ses dalgaları verilmiştir.



Kedi



Aslan

Buna göre, kedi ve aslanın sesleriyle ilgili olarak aşağıdakilerden hangisi doğrudur?

- A) Yükseklikleri farklıdır. B) Genlikleri aynıdır.  
C) Frekansları aynıdır. D) Tınısı aynıdır.

4. Can odasında 3 metre uzaklıkta çalan radyonun sesini, hava sıcaklığı aşağıdakilerden hangisi gibi olursa daha çabuk duyar?

- A) 0°C B) 15°C C) 20°C D) 30°C

5. Elektrik motorları elektrik enerjisini hareket enerjisine dönüştüren düzeneklerdir.

Buna göre aşağıdakilerin hangisinde elektrik enerjisi hareket enerjisine dönüşmez?

- A) Vantilatör  
B) Su ısıtıcısı  
C) Elektrik süpürgesi  
D) Saç kurutma makinesi

6. Bir su ısıtıcısının gücü 1000 watttır. Bu ısıtıcı 1 dakika çalıştırılırsa kaç joule enerji harcar?

- A) 1000 B) 6000 C) 10 000 D) 60 000

7. • Üzerinde insan ve diğer canlılar yaşar.  
• Kaya ve topraktan oluşur.  
• Ateş küreyi dıştan sarar.

Özellikleri verilen Dünya katmanı aşağıdakilerden hangisidir?

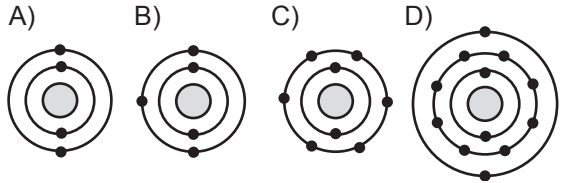
- A) Ağır küre B) Su küre  
C) Hava küre D) Taş küre

8. Bir bilim dalı olan iklim bilimi aşağıdakilerden hangisini inceler?

- A) Geniş bölgelerde çok uzun zaman içinde aynı kalan ortalama hava olaylarını  
B) Magmanın yeryüzüne çıkışı esnasında meydana gelen fiziksel ve kimyasal olayları  
C) Yeryüzü şekillerinin oluşumunu  
D) Yeryüzündeki levha hareketlerini

9. • Elektrik iyi iletmez.  
• Periyodik tabloda 2. periyotta bulunur.  
• Bileşiklerinde 2 elektron alarak anyon olma eğilimindedir.

özellikleri verilen elementin katman-elektron gösterilişi aşağıdakilerden hangisidir?



10. Sofra tuzunu oluşturan NaCl bileşiği için,

- I. İyonik bağlı yapıdadır.  
II. Eşit sayıda Na<sup>+</sup> ve Cl<sup>-</sup> iyonları bulundurulur.  
III. Bir elektronun ortak kullanımı sonucunda oluşur.

verilen ifadelerden hangileri doğrudur?

- A) Yalnız I B) I ve II.  
C) II ve III. D) I, II ve III.

11. Aşağıda verilen

- Mg<sup>2+</sup>  
• SO<sub>4</sub><sup>2-</sup>  
• Na<sup>+</sup>  
• Cl<sup>-</sup>

iyonları kullanılarak hangi bileşik formülü yazılamaz?

- A) MgCl<sub>2</sub> B) Na<sub>2</sub>SO<sub>4</sub>  
C) Na<sub>2</sub>Mg D) NaCl

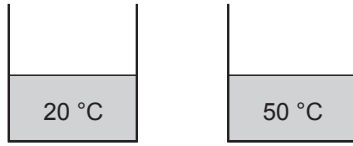


12. • Mavi turnusol kâğıdının rengini kırmızıya çevirir.  
• Tadı ekşidir.

Aşağıdakilerden hangisi verilen özelliklere sahip bir madde örneğidir?

- A) Kabartma tozu B) Sirke  
C) Diş macunu D) El sabunu

13. Şekilde özdeş kaplarda sıcaklıkları farklı sular bulunmaktadır.



Bu kaplardaki sular karıştırıldığında, karışımın son sıcaklığı aşağıdakilerden hangisi olamaz?

- A) 25 B) 35 C) 40 D) 60

14.

Maddenin adı	Öz ısı (J/g °C)
Su	4,18
Zeytinyağı	1,96
Alüminyum	0,91
Alkol	2,54

Tabloda verilen ilk sıcaklıkları aynı, eşit kütleli maddeleri belli bir sıcaklığa getirmek için en az ısı hangisine verilir?

- A) Alüminyum B) Zeytinyağı  
C) Su D) Alkol

15. DNA eşlenmesi sırasında gen yapısında değişimler olabilir.

Bu duruma ne ad verilir?

- A) Adaptasyon B) Modifikasyon  
C) Mutasyon D) Klonlama

16. Mayoz bölünme, üreme ana hücrelerinde görülen bir olaydır.

Aşağıdakilerden hangisi mayoz bölünme sonucu gerçekleşen bir olay değildir?

- A) İnsanda  $n$  kromozomlu yumurta hücresinin oluşması  
B) İnsanda  $n$  kromozomlu sperm hücresinin oluşması  
C) Tür içi kromozom sayısının sabit kalması  
D) Döllenen yumurtadan embriyonun oluşması

17. "Farelerde siyah kıl rengi, kahverengi kıl rengine baskındır."

Buna göre, heterozigot (melez) siyah kıllı fare ile kahverengi kıllı fare çaprazlandığında, yavru farelerin genotip oranları nasıl olur?

- A) % 100 SS  
B) % 100 ss  
C) % 50 Ss, % 50 ss  
D) % 25 Ss, % 75 SS

18. Hücrede büyüme, hareket ve sentez gibi tüm canlılık olaylarında kullanılan enerjiye ATP denir.

Buna göre ATP'nin molekül yapısında aşağıdakilerden hangisi bulunmaz?

- A) Adenin B) Deoksiriboz  
C) Riboz D) Fosfat

19. Atmosferdeki serbest azotu bağlayarak canlılar için kullanılabilir hâle getiren canlılar aşağıdakilerden hangisidir?

- A) Azot bakterileri B) Mantarlar  
C) Böcekler D) Bitkiler

20.



Verilen besin zincirinde güneş enerjisini kullanarak besin üretimi yapan canlı hangisidir?

- A) Çimen B) Çekirge  
C) Kurbağa D) Yılan



**(834) T.C. İNKILAP TARİHİ VE  
ATATÜRKÇÜLÜK – 8**

**1. Mustafa Kemal, Harp Akademisi'nden hangi rütbeyle mezun olmuştur?**

- A) Teğmen B) Yüzbaşı  
C) Kurmay Yüzbaşı D) Kurmay Yarbay

**2. Millî Cemiyetler aşağıdakilerden hangisinde bir çatı altında birleştirilmiştir?**

- A) Mudanya Ateşkes Antlaşması  
B) Sivas Kongresi  
C) Erzurum Kongresi  
D) Paris Konferansı

**3. • Kurtuluş Savaşı'nın Doğu Cephesi komutanıdır.  
• Sarıkamış, Kars ve çevresini Ermeni işgalinden kurtarmıştır.**

**Bu bilgiler aşağıdakilerden hangisine aittir?**

- A) Mustafa Kemal Paşa  
B) İsmet Paşa  
C) Fevzi Paşa  
D) Kâzım Karabekir Paşa

**4. İşgaller karşısında halk tarafından kurulan millî direniş teşkilatlarının ortak adı aşağıdakilerden hangisidir?**

- A) Kuvayımiliye B) Misakımillî  
C) Teşkilatı Esasiye D) Kuvayı İnzibatiye

**5. Mustafa Kemal "Siyasi ve askeri zaferler ne kadar büyük olursa olsunlar, ekonomik zaferlerle taçlandırılmazlarsa meydana gelen zaferler devamlı olamaz, az zamanda söner." sözüyle aşağıdakilerden hangisinin önemini vurgulamıştır?**

- A) Eğitimin  
B) Askerliğin  
C) Diplomasinin  
D) Ekonomik bağımsızlığın

**6. Aşağıdaki gelişmelerden hangisiyle "Egemenlik kayıtsız şartsız milletindir." ilkesi hayata geçirilmiştir?**

- A) Amasya Genelgesi'nin yayımlanması  
B) Misakımillî'nin ilanı  
C) Ankara'da Büyük Millet Meclisi'nin açılması  
D) Mustafa Kemal'in Samsun'a çıkması

**7. Aşağıdakilerin hangisi ile tüm eğitim kurumları Millî Eğitim Bakanlığı'na bağlanmıştır?**

- A) Tevhid-i Tedrisat Kanunu  
B) Saltanatın kaldırılması  
C) Maarif Kongresi'nin toplanması  
D) Medeni Kanun'un kabulü

**8. Mustafa Kemal'in, Avrupalı devletlerin temsilcileriyle buluşup fikir alışverişi yapma imkânı bulunduğu şehir, aşağıdakilerden hangisidir?**

- A) Şam B) Sofya  
C) Selanik D) Manastır

**9. I. Fransa'nın Alsas Loren'i geri almak istemesi  
II. Avrupalı devletler arasındaki sömürgecilik yarışı  
III. ABD ile İngiltere'nin çıkarlarının uyuşmaması  
IV. Avrupalı devletler arasındaki silahlanma yarışı**

**Yukarıdakilerden hangisi I. Dünya Savaşı'nın nedenleri arasında yer almaz?**

- A) I. B) II. C) III. D) IV.

**10. Doğu Anadolu'nun güvenliğini sağlamak için toplandığından bölgesel, aldığı kararlar bütün yurdu ilgilendirdiğinden de ulusal bir kongredir.**

**Yukarıda hangi kongreden söz edilmektedir?**

- A) Erzurum B) Sivas  
C) Balıkesir D) Alaşehir

**11. Atatürk'ün "Millî egemenlik öyle bir nurdur ki onun karşısında zincirler erir, taç ve tahtlar yanar, yok olur." sözü, aşağıdaki ilkelere hangisiyle doğrudan ilgilidir?**

- A) Laiklik B) Devletçilik  
C) İnkılapçılık D) Cumhuriyetçilik

12. • Türk dilini yabancı dillerin etkisinden kurtarmak  
• Türk dilinin tarihî köklerini araştırmak

**Verilen amaçları gerçekleştirmek için kurulan kuruluş, aşağıdakilerden hangisidir?**

- A) Halkevleri B) Anadolu Ajansı  
C) Türk Dil Kurumu D) Türk Tarih Kurumu

13. Türkiye Cumhuriyeti'nin kurulduğu ilk yıllarda, "Kendi liman ve kıyılarımızda gemi işletme hakkına sahip değiliz. Bu hakka sahip olan yabancılar ve azınlıklar bize ciddi zorluklar çıkarıyorlar."

**diyen bir gemi tüccarının bu sıkıntısı, aşağıdakilerden hangisiyle çözüme kavuşmuştur?**

- A) Kabotaj Kanunu'nun yürürlüğe girmesiyle  
B) Lozan Antlaşması'nın imzalanmasıyla  
C) Boğazlar Komisyonu'nun kurulmasıyla  
D) Mondros Ateşkes Antlaşması'nın onaylanmasıyla

14. Mustafa Kemal'in lise öğrenimini gördüğü okul aşağıdakilerden hangisidir?

- A) Manastır Askerî İdadisi  
B) Selanik Askerî Rüştiyesi  
C) Selanik Mülkiye Rüştiyesi  
D) İstanbul Harp Okulu

15. Amasya Genelgesi'nin aşağıdaki maddelerinden hangisi ile Kurtuluş Savaşı'nın gerekçesi belirtilmiştir?

- A) Milletin haklarını savunmak için millî bir kurulun varlığı gereklidir.  
B) Milletin istiklâlini yine milletin azim ve kararı kurtaracaktır.  
C) Vatanın bütünlüğü, milletin istiklâli tehlikededir.  
D) Vaziyet millî bir sır olarak tutulmalıdır.

16. Mustafa Kemal, cephe komutanına çektiği telgrafta "Siz orada yalnız düşmanı değil, milletin makus (kötü) talihini de yendiniz." diyerek aşağıdaki savaşlardan hangisinin önemini belirtmiştir?

- A) Sakarya Savaşı  
B) Kütahya - Eskişehir Savaşları  
C) Çanakkale Savaşı  
D) İkinci İnönü Savaşı

17. Tekâlif-i Milliye Emirleri'nin yayımlanmasının amacı aşağıdakilerden hangisidir?

- A) Yeni okulların açılması  
B) Ordunun ihtiyaçlarının halk tarafından karşılanması  
C) Misakımillî'nin halka duyurulması  
D) Doğu Anadolu'nun Ermeni işgalinden kurtarılması

18. Aşağıdakilerden hangisi güzel sanatları geliştirmeye yönelik değildir?

- A) Devlet Resim ve Heykel Müzesi'nin açılması  
B) Atatürk Orman Çiftliği'nin kurulması  
C) Güzel Sanatlar Akademisi'nin açılması  
D) Musiki Muallim Mektebi'nin kurulması

19. Aşağıdakilerden hangisi milliyetçilik ilkesiyle doğrudan ilgili bir gelişmedir?

- A) Türk Tarih Kurumu'nun kurulması  
B) Medeni Kanun'un kabulü  
C) Aşar vergisinin kaldırılması  
D) Numune Hastanesi'nin açılması

20. Aşağıdaki devletlerden hangisi Balkan Antantı'na üye değildir?

- A) Türkiye B) Romanya  
C) Yunanistan D) Bulgaristan

### (835) İNGİLİZCE – 8

**1-20. sorularda boş bırakılan yere uygun gelen kelime ya da ifadeyi işaretleyiniz.**

1. İstanbul is - - - - city I have ever been to.

- A) big B) bigger  
C) biggest D) the biggest

2. The students haven't finished the exam - - - -.

- A) yet B) just C) ever D) never

3. Michael - - - - in the street when he - - - - an old friend.

- A) walked / see B) walking / see  
C) was walking / saw D) was walking / seeing

4. **A:** What do we need for the cake?  
**B:** Buy - - - - sugar, there isn't any left.
- A) any    B) some    C) many    D) a few
5. I - - - - able to drive to work, because my car was broken.
- A) haven't been    B) weren't  
C) wasn't    D) won't be
6. You - - - - eat if you - - - - in a library.
- A) mustn't / are    B) can't / will be  
C) can / wasn't    D) must / wasn't
7. If you don't want to be a bad student, you - - - -.
- A) shouldn't pass your exams  
B) shouldn't do your homework  
C) should be late for the school  
D) should listen to your teacher
8. You - - - - see a doctor. You look - - - -.
- A) shouldn't / bad    B) should / terrible  
C) shouldn't / awful    D) should / wonderful
9. **A:** My brother likes playing video games.  
**B:** - - - - my brother.
- A) Neither does    B) Neither do  
C) So does    D) So do
10. Where - - - - these flowers - - - -?
- A) can / sold    B) are / sell  
C) are / sold    D) can / sell
11. - - - - you - - - - your friends last weekend?
- A) Do / visit    B) Did / visit  
C) Are / visiting    D) Will / visit
12. Bursa is the - - - - beautiful city I have - - - - seen.
- A) more / just    B) more / ever  
C) most / ever    D) most / never

13. What - - - - from 6 to 7 last Friday?
- A) do you do    B) are you doing  
C) will you do    D) were you doing
14. When I was eighteen, I - - - - ride a motorcycle.
- A) could    B) may    C) will    D) can
15. I bought a house - - - - a big garden and a swimming pool.
- A) who has    B) who have  
C) which has    D) which have
16. How many questions - - - - in this test?
- A) have been giving    B) are given  
C) given    D) give
17. Many different languages - - - - in Africa.
- A) are spoken    B) is spoken  
C) speaks    D) speak
18. This money isn't enough for me. I need - - - -.
- A) many    B) more  
C) less    D) any
19. I have - - - - been to France.
- A) never    B) ever    C) any    D) yet
20. I am sorry, I - - - - hear the phone. I - - - - in the garden.
- A) am not / work  
B) didn't / will work  
C) wasn't / was worked  
D) didn't / was working

(835) ALMANCA – 8

1-18. sorularda boş bırakılan yere uygun gelen ek, kelime ya da ifadeyi işaretleyiniz.

1. A: Habt - - - - schon gegessen?

B: Ja, - - - - haben gegessen.

- A) ich / du                      B) wir / ihr  
C) du / ich                      D) ihr / wir

2. Das ist die Tasche von Fatma. Es gehört - - - -.

- A) sie      B) ihm      C) ihr      D) dein

3.



Das Kind ist - - - - als der Mann.

- A) kleiner                      B) grösser  
C) lang                      D) kurz

4. Ich wasche - - - - Hände.

- A) mein                      B) meine  
C) sein                      D) eine

5. A: Hast du dir neu\_ - - - - Schuhe gekauft?

B: Ja.

- A) -en      B) -es      C) -er      D) -e

6. Die Haare - - - - Frau sind lang und schwarz.

- A) die      B) der      C) den      D) das

7. Das Auto, - - - - in der Garage steht, gehört meinem Onkel.

- A) der      B) die      C) das      D) den

8. A: - - - - du auch Obst, Klaus?

B: Ja, sehr.

- A) Magst      B) Mag      C) Mögen      D) Mögt

9. A: Wie gefällt - - - - die neue Wohnung?

B: Sie gefällt - - - - sehr gut.

- A) uns / dir                      B) dein / ihm  
C) euch / uns                      D) uns / mich

10. A: Kaufst du - - - - Tochter einen Computer zum Geburtstag?

B: Ja, ich werde - - - - einen Computer kaufen.

- A) dein / sie                      B) deiner / ihr  
C) ihr / ihrer                      D) sie / seine

11. A: Wann hast du - - - - angerufen?

B: Gestern.

- A) mich      B) mir      C) mein      D) meine

12. kurz, - - - -, am kürzesten

- A) lang      B) kurze      C) kürzer      D) länger

13. Die grün\_ - - - - Bäume. ( Plural)

- A) -e      B) -es      C) -er      D) -en

14. - - - - Schüler kommen aus der Türkei.

- A) Diese      B) Dieser      C) Dies      D) Diesen

15. A: Ich - - - - Hasan. Wie heißt du?

B: Ich - - - - Markus.

- A) ist / bist                      B) bin / kann  
C) heiße / ist                      D) bin / heiße

16. Sabine - - - - nicht mit dem Bus. Sie - - - - mit dem Flugzeug.

- A) fliegt / fährt                      B) fährt / fliegt  
C) geht / läuft                      D) sitzt / steht

17. Das sind kein\_ - - - - Äpfel. Das sind Birnen.

- A) -e      B) -er      C) -es      D) -en

18. einundzwanzig, - - - - , dreiundzwanzig

- A) zwanzig B) zweiunddreissig  
C) zweiundzwanzig D) vierundzwanzig

19.



Wie spät ist es?

- A) Viertel vor fünf B) Viertel vor zwei  
C) Viertel nach vier D) Viertel nach zwei

20.



Wo ist der Hund?

- A) Unter dem Bett B) Über dem Bett  
C) Neben dem Bett D) Auf dem Bett

### (835) FRANSIZCA – 8

1-15. sorularda boş bırakılan yere uygun gelen kelime ya da ifadeyi işaretleyiniz.

1. Samedi après-midi - - - - suis allée faire des courses.

- A) elle B) je C) ils D) tu

2. Nous - - - - notre cours de piano il y a quinze minutes.

- A) allez finir B) sommes fini  
C) ont fini D) avons fini

3. Luisa est née le 18 mai 1990 - - - - Madrid - - - - Espagne.

- A) au / aux B) en / au  
C) à / au D) à / en

4. Pour acheter des livres et des magazines Diane va chez - - - -.

- A) le libraire B) le fromager  
C) le pâtissier D) le poissonnier

5. Aujourd'hui, il fait 25 degrés à Erzurum ; il fait 33 degrés à Mersin.

La ville d' Erzurum est - - - - - que la ville de Mersin.

- A) aussi chaude B) plus chaude  
C) moins chaude D) aussi froid

6. J'ai mangé dix cerises ; Nicole a mangé quinze cerises.

Alors, Nicole a mangé - - - - de cerises que moi.

- A) tant B) autant C) moins D) plus

7. Comme dessert, - - - - une tarte au chocolat.

- A) mange B) bois C) déjeune D) dîne

8. La fraise coûte trois euros - - - -.

- A) le litre B) le kilo  
C) le mètre carré D) le mètre

9. Efe : C'est - - - - la médiathèque ?

Léa : Elle est en face de l'Hôtel de ville.

- A) ou B) combien  
C) où D) quand

10. Pour aller en Grèce, nous - - - - en bateau.

- A) voyageons B) devenons  
C) voyons D) visitons

11. Voilà le cadeau de mariage de ma fille - - - - nous avons acheté samedi dernier.

- A) où B) qui C) dont D) que

12. Pour aller à l'école, Pierre préfère les chemins - - - - sont dans la forêt.

- A) pourquoi B) qui  
C) où D) que

13. Mme Bugeaud a 83 ans, c'est - - - -.

- A) une jeune fille
- B) une vieille dame
- C) un vieux monsieur
- D) une fille brune

14. Si tu viens ce soir, nous - - - - un film d'action.

- A) regarderez
- B) avons regardé
- C) regarderons
- D) regardent

15. Stéphane - - - - faire du vélo quand sa femme est rentrée.

- A) allait
- B) sont allés
- C) vas aller
- D) es allé

16 - 20. soruları resimleri dikkate alarak cevaplayınız.

16.



Il fait - - - -.

- A) du surf
- B) du camping
- C) du théâtre
- D) de la cuisine

17.

Il - - - - son manteau en courant.



- A) pleure
- B) cherche
- C) met
- D) lit

18.



Quand il n'y a pas de cours dans la semaine, mon fils - - - - tard.

- A) se brosse les dents
- B) se promène
- C) se coiffe
- D) se réveille

19.

Elle a mal - - - -.



- A) au ventre
- B) à la tête
- C) aux bras
- D) à l'estomac

20.

Il ne peut pas courir parce qu'il a - - - -.



- A) la jambe cassée
- B) mal au cou
- C) mal à la gorge
- D) le doigt cassé

## (836) DİN KÜL. VE AHLAK BİLGİSİ – 8

1. Canlıların ihtiyaç duyduğu ve yararlandığı, Allah tarafından sağlanan her türlü nimet anlamına gelen kavram aşağıdakilerden hangisidir?

- A) Tevekkül B) Rızık  
C) Kader D) İrade

2. Aşağıdakilerden hangisi kötü alışkanlıkların başlama sebepleri arasında yer almaz?

- A) Sosyal faaliyetler ve seyahat etme  
B) Aile içindeki geçimsizlik ve sevgi yoksunluğu  
C) Kötü arkadaş çevresi ve kendini kabul ettirme duygusu  
D) Gazete, dergi, TV gibi araçlarla kötü alışkanlığa özendirici yayınlar yapılması

3. İslam dini ile ilgili verilen bilgilerden hangisi yanlıştır?

- A) Tevhit inancına dayanır.  
B) Temiz ve uygun olan her yerde ibadet yapılabilir.  
C) Tüm insanlık için gönderilen son dindir.  
D) Peygamber olarak yalnızca Hz. Muhammed kabul edilir.

4. Aşağıdaki ayetlerin hangisi toplumsal yasalara işaret etmektedir?

- A) “Güneş ve ay bir hesaba göre (hareket etmek) dir.”  
(Rahman suresi, 5. ayet)  
B) “O (Allah), insanı alaktan (embriyodan) yarattı.”  
(Alak suresi, 2. ayet)  
C) “Onlar yeryüzünde gezip kendilerinden öncekilerin sonunun nasıl olduğuna bakmazlar mı?...”  
(Fatır suresi, 44. ayet)  
D) “Göğü Allah yükseltti ve mizanı (dengeyi) O koydu. Sakın dengeyi bozmayın.”  
(Rahman suresi, 7. ve 8. ayetler)

5. • Güvenmek  
• Dayanmak  
• Sığınmak

Bu kavramlar aşağıdakilerden hangisinin tanımla ilgilidir?

- A) İman B) İrade  
C) Kaza D) Tevekkül

6. Zekât, zengin sayılan bir müslümanın Allah rızası için yılda bir kere malının belli bir miktarını yoksul Müslümanlara vermesidir.

Bu tanımda aşağıdaki sorulardan hangisinin cevabı yoktur?

- A) Zekâtın nasıl verileceği  
B) Zekâtı kimlerin vereceği  
C) Zekâtın kimlere verileceği  
D) Zekâtın ne zaman verileceği

7. Ganj Nehrin’de yıkanmak aşağıdaki dinlerin hangisinde temel ibadet olarak kabul edilir?

- A) Budizm B) Yahudilik  
C) Hinduizm D) Hristiyanlık

8. Aşağıdaki ayetlerden hangisi Kur’an’ın doğru bilgiye verdiği önemle ilgilidir?

- A) “... Ey akıl sahipleri! Allah’a karşı gelmekten sakının ki kurtuluşa eresiniz.”  
(Maide suresi, 100. ayet)  
B) “Hakkında kesin bilgi sahibi olmadığın şeyin peşine düşme. Çünkü göz, kulak ve kalp bunların hepsi ondan sorumludur.”  
(İsra suresi, 36. ayet)  
C) “O, yeri-göğü tabaka tabaka yaratandır. Rahman’ın yaratılışında hiçbir uyumsuzluk göremezsin.”  
(Mülk suresi, 3. ayet)  
D) “Göklerin ve yerin yaratılışında, gece ile gündüzün birbiri ardınca gelip gidişinde akıl sahipleri için gerçekten açık ibretler vardır.”  
(Âl-i İmran suresi, 190. ayet)

9. Kâbe’nin etrafındaki her bir dönüş ne denir?

- A) Şavt B) Sa’y  
C) Vakfe D) Tavaf

10. Aşağıdakilerden hangisi Hz. İsa hakkında Hristiyanlık ve İslam’ın ortak görüşü değildir?

- A) Annesi Hz. Meryem’dir.  
B) Kendisine İncil verilmiştir.  
C) Nasıra denilen yerde doğmuştur.  
D) Çarmıha gerilerek öldürülmüştür.



11. Aşağıdaki ayetlerden hangisi Allah'ın her şeyi bir ölçüye göre yarattığını ifade etmektedir?

- A) "İnsanlar 'inandık' demekle imtihan edilmeden bırakılacaklarını mı zannederler?"  
(Ankebut suresi, 2. ayet)
- B) "Allah'a iftira ederek yalan uyduran veya O'nun ayetlerini yalanlayandan daha zalim kimdir?"  
(En'am suresi, 21. ayet)
- C) "Gökleri yedi kat üzerine yaratan O'dur. Rahman'ın yaratmasında bir düzensizlik bulamazsın. Gözünü çevir ve bir bak, bir çatlak görebilir misin?"  
(Mülk suresi, 3. ayet)
- D) "Küçümseyerek surat asıp insanlardan yüz çevirme ve yeryüzünde kibirlenerek yürüme! Çünkü Allah hiçbir kibirleneni ve övüngeni sevmez."  
(Lokman suresi, 18. ayet)

12. "Komşusu aç iken tok yatan bizden değildir."

**Bu hadiste aşağıdakilerden hangisinin önemi vurgulanmıştır?**

- A) Sabrın B) Paylaşmanın  
C) Adaletin D) Hoşgörünün

13. Safa ve Merve Tepeleri arasında hızlı adımlarla yedi defa gidip gelerek yapılan ibadet aşağıdakilerden hangisidir?

- A) Sa'y B) Tavaf C) Vakfe D) Şavt

14. Mekkeli müşrikler, Hz. Muhammed'i (sav.) davasından vazgeçirmeye çalışmışlardır. Bunda başarılı olamayınca O'na ve İslam'a inananlara çeşitli işkenceler ve ambargolar uygulamışlardır. Fakat Peygamberimiz davasından vazgeçmemiştir.

**Bu metinde Hz. Muhammed (sav.)'in hangi yönü vurgulanmaktadır?**

- A) Hakkı gözetmesi B) Çalışmayı sevmesi  
C) Sabırlı oluşu D) Danışarak iş yapması

15. Hz. Muhammed'in (sav.) Hılfu'l-Fudul'a (Erdemliler Topluluğu) katılma sebebi aşağıdakilerden hangisidir?

- A) İstişare için ortam oluşturmak  
B) Haksızlıkları önlemeye çalışmak  
C) İslam'ı diğer toplumlara yaymak  
D) Kabe'nin tamiri için destek sağlamak

16. Aşağıdakilerden hangisi bir düşünceye, inanışa körü körüne aşırı derecede bağlanıp ondan başkasını düşünememe durumunu ifade eden kavramdır?

- A) Hurafe B) Bağlılık  
C) Ruhbanlık D) Taassup

17. "Umulur ki düşünürsünüz diye ayetlerimizi size böyle açıklıyoruz."

(Bakara suresi, 76. ayet)

**Bu ayetten aşağıdaki sonuçlardan hangisine ulaşılabilir?**

- A) Evren mükemmel bir düzen içinde yaratılmıştır.  
B) İnsan, yaptığı her davranışın karşılığını görecektir.  
C) Allah, insanlardan akıllarını kullanmalarını istemektedir.  
D) Dinin anlaşılması için Hz. Muhammed'e (sav.) ihtiyaç vardır.

18. Aşağıdaki kurban türlerinden hangisinin etinden kurban sahibi yiyemez?

- A) Şükür B) Bayram C) Akika D) Adak

19. Hz. Muhammed'in (sav.) Medine'de Mescid-i Nebi'nin yanında "Suffe" denilen bir yer yaptırması O'nun hangi yönüyle ilgilidir?

- A) Bilgiye önem vermesi  
B) Güvenilir bir insan olması  
C) Hoşgörülü ve affedici olması  
D) Doğayı ve hayvanları sevmesi

20. Umre'de aşağıdakilerden hangisi yapılmaz?

- A) Kâbe'yi tavaf etmek  
B) Arafat'ta vakfe yapmak  
C) İhrama girmek  
D) Sa'y yapmak

**TEST BİTTİ.**

**CEVAPLARINIZI KONTROL EDİNİZ.**



### CEVAP KÂĞIDI VE SORU KİTAPÇIĞI İLE İLGİLİ AÇIKLAMALAR

1. Cevap kâğıdındaki bilgilerin doğruluğunu kontrol ediniz ve cevap kâğıdınızı mürekkepli kalemle imzalayınız.
2. Cevap kâğıdı üzerinde kodlamalarınızı siyah kurşun kalemle yapınız.
3. Değiştirmek istediğiniz bir cevabı, yumuşak silgiyle cevap kâğıdını örselemeden temizce siliniz ve yeni cevabınızı kodlayınız.
4. Soru kitapçığının sayfalarını görevlilerin uyarıları doğrultusunda kontrol ediniz, baskı hatası var ise değiştirilmesini sağlayınız.
5. Soruların çözümü için size ayrıca boş kâğıt verilmeyecektir. Soru kitapçığının içindeki boş alanları soru çözümleri için kullanabilirsiniz.
6. Her sorunun dört seçeneğinden sadece biri doğrudur. Doğru seçeneği, cevap kâğıdınızın ilgili sütununa soru numarasını dikkate alarak yuvarlağın dışına taşırmadan kodlayınız. Soru kitapçığı üzerinde yapılan cevaplandırmalar dikkate alınmayacaktır.
7. Cevaplamaya istediğiniz dersin sorusundan başlayabilirsiniz. Cevabını bilmediğiniz sorular üzerinde fazla zaman kaybetmeden diğer sorulara geçiniz. Zamanınız kalırsa bu sorulara daha sonra dönebilirsiniz.
8. Yanlış cevaplarınız dikkate alınmadan sadece doğru cevaplarınız üzerinden puanlama yapılacaktır.
9. Soruları ve sorulara verdiğiniz cevapları, yanınızda götürmek amacıyla kaydetmeyiniz; hiçbir şekilde dışarı çıkarmayınız.
10. Sınav bitiminde soru kitapçığı ve cevap kâğıdını salon görevlilerine teslim ediniz.

### SALON GÖREVLİLERİNCE SINAV BAŞLAMADAN ÖNCE ADAYLARA YAPILACAK SON UYARILAR

- Soracağınız bir şey varsa şimdi sorunuz, sınav başladıktan sonra sorularınıza cevap verilmeyecektir.
- Başlama zilini bekleyiniz.

*Hepinize başarılar dileriz.*

(Salon başkanı başlama ve bitiş saatini tahtaya yazacaktır.)

Bu kitapçığın her hakkı saklıdır. Hangi amaçla olursa olsun, kitapçığın tamamının veya bir kısmının Millî Eğitim Bakanlığı Ölçme, Değerlendirme ve Sınav Hizmetleri Genel Müdürlüğünün yazılı izni olmadan kopya edilmesi, fotoğraflarının çekilmesi, bilgisayar ortamına alınması, herhangi bir yolla çoğaltılması, yayımlanması veya başka bir amaçla kullanılması yasaktır. Bu yasağa uymayanlar, doğabilecek cezai sorumluluğu ve kitapçığın hazırlanmasındaki mali külfeti peşinen kabullenmiş sayılır.

**21 NİSAN 2018 TARİHİNDE YAPILAN**  
**AÇIK ÖĞRETİM ORTAOKULU 2017-2018 ÖĞRETİM YILI 2. DÖNEM SINAVI**  
**CEVAP ANAHTARI**

<b>MATEMATİK – 6</b>	<b>İNGİLİZCE – 6</b>	<b>FRANSIZCA – 6</b>	<b>TÜRKÇE – 7</b>
1. A	1. A	1. D	1. C
2. A	2. C	2. B	2. B
3. D	3. D	3. C	3. D
4. C	4. A	4. A	4. C
5. D	5. B	5. A	5. A
6. B	6. D	6. C	6. B
7. A	7. C	7. D	7. D
8. D	8. B	8. B	8. C
9. B	9. D	9. D	9. B
10. A	10. B	10. B	10. A
11. C	11. B	11. C	11. B
12. B	12. C	12. C	12. D
13. C	13. A	13. D	13. A
14. D	14. D	14. B	14. C
15. A	15. D	15. C	15. A
16. D	16. B	16. A	16. C
17. C	17. C	17. A	17. D
18. D	18. D	18. C	18. D
19. C	19. B	19. D	19. B
20. B	20. C	20. B	20. C

<b>FEN BİLİMLERİ – 6</b>	<b>ALMANCA – 6</b>	<b>DİN KÜLTÜRÜ ve AHLAK BİLGİSİ – 6</b>	<b>MATEMATİK – 7</b>
1. C	1. B	1. B	1. A
2. D	2. A	2. C	2. D
3. C	3. C	3. A	3. B
4. A	4. D	4. D	4. C
5. C	5. C	5. B	5. B
6. D	6. A	6. A	6. B
7. D	7. B	7. D	7. D
8. B	8. D	8. C	8. D
9. A	9. C	9. B	9. B
10. D	10. A	10. A	10. C
11. B	11. D	11. C	11. A
12. A	12. C	12. D	12. C
13. C	13. D	13. A	13. D
14. B	14. C	14. B	14. B
15. D	15. A	15. D	15. A
16. C	16. B	16. C	16. C
17. B	17. A	17. D	17. D
18. B	18. D	18. C	18. A
19. A	19. B	19. A	19. D
20. D	20. B	20. B	20. A

**21 NİSAN 2018 TARİHİNDE YAPILAN  
AÇIK ÖĞRETİM ORTAOKULU 2017-2018 ÖĞRETİM YILI 2. DÖNEM SINAVI  
CEVAP ANAHTARI**

<b>FEN BİLİMLERİ – 7</b>	<b>İNGİLİZCE – 7</b>	<b>FRANSIZCA – 7</b>	<b>TÜRKÇE – 8</b>
1. C	1. D	1. C	1. C
2. C	2. B	2. C	2. D
3. D	3. C	3. B	3. B
4. B	4. A	4. D	4. A
5. B	5. B	5. D	5. A
6. A	6. D	6. C	6. D
7. C	7. C	7. A	7. A
8. D	8. C	8. B	8. B
9. A	9. A	9. D	9. C
10. B	10. C	10. A	10. C
11. D	11. A	11. B	11. A
12. A	12. B	12. C	12. D
13. D	13. C	13. C	13. A
14. C	14. D	14. B	14. B
15. B	15. A	15. A	15. C
16. A	16. A	16. D	16. A
17. C	17. C	17. A	17. D
18. D	18. D	18. B	18. B
19. B	19. D	19. C	19. D
20. C	20. B	20. A	20. C
<b>SOSYAL BİLGİLER – 7</b>	<b>ALMANCA – 7</b>	<b>DİN KÜLTÜRÜ ve AHLAK BİLGİSİ – 7</b>	<b>MATEMATİK – 8</b>
1. B	1. D	1. C	1. B
2. A	2. B	2. D	2. C
3. D	3. A	3. B	3. D
4. C	4. A	4. A	4. A
5. D	5. C	5. D	5. A
6. B	6. B	6. A	6. B
7. A	7. A	7. B	7. D
8. C	8. C	8. C	8. B
9. D	9. B	9. A	9. C
10. C	10. D	10. C	10. C
11. A	11. A	11. B	11. B
12. C	12. C	12. D	12. D
13. B	13. D	13. A	13. B
14. A	14. B	14. B	14. C
15. C	15. A	15. D	15. D
16. D	16. C	16. C	16. A
17. A	17. C	17. A	17. D
18. B	18. D	18. D	18. D
19. D	19. A	19. B	19. A
20. B	20. B	20. C	20. A

**21 NİSAN 2018 TARİHİNDE YAPILAN  
AÇIK ÖĞRETİM ORTAOKULU 2017-2018 ÖĞRETİM YILI 2. DÖNEM SINAVI  
CEVAP ANAHTARI**

**FEN BİLİMLERİ – 8**

1. B
2. D
3. A
4. D
5. B
6. D
7. D
8. A
9. C
10. B
11. C
12. B
13. D
14. A
15. C
16. D
17. C
18. C
19. A
20. A

**İNGİLİZCE – 8**

1. D
2. A
3. C
4. B
5. C
6. A
7. D
8. B
9. C
10. C
11. B
12. C
13. D
14. A
15. C
16. B
17. A
18. B
19. A
20. D

**FRANSIZCA – 8**

1. B
2. D
3. D
4. A
5. C
6. D
7. A
8. B
9. C
10. A
11. D
12. B
13. B
14. C
15. A
16. B
17. C
18. D
19. B
20. A

**T.C.İNK.TAR. VE  
ATATÜRK. – 8**

1. C
2. B
3. D
4. A
5. D
6. C
7. A
8. B
9. C
10. A
11. D
12. C
13. A
14. A
15. C
16. D
17. B
18. B
19. A
20. D

**ALMANCA – 8**

1. D
2. C
3. A
4. B
5. D
6. B
7. C
8. A
9. C
10. B
11. A
12. C
13. D
14. A
15. D
16. B
17. A
18. C
19. B
20. D

**DİN KÜLTÜRÜ ve AHLAK  
BİLGİSİ – 8**

1. B
2. A
3. D
4. C
5. D
6. A
7. C
8. B
9. A
10. D
11. C
12. B
13. A
14. C
15. B
16. D
17. C
18. D
19. A
20. B