



**AÇIK ÖĞRETİM ORTAOKULU  
2019 - 2020 ÖĞRETİM YILI  
2. DÖNEM SINAVI**

**0**

**25 TEMMUZ 2020 Saat: 14.00**

**2.**  
**OTURUM**

<u>DERSLER</u>	<u>SAYFA</u>	<u>DERSLER</u>	<u>SAYFA</u>
(553) SOSYAL BİLGİLER – 5	2	(733) SOSYAL BİLGİLER – 7	17
(554) İNGİLİZCE – 5	3	(735) İNGİLİZCE – 7	19
(554) ALMANCA – 5	5	(735) ALMANCA – 7	20
(554) FRANSIZCA – 5	6	(735) FRANSIZCA – 7	22
(555) DİN KÜL. VE AHLAK BİLGİSİ – 5	8	(736) DİN KÜL. VE AHLAK BİLGİSİ – 7	23
(630) TÜRKÇE – 6	11	(830) TÜRKÇE – 8	25
(631) MATEMATİK – 6	13	(831) MATEMATİK – 8	27
(632) FEN BİLİMLERİ – 6	15	(832) FEN BİLİMLERİ – 8	29

**ADAYLARIN DİKKATİNE!**

- Her ders için 20 soru bulunmaktadır. Bu oturumda **150** dakikalık cevaplama süreniz vardır. Sınav başladıktan sonra ilk **30** dakika tamamlanmadan dışarı çıkmayınız.
- Sınav sırasında çanta, cep telefonu, saat, kablosuz iletişim sağlayan cihazlar ve kulaklık, kolye, küpe, bilezik, yüzük, broş ve benzeri eşyalar ile her türlü elektronik ve/veya mekanik cihazları yanınızda bulundurmuyunuz. Bu araçları yanınızda bulundurmanız ve kopya çekmeye teşebbüs etmeniz hâlinde sınavınız geçersiz sayılacaktır.
- Başvuru şartlarını taşımadığınız hâlde sınava girmeniz, kopya çekmeniz, başka adayın sınav evrakını kullanmanız ve geçerli kimlik belgenizi ibraz edemediğiniz durumlarda sınavınız geçersiz sayılacaktır.
- Sınavın değerlendirilmesi aşamasında, bilgisayar ortamında yapılan kopya analizinde sistemin ikili ve/veya toplu kopya tespiti hâlinde sınavınız geçersiz sayılacaktır.
- Adaylar, sınav kurallarına ve salon görevlilerinin tüm uyarılarına uymak zorundadır. Kurallara ve uyarılara uymayan adayların sınavları geçersiz sayılacaktır.**
- Sınav başladıktan sonra adayların salon görevlileri ve birbirleri ile konuşmaları; kalem, silgi vb. şeyleri istemeleri yasaktır.
- Adaylar sınav süresince geçerli kimlik belgelerinden birinin aslını (fotoğraflı nüfus cüzdanı, süresi geçmemiş pasaport veya sürücü belgesi) masalarının üzerinde bulundurmamak zorundadır.
- Sınav evraklarını teslim etmeyen, soru kitapçıklarının sayfalarından bir kısmını eksik teslim edenlerin sınavları geçersiz sayılacaktır.**
- Sınav başlamadan önce kitapçığın arkasındaki açıklamaları okuyunuz.

**BAŞLAYINIZ DENMEDEN SORU KİTAPÇIKLARINI AÇMAYINIZ.**



## 2. OTURUM

### (553) SOSYAL BİLGİLER – 5

1. Aşağıdakilerden hangisi sosyal bilgiler dersinin kazandırdıklarındandır?

- A) Doğal sayıları büyükten küçüğe sıralama
- B) Maddenin yapısını tanıma
- C) Ülkesini ve dünyayı daha yakından tanıma
- D) Canlıları özelliklerine göre sınıflandırma

2. Aşağıdakilerden hangisi hak bilinci gelişmiş kişilerin özelliklerindendir?

- A) Gerekli durumlarda haklarını savunmak
- B) İnsanların haklarına saygısız davranmak
- C) Diğer insanların haklarını göz ardı etmek
- D) Haklarını koruma konusunda isteksiz olmak

3. Aşağıdakilerden hangisi sorumluluk duygusu gelişmiş kişilerin özelliklerinden değildir?

- A) İşlerini yarım bırakmaz.
- B) Kararlarının arkasında durur.
- C) Çevrenin değerlerini önemser.
- D) Hatalarını başkalarına yükler.

4. Hitit saraylarına ve şehir surlarına ait çok sayıda kalıntının bulunduğu bölge aşağıdakilerden hangisidir?

- A) Konya - Çatalhöyük
- B) Denizli - Pamukkale
- C) Çorum - Hattuşa
- D) İzmir - Selçuk

5. Aşağıdakilerden hangisi Türkiye’de yer alan ortak miras öğelerinden biri değildir?

- A) Hevsel Bahçeleri
- B) Kobistan Millî Parkı
- C) Ani Arkeolojik Alanı
- D) Troia Antik Kenti

6. Aşağıdakilerden hangisi ülkemize ait doğal güzelliklerdendir?

- A) Manyas Kuş Cenneti
- B) Efes Antik Kenti
- C) Sümela Manastırı
- D) Augustus Tapınağı

7. Ürünler üzerine motifler, çekiç darbeleriyle resim çizer gibi işlenir. Günümüzde Gaziantep, Kahramanmaraş gibi illerde bu meslek hâlen devam etmektedir.

Verilen bilgiler hangi el sanatları mesleğine aittir?

- A) Halıcılık
- B) Çinicilik
- C) Bakırcılık
- D) Hattatlık

8. Aşağıdakilerden hangisi toplumun duygularını, sevinçlerini ve yaşamlarını ifade ettiği değerlerden değildir?

- A) Türküler
- B) Fıkralar
- C) Masallar
- D) Haritalar

9. Akarsular tarafından derin yarılmış, çevresine göre yüksekte olan geniş düzlüklere ne ad verilir?

- A) Plato
- B) Göl
- C) Ova
- D) Dağ

10. • Ülkemizde bu iklimin görüldüğü yerlerde, daha çok taş evler yaygındır.  
• Yaz ayları sıcak ve kurak, kışlar ise ılık ve yağışlı geçer.

Verilen bilgiler aşağıdaki iklim tiplerinden hangisiyle ilgilidir?

- A) Karadeniz
- B) Akdeniz
- C) Karasal
- D) Muson

11.

Bankacılık ve diğer sosyal hesaplarımızda kullandığımız şifrelerimizi düzenli aralıklarla güncellemeliyiz. Seçmiş olduğumuz şifreleri karmaşık sayı ve harflerden oluşturmaliyiz.



Ahmet

Ahmet’in bu uyarıları aşağıdakilerden hangisi ile ilgilidir?

- A) Mesafeli sözleşme
- B) Telif hakkı
- C) Medya bağımlılığı
- D) Kimlik hırsızlığı

## 2. OTURUM

12. Aşağıdakilerden hangisi medya bağımlısı bir kişide görülen belirtilerden değildir?

- A) Ailesinden ve arkadaş çevresinden uzaklaşır.
- B) Sinirli ve anlayışsızdır.
- C) Medyayı kullanırken bilinçlidir.
- D) Öğrenci ise ders başarısı düşebilir.

13. Ülkemizde sanayinin en önemli merkezî konumundaki şehir aşağıdakilerden hangisidir?

- A) Ağrı
- B) İstanbul
- C) Bitlis
- D) Yozgat

14. Postacılık mesleğinin hizmet alanı aşağıdakilerden hangisidir?

- A) Ulaşım
- B) Eğitim
- C) Sağlık
- D) Haberleşme

15. İşlenmiş bir ürün çeşidi olan kâğıdın ham maddesi aşağıdakilerden hangisidir?

- A) Ağaç
- B) Kum
- C) Taş
- D) Toprak

16. Aşağıdakilerden hangisi sağlıkla ilgili ihtiyaçları karşılamak amacıyla kurulmuş sivil toplum kuruluşlarındandır?

- A) AKUT
- B) TEMA
- C) LÖSEV
- D) ÇEVKO

17. Sınır, kıyı ve karasularımızın muhafaza ve emniyetini sağlamak aşağıdaki bakanlıklardan hangisinin görevidir?

- A) Millî Eğitim
- B) İçişleri
- C) Çevre ve Şehircilik
- D) Kültür ve Turizm

18. Aşağıdakilerden hangisi valinin görevlerindendir?

- A) Nüfus cüzdanını kaybedenlere kaybettiğine dair belge vermek
- B) Belediyenin mal ve mülkünü idare ve temsil etmek
- C) İlin her yönden genel idare ve genel gidişini düzenlemek ve denetlemek
- D) Cumhuriyet Bayramı'nda ilçede yapılacak resmî törenlere başkanlık yapmak

19. Ayşe, öğretmeninin sorusuna: "Egemenliğin bir kişiye ya da gruba değil bütün millete ait olmasıdır." şeklinde cevap vermiştir.

Buna göre, öğretmenin sorduğu soru aşağıdakilerden hangisi olabilir?

- A) Vatan nedir?
- B) Millet nedir?
- C) Medeniyet nedir?
- D) Millî egemenlik nedir?

20. Başka bir ülkeden mal getirme veya satın alma işine verilen isim aşağıdakilerden hangisidir?

- A) İhracat
- B) İthalat
- C) İç ticaret
- D) Üretim

(554) İNGİLİZCE – 5

1 - 18. sorularda boş bırakılan yere uygun gelen kelime ya da ifadeyi işaretleyiniz.

1. I hate science lessons because I am - - - - doing experiments.


- A) interested in
- B) good at
- C) bad at
- D) sorry for

2. Eric : - - - -?

Ashley : Turkish and Physical Education.

- A) Which classes do you have on Mondays
- B) How many days do you have classes in a week
- C) Do you have classes at weekends
- D) Do you like language classes at school

3.



Kevin is sitting - - - - Mary.

- A) behind
- B) next to
- C) in front of
- D) between

## 2. OTURUM

4. **Lee** : Excuse me, how can I get to the butcher's?  
**Louise** : Go straight - - - - and turn right into Rose Street.

A) between                      B) ahead  
 C) above                        D) next to

5. **Ronaldo** - - - - online to play games with his friends every evening.

A) cuts                            B) eats  
 C) goes                           D) drinks

6.



**My favourite activity is - - - -.**

A) hiking                        B) fishing  
 C) swimming                   D) camping

7.



**Jessica likes collecting - - - -.**

A) ropes                        B) stamps  
 C) hobbies                    D) skates

8. **Eva** : - - - - lunch?  
**Sarah** : At Strawberry Cafe.

A) Where do you have  
 B) Why do you have  
 C) What do you have for  
 D) When do you have

9. **Doctor** : What's wrong with you?  
**Jack** : - - - -.

A) I don't feel well. I have a fever  
 B) I see. Don't play online games  
 C) I am sorry to hear that  
 D) I can help you

10. **Carol** : I have a backache. It hurts a lot.  
**Ann** : You shouldn't - - - -.

A) stay in bed  
 B) see a dentist  
 C) drink cold water  
 D) carry heavy things

11.



**George has a - - - -. He needs some tissues.**

A) backache                    B) runny nose  
 C) sore throat                D) stomachache

12.

exciting	x	boring
handsome	x	? - - -

A) stingy                        B) brave  
 C) ugly                           D) strong

13. **Anthony** : - - - - ?  
**Alexandra** : Action films are my favourite.

A) Who is the main character  
 B) Where do you watch movies  
 C) When does the movie start  
 D) What kind of movies do you watch

14.



**There are three - - - - on the cake.**

A) gifts                           B) candles  
 C) balloons                    D) beverages

15. **Carmen** : - - - - ?  
**Rose** : Thanks for your invitation. But I'm busy then.

A) Can I throw a birthday party for you  
 B) Can I use your mobile phone  
 C) Do you invite all your friends  
 D) Do you want to come to my party

## 2. OTURUM

16. **Isac** : Oh, I'm so bored.  
**Isabel** : How about - - - -? There is a pool near our house.  
**Isac** : Oh, that's a great idea!

A) swim B) swims  
 C) to swim D) swimming

17. **Lily** : The weather is nice. Let's - - - - basketball in the garden.  
**Lisa** : I'm afraid I can't. I have a backache.

A) playing B) will play  
 C) play D) plays

18. **Mark** : Dad, can I feed that cute puppy?  
**Dad** : - - - -. The vet is examining the puppy.

A) Not right now B) It is a good idea  
 C) Sure, go ahead D) No problem

19. There are **365** days in a year.

**Verilen sayının İngilizce yazılışı hangisidir?**

A) three hundred and fifty-six  
 B) three hundred and sixty-five  
 C) three hundred and fifty-five  
 D) three hundred and sixty-three

20.



**Afişe göre aşağıdaki sorulardan hangisini cevaplayamayız?**

- A) How long is the movie?  
 B) What is the number of the hall?  
 C) What time is the movie?  
 D) What is the name of the movie?

### (554) ALMANCA – 5

**1 - 14. sorularda boş bırakılan yere uygun gelen ek, kelime ya da ifadeyi işaretleyiniz.**

1. **Das ist das Kind, - - - - gut Deutsch spricht.**

A) der B) die C) das D) dem

2. **A: Wohin will Mehmet fahren?**

**B: Er will - - - - die Berge fahren.**

A) am B) in C) nach D) ans

3. **Im Kino sind alle Plätze besetzt.**



**Im Kino sind - - - - Zuschauer.**

A) niemand B) selten  
 C) wenige D) viele

4. **Kemal Sunal ist ein berühmter - - - - .**  
 (Film yıldızı)

A) Filmstar B) Filmfestival  
 C) Zuschauer D) Erzähler

5. **- - - - komme ich zum Spielplatz?**

A) Wo B) Wie C) Was D) Wohin

6. **Die Schülerin möchte in die Schule gehen. Sie - - - - mit dem Schulbus fahren.**

A) sollen B) sollst  
 C) soll D) sollt

7. **A: Wann hat dein Vater Geburtstag?**

**B: Mein Vater hat - - - - Juni Geburtstag.**

A) am B) um C) in D) im

## 2. OTURUM

Was ist das?	Was machen sie?
die Arbeit	arbeiten
der Einkauf	-----
der Wunsch	wünschen
die Organisation	organisieren
das Spiel	spielen

- A) einkaufen B) Verkäufer  
C) einschlafen D) Einkauf

### 9. Wer ----- die Einladung?

- A) schreiben B) schreibst  
C) schreibt D) geschrieben

### 10. ----- gibt es zum Essen?

- A) Was B) Wer C) Wohin D) Woher

### 11. Das Buch gehört sein ----- Lehrerin.

- A) -em B) -er C) -e D) -en

### 12. In der Türkei beginnt die ----- in der 5. Klasse.

- A) Mittelschule B) Grundschule  
C) Kindergarten D) Gymnasium

### 13. Wir lernen im ----- Fremdsprachen.

- A) Musikklasse B) Turnhalle  
C) Sprachlabor D) Kantine



A: ----- ist das?

B: Das ist eine Brücke.

- A) Was B) Wo C) Wie D) Wer

### 15. A: Wie war die Reise?

B: Die Reise war -----.

**Bu diyalogta boş bırakılan yere aşağıdakilerden hangisi getirilemez?**

- A) interessant B) günstig  
C) grün D) schön

### 16. Aşağıdaki sıfatlardan hangisinin zıt anlamı yanlış verilmiştir?

- A) alt × jung B) falsch × richtig  
C) viel × wenig D) gut × sehr gut

### 17. Aşağıdakilerden hangisi fiildir?

- A) Feier B) feiern  
C) Feierabend D) Feiertag

### 18. Aşağıdakilerden hangisi fiil değildir?

- A) vergleichen B) verbessern  
C) gefallen D) klein

### 19. "Yaz tatili"nin Almanca karşılığı aşağıdakilerden hangisidir?

- A) die Sommerferien  
B) die Semesterferien  
C) das Schuljahr  
D) die Schulmethode

### 20.



**Womit fährt Ali nach Antalya?**

- A) Er fährt mit dem Zug.  
B) Er fährt mit der S-Bahn.  
C) Er fährt mit dem Bus.  
D) Er fährt mit dem Auto.

## (554) FRANSIZCA – 5

**1 - 12. sorularda boş bırakılan yere uygun gelen kelime ya da ifadeyi işaretleyiniz.**

### 1. ----- s'appelle Murat.

- A) Elle B) Il C) Tu D) Ils

### 2. Le jeune homme : Pardon madame, ----- est la banque ?

**La femme** : Prenez la deuxième rue à droite, à côté de la poste.

- A) qui B) où  
C) comment D) combien

## 2. OTURUM

3. En Suisse, on parle quatre - - - - : l'allemand, le français, l'italien et le romanche.

- A) langues B) tête  
C) ventres D) dos

4. Deniz : Quelle est la nationalité de ton ami ?  
Arzu : - - - -.

- A) Il est allemand  
B) Il habite en Allemagne  
C) Il aime le café turc  
D) Il travaille à Munich

5. Paul : Tu as des - - - - ?  
Nazlı : Oui, j'ai un chat et un perroquet.

- A) bananes B) tomates  
C) animaux D) biscuits

6. Ayşe : Est-ce que vous allez au cinéma ?  
Emma : - - - -, nous allons à la bibliothèque.

- A) Oui B) D'accord  
C) Si D) Non

7. Marie : Où est-ce que tu as mal ?  
Derya : J'ai mal - - - -.

- A) de la fièvre B) au café  
C) à la piscine D) à la tête

8. M. Thibaut : Vous avez une voiture ?  
M. Gibert : Non, je n'ai pas - - - - voiture mais j'ai une moto.

- A) de B) la C) le D) des

9. - - - - Japon, on fait du sumo.

- A) Aux B) Au C) À D) En

10. Sandra : - - - - ?  
Sophie : Je suis malade. J'ai le rhume.

- A) Comment vas-tu  
B) Quelle heure est-il  
C) Quel temps fait-il  
D) Quelle est ta chanson turque préférée

11. Elle est travailleuse comme - - - - .

- A) un agneau B) une girafe  
C) un chat D) une abeille

12. A : - - - - je peux caresser ton chien ?  
B : Non, il n'aime pas ça.

- A) Est-ce que B) Comment  
C) Quels D) Où

13. Aşağıdakilerden hangisi 16 sayısının yazılışıdır?

- A) six B) seize C) treize D) trois

14. Aşağıdaki rakamlardan hangisinin yazılışı yanlış verilmiştir?

- A) 3 - trois B) 9 - neuf  
C) 7 - sept D) 2 - douze

15-20. soruları resmi dikkate alarak cevaplayınız.

15.



Il fait - - - -.

- A) pleut B) mauvais  
C) beau D) neige

16.



Luc étudie - - - -.

- A) au lycée B) au café  
C) dans le parc D) au musée

## 2. OTURUM

17.




A : Qu'est-ce qu'ils font dans le jardin ?

B : - - - - .

- A) Ils sautent
- B) Ils jouent au ballon prisonnier
- C) Ils jouent à colin-maillard
- D) Ils jouent au cache-cache

18.



Il est - - - - .

- A) cinq heures moins cinq
- B) cinq heures et demie
- C) cinq heures cinq
- D) cinq heures

19.



Elle a mal - - - - .

- A) aux dents
- B) à la tête
- C) au dos
- D) de la fièvre

20.



Il a - - - - .

- A) chaud
- B) froid
- C) soif
- D) fatiguées

### (555) DİN KÜL. VE AHLAK BİLGİSİ – 5

1. Allah'ın, insanın bildiği veya hayal ettiği hiçbir varlığa benzememesine - - - - denir.

**Bu cümlede boş bırakılan yere aşağıdakilerden hangisi getirilmelidir?**

- A) kıdem
- B) beka
- C) vahdaniyet
- D) muhalefetün lil-havadis

2. "Gökleri ve yeri yerli yerince yarattı. Sizi şekillendirdi ve şeklinizi de güzel yaptı..."  
(Teğâbun suresi, 3. ayet)

**Bu ayetten aşağıdakilerin hangisine ulaşamaz?**

- A) Her varlığın bir amaç için yaratıldığına
- B) Evrende belli bir düzen olduğuna
- C) Her şeyin bir yaratıcısının olduğuna
- D) İnsanın güzel özellikler ile yaratıldığına

3. Köyünde yaşadığı kuraklığı ve kıtlığı haber veren sütanesi Halime'ye, Hz. Peygamber kırk koyun ve bir deve hediye etmiştir.

**Bu metinden Hz. Peygamber ile ilgili aşağıdakilerden hangisine ulaşılabilir?**

- A) Cesaretliliğine
- B) Kararlılığına
- C) Çalışkanlığına
- D) Yardımseverliğine

4. "Sözünüzü ister gizleyin ister açığa vurun; bilin ki O, kalplerin içindekini bilmektedir."  
(Mülk suresi, 13. ayet)

**Bu ayet Allah'ın aşağıdaki sıfatlarından hangisi ile ilgilidir?**

- A) Tekvin
- B) İlim
- C) Kıdem
- D) Beka

## 2. OTURUM

5. • Hz. İshak ve Hz. İsmail'in babasıdır.  
• Kâbe'yi inşa eden ve hac ibadetini başlatan peygamberdir.  
• Kur'an-ı Kerim'de kendi adında bir sure bulunmaktadır.

**Bu bilgilerin tamamı aşağıdaki peygamberlerden hangisine aittir?**

- A) Hz. İbrahim                      B) Hz. Yusuf  
C) Hz. Musa                        D) Hz. İsa

6. Aşağıdaki hadislerin hangisinde orucun hükmü ile ilgili bilgi verilmektedir?

- A) "Kim inanarak ve karşılığını Allah'tan bekleyerek Ramazan orucunu tutarsa geçmiş günahları bağışlanır."  
B) "Oruçlu, saygısızlık yapmasın, kötü konuşmasın. Eğer biri kendisine kötü bir söz söylerse iki defa 'ben oruçluyum' desin."  
C) "Allah bu ayda (ramazan) size oruç tutmayı farz kıldı. Bu ayda sema (cennet) kapıları açılır, cehennem kapıları ise kapanır."  
D) "Kim oruçlu olduğu hâlde unutarak yerse veya içerse orucunu tamamlasın. Çünkü ona Allah yedirip içirmiştir."

7. Aşağıdakilerden hangisi aşure orucu ile ilgilidir?

- A) Muharrem ayının dokuzuncu ve onuncu günlerinde tutulan oruçtur.  
B) Mazeretten dolayı tutulamayan farz orucun daha sonra tutulmasıdır.  
C) Bir gün tutulup bir gün tutulmayan oruçtur.  
D) Bir işin gerçekleşmesi için tutulan oruçtur.

8. • Ramazan ayı süresince fakirlere verilmesi gereken sadakadır.  
• Ramazan ayında, yatsı namazından sonra kılınan sünnet bir namazdır.  
• Oruç tutmak için imsak vaktinden önce yenilen yemektir.

**Bu açıklamalarda aşağıdaki kavramlardan hangisine yer verilmemiştir?**

- A) Sahur                              B) İftar  
C) Teravîh                            D) Fitre

9. Aşağıdakilerden hangisi nezaket kurallarına uygun bir davranış değildir?

- A) Zor zamanlarında arkadaşının yanında olmak  
B) Yapılan iyiliklere teşekkür etmek  
C) İnsanların özel hayatlarını araştırmak  
D) Araç sürerken yayalara yol vermek

10. "İki kişi üçüncüden ayrı olarak fısıltı ile konuşmasın, bu hareket ayrı olanı üzer."

**Bu hadiste iletişim adabı ile ilgili aşağıdakilerden hangisi vurgulanmaktadır?**

- A) İnsanların fikirlerine saygılı olunması  
B) Toplum içinde kulaktan kulağa konuşulmaması  
C) Konuşurken nazik ve kibar olunması  
D) Yüksek sesle konuşulmaması

11. • "Allah her şeyin yaratıcısıdır ve her şeyi koruyup yöneten de O'dur."

(Zümer suresi, 62. ayet)

- "O, yeryüzünde olanların hepsini sizin için yaratan, sonra göğe yönelip onları yedi gök hâlinde düzenleyendir..."

(Bakara suresi, 29. ayet)

- "O, yaratıp şekillendiren, ahenk veren ve düzene koyandır."

(A'lâ suresi, 2. ayet)

**Bu ayetlerin ortak vurgusu aşağıdakilerden hangisidir?**

- A) Evrende her şey birbirinden farklı yaratılmıştır.  
B) Yaratılan her şeyin başlangıcı ve sonu vardır.  
C) Her şey bir amaç için yaratılmıştır.  
D) Evrenin yaratıcısı Allah'tır.

12. Caminin içerisinde kible yönünde bulunan ve imanın namaz kıldırırken önünde durduğu bölümdür.

**Tanımı verilen kavram aşağıdakilerden hangisidir?**

- A) Minber                              B) Şadırvan  
C) Mihrap                              D) Minare

## 2. OTURUM

13. Selimiye Camii aşağıdaki şehirlerden hangisinde bulunmaktadır?

- A) Erzurum B) Edirne  
C) İstanbul D) Sivas

14. Aşağıdakilerden hangisi salâ sözlerinin içinde yer almaz?

- A) es-Salâtü ves-Selâmü Aleyke Ya Rasûlallah  
B) es-Salâtü ves-Selâmü Aleyke Ya Seyyidel Evveline Vel-Ahirin  
C) es-Salâtü hayrun mine'n nevm  
D) ve'l-Hamdü Lillahi Rabbil Alemin

15. "Risaletü'n-Nushiye" adlı eser aşağıdakilerden hangisine aittir?

- A) Ahmet Yesevî  
B) Erzurumlu İbrahim Hakkı  
C) Mevlana  
D) Yunus Emre

16. Aşağıdaki bilgilerden hangisi Hz. Süleyman ile ilgili değildir?

- A) Babası Hz. Davud'dur.  
B) Kendisine iftira atılması sonucunda zindana atılmıştır.  
C) Büyük bir saltanat ve mülk sahibi olmuştur.  
D) Mescid-i Aksa'nın yapımını tamamlamıştır.

17. Hz. Peygamber, kızı Fatıma'yı çok severdi. O, yanına geldiğinde ayağa kalkarak onu karşılar ve yanına oturturdu.

**Bu metinden Hz. Peygamber'in çocuklarına karşı tutum ve davranışları hakkında aşağıdakilerden hangisine ulaşılabilir?**

- A) Değer verdiğine  
B) İşlerini danıştığına  
C) Ayrım yapmadığına  
D) Eğitimlerine önem verdiğine

18. İslam dini yenilen ve içilen şeylerin temiz ve helal olmasını ilke edinmiştir.

**Buna göre aşağıdaki ayet ve hadislerden hangisi bu ilke ile ilişkilendirilemez?**

- A) "Ey insanlar! Yeryüzünde bulunanların helâl ve temiz olanlarından yiyin!.." (Bakara suresi, 168. ayet)  
B) "Hiç kimse, elinin emeğiyle kazandığından daha hayırlı bir lokma yememiştir." (Hadis-i Şerif)  
C) "Ey Âdemoğulları! Her secde edişinizde güzel elbiselerinizi giyin. Yiyin, için fakat israf etmeyin çünkü Allah israf edenleri sevmez." (A'râf suresi, 31. ayet)  
D) "Yediklerinin helal olmasına dikkat et ki duaların kabul olsun." (Hadis-i Şerif)

19. Aşağıdakilerden hangisi Kevser suresi ile ilgili bir bilgi değildir?

- A) Üç ayetten oluşmaktadır.  
B) Allah'ın varlığı ve birliği vurgulanmaktadır.  
C) Sınırsız bolluk, bereket, neslin çoğalması gibi anlamlara gelir.  
D) Allah için namaz kılınması ve kurban kesilmesi emredilmektedir.

20. "Küçümseyerek insanlardan yüz çevirme ve yeryüzünde böbürlenerek yürüme. Zira Allah, kendini beğenmiş övünüp duran kimseleri asla sevmez. Yürüyüşünde tabîî ol, sesini alçalt..." (Lokmân suresi, 18-19. ayetler)

**Bu ayetlerde sakınılması istenen tutum ve davranış aşağıdakilerden hangisidir?**

- A) Cimri olmak B) Tembel olmak  
C) Kibirli olmak D) Yalan konuşmak

## 2. OTURUM

### (630) TÜRKÇE – 6

1. “Aktarmak” sözcüğü aşağıdakilerin hangisinde “iletmek, bildirmek” anlamında kullanılmıştır?

- A) Ünlü sanatçının romanını geçen yaz filme aktardılar.
- B) Gemimiz bozulunca bizi başka bir gemiye aktardılar.
- C) Suçluyla ilgili bilgileri tüm karakollara aktardık.
- D) Geçirgen bir madde kullanarak elektriği oraya aktardık.

2. 1. Sevmediğim konular açılınca çok sıkılıyorum.  
2. Casusluk olayında herkes o adamdan şüphelendi.  
3. Bu geç vakte kadar sizden bir haber gelmeyince meraklandım.  
4. Bence sen boş yere endişeleniyorsun.

Numaralanmış cümlelerdeki altı çizili sözcüklerden hangileri anlamca birbirine en yakındır?

- A) 1 ve 2
- B) 1 ve 4
- C) 2 ve 3
- D) 3 ve 4

3. Aşağıdakilerin hangisinde altı çizili sözcük mecaz anlamlıdır?

- A) Şunu asla unutmayın: Başarının yolu daima dikenlidir.
- B) Bazı insanlar sadece çalışmak zor geldiği için dileniyor.
- C) Dolabın arkasında ünlü bir ressama ait tablolar bulmuşlar.
- D) Savaşta esir düşen askerleri savaş bitince bıraktılar.

4. Bizim kararlı tavrımız karşısında yelkenleri suya indirdi.

Aşağıdakilerin hangisinde bu cümledeki deyimle yakın anlamlı bir söz kullanılmıştır?

- A) Buğra'nın kardeşi yaptığı her işi yarım bırakıyor.
- B) Kendisini birazcık eleştirsek hemen bozuluyor.
- C) İnsan, hatasını anladığında yeni bir şey öğrenmiş oluyor.
- D) İstedğini yaptıramayacağını görünce direnmekten vazgeçti.

5. İrade, kötü şansı yener.

Bu sözle anlatılmak istenen aşağıdakilerden hangisidir?

- A) İrade, istenmeyen durumları ortadan kaldırır.
- B) İnsanın şanslı olması başarıyı getirir.
- C) Güçlü irade için şansa ihtiyaç vardır.
- D) İradesiz insanlar sürekli hata yapar.

6. “Ama” sözcüğü aşağıdakilerin hangisinde cümleye uyarı anlamı katmıştır?

- A) Seyahate çıkacağım ama arabam hâlâ tamirde.
- B) Evden çıkmadan seni arayacaktım ama telaştan unuttum.
- C) Ben gelmeden onlara sakın bir şey anlatma ama.
- D) Sen de iş yaparken ne kadar dikkatsizsin ama.

7. Aşağıdaki cümlelerin hangisinde neden-sonuç ilişkisi yoktur?

- A) Heyelandan dolayı bizim köyün yolu kapanmış.
- B) İklim koşulları değiştiğinden kışın hiç kar yağmıyor.
- C) Hava kararmadan önce kamp alanına geri dönmeliyiz.
- D) Askerdeyken düzenli spor yaptığım için çakı gibiydim.

8. Aşağıdaki cümlelerin hangisinde nesnel bir anlatım vardır?

- A) Yeryüzünün bağrında açan pembe çiçeklerin güzelliği büyüledi beni.
- B) Sıcak toprağa düşen damlalar kuruyuveriyordu.
- C) Arıların neşeli vızıltısı yedi kat semada yankılanıyordu.
- D) Dalgın rüzgâr, sevimli ekinlerin başını okşayarak dolaştı ovada.

9. (1) Yüzme, kolların ve ayakların hareketlerinden yararlanılarak suda ilerlemeye dayanan bir spordur. (2) Kasları çalıştırır ve güçlendirir. (3) Yüzerken eğleniyor olmak da işin güzel yanıdır. (4) Ayrıca diğer sporlara göre vücudumuzu daha iyi geliştirir.

Bu parçadaki numaralanmış cümlelerin hangisinde karşılaştırma yapılmıştır?

- A) 1
- B) 2
- C) 3
- D) 4

## 2. OTURUM

10. Bambu; hafif, esnek ve çok dayanıklı bir malzemedir. Özellikle Asya'da farklı yapılar ve araçlar bambudan yapılır. Bambudan yapılmış bisikletler, salları ulaşımında; bambudan yapılmış kaplar, koltuk, sandalye ve masalar evlerde karşımıza çıkar. Hatta bambudan yapılmış köprü ve binalara da rastlayabilirsiniz.

**Bu parçanın konusu aşağıdakilerden hangisidir?**

- A) Asya'nın kültürel özellikleri  
B) Bambunun kullanım alanları  
C) Eşyaların insan hayatındaki önemi  
D) Bambu yetiştirmenin zorlukları

11. İnsan, bütün ihtiyaçlarını karşıladığında, ortada bir sorun olmadığında bile bir iç huzursuzluk, bir kaygı yaşayabilir. Böylesi bir duygu durumu yaşadığında bu duyguyu bastırmaya çalışır. Hayatın keşmekeşi içinde bu durumu örtbas etmek ister. Kaygı, insan benliğine yön veren karmaşık bir duygudur. Kişinin gündelik hayat içinde atacağı adımları da belirler.

**Bu parçadan aşağıdaki yargıların hangisi çıkarılamaz?**

- A) Her insanın kaygı düzeyi birbirinden farklıdır.  
B) Kişiliğin oluşumunda kaygının da rolü vardır.  
C) İnsanın kaygı duyması için belirgin bir sebep olmayabilir.  
D) Kaygı, insan davranışlarını etkileyen bir duygudur.

12. Günümüzde insanlar mutsuz bir yaşam sürüyor. Şehirler, tek bir ağacın bile olmadığı beton yığınlarına dönüştü. Fabrikalardan çıkan dumanlar havayı kirletiyor ve insanlar bir gri sis dumanı içinde yaşıyor. Bu durum insanları da değiştiriyor. İşten eve, evden işe gitmekten başka bir şey yapmayan insanlar mutsuz ve daha az hoşgörülü.

**Aşağıdakilerden hangisi bu parçada sözü edilen sorunlara bir çözüm önerisi olamaz?**

- A) Sanayi tesislerinin bacalarına filtre takmak  
B) Ağaçlandırma yapmak  
C) Su kaynaklarını temizlemek  
D) Sosyal aktivitelere zaman ayırmak

13. Romanın adı olan "İs Kan Dil", savaşın bıraktığı lekeleri, sadakatsizlik sonucu dökülen kanı ve romanın geneline hâkim olan aşk hikâyesini yansıtıyor. Romanda, İkinci Dünya Savaşı'nın olumsuz etkilerine rağmen insanların hayata nasıl tutundukları akıcı bir dille anlatılıyor. Savaşın acıları içinde Merih İle Burcu'nun aşkı bir umut ışığı oluyor.

**Bu parçada, "İs Kan Dil" romanının hikâye unsurlarından hangisiyle ilgili bilgi verilmemiştir?**

- A) Kişi  
B) Olay  
C) Zaman  
D) Yer

14. Tiyatro eserindeki olaylar( ) eyleme dökülmüş tutkular( ) özelemler( ) düşler ve isteklerdir( )

**Bu parçada yay ayraçla gösterilen yerlere sırasıyla aşağıdaki noktalama işaretlerinden hangileri getirilmelidir?**

- A) (...) (!) (,) (.)  
B) (,) (,) (;) (...)  
C) (;) (!) (,) (.)  
D) (;) (,) (,) (.)

15. Yalnız büyük Türk milletinin soyluluğundan gelen  
1  
ve benim vicdanımı dolduran yüksek ve manevi  
2 3  
bir kuvvet vardı.  
4

**Bu cümledeki numaralanmış sözcüklerden hangisi hâl eki almıştır?**

- A) 1 B) 2 C) 3 D) 4

16. Toprağa emanet edilmiş bir ağaç; mahalleye,  
1 2 3  
semte, şehre hatta topluma ve bütün ülkeye emanet edilmiş bir sevgidir.  
4

**Bu cümledeki numaralanmış sözcüklerden hangisi soyut isimdir?**

- A) 1 B) 2 C) 3 D) 4

## 2. OTURUM

17. Aşağıdaki cümlelerin hangisinde altı çizili sözcük basit yapıdır?

- A) Hatice Teyze, Karacahisar köyündeki küçük evinde, yılların verdiği ustalıklarla oturuyor dokuma tezgâhının başında.  
B) Bazı halılar, Milaslı kadınlar tarafından sipariş üzerine dokunmaktadır.  
C) Babamın aldığı gözlüğü kimin kıldığını uzun zamandır bulamamıştık.  
D) Sokağın köşesindeki bakkaldan kalemlik ve silgi alıp gelecekti.

18. Aşağıdaki cümlelerin hangisinde sıfat tamlaması yoktur?

- A) Onun yalanları ailenin yıpranmasına sebep oldu.  
B) Kırmızı defter günlerdir masanın üstünde duruyor.  
C) Acısını kimden çıkaracağını bilmiyorum bu işin.  
D) İki gün sonra elimizdeki dosyalar bitmiş olur.

19. Aşağıdaki altı çizili sözcüklerden hangisi birleşik yapı değildir?

- A) Gökkuşağının renklerini hiç saydın mı?  
B) Ankara Kalesi'nin yenilenmiş hâli çok güzel.  
C) Bu sene ekinleri biçmek için biçerdöver kiralayacak.  
D) Kentsel dönüşüm için gecekonduların tamamı yıkılacakmış.

20. Aşağıdaki cümlelerin hangisinde diğerlerinden farklı türde zamir kullanılmıştır?

- A) Bir daha eve getirme şunu sakın.  
B) Onu da mı dün gece götürmüşler?  
C) Hiç akıllanmayacak mısın sen?  
D) Bunlar daha rahat günlerin!

### (631) MATEMATİK – 6

1.  $2 \cdot 2 \cdot 2 \cdot 2 \cdot 2 \cdot 2$  tekrarlı çarpımının üslü ifade olarak yazılışı aşağıdakilerden hangisidir?

- A)  $5^2$  B)  $2^5$  C)  $6^2$  D)  $2^6$

2.  $72 : 6 - 3 \times 2 + 14$  işleminin sonucu kaçtır?

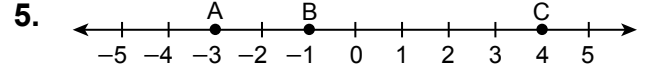
- A) 14 B) 20 C) 26 D) 32

3. 180 sayısının asal çarpanlarının sayısı kaçtır?

- A) 2 B) 3 C) 4 D) 5

4.  $A = \{1, 2, 3, \{4, 5\}, 6, 7\}$  kümesi ile ilgili aşağıdakilerden hangisi doğrudur?

- A)  $s(A) = 7$  B)  $\{5\} \in A$   
C)  $\{4, 5\} \in A$  D)  $4 \in A$



Sayı doğrusu üzerinde verilen A, B ve C noktalarına karşılık gelen tam sayıların başlangıç noktasına olan uzaklıklarının toplamı kaçtır?

- A) 0 B) 5 C) 7 D) 8

6.  $\frac{1}{3} < \square < \frac{5}{8}$  sıralamasının doğru olması için  $\square$  yerine aşağıdaki kesirlerden hangisi yazılmalıdır?

- A)  $\frac{1}{4}$  B)  $\frac{1}{2}$  C)  $\frac{2}{3}$  D)  $\frac{5}{6}$

7.  $\frac{2}{3} + \frac{1}{6}$  işleminin sonucu kaçtır?

- A)  $\frac{7}{6}$  B)  $\frac{5}{6}$  C)  $\frac{1}{2}$  D)  $\frac{1}{3}$

8.  $\frac{121}{50}$  kesrinin ondalık gösterimi aşağıdakilerden hangisidir?

- A) 2,024 B) 2,042  
C) 2,24 D) 2,42

9. Uzun kenarı 6,28 cm, kısa kenarı 4,72 cm olan bir dikdörtgenin çevresi kaç santimetredir?

- A) 21 B) 21,9 C) 22 D) 22,9

10. Ali ile Ayşe'nin yaşları toplamı 21'dir.

Ali 9 yaşında olduğuna göre Ayşe'nin yaşının Ali'nin yaşına oranı kaçtır?

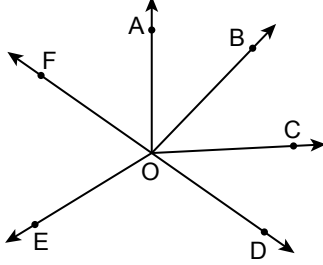
- A)  $\frac{4}{3}$  B)  $\frac{3}{4}$  C)  $\frac{4}{7}$  D)  $\frac{3}{7}$

## 2. OTURUM

11.  $2x + 3y - 1$  cebirsel ifadesinin  $x = 4$  ve  $y = 2$  için değeri kaçtır?

A) 13 B) 15 C) 17 D) 19

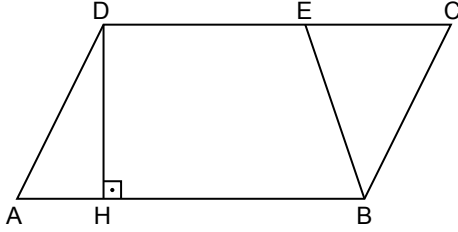
12.



Şekilde  $\widehat{BOC}$  ile komşu açı aşağıdakilerden hangisidir?

A)  $\widehat{EOD}$  B)  $\widehat{AOE}$  C)  $\widehat{COD}$  D)  $\widehat{AOF}$

13.



Şekildeki ABCD paralelkenarında  $[DH] \perp [AB]$  ve  $|AB| = 12$  cm,  $|DE| = 7$  cm,  $|DH| = 6$  cm'dir.

Buna göre BEC üçgeninin alanı kaç santimetrekaredir?

A) 36 B) 30 C) 21 D) 15

14.  $2800 \text{ m}^2$  kaç dönümdür?

A) 0,28 B) 2,8 C) 28 D) 280

15. Çapı 10 cm olan çemberin çevresi kaç santimetredir? ( $\pi$  değerini 3 alınız.)

A) 15 B) 30 C) 45 D) 60

16. Taban ayrıtının uzunluğu 5 cm, yüksekliği 7 cm olan kare prizmanın hacmi kaç santimetreküptür?

A) 245 B) 180 C) 175 D) 140

17.  $0,01 \text{ m}^3 + 200 \text{ cm}^3$  kaç desimetreküptür?

A) 10,2 B) 12 C) 100,2 D) 102

18. Efe içerisinde 14 cL şurup bulunan bir şişeden 5 mL'lik ölçekle her gün iki ölçek şurup içmektedir.

Buna göre Efe bu şurubu en az kaç günde bitirir?

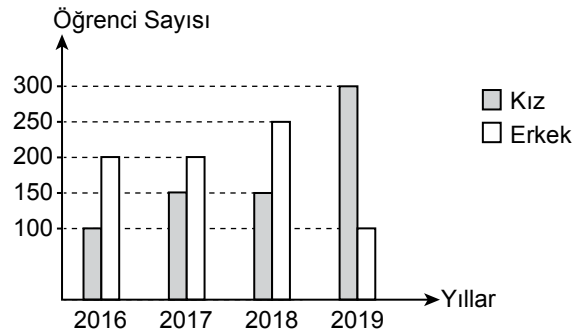
A) 14 B) 16 C) 24 D) 28

19. Aşağıdaki veri gruplarından hangisinin açıklığı 23'tür?

A) 23, 32, 35, 43 B) 11, 15, 21, 32  
C) 3, 5, 21, 23 D) 5, 17, 21, 28

20. Bir okulda kayıtlı kız ve erkek öğrenci sayılarının yıllara göre dağılımı aşağıdaki grafikte gösterilmiştir.

Grafik: Yıllara Göre Kayıtlı Kız ve Erkek Öğrenci Sayısı



Grafiğe göre aşağıdakilerden hangisi doğrudur?

- A) 2018 yılındaki kayıtlı toplam öğrenci sayısı, 2019 yılındaki kayıtlı toplam öğrenci sayısından fazladır.  
B) 2016 yılındaki kayıtlı kız öğrenci sayısı, 2017 yılındaki kayıtlı kız öğrenci sayısına eşittir.  
C) Kayıtlı erkek öğrenci sayısının en fazla olduğu yıl 2019 yılıdır.  
D) 2017 yılındaki kayıtlı toplam öğrenci sayısı, 2018 yılındaki kayıtlı toplam öğrenci sayısından azdır.

## 2. OTURUM

### (632) FEN BİLİMLERİ – 6

1. Güneş sistemindeki gazsal gezegenler dış gezegen olarak adlandırılır.

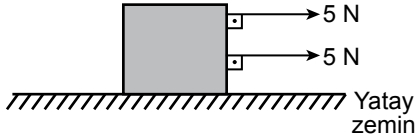
Buna göre aşağıdakilerden hangisi dış gezegendir?

- A) Dünya B) Merkür  
C) Mars D) Jüpiter

2. Güneş tutulması ile ilgili aşağıdakilerden hangisi doğrudur?

- A) Ay, "Dolunay" evresinde olmalıdır.  
B) Güneş, Dünya ve Ay farklı doğrultudadır.  
C) Güneş'ten Dünya'ya gelen ışınlar, Ay tarafından engellenir.  
D) Güneş tutulması her ay gerçekleşir.

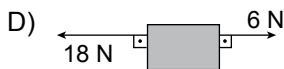
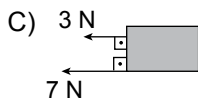
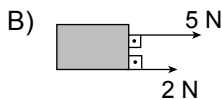
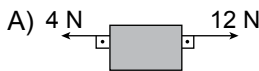
3. Sürtünme kuvvetinin ihmal edildiği yatay zeminde hareketsiz duran kutuya şekildeki kuvvetler etki etmektedir.



Bu durumla ilgili aşağıdakilerden hangisi doğrudur?

- A) Cisim dengelenmiş kuvvetler etkisindedir.  
B) Cisme etki eden bileşke kuvvet 10 N' dur.  
C) Cisme etki eden iki kuvvet birbirine zıt yönlüdür.  
D) Cisim hareketsiz kalmaya devam eder.

4. Aşağıdakilerin hangisinde cisim üzerine etki eden bileşke kuvvet diğerlerine göre en büyüktür?



5. Sürat ile ilgili,

- I. Birim zamanda alınan yoldur.  
II. Birimi m/s dir.  
III. İki hareketliden aynı mesafeyi daha uzun sürede alanın sürati daha fazladır.

yargılarından hangileri doğrudur?

- A) Yalnız I B) Yalnız II  
C) I ve II D) I, II ve III

6. Boş bir odada konuşurken oluşan ses, eşya dolu odada konuşulan sestten daha fazla yankı yapar.

Bu olayın sebebi aşağıdakilerden hangisi ile ilgilidir?

- A) Sesin soğurulması  
B) Sesin kırılması  
C) Sesin iletilmesi  
D) Sesin sürati

7. Sesin oluşumu, yayılması, duyulması, yansımaları, soğurulması ve gürültü kontrolü gibi konularla ilgilenen bilim dalına "akustik" (ses bilimi) denir.

Buna göre;

- I. Aspendos Antik Tiyatrosu,  
II. Anadolu Medeniyetleri Müzesi,  
III. Süleymaniye Cami

verilen örneklerin hangilerinde akustik uygulamalara yer verilmiştir?

- A) I ve II B) I ve III  
C) II ve III D) I, II ve III

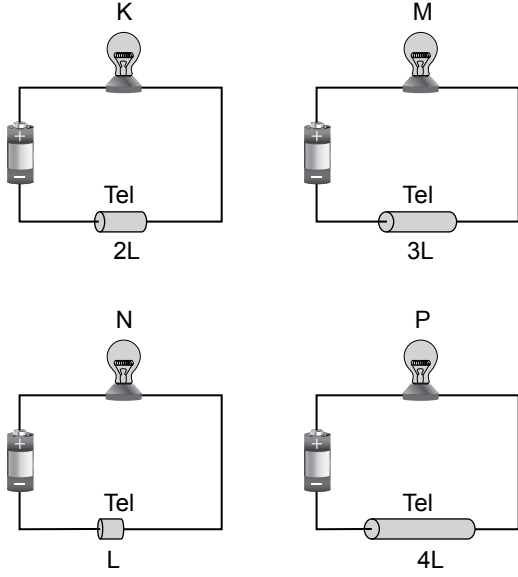
8. Elektrik enerjisinin taşınmasını sağlayan maddelere - I - maddeler denir. Bu maddelere - II - bir örnektir.

Buna göre verilen cümlelerde I ve II numaralı yerlere aşağıdakilerden hangisi yazılırsa cümle doğru tamamlanır?

I	II
A) iletken	limonlu su
B) yalıtkan	saf su
C) yalıtkan	tuzlu su
D) iletken	şekerli su

## 2. OTURUM

9. Özdeş, pil ve ampuller ile cinsi ve dik kesit alanları aynı, uzunlukları farklı tellerle şekildeki elektrik devreleri kurulmuştur.



Buna göre K, M, N ve P ampullerinden hangisinin parlaklığı en fazladır?

- A) K B) M C) N D) P

10. Gaz hâlden katı hâle geçen bir madde ile ilgili aşağıdakilerden hangisi doğrudur?

- A) Taneciklerin hareket hızı artar.  
B) Taneciklerin arasındaki boşluk artar.  
C) Tanecikler öteleme hareketi yapmaya başlar.  
D) Madde akışkan olma özelliğini kaybeder.

11. Bir cismin birim hacminin kütesini aşağıdakilerden hangisi ifade eder?

- A) Yoğunluk B) Ağırlık  
C) Kuvvet D) Sıcaklık

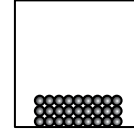
12. Isıyı ileten ve yalıtan maddelere örnekler tabloda verilmiştir.

Isı iletkeni maddeler	Isı yalıtkanı maddeler
Bakır	Cam yünü
Plastik	Gümüş
Alüminyum	Kumaş

Bu tablonun doğru olması için hangi iki madde birbirleriyle yer değiştirmelidir?

- A) Bakır ve kumaş  
B) Plastik ve gümüş  
C) Plastik ve cam yünü  
D) Alüminyum ve kumaş

13. Katı hâldeki bir maddenin tanecikleri şekildeki gibi modellenmiştir.



Buna göre aynı maddenin sıvı ve gaz hâlleri aşağıdakilerden hangisi gibi modellenebilir?

	Sıvı	Gaz
A)		
B)		
C)		
D)		

14. Aşağıdakilerden hangisi katı hâldeki yakıtlara örnektir?

- A) Benzin B) Gaz yağı  
C) Odun D) Doğal gaz

15. Sindirim sisteminde yer alan bir organa ait özellikler verilmiştir.

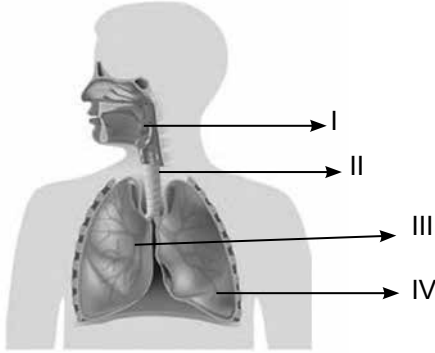
- Besinlerin sindirimi burada tamamlanır.
- Safra salgısıyla yağların mekanik sindirimi gerçekleşir.

Bu organ aşağıdakilerden hangisidir?

- A) İnce bağırsak B) Mide  
C) Kalın bağırsak D) Ağız

## 2. OTURUM

16. Solunum sistemine ait yapı ve organların bazıları numaralandırılarak verilmiştir.



Buna göre yapısında kıkırdak bulunan ve yutaktaki havayı akciğere ileten yapı aşağıdakilerden hangisidir?

- A) I B) II C) III D) IV

17. Aşağıdaki yapılardan hangisinde düz kas bulunmamaktadır?

- A) Mide B) Bağırsak  
C) Kan damarı D) Kalp

18. İnsana ait bazı yapı ve bileşenlere ait bilgiler verilmiştir.

- I. Kandan ayrılan boşaltım maddeleri karışımıdır.  
II. Sindirim atıklarının, safra ve fazla suyun dışkı hâlinde vücuttan atılmasını sağlar.  
III. Vücuttaki kanın süzüldüğü yerdir.

Buna göre numarandırılmış tanımların ait olduğu kavramlar aşağıdakilerin hangisinde doğru verilmiştir?

	I	II	III
A)	ter	kalın bağırsak	böbrek
B)	idrar	böbrek	akciğer
C)	ter	ince bağırsak	akciğer
D)	idrar	kalın bağırsak	böbrek

19. Aşağıdakilerden hangisi vücudumuzdaki sistemlerin sağlığı için yapılması gerekenlerden değildir?

- A) Bulunduğumuz mekânları sık sık havalandırmalıyız.  
B) Sürekli ağır sporlar yapmalıyız.  
C) Dengeli ve sağlıklı beslenmeliyiz.  
D) Günde en az 2 litre su tüketmeliyiz.

20. Sinir sistemindeki bazı organlara ait görevler verilmiştir.

- Alışkanlık hareketlerini denetler.
- Sindirim, solunum, dolaşım ve boşaltım gibi sistemlerin çalışmasını sağlar.
- Vücudun hareket ve denge merkezidir.

Verilen görevler aşağıdakilerle eşleştirildiğinde hangi yapı dışta kalır?

- A) Omurilik B) Omurilik soğanı  
C) Hipofiz bezi D) Beyincik

### (733) SOSYAL BİLGİLER – 7

1. Aşağıdakilerden hangisi sözel iletişim kanallarıdır?

- A) Göz teması B) Ses tonu  
C) Mimik D) Duruş mesafesi

2. Aşağıdakilerden hangisi basın yayın organlarında yanlış bilgi içeren bir habere yönelik “düzeltme” talebini ifade etmektedir?

- A) Yayın yasağı B) Haber yapma hakkı  
C) Tekzip D) Bilişim suçu

3. Aşağıdakilerden hangisi kurulduğu bölgenin Osmanlı Beyliği’ne sağladığı ekonomik avantajlardandır?

- A) Bizans İmparatorluğu’nun iç karışıklıklar yaşaması  
B) Balkan devletlerinin siyasi durumu  
C) Anadolu’da güçlü bir devlet olmaması  
D) Önemli ticaret yolları üzerinde bulunması

4. Divan toplantılarında alınan kararlara ve diğer belgelere tuğra çeken görevli aşağıdakilerden hangisidir?

- A) Nişancı B) Şeyhülislam  
C) Kazasker D) Sadrazam

5. Aşağıdaki padişahlardan hangisi “Hadim’ül Haremeyn” unvanını kullanmıştır?

- A) II. Murat B) I. Selim  
C) Orhan Bey D) I. Mehmet

## 2. OTURUM

6. Kanuni Sultan Süleyman Dönemi'nde donanma komutanı olan ünlü denizci aşağıdakilerden hangisidir?

- A) Mustafa Reşit Paşa
- B) Nevşehirli Damat İbrahim Paşa
- C) Süleyman Paşa
- D) Barbaros Hayrettin Paşa

7. Balkanlar ve Avrupa'ya geçiş yolu üzerinde bulunan ve beş sınır kapısına sahip olan ilimiz aşağıdakilerden hangisidir?

- A) Edirne
- B) Antalya
- C) İzmit
- D) Kars

8. Aşağıdakilerden hangisi Türkiye İstatistik Kurumu (TÜİK) tarafından tespit edilen nüfusun özelliklerinden biri değildir?

- A) Nüfusun eğitim durumu
- B) Kır ve kent nüfus oranları
- C) Nüfusun cinsiyet durumu
- D) Nüfusun psikolojik durumu

9. Mehmet ve ailesi yaşadıkları şehirden Ordu'ya fındık toplamaya gitmiştir.

**Bu durum hangi göç türüne örnek olarak gösterilebilir?**

- A) Mülteci göçü
- B) Mevsimlik göç
- C) Dış göç
- D) Beyin göçü

10. Aşağıdakilerden hangisi eski çağlarda yazı yazmak amacı ile kullanılan malzemelerden biri değildir?

- A) Hiyeroglif
- B) Papirüs
- C) Kil Tablet
- D) Parşömen

11. Gazneli Mahmud aşağıdaki bilim adamlarından hangisi için "Sarayımın en değerli hazinesi" ifadesini kullanmıştır?

- A) Farabi
- B) Ali Kuşçu
- C) Biruni
- D) Harezmi

12. Aşağıdaki bilim ve kültür merkezlerinden hangisi "İslam'ın Kubbesi" unvanına sahiptir?

- A) Semerkant
- B) Bağdat
- C) Kurtuba
- D) Buhara

13. Tarım ve hayvancılığı korumaya yönelik sert kanunlar hazırlayan uygarlık aşağıdakilerden hangisidir?

- A) Frigler
- B) Hititler
- C) Asurlar
- D) Yunanlılar

14. Tımar Sistemi'nde toprakların mülkiyeti - - - aittir. Bu cümlede boş bırakılan yere aşağıdakilerden hangisi yazılmalıdır?

- A) derebeyine
- B) köylüye
- C) devlete
- D) ayanlara

15. Aşağıdakilerden hangisi Sanayi İnkılabı'nın sonuçlarından biri değildir?

- A) Makine gücüne dayalı seri üretime geçilmesi
- B) Nüfusun şehirlerde toplanması
- C) Çekirdek ailelerin yaygınlaşması
- D) Üretim ve tüketimin kısıtlanması

16. Osmanlı Devleti'nde esnaf loncaları aşağıdakilerden hangisinin devamı niteliğindedir?

- A) Vakıfların
- B) Ahilik teşkilatının
- C) Feodalitenin
- D) İktisad sisteminin

17. Aşağıdakilerden hangisiyle İngiltere'de kralın yetkileri sınırlandırılmıştır?

- A) On iki Levha Kanunları
- B) Kanun-i Esasi
- C) Magna Carta
- D) İnsan Hakları Evrensel Beyannamesi

18. Aşağıdakilerden hangisi Terakkiperver Cumhuriyet Fırkasının kurucularından biri değildir?

- A) Kazım Karabekir
- B) Fethi Okyar
- C) Ali Fuat Cebesoy
- D) Refet Bele

19. Türk Medeni Kanunu'nda aşağıdakilerden hangisi ile ilgili bir düzenleme yoktur?

- A) Miras
- B) Evlilik
- C) Boşanma
- D) Seçme ve seçilme

20. Aşağıdakilerden hangisi Türkiye ve Azerbaycan iş birliği sonucunda ortaya çıkmıştır?

- A) Akdeniz İçin Birlik
- B) Gelişen Sekiz Ülke
- C) Trans Anadolu Doğal Gaz Boru Hattı
- D) Avrupa ve Akdeniz Bitki Sağlığını Koruma Örgütü

## 2. OTURUM

(735) İNGİLİZCE – 7

1 - 18. sorularda boş bırakılan yere uygun gelen kelime ya da ifadeyi işaretleyiniz.

1.



Cindy  
1.70 cm  
20 years old

Terry  
1.60 cm  
40 years old

Cindy is - - - - than Terry.

- A) fatter  
C) older
- B) taller  
D) smaller

2. What is your son like?

He is - - - -.

- A) tall  
C) handsome
- B) plump  
D) stubborn

3. Mark : What does your new friend look like?

Edward : He - - - -.

- A) has got dark hair and hazel eyes  
B) is funny and cheerful  
C) has got a lot of friends  
D) is at the party

4. - - - - is not a team sport.

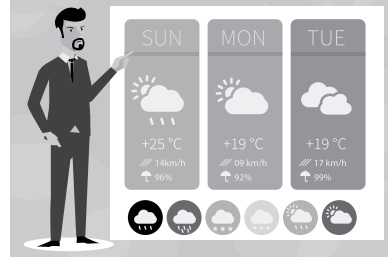
- A) Basketball  
C) Volleyball
- B) Football  
D) Wrestling

5. Mark : How often does Mary play basketball on weekdays?

Ashley : - - - -.

- A) At 3 o'clock  
C) With Alice
- B) In the garden  
D) Every day

6.



I prefer watching the - - - -.

- A) cartoons  
C) weather forecast
- B) documentaries  
D) sports programmes

7. Andy : Where was Julia born?

Linda : She was born in - - - -.

- A) 2014  
C) August
- B) America  
D) 2 weeks

8. I am a punctual person. I am - - - - late to work.

- A) never  
C) usually
- B) sometimes  
D) often

9.



This is the - - - - list for Melanie's birthday party.

- A) beverages  
C) guest
- B) food  
D) needs

10. Every year, we - - - - my grandmother's birthday with a special dinner.

- A) celebrate  
C) invite
- B) decorate  
D) wrap

11. Kate : What do you think about TV series?

Peter : - - - -.

- A) I hate watching commercials  
B) I think they are boring  
C) She likes watching TV series  
D) She prefers sitcoms

## 2. OTURUM

12. My birthday is - - - - the 22<sup>nd</sup> February.

- A) on B) in C) at D) by

13. To protect the animals and their habitat, we shouldn't - - - -.

- A) feed street animals  
B) plant more trees  
C) pollute the air  
D) watch documentaries

14. I'm a TV - - - -. I watch TV 18 hours a day. It's like an illness.

- A) series B) program  
C) audience D) addict

15. In the future, people will wear breathing masks to protect themselves from - - - -.

- A) microchips B) air pollution  
C) sunlight D) websites


16. Paul went to the - - - - to see the new exhibition.

- A) art gallery B) music store  
C) police station D) beauty saloon

17. There are eight planets in our - - - -.

- A) meteor B) space shuttle  
C) rocket D) solar system

18.



In this picture, - - - - is larger than the other planets.

- A) Saturn B) Jupiter  
C) Earth D) Mars

19. Aşağıdakilerden hangisi bir davetin kabul edildiğini bildirir?

- A) Thanks for asking me but I'll be in Italy on Sunday.  
B) I'm sorry but I have visitors at the weekend.  
C) Thank you for inviting me. I can't miss it.  
D) I'd love to but I have a race on Sunday.

20.



Anthony

Bu görsele göre Anthony'nin fiziksel özellikleri aşağıdakilerin hangisinde doğru verilmiştir?

- A) He has got a beard. He is bald.  
B) He has got a moustache. He has got straight hair.  
C) He has got a beard and a moustache. He has got short hair.  
D) He has got a beard. He has got curly hair.

(735) ALMANCA – 7

1 - 15. sorularda boş bırakılan yere uygun gelen ek, kelime ya da ifadeyi işaretleyiniz.

1. A: Wie geht es deiner Schwester?  
B: Danke, es geht - - - - super.

- A) mich B) mir C) ihr D) ihm

2. Wie heißt deine Freundin? - - - - heißt Elif.

- A) Er B) Sie C) Ich D) Wir

3. Aslı: Ich habe ein Buch. Hast du auch ein Buch?

Hakan: Ja, ich habe auch - - - - Buch.

- A) ein B) kein C) eine D) einen

4. Frau Özcan: Haben Sie ein Auto?

Herr Ertunç: Nein, ich habe - - - - Auto.

- A) ein B) kein C) keine D) keinen

5. Ich spiele Klavier. Ich - - - - Musiker werden.

- A) willst B) wollen  
C) wollt D) will

## 2. OTURUM

6. A: Wann hat Ali Geburtstag?

B: Er hat - - - - 9. Dezember Geburtstag.

- A) um      B) in      C) im      D) am

7. Montag, - - - - , Mittwoch, Donnerstag, Freitag, Samstag, Sonntag

- A) Sonnabend      B) Feiertag  
C) Dienstag      D) Herbst

8. Ich muss für die Küche einen - - - - kaufen.

- A) Tisch      B) Badewanne  
C) Bett      D) Garderobe

9. Die Schülerin - - - - den Lehrer - - - -.

- A) fährt / ab      B) kaufen / ein  
C) kommt / an      D) ruft / an

10. Esin - - - - auf dem Markt eingekauft.

- A) hast      B) hat  
C) haben      D) habt

11.



Meine Oma kocht - - - -.

- A) in der Küche      B) im Bad  
C) im Wohnzimmer      D) im Schlafzimmer

12. Das Bild hängt - - - - Wand.

- A) an die      B) an  
C) an der      D) an das

13. Hat der Schüler - - - - Bücher gefunden?

- A) seine      B) seiner  
C) seinen      D) seinem

14. Ali kauft sein - - - - Bruder - - - - Toast.

- A) -en / ein      B) -e / ein  
C) -er / einen      D) -em / einen

15. Der Kranke ist - - - - Arzt.

- A) beim      B) zur  
C) zu      D) aus der

16. Aşağıdakilerden hangisinde fiilin "Perfekt" hâli yanlış verilmiştir?

- A) haben - gehabt  
B) sein - gewesen  
C) bleiben - geblieben  
D) einkaufen - eingekauft

17. Welches Fest feiern die Türken am 23. April?

- A) Jugendfest      B) Kinderfest  
C) Siegesfest      D) Republikfest

18. Wem gehört die Tasche? (das Kind)

- A) Sie gehört ihr.      B) Er gehört ihm.  
C) Sie gehört ihm.      D) Es gehört ihr.

19.



Was ist das?

- A) Ein Haus.      B) Ein Gebäude.  
C) Bäume.      D) Ein Baum.

20.

Fleisch	: 30 Lira
Fisch	: 50 Lira
Brot	: 2 Lira
Reis	: 10 Lira

Was ist am billigsten?

- A) Fleisch      B) Fisch  
C) Brot      D) Reis

## 2. OTURUM

### (735) FRANSIZCA – 7

1 - 15. sorularda boş bırakılan yere uygun gelen kelime ya da ifadeyi işaretleyiniz.

1. - - - - vais au collège à pied, ce n'est pas loin.

- A) Vous B) Elle C) Nous D) Je

2. - - - - a attendu le métro pendant vingt minutes.

- A) Il B) Tu C) Vous D) Ils

3. Quand il avait treize ans, il était - - - -.

- A) à l'école primaire  
B) au collège  
C) à l'université  
D) à l'école maternelle

4. Erdem lit des journaux et des romans - - - - il adore la lecture.

- A) pourquoi B) parce que (qu')  
C) comment D) quand

5. J'ai faim ; je vais - - - - un sandwich au thon.

- A) marcher B) boire  
C) manger D) chanter

6. L'ascenseur ne marche pas, mon père doit - - - - au quatrième étage à pied.

- A) préparer B) respecter  
C) inviter D) monter

7. Marc est vieux, il a - - - -.

- A) 70 mètres B) 20 litres  
C) 74 kilos D) 83 ans

8. İrem travaille à la campagne avec des animaux. Elle est - - - -.

- A) vétérinaire B) boulanger  
C) serveur D) pâtissière

9. Il y a douze - - - - dans une année.

- A) ans B) mois C) jours D) saisons

10. Hier, Dilek est - - - - pour l'Autriche.

- A) parti B) partie C) parties D) partis

11. Pour faire du jogging, on a besoin de - - - -.

- A) bottes  
B) pantoufles  
C) chaussures de sport  
D) sandalettes

12. Elle va - - - - Japon.

- A) à la B) en C) au D) aux

13. Nous venons - - - - France.

- A) de B) aux C) en D) à

14. - - - - vous vous entraînez par semaine ?

- A) Quand est-ce que  
B) Combien de fois  
C) Où est-ce que  
D) Qu'est-ce qu'il y a

15. Quel est le - - - - du match ?

- A) équipements B) stades  
C) date D) score

16. Aşağıdaki kelimelerden hangisi zıt anlamlısıyla birlikte verilmiştir?


- A) amusant - ennuyeux  
B) grand - gros  
C) petit - mince  
D) inutile - intéressant

17. "long" ifadesinin zıt anlamlısı aşağıdakilerden hangisidir?

- A) grand B) maigre  
C) gros D) court

18-20. soruları görseli dikkate alarak cevaplayınız.

18.

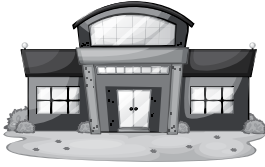


- - - - est le roi des animaux.


- A) La girafe B) Le lion  
C) Les jaguars D) L'antilope

## 2. OTURUM

19.



le musée



l' école

- A) Le musée est à côté de l'école.
- B) Le musée est derrière de l'école.
- C) Le musée est en face de l'école.
- D) Le musée est devant de l'école.

20.



- A) Utiliser l'énergie solaire !
- B) Protéger l'environnement !
- C) Utiliser moins d'eau !
- D) Utiliser moins d'énergie !

### (736) DİN KÜL. VE AHLAK BİLGİSİ – 7

1. I. Sûra üflemek  
II. Canlıların ruhlarını almak  
III. Allah'tan aldığı vahiyleri peygamberlere getirmek

**Numaralanmış ifadelerde görevleri hakkında bilgi verilen meleklerin doğru sıralanışı aşağıdakilerden hangisidir?**

	I	II	III
A)	İsrafil	Cebraîl	Azrail
B)	İsrafil	Azrail	Cebraîl
C)	Azrail	İsrafil	Cebraîl
D)	Azrail	Cebraîl	İsrafil

2. "İnsanı önünden ve ardından takip eden melekler vardır. Allah'ın emriyle onu korurlar..."  
(Ra'd suresi, 11. ayet)

**Bu ayette aşağıdaki meleklerden hangisinin görevi vurgulanmaktadır?**

- A) Kiramen kâtibin
- B) Münker - Nekir
- C) Hafaza
- D) Rahmet

3. "Şeytan da melek de insana sokularak onun kalbine birtakım şeyler getirir. Şeytanın işi insanı kötülüklerle korkutarak gerçekleri yalanlamak ve insana kötü ve günah olan şeyleri hoş göstermektir. Meleğin işi ise iyiyi tavsiye edip gerçekleri insana hatırlatmaktır. Kalbine iyi şeylerin doğduğunu hisseden bilsin ki bu melektendir. Allah'a şükretsün. Kim de içinde kötülüğe çağıran bir ses duyarsa bilsin ki bu şeytanın işidir. Şeytandan Allah'a sığınsın."

**Bu hadisten aşağıdakilerden hangisine ulaşılamaz?**

- A) Melek iyiliğe, şeytan kötülüğe yönlendirir.
- B) Allah, insanı yalnız ve başıboş yaratmamıştır.
- C) Doğruyu ya da yanlış seçmek insanın iradesindedir.
- D) İnsan diğer canlılardan üstün bir varlıktır.

4. Aşağıdaki ayetlerin hangisinde dünya hayatının bir imtihan olduğu ifade edilmektedir?

- A) "Onlardan bir kısmı da: 'Ey Rabbimiz! Bize dünyada da iyilik ver, ahirette de iyilik ver. Bizi cehennem azabından koru!' derler."  
(Bakara suresi, 201. ayet)
- B) "O ki, hanginizin daha güzel davranacağını sınamak için ölümü ve hayatı yaratmıştır..."  
(Mülk suresi, 2. ayet)
- C) "Hiçbir toplum, ecelinin önüne geçemez ve onu geciktiremez."  
(Hicr suresi, 5. ayet)
- D) "Gökleri ve yeri yaratan, bunları yaratmakla yorulmayan Allah'ın, ölüleri diriltmeye de gücünün yeteceğini düşünmezler mi?..."  
(Ahkâf suresi, 33. ayet)

5. "Her insan yaşadığı hâl üzere ölür ve öldüğü hâl üzere dirilitir."

**Bu hadiste aşağıdakilerden hangisi vurgulanmaktadır?**

- A) İnsanın ahiret hayatı dünya hayatına göre şekillenir.
- B) Ahirete iman etmek, temel inanç esaslarındandır.
- C) Mutlak adaletin gerçekleşeceği yer ahirettir.
- D) Ölümün zamanını belirleyen Allah'tır.

6. "Ba's" kavramı aşağıdakilerden hangisini ifade etmektedir?

- A) Kıyametin kopma zamanını
- B) İlâhi adalet terazisini
- C) Ölümden sonra dirilişi
- D) Kabir hayatını

## 2. OTURUM

7. • İsrâiloğullarına gönderilen peygamberlerin sonuncusudur.  
• Ulû'l-azm peygamberlerdendir.  
• Annesi Hz. Meryem'dir.

**Hakkında bilgi verilen peygamber aşağıdakilerden hangisidir?**

- A) Hz. İsa B) Hz. Musa  
C) Hz. Harun D) Hz. Yusuf

8. "...Yoluna gücü yetenlerin Kâbe'yi hacetmesi, Allah'ın insanlar üzerindeki bir hakkıdır..."  
(Âl-i İmrân suresi, 97. ayet)

**Bu ayetten hac ile ilgili aşağıdakilerden hangisine ulaşılabilir?**

- A) Müslümana ölümü ve ahireti hatırlatır.  
B) Gerekli şartları taşıyanlar için farz bir ibadettir.  
C) İnsanlara günahlarından tövbe etme fırsatı sunar.  
D) Müslümanlara birlik olmanın ve kardeşliğin şuurunu yaşatır.

9. "İhram yasaklarının başladığı sınırlar" için kullanılan kavram aşağıdakilerden hangisidir?

- A) Müzdelife B) Mina  
C) Arafat D) Mikat

10. Hacerülesved'in hizasından başlayarak ibadet amacıyla yedi defa Kâbe'nin etrafında dönme-ye ne ad verilir?

- A) Sa'y B) Şavt C) Tavaf D) Vakfe

11. I. İhrama girmek  
II. Vakfe yapmak  
III. Tavaf yapmak  
IV. Şeytan taşlamak

**Numaralanmış ifadelerden hangileri umrenin şartlarındandır?**

- A) I ve III B) I ve IV  
C) II ve III D) II ve IV

12. Akika kurbanı ile ilgili aşağıdakilerden hangisi söylenemez?

- A) Sünnet olan bir kurban çeşididir.  
B) Kurban bayramında kesilmesi gerekir.  
C) Dünyaya gelen çocuk için Allah'a şükrün bir ifadesidir.  
D) Kurban sahibi ve ailesi tarafından yenilebilir.

13. "...Herhangi bir topluluğa duyduğunuz kin, sizi adaletsiz davranmaya itmesin. Adaletli olun; bu, takvaya daha uygundur..."  
(Mâide suresi, 8. ayet)

**Bu ayette aşağıdakilerden hangisi vurgulanmaktadır?**

- A) Daima alçakgönüllü olmak  
B) Her işte Allah'a tevekkül etmek  
C) Herkese karşı hakkaniyetli davranmak  
D) Tüm zorluklar karşısında sabırlı olmak

14. Aşağıdaki sözlerin hangisinde dürüstlük vurgulanmaktadır?

- A) Ya olduğun gibi görün ya görüldüğün gibi ol.  
B) Bir fincan kahvenin kırk yıl hatırı vardır.  
C) Kusursuz dost arayan dostsuz kalır.  
D) Bir elin nesi var iki elin sesi var.

15. "Kim bir Müslümanı sıkıntıdan kurtarırsa kıyamet günü Allah da onu sıkıntılarından birinden kurtarır."

**Bu hadiste aşağıdakilerden hangisi vurgulanmaktadır?**

- A) Sabır B) Saygı  
C) Kararlılık D) Yardımseverlik

16. • Beş ayetten oluşur.  
• "Güneşin doğuşu, sabah" anlamlarına gelir.  
• Görülen veya görülemeyen tüm kötülüklerden sadece Allah'a sığınılması öğütlenir.

**Hakkında bilgi verilen sure aşağıdakilerden hangisidir?**

- A) Kureyş B) Kevser  
C) Felâk D) Kâfirûn

17. "...De ki: 'İşte bu Kur'an bana, onunla sizi ve ulaştığı herkesi uyarayım diye vahyolundu'..."  
(En'âm suresi, 19. ayet)

**Bu ayetten Hz. Peygamber ile ilgili aşağıdakilerden hangisine ulaşılabilir?**

- A) Rahmet peygamberi olduğuna  
B) Peygamberlerin sonuncusu olduğuna  
C) Tevazu sahibi olduğuna  
D) Tebliğ ile görevli olduğuna

## 2. OTURUM

18. Hz. Peygamber, Kur'an-ı Kerim'in ilkelerini söz ve davranışlarıyla açıklayıp ibadetlerin nasıl uygulanacağını göstermiştir.

**Bu cümlede altı çizili bölüme örnek oluşturan hadis aşağıdakilerden hangisidir?**

- A) "Müminlerin iman bakımından en olgun olanları, ahlakı en iyi olanlarıdır."  
B) "Her can taşıyan varlığa yapılan iyilikte sevap vardır."  
C) "Ben namazı nasıl kılıyorsam, siz de öyle kılın."  
D) "Ben rahmet peygamberiyim."

19. Aşağıdakilerden hangisi itikadî yoruma dayalı mezheplerdendir?

- A) Maturidilik B) Hanefilik  
C) Malikilik D) Yesevilik

20. "Sema" aşağıdaki oluşumlardan hangisine ait bir törendir?

- A) Kadirilik B) Mevlevilik  
C) Nakşibendilik D) Alevilik-Bektaşilik

### (830) TÜRKÇE – 8

1. Aşağıdaki cümlelerin hangisinde altı çizili sözcük mecaz anlamlıdır?

- A) İş yeri bu haberle kaynıyor, sen nasıl duymazsın?  
B) Yeni reklam kampanyası satışlarımızı oldukça artırdı.  
C) Zor ayırdık, az kalsın kavga edeceklerdi.  
D) Çin'den gelen ürünlerle başa çıkamayınca fabrikayı kapamışlar.

2. • Havuzda yüzerken saatimin içine su kaçmış.  
• İki suçlu dün gece tutuklu oldukları cezaevinden kaçmışlar.  
• Park ettiğim yerde lastiğin havası kaçmış.  
• Şimdiye kadar sizin için masraftan hiç kaçmadım.

**Aşağıdakilerden hangisi "kaçmak" sözcüğünün bu cümlelerde kazandığı anlamlardan biri değildir?**

- A) Gizlice ayrılmak, firar etmek  
B) Bir boşluktan içeri girmek  
C) Korkup çekinmek, göze alamamak  
D) Bir çatlak, aralık veya delikten dışarı sızmak, boşalmak

3. Barajlardaki düşük su seviyesi nedeniyle belirli saatlerde su kesintisi yapılacaktı.

**"Düşük" sözcüğünün bu cümlede kazandığı anlam aşağıdakilerden hangisidir?**

- A) Yerinden çıkmış  
B) Aşağı doğru sarkmış, aşağı inmiş  
C) Değer ve itibarı olmayan, seviyesiz  
D) Olması gereken seviyenin altında olan

4. Aşağıdakilerin hangisinde cümledeki deyim anlamı ayraç içinde yanlış verilmiştir?

- A) Kaşla göz arasında listenin sonuna kendi adını da eklemiş. (Kimsenin sezmesine imkân vermeyecek kadar kısa bir zaman içinde)  
B) Şu son yağışların getirdiği sel belimi bükte. (Çaresizlik içinde bırakmak)  
C) Bir dümen çevirip adamın tüm mal varlığını elinden almışlar. (İşleri düzene koymak)  
D) Bırak sen yardım etme de bu sefer boyunun ölçüsünü alsın. (Kendi yetersizliğini, beceriksizliğini anlamak)

5. Aşağıdaki cümlelerin hangisinde bir beklenti dile getirilmiştir?

- A) Yıl sonuna doğru otomobil fiyatlarının düşeceğini umuyorum.  
B) Herkes gibi ben de dondurmayı çok seviyorum.  
C) Hoşgörüsünü yitirmiş insanlarla anlaşmak çok zordur.  
D) Bahçenin çitlerini kardeşimle birlikte iki günde onarıverdik.

6. 1. Bir kötülüğün olduğu yerde, ikinci ve üçüncü kötülükler de uzak değildir.  
2. Her kötülük bir yenisini doğurur.  
3. Bir kötülüğü beğenen, kötülüğü yapandan daha kötüdür.  
4. Kötülük kapısı bir kez açıldı mı kötülüklerin devamı gelir.

**Numaralanmış cümlelerden hangisi anlamca diğerlerine en uzaktır?**

- A) 1 B) 2 C) 3 D) 4

7. Aşağıdaki cümlelerin hangisinde karşılaştırma yapılmıştır?

- A) Su kaynaklarımızı çok dikkatli tüketmeliyiz.  
B) Teknolojiyi bilenler bilmeyenlere göre daha avantajlıdır.  
C) Tarladaki ekinleri biçerdöverle topladılar.  
D) Elektrikli otomobillerin katettikleri mesafeyi ölçmüşler.

## 2. OTURUM

8. (1) Bu bozkırlarda yaşam gerçekten zor. (2) Yazın kuraklık, kışın ise aşırı soğuklar insanların belini büküyor. (3) Yine de burayı vatan bellemiş insanlar, doğayla mücadele ederek yaşamlarını sürdürüyor. (4) Hayatta kalmanın bir yolunu buluyorlar.

**Bu parçadaki numaralanmış cümlelerden hangisi kendisinden önceki cümlelerin gerekçesidir?**

A) 1 B) 2 C) 3 D) 4

9. Bugün disiplin aracı olarak fiziki ceza yerine, sözlü ikaz tavsiye edilmektedir. Ancak bu tavsiyelerin aşığılama, hakaret, onur kırma, cesaretini düşürme vb. psikolojik hâllere dönüştüğü de açıktır. Fiziki cezalar çocuğun benliğinde nasıl kalıcı, derin izler bırakıyorsa unutulmamalı ki psikolojik cezalar daha derin izler bırakmaktadır ve bunların tedavisi neredeyse mümkün olmamaktadır.

**Bu parçanın konusu aşağıdakilerden hangisidir?**

A) Şiddete uğrayan kişilerin ruh hâli  
B) Disiplinli olmanın başarıya etkisi  
C) Çocuk eğitiminde cezanın yeri  
D) Çocukların kişiliğini oluşturan etkenler

10. İyi bir okursanız okuduğunuz kitapları hızla tüketirsiniz. Ayda dört beş kitap okuduğumuzu varsaydığımızda bir sorunla karşı karşıya kalabiliriz. Bütçemiz bu kadar kitap almaya elverişli olmaya bilir. Bu durumda okuma açlığımızı gidermek bir sorun hâline gelir.

**Aşağıdakilerden hangisi bu parçada belirtilen soruna bir çözüm önerisi olamaz?**

A) Arkadaşlarımızla kitap değiş tokuşu yapmak  
B) Kütüphanelerden yararlanmak  
C) Doğum günü gibi özel günlerde birbirimize kitap hediye etmek  
D) Daha az kitap okumak

11. Son yıllarda tüm sektörlerde olduğu gibi yayıncılıkta da reklamcılığın etkileri görülüyor. Çok daha nitelikli kitaplar reklamı yapılmadığı için satış rakamlarında daha geride kalabiliyor. Daha kötüsü, buna aldanan bazı yazarlar da reklamı yapılan kitaplara özeniyor ve benzer kitaplar yazmaya çalışıyor. Bu yüzden de kurgusu, konusu aynı kitaplar yayımlanmaya başladı. Oysa iyi kitap çok satan kitap değildir.

**Bu parçadan aşağıdaki yargılardan hangisi çıkarılabilir?**

A) Reklamlar edebiyat dünyasına şekil vermektedir.  
B) Edebiyatımızda özgün eserler azalmaya başlamıştır.  
C) Reklamlar sayesinde eskiye oranla kitap satışları artmıştır.  
D) Ünlü yazarların reklamı daha çok yapılmaktadır.

12. (1) Genç şair, her bir şiirinde insana ve hayata dair bir şey anlatma derindedir. (2) Son kitabı, taklit olmaktan öteye gidemeyen birçok şiir kitabından farklıdır. (3) Kelime seçişi, kelimeleri yan yana getirmedeki ustalığı onu başarılı kılar. (4) Onun eserlerinde atasözlerine, halk deyişlerine sık sık rastlanır.

**Bu parçadaki numaralanmış cümlelerle ilgili aşağıdakilerden hangisi yanlıştır?**

A) 1. cümlede şiirlerinin konusundan söz edilmiştir.  
B) 2. cümlede eserin özgün olduğu belirtilmiştir.  
C) 3. cümlede dili iyi kullandığı açıklanmıştır.  
D) 4. cümlede süslü bir anlatımının olduğu vurgulanmıştır.

13. İster öğrenci, anne, baba veya iş adamı isterse ABD başkanı olun; çözüm gerektiren sorunlarla her gün karşılaşsınız. Belki matematik dersinden geçmeniz, yaşayacağınız yere karar vermeniz; belki de biraz kilo vermeniz gerekiyordur. Bilin ki günlük hayatta karşılaşılan sorunları çözmek sadece yetenek değildir. Sorun çözmenin de belirli kuralları vardır. Bunları bilip adım adım takip ettiğinizde içinde bulunduğunuz sorunu çözebilirsiniz.

**Bu parçadan aşağıdaki yargılardan hangisi çıkarılamaz?**

A) Bazı sorunlar diğerlerine göre fazla önemsenir.  
B) Sorun çözmek öğrenilebilir bir durumdur.  
C) Sorunlar hayatımızın bir parçasıdır.  
D) Sorun çözerken sistemli ilerlemek gerekir.

14. Arabaya binen adam başını çevirdi( ) şoför bekliyordu( ) İsteksizce mırıldandı( ) - Terminale( )

**Bu parçada yay ayraçla gösterilen yerlere sırasıyla aşağıdaki noktalama işaretlerinden hangileri getirilmelidir?**

A) (...) (!) (,) (.) B) (,) (.) (:) (...)  
C) (;) (!) (,) (.) D) (;) (,) (,) (...)

15. Hiç kimse birbirini düşünmez, kendi işinin bittiğine bakar.

**Bu cümledeki anlatım bozukluğunun sebebi aşağıdakilerden hangisidir?**

A) Nesne eksikliği  
B) Sözcüğün yanlış anlamda kullanılması  
C) Gereksiz sözcük kullanılması  
D) Özne eksikliği

## 2. OTURUM

16. Aşağıdaki cümlelerin hangisinde anlatım bozukluğu yapılmıştır?

- A) Ayaklar kemiklerden, bağ ve kaslardan meydana gelmişlerdir.
- B) Yazar, bu kişilerin iç dünyalarını eserlerinde derinlemesine yansıtmıştı.
- C) Bu söylenti öğretmenin de kulağına gitmiş olsa gerek.
- D) Uğur böceği biraz havalanıp bir başka çiçeğe kadar uçtu.

17. Aşağıdaki cümlelerin hangisinde zarf-fiil kullanılmıştır?

- A) Her şeyin iyi tarafını görmek insanı yanıltabilir.
- B) Uçlarda dolaşan iyimserlik tehlikelidir.
- C) İnsanlar, iyimserler ve kötümserler olarak ikiye ayrılır.
- D) Bu geliş hiç de iyimser bir hava yaratmamıştı.

18. Aşağıdaki cümlelerin hangisi koşul-sonuç bildirmektedir?

- A) Doğruyu söylersen bir insan iftirdan kurtulacak.
- B) Kaşığı aramak için penceresiz, küçük odaya girdim.
- C) Deniz dalgalı olduğu için rahatça yüzemedik.
- D) Sabah okula geç kalmayayım diye erkenden yattım.

19. Her şey yerli yerinde; bir dolap uzaklarda Azapta bir ruh gibi gıcırıyor durmadan.

**Bu dizelerde kullanılan söz sanatı aşağıdakilerden hangisidir?**

- A) Abartma
- B) Konuşturma
- C) Benzetme
- D) Karşıtlık

20. Hepimizin katkısıyla dilimiz giderek yozlaştırılıyor.

**Bu cümledeki öge dizilişi sırasıyla aşağıdakilerin hangisinde verilmiştir?**

- A) Özne / Yer tamlayıcısı / Zarf tümleci / Yüklem
- B) Zarf tümleci / Özne / Belirtili nesne / Yüklem
- C) Özne / Belirtisiz nesne / Zarf tümleci / Yüklem
- D) Zarf tümleci / Özne / Zarf tümleci / Yüklem

### (831) MATEMATİK – 8

1. Aşağıdakilerden hangisi 102 sayısının asal çarpanlarından biridir?

- A) 11
- B) 13
- C) 17
- D) 19

2.  $(-5)^{-2}$  ifadesi aşağıdakilerden hangisine eşittir?

- A) -25
- B)  $\frac{1}{25}$
- C) 10
- D) 25

3.  $\frac{(-3)^{-4}}{-6^{-2}}$  işleminin sonucu kaçtır?

- A)  $-\frac{2}{3}$
- B)  $-\frac{4}{9}$
- C)  $\frac{9}{4}$
- D)  $\frac{3}{2}$

4.  $0,007 \cdot 10^{-2}$  ifadesinin bilimsel gösterimi aşağıdakilerden hangisidir?

- A)  $0,07 \cdot 10^{-3}$
- B)  $0,7 \cdot 10^{-4}$
- C)  $7 \cdot 10^{-5}$
- D)  $70 \cdot 10^{-6}$

5. Aşağıdakilerden hangisi irrasyonel sayıdır?

- A)  $\sqrt{8}$
- B)  $1,3$
- C)  $\frac{22}{7}$
- D) 3,145

6.  $7\sqrt{7}$  ifadesi aşağıdakilerden hangisi ile çarpılırsa sonuç tam kare sayı olur?

- A)  $2\sqrt{7}$
- B)  $3\sqrt{7}$
- C)  $4\sqrt{7}$
- D)  $5\sqrt{7}$

7.  $(a - 2) \cdot (a + 5)$  cebirsel ifadesinin eşiti aşağıdakilerden hangisidir?

- A)  $a^2 + 7a - 10$
- B)  $a^2 - 7a + 10$
- C)  $a^2 - 3a + 10$
- D)  $a^2 + 3a - 10$

8.  $-4x^2 - x + 9$  cebirsel ifadesinin katsayıları toplamı kaçtır?

- A) 5
- B) 4
- C) -4
- D) -5

9.  $3x + 5 = 4 \cdot (x - 2)$  denklemini sağlayan x kaçtır?

- A) 3
- B) 7
- C) 10
- D) 13

10. Aşağıda denklemleri verilen doğrulardan hangisinin eğimi pozitif tam sayıdır?

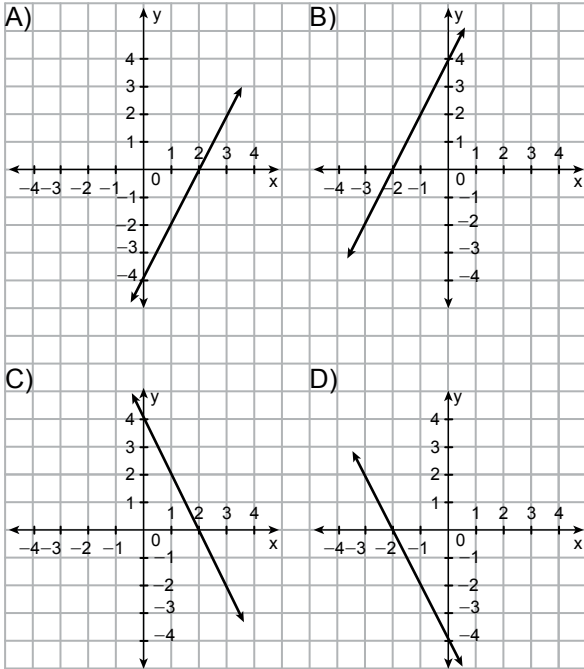
- A)  $2y + x = 0$
- B)  $-y + 3x = 1$
- C)  $y + 4x = 2$
- D)  $-5y - x = 3$

## 2. OTURUM

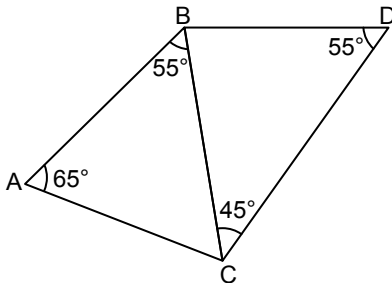
11.  $-3 < x \leq 2$  eşitsizliği aşağıdaki sayı doğrularının hangisinde koyu çizgi ile gösterilmiştir?



12. Aşağıdaki kareli zeminde verilen grafiklerden hangisi, denklemi  $y = 2x - 4$  olan doğrunun grafiğidir?



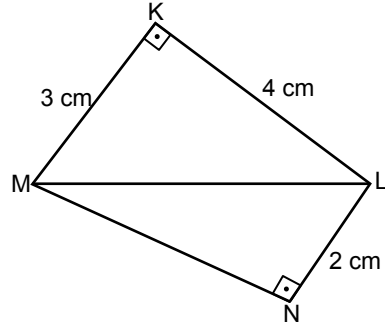
13.



Şekilde en uzun kenar aşağıdakilerden hangisidir?

- A) [BC] B) [BD] C) [CD] D) [AC]

14.

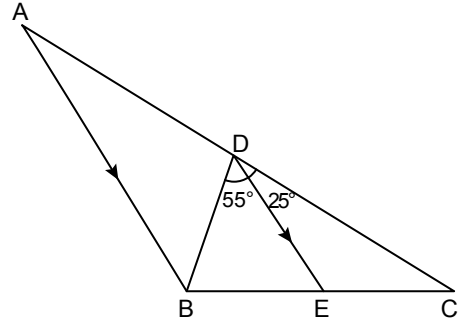


Şekildeki KML ve MNL dik üçgenlerinde  $[MK] \perp [KL]$ ,  $[MN] \perp [NL]$  ve  $|KM| = 3$  cm,  $|KL| = 4$  cm,  $|NL| = 2$  cm'dir.

Buna göre  $|NM|$  kaç santimetredir?

- A)  $\sqrt{29}$  B)  $\sqrt{21}$  C)  $\sqrt{14}$  D)  $\sqrt{6}$

15.

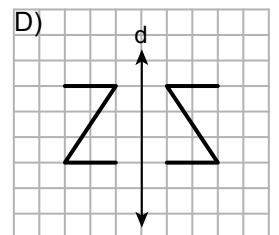
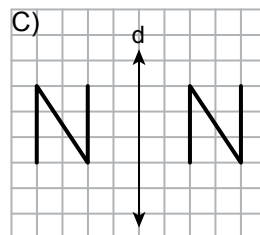
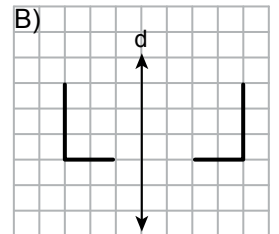
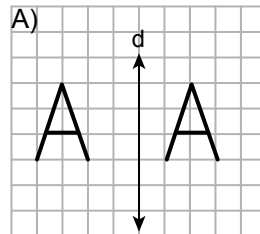


Şekildeki ABC üçgeninde [BD] açıortay,  $[AB] \parallel [DE]$  ve  $m(\widehat{BDE}) = 55^\circ$ ,  $m(\widehat{EDC}) = 25^\circ$  dir.

Buna göre  $m(\widehat{ACB})$  kaç derecedir?

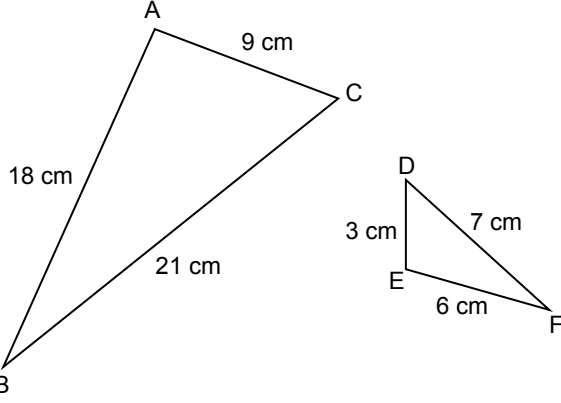
- A) 45 B) 50 C) 55 D) 60

16. Aşağıdaki kareli zeminlerden hangisinde verilen şekiller d doğrusuna göre birbirinin yansımasıdır?



## 2. OTURUM

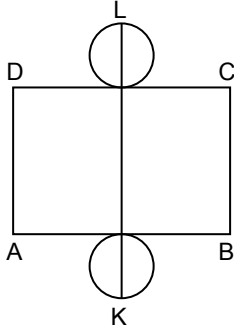
17.



Şekildeki üçgenlere göre aşağıdakilerden hangisi doğrudur?

- A)  $\widehat{ABC} \sim \widehat{DEF}$  B)  $\widehat{ABC} \sim \widehat{EFD}$   
C)  $\widehat{ABC} \sim \widehat{EDF}$  D)  $\widehat{ABC} \sim \widehat{DFE}$

18.



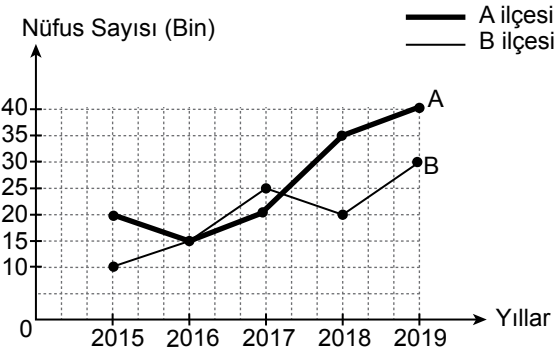
Açınımı verilen dik dairesel silindirde  $[KL] \perp [DC]$  ve  $|AD| = 6$  cm,  $|KL| = 14$  cm'dir.

Buna göre bu silindirin yüzey alanı kaç santimetrekaredir? ( $\pi$  değerini 3 alınız.)

- A) 72 B) 84 C) 96 D) 144

19. A ve B ilçelerinin nüfus sayılarının yıllara göre değişimi aşağıdaki grafikte gösterilmiştir.

**Grafik:** A ve B İlçelerinin Yıllara Göre Nüfus Sayısı



Grafiğe göre A ve B ilçeleri arasındaki nüfus sayısı farkının en fazla olduğu yıl hangisidir?

- A) 2015 B) 2017 C) 2018 D) 2019

20. Bir sınıftaki öğrencilerin 9'u roman, 4'ü hikâye ve 7'si deneme türünde kitap okumuştur.

Buna göre bu sınıftaki öğrenciler arasından rastgele seçilen bir öğrencinin hikâye türünde kitap okumamış olma olasılığı kaçtır?

- A)  $\frac{4}{5}$  B)  $\frac{13}{20}$  C)  $\frac{11}{20}$  D)  $\frac{1}{5}$

### (832) FEN BİLİMLERİ – 8

1. Dünya'nın dönme eksenini yörünge düzleminde  $23^\circ 27'$  (23 derece 27 dakika) eğiktir.

Bu durum;

- I. gece ve gündüz oluşumu,  
II. mevsimlerin oluşumu,  
III. Dünya'nın kendi etrafındaki dönüş süresi

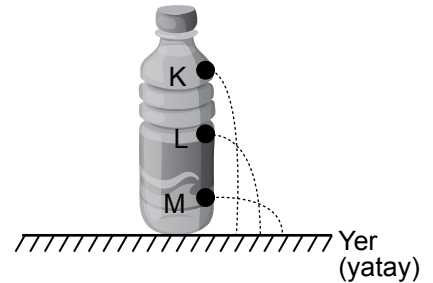
verilenlerden hangilerinin gerçekleşmesinde etkilidir?

- A) Yalnız I B) Yalnız II  
C) I ve III D) I, II ve III

2. Bir bölgede uzun süre gözlemlenen sıcaklık, nem, hava basıncı, rüzgâr, yağış, yağış şekli gibi atmosfer olaylarının ortalaması aşağıdaki-lerden hangisi ile ifade edilir?

- A) İklim B) Hava olayı  
C) Meteorolog D) Klimatolog

3. Bir plastik kaptaki K, L ve M noktalarında bulunan deliklerden suyun çıkışı ve ulaştığı mesafeler şekildeki gibidir.



Buna göre sıvının K, L ve M noktalarına yaptığı basınçlar  $P_K$ ,  $P_L$ ,  $P_M$  arasındaki ilişki aşağıdaki-lerin hangisinde doğru verilmiştir?

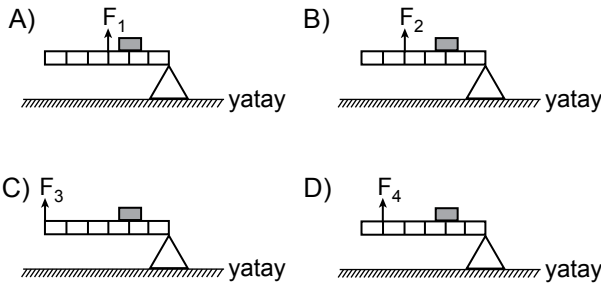
- A)  $P_M > P_L > P_K$  B)  $P_K > P_L > P_M$   
C)  $P_L > P_K > P_M$  D)  $P_K = P_L = P_M$

## 2. OTURUM

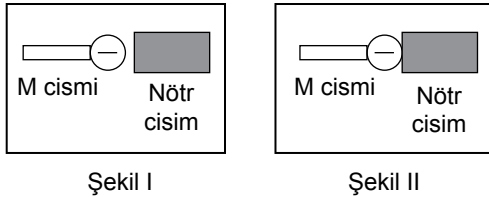
**4. Basit makineler ile ilgili aşağıdakilerden hangisi doğrudur?**

- A) Eğik düzlemde yoldan kazanç sağlar.  
B) Tüm kaldıraçlar kuvvetten kazanç sağlar.  
C) Hareketli makara kuvvetten kazanç sağlar.  
D) Sabit makaralar yoldan kazanç sağlar.

5. Aşağıda  $F_1$ ,  $F_2$ ,  $F_3$  ve  $F_4$  kuvvetlerinin uygulandığı kaldıraçlardan hangisi kullanıldığında eşit ağırlıktaki yükler en az kuvvetle dengelenir? (Kaldıraçlar özdeş ve eşit bölmelendirilmiştir.)



6. Şekil I'de nötr iletken cisme, negatif yüklü bir M cismi yalıtkan sapından tutularak yaklaştırılıyor. Şekil II'de M cismi nötr iletken cisme dokunduruluyor.



**Buna göre aşağıdakilerden hangisi doğrudur?**

- A) Şekil I' deki M cismini nötr hale getir.
- B) Şekil II' deki nötr cisim negatif yükle yüklenir.
- C) Şekil II' de etki ile elektriklenme gerçekleşir.
- D) Şekil I' de dokunma ile elektriklenme gerçekleşir.

7. Aşağıdaki araçlardan hangisi amacına göre kullanıldığında elektrik enerjisini ısıya dönüştürür?

- A) Ampul                      B) Televizyon  
C) Elektrik motoru        D) Ütü

**8.** Periyodik sistemin bir kısmı şekilde verilmiştir.



**Buna göre aşağıdakilerden hangisi periyodik sistemde taralı olarak gösterilen bölümde yer alan elementlerin genel özelliklerindendir?**

- A) Kendi aralarında bileşik oluşturabilirler.  
B) Elektrik enerjisini iyi iletirler.  
C) Tel ve levha hâline getirilemezler.  
D) Oda koşullarında gaz hâlde bulunurlar.

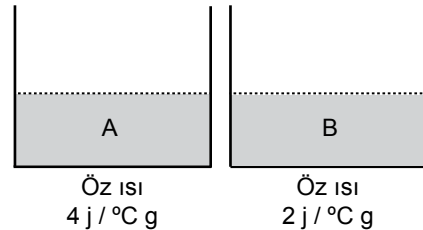
9. Aşağıdakilerin hangisinde kimyasal değişim gözlenmez?

- A) Dişlerin çürümesi  
B) Yoğurdun mayalanması  
C) Yemeğin pişmesi  
D) Buzun erimesi

10. Kapalı kapta gerçekleşen kimyasal tepkimeler ile ilgili aşağıdakilerden hangisi doğrudur?

- A) Tepkime sonunda oluşan maddeler başlangıçtaki maddelerin özelliklerini taşır.
- B) Tepkime sonunda toplam kütle değişmez.
- C) Tepkimeye giren elementlerin dışında farklı tür elementler oluşur.
- D) Tepkimeye giren maddelerdeki atom sayısı ile tepkime sonrası toplam atom sayısı farklıdır.

**11.** 30 °C sıcaklıkta şekildeki özdeş kaplarda öz ısıları belirtilen eşit miktarda A ve B sıvıları bulunmaktadır.



**Bu kaplar özdeş ısıtıcılarla 10 dakika ısıtıldığında sıvıların son sıcaklıkları aşağıdakilerden hangisi olabilir? (Isı alışverişinin sadece sıvılar ve ısıtıcı arasında olduğu, hâl değişiminin olmadığı kabul edilecektir.)**

	<u>A</u>	<u>B</u>
A)	40 °C	40 °C
B)	40 °C	35 °C
C)	30 °C	60 °C
D)	45 °C	60 °C

## 2. OTURUM

12. Asit veya baz özelliği gösteren K, L, M ve N maddelerinin pH değerleri tabloda verilmiştir.

Maddeler	K	L	M	N
pH değeri	12	9	5	3

Buna göre tabloda verilen maddeler aşağıdakilerden hangisi olabilir?

- A) K maddesi lavabo açıcı olabilir.  
B) N maddesi amonyak olabilir.  
C) L maddesi elma olabilir.  
D) M maddesi küllü su olabilir.

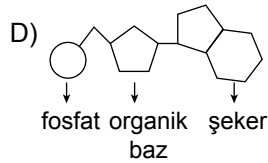
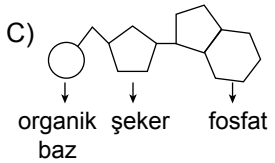
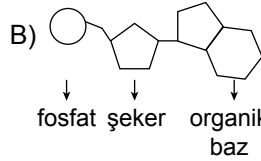
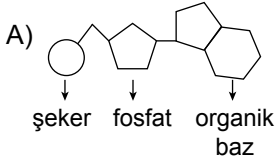
13. Saf bir maddenin erime sıcaklığındaki farklı kütleleri özdeş ısıtıcılarla ısıtılıyor. Maddelerin tamamının sıvı hâle geçmesi için geçen süre gözleniyor.

Buna göre geçen sürenin farklı olmasının nedeni aşağıdakilerden hangisidir?

(Isı alışverişinin sadece maddeler ve ısıtıcı arasında olduğu kabul edilecektir.)

- A) Erime sıcaklıklarının farklı olması  
B) Öz ısılarının farklı olması  
C) Kütlelerinin farklı olması  
D) Erime ısılarının farklı olması

14. Aşağıdakilerin hangisinde bir nükleotidin yapısı doğru gösterilmiştir?



15. Uzun ve kısa boylu bezelyelerin gövde özelliklerinin genotipleri tabloda verilmiştir.

Uzun boylu	Kısa boylu
Bb	bb

Bezelyelerde gövdenin uzun olma özelliği kısa olma özelliğine baskındır.

Buna göre yukarıda genotipleri verilen bezelyelerin çaprazlanmasıyla kısa boylu bezelyelerin ortaya çıkma ihtimali kaçtır?

- A)  $\frac{1}{4}$  B)  $\frac{1}{2}$  C)  $\frac{3}{4}$  D) 1

16. Canlılar hayatta kalabilmek için birbirleriyle ve çevreleriyle sürekli mücadele ederler. Bu süreçte ortama uygun kalıtsal özellik gösterenler yaşarken, diğer canlılar elenecektir.

Buna göre bu süreç aşağıdakilerden hangisidir?

- A) Doğal seçim B) Varyasyon  
C) Modifikasyon D) Mutasyon

17. İnsanlar tarafından, bir türün bireyleri arasında istenilen özellikleri taşıyan daha verimli bireyler elde etmek amacıyla seçim yapılarak bu bireylerin çaprazlanması olayı aşağıdakilerden hangisidir?

- A) Aşılama B) Klonlama  
C) Yapay seçim D) Gen tedavisi

18. Aşağıdaki canlılardan hangisi hem etçil hem de otçul olan tüketici canlılar grubunda yer alır?

- A) Aslan B) Geyik  
C) Tavuk D) Timsah

19. Bitkilerin besin üretimi amacıyla yaptığı fotosentez ile ilgili aşağıdakilerden hangisi doğrudur?

- A) Fotosentez yapay ışıktaki da gerçekleşebilir.  
B) Işığın renginin değişmesi fotosentez hızını etkilemez.  
C) Fotosentez sonucu karbondioksit üretilir.  
D) Tüm bitkilerin fotosentez hızı aynıdır.

20. Doğada gerçekleşen su döngüsünde aşağıdaki olaylardan hangisinin etkisi yoktur?

- A) Suların buharlaşması  
B) Canlılarda görülen terleme  
C) Yağışlar  
D) Azot bağlayıcı bakterilerin havadaki azotu tutmaları

TEST BİTTİ.

CEVAPLARINIZI KONTROL EDİNİZ.

### CEVAP KÂĞIDI VE SORU KİTAPÇIĞI İLE İLGİLİ AÇIKLAMALAR

1. Cevap kâğıdınızdaki bilgilerin doğruluğunu kontrol ediniz ve cevap kâğıdınızı mürekkepli kalemle imzalayınız.
2. Cevap kâğıdı üzerinde kodlamalarınızı siyah kurşun kalemle yapınız.
3. Değiştirmek istediğiniz bir cevabı, yumuşak silgiyle cevap kâğıdını örselemeden temizce siliniz ve yeni cevabınızı kodlayınız.
4. Soru kitapçığının sayfalarını görevlilerin uyarıları doğrultusunda kontrol ediniz, baskı hatası var ise değiştirilmesini sağlayınız.
5. Soruların çözümü için size ayrıca boş kâğıt verilmeyecektir. Soru kitapçığının içindeki boş alanları soru çözümleri için kullanabilirsiniz.
6. Her sorunun dört seçeneğinden sadece biri doğrudur. Doğru seçeneği, cevap kâğıdınızın ilgili sütununa soru numarasını dikkate alarak yuvarlağın dışına taşırmadan kodlayınız. Soru kitapçığı üzerinde yapılan cevaplandırmalar dikkate alınmayacaktır.
7. Cevaplamaya istediğiniz dersin sorusundan başlayabilirsiniz. Cevabını bilmediğiniz sorular üzerinde fazla zaman kaybetmeden diğer sorulara geçiniz. Zamanınız kalırsa bu sorulara daha sonra dönebilirsiniz.
8. Yanlış cevaplarınız dikkate alınmadan sadece doğru cevaplarınız üzerinden puanlama yapılacaktır.
9. Soruları ve sorulara verdiğiniz cevapları, yanınızda götürmek amacıyla kaydetmeyiniz; hiçbir şekilde dışarı çıkarmayınız.
10. Sınav bitiminde soru kitapçığı ve cevap kâğıdını salon görevlilerine teslim ediniz.
11. Aday tarafından cevap kâğıdına yazılması veya işaretlenmesi gereken bilgilerde eksiklik ya da yanlışlık olması durumunda sorumluluk adaya ait olacaktır.

### SALON GÖREVLİLERİNCE SINAV BAŞLAMADAN ÖNCE ADAYLARA YAPILACAK SON UYARILAR

- Soracağınız bir şey varsa şimdi sorunuz, sınav başladıktan sonra sorularınıza cevap verilmeyecektir.
- Başlama zilini bekleyiniz.

*Hepinize başarılar dileriz.*

(Salon başkanı başlama ve bitiş saatini tahtaya yazacaktır.)

Bu kitapçığın her hakkı saklıdır. Hangi amaçla olursa olsun, kitapçığın tamamının veya bir kısmının Millî Eğitim Bakanlığı Ölçme, Değerlendirme ve Sınav Hizmetleri Genel Müdürlüğünün yazılı izni olmadan kopya edilmesi, fotoğraflarının çekilmesi, bilgisayar ortamına alınması, herhangi bir yolla çoğaltılması, yayımlanması veya başka bir amaçla kullanılması yasaktır. Bu yasağa uymayanlar, doğabilecek cezai sorumluluğu ve kitapçığın hazırlanmasındaki mali külfeti peşinen kabullenmiş sayılır.

**25 TEMMUZ 2020 TARİHİNDE YAPILAN**  
**AÇIK ÖĞRETİM ORTAOKULU 2019-2020 ÖĞRETİM YILI 2. DÖNEM SINAVI**  
**2. OTURUM CEVAP ANAHTARI**

**(553) SOSYAL BİLGİLER – 5**

1. C
2. A
3. D
4. C
5. B
6. A
7. C
8. D
9. A
10. B
11. D
12. C
13. B
14. D
15. A
16. C
17. B
18. C
19. D
20. B

**(554) ALMANCA – 5**

1. C
2. B
3. D
4. A
5. B
6. C
7. D
8. A
9. C
10. A
11. B
12. A
13. C
14. A
15. C
16. D
17. B
18. D
19. A
20. D

**(555) DİN KÜLTÜRÜ VE  
AHLAK BİLGİSİ – 5**

1. D
2. A
3. D
4. B
5. A
6. C
7. A
8. B
9. C
10. B
11. D
12. C
13. B
14. C
15. D
16. B
17. A
18. C
19. B
20. C

**(631) MATEMATİK – 6**

1. D
2. B
3. B
4. C
5. D
6. B
7. B
8. D
9. C
10. A
11. A
12. C
13. D
14. B
15. B
16. C
17. A
18. A
19. D
20. D

**(554) İNGİLİZCE – 5**

1. C
2. A
3. C
4. B
5. C
6. D
7. B
8. A
9. A
10. D
11. B
12. C
13. D
14. B
15. D
16. D
17. C
18. A
19. B
20. A

**(554) FRANSIZCA – 5**

1. B
2. B
3. A
4. A
5. C
6. D
7. D
8. A
9. B
10. A
11. D
12. A
13. B
14. D
15. C
16. A
17. D
18. C
19. A
20. B

**(630) TÜRKÇE – 6**

1. C
2. D
3. A
4. D
5. A
6. C
7. C
8. B
9. D
10. B
11. A
12. C
13. D
14. D
15. A
16. D
17. B
18. A
19. B
20. C

**(632) FEN BİLİMLERİ – 6**

1. D
2. C
3. B
4. D
5. C
6. A
7. B
8. A
9. C
10. D
11. A
12. B
13. B
14. C
15. A
16. B
17. D
18. D
19. B
20. C

**25 TEMMUZ 2020 TARİHİNDE YAPILAN**  
**AÇIK ÖĞRETİM ORTAOKULU 2019-2020 ÖĞRETİM YILI 2. DÖNEM SINAVI**  
**2. OTURUM CEVAP ANAHTARI**

**(733) SOSYAL BİLGİLER – 7**

1. B
2. C
3. D
4. A
5. B
6. D
7. A
8. D
9. B
10. A
11. C
12. D
13. A
14. C
15. D
16. B
17. C
18. B
19. D
20. C

**(735) İNGİLİZCE – 7**

1. B
2. D
3. A
4. D
5. D
6. C
7. B
8. A
9. C
10. A
11. B
12. A
13. C
14. D
15. B
16. A
17. D
18. B
19. C
20. A

**(735) ALMANCA – 7**

1. C
2. B
3. A
4. B
5. D
6. D
7. C
8. A
9. D
10. B
11. A
12. C
13. A
14. D
15. A
16. D
17. B
18. C
19. D
20. C

**(735) FRANSIZCA – 7**

1. D
2. A
3. B
4. B
5. C
6. D
7. D
8. A
9. B
10. B
11. C
12. C
13. A
14. B
15. D
16. A
17. D
18. B
19. A
20. C

**(736) DİN KÜLTÜRÜ VE  
AHLAK BİLGİSİ – 7**

1. B
2. C
3. D
4. B
5. A
6. C
7. A
8. B
9. D
10. C
11. A
12. B
13. C
14. A
15. D
16. C
17. D
18. C
19. A
20. B

**(830) TÜRKÇE – 8**

1. A
2. C
3. D
4. C
5. A
6. C
7. B
8. B
9. C
10. D
11. A
12. D
13. A
14. B
15. D
16. A
17. C
18. A
19. C
20. D

**(831) MATEMATİK – 8**

1. C
2. B
3. B
4. C
5. A
6. C
7. D
8. B
9. D
10. B
11. D
12. A
13. C
14. B
15. A
16. D
17. B
18. C
19. C
20. A

**(832) FEN BİLİMLERİ – 8**

1. B
2. A
3. A
4. C
5. C
6. B
7. D
8. B
9. D
10. B
11. D
12. A
13. C
14. B
15. B
16. A
17. C
18. C
19. A
20. D