



ADİYAMAN İL MİLLÎ EĞİTİM MÜDÜRLÜĞÜ

KAZANIM PEKİŞTİRME ÇALIŞMASI

LIFE FITS INTO HOME

HAYAT EVE SIĞAR



4. SINIF
4-10 MAYIS

3.
SAYI

BU KİTAPÇIKTA

TÜRKÇE	15 SORU
MATEMATİK	15 SORU
FEN BİLİMLERİ	15 SORU
SOSYAL BİLGİSİ	15 SORU
İNGİLİZCE	10 SORU
DİN KÜLTÜRÜ	10 SORU

Yer almaktadır.

Not: Cevap anahtarı soruların yayımlandığı günden sonraki pazartesi günü <http://adiyaman.meb.gov.tr/> duyurular sekmesinde açıklanacaktır.

Bu çalışmada yer alan Borsa İstanbul ilkokulu, Cumhuriyet İlkokulu, Mehmetçik İlkokulu, Menderes İlkokulu idareci ve öğretmenlerine teşekkürler...

ADİYAMAN MEM

2020

4. SINIF KAZANIM PEKİŞTİRME TESTİ

TÜRKÇE DERSİ

1. Verilen tümcelerden hangisinde bir duygu anlatılmaktadır?

- A)Okula geldim.
- B)Öğrencileri seviyorum.
- C)Dedem bize masal okudu.
- D)Annem bize pasta yaptı.

2. “Benim babam çok anlayışlı bir insandır.” cümlesindeki “**anlayışlı**” sözcüğünün yerine hangi sözcük geldiğinde cümlenin anlamı bozulmaz?

- A)Düşünceli
- B) Saygılı
- C)Bilgili
- D) Sevimli

3. Verilen tümcelerden hangisinde “**de**” nin yazımında yanlışlık yapılmıştır?

- A)Okula da gelmemiş.
- B)Kitaplarını da getir.
- C)Torununa da mı almış?
- D)Cam da lekeler var.

4. Verilen sözcüklerden hangisinde kullanılan ünlülerin hepsi kalındır?

- A)Kalem
- B) Kelebekler
- C)Kapıları
- D) Çiçek

5. Güneş yüzlü, altın kalpli,
Ağırbaşlı, tatlı dilli,
Meleklerin eşi sanki
Sensin, benim güzel annem.

Verilen dördlükten, hangi anlam çıkarılamaz?

- A)Annelerin tatlı dilli olduğu
- B)Annelerin çiçekler gibi olduğu
- C)Annelerin ağırbaşlı olduğu
- D)Annelerin meleğe benzediği

6. Aşağıdaki cümlelerin hangisinde sebep – sonuç ilişkisi vardır?

- A)Hastalandığı için okul maçına gelemedi.
- B)Senin kadar yaramaz bir çocuk görmedim.
- C)Kitap okumak bir zevktir.
- D)Kan vücudumuzda sürekli dolaşır.

7. “**güzel**” sözcüğü ile “**çirkin**” sözcüğü arasındaki anlam ilişkisi hangi seçenekteki sözcükler arasında yoktur?

- A)Âlim-bilgin
- B) İhtiyar-genç
- C)Eski-yeni
- D) Sert-yumuşak

8. "Komşuları rahatsız etmemek için müziğin"

Boş bırakılan yere aşağıdakilerin hangisinin getirilmesi daha uygundur?

- A)sesini açtık B) sesini kıstık
C)sesini D) ses

9. Aşağıdaki tümcelerin hangisinde mecaz anlam yoktur?

- A)Yalancının mumu yatsıya kadar yanar.
B) En yakın arkadaşım Ahmet'tir.
C) Komşu komşunun külüne muhtaçtır.
D) Dost kara günde belli olur.

10. "Antrenman sahasına kadar yaya yürüdüm."
Tümcesinde gereksiz olan sözcük hangisidir?

- A)Yaya B) Yürüdüm
C)Sahasında D) Antrenman

11. Aşağıdaki tümcelerin hangisinde karşılaştırma yapılmıştır?

- A)Üzüm, çileğe göre daha tatlıdır.
B)Okul gezisi için bütün hazırlıklar yapıldı.
C)Ders çalışarak başarılı olabiliriz.
D)Kitap okumak insanı dinlendirir.

12. Aşağıdaki tümcelerin hangisinde öznel bir yargı vardır?

- A)Çocuk birden ağlamaya başladı.
B)Güneş her gün yeniden doğar.
C)Birlikte çalışırsak başarırız.
D)Kar yağışı hiç kesilmedi.

13. "Sütten ağzı yanan, yoğurdu üfleyerek yer."
atasözünün taşıdığı anlam aşağıdakilerden hangisiyle ilgilidir?

- A) Deneyim B) Tutumluluk
C) Serbestlik D) Eşitlik

14. Seçeneklerde verilen sözciklerden hangisi birleşik bir sözcük değildir?

- A) İmambayıldı B) Karasinek
C) Kuşbaşı D) Demircilik

15. Hangi sözcüğe "i" harfi getirilirse, sözcüğün son harfinde değişme olmaz?

- A) Tabak Pirinç
C) Yorgan Kabak

4. SINIF KAZANIM PEKİŞTİRME TESTİ

MATEMATİK DERSİ

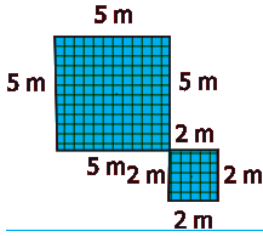
1. Bir kenarının uzunluğu 46 metre olan kare şeklindeki bir tarlanın çevresini 4 kez dolaşan bir çiftçi kaç metre yürümüş olur?

A)92 B) 184
C)368 D) 736

2. Dikdörtgen şeklindeki bir bahçenin çevresi 240 metredir. Boyu eninden 20 m fazla olan bu bahçenin uzun kenarı kaç metredir?

A)65 B) 70
C)75 D) 80

3.



Yukarıdaki şekilde taralı bölgenin çevresi kaç metredir?

A) 26 B) 28
C) 30 D) 32

4. Bir kenar uzunluğu 29 dm olan karenin çevresi kaç desimetredir?

A) 108 B) 110
C) 114 D) 116

5.



Yukarıdaki şekilde 4 tane kareden oluşan dikdörtgenin çevresi 50 dm'dir. **Karenin bir kenarı kaç desimetredir?**

A) 3 B) 4
C) 5 D) 6

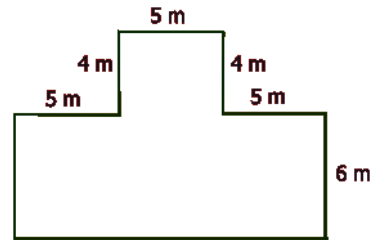
6. Bir dikdörtgenin kısa kenarı 7 dm'dir. Uzun kenar, kısa kenarın iki katıdır. **Bu dikdörtgenin çevresi kaç desimetredir?**

A) 36 B) 40
C) 42 D) 45

7. Kare şeklindeki bahçenin etrafına 4 sıra dikenli tel çekilmiştir. 6560 metre tel kullanıldığına göre, **bu bahçenin bir kenar uzunluğu kaç metredir?**

A) 405 B) 410
C) 415 D) 420

8.



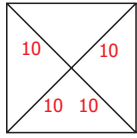
Yukarıdaki şeklin çevresi kaç metredir?

A) 40 B) 45
C) 48 D) 50

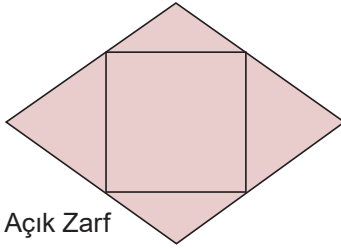
9. Bir kenarı 10 m olan kare şeklindeki bahçenin etrafına 2 sıra dikenli tel çevrilecektir. **Dikenli telin metresi 5 lira olduğuna göre tele kaç lira verilir?**

A) 400 B) 450
C) 500 D) 550

10.



Kapalı Zarf



Açık Zarf

Yukarıda kapalı ve açık zarf şekilleri görülüyor. **Şekildeki ölçülere göre taralı bölgenin çevresi kaç cm'dir?**

A) 60 B) 70
C) 75 D) 80

11. Bir karenin çevresi; kenar uzunlukları 23 cm, 17 cm, 20 cm olan üçgenin çevresine eşittir. **Karenin bir kenar uzunluğu kaç m'dir?**

A) 14 B) 15
C) 16 D) 17

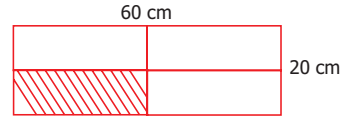
12. Uzun kenarı 10 cm, kısa kenarı 8 cm olan dikdörtgenin çevresi kaç santimetredir?

A) 30 B) 32
C) 36 D) 48

13. Üç kenar uzunluğu 24 metre olan karenin çevresi kaç metredir?

A) 28 B) 32
C) 36 D) 40

14.



Yukarıdaki şekilde 4 dikdörtgen aynı büyüklüktedir.

Taralı dikdörtgenin çevresi kaç santimetredir?

A) 60 B) 70
C) 80 D) 90

15. Çevresine 5 metre aralıklarla 8 ağaç dikilen karenin çevresi kaç metredir?

A) 35 B) 36
C) 40 D) 42

4. SINIF KAZANIM PEKİŞTİRME TESTİ

FEN BİLİMLERİ DERSİ

1. Aşağıdaki cümlelerdeki boşlukları verilen kelimeleri kullanarak doldurduğumuzda doğru sıralama nasıl olmalıdır?

(göç yollarını) - (işitme kaybına) - (kulaklık) - (ses kirliliğini)

Aşırı gürültülü yerlerde bulunmak insanlarda geçici veya kalıcı neden olur.

Evlerimizde önlemek için binamıza ses yalıtımı yaptırabiliriz.

İş makinelerinde çalışan operatörler aşırı ses kirliliğinden dolayı kullanır.

Yüksek ses, göçmen kuşların kaybetmelerine sebep olur.

A) (ses kirliliğini) - (işitme kaybına) - (kulaklık) - (göç yollarını)

B) (göç yollarını) - (işitme kaybına) - (ses kirliliğini) - (kulaklık)

C) (kulaklık) - (göç yollarını) - (işitme kaybına) - (ses kirliliğini)

D) (işitme kaybına) - (ses kirliliğini) - (kulaklık) - (göç yollarını)

2. Aşağıdaki cümlelerin doğru olanların başına (D) yanlış olanların başına (Y) koyarsak doğru sıralama nasıl olur?

() Nüfus artışı ve teknolojik gelişmeler kalabalık ortamlar ses kirliliğine sebep olmaz.

() Ev ve iş yerlerine çift cam taktırmak ses kirliliğini azaltan bir yöntemdir.

() Cadde ve sokakları ağaçlandırmak gürültünün etkisinin azaltır.

() Ses kirliliği insanlara rahatsızlık verir ama sağlığımızı olumsuz etkilemez.

A) D-Y-D-Y B) Y-Y-D-D

C) Y-D-D-Y D) D-Y-Y-D

3. Aşağıdakilerden hangisi veya hangileri ses kirliliğine karşı alınabilecek önlemlerdendir?

1. Şehir içinde yol kenarlarına sesi emmek için ağaçlar dikilmelidir.

2. Fabrikalar yerleşim yerlerinde yapılmalıdır.

3. Gürültülü işlerde çalışanlar kulaklarına kulaklık takılmalıdır.

A) 1-3

B) 1-2

C) 2-3

D) 1-2-3

4. Aşağıdakilerden hangisi yapılsa okullarda gürültü en az seviyede olur?

A) Okulun duvarlarına ses ve ısı yalıtımı yapılsa

B) Okulun bahçesine ağaç dikilirse

C) Öğrenciler derste izin alıp, teneffüslerde normal ses tonu ile konuşurlarsa

D) Okullar şehir dışına yapılsa

5. Aşağıdaki cümlelerden hangisi doğrudur?

A) Ses kirliliğinin olumsuz etkilerini ortadan kaldırmak sadece devletlerin görevidir.

B) Evimizde yüksek sesle müzik dinlemek ses kirliliği değildir.

C) Yalıtım yapılırken köpük, elyaf, cam yünü gibi malzemeler kullanılır

D) Ses kirliliği görme duyumuza zarar verir.

6. Hangi seçenekte ses kirliliğinin bir etkisi söz konusu değildir?

- A) Uyku bozukluğuna neden olur.
- B) İşitme kaybına neden olur.
- C) İş verimini düşürür.
- D) Alçak sesle konuşma alışkanlığı kazandırır.

7. Ses ile ilgili verilen bilgilerden hangisi yanlıştır?

- A) Ses kaynakları da ışık kaynakları gibi doğal ve yapay olarak iki bölümde incelenir.
- B) Ses kaynağından çıkan ses maddedir.
- C) İnsan ve hayvan sesleri doğal ses kaynaklarındandır.
- D) Müzik aletleri yapay ses kaynaklarındandır.

8. Gürültülü ortamlarda çalışan insanlar aşağıdakilerden hangisini yaparsa kulak sağlığını korumak için önlem almış olur?

- A) Gözlük takarsa
- B) Kulaklık takarsa
- C) Sıkı giyinirse
- D) Gürültüye kendini alıştırsa

9. Aşağıdakilerden hangileri ses kirliliğini azaltmak için alınabilecek önlemlerdendir?

- I- Ulaşım araçlarının çıkardığı sesi azaltmak için gerekli filtrelemeler ve kontroller yapılmalıdır.
- II- Eğlence yerlerinde yüksek şiddette müzik çalınması engellenmelidir
- III- Hava alanları yerleşim bölgelerinden uzak yerlere kurulmalıdır.

- A) I ve II
- B) I ve III
- C) II ve III
- D) I, II ve III

10. Ses kirliliğinin etkisini önlemenin bir yolu da binalara ses yalıtımı yapmaktır. Ses geçişini engellemek için binaların duvarlarını aşağıdaki maddelerden hangisi ile kaplamak uygun olur?

- A) Cam kaplama
- B) Strafor kaplama
- C) Mozaik kaplama
- D) Mermer kaplama

11. Aşağıdakilerden hangileri ses kirliliğini azaltmak için yapılan doğru davranışlardır?

- I- Evimizdeki televizyon, radyonun ve müzik aletlerinin sesini duyabileceğimiz kadar açmak
- II- Otobüs gibi kalabalık ortamlarda rahatsız edecek şekilde yüksek sesle konuşmamak
- III- Tamirat, bakım ve onarım işlerini gece herkesin uyuduğu saatte yapmak

- A) I ve II
- B) I ve III
- C) II ve III
- D) I, II ve III

12. Aşağıdaki cümlelerden kaç tanesi yanlış bilgi vermiştir?

- () Ses şiddetinin yüksek olduğu ortamlarda yüksek sesle müzik dinlemeliyiz.
- () Yalıtım yapılırken köpük, elyaf, cam yünü gibi malzemeler kullanılır.
- () Ses kirliliğini engellemek için gürültüye alışmalıyız.
- () Ses kirliliğinin olumsuz etkilerini ortadan kaldırmak sadece devletlerin görevidir.
- () Gürültülü ortamlarda ders çalışmak ve okuduğunu anlamak daha zor olur.
- () Şehir merkezlerinde ve fabrikalarda ses kirliliği fazla değildir.

- A) 5 B) 4
C) 3 D) 2

13. Aşağıdakilerden hangisi ses kirliliğini önlemek için yapılan uygulamalardan birisi değildir?

- A) Kamyon gibi yük araçlarının şehir içine girmesi engellenmelidir.
- B) Araçlardaki motor seslerini azaltıcı sistemlerin iyi çalışıp çalışmadığı sık sık kontrol edilmelidir.
- C) Yol kenarlarına ağaçlandırma ya da sesi emen duvarlar yapılarak, araçların seslerinin yayılması engellenmelidir.
- D) Yüksek şiddette ses çıkaran sanayi kuruluşları ve hava alanları şehir dışına kurulmalıdır.

14. Aşağıdaki ses kirliliği ile ilgili cümlelerden kaç tanesi doğrudur?

- () Araç kullanımını azaltacak önlemler alınmalı, toplu taşıma tercih edilmelidir.
- () Ev ve iş yerlerinde ses geçirmeyen camlar kullanılmalıdır.
- () Fabrika, imalathane gibi gürültüye neden olan kuruluşlar şehir dışında kurulmalıdır.
- () Duvarlara cam yünü, strafor (köpük) gibi maddeler yalnızca ısı yalıtımı yapar, ses yalıtımı yapmaz.
- () Seyyar satıcıların yüksek sesle bağırarak ürün satmaları engellenmelidir.
- () Evlerimizde kullandığımız elektrik süpürgesi, çamaşır makinesi, matkap gibi çok ses çıkaran makineleri günün erken ve geç saatlerinde kullanmalıyız.

- A) 2 B) 3
C) 4 D) 5

15. Ses kirliliğinden şikâyet eden Ali Mirza Bey, aşağıdakilerden hangisini veya hangilerini yaparsa, yanlış yapmış olur?

- I-** Gürültülü yerlerde kulaklık takarsa.
- II-** Araç kornasını, gereksiz yere çalmayıp, gereksiz yere çalanları uyarıp çevresindekileri bilgilendirirse
- III-** Evinin caddeye bakan tarafındaki ağaçları keserse
- IV-** Hastane, okul, otobüs, kütüphane, gibi insanların toplu olduğu yerlerde yüksek sesle konuşursa

- A) II ve III B) I, II ve III
C) I ve II D) III ve IV

4. SINIF KAZANIM PEKİŞTİRME TESTİ

SOSYAL BİLGİLER DERSİ

1. Aşağıdakilerden hangisi çocuk hakları için düzenleme yapılmasının nedeni olabilir?

- A) Çocukların yetişkinlere göre daha az haklarının olması
- B) Diğer sözleşmelerin çocuk haklarını korumada yetersiz kalması
- C) Çocukların ailelerinden ayrı yerlerde büyütülmesinin sağlanması
- D) Çocukların sorumluluk sahibi olmasının sağlanması

2. I - Aile bireylerimize karşı saygılı ve duyarlı olmak
II - Arkadaşlarımıza verdiğimiz sözleri yerine getirmek

III - Aile bireylerimizle yardımlaşmak

IV - Sınıfımızı ve okulumuzu temiz tutmak

Yukarıda verilen bilgilerden hangileri, ailedeki sorumluluklarımızdandır ?

- A) I ve III
- B) I ve IV
- C) II ve III
- D) II ve IV

3. Kendimize ve başkalarına karşı yerine getirmemiz gereken yükümlülükler.....denir.
Verilen cümlede boş bırakılan yere aşağıdakilerden hangisi gelmelidir ?

- A) hak
- B) egemenlik
- C) sorumluluk
- D) saygı

4. TBMM'nin açılışı aşağıdaki kavramlardan hangisi ile doğrudan ilişkilidir ?

- A) Milli Egemenlik ve Bağımsızlık
- B) Sorumluluk
- C) Hak
- D) Özgürlük

5. Aşağıdakilerden hangisi eğitsel ve sosyal etkinliklere örnek verilemez ?

- A) Şiir dinletileri düzenlemek
- B) Spor karşılaşmaları düzenlemek
- C) Ödev yapmak
- D) Tiyatro etkinlikleri yapmak

6. Egemenlik kelimesinin eş anlamlısı aşağıdakilerden hangisidir ?

- A) Yurt
- B) Ulusal
- C) Millet
- D) Hakimiyet

7. Halk egemenliğine dayanan yönetim şekli aşağıdakilerden hangisidir ?

- A) Mutlakiyet
- B) Egemenlik
- C) Cumhuriyet
- D) Padişahlık

8. TBMM, ne zaman ve nerede açılmıştır ?

- A) 23 Nisan 1923 - Ankara
- B) 23 Nisan 1920 - Ankara
- C) 23 Nisan 1920 - İstanbul
- D) 19 Mayıs 1919 - Samsun

9. Aşağıdakilerden hangisi eğitsel ve sosyal etkinliklerin yararlarından biridir ?
- A) Kendimize olan güvenimiz azalır.
- B) İş birliği duygusunu ortadan kaldırır.
- C) Farklı düşüncelere karşı ön yargılı olmamayı öğretir.
- D) Tek başımıza başarı kazanmamızı sağlar.

10. Milli Egemenlik aşağıdaki hangi tarihi olay ile başlamıştır ?

- A) Atatürk'ün Samsun'a çıkması
- B) TBMM'nin açılması
- C) Milli Mücadelenin Başlaması
- D) Cumhuriyetin İlanı

11. Kitapları ve kitap okumayı çok seven Tuana, aşağıdaki okul kulüplerinden hangisine üye olmalıdır ?

- A) Bilim - Fen ve Teknoloji Kulübü
- B) Tiyatro Kulübü
- C) Kütüphanecilik Kulübü
- D) Satranç Kulübü

12. Okulda yangın tatbikatı yapmak hangi sosyal kulübün görevleri arasındadır ?

- A) Kızılay Kulübü
- B) Sivil Savunma Kulübü
- C) Spor Kulübü
- D) Yeşilay Kulübü

13. Aşağıdakilerden hangisi okuldaki sosyal kulüplerin öğrenciye sağladığı faydalardan değildir ?

- A) dayanışma B) iş birliği
- C) hoşgörüsüzlük D) bilgi ve beceri

14. Aşağıdakilerden hangisi bağımsızlık sembolü değildir?

- A) Bayrak
- B) Milli Marş
- C) TBMM
- D) Okul

15. Aşağıdaki ifadelerden doğru olanların başına “D” yanlış olanların başına “Y” yazınız.

- (.....)1.Çocuk Hakları Sözleşmesine göre 16 yaşından küçük her insan çocuk sayılır.
- (.....)2.Türkiye Cumhuriyeti, milli egemenlik ilkesine dayanan bir devlettir.
- (.....)3.Derslere zamanında girmek okuldaki sorumluluklarımızdan biridir.
- (.....)4.Çocuklar fikirleri sorulmadıkça ailedeki karar süreçlerine katılmamalıdır.
- (.....)5.Türkiye, Çocuk Haklarına Dair Sözleşme'yi imzalayan devletlerden biridir.
- (.....)6.Okulda düzenlenen törenlere katılmak sorumluluklarımızdan biridir.

4. SINIF KAZANIM PEKİŞTİRME TESTİ

İNGİLİZCE DERSİ

1. Fill in the blanks(Boşlukları uygun şekilde doldurun)

My sister is and she has got hair.



- A) ugly / short
- B) beautiful / curly
- C) plump / wavy
- D) slim / straight

2.



Ali is, but Veli is

- A) tall and plump / tall and fat.
- B) short and plump / tall and slim
- C) short and slim / short and thin
- D) tall and slim / short and fat

3.



Has your father got moustache?

- A) Yes, she has.
- B) No, he hasn't.
- C) Yes, he has.
- D) No, he has.

4.





Fill in the blanks. (Boşlukları doldurun)

Nasreddin Hodja is, and Keloğlan is

- A) plump / bald
- B) young / old
- C) tall / fat
- D) beautiful / old

5. Who is he/she? (Tanıtılan kişi kim?)

He is slim and short. He has got brown hair. He is not old.



6. Aşağıdaki tanımları okuyarak Sue - Jane - Elif'in kim olduğunu bulunuz.



A B C

Sue has got long wavy brown hair. She is medium - height.

Jane has got short black curly hair. She has got brown eyes.

Elif is very tall and slim. She has got brown hair.

Görsellerin altlarına uygun kelimeleri yazınız.

Old - Beautiful - Tall - Young - Plump
Curly hair - Ugly - Headscarf



.....



.....



.....



.....



.....



.....

4. SINIF KAZANIM PEKİŞTİRME TESTİ

DİN KÜLTÜRÜ VE AHLAK BİLGİSİ DERSİ

1. ● Peygamberimiz (s.a.v.), Medine'ye hicretten sonra ilk olarak burayı inşa ettirmiştir.
● Hem ibadet yeri hem yönetim merkeziydi.
● Mescidin bir bölümü Hz. Peygamberin (s.a.v.) eviydi.
● Ayrıca mescidin bir bölümünde kimsesiz Müslümanların kalabilmesi için de bir yer inşa ettirilmişti.

Yukarıda bahsedilen mescidin adı aşağıdakilerden hangisidir?

- A) Mescid-i Haram B) Mescid-i Nebi
C) Mescid-i Aksa D) Beytullah

2. Yaşadıkları sıkıntılardan dolayı inançları uğruna Mekke'den Medine'ye göç eden Müslümanlara denir. Mekke'den gelen Müslümanlara yardım eden ve her türlü desteği veren Medineli Müslümanlara da denir.

Yukarıdaki boşluklara aşağıdaki kelimelerden hangileri getirilmelidir?

- A) Evs ve Hazreçliler
B) Müşrikler ve Müminler
C) Ensar ve Muhacirler
D) Mekkeliler ve Medineliler

3. Zaman içinde Mekke'li müşrikler, Müslümanları bütünüyle ortadan kaldırıp İslam'ı yok etmek istediler. Bu nedenle Mekke'li müşriklerle Müslümanlar arasında savaşlar yaşandı. Bu savaşlarda Medine'ye saldıran Mekke'li müşrikler, amaçlarına ulaşamadılar. İslam, Medine'de ve çevresinde yayılmaya devam etti. **Buna göre aşağıdakilerden hangisi Mekke'li müşriklerle Müslümanlar arasında yapılan savaşlardan biri değildir?**

- A) Bedir Savaşı B) Uhud Savaşı
C) Hendek Savaşı D) Sıffin Savaşı

4. Hz. Muhammed'in (s.a.v) Medine'de huzur ve barış ortamı sağlamak için Yahudilerle yapmış olduğu antlaşma aşağıdakilerden hangisidir?

- A) Hudeybiye Antlaşması
B) Medine Sözleşmesi
C) Taif Antlaşması
D) Akabe Antlaşması

5. Peygamberimizin (s.a.v.) 632 yılında yapmış olduğu ilk ve son hac ibadeti aşağıdakilerden hangisidir?

- A) Umre
B) Ziyaret Haccı
C) Veda Haccı
D) Tavaf Haccı

6. Mescid-i Nebi'nin bitişiğine yoksul ve kimsesiz Müslümanların barınmaları ve eğitim öğretim görmeleri için yapılan yere ne ad verilir?

- A) Suffe B) Ashap
C) Mescid D) Kabile

7. Peygamberimiz (s.a.v.), Müslümanlar arasındaki birlik ve beraberliği, kardeşliği güçlendirmek için de önemli çalışmalar yaptı. Medineli Müslümanlarla, Mekke'den gelen Müslümanları kardeş ilan etti. Evs ve Hazreç kabilelerini barıştırdı. Medine'de bulunan Yahudilerle antlaşma imzaladı. Bu antlaşmaya göre Yahudiler ve Müslümanlar dinlerinde özgür olacaklardı. Bütün bu uygulamalar sonucunda Peygamberimiz (s.a.v.) Medine'de barış ve huzur içinde yaşayan bir toplum oluşturmayı amaçladı.

Aşağıdakilerden hangisi Peygamberimizin Toplumsal Barış ve Huzuru Sağlamak için yaptığı çalışmalardan değildir?

- A) Müslümanlar arasında birlik ve beraberliği sağlamıştır
- B) Zengini fakirden üstün görmüştür
- C) Farklı inançlara saygılı bir şekilde yaklaşmıştır
- D) İnsanların sevinçlerine, üzüntülerine ortak olmuştur.

8. Peygamber Efendimizin (s.a.v.) vefatında önce Arafat Dağı'nda Müslümanlara yapmış olduğu konuşmaya ne ad verilir?

- A) Bayram Hutbesi
- B) Cuma Hutbesi
- C) Son Hutbe
- D) Veda Hutbesi

9. "Allah'ın rahmeti ve bereketi; Hz. Muhammed'in, ailesinin ve ona iman edenlerin üzerine olsun." anlamına gelen, "Allahümme salli ala Muhammedin ve alâ âli Muhammed" cümlesi olarak da ifade dua aşağıdakilerden hangisiyle isimlendirilir?

- A) Salavat
- B) Mevlit
- C) Naat
- D) Tekbir

10. Peygamberimizle (s.a.v.) birlikte onun ailesine de dua edilmektedir. Peygamber efendimizin (s.a.v.) aile bireylerini ifade etmek için kullanılan kelime aşağıdakilerden hangisidir?

- A) Mümin
- B) Ehli Beyt
- C) Ehli Suffe
- D) Sahabe

3.HAFTA 4. SINIF KAZANIM PEKİŞTİRME TESTİ CEVAP ANAHTARI					
TÜRKÇE	MATEMATİK	SOSYAL BİLGİLER	FEN BİLİMLERİ	DİN KÜLTÜRÜ VE AHLAK BİLGİSİ	İNGİLİZCE
1-B	1-D	1-B	1-D	1-B	1-B
2-A	2-B	2-A	2-C	2-C	2-B
3-D	3-B	3-C	3-A	3-D	3-C
4-C	4-D	4-A	4-C	4-B	4-A
5-B	5-C	5-C	5-C	5-C	5-B
6-A	6-C	6-D	6-D	6-A	A.ELİF
7-A	7-B	7-C	7-B	7-B	B.SUE
8-B	8-D	8-B	8-B	8-D	C.JANE
9-B	9-A	9-C	9-D	9-A	HEADSCARF--BEAUTIFUL
10-A	10-D	10-B	10-B	10-B	PLUMP--OLD
11-A	11-B	11-C	11-A		CURLY HAİR--YOUNG
12-C	12-C	12-B	12-B		
13-A	13-B	13-C	13-A		
14-D	14-C	14-D	14-C		
15-C	15-C	15-Y,D,D,Y,D,D	15-D		

ANNE

Annelerimizin hayatımızdaki yeri ve önemi herkesten çok farklı ve apayrı bir yerde duruyor.

Mayıs ayının en önemli günü kuşkusuz anneler günüdür

Tüm dünya bu özel ve güzel günü aynı zamanda kutlar

Aslında bugün annemize olan sevgimizi göstermemizde çok iyi bir fırsat.

Üzerimizden duasını hiç eksik etmeyen

Sarılma ihtiyacımız olduğunda kollarını daima açık tutan

Arkadaş ihtiyacım olduğunda yol arkadaşım olan

Ders ihtiyacım olduğunda en iyi öğretmen olan

Koşulsuz sevgisini hiç esirgemeyen, varlık sebebim olan

Bebekken, çocukken, gençken, yetişkinen hep ilham kaynağım olan

En büyük sırdaşım derttaşım canım annemsin iyiki varsın...

Biliyorum bu dünyada anne gibi yâr olmaz cennet bile ayaklarının altına boşuna serilmedi canım annem.

Bu özel günde söyleyeceğimiz hiçbir kelime anne sevgisini anlatmaya yetmeyecek

Yapacağımız hiçbir şey borcumuzu ödemeyecek

Hayatınızın en kıymetlisi annelerimize, anneler gününde ne alsanız yeterli gelmeyecektir. Anne bitmeyen ve koşulsuz sevgisi ile çocuk için bir ders ve okuldur. Geleceğimizin huzur ve rahatlığı için çalışan annelerimize vereceğimiz tek hediye çalışmak, soru sormak ve öğrenmektir.

Canım annem ..

İyi ki benim annemsin seni çok seviyorum. Anneler günün kutlu olsun canım annem ..