



ADİYAMAN İL MİLLÎ EĞİTİM MÜDÜRLÜĞÜ

KAZANIM PEKİŞTİRME ÇALIŞMASI

LIFE FITS INTO HOME

HAYAT EVE SIĞAR



3. SINIF
4-10 MAYIS

3.
SAYI

BU KİTAPÇIKTA

TÜRKÇE	15 SORU
MATEMATİK	15 SORU
FEN BİLİMLERİ	15 SORU
HAYAT BİLGİSİ	15 SORU
İNGİLİZCE	10 SORU

Yer almaktadır.

Not: Cevap anahtarı soruların yayımlandığı günden sonraki pazartesi günü <http://adiyaman.meb.gov.tr/> duyurular sekmesinde açıklanacaktır.

Bu çalışmada yer alan Borsa İstanbul ilkokulu, Cumhuriyet İlkokulu, Mehmetçik İlkokulu, Menderes İlkokulu idareci ve öğretmenlerine teşekkürler...

ADİYAMAN MEM

2020

3. SINIF KAZANIM PEKİŞTİRME TESTİ

TÜRKÇE DERSİ

ÇİVİ

Umut çok yaramaz bir çocukmuş. Bir gün babası ona çivilerle dolu bir torba verip:

-Arkadaşlarınla tartışıp kavga ettiğin zaman, her seferinde bu tahtaya bir çivi çak, demiş.

Umut, birinci haftada otuz yedi çivi çakmış. Sonraki haftalarda kendini kontrol etmeye başlamış. Geçen her gün daha az çivi çakmış. Nihayet bir gün gelmiş ki hiç çivi çakmamış tahtaya. Babasına gidip söylemiş. Babası ,onu tebrik edip yeniden tahtanın önüne götürmüş.

Umut'a:

-Bugünden başlayarak tartışmayıp kavga etmediğin her gün için tahtadan bir çivi çıkar, demiş.

Günler geçmiş Umut her geçen gün hatalarını düzeltmiş. Bir de bakmış ki tahtada hiç çivi kalmamış.

Babası Umut'a:

-Aferin, iyi davrandın. Ancak bu tahtaya dikkatli bak, ne kadar çok delik var, değil mi? Artık asla eskisi gibi olmayacak. Her kötü söz de tıpkı tahtadaki gibi kalpte iz bırakır, demiş.

1. 2. ve 3. soruyu metne göre cevaplayınız.

1. Umut'un ilk hafta tahtaya otuz yedi çivi çakması neyi gösteriyor?

- A) Yaptığı hataların sayısını
- B) Yaptığı iyiliklerin sayısını
- C) Çivi çakmayı çok sevdiğini

2. Umut çivileri hangi davranışından dolayı çıkarmaya başlamış?

- A) Çivi çakmaktan sıkıldığı için
- B) Kavgasız ve tartışmasız geçen her gün için
- C) Yorulduğu için

3. Babası, tahtadaki çivi izlerini neye benzetmiş?

- A) Ağaç kabuğuna
- B) Arabaların toprak yolda bıraktığı iz
- C) Kötü sözlerin insan kalbinde bıraktığı iz

4. Aşağıdaki sözcüklerden hangisi sözlükte en sonda yer alır?

- A) kapı
- B) katır
- C) kağıt

5. Aşağıdaki cümlelerin hangisinde zıt anlamlı kelimeler aynı cümlede kullanılmıştır?

- A) Kurumuş ve hastalıklı ağaçları temizlediler.
- B) Kutlamalara yaşlı genç demeden herkes katıldı.
- C) Yaşlı dedeler ve ihtiyar kadınlar spor yapıyorlardı.

6. Aşağıdaki cümlelerin hangisinde nesnel yargı vardır?

- A) Gazete okumayı herkes sever.
- B) Yeni ayakkabıların çok güzel.
- C) Güneş hem ısı hem de ışık kaynağımızdır.

7. **Minik** kuşlar ağaçtaki **al** kirazları yemek için daldan dala atlayıp duruyorlardı. **Yukarıdaki cümlede geçen altı çizili kelimelerin(minik,al) eş anlamlıları hangi seçenekte doğru sıralanmıştır?**

A) kırmızı-beyaz
B) küçük-kırmızı
C) küçük- beyaz

8. **Aşağıdaki cümlelerin hangisinde büyük harflerin yazımı ile ilgili bir yanlışlık yapılmıştır?**

A) her hafta sonu büyüklerimizi ziyaret ederiz.
B) Aliler Adıyaman'da oturuyor.
C) Fidan'ı kitap okurken gördüm.

9. "Zehra bir tane taze ekmek ile iki çikolata satın aldı."
Cümlesinde kaç tane ön ad vardır?

A) 4 B) 2 C) 3

10. **Aşağıdaki cümlelerin hangisi olumsuz bir cümledir ?**

A) Her sabah erkenden kalkarım.
B) Sabahları kahvaltı yapar mısınız?
C) Bu gün dışarı çıkmadım.

11. **Aşağıdaki noktalama işaretlerinden hangisi cümlelerin sonunda bulunmaz?**

A) Nokta B) Virgül C) Soru işareti

12. **Aşağıdaki cümlelerin hangisinde yazım yanlış yapılmıştır?**

A) Tırafik ışıklarına dikkat etmeliyiz.
B) Son zamanlarda plastik kullanımı azaldı.
C) Sağlık için spor yapmalıyız.

13. **Aşağıdaki cümlelerin hangisinde topluluk ismi vardır?**

A) Orman birçok canlıya barınma imkanı sunar.
B) Ben oyunda galip geldim.
C) Zeynep ile Esra sinemaya gitti.

14. **Mehmet Akif ERSOY gibi şiiir yazarlara ne denir?**

A) Ressam B) Yazar C) Şair

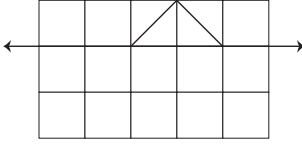
15. "Ömer çok çalışkan ve titiz bir öğrenci idi. Kitaplarını kaplar, etiket yapıştırır ve onları özenle çantasına yerleştirirdi."
Cümlesinde isim olmayıp ismin yerine kullanılan kelime hangisidir?

A) kitap B) çalışkan C) onları

3. SINIF KAZANIM PEKİŞTİRME TESTİ

MATEMATİK DERSİ

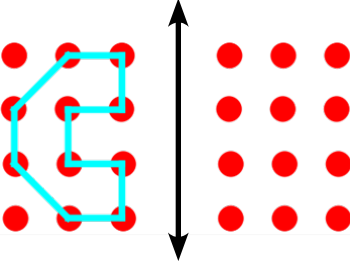
1.



Yukarıdaki şeklin diğer yarısını tamamlarsak hangi geometrik şekli elde ederiz?

- A) Kare B) Dikdörtgen C) Üçgen

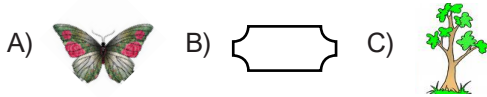
2.



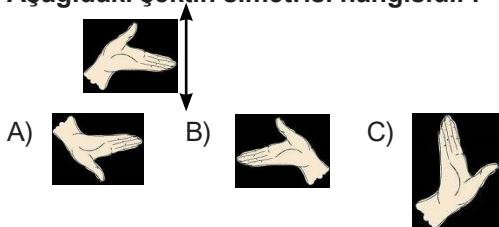
Yukarıdaki şeklin, verilen doğruya göre simetriği aşağıdakilerden hangisidir?



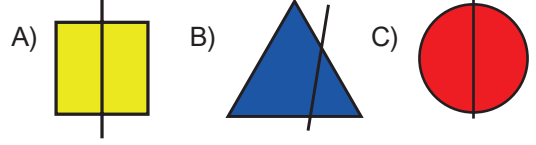
3. Aşağıdaki şekillerden hangisinin simetri doğrusu yoktur ?



4. Aşağıdaki şeklin simetrisi hangisidir?



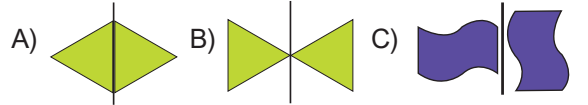
5. Aşağıdaki şekillerden hangisinin simetri doğrusu yanlış çizilmiştir?



6. Aşağıdaki şeklin simetriği hangisidir?



7. Aşağıdaki şekillerden hangisi simetrik değildir?



8. Aşağıdaki şekillerden hangisinin simetri doğrusu yanlış çizilmiştir?



9. Aşağıdaki kelebek resmi ile ilgili hangi seçenekteki ifade yanlıştır?



- A) İki eş parçaya ayrılabilir.
B) İki eş parçaya ayrılamaz.
C) Simetrik bir resimdir.

10. Aşağıdaki nesnelerden hangisinin simetrisi yoktur?



- A) I B) II C) III

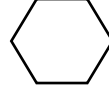
11. Aşağıdaki harflerden hangisi iki eş parçaya bölünemez?

- A) K B) T C) R

12. Hangi seçenekteki çizgi kalbi iki eş parçaya ayırmıştır?



13. Aşağıdaki şekille ilgili verilen bilgilerden hangisi doğrudur?



- A) Simetrik bir şekil değildir.
B) Simetrik bir şekildir.
C) İki eş parçaya ayrılamaz.

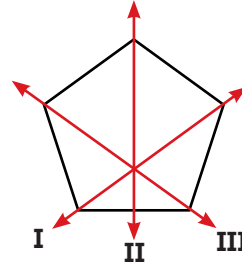
- 14.



- Yukarıdaki şekillerden hangisinin simetrisi yanlış çizilmiştir?

- A) I B) II C) III

- 15.



- Yukarıdaki nesne üzerine çizilen doğrulardan hangisi simetri oluşturur?

- A) I B) II C) III

3. SINIF KAZANIM PEKİŞTİRME TESTİ

FEN BİLİMLERİ DERSİ

1. Elektrik olmasaydı.....
Hangi öğrenci yukarıdaki cümleyi yanlış tamamlamıştır?

- A) **Mehmet:** Elektrikle çalışan araçlar da olmazdı.
B) **Hasan:** Zamanımızın büyük bir kısmı günlük işlerde geçerdi.
C) **Elif:** Işık kirliliği artardı.

2.

ARAÇLAR	KULLANIM ALANLARI		
	Aydınlatma	Soğutma	Haberleşme
Buzdolabı		✓	
Televizyon			✓
Floresan	✓		✓

Özlem tabloda yaptığı her doğru için 5 puan alacaktır.

Buna göre Özlem kaç puan almıştır?

- A) 10 B) 15 C) 5

3. **Aşağıdaki ifadelerden hangisi doğrudur?**

- A) Atık piller çöpe atılmalıdır.
B) Elektriğin olup olmadığını anlamak için prizlere çeşitli cisimler sokulmalıdır.
C) Arızalı elektrikli aletler uzmanlar tarafından tamir edilmelidir.

4. **Aşağıdaki olayların hangisinde aydınlatma amaçlı araç kullanılmıştır?**

- A) Emirhan, kumandalı oyuncak arabasıyla oynuyordu.
B) Gökdeniz, televizyonda film izliyor.
C) Babam otomobille markete gitti.

5. **Güvenli elektrik kullanımıyla ilgili;**

○: Elektrik tellerinin olduğu yerlerde uçurtma uçurulmamalıdır.

△: Islak elle prize dokunmak tehlikeli değildir.

★: Yıpranmış veya sıyrılmış kablolar prize takılmamalıdır.

İfadelerinden hangileri doğrudur?

- A) ○ ve ★ B) ○, △ ve ★ C) △ ve ★

6.

A KUTUSU		B KUTUSU	
1	Klima	5	Ev işleri
2	Cep Telefonu	6	Haberleşme
3	El Feneri	7	Aydınlatma
4	Mikser	8	Soğutma

A kutusundaki cihazlar ile B kutusundaki kullanım amaçları eşleştirilecektir. Doğru eşleştirme hangisidir?

- A) 1 ile 8 B) 1 ile 8 C) 1 ile 8
2 ile 6 2 ile 7 2 ile 5
3 ile 7 3 ile 6 3 ile 6
4 ile 5 4 ile 5 4 ile 7

7.



Yağmur, evde kullanılan elektrikli eşyaların bulunduğu kutuyu kırmızıya, okulda kullanılanları maviye, hastanede kullanılanları yeşile boyayacaktır. Yağmur hangi boyamayı yapmalıdır?

- A) B) C)

8. 1.Dilara'nın annesi mutfak robotuyla yemek hazırlıyordu.
2.Elanur, elektrikli sobayı açarak ders çalıştı.
3.Ayşe Rana, bilgisayarıyla canlı derse katıldı.
Yukarıdaki cümlelerde geçen elektrikli araçların kullanım amaçları sırasıyla yazılıyor. **Doğru sıralama nasıl olur?**

A)

- 1.Ulaşım
2.Isınma
3.Haberleşme

B)

- 1.Ev işleri
2.Isınma
3.Haberleşme

C)

- 1.Haberleşme
2.Aydınlatma
3.Ulaşım

9.



Erva görsellerdeki araçlardan 4 tanesini , aşağıdaki tabloda uygun yerlere yazıyor. Araçların baş harflerini yukarıdan aşağıya doğru okuyor. Erva, hangi kelimeye ulaşabilir?

Ulaşım
Haberleşme
Temizlik
Aydınlatma

A) Otel

B) Ülke

C) Okul

10. Tedavi için hastaneye giden Mustafa eve geldiğinde hastanede gördüğü eşyaları ablasına anlattı.
Mustafa hangi eşyadan söz etmiş olamaz?

A) Röntgen cihazı

B) Akıllı tahta

C) Ultrason cihazı

11.

Ütü 1	Buzdolabı 2
Saç kurutma makinesi 3	Fırın 4

Mutfakta kullanılan cihazların bulunduğu kutuları çıkarırsak tablo nasıl görünür?

A)

Ütü 1	Buzdolabı 2
----------	----------------

B)

Ütü 1
Saç kurutma makinesi 3

C)

Buzdolabı 2
Fırın 4

12. Aşağıdaki elektrikli araçlardan hangisinin kullanım alanı diğerlerinden farklıdır?

A) Çamaşır makinesi

B) Buzdolabı

C) Akıllı tahta

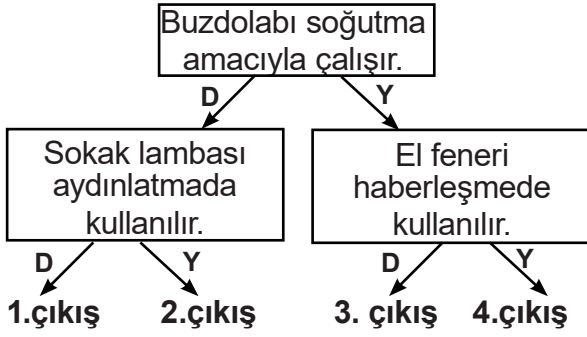
13. 'Kışın elektrik kesilince evimiz soğuk oluyor.' diyen Azra'nın sorunu hangisi olabilir?

A) Evlerine güneş girmemektedir.

B) Kışın havalar çok soğuktur.

C) Elektrik kesilince kombi çalışmamaktadır.

14.



Soruları doğru cevaplayan öğrenci hangi çıkışa ulaşır?

A)1.çıkış B)2.çıkış C)3.çıkış

15. Üçüncü sınıf öğrencisi olan Rumet Emre, bilgisayar oyunu oynayacaktır. Oyundaki amaç görsellerle kullanım amaçlarını eşleştirmektir. Görseller, altlarında yazan numara sırasına göre eşleştirilecek ve ona göre puan alınacaktır. Rumet Emre oyun sonunda kaç puan almıştır?

Isınma	5 puan ekle
Haberleşme	2 ile çarp
Ulaşım	10 puan ekle
Temizlik	3 puan ekle



1 numara 2 numara 3 numara 4 numara




A)23 puan B)33 puan C)38 puan




3. SINIF KAZANIM PEKİŞTİRME TESTİ

HAYAT BİLGİSİ DERSİ

1. Mahalleyi , ili yönetir.
Yukarıda boş bırakılan noktalı yerlere sırayla aşağıdaki kelimelerin hangileri getirilmesi uygun olur?

A) Kaymakam - Vali
B) Muhtar - Kaymakam
C) Muhtar - Vali

2.  1919' da Samsun' a çıktı.
 1981 yılında Selanik' te doğdu.
 1938' de Dolmabahçe Sarayı'nda vefat etti.
Atatürk ' ün hayatı ile ilgili yukarıdakilerden hangisini söyleyemeyiz?




A)  B)  C) 

3.



Yukarıda verilen görselin kullanım alanı aşağıdakilerden hangisidir?

A) Ulaşım B) Eğitim C) Sağlık

4.  Kurban Bayramı
 Cumhuriyet Bayramı
 Ramazan Bayramı

Yukarıdakilerden hangisi milli bayramlarımızdandır?




A)  B)  C) 










5. I- Aşık Veysel → Halk ozanı
II- İbn-i Sina → Tıp adamı
III- Hezarfen Ahmet Çelebi → Ünlü yüzücü
Eşleştirmelerden hangisi yanlıştır ?

A) I B) II C) III

6. Ülkemizin yönetim biçimi
Boş bırakılan yere aşağıdaki sözcüklerden hangisi getirilmelidir?

A) cumhuriyettir
B) teokrasidir
C) monarşidir

7.  Ekim  1923  29
Cumhuriyetin ilan edildiği tarihi sembollerle yazmak isteyen Feyza, doğru sıralamayı hangi seçenekteki gibi yapmıştır?

A)   
B)   
C)   

8. **Aşağıdakilerden hangisi ortak kullanım alanı değildir ?**

A) Parklar B) Otobüs durakları C) Odamız

9. ☐ Naim SÜLEYMANOĞLU başarılı bir bilim adamıydı.
☐ Ülkemiz için çalışan öncü insanların hayatlarını araştırmalıyız.
☐ İstiklal Marşı'mızın bestecisi Osman Zeki Üngör'dür.

Yukarıda verilen ifadelerin doğru-yanlış durumu hangi seçenekte verilmiştir?

A)

D
D
D

B)

Y
D
D

C)

Y
D
Y

10. Aşağıdakilerden hangisi eğitim alanında yapılan yeniliklerden birisidir?

- A) Ağırlık ölçülerinde yapılan yenilikler
 B) Kadınlara seçme ve seçilme hakkının verilmesi
 C) Yeni Türk alfabesinin kabulü

11. DNA onarımını keşfederek 2015 yılında Nobel Kimya Ödülünü almış bilim insanımız kimdir?

A)



Aziz
SANCAR

B)



Jale
İNAN

C)



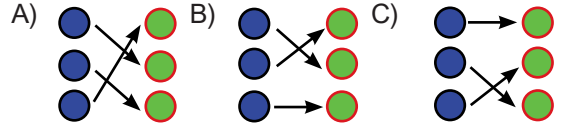
Nuri
DEMİRAĞ

12. İnsanların üyesi olduğu topluma karşı sorumluluğu yoktur.
 Toplum,bin kişinin bir araya gelmesiyle oluşur.
 Doğaya zarar vermemek insanların sorumluluğudur.
 Verilen ifadeleri okuyan Safa, doğru ve yanlış olarak aşağıdaki gibi işaretler koyuyor.
 Doğru ifadelerin işareti \longleftrightarrow
 Yanlış ifadelerin işareti $\square \rightarrow \square$
Safa'nın oluşturacağı doğru şekil sıralaması hangi seçenekteki gibi olur?

- A) $\square \rightarrow \square \longleftrightarrow \longleftrightarrow$ B) $\square \rightarrow \square \longleftrightarrow \square \rightarrow \square$ C) $\square \rightarrow \square \square \rightarrow \square \longleftrightarrow$

- 13.

Türkiye'nin ilk uçak tasarımcısıdır.			Mehmet Ali KAĞITÇI
Türk kâğıt sanayinin kurucusudur.			Vecihi HÜRKUŞ
İlk kadın savaş pilotudur.			Sabiha GÖKÇEN



14. İremsu : Dünyada sadece insanlar yaşamaktadır.

Ömer : İnsanlar yaşadıkları çevreyi etkiler.

Zehra : Geri dönüşümü mümkün olan ürünleri tercih etmeliyiz.

Yukarıda verilen cümlelerden hangi çocuğun ifadesi yanlıştır ?

- A) İremsu B) Ömer C) Zehra

15. Aşağıda verilen özelliklerden hangisi insanlığa hizmet etmiş kişilerin özellikleri arasında yer almaz?

- A) Başarısızlıklar karşısında yılmayanlardır.
 B) Yaşamları boyunca az çalışıp çok uyuyanlardır.
 C) Bilgilerini başkalarıyla paylaşanlardır.

3. SINIF KAZANIM PEKİŞTİRME TESTİ

İNGİLİZCE DERSİ

1.



Görseli ifade eden seçenek hangisidir?

- A) Snowy B) Rainy C) Sunny

2.



Görseli ifade eden seçenek hangisidir?

- A) Rainy
B) Cloudy
C) Sunny

3.



Görseli ifade eden seçenek hangisidir?

- A) Foggy
B) Rainy
C) Stormy

4.



Jane: How is the weather?

Mike:

- A) It is sunny
B) It is foggy
C) It is rainy

5. **It is snowing in Malatya . It is very**

- A) Cold B) Hot C) Warm

6.



How is the weather?

Yukarıdaki soruyu görsele göre cevaplayınız.

- A) It is warm
B) It is freezing
C) It is nice

7.



It is very rainy today, take your

- A) Glasses B) Gloves C) Umbrella

8. **Esra:**

Eda: It is foggy .

- A) What is the weather like ?
B) What are you doing?
C) Do you like rainy days?

9. **Elif: What are you doing now?**

Azra:

- A) I am happy very much today
B) This is my new doll
C) I am playing piano

10.



Ali: Is the weather rainy today?

Ozan:

- A) No, It isn't
B) Yes, It is
C) Yes , It isn't

3. HAFTA 3. SINIF CEVAP ANAHTARI				
Türkçe	Matematik	Fen Bilimleri	Hayat Bilgisi	İngilizce
1.A	1.A	1.C	1.C	1.A
2.B	2.C	2.B	2.B	2.C
3.C	3.C	3.C	3.A	3.B
4.B	4.B	4.A	4.B	4.C
5.B	5.B	5.A	5.C	5.A
6.C	6.A	6.A	6.A	6.B
7.B	7.C	7.B	7.A	7.C
8.A	8.B	8.B	8.C	8.A
9.C	9.B	9.A	9.B	9.C
10.C	10.A	10.B	10.C	10.B
11.B	11.C	11.B	11.A	
12.A	12.B	12.C	12.C	
13.A	13.B	13.C	13.B	
14.C	14.B	14.A	14.A	
15.C	15.B	15.B	15.B	

ANNE

Annelerimizin hayatımızdaki yeri ve önemi herkesten çok farklı ve apayrı bir yerde duruyor.

Mayıs ayının en önemli günü kuşkusuz anneler günüdür

Tüm dünya bu özel ve güzel günü aynı zamanda kutlar

Aslında bugün annemize olan sevgimizi göstermemizde çok iyi bir fırsat.

Üzerimizden duasını hiç eksik etmeyen

Sarılma ihtiyacımız olduğunda kollarını daima açık tutan

Arkadaş ihtiyacım olduğunda yol arkadaşım olan

Ders ihtiyacım olduğunda en iyi öğretmen olan

Koşulsuz sevgisini hiç esirgemeyen, varlık sebebim olan

Bebekken, çocukken, gençken, yetişkinen hep ilham kaynağım olan

En büyük sırdaşım derttaşım canım annemsin iyiki varsın...

Biliyorum bu dünyada anne gibi yâr olmaz cennet bile ayaklarının altına boşuna serilmedi canım annem.

Bu özel günde söyleyeceğimiz hiçbir kelime anne sevgisini anlatmaya yetmeyecek

Yapacağımız hiçbir şey borcumuzu ödemeyecek

Hayatınızın en kıymetlisi annelerimize, anneler gününde ne alsanız yeterli gelmeyecektir. Anne bitmeyen ve koşulsuz sevgisi ile çocuk için bir ders ve okuldur. Geleceğimizin huzur ve rahatlığı için çalışan annelerimize vereceğimiz tek hediye çalışmak, soru sormak ve öğrenmektir.

Canım annem ..

İyi ki benim annemsin seni çok seviyorum. Anneler günün kutlu olsun canım annem ..