



SAMSUN
İL MİLLÎ EĞİTİM
MÜDÜRLÜĞÜ

NİSAN - 2020

COĞRAFYA 9

NİSAN AYI ODAK GRUBU TESTİ

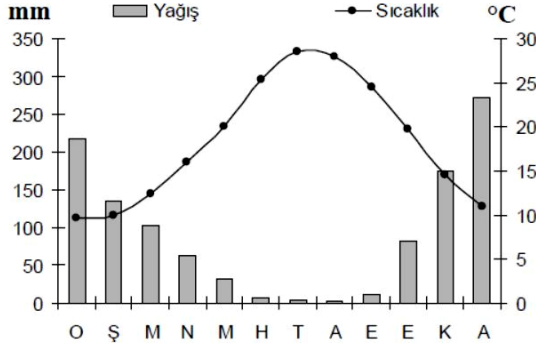
Bu testteki soruları hazırlayan öğretmenler :

FERAY Kavuz - Köksal Ersayın Anadolu Lisesi
Saliha Ayrancı - Namık Kemal Anadolu Lisesi
Bilal Toprak - Samsun İbrahim Tanrıverdi Sosyal Bilimler Lisesi
Musa Özcan - Atatürk Anadolu Lisesi
Yasemin Boyacı - Piri Reis MTAL
Türkan Numanoğlu - Fatma Çavuş MTAL
Güler Çalış - Namık Kemal Anadolu Lisesi
Uğur Birer - Emine - Ahmet Yeni Kız Anadolu İHL
Yahya Belur - Köprülü Mehmet Paşa Anadolu Lisesi



SAMSUN
ÖLÇME
DEĞERLENDİRME
MERKEZİ

1. Aşağıdaki grafikte; bir bölgedeki sıcaklık ve yağışın yıl içerisindeki dağılımı gösterilmiştir.



Grafikteki bilgilerden hareketle bu bölge ile ilgili aşağıdaki yargılardan hangisine ulaşamaz?

- A) Bölge Kuzey Yarımkürede yer alır.
- B) Yaz mevsimi sıcak ve kurak, kış mevsimi ılık ve yağışlıdır.
- C) Yıllık yağış miktarı 350 mm'nin üzerindedir.
- D) Bölgede yaygın olan doğal bitki örtüsü yaz kuraklığından etkilenir.
- E) Bölgedeki akarsularda debinin en yüksek olduğu mevsim kış mevsimidir.

2. Mersin'de yaşayan Mahmut, yarıyıl tatilini geçirmek üzere ailesi ile birlikte 19 Ocak 2020 tarihinde yurt dışına gitmiştir. Mahmut, tatil dönüşünde arkadaşı Alper'e tatile gittiği ülke ile ilgili izlenimlerini anlatmıştır. Mahmut ile arkadaşı Alper arasında şu diyalog yaşanmıştır:

- **Mahmut:** Gittiğim ülkede Mersin'dekine benzer doğal bitki örtüsü ve tarım ürünleri yaygındı. Ancak yılın en sıcak günleri yaşıyorduk. Hep kısa kollu gömlekle dolaştık.
- **Alper:** O ülkede yaz mevsimi mi yaşıyorduk?
- **Mahmut:** Evet. Hatta birkaç gün denize bile gittik.
- **Alper:** Peki sen hangi ülkeye gittin?
- **Mahmut:**.....

Buna göre, boş bırakılan yere aşağıdakilerden hangisi getirilirse Mahmut gittiği ülkeyi doğru söylemiş olur?

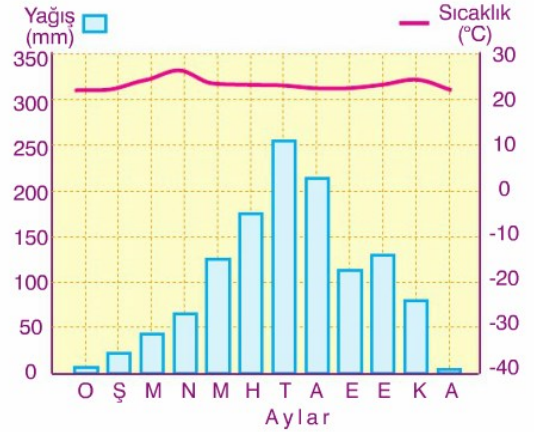
- A) İspanya
- B) Güney Afrika Cumhuriyeti
- C) İtalya
- D) Amerika Birleşik Devletleri
- E) Fransa

3. Yaz sıcakları ve kış soğuklarını sevmeyen Alper; yazları serin, kışları ılıman geçtiği bir ülkede yaşamak istediğini söylemektedir.

Aşağıdakilerden hangisi Alper'in istediği iklim özelliklerine sahip ülkelerden biri olarak kabul edilebilir?

- A) Çin
- B) İngiltere
- C) Kanada
- D) Cezayir
- E) Güney Afrika Cumhuriyeti

4. Aşağıdaki grafikte bir yöreye ait yıllık ortalama sıcaklık ve yağışlar gösterilmiştir.



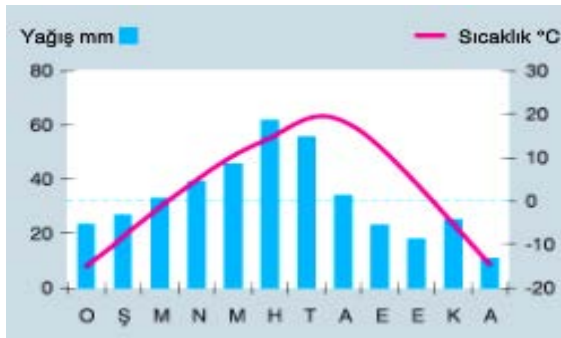
Bu grafikteki bilgilerden yararlanarak yöre ile ilgili olarak aşağıdaki yargılardan hangisine ulaşamaz?

- A) Yıllık sıcaklık ortalaması 20°C üzerindedir.
- B) Akarsu rejimi düzensizdir.
- C) Bitki örtüsü savandır.
- D) Kuzey Yarımküre'de yer alır.
- E) Yaz aylarında bağıl nem oranı düşüktür.

5. Aşağıdaki iklim ve doğal bitki örtüsü eşleştirmelerinden hangisi doğru değildir?

- A) Ekvatorial iklim – İğne yapraklı ormanlar
- B) Sert Karasal iklim – Tayga ormanları
- C) Akdeniz iklimi – Maki
- D) Ilıman Okyanusal iklim – Karma ormanlar
- E) Ilıman Karasal iklim – Step

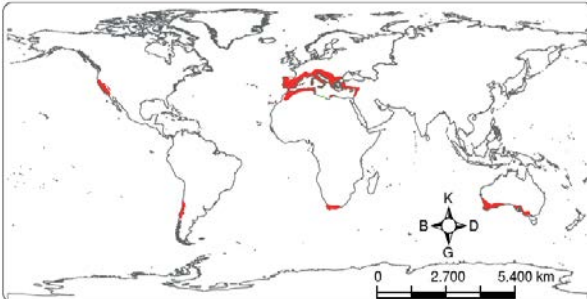
6. Aşağıda bir iklim tipine ait doğal ortam görseli ve sıcaklık-yağış grafiği verilmiştir.



Verilen görsel ve grafik aşağıdaki iklim tiplerinden hangisine ait olabilir?

- A) Karasal B) Step C) Sert Karasal
D) Akdeniz E) Kutup

7. Aşağıdaki haritada bir iklim tipinin görüldüğü alanlar kırmızı renge boyanarak gösterilmiştir.



Buna göre, haritada yeryüzündeki dağılışı verilen iklim aşağıdakilerden hangisidir?

- A) Okyanusal İklim B) Akdeniz İklimi
C) Karasal İklim D) Muson İklimi
E) Tundra İklimi

8. Benzer iklim özelliklerine sahip binlerce km²'lik alanları etkileyen büyük iklim gruplarına **makroklima** denir. Makroklima alanları içinde farklı özellikler sergileyen daha küçük alanlara ise **mikroklima** denir.

Bunlar arasında;

- 0 – 10 derece enlemleri arasında görülen, sıcaklığın daima 25°C'nin üzerinde olduğu, gür bitki örtüsüne sahip her mevsim bol yağışlı iklim;
- Güney, Güneydoğu ve Doğu Asya'da etkili olan, yaz dönemi bol yağışlı, ortalama sıcaklığın 15 -20 °C bulunduğu, yıllık sıcaklık farkının 10 °C olduğu bir iklim;
- 30°-60° enlemleri arasında, karaların batı kıyılarında görülen, yazların serin, kışların ise ılık geçtiği, ortalama sıcaklığın 10-15 °C olduğu her mevsimi yağışlı iklim;
- Genellikle 65°-80° kuzey enlemleri arasında Sibirya ve Kanada'nın kuzey kıyıları ile Grönland adası kıyılarında yaşanan, yıllık sıcaklık ortalamasının 0°C altında olduğu iklimler sayılabilir.

Yukarıda tanımlanan iklimler arasında aşağıdakilerden hangisine ait bilgi yoktur?

- A) Akdeniz İklimi B) Ekvatorial İklim
C) Tundra İklimi D) Okyanusal İklim
E) Muson İklimi

9. Ayşe, coğrafya dersinden aldığı proje ödevini sunarken sınıfa "Dört mevsimin belirgin olarak yaşandığı iklim tipleri hangileridir?" şeklinde bir soru yöneltmiştir. Arkadaşları, bu soruya aşağıdaki cevapları vermiştir.

Ebru: Step iklimi

Merve: Akdeniz iklimi

Kutay: Muson iklimi

Emir: Sert karasal iklim

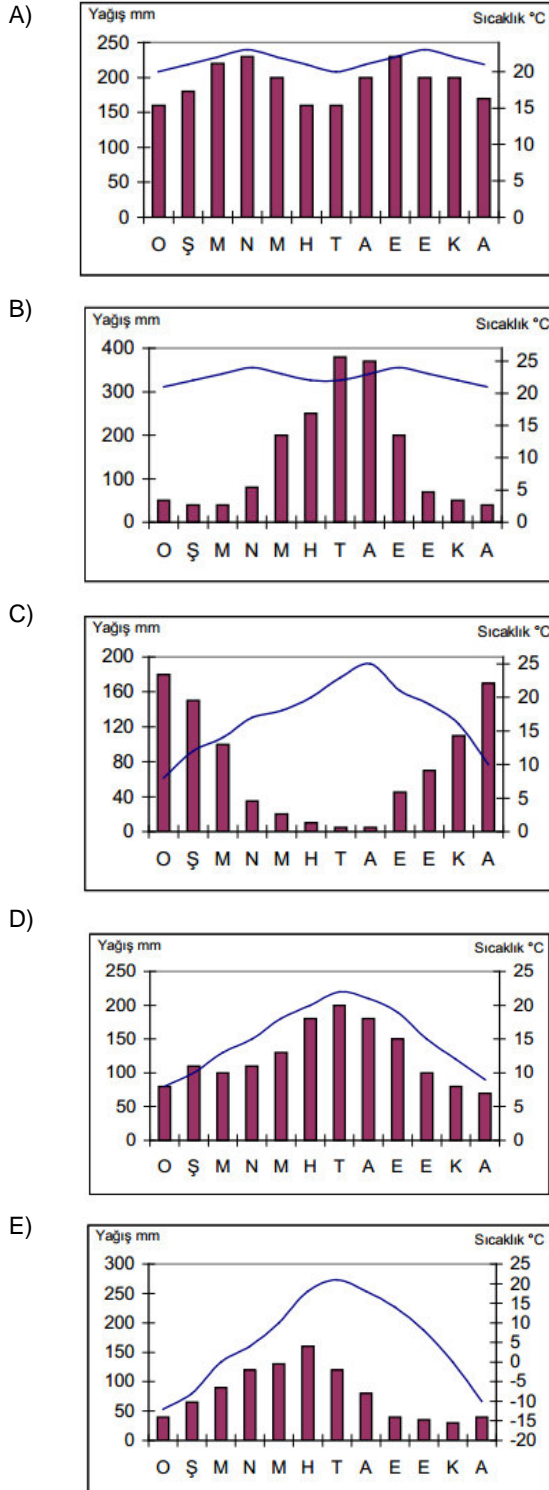
Yaren: Okyanusal iklim

Buna göre, hangi öğrencinin verdiği cevap doğru olarak kabul edilemez?

- A) Ebru B) Merve C) Kutay
D) Emir E) Yaren

10. Çiftçi Mehmet Ağa, toprağında yeni bir tarım ürünü yetiştirmek istiyor. Danıştığı ziraat mühendisi, bu ürünün yazların sıcak ve kurak, kışların ılık ve yağışlı geçtiği yerlerde daha iyi yetiştiğini söylüyor. Ayrıca kış sıcaklıklarının 10°C'nin altına düşmesinin bitkiye zarar verdiğini, bunun da gelir kaybına sebep olacağını belirtiyor.

Çiftçi Mehmet Ağa, aşağıda iklim grafikleri verilen bölgelerden hangisinde bu ürünün tarımını yapabilir?



11. Yaz tatilini geçirmek için Kuzey Yarımküre'de bir yere giden Ömür; gittiği yerle ilgili meteoroloji bültenini izlediğinde, gün içinde en yüksek sıcaklıkların 15 °C civarında ve mevsim normallerinin 5 – 6 °C üzerinde olduğunu öğrenmiştir.

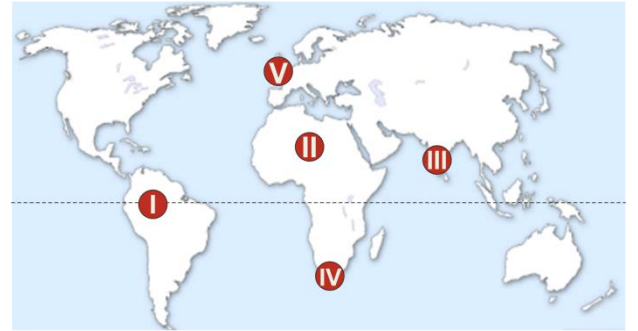
Buna göre, Ömür'ün tatil için gittiği yerin iklimi aşağıdakilerden hangisi olabilir?

- A) Ekvatorial İklim B) Muson İklimi
C) Akdeniz İklimi D) Savan İklimi
E) Sert Karasal iklim

12. Yıl içinde kara ve denizlerin farklı ısınarak yüksek ve alçak basınç alanı olma özelliğine bağlı olarak oluşan iklim türü aşağıdakilerden hangisidir?

- A) Akdeniz İklimi B) Ilman Okyanusal İklim
C) Muson İklimi D) Step İklimi
E) Savan İklimi

13.

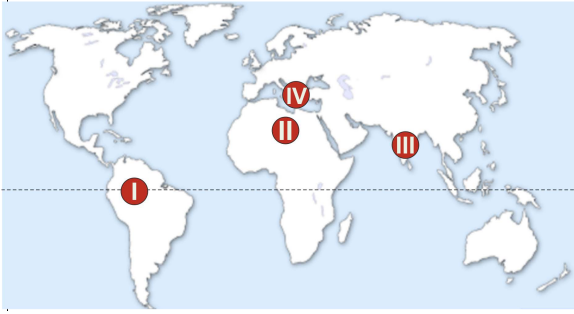


Piri Reis MTAL'den bir grup öğrenci Erasmus Öğrenci Değişim Programı ile yukarıdaki haritada numaralarla gösterilen yerlere öğrenimlerini sürdürmek için gitmiştir. Koronavirüs salgını nedeniyle ülkemize geri çağrılan öğrencilerden Dilek, gittiği ülkede yazların çok yağışlı, kışların ise kurak geçtiğini söylemiştir. Ayrıca büyük bölümü ormanlarla kaplı olan ülkede, teak adı verilen bir ağaç türünün çok yaygın olduğunu ve sık sık piring tarlalarına rastladığını söylüyor.

Buna göre, Dilek öğrenim görmek için kaç numaralı yere gitmiş olabilir?

- A) I B) II C) III D) IV E) V

14.



Bir grup üniversite öğrencisi araştırma yapmak amacıyla haritada numaralandırılan yerlere gitmişlerdir. Öğrenciler, gittikleri yerlerin iklim ve bitki örtüsü hakkında aşağıdaki bilgileri vermişlerdir.

Ali: Buralarda yazlar sıcak ve kurak geçerken, kışlar ılık ve yağışlı geçmektedir. Kar yağışı görülmemektedir. Bitki örtüsü de kısa boylu bodur ağaç ve çalılardan oluşan makidir.

Efe: Buralar da yazlar çok yağışlı geçerken kış mevsimi kurak geçiyor. Sıcaklık da 15°C'nin altına düşmüyor. Büyük bölüm ormanlarla kaplıdır.

Ayşe: Burada gündüzler çok sıcak, geceler ise soğuk geçiyor. Yağış çok az olduğu için bitki örtüsü de yok deneyecek kadar az ve seyrek.

Elif: Buralar her zaman sıcak ve yağışlıdır. Her taraf çok gür ve uzun boylu ağaçlardan oluşan ormanlarla kaplıdır.

Aşağıdaki şıklardan hangisinde öğrencilerin gittikleri yerler doğru eşleştirilmiştir?

	Ali	Efe	Ayşe	Elif
A)	I	II	III	IV
B)	II	III	IV	I
C)	II	I	IV	III
D)	IV	III	I	II
E)	IV	III	II	I

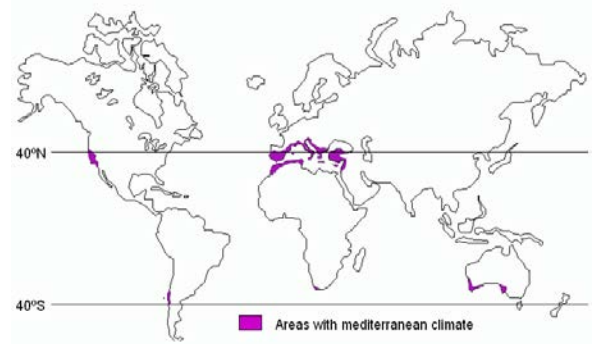
15. Bulunduğum yerde;

- Kış sıcaklık ortalaması 10°C dir.
- Yazlar sıcak ve kurak, kışlar ılık ve yağışlıdır.
- Sıklıkla cephe yağışları görülür.
- Zeytin, defne gibi ağaç türleri çok fazladır

diyen Zeynep, aşağıdaki iklim bölgelerinden hangisinde yaşamaktadır?

- A) Akdeniz B) Ekvatorial C) Tundra
D) Sert karasal E) Muson

16. Görselde bir iklimin etki alanı verilmiştir.

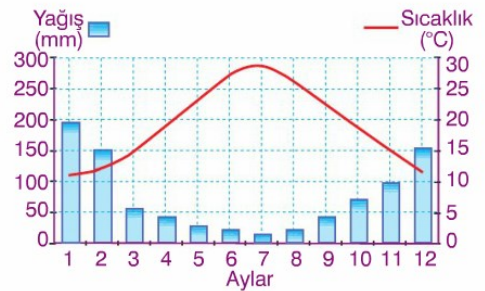


Buna göre aşağıdakilerden hangisi söz konusu iklimin özellikleri arasında gösterilemez?

- A) Her mevsim yağışlıdır.
B) Yazları sıcak ve kuraktır.
C) Kışları ılık ve yağışlıdır.
D) Yağışlar, genellikle cephe yağışıdır.
E) Yıllık yağış miktarı 600 -1000 mm'dir.

17.

Aşağıda, Kuzey Yarım Küre'de yer alan bir bölgenin aylara göre sıcaklık ve yağış grafiği verilmiştir.



Verilen grafik, aşağıdaki iklimlerden hangisinin görüldüğü bir yere ait olabilir?

- A) Muson iklimi B) Savan iklimi
C) Okyanusal iklim D) Karasal iklim
E) Akdeniz iklimi

	COĞRAFYA 9 DERSİ TEST - 6 CEVAP ANAHTARI																			
NO	1	2	3	4	5	6	7	8	9	10	11	12	13	14	15	16	17			
TEST 6	D	B	B	E	A	C	B	A	C	C	E	C	C	E	A	A	E			