



SAMSUN
İL MİLLÎ EĞİTİM
MÜDÜRLÜĞÜ

NİSAN - 2020

COĞRAFYA 9

NİSAN AYI ODAK GRUBU TESTİ

Bu testteki soruları hazırlayan öğretmenler :

FERAY Kavuz - Köksal Ersayın Anadolu Lisesi
Saliha Ayrancı - Namık Kemal Anadolu Lisesi
Musa Özcan - Atatürk Anadolu Lisesi
Türkan Numanoğlu - Fatma Çavuş MTAL
Güler Çalış - Namık Kemal Anadolu Lisesi
Yahya Belur - Köprülü Mehmet Paşa Anadolu Lisesi
Ertan Aydın - Samsun Ölçme Değerlendirme Merkezi



SAMSUN
ÖLÇME
DEĞERLENDİRME
MERKEZİ

1.



Yukarıdaki haritada ok yönünde gidildiğinde aşağıdakilerden hangisinde bir artma olması beklenir?

- A) Yıllık toplam yağış miktarında
- B) Yıllık sıcaklık ortalamalarında
- C) Mutlak nem miktarında
- D) Günlük sıcaklık farklarında
- E) Güneş ışınlarının tutulma oranında

2. Ece, akrabasını ziyaret etmek için yaz tatilinde Sinop'tan başka bir şehre gitmiştir. Ece gittiği şehirde; havanın sabahları serin, öğleden sonra sıcak, geceleri tekrar serinlediğini gözlemlemiştir.

Buna göre Ece, aşağıdaki şehirlerden hangisine gitmiş olabilir?

- A) Samsun B) Antalya C) İzmir
- D) İstanbul E) Ankara

3. **Aşağıdakilerden hangisi Türkiye iklimi üzerindeki enlem etkisine örnek olarak gösterilemez?**

- A) Kuzeyden gelen rüzgârların sıcaklığı düşürmesi
- B) Karadeniz'de yaz turizminin Akdeniz'den kısa olması
- C) Akdeniz kıyılarında donlu gün sayısının az olması
- D) Rize'nin sıcaklık ortalamasının Ağrı'dan yüksek olması
- E) Güneyde buharlaşmanın daha yüksek olması

4. Dünya'nın küresel şekli, yeryüzünün her noktasının aynı miktarda enerji almasına engel olur. Ekvator'dan kutuplara gidildikçe Güneş ışınlarının yere düşme açısı küçülür. Böylece Ekvator'dan kutuplara gidildikçe sıcaklık değeri azalır. Buna **enlem-sıcaklık ilişkisi** denir.

Buna göre aşağıdakilerden hangisinde enlem-sıcaklık ilişkisine ters düşen bir durum vardır?

- A) Samsun'da kış sıcaklık ortalamasının Ankara'dan yüksek olması
- B) Antalya'da yaz sıcaklık ortalamasının Zonguldak'tan yüksek olması
- C) Konya'da kış sıcaklık ortalamasının Amasya'dan düşük olmak olması
- D) Eskişehir'de yaz sıcaklık ortalamasının Mardin'den düşük olması
- E) Akdeniz kıyılarının Karadeniz kıyılarından sıcak olması

5. Türkiye'nin iklim çeşitliliğinde, mutlak ve göreceli konumundan kaynaklanan birçok faktör etkilidir.

Buna göre Türkiye iklimi üzerinde;

- I. Enlem
- II. Yer şekilleri
- III. Tropikal rüzgârlar
- IV. Çevresindeki denizler
- V. Jeolojik yapı

faktörlerinden hangilerinin etkili olduğu söylenemez?

- A) I ve II B) I ve IV C) II ve III
- D) III ve V E) IV ve V

6. Türkiye'de karasal iklimin hüküm sürdüğü dağlık bölgelerde yaşanan afetlerden biri de çığlardır. 4-5 Şubat 2020 tarihlerinde yaşanan iki ayrı olayda 42 insanımız çığ altında kalarak yaşamını yitirmiştir.

İklim ve yer şekilleri koşulları birlikte değerlendirildiğinde aşağıdaki illerimizden hangisinde çığ afetinin yaşanma olasılığı daha yüksektir?

- A) Eskişehir B) İzmir C) Van
- D) Edirne E) Aksaray

7. Yaklaşık aynı enlemde yer almalarına karşın Çanakkale, Çankırı ve Erzurum illerimizin iklim koşulları birbirinden farklıdır.



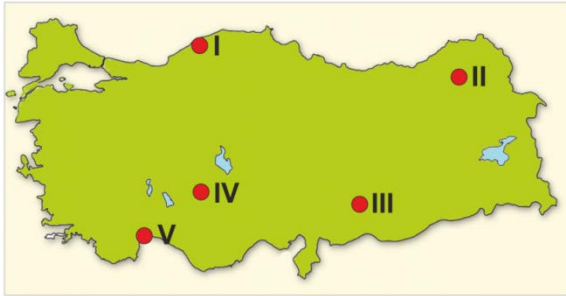
Bu durum üzerinde;

- I. Bakı
- II. Güneş ışınlarının geliş açısı
- III. Denizellik-Karasallık
- IV. Yükselti

faktörlerinden hangilerinin etkileri daha fazladır?

- A) I ve II
- B) I ve III
- C) II ve III
- D) II ve IV
- E) III ve IV

8. Türkiye haritasında bazı yerler numaralandırılarak gösterilmiştir.



Haritada gösterilen yerlerin özellikleri ile ilgili olarak aşağıdakilerden hangisi doğru değildir?

- A) I numaralı yerde yıllık yağış miktarı fazladır.
- B) II numaralı yerde don olayları uzun sürer.
- C) III numaralı yerde samyelinin etkisiyle kuraklık artar.
- D) IV numaralı yerde yağış rejimi düzenlidir.
- E) V numaralı yerde kışlar ılık geçer.


9. Ülkemizdeki;

- Kaz Dağları'nın güney yamaçlarının kuzey yamaçlarından daha sıcak olması,
- Trabzon'da yıllık sıcaklık farklarının az olması,
- Antalya'da yıllık sıcaklık ortalamasının Samsun'dan yüksek olması,
- Rize'de yağmur yağarken Kaçkar Dağları'nda yağışın kar şeklinde olması,

bilgilerinde, sıcaklığın dağılışını etkileyen faktörlerden hangisine örnek verilmemiştir?

- A) Nemlilik
- B) Yükselti
- C) Enlem faktörü
- D) Bakı etkisi
- E) Kara ve deniz dağılışı

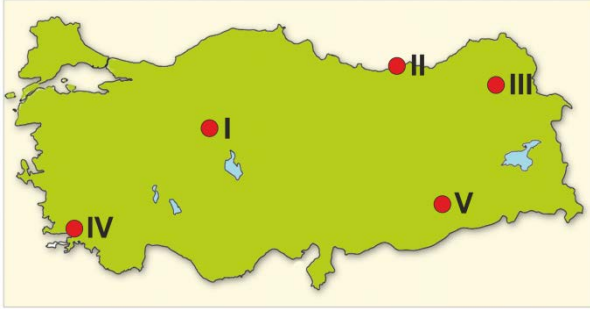
10. Aşağıdaki şekilde ülkemizde de etkili olan sıcak yerel rüzgarlardan birinin oluşumu verilmiştir.



Yukarıda oluşumu verilen bu rüzgârın, aşağıdakilerden hangisinin meydana gelmesinde bir etkisi yoktur?

- A) Doğu Karadeniz kıyılarında sıcaklıkların 1 -2°C yükselmesine
- B) Yamaç (Orografik) yağışların oluşmasına
- C) Bitkiler üzerinde kurutucu etki yapmasına
- D) Kışın karların erken erimesine ve çığ olaylarına
- E) Rize'de mikro-klima alan oluşturarak turuncgillerin yetişmesine

11. Üniversiteye öğrencisi Ali; "benim okuduğum yerde sık sık okullarda kar tatili olur. Kar bazen 6 ay yerden kalkmaz. Dondurucu soğuklara rağmen kızak kaymaktan, kartopu oynamaktan vazgeçmeyiz. Sıcak geçen yaz mevsimi geç gelir. Fakat henüz doyamadan erkenden terk eder bizi. Büyüdüğüm ve okul tatillerinde gittiğim yerde ise kışın dondurucu soğuklar yok, yaz mevsimi de çok sıcak değil ama bunaltıcı bir nem var. Her mevsim bulutlu ve yağışlıdır." diyerek okuduğu ve büyüdüğü yerlerin iklim özellikleri hakkında bilgi vermektedir.



Buna göre, Ali'nin okuduğu ve büyüdüğü yerler ile haritada numaralı yerler aşağıdakilerden hangisinde doğru eşleştirilmiştir?

	Okuduğu Yer	Büyüdüğü Yer
A)	I	II
B)	II	III
C)	III	II
D)	III	IV
E)	IV	V

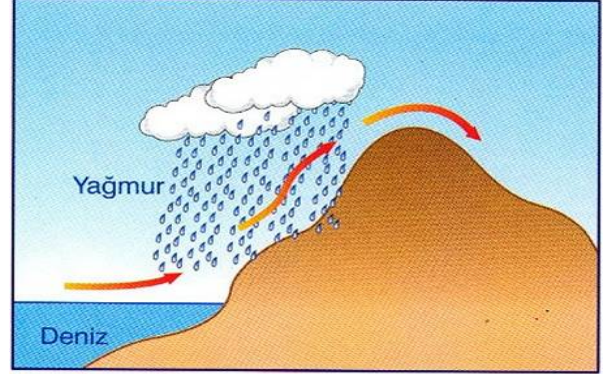
12. Aşağıda ülkemizde etkili olan bazı yerel rüzgârlar tarif edilmiştir.

- I. Kuzeyden esen ve kış aylarında yağışlara neden olan soğuk yerel rüzgârdır.
- II. Güneybatıdan esen bu rüzgâr sıcaklığı yükseltir ve devamında yağış oluşturur.
- III. Güneydoğudan esen rüzgâr sıcak ve kuru bir çöl rüzgârıdır.

Yukarıda tarif edilen yerel rüzgârlar, sırasıyla aşağıdakilerden hangisinde doğru olarak verilmiştir?

	I	II	III
A)	Poyraz	Lodos	Kible
B)	Yıldız	Kible	Karayel
C)	Poyraz	Samyeli	Lodos
D)	Yıldız	Lodos	Samyeli
E)	Karayel	Kible	Samyeli

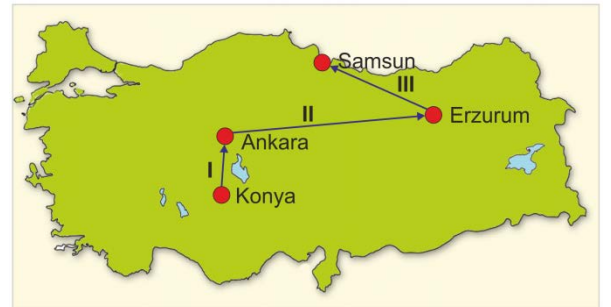
13. Görsellerde, oluşumuna göre bir yağış tipi ve üzerinde bazı yerlerin numaralandırıldığı Türkiye haritası verilmiştir.



Görseldeki yağış tipi Türkiye haritasındaki numaralı yerlerin hangilerinde daha sık görülür?

- A) I ve II B) II ve IV C) III ve V
D) IV ve I E) V ve III

- 14.



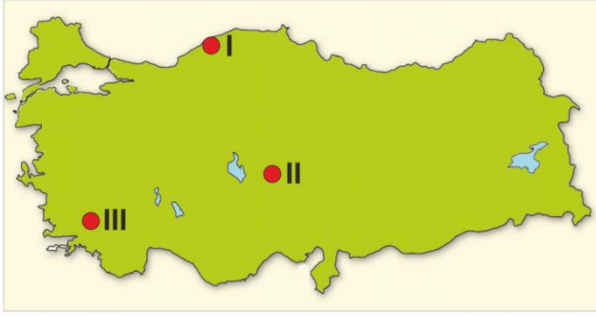
Yukarıdaki haritada ok istikametine hareket edildiğinde meydana gelebilecek sıcaklık değişimlerinin temel sebepleri aşağıdakilerden hangisinde doğru olarak eşleştirilmiştir?

	I	II	III
A)	Enlem	Yükselti	Nem oranı
B)	Yükselti	Nem oranı	Enlem
C)	Yükselti	Enlem	Nem oranı
D)	Nem oranı	Yükselti	Enlem
E)	Nem oranı	Enlem	Yükselti

15. Türkiye’de temmuz ayı sıcaklıklarının ocak ayı sıcaklıklarından daha yüksek olması üzerinde aşağıdaki faktörlerden hangisinin etkisi **daha fazladır**?

- A) Güneşlenme süresinin daha uzun olması
B) Üç tarafının denizlerle çevrili olması
C) Yükseltinin batıdan doğuya doğru artması
D) Sıcak ve soğuk su akıntılarının görülmemesi
E) Güneş ışınlarının geliş açılarının gün içinde değişmesi

16. Aşağıdaki Türkiye haritasında bazı noktalar numaralandırılarak gösterilmiştir.



Haritada numaralarla gösterilmiş merkezlerde etkili olan yağış tipleri aşağıdakilerden hangisinde doğru olarak eşleştirilmiştir?

- | I | II | III |
|------------------|---------------|---------------|
| A) Konveksiyonel | Cephe | Orografik |
| B) Orografik | Konveksiyonel | Cephe |
| C) Cephe | Orografik | Konveksiyonel |
| D) Orografik | Cephe | Konveksiyonel |
| E) Cephe | Konveksiyonel | Orografik |

17. Türkiye’de sıcaklığın dağılışını belirleyen faktörlerden biri de yükseltidir.

- I. Aksaray’ın sıcaklık ortalaması Van’dan
II. Mersin’in sıcaklık ortalaması Mardin’den
III. İzmir’in sıcaklık ortalaması Çanakkale’den yüksektir.

Yukarıda verilen ifadelerden hangisi, sadece yükseltinin sıcaklık üzerindeki etkisine örnek olarak gösterilebilir?

- A) Yalnız I B) Yalnız C) I ve II
D) I ve III E) II ve III

18. Aşağıdaki tabloda üç ilimize ait ocak, temmuz ve yıllık sıcaklık ortalamaları verilmiştir.

İller	Yıllık (° C)	Ocak (° C)	Temmuz (° C)
X	5	-10	18
Y	15	7	23
Z	19	9	28

Ülkemizdeki sıcaklık dağılışı dikkate alındığında harflerle belirtilen illerimizin aşağıdakilerden hangisi olması beklenir?

- | X | Y | Z |
|-----------|--------|--------|
| A) Samsun | Adana | Kars |
| B) Adana | Kars | Samsun |
| C) Kars | Samsun | Adana |
| D) Samsun | Kars | Adana |
| E) Kars | Samsun | Adana |

19. Aşağıdakilerden hangisi ülkemizde etkisi yoğun olarak hissedilen basınç merkezlerinden biri değildir?

- A) İzlanda Dinamik Alçak Basıncı
B) Asor Dinamik Yüksek Basıncı
C) Sibirya Termik Yüksek Basıncı
D) Aleut Dinamik Alçak Basıncı
E) Basra Termik Alçak Basıncı

	COĞRAFYA 9 DERSİ TEST - 5 CEVAP ANAHTARI																						
NO	1	2	3	4	5	6	7	8	9	10	11	12	13	14	15	16	17	18	19				
TEST 5	D	E	D	A	D	C	E	D	E	A	C	D	B	A	A	B	A	C	D				