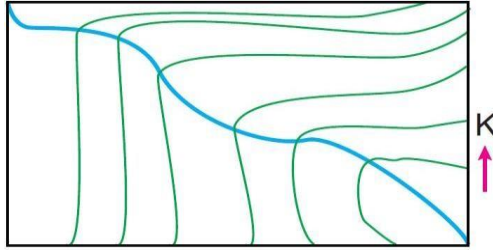


Yukarıdaki topoğrafya haritasında belirtilen P-R noktaları arasındaki gerçek uzaklık 20 km'dir.

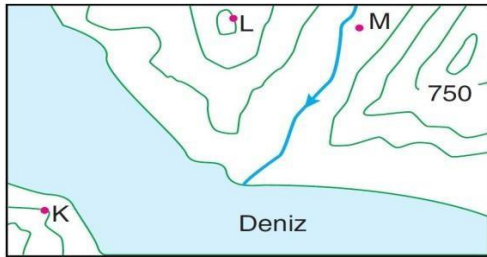
1) Buna göre P-R arasındaki eğim ‰ kaçtır?

- A) 2 B) 8 C) 16 D) 18 E) 20



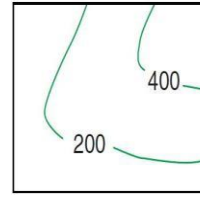
2) Yukarıdaki topoğrafya haritasındaki akarsuyun akış yönü aşağıdakilerden hangisidir?

- A) Kuzey B) Güney C) Doğu
D) Güneydoğu E) Kuzeybatı

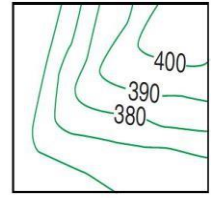


3) İzohipslerle çizilmiş olan yukarıdaki haritaya renklendirme yöntemi uygulandığında; K, L ve M olarak belirlenen noktaların hangi renklerde yer alacağı söylenebilir?

- | K | L | M |
|---------------|------------|------------|
| A) Yeşil | Yeşil | Sarı |
| B) Sarı | Yeşil | Kahverengi |
| C) Sarı | Kahverengi | Yeşil |
| D) Yeşil | Sarı | Yeşil |
| E) Kahverengi | Yeşil | Yeşil |



I. Harita

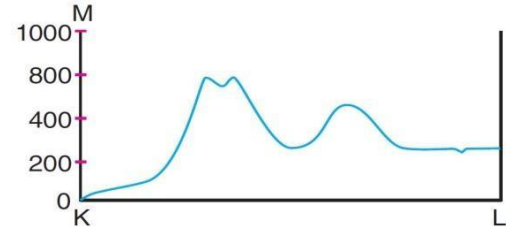


II. Harita

Yukarıda aynı merkeze ait iki farklı topoğrafya haritası verilmiştir.

4) Buna göre, izohips sayısının ve izohipsler arası yükselti farkının aynı olmaması, bu iki harta için aşağıdakilerden hangisini doğrular?

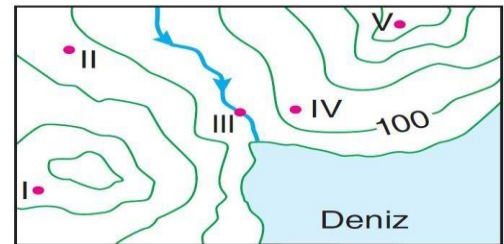
- A) Eğimlerinin farklı olduğunu
B) Farklı renklerle gösterildiklerini
C) Farklı yükseltilere sahip olduklarını
D) Denize göre konumlarının farklı olduğunu
E) Ölçeklerinin farklı olduğunu



Yukarıdaki K-L profili bir topoğrafya haritasından alınmıştır.

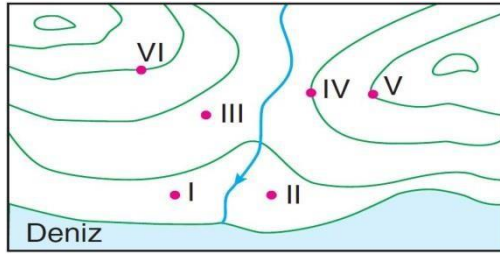
5) Buna göre, K-L profilinin alındığı doğrultuda aşağıdaki yer şekillerinden hangisi yer almaz?

- A) Ada B) Çanak C) Boyun
D) Kıyı çizgisi E) Akarsu vadisi



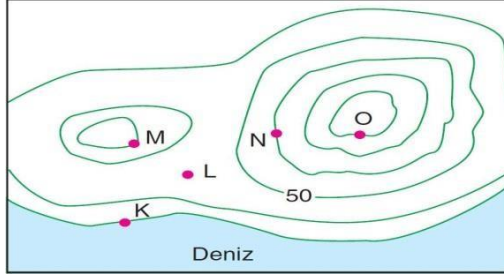
6) Yukarıdaki haritada numaralandırılmış noktalardan hangileri arasında yükselti farkı en fazladır?

- A) I ve II B) I ve III C) II ve IV
D) I ve V E) III ve V



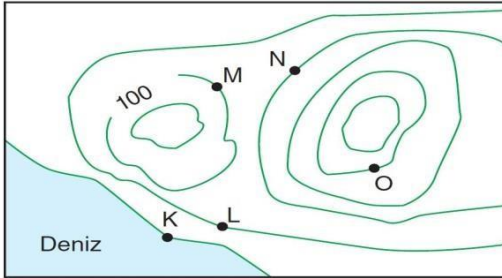
7) Yukarıdaki topoğrafya haritasında numaralanmış noktalardan hangi ikisinin yükseltisi eşittir?

- A) I – II B) III – IV C) III – V
D) IV – V E) V – VI



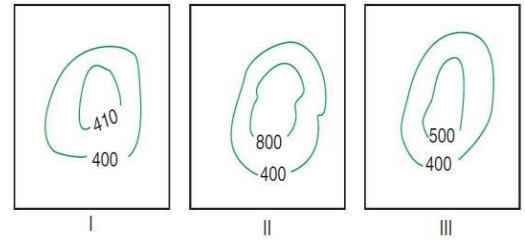
8) İzohips yöntemiyle çizilmiş olan yukarıdaki haritada, numaralandırılmış noktalar için aşağıda verilen bilgilerden hangisi yanlıştır?

- A) K kıyı çizgisidir.
B) Eğimi en fazla olan L'dir.
C) Yükseltisi en az olan K'dir.
D) M ve N'nin yükselti değerleri aynıdır.
E) Yükseltisi en fazla olan O noktasıdır.



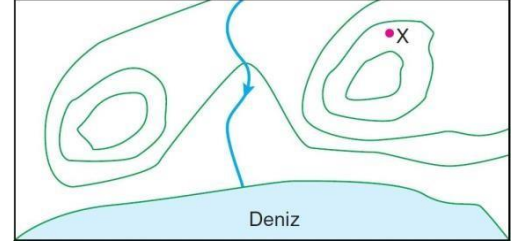
9) Yukarıdaki izohips haritasında hangi iki nokta arasındaki yükselti farkı 200 m'dir?

- A) K – L B) K – M C) M – N
D) K – O E) N – O



10) Eş yükselti eğrisiyle çizilmiş olan yukarıdaki haritalardan ayrıntısı en az olandan, en fazla olana doğru sırası aşağıdakilerden hangisidir?

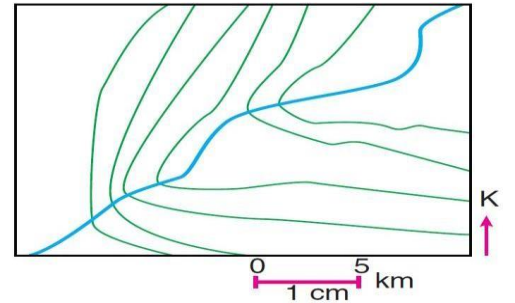
- A) I-II-III B) III-II-I C) II-III-I
D) III-I-II E) I-III-II



Yukarıdaki haritada eş yükselti eğrileri 75 m aralıklarla çizilmiştir.

11) Buna göre, X noktası hangi yükselti arasında yer alır?

- A) 75-150 B) 150-225 C) 225-300
D) 300-375 E) 0-75



12) Yukarıdaki izohips haritasında, aşağıda verilen bilgilerden hangisi bulunamaz?

- A) Akarsuyun akış yönü
B) Eğimin artıp azaldığı yerler
C) Yükseltisi en fazla ve en az olan izohips
D) Akarsuyun boyu
E) Akarsuyun denize uzaklığı

1.B	2.E	3.D	4.E	5.A	6.E	7.E	8.B	9.D	10.C	11.C	12.E
-----	-----	-----	-----	-----	-----	-----	-----	-----	------	------	------