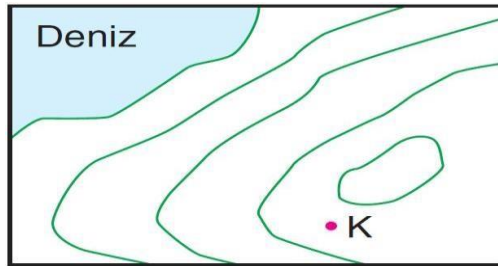


Eş yükselti eğrileriyle çizilmiş yukarıdaki haritada T noktasının yükseltisi 75 metredir.

1) Buna göre, eş yükselti eğrileri kaç metre arayla çizilmiştir?

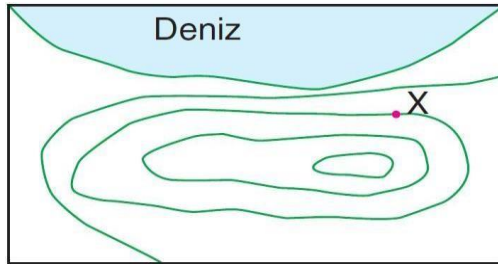
- A) 25 B) 30 C) 40 D) 50 E) 75



Yukarıdaki topoğrafya haritasında eş yükselti eğrileri 25 m arayla çizilmiştir.

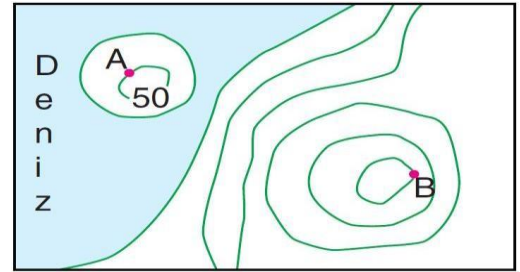
2) Buna göre, K noktası hangi yükseltiler arasında yer alır?

- A) 0-25 B) 25-50 C) 50-75
D) 75-100 E) 100-125



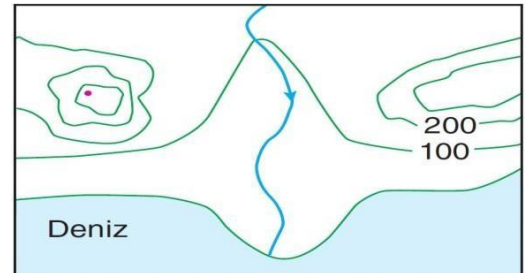
3) Yukarıdaki topoğrafya haritasında belirtilen X noktasının yükseltisi 60 metre olduğuna göre, eş yükselti eğrileri kaç metre arayla çizilmiştir?

- A) 10 B) 15 C) 20 D) 25 E) 30



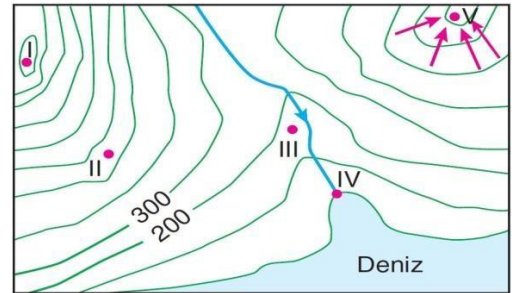
4) Yukarıdaki izohips haritasında gösterilen A ile B noktaları arasındaki yükselti farkı kaç metredir?

- A) 50 B) 100 C) 150 D) 200 E) 250



5) Yukarıdaki izohips haritasında aşağıdaki yer şekillerinden hangisi gösterilmemiştir?

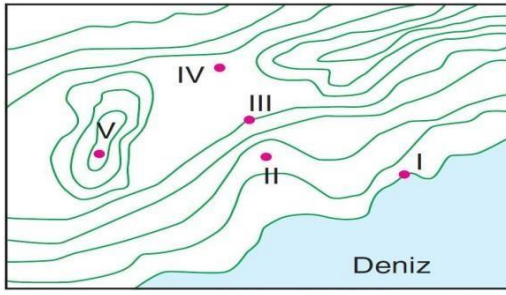
- A) Delta B) Obruk C) Doruk
D) Dik yamaç E) Akarsu vadisi



Eş yükselti eğrileri ile çizilmiş olan yukarıdaki haritada beş farklı nokta numaralandırılmıştır.

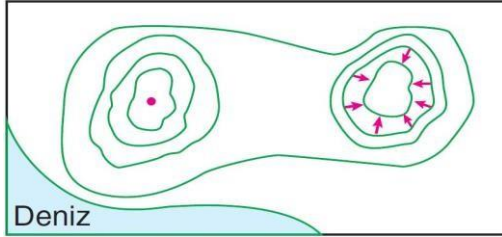
6) Bu noktaların bulundukları yer şekilleri ile ilgili aşağıda verilenlerden hangisi yanlıştır?

- A) I – Plato
B) II – Yamaç
C) III – Akarsu vadisi
D) IV – Haliç
E) V – Kapalı çukur



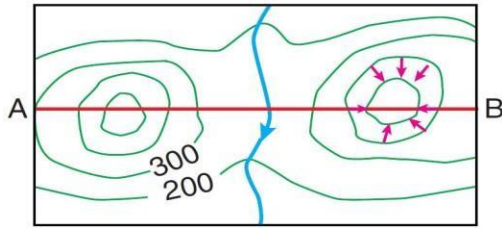
7) Yukarıdaki topoğrafya haritasında verilen noktalarla ilgili aşağıdakilerden hangisi yanlıştır?

- A) I. nokta kıyı çizgisindedir.
- B) IV. nokta yükseltisi en fazla olandır.
- C) III. nokta, II. noktadan yüksektir.
- D) V. nokta bir tepe üzerinde yer alır.
- E) II-III arası eğim, III-IV arasındaki eğimden fazladır.



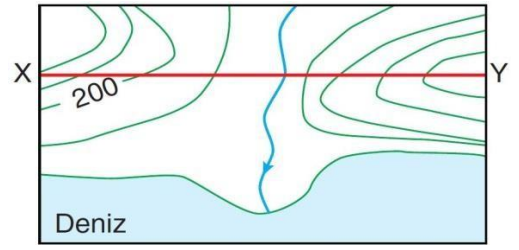
8) Eş yükselti eğrileriyle çizilmiş olan yukarıdaki haritada aşağıdaki yeryüzü şekillerinden hangisi bulunmaz?

- A) Zirve
- B) Çukur
- C) Boyun
- D) Haliç
- E) Kıyı çizgisi

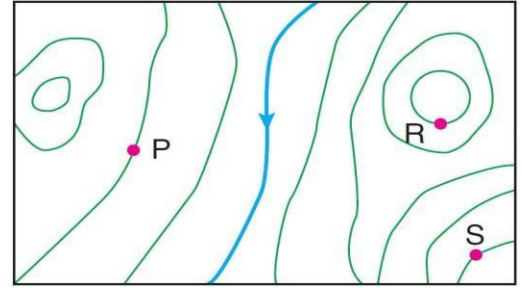
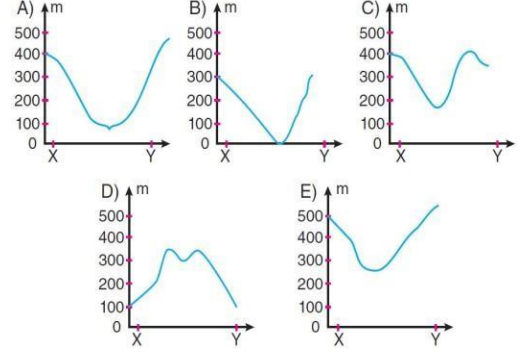


9) Eş yükselti eğrileriyle çizilmiş olan yukarıdaki haritada belirtilen A-B doğrultusun- da hareket eden bir kişinin aşağıdaki yer şekillerinden hangisini görmesi beklenmez?

- A) Tepe
- B) Delta
- C) Yamaç
- D) Kapalı çukur
- E) Akarsu vadisi



10) Yukarıdaki topoğrafya haritasının X-Y doğrultusundan alınan profili aşağıdakiler- den hangisine benzer?



Eş yükselti eğrileriyle çizilmiş olan yukarıdaki haritada belirtilen P noktasının yükseltisi 160 metredir.

11) Eş yükselti eğrileri arasındaki yükselti farkı 20 metre olduğuna göre R ve S noktalarının yükseltileri aşağıdakilerden hangisinde doğru verilmiştir?

	R	S
A)	220	200
B)	180	220
C)	200	220
D)	260	280
E)	200	240

1.A	2.D	3.E	4.D	5.B	6.A	7.B	8.D	9.B	10.A	11.C
-----	-----	-----	-----	-----	-----	-----	-----	-----	------	------