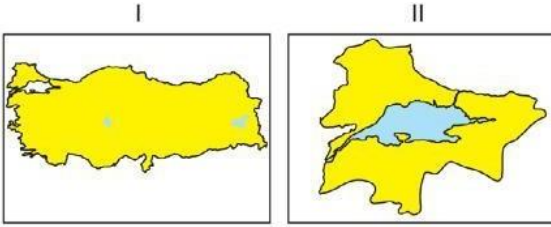


1) Yukarıdaki dünya haritası üzerinde işaretlenmiş alanlar için hangi projeksiyon sistemlerinin kullanılması bozulmayı en aza indirir?

- | I             | II         | III        |
|---------------|------------|------------|
| A) Silindirik | Düzlem     | Konik      |
| B) Silindirik | Konik      | Düzlem     |
| C) Konik      | Silindirik | Düzlem     |
| D) Konik      | Düzlem     | Silindirik |
| E) Düzlem     | Konik      | Silindirik |

2) Aşağıda aynı boyuttaki kâğıtlara çizilmiş iki harita verilmiştir.

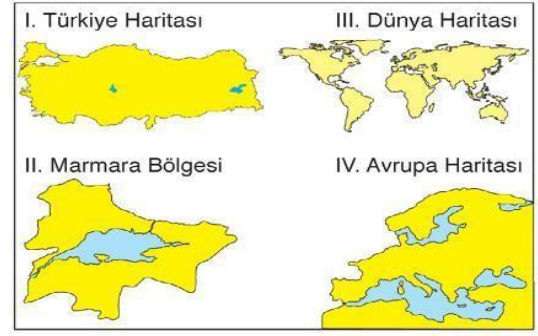


Bu haritalarla ilgili olarak aşağıdakilerden hangisi söylenemez?

- A) I. haritanın ölçeğinin paydası daha büyüktür.  
 B) II. haritada gösterilen alan daha büyüktür.  
 C) I. haritada gösterilen ayrıntı daha azdır.  
 D) II. haritada bozulmalar daha azdır.  
 E) I. haritada İstanbul-İzmit arası daha kısa bir çizgiyle gösterilir.

3) Konik projeksiyonla çizilmiş bir haritada verilen ülkelerin hangisinde bozulmanın daha fazla olduğu söylenebilir?

- A) Brezilya  
 B) İtalya  
 C) Suudi Arabistan  
 D) Türkiye  
 E) Kanada



4) Yukarıda verilen haritaların, büyük ölçekten küçük ölçeğe doğru sıralanışı nasıl olmalıdır?

- A) I – IV – III – II  
 B) II – I – IV – III  
 C) III – I – IV – II  
 D) III – II – IV – I  
 E) IV – III – I – II

5) Kuzey Kutup Noktası'nı merkez alan bir düzlem projeksiyonuna göre çizilmiş haritada aşağıdaki ülkelerin hangisinde bozulma en az olur?

- A) Brezilya  
 B) Mısır  
 C) Hindistan  
 D) Kanada  
 E) Endonezya

6) Coğrafya dersinde performans ödevi hazırlayan bir öğrenci grubu, İç Anadolu Bölgesi haritası çizerken öncelikle aşağıdakilerden hangisini belirlemelidir?

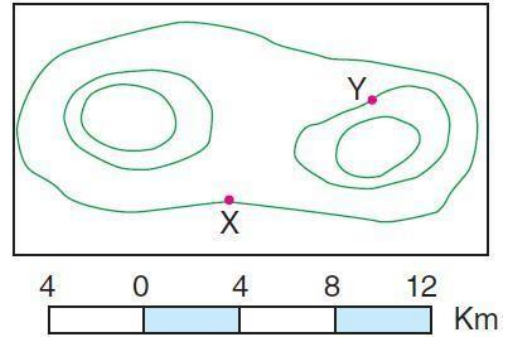
- A) Bölgenin akarsularını  
 B) Bölgedeki karayolu ağını  
 C) Bölgenin coğrafi koordinatlarını  
 D) Kullanılacak işaretleri  
 E) Haritanın kullanım amacını

7) Harita bilimine ne ad verilir?

- A) Klimatoloji  
 B) Jeomorfoloji  
 C) Hidrografya  
 D) Jeoloji  
 E) Kartografya

8) Silindir projeksiyon kullanılarak yapılmış bir Dünya haritasında aşağıda verilen ülkelerden hangisinde bozulma en azdır?

- A) Türkiye
- B) Irak
- C) İngiltere
- D) Brezilya
- E) Rusya



9) Aşağıdakilerden hangisi haritalarda bulunması gereken unsurlardan biri değildir?

- A) Başlık
- B) Çerçeve
- C) Yön oku
- D) Ölçek
- E) Lejant

10) Aşağıdaki ölçeklerden hangisiyle yapılmış olan haritada Ankara ilini ve ilçelerini daha detaylı olarak görmek mümkündür?

- A) 1/200.000
- B) 1/500.000
- C) 1/1.000.000
- D) 1/2.000.000
- E) 1/3.000.000

11) Ölçeği bilinen bir Türkiye idari haritasından yararlanılarak aşağıdakilerden hangisine ulaşamaz?

- A) Van Gölü'nün kaç kez küçültüldüğüne
- B) Volkanik dağların sayısına
- C) İllerin sınırlarına
- D) iki il arasındaki kuş uçuşu uzaklığı
- E) Ankara'nın coğrafi koordinatlarına

12) Aşağıdakilerden hangisini tüm kıta haritalarından yararlanılarak bulmak mümkün değildir?

- A) Uzunluk hesaplama
- B) Alan hesaplama
- C) Enlem
- D) Boylam
- E) Profil

13) Yukarıdaki izohips haritasında belirtilen X ve Y noktaları arasındaki kuş uçuşu uzaklık kaç km'dir?

- A) 4
- B) 8
- C) 12
- D) 16
- E) 20

Ölçeği 1/200.000'e kadar olan haritalara büyük ölçekli haritalar denir.

14) Buna göre, aşağıdakilerden hangisi büyük ölçekli haritaların özelliklerinden biri değildir?

- A) Küçültme oranının az olması
- B) Aynı ülkeyi gösteren küçük ölçekli haritaya göre, daha büyük boyutlu olması
- C) İzohipsler arasındaki yükselti farkının az olması
- D) Yalnızca fiziki haritaların yapımına elverişli olması
- E) Aynı boyuttaki kağıda çizilmiş küçük ölçekli haritaya göre kapsadığı gerçek alanın daha dar olması

15) Aşağıdaki haritalardan hangisi özel haritalar grubunda yer almaz?

- A) Maden haritası
- B) Jeoloji haritası
- C) Toprak haritası
- D) Fiziki harita
- E) Basınç haritası

1.A	2.B	3.A	4.B	5.D	6.E	7.E	8.D	9.B	10.A	11.B	12.E	13.B	14.D	15.D
-----	-----	-----	-----	-----	-----	-----	-----	-----	------	------	------	------	------	------