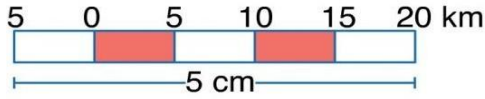


1/500.000 ölçekli bir Türkiye fiziki haritasında 5 cm² gelen bir göl, ölçeği bilinmeyen ikinci bir haritada 1 cm² ile gösterilmiştir.

1) İkinci harita ile ilgili aşağıdakilerden hangisi doğru değildir?

- A) Haritadaki hata oranı artmıştır.
- B) Haritadaki ayrıntı azalmıştır.
- C) Ölçeğin paydasındaki rakam beş kat küçülmüştür.
- D) Gölün kağıdın üzerinde kapladığı alan küçülmüştür.
- E) Gölün deniz seviyesinden olan yüksekliği değişmemiştir.



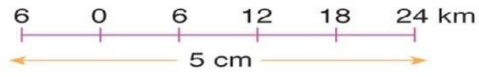
2) Yukarıda verilen çizgi ölçeğin kesir ölçek olarak değeri aşağıdakilerden hangisidir?

- A) 1/200.000
- B) 1/250.000
- C) 1/500.000
- D) 1/2.000.000
- E) 1/5.000.000

3) 1/400.000 ölçeğinin çizik ölçek olarak karşılığı aşağıdakilerden hangisidir?

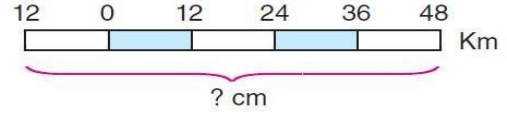
(Çizik ölçeklerin uzunluğu 3 cm'dir.)

- A) 0 1 2 3 km
- B) 0 2 4 6 km
- C) 0 3 6 9 km
- D) 0 4 8 12 km
- E) 0 5 10 15 km



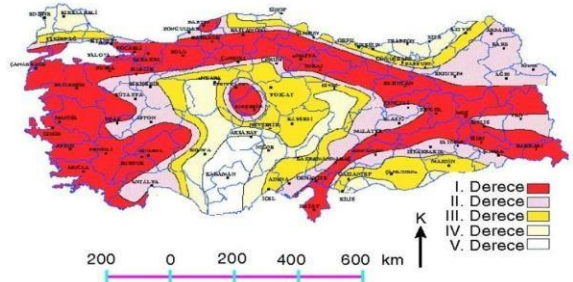
4) Yukarıdaki çizgi ölçeğin kesir ölçek olarak değeri aşağıdakilerden hangisidir?

- A) 1/24.000 B) 1/60.000 C) 1/240.000
- D) 1/600.000 E) 1/3.000.000



5) Yukarıdaki çizgi ölçeğin karşılığı 1/600.000 olduğuna göre, çizgi ölçeğin uzunluğu kaç cm'dir?

- A) 6 cm
- B) 10 cm
- C) 12 cm
- D) 45 cm
- E) 60 cm



Yukarıdaki haritada, Türkiye'de bir özelliğin dağılışını göstermek amacıyla hazırlanmıştır.

6) Buna göre, yukarıdaki haritada hangi harita elemanlarına yer verilmemiştir?

- A) Lejand – Yön oku
- B) Haritanın ölçeği - Lejand
- C) Paralel ve Meridyenler – Harita konu başlığı
- D) Paralel ve meridyenler – Haritanın ölçeği
- E) Haritanın konu başlığı – Yön oku

7) 27 km'lik bir yol 1/300.000 ölçekli bir haritada kaç cm ile gösterilir?

- A) 3
- B) 6
- C) 9
- D) 12
- E) 15

8 36 km olan iki kent arasındaki mesafe haritada 4 cm ile gösteriliyorsa, haritanın ölçeği nedir?

- A) 1/200.000
- B) 1/300.000
- C) 1/600.000
- D) 1/800.000
- E) 1/900.000

9 Ölçeği 1/200.000 olan bir haritada 5 cm'lik uzaklık gerçekte kaç km'dir?

- A) 5
- B) 10
- C) 15
- D) 20
- E) 25

10 1/400.000 ölçekli haritada 3 cm² ile gösterilen gölün alanı kaç km²'dir?

- A) 48
- B) 96
- C) 120
- D) 196
- E) 256

11 27 km²'lik bir göl 1/300.000 ölçekli haritada kaç cm² ile gösterilir?

- A) 3
- B) 6
- C) 9
- D) 12
- E) 15

12 36 km² olan bir göl haritada 4 cm² ile gösteriliyorsa haritanın ölçeği nedir?

- A) 1/100.00
- B) 1/200.000
- C) 1/300.000
- D) 1/400.000
- E) 1/500.000

Deniz seviyesinden harekete eden bir araç 2000 metre yükseltide mola vermiştir.

13 Araç bu yolda 20 km yol aldığına göre, yolun eğimi (%) kaçtır?

- A) 5
- B) 10
- C) 15
- D) 20
- E) 25

Bölge	Gerçek Alan (km ²)	İzdüşüm Alan (km ²)
I	120	70
II	250	170
III	80	60
IV	100	50
V	300	120

Yukarıdaki tabloda beş farklı bölgenin gerçek alanları ile izdüşüm alanları gösterilmiştir.

14 Buna göre hangi bölgenin yer şekilleri daha engebelidir?

- A) I
- B) II
- C) III
- D) IV
- E) V

15 1/700.000 ölçekli bir haritada 5 cm olarak gösterilen iki şehir arası gerçekte kaç km'dir?

- A) 25
- B) 35
- C) 45
- D) 55
- E) 65

1.C	2.C	3.D	4.D	5.B	6.C	7.C	8.E	9.B	10.A	11.A	12.C	13.B	14.E	15.B
-----	-----	-----	-----	-----	-----	-----	-----	-----	------	------	------	------	------	------