

1. Türkler, Müslüman olduktan sonra İslam kültür ve uygarlığının gelişmesine büyük katkılar sağlamışlardır.

Türklerin;

- I. Ele geçirdikleri yerlerde camiler ve medreseler yapmaları
- II. Önemli ticaret yolları üzerinde kervansaraylar kurmaları
- III. Matematik, tıp, astronomi gibi alanlarda büyük bilim insanları yetiştirmeleri

faaliyetlerinden hangileri bu durumun kanıtıdır?

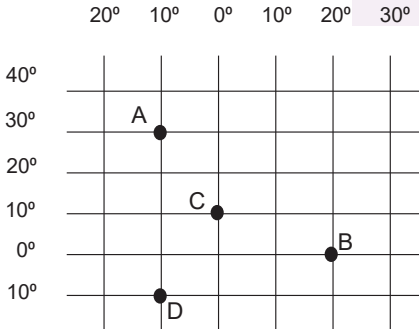
- A) I ve II. B) I ve III.
C) II ve III. D) I, II ve III.

2. Ülkemiz de dahil denize kıyısı olan bütün ülkeler coğrafi ve ekonomik şartlarla da bağlantılı olarak bu denizlerden çeşitli şekillerde faydalanmaktadırlar.

Buna göre aşağıdakilerden hangisi denizlerden yararlanma biçimlerinden biri değildir?

- A) Ticaret B) Tarım
C) Turizm D) Balıkçılık

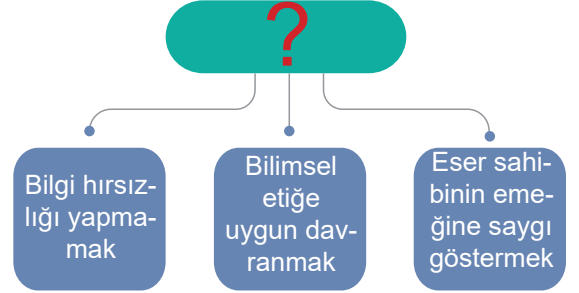
3.



Koordinat düzleminde A, B, C ve D olarak belirtilen bölgelerle ilgili yapılan yorumlardan hangisi doğrudur?

- A) "D" bölgesi başlangıç meridyeninin doğusunda yer alır.
B) "B" ve "C" bölgeleri arasında 70 dakika zaman farkı vardır.
C) "B" bölgesi Ekvator çizgisinin güneyinde yer alır.
D) "A" bölgesi Kuzey Yarım Küre' de yer alır.

4.



Verilen diyagramda "?" işareti ile gösterilen yere ne yazılmalıdır?

- A) Bilimsel bir araştırmada niçin kaynak taraması yapılmalıdır?
B) Bilimsel bir araştırmada neden hipotez oluşturmalıdır?
C) Bilimsel bir araştırmada niçin kaynakça kullanılmalıdır?
D) Bilimsel bir araştırmada neden birden fazla kaynak kullanılmalıdır?

5.

Uygurlardan günümüze mal edinme, ticari anlaşma metinleri, mal ve eşya kiralama, iş ortaklığı kurma, vasiyetname gibi çeşitli konuları kapsayan hukuki belgeler kalmıştır.

Bu hukuki belgelere dayanarak Uygurlar ile ilgili aşağıdakilerden hangisine ulaşılabilir?

- A) Yargı bağımsızlığını sağladıklarına
B) Savaşçı bir millet olduklarına
C) Göçebe yaşamı benimsediklerine
D) Ekonomik düzenlemeler yaptıklarına

6.

Yaşadığım bölgede dağlar doğu-batı doğrultusunda uzanmaktadır. Nem oranı fazla olduğu için yıllık sıcaklık farkı azdır. Haliyle yıllık yağış miktarımız da fazladır. Bununla birlikte bölgemizde güneşli gün sayısı az olduğu için seracılık da yapılamıyor.



Bu bilgileri veren 6. sınıf öğrencisi Veli hangi bölgede yaşamaktadır?

- A) Karadeniz Bölgesi
B) Marmara Bölgesi
C) İç Anadolu Bölgesi
D) Ege Bölgesi

7. Günümüz teknolojisi ile vücudumuzdaki hastalıklı bölgeler çok kısa sürede tedavi edilebilmekte, insan sağlığına zarar vermeden yemek pişirebilen tavalar yapılabilen, yıkandıktan sonra ütü yapmayı gerektirmeyen, kırışmayan kumaşlar üretilmektedir.

Yukarıda parçada nanoteknolojinin hangi alan-daki faydasına değinilmemiştir?

- A) Sağlık B) Beslenme
C) Ulaşım D) Giyim

8. Eskiden ağaçlar balta gibi kesici aletler kullanılarak kesiliyordu. Balta ile ağaç kesmek hem çok zor hem de zaman almaktaydı. Bu nedenle daha az sayıda ağaç kesilmekteydi. Günümüzde ise hem insan sayısının artmasıyla paralel olarak ihtiyaçların artması hem de modern ağaç kesme araçlarının geliştirilmesiyle az zamanda çok sayıda ağaç kesilebilmektedir. Bu, hayatı kolaylaştırmanın yanında doğal kaynakların hızla tükenmesine de sebep olmaktadır.

Ümmügülüm konuşmasında verdiği örnekle doğal kaynakların hızlı tüketilmesinde aşağıdaki etken ikililerinden hangisine vurgu yapmıştır ?

- A) Artan nüfus ihtiyaçları - Doğal afet
B) Doğal afet - Teknolojik gelişme
C) Teknolojik gelişme - Artan nüfus ihtiyaçları
D) Salgın hastalıklar - Doğal afet

9.

"Uzun yıllar çok uğraştım ve sonunda başardım. Buluşumun bana ait olduğunu kanıtlamam için belge almam gerekiyor. Bunun için nereye başvurmalıyım?"



Çılgın Mucit

Sosyal bilgiler dersinden öğrendiklerinize göre Çılgın Mucit'e yardımcı olmak için ona aşağıdaki cevaplardan hangisini vermelidir?

- A) Türk Patent ve Marka Kurumu
B) Türk Dil Kurumu
C) Reklam Kurulu
D) Türk Tarih Kurumu

10. Türklerin ana yurdu Orta Asya'dır. Orta Asya; iklimin sert karasal olduğu, geniş düzlüklere sahip bir coğrafyadır. Bitki örtüsü bozkır olduğundan insanlar hayvancılıkla geçimlerini sağlamışlardır. Hayvancılıkla uğraşmaları onları otlak bulmak için göçebe yaşama zorlamıştır. Konargöçer yaşamı benimseyen Türkler taşınabilir malzemeler kullanmışlar ve çadırlarda yaşam sürmüşlerdir. Göç esnasında en büyük yardımcıları atlar olmuş ve atlara büyük önem vermişlerdir. Bu yaşam tarzından dolayı Türk kültürü çok geniş alana yayılmıştır.

Buna göre Türklerin yaşam tarzıyla ilgili hangi bilgiye ulaşılabilir?

- A) Yaşanılan coğrafya yaşam biçimini etkilemiştir.
B) Yoğun ticari faaliyetlerde bulunmuşlardır.
C) Tek geçim kaynakları hayvancılıktır.
D) Yerleşik hayatı benimsemişlerdir.

11. Kültürümüz; insanları tek çatı altında toplayan, birleştiren ve aynı hedefe yönlendiren öğelerden oluşmaktadır. Kültürümüzü oluşturan din, dil, tarih, mimari, gelenek ve görenekler bizi birbirimize bağlayarak daha güçlü olmamızı sağlar.

I	Çanakkale Savaşı'nda düşman, cephelerimizi geçememiş ve Boğaz'ın serin sularını boylamıştır.	Mimari
II	Kültürümüzün gelecek kuşaklara aktarılmasını sağlar.	Dil
III	Birkaç gün süren düşünlerimizde sevdiklerimizle hep birlikte eğleniriz.	Gelenek ve görenekler
IV	Evlerimiz geçmişten günümüze bizim mutlu yuvalarımızdır.	Tarih

Tabloda verilen ifadelerin doğru olabilmesi için hangilerinin yer değiştirmesi gerekmektedir?

- A) I ve II. B) I ve IV.
C) II ve III. D) III ve IV.

12. Arkeoloji; eski kültür ve uygarlıklardan geriye kalan her türlü alet, malzeme, ev eşyaları ve sanat yapıtları gibi maddi kalıntıları inceleyen kazı bilimidir. Arkeoloji bilimi, Eski Çağ insanların nerede ve nasıl yaşadıkları, ne yedikleri, ne giydikleri, neye inandıkları gibi sorulara cevap arar. 6. sınıf öğrencileri de arkeolog olup geçmişin izinden gitmeye çalıştılar. Yaptıkları kazı sonucunda görsellerde yer alan tarihi nesneleri buldular ve okullarında oluşturdukları müze bölümünde bu nesneleri sergilediler.



Arkeolog olan bu arkadaşlarınızın keşfettikleri tarihi nesnelere bakarak ait olduğu uygarlık hakkında,

- I. Toprağı işlemeyi bilmektedirler.
- II. Avcılıkla uğraşmışlardır.
- III. Süsleme sanatında ileri gitmişlerdir.

Yorumlardan hangisi veya hangileri yapılabilir?

- A) Yalnız I.
- B) I ve II.
- C) I ve III.
- D) II ve III.

13. Enerji üretiminde kullanılan petrol, kömür ve doğal gazın bilinçsizce ve çok hızlı bir şekilde tüketilmesi beraberinde birçok soruna neden olacaktır. Bu durum, gelecek nesillerin yaşamını zorlaştıracaktır. Gelecek nesillere daha yaşanılır bir dünya bırakabilmek amacı ile hayatımızın her alanında çevreye duyarlı ve bilinçli birer tüketici olmalıyız. Kaynakları kullanırken israftan kaçınmalıyız. Ayrıca, doğayı koruyarak topraktaki ve sudaki canlıların devamlılığını sağlamalıyız.

Aşağıdakilerden hangisi parçadaki uyarılara uygun hareket edilmediğinde yaşanabilecek olası sonuçlardan birisi değildir?

- A) Gelecekte kaynakların tükenmesi
- B) Küresel ısınmanın artması
- C) Canlı türlerinin çeşitliliğinin azalması
- D) Teknolojik ilerlemenin durması

14. Denizlerimiz ulaşım, turizm, balıkçılık vb. amaçlarla kullanılmaktadır. Karadeniz’de daha çok balıkçılık, Akdeniz’de ve Ege Denizi’nde ise turizm faaliyetleri yoğun olarak yapılmaktadır.

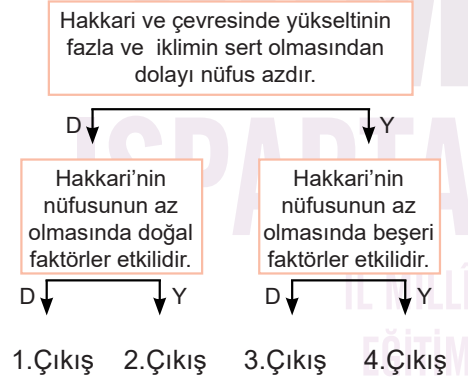
Buna göre,

- I. Turizmden elde edilen gelirlerin balıkçılığa göre daha fazla olması
- II. Ege Denizi’nde ve Akdeniz’de deniz suyu ve hava sıcaklığının yüksek olması
- III. Bu denizlerde balıkçılık yapacak insan sayısının az olması

cümlelerden hangisi veya hangileri Akdeniz’de ve Ege Denizi’nde turizm faaliyetinin tercih edilmesinin sebeplerindendir ?

- A) Yalnız I.
- B) I ve II.
- C) I ve III.
- D) II ve III.

15.



Verilen şemada D “doğru”, Y “yanlış” anlamdadır. Birbiriyle bağlantılı bu cümleleri takip eden öğrenci hangi çıkışa ulaşır?

- A) 4. Çıkış
- B) 3. Çıkış
- C) 2. Çıkış
- D) 1. Çıkış

16. Adım Yiğit. 6. sınıfa gidiyorum. Geçen yıl sınıf başkanıydım. Bu yıl ise okulda arkadaşlarımla birlikte bir futbol grubu kurduk. Her birimizin görevi ve yapacakları bellidir. Ben kaleciyim, aynı zamanda takım kaptanıyım. Derslerime çalışmam gerektiğinin farkındayım çünkü büyüdüğümde iyi bir doktor olmak istiyorum.

Yiğit’in verdiği bilgilerden hareketle hangisi yanlıştır?

- A) Rollerimiz zamanla değişebilir.
- B) Birden fazla rolümüz olabilir.
- C) Üstlendiğimiz rollerin sorumlulukları vardır.
- D) Rollerimizin hepsini biz seçeriz.

17. Aşağıdaki bilgi kartlarında dünyada görülen farklı iklimlerin özellikleri yazılmıştır.

<p>1.KART</p> <p>Bu iklimde yazları bol yağışlar görülürken kışları yağışlar oldukça azalır. Bu yağışlar sellere neden olmaktadır.</p>	<p>2.KART</p> <p>Tropikal yağmur ormanlarının görüldüğü bu iklimde insanlar yılın büyük bölümünde ince kıyafetle dolaşmaktadır.</p>
<p>3.KART</p> <p>Burası yıl boyunca soğuk, kar ve buzlarla kaplıdır. Bu iklimde yaşayan halk Eskimo olarak tanınır.</p>	<p>4.KART</p> <p>Ülkemizde de görülen bu iklimde yazlar sıcak ve kurak, kışlar ise ılık ve yağışlıdır. Turunçgiller bolca yetiştirilmektedir.</p>

Aşağıdaki seçeneklerden hangisinde bilgi kartında verilen ipuçlarıyla özelliği verilen iklim doğru eşleştirilmiştir?

	1.Kart	2.Kart	3.Kart	4.Kart
A)	Akdeniz	Muson	Kutup	Ekvatorial
B)	Ekvatorial	Akdeniz	Muson	Kutup
C)	Muson	Ekvatorial	Kutup	Akdeniz
D)	Kutup	Akdeniz	Ekvatorial	Muson

18. Türkler, tarihte Orta Asya'da birçok devlet kurmuşlardır. Bunlardan bilinen ilki Asya Hun Devleti'dir. Bu dönemde göçebe yaşam tarzı benimsenmiş ve sözlü edebiyat gelişmiştir. Devlet ise başında Han adı verilen kişi tarafından yönetilmiştir. Devleti koruma görevi ise belirli bir orduya bırakılmamış, millet olarak hep birlikte ordu - millet anlayışıyla hareket edilmiştir. En büyük mücadeleler İpek Yolu'na hakim olabilmek için Çinlilerle gerçekleştirilmiştir. Mete Han döneminde İpek Yolu'na hakim olunarak Çin vergiye bağlanmıştır.

Verilen bilgilerden hareketle Asya Hun Devleti'yle ilgili hangi çıkarımda bulunulamaz?

- A) Ülke savunmasında halk ile birlikte hareket edilmiştir.
- B) Ekonomik gelir için diğer devletlerle mücadele edilmiştir.
- C) Ülke yönetiminde tek kişinin hakimiyeti benimsenmiştir.
- D) Roman ve hikâye alanında özgün eserler vermişleridir.

19.



Ulaşım aracı olarak genellikle köpeklerin çektiği kızaklar kullanılır.

Aysu

İnsanlar sıcaktan ve kum fırtınalarından korunmak için genellikle uzun elbiseler giyer.



Ali



Hatice

Yağmur ormanları geniş yer kapladığından evlerin yapımında genellikle ahşap kullanılır.

Tarım yapılamadığı için en önemli geçim kaynağı avcılık ve balıkçılıktır.



Hamza

Öğrencilerden hangileri, kutuplara yakın bölgelerdeki iklim özelliklerinin insan yaşamına etkisinden söz etmiştir?

- A) Aysu – Hamza B) Ali – Hatice
- C) Hatice – Hamza D) Ali – Aysu

20.

Avrupa'ya gidecek 33 gençten tarih öğrenimi yapacak üç öğrenci ile görüşmek istediğini söyledi. Dolmabahçe Sarayı'nda bir saat kadar görüştüğü bu gençlere, Türk tarihini ayrıntılı incelemelerini emir buyurdu.

Aralarında tarihçi, arkeolog ve dil bilimcilerin de bulunduğu Avrupa'dan kaçarak Türkiye'ye sığınan bilim adamlarına kucak açtı.

Atatürk'ün bu uygulamaları, aşağıdaki bilim dallarından hangisini geliştirmeye yöneliktir?

- A) Matematik B) Dini Bilimler
- C) Sosyal Bilimler D) Fen Bilimleri

Çalışmada Emeği Geçen Öğretmenlerimiz

Ersin AYVAZOĞLU
İlkay AKIN
Fatih ERDOĞAN

Havva KAPTAN
Serdar BALCI
Yalçın İNCE

Tuğba ÖZKAN

Bu çalışma Isparta İl Milli Eğitim Müdürlüğü Ölçme Değerlendirme Merkezi tarafından hazırlanmıştır.