

**ALTINÇAĞ ORTAOKULU**  
**2019 – 2020 EĞİTİM ÖĞRETİM YILI**  
**6. SINIF İOKBS DENEME SINAVI –7**

**TÜRKÇE TESTİ**

1. Islak kanatlarında bahar taşıyor kuşlar.  
Badem çiçeğine yağmur yağıyordu.  
Kedersiz şarkılar söylüyor rüzgâr,  
Ümidin pembe eli gökten uzanıyordu.

**Dörtlükte aşağıdaki altı çizili hangi sözcükte ün-süz yumuşaması vardır?**

- A) rüzgâr                      B) gökten  
C) yağmur                     D) çiçeğine

2. (1) Yoksul fare koca ormanda hep korku içinde yaşamış. (2) Küçük olmasına küçükmüş ama cismi kendinden çok daha büyük hayvanlarla boy ölçüşürmüş. (3) Tilkiden korkar, kurttan ödü kopar en çok da yaban kedisini görünce dehşete düşmüş. (4) Farecik koşa koşa tavşanların yuvasına gitmiş. (5) Fare artık bu korkuya dayanamayacağını anlayınca ormanın kralı aslana gitmiş. (6) Tavşancık çok uzaklara kaçmış bile. (7) "Beni koruman altına alabilir misin?" demiş.

Bu paragrafta numaralanmış cümleler dört ayrı maddeden alınmıştır.

**Aşağıdakilerin hangisinde aynı masala ait cümleler bir arada verilmiştir?**

- A) 1, 3, 5, 6                      B) 2, 4, 5, 7  
C) 1, 3, 5, 7                     D) 2, 3, 5, 6

3. Aşağıdaki atasözlerinin hangisinde altı çizili sözcüğün sestesi yoktur?

- A) Bin bilsen de bir bilene danış.  
B) Dost ile ye, iç; alışveriş etme.  
C) Akacak kan damarda durmaz.  
D) Komşunun tavuğu komşuya kaz görünür.

4. "-da, -de" eki sertleşmeye uğramadan aşağıdaki kelimelerden hangisine getirilemez?

- A) Sinema                      B) Ev  
C) Ağaç                         D) Televizyon

5. Ne kötü bir huyumuz vardır: Elimizi şakağımıza dayayıp başımızı havaya kaldırarak mutlulukların hep gökten bir zembille inmesini bekleriz. Ağzımızda hep alışlagelmiş yakarışlar: "Ah bir piyango çıksa da zengin olsam!" ya da "Ah bir arabam, evim olsa!" Tabi zamanımız bu yakarışlarla geçtiğinden, yaşamımızda az bir ilerleme kaydeder ve isteklerimizin hiçbirine de kavuşamayız.

**Parçada yazarın yakındığı durum aşağıdakilerden hangisidir?**

- A) İnsanların çaba harcamadan mutlu bir hayat istemeleri  
B) İnsanların kendilerine belli bir amaç koymamaları  
C) İnsanların işlerinde kendilerini geliştirmemeleri  
D) İnsanların hazırda konmaya alışmaları

6. "Cennet gibi bir bahçenin içinden geçtik." **Cümle-sindeki söz sanatı aşağıdakilerden hangisinde vardır?**

- A) Ninemin pamuk ellerini öpmek için köye gittik.  
B) Akşama kadar yürümekten ayaklarımda derman kalmadı.  
C) Ağacın dalındaki kuşlar neşeyle sohbet ediyordu.  
D) Yıllardır gece gündüz demeden çalışarak bugünlere geldi.

7. 1. Hemen cevap vermeyin çünkü içinizden "Daha neler artık!" dediğinizi duyar gibiyim.  
2. Hele ilkokul dördüncü sınıfta iken, giriş katının altında, her daire için ayrılmış özel bir kömürlük bulunan eski bir apartmana taşınana kadar.  
3. Hayaletlere inanır mısınız?  
4. Şu an ben de "Yok öyle bir şey." diyor olsam da bir dönem ciddi korkulara sahiptim.

**Numaralanmış cümlelerle anlamlı bir paragraf oluşturulduğunda sıralama aşağıdakilerden hangisi olur?**

- A) 2 – 4 – 1 – 3                      B) 3 – 4 – 1 – 2  
C) 3 – 1 – 4 – 2                     D) 1 – 2 – 3 – 4

8. Aşağıdaki seçeneklerin hangisinde altı çizili sözcüklerden hangisi mecaz anlamda kullanılmıştır?

- A) Annesinin iyileştiğini söyleyen ablasını öpücüklerle boğdu.  
B) Elimin üzerinde bir böceğin gezdiğini duydum.  
C) Eve giderken hep beraber sizin sokaktan geçeriz.  
D) Yağmur bizi yolda yakalayınca sıırıslıkam olduk.

9. Üzüntü, insanı yıkan en tehlikeli düşmandır. Özellikle üzüntü bir kişide değil de bir ulusta bulunursa gelecek büyük bir tehlike içinde kalır. Kişinin ümitsizliği korkunçtur fakat (---) Bir ülkenin binaları yıkılmış ama ümidi sağlam kalmış olursa aralıksız çalışmalarla kendini onarabilir. Ama ümidini yitirmiş bir toplum için yapılabilecek hiçbir şey kalmamıştır.

**Bu parçada boş bırakılan yere aşağıdakilerden hangisi getirilmelidir?**

- A) Her insanın içinde bir parça da olsa ümit saklıdır.  
B) Toplumun ümitsizliği yüz bin kat daha korkunçtur.  
C) Dostları sayesinde kendini yeniden toparlayabilir.  
D) Bu ümitsizlik aslında kişinin zayıflığını gösterir.

10. Toros Dağları'nın etekleri ta Akdeniz'den başlar. Kıyıları döven ak köpüklerden sonra doruklara doğru yavaş yavaş yükselir. Akdeniz'in üstünde daima, top top ak bulutlar salınır. Kıyıları dümdüz, cilalanmış gibi düz, killi topraklardır. Bu kıyıları sa-atlerce içe kadar deniz kokar, tuz kokar.

**Parçanın konusu aşağıdakilerden hangisidir?**

- A) Akdeniz Bölgesi'nin iklim şartları  
B) Akdeniz Bölgesi'nin toprak yapısı  
C) Akdeniz kıyıları ve Toroslar'ın etekleri  
D) Akdeniz'in suyu ve turistik özellikleri

11. Gezi yazılarını ( ) gezi türünde eser veren kimselerin durumları bakımından ikiye ayırabiliriz ( ) uğraşları yazarlık olan kimselerin kalemlerinden çıkan gezi yazıları ( ) uğraşları yazarlık olmayan kimselerin ortaya koyduğu gezi yazıları ( )

**Parçada ( ) olan yerlerden herhangi birine aşağıdaki noktalama işaretlerinden hangisi getirilemez?**

- A) Virgül(,) B) Üç nokta(...)  
C) Nokta(.) D) İki nokta(:)

12. (1) Türklerin dünyaca tanınmış fıkra kahramanı Nasrettin Hoca, memleketi Akşehir'de anıldı. (2) Bu yıl 51'incisi düzenlenen şenliklerde Nasrettin Hoca'yı Emin Olcay canlandırdı. (3) Bugüne kadar göle maya çalan Nasrettin Hoca, evrensel barış için göle yoğurt yerine kendini mayaladı. (4) İzleyicilerin şaşkın bakışları altında suda bir süre yüzen Nasrettin Hoca daha sonra görevlilerin yardımıyla sevinçle sudan çıktı.

**Numaralanmış cümlelerden hangisi kişisel görüş bildirmektedir?**

- A) 1 B) 2 C) 3 D) 4

13. Bir uçağım olmalı benim  
1. Binip at üstüne, binip üstüne  
2. Şu köyleri gezmeliyim  
3. Gidip Akdeniz sahillerine,  
4. Gemici çocuklarla yüzmeliyim.

**Bu dizelerdeki hangi dizede altı çizili sözcük yapım eki almıştır?**

- A) 1. dize B) 2. dize  
C) 3. dize D) 4. dize

14. Aşağıdaki altı çizili sözcüklerden hangisinin aldığı yapım eki, sözcüğün türünü değiştirmemiştir?

- A) Suyun susuzu kandırması gibi doğru söz de kalbe temizlik getirir.  
B) Aynı dili konuşanlar değil, aynı duyguyu paylaşanlar anlaşır.  
C) Ümitle açılıp kazançla kapanan bir kitap, okuyucusunu mutlu etmiş demektir.  
D) Önceden sağlığıma hiç dikkat etmezdim ama sonunda akıllandım.

15. Aşağıdakilerin hangisinde "kaynamak" sözcüğünün anlamıyla kullanımı birbirine uymamaktadır?

	Anlam	Kullanım
A)	Çok miktarda bulunmak	Burada karıncalar kaynıyor.
B)	Gizli bir iş çevirmek için hazırlanmak	Son günlerde yine bir iş kaynıyor.
C)	Gerektiği gibi yapılmamak	Lafa daldık, ders kaynadı.
D)	Bir yerde huzursuzluk olmak	Babamın verdiği para kaynadı.

16. Ben ilk 1949 yılında günlük yazmaya başladım. O zamanlar "Beş Sanat" adında bir edebiyat dergisi çıkardı. İlk günlüğüm bu dergide yayınlandı. Sonradan çeşitli dergilerde çıktı.

**Bu parçada aşağıdakilerden hangisinin cevabı yoktur?**

- A) Yazarın ne zaman günlük tutmaya başladığı  
B) Yazarın ilk günlüğünü hangi dergide yayınladığı  
C) Yazarın günlüklerinin başka hangi dergilerde yayınladığı  
D) Yazarın günlüklerinin başka dergilerde yayınlanıp yayınlanmadığı

17. Aşağıdaki kelimelerden hangisi hem yapım hem çekim eki almıştır?

- A) Öğrenci  
C) Sabahçı  
B) Kömürlük  
D) Gözlükler

18. (1) Avrupa'da Ren geyiği olarak bilinen karibular kışları soğuk ormanlarda, yazları ise göç ettiği tundrada yaşar. (2) Yaşamaları tundraya bağlıdır, tundraya zarar veren bir şey ona da zarar verir. (3)Tundra ısınıp yok oldukça karibular yavrularını, yetişme alanlarını kaybeder. (4) Bu durum da onların sayıca azalmalarına neden olur.

**Karibuların sayılarının azalmalarının sebebi numaralanmış cümlelerin hangisinde belirtilmiştir?**

- A) 1  
B) 2  
C) 3  
D) 4

19. Aşağıdaki kelimelerin hangisinin sonuna ünlü ile başlayan bir ek getirildiğinde hece (ünlü) düşmesi olmaz?

- A) Emir  
C) Sabır  
B) Ufuk  
D) Sıfır

20. Uzay yolculuğuna çıkanlara artık çok zengin menüler sunulabiliyor. (---) 1960'lı yıllarda astronotlar yolculukları sırasında suyu alınmış gıdalar ve besin deposu tabletlerle yetinmek zorundaydı.

**Bu parçadaki boşluğa düşüncenin akışına göre, aşağıdakilerden hangisi getirilemez?**

- A) oysa  
C) hâlbuki  
B) çünkü  
D) ne var ki

21. Üçüncü sınıfta okuyordum. Bir bahar günüydü. Arkadaşlarımızın çiğdem toplamaya gittiğini duymuştuk. Biz de gitmeye karar verdik. Ormanda çiğdem çoktu. Bu yüzden cumartesi günü ormana gitmeliydik. Hasan'la sözleşip cumartesi günü erkenden buluştuk. Karabaş'ı da yanımıza aldık. Akşamı kadar çiğdem topladık. Çiğdemleri topraktan çıkarıp onların yumrularını yemek çok güzeldi! O günü hiç unutamıyorum.

**Bu metnin türü aşağıdakilerden hangisidir?**

- A) Anı  
C) Söyleşi  
B) Deneme  
D) Gezi yazısı

22. Ev, mal mülk, yığınla tunç ve altın  
Yarasına merhem olmaz,  
Vücudunda, ruhunda dert olan adamın.  
Eldeki nimetleri tadabilmesi için  
Keyfi yerinde olmalı insanın  
Ev bark neye yarar dertli, korkulu olana.  
(Horatius)

**Verilen şiirden aşağıdakilerden hangisi çıkarılamaz?**

- A) Ev, mal mülk mutlu olabilmenin ön koşuludur.  
B) İnsanın hayatın tadını çıkarabilmesi için keyfinin yerinde olması gerekir.  
C) Korkan bir insan için mal sahibi olmanın bir önemi yoktur.  
D) Sağlığı yerinde olmayan bir insan hayattan zevk alamaz.

23. (1) Daracık sokakları, insanı kucaklayan bir dosta benziyordu. (2) Aynı sıcaklığa şu ana kadar gördüğüm insanlarda pek rastlayamadım. (3) Sokakların hepsi surların kalıntılarına çıkıyordu. (4) Surların bakımsızlığı insanın yüreğini burkuyordu.

**Paragrafta numaralanmış cümlelerin hangisinde söz edilen yerin olumsuz bir özelliği belirtilmiştir?**

- A) 1  
B) 2  
C) 3  
D) 4

24. Fakat sandal sahibi olur olmaz zaten yarı keyif, yarı kazanç için vakit öldürdüğü balıkçılık sanatında karar kılmıştı.

**Altı çizili sözcün cümleye kattığı anlam aşağıdakilerden hangisidir?**

- A) oyalamak, uğraşmak  
B) bir şeye ayrılan süreyi azaltmak  
C) zamanı yararsız, gereksiz işlerle veya hiç iş yapmadan geçirmek  
D) zamana hiç aldırılmamak

25. Aşağıdaki cümlelerin hangisinde özel isimlerin aldığı eklerin yazımıyla ilgili bir yanlışlık yapılmıştır?

- A) Güneşin ilk ışıklarını vurduğu saatlerde Manisa'ya girmiştik.  
B) Çalığıuşu'nu bitirdikten sonra Falaka'yı okuyacağım.  
C) Daktiloyu kullanması için Çetin'e vermiş.  
D) Konuşmasından eski İstanbul'lu olduğu anlaşılıyordu.

# MATEMATİK TESTİ

1.  $[36 : 9 + 5 \times 8] - [20 : 5]$

Yukarıdaki işlemin sonucu aşağıdakilerden hangisidir?

- A) 40      B) 36      C) 30      D) 24

2.  $13 - 35 - 0 - 1 - 5$

Aşağıdaki işlemlerde boş bırakılan yerlere yukarıdaki sayılar yerleştirildiğinde hangi sayı açıkta kalır?

$97 \times \dots = 0$   
 $101 \times \dots = 101$   
 $19 + \dots = 35 + 19$   
 $13 \times (17 + 8) = \dots \times 17 + 13 \times 8$

- A) 0      B) 5      C) 13      D) 35

3. Aşağıdaki sayılardan hangisi hem 4 hem de 9 ile tam bölünebilir?

- A) 1800      B) 1906  
C) 2709      D) 2800

4. 15 sayısının çarpanları olan iki doğal sayının toplamları en çok kaçtır?

- A) 8      B) 10      C) 16      D) 20

5.

★	9	3	6	7	2
4	7	5	■	1	▲

Yukarıdaki kutuların içinde bulunan sayıların her birinin toplamı eşit ve 23'tür.

Buna göre,  $\star + \blacksquare + \blacktriangle$  toplamının değeri kaçtır?

- A) 25      B) 26      C) 27      D) 28

6.

A	2
B	2
C	2
D	3
E	5
F	5
1	

Yukarıda A sayısı asal çarpanlarına ayrılmıştır.

Buna göre, A sayısı kaçtır?

- A) 100      B) 200      C) 300      D) 600

7. Emel'in kullandığı iki ilaçtan biri 6 saatte, diğeri 8 saatte bir alınıyor. Emel başlangıçta aynı anda aldığı ilaçları ilk defa kaç saat sonra tekrar birlikte alır?

- A) 48      B) 36      C) 30      D) 24

8. -5, -6, 10, 3, -4 sayılarından birbirine en yakın iki sayı aşağıdakilerden hangisidir?

- A) -4 ve -5      B) -5 ve -6  
C) 3 ve 10      D) -4 ve 3

9.  $(6 : 3 - 1^7) + (24 : 2 - 2)$

işleminin sonucu kaçtır?

- A) 5      B) 7      C) 11      D) 13

10. Üç basamaklı 75C sayısının 3 ile kalansız bölünebilmesi için C nin yerine yazılabilecek kaç farklı rakam vardır?

- A) 3      B) 4      C) 5      D) 6

11. Bir sepetteki güller; beşer beşer, altışar, atışar ve sekizer sekizer sayılınca hep 3 gül artıyor. Sepetteki gül sayısı 200 den fazla olduğuna göre, sepette en az kaç gül vardır?

- A) 213      B) 243      C) 287      D) 323

12.  $\frac{1}{2}, \frac{1}{3}, \frac{1}{20}$

Kesirleri aşağıdakilerden hangisinde doğru olarak sıralanmıştır?

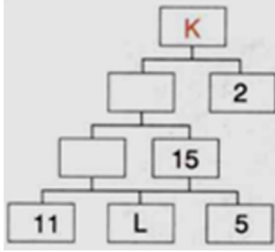
A)  $\frac{1}{3} > \frac{1}{2} > \frac{1}{20}$  B)  $\frac{1}{20} > \frac{1}{3} > \frac{1}{2}$

C)  $\frac{1}{2} > \frac{1}{3} > \frac{1}{20}$  D)  $\frac{1}{20} > \frac{1}{2} > \frac{1}{3}$

13. 10 ile 13 sayılarının en küçük ortak katı kaçtır?

- A) 1 B) 23 C) 65 D) 130

14.



Yukarıda K sayısının çarpan ağacı verilmiştir.

Buna göre, K + L kaçtır?

- A) 993 B) 990 C) 903 D) 883

15. 45 ile aşağıdaki hangi sayının ortak çarpanı 4 tanedir?

- A) 20 B) 60 C) 70 D) 100

16. 18 sayısının 78'den küçük tüm katlarının toplamı kaçtır?

- A) 200 B) 190  
C) 180 D) 210

17.  $\frac{3.A}{4} > \frac{7}{4}$

olduğuna göre, A yerine en az kaç yazılabilir?

- A) 6 B) 5 C) 4 D) 3

18. Bir sınıftaki 24 öğrencinin 10 tanesi düzenlenen geziye katılmıştır.

Buna göre, öğrencilerin kaçta kaç bu geziye katılmamıştır?

- A)  $\frac{5}{12}$  B)  $\frac{1}{2}$  C)  $\frac{7}{12}$  D)  $\frac{3}{4}$

19.  $\frac{1}{3}$  kesri  $\frac{1}{6}$  kesrinden kaç fazladır?

- A)  $\frac{1}{12}$  B)  $\frac{1}{6}$  C)  $\frac{1}{3}$  D)  $\frac{1}{2}$

20.  $\frac{2}{3} + 4$  işleminin sonucu kaçtır?

- A)  $\frac{10}{3}$  B)  $\frac{11}{3}$  C)  $\frac{13}{3}$  D)  $\frac{14}{3}$

21.  $3\frac{5}{7} - 2\frac{1}{7}$  işleminin sonucu kaçtır?

- A)  $1\frac{1}{7}$  B)  $1\frac{2}{7}$  C)  $1\frac{3}{7}$  D)  $1\frac{4}{7}$

22. K= (3'ten 24'e kadar 3'e bölünebilen doğal sayılar)  
L= (3 ile 24 arasındaki çift doğal sayılar)

Yukarıdaki bilgilere göre, K ve L kümelerinin kesişim kümesi hangi elemanlardan oluşur?

- A) 6, 12, 18, 24  
B) 6, 12, 18  
C) 3, 9, 15, 21  
D) 4, 8, 12, 16, 20

23. I.  $0,07 \times 100 = 7$   
II.  $0,3 \times 0,01 = 0,03$   
III.  $2,7 \times 0,3 = 0,81$   
IV.  $3,6 : 0,01 = 36$

Yukarıdakilerden hangileri doğrudur?

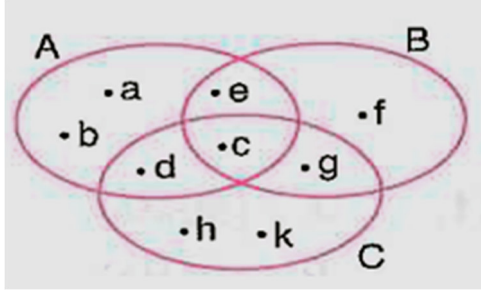
- A) I ve II. B) I ve III.  
C) II ve IV. D) II, III ve IV.

24.  $1^2 + 2^3 + 3^2 + 4^1$

İşleminin sonucu kaçtır?

- A) 22 B) 21 C) 20 D) 18

25.

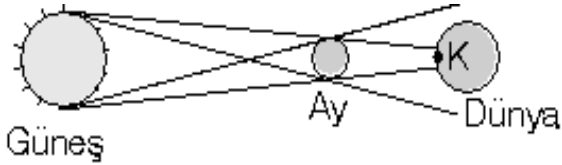


Verilen A, B ve C kümelerine göre  $A \cup B$  kümesi kaç elemanlıdır?

- A) 4 B) 5 C) 6 D) 7

## FEN BİLİMLERİ TESTİ

1.



Yukarıdaki görselde aşağıdakilerden hangisi anlatılmaktadır?

- A) Ay tutulması  
B) Güneş tutulması  
C) Dünyanın dönüşü  
D) Dünya tutulması

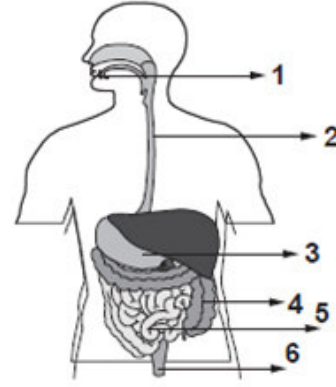
2.

- 60'tan fazla uydusu vardır.
- Toz ve buzdan oluşan halkaları vardır.
- Kızıl gezegen olarak adlandırılır.

Yukarıda özellikleri verilen gezegenler aşağıdaki gezegenlerle eşleştirildiğinde hangisi eşleşmez?

- A) Satürn B) Venüs  
C) Jüpiter D) Mars

3. Şekilde sindirim organları verilmiştir.



Bu organlardan hangilerinde fiziksel sindirim gerçekleşir?

- A) 2 - 4 - 6 B) 1 - 4 - 5  
C) 4 - 5 - 6 D) 1 - 3 - 5

4. Aşağıdakilerden hangisi destek ve hareket sisteminin sağlığını olumsuz etkiler?

- A) Dengeli beslenme  
B) Dik Oturma  
C) Yaşa uygun spor yapma  
D) Aralıksız 3 saat bilgisayar kullanma

5. Fen bilimleri öğretmeni derse girdikten sonra, projeksiyondan tahtaya aşağıdaki fotoğrafı yansıtıyor.




Öğrencilerine "Bugünkü dersimizin konusu ile ilgili neler biliyorsunuz?" sorusunu yöneltiyor.

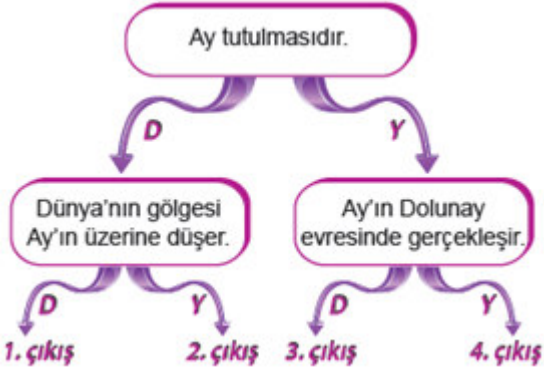
Buna göre, öğrencilerin verdiği cevaplardan hangisinin yanlış olduğu söylenebilir?

- A) Teleskopa ihtiyaç duymadan bu olayı gözlemleyebiliriz.  
B) Dünyamızdaki bazı bölgelerin üzerine Ay'ın gölgesi düşmüştür.  
C) Bu olay Güneş tutulmasıdır ve sık olarak gerçekleşmez.  
D) Gece meydana gelir ve Dünya'nın her yerinden gözlemlenebilir.

6.



Görselde verilen olay ile ilgili ifadelerin doğru "D" ya da yanlış "Y" olduğu takip edilerek ilerlerse hangi çıkışa ulaşılır?



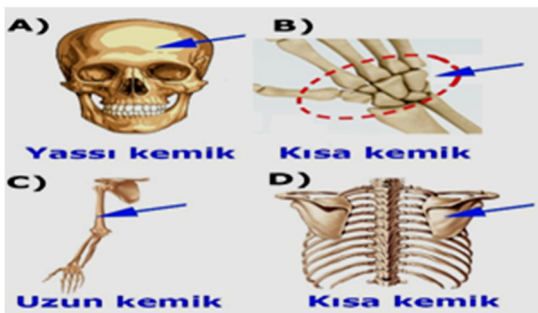
- A) 1. B) 2. C) 3. D) 4.

7. **Jüpiter:** Güneş sisteminin en büyük gezegenidir ve Güneş'e yakınlığı bakımından 5. gezegendir.  
**Venüs:** Güneş'e yakınlığı bakımından 2. gezegendir. "Dünya'nın ikizi" olarak da bilinir.  
**Mars:** "Kızıl Gezegen" olarak adlandırılır ve yüzey şekilleri Dünya'dan teleskopla görülebilir.  
**Neptün:** Uydusu yoktur ve Güneş'in etrafındaki yörüngede bir varil gibi yan yatmış olarak döner.

Yukarıda hakkında bilgi verilen gezegenlerden hangisinin bilgileri yanlıştır?

- A) Jüpiter B) Venüs  
C) Mars D) Neptün

8. Aşağıdaki iskelet bölümlerinden oklarla gösterilen kemiklerin çeşitleri hangisinde yanlış verilmiştir?



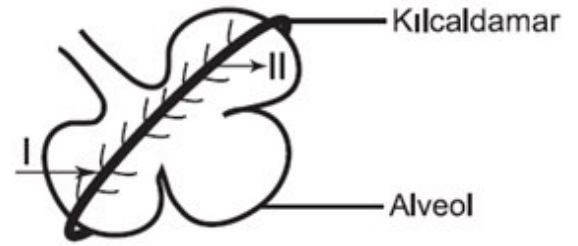
9.

- I. Deri  
II. Kalın bağırsak  
III. İnce bağırsak  
IV. Karaciğer  
V. Böbrek

Yukarıda verilen organlardan hangileri hem boşaltımda hem de sindirimde görevli organlardandır?

- A) I ve II. B) III ve IV.  
C) I ve V. D) II ve IV.

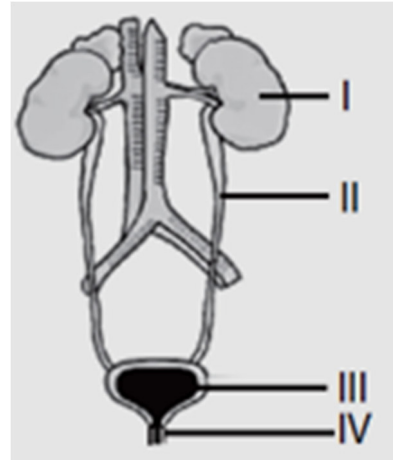
10.



Soluk aldığımızda gerçekleşen gaz değişimi ile ilgili model üzerinde numaralandırılmış kısımlara aşağıdakilerden hangisi gelmelidir?

- I Oksijen II Karbondioksit  
A) Karbondioksit B) Karbondioksit  
C) Oksijen D) Karbondioksit  
E) Oksijen F) Oksijen

11.



Şekilde numaralandırılmış organlardan hangisi kandaki ürenin süzülmesinde görev almaktadır?

- A) I B) II C) III D) IV

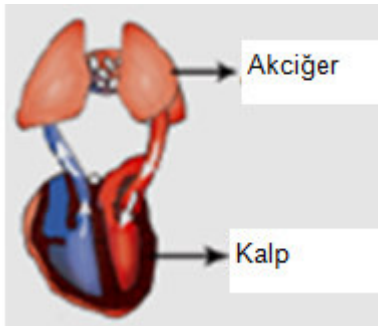
12.



Yukarıdaki cisme uygulanana kuvvetlerin bi-  
leşke kuvveti aşağıdakilerden hangisidir?

- A) 1 N  
B) 6 N  
C) 7 N  
D) 1 N

13. Aşağıda kan dolaşımına ait bir görsel verilmiştir.



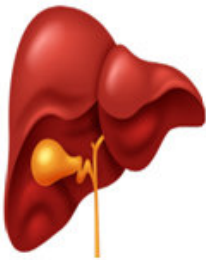
Bu görselin ifade ettiği dolaşım ile ilgili;

- I. Küçük kan dolaşımıdır.  
II. Kirli kan akciğerde temizlenir ve oksijence zenginleşir.  
III. Temiz kan, akciğerden kalbe akciğer toplarda-  
marı ile döner.

Yorumlarından hangileri doğrudur?

- A) Yalnız I. B) I ve II.  
C) II ve III. D) I, II ve III.

14.



Yukarıda şekli verilen organ için aşağıdakiler-  
den hangisi doğrudur?

- A) En büyük 2. Organımızdır.  
B) Safra, yağların kimyasal sindirimini yapar.  
C) Mideden sonraki sindirim organıdır.  
D) Asit üreterek, midenin asidik olmasını sağlar.

15.

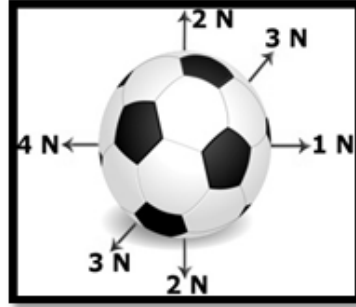
Kuvvetler	F <sub>1</sub>	F <sub>2</sub>	F <sub>3</sub>
Doğrultu	Kuzey- Güney	Kuzey- Güney	Kuzey- Güney
Yön	Kuzey	Kuzey	
Büyüklik	10N	7N	

Tabloda topa uygulanan kuvvetler verilmiştir. Bu kuvvetlerin etkisindeki top durmaktadır.

Buna göre, F<sub>3</sub> kuvvetinin yönü ve büyüklüğü aşağıdakilerden hangisinde doğru verilmiştir?

- | Yön      | Büyüklik |
|----------|----------|
| A) Kuzey | 17 N     |
| B) Güney | 17 N     |
| C) Kuzey | 3 N      |
| D) Güney | 3 N      |

16.



Şekildeki futbol topuna gösterilen yönlerde ve büyüklükte altı kuvvet etki etmektedir. Net kuvvetin yönü ve büyüklüğü hakkında aşağıdaki-  
lerden hangisi doğrudur?

- A) 3 N büyüklüğünde 1 N ile aynı yönde  
B) 5 N büyüklüğünde 4 N ile aynı yönde  
C) 5 N büyüklüğünde 1 N ile aynı yönde  
D) 3 N büyüklüğünde 4 N ile aynı yönde

17. Aşağıda insan vücudundaki damarların özellikleri verilmiştir:

- I. İnce yapıdırlar, dokularla kan arasındaki mad-  
de alışverişinin yapıldığı damarlardır.  
II. Kanı kalpten vücut hücreleri ya da organlara  
taşıyan damarlardır.  
III. Kanı kalbe geri getiren damarlardır.

Buna göre özellikleri verilmiş olan damarlar  
aşağıdaki seçeneklerden hangisinde doğru  
olarak verilmiştir?


- | I               | II           | III          |
|-----------------|--------------|--------------|
| A) Kılcal Damar | Toplar Damar | Atar Damar   |
| B) Toplar Damar | Atar Damar   | Kılcal Damar |
| C) Kılcal Damar | Atar Damar   | Toplar Damar |
| D) Atar Damar   | Kılcal Damar | Toplar Damar |

18. Çizgili kasla düz kasın ortak özelliği aşağıdakilerden hangisidir?

- A) Hızlı kasılmaları
- B) İstemli çalışmaları
- C) Çabuk yorulmaları
- D) Enerji kullanmaları

19.

Geçen zaman (h)	0	2	4	6	8
Alınan yol (km)	0	50	100	150	200



t = 0 anında S noktasından geçen arabanın zamana göre aldığı yoldaki değişim çizelgede verilmiştir.

**Buna göre, arabayla ilgili;**

- I. Araba sabit süratli hareket etmiştir.
- II. S noktasından geçtikten 7 saniye sonra araba S noktasından 175 m uzaklaşmıştır.
- III. Arabanın sürati 50 m/s dir.

**yargılarından hangileri doğrudur?**

- A) Yalnız III.
- B) I ve II.
- C) I ve III.
- D) II ve III.

20. Bir araç 100 km yolu 2 saatte alıyor. Buna göre, bu aracın hızı kaç km/h dir?

- A) 30
- B) 40
- C) 50
- D) 60

21. I- Kemiklerin aşınmasını engeller.  
II- Kemiklerde kan hücreleri üretilir.  
III- Kemikte yıpranan kısımların onarılmasını sağlar.

**Yukarıda verilen görevler aşağıda verilen yapılardan hangilerine aittir?**

	I	II	III
A)	Kıkırdak	Kırmızı kan iliği	Kemik Zarı
B)	Kıkırdak	Sarı kemik iliği	Kemik Zarı
C)	Kıkırdak	Kırmızı kan iliği	Sert kemik dokusu
D)	Kemik zarı	Kırmızı kemik iliği	Kıkırdak

22. Bir otomobil, sabit bir hızla 900 km'lik yolu 9 saatte gitmiştir. Buna göre, bu otomobilin sürati kaç km/h dir?

- A) 50 km/h
- B) 200 km/h
- C) 150 km/h
- D) 100 km/h

23.

	Besin	Sindirimin Başladığı Yer	Sindirimin Bittiği Yer
I	Karbonhidrat	Ağız	İnce bağırsak
II	Protein	Ağız	Mide
III	Yağ	İnce bağırsak	İnce bağırsak

Yukarıdaki tabloda vücuda alınan besin maddelerinin sindiriminin başladığı ve bittiği yerler verilmiştir.

**Buna göre verilenlerden hangileri doğrudur?**

- A) Yalnız I
- B) I ve II
- C) I ve III
- D) II ve III

24.

	1. kuvvet	2. kuvvet	3. kuvvet
Yönü	Batı	Doğu	Batı
Büyüklüğü	3N	9N	4N

Sürtünmesiz yatay düzlemde durmakta olan bir cisme aynı anda etki eden üç kuvvete ait bilgiler tabloda verilmiştir.

**Buna göre, cisme etki eden kuvvetlerin bileşkesinin yönü ve büyüklüğü aşağıdakilerden hangisidir?**

Yönü	Büyüklüğü
A) Batı	3 N
B) Doğu	4 N
C) Doğu	2 N
D) Batı	7 N

25. I. Dalında duran elma  
II. Havaya atılan top  
III. Sabit süratle giden bisiklet

**Yukarıda verilen varlıklardan hangisi ya da hangileri dengelenmiş kuvvetlerin etkisindedir?**

- A) Yalnız I.
- B) Yalnız II.
- C) II ve III.
- D) I ve III.

## SOSYAL BİLGİLER TESTİ

1. Aşağıdakilerden hangisi, İpek Yolu üzerinde ticaret yapanlar için yapılan mimari eserdir?

- A) Kervansaray  
B) Balbal  
C) Medrese  
D) Kımız

2. Dünya'yı iki eşit parçaya bölen Ekvator'a paralel olarak çizilen dairelere paralel denir.

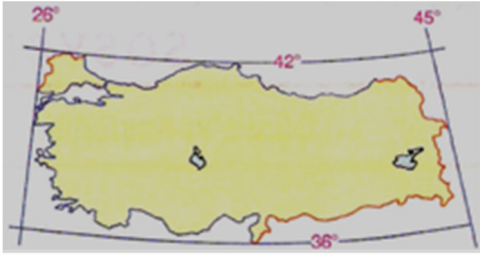
Aşağıdakilerden hangisi, paralellere ait bir özellik değildir?

- A) 180 tane paralel vardır.  
B) en büyük paralel ekvator'dur.  
C) paralellerin uzunlukları aynıdır.  
D) paraleller arası uzaklık 111 km'dir.

3. Orta Asya'daki Türk topluluklarıyla Çinliler arasında hemen hemen her devirde sorunlar yaşanmıştır. Hun – Çin savaşlarının nedenlerinden birini oluşturan tarihi ticaret yolu aşağıdakilerden hangisidir?

- A) Baharat yolu  
B) İpek yolu  
C) Kral yolu  
D) Kervan yolu

4. Aşağıda, Türkiye'nin uç noktalarından geçen paralel ve meridyenler gösterilmiştir.



Haritaya göre, aşağıdaki yargılardan hangisi yanlıştır?

- A) Türkiye'den 19 tane meridyen geçmektedir.  
B) Türkiye, Kuzey Yarım Küre'de bulunmaktadır.  
C) Türkiye'den geçen paralel sayısı meridyen sayısından azdır.  
D) Türkiye, başlangıç meridyeninin batısında bulunmaktadır.

5. Hangisi ülkemize yakın bir kıta değildir?

- A) Afrika  
B) Asya  
C) Antarktika  
D) Avrupa

6. Türkiye'nin toprakları aşağıdaki hangi iki kıta üzerinde yer alır?

- A) Asya – Avrupa  
B) Amerika – Asya  
C) Asya – Afrika  
D) Avrupa – Afrika

7. Özel konum, bir yerin kendine has özelliklerini gösteren konumdur. Matematik konum ise paralel ve meridyenler yardımıyla belirlenen konumdur.

Aşağıdakilerden hangisi, Türkiye'nin özel konumuyla ilgili değildir?

- A) Üç tarafı denizlerle çevrilidir.  
B) Kuzey Yarım Küre'de bulunan bir ülkedir.  
C) Yükseltisi batıdan doğuya doğru artan, dağlık bir ülkedir.  
D) Asya ile Avrupa arasında uzanan bir köprü konumundadır.

8. Meridyen ve paraleller ile ilgili, aşağıda verilmiş bilgilerden hangisi doğru değildir?

- A) Başlangıç meridyeni Greenwich'ten geçmektedir.  
B) Ekvator Dünya'yı Kuzey ve Güney Yarım Küre olarak ikiye ayırır.  
C) Paralel dairelerin çevre uzunlukları her yerde aynıdır.  
D) Meridyen yayları kutup noktalarını birleştirir.

9. Aşağıdakilerden hangisi Hz. Muhammed (s.a.v) döneminde Müslümanlar ile Mekkeliler arasında yapılan savaşlardan birisi değildir?

- A) Bedir Savaşı  
B) Uhud Savaşı  
C) Hendek Savaşı  
D) Malazgirt Savaşı

10. İpek Yolu'na egemen olma konusunda Türklerin en fazla mücadele ettiği devlet aşağıdakilerden hangisidir?

- A) Moğollar  
B) Çinliler  
C) Mısırlılar  
D) Hintliler

11. Ormanlar ülkemizin önemli zenginlik kaynaklarındandır. Ülkemizin orman bakımından en zengin bölgesi hangisidir?

- A) Marmara  
B) Doğu Anadolu  
C) Akdeniz  
D) Karadeniz

12. Kur'an-ı Kerim hangi halife döneminde kitap haline getirilmiştir?

- A) Hz. Ebubekir  
B) Hz. Ali  
C) Hz. Osman  
D) Hz. Ömer

13. Kültür bir toplumun devamı için önemli bir unsurdur. Kuşaktan kuşağa aktarılan ve bir toplumu diğer toplumlardan ayıran hayat tarzı o toplumun millî kültürüdür. Millî kültür aynı zamanda millî kimliği oluşturur. Kültür, millî birlik ve beraberliğe katkı sağlar.

Yukarıda verilen açıklamaya göre aşağıdakilerden hangisi Milli Kültürün unsurlarındandır?

- A) Dil  
B) Din  
C) Tarih  
D) Hepsi

14. Aşağıdaki merkezlerden hangisinde yağışın yeterliliği nedeniyle tarımda sulamaya ihtiyaç duyulmaz?

- A) Konya  
B) Şanlıurfa  
C) Rize  
D) İzmir

15.



Şemada “?” ile ifade edilen yere aşağıdaki iklimlerden hangisi yazılmalıdır?

- A) Çöl iklimi  
B) Kutup iklimi  
C) Ekvatorial iklim  
D) Muson iklimi

16. Koyun verdi, kuzu verdi, süt verdi  
Yemek verdi, ekmek verdi, et verdi.  
Kazma ile döğmeyince kıt verdi.  
Benim sadık yarım kara topraktır...  
Aşık Veysel

Yukarıdaki dörtlükte aşağıdakilerden hangisi anlatılmaya çalışılmıştır?

- A) Toprağın insanın temel ihtiyaçlarını karşıladığı  
B) Toprak sayesinde tarım ve hayvancılık yapıldığı  
C) Toprağın kirlenmesinin insanların sonunu hazırladığı  
D) Toprağa işlemeyince ürün vermeyeceği

17. Türkler hangi savaştan sonra İslamiyet kitleler halinde girmeye başladı?

- A) Huneyn Savaşı  
B) Talas Savaşı  
C) Bedir Savaşı  
D) Uhud Savaşı

18. Dil, Tarih ve Coğrafya Fakültesi'nin açılması hangi bilimin gelişmesine katkı sağlamıştır?

- A) Fen bilimlerinin  
B) Tıp bilimlerinin  
C) Sosyal bilimlerin  
D) Matematik bilimlerinin

19. Antalya deniz kıyısında ve işlek bir limana sahiptir. Turizm gelirleri bakımından ülkemiz ortalamasının üzerinde olan şehirde, tarımsal üretim de ekonomisinde önemli bir yer tutar.

Metinden yararlanarak Antalya için aşağıdakilerden hangisi söylenebilir?

- A) Nüfusu yavaş artmaktadır.  
B) Ekonomisinin gelişiminde birden fazla etken ön plandadır.  
C) Türkiye'nin en büyük limanına sahiptir.  
D) Tarımsal üretimi turizme yöneliktir.

20. Emevilerden farklı olarak Abbasilerin bütün Müslümanlara eşit davranması,

- I. Türkler ve diğer milletlerin İslam'ı kabul etmesinin kolaylaşması,  
II. Bilim ve sanatta ilerleme sağlanması,  
III. Abbasilerin dağılma dönemine girmesi

gelişmelerinden hangilerine ortam hazırladığı söylenebilir?

- A) I ve II.  
B) I ve III.  
C) II ve III.  
D) I, II ve III.

**DİN KÜLTÜRÜ VE AHLAK BİLGİSİ DERSİNİ  
OKUYANLAR AŞAĞIDAKİ SORULARI  
CEVAPLAYACAKTIR.**

21. Aşağıdaki ifadelerden hangisi sadece sabah ezanında söylenir?

- A) Kadkâmetis salâh.  
B) Lâ ilâhe illallâh.  
C) Essalâtühayrûn minen nevm.  
D) Eşhedü enne Muhammeden Resûlullah.

22. Aşağıdakilerden hangisi guslün farzı abdestin ise sünnetidir?

- A) Yüzü yıkamak B) Ağza su vermek  
C) Başı mesh etmek D) Ayakları yıkamak

23. İlk ve son peygamber hangi şıkta doğru olarak verilmiştir?

- A) Hz. Nuh (a.s.) – Hz. Muhammed (s.a.v.)  
B) Hz. Nuh (a.s.) – Hz. Musa (a.s.)  
C) Hz. Âdem (a.s.) – Hz. İsa (a.s.)  
D) Hz. Âdem (a.s.) – Hz. Muhammed (s.a.v.)

24. "Bir topluma önderlik edip, insanları eğitip güzel davranışlara yönlendirme görevini yerine getiren kimselerin akıllı ve zeki olmaları şarttır."

Yukarıda anlatılan özellik peygamberlerin sıfatlarından hangisidir?

- A) Fetanet B) Tebliğ  
C) İsmet D) Sıdk

25. Alperen arkadaşlarına, "Dün babamla dışarıda namaz kıldım. İmam bize: Er kişi için niyet edilmesi, Allahu Ekber deyip, Subhaneke duasının (vecellesênaük) ile beraber okunması gerektiğini, 2. Tekbirden sonra sallı, barik dullarını, 3. Tekbirden sonra cenaze duası okunması gerektiğini anlattı. Ben de namazı bu şekilde ayakta tekbir alarak kıldım." dedi.

Metinde Alperen hangi namazı tarif etmeye çalışmaktadır?

- A) Cumana mazını B) Teravih namazını  
C) Cenaze namazını D) Bayram namazını

**DİN KÜLTÜRÜ VE AHLAK BİLGİSİ DERSİNİ  
OKUMAYANLAR AŞAĞIDAKİ SORULARI  
CEVAPLAYACAKTIR.**

21. Türkler Kurultayda aldıkları bir karar sonucunda Ergenekon'dan çıkmışlardı.

Bu durum Türkler için aşağıdakilerden hangisinin bir göstergesidir?

- A) Diğer milletleri yönetime ortak ettiklerinin  
C) Kağanları yönetimden uzaklaştırdıklarının  
B) Görüş alışverişine önem verdiklerinin  
D) Kurultay'ın kararlarını dikkate almadıklarının

22. Kağanlık, Türklere Tanrı tarafından verildiğine inanılan bir görevdi. Bu anlayış Kut olarak adlandırılmıştı. Kut'un kanda olduğuna ve kan yoluyla babadan oğla geçtiğine inanılırdı. Bu da hükümdar öldükten sonra hanedan üyelerinin taht üzerinde hak iddia etmelerine ve kağanlık mücadelesinin çıkmasına neden olurdu. Bu durum ülkenin zayıflamasına veya yıkılmasına yol açabilirdi.

Parçaya göre Orta Asya Türk devletlerinde, devletin yıkılma sebeplerinden hangisine dikkat çekilmektedir?

- A) Çin baskısı B) Taht kavgaları  
C) Ekonomik sebepler D) Konargöçer yaşam

23. Anadolu'nun Türk Yurdu olmasında aşağıdaki savaşlardan hangisinin katkısı olduğundan söz edilemez?

- A) Malazgirt Savaşı B) Pasinler Savaşı  
C) Miryokefalon Savaşı D) Talas Savaşı

24.



Eşleştirme tablosundaki boş yere aşağıdakilerden hangisinin yazılması doğru olmaz?

- A) Türkler, Orta Asya'dan Avrupa'ya göç etmiştir.  
B) Türklerle Müslümanlar arasında dostluk ilişkileri kurulmuştur.  
C) Türkler, İslam Devleti'nde yönetim ve orduda önemli görevlere getirilmişlerdir.  
D) Türkler, Talas Savaşı'nda Çinlilere karşı Müslümanları desteklemişlerdir.

25. Birey olarak dünyaya geldiğimiz andan itibaren çeşitli sosyal roller üstleniriz. Rollerimizin bir kısmı doğuştan sahip olduğumuz rollerdir. Bazı rollerimiz de vardır ki bunlara isteğimizle çalışarak, başarı göstererek sonradan sahip oluruz. Bunlar özgür irademizle katıldığımız grupların bize yüklediği rollerdir.

Yukarıda verilen açıklamaya göre aşağıdakilerden hangisi sonradan kendi isteğimizle elde ettiğimiz rollerdendir?

- A) Kardeş B) Abla  
C) Anne – Baba D) Torun

**TESTLER BİTTİ.  
CEVAPLARINIZI KONTROL EDİNİZ.**