

ALTINÇAĞ ORTAOKULU
2019 – 2020 EĞİTİM - ÖĞRETİM YILI
6. SINIF İOKBS DENEME SINAVI –5

TÜRKÇE TESTİ

1. Tam otların sarardığı zamanlar
Yere yüzükoyun uzanıyorum.
Toprakta bir telaş, bir telaş...
Karıncalar öteden beri dostum.
Ellerime hanım böcekleri konuyor.
Ne şeker şey onlar
Uç böcek, uç diyorum,
Uçuyorlar.

Bu dizelerde ağır basan duygu aşağıdakilerden hangisidir?

- A) Sevinç B) Özlem
C) Merak D) Umut

2. "Topluluktan uzaklaşmamak gerektiğini" anlatan atasözü aşağıdakilerden hangisidir?

- A) Zorla güzellik olmaz.
B) Tembele iş buyur, sana akıl öğretsin.
C) Sürüden ayrılanı kurt kapar.
D) Haddini bilmeyene bildirirler.

3. Rahmetli babam her zaman çokerken kalkardı.

Yukarıdaki cümlelerin anlamını veren deyim hangisidir?

- A) Gününü gün etmek
B) Günleri gece olmak
C) Üstüne güneş doğmamak
D) Gününü görmek

4. Yeşiller, maviler kapkara olmuş
Yorgun eller, ayaklar; yollarsa yokuş
Ne açan güller var, ne öten bir kuş
Güneş o güneş değil, yıldız o yıldız değil

Yukarıdaki şiirin türü aşağıdakilerden hangisidir?

- A) Pastoral B) Didaktik
C) Satirik D) Lirik

5. I. Sınavlarda başarılı olmak için çalışıyorum.
II. Sana küstüğünden seni aramamış.
III. Hastalığını yenmek için çok uğraştı.
IV. Gelirsin diye çok bekledik.

Yukarıdaki cümlelerin hangi ikisi amaç – sonuç cümlesidir?

- A) I – II. B) I – III.
C) III – IV. D) II – IV.

6. Aşağıdaki cümlelerde geçen altı çizili sözcüklerden hangisi işlevi yönüyle farklı bir ek almıştır?

- A) Anaların öpülesi elleri vardır.
B) Kahrolası düşmanlar yurdumuza göz dikmişlerdi.
C) Çok kızdığı zaman, oğluna, boyu devrilesi adam diyordu.
D) Onun ne kadar baş belası biri olduğunu herkes bilirdi.

7. Aşağıdaki cümlelerde altı çizili tamlamalardan hangisinin türü diğerlerinden farklıdır?

- A) Çalışkan insanlarla çalışmak zevklidir.
B) Sorunların çözümü için yetkililerle görüştük.
C) Okulun duvarları bu yıl boyandı.
D) Kirazın çekirdeklerini bahçeye gömdü.

- 8.

	Tamlamalar	Belirtili İsim Tamlaması	Belirtisiz İsim Tamlaması
1.	Saç rengi		X
2.	Müziğin sesi	X	
3.	Onun kalemi		X
4.	Cep telefonu	X	
5.	Rüzgârın uğultusu	X	

Bu tabloda numaralanmış isim tamlamalarından hangileriyle ilgili işaretlemeye yanlışlık yapılmıştır?

- A) 1 ve 2. B) 2 ve 3.
C) 3 ve 4. D) 4 ve 5.

9. "Anadolu'da en eski () en köklü uygarlıkların izleri vardır () Hitit, Roma, Yunan ()"

Yukarıdaki cümlede, parantez işaretiyle gösterilen yerlere sırasıyla hangi noktalama işaretleri getirilmelidir?

- A) (,) (,) (,) B) (,) (:) (...)
C) (,) (;) (...) D) (,) (:) (.)

10. Aşağıdaki dizelerin hangisinde insanın dışındaki varlığa insan özelliği verilmiştir?

- A) Seni düşünüyorum penceremde
- B) Yağmuru sevmediğin geldi aklıma
- C) Bulutlar da hatırlamış olacaklar ki
- D) Sağanak durdu birdenbire

11. Aşağıdaki cümlelerin hangisinde büyük harflerin kullanımıyla ilgili bir yanlışlık vardır?

- A) Yarın akşam Malatya'ya gidiyoruz.
- B) Sen gelmezsen Karabaş da gelmez.
- C) Hayır, Ahmet burada kalacak.
- D) Milli eğitim müdürlüğü yazı göndermiş.

12. "Ekmek yiyebilmek için buğday ekmek gerekir." cümlesindeki altı çizili sözcükler için aşağıdakilerden hangisi söylenebilir?

- A) Eş anlamlı
- B) Eş sesli
- C) Zıt Anlamlı
- D) Mecaz

13.



Yukarıdaki karikatürde verilmek istenen mesaj aşağıdakilerden hangisinde yer almaktadır?

- A) TV, kitap okumayı engellemektedir.
- B) Kitapların yastık ve yorgan olarak kullanılabilir.
- C) En güzel dinlenme şekli yatarken TV izlemektir.
- D) Yatak odasında TV bulundurmak gereklidir.

14. Sınıf otuz kişi. Yaşlıların arasında gençler de yok değil. En genç öğrenci yirmi yaşında. Erkek öğrenci sayısı yalnızca üç. Birbirlerine öylesine kenetlenmişler ki biri yasadıklarını anlatmağa başlayınca, ötekilerin gözü doluyor. Aralarından biride getiriveriyor öykünün sonunu. Ağır bir hava oluşuyor sınıfta.

Bu parçada altı çizili cümlede, anlatılan kişilerin hangi yönü üzerinde durulmaktadır?

- A) Geçmişe özlem duymaları
- B) Tek başlarına kendilerini güçsüz hissetmeleri
- C) Aralarında, duygusal yönden sıkı bir bağlanması
- D) Olaylar karşısında, birlikte hareket etmek istemeleri

15. "İnsanları sevmeyi öğrenmek, gerçek bir mutluluktur."

Aşağıdakilerden hangisi bu cümleye anlamca benzemektedir?

- A) Mutlu olmak için insanları sevmek gerekmez.
- B) Her insan hayatta mutlu olmak ister.
- C) Mutlu olmak için, insanları sevmeyi bilmeliyiz.
- D) Hayatta mutlu olmadan da yaşanabilir.

16. "Kişisel yargıların belirtildiği cümlelere 'Öznelcümle' denir." tanımı dikkate alındığında aşağıdaki cümlelerden hangisi için öznel cümle diyebiliriz?

- A) Kaşığı, Ömer Seyfettin'in bir eseridir.
- B) Evimiz yüz metre karedir.
- C) Adamın bakışı beni rahatsız etti.
- D) Ay, Dünya'nın uydusudur.

17. 1. gerçekleştirmenin

- 2.en
- 3.yolu
- 4. rüyaları
- 5. İyi
- 6. uyanmaktır

Numaralanmış sözcüklerle anlamlı ve kurallı bir cümle oluşturulduğunda sıralama aşağıdakilerden hangisi olur?

- A) 4 - 1 - 6 - 2 - 5 - 3
- B) 2 - 5 - 3 - 4 - 1 - 6
- C) 4 - 1 - 2 - 5 - 3 - 6
- D) 2 - 5 - 3 - 6 - 4 - 1

18. Aşağıdaki cümlelerin hangisinde "yakmak" kelimesi mecaz anlamda kullanılmıştır?

- A) Ayrılık yüreğimi yaktı
- B) Çoban, üşüyünce ateş yaktı.
- C) Havalar soğuyunca ateş yaktı.
- D) Yemek pişirmek için ocağı yaktı.

19. Aşağıdaki sözcüklerden hangisinin kökü isimdir?

- A) oduncular
- B) korktum
- C) sorular
- D) görüştüm

20. Küçük, yaralı kuş düştüğü yerden kalkmak için yeltendi. O an etrafta birilerinin olmasını umuyordu. Çünkü kendini çok güçsüz hissediyordu. Çalışanların arasından bir ayak sesi duydu.

Baykuşun okuduğu parçada aşağıdakilerden hangisi kullanılmıştır?

- A) Açıklama
C) Tanımlama
- B) Örnekleme
D) Öyküleme

21. "Etrafındakiler, yeni doğan bebek için sırayla şunları dilemişler: Yüz güzelliği, selvi boy ve zenginlik. Bunları duyan bilge kişi ise "Ben onun için iyilik diliyorum. Çünkü sizin söylediğiniz güzellikler bir çiçek gibi solabilir, geçicidir; iyilik ise tükenmez bir hazinedir." demiş.

Bu parçada asıl anlatılmak istenen aşağıdakilerden hangisidir?

- A) Yüz güzelliğinin zenginlikten üstün olduğu
B) İnsanlarla çiçeklerin birbirine benzediği
C) İyiliğin geçici güzelliklerden önemli olduğu
D) Bilge kişilerin sözlerine değer verildiği

22. Çağdaş toplum, birinin attığı adımdan ötekini sorumlu tutuyor. Neden uyarmadın, neden doğru yolu göstermek elindeyken boş verdin, neden "Bana ne!" deyip geçtin, sen bu toplumda, bu yeryüzünde değil miydin bunca kırıp dökmeleler, yıkımlar yapılıırken?

Bu parçanın sonuna, düşüncenin akışına göre aşağıdakilerden hangisi getirilemez?

- A) Neden sen de kötülüklerle savaşmadın?
B) Neden bu insanlara yardımcı olmadın?
C) Niçin yalnız kendini düşündün?
D) Niçin haklıların yanında yer almadın?

23. Kasaba bunumuzun dibinde. (I) Suyu var, elektriği var. (II) Evimiz pazar yerine bakıyor. (III) Akşamları kuşların civıltısını dinliyorum. (IV) Yaz yağmurlarının intelaşısını dinliyorum. (V) Yaza geldiğimden beri yağmurların intelaşısını dinliyorum.

"Bir hayli gelişmiş bir yer." sözü yukarıdaki parçada numaralanmış yerlerden hangilerine getirilebilir?

- A) I yadall.
C) I yada V.
- B) I yadall.
D) III ya da IV.

24. 1. Birlikten kuvvet doğar.

2. Bir elin nesi var, iki elin sesi var.
3. Bin bilsen de bir bilene danış.
4. Yalnız taş duvar olmaz.

"Yardımlaşma ve dayanışma" konulu afiş hazırlayan Ahmet'in kullandığı yukarıdaki sözlerden hangisi konuya uygun değildir?

- A) 1 B) 2 C) 3 D) 4

25. "Yıkılmak" sözcüğü aşağıdaki cümlelerin hangisinde mecaz anlamında kullanılmıştır?

- A) Evin duvarları nemden yıkılıyordu.
B) Kadın acı haberi alınca yere yıkıldı.
C) Kumsaldaki çocukların yaptığı kumdan kaleyi dalga yıktı.
D) Bürodaki tüm işleri zamanla ona yıktılar.

MATEMATİK TESTİ

1. K, L ve M birer doğal sayı olmak üzere

$$12 < K < L < 28 < M \text{ ise}$$

K+L+M toplamının alabileceği en küçük doğalsayı değeri kaçtır?

- A) 54 B) 55 C) 56 D) 57

2. 40 kilogramlık un çuvalı 5 kilogramlık paketlere konulacaktır. Buna göre, 25 çuval un için kaç paket gerekir?

- A) 150 B) 200 C) 250 D) 300

3. A. (25 - B) = 11.25 - 11.19

ise, B - A kaçtır?

- A) 30 B) 16 C) 14 D) 8

4. $5 + 3 \times 2 - (2 + 4 \times 2)$ işleminin sonucu kaçtır?

A)1 B)2 C)3 D)4

5. $K = \{\text{araba}, \{2, 3, 5\}, m, n\}$

Kümesinin eleman sayısı kaçtır?

A) 4 B) 5 C) 6 D) 7

6. $F = \{x, y, \{z, t\}\}$

F kümesi için aşağıdakilerden hangisi doğru değildir?

A) $x \in F$ B) $y \in F$ C) $z \notin F$ D) $t \in F$

7. Toplamı -10 olan üç tam sayıdan ikisi -2 ve 9 ise üçüncü sayı kaçtır?

A) 2 B) -2 C) -8 D) -17

8. Aşağıdaki eşitliklerden hangisi yanlıştır?

A) $(-12) : (-1) = 12$
B) $(-15) : 1 = -15$
C) $14 : (-1) = -14$
D) $1 : (-13) = -13$

9. Sıfıra yakın 2 tam sayının birbirine olan uzaklığı kaç birimdir?

A)0 B)1 C)2 D)3

10. Hava sıcaklığı bugün 8°C dir. Hava tahmin raporlarına göre sıcaklık her gün 2°C düşecektir.

Buna göre 5 gün sonra sıcaklık ne olur?

A) 1°C B) -2°C C) 6°C D) -10°C

11. Aşağıdakilerden hangisi yanlıştır?

A) $|-7| > |+6|$ B) $|+8| > |-10|$
C) $|+19| > |-9|$ D) $|-26| > |19|$

12. $(-5) + (-3) + (-2)$ toplama işleminin sonucu kaçtır?

A) (-9) B) (-10) C) (-12) D) (-14)

13. Aşağıdaki sayılardan hangisinin 9 ile bölümünden kalan 7'dir?

A) 1234 B) 5678
C) 13579 D) 2468

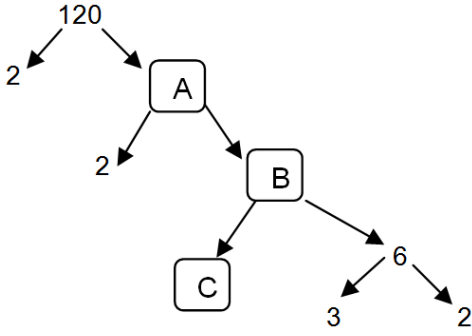
14. Aşağıdaki doğal sayılardan hangisi 12 sayısının katlarından biri değildir?

A)24 B)38 C)60 D)84

15. Aşağıdakilerden hangisi asal sayı değildir?

A)2 B)3 C)4 D)5

16.



Yukarıda verilen çarpan ağacına göre $A+B+C$ toplamı kaçtır?

A)95B) 90C) 92D) 93

17.95 lira borcu olan Sinan 27 lira daha borç alıyor. Daha sonra borcunun 55 lirasını ödüyor.

Son olarak borcunun 32 lirasını daha ödediğine göre Sinan'ın kalan borcu kaç liradır?

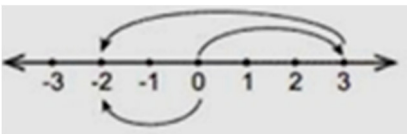
A) 8 B) 15C) 35D) 67

18. $C=\{234432$ sayısını oluşturan rakamlar}

Ortak özellik yöntemiyle verilen kümenin liste yöntemiyle gösterilişi aşağıdakilerden hangisidir?

A) $C=\{2,2,3,3,4,4\}$ B) $C=\{234\}$
C) $C=\{2,3,4\}$ D) $C=\{234432\}$

19.



Verilen sayı doğrusu üzerinde modellenen işlem aşağıdakilerden hangisidir?

A) $(+3) + (-5)$ B) $(-3) + (-5)$
C) $(+3) + (+5)$ D) $(+3) - (-5)$

20.3A5B dört basamaklı sayısı 5 ve 6'ya tam bölünemediğine göre A yerine gelebilecek rakamların toplamı aşağıdakilerden hangisidir?

A) 7 B) 12 C) 13 D)15

21. Aşağıdaki karşılaştırmalardan hangisi yanlıştır?

A) $|-6| > |-1|$ B) $|-2| > |-3|$
C) $0 < |+3|$ D) $|-2| < |+4|$

22.-3, 1, 5, 9, 13, 17, 21,

Yukarıda ilk 7 adımı verilen sayı örüntüsünün 17. adımındaki sayı kaçtır?

A) 49B) 53C) 57D) 61

23.Saatte ortalama 90 km hızla 15 saat yol giden bir otobüs aynı yolu dönüşte saatte ortalama 75 km hızla geri dönüyor. Bu otobüsün toplam yolculuğu kaç saat sürmüştür?

A) 15 B) 18 C) 33 D) 60

24.iki basamaklı en küçük asal sayı ile 40'dan küçük en büyük asal sayının toplamı kaçtır?

A) 45 B) 46 C) 47 D) 48

25. 40512 sayısı aşağıdaki sayılardan hangisine tam bölünmez?

A) 2B)3C) 4D)9

FEN BİLİMLERİ TESTİ

1. Merkür'ün kütlesi Dünya'nın kütlesinin yaklaşık yirmide biri kadardır. Güneş'e yakın olmasından ve kendi etrafında yavaş dönmesinden dolayı gece ve gündüz arasındaki sıcaklık farkı çok fazladır.

Bu bilgilerden hareketle Merkür ile ilgili aşağıdakilerden hangisine ulaşamaz?

- A) Güneş Sistemi'nin en küçük gezegenidir.
- B) Gece ve gündüz sıcaklıkları aynı değildir.
- C) Kendi etrafında döner.
- D) Kütlesi Dünya'dan çok daha küçüktür.

2. Güneş tutulması ile ilgili,

- I. Ay'ın yeni ay evresinde meydana gelir.
- II. Dünya'nın farklı bölgelerinde her ay 1 defa gözlenir.
- III. Dünya'nın gündüz yaşanabilen sürelerinde gözlenebilir.

İfadelerinden hangisi ya da hangileri doğrudur?

- A) Yalnız I. B) I ve II.
- C) I ve III. D) II ve III.

3. I. Vücuda şekil verir.

- II. İç organlarımızı dış etkilerden korur.
- III. Besinlerin sindirimini sağlar.

Yukarıda verilen ifadelerden hangileri iskeletin görevidir?

- A) Yalnız I. B) Yalnız II.
- C) I ve II. D) II ve III.

4. I. Akciğer atardamarı

- II. Aort
- III. Böbrek atardamarı

Verilen damarlardan hangileri oksijen bakımından temiz kan taşır?

- A) Yalnız I. B) I ve II.
- C) II ve III. D) I, II ve III.

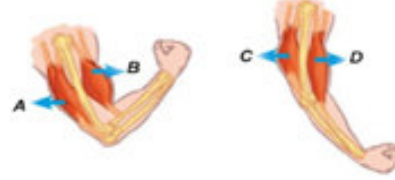
5. Soluk alma sırasında aşağıdaki olaylardan hangisi gerçekleşmez?

- A) Göğüs boşluğu genişler.
- B) Kaburgalar arasındaki kaslar kasılır.
- C) Akciğerlerin hacmi büyür.
- D) Diyafram kası gevşer.

6. Sağlıklı bir insanın idrarında aşağıdakilerden hangisi bulunmaz?

- A) Üre B) Şeker
- C) Su D) Madensel tuz

7.



Şekillerde kol üzerinde bazı kasların çalışması gösterilmiştir.

Buna göre;

- I. A kası kasılırken, B kası gevşer.
- II. C ve D kasları aynı anda kasılır.
- III. B ve C kasları kasılmış durumdadır.

İfadelerden hangileri yanlıştır?

- A) Yalnız I. B) I ve II.
- C) II ve III. D) I, II ve III.

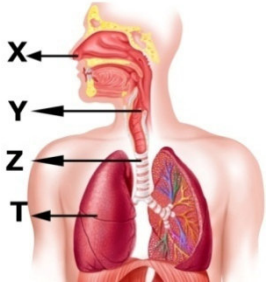
8. Dolaşım sistemine ait bir yapıyı tanıtmak için aşağıdaki şema hazırlanıyor.



Buna göre soru işaretiyle gösterilen bölüme hangisi yazılmalıdır?

- A) Kan B) Kalp
- C) Akciğer D) Damarlar

9. Aşağıda solunum sistemindeki yapı ve organlar ile görevleri verilmiştir.



- Gaz alışverişinin yapıldığı organdır.
- Havanın ısıtılıp nemlendirilmesini sağlar.
- Havanın akciğerlere iletilmesini sağlar.

Resimde harflerle gösterilen yapı ve organlardan hangisinin görevi verilmemiştir?

- A) X B) Y C) Z D) T

10. Aşağıdakilerden hangisi boşaltım sistemini oluşturan yapı ve organlardan biri değildir?

- A) Böbrekler B) Üretra
C) İdrar kesesi D) Karaciğer

11. Nefes aldığımızda havanın vücudumuzda izlediği yol aşağıdakilerin hangisi gibidir?

- A) Burun – gırtlak – yutak – soluk borusu – bronş – bronşçuk – alveol
B) Burun – yutak – gırtlak – soluk borusu – bronş – bronşçuk – alveol
C) Burun – gırtlak – soluk borusu – bronş – bronşçuk – yutak – alveol
D) Burun – yutak – bronş – soluk borusu – bronşçuk – alveol – gırtlak

12. Solunum sisteminde havanın dışarıdan girdiği ilk kısımdır.

- Alınan havayı nemlendirir ve ısıtır.
- İçindeki kıllar havadaki toz parçacıklarını tutar.

Verilen bu özellikler solunum sistemimizdeki yapılardan hangisine aittir?

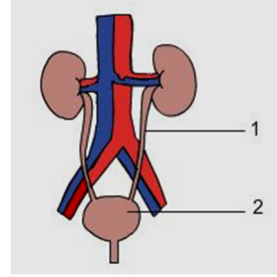
- A) Burun B) Yutak
C) Gırtlak D) Soluk borusu

13. I. Göğüs kafesi genişler.
II. Diyafram kası kubbeleşir.
III. Akciğerlerin hacmi küçülür.

Soluk verme sırasında yukarıda verilenlerden hangileri gerçekleşir?

- A) Yalnız I. B) I ve II.
C) II ve III. D) I, II ve III.

14.



Yukarıda boşaltım sisteminin elemanları numaralandırılarak gösterilmiştir.

Buna göre, modelde 1 ve 2 numara ile gösterilen yapıların ikisinin de isimleri hangi seçenekte doğru olarak verilmiştir?

12

- A) Üreter İdrar Kesesi
B) Üretra İdrar Kesesi
C) İdrar Kesesi Üretra
D) Üreter Üretra

15. Çekirdeksiz, küçük ve renksiz kan hücreleridir. Yaralanma durumunda kanamanın durması için kanın pıhtılaşmasını sağlayan bu kan hücresi hangisidir?

- A) Alyuvar B) Akyuvar
C) Kan pulcukları D) Bronşçuk

16. Büyük kan dolaşımının işlevi aşağıdakilerin hangisinde doğru olarak verilmiştir?

- A) Kanı akciğerlere ulaştırmak.
B) Yapı ve organlara besin ve oksijen taşımak.
C) Kanı oksijence zenginleştirmek.
D) Kanı akciğerlerden kalbe ulaştırmak.

17. Kan hücreleri ile ilgili aşağıdaki ifadelerden hangisi yanlıştır?

- A) Vücut savunmasında görev alır.
- B) Solunum gazlarının taşınmasını sağlar.
- C) Pıhtılaşmayı sağlayarak kanamayı durdurur.
- D) D vitamini, kalsiyum gibi mineralleri depolar.

18. Solunum sisteminde soluk borusunun üst kısmında ve alt kısmında bulunan yapılar aşağıdakilerin hangisinde sırasıyla verilmiştir?

- A) Burun – Gırtlak B) Gırtlak – Bronş
- C) Yutak – Gırtlak D) Bronş – Akciğer

19. Güneş sistemindeki gezegenlerden bazılarının özellikleri şöyledir:

K: Güneş'e en yakın ikinci gezegendir.

L: Güneş sisteminin en büyük gezegenidir.

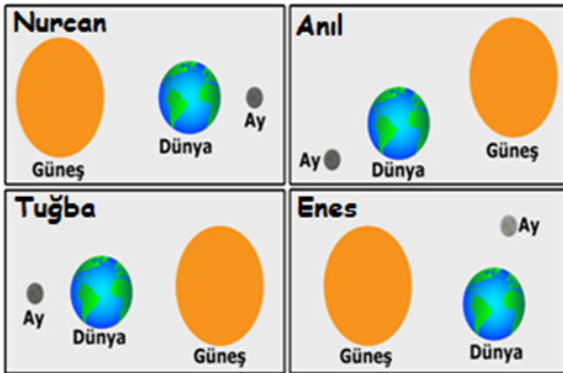
M: Halkasıyla en dikkat çekici gezegendir.

Buna göre K, L ve M ile gösterilen gezegenler aşağıdakilerin hangisinde verilmiştir?

KLM

- | | | |
|-----------|---------|---------|
| A) Merkür | Venüs | Mars |
| B) Venüs | Satürn | Jüpiter |
| C) Dünya | Merkür | Neptün |
| D) Venüs | Jüpiter | Satürn |

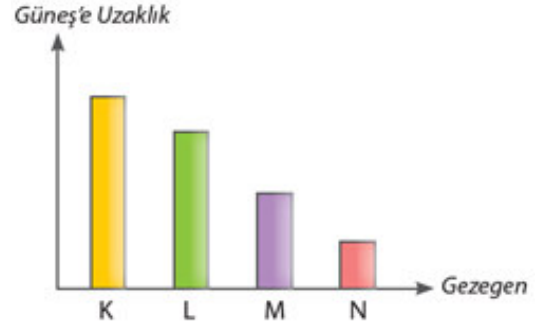
20.



Yukarıdaki hangi öğrencinin hazırladığı poster Ay tutulması için örnek olamaz?

- A) Nurcan B) Anıl
- C) Tuğba D) Enes

21. K, L, M, N gezegenlerinin Güneş'e olan uzaklıkları aşağıdaki grafikte verilmiştir.



K gezegeninin Mars olduğu bilindiğine göre bu gezegenlerle ilgili aşağıdaki ifadelerden hangisi yanlıştır?

- A) N gezegeni Merkür'dür.
- B) Dünya L harfi ile gösterilmiştir.
- C) Güneş sisteminde, Güneş'e en uzak gezegen Dünya'dır.
- D) M gezegeni Venüs'tür.

22. Kan bağışısıyla ilgili bilgiler veren Senem aşağıdakilerden hangisinde yanlış bir ifade kullanmıştır?

- A) Her yaşta birey kan bağışısı yapamaz.
- B) Kan bağışısı toplumsal dayanışmayı artırır.
- C) Kan vermek kilo kaybına neden olur.
- D) Kan bağışısı yapabilmek için sağlıklı olmak gerekir.

23. Aşağıdaki özelliklerden hangisi Güneş tutulması ve Ay tutulması için benzerdir?

- A) Dünya'da gündüz yaşanılan sürede gerçekleşir.
- B) Dünya, Güneş ile Ay arasındadır.
- C) Güneş, Dünya ve Ay aynı doğrultuda olduğunda gözlenir.
- D) Birkaç saat gözlenebilir.

24. Güneş sistemindeki yaşamın olduğu tek gezegen olan Dünya'mızla ilgili aşağıdaki ifadelerden hangisi yanlıştır?

- A) Tek uydusu vardır.
- B) Samanyolu gökadasındadır.
- C) Güneş'e en yakın ikinci gezegendir.
- D) Venüs ile Mars gezegenleri arasındadır.

9. Herkes ait olduğu gruba göre farklı roller üstlenmiştir ve bu roller zaman içerisinde değişebilir.

Aşağıdakilerden hangisi bu duruma örnek olarak gösterilebilir?

- A) Ben bir okulda öğretmen olarak çalışıyorum. Öğrencilerimi çok seviyorum.
- B) Evin tek çocuğu olarak anneme ev işlerinde yardım ediyorum.
- C) 6. sınıf öğrencisiyim ve aynı zamanda okul takımında kaptanlık yapıyorum.
- D) Okulda başarılı olmak için ödevlerimi zamanında yapıyorum.

10. Bedir Savaşı'nda esir düşen Mekkelilerden okuma yazma bilenler, on Müslüman'a okuma yazma öğretmeleri karşılığında serbest bırakıldı.

Bu uygulama için aşağıdakilerden hangisine ulaşılabilir?

- A) Eğitime önem verilmiştir.
- B) Mekkeliler ile Medineliler arasındaki son savaştır.
- C) Cahiliye Devri gelenekleri devam etmektedir.
- D) Halifeliği saltanat haline dönüştürmüştür.

11. Selçuklu ve Osmanlı Dönemlerinde meydanlara, cami ve çeşme yanlarına yardımlaşma amaçlı taşlar konuldu.

Yardımlaşma amaçlı kurulan bu taşlara ne ad verilir?

- A) Mihenk taşı B) Oltu taşı
- C) Sadaka taşı D) Zümrüt taşı

12. Bir toplumun kendine özgü olan ve gelecek nesillere aktardıkları maddi ve manevi öğelerin hepsine denir?

- A) Kültür B) Edebiyat
- C) Tarih D) İnanış

13. Toplumda arkadaşlık, komşuluk ve akrabalık gibi değerler önemini kaybetmektedir.

Bu durum;

- I. Çatışma
- II. Ayrımcılık
- III. Ön yargı

hangisinin ya da hangilerinin toplumda görülmesine neden olmaktadır?

- A) Yalnız I.
- B) I ve II.
- C) II ve III.
- D) I, II ve III.

14. Asya Hun Devletine ait olan ve Mete Han'ın hayatının anlatıldığı destanın adı nedir?

- A) Göç B) Ergenekon
- C) Oğuz Kağan D) Türeyiş

15. Türkler yapılan hangi savaş sonucu İslamiyet'i kabul etmeye başlamışlardır?

- A) Malazgirt B) Talas
- C) Bedir D) Uhud

16. Bireyler, doğdukları andan itibaren toplumla birlikte yaşamaya başlarlar. İçinde buldukları toplumda birçok farklı özellik vardır. Toplumu oluşturan bireylerin uyum içinde yaşaması için dikkat etmeleri gereken değerler vardır.

Aşağıdakilerden hangisi toplumun birlikte uyum içinde yaşamasına katkı sağlamaz?

- A) Karşılıklı saygı
- B) Empati kurmak
- C) Cinsiyet ayrımcılığı
- D) Hoşgörü

17. Karluk, Yağma ve Çiğil Türklerinin biraraya gelerek oluşturdukları devlet hangisidir?

- A) Karahanlılar B) Gazneliler
C) Selçuklular D) Osmanlılar

18. Aşağıdakilerden hangisi Orta Asya'da kurulan Türk devletlerinden biri değildir?

- A) Göktürkler B) Uygurlar
C) Asya Hun D) Karahanlılar

19. Emeviler dönemindeki aşağıdaki uygulamalardan hangisi halifelüğün saltanata dönüştürüldüğünün kanıtıdır?

- A) Arapçayı resmi dil ilan etmeleri
B) Muaviye'nin oğlu yezidi halife ilan etmesi
C) İslam devletini en geniş sınırlarına ulaştırmaları
D) Müslümanlara karşı ırkçı bir yaklaşım içinde oldukları

20. İlk Türk devletlerinde ülke meselelerinin görüşüldüğü meclise ne ad verilirdi?

- A) Yuğ B) Kurultay
C) Divan D) Kurgan

**DİN KÜLTÜRÜ VE AHLAK BİLGİSİ DERSİNİ
OKUYANLAR AŞAĞIDAKİ SORULARI
CEVAPLAYACAKTIR.**

21. Hangi seçenekte verilen namazların her ikisi de yalnızca cemaatle kılınabilir?

- A) Cenaze ve Teravîh namazı
B) Teravîh ve Vakit namazları
C) Cuma ve Bayram namazları
D) Cuma ve Vakit namazları

22. I. Sübhaneke

- II. Eûzû
III. Besmele
IV. Fatiha
V. Ek sure (zammı sure)

Dört rekâtlı farz namazın 3. rekâtını kılan bir kişi ayakta iken yukarıda verilenlerden hangilerini okumalıdır?

- A) III – IV
B) II – III – IV – V
C) I – II – III – IV – V
D) III – IV – V

23. Peygamberlerin öteki insanlardan ayıran en önemli farklı yönü hangisidir?

- A) İnsanlara iyiyi öğretmeleri
B) Allah'tan vahiy almaları
C) İbadet yapmaları
D) Güzel Ahlaklı olmaları

24. Aşağıdakilerden hangisinde ilk ve son peygamberlerin ismi geçmektedir?

- A) Hz. Nuh (AS) – Hz. Muhammed (SAV)
B) Hz. Adem (AS) – Hz. İsa (AS)
C) Hz. Nuh (AS) – Hz. Musa (AS)
D) Hz. Adem (AS) – Hz. Muhammed (SAV)

25. Hz. Adem'e (AS) verilen suhuf kaç sayfadan oluşmaktadır?

- A) 20 sayfa B) 30 sayfa
C) 50 sayfa D) 10 sayfa

**DİN KÜLTÜRÜ VE AHLAK BİLGİSİ DERSİNİ
OKUMAYANLAR AŞAĞIDAKİ SORULARI
CEVAPLAYACAKTIR.**

21.Türkler Anadolu'ya yerleşmeye başladığında pek çok zanaatkar,şeyh, derviş de Anadolu'ya gelmiştir.Bu kişiler Anadolu'nun Türkleşme sürecinde önemli rol oynamıştır.

Sözü edilen kişiler arasında aşağıdakilerden hangisi yer almaz?

- A)Yunus Emre B)Mevlana
C)Âşık Veysel D)Hacı Bektaşî Veli

22.İpek Yolu'nu kullanan kervanların konakladığı yerlerde zamanla büyük şehirler kurulmuştur.

Bu şekilde kurulan şehirlerde öncelikle aşağıdakilerden hangisinin gelişmesi beklenir?

- A)Ticaret B)Tarım
C)Denizcilik D)Hayvancılık

23.Göktürkler tarafından yazılan Orhun Kitabeleri, Türk tarihinin en önemli yazılı kaynaklarından birisidir.

Orhun Yazıtları'nı önemli yapan aşağıdakilerden hangisidir?

- A) Sanat özellikleri
B) Türklere ait ilk yazılı belgeler olmaları
C) Mimari tarzları
D) Orta Asya'da olmaları

24.Peygamberimizin vefatının ardından yönetime gelen ilk halifedir. Bu dönemde iç karışıklıklar bastırılmış, devletin parçalanması önlenmiştir. Savaşlarda pek çok hafızın şehit olması nedeniyle Kur'an-ı Kerim kitap hâline getirilmiştir.

Yukarıdaki metinde anlatılan halife aşağıdakilerden hangisidir?

- A)Hz. Ali (R.A.)B)Hz. Osman (R.A.)
C)Hz. Ömer (R.A.)D) Hz.Ebubekir (R.A.)

25.Abbasiler Dönemi'nde İslamiyet, Türkler arasında hızlı bir şekilde yayılma olanağı bulmuştur. Bu durumun oluşmasında;

- I. Talas Savaşı'nda Türklerin Abbasilere yardım etmeleri,
II. İki toplumun birbiri ile iyi ilişkiler içinde olmaları,
III. Abbasilerin hoşgörülü bir siyaset izlemeleri

gelişmelerinden hangileri etkili olmuştur?

- A) I ve II. B) I ve III.
C) II ve III. D) I, II ve III.

**TEST BİTTİ.
CEVAPLARINIZI KONTROL EDİNİZ.**