

## TÜRKÇE TESTİ

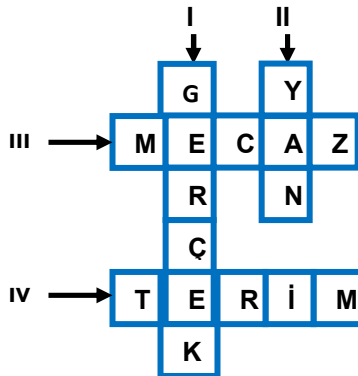
1. Aşağıdaki şema “acımak” sözcüğünün farklı anlamlarını göstermektedir.



Aşağıdaki cümlelerden hangisi “●” simgesi ile gösterilebilir?

- A) Sağlığında değeri bilinmeyen sanatçıların emeğine acıyorum.  
B) Bu acılı günde seni yalnız bırakamam.  
C) Ameliyatlı bölgedeki acıya bir süre daha dayanmalısın.  
D) Elbiseye değil bu terliğe verdiğin paraya acıyorum.
2. “Ne geniş adam, borçlular kapıya gelmiş umrunda değil.”

Cümlesinde altı çizili sözcüğün kullanıldığı anlam özelliği bulmacada gizlidir.



“Geniş” sözcüğünün cümlede kullanıldığı anlam özelliği bulmacanın hangi bölümünde yer almaktadır?

- A) I B) II C) III D) IV

3. Aşağıdaki atasözlerinden hangisinde “zıt anlamlı” sözcükler bir arada kullanılmıştır?

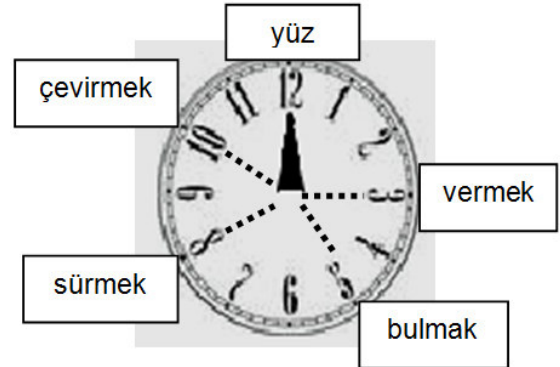
- A) Acıyan uyumuş, acıkan uyumamış.  
B) Bıçak yarası geçer, dil yarası geçmez.  
C) Ön tekerlek nereye giderse arka tekerlek de oraya gider.  
D) Dinlemekten akıl söylemekten pişmanlık doğar.

4. I. Gönü çekmek  
II. Sabrı taşmak  
III. Hayrını görmek  
IV. Ağırdan almak

Yukarıdaki deyimlerden hangisinde ünlü düşmesine uğramamış sözcük bulunmaktadır?

- A) I B) II C) III D) IV

5. Aşağıdaki saat, zamanı deyimler oluşturarak gösteriyor. Yelkovan hep “12”nin üzerindeyken akrebin bulunduğu duruma göre deyimler oluşuyor.



“Birinden ilgi ve yakınlık görmek” anlamında kullanılan deyim oluştuğunda saat, öğleden sonra kaç gösterir?

- A) Üç B) Beş  
C) Sekiz D) On

6. Kuşlar küsüp, deniz susup çiçekler solunca kavak öksüze döndü. “Bir yıldırım gelse de beni yok etse bari.” diye kötü kötü düşündüğü oluyordu.

Yazar, aşağıdakilerin hangisine insana ait bir özellik yüklemiştir?


- A) Çiçek B) Kuş  
C) Deniz D) Kavak

7. "Gece yarısı olmuş beklediği saat yaklaşmıştı. On dakika içinde bahçe kapısında olmalıydı. Yatağından sıyrılıp sabahlığını giydi , terliklerini eline aldı. Odanın kapısını aralayarak sağı solu kontrol etti. ...."

**Paragraf, aşağıdaki cümlelerden hangisiyle sürdürülürse mantık akışı bozulmamış olur?**

- A) Bahçe kapısına gelmiş olmalıydı.  
B) Bahçe kapısının kilidi açıldı.  
C) Ayaklarının ucuna basarak koridoru geçti.  
D) Elindeki esrarengiz zarfı, yabancıya uzattı.

8. Mine, bir öğretmen ağacı hazırladı. Bu ağacın her bir dalına "öğretmen" sözcüğünü çağrıştıran sözcükleri yazdı.



**Mine'nin bu ağacın dallarına kullanmaması gereken sözcüklerin tamamı hangi seçenekte yer almaktadır?**

- A) I – IV ve V  
B) I – II ve III  
C) III – IV ve V  
D) II – III ve VI

9. I. Şair, dilimizin incelik ve güzelliklerini yansıtan bir şiir yazmış.  
II. Şairin bir şiiri de bestelemiş.  
III. Bu kitapta şiirler konularına göre ayrılmış.  
IV. Şairin ikinci bir şiir kitabı da çıkmış.

**Yukarıdaki cümlelerden hangisi "öznel yargı" içermektedir?**

- A) I. B) II. C) III. D) IV.

10. Öğretmen, öğrencilerine bir metin dinletir. Öğrencilerinden dinlediklerini yorumlayarak metnin hangi türe örnek olabileceğini bulmalarını ister.

**Caner:** Sanat alanında ün yapmış bir kişi, yaşadığı olayı anlatmış.

**İrem:** Olayları olduğu gibi, gerçek haliyle anlatmış.

**Kemal:** Olayların ve gerçeklerin bilinmesi açısından önemli bir kaynak bence.

**Filiz:** Arkadaşlar dinlediğimiz bu metnin özellikleri, metnin..... türünde yazılmış olduğunu gösterir

**Öğrencilerin yaptıkları yorumların hepsi doğru olduğuna göre Filiz, noktalı yerde aşağıdakilerden hangisini söylemiştir?**

- A) öykü B) roman C) günlük D) anı

11. Günler, aylar, yıllar her zaman olduğu gibi farkına varılmadan geçip gitti. Çocukluğumun bütün şarkıları da değişti. Biz birçok eve taşındık durduk. Ben her yıl biraz daha dünyayı ve insanları tanıdım. Yeryüzünün kaç bucak olduğunu öğrendim. Ama her şeye rağmen ahşap evin sokağından geçmeye kaçındım.

Oktay AKBAL

**Aşağıdakilerden hangisi, bu metnin anlatıcısı olamaz?**

- A) Oktay AKBAL B) Birinci tekil şahıs  
C) Metnin yazarı D) İkinci tekil şahıs

12. ● istiyorsak ○ yaptıklarını  
▲ arkadaş ★ neyi  
■ olmalıyız ☼ neden  
♥ onlarla ♦ insanların  
+ anlamak

**Yukarıdaki sözcüklerin anlamlı ve kurallı bir tümce oluşturacak biçimde doğru sıralanışı hangi seçenekte verilmiştir?**

- A) ● ○ + ▲ ■ ♥ ★ ☼ ♦  
B) ♦ ★ ☼ ○ + ● ♥ ▲ ■  
C) ▲ ■ ♥ ○ ● + ♦ ☼ ★  
D) ♦ ☼ ● ○ + ★ ♥ ▲ ■

13. Aşağıdaki sözcüklerin hangisi diğerlerinden daha genel anlamlıdır?

- A) meyve B) muz  
C) elma D) Portakal

14. Aşağıdaki kelimeler sözcük sırasına dizilirse hangi kelime en sonda yer alır?

- A) para B) önlük  
C) pazar D) naylon

15. Serap, kendini konuşanların yerine koyarak onları dinliyor.

**Emel:** O bakışlardan sonra içime bir kurt düştü.  
**Mehmet:** İnan bana geleceğin içime doğmuştu.  
**Erkan:** Söyledikleriniz içime işledi.  
**Kübra:** Bu şehirde isteyerek kalmıyorum.

Serap, aşağıdakilerden hangisinin yerine kendini koyduğunda “kuşkulu” durumuna geçer?

- A) Kübra B) Erkan  
C) Mehmet D) Emel

16. Şahinim var, buzlarım var,  
Tel alışkın sazlarım var.  
Yâre gizli sözlerim var,  
Diyemiyom ele karşı.

Dizelerle ilgili aşağıdakilerden hangisi söylenmez?

- A) İlk üç dizenin sonundaki sözcükler arasında ses uyumu vardır.  
B) Dizelerdeki hece sayıları eşit değildir.  
C) Dize sonlarındaki “var” sözcükleri aynı anlamda kullanılmıştır.  
D) Dizelerin tümünde eşit sayıda sesli harf bulunmaktadır.

17. ‘Küçüktüm küçücüktüm,  
Oltayı attım denize;  
Bir üşüşüverdi balıklar,  
Denizi gördüm.’

Yukarıdaki şiirde kökü isim olan toplamda kaç sözcük vardır?

- A) 5 B) 6 C) 7 D) 8

18. Nokta Öğretmen, öğrencilerine görevlerinin neler olduğunu sorar. Her öğrenci görevlerinden birini söyler:

Ben, kısa çizgi. Dil bilgisinde kökleri ve ekleri ayırarak göstermektir, görevim.  
Ben, eğik çizgi. Tarihlerin yazılışında gün ay ve yılı gösteren sayıları birbirinden ayırmaya yararım.  
Ben parantez. Alıntıların aktarıldığı eseri ve yazarı kollarımın arasına alırım.  
Ben virgül. Bir yazının maddelerini gösteren rakam ve harflerden sonra kullanılırım.

Öğrencilerinden hangisi görev ve sorumluluğunu bilmemektedir?

- A) kısa çizgi B) eğik çizgi  
C) parantez D) virgül

19. Aşağıdaki tümcelerden hangisinde “mi” nin yazımıyla ilgili yanlışlık yapılmıştır?

- A) Sen Ankara’ya gitmekten vaz mı geçtin?  
B) Kar yağdımı yollar kapanır, şehir uykuya daldı.  
C) Bu duruma güler misin ağlar mısın?  
D) Yardım edin! İnsanlık öldü mü?

20. Aşağıdaki sözcüklerden hangisine ünlü harf getirildiğinde ses değişikliği olmaz?

- A) Çorap B) Okul C) Ayak D) Kâğıt

21. Aşağıdaki sözcüklerden hangisi birden çok yapım eki almıştır?

- A) Küçüklük B) Kitapçılık  
C) Mobilyacı D) Sözlükler

22. Zeynep’in babası büyük ünlü uyumu kuralına aykırı hiçbir sözcük kullanmayacağını belirterek söze başladı. Zeynep de babasının kullandığı, kurala uymayan her sözcüğü duyduğunda bir kez zıpladı.

“Mutluluk; yaptıklarımızdan, tuttuğumuz yoldan, sonuç ne olursa olsun memnun olmaktır. Pişmanlıklarımızın, hatalarımızın olması çok doğaldır.”

Zeynep babasının yaptığı yukarıdaki konuşma sırasında kaç kez zıplamıştır?

- A) 1 B) 2 C) 3 D) 4

23. Öğretmen – Orkun, defterini getir bakayım!  
Orkun – Buyrun öğretmenim.  
Öğretmen – ( Öğrencinin defterini karıştırır.)  
Ödevini neden yapmadın?  
Orkun – Şey, öğretmenim...!

**Yukarıdaki bölüm hangi tür bir düz yazıdan alınmıştır?**

- A) Roman  
B) Fıkra  
C) Tiyatro  
D) Günlük

24. Temiz bir çevrede yaşayabilmek “Çevremizi temiz tutalım!” demekle değil çevreyi temiz tutmakla olur.

**Bu cümleye anlamca yakın olan cümle aşağıdakilerden hangisidir?**

- A) Sağlıklı bir çevrede yaşamayı herkes ister.  
B) İnsanlar çevre temizliğine yeterince dikkat etmemektedir.  
C) Çevre sözle değil onu kirletmemekle korunabilir.  
D) İnsanlar çevreyi korumak isterlerse de bunu bir türlü başaramazlar.

25. Aşağıdaki cümlelerin hangisinde nesnel bir anlatım vardır?

- A) Her insan karanlıktan korkar.  
B) “Kibritçi Kız” Andersen Masalları’ndan biridir.  
C) Abant Gölü güzelliğiyle herkesi büyüler.  
D) Çocukları oldum olası severim.

## MATEMATİK TESTİ

1.  $66 : 6 + 3 \times 4 - 13$  işleminin sonucu aşağıdakilerden hangisidir?

- A) 10  
B) 11  
C) 21  
D) 23

2. Hüseyin, Ayşe ve Emine her gün yatmadan önce kitap okumaktadır.

Emine her gün Hüseyin’in okuduğu sayfanın 3 katı kadar Ayşe ise Hüseyin’in okuduğunun 2 fazlası kadar kitap okumaktadır. Üç arkadaş toplamda 332 sayfa kitap okuduklarında Hüseyin kaç sayfa kitap okumuştur?

- A) 132  
B) 110  
C) 66  
D) 50

3. 372, 490, 776, 898, 1005, 4477, 7777

**Yukarıdaki sayılardan kaç tanesi 2 ile kalansız bölünebilir?**

- A) 3  
B) 4  
C) 5  
D) 6

4. Aşağıdaki kümelerden hangisinin elemanları 10 ile tam bölünebilen sayılardan oluşmaktadır?

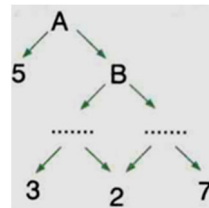
- A)  $A = \{10, 25, 50, 80, 100\}$   
B)  $B = \{25, 30, 70, 120, 140, 180\}$   
C)  $C = \{30, 50, 90, 110, 120\}$   
D)  $D = \{36, 54, 60, 90, 100\}$

5. I. Son iki basamağındaki sayısı 4 ile bölünebilen sayılar 4 ile bölünür.  
II. 6666 sayısı 9 ile kalansız bölünür.  
III. Üç basamaklı 67K sayısının 5 ile kalansız bölünmesi için k, 0 veya 5 olmalıdır.  
IV. Bütün çift sayılar 2 ile tam bölünür.

**İfadelerinden doğru olanlar aşağıdakilerden hangisidir?**

- A) I, II ve III.  
B) I, III ve IV.  
C) I, II, III ve IV.  
D) II, III ve IV.

- 6.



**Yukarıda verilen çarpan ağacına göre, aşağıdakilerden hangisi yanlıştır?**

- A)  $B = 84$  tür.  
B)  $A = 420$  dir.  
C) B nin 2 tane asal çarpanı vardır.  
D) A nın 4 tane asal çarpanı vardır.

7.  $5 \times 5 \times 5 \times 5 \times 5 \times 5$  ifadesi aşağıdakilerden hangisine eşit değildir?

- A)  $25^2$   
B)  $125^2$   
C)  $6^5$   
D)  $5^6$

8. Serdar: "Ben 8'den başlayıp 8 er 8 er sayacağım."  
Ajda Nur: "Ben 12'den başlayıp 12 şer 12 şer sayacağım."  
Alime: "Ben 10'dan başlayıp 10 ar 10 ar sayacağım."

**Bu üç öğrenci 500'e kadar kaç tane sayıyı ortak söyler?**

- A) 5      B) 4      C) 3      D) 2

9. 18 litrelik, 30 litrelik ve 42 litrelik üç farklı ayçiçeği yağı birbirine karıştırılmadan eşit ve en büyük hacimli kaplara doldurulacaktır.

**Buna göre, kullanılacak olan kabın kaç litrelik olması gerekir?**

- A) 12      B) 9      C) 6      D) 3

10. Aşağıdakilerden hangisi en küçüktür?

- A)  $\frac{31}{60}$       B)  $\frac{7}{15}$       C)  $\frac{17}{34}$       D)  $\frac{1}{2}$

11.  $\frac{1}{700000}$  ölçekli bir haritada harita üzerinde 5 cm olarak gösterilen uzaklık gerçekte kaç km dir?

- A) 7 km      B) 10 km  
C) 35 km      D) 350 km

12.  $\frac{5}{3} < \frac{5}{A}$  olduğuna göre, A yerine aşağıdakilerden hangisi yazılabilir?

- A) 5      B) 4      C) 3      D) 2

13. Kız ve erkek sayılarının eşit olduğu bir sınıfta kızların sayısının tüm sınıfın sayısına oranı aşağıdakilerden hangisidir?

- A) 1      B)  $\frac{1}{2}$       C)  $\frac{2}{3}$       D)  $\frac{3}{2}$

14.  $\frac{A}{B} = \frac{1}{5}$  ise  $\frac{A+B}{B-A}$  işleminin sonucu kaçtır?

- A)  $\frac{6}{4}$       B)  $\frac{4}{6}$       C)  $\frac{1}{2}$       D)  $\frac{2}{1}$

15. Aşağıdakilerden hangisi bir küme belirtmez?

- A) Sınıfımızdaki bazı öğrenciler  
B) Yaz mevsiminin ayları  
C) 4 ayaklı tavuklar  
D) Sınıfımızdaki gözlüklü öğrenciler

16.  $A = \{\bullet, \blacksquare, 3, \{\blacksquare, \bullet\}\}$  ise aşağıdakilerden kaç tanesi doğrudur?

- I.  $s(A)=4$   
II.  $\blacksquare \in A$   
III.  $\bullet, \bullet, \bullet \notin A$   
IV.  $\{\blacksquare, \bullet\} \in A$

- A) 1      B) 2      C) 3      D) 4

17. Tamamı Türkçe ve matematik kursuna giden 30 kişilik bir sınıftan, 16 kişi Matematik 6 kişi hem Matematik hem de Türkçe kursuna gitmektedir. Sadece Türkçe kursuna giden kaç öğrenci vardır?

- A) 25      B) 20      C) 16      D) 14

18. Beş basamaklı 17a43 sayısı 3 ile tam bölünebildiğine göre a yerine kaç farklı sayı yazılabilir?

- A) 4      B) 3      C) 2      D) 1

19. 13, 25, 21, 27, 37, 43, 91 sayılarından kaç tanesi asal sayıdır?

- A) 1      B) 2      C) 3      D) 4

20.  $17.(21 - A) = B.21 - 17.10$  ise  $A+B$  aşağıdakilerden hangisidir?

- A) 21      B) 27      C) 37      D) 17

21.

A	2
B	2
C	3
D	3
E	5
1	

Yukarıda verilen asal çarpanlar algoritmasında her harf farklı bir sayıyı göstermektedir.

Buna göre,  $A + C - E$  kaçtır?

- A) 180      B) 220  
C) 235      D) 265

22.  $10^{23}$  sayısı ile ilgili aşağıdakilerden hangisi doğrudur?

- A) Üs 10'dur.  
B) Taban 23'tür.  
C) Sayının sonunda 24 tane 0 vardır.  
D) 24 basamaklı bir sayıdır.

23.  $K = 1 \times 1 \times 1$   
 $L = 1 \times 1 \times 1 \times 1$   
 $M = 1 \times 1 \times 1 \times 1 \times 1$

Yukarıda verilenlere göre aşağıdakilerden hangisi doğrudur?

- A)  $K < L < M$       B)  $K = L = M$   
C)  $K = L < M$       D)  $K < L = M$

24. Toplamı 32 olan iki sayının birbirine oranı  $\frac{1}{3}$ 'tür.

Buna göre, küçük sayı kaçtır?

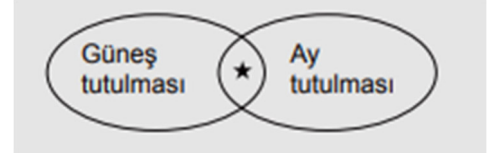
- A) 8      B) 10      C) 12      D) 14

25.  $A = \{6\text{'dan küçük doğal sayılar}\}$  ise  $A$  kümesi aşağıdakilerden hangisidir?

- A)  $\{2, 3, 4, 5\}$       B)  $\{1, 2, 3, 4, 5\}$   
C)  $\{0, 1, 2, 3, 4, 5, 6\}$       D)  $\{0, 1, 2, 3, 4, 5\}$

## FEN BİLİMLERİ TESTİ

1. Güneş ve Ay tutulmaları olaylarında pek çok durum gözlenir.



Buna göre “★” ile belirtilen durum için aşağıdakilerden hangisi söylenebilir?

- A) Dünya üzerinde dar bir alanda gözlenir.  
B) Dünya, Güneş ve Ay aynı doğrultuya geldiklerinde gerçekleşir.  
C) Uzun süre gözlenir ve çıplak gözle izlenebilir.  
D) Ay, Dünya'nın gölgesinde kalır.

2. Asteroitlerin parçalanması sonucu oluşan küçük parçaların bazıları, Dünya atmosferine girdiğinde sürtünmenin etkisiyle ısınıp yanarak buharlaşır. Bu gök cisimlerine .....I..... denir. Yanmayla tükenmeyen bazı parçalar ise yeryüzüne kaya olarak düşer. Bunlara da .....II..... adı verilir.

Yukarıdaki paragrafta boş bırakılan I ve II numaralı yerlere hangi kavramlar yazılmalıdır?

- | I         | II       |
|-----------|----------|
| A) uydu   | gök taşı |
| B) meteor | krater   |
| C) krater | uydu     |
| D) meteor | gök taşı |

3. Küçük gök cisimleri olarak da bilinen asteroitler, Güneş'in çevresinde dolanırlar. Ancak asteroitlerin iki gezegenin yörüngeleri arasında yoğun olarak bulundukları bir bölge vardır ki buraya “Asteroit Kuşağı” denir.

Buna göre, bu gezegen çifti aşağıdakilerin hangisinde verilmiştir?

- A) Mars – Jüpiter      B) Merkür – Venüs  
C) Jüpiter – Satürn      D) Uranüs – Neptün

4. Ay tutulması olayı, Ay'ın verilen evrelerinden hangisinde gerçekleşir?

- A) Yeniay B) İlk dördün  
C) Dolunay D) Son dördün

5. ▼: Güneş sisteminin en küçük gezegeni

- : Güneş'e en uzak gezegen  
■: Halkası en belirgin olan gezegen

Yukarıda birer özelliği verilen ve semboller ile ifade edilen gezegenlerin isimleri hangi seçenekte doğru verilmiştir?

- A) ▼ Venüs      ● Uranüs      ■ Dünya  
B) Merkür      Neptün      Satürn  
C) Mars      Satürn      Neptün  
D) Neptün      Uranüs      Venüs

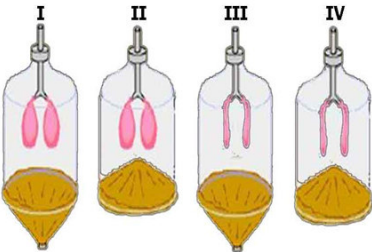
6. Aşağıda verilen gezegenlerden hangisinin halkası yoktur?

- A) Mars B) Neptün  
C) Jüpiter D) Satürn

7. Aşağıdaki seçeneklerde verilen gök cisimlerinden hangisi farklıdır?

- A) Uydu B) Göktaşı  
C) Meteor D) Asteroit

8.



Soluk alma ve verme olayı şekildeki akciğer modellerinden hangilerinde doğru olarak gösterilmiştir?

- |    | Soluk Alma | Soluk verme |
|----|------------|-------------|
| A) | III        | II          |
| B) | I          | IV          |
| C) | III        | IV          |
| D) | I          | II          |

9. Kol ve bacaklarımızda bulunan eklem çeşidi aşağıdakilerden hangisidir?

- A) Oynar eklem B) Oynamaz eklem  
C) Yarı oynar eklem D) Uzun eklem

10. Orkun: "Kanda en fazla bulunan, rengi kırmızı olan kan hücrelerine ..... denir."

Selin: "..... kanama sırasında kanın pıhtılaşmasını sağlar, pıhtılaşma için gerekli olan proteinleri üretir."

Orkun ve Selin'in kanın yapısı ve görevleri ile ilgili verdiği bilgiler yukarıdaki gibidir.

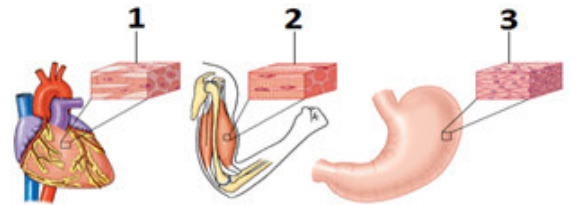
Bu ifadeler ile ilgili yer alan boşluklara sırası ile aşağıdakilerden hangileri gelmelidir?

- | Orkun             | Selin          |
|-------------------|----------------|
| A) Kan Pulcukları | Alyuvarlar     |
| B) Akyuvarlar     | Kan pulcukları |
| C) Alyuvarlar     | Akyuvarlar     |
| D) Alyuvarlar     | Kan pulcukları |

11. İskelet sisteminin görevleri ile ilgili aşağıdakilerden hangisi yanlıştır?

- A) Vücudun dik durmasını sağlamak  
B) Vücuda genel şeklini vermek  
C) Vücut ısını korumak  
D) Bazı iç organları korumak

12.



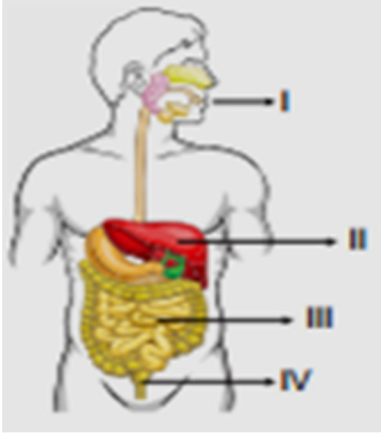
Aşağıdaki şekilde numaralandırılmış kas çeşitleri hangi şıkta doğru bir şekilde verilmiştir?

- | 1              | 2           | 3           |
|----------------|-------------|-------------|
| A) Düz Kas     | Çizgili Kas | Kalp Kası   |
| B) Kalp Kası   | Düz Kas     | Çizgili Kas |
| C) Çizgili Kas | Düz Kas     | Kalp Kası   |
| D) Kalp Kası   | Çizgili Kas | Düz Kas     |

13. Aşağıdakilerden hangisi boşaltım sistemi organı değildir?

- A) Böbrek B) Üreter  
C) Üretra D) İnce Bağırsak

14.



Şekilde sindirim sistemine ait organlardan bazıları numaralar ile gösterilmiştir.

**İşaretli bölümlerle ilgili olarak aşağıdakilerden hangisi söylenemez?**

- A) I, sindirimin başladığı yerdir.
- B) II'de sindirim yoktur.
- C) III'te sindirilen besinler kana geçer.
- D) IV, sindirim atıklarının atıldığı yerdir.

15.

Sindirim sistemindeki bazı organlar ve görevleri karışık olarak tabloda verilmiştir.

ORGAN	GÖREV
1. Karaciğer	a. Yağların kimyasal sindirimi burada başlar.
2. İnce bağırsak	b. Safra salgısını üreten organdır.
3. Kalın bağırsak	c. Besinlerin içerisinde kalan su ve mineraller burada emilir.

**Organlar, görevleri ile hangi seçenekte doğru eşleştirilmiştir?**

- A) 1 – a, 2 – b, 3 – c
- B) 1 – b, 2 – a, 3 – c
- C) 1 – b, 2 – c, 3 – a
- D) 1 – c, 2 – b, 3 – a

16.

- I. Karbonhidratlar
- II. Proteinler
- III. Yağlar
- IV. Vitamin
- V. Mineral
- VI. Su

**Yukarıdaki besinlerden hangisi ince bağırsakta sindirime uğrar?**

- A) I – II
- B) I – II – III
- C) I – II – III – IV
- D) IV – V – VI

17.

- I. Deri
- II. Kalın bağırsak
- III. İnce bağırsak
- IV. Karaciğer
- V. Böbrek

**Yukarıda verilen organlardan hangileri hem boşaltımda hem de sindirimde görevli organlardır? ve**

- A) I ve II.
- B) III ve IV.
- C) I ve V.
- D) II ve IV.

18.



**Şekildeki kan hücreleri ile ilgili aşağıdaki verilen bilgilerden hangisi yanlıştır?**

- A) Akyuvarlar vücut savunmasında görev alır.
- B) Alyuvarlar kana kırmızı rengi verir.
- C) Alyuvarlar olgunlaştıktan sonra da çekirdeklidir.
- D) Kan pulcukları kanın pıhtılaşmasını sağlar.

19.

- I. İki kulakçık ve iki karıncıktan oluşur.
- II. Kanın vücuda pompalanmasını sağlar.
- III. Yapısında sadece temiz kan bulunur.

**Kalp ile ilgili verilen bilgilerden hangileri doğrudur?**

- A) I ve II.
- B) I, II ve III.
- C) I ve III.
- D) II ve III.

20.

**İnsanda solunum sistemini oluşturan bazı yapılar şunlardır;**

- I- Soluk borusu
- II- Burun
- III- Alveol
- IV- Bronş
- V- Bronşçuk

**Havadan alınan oksijenin kana geçinceye kadar izleyeceği yol sıralaması nasıl olmalıdır?**

- A) I – II – III – IV – V
- B) II – I – IV – V – III
- C) III – V – IV – I – II
- D) V – IV – III – I – II

21. Cem, Ece, Uğur ve Kemal'in kan grupları aşağıdaki gibidir.

Cem, A Rh ( + )  
Ece, A Rh ( + )

Savaş, A Rh ( - )  
Kemal, A Rh ( - )

Buna göre, ihtiyaç durumunda Ece kimlerden kan alabilir?

- A) Yalnız Cem
- B) Yalnız Kemal
- C) Cem ve Savaş
- D) Cem ve Kemal

22. Sol karıncık → ..... I ..... → vücut hücreleri

↓  
..... II ..... ← Alt üst ana toplar damar

Şekildeki büyük kan dolaşımında I ve II yazan yerlere aşağıdakilerden hangisi gelmelidir?

- | I                     | II           |
|-----------------------|--------------|
| A) sol kulakçık       | sağ kulakçık |
| B) aort               | sağ kulakçık |
| C) aort               | sağ karıncık |
| D) akciğer atardamarı | sol kulakçık |

23. Hangi seçenekte belirtilen organların tamamı atık maddelerin vücudumuzdan uzaklaştırılmasında görevlidir?

- A) Karaciğer – Dalak – Akciğer
- B) Akciğer – Pankreas – İnce Bağırsak
- C) İnce Bağırsak – Pankreas – Deri
- D) Karaciğer – Deri – Akciğer

24. I. Ağızda  
II. Midede  
III. İnce bağırsakta

Proteinlerin kimyasal sindirimi yukarıda verilenlerin hangisi ya da hangilerinde gerçekleşir?

- A) Yalnız I.
- B) I ve II
- C) II ve III
- D) Yalnız II.

25. Besin gruplarının kimyasal sindiriminin gerçekleştiği organlar aşağıdakilerin hangisinde doğru verilmiştir?

	Karbonhidratlar	Proteinler	Yağlar
A)	Mide İnce Bağırsak	Ağız Mide	İnce bağırsak
B)	Ağız İnce bağırsak	Mide İnce bağırsak	İnce bağırsak
C)	Ağız Mide	Mide İnce bağırsak	Mide İnce bağırsak
D)	Ağız İnce bağırsak	Ağız İnce bağırsak	Ağız İnce bağırsak

## SOSYAL BİLGİLER TESTİ

1. Orta Asya'da yaşayan Türkler, yabancı bir devletin esareti altına girmektense başka bir bölgeye göç etmeyi tercih etmişlerdir.

Bu durum Türklerde aşağıdakilerden hangisine önem verildiğinin kanıtıdır?

- A) Sınırların genişletilmesine
- B) Bağımsızlığa
- C) Hukuk kurallarına
- D) Yerleşik yaşama

2. Tuğrul Bey, Dandanakan Savaşı sonrasında toplanan kurultayda eline aldığı bir oku ağabeyi Çağrı Bey'e vererek kırmasını ister. Çağrı Bey bu tek oku rahatça kırar. Ok sayısı üçe çıkınca kırmakta zorlanır. Ok sayısı dörde çıkarılınca kıramaz. Bu olayın ardından Tuğrul Bey, "Bu oklar gibi olursak her daim milletimiz var olur." der.

Bu metinden çıkarılması gereken ana fikir hangisidir?

- A) Oku, savaşlarda, ilk kez Türkler kullanmıştır
- B) Çağrı Bey en önemli hükümdardır
- C) Kurultay sadece savaşlardan sonra toplanırdı
- D) Birlik ve beraberlik bir milleti güçlü tutar

3. Kök Türk Yazıtlarında Bilge Kağan, "Tanrı beni – kağan olarak oturttu." diyerek bize Gök Tanrı inancı hakkında ipuçları verir. Türklerle göre tanrı, mutlak güç sahibi, ulu ya da yüksek ve sonsuzdur.

Metinde geçen "Tanrı beni kağan olarak oturttu." ifadesini hangi kavramla açıklarız?

- A) Kut
- B) Töre
- C) Toy
- D) Yuğ

4. Mekkeli müşrikler ile Müslümanlar ilk olarak 624 yılında Bedir Savaşı'nda karşı karşıya geldiler. Savaş Müslümanlar kazandı. Savaş sonunda esir olan Mekkeli müşriklerden okuma-yazma bilenler, "on Müslüman'a okuma-yazma öğretmeleri" şartıyla serbest bırakıldı.

**Bedir Savaşı'nın sonuçlarında altı çizili ifade Peygamberimizin (SAV) hangi konuya önem verdiğini gösterir?**

- A) Siyasi kazanç  
B) Eğitim  
C) Ekonomi  
D) Sınırların genişlemesi

5. Arap'ın Arap olmayana, Arap olmayanın Arap'a, beyazın siyaha, siyahın da beyaza hiçbir üstünlüğü yoktur. Allah katında üstünlük ancak takva ileidir. Biliniz ki mallarınız da canlarınız da aynı şekilde dokunulmazdır.

**Veda hutbesinin bu bölümünde hangi evrensel mesaja ulaşmıyız?**

- A) İnsanlar hak hukuk yönünden eşittir.  
B) Yaşama hakkı önemlidir.  
C) Özel mülkiyet hakkı korunmalıdır.  
D) Çalışanların ekonomik hakları önemlidir

6. Diplomatik belgeleri, sözleşmeleri, vasiyetleri vb. belgeleri sakladıkları ciddi bir birikimleri vardır. Tahta oyma kalıplı matbaa tekniğini kullanmışlardır. Birçok el yazması eser yanında baskı tekniğini kullanarak eserler ortaya koymuşlardır. Siyah ve kırmızı mürekkep kullanarak kâğıt üzerine yazmışlardır. Uygur medeniyetine ait izler devlet teşkilatının çok gelişmiş olduğunun bir göstergesidir. Posta teşkilatı, vergi sistemleri kurmuşlardır.

**Bu bilgilere göre;**

- I. Sosyal ve ekonomik yaşamı düzenleyen yazılı belgeler yapmaları  
II. Kitap basım tekniğini kullanmaları  
III. Tarım ve hayvancıkla uğraşmaları  
IV. Gök tanrı dinini terk etmeleri

**Uygurların yaşadıkları döneme göre gelişmiş olduklarını; Sadece bu bilgilerden hareketle hangisi ya da hangileri ile açıklamak mümkündür?**

- A) Yalnız III.  
B) I ve II.  
C) Yalnız IV.  
D) III ve IV.

7. Aşağıdakilerden hangisi Türklerin İslamiyet'i kabul etmesinde en çok etkili olmuştur?

- A) Türklerin göçebe hayat sürmeleri  
B) Türklerin savaşçı bir millet olması  
C) Türklerdeki Gök Tanrı inancının İslam dinindeki Tek tanrı inancına benziyor olması  
D) Emevilerin Arap milliyetçiliği yapmaları

8. Peygamberimizin (SAV) İslamiyet'i yaymak için yaptığı savaşların doğru sıralaması ile hangi seçenekte doğru olarak verilmiştir?

- A) Bedir – Uhud – Hendek  
B) Hendek – Uhud – Bedir  
C) Hendek – Bedir – Uhud  
D) Uhud – Bedir – Hendek

9. Ben Türk hükümdarının eşiyim. Hükümdar ülke dışında olduğu zaman onun adına ülkeyi yönetirim. Devlet işlerinde hakana yardım ederim. Kurultay toplantılarına katılırım.

**Hatunun verdiği bilgilere göre, Orta Asya Türk devletleriyle ilgili hangisine ulaşılabılır?**

- A) Toplum içerisinde eşitsizlik yoktur.  
B) Hatun da devlet yönetiminde söz sahibidir.  
C) Yönetimde tamamen kadınlar söz sahibidir.  
D) Kadınların önemsiz olduğu.

10. Hz. Muhammed (SAV) çocukları sever ve onlara şefkat gösterip, önem verirdi.

**Aşağıdakilerden hangisi peygamberimiz Hz. Muhammed'in (SAV) çocuklara verdiği önemin kanıtıdır?**

- A) İslam dinini halka anlatması  
B) Farklı dinlere inanan kişilere hoşgörülü davranması  
C) Namaz kılarken torunları onu rahatsız edecek şekilde davranışlarda bulunmalarına rağmen, namazını bitirir ve onları severdi.  
D) Bütün herkese eşit yaklaşarak kardeşçe yaşamının önemini anlatması

11. Uygurlara ait olan destan hangisidir?

- A) Ergenekon  
B) Oğuz kağan  
C) Göç  
D) Ilgarnış

12. Arap Yarımadası'nda İslamiyet'in yayılması ile birlikte;

- I. Irkçılığa son verilmiştir.  
II. Adaletle önem verilmeye başlanmıştır.  
III. Mal ve can güvenliği sağlanmıştır.

**Bu değişimlerden hangileri toplumsal birlik ve beraberliğe katkı sağlar?**

- A) Yalnız I.  
B) I ve III.  
C) II ve III.  
D) I, II ve III.

13. Türkler yapılan hangi savaş sonucu İslamiyet'i kabul etmeye başlamışlardır?

- A) Malazgirt B) Talas C) Bedir D) Uhud

14. "Türkler tarihte demiri işleyen, halıyı dokuyan ilk milletlerdendir." diyen biri sırasıyla Türklerin hangi alanlarda eserler ortaya çıkardığını ifade etmiştir?

- A) Madencilik – Dokumacılık  
B) Tarım – Dokumacılık  
C) Madencilik – Askeri  
D) Hayvancılık – Madencilik

15. Asya Hun Devletine ait olan ve Mete Han'ın hayatının anlatıldığı destanın adı nedir?

- A) Bozkurt B) Ergenekon  
C) Oğuz Kağan D) Türeyiş

16.



Aşağıdaki kavram haritasında hangi savaşın sonuçları verilmiştir?

- A) Talas Savaşı B) Dandanakan Savaşı  
C) Kadeş Savaşı D) Pasinler Savaşı

17. Orta Asya'da Türk devletlerinde ölen kişinin mezarının etrafına hayattayken öldürdüğü düşman sayısı kadar heykelcilik dikilirdi.

Bu heykelciliklere ne ad verilirdi?

- A) Şaman B) Balbal  
C) Kurgan D) Minyatür

18. Aşağıdaki yargılardan hangisi Kurultay ile ilgili değildir?

- A) Devletin siyasi, askeri ve ekonomik sorunlarının görüşüldüğü bir kuruldur  
B) Türklerde ait destanlara verilen genel isimdir.  
C) Hükümdar eşleri Kurultay görüşmelerine katılmıştır.  
D) Bir danışma meclisidir.

19. Aşağıdakilerden hangisi Göktürklerin özelliklerinden biri değildir?

- A) Türk adıyla kurulmuş ilk devlettir.  
B) Çin Seddi'ni yapmışlardır.  
C) Alfabeyi kullanmışlardır.  
D) Orhun Kitabelerini yazmışlardır.

20. Aşağıdakilerden hangisi Türklerin Orta Asya diyarından dünyanın değişik yerlerine göç etmelerini kolaylaştırmıştır?

- A) Hayvancılıkla uğraşmaları  
B) Çadırlarda yaşamaları  
C) Atı evcilleştirmeleri  
D) Güçlü ordular kurmaları

**DİN KÜLTÜRÜ VE AHLAK BİLGİSİ DERSİNİ  
OKUYANLAR AŞAĞIDAKİ SORULARI  
CEVAPLAYACAKTIR.**

21. "Hz. Muhammed'e (SAV) peygamberlik geldiğinde Mekkeliler ona hakaret ettiler, büyücü dediler, iftira attılar fakat hiçbir zaman şahsını yalancılıkla suçlayamadılar..."

Hz. Muhammed (SAV) hakkında verilen bu bilgiler peygamberlere ait hangi ortak sığata işaretmektedir?

- A) Tebliğ B) Sıdk C) Fetanet D) İsmet

22. Hz. Yusuf (AS), kendisine atılan iftiraya rağmen yapılması teklif edilen kötü davranıştan "Rabb'im! (Benim için) zindana atılmak, bunların benden istediklerinden daha iyidir!" (Yusuf suresi, 33) diyerek yüz çevirmiştir.

Onun bu davranışı peygamberlerin ortak özelliklerinden hangisine örnek gösterilebilir?

- A) Allah'ın mesajını iletme  
B) Güvenilir olma  
C) Akıllı ve zeki olma  
D) Günahtan kaçınma

23. Kur'an'ı Kerim..... yılının..... ayında, ..... gecesinde, ..... Dağı'nın ..... mağarasında indirilmeye başlanmıştır.

Yukarıdaki boşluklara sırasıyla aşağıdaki kelimelerden hangileri gelmelidir?

- A) 622 – Muharrem – Berat – Hira – Nur  
B) 622 – Ramazan – Kadir – Nur – Hira  
C) 610 – Ramazan – Kadir – Nur – Hira  
D) 610 – Recep – Kadir – Sevr – Hira

24. “İlahi kitaplar sayesinde insanlar din konusunda bilinçlenir ve Allah’ı doğru olarak tanırırlar. Ayrıca ahlaklı ve erdemli yaşamının ilkelerini kavrar, dünya ve ahrette huzur ve mutluluğa ulaşırlar.”

**Yukarıda Zehra, aşağıdaki sorulardan hangisinin cevabını vermektedir?**

- A) İlahî kitaplar insanlara neleri öğütler?  
B) Kur’an’a göre ilahî kitaplar nelerdir?  
C) İslam’ın temel kaynağı nedir?  
D) Allah niçin peygamber gönderir?

25. İnsanlar kendi akıllarıyla Allah’ın varlığını ve birliğini anlayıp bulabilirler. Fakat ona nasıl kulluk edeceklerini, emir ve yasaklarının neler olduğunu bilemezler.

**Bu durum aşağıdakilerden hangisine olan ihtiyacı ortaya çıkarmıştır?**

- A) Meleklerle  
B) Peygamberlere  
C) Öğretmenlere  
D) Cinlere

**DİN KÜLTÜRÜ VE AHLAK BİLGİSİ DERSİNİ  
OKUMAYANLAR AŞAĞIDAKİ SORULARI  
CEVAPLAYACAKTIR.**

21. Toplumda arkadaşlık, komşuluk ve akrabalık gibi değerler önemini kaybetmektedir. Bu durum;

- I. Çatışma  
II. Ayrımcılık  
III. Ön yargı

**hangisinin ya da hangilerinin toplumda görülmesine neden olmaktadır?**

- A) Yalnız I  
B) I, II ve III  
C) II ve III  
D) I ve II

22. Aşağıdakilerden hangisi sosyal bilimler arasında yer almaz?

- A) Tarih  
B) Arkeoloji  
C) Coğrafya  
D) Kimya

23. Kültürün nesilden nesile aktarılması, yaşaması ve gelişmesi dil yoluyla olur. Böylece millet hayatındaki devamlılık dil sayesinde sağlanmış olur. Kültürün bazı unsurları varlığını ve devamlılığını dile borçludur. Toplumsal yaşamın vazgeçilmezi olan değerler, örf ve âdetler, gelenek ve görenekler dil vasıtası ile nesilden nesile aktarılır. Bu yüzden Türkçemizin korunması ve geliştirilmesi, kültürün yaşaması için önemlidir.

**Aşağıdakilerden hangisi kültürümüzün yaşaması için önemli olan unsurlardan değildir?**

- A) Türkçeyi yabancı kelimelerden arındırmalıyız  
B) Milli tarih bilincimizi geliştirmeliyiz  
C) Örf ve adetlerimizi değiştirmeliyiz  
D) Toplumsal dayanışmayı arttırmalıyız

24. Ahmet Bey, gün boyu öğretmen rolünü üstlendikten sonra akşam pazara uğradığında müşteri rolündedir. Evine geldiğinde ise karısına karşı eş, çocuklarına karşı baba rolündedir. Evlerine misafir gelirse o anki eş ve baba rolüne ek olarak bir de ev sahibi rolünü de üstlenir. Bu örnekte de görüldüğü gibi biz de toplumun küçük bir modeli olan ailemizin içinde ve toplumda .....

**Paragrafın hangi cümleyle devam etmesi doğru olur?**

- A) Aynı anda birden fazla rol sahibi olabiliriz.  
B) Rollerimiz hiçbir zaman değişmez.  
C) Bireysel çıkarlarımızı üstün tutmalıyız.  
D) Rollerimiz bize görev yüklemes.

25. Önyargı; Bir kişi ya da olaya ilişkin yeterli bir bilgi edinmeden, önceden, peşin bir karara varmış olma durumudur.

**Buna göre, aşağıdakilerden hangisi önyargının nedenleri arasında gösterilemez?**

- A) Farklılıklara saygılı olmamak  
B) Toplumsal teması arttırmak  
C) Empati kurmamak  
D) Karşımızdaki kişiyi yeterince tanımamak

**TESTLER BİTTİ.  
CEVAPLARINIZI KONTROL EDİNİZ.**