

ALTINÇAĞ ORTAOKULU
2019 – 2020 EĞİTİM ÖĞRETİM YILI
6. SINIF İOKBS DENEME SINAVI –2

TÜRKÇE TESTİ

1. Bir araştırmada hastanelerde görev yapan ebeler, hemşireler, pratisyen hekimler, kadın hastalıkları ve doğum, üroloji, genel cerrahi uzmanı hekimler araştırılmıştır. Unvan dağılımları, fiili çalışma ve eğitim durumları incelenmiştir.

Araştırmada aşağıdaki konulardan hangisi incelenmemiştir?

- A) Fiili çalışma
B) Ücret dağılımları
C) Unvan dağılımları
D) Eğitim durumları

2. "Topluluktan uzaklaşmamak gerektiğini" anlatan atasözü aşağıdakilerden hangisidir?

- A) Zorla güzellik olmaz.
B) Tembele iş buyur, sana akıl öğretsin.
C) Sürüden ayrılanı kurt kapar.
D) Haddini bilmeyene bildirirler.

3. Aşağıdakilerin hangisinde deyim açıklamasıyla birlikte verilmemiştir?

- A) Bu işin kafa yorduğunu söylüyor, yardım istiyordu.
B) Gereksiz yere konuşan, çenesi düşük bir insandı.
C) Bu durum onu çok üzüyor, içi kan ağlıyordu.
D) Yemeyi çok seven boğazına düşkün biryidi.

4. Korkma, sönmez bu şafaklarda yüzen al sancak

Altı çizili sözcüğün eş seslisi hangi seçenekte verilmiştir?

- A) Bakkaldan eve biraz şeker al.
B) Al yanaklı, sevimli, güzel bir çocuktü.
C) Dalgalanır al bayrağım gökyüzünde.
D) Cebinden al al bilyeler çıkardı, bana uzattı.

5. Bence mimari eserler öteki sanatlardan daha net olarak bir devrin özelliklerini yansıtır. Bir devrin her cephesiyle bütün hayatı, kültürü, sanatı, görgüsü, nesi varsa hepsi o aynadadır. Bizanslının entrikalarını Bizans mimarisi açığa vurmuyor mu? Gizli kapıları, gizli dehlizleri ve menfezleriyle... Oysa Türk mimarisi soyluluğun, açıklığın, aydınlığın ifadesidir.

Parçanın anlatımında aşağıdakilerin hangisine başvurulmuştur?

- A) Tanık gösterme
B) Örneklendirme
C) Tanımlama
D) Betimleme

6. Kapının önünde duran eskiciye baygın, baygın

1
baktı. Eskici, onu hiç umursamadan işini yapıyordu.
2
Eski kapları, poşetleri arabasına koydu. Eskici, diye
3
bağırarak yoluna devam etti. 4

Yukarıdaki paragrafta hangi virgölün kullanımı gereksizdir?

- A) 1
B) 2
C) 3
D) 4

7. I. Türk Dil Kurumu'nun yeni başkanı göreve başladı.
II. Mehmet'in Dayısı en sonunda sınavı kazanmış.
III. 23 Mayıs Çarşamba günü müzik dinletisi var.
IV. Modern pentatlonda Türkiye 1'incisi oldu.
V. Bu güzel günümüz de seni de aramızda görmek isteriz.

Numaralı cümlelerin hangilerinde yazım yanlışı yoktur?

- A) I ve IV.
B) II ve III.
C) IV ve V.
D) III ve IV.

8. (I) O sıralar, hakkımda çeşitli eleştiriler çıktı. (II) Biz, toplum olarak sınıflandırmaya çok meraklıyız. (III) Oysa sanat bunu hiç kaldırmaz. (IV) Kendim için belirlediğim anlayışa hep bağlı kaldım. (V) Bir ürünle karşılaştığımız zaman önce onu anlamaya çalışmalıyız.

Yazar, bu parçada asıl anlatmak istediğini numaralanmış cümlelerden hangisinde belirtmiştir?

- A) II.
B) III.
C) IV.
D) V.

9. 1. kendi
2. bazı
3. tutarlar
4. sorumlu
5. insanlar
6. hatalarından
7. başkalarını

Yukarıdaki sözcüklerden anlamlı bir cümle oluşturulduğunda sıralama nasıl olur?

- A) 7 – 2 – 4 – 5 – 1 – 6 – 3
B) 2 – 5 – 1 – 6 – 7 – 4 – 3
C) 4 – 5 – 1 – 7 – 2 – 6 – 3
D) 5 – 2 – 1 – 7 – 6 – 4 – 3

10. Garibim
Ne bir güzel var
Avutacak gönlümü
Bu şehirde,
Ne de tanıdık bir çehre.
Bir tren sesi
Duymaya göreyim
İki gözüm iki çeşme.

Bu şiirin ana duygusu aşağıdakilerden hangisidir?

- A) Yalnızlık
B) Hayranlık
C) Merak
D) Mutluluk

11. Gölgeli ve kuytu yollardan geçtik,
1
Göründü bir ara sonsuz mavilik...
2
Bir mutluluk sardı gönülleri,
3
Bulduk karşımızda Karadeniz'i.
4

Şiirdeki numaralandırılmış sözcüklerden hangisi yapım eki almamıştır?

- A) 4
B) 3
C) 2
D) 1

12. “yalnız” kelimesi hangi cümlede “sadece” anlamında kullanılmıştır?

- A) Dün de evde yalnızdım.
B) Bu soruya yalnız Ramazan doğru cevap verebilir.
C) Kitabı veririm yalnız yarına getirmek şartıyla.
D) Yalnız insanları hep huzurevlerine bırakıyorlar.

13. “ - - - - anlamak - - - - anlamaktan iyidir.”

Bu cümlede boş bırakılan yerlere aşağıdakilerden hangisinde verilenler getirilmelidir?

- A) Zor – çok
B) Kötü – doğru
C) Az – ters
D) Yanlış – güç

14. Aşağıdaki cümlelerin hangisinde neden – sonuç ilişkisi vardır?

- A) Dün gece çocukları hastalandığı için acile gittiler.
B) Can dostunu görmek için 24 saatlik yolculuğa katlandı.
C) Dikkatli olursan koşul cümlesini bulursun.
D) Herkes gol atmak maksadıyla forvete koştu.

15. (I) Bugün öğleden sonra Venedik’e geldim. (II) Bern’den çıkarken sert bir kar fırtınası uğurladı bizi. (III) Trenimiz iki saat kadar aktarlalar arasında ilerledi. (IV) İçime bir gariplik, yalnızlık duygusu çökmüştü birdenbire. (V) Dışarıya bakmak istemiyordum.

Yukarıda numaralandırılmış cümlelerin hangisinden itibaren yazar, cümleye duygularını katmıştır?

- A) II. B) III. C) IV. D) V.

16. Hangi cümledeki altı çizili sözcük “mecaz” anlamda kullanılmıştır?

- A) Kapıya iki kat boya vurdum.
B) Burada zengin maden yatakları var.
C) Derin hayallere daldı.
D) Ben yalnız milli takımını tutarım

17. Aşağıdaki cümlelerin hangisinde “ipim” sözcüğüne benzer bir iyelik eki kullanılmamıştır?

- A) Akşamüstü ince elbisemle biraz üşüdüm.
B) “Hanım bak, ince bir yağmur çiseliyor.
C) Keçimi ince bir iple bağlamaya çalışıyordum.
D) Arkadaşımı görünce çok heyecanlandım.

18. (I) Bilim ve teknik son yıllarda, yapılan buluşlar ve ilerlemelerle insanoğluna uzun yaşama olanağını sağlamaya çalışmaktadır. (II) Bunun sonucu olarak, insanlar, bugün öldürücü hastalıklara, salgınlara karşı daha iyi korunmaktadırlar. (III) Bilim ve tekniğin başarısı saymalıyız bunu. (IV) Bunun yanında bilim ve tekniğin kimi olumsuz yanlarını da gözümüzde büyütmemeliyiz. (V) Her ikisinin de olumsuz yanları vardır. (VI) Çünkü bilim ve tekniğin parçaladığı atomu, insanlığın yararına ya da zararına kullanmak insanın elindedir.

Yukarıdaki numaralanmış cümlelerden hangisi düşüncenin akışını bozmaktadır?

- A) II B) III C) IV D) V

19. İnsanın sosyal destek bulabilmesi, örgütsel yapının, "sosyal çalışma ortamı" sağlayacak tarzda tasarılanmasına bağlıdır. Sosyal destek; işe odaklanma, özel yaşamda mutlu olma, güven hissi, olumsuz düşüncelerden kurtulma ve genel olarak sorunlarla başa çıkma yeteneğini artırır.

Parçaya göre sosyal destekle ilgili olarak hangisi yanlıştır?

- A) Örgütsel yapı uygun tarzda tasarılanmalıdır.
B) Sosyal destek, güven hissi verir.
C) Sosyal destek, olumsuz düşünme yeteneğini artırır.
D) Sosyal destek, sorunlarla başa çıkma yeteneğini artırır.

20. Ey şimdi süzgülün, rüzgârlarda dalgalı;
Barışın güvercini, savaşın kartalı
Yüksek yerlerde açan çiçeğim.
Senin altında doğdum.
Senin altında öleceğim.

Yukarıdaki dördlükte "bayrak" aşağıdakilerden hangisine benzetilmemiştir?

- A) Güvercin B) Kartal
C) Rüzgâr D) Çiçek

21. Aşağıdaki atasözlerinin hangisinde altı çizili kelime yapım eki almıştır?

- A) Hamama giren terler
B) Sakla samanı gelir zamanı.
C) Can boğazdan gelir.
D) Fakirlik ayıp değil, tembellik ayıp.

22. Kral,
– Bir örtü istiyorum, dedi gökyüzüne. Hem de hemen! Çok güzel bir örtü olsun!
Derken kar yağmaya başladı. Kar iri iri, bembeyaz taneler hâlinde yağdı.
– İşte örtün, dedi gökyüzü ve toprağın üzerine ışıltılı bir parıltı verdi.
– Teşekkürler, dedi Kral şaşkınlıkla.

Bu parçanın dil ve anlatımıyla ilgili aşağıdakilerden hangisi söylenemez?

- A) Konuşurma sanatı kullanılmıştır.
B) İkilemelerden yararlanılmıştır.
C) Tanımlamaya başvurulmuştur.
D) Anlatım 3. kişi ağzından yapılmıştır.

23. "Bilmek" sözcüğü aşağıdaki cümlelerin hangisinde "tanımak" anlamında kullanılmıştır?

- A) İlk önce bildiğin soruları yanıtla.
B) Bildiğin gibi değil o çocuğun hareketleri.
C) Beni bilen herkesi doğum gününe çağırdım.
D) Ne zaman geleceğini ben de bilmiyorum.

24. (1) Empati, bir insanın, kendisini karşısındaki insanın yerine koyarak onun duygularını ve düşüncelerini anlamasıdır. (2) Empati kurarsak diğer insanlarla ilişkilerimiz güçlenir. (3) Bize yapılan bir davranışı anlamak için çaba gösteririz. (4) Bu, çok değerli bir davranıştır.

Yukarıdaki metinle ilgili olarak hangisi yanlıştır?

- A) 1.Cümle tanım cümlesidir.
B) 2.Cümle koşul cümlesidir.
C) 3.Cümle amaç cümlesidir.
D) 4.Cümle neden – sonuç cümlesidir.

25. Böyle soru olur mu? Elbette severim; sevmeseydim bu gazeteleri, bu kitapları almaz, bu satırları da okumazdım. Her kim olursa olsun bir sanatçının seslendiği kimseler kesinlikle okumayı seven kimselerdir. Ama kimisi çok kimisi az okur. Ben de yolumu çizerken özellikle şunu söylemek istiyorum, okumayı sevmek en güzel hazine size.

Bu parça aşağıdaki sorulardan hangisine karşılık söylenmiş olabilir?

- A) Gazete okumak insanlara faydalı olur mu?
B) Okumayı seven bir yazar mısınız?
C) Okumak zor bir alışkanlık mıdır?
D) Gazeteleri mi, dergileri mi okumayı tercih ediyorsunuz?

MATEMATİK TESTİ

1. $17 + (9-7) \cdot 9$ işleminin sonucu aşağıdakilerden hangisidir?

- A) 25 B) 35 C) 45 D) 52

2. 18.102

Yukarıdaki çarpma işleminin, çarpmanın çıkarma işlemi üzerine dağılma özelliği kullanılarak çözümlü aşağıdakilerden hangisidir?

- A) $18.100 - 18.2$ B) $18.100 + 18.2$
C) $18.104 - 18.2$ D) $18.102 - 18.2$

3. Üç basamaklı 1a7 sayısı 3 ile tam bölünebildiğine göre, a yerine yazılabilecek en küçük sayı kaçtır?

- A) 0 B) 1 C) 2 D) 3

4. Uzunlukları 7m ve 9 m olan iki boru çeşidi ile bir sulama kanalı yapılacaktır. Bu sulama kanalının uzunluğunun 400 m ile 500 m arasında olduğu bilindiğine göre bu kanal kaç metre olmalıdır?

- A) 441 B) 442 C) 443 D) 445

5. Aşağıdakilerden hangisi küme belirtir?

- A) Çiçekçideki güzel kokulu çiçekler
B) Türkiye'nin bazı illeri
C) Sınavdaki kolay sorular
D) İstanbul'un ilçeleri

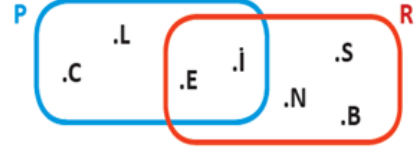
6. $10^2 \times 3^2$ işleminin sonucu kaçtır?

- A) 109 B) 400 C) 750 D) 900

7. 48 doğal sayısının asal çarpanlarının, çarpım halinde yazılmış şekli aşağıdakilerden hangisidir?

- A) $2^3 \cdot 3^2$ B) $2^4 \cdot 3^2$
C) $2^4 \cdot 3^1$ D) $2^4 \cdot 3^0$

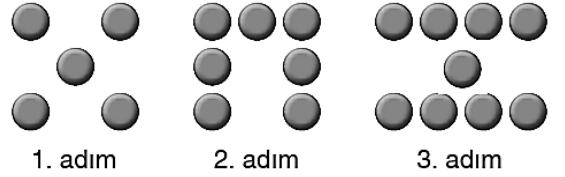
8.



Verilen şemaya göre P U R kümesi aşağıdakilerden hangisidir?

- A) { C, L, N, S, B } B) { S, B, N, L, C }
C) { E, İ } D) { N, S, C, L, İ, E, B }

9.



Aşağıda ilk üç adımı verilen örüntünün kuralı aşağıdakilerden hangisidir?

- A) $5n$ B) $2n + 1$
C) $2n + 3$ D) $5n + 2$

10. Aşağıdaki ifadelerden hangisi yanlıştır?

- A) Çift olan tek asal sayı 2'dir.
B) Bir asal sayının kendisinden farklı bir asal çarpanı vardır.
C) Bir asal sayının 2 tane böleni vardır.
D) İki asal sayının toplamı her zaman asal sayı olmaz.

11. $5 \cdot (6 + A) = 5 \cdot 6 + 5 \cdot 8$ ise, A'nın değeri kaçtır?

- A) 5 B) 6 C) 7 D) 8

12.

A	2
B	2
C	3
D	3
E	5
F	5
1	

Yukarıda A asal sayısı çarpanlarına ayrılmıştır.

Buna göre, A sayısı kaçtır?

- A) 100 B) 200 C) 600 D) 900

13. $14 + 14 : 14 \square 18 : 3 \cdot 3$

$$5 \times 5 - 5 \times 4 \square 6 \times 4 - 4 \times 5$$

Yukarıda verilen karşılaştırmada boş bırakılan yerlere aşağıdakilerden hangisi yazılmalıdır?

	1. Kutu	2. Kutu
A)	<	<
B)	<	>
C)	>	<
D)	>	>

14. $18 () 5 () 3 () 8 = 25$

Yukarıda verilen eşitliğin doğru olabilmesi parantez içlerine sırasıyla hangi işlemler gelmelidir?

- A) +, x, - B) x, +, -
C) +, x, + D) -, x, +

15. $B.A = 35$, $C.A = 20$ ise, $(B - C).A$ kaçtır?

- A) 15 B) 20 C) 35 D) 55

16. 4 adım ileri 1 adım geri atarak ilerleyen bir kişi, toplam 250 adım attığında, başladığı noktadan kaç adım ilerlemiş olur?

- A) 120 B) 130 C) 140 D) 150

17. 537A sayısının 9 e tam bölünebilmesi için A yerine hangi rakam yazılabilir?

- A) 1 B) 2 C) 3 D) 4

18. 75 Sayısının çarpanlarından kaç tanesi asal sayı değildir?

- A) 1 B) 2 C) 3 D) 4

19. 9A37 sayısının 3'e bölünebilmesi için A yerine aşağıdaki hangi rakamlar yazılamaz?

- A) 2 B) 5 C) 8 D) 9

20. 4 kilogramı 20 TL olan elmadan 3 kilogram ve 6 kilogramı 18 TL olan armuttan 8 kilogram alan Serdar, kasaya 50 TL nakit ödeme yapmıştır.

Buna göre Serdar, kaç TL para üstü alır?

- A) 11 B) 29 C) 39 D) 41

21. Elindeki kitabın ilk gün 29 sayfasını okuyan bir öğrenci bundan sonraki her gün bir önceki günden 2 sayfa fazla okuyarak kitabın tamamını 6 günde bitirmiştir.

Buna göre kitabın tamamı kaç sayfadır?

- A) 211 B) 204
C) 197 D) 189

22. Pazardan kilosu 5 lira olan üzüm ile kilosu 4 lira olan erikten 3'er kilo alan bir kişinin ödeyeceği miktar aşağıdakilerden hangisi ile ifade edilir?

- A) $3.5 + 3.4$ B) $4.5 - 4.3$
C) $3.(5 - 4)$ D) $4.(5 + 3)$

23. $A = 30$, $B = 15$ ve $A.C + B.C = 180$ ise, C kaçtır?

- A) 1 B) 2 C) 3 D) 4

24. $12.16 - 8.16 = (12 - 8) . B$ ise, B nin değeri kaçtır?

- A) 4 B) 8 C) 12 D) 16

25. Çarpımları 132 olan ardışık iki sayının toplamı kaçtır?

- A) 23 B) 25 C) 27 D) 29

FEN BİLİMLERİ TESTİ

1. Aşağıdaki şekilde Dünya'nın ve Ay'ın konumları verilmiştir.



Ay kaç numaralı konumda olursa Ay tutulması gerçekleşir?

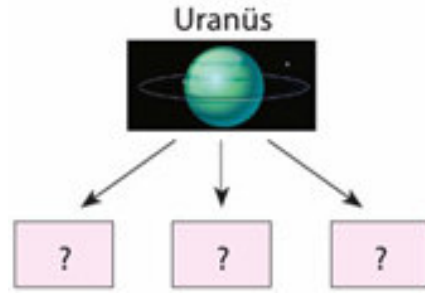
- A) 4 B) 3 C) 2 D) 1

2. 1. Kemiklerin aşınmasını önler.
2. Boyuna büyümeyi sağlar.
3. Kan hücreleri üretir.

Yukarıdakilerden hangileri kemiklerin uç kısmını örten kıkırdak dokunun görevleri arasındadır?

- A) Yalnız 1
B) 1 ve 2
C) 1 ve 3
D) 1, 2 ve 3

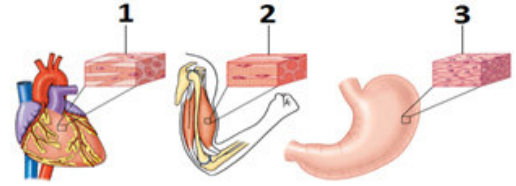
3. Aşağıdaki şemada "?" ile gösterilen yerlere Uranüs'ün özellikleri yazılacaktır.



Buna göre, aşağıdaki bilgilerden hangisinin şemaya yazılması yanlış olur?

- A) Güneş'e uzaklık açısından 7. gezegendir.
B) Güneş etrafında yörüngesinde yuvarlanan bir vantil gibi yan yatmış olarak döner
C) Güneş Sistemi'nin en fazla uyduya sahip olan gezegendir.
D) Güneş Sistemi'nin 3. büyük gezegendir.

4. Aşağıdaki şekilde numaralandırılmış kas çeşitleri hangi şıkta doğru bir şekilde verilmiştir?



- 1 2 3
A) Düz Kas Çizgili Kas Kalp Kası
B) Kalp Kası Düz Kas Çizgili Kas
C) Çizgili Kas Düz Kas Kalp Kası
D) Kalp Kası Çizgili Kas Düz Kas

5. I. Ağız
II. Böbrek
III. Kalp
IV. Akciğer
V. Mide

Yukarıda verilen organlardan kaç tanesi sindirim sisteminde görevlidir?

- A) 2 B) 3 C) 4 D) 5

6. İskelet sisteminin görevleri ile ilgili aşağıdaki-lerden hangisi yanlıştır?

- A) Vücudun dik durmasını sağlamak
- B) Vücuda genel şeklini vermek
- C) Vücut ısısını korumak
- D) Bazı iç organları korumak

7. **K:** Kol ve bacaklarda bulunur ve hareketi sağlar.
L: Omurlar arasında bulunur ve hareket yeteneği kısıtlıdır.
M: Kafatasında bulunur ve hareket yeteneği yok denecek kadar azdır.

K, L ve M yapıları ile eklem türleri arasında doğru eşleştirme aşağıdakilerden hangisidir?

- | | <u>K</u> | <u>L</u> | <u>M</u> |
|---------------|------------|------------|------------|
| A) Oynar | Yarı Oynar | Oynamaz | Oynamaz |
| B) Oynamaz | Oynar | Yarı Oynar | Oynamaz |
| C) Yarı Oynar | Oynar | Oynamaz | Yarı Oynar |
| D) Oynar | Oynamaz | Yarı Oynar | Oynamaz |

8. Aşağıdakilerden hangisi destek ve hareket sisteminin sağlığını olumsuz etkiler?

- A) Yeterli ve dengeli beslenme
- B) Dik oturma
- C) Ağır yükleri beli bükerek kaldırma
- D) Yaşa uygun sportif faaliyetler yapma

9. Aşağıdakilerden hangisi kemik zarının görevlerinden birisi değildir?

- A) Kemiğin onarımını sağlamak
- B) Kemiğin boyuna büyümesini sağlamak
- C) Kemiğin beslenmesini sağlamak
- D) Kemiğin enine büyümesini sağlamak

10. Küçük kan dolaşımı ile hangi olay gerçekleştirilir?

- A) Kalp atışının artırılması
- B) Kanın temizlenmesi
- C) Vücuda kan dağıtması
- D) Doku hücrelerine besin gönderilmesi

11. İskelete bağlı çizgili kaslarımız ile düz kaslarımızın özellikleri ile ilgili olarak, aşağıdaki eşleştirmelerden hangisi yanlıştır?

- | <u>Çizgili kas özelliği</u> | <u>Düz kas özelliği</u> |
|-----------------------------|-------------------------|
| A) İstemlidir. | İstemsizdir. |
| B) Dilde bulunur | Midede bulunur. |
| C) Hiç yorulmaz | Zamanla yorulur |
| D) Hızlı kasılır | Yavaş kasılır |

12. Büyük moleküllü besin içeriklerinin hücrelerimizin kullanabileceği kadar küçük moleküllere dönüştürülmesidir.

Yukarıda verilen ifade aşağıdaki kavramlardan hangisini açıklamaktadır?

- A) Boşaltım
- B) Sindirim
- C) Dolaşım
- D) Solunum

13. Mide bezlerinden salgılanan enzimler aşağıdaki besinlerden hangisinin kimyasal sindiriminde rol oynar?

- A) Yağ
- B) Protein
- C) Nişasta
- D) Karbonhidrat

14. İnsanda kırmızı kan hücreleri kemikte bulunan hangi yapıda üretilir?

- A) Kemik zarı
- B) Sert kemik dokusu
- C) Süngerimsi kemik dokusu
- D) Kemikleri birbirine bağlayan eklemler

15. Aşağıdakilerden hangisi kana kırmızı renk veren alyuvar kan hücresi üreten merkezidir?

- A) Kemik zarı
- B) Kan damarı
- C) Sarı Kemik iliği
- D) Kırmızı kemik iliği

16. Aşağıda verilen eklem çeşitleri ve örneklerinden hangisi yanlıştır?

- A) Oynar eklem – el ve ayak bilekleri
- B) Yarı oynar eklem – kafatası kemikleri
- C) Oynamaz eklem – kuyruk sokumu
- D) Yarı oynar eklem – omurlar arası

17. Aşağıdaki kemiklerin hangisinde sarı kemik iliği vardır?

- A) Kaval kemiği
- B) Kaburga kemikleri
- C) Kafatası kemikleri
- D) Omurga kemikleri

18. Aşağıda eklem isimleri ve çeşitlerini yazarak eşleştiren bir öğrenci hangi eşleştirmeyi yanlıştır yapmıştır?

- A) Oynamaz eklem – kafatası eklemi
- B) Yarı oynar eklem – omurlar arası eklem
- C) Yarı oynar eklem – Kol ve bacak eklemleri
- D) Oynar eklem – Parmak eklemleri

19. Tükürük ve pankreas öz suyunun ortak özelliği aşağıdakilerden hangisidir?

- A) Ağızda salgılanmaları
- B) Karbonhidratları sindirebilmeleri
- C) Fiziksel sindirim yapmaları
- D) Enzimlerinin midede çalışması

20. Basit bir hareket gerçekleştirmek için bile kaslar ve kemikler birlikte çalışır. Metal bir parayı elimizde tutmamızı veya 5 kg ağırlığındaki bir çantayı kaldırmamızı sağlayan güç, kaslarımız ve kemiklerimizin etkileşimiyle ortaya çıkar.

Buna göre aşağıdakilerden hangisi doğrudur?

- A) Kaslar vücudun hareketini kontrol eder.
- B) Kemikler kaslarımıza destek olur.
- C) Bir yerden başka bir yere, kaslarımızın ve kemiklerimizin hareketleriyle gideriz.
- D) İnsanlarda bulunan kaslar, kemiklere bağlıdır.

21. Sindirim sistemine yardımcı organ olan pankreas için verilen bilgilerden hangisi yanlıştır?

- A) Midenin yanında bulunur.
- B) Kimyasal sindirim için enzim üretir.
- C) Enzimleri mideye boşaltır.
- D) Pankreas özsuyu denilen bir sıvı salgılar.

22. Gezegenlerin Güneş'e olan uzaklıkları, onları birbirinden ayırt etmemizi kolaylaştırır.

Buna göre, Güneş'e olan uzaklıkları $X > Y > Z$ şeklinde olduğu bilinen gezegenlerin isimleri aşağıdakilerden hangisi gibi olabilir?

	X	Y	Z
A)	Jüpiter	Mars	Dünya
B)	Dünya	Mars	Jüpiter
C)	Merkür	Venüs	Dünya
D)	Dünya	Venüs	Mars

23. Dünya'dan yaklaşık 29 günde bir yeni ay evresi görülür. Ancak her yeni ay evresinde Güneş tutulmasının görülmemesinin nedeni aşağıdaki ifadelerden hangisi ile açıklanabilir?

- A) Ay'ın, Güneş ile Dünya arasına her zaman girmesi
- B) Güneş, Ay ve Dünya'nın her zaman aynı doğrultuda olmaması
- C) Dünya'nın gölgesinin Ay'ın üzerine düşmesi
- D) Ay'ın Güneş ışınlarını her zaman engellememesi

24. ■ Güneş tutulması, Ay..... evresindeyken gerçekleşir.
■ Ay tutulması gerçekleşmesi için Dünya, Ay ve Güneş'in doğrultuda konumlanmaları gerekir.
■ tutulması esnasında Ay, Dünya ile Güneş arasındadır.

Yukarıdaki cümlelerde boş bırakılan yerlere sırasıyla aşağıdaki sözcüklerden hangileri yazılmalıdır?

- A) dolunay – aynı – Güneş
- B) yeni ay – aynı – Güneş
- C) dolunay – farklı – Ay
- D) yeni ay – farklı – Ay

25. Aşağıda verilen gezegenlerden hangisinin halkası yoktur?

- A) Satürn
B) Uranüs
C) Neptün
D) Mars

SOSYAL BİLGİLER TESTİ

1. Sorumluluk kişinin kendi davranışlarını ve yetki alanına giren bir olayın sonuçlarını üstlenmesidir.

Aşağıdakilerden hangisi sorumluluğa örnek gösterilemez?

- A) Kanunlara uyma
B) Çevreyi temiz tutma
C) Seyahat özgürlüğü
D) Eve zamanında gelme

2. Aşağıdakilerden hangisi sorunlarımızın çözümünde kullanacağımız yöntemlerden birisi olamaz?

- A) Yetkili kurumlara başvurarak çözmeye çalışmak
B) Sorunla ilgili dilekçe vermek
C) Sorunu görmezden gelmek
D) Bakanlık telefonlarını arayarak yardım istemek

3. Aşağıdakilerden hangisi doğuştan sahip olabileceğimiz rollerden biridir?

- A) Kardeş
B) Futbolcu
C) Öğretmen
D) Öğrenci

4. Maddi zorluk çeken öğrencilere destek amacıyla hangi sivil toplum kuruluşu kurulmuştur?

- A) Kızılay
B) RTÜK
C) Mehmetçik Vakfı
D) Türk Eğitim Vakfı

5. Aşağıdakilerden hangisinde bir olayın çok boyutluluğu anlatılmıştır?

- A) Her yıl çok sayıda insanı trafik kazasında kaybediyoruz.
B) Aşırı hız, kuralların ihlal edilmesi, yolların yetersiz olması ve dikkatsizlik trafik kazalarına neden olabilir.
C) Ülkemizdeki otoyolların daha geniş yapılması trafik kazalarını azaltacaktır.
D) Yolcu otobüslerinin karıştığı kazalarda daha fazla can kaybı yaşanmaktadır.

6. Bazı sosyal roller bireyin aldığı eğitim, yaptığı çalışmalar ve elde ettiği başarılar sonucunda değişir

Buna göre;

- I. Üniversiteden mezun olup mühendis olmak
II. Sınıf başkanı olmak
III. İzci lideri olmak
IV. Yeni doğan kardeşine abi ya da abla olmak

gibi rollerden hangileri bu açıklamaya uymaz?

- A) Yalnız IV.
B) I ve II.
C) II ve III.
D) I, II ve III.

7. Emeviler Dönemi'ndeki aşağıdaki uygulamalardan hangisi halifeliğin saltanata dönüştürüldüğünün göstergesidir?

- A) Arapçayı resmi dil ilan etmeleri
B) Emevi halifesi Muaviye'nin oğlu Yezid'i halife ilan etmesi
C) İslam Devletini en geniş sınırlarına ulaştırmaları
D) Müslümanlara karşı ırkçı bir yaklaşım içinde olmaları

8. Çin'in Şian şehrinde başlayıp Anadolu'ya oradan da Avrupa'ya kadar uzanan tarihi ticaret yolu hangisidir?

- A) Baharat Yolu
B) Kral Yolu
C) İpek Yolu
D) Kürk Yolu

9. Kültür bir toplumun devamı için önemli bir unsurdur. Kuşaktan kuşağa aktarılan ve bir toplumu diğer toplumlardan ayıran hayat tarzı o toplumun millî kültürüdür. Millî kültür aynı zamanda millî kimliği oluşturur. Kültür, millî birlik ve beraberliğe katkı sağlar

Yukarıda verilen açıklamaya göre aşağıdakilerden hangisi Milli Kültürün unsurlarındandır?

- A) Dil
B) Din
C) Tarih
D) Hepsini

10. **Veraset Sistemi;** ülkenin hanedanın ortak malı sayılmasına denir. İlk Türk devletlerinde kullanılan bu uygulamayla ölen hakanın yerine ailenin tüm erkek bireyleri tahta geçme hakkına sahiptirler.

Buna göre, hangisi veraset sisteminin olumsuz sonuçlarındandır?

- A) Ülke topraklarının kısa sürede genişlemesine
B) Deneyimli hakanların yönetime geçmesine
C) Türkler arasında birlik ve beraberliği sağlamıştır
D) Taht kavgalarına ve Türk devletlerinin kısa sürede yıkılmalarına neden olmuştur.

11. Eski Türkler arasında Gök Tanrı inancı yaygındı. Ölen kişileri eşyaları ile birlikte yuğ adı verilen bir törenle gömerlerdi. Ölen kişi "kurgan" denilen mezara değerli eşyaları ile birlikte gömülürdü.

Yukarıda verilen metinde asıl anlatılmak istenen aşağıdakilerden hangisidir?

- A) Türkler ölümden sonraki yaşama inanırlar.
B) Türkler konargöçer bir yaşam sürerler.
C) Türklerde törenler büyük öneme sahiptir.
D) Bu gelenekler günümüzde de devam etmektedir.

12. "İzmir ve çevresinde kurulmuştur, ilk Türk denizci beyliğidir." cümlesinde bahsedilen Türk beyliği aşağıdakilerden hangisidir?

- A) Candaroğulları Beyliği
B) Çaka Beyliği
C) Karamanoğulları Beyliği
D) Karesioğulları Beyliği

13. İlk Türk Devletlerinde, devleti yöneten kağanlar önemli kararları meclise danışarak alırlardı. Kurultaya boy beylerinin katıldığı gibi kağanın eşi hatun da katılırdı. Kurultayda siyasi, askerî ve ekonomik kararlar alınırdı.

Buna göre, kurultay ile ilgili aşağıdakilerden hangisi söylenemez?

- A) Devlet yönetiminde kadının da söz sahibi olduğu
B) Meclisin devlet yönetiminde etkili olduğu
C) Hakanın devlet işlerini görürken danıştığı bir meclis olduğu
D) Törelere değişiklik yapılamadığı

14. **Aşağıdakilerden hangisi, Türklerin İslamiyet'i kabul etmesinden önce ortaya çıkmış bir edebi eserdir?**

- A) Ergenekon Destanı
B) Kutadgu Bilig
C) Divanı Lügati't Türk
D) Siyasetname

15. Çağrı Bey 1040'da Dandanakan Savaşı'nı kazanınca resmen kuruldu. En ünlü verimiz Nizamülmülk'tür. 1071'de Alparslan, Malazgirt Savaşı'nı kazanınca Anadolu'nun kapılarını Türklere açtı.

Yukarıda kendini anlatan devlet hangisidir?

- A) Büyük (Asya) Hun Devleti
B) Karahanlılar
C) Büyük Selçuklu Devleti
D) Gazneliler

16. **Aşağıdakilerden hangisi Türklerin İslamiyet'i kabul etme sebeplerinden değildir?**

- A) Gök tanrı dini ile İslamiyet'in benzerliği
B) Türklerin ticaret yaptıkları Müslümanlardan etkilenmesi
C) Türk toplum yapısının İslamiyet ile bağdaşması
D) Türklerin İslamiyet'i egemenlik altına almak istemesi

17. Orta Asya'dan Balkanlardaki uluslara kadar çok geniş bir bölgede kutlanan, yeni gün anlamına gelen ve baharın gelişinin karşılandığı gündür.

Bu bayram aşağıdakilerden hangisidir?

- A) Nevruz
- B) Ramazan Bayramı
- C) Hıdırellez
- D) 1 Ocak Yılbaşı

18. Orta Asya'da İslamiyet'i kabul eden ilk Türk boyu hangisidir?

- A) Türgişler
- B) Karluklar
- C) İskitler
- D) Kırgızlar

19. İslamiyet öncesi Türk hükümdarlarının devleti yönetme yetkisinin Gök Tanrı'dan almalarına ne ad verilir?

- A) Kut inancı
- B) Balbal
- C) Kurultay
- D) Kurgan

20. Aşağıdakilerden hangisi "Hz. Muhammed'in 622 yılında Mekke'den Medine'ye hicret etme" **nedenidir?**

- A) Mekke'de can güvenliğinin tehdit edilmesi
- B) Medine'ye devlet başkanı olmak istemesi
- C) Medine'nin stratejik açıdan önemi
- D) Medine'nin ekonomik açıdan zengin olması

21. Aşağıdaki ilahi kitap ve gönderilen peygamber eşleştirmelerinden hangisi **yanlıştır?**

- A) Tevrat – Hz. Musa (A. S.)
- B) Zebur – Hz. Salih (A. S.)
- C) İncil – Hz. İsa (A. S.)
- D) Kur'ân-ı Kerim – Hz. Muhammed (S. A. V.)

22. İnsanın özü ile sözünün, içi ile dışının bir olması demektir. İnsanın söylediğini yapması, verdiği sözde durmasıdır. Bütün Peygamberler bunu ilke edinmiştir."

Yukarıda anlatılan özellik, Peygamberlerin sıfatlarından hangisidir?

- A) Sıdk
- B) Emanet
- C) İsmet
- D) Tebliğ

23. Biz, Allah'a ve bize indirilene; İbrahim (A. S.), İsmail (A. S.), İshak (A. S.), Yakup (A. S.) ve torunlarına indirilene, Musa (A. S.) ve İsa'ya (A. S.) verilenlerle Rableri tarafından diğer peygamberlere verilenlere, onlardan hiçbirisi arasında fark gözetmeksizin inandık ve biz sadece Allah'a teslim olduk" deyin.

Yukarıdaki meali verilen ayete göre çıkarılabilecek en genel sonuç aşağıdakilerden hangisidir?

- A) Bazı peygamberlerin torunları da peygamberdir.
- B) Hz. Musa'ya (A. S.) İsa'dan (A. S.) önce kitap verilmiştir.
- C) İnananlar, peygamberler arasında ayırım yapmaz.
- D) Peygamberlere kutsal kitaplar verilmiştir.

24. 1. Eûzû besmele
2. Fâtiha Suresi
3. Sübhâneke Duası
4. Bir sure veya birkaç ayet

Namazın ilk rekâtında okunması gerekenler ile ilgili doğru sıralama aşağıdakilerden hangisidir?

- A) 2 – 3 – 1 – 4. B) 2 – 3 – 4 – 1.
C) 3 – 1 – 2 – 4. D) 3 – 4 – 1 – 2.

25. Peygamberimiz Hz. Muhammed'e (S. A. V.) "Muhammedü'l-Emin" lakabı hangi özelliği dolayısıyla verilmiştir?

- A) Yetim olması
B) Günah işlememesi
C) Zeki Olması
D) Güvenilir olması

**DİN KÜLTÜRÜ VE AHLAK BİLGİSİ DERSİNİ
OKUMAYANLAR AŞAĞIDAKİ SORULARI
CEVAPLAYACAKTIR.**

21. Aşağıdaki hangi Halife ve onunla özdeşleşen özelliği yanlış verilmiştir?

- A) Hz. Ömer = Adalet
B) Hz. Ebubekir = El Emin (güvenilir)
C) Hz. Osman = Ahlak
D) Hz. Ali = İlim

22. Aşağıdakilerden hangisi Türk-İslam Devleti değildir?

- A) Uygurlar
B) Büyük Selçuklu Devleti
C) Gazneliler
D) Karahanlılar

23. Dört Halife Devrine "Cumhuriyet Dönemi"de denilmesinin nedeni aşağıdakilerden hangisidir?

- A) Fetihlerin Arap Yarımadası dışına taşması
B) İslam dinine inananların çoğalması
C) Halifelerin bu dönemde seçimle iş başına gelmesi
D) Arap kabileleri arasında siyasi birliğin sağlanması

24. Kur'an-ı Kerim hangi halife döneminde kitap haline getirilmiştir?

- A) Hz. Osman (R.A.)
B) Hz. Ali (R.A.)
C) Hz. Ebubekir (R.A.)
D) Hz. Ömer (R.A.)

25. Aşağıdakilerden hangisi Türklerin İslamiyet'i kabulleri ile hayatlarında meydana gelen değişikliklerden biri değildir?

- A) İslam öncesinde görülen kurultay, divan adı verilen bir meclise dönüştü.
B) İslamiyet'in yayılmasıyla birlikte cami, medrese, türbe yapımı başlamıştır.
C) Hükümdarlar İslami isim ve unvanlar aldılar.
D) Göçebe hayat başlamıştır

**TEST BİTTİ.
CEVAPLARINIZI KONTROL EDİNİZ.**