

ALTINÇAĞ ORTAOKULU
2019 – 2020 EĞİTİM ÖĞRETİM YILI
6. SINIF İOKBS DENEME SINAVI –1

TÜRKÇE TESTİ


1. Aşağıdaki cümlelerin hangisinde altı çizili deyim "korku" bildirmektedir?

- A) Aniden duyduğu ses yüreğini ağzına getirdi.
B) Fırsatlardan istifade ederek cebini doldurmak istemişti.
C) Zavallı kadın başına gelenlerden sonra kan ağılyormuş.
D) Sevmediği kişilere çamur atar, onları rahat bırakmazmış.

2. Aşağıdaki atasözlerinden hangisinin açıklaması yanlıştır?

- A) İki dinle bir söyle: Çok dinleyip, iyi düşünmeli; öyle konuşmalıyız.
B) Baş dille tartılır: Kişinin akıllı, söylediği sözle ölçülür.
C) Akıl akıldan üstündür: Bildiklerimizle yetinmemeli, başkalarına da danışmalıyız.
D) Akıl yaşta değil baştadır: Yaşlı insanlar her zaman akıllıca davranır.

3.



Facebook: Ben herkesi tanırım.
Google: Ben her şeyi bilirim.
İnternet: Ben olmasam ikiniz de işe yaramazsınız!
Elektrik: Tartışmayı kesin yoksa hepinizin işini bitiririm!

Yukarıdaki konuşmalarda hangi sanatlar vardır?

- A) Abartma – benzetme
B) Benzetme – kişileştirme
C) Kişileştirme – konuşurma
D) Konuşurma – abartma

4. 1. Şiir yazar veya söyleyen kişilere yazar denir.
2. Şiirde ikiden fazla (genellikle dört) dizeden oluşan kümelere kıta denir.
3. Şiirdeki her bir satıra dize denir.
4. "Oluklar çift; birinden nur akar; birinden kir." Dizesinde 12 hece vardır.

Yukarıda şiir ile ilgili bilgiler verilmiştir. Verilen bilgiler, doğru – yanlış olarak sıralanırsa, doğru seçenek aşağıdakilerden hangisi olur?

- A) 1. Y 2. D 3. Y 4. D
B) 1. D 2. D 3. Y 4. D
C) 1. Y 2. D 3. D 4. Y
D) 1. D 2. D 3. Y 4. Y

5. 'Bakım' sözcüğü hangi cümlede diğerlerinden farklı anlamda kullanılmıştır?

- A) Bahçenin bakımından çok iyi anlar.
B) Çocuk bakımını genellikle anneler yapar.
C) Sağlık bakımından temiz hava çok önemlidir.
D) Otomobilin kışlık bakımını yaptırdım.

6. "Beni() Ali'yi() Selim'i çağırdı ve işi kimin yaptığını sordu()" cümlesinde parantezle gösterilen yerlere hangi noktalama işaretleri gelmelidir?

- A) (,) (;) (?) B) (,) (,) (.)
C) (;) (,) (.) D) (,) (,) (?)

7. 1. Sevgi teyzem bize geldi.
2. O çocuk Türkçe bilmiyormuş.
3. Ağrı dağının başı karlıdır şimdi.
4. Tuz Gölü'nden tuz ihtiyacı giderilir.

Yukarıdaki hangi cümlede yazım yanlışı yapılmıştır?

- A) 1 B) 2 C) 3 D) 4

8. "Dil, bir ulusun aynasıdır. Bu aynaya baktığımız zaman orada orada kendimizin yansımaları görürüz. cümlesinde altı çizili sözle anlatılmak istenen aşağıdakilerden hangisidir?

- A) Dilin olup biteni yansıttığını
B) Dilin, insanların kendilerini görmelerini sağladığını
C) Dilin topluma önderlik ettiğini
D) Dilin toplumun gelişmesine katkı sağladığını

9. Güneş Sistemi'nde 8 gezegen ve bunların çevresinde dönen 182 uydu vardır. Bunlara ek olarak milyarlarca asteroit ve trilyonlarca kuyruklu yıldız da Güneş'in çevresinde döner.

Bir gök bilimi terimleri sözlüğü oluşturulsa bu parçadaki sözcüklerden hangisine bu sözlükte yer verilmez?

- A) Çevre
C) Asteroit
B) Uydu
D) Gezegen

10. Şiirin hiçbir kelimesine dokunamazsınız. Anlam, adeta kelimelerle bütünleşmiştir. Bir kelimeyle oynamak, tılsımı bozmaya yeter. Bu yönüyle şiir, atasözleriyle aynı çizgide görülür.

Yukarıdaki paragrafta bize ne anlatılmak isteniyor?

- A) Şiirde kelimelerin değiştirilebileceği
B) Atasözü ve şiirlerin değiştirilemeyeceği
C) Atasözlerinin çeşitleri
D) Şiirde kıtaların değiştirilemeyeceği

11. Aşağıdaki altı çizili sözcüklerden hangisi hem yapım, hem çekim eki almıştır?

- A) Atatürk, halka hizmete giden yolların başında öğretmenini görüyordu.
B) Güneş, defalarca doğup batmaktan yorulur mu?
C) Her sabah kahvaltıda süt içerdi.
D) Arıcılar, arıların dönmesini bekliyordu..

12. "Düşmek" sözcüğü aşağıdakilerin hangisinde "Buza basınca ayağı kayıp düştü." cümlesindeki anlamıyla kullanılmıştır?

- A) Altının değeri bugünlerde az da olsa düştü.
B) Bu yaptıklarınla gözümden düştün.
C) Bu olayı çözmek de maalesef bana düştü.
D) Çocuk dengesini kaybedip ağaçtan düştü.

13. "Akşamleyin elbisesini giyip dışarı çıktı." cümlesinde boş bırakılan yere aşağıdaki sözcüklerden hangisi getirilirse "elbise" sözcüğünün niteliği belirtilmiş olmaz?

- A) çizgili
C) iş
B) yeşil
D) yeni

14. Hangi cümlede, zıt anlamlı sözcükler bir arada kullanılmamıştır?

- A) Az veren candan, çok veren maldan.
B) Her inişin bir yokuşu vardır.
C) Ahmet deli dolu bir çocuktü.
D) Doluya koydum almadı, boşta koydum dolmadı.

15. Hayat, yaşadığımız süre ile değil niteliğiyle ölçülür.

Aşağıdaki cümlelerden hangisi anlamca bu cümleye en yakındır?

- A) Hayat, zannedildiği kadar uzun değildir.
B) Hayat, yaşanarak öğrenilen bir sanattır.
C) Hayatın değeri nasıl yaşandığıyla ilgilidir.
D) Hayatın değeri çok geç anlaşılır.

16. Aşağıdaki cümlelerin hangisinde "öznel yargı" vardır?

- A) Akşam TV' de ilginç bir film vardı.
B) Son izlediğim oyun iki perdeden oluşuyordu.
C) Denizler, karalara göre daha geç ısınır ve daha geç soğur.
D) Filmde olaylar küçük bir kasabada geçiyor.

17. Kitaplara çok meraklıyız. Nerede bir kitap görsek incelemeyiz. Mutlaka alırız; ama sadece alırız. Alırız diyorum; çünkü okumadan bir kenara bırakırız. Belki o hevesle birkaç yaprağını okuruz; ama sonra kitabın yüzüne bile bakmayız. Televizyondan bir başımızı kaldırırsak okuyacağız belki de... Kitapları süs olsun diye kitaplığa yerleştiriyoruz; ama maalesef okumuyoruz...

Yukarıda yazar asıl neye kızmaktadır?

- A) Televizyon seyretmemize
B) Kitapları süs olsun diye almamıza
C) Kitapları araştırmadan almamıza
D) Kitapları alıp okumamamıza

18. "O ülkemizi bile yeterince tanımıyor." cümlesinden aşağıdakilerden hangisi çıkarılamaz?

- A) Başka ülkeleri yeterince tanımadığı
B) Ülkemizi yeteri kadar tanımadığı
C) Kendi ülkesi ile ilgili bilmediklerinin olduğu
D) Çoğu ülkeyi iyi tanıdığı

19. Aşağıdaki cümlelerin hangisinde amaç – sonuç ilişkisi vardır?

- A) Yattığım odanın penceresinden bütün sokak görünüyor.
- B) Hiçbir çocuk, onu üzecek bir şey olmadıkça ağlamaz.
- C) Ne tuhaf, insan bazen kapı komşusundan bile habersiz olabiliyor.
- D) Hevesli olduğumu gizlemek için davetlere hep geç katılıyorum.

20. Aşağıdakilerden hangisi bir paragrafın giriş cümlesi olamaz?

- A) Dünya üzerindeki suların bir kısmı da buzullarda bulunur.
- B) Mavi balina, dünyadaki en büyük canlı varlıktır.
- C) Işık, çevremizdeki cisimleri görmemizi sağlayan bir enerji biçimidir.
- D) Mars, Dünya'ya en çok benzeyen gezegendir.

21. Aşağıdaki altı çizili sözcüklerin hangisinde bir nesnenin veya varlığın kime veya neye ait olduğunu gösteren bir ek kullanılmıştır?

- A) Zamanı iyi değerlendirmek herkes için önemlidir.
- B) Aylardır merak edilen müzeyi bugün ziyarete açacaklar.
- C) Geceleyin denizi seyretmek insana ürperti veriyor.
- D) Evi çok güzel olduğu için onu satmak istemiyor.

22. Yirmi beş yıldan beri yaptığı çevirilerle bizleri dünya edebiyatının ustalarıyla tanıştırdı. Böylece çorak dünyamızı zenginleştirdi. Çok sevdiğim, ama yüzlerini göremediğim nice dostlar edindim onun çevirileriyle. Dilin tadını duyurduğu için uzaktan uzağa sessiz teşekkürlerimi sundum ona. Hep usta yazarların arkasına gizlenmeye çalışan bu çevirmenimizin, kendi yaratılarıyla ortaya çıkacağı zamanı merak ediyordum. Yazar, yeni şiir kitabıyla bu merakımızı gidermekle kalmadı; asla unutulmayacak, yaşlanmayacak, sevgi dolu yüreğinden kopan aşk şiirleriyle yorgun ruhlarımızı yıkadı.

Bu parçada sözü edilen yazar için aşağıdakilerden hangisi söylenemez?

- A) Çevirilerinde dili ustalıklı kullandığına
- B) Okurlarının, ünlü yazarları tanınmasına aracılık ettiği
- C) Şiirlerin de okurların üzerinde etkili olduğu
- D) Şiirlerinde duygusal konulardan uzak durduğu

- 23.** 1. Fakat bugün nedense farklı bir yoldan gidesi geldi.
2. Yolunu değiştirmesi belki de kedinin hayatını kurtardı.
3. Yürürken acı bir ses duydu çalılarının ardında.
4. O sese yöneldiğinde yaralı bir kediyle karşılaştı.
5. İşe her sabah aynı yoldan giderdi.

Yukarıdaki cümlelerden anlamlı bir paragraf oluşturduğumuzda sıralama nasıl olacaktır?

- A) 5 – 2 – 3 – 4 – 1
- B) 3 – 4 – 2 – 1 – 5
- C) 3 – 2 – 4 – 1 – 5
- D) 5 – 1 – 3 – 4 – 2

24. Aşağıdaki cümlelerin hangisinde, yay ayraç içinde verilen anlam ilişkisi yoktur?

- A) Yağmur uzun süre yağmadığı için tarladaki ürünler kurudu. (Amaç – sonuç)
- B) Ankara'yı bilmediğinden Atakule'yi bulmakta zorlanmış. (Sebeup – sonuç)
- C) Cahit Sıtkı Tarancı'yı çok sevdiğim için onun tüm şiirlerini ezberledim. (Sebeup – sonuç)
- D) Küçüklüğünden beri kurduğu hayali gerçekleştirmek için Fransa'ya gitti. (Amaç – sonuç)

- 25.** “Arı, on binlerce yıldır aynı işi en kusursuz biçimde yapar:Düzgün,geometrik ölçülerle peteğini örer ve topladığı bin bir çiçek tozundan, bir kimya laboratuvarının damıtıcılarından daha üstün biçimde balını süzer. Oysa insanoğlu uğraştığı on binlerce işi binlerce yıldır giderek geliştirmekte ve hâlâ en kusursuza ulaşmaya çalışmaktadır,işte insan budur.”

Metninde kullanılan düşünce geliştirme yolu aşağıdakilerden hangisidir?

- A) Karşılaştırma
- B) Sayısal verilerden yararlanma
- C) Tanımlama
- D) Tanık gösterme

MATEMATİK TESTİ

- 1.** Ümeyme, matematik öğretmenine yazılıdan kaç aldığını sorunca öğretmeni, 5 ile bölündüğünde kalanı 3 olan iki basamaklı en büyük sayı demiştir.

Buna göre, Ümeyme yazılıdan kaç almıştır?

- A) 93
- B) 95
- C) 98
- D) 99

2. $68 + \blacksquare \cdot 14 = 4 \cdot (17 + 14)$ işleminde \blacksquare yerine hangi sayı yazılmalıdır?

- A)11 B)14 C)4 D)6

3. Taner, cevizlerini 3'er, 5'er ve 10'ar saydığında her seferinde 2 tane cevizin arttığını görüyor.

Taner'in cevizleri en az kaç tanedir?

- A) 22 B) 27 C) 32 D) 62

4. 5016 sayısı aşağıdakilerden hangisine kalansız bölünemez?

- A) 2 B) 4 C) 6 D) 9

5. 18 sayısının asal çarpanlarının sayısı A, çarpanlarının sayısı B'dir.

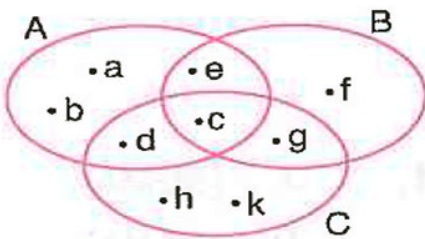
Buna göre, A.B sonucu kaçtır?

- A) 2 B) 6 C)12 D) 18

6. 8 sayısının 30 ile 50 arasındaki katları aşağıdakilerden hangisidir?

- A) 38, 46
B) 32, 40, 48
C) 30, 38, 46, 48
D) 32, 34, 36, 38, 40, 44, 48

7.



Verilen A,B ve C kümelerine göre $A \cup B$ kümesi kaç elemanlıdır?

- A) 4 B) 5 C) 6 D) 7

8. Rakamlardan oluşan kümenin elemanları aşağıdakilerden hangisidir?

- A) 1, 2, 3, 4, 5, 6, 7, 8, 9
B) 1, 3, 5, 7, 9
C) 0, 2, 4, 6, 8
D) 0, 1, 2, 3, 4, 5, 6, 7, 8, 9

9. $7 \cdot (5 + 9) = 7 \cdot \& + 7 \cdot \clubsuit$ ise, $\& + \clubsuit$ nin değeri kaçtır?

- A) 12 B) 14 C) 16 D) 18

10. $A \cdot C - B \cdot C = 40$ ve $C = 10$ ise, $A - B$ kaçtır?

- A) 2 B) 3 C) 4 D) 6

11. $(18 - 7) \cdot 11$ işleminin sonucu, aşağıdaki işlemlerden hangisinin sonucu ile aynı değildir?

- A) $11.7 + 11.4$ B) $11.16 - 11.5$
C) $11.15 - 11.6$ D) $11.20 - 11.9$

12. " $48:4 + 6 \times 1 - 10$ " işleminin sonucu kaçtır?

- A) 8 B) 18 C) 28 D) 30

13. $2^3 \cdot 3 \cdot 5$ şeklinde asal çarpanlarına ayrılmış sayı aşağıdakilerden hangisidir?

- A) 60 B) 90 C)120 D)180

14. I. $5 \cdot (24 - 16)$
II. $42:7+34$
III. $28.3-12$
IV. $33 \cdot (9-6) - 1$

Yukarıdaki işlemlerden hangilerinin sonuçları aynıdır?

- A) I ve II. B) II ve III.
C) III ve IV. D) I ve IV.

15. Dedemin yaşı benim yaşımın 5 katından 7 fazladır. Dedem 57 yaşında olduğuna göre, benim yaşım kaçtır?

- A) 8 B) 9 C) 10 D) 11

16. Ahmet ile Furkan'ın yaşları toplamı 64'tür. Ahmet, Furkan'dan 12 yaş küçük olduğuna göre Furkan'ın yaşı kaçtır?

- A) 26 B) 30 C) 34 D) 38

17. Maaşı 2650 lira olan bir kişi kirasına 1250lira, faturalarına da kirasının yarısı kadar para ödemektedir. Bu kişinin maaşından geriye kaç lira kalır?

- A) 750 B) 775
C) 800 D) 825

18. Üç basamaklı 24A sayısı 2 ile tam bölüldüğüne göre, A nın alabileceği değerlerin toplamı kaçtır?

- A) 20 B) 21 C) 22 D) 23

19. Aşağıdakilerden hangisi 72' nin çarpanı değildir?

- A) 2 B) 6 C) 36 D) 48

20. $3^0 + 1^{100}$ işleminin sonucu kaçtır?

- A) 1 B) 2 C) 3 D) 4

21. 3^4 2^7 5^3 10^2

Yukarıdaki üslü sayılardan hangisinin değeri diğerlerinden büyüktür?

- A) 3^4 B) 2^7 C) 5^3 D) 10^2

22. 10^5 sayısı kaç basamaklı bir doğal sayıdır?

- A) 9 B) 8 C) 7 D) 6

23. 3 paketi 12 TL olan bir üründen 17 paket alan kişi kaç TL öder?

- A) 48 B) 54 C) 60 D) 68

24. Aşağıdaki sayılardan hangisi 3'e tam bölünmez?

- A) 3^0 B) 3^1 C) 3^2 D) 3^3

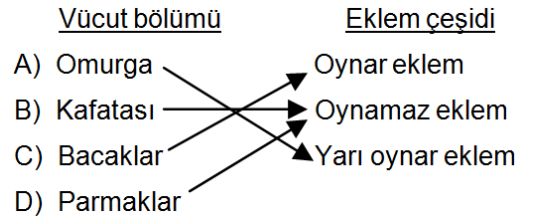
25. 20. (37-18) işleminin sonucu aşağıdakilerden hangisidir?

- A) 173 B) 249
C) 380 D) 501

FEN BİLİMLERİ TESTİ

1. Aşağıda vücudumuzdaki bölümler ve bölümlerdeki eklem çeşitleri eşleştirilmiştir.

Buna göre, hangi seçenekteki eşleştirme yanlıştır?



2. Aşağıdakilerden hangisi iskeletin görevlerinden biri değildir?


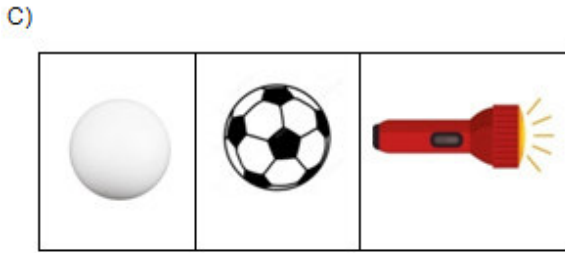


- A) Vücuda desteklik sağlamak
B) Kan hücreleri üretmek
C) Beyin,kalp,akciğer gibi iç organları korumak
D) Vücudumuzda oluşan atık maddelerin vücuttan atılmasını sağlar.

3. Halkası ve uydusu olmayan gezegenler hangisinde doğru olarak verilmiştir?

- A) Merkür – Venüs B) Merkür – Dünya
C) Venüs – Satürn D) Venüs – Mars

4. Ömer, öğretmenin verdiği projeyi doğru bir şekilde hazırlamıştır. Projesinin konusu güneş tutulması olan Ömer, güneşi el feneri, dünyayı futbol topu, ayı ise pinpon topu olarak kullanacaktır.

Buna göre, Ömer'in hazırladığı şekil aşağıdakilerden hangisidir?



5. Sindirime yardımcı organlardan biri olan..... ürettiğiile ince bağırsakta karbonhidatların,proteinlerin ve yağların kimyasal sindiriminde görev alır.

Yukarıdaki cümlede boş bırakılan yerlere sırasıyla hangi kelimeler gelmelidir?

- A) Karaciğer – Safra sıvısı
B) Pankreas – Pankreas öz suyu
C) Mide – Mideöz suyu
D) Ağız –Tükürük sıvısı

6. Sindirim sistemindeki bazı organlar ve görevleri karışık olarak tabloda verilmiştir.

ORGAN	GÖREV
1. Karaciğer	a. Yağların kimyasal sindirimi burada başlar.
2. İnce bağırsak	b. Safra salgısını üreten organdır.
3. Kalın bağırsak	c. Besinlerin içerisinde kalan su ve mineraller burada emilir.

Organlar, görevleri ile hangi seçenekte doğru eşleştirilmiştir?

- A) 1 – a, 2 – b, 3 – c
B) 1 – b, 2 – a, 3 – c
C) 1 –b, 2 – c, 3 – a
D) 1 – c, 2 – b, 3 – a

7. Aşağıdakilerden hangisi destek ve hareket sisteminin sağlığını korumak için yapılması gereken davranışlardandır?

- A) Kemiklerimizi güneş ışığından korumalıyız.
B) Güçlenmek için ağır egzersizler yapmalıyız.
C) Yaşımıza ve vücut yapımıza uygun ayakkabılar giymeliyiz.
D) Yerden herhangi bir şey alırken belimizi bükerek eğilmeliyiz.

8. I. Karbonhidratlar
II. Proteinler
III. Yağlar
IV. Vitamin
V. Mineral
VI. Su

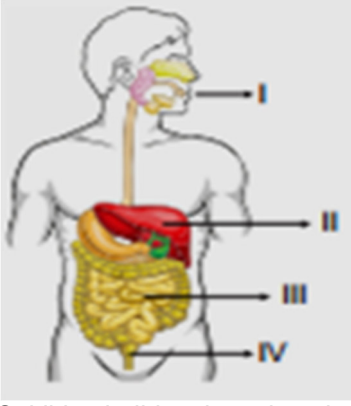
Yukarıdaki besinlerden hangisi ince bağırsakta sindirime uğrar?

- A) I – II
B) I – II – III
C) I – II – III – IV
D) IV – V – VI

9. Dünya'dan yaklaşık 29 günde bir Yeni Ay evresi görülür. Ancak her yeni ay evresinde Güneş Tutulmasının görülmemesinin nedeni aşağıdaki ifadelerden hangisi ile açıklanabilir?

- A) Ay'ın, Güneş ile Dünya arasına her zaman girmesi
B) Güneş, Ay ve Dünya'nın her zaman aynı doğrultuda olmaması
C) Dünya'nın gölgesinin Ay'ın üzerine düşmesi
D) Ay'ın Güneş ışınlarını her zaman engelleyememesi

10.



Şekilde sindirim sistemine ait organlardan bazıları numaralar ile gösterilmiştir.

İşaretili bölümlerle ilgili olarak aşağıdakilerden hangisi söylenemez?

- A) I, sindirimin başladığı yerdir.
- B) II'de sindirim yoktur.
- C) III'te sindirilen besinler kana geçer.
- D) IV, sindirim atıklarının atıldığı yerdir.

11. ► Güneş çevresindeki yörüngesinde yan yatmış olarak döner.
 ► Zehirli amonyak gazından oluşan bir atmosferi vardır.
 ► Dünya'dan yaklaşık dört kat büyüktür.

Yukarıdaki bilgiler hangi gezegene aittir?

- A) Jüpiter
- B) Uranüs
- C) Neptün
- D) Satürn

12.

	Besin	Sindirim Başıladığı Yer	Sindirim Bittiği Yer
I	Karbonhidrat	Ağız	İnce bağırsak
II	Protein	Ağız	Mide
III	Yağ	İnce bağırsak	İnce bağırsak

Yukarıdaki tabloda vücuda alınan besin maddelerinin sindirimini başladığı ve bittiği yerler verilmiştir.

Buna göre, verilenlerden hangileri doğrudur?

- A) Yalnız I
- B) I ve II
- C) I ve III
- D) II ve III

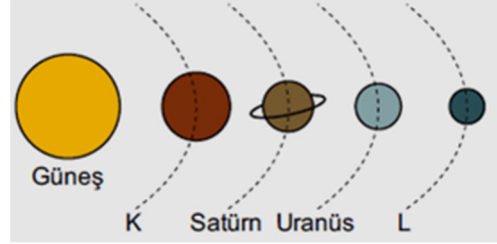
13. Ay Tutulması esnasında Ay hangi evrededir?

- A) Dolunay
- B) Son Dördün
- C) Hilal
- D) Yeni Ay

14. Güneş Tutulması sırasında aşağıdaki olaylardan hangisi gerçekleşir?

- A) Ay, Dünya'dan gözlenmez.
- B) Ay, Dünya ile Güneş arasına girer.
- C) Gözlendiği bölgede gece yaşanır.
- D) Dünya'nın gölgesi Ay'ın üzerine düşer.

15. Mert, ödevinde Güneş Sistemi'ndeki gezegenlerin bir bölümünü Güneş'e yakınlıklarına göre sıralayarak şekildeki modeli oluşturmuştur.



Mert'in hazırladığı bu modelde K ve L ile gösterdiği gezegenlerin isimleri aşağıdakilerden hangisinde doğru verilmiştir?

- | | |
|------------|----------|
| <u>K</u> | <u>L</u> |
| A) Jüpiter | Mars |
| B) Merkür | Neptün |
| C) Venüs | Merkür |
| D) Jüpiter | Neptün |

16. Aşağıda Güneş Sistemi'ndeki gezegenlerden bazıları verilmiştir.



Gezegenler ok yönünde hangi özelliğine göre sıralanmıştır?

- A) Güneşe uzaklıklarına göre
- B) Halka sayılarına göre
- C) Büyüklüklerine göre
- D) Uydu sayılarına göre

17. Eklem isimleri ve çeşitlerini yazarak eşleştiren öğrenci hangi eşleştirmeyi yanlış yapmıştır?

- A) Oynamaz eklem – kafatası eklemi
- B) Yarı oynar eklem – omurlar arası eklem
- C) Yarı oynar eklem – Kol ve bacak eklemleri
- D) Oynar eklem – Parmak eklemleri

18. Semerkant'ta bir rasathane ve medrese yaptıran Uluğ Bey, çevredeki tüm âlimleri de buraya davet etmiştir. Bu rasathanede kendisi için bir oda yaptırmıştır. Rasathanenin tüm duvar ve tavanları gök cisimlerinin manzaralarıyla ve resimleriyle süslenmiştir. UluğBey, gözlemlerine 12 yıl devam ettikten sonra rasathane işlerini Ali Kuşçu devam ettirmiştir. "Gök biliminde ilerlemeyen milletler büyük millet olamaz." tespit, onun rasathaneyi ve buradaki çalışmaları ne denli önemseydiğinin delillerindedir. Uluğ Bey'in adını insanlığa duyuran ve ilim tarihine geçmesini sağlayan, bu rasathanedeki çalışmalarıdır.

Yukarıda verilen paragrafa göre aşağıdakilerden hangisine ulaşamaz?

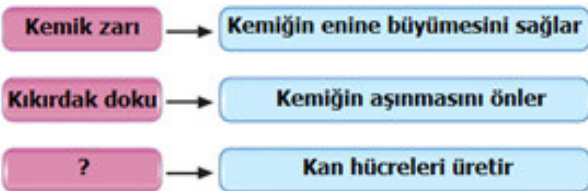
- A) Ali Kuşçu, Semerkant rasathanesinde çalışmış bir gök bilimcidir.
B) Uluğ Bey, gök bilimcileri arasında önemli bir kişidir.
C) Uluğ Bey ile beraber, zamanın bütün âlimleri rasathanede gök bilimleri ile ilgilenmişlerdir.
D) Medresede bulunan öğrencilere, Uluğ Bey ders vererek gök biliminin gelecek nesillere aktarılmasını sağlamıştır.

19. Venüs'ün, kendi eksenini etrafında dönme hareketi, oldukça ilginçtir. Çünkü hareketi, hem çok yavaş, hem de ters yöndedir. 1 Venüs günü = 243 Dünya günüdür. Bu süre, Venüs yılından birazcık daha uzundur. Eğer Venüs'te olsaydınız, Güneş'in batıdan doğup, doğudan battığını ve gökyüzünde çok yavaş ilerlediğini görecektiniz.

Yukarıda verilen bilgilere göre aşağıdakilerden hangisini ulaşamaz?

- A) Venüs'ün hareketinin nasıl olduğuna
B) 1 Venüs gününün dünyaya gününe göre kaç gün olduğuna
C) Venüs'te güneşin nerden doğup nereden battığına
D) Venüs'ün bilinen diğer adına

20.



Verilen eşleştirme tablosunda soru işareti olan yere aşağıdakilerden hangisi getirilmelidir?

- A) Kemik zarı
B) Süngerimsi kemik doku
C) Kırmızı kemik iliği
D) Sert kemik doku

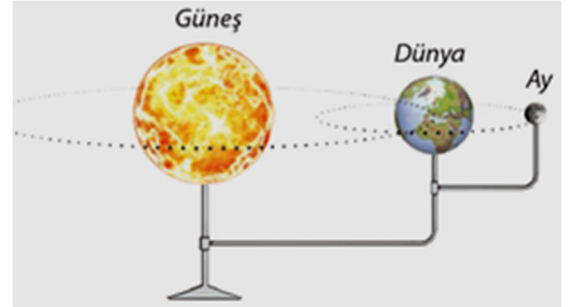
21. I. Ay, Güneş'e daha yakındır.
II. Dünya, Güneş'e daha yakındır.
III. Ay'ın gölgesi Dünya'ya düşer.
IV. Dünya'nın gölgesi Ay'a düşer.

Yukarıda verilen olaylar Güneş ve Ay tutulması sırasında gerçekleşmektedir.

Buna göre, numaralı olaylar aşağıdakilerden hangisinde doğru sınıflandırılmıştır?

Güneş Tutulması	Ay Tutulması
A) I ve III.	II ve IV.
B) II ve IV	I ve III.
C) I ve IV.	II ve III.
D) II ve III.	I ve IV.

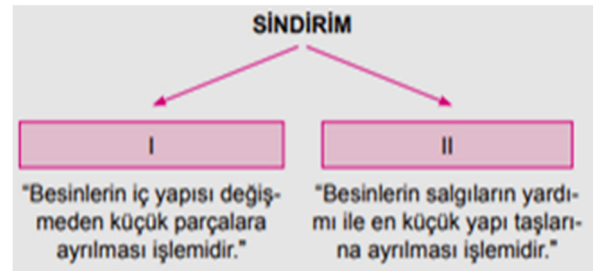
22.



Bu resimdeki olayla ilgili aşağıdakilerden hangisi yanlıştır?

- A) Ay, Dünya'nın gölge konisinden geçtiğinde gözlemlenir.
B) Dünya'nın karanlık olan bölümünde (gece) gözlemlenebilir.
C) Bir yıl içerisinde Dünya'nın çeşitli bölgelerinde birkaç defa gözlemlenebilir.
D) Ay'ın Güneş'e uzaklığı, Dünya'nın Güneş'e olan uzaklığından daha azdır.

23.




Verilen şemada numaralandırılmış boşluklara aşağıdakilerden hangileri yazılmalıdır?

- A) I – Kimyasal sindirim II – Fiziksel sindirim
B) I – Fiziksel sindirim II – Mekanik sindirim
C) I – Mekanik sindirim II – Kimyasal sindirim
D) I – Kimyasal sindirim II – Mekanik sindirim

24. Güneş'e olan uzaklıkları $X > Y > Z$ şeklinde olduğu bilinen gezegenlerin isimleri aşağıdakilerden hangisindeki gibi olabilir?

X	Y	Z
A) Neptün	Mars	Satürn
B) Uranüs	Jüpiter	Venüs
C) Dünya	Mars	Jüpiter
D) Merkür	Venüs	Dünya

25. Güneş Sistemi'ndeki gezegenler aşağıdaki gibi numaralandırılarak Güneş'e uzaklıklarına göre sıralanmıştır.



Buna göre, Güneş Sistemi'ndeki karasal ve gaz yapılı gezegenler aşağıdakilerden hangisinde doğru gruplandırılmıştır?

Karasal gezegen	Gaz yapılı gezegen
A) 1, 2, 3, 4	5, 6, 7, 8
B) 5, 6, 7, 8	1, 2, 3, 4
C) 1, 2, 3, 4, 5	6, 7, 8
D) 1, 2, 3	4, 5, 6, 7, 8

SOSYAL BİLGİLER TESTİ

1. Birey olarak dünyaya geldiğimiz andan itibaren çeşitli sosyal roller üstleniriz. Rollerimizin bir kısmı doğuştan sahip olduğumuz rollerdir. Bazı rollerimizde vardır kibunlara isteğimizle çalışarak, başarı göstererek sonradan sahip oluruz. Bunlar özgür irademizle katıldığımız grupların bize yüklediği rollerdir.

Yukarıda verilen açıklamaya göre aşağıdakilerden hangisi sonradan kendi isteğimizle elde ettiğimiz rollerdendir?

- A) Kardeş
C) Anne – Baba
- B) Abla
D) Torun

2. Aşağıdakilerden hangisi hem hakkımız hem de görevimizdir?

- A) Seçimde oy vermek
C) Kanunlara uymak
- B) Askerlik yapmak
D) Vergi vermek

3. Önyargı: Bir kişi ya da olaya ilişkin yeterli bir bilgi edinmeden, önceden, peşin bir karara varmış olma durumudur.

Buna göre, aşağıdakilerden hangisi önyargının nedenleri arasında gösterilemez?

- A) Farklılıklara saygılı olmamak
B) Empati kurmamak
C) Toplumsal teması arttırmak
D) Karşımızdaki kişiyi yeterince tanımamak

4. Sosyal Yardımlaşma ve Dayanışma; İnsanların beslenme, giyinme, barınma, eğitim, sağlık gibi ihtiyaçlarını karşılamak için ortaya çıkan, toplumun ekonomik yapısını dengede tutan, birlik ve beraberliği artıran değerlere sosyal yardımlaşma ve dayanışma denir. Sosyal yardımlaşma ve dayanışma maddi ve manevi olmak üzere ikiye ayrılır.

Buna göre, aşağıdakilerden hangisi maddi yardımlaşmaya örnek olarak verilebilir?

- A) Karşılaştığımız bir kişiye selam verip gülümsemek
B) Arkadaşlarımızla iyi geçinmek
C) Yaşlı ve engelli kimselere destek vermek ve onları sık sık ziyaret etmek
D) İhtiyacı olanlara para ve eşya vermek

5. "...Sizin dininiz size, benim dinim bana!" (ayet)

Yukarıdaki ayette insanlarla uyum içinde yaşayabilmek için hangisinin önemi vurgulanmıştır?

- A) Farklılıklara saygının
B) Önyargılı davranmanın
C) Ayrımcılık yapmanın
D) Sert davranmanın

6. Bir tüketici olarak haksızlığa uğradığımızda sorunu yasalara uygun bir şekilde çözmeliyiz

Aşağıdakilerden hangisi doğru bir çözüm yöntemi değildir?

- A) Sorun çıkaranlara kızmak
B) Dilekçe hakkını kullanmak
C) Belediyeye başvurmak
D) Tüketici Hakları Derneğine başvurmak

7. Bir soruna çözüm getirirken öncelikle aşağıdakilerden hangisine dikkat etmemiz gerekir?

- A) Çözümün bize uymasına
- B) Kişi hak ve özgürlüklerine
- C) Çevremizdekilerin söylediklerine
- D) Sorunun bize verdiği zarara

8. Piknik yapıp açık havada eğlenme hakkımız vardır. Piknik yaparken çevreyi kirletmemeliyiz. Çünkü tüm insanların temiz bir çevrede yaşama hakları vardır.

Buna göre, aşağıdakilerden hangisi söylenemez?

- A) İnsanlar birbirlerinin haklarına saygı göstermelidir.
- B) Kişilerin özgürlüğü başkasının hakkını çiğnememelidir.
- C) İnsanlar haklarını sınırsızca kullanabilmelidir.
- D) Haklarımızı kullanırken başkalarının hakkına zarar vermemeliyiz.

9. İlk Türk-İslâm eserlerinden olan "Divan-ı Lügâti't Türk" kimin eseridir?

- A) Gazneli Mahmut
- B) Hoca Ahmet Yesevi
- C) Kaşgarlı Mahmut
- D) Yusuf Has Hacip

10. Emevi hanedanlığına son veren Abbasiler 750 yılında Bağdat merkezli bir devlet kurdular. Onların döneminde Emevilerin ırkçı tutumlarından vazgeçildi. Eşitlik ve adalete önem verildi. Bu durum İslamiyet'in diğer milletler arasında daha hızlı yayılmasında etkili oldu. Harun Reşid döneminde ziraat, ticaret, bilim ve eğitim düzeyi arttı. Bağdat, doğunun büyük ve önemli bilim ve ticaret merkezlerinden biri hâline geldi. İslam kültür ve medeniyeti bu dönemde çok büyük ilerlemeler kaydetti.

Yukarıdaki paragrafa göre Abbasi devleti ile ilgili hangi bilgiye ulaşamayız?

- A) Abbasîlerin ırkçı politikaları, diğer milletlerin İslam'a geçişini yavaşlatmıştır.
- B) Ekonomi ve bilim alanında önemli çalışmalar yapmışlardır.
- C) Devlet yönetiminde adalet ve hoşgörüyü benimsemeleri İslam'a katılımı artırdı.
- D) İslam kültür ve medeniyeti bu dönemde çok büyük ilerlemeler kaydetti.

11. "Siyasetname" adlı kitabı yazan Büyük Selçuklu veziri kimdir?

- A) Gazneli Mahmut
- B) Kaşgarlı Mahmud
- C) Nizamülmülk
- D) Yusuf Has Hacip

12. 751 yılında Araplar ile Çinliler arasında yapılan bu savaşı Türklerin yardımıyla Araplar kazanmış, bu savaştan sonra Türk-Arap ilişkileri gelişmiş ve Türkler Müslüman olmaya başlamışlardır.

Sözü edilen savaş aşağıdakilerden hangisidir?

- A) Talas Savaşı
- B) Pasinler Savaşı
- C) Köseadağ Savaşı
- D) Dandanakan Savaşı

13. Asya Hun Devleti zamanında oluşturulan hangi sistem sonraki Türk devletlerinde de kullanılmıştır?

- A) Onluk Sistem
- B) Eğitim Sistemi
- C) Yönetim Sistemi
- D) Din Sistemi

14. Türklere ait destan- devlet eşleştirmelerinden hangisi yanlıştır?

- A) Göktürk Devleti – Ergenekon Destanı
- B) Uygur Devleti – Türeyiş Destanı
- C) Kırgızlar – Manas Destanı
- D) Asya Hun Devleti – Bozkurt Destanı

15. Orta Asya Türkleri genel olarak göçebe bir hayat tarzında, çadırlarda yaşadılar ve hayvancılıkla uğraştılar. Orta Asya Türk Devletlerinden yerleşik hayata geçen ilk Türk devleti.....olmuştur. Böylece Türkler, tarım faaliyetlerine başladılar.

Yukarıda boş bırakılan yere aşağıdaki hangi devlet ismi yazılırsa doğru olur?

- A) Köktürkler
- B) Uygurlar
- C) Hazarlar
- D) Hunlar

16. I. Tarihte bilinen ilk Türk devletidir
II. En güçlü dönemlerini Mete Han döneminde yaşamışlardır
III. En önemli eserleri Oğuz Kağan Destanı'dır.

Özellikleri böyle verilen devlet aşağıdakilerden hangisidir?

- A) Kutluk Devleti
B) Köktürk Devleti
C) Uygur Devleti
D) Asya Hun Devleti

17. Arap Yarımadası'nda İslamiyet'in yayılması ile birlikte;

- I. Irkçılığa son verilmiştir.
II. Adalete önem vermeye başlanmıştır.
III. Mal ve can güvenliği sağlanmıştır.

Bu değişimlerden hangileri toplumsal birlik ve beraberliğe katkı sağlar?

- A) Yalnız I. B) I ve III.
C) II ve III. D) I, II ve III.

18. 1. Emeviler
2. Dört Halife
3. Abbasiler

Hız. Muhammed'in (SAV) vefatından sonra İslam Devleti'ni yukarıda verilenler hangi sıraya göre yönetmişlerdir?

- A) 2 – 3 – 1
B) 2 – 1 – 3
C) 1 – 3 – 2
D) 3 – 2 – 1

19. Ben Türk hükümdarının eşiyim. Hükümdar ülke dışında olduğu zaman onun adına ülkeyi yönetirim. Devlet işlerinde hakana yardım ederim. Kullarıya toplantılarına katılırım.

Hatun'un verdiği bilgilere göre Orta Asya Türk ilgili hangisine ulaşılabilir?

- A) Toplum içerisinde eşitsizlik yoktur.
B) Hatun da devlet yönetiminde söz sahibidir.
C) Yönetimde tamamen kadınlar söz sahibidir.
D) Kadınların önemsiz olduğu.

20. İlk Türk Devletleriyle ilgili olarak aşağıda verilen bilgilerden hangisi doğru değildir?

- A) Uygurlar yerleşik hayata geçtikleri için kalıcı eserler vermişlerdir.
B) Çinicilik, dokumacılık ve ahşap süslemeciliği geleneksel Türk sanatlarındandır
C) Orta Asya'da Türklerin eşyaları ve atlarıyla gömüldükleri mezarlara balbal denir.
D) İlk Türk devletlerinde halı ve kilim dokumalarında hayvan motiflerine yer verilmiştir.

**DİN KÜLTÜRÜ VE AHLAK BİLGİSİ DERSİNİ
OKUYANLAR AŞAĞIDAKİ SORULARI
CEVAPLAYACAKTIR.**

21. "Allah (c.c.) insanlara, emir ve yasaklarını elçileri aracılığı ile bildirmiştir."

Buna göre, aşağıdakilerden hangisi, Allah'ın insanlara gönderdiği elçilere verilen isimlerden birisi değildir?

- A) Peygamber
B) Veli
C) Nebi
D) Resul

22. Kur'an'ı Kerim'in içeriğiyle ilgili olarak aşağıdakilerden hangisi yanlıştır?

- A) İnsanın bazı yaptıklarından sorumlu olmadığı açıklanır
B) Namaz, oruç, zekât vb ibadetlerden bahsedilir
C) İyilik, doğruluk vb. ahlaki değerler vardır.
D) İnsanın dünyada imtihan olduğu vurgulanır

23. Peygamberlerin sıfatlarından, "Akıllı ve zeki" anlamına gelen sıfat aşağıdakilerden hangisidir?

- A) İsmet
B) Sıdk
C) Fetanet
D) Emanet

24. Aşağıdakilerden hangisi peygamberlerin gönderilme amaçlarından biri değildir?

- A) İnsanları cezalandırmak
- B) İnsanları dünya ve ahret mutluluğuna ulaştırmak
- C) İnsanlara iyiyi, doğruyu, güzeli öğretmek
- D) İnsanlara örnek olmak

25. Peygamberlerin ortak mesajları aşağıdakilerden hangisinde doğru verilmiştir?

- A) İbadet – Sevgi – Ahlak kuralları
- B) İman – Doğruluk – Çalışkanlık
- C) Tevhid – Namaz – Oruç
- D) Tevhid – İbadet esasları – Ahlak kuralları

**DİN KÜLTÜRÜ VE AHLAK BİLGİSİ DERSİNİ
OKUMAYANLAR AŞAĞIDAKİ SORULARI
CEVAPLAYACAKTIR.**

21. "Benim adım Metin. Benim yaşadığım ülke 552 yılında Bumin Kağan tarafından kuruldu. Yazıyı kullanan ilk Türk devletiyiz. Ayrıca Ergenekon destanı bize aittir."

Yukarıda özellikleri verilen Metin'in yaşadığı ülke aşağıdakilerden hangisidir?

- A) Kutluk Devleti
- B) Köktürk Devleti
- C) Uygur Devleti
- D) Asya Hun Devleti

22. "Ey hükümdar! Biz öyle zihniyete sahip bir kavimdik ki. Putlara tapar, ölü hayvan eti yer, akrabalık bağlarına riayet etmez, komşularımıza kötülük ederdik, güçlü olanlarımız zayıfları ezerdi."

Habeşistan'a göç eden Müslümanlar adına Habeş Kralı Necaşi ile konuşan Hz. Cafer'in bu sözleri hangi dönemi açıklamaktadır?

- A) Cahiliye devri
- B) Hz Muhammed (SAV) dönemi
- C) İslam öncesi Türk kültürü
- D) Dört halife dönemi

23. Peygamberimizin vefatının ardından yönetime gelen ilk halifedir. Bu dönemde iç karışıklıklar bastırılmış, devletin parçalanması önlenmiştir. Savaşlarda pek çok hafızın şehit olması nedeniyle Kur'an-ı Kerim kitap hâline getirilmiştir.

Yukarıda hangi halife dönemi ilgili bir açıklama yapılmıştır?

- A) Hz. Ali (R.A.)
- B) Hz. Osman (R.A.)
- C) Hz. Ebu Bekir (R.A.)
- D) Hz. Ömer (R.A.)

24. "Uygurlar Çinlilerden etkilenecek Manihaizm (Mani) dinini benimsemişlerdir. Bu dine göre et yemek ve insan öldürmek yasaktır."

Buna göre, yukarıda verilen açıklamaya göre, Uygurların Manihaizm dinini benimsemelerinin sonuçları arasında gösterilemez?

- A) 18 harften oluşan Uygur alfabesini kullanmışlardır
- B) Savaşçı özelliklerini kaybetmişlerdir
- C) Tarım yapmaya başlamışlardır
- D) Yerleşik yaşama geçmişlerdir

25. "Türkler tarihte demiri işleyen, halıyı dokuyan ilk milletlerdendir." diyen biri sırasıyla Türklerin hangi alanlarda eserler ortaya çıkardığını ifade etmiştir?

- A) Hayvancılık - Madencilik
- B) Tarım - Dokumacılık
- C) Madencilik - Askeri
- D) Madencilik - Dokumacılık

**TEST BİTTİ.
CEVAPLARINIZI KONTROL EDİNİZ.**