

VERİ TOPLAMA VE DEĞERLENDİRME

1. Aşağıdakilerden hangisi bir araştırma sorusu değildir?

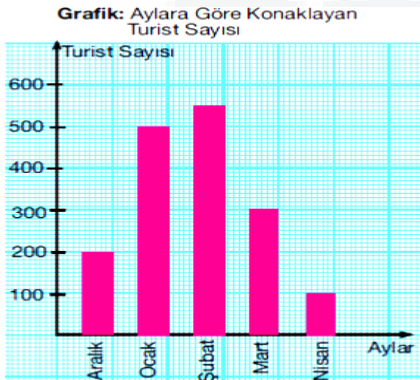
- A) Sitemizdeki kişiler hangi marka araba kullanmayı sever?
- B) Hangi marka arabalar daha çok sevilir?
- C) Spor arabayı hangi yaş grubu daha çok kullanır?
- D) Kullandığınız arabayı neden tercih ettiniz?

2. Bir restoran, müşteri memnuniyetini öğrenmek amacıyla gelen müşterilerine bir anket uyguluyor.

Aşağıdaki sorulardan hangisi bu anket için uygun bir soru değildir?

- A) Ürünlerimizi kaliteli buluyor musunuz?
- B) Servis hızımızdan memnun musunuz?
- C) Restoranımıza kimlerle geliyorsunuz?
- D) Restoranımızı hijyenik buluyor musunuz?

3.



Yandaki grafik bir tatil yoresinde konaklayan turistlerin aylara göre dağılımını göstermektedir.

Toplam konaklayan turist sayısını bulunuz?

- A) 1600
- B) 1650
- C) 1700
- D) 1750

4.

Atılan Basket Sayıları

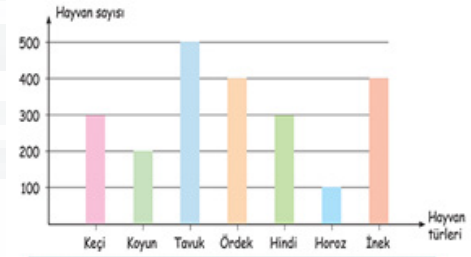
Takım	1.Çeyrek	1.Çeyrek	1.Çeyrek	1.Çeyrek
A	19	20	22	17
B	24	18	?	28

Yukarıdaki tabloda A ve B basketbol takımları arasında oynanan bir maçın her bir çeyreğinde atılan basket sayıları gösterilmiştir.

Maçın sonunda A takımı, B takımından 13 sayı daha az atıyına göre B takımı 3.çeyrekte kaç sayı atmıştır?

- A) 21
- B) 22
- C) 23
- D) 24

5.

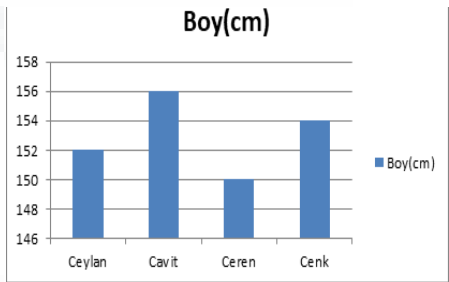


Yukarıdaki grafik bir çiftlikteki hayvan türlerinin sayısını göstermektedir.

Buna göre bu çiftlikteki toplam hayvan sayısı koyun sayısının kaç katıdır?

- A) 11
- B) 22
- C) 100
- D) 200

6.




Buna göre aşağıdakilerden hangisi yanlıştır?

- A) En uzun boylu Cavit'dir.
- B) Boyu 152 cm üstünde olan 3 kişi vardır.
- C) Boyu 152 cm altında olan 1 kişi vardır.
- D) En uzun boylu olan en kısa boylu olandan 6 cm uzundur.

VERİ TOPLAMA VE DEĞERLENDİRME

7. Akçakönak Ortaokulu öğrencilerinden İrmak, matematik dersinde işlediği konuyla ilgili bir çalışma yapmak ister. Söke'de yaşayan İrmak ekim ayındaki bulutlu gün sayısını hafta hafta not almış ve değerlerini 1,0,3,2 olarak bulmuştur.

Bu verilerle oluşturulan tablo aşağıdakilerden hangisi olamaz? (Her  şekli 1 gündür.)

A)

1.hafta	2.hafta	3.hafta	4.hafta
			
			
			

B)

1.hafta	2.hafta	3.hafta	4.hafta
			
			
			

C)

1.hafta	2.hafta	3.hafta	4.hafta
			
			
			

D)

1.hafta	2.hafta	3.hafta	4.hafta
			
			
			

8. Dört arkadaşın sahip oldukları hikaye ve şiir kitapları araştırılmış elde edilen bilgiler aşağıda yorumlanmıştır.

- Meryem'in şiir kitabı hikaye kitabından azdır.
- Selvinaz'ın hikaye ve şiir kitapları eşittir.
- En çok hikaye kitabı Beril'dedir.
- Azizbek'in hikaye kitabı ve şiir kitabından 3 fazladır.

Buna göre hangi tablodaki veriler sahip oldukları hikaye ve şiir kitabı sayıları olabilir?

Kitap Sayıları

A)

İsim	Azizbek	Beril	Selvinaz	Meryem
Şiir	3	1	2	3
Hikaye	6	6	2	1

B)

İsim	Azizbek	Beril	Selvinaz	Meryem
Şiir	4	1	1	1
Hikaye	2	6	1	2

C)

İsim	Azizbek	Beril	Selvinaz	Meryem
Şiir	2	1	3	1
Hikaye	5	6	3	2

D)

İsim	Azizbek	Beril	Selvinaz	Meryem
Şiir	2	1	1	1
Hikaye	5	6	2	3