

**5.**  
**SINIF**



**B**  
**KİTAPÇIK TÜRÜ**

**T.C.**  
**MİLLÎ EĞİTİM BAKANLIĞI**  
**ÖLÇME, DEĞERLENDİRME VE SINAV HİZMETLERİ**  
**GENEL MÜDÜRLÜĞÜ**

**VEHBİ KOÇ VAKFI, KOÇ ÖZEL İLKOKULU VE ORTAOKULU SEVİYE TESPİT SINAVI**  
**(4. Sınıftan 5. Sınıfa Geçenler)**  
**26 MAYIS 2019 Saat: 10.00**

Adayın Adı ve Soyadı : .....

Aday Numarası (T.C. No) : .....

DERS ADI	SORU SAYISI	TOPLAM SORU SAYISI	SINAV SÜRESİ (DAKİKA)
TÜRKÇE	20	100	120
MATEMATİK	20		
FEN BİLİMLERİ	20		
SOSYAL BİLGİLER	20		
İNGİLİZCE	20		

**ÖĞRENCİLERİN DİKKATİNE!**

1. Sınıf öğrenci yoklama listesinde belirtilen sınıfta ve sıra numarasında oturunuz.
2. Cevap kâğıdındaki kimlik bilgilerinin doğruluğunu kontrol ediniz.
3. Kitapçık türünü cevap kâğıdındaki ilgili alana kodlayınız.
4. Cevap kâğıdı üzerindeki kodlamaları kurşun kalemle yapınız.

**SINAV BAŞLAMADAN ÖNCE KİTAPÇIĞIN ARKA KAPAĞINDAKİ UYARILARI MUTLAKA OKUYUNUZ.**



1. Aşağıdakilerin hangisinde “bir niteliğiyle hayran bırakmak” anlamında bir deyim kullanılmıştır?

- A) Solo Türk ekibi uçak gösterileriyle göz kamaştırdı.
- B) Her zaman büyüklerin gönlünü hoş tutmalısın.
- C) Bu şarkının sözleri inan dilimin ucunda.
- D) Kendini beğenmiş insanlara her yerde rastlanır.

2. Aşağıdaki altı çizili sözcüklerden hangisinin eş anlamlısı doğru verilmiştir?

- A) Evimdeki huzuru başka yerde bulamam.   
 güveni
- B) Okulumuzun açılışı hareketli geçti.   
 eğlenceli
- C) Bizim iş yerinde marifetli kişiler aranıyor.   
 hünerli
- D) Mahallemizde park yeri sıkıntısı yaşanıyor.   
 Sokağımızda

3. 1. Sert biri olduğum için benimle çekine-  
rek konuşturlardı.  
2. Ağacın sert gövdesine çarpınca biraz  
canı yandı.  
3. Balıkçılar sert havalarda denize açıl-  
mazlar.  
4. Sert zeminde koşmak bacaklara zarar  
verir.

“Sert” sözcüğü, numaralanmış cümlele-  
rin hangilerinde aynı anlamda kullanıl-  
mıştır?

- A) 1 ve 2.                      B) 1 ve 3.
- C) 2 ve 4.                      D) 3 ve 4.

4. Aşağıdaki altı çizili sözcüklerden han-  
gisi terim anlamlıdır?

- A) Yine nasıl olmuşsa yanımdaki sandalye  
boş kalmış.
- B) Binanın merdivenleri çok dar yapılmış  
bence.
- C) Geçen gün ormanda arkadaşlarla  
kamp yaptık.
- D) Bugün izlediğimiz filmin yönetmeniyle  
önceden tanışmıştım.

5. Aşağıdaki cümlelerin hangisinde karşı-  
laştırma yapılmıştır?

- A) Akdeniz’de yeni bir balık türü keşfedildi.
- B) Erik ağacı bu sene daha çok meyve  
verdi.
- C) Meydandaki heykelin kırılan kısımları  
onarıldı.
- D) Kilim desenleri, onu dokuyan kişinin  
hayallerini yansıtır.

6. Gerçek arkadaşlar, hatalarımızı dile getir-  
mekten çekinmezler.

Aşağıdakilerden hangisi bu cümleye  
anlamca en yakındır?

- A) Dost başa, düşman ayağa bakar.
- B) Dost acı söyler.
- C) Dost kara günde belli olur.
- D) Dost ile ye, iç; alışveriş etme.

7. Hafta sonu, çocukken de seyrettiğim  
“Ormanın Şarkısı” adlı tiyatro oyununu  
izledim.

Bu cümleye göre aşağıdakilerden han-  
gisi kesinlikle söylenir?

- A) Oyunu daha önce de seyretmiştir.
- B) Konusu ormanların yok edilişidir.
- C) Oyunda eğlenceli şarkılar vardır.
- D) Oyunu çok beğenmiştir.

8. Her mevsimin beraberinde getirdiği pek  
çok güzellik vardır. Özellikle de fotoğraf-  
çılığı sevenler için doğa farklı manzaralar  
sunar. Ama fotoğrafçıların dikkat etmesi  
gereken durumlar vardır. Yazın fotoğraf  
çekmek zordur çünkü ışık dik gelir. Kışın  
da hava genelde kapalı olduğu için ya çok  
az ışık vardır ya da hiç yoktur. Bu yüzden  
ışığın şiddeti ve açısı iyi ayarlanmalıdır.

Bu parçaya göre fotoğrafçılıkta önemli  
olan nokta aşağıdakilerden hangisidir?

- A) Farklı manzaralar bulmak
- B) Işığı iyi kullanmak
- C) Yapılan işi sevmek
- D) İyi bir gözlemci olmak

9. 1. Amerika'da bununla ilgili bir araştırma yapılmış.  
2. Hayatın başı sağlık, sağlığın başı da beslenmedir.  
3. Bu araştırmaya göre düzenli kahvaltı yapan çocuklar okulda daha başarılı olmaktadır.  
4. Beslenmenin en önemli basamağı da sabah kahvaltılarıdır.

**Numaralanmış cümlelerle anlamlı bir metin oluşturulduğunda sıralama nasıl olur?**

- A) 1-3-2-4                      B) 1-2-4-3  
C) 2-4-1-3                      D) 2-1-3-4

10. Kültür ve Turizm Bakanlığı, Türk halkını müzelerle buluşturmak için 2008 yılında "Müzekart" projesini hayata geçirdi. Bu kart ile 7'den 70'e herkes, Türkiye'deki 300'ü aşkın müze ve ören yerini gezebiliyor. Müzekart, müze ve ören yerlerindeki satış noktalarından alınabilmektedir.

**Bu parçada "müzekart" ile ilgili aşağıdakilerden hangisine değinilmemiştir?**

- A) Kimlerin yararlanabileceğine  
B) Hangi amaçla çıkarıldığına  
C) Nerelerden alınabileceğine  
D) Kullanım süresine

11. Yıldızlar, gezegenler ve diğer tüm gök cisimleri binlerce yıldır insanlığın anlamaya çalıştığı en büyük gizemlerin başında geliyor.

**Bu cümleden aşağıdaki yargılardan hangisine ulaşılır?**

- A) Teknolojinin gelişmesiyle bilime olan merak daha da artmaktadır.  
B) Bilim insanları uzayda yaşamayı amaçlamaktadır.  
C) Günümüzde insanlar gök cisimleriyle ilgili her türlü bilgiye sahiptir.  
D) İnsanoğlu gök cisimleriyle ilgili bilinmeyenleri ortaya çıkarmaya çalışmaktadır.

12. (1) Dağlar bizi kucağına alıp köyümüze kadar taşıdı. (2) Rahat bir şekilde geldik köyümüze. (3) Köye girer girmez toprağın kokusunu içime çektim. (4) Heyecanım daha da arttı evimizi görünce.

**Bu metindeki numaralanmış cümlelerden hangisi hayalî öge içermektedir?**

- A) 1.                      B) 2.                      C) 3.                      D) 4.

13. Ayçiçeği diyor herkes bana. Güneşe benzediğim ve yüzümü sürekli güneşe döndüğüm için güneşçiçeği, gündöndü, günebakan diyenler de var. İnsanlar beni genellikle yağ üretmek ve çekirdeklerim için yetiştirirler. Haziran ayında çiçek açarım. Haziran ve temmuz aylarında tarlamda enfes bir manzara olur. Eylül ve ekim aylarında ise hasat ederler beni.

**Bu metinde "ayçiçeği" ile ilgili aşağıdaki sorulardan hangisinin cevabı yoktur?**

- A) Neden farklı isim koyulmuştur?  
B) Niçin yetiştirilmektedir?  
C) Hangi bölgelerde ekilmektedir?  
D) Ne zaman biçilmektedir?

14. Aşağıdakilerin hangisinde altı çizili sözcüğün cümlede kazandığı anlam ayraç içinde **yanlış** verilmiştir?

- A) Benim gelmem, kursumun erken bitmesine bağlı. (şart)  
B) Pazardan aldığım incir bal gibiydi. (tatlı olmak)  
C) O kış akşamında şehri büyük bir sis basmıştı. (kaplamak)  
D) Her şeyin başı sağlıktır, demiş atalarımız. (vücudun bir bölümü)



15. Belirli aralıklarla değiştirmemiz gereken eski eşyaları atmak yerine onları dönüştürerek kullanmaya devam edebiliriz. Atacağımız eşyalardan, nesnelerden kendi işlevlerinden farklı yeni bir şeyler üretmek zekâyı geliştirir. Bunu güzel hâle getirebilmek ise yaratıcılık gerektirir.

**Aşağıdakilerden hangisi bu metindeki düşünceye göre ortaya çıkmış bir ürün olabilir?**

A)



B)



C)



D)



16.

### YÖNETİCİ SEKRETERİ ARANIYOR

Şirketimize aşağıdaki şartlara uygun yönetici sekreteri alınacaktır:

- Almanca bilmek
- Bilgisayar kullanabilmek
- Üniversite mezunu olmak
- Büro yönetimi veya sekreterlik bölümünden mezun olmak

**Bu ilana göre, aşağıda özellikleri verilen kişilerden hangisi işe alınmalıdır?**

A) Hayri

- Yabancı dili: İngilizce
- Bilgisayar kullanabiliyor.
- Eğitim durumu: Kocatepe Üniversitesi Sekreterlik Bölümü

B) Leyla

- Yabancı dili: Almanca ve Çince
- Bilgisayar kullanabiliyor.
- Eğitim durumu: Ticaret Meslek Lisesi Büro Yönetimi Bölümü

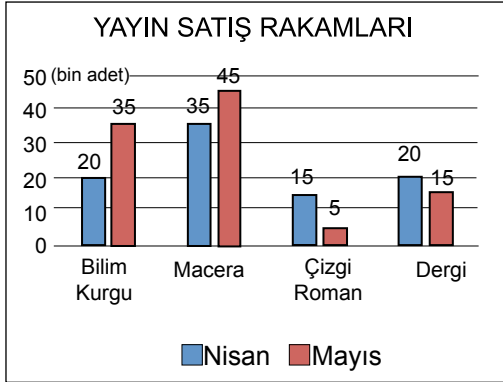
C) İpek

- Yabancı dili: Almanca
- Bilgisayar kullanabiliyor.
- Eğitim durumu: Gazi Üniversitesi Halkla İlişkiler Bölümü

D) Turan

- Yabancı dili: Almanca
- Bilgisayar kullanabiliyor.
- Eğitim durumu: Hacettepe Üniversitesi Büro Yönetimi Bölümü

17. Aşağıdaki grafikte bir kitabevinin nisan ve mayıs ayına ait yayın satış rakamları verilmiştir.



**Bu grafiğe göre yayın satışlarıyla ilgili aşağıdakilerden hangisi yanlıştır?**

- A) Mayıs ayında bilim kurgu kitabı satışları nisana göre düşüktür.  
 B) Her iki ayda da en az çizgi roman satılmıştır.  
 C) Nisan ayında, mayısa göre daha fazla dergi satılmıştır.  
 D) Mayıs ayında macera kitabı satışları nisan ayından fazladır.
18. (1) Sıcak yaz günlerinde turistik yerlerde faytonları çeken atların görüntüsü hepimizi çok üzüyor. (2) Onların o sıcak havada hem faytonu hem de içindeki insanları çekmesi acınacak bir manzara ortaya çıkıyor. (3) Bu görüntülerden rahatsız olan bir girişimci, güneş enerjisiyle çalışan fayton üretti. (4) Bu fayton sayesinde bölgeyi gezmeye gelenler adanın güzelliklerinden mahrum kalmıyor. (5) Umarız bu uygulama yaygınlaşır ve binlerce yıldır insanlara hizmet eden atlar da yazın gölgelerinde dinlenir.
- Bu metnin ilk cümlesindeki soruna, numaralanmış cümlelerin hangisinde bir çözüm bulunmuştur?**
- A) 2. B) 3. C) 4. D) 5.

19. Ya ( ) Senin kedin de mi kaybolmuş ( ) Evde her yere baktın mı ( ) Birlikte çıkıp etrafta arayalım şimdi ( )

**Bu metinde ayraçla gösterilen yerlere sırasıyla aşağıdaki noktalama işaretlerinden hangileri getirilmelidir?**

- A) (...) (!) (.) (!)  
 B) (...) (?) (?) (!)  
 C) (!) (...) (!) (.)  
 D) (!) (?) (?) (.)

20. Vapur o kadar eskimiştiki seferlerini çok zor <sup>1</sup> <sup>2</sup> tamamlıyordu. Dile kolay yirmi beş yıldır <sup>3</sup> dalgaların üzerinde yol alıyordu. Gövdesi de <sup>4</sup> yıpranmıştı iyice.

**Bu metinde numaralanmış yerlerin hangisinde yazım yanlışı yapılmıştır?**

- A) 1. B) 2. C) 3. D) 4.



1.



Buket

Artan bir sayı örüntüsü oluşturduğumuzda örüntüdeki ilk terim 25 olsun. Sayılar yedişer artarak devam etsin.

**Buket'in ifade ettiği sayı örüntüsündeki 9 ve 10. sayılar sırasıyla aşağıdakilerden hangisidir?**

- A) 60 ve 67                      B) 67 ve 74  
C) 74 ve 81                      D) 81 ve 88

2. Öğretmen, Ayşe'ye "iki yüz bin elli" sayısının onlar ve yüzler basamağının yerlerini değiştirerek defterine yazmasını istiyor.

**Buna göre öğretmenin Ayşe'den yazmasını istediği sayı kaçtır?**

- A) 200 500                      B) 200 050  
C) 200 005                      D) 20 500

3. Çiftçi Süleyman 1274 tane fidanın önce 125 tanesini, sonra 280 tanesini dikmiştir.

**Buna göre geriye dikilecek kaç fidan kalmıştır?**

- A) 994    B) 986    C) 869    D) 689

4.



Alya



Bora



Canan



Derya

Öğretmenleri Alya ve Bora'ya en yakın onluğa, Canan ve Derya'ya en yakın yüzlüğe yuvarlamaları için yukarıdaki sayı yazılı kartları veriyor.

**Buna göre aşağıdakilerden hangisi yanlıştır?**

- A) Alya'nın bulduğu sayı, Bora'nın bulduğu sayıdan küçüktür.  
B) En küçük sayıyı Alya bulmuştur.  
C) Bora'nın bulduğu sayı, Canan'ın bulduğu sayıdan büyüktür.  
D) Canan ve Derya'nın bulduğu sayılar birbirine eşittir.

5.

$$\begin{array}{r} \triangle 425 \\ + 5 \blacksquare 4 \bullet \\ \hline 9668 \end{array}$$

**Yukarıdaki toplama işlemine göre**

**$\triangle + \blacksquare + \bullet$  kaçtır?**

- A) 9    B) 10    C) 11    D) 12

6. Bir yemekhanede 2 sıra ve her sırada 32 öğrenci vardır.

**Her öğrenci, 3 kap yemek ve 1 tane portakal yediğine göre yenilen toplam yemek ve portakalların miktarı için aşağıdakilerden hangisi doğrudur?**

- A) 192 kap yemek, 64 tane portakal  
B) 190 kap yemek, 64 tane portakal  
C) 64 kap yemek, 64 tane portakal  
D) 64 kap yemek, 128 tane portakal

7. Bir manav, tezgahındaki elmaların birinci gün  $\frac{5}{17}$ 'ini, ikinci gün  $\frac{4}{17}$ 'ünü satmıştır.

**Geriye elmaların kaçta kaç kalmıştır?**

- A)  $\frac{9}{17}$  B)  $\frac{8}{17}$  C)  $\frac{2}{17}$  D)  $\frac{1}{17}$

8. Ali  $\frac{3}{4}$  bardak, Ayşe  $\frac{2}{4}$  bardak, Fatma  $1\frac{1}{4}$  bardak süt içmiştir.

**Buna göre içtikleri süt miktarının büyükten küçüğe doğru sıralanışı aşağıdakilerden hangisidir?**

- A)  $\frac{3}{4} > \frac{2}{4} > 1\frac{1}{4}$  B)  $\frac{2}{4} > \frac{3}{4} > 1\frac{1}{4}$   
C)  $1\frac{1}{4} > \frac{2}{4} > \frac{3}{4}$  D)  $1\frac{1}{4} > \frac{3}{4} > \frac{2}{4}$

9.

$$\begin{array}{r} 2 \triangle 5 \\ \times 4 \blacksquare \\ \hline 2115 \\ + 94 \star \\ \hline 115 \bullet 5 \end{array}$$

**Verilen çarpma işlemine göre**

$\triangle + \blacksquare + \star + \bullet$  kaçtır?

- A) 14 B) 13 C) 12 D) 11

10. Aşağıda verilen bölme işlemlerinden hangisinde bölüm, bir basamaklı bir sayıdır?

A)  $425 \overline{)38}$

B)  $348 \overline{)27}$

C)  $536 \overline{)54}$

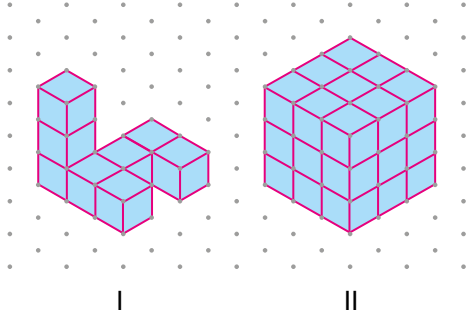
D)  $685 \overline{)60}$

11. Aylin Hanım çalışma günlerinde eşit sürede çalışarak 3 haftada toplam 120 saat çalışmıştır.

**Aylin Hanım hafta sonları çalışmadığına göre günlük çalışma süresi kaç saattir?**

- A) 6 B) 7 C) 8 D) 9

12.

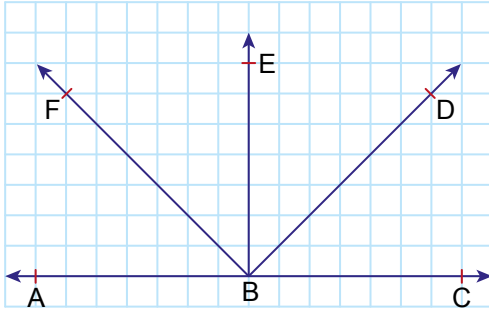


I. yapı birim küplerle oluşturulmuştur.

I. yapıya kaç birim küp eklenirse küp şeklindeki II. yapı elde edilir?

- A) 19      B) 20      C) 21      D) 22

13.



Şekle göre aşağıdakilerden hangisi yanlıştır?

- A) CBD açısı dar açıdır.  
B) CBE açısının ölçüsü  $90^\circ$  dir.  
C) CBF açısı geniş açıdır.  
D) ABE açısının ölçüsü  $180^\circ$  dir.

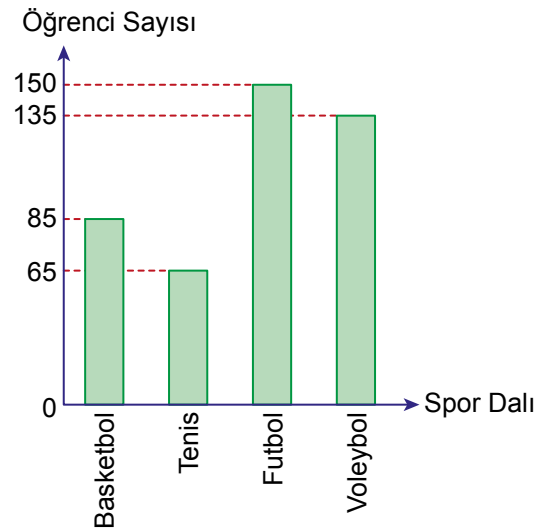
14. Okul öğretmenler kurulu toplantısı saat 09.00'da başlamış, her 1 saat sonrasında 10 dakika mola verilmiştir.

Toplantıda toplam 2 kez mola verildiğine göre ikinci mola saat kaçta bitmiştir?

- A) 10.10      B) 10.30  
C) 11.10      D) 11.20

15. Aşağıdaki sütun grafiği, bir okuldaki öğrencilerin en sevdikleri spor dallarının öğrenci sayısına göre dağılımını göstermektedir.

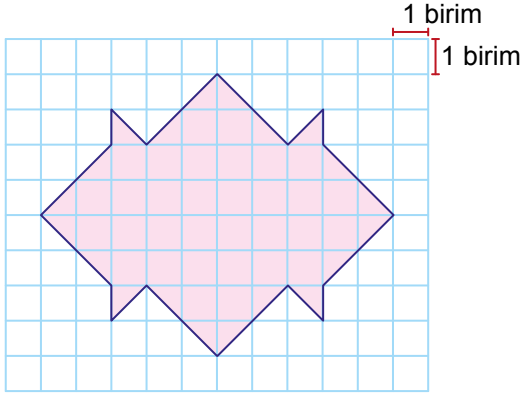
**Grafik:** Bir Okuldaki Öğrencilerin En Sevdikleri Spor Dalı



Grafiğe göre aşağıdakilerden hangisi yanlıştır?

- A) Okuldaki toplam öğrenci sayısı 435'tir.  
B) Futbolu seven öğrenciler, voleybolu seven öğrencilerden 15 fazladır.  
C) Tenisi seven öğrenciler, basketbolu seven öğrencilerden 20 fazladır.  
D) En çok sevilen spor dalı futboldur.

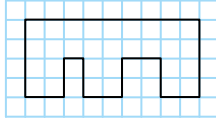
16.



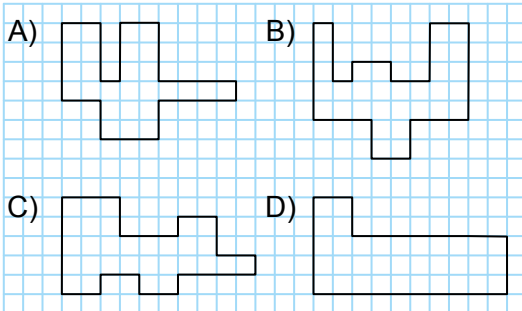
Verilen şeklin alanı kaç birimkaredir?

- A) 34      B) 42      C) 48      D) 54

17.



Verilen şekille aynı çevre uzunluğuna sahip olan şekil aşağıdakilerden hangisidir?

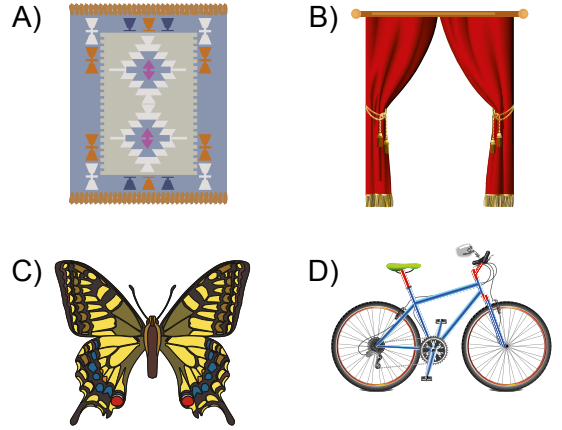


18. Okula gitmek için evinden çıkan Emre, önce 1 km 600 m uzaklıktaki markete, sonra marketten 1 km 550 m uzaklıktaki kırtasiyeye uğramıştır.

Emre, okula gittiğinde toplam 4 km yol aldığına göre kırtasiyeden okula gitmek için aldığı yol kaç metredir?

- A) 950      B) 850      C) 750      D) 650

19. Aşağıdaki şekillerden hangisi simetrik değildir?



20. Ahmet Bey manavdan 2 kg 250 g elma, 2 kg armut ve bir miktar portakal alıyor.

Ahmet Bey, toplam 7 kg meyve aldığına göre ne kadar portakal almıştır?

- A) 3 kg      B) 2 kg 750 g  
C) 2 kg 250 g      D) 2 kg

MATEMATİK TESTİ BİTTİ.  
FEN BİLİMLERİ TESTİNE GEÇİNİZ.



1. Geri dönüşüm ile ilgili sorular ve bu sorulara verilen cevaplar tablodaki gibidir.

I.	Atık miktarında azalma olur mu?	Evet
II.	Depolama alanlarında daha az çöp birikir mi?	Evet
III.	Doğal kaynak tüketimini azaltır mı?	Hayır
IV.	Enerji tasarrufu sağlanır mı?	Evet

Buna göre numaralı sorulardan hangisi yanlış cevaplandırılmıştır?

- A) I.      B) II.      C) III.      D) IV.

2. Suyu tasarruflu kullanma konusunda bilinçli olan Zeynep Hanım evinde aşağıdakilerden hangisini yapmamıştır?

- A) Su damlatan muslukları tamir ettirmiştir.  
 B) Sebze ve meyveleri yıkarken çok fazla su kullanmıştır.  
 C) Yumurta haşladığı suyu çiçekleri sulamada kullanmıştır.  
 D) Makarna haşladığı suyu çorba yapmada kullanmıştır.

3. Bir öğrenci sağlıklı ve dengeli beslenmeye uygun olarak kahvaltı için tablodaki besinlerden seçim yapıyor.

Yumurta ①	Zeytin ②	Süt ③
Bal ④	Tahıllı ekmek ⑤	Kremalı bisküvi ⑥
Asitli gazoz ⑦	Peynir ⑧	Pasta ⑨

Buna göre kaç numaralı besinleri seçmesi uygun olmaz?

- A) 1, 3, 4      B) 2, 4, 8  
 C) 3, 5, 8      D) 6, 7, 9

4. Pelin bir gün annesi ile alışverişe çıktığında öğretmeninin Fen Bilimleri dersinde besinleri satın alırken ve tüketirken nelere dikkat edilmesi gerektiğini anlattığından bahsetmiştir.

Buna göre aşağıda verilenlerden hangisi Pelin'in öğretmeninin anlattıklarından biridir?

- A) Paketi açılmış olsa da besinleri satın alabiliriz.  
 B) Taze ve doğal besinleri tüketmeliyiz.  
 C) Son kullanma tarihi geçmiş olan ürünleri tüketebiliriz.  
 D) Dondurulmuş gıdalardan çözünmüş olanlarını tekrar dondurmamız.




5. Bir öğrenci aynı tür naylon poşetlere ekmek, elma ve peynir dilimlerini koyup poşeti hava almayacak şekilde kapatıyor. Poşetleri aynı ortamda üç gün süreyle beklettikten sonra poşetlerde şekildeki gibi su damlacıklarının biriktiğini görüyor.



Ekmek dilimleri



Elma dilimleri



Peynir dilimi

**Öğrenci sadece bu gözlemine göre aşağıda verilen sorulardan hangisine cevap arıyor olabilir?**

- A) Besinlerin yapısında su bulunur mu?
- B) Besinlerin yapısında mineral bulunur mu?
- C) Besinlerin yapısında vitamin bulunur mu?
- D) Besinlerin yapısında protein bulunur mu?

6. Bir öğrenci, insanın beslenmesinde yer alan çeşitli besin içeriklerini ve bu besin içeriklerinin vücudumuzdaki öncelikli görevlerini aşağıdaki tabloda eşleştirmiştir.

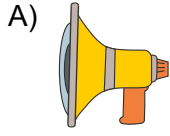
Besin içerikleri	Görevi
Proteinler	Yaraların onarılması ve iyileşmesinde görev alır.
Vitaminler	Yürüme, koşma için enerji üretmede görev alır.
Karbonhidratlar	Hastalıklara karşı vücut direncinin artırılmasında görev alır.

**Buna göre yapılan eşleştirmeler için aşağıdakilerden hangisi söylenebilir?**

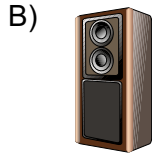
- A) Öğrencinin yapmış olduğu eşleştirmelerin hepsi doğrudur.
- B) Karbonhidrat ve vitaminlerin görevleri birbiriyle yer değiştirdiğinde eşleştirmeler doğru olur.
- C) Proteinler ve vitaminlerin görevleri birbiriyle yer değiştirdiğinde eşleştirmeler doğru olur.
- D) Proteinler ve karbonhidratların görevleri birbiriyle yer değiştirdiğinde eşleştirmeler doğru olur.



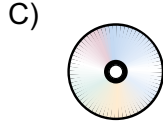
7. Aşağıdakilerden hangisi sesin düzeyini değiştirerek daha rahat duyulmasına yardımcı olan teknolojik araçlardan biri değildir?



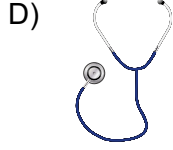
Megafon



Hoparlör



CD




Steteskop

8. Aşağıdakilerden hangisi ışık kirliliği ile ilgili alınacak önlemlerden biridir?

- A) Binalarda harekete duyarlı lambalar kullanmak  
B) Reklam amaçlı kullanılan panoları sürekli aydınlatmak  
C) Sokak lambalarının gündüz de sürekli ışık vermesini sağlamak  
D) Evimizin salonunu aydınlatmak için çok sayıda aydınlatma aracı kullanmak

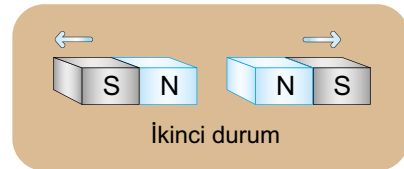
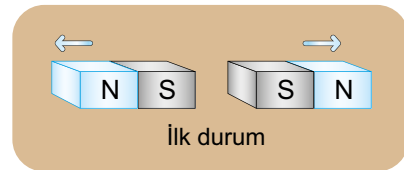
9. Emrelerin evinin salonunda dört farklı aydınlatma aracının konulduğu yerler gösterilmiştir.



Emre, salonda yemek yerken kaç numaralı aracı seçerse en uygun aydınlatmayı sağlar?

- A) 1 B) 2 C) 3 D) 4

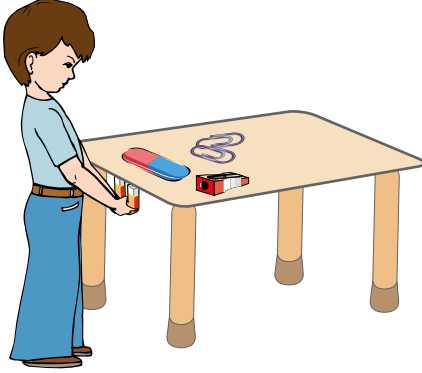
10. Bir öğrenci iki tane çubuk mıknatısı şekildeki gibi birbirine yaklaştırdığında mıknatısların birbirini ittiğini gözlemliyor. Daha sonra iki mıknatısı da ters yöne çevirip yeniden birbirine yaklaştırdığında mıknatısların yine birbirini ittiğini fark ediyor.



Bu durum mıknatısın hangi özelliği ile açıklanır?

- A) Demir, nikel ve kobaltı çekmesi  
B) Aynı kutupların birbirini itmesi  
C) Zıt kutupların birbirini çekmesi  
D) Temas olmadan maddeleri çekmesi

11. Bir öğrenci, tahta masanın üzerine şekildeki gibi plastik silgiyi, ataş ve demir kalemıraşı yerleştiriyor. Daha sonra masanın altından bir mıknatıs tutarak bu cisimleri hareket ettirmeye çalışıyor.



Bu öğrenci, ataş ve kalemıraşın hareket ettiğini, plastik silginin ise hareket etmediğini gözlemliyor.

**Buna göre aşağıdakilerden hangisi doğrudur?**

- A) Mıknatıs cisimlerin tamamına etki etmiştir.
- B) Ataş hareket ettiği için plastikten yapılmış olabilir.
- C) Mıknatıs cisimlere temas ederek onları hareket ettirmiştir.
- D) Silgi plastikten yapıldığı için hareket etmemiştir.


12. Şekillerde kuvvetin cisimler üzerindeki etkilerine örnekler veriliyor.



Duran topa vuruyor



Odun parçasını kırıyor

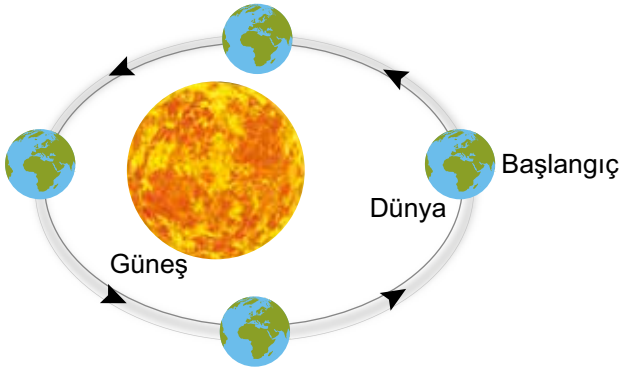


Bisikletin frenine basarak duruyor

**Bu örneklerle bakılarak kuvvetin etkileri ile ilgili aşağıdakilerden hangisi söylenemez?**

- A) Cisimlerin şeklini değiştirebilir.
- B) Uygulandığı her cismi durdurur.
- C) Duran cisimleri hareket ettirebilir.
- D) Cisimleri yavaşlatabilir.

13. Dünya'nın hareketlerinden birinin, başlangıç noktası ve hareket yönü şemadaki gibi gösterilmiştir.



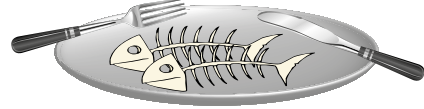
Buna göre şema ile ilgili aşağıdakilerden hangisi doğrudur?

- A) Dünya'nın Güneş etrafındaki dolanma hareketidir.
- B) Dünya'nın başlangıç noktasına tekrar gelmesi için bir gün süre gerekir.
- C) Gece ve gündüz Dünya'nın bu hareketi sonucu oluşur.
- D) Dünya'nın kendi etrafındaki dönme hareketidir.

14. Bir canlıya ait kalıntının fosilleşebilmesi için çeşitli süreçlerden geçmesi gerekir. Bu süreçte ilk olarak kalıntının hava ile teması kesilir ve canlıya ait izler taşlaşır.

Buna göre aşağıda verilenlerden hangisi bir canlıya ait fosil olamaz?

A)




Tabaktaki balık kılçıkları

B)



Reçine içinde bulunan böcek

C)



Buzul içinde bulunan mamut

D)



Kayaç içinde bulunan dinazor

15. Bir öğrenci bazı karışımları oluşturan maddeleri birbirinden ayırmak için uygun olduğunu düşündüğü yöntemleri tablodaki gibi belirlemiştir.

	Karışımı oluşturan maddeler	Ayırma yöntemi
I.	Kum ve çakıl taşı	Eleme
II.	Demir tozu ve tuz	Mıknatıslama
III.	Su ve kolonya	Süzme

Buna göre karışımları oluşturan maddeleri birbirinden ayırmak için belirlenen yöntemlerden hangileri doğrudur?

- A) Yalnız I. B) Yalnız II.  
C) I ve II. D) II ve III.

16. Şekilde çeşitli maddelerle yapılan işlemler gösterilmiştir.



Kalıba dökülen sıvı demir bekletildiğinde katı hâle geliyor.

I



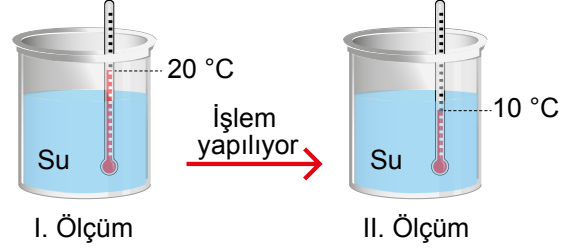
Isıtılan buzun tamamı sıvı hâle geliyor.

II

Bu işlemler sırasında gerçekleşen olaylar ile ilgili yapılan yorumlardan hangileri doğrudur?

- A) I. işlemde erime olayı gerçekleşmektedir.  
B) II. işlemde buz ısı vermektedir.  
C) I. işlemde demir dışarıdan ısı almaktadır.  
D) II. işlemde erime olayı gerçekleşmektedir.

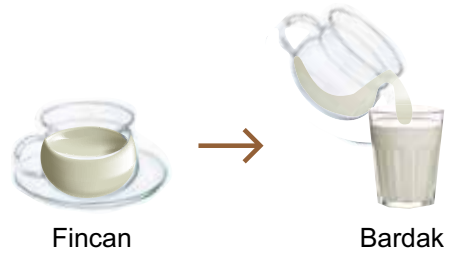
17. Yapılan deneyde bir kaba bir miktar su konulup termometre ile suyun sıcaklığı 20 °C ölçülüyor. Daha sonra bir işlem yapılıyor ve kaptaki suyun sıcaklığı tekrar ölçüldüğünde sıcaklığın 10 °C olduğu gözlemleniyor.



Buna göre bu deneyde aşağıdaki işlemlerden hangisi yapılmış olabilir?

- A) Kap, buzdolabına konulup bir süre bekletilmiştir.  
B) Kaba kaynamakta olan bir miktar sudan eklenmiştir.  
C) Kap, ocakta bir süre ısıtılmıştır.  
D) Kap, güneş ışığı alan bir yerde bekletilmiştir.

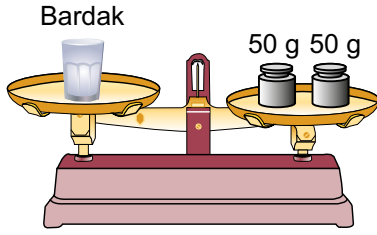
18. Bir öğrenci şekildeki gibi tamamı süt ile dolu olan fincandaki sütü, bir bardağa dökerek gözlemliyor.



Öğrencinin yapmış olduğu bu etkinlikte süt ile ilgili aşağıdaki yorumlardan hangisi yapılamaz?

- A) Sıvı hâledir.  
B) Akışkan özelliktedir.  
C) Bulunduğu kabın şeklini alır.  
D) Belirli bir hacmi yoktur.

19. Bir öğrenci şekildeki boş bardak ve eşit kollu teraziye kullanarak ölçüm yapıyor.



Öğrencinin ölçümü ile ilgili aşağıdakilerden hangisi doğrudur?

- A) Bardağın kütlesi 50 g'dır.
- B) Bardağın hacmi 50 g'dır.
- C) Bardağın kütlesi 100 g'dır.
- D) Bardağın hacmi 100 g'dır.

20. Ali ve Tuna çeşitli malzemelerden birini seçerek sorularla malzemenin ne olduğunu bulmayı amaçlayan bir oyun oynuyorlar.

Ali: Suda yüzer mi?

Tuna: Evet

Ali: Suyu emer mi?

Tuna: Hayır

Ali: Mıknatıs tarafından çekilir mi?

Tuna: Hayır

Ali, sorduğu sorular ile bu malzemenin ne olduğunu buluyor.

**Buna göre Tuna'nın seçtiği malzeme aşağıdakilerden hangisi olabilir?**

- A) Demir bilye
- B) Sünger
- C) Pamuklu kumaş
- D) Tahta kaşık



1. Dünya üzerindeki tatlı sular tarımda, endüstride, barajlardaki elektrik üretiminde büyük öneme sahiptir. Suyun bilinçsiz tüketimi tatlı su kaynaklarının tükenmesine neden olmaktadır. Bu nedenle suyu israf etmemek için alabileceğimiz bazı önlemler vardır.

**Aşağıdakilerden hangisi alabileceğimiz bu önlemlerden biri değildir?**

- A) Evimizdeki bozuk muslukları tamir ettirmek
- B) Duş sırasında suyu sürekli açık bırakmak
- C) Sebzeleri yıkadığımız suyla çiçekleri sulamak
- D) Dişlerimizi fırçalarken musluğu kapatmak

2. Birinci Dünya Savaşı sona erdiğinde yurdumuz galip devletlerin işgaline uğramıştı. Bu durum karşısında bazı kişiler işgalcilere karşı direnmenin faydasız olduğunu, güçlü bir devletin koruyuculuğu altına girmek gerektiğini söylemiştir. Mustafa Kemal ise başka bir devletin koruyuculuğu altına girmeyi kabul etmemiştir.

**Mustafa Kemal'in bu tutumu aşağıdaki kavramlardan hangisine önem verdiğini gösterir?**

- A) Bağımsızlık
- B) Bilimsellik
- C) Yenilikçilik
- D) Eğitimcilik

3.

Çocuklar, özgürlüklerimiz sınırsız değildir. Evde, okulda, sokakta istediğimiz gibi davranamayız. Çevreye karşı yerine getirmemiz gereken sorumluluklarımız vardır. Sözlerimiz, kararlarımız ve hareketlerimiz bize sorumluluklar yükler.



**Öğretmenin yaptığı açıklamaya göre aşağıdaki öğrencilerden hangisi sorumluluklarını yerine getirmemiştir?**

A)



Evimizde beslediğimiz köpeğimin bakımında anneme yardımcı oluyorum.

B)



Aileme derslerimde başarılı olacağıma söz verdiğim için ödevlerimi zamanında yapıyorum.

C)



Okuldaki grup çalışmalarında görevlerimi başka arkadaşlarıma yaptırıyorum.

D)



Evde kirlenen çamaşırlarımı kirli sepetine atıyorum.

4. Yılmaz ailesi, geçimlerini sağlamak için köylerindeki tarlalarını ekip biçerek ürün elde etmektedir.

**Buna göre Yılmaz ailesinin yaptığı ekonomik faaliyet aşağıdakilerden hangisidir?**

- A) Hayvancılık
- B) Tarım
- C) Sanayi
- D) Turizm

5. Aşağıda cep telefonunun kullanım kılavuzundan bir bölüm verilmiştir.

**Cep Telefonu Kullanım Kılavuzu**

Islak elle güç kablosuna ve cihaza dokunmayınız. Bu durum size zarar verebilir veya cihazınızda hasarlara sebep olabilir.

**Bu kılavuzdaki öneri aşağıdakilerden hangisine yöneliktir?**

- A) Enerji tasarrufuna
- B) Temizlik ve bakıma
- C) Pilin şarj edilmesine
- D) Güvenlik bilgilerine

6. Esma: “Her çocuk okula gitme hakkına sahiptir. Çocukların okula düzenli bir şekilde devam etmesi için gerekli önlemler alınmalıdır.”


**Esma’nın ifadeleri hangi çocuk hakkı ile ilgilidir?**

- A) Sağlık
- B) Beslenme
- C) Eğitim
- D) Barınma

7. Aşağıdakilerden hangisi teknolojik gelişmelerin hayatımıza olumlu etkilerinden biridir?

- A) Çevredeki yeşil alanların azalması
- B) Hava ve gürültü kirliliğinin artması
- C) Taşıtların artmasıyla park sorunların yaşanması
- D) İnternet sayesinde bilgilere daha kolay ulaşılabilmesi

8. Aşağıdaki teknolojik araçlardan hangisi temizlik alanında kullanılır?



Çamaşır Makinesi



Fırın



Buzdolabı



Bilgisayar

9. Aşağıdaki tabloda Millî Mücadele döneminde Batı Cephesi'nde yapılan savaşlar ve sonuçları verilmiştir.

Batı Cephesi'nde Yapılan Savaşlar	Sonuçları
İnönü Savaşları	TBMM'ye güven arttı.
Kütahya-Eskişehir Muharebesi	Kütahya ve Eskişehir Yunan işgaline uğradı.
Sakarya Savaşı	M. Kemal Paşa'ya gazi unvanı verildi.
Başkomutanlık Meydan Muharebesi	Yunan ordusu geri çekildi.

Verilen savaşlardan hangisinin sonucu geçici olarak olumsuz bir durum oluşturmuştur?

- A) İnönü Savaşları  
B) Kütahya-Eskişehir Muharebesi  
C) Sakarya Savaşı  
D) Başkomutanlık Meydan Muharebesi





10. İstek ve ihtiyaçlarımızla ilgili verilen bilgilerden hangisi doğrudur?

- A) Bütün insanlar aynı isteklere sahiptir.  
B) Alışverişte isteklere öncelik verilmelidir.  
C) İhtiyaçlarımızın şiddeti her zaman aynıdır.  
D) Sağlıklı bir hayat için temel ihtiyaçlar giderilmelidir.

11. Aşağıdakilerden hangisi depreme karşı almamız gereken önlemlerden biridir?

- A) Akarsu yataklarına baraj yapmak  
B) Doğal bitki örtüsünü korumak  
C) Binaları sağlam zeminler üzerine yapmak  
D) Dik yamaçları teraslayarak eğimi azaltmak

12. Aşağıdaki tabloda bir bölgenin beş günlük hava olayları verilmiştir.

Günler	Pazartesi	Salı	Çarşamba	Perşembe	Cuma
Hava Olayı					

Doğa yürüyüşüne gidecek olan bir grup arkadaş, yağmurun ya da karın yağmadığı bir günü seçecektir.

**Buna göre bu grubun tercih edebileceği günler aşağıdakilerden hangisinde tam olarak verilmiştir?**

- A) Perşembe-Cuma  
B) Salı-Perşembe  
C) Pazartesi-Cuma  
D) Salı-Çarşamba



13. Çevremizde doğal ve beşerî unsurlar vardır. Doğal unsurlar doğada kendiliğinden bulunur. Beşerî unsurlar ise insan aklının ve emeğinin ürünleridir.

**Buna göre aşağıdaki yerlerden hangisi beşerî unsura örnektir?**

A)



Konya Ovası

B)



Muradiye Şelalesi

C)



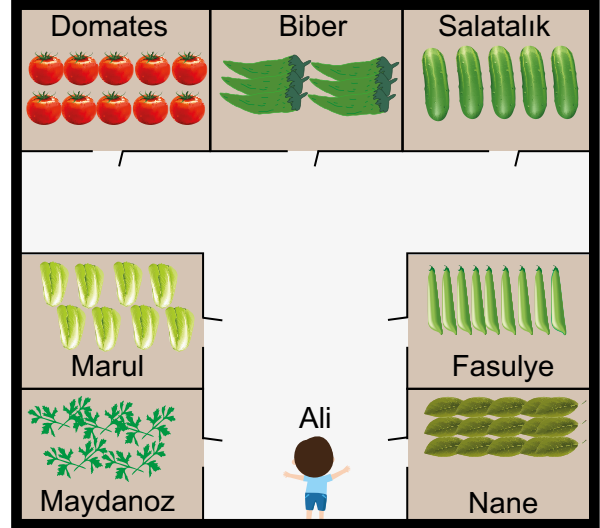
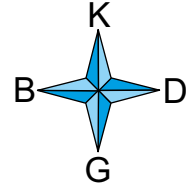
Belgrad Ormanı

D)



Atatürk Barajı

14. Ali, bir marketin meyve ve sebze bölümünden salatalık alacaktır. Bölümün tepeden görüntüsü aşağıdaki gibidir.



**Ali, salatalık almak için bulunduğu yerden sırasıyla hangi yönlerde ilerlemelidir?**

- A) Kuzey, batı, güney  
B) Kuzey, doğu, kuzey  
C) Doğu, güney, batı  
D) Güney, batı, kuzey

15. Aile tarihimiz hakkında araştırma yaparken sözlü, yazılı, görsel kaynaklardan ve çeşitli nesnelerden yararlanabiliriz.

**Aşağıdakilerden hangisi yararlanabileceğimiz yazılı kaynaklardan biridir?**

- A) Radyo  
C) Mektup  
B) Fotoğraf  
D) Köstekli saat

16. Camiler, kervansaraylar, köprüler ve medreseler millî kültürümüzü yansıtan öğelerdendir.

**Yukarıda verilen örnekler hangi kültürel unsurumuza aittir?**


- A) El sanatları  
B) Halk oyunları  
C) Gelenek ve görenekler  
D) Mimari yapılar

17. Her insanın fiziksel özellikleri, kişilik özellikleri ve yetenekleri birbirinden farklıdır. Bu nedenle toplumsal ilişkilerimizde kendimizi karşıımızdaki insanın yerine koyarak duygularını ve düşüncelerini anlamaya çalışmalıyız. Buna - - - - denilmektedir.

**Verilen metinde boş bırakılan yere aşağıdakilerden hangisi yazılmalıdır?**

- A) yetenek  
C) ayrıcalık  
B) istek  
D) empati

18. Aşağıda Ömer'in hayatındaki önemli gelişmeler numaralandırılarak karışık olarak verilmiştir.



2009'da doğdum.



2015'te anaokuluna başladım.



2012'de kardeşim doğdu.



2010'da konuşmaya başladım.



2018'de gitar kursuna başladım.

**Bu gelişmelerin kronolojik sıralaması aşağıdaki seçeneklerin hangisinde doğru olarak verilmiştir?**

- A) 1-4-3-2-5  
C) 2-4-1-3-5  
B) 1-2-3-4-5  
D) 5-4-3-2-1

19. Bir öğretmen, öğrencilerine bireysel farklılıklara saygıyla ilgili aşağıdaki gibi bir tablo hazırlamıştır.

	Cümleler	Doğru	Yanlış
1.	Arkadaşlarımızın karakterlerini değiştirmeye çalışmalıyız.		
2.	Her insanın farklı duygu ve düşüncelere sahip olduğunu kabul etmeliyiz.		
3.	İnsanların fiziksel özellikleriyle dalga geçmeliyiz.		

**Bireysel farklılıklara saygılı olan bir öğrenci tabloyu doldurduğunda doğru cevap anahtarı aşağıdakilerden hangisi gibi olmalıdır?**

- A)
- |    | Doğru | Yanlış |
|----|-------|--------|
| 1. | x     |        |
| 2. |       | x      |
| 3. | x     |        |
- B)
- |    | Doğru | Yanlış |
|----|-------|--------|
| 1. | x     |        |
| 2. | x     |        |
| 3. |       | x      |
- C)
- |    | Doğru | Yanlış |
|----|-------|--------|
| 1. |       | x      |
| 2. | x     |        |
| 3. |       | x      |
- D)
- |    | Doğru | Yanlış |
|----|-------|--------|
| 1. |       | x      |
| 2. |       | x      |
| 3. | x     |        |

20. Kardelen, çizim yapmaya ilgi duyan bir öğrencidir. Çizimlerinde kullandığı renklerin hayal dünyasını yansıttığını düşünmektedir. Bu ilgisi nedeniyle okulundaki sosyal kulüplerden birine katılacaktır.


**Buna göre Kardelen aşağıdaki sosyal kulüplerden hangisine katılmalıdır?**

- A) Folklor kulübü  
B) Resim kulübü  
C) Çevre koruma kulübü  
D) Bilinçli tüketici kulübü



1 - 11. sorularda boş bırakılan yere uygun gelen kelime ya da ifadeyi işaretleyiniz.

1.

	riding a scooter	drawing pictures	playing chess	reading comics
Abby	✓	✗	✓	✗

Abby likes - - - -, but she dislikes - - - -.

- A) riding a scooter / playing chess
- B) playing chess / drawing pictures
- C) reading comics / riding a scooter
- D) drawing pictures / reading comics

2. Mary is from the USA. She is - - - -.

- A) American
- B) Russian
- C) German
- D) British

3.



Lisa : Where is Adana?

Carol : It is in the - - - - of Turkey.

- A) west
- B) north
- C) south
- D) east


4. Sam : Give me the book, please.

Katrin : - - - -.

Sam : Thanks.

- A) Give me the blue book
- B) I want my books
- C) Leave it here
- D) Here you are

5.



- A) Where is the jar
- B) Whose jar is this
- C) What is this in English
- D) Who is this in the picture

6. David : What's your favorite number?

Johnny : It is - - - -.


- A) at eight
- B) forty-nine
- C) ten o'clock
- D) five years old

7. Emily : What time do you go to bed?

Mia : - - - -.

- A) At ten p.m
- B) In winter
- C) In January
- D) On Monday

8.



**Jane** : Good morning, Mr. Bell. - - - -?

**Mr. Bell** : Good morning, Jane. Yes, please.

- A) Can you speak English
- B) May I ask your name
- C) Can you go out
- D) May I come in

9. **Tina** : - - - -?

**Kate** : He is a vet.

- A) What does he do
- B) What does he like
- C) How does he work
- D) When does he work

**10. Albert** : Let's start our experiment. First, put the pebbles into the jar. Now, put some oil on the pebbles.

**Marie** : - - - -.

**Albert** : Put some oil on the pebbles.

- A) I think so
- B) Yes, I can
- C) Say that again, please
- D) Make a hole for the plant

11.



There aren't any - - - - on the table.

- A) rulers
- B) erasers
- C) sharpeners
- D) pencilcases

12.



Verilen görsele göre boş bırakılan yere aşağıdakilerden hangisi getirilemez?

Today Lucy wears her - - - -.

- |             |               |
|-------------|---------------|
| A) boots    | B) T-shirt    |
| C) trousers | D) sunglasses |

13.



Jack

Jack'in özelliklerinin doğru verildiği seçenek aşağıdakilerden hangisidir?

Jack - - - -.

- A) is old and he has got moustache
- B) is slim and he has got blond hair
- C) has got curly hair and he is tall
- D) has got short hair and beard


14.



Verilen görsele göre aşağıdakilerden hangisi doğrudur?

- A) The book is in front of the table
- B) The ruler is under the books
- C) The pencils are in the box
- D) The toys are on the table

15.



Bouncy

Verilen görsele göre aşağıdakilerden hangisi söylenebilir?

Bouncy - - - -.

- A) can't wear a hat
- B) can wear socks
- C) can wear shoes
- D) can't wear trousers

16. For this experiment we need three glasses, water colorings and a paper towel. First, line up three glasses and then, - - - -.



Verilen görsel yukarıdaki deneyin hangi aşamasını göstermektedir?

- A) fill them with water
- B) cut the paper towel
- C) leave the glasses near the window
- D) drop red food coloring into the water

17. "Don't cut" cümlesini ifade eden görsel aşağıdakilerden hangisidir?

A)



B)



C)



D)



- 18.

Hi, I'm Alex. I'm in Paris now. It is sunny and hot.



Alex

Alex'in verdiği bilgiye göre Paris'te hava durumu nasıldır?

A)



B)



C)



D)



19 - 20. soruları aşağıdaki parçaya göre cevaplandırınız.

Hi, I'm John Black. I'm a chef and I work at a restaurant. On weekdays, I wake up early in the morning and I have coffee for breakfast. I like reading, riding a bike and playing chess. At weekends, I wake up late, I have a big breakfast with my family and I don't go to work.

19. At weekends, he - - - .

- A) has breakfast with his family
- B) works at a restaurant
- C) wakes up early
- D) rides his bike

20. John - - - .

- A) wakes up late on weekdays
- B) has tea for breakfast
- C) dislikes chess
- D) likes reading



TEST BİTTİ.  
CEVAPLARINIZI KONTROL EDİNİZ.

**SINAV BAŞLAMADAN AŞAĞIDAKİ UYARILARI MUTLAKA OKUYUNUZ!**

1. Öğrenciler, sınav kurallarına ve salon görevlilerinin tüm uyarılarına uymak zorundadırlar.
2. Cevap kâğıdındaki kimlik bilgilerinin doğruluğunu kontrol ediniz. Bilgiler size ait değilse veya cevap kâğıdı kullanılmayacak durumdaysa sınav görevlilerine bildiriniz.
3. Sınav başladıktan sonra öğrencilerin salon görevlileri ve birbirleri ile konuşmaları, kalem, silgi vb. şeyleri istemeleri yasaktır.
4. Değiştirmek istediğiniz bir cevabı, yumuşak silgiyle cevap kâğıdını yıpratmadan temizce siliniz ve yeni cevabınızı kodlayınız.
5. Cevap kâğıdınızı silinmeyen bir kalemle imzalayınız.
6. Cevaplarınızı, cevap kâğıdındaki ilgili soru numarasını dikkate alarak yuvarlağın dışına taşırmadan kodlayınız.
7. Soru kitapçığının sayfalarını kontrol ediniz, baskı hatası var ise değiştirilmesini sağlayınız.
8. Soru kitapçığı üzerinde yapılp cevap kâğıdına işaretlenmeyen cevaplar değerlendirmeye alınmayacaktır.
9. Soru kitapçığının içindeki boş alanları çözümlerinizi için kullanabilirsiniz.
10. Cevaplamaya istediğiniz sorudan başlayabilirsiniz.
11. Cevabını bilmediğiniz sorular üzerinde fazla zaman kaybetmeden diğer sorulara geçiniz. Zamanınız kalırsa bu sorulara daha sonra dönebilirsiniz.
12. Sınav puanınızın hesaplanmasında 3 yanlış 1 doğru cevabınızı götürcektir. Alt testler bu şekilde hesaplanarak net puanlarının toplamı toplam net puanınızı verecektir.
13. Sınav bitiminde, soru kitapçığı ve cevap kâğıdını salon görevlilerine teslim ediniz.
14. Sınav sırasında çanta, cep telefonu, saat, kablosuz iletişim sağlayan cihazlar ve kulaklık, kolye, küpe, bilezik, yüzük, broş ve benzeri eşyalar ile her türlü elektronik ve/veya mekanik cihazları yanınızda bulundurmayınız. Bu araçları yanınızda bulundurmanız ve kopya çekmeye teşebbüs etmeniz hâlinde sınavınız geçersiz sayılacaktır.
15. Cevap kâğıdınızı sınav süresince hiçbir öğrencinin göremeyeceği şekilde önünüzde bulundurunuz.
16. Sınavınızın değerlendirilmesi aşamasında, toplu kopya tespiti veya başka adayın sınav evrakını kullanmanız durumunda sınavınız geçersiz sayılacaktır.
17. Soruları ve sorulara verdiğiniz cevapları kaydetmeyiniz, hiçbir şekilde dışarı çıkarmayınız.
18. İlk 15 dakika dışarı çıkılmayacaktır.
19. Sınav evraklarını teslim etmeyenlerin sınavı geçersiz sayılacaktır.

**SINAV GÖREVLİLERİNCE SINAV BAŞLAMADAN ÖNCE ÖĞRENCİLERE YAPILACAK SON UYARI!**

- Soracağınız bir şey var mı? Varsa, şimdi sorunuz.
- Sınav başladıktan sonra sorularınıza cevap verilmeyecektir.
- Başlama zilini bekleyiniz.

**Hepinize başarılar dileriz.****(Sınav görevlisi başlama ve bitiş saatini tahtaya yazacaktır.)**

Bu kitapçığın her hakkı saklıdır. Hangi amaçla olursa olsun, kitapçığın tamamının veya bir kısmının Millî Eğitim Bakanlığı Ölçme, Değerlendirme ve Sınav Hizmetleri Genel Müdürlüğünün yazılı izni olmadan kopya edilmesi, fotoğraflarının çekilmesi, bilgisayar ortamına alınması, herhangi bir yolla çoğaltılması, yayımlanması veya başka bir amaçla kullanılması yasaktır. Bu yasağa uymayanlar, doğabilecek cezai sorumluluğu ve kitapçığın hazırlanmasındaki mali külfeti peşinen kabullenmiş sayılır.



**26 MAYIS 2019 TARİHİNDE YAPILAN VEHBİ KOÇ VAKFI,  
KOÇ ÖZEL İLKOKULU VE ORTAOKULU SEVİYE TESPİT SINAVI  
5. SINIF “B” KİTAPÇIĞI CEVAP ANAHTARI**

<b>TÜRKÇE</b>	<b>MATEMATİK</b>	<b>FEN BİLİMLERİ</b>	<b>SOSYAL BİLGİLER</b>
1. A	1. D	1. C	1. B
2. C	2. A	2. B	2. A
3. C	3. C	3. D	3. C
4. D	4. B	4. B	4. B
5. B	5. A	5. A	5. D
6. B	6. A	6. B	6. C
7. A	7. B	7. C	7. D
8. B	8. D	8. A	8. A
9. C	9. B	9. C	9. B
10. D	10. C	10. B	10. D
11. D	11. C	11. D	11. C
12. A	12. A	12. B	12. A
13. C	13. D	13. A	13. D
14. D	14. D	14. A	14. B
15. A	15. C	15. C	15. C
16. D	16. B	16. D	16. D
17. A	17. C	17. A	17. D
18. B	18. B	18. D	18. A
19. D	19. D	19. C	19. C
20. A	20. B	20. D	20. B

**İNGİLİZCE**

1. B
2. A
3. C
4. D
5. C
6. B
7. A
8. D
9. A
10. C
11. B
12. D
13. B
14. C
15. D
16. A
17. B
18. D
19. A
20. D