

ALTINÇAĞ ORTAOKULU
2019 – 2020 EĞİTİM - ÖĞRETİM YILI
5. SINIF İOKBS DENEME SINAVI –6

TÜRKÇE TESTİ

- 1.**I. Birlikten kuvvet doğar.
II. Ağaç yaş iken eğilir.
III. Bir elin nesi var, iki elin sesi var.
IV. Meyve veren ağaç taşlanır.

Numaralanmış atasözlerinden hangileri birbirine anlamca yakındır?

- A) I ve II. B) I ve III.
C) III ve IV. D) II ve IV.

2.Aşağıdaki hangisinde “korkmak” anlamında bir deyim kullanılmıştır?

- A) Yemek yapmayı unuttunca etekleri tuttu.
B) Geç kalacağım diye aklım çıktı.
C) Babası eve geldiğinde burnundan soluyordu.
D) Paraları görünce gözleri yuvalarından çıktı.

3.Aşağıdaki cümlelerin hangisinde altı çizili olan kelime düşüncenin yönünü değiştirmemiştir?

- A) Domates ve salatalık, salatanın vazgeçilmez ikilidir.
B) Seninle vakit geçirmek isterdim ama işe gitmem gerek.
C) Okula gitti ne var ki kimseyi bulamadı, çünkü okullar tatilmiş.
D) Seni çok seviyorum fakat birlikte olmamız imkânsiz.

4.İş yapan her insan değerlidir. Çünkü hayata, medeniyete bir şeyler katıyor demektir. Elinden iş gelen her insana karşı saygı duyarım. Tembelleri, parazitleri sevmem. Herkes ekmeğini alınının teri ile kazanmış isterim.

Paragraftavurgulananaşağıdakilerdenhangidir?

- A) Eğitim B) Çalışkanlık
C) Sağlık D) İnsan

5.“Doğru” sözcüğü aşağıdaki cümlelerin hangisinde terim olarak kullanılmıştır?

- A) Bu işin doğrusunu bir de sen anlat.
B) Hayatı boyunca hep doğru şeyler yaptı.
C) İki noktayı birleştirerek bir doğru çizdi.
D) İki yanlış bir doğru eder.

6.“Yanmak” sözcüğü aşağıdaki cümlelerden hangisinde “çok üzülme” anlamında kullanılmıştır?

- A) Bu sene tatile gidemeyeceğim, ona yanıyorum.
B) Vaktinde değiştirilmeyen biletler yandı.
C) Akşam oldu, evlerin ışıkları yandı.
D) Çocuk günlerce ateşler içinde yandı.

7.Aşağıdakilerden hangisinde türemiş sözcük yoktur?

- A) Çay koyarken süzgeç kullanmam.
B) Önlük suluboya olunca annem kızdı.
C) Yeni defter alamadım.
D) Ayran tuzlu olmuş.

8.“İnsan sofrada elini, mecliste dilini tutmalı.”cümlesinde kaç tane isim vardır?

- A) 6 B) 5 C) 4 D) 3

9.Aşağıdaki cümlelerin hangisinde “-lar, -ler” eki eklendiği sözcüğe çoğul anlamı katmamıştır?

- A) Bahçedeki çiçekler ansızın soldu.
B) Masanın üzerindeki kitaplar dağıntı.
C) Aliler bize çay içmeye geldi.
D) Göçmen kuşlar bölgemizi terk etti.

10.(1) Şair yakın zamanda yeni kitabını çıkardı.
(2) Şiir kitabında toplam 32 şiir bulunuyor.
(3) Tüm şiirler dörtlükler halinde yazılmış.
(4) Şiirlerdeki akıcılık ve etkileyicilik hemen göze çarpıyor.

Yukarıdaki cümlelerden hangisi öznelyargılıdır?

- A) 1 B) 2 C) 3 D) 4

11.“Çiçek saksılarını koymaya veya çiçek yetiştirmeye ayrılmış yer.” anlamında bir kelime yapmak için “çiçek” kelimesine aşağıdakilerden hangisi eklenmelidir?

- A) –çi B) –lik C) –li D) –siz

12.Gitar çalmaya başladığımda daha küçüktüm. Parmaklarım küçük olduğu için perdelere yetişmiyordu.Ama büyük bir hevesle çalıyordu.

Altı çizili cümlelerin anlam özelliği hangi seçenekte verilmiştir?

- A) Sebep – Sonuç Cümlesi
B) Amaç – Sonuç Cümlesi
C) Koşul Cümlesi
D) Karşılaştırma Cümlesi

13.Aşağıdaki hangi cümlede “daha” kelimesi karşılaştırma yapmamıştır?

- A) Oyunumuz, sahnelenmek için daha hazır değil.
B) Bundan daha renkli,daha canlı bir elbise yoktu.
C) BenAysu’ dandahaiyitenisoynayangörmedim.
D) Önceki çalışmanı daha ayrıntılı yapmıştın.

14. Aşağıdaki cümlelerden hangisinde neden – sonuç ilişkisi vardır?

- A) Bizleri bir gün bile yalnız bırakmadı.
B) Günler günleri kovalıyor.
C) Söylediğim fiyatı pahallı bulmuş.
D) Yanımızdan ayrılma, kaybolabilirsiniz.

15. Yazar, hayatı boyunca kendi iç dünyasında yaşadı. Her zaman kendisi olmayı, iç huzurunu korumayı başardı. Başkalarının, özellikle de kaba insanların kendisinden beklentilerine hiç aldırış etmedi. Daimasade,gerçekvesamimiolanşeylerisevdi.Doğruya doğru, yanlışla yanlış dedi. Eserleri aracılığıyla başkalarına da sadeliğiöğretti.

Sözü edilen yazarla ilgili aşağıdakilerden hangisöylenemez?

- A) Kaba insanları umursamadığı
B) Davranışlarında tutarlıolduğu
C) Kendini beğenmiş biriolduğu
D) Yalın ve içten olmayı sevdiği

16. “Akmak” sözcüğü aşağıdaki cümlelerin hangisinde “Eskiden bu ırmak, bizim köyün önünden akarmış.” cümlesindeki anlamıyla kullanılmıştır?

- A) Evin çatısı akıyordu.
B) Burada zaman oldukça hızlı akıyor.
C) Yanı başımızdan küçük bir dere akıyordu.
D) İnsanlar, şehrin meydanına doğru akıyordu.

17.Ağlamak -sanılanın aksine- çaresizliğin, zayıflığın, güçsüzlüğüngöstergesideğildir.Garipgelecekbelki ama bennezamanağlayanbirinigörsemçim gerçektenacısadahi bir miktar da sevinirim. Çünkü ağlamayı yani üzülmebecerebilenkişi,birinsandabulunmasıgerekentüm iyi duygulara sahiptir: Yumuşak kalplidir, duygu yoksunu değildir, insan niteliğiniiyitirmemiştir...

Bu parçada vurgulanmak istenen düşünce aşağıdakilerden hangisidir?

- A) Yumuşak kalpli insanların sayısı gün geçtikçe azalmaktadır.
B) Ağlayabilen insan, insani duygularını kaybetmemiş demektir.
C) Ağlayabilmek, bir insanda bulunması gereken en önemliözelliktir.
D) Yalnızca çaresizvegüçsüzinsanlarbirzorlukla karşılaşıncaağlar.

18.Yaşlı ve çok zengin bir adamın üç oğlu varmış. İhtiyar, artık ömrünün sonuna yaklaştığını anlayınca oğullarını yanına çağırılmış. Birbirine bağlı okları onlara göstererek: “Çocuklarım, deneyin bakalım şu okları kırabilecek misiniz?” demiş. Birinci oğul almış okları, kırmayı denemiş. Başaramamış. “Yok baba, bu benim işim değil.” diyerek geri vermiş okları. Ortanca oğul da denemiş, başaramamış. Küçük oğul almış okları, çok zorlamış, ıkmış, sıkınmış... Bırak demetteki okları kırmayı biraz olsun bükememiş bile. İhtiyar gülmüş oğullarının bu başarısızlıklarının karşısında: “Sizi güçsüzler! Başaramadınız bir işi. Görün bakın ben nasıl başaracağım?” demiş. Çocukları şaka sanıp gülmüşler bu sözlerle. Fakat ihtiyar hiç istifini bozmamış. Çocuklarının şaşkın bakışları arasında ok demetini çözmüş. Sonra okları teker teker kırmış. Ardından onlara dönüp: “Şimdi gördünüz mü birlik olmanın gücünü?” demiş.

Aşağıdakilerden hangisi metinden çıkarılacak derstir?

- A) Birlikten kuvvet doğar.
B) Akıl akıldan üstündür.
C) İyilik eden, iyilik bulur.
D) Büyüklere saygı, küçüklere sevgi.

19.Çiftçinin Öğüdü
Vaktiyle bir çiftçi varmış.
Tecrübeli, ihtiyarmış.
Hastalanıp yatmış bir gün;
Çocukları mahzun, küskün.
Toplanmışlar etrafına,
Demiş: "Kulak verin banal!"
Çünkü artık yavrularım.
Öleceğim, ihtiyarım.
Son sözleri babanızın
Aklınızda iyi kalsın.
Tarlamızda hazine var,
Kazarsanız altın çıkar.
Çiftçi ölür üç gün sonra.
Tarla kalır çocuklara
Kazma, kürek çalışarak
İçindeki taşı toprak
Yapar gibi uğraşırlar,
Ne altın var, ne mangır var.
Fakat dolar şimdi tarla
Altın gibi başaklarla.
Çiftçi şunu demek ister:
"Haydan gelen Hû'ya gider.
Hazır para çabuk yenir.
Çalışmanız hazinedir."

İbrahim A. Gövsa(Çocuk Şiirleri)

Bu şirin ana fikri aşağıdakilerden hangisidir?

- A) Tarlalarda gömülü hazine yoktur.
- B) Hazine bulmak için çok çalışmak gerekir.
- C) İşbirliği yapanlar kazanırlar.
- D) Gerçek hazine çalışmaktır.

20.Annem camı açıp bize seslendi ()
() Çocuklar artık eve gelin ()

Yukarıda yay ayrıçla belirtilen yerlere sırasıyla hangi noktalama işareti getirilmelidir?

- A) (.) (") (") B) (:) (-) (.)
- C) (:) (") (") D) (.) (-) (.)

21. Çocuğa küçük şeylerden zevk almayı öğreten,
ona büyük bir servet bırakmış olur.

Aşağıdakilerden hangisi bu cümlede anlatılmak istenene anlamca en yakındır?

- A) Yaşamdaki her şey çocukken algıladığımızdan farklıdır.
- B) Hayattaki en büyük zenginlik küçük şeylerle mutlu olabilmektir.
- C) Küçük şeylerle mutlu olan insanların büyük hedifleri yoktur.
- D) Çocukken hayatın tadını almış biri kolay kolay bundan vazgeçmez.

22.Bağlaç olan "de" ayrı yazılır, ek olan "-de" sözcüğe bitişik yazılır.

Bu açıklamaya göre aşağıdaki cümlelerin hangisinde yazım yanlıştır?

- A) Annem de bizimle gelmeye kararverdi.
- B) Doktor bugün de izinli olduğu içingelmeyecekmiş.
- C) Sen de bize güzel bir şiir okurmusun?
- D) Çocuklar sabahtan beri bahçe de oynuyorlar.

23."Benim kitaplarım hep çiçek kokar. Renk renk güzellik kokar barış ve sevgi yayılır onların ortamında. Belki bu yüzden, kitaplarımla birlikte evimizde daha güzel bir dünya oluşur. En güzeli, ben daha anlayışlı, daha içten, daha sevecen biri oluverdim. Kuşlarla, kelebeklerle, ağaçlarla, bulutlarla dost oldum. Onları bizim insan yanımızla bütünleyerek değerlendirmek ne yararlı bir oyunmuş meğer."

Paragrafta kitap neye benzemiştir?

- A) Çiçeklere
- B) Arkadaşlarımıza
- C) Bulutlara
- D) Kelebeklere

24. 1.Kapıda, yıllardan beri görüşemediği arkadaşını görünce çok şaşırıldı.
2. Kucaklaşıp hâl hatır sorduktan sonra yürümeye başladılar.
3. "Aaa, bu ne güzel bir tesadüf!" dedi arkadaşına.
4. Okul kapısından çıktı, hemen eve gitmeyi düşünüyordu.

Numaralanmış cümleler olayların oluş sırasına göre nasıl sıralanmalıdır?

- A) 1 – 4 – 2 – 3
- B) 2 – 1 – 3 – 4
- C) 3 – 1 – 2 – 4
- D) 4 – 1 – 3 – 2

25. Aşağıdaki cümlelerde yer alan altı çizili sözcüklerin hangisi mecaz anlamıyla kullanılmıştır?

- A) Yediği yemek oldukça acıydı.
- B) Burnunu kapıya çarpınca canı çok yandı.
- C) Çocuklar bahçede oyun oynuyor.
- D) Arkadaşlarını çok sıcak karşıladı.

MATEMATİK TESTİ

1. $\square < \frac{5}{6}$

Yukarıdaki karşılaştırmaya göre, \square yerine aşağıdakilerden hangisi yazılamaz?

A) $\frac{7}{6}$ B) $\frac{2}{6}$ C) $\frac{3}{6}$ D) $\frac{4}{6}$

2. Aşağıdaki karşılaştırmalardan hangisi yanlıştır?

A) $1 < \frac{7}{4}$ B) $\frac{15}{3} = 5$

C) $\frac{9}{7} < 2$ D) $3 < \frac{9}{4}$

3. Aşağıdakilerden hangisi yanlıştır?

A) $\frac{13}{14}$ kesri basit kesirdir.

B) $\frac{3}{2}$ kesri, $\frac{75}{50}$ kesrine denktir.

C) $5 \frac{2}{9} = \frac{45}{9}$ 'dur.

D) $\frac{51}{6} = 9 \frac{6}{5}$ 'dir.

4. $\frac{15}{8} - \frac{10}{8} = ?$ işlemin sonucu kaçtır?

A) $\frac{6}{0}$ B) $\frac{5}{8}$ C) $\frac{3}{8}$ D) $\frac{17}{20}$

5. Aşağıdakilerden hangisi basit kesirdir?

A) $\frac{12}{7}$ B) $\frac{10}{8}$ C) $\frac{9}{6}$ D) $\frac{4}{5}$

6. Aşağıda verilen eşitliklerden hangisi doğrudur?

A) $3 \frac{1}{4} = \frac{11}{4}$

B) $2 \frac{2}{8} = \frac{12}{8}$

C) $1 \frac{2}{5} = \frac{8}{5}$

D) $6 \frac{1}{6} = \frac{37}{6}$

7. I. $3^2 = 3 \times 3$
II. $2^3 = 2 \times 2 \times 2$
III. $5^2 = 5 \times 5 \times 5 \times 5 \times 5$

Yukarıdaki üslü ifadelerin açılımlarından hangisi veya hangileri doğrudur?

- A) Yalnız I. B) I ve II.
C) II ve III. D) Hepsi

8. Mehmet, zihinden aşağıdaki işlemleri yapmıştır:

$29 + 1 = 30$

$66 + 1 = 67$

$67 - 30 = 37$

Buna göre, Mehmet'in zihinden yaptığı işlem aşağıdakilerden hangisidir?

- A) $30 + 37$ B) $66 - 29$
C) $29 + 66$ D) $67 - 37$

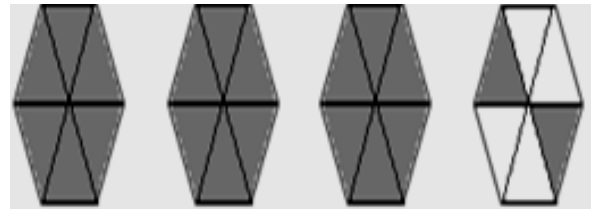
9. Nisa her gün evden işe koşarak gidip gelmektedir. Nisa 6 günde 6144 m koştuğuna göre Nisa'nın ev ile işi arası kaç metredir?

- A) 1024 B) 784 C) 512 D) 482

10. $2^3 \times (112 - 101)$ işleminin sonucu aşağıdakilerden hangisidir?

- A) 88 B) 76 C) 62 D) 56

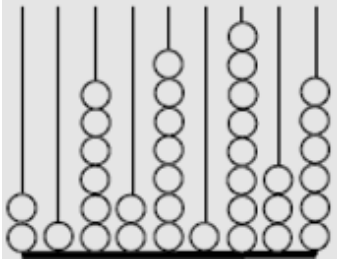
11.



Yukarıdaki şekilde boyalı kısmın kesir olarak gösterimi aşağıdakilerden hangisidir?

- A) $3 \frac{3}{6}$ B) $4 \frac{4}{24}$
C) $3 \frac{4}{6}$ D) $3 \frac{2}{6}$

12.



Yusuf abaküsle yukarıdaki sayıyı oluşturmuş, arkadaşları Aykut ise abaküsteki boncukları yerinden çıkartarak ve bu boncukların tamamını kullanarak başka bir sayı oluşturmuştur.

Buna göre, Aykut'un oluşturduğu sayı aşağıdakilerden hangisi olamaz?

- A) 140 621 688 B) 572 054 434
C) 102 345 678 D) 444 555 333

13. 3, 11, 19, 27, K, 43, L, 59

Yukarıda verilen sayı örüntüsünde L ile gösterilen sayı K ile gösterilen sayıdan ne kadar fazladır?

- A) 13 B) 14 C) 15 D) 16

14. 81 doğal sayısı aşağıdakilerden hangisine eşit değildir?

- A) 9^2 B) 3^3 C) 3^4 D) 81^1

15. $5 \times (72 : 8) = ?$ işleminin sonucu kaçtır?

- A) 400 B) 320
D) 180 D) 45

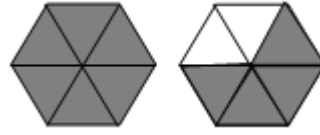
16. Aşağıdaki kesirlerin her birinin 1'den küçük olması isteniyor.

M	N	P	R	S
4	20	7	14	17

Buna göre, harflerin yerine yazılabilecek en büyük doğal sayı kaçtır?

- A) 4 B) 6 C) 16 D) 19

17.



Yukarıdaki boyalı alanı ifade eden kesir aşağıdakilerden hangisidir?

- A) $1\frac{4}{6}$ B) $\frac{10}{6}$ C) $1\frac{2}{6}$ D) $1\frac{2}{3}$

18. Bir tavuk çiftliğinde bulunan 25 tane kümeden bir günde toplam 900 adet yumurta toplanmaktadır. Her kümeden eşit sayıda yumurta toplandığı bilindiğine göre her bir kümeden toplanan yumurta sayısı kaçtır?

- A) 35 B) 36 C) 46 D) 56

19. 346×62 çarpımının binler basamağındaki rakam kaçtır?

- A) 1 B) 2 C) 3 D) 4

20. $40 + 20 = 60$

$$7 + 4 = 11$$

$$60 + 11 = 71$$

Yukarıda verilen işlemler aşağıdaki hangi işlemin zihinden yapıışıdır?

- A) $60 + 11$ B) $10 + 61$
C) $47 + 24$ D) $51 + 20$

21. $32\ 015$

$$- 25\ 324$$

işleminin sonucu aşağıdakilerden hangisidir?

- A) 6691 B) 6791
C) 6619 D) 6591

22. $9708:24$ kalanlı bölme işleminde bölüm kaçtır?

- A) 24 B) 44 C) 104 D) 404

23. 0,132 - 6,15 - 8,013 - 0,3 - 9,63

Yukarıdaki sayıları küçükten büyüğe doğru sıraladığımızda baştan 2. sayı hangisi olur?

- A) 0,132 B) 8,013
C) 9,63 D) 0,3

24. Aşağıdaki sayılardan hangisinin on milyonlar basamağındaki rakam en büyüktür?

- A) 845325478 B) 172989254
C) 48357 520 D) 165111621

25. 587 654 123

Yukarıda verilen sayının bölüklerine ayrılmış hali aşağıdakilerden hangisidir?

BinlerBirlerMilyonlar

- A) 587 654 123
B) 654 123 587
C) 123 587 654
D) 587 123 654

FEN BİLİMLERİ TESTİ

1. Vücutları pullarla kaplıdır.

- Yumurta ile çoğalırlar.
- Tatlı ve tuzlu suda yaşarlar.

Yukarıda verilen bilgiler hangi omurgalı hayvan grubuna aittir?

- A) Memeliler B) Balıklar
C) Sürüngenler D) Kuşlar

2. Mikroskopik canlılarla ilgili,

1. Tamamı zararlıdır ve hastalık yapar.
2. Sütten yoğurt elde edilmesini sağlayan türleri vardır.
3. Bazıları yemeklerin bozulmasına neden olurlar.

ifadelerinden hangileri doğrudur?

- A) 1 ve 2. B) 1 ve 3.
C) 2 ve 3. D) 1, 2 ve 3.

3. Mantarlar aşağıdakilerden hangisinin oluşmasında görev almazlar?

- A) Besinlerin küflenmesinde
B) İnsanlarda bazı hastalıkların oluşmasında
C) Fotosentez ile oksijen üretilmesinde
D) Hamurun mayalanmasında

4.



A ve B bitkileri için;

- I. Her ikisi de besin üretebilir.
- II. A bitkisinin üreme organı varken B bitkisinin yoktur.
- III. A bitkisi daha gelişmiş bir bitkidir.

verilenlerden hangileri yanlıştır?

- A) Yalnız I. B) Yalnız III.
C) I ve II. D) II ve III.

5. Ay'ın ana evrelerinin doğru sıralanışı hangi seçenektir?

- A) Son Dördün – İlk Dördün – Yeni Ay – Dolunay
B) Yeni Ay – İlk Dördün – Dolunay – Son Dördün
C) Yeni Ay – Dolunay – İlk Dördün – Son Dördün
D) Yeni Ay – Son Dördün – Dolunay – İlk Dördün

6. Aşağıdaki tanımlamalardan hangisi Güneş için söylenemez?

- A) Ateşten topa benzer.
B) Çok güçlü bir ısı ve ışık kaynağıdır.
C) Güneş ışığı gözlerimiz için zararlıdır.
D) Bir gezegendir

7. Aşağıdakilerden hangisi kuşlar grubuna girmez?

- A) Yarasa B) Tavuk
C) Deve kuşu D) Güvercin

8.

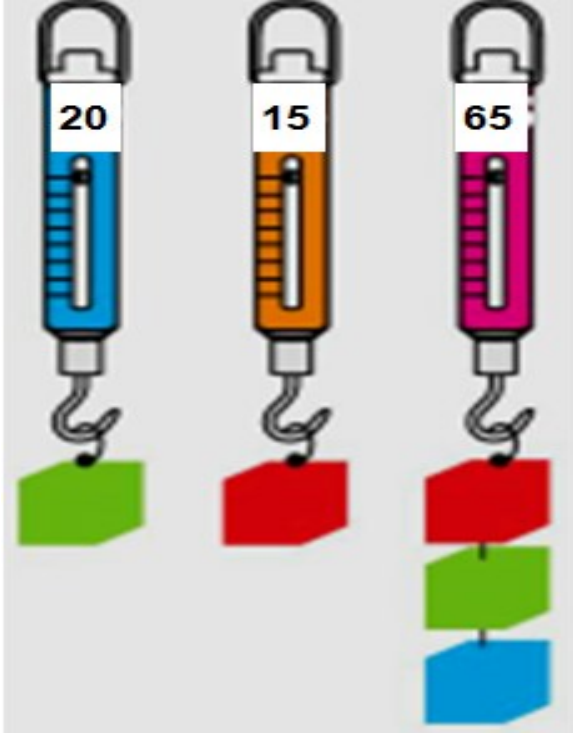
Gündüz Güneş'in
Farklı KonumlarıFarklı Gecelerde
Ay'ın Görünümü

1. 2.

Güneş'in ve Ay'ın bu şekilde görüntüsünün sebebi hangi seçenekte doğru verilmiştir?

	1. Görüntü	2. Görüntü
A)	Güneş'in Dünya'nın etrafında dolanması	Dünya'nın küre şeklinde olması
B)	Dünya'nın küre şeklinde olması	Ay'ın kendi etrafında dönmesi
C)	Dünya'nın kendi etrafında dönmesi	Ay'ın Dünya etrafında dolanması
D)	Dünya'nın Güneş etrafında dolanması	Ay'ın küre şeklinde olması

9.

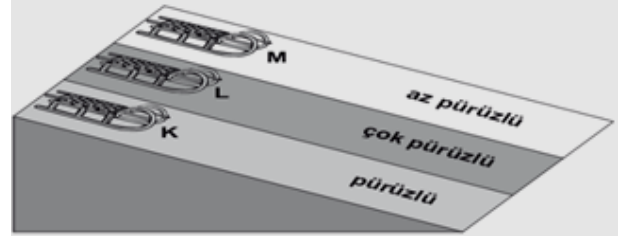


Yukarıda özdeş dinamometreler ile, yeşil cisim ve kırmızı cismin ağırlıkları ayrı ayrı ölçüldükten sonra 3. Dinamometreye bağlanıyor. 3. Dinamometreye bir de mavi cisim takılıyor ve ölçüm yapılıyor.

Verilen ölçüm sonuçlarına göre mavi cismin ağırlığı kaç N'dur?

- A) 20 N B) 30 N
C) 15 N D) 65 N

10.



Fatma Beyza, üç özdeş kızıağı aynı anda K, L ve M zeminlerinde şekildeki gibi bırakıyor.

Bu yollar boyunca kızaklara etki eden sürtünme kuvvetlerinin büyüklük sıralaması aşağıdakilerden hangisinde doğru olarak verilmiştir?

- A) $L > K > M$ B) $M > K > L$
C) $L > M > K$ D) $K > L > M$

11. Aşağıdaki araçlardan hangisi hava direncini olumlu yönde kullanır?

- A) araba B) gemi
C) paraşüt D) tren

12. Aşağıdaki ifadelerden hangisi yanlıştır?

- A) Havaya atılan her cisim yer çekimi kuvveti etkisiyle yere düşer.
B) Karlı havalarda arabanın tekerlerine takılan zincir sürtünmeyi arttırmak için yapılır.
C) Kuvvet cisimlerde şekil değişikliği yapabilir.
D) Sürtünme kuvveti yaşamımızı her zaman kolaylaştırır.

13. Aracımızla seyahat ederken uzaktaki araçları gerçek büyüklüklerinden daha küçük görürüz.

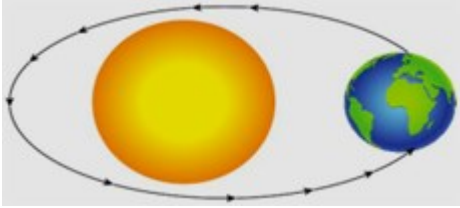
Yukarıda anlatılandan aşağıdaki sonuçlardan hangisi çıkarılabilir?

- A) Uzaktaki cisimleri daha büyük görürüz.
B) Cisimler yaklaştıkça büyür.
C) Cisimler uzaklaştıkça görünüşleri küçülür.
D) Cisimlerin uzak veya yakındaki görünüşleri farklı değildir.

14.Dünya'dan bakıldığı zaman Ay'ın sürekli aynı yüzünün görülmesi aşağıdakilerden hangisinin sonucudur?

- A) Ay'ın çekim gücünün Dünya'dan azolması
- B) Ay'ın Dünya'dan daha küçük olması
- C) Ay'ın kendi çevresinde ve Dünyaçevresindeki dönüş süresinin aynı olması
- D) Ay gününün Güneş gününden uzun olması

15.



Yukarıdaki resimde Dünya'nın hareketi gösterilmiştir.

Bu hareket sonucunda aşağıdakilerden hangisi oluşur?

- A) Ay B) Yıl C) Gün D) Hafta

16.Emine Rana Fen Bilimleri dersinde öğretmenin sorduğu soruya aşağıdaki cevabı vermiştir:

"Bitkiler, hayvanlar, mikroskobik canlılar ve mantarlar."

Buna göre öğretmenin sorusu aşağıdakilerden hangisidir?

- A) Karada yaşayan canlılar nelerdir?
- B) Genel olarak canlıları nasıl sınıflandırırız?
- C) Üreme şekillerine göre canlılar nasıl sınıflandırılır?
- D) Beslenme çeşidine göre canlılar nasıl sınıflandırılır?

17.Aşağıdakilerden hangisinde üreme tipi diğerlerinden farklıdır?

- A) Gül B) Eğrelti otu
- C) Lale D) Papatya

18.Bir grup öğrenci, resimdeki "ornitorenk" adlı canlının, hangi omurgalı hayvan grubunda olduğunu merak ediyor.



Araştırma sonucunda bu canlının "memeliler" grubunda olduğunu öğreniyorlar.

Bu canlı, aşağıda verilen özelliklerden hangisi nedeniyle "memeliler" grubunda yer almıştır?

- A) Gagalı oluşu
- B) Yumurta ile çoğalması
- C) Hem karada hem suda yaşaması
- D) Yavrularını sütüyle beslemesi

19.Aşağıdakilerden hangisi mikroskobik canlı değildir?

- A)Karıncab)Terliksi hayvan
- C)AmipD)Öglena

20.I. Ay'ın Dünya etrafında dönmesi
II. Dünya'nın kendi eksenini etrafında dönmesi
III. Dünya'nın ekseninin yörünge düzlemine eğik olması

Yukarıdakilerden hangileri Ay'ın değişik evrelerde gözlenmesinde etkilidir?

- A) II ve III.B) I ve II.
- C) Yalnız I.D) I, II ve III.

21. – Suda yaşayan memelilere örnektir.
– Uçamayan kuşlardandır.
– Başkalaşım geçirirler.

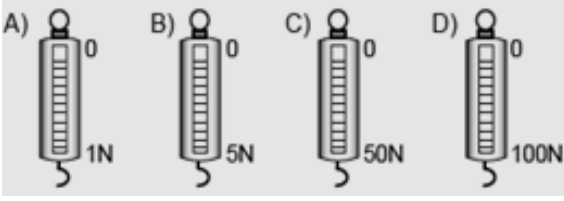
Yukarıda özellikleri verilen hayvanlar eşleştirdiğinde hangi hayvan açıkta kalır?

- A) Balık B)Fok balığı
- C) Penguen D)Kurbağa

22. Aşağıdaki kuvvet ile ilgili verilen ifadelerden hangisi yanlıştır?

- A) Kuvvet duran bir cismi hareket ettirebilir.
- B) Kuvvet dinamometre ile ölçülür ve birimi Newton'dur.
- C) Dinamometre ile bütün kuvvet değerleri ölçülebilir.
- D) Dinamometre yayların esneklik özelliklerinden yararlanılarak yapılmıştır.

23. Aşağıdaki dinamometrelerden hangisi ile daha hassas ölçüm yapılabilir?



24. Kuvvetin büyüklüğü, içlerinde esnek sarmal bir yay bulunan dinamometrelerle ölçülür.

Bu sarmal yayın hangi özelliği ölçüme etki etmektedir?

- A) Cinsi B) Rengi
- C) Kalınlığı D) Boyu

25. Bir elmanın ağırlığı 4N dur. 13 elmanın ağırlığını aşağıdaki ölçme kapasitesi verilen dinamometrelerden hangisiyle ölçebiliriz?

- A) 48 N B) 49 N
- C) 50 N D) 53 N

SOSYAL BİLGİLER TESTİ

1. Aşağıdaki uygarlıklardan hangisi Mezopotamya uygarlıklarından değildir?

- A) Sümerler B) Asurlular
- C) İyonyalılar D) Babiller

2. Melih Sefa, okul için de yerlere çöplerin çevreyi kirlettiğini ve hoş olmayan bir görüntünün ortaya çıktığını gözlemlemektedir. Bu olumsuz duruma karşın bir çözüm bulmak istemektedir.

Aşağıdakilerden hangisi Melih Sefa'nın yapması gereken en doğru davranış olur?

- A) Okul güvenliğinden rica edip yerlere çöp atmalarını istemek
- B) Yerlere çöp atarla kavga etmek
- C) Okulda çevre kirliliği ile ilgili bir kampanya başlatmak
- D) Yerlere çöp atarlardan uzak durmak

3. "Duygu, sabahtan öğleye kadar okulda eğitim görüp öğleden sonra evde annesine yardım ediyor. Daha sonra arkadaşlarıyla bahçenin önünde oynayıp kitap okuyor"

Bu ifadeye Duygu'nun, aşağıdakilerden hangisine karşı olan rolü anlatılmamıştır?

- A) Akraları B) Arkadaşları
- C) Annesi D) Öğretmenleri

4. Anadolu ile yaptığımız ticaret sırasında Anadolu'ya yazıyı getirerek Anadolu'nun tarih çağlarına girmesini sağladık. Kayseri Kültepe'de "Karum" adında ticaret merkezleri kurduk.

Yukarıda kendileri ile ilgili bilgi veren uygarlık aşağıdakilerden hangisidir?

- A) Frigler B) Asurlular
- C) Babiller D) İyonlar

5. Ülkemizin hemen hemen her yöresinde farklı halk oyunları oynanmaktadır.

Aşağıdakilerden hangisi Karadeniz Bölgesi'nde oynanan halk oyunudur?

- A) Bar B) Halay C) Horon D) Zeybek

6. Aşağıdaki şehirlerden hangisi Anadolu da medeniyete yön vermiş şehirlerden değildir?

- A) Trabzon B) Kütahya
- C) Viyana D) Erzurum

7. "Yarıyıl tatilinde ailesiyle birlikte memleketi Erzurum'a giden Elif,orada gördüklerini şöyle anlatmıştır.Gittiğimiz yer 2200-3100 metrede kayak pistleri ve konaklama yerleri olan,kış sporu için turistlerin tercih ettiği çok güzel bir yerdi."

Buna göre Elif aşağıdaki turizm merkezlerinden hangisine gitmiştir?

- A) Erciyes B) Palandöken
C) Kartalkaya D) Sarıkamış

8.Çocukların evde, okulda ve toplum yaşamında sorumlulukları olduğu gibi hakları da vardır.

Buna göre, aşağıdakilerden hangisi Çocuk Haklarından biri olamaz?

- A) Yaşına uygun bir eğitim almak
B) Sağlıklı bir çevrede yaşamak
C) Ağır işlerde çalıştırılmak
D) Sosyal faaliyetlere katılmak

9.Anadolu medeniyetleri ile ilgili aşağıda verilen bilgilerden hangisi doğru değildir?

- A) Lidyalılar en önemli gelirlerini ticaretten elde etmişlerdir.
B) Frigler tek tanrılı dine inanmışlardır.
C) Urartular su kanalları ve barajlar inşa etmişlerdir.
D) Hititler ilk yazılı antlaşmayı imzalamışlardır.

10. Türk mutfağı yemek çeşitliliği bakımından dünyanın en zengin mutfaklarından biridir.

Aşağıdakilerden hangisi ülkemizin yemek kültürüne ait bir yiyecek değildir?

- A)CağkebabıB)Hamsili pilav
C)Kayseri mantısıD)Pizza

11.Aşağıdakilerden hangisi el sanatlarımızdan değildir?

- A) Çinicilik B) Halıcılık
C) Tiyatro D) Bastonculuk

12.Tarihi eserlerle ilgili aşağıdakilerden hangisi doğrudur?

- A) Tarihi eserler eskiden yapılmıştır.
B) Yurdumuzda tarihi eser yoktur.
C) Tarihi eserler fabrikalarda üretilir.
D) Tarihi eserler alınıp satılabilir.

13.Urartular, mezarlarını oda ve ev biçiminde yapmış, ölülerini eşyalarıyla birlikte gömmüşlerdir.

Bu bilgiye göre, Urartularla ilgili olarak aşağıdakilerden hangisi söylenbilir?

- A) Zengin oldukları
B) Madencilikte ileri gittikleri
C) Birden çok tanrıya inandıkları
D)Ölümden sonraki hayata inandıkları

14.

İLLER	TARİHİ ESER
Konya?.....
İstanbul	Topkapı Sarayı
Trabzon	Sümela Manastırı
Adıyaman	Nemrut Heykelleri

Yukarıda verilen eşleştirme tablosundaki (?) işareti olan yere aşağıdakilerden hangisi getirilmelidir?

- A) Aspendos Tiyatrosu
B) Mevlana Türbesi
C) İshak Paşa Sarayı
D)Efes Antik Kenti

15.Anadolu'da kurulan ilk medeniyetlere bakıldığında Hititler Kızılırmak havzasına kurulurken Frigler Sakarya Nehri kenarına kurulmuştur. Lidya medeniyeti ise Ege kıyılarında Büyük Menderes ve Gediz Nehri'ni yerleşim alanı olarak seçmişlerdir.

Anadolu'da kurulan medeniyetlerin bu belgele-ri yerleşim atom olarak tercih etmelerinin nedeni aşağıdakilerden hangisi olabilir?

- A) Maden yatakları bakımından zengin olması
B) Verimli topraklara ve su kaynaklarına yakın olması
C) Av hayvanları ve beslenme yerlerine yakın olması
D) Yükseltinin fazla olması

16. Aşağıdakilerden hangisi tarihi yapılardan biridir?

- A) Peri bacaları
- B) Pamukkale travertenleri
- C) Manavgat Şelalesi
- D) Çanakkale Şehitliği

17. Aşağıdaki halk oyunları ile oynandıkları yöre eşleştirilmesinde yanlış olan hangisidir?

- A) Horon – Karadeniz
- B) Çayda Çıra oyunu–Elazığ
- C) Halay – Bitlis
- D) Zeybek – Trakya

18. Birleşmiş Milletler Çocuk Haklarına Dair Sözleşme'ye göre her insan kaç yaşına kadar çocuk sayılır?

- A) 10 B)15 C) 18 D) 20

19. UNICEF niçin kurulmuştur?

- A) Çocuk Hakları Sözleşmesi'ni imzalamak
- B) Para toplamak
- C) Dünyadaki bütün çocuklara yardım etmek ve onlara daha iyi bir gelecek hazırlamak için
- D) Fakirlere yardım etmek

20. Sahip olduğumuz hak ve özgürlükleri kullanırken hangi davranışı sergilersek yanlış yapmış oluruz?

- A) Hastalanınca doktora gitmek.
- B) Evde kısık sesle müzik dinlemek.
- C) Kütüphanede kitap okumak.
- D) Okul saatinde sinemaya gitmek.

21. Oruç tuttuktan sonra, orucumuzu bitirmek için yenilen yemeğe ne ad verilir?

- A) Sahur B) Akşam
- C) İftar D) Gece

22. “Biz onu (Kur’an’ı) gecesinde indirdik. Bilir misin nedir Kadir gecesini? Kadir gecesini bin aydan hayırlıdır.”(Kadir suresi, 1-3. ayetler)

Bu ayette boş bırakılan yere aşağıdaki kelimelerden hangisi gelmelidir?

- A) Miraç B) Regaip
- C) Beraat D) Kadir

23. “Her resmin bir ressamı, her binanın bir ustası vardır. Bu içinde yaşadığımız muhteşem evrenin de bir vardır.”

Yukarıdaki cümledeki boşluğa hangisi gelmelidir?

- A) yaratıcısı B) iklimi
- C) güzelliği D) havası

24. Aşağıdakilerden hangisi evrendeki düzenle ilgilidir?

- A) Gece ile gündüzün birbirini takip etmesi
- B) Mevsimlerin oluşması
- C) Yağmurun yağması da belli bir sistem içerisinde olmaktadır
- D) Hepsi

25.“O; yaratan, yoktan var eden, şekil veren Allah’tır. Güzel isimler O’nundur.” (Haşır/ 24)

Bu ayete göre,

- I. Her şeyin yaratıcısı Allah’tır.
- II. Allah, bizi her an görmektedir.
- III. En güzel isimler Allah’a aittir.

ifadelerinden hangilerine ulaşılabilir?

- A) Yalnız I. B) I ve III.
- C) I ve II. D) I, II ve III.

**DİN KÜLTÜRÜ VE AHLAK BİLGİSİ DERSİNİ
OKUMAYANLAR AŞAĞIDAKİ SORULARI
CEVAPLAYACAKTIR.**

21.“Temiz bir çevrede yaşama hakkı” beraberinde insanlara hangi sorumluluğu getirir?

- A) Okul yaptırmak
- B) Otobüse binmek
- C) Çevreyi temiz tutmak
- D) İnsanlara yardım etmek

22. “İnsanlar bir amaç gerçekleştirmek için bir araya gelirler. İnsanların bir araya gelmesine grup denir.”

**Buna göre aşağıdakilerden hangisi grup ola-
maz?**

- A) Öğrenci kulüpleri
- B) Okul aile birlikleri
- C) Basketbol takımı
- D) Caddedeki insanlar

23.Aşağıdakilerden hangisi dini bayramdır?

- A) Kurban Bayramı
- B) Cumhuriyet Bayramı
- C) Zafer Bayramı
- D) Nevruz Bayramı

24. Sosyal bilgiler dersi sayesinde bireyler oluruz.

Yukarıda verilen cümlede boş bırakılan yer, aşağıdakilerden hangisi ile tamamlanamaz?

- A) Vatanını ve milletini seven
- B) Milli ve manevi değerleri benimseyen
- C) Atatürk ilke ve inkılaplarına sahip çıkan
- D) Tarihi ve doğal güzellikleri tahrip eden

25. Mehmet Bey, Yiğit’in hem babası hem de öğretmenidir. Yiğit bazen sınıfta Mehmet Bey’e baba demektedir.

Buna göre,

- I. Mehmet Bey’in birbirinden farklı rolleri vardır.
- II. Yiğit babasının rollerini karıştırmaktadır.
- III. İnsanların her gruptaki rolleri aynıdır.

ifadelerinden hangileri söylenebilir?

- A) Yalnız I.B) I ve II.
- C) II ve III. D) I, II ve III.

**TEST BİTTİ.
CEVAPLARINIZI KONTROL EDİNİZ.**