

**ALTINÇAĞ ORTAOKULU**  
**2019 – 2020 EĞİTİM ÖĞRETİM YILI**  
**5. SINIF İOKBS DENEME SINAVI – 5**

**TÜRKÇE TESTİ**

- 1.1.** Yüzünü, çenesinin altını ve ensesini bu suyla iyice sıvazladı.  
2. Sonra çömeldiği yerden biraz geriye çekilip uzandı.  
3. Öğle güneşinin sıcaklığında gölün kenarına çömelerek birkaç avuç su içti.  
4. Güneş batmak üzereyken köye doğru yola koyuldu.  
5. Serinlemek için yüzüne biraz su çarptı.

**Numaralandırılmış cümleler, olayların oluş sırasına göre nasıl sıralanmalıdır?**

- A) 3, 5, 1, 2, 4                      B) 5, 1, 4, 2, 3  
C) 2, 3, 5, 4, 1                      D) 4, 5, 3, 1, 2

**2.** Okulda düzenlenecek şenlikte çocuklar için ödüllü bir yarış düzenlenmişti: Uçurtma yarışı. Serhat bu haberi arkadaşlarıyla birlikte panodaki duyurudan okumuştı. Önce katılmayı hiç istememiş, hatta dudak bükmüştü. Yarışmayı kazanana bilgisayar hediye edileceğini duyunca katılmaya karar verdi. İlk davranışından dolayı da bunu arkadaşlarından saklamaya karar verdi.

**Bu parçada aşağıdakilerden hangisinden bahsedilmemiştir?**

- A) Düzenlenen yarışmanın ne olduğundan  
B) Yarışmanın kurallarının nasıl belirlendiğinden  
C) Serhat'ın yarışmayı nereden öğrendiğinden  
D) Serhat'ın yarışmaya katılacağını neden sakladığından

**3.** Aşağıdaki cümlelerin hangisinde "olmayacak bir iş için boşa çaba sarf etmek, sonuç alınamayacak bir şey için uğraşmak" anlamında bir deyim kullanılmıştır?

- A) Üniversiteyi başka şehirde okumak isteyince babasıyla karşı karşıya gelmişti.  
B) Deprem sonrası verilen yardım sözlerinin bini bir para.  
C) Yıllardır kâr edemediği bir dükkanda akıntıya karşı kürek çekmesine bir anlam veremiyorum.  
D) Kedilerin huysuz hayvanlar olduğunu bilirsen onlarla daha kolay başa çıkarsın.

**4.** Ali, tutumlu bir çocuktü. Parasını çok dikkatli harcardı. Harçlığının büyük bir kısmını kumbarasına atardı. Günler geçti Ali'nin kumbarası her geçen gün biraz daha ağırlaştı. O ağırlaştıkça, Ali'nin sevinci ve heyecanı da artıyordu. Çünkü biriktirdiği parasıyla bisiklet almayı düşünüyordu.

Yılsonu geldi. Ali karnesini aldı, sınıfını geçmişti. Anne ve babası çok sevindiler. Ona her zamankinden daha çok harçlık verdiler. Ali, parayı alır almaz hemen kumbarasına koştü. Ne kadar uğraştıysa da paraları kumbaraya sokamadı. Kumbara ağzına kadar dolmuştu.

Ali, annesi ve babasını çağırdı. Annesi:

-Kumbaran dolmuş, açmalıyız dedi.

Biraz uğraştıktan sonra kumbarayı açtılar. Kumbaranın içinden madeni ve kağıt bir sürü para çıktı.

Babası Ali' ye:

- Aferin oğlum, dedi. Bu davranışın çok hoşumuza gitti. Atalarımız, "....."

....." diye boşuna dememişler. Bunu şimdi daha iyi anladın sanırım.

Babası Ali'nin parasına biraz daha para ekledi. Ona güzel bir bisiklet aldılar. Ali, bisikletiyle doya doya gezdi. Kumbarasına para atmamayı ise hiç unutmadı.

**Hikâyeden hareketle boş bırakılan yere aşağıdaki atasözlerinden hangisi getirilebilir?**

- A) Ayağını yorganına göre uzat  
B) Ağaç yaş iken eğilir  
C) Damlaya damlaya göl olur  
D) Parayı veren düdüğü çalar

**5.DENİZLERİN ARMAĞANLARI**

Deniz bir yaşam kaynağıdır. Aldığımız her nefeste denizin payı var; yaşamak için ihtiyaç duyduğumuz oksijenin %75'i denizlerden gelmekte.

Deniz yaşamı korur, hayat kurtarır. İnsanoğlunu zararlı morötesi ışıklardan koruyan ozon tabakasını oluşturur. Kanser ilaçlarının % 65'i deniz canlılarından ve bitkilerinden yapılmaktadır.

Deniz yuvadır. Denizde yaklaşık 300–500 milyon deniz organizması yaşar. Dünya nüfusunun neredeyse yarısı hayatlarını deniz kıyısındaki kentlerde sürdürmektedir.

Deniz geçim kaynağıdır. Birçok ülke, milli gelirinin yaklaşık %30'unu balıkçılık, deniz taşımacılığı, turizm ve benzer endüstri dalları aracılığıyla denizden kazanır.

Deniz yeryüzünde tamamen keşfedilmemiş tek yerdir. İnsanlar denizlerin %10'undan daha azını keşfetmiştir. Uzaya giden insanların sayısı denizin derinliklerine gitmeye cesaret edenlerin sayısından fazladır. Ancak aynı zamanda Dünya'nın en büyük çöp kutusudur !

**Kanser ilaçlarının % 65' i aşağıdakilerin hangisinden üretilmektedir?**

- A) Deniz canlıları ve bitkilerinden  
B) Ormanlardan  
C) Çiçeklerden  
D) Topraktan

6.



Bu karikatürde verilmek istenen mesaj aşağıdakilerden hangisidir?

- A) Ağaçları kesmek, ormanların azalmasına neden olur.  
B) Çevreyi koruma bilincini herkes kazanmalıdır.  
C) Kâğıtların geri dönüşüm için toplanması, ağaçların kesilmesini engeller.  
D) Çevreyi temiz tutmak için her zaman çöp kutularını kullanmalıyız.

7. Bir giysiyi dikmek için terzilerin yaptığı pek çok iş var ( ) Ölçü almak, kalıp çıkarmak, kumaşları kesmek ( ) Bu nedenle terzilere dikiş makinesi, ütü, metre, makas gibi aletler ( ) kumaş, iplik, düğme gibi malzemeler gereklidir ( )

Bu metinde yay ayraçla gösterilen yerlere aşağıdakilerin hangisinde verilen noktalama işaretleri sırasıyla getirilmelidir?

- A) ( ; ) ( . ) ( ; ) ( ! )      B) ( ; ) ( ... ) ( , ) ( . )  
C) ( : ) ( . ) ( , ) ( . )      D) ( : ) ( ... ) ( ; ) ( . )

8. I. çiçeklere

- II. vereni  
III. uyarırım  
IV. görünce  
V. parktaki  
VI. zarar

Yukarıdaki kelimelerle anlamlı bir cümle oluşturduğunda sıralama nasıl olmalıdır?

- A) V-I-VI-II-IV-III      B) I-II-IV-III-V-VI  
C) V-VI-II-I-IV-III      D) VI-V-I-III-II-IV

9. "Kendi düşen ağlamaz" atasözünün anlamı aşağıdakilerden hangisidir?

- A) Kişi, yaptığı davranışlarının sonucuna katlanmalıdır.  
B) Planlı çalışanlar başarıya ulaşırlar.  
C) Bir acı, en çok sahibini üzer.  
D) Sabırsız insanlar başarıya ulaşamaz.

10. Aşağıdaki sözcüklerden hangisi yeni kelime türeten bir ek almıştır?

- A) Kitapçı      B) Kitaba  
C) Kitabı      D) Kitapta

11. Aşağıdaki sözcüklerden hangisinin kökü doğru gösterilmiştir?

- A) Sev-gi      B) Boy-acı  
C) Bay-rak      D) Ka-lem

12. "Babam..... Ankara'... alıp Bursa'..... götürmüşler."

Yukarıdaki cümlede boş bırakılan yerlere aşağıdaki şıklardan hangisindeki ekler sırasıyla getirilirse anlam bozulmaz?

- A) -dan, -yı, -dan      B) -ı, -dan, -ya  
C) -lar, -yı, -dan      D) -ın, -dan, -dan

13. Aşağıdaki cümlelerin hangisinde büyük harflerin kullanımıyla ilgili yazım yanlış vardır?

- A) Mogan Gölü'nde dolaştım bugün.  
B) Ankara Kalesi'ni arkadaşlarla gezdik.  
C) Erciyes Dağı'na kayak yapmaya gidiyoruz.  
D) Ahmet yüzbaşı, görevinin başındaydı.

14. "yeşermek" sözcüğü aşağıdaki cümlelerin hangisinde gerçek anlamı dışında kullanılmıştır?

- A) Fındık dalları yeşerdi.  
B) Bahar gelince tarlalar yeşermeye başladı.  
C) Elma ağacının dalları daha yeşermedi.  
D) Babam iyileşecek diye umutlarımız yeşerdi.

15. "Bu sözüme hemen alındı."

Cümlesinde altı çizili sözcüğü hangisiyle değiştirirsek anlam değişmez?

- A) sevindi      B) karşılık verdi  
C) gücendi      D) atladı

16. "Kitap – kitaplık" bu sözcükler arasındaki anlam ilişkisine benzer ilişki aşağıdaki seçeneklerin hangisinde yoktur?

- A) Tuz – Tuzluk  
B) Çöp – Çöplük  
C) Buz – Buzluk  
D) İnsan – İnsanlık

17. "Yaşamak" sözcüğü aşağıdaki cümlelerin hangisinde, "oturmak" anlamında kullanılmıştır?

- A) Köydeki Hasan dede yaşıyor mu?  
B) Çok yaşayan değil çok gezen bilir.  
C) Çanakkale'de yaşayan akrabalarımız var.  
D) Onun hatırası hep kalbimizde yaşayacak

18. I. Ankara'da Yusuf Bey bizi karşıladı.  
II. Yazılarında Ayder yaylası'ndaki şenlik anlatılıyordu.  
III. Bu yıl Cumhuriyet Bayramı'nda gösteri yaptık.  
IV. Ömer Seyfettin'in "kaşığı" hikâyesini çok beğenirim.

Yukarıdaki cümlelerin hangilerinde büyük harflerin yazımından kaynaklanan bir hata vardır?

- A) II – IV  
B) I – II  
C) III – IV  
D) I – IV

19. Beyazlığın dostu umut verir  
Kızılığın korku verir düşmana  
Sevginle dağlardaki karlar bile erir  
Canım bin defa kurban olsun sana  
Sait KARAKUŞ

Yukarıdaki şiirin teması nedir?

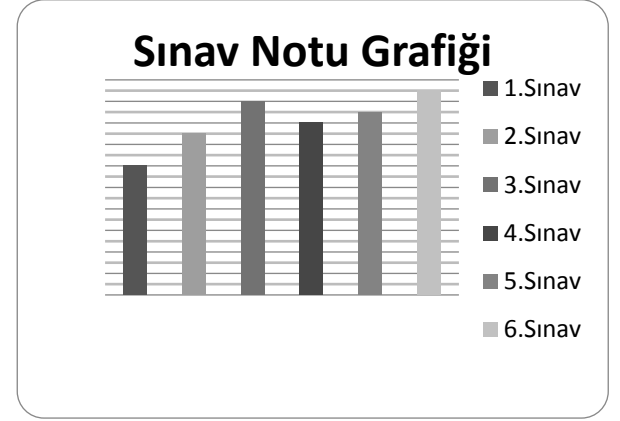
- A) Vatan sevgisi  
B) Sevgi  
C) Doğa sevgisi  
D) Bayrak sevgisi

20. Annem Biz de sizinle beraber gelelim, dedikten sonra ayakkabılarını giydi.

Bu cümlede tırnak içine alınması gereken sözcük veya sözcük grubu aşağıdakilerden hangisidir?

- A) Annem  
B) dedikten sonra  
C) Biz de sizinle beraber gelelim.  
D) ayakkabılarını giydi.

21.



Yukarıdaki grafikte Mert'in Türkçe dersinden yıl içinde aldığı puanlar verilmiştir.

Buna göre, aşağıdaki yargılardan hangisi çıkarılamaz?

- A) Grafiğe göre, öğrenci en yüksek notu 6. Sınavda almıştır.  
B) Öğrenci en düşük notu 1. sınavda almıştır.  
C) En çok yanlışı 3. sınavda yapmıştır.  
D) Mert'in 5. sınav notu ilk sınavına göre daha yüksektir.

22. Aşağıdaki cümlelerin hangisinde nesnel bir anlatım vardır?

- A) İstanbul, ülkemizin en kalabalık şehridir.  
B) Bence mavi en güzel renktir.  
C) Güneşli havalar her insanı mutlu eder.  
D) Kırlarda yürümek çok eğlencelidir.

23. Melih, adam olacak da bana bakacak! Yok ya!

Cümlesinde aşağıdaki hangi duyguya yer verilmiştir?

- A) Pişmanlık  
B) Küçümseme  
C) Abartma  
D) Beğenme

24. Aşağıdaki cümlelerin hangisinde deyim kullanılmıştır?

- A) Vardıkları ilk düzlükte dinlenmek için durdular.  
B) Telaşlı topluluk, evi çevreleyen duvarın önünde bekliyordu.  
C) Karyolaya uzanıp yorganı iyice üzerine çekti.  
D) Çocukların evde olmadığını öğrenince aklı başından gitti

25. "Gezi ..... ayırdığım parayı bulamıyorum."

Melis' in yukarıdaki cümlede boş yere aşağıdakilerden hangisi gelmelidir?

- A) göre B) İle  
C) için D) üzere

## MATEMATİK TESTİ

1. 876 .....417 sayısının okunuşu "sekiz yüz yetmiş altı milyon altı yüz dokuz bin dört yüz on yedi" olduğuna göre ..... yerine gelmesi gereken sayı aşağıdakilerden hangisidir?

- A) 976 B) 960 C) 690 D) 609

2. 2, 5, 11, 20, Δ

Yukarıdaki sayı örüntüsü belirli bir kurala göre dizilmiştir.

Buna göre, üçgenin yerine hangi sayı gelmelidir?

- A) 36 B) 34 C) 32 D) 30

3. " $2 \times 2 \times 2 = 2^3$ " ifadesi için aşağıdakilerden hangisi yanlıştır?

- A) 2'nin karesi demektir.  
B) 2'nin küpü demektir.  
C) 2'nin kendisiyle üç kez çarpımı demektir.  
D) İşlemin sonucu 8'dir.

4. Babasının yaşı ikiz olan Ahmet ile Şule'nin iki katından 2 fazladır. Babasının yaşı 46 ise Ahmet'in yaşı kaçtır?

- A) 10 B) 11 C) 12 D) 13

5.  $20 + 3^2 \times 12$  işleminin sonucu kaçtır?

- A) 128 B) 348  
C) 56 D) 41

6. Verilen bir kesrin basit kesir olduğunu aşağıdakilerden hangisi belirtir?

- A) Pay ve paydasının aynı olması  
B) Payının paydasından büyük olması  
C) Payının paydasına denk olması  
D) Payının paydasından küçük olması

7.



Yukarıda şekilde gösterilen kesir aşağıdakilerden hangisidir?

- A)  $3\frac{1}{8}$  B)  $3\frac{2}{8}$  C)  $3\frac{3}{8}$  D)  $3\frac{4}{8}$

8. Aşağıdaki kesirlerden hangisi 3' ten büyüktür?

- A)  $2\frac{1}{3}$  B)  $\frac{8}{3}$  C)  $\frac{7}{2}$  D)  $\frac{18}{9}$

9. Bileşik bir kesrin pay ve paydasındaki sayıların toplamı 29' tür.

Buna göre, bu kesrin paydasındaki sayı aşağıdakilerden hangisi olamaz?

- A) 16 B) 14 C) 12 D) 10

10. Aşağıdaki kesirlerden hangisinin belirttiği büyüklük diğerlerinden farklıdır?

- A)  $\frac{5}{7}$  B)  $\frac{15}{21}$  C)  $\frac{20}{28}$  D)  $\frac{35}{42}$

11.  $\frac{13}{5}$

Yukarıdaki bileşik kesir tam sayılı kesre çevrilirse aşağıdakilerden hangisi olur?

- A)  $2\frac{3}{6}$  B)  $2\frac{3}{5}$  C)  $3\frac{1}{4}$  D)  $1\frac{2}{4}$

12.  $5^3 + 3^3$  işleminin sonucu ile 154 sayısının farkı kaçtır?

- A) 306 B) 280 C) 34 D) 2

13.  $(89 - 23) \times (45:9)$  işleminin sonucu kaçtır?

- A) 450 B) 330 C) 220 D) 110

14.1.Adım:  $50 + 40 = 90$

2.Adım:  $8 + 5 = 13$

3. Adım:  $90 + 13 = 103$

Bir toplama işleminin sonucunu zihinden yapan Deniz'in işlem basamakları yukarıda verilmiştir.

Buna göre Deniz'in zihinden yaptığı toplama işlemi aşağıdakilerden hangisi olabilir?

- A)  $98 + 18$  B)  $58 + 45$   
C)  $53 + 50$  D)  $60 + 43$

15. Ardışık dört çift doğal sayının toplamı 132 ise enküçük sayı kaçtır?

- A) 30 B) 32 C) 36 D) 40

16.

$$\begin{array}{r|l} abc & 9 \\ \hline & 11 \\ \hline \end{array}$$

—  
d

Yukarıda verilen bölme işlemine göre abc üç basamaklı sayısı en fazla kaç olabilir?

- A) 100 B) 107  
C) 108 D) 110

17. "24 372 684" sayısının binler ve milyonlar basamağındaki rakamlar birer arttırılırsa elde edilen yeni sayı aşağıdakilerden hangisidir?

- A) 34 373 684 B) 25 373 684  
C) 25 382 684 D) 34 382 684

18.



Yukarıda fiyatları verilen ürünlerden 3 tane çorap, 4 tane kravat, 2 tane pantolon alan birisi ne kadar harcamış olur?

- A) 142 B) 140 C) 132 D) 124

19. Bir kırtasiyeden tanesi 2 TL'ye 4 tane kalem, tanesi 1 TL'ye 5 tane silgi ve 6 tane defter alan Yusuf kırtasiyeciyeye toplam 25 TL para vermiş ise bir defterin fiyatı kaç TL'dir?

- A) 1 B) 2 C) 3 D) 4

20. Bisikletle dakikada 174 m yol giden Fatma'nın aynı hızla 36 dakikada kaç m yol gideceğini, sayıları en yakın onluğa yuvarlayarak bulursak aşağıdaki sayılardan hangisini elde ederiz?

- A) 5100 B) 5600  
C) 6000 D) 6800

21. Sibel'in kumbarasında 60 tane 25 kuruş vardır.

Buna göre, Sibel'in kumbarasındaki parası kaç liradır?

- A) 15 B) 16 C) 17 D) 18

22.



Yukarıda bir kırtasiyedeki çanta, kalem kutusu ve kitabın fiyatları üslü sayı olarak gösterilmiştir.

Buna göre, bu kırtasiyedeki ürünlerden birer tane alan birisi toplam kaç TL öder?

- A) 57 B) 62 C) 66 D) 72

23.2 – 6 – 18 – ? – 162 – ?

Yukarıda verilen örüntüdeki? işareti olan yerlere sırasıyla hangi sayılar yazılmalıdır?

- A) 36 – 325                      B) 64 – 325  
C) 54 – 486                      D) 72 – 484

24. 5 – 12 – 19 – 26 – ?

Yukarıda verilen örüntüye göre bir sonraki sayı kaç olmalıdır?

- A) 33                      B) 32                      C) 31                      D) 30

25." 0, 3, 1, 4 " rakamlarının tamamını kullanarak yazılabilecek en büyük ve en küçük dört basamaklı sayıların farkı kaçtır?

- A) 2970                      B) 3106  
C) 3276                      D) 4176

## FEN BİLİMLERİ TESTİ

1. Ay'ı ne kadar Tanıyoruz?

1. Ay, ..... aldığı ışığı yansıtır.
2. Ay, ..... uydusudur.
3. Ay, Dünya etrafındaki ve kendi etrafındaki hareketini ..... sürede tamamlar.

Aşağıdaki kavramlardan hangisi yukarıda boş bırakılan yerlere yazılması gereken kavramlardan biri değildir?

- A) farklı    B) aynı  
C) Dünya'nın    D) Güneş'ten

2. Güneş, Dünya ve Ay ile ilgili aşağıdakilerden hangisi yanlıştır?

- A) Üçünün de hareket yönleri saat yönünün tersinedir.  
B) Ay'ın kendi eksenini etrafındaki dönüşü ile Dünya etrafındaki dolanım süresi aynı olduğundan Ay'ın hep aynı yüzü görülür.  
C) Güneş, Ay ile aynı büyüklüktedir.  
D) Güneş'in etrafında Dünya, Dünya'nın etrafında ise Ay dolanmaktadır.

3. Ay ile ilgili aşağıdaki bilgilerden hangisi yanlıştır?

- A) Şekli küreseldir.  
B) Doğal ışık kaynağıdır.  
C) Dünya'nın tek doğal uydusudur?  
D) Çok ince bir atmosfer tabakası vardır.

4. Güneş'ten gelen ısı ve ışık enerjisi hangi maddeler sayesinde ortaya çıkar?

- A) Hidrojen ve Oksijen    B) Argon ve Helyum  
C) Oksijen ve Azot    D) Hidrojen ve Helyum

5. Bir öğrenci incelediği bitkide bulunan kısımları tabloya yazmıştır.

Kısımları	Kök	Çiçek	Yaprak
İncelenen Bitki	Var	Var	Var

Buna göre, bu bitki aşağıdakilerden hangisi olabilir?

- A) Ciğer otu    B) Eğrelti otu  
C) Marul    D) Kara yosunu

- 6.1. Türünün devam etmesi için çoğalır.  
2. Kendi besinini kendi üretir.  
3. Solunum ve boşaltım yapar.



Yukarıda verilen özelliklerden hangisi ya da hangileri inek ve lale için ortak özelliktir?

- A) Yalnız 3    B) 1 ve 2.  
C) 1 ve 3.    D) 1, 2 ve 3.

- 7.1. Omurgalıdır.  
2. Yavrularını sütle besler.  
3. Vücutları kılla kaplıdır.

Verilen özelliklere sahip canlı aşağıdakilerden hangisi olabilir?

- A) Hamsi    B) Serçe  
C) Balina    D) Koyun

8. Aşağıda verilen canlılardan hangisi sadece mikroskopla görülebilir?

- A) Küf mantarı B) Karınca  
C) Bit D) Papatya

9. Aşağıdakilerden hangisi Ay'ın ara evrelerinden biridir?

- A) Dolunay B) İlk dördün  
C) Hilal D) Son dördün

10. Ay ile ilgili aşağıda verilen bilgilerden hangisi doğrudur?

- A) Çapı Dünya'nın çapından büyüktür.  
B) Kendi ışığı vardır.  
C) Dünya'ya Güneş'ten daha yakındır.  
D) Hem Güneş hem de Dünya onun çevresinde döner.

11. I. Ay'ın yüzeyindeki kraterler, gök taşlarının düşmesi sonucunda oluşmuştur.  
II. Ay hem kendi etrafında, hem de Dünya çevresi etrafında 29 günde döner.  
III. Ay'ın kendi ve dünya etrafındaki dönüş süresi eşit olduğu için biz hep ay'ın aynı yüzünü görürüz.

Yukarıda Ay ile ilgili olarak hangisi ya da hangileri doğrudur?

- A) I ve II. B) Yalnız I  
C) II ve III. D) I, II ve III.

12.



Yukarıdaki araçlardan hangisi ya da hangileri ile Güneş'e bakmak göz sağlığımızı olumsuz etkiler?

- A) Yalnız I B) I ve II  
C) II ve III D) I, II ve III

13. Ay ile Dünya arasında geçen konuşma şöyledir:  
**Dünya:** Benim etrafımda ne kadar sürede dolanıyorsun?

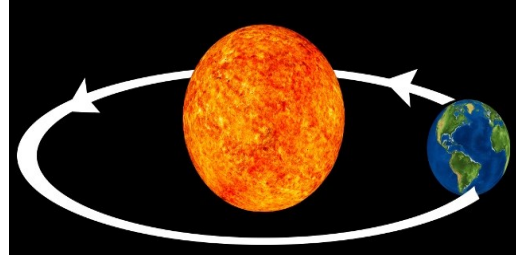
**Ay:** Ortalama ..... dolanıyorum sen bunu bilmiyor musun?

**Dünya:** Evet şimdi hatırladım.

Bu konuşma sırasında boş bırakılan yere aşağıdakilerden hangisi getirilirse doğru olur?

- A) 1 günde B) 1 ayda  
C) 1 haftada D) 1 yılda

14. Aşağıda Güneş ve Dünya verilmiştir.



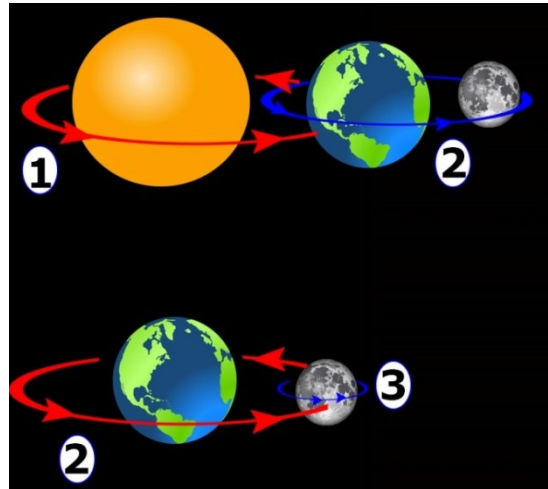
Sadece bu resme bakılarak,

1. Güneş ve Dünya küre şeklindedir,
2. Dünya, Güneş'in etrafında dolanır,
3. Dünya, Güneş'ten küçüktür

ifadelerinden hangilerine ulaşılabilir?

- A) Yalnız 1. B) 1 ve 2.  
C) 2 ve 3. D) 1, 2 ve 3.

15. Aşağıda bazı gök cisimlerinin hareketleri verilmiştir.



Bu hareketlerden hangilerinin tamamlanma süresi birbirine eşittir?

- A) 1 ve 2 B) 2 ve 3  
C) 1 ve 3 D) 1, 2 ve 3

16.



Yukarıdaki verilen tanımlara uygun kavramlar seçerek ilerlenirse hangi kavrama ulaşılır?

A) Ay B) Güneş C) Hafta D) yıl

17. Aşağıda verilen bitkileri sınıflandırdığımızda hangi bitki farklı grupta yer alır?

A) Gül B) Erik ağacı  
C) At kuyruğu bitkisi D) Elma ağacı

18. Aşağıda bitkiler hakkında verilen bilgilerden hangisi yanlıştır?

A) Kendi besinini kendi üretir.  
B) Yer değiştirme (hareket) yetenekleri vardır.  
C) Çiçeksiz ve çiçekli bitkiler olmak üzere iki bölüme ayrılırlar.  
D) Oksijen üretir.

19. Aşağıdakilerden hangisi memeli hayvanlara ait bir özelliktir?

A) Kılılı vücut B) Pullu deri  
C) Solungaç solunumu D) Kuluçkaya yatma

20. Aşağıdakilerden hangisi sınıflandırmada farklı bir grupta yer alır?

A) Balina B) Hamsi  
C) Palamut D) İstavrit

21. A: Bitkiye benzerim. Toprağa bağlı yaşarım ama kendi besinimi kendim üretmem.

Yukarıda kendini tanıtan A canlısı aşağıdakilerden hangisi olabilir?

A) Öglena B) Mercan  
C) Şapkalı mantar D) Eğrelti otu


22.



Burcu, merakını giderebilmek için aşağıdaki araçlardan hangisini kullanmalıdır?

A) Büyüteç B) Mikroskop  
C) Dürbün D) Teleskop

23. Aşağıda verilen canlılardan hangisi omurgasız bir hayvandır?



24. Melike ile Tuğba kendi aralarında bilmece yarışması yapıyorlar.

**Melike:** "Küreseldir yapım, ışık ve ısı kaynağıyım, sıcaktır her katmanım."

Bilmeceye doğru cevap veren Tuğba, aşağıdaki cevaplardan hangisini vermiştir?

A) Güneş B) Ay  
C) Dünya D) Mars

**25.Mantarlarla ilgili aşağıdakilerden hangisi yanlıştır?**

- A) Kendi besinlerini kendileri üretirler.
- B) Bitki olarak kabul edilmezler.
- C) Çeşitli hastalıklara neden olan çeşitleri de vardır.
- D) Yaprak ve çiçekleri yoktur.

## SOSYAL BİLGİLER TESTİ

### 1.Sümerlerin;

- I. Gözlemevi kurmaları
- II. Gökyüzünü incelemeleri
- III. Ay takvimi incelemeleri

**faaliyetlerinden hangisi ya da hangileri astronomi ile uğraştıklarını kanıtlar?**

- A) Yalnız II.
- B) I ve II.
- C) II ve III.
- D) I, II ve III.

- 2.** “Çocukların da hakları olduğunu öğrenen Emine, eve gittiğinde her istediğinin yapılmasını istemiştir. Hakları olduğunu söyleyerek ödev yapmamış, odasını toplamamıştır.”

**Emine bu davranışıyla aşağıdakilerden hangisini göz önüne almamaktadır?**

- A) Hakların sınırı vardır.
- B) Haklar kanunlarla korunmaktadır.
- C) Haklar tüm dünyada aynıdır.
- D) Haklar sözleşmeyle belirlenir.

- 3.**Peri bacaları..... , Selimiye cami..... zenginliklerimizdendir.

**Yukarıdaki cümlede boş bırakılan yerlere sırasıyla hangisi getirilmelidir?**

- A)tarihi – doğal
- B)doğal – tarihi
- C)maddi – manevi
- D)manevi – tarihi

- 4.** - Mısırlılarla Kadeş Antlaşması'nı yapmışlardır.  
- Fibula adı verilen çengelli iğneler yapmışlardır.  
- Tarihte ilk kez madeni para kullanmışlardır.

**Bu gelişmeler aşağıdaki uygarlıklardan hangisiyle ilgili değildir?**

- A) Urartular
- B) Hititler
- C) Lidyalılar
- D)Frigler

**5.Çocuk Hakları Sözleşmesi'nin kabul edilme amacı aşağıdakilerden hangisidir?**

- A) Suç işleyenleri cezalandırmak
- B) Dünya çocuklarını koruma altına almak
- C) Çocukların okumasını sağlamak
- D) Barışı sağlamak

- 6.**I. Yaşadığımız çevreyi kirletmemeliyiz.  
II. Doğal kaynakları gereğinden fazla kullanmamalıyız.  
III. Çevreyi kirleten ve zarar veren ürünleri üretmemeli ya da etkisini azaltıcı önlemler almalıyız.

**Doğal çevreyi korumak, yok olmasını önlemek için yukarıdakilerden hangilerini yaparsak doğru olur?**

- A) I ve II.
- B) I ve III.
- C) II ve III.
- D) I, II ve III.

**7.Sosyal bilgiler dersi okuyan bir öğrenciden aşağıda verilen davranışlardan hangisini yapması beklenmez?**

- A)Kantinde sıraya girer.
- B)okula zamanında gelir
- C)Ödevlerini zamanında yapar.
- D)Anlamadığı derslere çalışmaz.

**8.Aşağıdaki tarihi mekânlar ve buldukları yerler eşleştirmelerinden hangisi yanlıştır?**

- A) Ayasofya Müzesi – İstanbul
- B) Sümela Manastırı – Trabzon
- C) Nemrut Dağı – Ankara
- D) Aspendos Tiyatrosu – Antalya

9. Doğada insan eli değmeden oluşan, gezilip görülebilecek eşsiz güzellikteki yerve unsurlara doğal varlık adı verilir.

Buna göre, aşağıdakilerden hangisi doğal varlık değildir?

- A) Peri Bacaları
- B) Uludağ
- C) Uzun Göl
- D) Van Kalesi

10. Sümerler tarihte ilk defa tekerleği bulmuşlar bu sayede eşyalarını taşımışlar, ulaşım araçları geliştirmişler hatta savaş arabaları yaparak askeri alanda kullanmışlardır.

Bu bilgiye göre aşağıdakilerden hangisine ulaşamaz?

- A) Tekerleği farklı alanlarda kullanmışlardır.
- B) Yapılan bu icat hayatı kolaylaştırmıştır
- C) Sümerler tüm düşmanlarını yenmiştir
- D) Bu icat askeri açıdan da kolaylık sağlamıştır.

11. "Kral Yolu üzerinde kurulmuş olan Lidya uygarlığı, ekonomik faaliyetlerin kendilerine kazandırdığı büyük servetle komşu devletlere göre bilim, sanat ve teknikte üstün bir uygarlık seviyesine çıkmıştır."

Verilen bilgide, Lidya uygarlığının gelişmesinde etkili olan aşağıdaki faktörlerden hangisi vurgulanmıştır?

- A) Ekonomide parayı kullanmaları
- B) Ticaret yolu üzerinde bulunmaları
- C) Madencilik sanatında ileri oldukları
- D) Devlet yönetiminde tüccarların da etkili olmaları

12. Zaman içinde çeşitli doğa olayları sonucu medyana gelen unsurlara doğal varlık denir.

Tanıma göre, aşağıdakilerden hangisinin doğal varlık olduğu söylenemez?

- A) Şelale
- B) Cami
- C) Göl
- D) Mağara

13. Frigler'den günümüze;

- I. Tunçtan yapılmış göbekli taslar
- II. Fibula denilen çengelli iğneler
- III. Seramik çanak çömlekler kalmıştır.

Bunlardan hangileri, Frigya'da maden işleminin geliştiğine kanıt olarak gösterilebilir?

- A) Yalnız I.
- B) Yalnız II.
- C) I – II.
- D) I – II – III.

14. İnsanların doğada yaptıkları değişiklikler sonucu beşeri unsurlar ortaya çıkar.

Buna göre, aşağıdakilerden hangisi beşeri unsura örnek gösterilir?

- A) Çoruh Nehri
- B) Atatürk Barajı
- C) Van Gölü
- D) Erciyes Dağı

15. İlk ev mimarisi ve ilk kutsal yapılara ait buluntularıyla yazının (MÖ 3200) bulunmasından önceki insanlık tarihine ışık tutan merkezlerden biridir.

• Sadece ülkemizin değil dünyada yemek kültürünün ilk defa başladığı ateşin kullanıldığı, tarımın yapıldığı ve yerleşik yaşama geçildiği merkez olarak tanınır.

Hakkında bilgi verilen yerleşim merkezi aşağıdakilerden hangisidir?

- A) Alişar
- B) Çatalhöyük
- C) Hacılar
- D) Alacahöyük

16. Birçok olay olmakta ve birçok kişi etkilenmektedir. Olayların bir tane sonucu olabileceği gibi birçok sonucu olabilir. Olayların sonuçları herkeste farklı bir etki yapabilir.

Yukarıdaki metne bir başlık verilecek olsak aşağıdakilerden hangisini vermemiz gerekirdi?

- A) Olayların Çok Boyutluluğu
- B) Olaylar ve İnsanlar
- C) Olaylar Neden Olmaktadır
- D) Olaylar Arasındaki Farklar

**17.**Aşağıdaki uygarlıklardan hangisi bilime daha çok önem vermiştir?

- A) Urartu  
B) Lidya  
C) İyonlar  
D) Asurlular

**18.**Sümer uygarlığına ait olmayan gelişme hangi seçenekte gösterilmiştir?

- A) İlk yazı ve tekerlek  
B) Zigguratlar  
C) İlk kanun ve anayasa  
D) Matematikte dört işlem

**19.**



Topkapı Sarayı



Süleymaniye Camii

Yukarıda İstanbul Süleymaniye Camii ve Topkapı Sarayı verilmiştir.

**İki yapının ortak özellikleri hangi seçenekte doğru olarak verilmiştir?**

- A) Doğal varlıklarımızdır  
B) Tarihi yapılardır.  
C) Bilim için kurulmuşlardır.  
D) İbadethanelerdir.

**20.**Sosyal Bilgiler öğrenmek bireylere çeşitli özellikler kazandırır.

- I. Toplumsal değerlere saygıyı öğrenme  
II. Çevresinde yaşanan sorunları görmezden gelme  
III. Demokratik değerleri benimseme

**Yukarıdakilerden hangisi veya hangileri sosyal bilgileri öğrenmenin amaçlarından değildir?**

- A) Yalnız I  
B) I ve III  
C) Yalnız II  
D) II ve III

**21.**“Eğer yerde ve gökte Allah’tan başka ilahlar (tanrılar) olsaydı kesinlikle ikisinin de düzeni bozulurdu.”(Enbiya Suresi 22)

**Yukarıdaki ayet ile aşağıdakilerden hangisi anlatılmaktadır?**

- A) Allah’ın eşi ve benzeri yoktur.  
B) Allah’ın her şeye gücü yeter  
C) Allah’ın her şeyi bilir.  
D) Allah bizimle beraberdir.

**22.**“Gül Hüvellahü Ehad. Allahü’s-Samed. Lem \_\_\_\_\_ ve lem Yüled. Ve Lem Yekün Lehü \_\_\_\_\_ Ehad.”

**Yukarıdaki boş bırakılan yerlere aşağıdaki kelimelerden hangileri gelmelidir?**

- A) Yüled – Küfüven  
B) Yelid – Küfüven  
C) Kevser – Yelid  
D) Şanieke – Ebter

**23.**“Ben cinleri ve insanları ancak bana kulluk etsinler diye yarattım.”(Zariyat,56)

**Yukarıdaki ayet hangi kavramlar arasındaki ilişkiye örnektir?**

- A) Allah – Evren ilişkisi  
B) Allah – İnsan ilişkisi  
C) İnsan – Evren ilişkisi  
D) İnsan – İnsan ilişkisi

**24.**“Her varlık ölümlüdür. Allah ise ölümlü değildir. Allah’ın bir sonu yoktur.”

**Yukarıda anlatılan Allah’ın sıfatı hangisidir?**

- A) Vücut  
B) Kıdem  
C) Beka  
D) İlim

**25. Aşağıdakilerden hangisi Allah'a inanan bir insandan beklenen davranış olamaz?**

- A) Çalışmalarının sonunda Allah'ın izniyle başarıya ulaşacağına inanmak.
- B) Çalışırken Allah'ın kendisine yardım edeceğini düşünmek.
- C) Allah'ın yarattığını düşünerek canlılara eziyet etmemek.
- D) Hiçbir çaba harcamayıp Allah'ın yardımını beklemek.

**DİN KÜLTÜRÜ VE AHLAK BİLGİSİ DERSİNİ  
OKUMAYANLAR AŞAĞIDAKİ SORULARI  
CEVAPLAYACAKTIR.**

**21. Bir trafik kazasını görenler aşağıdaki yorumları yapmışlardır:**

- Bence sürücü hatalı olabilir.
- Araç arıza yapmış olabilir.
- Yol bozuk olabilir.

**Trafik kazası ile ilgili yapılan yorumlara bakıldığında aşağıdaki yargılardan hangisine ulaşılabılır?**

- A) Olayların birden fazla nedeni olabilir.
- B) Bir olayın birden çok sonucu olabilir.
- C) Her birey olaylardan aynı etkilenir.
- D) Olaylar birbirine benzer.

**22.- Sınıfta gerekli bilgileri öğrencilere vermek**  
-Otel duvarlarını boyamak  
-Yönetmekte olduğu trenle insanların ulaşımını sağlamak

**Yukarıda belirtilen sorumluluklar verilen seçeneklerdeki rollerle eşleştirildiğinde hangi seçenek dışta kalır?**

- A) Boyacı
- B) Polis
- C) Makinist
- D) Öğretmen

**23. Alihan:** "Grup içinde bütün sorumluluğu bir kişi üstlenmelidir.

**Melisa:** "Grup içinde yapılması gereken her işi grup lideri yapmalıdır."

**Elif:** "Grup içinde işbirliğine gerek yoktur."

**Selim:** "Grup içinde sorumluluğun paylaşılması gerekir."

**Yukarıdaki öğrencilerden hangisinin söylediği doğrudur?**

- A) Alihan
- B) Selim
- C) Melisa
- D) Elif

**24. Aşağıda verilen rol – sorumluluk eşleştirmelerden hangisi yanlıştır?**

- A) Futbolcu-----Gol atmak
- B) Baba -----Evi geçindirmek
- C) Kaymakam----Suçlulara ceza vermek
- D) Doktor -----Tedavi etmek

**25. İlkçağda Anadolu'da kurulan uygarlıklarla ilgili verilen bilgilerden hangisi yanlıştır?**

- A) Anadolu'da kurulan ilk uygarlık Hititleridir.
- B) Ticarete değiş – tokuşa son vererek parayı kullanan uygarlık Lidyalılardır.
- C) İyonlar ve Lidyalılar Ege Bölgesinde kurulmuştur.
- D) Bilime ve Özgür düşünceye önem veren uygarlık Urartular'dır.

**TEST BİTTİ.  
CEVAPLARINIZI KONTROL EDİNİZ.**