

**ALTINÇAĞ ORTAOKULU**  
**2019 – 2020 EĞİTİM ÖĞRETİM YILI**  
**5. SINIF İOKBS DENEME SINAVI –2**

**TÜRKÇE TESTİ**

1. Bazı yörelerde yeni evlenen çiftlere “bindallı kilimi” hediye edilir. Kilimin içindeki dörtgen ve altıgenlerden oluşan şekillerin dörtgen motifleri, yeni evlenen çiftlerin anne ve babalarını; altıgen motifleri ise bu çiftlerin çocuklarını, torunlarını ve onlardan gelecek nesilleri simgeler. Kilimin ortasındaki bağlantı motifleri ise iki ailenin birleştiğini gösterir. Böylece yeni evlenen çiftlerin “bin dal” ile hayata kök salacağı vurgulanır.

**Bu parçada “bindallı kilimleri” ile ilgili aşağıdakilerden hangisine değinilmemiştir?**

- A) Kilimde geometrik şekiller kullanıldığına  
B) Motiflerinin gerçek hayattaki bazı durumları temsil ettiğine  
C) Motiflerinin yöreden yöreye farklılık gösterdiğine  
D) Yeni evlenen çiftlere armağan edildiğine
2. Çocuk, oyun oynarken yaşam hakkında pek çok şey öğrenir ve türlü deneyimler kazanır. Özellikle oyuncaklarını kendisi yaparken ve arkadaşlarıyla paylaşırken yaşamın pek çok ayrıntısını öğrenir. Oyuncaklarını üretirken emeği; arkadaşlarıyla oynarken insan ilişkilerini, insanların karakterini ve sorunlara çözüm bulmayı öğrenir. Dolayısıyla oyun, çocukların yaşamla ilgili tecrübeler kazandığı bir okuldur.

**Bu parçanın ana düşüncesi aşağıdakilerden hangisidir?**

- A) Oyun, çocuk eğitiminde en önemli unsurdur.  
B) Oyun oynamak, çocuğun hayatı tanımalarını sağlar.  
C) Oyun, çocuklara paylaşma duygusunu kazandırır.  
D) Oyuncaklar çocukların güven duygusunu geliştirir.

3. “Benim canım arkadaşım, gözümde tütüyorsun,” cümlesindeki altı çizili ifadenin anlamı aşağıdakilerden hangisidir?

- A) Mutlu olmak  
B) Aşırı sevinmek  
C) Çok özlemek  
D) İçine doğmak

4.

**DENİZLERİN ARMAĞANLARI**

Deniz bir yaşam kaynağıdır. Aldığımız her nefeste denizin payı var; yaşamak için ihtiyaç duyduğumuz oksijenin %75'i denizlerden gelmekte. Deniz yaşamı korur, hayat kurtarır. İnsanoğlunu zararlı morötesi ışınlardan koruyan ozon tabakasını oluşturur. Kanser ilaçlarının % 65'i deniz canlılarından ve bitkilerinden yapılmaktadır. Deniz yuvadır. Denizde yaklaşık 300–500 milyon deniz organizması yaşar. Dünya nüfusunun neredeyse yarısı hayatlarını deniz kıyısındaki kentlerde sürdürmektedir. Deniz geçim kaynağıdır. Birçok ülke, milli gelirinin yaklaşık %30'unu balıkçılık, deniz taşımacılığı, turizm ve benzer endüstri dalları aracılığıyla denizden kazanır. Deniz yeryüzünde tamamen keşfedilmemiş tek yerdir. İnsanlar denizlerin %10'undan daha azını keşfetmiştir. Uzaya giden insanların sayısı denizin derinliklerine gitmeye cesaret edenlerin sayısından fazladır. Ancak aynı zamanda Dünya'nın en büyük çöp kutusudur !

**Yukarıdaki metne göre, aşağıdakilerden hangisi ozon tabakasının görevidir?**

- A) İnsanoğlunu zararlı morötesi ışınlardan koruyan tabakadır.  
B) Yeryüzünün su tabakasıdır.  
C) Denizlerin tabanını oluşturan tabaka  
D) Su döngüsünü sağlayan tabaka

5. İlk kez 1960'lı yıllarda kullanılmaya başlanan İnternet, İngiltere'de uygulamaya geçirilmiştir. Daha sonra Amerika Savunma Bakanlığının savunma amaçlı kurduğu bilgisayar ağı, bugünkü İnternet'in ön tipini oluşturmuştur.

**Bu parçanın konusu aşağıdakilerden hangisidir?**

- A) İnternet'in sosyal hayata etkisi  
B) İnternet'in ortaya çıkışı  
C) İnternet'in faydaları  
D) İnternet'in yaygınlaşması

6. I. Toprağı kazmaya başlamış ve kaza kaza komşunun ahırına girmiş.  
II. Hanım, hanım; eski zamanlardan kalma bir ahır dolusu öküz buldum, demiş.  
III. Nasrettin Hoca, yer altına ahır yapmaya karar vermiş.  
IV. Ahırdaki öküzleri görünce hemen karısının yanına gitmiş.

**Numaralanmış cümleler olayların oluş sırasına göre nasıl sıralanmalıdır?**

- A) I – III – IV – II  
B) I – IV – II – III  
C) III – I – IV – II  
D) III – IV – II – I

7. "Bir fincan kahvenin kırk yıl hatırı vardır." atasözüne en yakın anlam aşağıdakilerden hangisidir?

- A) Kahve ikram etmekle herkesin gönlünü alabilirsiniz.  
B) Dostluklarımızı bir fincan kahveyle pekiştirmesini bilmeliyiz.  
C) Yapılan iyilikler, aradan uzun yıllar geçse de  
D) İnsanlar birbirlerine iyilikte bulunmalıdır.

8. "Koku" sözcüğü aşağıdaki cümlelerin hangisinde mecaz anlamda kullanılmıştır?

- A) Mutfaktan güzel yemek kokuları geliyordu.  
B) Gripten dolayı burnu koku almıyordu.  
C) Köpek bagajdan gelen kokuya yöneldi.  
D) Ortalıkta savaş kokusu vardı.

9.

Sözcük	Eş Anlamlısı	Zıt Anlamlısı
☉	yoksul	☀
mutlu	△	üzgün

Yukarıdaki tabloda △, ☉ ve ☀ şekilleri ile belirtilen yerlere aşağıdakilerden hangisi gelmelidir?

- A) Zengin      Mutsuz      Fakir  
B) Zeki      Tatlı      Neşeli  
C) Neşeli      Fakir      Zengin  
D) Soğuk      Zengin      Sıcak

10. "Ekmek yiyebilmek için buğday ekmek gerekir." cümlesindeki altı çizili sözcükler için aşağıdakilerden hangisi söylenebilir?

- A) Eş anlamlı      B) Eş sesli  
C) Zıt Anlamlı      D) Mecaz

11. "Tatlı" sözcüğü, hangi cümlede gerçek anlamıyla kullanılmıştır?

- A) Tatlı sözlerle çocuğu sevindirdi.  
B) Sabahleyin, tatlı uykusundan uyandı.  
C) Sağlıklı, sevimli, tatlı bir çocuktu.  
D) Hiç böyle tatlı elma yememişim.

12. 1. Kurtuluş Savaşı  
2. İstiklal Caddesi  
3. Yüzbaşı Mehmet  
4. Türk tarih kurumu  
5. Ömer Seyfettin  
6. Türkmenistan

Yukarıdakilerden hangilerinin yazımında yanlışlık yapılmıştır?

- A) 1 – 2 – 4      B) 2 – 3 – 6  
C) 1 – 3 – 6      D) 2 – 3 – 4

13. "Ahmet ( ) o gün eve geç geldi ( ) hemen odasına girdi ( ) Aklında hep öğretmeni, arkadaşları okulu ( )" cümlesinde sırasıyla hangi noktalama işaretleri kullanılmalıdır?

- A) ( ' ) ( . ) ( . ) ( ... )      B) ( , ) ( ; ) ( . ) ( . )  
C) ( , ) ( ; ) ( . ) ( ... )      D) ( , ) ( . ) ( , ) ( ... )

14. Dalgalandığın yerde ne korku, ne keder...  
Gölgende bana da bana da yer ver!  
Sabah olmasın, günler doğmasın ne çıkar  
Yurda ay yıldızın ışığı yeter.

Yukarıdaki şiirin ana duygusu aşağıdakilerden hangisidir?

- A) Vatan sevgisi      B) Bayrak sevgisi  
C) Özgürlük isteği      D) Yaşama sevinci

15. 1. Üfleyen  
2. ney  
3. sanatkârlara  
4. denilmektedir  
5. neyzen

Yukarıdaki kelimelerle anlamlı ve kurallı bir cümle oluşturulmak istenirse sıralama nasıl olur?

- A) 1 – 4 – 2 – 5 – 3      B) 4 – 3 – 5 – 2 – 1  
C) 2 – 1 – 3 – 5 – 4      D) 5 – 3 – 1 – 2 – 4

16. Aşağıdaki cümlelerin hangisi nesnel ifadedir?

- A) Kış mevsimi en güzel Konya'da yaşanır.  
B) Öğle uykusunu çok severim.  
C) Karpuzdan daha güzel meyve yoktur.  
D) Portakalda c vitamini vardır.

17. Aşağıdaki cümlelerden hangisinde neden – sonuç ilişkisi vardır?

- A) Bu mahalleyi çok sevdi.
- B) Yeni saati çok güzeldi.
- C) Dün sabah okula geç geldi.
- D) Çok yorulduğundan uyuyakaldı.

18. Aşağıdaki cümlelerin hangisinde "pişmanlık" söz konusudur?

- A) Hani her şeyi kardeş payı yapacaktık
- B) Bizi kapıdan çevirmesin mi?
- C) Keşke bu sınava çok çalışsaydım.
- D) O kadar işim var ki, hangisine yetişeyim?

19. "Bilmek" sözcüğü aşağıdaki cümlelerin hangisinde "tanımak" anlamında kullanılmıştır?

- A) İlk önce bildiğin soruları yanıtlı.
- B) Bildiğin gibi değil o çocuğun hareketleri.
- C) Ne zaman geleceğini ben de bilmiyorum.
- D) Beni bilen herkesi doğum günüme çağırdım.

20. Aşağıdaki cümlelerden hangisinde aynı konuyla ilgili nesnel ve öznel yargı bir arada verilmiştir?

- A) Bu film, 2009 yılında çekilmiştir ve yılın en güzel filmidir.
- B) Tüm teknik ekip çok çalışmıştır.
- C) Filmin bazı sahneleri bilgisayarda yapılmıştır.
- D) Film, tam dört yılda çekilmiştir ve beş farklı mekân kullanılmıştır.

21. Aşağıdaki tümcelerinin hangisinde deyim yoktur?

- A) Bağrı yanık bir adamcağızdı.
- B) Babamın öfkesi burnundaydı.
- C) Kardeşim yavaş yavaş geliyordu.
- D) Sokakta fareler cirit atıyordu.

22. "Çocuklar, baharda havada uçurtma uçurmayı severler." cümlesinde hangi sözcük gereksizdir?

- A) çocuklar
- B) uçurtma
- C) havada
- D) baharda

23. Bir şemsiye tamircisi, yazmış olduğu şiirlerini incelemesi için Shakespeare'e gönderdiğinde, ünlü yazarın cevabı şu olur; "Dostum, siz şemsiye yapın, hep şemsiye yapın, sadece şemsiye yapın..."

Metne göre Shakspeare'in anlatmak istediği düşünce aşağıdakilerden hangisidir?

- A) Şemsiyeciler, şiir yazamazlar.
- B) Şemsiyeci mesleğinin dışında bir iş yapabilir.
- C) Şemsiyecinin şiirleri çok güzeldir.
- D) Herkes yetenekli olduğu alanlarda çalışmalıdır.

24. I. sonbaharda  
II. Türkiye'ye  
III. dönüyor  
IV. Ayla

Yukarıdaki kelimelerden kurallı bir cümle oluşturduğumuzda aşağıdaki sıralamalardan hangisi yanlış olur?

- A) I, II, IV ve III.
- B) IV, III, I ve II.
- C) II, I, IV ve III.
- D) IV, I, II ve III.

25. Mustafa 1881 yılında Selanik'te doğdu. Okul çağına gelince geleneklere bağlı annesiyle modern düşünceli babası arasında bir çatışma olur. Annesi, Mustafa'nın mahalle mektebine, babası ise Şemsi Efendi Okulu'na gitmesini ister. Sonunda babasını bir çıkar yol bulur. Mustafa önce mahalle mektebine daha sonra ise şemsi efendi okuluna geçer. Buradaki öğretmenler, küçük Mustafa'nın maharetlerini ve zekasının farkına vararak, Mustafa'nın okulda olmasından büyük sevinç içindedirler.

Yukarıdaki metinden hangisi çıkarılamaz?

- A) Mustafa'nın ebeveynleri farklı düşüncedeler.
- B) Mustafa ilk önce mahalle mektebine gitmiştir.
- C) Küçük Mustafa Şemsi Efendi Okuluna gitmemiştir.
- D) Öğretmenleri Mustafa'dan memnundur.

## MATEMATİK TESTİ

1. Teslime 736 liraya satılan bir bilgisayarı, 100 lira peşin ödeyip geri kalanı 6 eşit taksitle alıyor. Teslime her bir taksit için kaç lira ödeyecektir?

- A) 106
- B) 108
- C) 112
- D) 120

2.



1. Adım



2. Adım

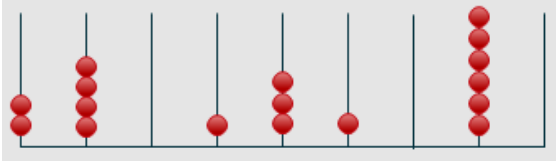


3. Adım

Yukarıda eşit doğru parçaları kullanılarak oluşturulan örüntünün 4. adımında kaç tane doğru parçası kullanılır?

- A)10 B)11 C)12 D)13

3.



Yukarıdaki abaküste gösterilen sayı aşağıdakilerden hangisidir?

- A) 204 131 060 B) 240 131 600  
C) 204 131 006 D) 240 131 060

4.  $3782 - 2456 = ?$

Aykut, yukarıdaki işlemin sonucunu en yakın yüzlüğe göre tahmin ediyor.

Buna göre, sonuç aşağıdakilerden hangisidir?

- A) 1200 B) 1300 C) 1330 D) 1350

5. 980 kilo patatesin tamamı 16 kg lık torbalara doldurulmak istenirse en az kaç torba gereklidir?

- A) 62 B) 61 C) 60 D) 59

6.  $(402 \times 6) - 1845 = ?$  işlemin sonucu kaçtır?

- A) 2402 B) 567 C) 2412 D) 673

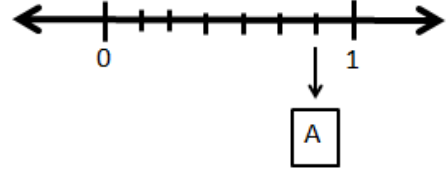
7.  $\frac{25}{35}$  kesrinin sadeleştirilmiş hali hangisidir?

- A)  $\frac{2}{3}$  B)  $\frac{5}{7}$  C)  $\frac{5}{10}$  D)  $\frac{7}{5}$

8.  $3\frac{1}{5}$  verilen tam sayılı kesrin, bileşik kesir hali aşağıdakilerden hangisidir?

- A)  $\frac{4}{5}$  B)  $\frac{16}{5}$  C)  $\frac{5}{7}$  D)  $\frac{1}{8}$

9.



Yukarıda sayı doğrusunda verilen A sayısı aşağıdakilerden hangisidir?

- A)  $\frac{1}{7}$  B)  $\frac{3}{7}$  C)  $\frac{6}{7}$  D)  $\frac{8}{7}$

10. Aşağıdaki kesirlerden hangisi  $\frac{4}{7}$  kesrine denktir?

- A)  $\frac{8}{12}$  B)  $\frac{12}{14}$  C)  $\frac{20}{35}$  D)  $\frac{40}{56}$

11.  $\frac{87}{13}$  kesrinin eşiti aşağıdakilerden hangisidir?

- A)  $6\frac{9}{13}$  B)  $6\frac{6}{13}$  C)  $7\frac{1}{13}$  D)  $7\frac{5}{13}$

12.  $\frac{1}{9}, \frac{1}{18}, \frac{1}{3}, \frac{1}{7}$

Verilen kesirlerin küçükten büyüğe doğru sıralanışı aşağıdakilerden hangisidir?

- A)  $\frac{1}{18} < \frac{1}{9} < \frac{1}{7} < \frac{1}{3}$  B)  $\frac{1}{7} < \frac{1}{9} < \frac{1}{3} < \frac{1}{18}$

- C)  $\frac{1}{3} < \frac{1}{7} < \frac{1}{9} < \frac{1}{18}$  D)  $\frac{1}{9} < \frac{1}{18} < \frac{1}{7} < \frac{1}{3}$

13.  $2\frac{5}{6}$  kesrinin bileşik kesre çevrilmiş şekli hangi seçenekte verilmiştir?

- A)  $\frac{10}{6}$  B)  $\frac{17}{6}$  C)  $\frac{10}{12}$  D)  $\frac{12}{6}$

14. Günde 27 sayfa kitap okuyan Ayşe Dilara, 29 günde toplam kaç sayfa kitap okumuş olur?

- A) 763      B) 773      C) 783      D) 793

15. 217 tane şeker sırasıyla A, B, C ve D kişilerine, şekerlerin tamamı bitene kadar beşer beşer dağıtılmaktadır.

Buna göre, en az şeker alan kişi kaç şeker almıştır?

- A) 55      B) 54      C) 53      D) 52

16. Aşağıda bazı çarpımlar üslü olarak ifade edilmiştir.

Buna göre hangisi yanlıştır?

- A)  $3^1 = 1 \times 1 \times 1$       B)  $2^3 = 2 \times 2 \times 2$   
C)  $4^2 = 4 \times 4$       D)  $13^2 = 13 \times 13$

17. Emine Rana, güllerin tanesini 7 TL 'den, Karanfil-lerin tanesini 5 TL'den satmakta, 4 gül ve 4 karanfil alana 10 TL indirim yapmaktadır.

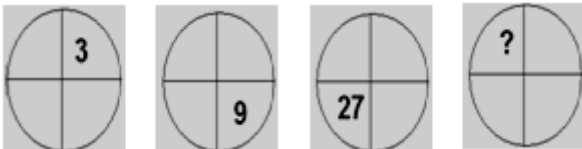
Yusuf, annesine 8 gül ve 8 karanfil alırsa Emine Rana'ya kaç TL ödemelidir

- A) 48      B) 72      C) 76      D) 96

18. Beş basamaklı en büyük çift doğal sayı ile altı basamaklı en küçük çift doğal sayının toplamı aşağıdakilerden hangisidir?

- A) 1 099 998      B) 211 110  
C) 200 000      D) 199 998

19.



Yukarıdaki örüntüde "?" yerine kaç yazılmalıdır?

- A) 33      B) 36      C) 54      D) 81

20. Yaşıma 25 eklenirse, babamın yaşına eşit oluyor. Babam 36 yaşında olduğuna göre, yaşlarımızın toplamı kaç eder?

- A) 44      B) 45      C) 47      D) 51

21. Binler bölümü 707, milyonlar bölümü 125 ve birler bölümü 3 olan sayı aşağıdakilerden hangisidir?

- A) 152 707 003      B) 125 707 003  
C) 707 125 003      D) 707 512 003

22. 5, 1, 0, 4, 7, 6, 8, 2

Yukarıda verilen rakamlarla oluşturulacak 8 basamaklı en küçük doğal sayının binler bölümü aşağıdakilerden hangisidir?

- A) 024      B) 245      C) 456      D) 568

23.  $2 \times 10000000 + 5 \times 10000 + 3 \times 1000 + 4 \times 10 + 9 \times 1$

Yukarıda çözümlenmesi verilen sayı hangisidir?

- A) 25 349  
B) 2 053 409  
C) 20 053 049  
D) 200 530 049

24. Bir bölme işleminde; bölünen 264, bölüm 22'dir.

Buna göre, bölen kaçtır?

- A) 11      B) 22      C) 12      D) 14

25.  $12345 + 54683 = ABCDE$  olduğuna göre,  $A+B+C+D+E$  kaçtır?

- A) 20      B) 21      C) 22      D) 23

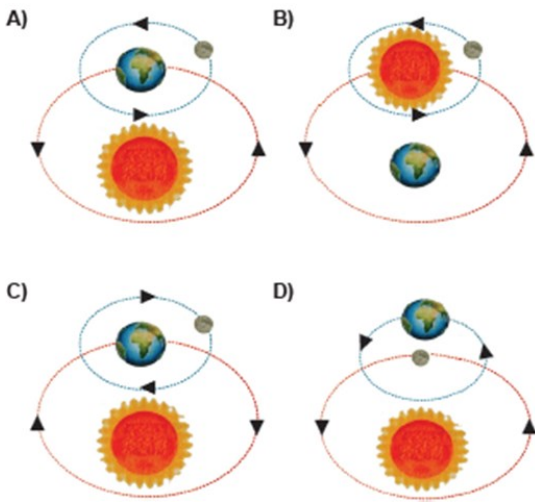
# FEN BİLİMLERİ TESTİ

1. I.Dünya bir gezegendir.  
II.Ay, Dünya'ya en yakın gök cisimidir.  
III.Güneş de bir yıldızdır.  
IV.Dünya, Ay etrafında döner.

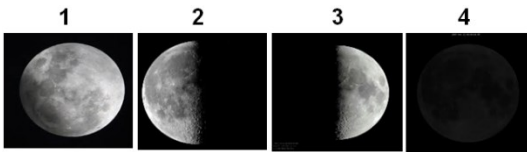
Yukarıda verilen ifadelerden hangisi **yanlıştır**?

- A) I. B) II. C) III. D) IV.

2. Aşağıda verilen Güneş, Dünya ve Ay'ın konumları ve dolanma hareketleri ile ilgili olarak hangisi doğrudur?



3. Aşağıda numaralarla verilen Ay'ın evreleri ile ilgili bilgilerden hangisi **yanlıştır**?



- A) Tamamını gördüğümüz evre 1'dir.  
B) Bayrağımızdaki hilal evresini 2. evreden 4. Evreye geçerken görürüz.  
C) 4. evreden 3. evreye geçiş süresi 7 gündür.  
D) Evrelerin gerçekleşme sırası 3-1-2-4 şeklindedir.

4. Ay'ın yüzeyinde bulunan meteor çarpması sonucu oluşmuş derin çukurlara ..... denir.

Yukarıda verilen tanımda boş bırakılan yere hangi kavram getirilmelidir?

- A) krater B) magma  
C) mağara D) leke

5.



Bitkinin bölümleri yukarıda gösterilmiştir.

Buna göre, aşağıda verilen bilgilerden hangisi **yanlıştır**?

- A) ▲ Bitkinin üreme organıdır.  
B) ■ Bitkide fotosentezde görevlidir.  
C) ● Bitkide besin üretmede görevlidir.  
D) ★ Topraktan su ve mineralleri alır.

6. Oda sıcaklığında açıkta bırakılan yiyecekler çok kısa sürede tadını, kokusunu kaybedip bozulmaktadır.

Besinlerin bozulmasına sebep olan canlılar hangi canlı grubuna ait olabilir?

- A) Bitkiler B) Mikroskopik canlılar  
C) Hayvanlar D) Şapkalı mantarlar

7. Enes, bazı canlı örnekleri seçerek o canlıların özellikleri için aşağıdaki eşleştirmeleri yapıyor.



Buna göre, Enes'in yaptığı eşleştirmelerden hangileri doğrudur?

- A) 1 ve 2 B) 1 ve 3  
C) 2 ve 3 D) 1, 2 ve 3

8. Aşağıdakilerden hangisi kuşlar grubuna **girmez**?

- A) yarasa B) tavuk  
C) deve kuşu D) güvercin

9. I. Ay'ın evreleri oluşmazdı.  
II. Ay'ın diğer yüzü görülebilirdi.  
III. Ay'ın kendi etrafındaki dönüş süresi kısalırdı.


**Ay, Dünya etrafında dolanmasaydı yukarıdaki-lerden hangileri gerçekleşirdi?**

- A) Yalnız I.                      B) I ve II.  
C) I ve III.                      D) I, II ve III.

10. Ay'ın her gece farklı şekillerde görülmesi aşağıdakilerden hangisinin sonucudur?

- A) Ay'ın Dünya çevresinde dönmesinin  
B) Ay'ın Güneş çevresinde dönmesinin  
C) Ay'ın kendi çevresinde dönmesinin  
D) Ay'ın Dünya'dan küçük olmasının

11. Aşağıda Ay'ın Dünya etrafındaki konumları verilmiştir.



**Ay, numaralanmış yerlerdeyken Dünya'dan bakan birisine göre aşağıdaki evrelerden hangilerinde görünür?**

- A) Dolunay                      Yeniay  
B) İlkdördün                      Son dördün  
C) Yeniay                      Dolunay  
D) Son dördün                      İlk dördün

12. Fatma Beyza aşağıdaki ifadeler doğru ise "D" harfi, yanlış ise "Y" harfi yazmıştır.

1. (..D..) Güneş hem kendi etrafında hem de Dünya'nın etrafında döner.  
2. (..Y..) Dünya sadece kendi etrafında döner.  
3. (..D..) Ay, kendi etrafında dönerken Dünya'nın etrafında dolanır.

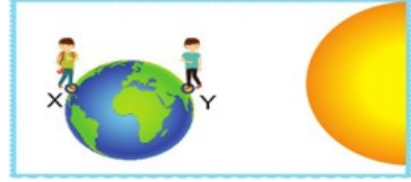
**Buna göre Fatma Beyza, hangisini ya da hangilerini doğru yazmıştır?**

- A) Yalnız 2.                      B) 1 ve 3.  
C) 2 ve 3.                      D) 1, 2 ve 3.

13. Besinleri mikroskopik canlıların zararlı etkilerinden korumak için aşağıdaki yöntemlerden hangisi yapılmamalıdır?

- A) Besinleri dondurmak  
B) Konserve yapmak  
C) Besinleri kurutmak  
D) Besinleri yakmak

- 14.



Dünya ve Güneş'in konumları yukarıdaki resimde verilmiştir.

**Resme göre X ve Y noktasında duran çocuklar için aşağıdakilerden hangisi doğrudur?**

- A) Her iki çocuk da gündüzü yaşar.  
B) X noktasındaki çocuk gündüzü, Y noktasındaki çocuk geceyi yaşar.  
C) Her iki çocuk da geceyi yaşar.  
D) X noktasındaki çocuk geceyi, Y noktasındaki çocuk gündüzü yaşar.

15. **Bayram Ali:** "Güneş'in de tıpkı Dünya gibi katmanları vardır.  
**Tuğba:** Güneş'ten yayılan enerjinin tamamı Dünya'ya ulaşır.  
**Sümeyye:** Güneş'in şekli küreseldir.  
**Alime:** Güneş'in Dünya'ya uzaklığı yaklaşık 150 milyon km'dir.

**Yukarıdaki öğrencilerden hangisi Güneş'in özellikleri ile ilgili yanlış bilgi vermiştir?**

- A) Bayram Ali                      B) Tuğba  
C) Sümeyye                      D) Alime

16. Bilim adamları canlıları: "Bitkiler, Hayvanlar, Mantarlar ve Mikroskopik Canlılar" olarak sınıflandırmışlardır.


**Bunun nedeni aşağıdakilerden hangisidir?**

- A) Daha iyi bir hayat için.  
B) Temiz bir dünya için.  
C) Canlıların incelenmesinde kolaylık sağlamak için.  
D) Doğayı korumak için.

- 17.1. Yeni ay
2. İlk dördün
3. Dolunay
4. Son dördün

Yukarıda Ay'ın evreleri adlarıyla verilmiştir.

**Evrelerin sıralanışı aşağıdakilerden hangisinde doğru olarak verilmiştir?**



**18. Dünyamız kendi çevresinde batıdan doğuya doğrudöner.Kendiçevresindedoğudanbatıya doğru dönseydi güneş hangi yönde doğardı?**

- |          |          |
|----------|----------|
| A) Batı  | B) Güney |
| C) Kuzey | D) Doğu  |

- 19.** 1. Pelikan  
2. Kertenkele  
3. At  
4. Yılan  
5. İnek  
6. Balık

**Yukarıdaki numaralarla gösterilen canlılardan hangileri yavrularına bakar?**

- |               |               |
|---------------|---------------|
| A) 1, 2 ve 4. | B) 4, 5 ve 6. |
| C) 1, 3 ve 5. | D) 2, 3 ve 5. |

**20.**Zehirli olma ihtimali nedeniyle doğada büyüyen mantarlar tüketilmemelidir.

**Yukarıdaki uyarı hangi mantar türüyle ilgilidir?**

- A) Parazit mantarları
- B) Küf mantarları
- C) Maya mantarları
- D) Şapkalı mantarlar

**21. Aşağıda verilen canlı gruplarında hangisi doğurarak çoğalır?**

- |              |                |
|--------------|----------------|
| A) Kuşlar    | B) Sürüngenler |
| C) Memeliler | D) Balıklar    |

**22.** Gözle görülemeyecek kadar küçük, ancak mikroskop adı verilen araçla gözlemlenebilen canlılara mikroskopik canlılar adı verilir.

**Buna göre, aşağıda verilen canlılardan hangisi mikroskopik canlılara örnek verilemez?**

- |            |                    |
|------------|--------------------|
| A) Amip    | B) Terliksi hayvan |
| C) Karınca | D) Öglena          |

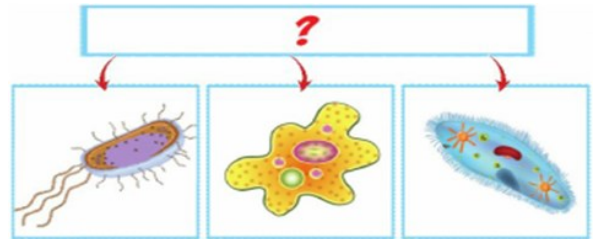
**23. Bitkilerde su kaybı hangi olayla gerçekleşir?**

- |             |               |
|-------------|---------------|
| A) Solunum  | B) Terleme    |
| C) Boşaltım | D) Fotosentez |

**24. Aşağıdakilerden hangisi omurgalı değildir?**

- |             |           |
|-------------|-----------|
| A) Balıklar | B) Midye  |
| C) Balina   | D) Balina |

**25.** Aşağıda bazı canlıların resimleri verilmiştir.



**Resimlerin kullanıldığı şemada “?” ile gösterilen yere aşağıdakilerden hangisi yazılabilir?**

- A) mantarlar
- B) Bitkiler
- C) Mikroskopik Canlılar
- D) Besinlerini Kendisi Üretenler

# SOSYAL BİLGİLER TESTİ

## 1. Madde 32: Çocuk işçiliği

Hükümet sizi, sağlık veya gelişiminiz için zararlı nitelikte, eğitiminizi engelleyen veya başka insanların sizi sömürmelerine neden olan işlerden korumalıdır.

**Aşağıdakilerden hangisi Çocuk Hakları Sözleşmesi'nin verilen maddesine uygun bir yaklaşımdır?**

- A) Çocukların vasıfsız işlerde çalıştırılmaları uygundur.
- B) Çocuklar da yetişkinlerin aldıkları ücret kadar ücret almalıdırlar.
- C) Eğitimlerine devam ettikleri sürece çocukların çalıştırılmaları normaldir.
- D) Çocukların ne şekilde olursa olsun çalıştırılmaları doğru değildir.

## 2. "Bir bisiklet düşünün. Bisikletin her parçasının bir görevi vardır. Bisiklet ancak her bir parçasının uyum içinde hareket etmesiyle çalışır. Bu parçalardan biri yerinde olmadığına ya da çalışmadığına bisiklet kullanabilir misiniz?"

**Bu metinde aşağıdakilerden hangisi anlatılmak istenmiştir?**

- A) Üyelerinden biri görevini aksattığında grup amacına ulaşamaz.
- B) Grup içinde bireylerin değişik görevleri olabilir.
- C) Bisikletimiz kullanmadan önce mutlaka kontrol etmeliyiz.
- D) Bisiklet sürerken trafik kurallarına uymalıyız

## 3. "Bir kişi evde baba ya da eş, iş yerinde doktor, okulda veli rolünü üstlenebilir."

**Bu durum neyi göstermektedir?**

- A) En önemli rolümüz baba olmaktır.
- B) Herkesin bir tane rolü vardır.
- C) Bir kişinin birden çok rolü olabilir.
- D) En iyi rol doktor olmaktır.

## 4. Aşağıdakilerden hangisi geleneksel el sanatlarımızdan biri değildir?

- A) Halıcılık
- B) Çömlekçilik
- C) Bakırcılık
- D) Fotoğrafçılık

## 5. Aşağıda verilenlerden hangisi tarihî eser değildir?

- A) Akdamar Kilisesi
- B) Malabadi Köprüsü
- C) Manavgat Şelalesi
- D) Ulu Camii

## 6. Frigyalılarda yaşıyor olsaydım şimdiye idam cezasına çarptırıldım. Öküz öldüren, saban kıran veya harman yakarı idam ediyorlarmış

**Yalnızca bu bilgiye bakarak Frigyalılar hakkında aşağıdaki yargılardan hangisine varılabilir?**

- A) Tarım ekonomik hayatlarının en önemli faaliyeti-  
dir.
- B) Kuruldukları yer itibarıyla denizcilikle uğraşmış-  
lardır.
- C) Ticarete önem vermişlerdir
- D) Yasalarında demokratik kurallar işlemektedir

## 7.



**Yukarıda görselleri verilen tarihi ve doğal varlıklar hangi bölgemizde yer alır?**

- A) Karadeniz Bölgesi
- B) İç Anadolu Bölgesi
- C) Doğu Anadolu Bölgesi
- D) Marmara Bölgesi

## 8. Dünya üzerinde kullanılan ilk yazı türü aşağıda verilenlerden hangisidir?

- A) Harf Yazısı
- B) Hiyeroglif Yazısı
- C) Çivi Yazısı
- D) Latin Alfabesi

9. ♣ Çivi yazısını Anadolu'ya getirerek ticaret yapmışlardır.

♣ İlk defa kütüphaneyi kurmuşlardır.

♣ Güçlü bir ordu ve haberleşmek için postacılar gerektirmişlerdir.

**Yukarıdaki özellikler aşağıdaki hangi medeniyete aittir?**

- A) Sümerler
- B) Hititler
- C) Asurlular
- D) Babiller

10. Herodot, Hipokrat, Tales gibi Bilim adamları yetiştirmiştir. Midas en ünlü hükümdarları olup elbisesini hep Fibula ile tutturmuştur. Asma Bahçeleri ve Kulesi, Dünyanın Yedi Harikasından sayılmıştır.

**Yukarıdaki metinde hangi uygarlık hakkında bilgi verilmemiştir?**

- A) Frigler
- B) Sümerler
- C) İyonlar
- D) Babiller

11. Kayak pistleri ve konaklama yerleri olan ve kış sporu için tercih edilen Erzurum'daki dağımızın adı aşağıdakilerin hangisidir?

- A) Uludağ
- B) Toros Dağları
- C) Ağrı Dağı
- D) Palandöken Dağı

12. Milli bayramlarımız, milletimizi bütünleştiren, birlik ve beraberliğimizin daha da güçlendiği özel gündür. Milli bayramlarımızı coşkuyla kutlar, bayram günlerinde yurdumuzun dört bir tarafında çeşitli etkinlikler düzenleriz.

**Buna göre, aşağıdakilerden hangisi milli bayramlarda görülen bir etkinliktir?**

- A) Spor ve folklor gösterisi yapılması
- B) Akriba ziyaretinde bulunulması
- C) Hacdan döneni tebrik etmek
- D) Bayram namazı kılınması

13. "Adıyaman'daki ..... Dağı üzerinde insan başı heykelleri vardır."

**Yukarıdaki boşluğa aşağıdaki kelimelerden hangisi gelmelidir?**

- A) Eğirdir
- B) Süphan
- C) Ağrı
- D) Nemrut

14. Ülkemizdeki bazı tarihi eserler, buldukları şehirlerle aşağıda eşleştirilmiştir.

**Bu eşleştirmelerden hangisi yanlıştır?**

- A) Milet Antik Tiyatrosu → Muğla
- B) İshak Paşa Sarayı → Ağrı
- C) Artemis Tapınağı → İzmir
- D) Selimiye Camisi → Edirne

15. Aşağıdaki tarihi mekânlardan hangisi, Ege Bölgesi'ndedir?

- A) Topkapı Sarayı
- B) Efes Antik Kenti
- C) Çifte Minareli Medrese
- D) Anıtkabir

16. Ülkemiz doğal ve tarihî varlıklar bakımından oldukça zengindir

**Aşağıdakilerden hangisi bu durumun sonuçlarından biridir?**

- A) Sanayinin gelişmesi
- B) Ülkemizi birçok turistin ziyaret etmesi
- C) Tarımın öneminin artması
- D) Ülkemizin döviz gelirinin azalması

17. Aşağıdakilerden hangisi toplum hayatını düzenleyen yazılı kurallara örnektir?

- A) Görenekler
- B) Töreler
- C) Yasalar
- D) Geleneklerimiz

**18. Ülkemizde çocuklara yardım etmek için aşağıdakilerden hangisi açılmıştır?**

- A) Sosyal Hizmetler ve Çocuk Esirgeme Kurumu
- B) Futbol Kulüpleri
- C) Oyun parkları
- D) Üniversiteler

**19. Aşağıda verilenlerden hangisi çocuk hakları ihlaline örnektir?**

- A) Çocuğun sağlık hizmetlerinin ücretsiz olarak karşılanması
- B) Çocuğun 14 yaşına gelince çalışmakiçin eğitimi bırakması
- C) Çocukların oyun oynaması için mahallede park yapılması
- D) Çocuğun bakımı için devlet tarafından ihtiyacı olan ailelere yardım yapılması

**20. Aşağıdakilerden hangisi çevre temizliğinde bizedüşen görevlerden değildir?**

- A) Yerlere çöp atmak
- B) Ağaç dikmek
- C) Çöplerimizi çöp kutusuna atmak
- D) Çiçek dikmek

**DİN KÜLTÜRÜ VE AHLAK BİLGİSİ DERSİNİ  
OKUYANLAR AŞAĞIDAKİ SORULARI  
CEVAPLAYACAKTIR.**

**21.** "O, öğüt almak isteyen ve çok şükredici olmayı dileyen kimseler için geceyi ve gündüzü birbiri ardınca getirendir." (Furkan Suresi 62. Ayet)

**Yukarıdaki ayet hangi kavramlar arasındaki ilişkiye örnektir?**

- A) Allah – Evren ilişkisi
- B) Allah – İnsan ilişkisi
- C) İnsan – Evren ilişkisi
- D) İnsan – İnsan ilişkisi

**22.** "... Rabbim yerde ve gökte söylenmiş her sözü bilir. Allah her şeyi işiten ve her şeyin aslını bilendir." "Şüphesiz Allah, yaptıklarınızı eksiksiz görür."

**Ayetlerde anlatılmak istenen nedir?**

- A) Allah birbirimize yardım etmemizi ister.
- B) Allah her şeyin iyisini yapmamızı ister.
- C) Allah her şeyi işitir, görür ve bilir.
- D) Allah kullarına karşı çok merhametlidir.

**23.** 1. **Vücut:** Allah'ın var olmasıdır.  
2. **Kıdem:** Allah'ın varlığının başlangıcının olmasıdır.  
3. **Vahdâniyet:** Allah'ın bir tek olmasıdır.  
4. **Semi:** Allah'ın her şeyi görmesidir.

Yukarıda Allah'ın sıfatları ve anlamları numaralandırılarak açıklanmıştır.

**Buna göre, hangi açıklamada bir yanlışlık yapılmıştır?**

- A) 1. B) 2. C) 3. D) 4.

**24. Aşağıdaki ayetlerden hangisi Allah'ın tekvin sıfatı ile ilgili değildir?**

- A) "Onların mallarından, onları kendisiyle arındıracağı ve temizleyeceği bir sadaka (zekât) – al....."
- B) "Andolsun biz, sizin üstünüzde yedi yol yaratık. Biz yaratmaktan habersiz değiliz."
- C) "De ki: Onları ilk defa yaratmış olan diriltecek. Çünkü O, her türlü yaratmayı gayet iyi bilir."
- D) "İlk yaratmada acizlik mi gösterdik? Hayır, onlar yeni bir yaratma hususunda şüphe içindediler."

**25. Aşağıdakilerden hangisi "İhlas" kelimesinin anlamlarından biri değildir?**

- A) Samimi olmak
- B) Allah'ın rahmetine güvenmek
- C) Dinin esaslarını Allah için uygulamak
- D) Dine içtenlikle bağlanmak

**DİN KÜLTÜRÜ VE AHLAK BİLGİSİ DERSİNİ  
OKUMAYANLAR AŞAĞIDAKİ SORULARI  
CEVAPLAYACAKTIR.**

**21.** Ayla, ders zili çalınca koridorlarda koşturmadan zamanında sınıfa girdi.

**Buna göre Ayla, hangi alan da sorumluluğunu yerine getirmiş oldu?**

- A) Okula karşı sorumluluk
- B) Aileye karşı sorumluluk
- C) Arkadaşlarına karşı sorumluluk
- D) Akrabalarına karşı sorumluluk

**22.** 15 yaşındaki bir genç aşağıdaki rollerden hangisini üstlenemez?

- A) Yeğen
- B) Kardeş
- C) Pilot
- D) Amca

**23.**Gruplarda rollerimizin olması niçin gereklidir?

- A) Düzeni sağlayacağından
- B) Kanunlarda belirtildiğinden
- C) Gruplar kalabalık olduğunda
- D) Birden fazla grup olduğundan

**24.** Hülya Hanım diyor ki: “ Evimde bir eş ve anne, okulda öğretmen, tenis kulübünde sporcu, alışveriş merkezinde müşteri, tiyatrodaki seyirciyim.”

**Bu durum aşağıdakilerden hangisinin göstergesidir?**

- A) Hülya Hanım'ın farklı gruplar içinde farklı rolleri vardır.
- B) Hülya Hanım, iyi bir annedir.
- C) Hülya Hanım, gruplar içerisinde sorumluluk alan birisidir.
- D) Hülya Hanım, çalışkan bir insandır.

**25.** Aşağıdakilerden hangisi Sosyal Bilgiler dersinde öğrenilen bilgilerin katkılarında biri değildir?

- A) Toplumsal sorunların farkına varmak
- B) Başkalarının haklarını ihlal etmek
- C) Farklılıkları hoşgörü ile karşılamak
- D) Toplumun değerlerine saygılı olmak

**TEST BİTTİ.  
CEVAPLARINIZI KONTROL EDİNİZ.**