

ALTINÇAĞ ORTAOKULU
2019-2020 EĞİTİM ÖĞRETİM YILI
5. SINIF İOKBS DENEME SINAVI – 1

TÜRKÇE TESTİ – 1

1.

BAYRAK ÇİĞNENMEZ

"Atatürk örnek bir insandı. Kin, nefret, intikam gibi duyguların onun uygar kişiliğinde yeri yoktu. Kurtuluş Savaşı kazanılmış, düşman denize dökülmüştü. Yunan ordusu kaçarken her yeri yakıp yıkmıştı. O, cayır cayır yanmakta olan İzmir'e zafer kazanmış bir komutan olarak girdi. Konuk edileceği evin merdivenlerini tırmanırken ayaklarının altına bir Yunan bayrağı serildiğini gördü:

Bu nedir? diye sordu.

Yunan bayrağı Paşam, dediler. Yunan Kralı, Anadolu'yu işgal eden orduları denetlemeye geldiğinde bu evde kalmıştı. Ayaklarının altına Türk bayrağı serilmişti. O da çiğneyip geçmişti.

Atatürk kaşlarını çattı:

O, hata yapmış. Ben bu hatayı yapamam. Bayrak bir ulusun şerefidir. Ne olursa olsun yere serilmez ve çiğnenmez! Kaldırınız..."

Yukarıdaki metne göre Atatürk, Yunan bayrağını niçin çiğnemedi?

- A) Yunanlıları çok sevdiği için
- B) Bayrağın bir ulusun şerefini temsil ettiği için
- C) Bayrak eski olduğu için
- D) Kendine layık bulmadığı için

2. **Aşağıdaki tümcelerin hangisinde karşılaştırma yapılmamıştır?**

- A) Ahmet de babam gibi çok çalışkandır.
- B) İşini bugün daha çabuk bitirdi.
- C) Ne yapacağına karar verememişti.
- D) Çocuklar çiçekler gibi narindir.

3. **Aşağıdaki altı çizili kelimelerden hangisi farklı anlamda kullanılmıştır?**

- A) Ayrılık yüreğimi yakmıştı.
- B) Çoban üşüyünce ateş yaktı.
- C) Annem yemeğin dibini yakmış.
- D) Karagümrük'te evler yanıyor.

4. **Aşağıdaki kelimelerden hangisi herhangi bir cümlede topluluk adı olarak kullanılamaz?**

- A) Sürü
- B) Ordu
- C) Çiçekler
- D) Orman

5. **Aşağıdaki cümlelerde altı çizili ifadelerin yerine cümlelerin anlamını bozmayacak başka ifadeleri yazarsak, hangi eşleştirme yanlıştır olur?**

A)	Türkiye! Türkiye! Dağlarını duman almış.	kaplamış
B)	Bulut gibi köpürmüş topraktan bereketi.	fışkırmış
C)	Sabırlı, bağıran insanlar memleketi	neşeli
D)	Şehirler <u>padışahı</u> canım İstanbul	sultanı

6. "Boş zamanlarınızda ne yaparsınız?" şeklindeki sorulara, "Kitap okurum, müzik dinlerim, gezerim... vs." diye cevap verenler yok mu? Okumayı, sadece boş zamanlarda yapılan bir iş olarak görmek, hangi akla hizmettir acaba? Hâlbuki okumak, günlük yaşantımızın bir parçası olmalı.

Parçanın ana fikri, hangi seçenekte verilmiştir?

- A) Okuma, müzik dinleme ve gezme önemlidir.
- B) Okumanın hayatımızda önemi yoktur.
- C) Sadece boş zamanlarda değil, her zaman okunmalıdır.
- D) Boş zamanlarda kitap okunmalıdır.

7. **I. sonunda
II. Türkiye'ye
III. dönüyor
IV. Ay**

Yukarıdaki kelimelerden anlamlı ve kurallı bir cümle oluşturduğumuzda sıralama nasıl olur?

- A) I, II, IV, III
- B) IV, III, I, II
- C) III, I, IV, II
- D) IV, I, II, III

8. **Aşağıdaki atasözlerinden hangisi "Yardım ve iyilik-sever kimseleri herkes sever, sayar" anlamını vurgulamaktadır?**

- A) Üzüm üzüme baka baka kararır.
- B) Lafla peynir gemisi yürümez.
- C) Taş düştüğü yerde ağırdır.
- D) Veren el, alandan üstündür.

9. "Derin" kelimesi hangi seçenekte mecaz anlamda kullanılmıştır?

- A) Bu denizin suyu çok derin.
- B) Yolda yürürken derin bir kuyu gördük.
- C) O, denizin derinliklerinde batık gemiyi arıyor.
- D) O uzmanlık alanında derin bilgilere sahip.

10. Aşağıdaki cümlelerin hangisinde neden – sonuç ilişkisi vardır?

- A) Eti sevmediğinden, bir parçasına bile dokunmadı.
B) Bu filmi daha önce seyretmiştim.
C) Daha ne kadar bekleyeceğiz?
D) Çantasını alıp aceleyle evden çıktı.

11. Aşağıdaki kelimelerden hangisi sözlükte diğerlerinden sonra gelmez?

- A) avcı
B) aydınlık
C) ayak
D) azık

12. Aşağıdaki cümlelerin hangisinde “de” nin yazımı yanlıştır?

- A) Çocuklar da o gece uyuyamadılar.
B) Parka gidiyorsun bunu da al.
C) Köyümüzdeki evimiz de çok mutluyduk.
D) O günden sonra da hiç görüşmedik.

13. Aşağıdaki cümlelerde altı çizili sözcüklerden hangisi gerçek anlamıyla kullanılmıştır?


- A) Birden sıkınca tüpteki tutkal sağa sola yapıştı.
B) Ahmet nedense bugün çok durgundu.
C) Bize karşı davranışları oldukça soğuktu.
D) Ben onun hırçınlığını çekemem artık.

14. “Çiçeklerin henüz açmadığı baharın ilk günleriydi.”

Tümcesindeki altı çizili sözcüğün yerine hangi sözcük yazılırsa, tümcenin anlamı değişmez?

- A) daha
B) asla
C) belki
D) yine

15.



Yukarıdaki işaretlerin anlamları sırasıyla hangisidir?

- A) geri dönülmez – hayvanat bahçesi – ölüm tehlikesi – hastane
B) geri dönüşüm – yabani hayvan – zehirli madde – hava alanı
C) geri dönüşüm – yabani hayvan – ölüm tehlikesi – hastane
D) giriş – yabani hayvan – zehirli madde – hastane

16. Aşağıdaki cümlelerde altı çizili kelimelerden hangisi özel ad olarak kullanılmamıştır?

- A) Yeni köpeğime “Boncuk” adını verdik.
B) Bu kitap bana Kayseri’deki halamdan geldi.
C) Boncuklarımı ipe dizerken sevinçliydim.
D) Eski halıyı attık, Leyla Hanım’dan yenisini aldık.

17. “Yedi” kelimesi hangi cümlede mecaz anlamda kullanılmıştır?

- A) Taze ekmeği babam yedi, bayatını ben.
B) Yediğimiz elmalar tazeydi.
C) Taze görünen balıkları yedim.
D) Bu yalanlarını yediğimi sanma.

18. Aşağıdakilerden hangisi, diğerlerine göre sözlükte en sonda yer alır?

- A) Mesele
B) Melek
C) Mektup
D) Meşale

19. Baktım, çocuklar bahçede uçurtma uçuruyor. Her yıl bahar aylarında gökyüzünde uçurtmaları gördüğümde bir üzüntü duyarım içimde, ağlamaklı oluyorum.”

Paragrafta hangi sorunun yanıtı yoktur?

- A) kime?
B) kim?
C) ne zaman?
D) nerede?

20. “Taş” sözcüğü aşağıdaki eklerden hangisini alırsa “Taş yontan, satan veya taş ocağından taş çıkaran kimse” anlamı kazanır?

- A) -lı
B) -cı
C) -lık
D) -sız

21. Sempozyum yarın 13.00’te başlayacakmış. İlk gün, konuşmacılar arasında Prof. Dr. İlber Ortaylı

da varmış. 2.nci gün kimlerin katılacağını henüz

öğrenemedim. Bu parçada noktalardan (.) hangisi

yanlış kullanılmıştır?

- A) I.
B) II.
C) III.
D) IV

7. $3624 \div 83$ bölme işleminde bölüm ve kalan için aşağıdakilerden hangisi doğrudur?

	Bölüm	Kalan
A)	43	26
B)	41	48
C)	41	74
D)	43	55

8. 82563
- 16904

İşleminin sonucu kaçtır?

- A) 65669 B) 75659 C) 65559 D) 65659

- 9.



Yukarıda verilen çıkarma işlemine göre, KLMN sayısı kaçtır?

- A) 1938 B) 1942
C) 1945 D) 1955

- 10.

Yandaki çıkarma işleminde çıkan aşağıdakilerden hangisidir?

$$\begin{array}{r} 8100 \\ - \dots \\ \hline 4253 \end{array}$$

- A. 3847 B. 3787
C. 3748 D. 3478

11. $MMM + NN = 743$

Yukarıdaki toplama işlemine göre, M ve N aşağıdakilerden hangisidir?

- A) $M = 6$ B) $M = 7$
 $N = 7$ $N = 6$
C) $M = 7$ D) $M = 5$
 $N = 5$ $N = 7$

- 12.

$$\begin{array}{r} 6 \star 512 \\ 37 \star 5 \\ + 136 \diamond \\ \hline 66661 \end{array}$$

Yukarıdaki toplama işlemine göre,

$\star + \star + \diamond$ toplamı kaçtır?

- A. 16 B. 13
C. 12 D. 9

- 13.A A

$$\begin{array}{r} + B6 \\ 175 \end{array}$$

Yukarıdaki toplama işleminde A ve B yerlerine aşağıdakilerden hangisi yazılmalıdır?

- A) $A = 7$ B) $A = 9$
 $B = 9$ $B = 7$
C) $A = 8$ D) $A = 7$
 $B = 7$ $B = 8$

14. "496 + 307" işleminin sonucu aşağıdakilerden hangisine en yakındır?

- A) 700 B) 750 C) 775 D) 800

15. $328 + 14672 + 49$ işleminin sonucu kaçtır?

- A) 15194 B) 15049
C) 14149 D) 14049

- 16.




Yukarıdaki sayılar bir kurala göre yazılmıştır. Buna göre boyalı kutuya yazılması gereken sayı aşağıdakilerden hangisidir?

- A) 49 B) 57 C) 63 D) 64

17." 9 - 18 - 15 - 30 - 27 - ■ - ● " sayı örüntüsünde ■ ve ● sembollerinin yerine yazılması gereken sayıların toplamı kaçtır?

- A) 104 B) 105 C) 106 D) 107

18. Aşağıdaki verilen örüntüdeki boş kutulara hangi sayılar yazılmalıdır?



- A) 36 – 325 B) 64 – 325
C) 54 – 486 D) 72 – 484

19. Rakamları birbirinden farklı 8 basamaklı en küçük sayı hangisidir?

- A) 10 987 654 B) 10 234 567
C) 10 234 987 D) 10 987 456

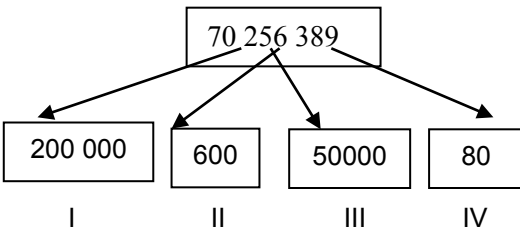
20. 77 695 904 sayısının binler bölümündeki rakamların sayı değerleri toplamı kaçtır?

- A) 22 B) 21 C) 20 D) 14

21. 471 240 846 sayısında 0 ile 6 rakamları yer değiştirilirse sayı ne kadar artar?

- A) 4894 B) 5840 C) 5994 D) 6094

22.



Yukarıda verilen doğal sayının basamaklarındaki rakamların bazılarının basamak değerleri verilmiştir. Hangi kutucukta verilen basamak değeri yanlıştır?

- A) I B) II C) III D) IV

23. Okunuşu "Yirmi altı milyon beş yüz altmış iki bin kırk beş" olan sayı aşağıdakilerden hangisidir?

- A) 26 562 045 B) 2 562 045
C) 2 656 245 D) 20 656 245

24. Onlar basamağında 7, binler basamağında 2 olan, 5 basamaklı rakamları farklı en büyük sayı aşağıdakilerden hangisidir?

- A) 12370 B) 92876
C) 98765 D) 92979

25. 60 385 219 sayısında binler bölümü hangisidir?

- A) 60 B) 219 C) 385 D) 5

FEN BİLİMLERİ TESTİ – 1

1. I. Katmanlardan oluşma
II. Küre şeklinde olma
III. Isı ve ışık kaynağı olma

Yukarıdaki özelliklerden hangileri Güneş'in özelliklerindedir?

- A) Yalnız III B) I ve II
C) II ve III D) I, II ve III

2. I. Ay ışık kaynağıdır.
II. Ay'ın atmosferi yoktur.
III. Ay'da hava olayları yoktur.
IV. Ay hareket etmez.

Yukarıdaki ifadelerden hangileri doğrudur?

- A) I ve II B) II ve III
C) I, II ve III D) II, III ve IV

3. I- Kendi etrafında dönme
II-Katmanlardan oluşma
III-Atmosferinin olması

Yukarıdakilerden hangileri Güneş ve Dünya'nın ortak özelliğidir?

- A) Yalnız I B) Yalnız II
C) I ve II D) I-II-III

4.

Ay'ın Dünya'ya ortalama uzaklığı 384.000 km'dir.

Ay bir ışık kaynağıdır.

Dünya' da hayat yoktur.

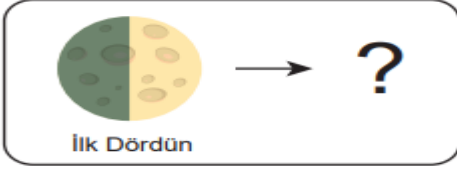
Yukarıda verilen şekillerde gök cisimleri ile ilgili bilgiler verilmektedir. Hangi şekil ya da şekiller içerisindeki bilgi yanlıştır?

- A) Dikdörtgen B) Daire
C) Üçgen ve Daire D) Dikdörtgen ve Üçgen

5. Dünya'dan bakınca Ay'ın hep aynı tarafını görmemizin sebebi nedir?

- A) Ay'ın kendi etrafında ve Dünya etrafında 29 günde dönmesi
B) Ay'ın atmosferinin olmaması
C) Ay'ın kraterlerinin olması
D) Ay'ın Güneş etrafında bir yılda dolanması

6.



Şekilde verilen Ay'ın İlk Dördün evresinden yaklaşık bir hafta sonra hangi evre ortaya çıkar?

- A) Yeni Ay
B) Şişkin Ay
C) Dolunay
D) Son Dördün

7. Ay'ın evrelerinin doğru sıralanışı hangi seçenektir?

- A) son dördün – ilk dördün – yeni ay – dolunay
B) yeni ay – ilk dördün – dolunay – son dördün
C) yeni ay – dolunay – ilk dördün – son dördün
D) yeni ay – son dördün – dolunay – ilk dördün

8. Aşağıdakilerden hangisi Güneş'in katmanlarından birisi değildir?

- A) Işık Küre B) Renk Küre
C) Çekirdek D) Litosfer

9. Ay'ın yüzeyine meteorların çarpması ile oluşan çukurlara ne ad verilir?

- A) Ay tutulması B) Krater
C) Gel-git olayı D) Kara delik

10. Dünya Güneş'in etrafındaki bir turunu ne kadar sürede tamamlar?

- A) 1 Gün B) 1 Hafta C) 1 Yıl D) 1 Saat

11. Futbol topu, mercimek ve nohut taneciklerinin büyüklükleri Dünya, Güneş ve Ay'ın büyüklükleri ile ilişkilendirilecektir.

Buna göre aşağıda verilenlerden hangisi doğrudur?

	Futbol Topu	Nohut	Mercimek
A)	Güneş	Dünya	Ay
B)	Ay	Güneş	Dünya
C)	Dünya	Ay	Güneş
D)	Güneş	Ay	Dünya

12. I. Uzaya çıkan ilk insandır. 1961 yılında uzay yolculuğuna çıkmıştır. Dünya'nın etrafında tur atmıştır.

II. Ay'a ilk ayak basan insandır. 1969 yılında uzay yolculuğunu gerçekleştirmiştir.

Buna göre, I ve II numaralı yerlere hangi seçenek teki isimler yazılmalıdır?

	I	II
A)	Yuri Gagarin	Neil Armstrong
B)	Galileo Galilei	Yuri Gagarin
C)	Neil Armstrong	Yuri Gagarin
D)	Yuri Gagarin	Galileo Galilei

13. Görselde verilen durumdan sonra ilk olarak Ay'ın hangi Ana evresi gerçekleşir.

- A) İlk Dördün B) Son dördün
C) Yeni ay D) Dolunay



14.



Yukarıda Ay'ın evreleri verilmiştir.

Ayın evreleri ile evre isimleri eşleştirildiğinde hangisi açıkta kalır?

- A) Dolunay
C) İlk dördün
- B) Son dördün
D) Yeni ay

15.

Murat: Ay'da atmosfer yoktur.

Cemal: Dünya'nın kendi eksenini etrafında dönmesi ile gece ve gündüz oluşur.

Ahmet: Ay hareket etmez.

Ayşe: Ay'ın görünmediği evre yeni ay evresidir.

Yukarıdaki öğrenciler bazı gök cisimleri hakkında bilgi vermektedir. Buna göre hangi öğrenciler gök cisimleri hakkında doğru bilgi vermiştir?

- A) Murat, Cemal ve Ahmet
C) Murat, Ayşe ve Cemal
- B) Ahmet ve Ayşe
D) Ayşe ve Cemal

16.

Gamze: Tuğçe Ay'da yürüyen birisinin ayak izi neden bozulmadan yıllarca kalabiliyor?

Tuğçe: Çünkühatta bu yüzden kraterler oluyor ve hava olayları görülüyor Ay'da.

Aşağıdakilerden hangisi noktalı yere yazılabilir?

- A) Ay'ın yüzeyi karanlık
B) Ay'ın atmosferi yok
C) Ay'ın üzerine ışık gelmiyor
D) Ay'ın üzerinde su yok

17.

Güneş oldukça büyük bir gök cismi olmasına rağmen Dünya'dan bakıldığında küçük görülür.

Bu durumun nedeni hangi seçenekte doğru açıklanmıştır?

- A) Güneş'in sıcaklığı küçük görünmesine neden olur.
B) Dünya'nın şeklinden dolayı küçük görülür.
C) Uzaktaki nesnelerin gerçek boyutlarından daha küçük algılanmasıdır.
D) Güneş ışınlarının Dünya'ya geç ulaşmasıdır.

18.

Aşağıdakilerden hangisi mikroskopik canlı değildir?

- A) Karınca
B) Amip
- B) Terlikli Hayvan
C) Öglena

19. Şekildeki fotoğrafta bir dürbün kullanılarak kağıt üzerine düşen Güneş'in görüntüsü verilmiştir. Görüntüde bazı noktalar dikkat çekmektedir.



Güneş'in soğuk bölgelerinin neden olduğu bu noktalara ne ad verilir?

- A) Güneş lekesi
C) Güneş enerjisi
- B) Krater
D) meteor

20.

Aşağıdakilerden hangisi canlıları sınıflandırılmasının nedenlerinden biri değildir?

- A) Canlıların rahatlıkla incelenmesi
B) Canlılara ait bilgilerin bir düzen içerisinde öğrenilmesi
C) Doğada bulunan tüm canlıların listelenmesi
D) Canlıların benzerlik ve farklılık özelliklerinin belirlenmesi

21.

Mikroskopik canlıların yaşadığı ortam aşağıdakilerden hangisidir?

- A) Havada
C) Toprakta
- B) Suda
D) Her yerde

22.

Aşağıdakilerden hangisi çiçekli bitkilerin en önemli özelliğidir?

- A) Kokulu ve renkli olması
B) Süs bitkisi olarak kullanılabilmesi
C) Doğaya yeşillik ve güzellik sağlama
D) Çiçek ve tohum oluşturma

23.

Çiçek ve tohumu bulunmayan bitkilere çiçeksiz bitkiler adı verilir.

Aşağıdakilerden hangi çiçeksiz bitkiler grubundadır?

- A) Alg, eğrelti otu, ceviz,
B) Kara yosunu, papatya, alg
C) Alg, kara yosunu, eğrelti otu
D) Kara yosunu, lale, alg

24.

Ali teneffüste okulun bahçesine çıkıyor ve etrafındaki canlıları inceliyor. Ali aşağıdaki canlılardan hangisini okulun çevresinde görmüş olamaz?

- A) Güvercin
C) Serçe
- B) Sinek
D) Ahtapot

25. 1.Yavrularını sütle besler
2. Omurgalıdır.
3.Yavrularını doğururlar.

Yukarıda bilgileri verilen canlı hangisidir?

- A) Hamsi
B) Balina
C) Kelebek
D) Deniz yıldızı

SOSYAL BİLGİLER TESTİ - 1

1. "Evlilik ve kan bağına dayanan karı, koca ve çocukların oluşturduğu toplum içindeki en küçük birliktir."

Yukarıda verilen ifade aşağıdakilerden hangisini tanımlamaktadır?

- A) Kurum B) Aile C) Birey D) Rol

2. Esra, arkadaş grubunun bir üyesidir.

Buna göre aşağıdakilerden hangisi Esra'nın arkadaşlarına karşı sorumluluklarından biridir?

- A) Arkadaşlarıyla oyun oynamak
B) Arkadaşlarına verdiği sözleri yerine getirmek
C) Arkadaşlarıyla ders çalışmak
D) Arkadaşlarıyla hoşça vakit geçirmek

3. "Hiçbir kimse benim doktor olmamı engelleyemez." Sözü söyleyen bir kişi aşağıdaki haklardan hangisinden yararlanmak istemektedir?

- A) Çalışma hakkı
B) Yaşama hakkı
C) Eğitim alma hakkı
D) Sağlık hakkı

4. Aşağıdakilerden hangisi, öncelikle kendimize karşı olan sorumluluklarımızdandır?

- A) Büyüklerimizin sözünü dinlemek
B) Bilgimizi ve görgümüzü artırmak
C) Çevreyi kirletenleri uyarmak
D) Çevremizde ihtiyacı olanlara yardım etmek

5. Tarihte yazıyı bulan ve kullanan ilk medeniyet aşağıdakilerden hangisidir?

- A) Hititler
B) Sümerler
C) Asurlular
D) Babiller

6. Sümerler **Ziggurat** adı verilen çok katlı, tapınakları inşa etmişlerdir. Bu yapıları aynı zamanda tahıl ürünleri için depo ve gök cisimlerini gözlemlemek için kullanmışlardır.

Buna göre, Sümerlerle ilgili aşağıdaki yargılardan hangisine ulaşamaz?

- A) Tarımla uğraşmışlardır.
B) Bilimsel çalışmalar yapmışlardır.
C) Mimari eserler inşa etmişlerdir.
D) Komşularıyla barış içinde yaşamışlardır.

7. Aşağıdakilerden hangisi bireyin sahip olduğu demokratik haklardan birisi **değildir**?

- A) Seçme – seçilme hakkı
B) Eğitim hakkı
C) Her fikri kabul etme hakkı
D) Sağlık hakkı

8. Aşağıdakilerden hangisi **Çocuk Haklarından biri değildir**?

- A) Eğitim, kız erkek tüm çocuklara zorunludur.
B) Çocuklar sağlıklı bir çevrede yaşamalıdır.
C) Çocuklar düşüncelerini özgürce açıklayabilmelidir.
D) Çocuklar fabrikalarda çalıştırılmamalıdır.

9. Orhan, anne, baba ve kardeşinden oluşan bir ailenin üyesidir. Buna göre;

- I. Aile bireylerini üzmemeye özen göstermek.
II. Okula gitmek.
III. Aile bütçesine uygun harcamalar yapmak.

Yukarıdakilerden hangileri Orhan'ın görevlerindedir?

- A) I ve II
B) I ve III
C) II ve III
D) I, II ve III

10. • Birden çok kişinin bilgi ve yeteneklerinden yararlanılması
• Bireylerin tek başlarına yapamayacakları işleri daha kısa sürede ve etkin bir biçimde yapabilmeleri

Aşağıdakilerden öncelikle hangisiyle mümkün olur?

- A) Bireylerin haklarını bilmesiyle
B) Bireylerin işbirliği içinde çalışmasıyla
C) Bireylerin spor etkinliklerine katılmasıyla
D) Bireylerin kitap okuma alışkanlığı kazanmasıyla

11. Aşağıdakilerden hangisi Anadolu'da kurulan uygarlıklardan biri değildir?

- A) Asurlar B) Urartular
C) İyonlar D) Lidyalılar

12. Çocuk Hakları Sözleşmesi aşağıdakilerden hangisini güvence altına almıştır?

- A) Oyunlarımızı B) Okullarımızı
C) Haklarımızı D) Ailemizi

13. Asma bahçeleriyle ünlü Mezopotamya uygarlığı aşağıdakilerden hangisidir?

- A) Sümerler B) Hititler
C) Asurlular D) Babiller

14. İcatlara ilgi duyan, çevresindeki varlıkları merak eden bir öğrenci hangi eğitsel kulübe üye olmalıdır?

- A) Spor Kulübü
B) Fen ve Teknoloji Kulübü
C) Haberleşme Kulübü
D) Okul güzelleştirme Kulübü

15. a. Efes, Milet ve İzmir gibi şehir devletleri kurmuş olmaları
b. Bilim, özgür düşünce ve sanatla uğraşmış olmaları
c. Deniz Ticareti yaparak çok zengin olmaları

Yukarıdaki özellikler aşağıdaki hangi medeniyete aittir?

- A) Urartular B) Frigler
C) İyonlar D) Lidyalılar

16. Ahmet' in

- I. Ödevlerini yapmak
II. Yatağını toplamak
III. Eğitici kulüp çalışmalarına katılmak
IV. Odasını düzenli kullanmak

Görevlerinden hangileri ev ile ilgili sorumluluklarındandır?

- A) I ve II B) II ve III
C) II ve IV D) III ve IV

17. Aşağıdaki anlatımlardan hangisi yanlıştır?

- A) Grup çalışmalarında başarılı olmak için herkesin sorumluluğunu yerine getirmesi gerekir.
B) Toplumda sahip olduğu statüye göre bireyden beklenen davranışa rol denir.
C) Sosyal Hizmetler ve Çocuk Esirgeme Kurumu, korunmaya muhtaç çocukları 15 yaşına kadar yurtlarında barındırır.
D) Müzik dinlemek hakkım olmasına rağmen başkalarını rahatsız etmemem sorumluluğumdur.

18. Takım çalışması birden çok kişinin bilgi, yetenek ve enerjilerinin birleştirilmesidir.

Bu tip bir çalışmaya aşağıdakilerden hangisinde gerek duyulmamalıdır?

- A) Sınıflar arası voleybol maçlarında
B) Bireysel katılımı olan bilgi yarışmalarında
C) Rafting sporunda
D) Evimizin temiz tutulmasında

19. Okuldaki sosyal ve eğitsel etkinliklere katılmak, size gelecekte aşağıdaki davranışlardan hangisini kazandırır?

- A) Çevrenizdeki sosyal örgütleri fark etmemeyi
B) Çevredeki sorunların çözümüne katkıda bulunmayı
C) Sorunlara karşı duyarsız olmayı
D) Çevredeki sosyal örgütlerden uzak durmayı

20. Anadolu ve Mezopotamya medeniyetleri içinde en uzun yaşayan ve buluşlarıyla kendisinden sonraki medeniyetleri etkileyen medeniyet aşağıdakilerden hangisidir?

- A) Asurlar B) Hititler
C) Lidyalılar D) Sümerler

**DİN KÜLTÜRÜ VE AHLAK BİLGİSİ DERSİNİ
OKUYANLAR AŞAĞIDAKİ SORULARI
CEVAPLAYACAKLARDIR.**

21. Evrendeki varlıkların kendiliğinden oluşamayacağı düşüncesi bizi hangi sonuca götürür?

- A) İnsanın akıllı bir varlık olduğuna
B) İnsanın araştıran bir varlık olduğuna
C) Her şeyi yaratan bir yaratıcının varlığına
D) İnsanın gücünün sınırlı olduğuna

22. Aşağıdakilerden hangisi evrende bir düzenin olduğunu gösteren bir örnek değildir?

- A) Teknolojinin gelişmesi
- B) Gece ve gündüzün olması
- C) Sonbaharda yaprakların dökülmesi
- D) Gezegenlerin güneş etrafında dönmesi

23. Aşağıdakilerden hangisi insanı hayvandan ayıran en önemli özelliktir?

- A) Konuşabilmek
- B) Koşabilmek
- C) Yürüyeabilmek
- D) Akıl

24. “Eşhedüilâhe illallah ve eşhedü Muhammeden Abduhu ve Resûluh”

İslamın temel şartı olan Kelime i Şahadet’e boş bırakılan yere hangi kelimeler gelmelidir?

- A) enne – ilahe
- B) illallah – enla
- C) enla – ilahe
- D) enla – enne

25. Nasreddin Hoca’mızın fıkrasında cevizin ağaçta, kabağın yerde olması, Allah’ın hangi özelliğini gösterir?

- A) Allahın her şeyi yarattığını
- B) Allahın her şeyi bilerek yaptığını
- C) Kabağın yerde daha vitaminli olduğunu
- D) Düşünülmeden yaratıldığını

DİN KÜLTÜRÜ VE AHLAK BİLGİSİ DERSİNİ OKUMAYANLAR AŞAĞIDAKİ SORULARI CEVAPLAYACAKLARDIR.

21. Aşağıdakilerden hangisi eğitsel çalışmalara katıldığımızda kazanacağımız davranışlardan değildir?

- A) Dayanışma
- B) Düşüncelerini rahatça açıklama
- C) Yersiz konuşma
- D) Hoşgörü

22.- Çivi yazısını Anadolu’ya getirerek ticaret yapmışlardır.
- İlk defa kütüphaneyi kurmuşlardır.
- Güçlü bir ordu ve haberleşmek için postacılara gerek duymuşlardır.

Yukarıdaki özellikler aşağıdaki hangi medeniyete aittir?

- A) Asurlular
- B) Hititler
- C) Sümerler
- D) Babiller

23. Aşağıdakilerden hangisi bireyin kendi iradesi ve isteğiyle seçebileceği bir gruptur?

- A) Okuldaki sınıf
- B) Mahalledeki komşu
- C) İşyeri çalışanları
- D) Proje arkadaşları

24.---Tarihte bilinen ilk yazılı antlaşmayı imzalamışlardır.
--- Kralları Anal adı verilen yıllık kil tabletler yazmışlardır
--- Başkentleri Hattuşaş idi

Yukarıdaki özellikler aşağıdaki hangi medeniyete aittir?

- A) İyonlar
- B) Sümerler
- C) Frigler
- D) Hititler

25. Ahmet Bey, bir hastanede doktor olarak çalışmakta, boş zamanlarında da eşine yardımcı olmakta, torunlarıyla ilgilenmekte ve arkadaşlarını ziyaret etmektedir.

Buna göre, Ahmet Bey’in mesleki bir eğitim sonucunda yerine getirdiği rolü hangisidir?

- A) Eşine yardımcı olması
- B) Hastalarını tedavi etmesi
- C) Arkadaşlarını ziyaret etmesi
- D) Torunlarıyla ilgilenmesi

**TESTLER BİTTİ.
CEVAPLARINIZI KONTROL EDİNİZ.**