

4.
SINIF



B
KİTAPÇIK TÜRÜ

T.C.
MİLLÎ EĞİTİM BAKANLIĞI
ÖLÇME, DEĞERLENDİRME VE SINAV HİZMETLERİ
GENEL MÜDÜRLÜĞÜ

TED ANKARA KOLEJİ VAKFI ÖZEL İLKOKULU VE ORTAOKULU SEÇME SINAVI
(3. Sınıftan 4. Sınıfa Geçenler)
9 HAZİRAN 2018 Saat: 10.00

Adayın Adı ve Soyadı :
Aday Numarası (T.C. No) :

DERS ADI	SORU SAYISI	TOPLAM SORU SAYISI	SINAV SÜRESİ (DAKİKA)
TÜRKÇE	20	80	80
MATEMATİK	20		
HAYAT BİLGİSİ	20		
FEN BİLİMLERİ	20		

ÖĞRENCİLERİN DİKKATİNE!

1. Sınıf öğrenci yoklama listesinde belirtilen sınıfta ve sıra numarasında oturunuz.
2. Cevap kâğıdındaki kimlik bilgilerinin doğruluğunu kontrol ediniz.
3. Kitapçık türünü cevap kâğıdındaki ilgili alana kodlayınız.
4. Cevap kâğıdı üzerindeki kodlamaları kurşun kalemle yapınız.

4. SINIF 2018

SINAV BAŞLAMADAN ÖNCE KİTAPÇIĞIN ARKA KAPAĞINDAKİ UYARILARI MUTLAKA OKUYUNUZ.

1. Aşağıdaki cümlelerin hangisinde altı çizili sözcük eş seslidir?

- A) Bu haberi bütün mahalleye yay.
- B) Yemeklerden sonra iki bardak çay içerdi.
- C) Motorun çıkardığı ses bizi rahatsız etmişti.
- D) Kapıyı açmak üzereyken telefonu çaldı.

2. 1. Havanın soğuğu insanın yüzünü yakıyor.
2. Mahalleli, topladığı çöpleri boş arazide yaktı.
3. Ütü yaparken televizyona dalınca eteğin ucunu yakmış.
4. Odasındaki lambayı gereksiz yere yakıyor.
“Yakmak” sözcüğü numaralanmış cümlelerin hangisinde “ateşle yok etmek” anlamında kullanılmıştır?

- A) 1. B) 2. C) 3. D) 4.

3. Arabası bozulduğu için babam dün yürüyerek gitti.

Bu cümlede aşağıdaki sorulardan hangisinin cevabı yoktur?

- A) Nasıl? B) Ne zaman?
- C) Kim? D) Nereye?

4. 1. kavurma
2. kavruk
3. kavun
4. kavuk

Numaralanmış sözcüklerin sözlük sırasına göre dizilişi aşağıdakilerden hangisidir?

- A) 2-3-1-4
B) 2-4-3-1
C) 4-1-2-3
D) 4-3-1-2

5. (1) Faruk, koşarak mutfağa girdi ve hemen kahvaltı masasına oturdu.
(2) Ailenin bütün fertleri keyifle kahvaltı ediyordu. (3) Kardeşi düne göre daha iyi görünüyordu. (4) Kardeşinin iştahı açılmış, yumurtasını ve tostunu yiyordu.

Bu metindeki numaralanmış cümlelerin hangisinde karşılaştırma yapılmıştır?

- A) 1. B) 2. C) 3. D) 4.

6. (1) Serap, o gün tiyatro seçmelerine katılacaktı. (2) Bu seçmelere ilk defa katılacağı için heyecanlıydı. (3) Okuduğu ve hayal ettiği karakterleri canlandırmak istiyordu. (4) Oyunculuk konusunda başarılıydı ama henüz hiçbir oyunda yer almamıştı.


Bu metinde numaralanmış cümlelerin hangisinde duygusal bir ifadeye yer verilmiştir?

- A) 1. B) 2. C) 3. D) 4.

7. Aşağıdaki cümlelerin hangisinde bir olay, nedeniyle birlikte verilmiştir?

- A) O gün maça gideceği için buluşamadık.
- B) Masadaki kalemlikten bir kurşun kalem alıp geldi.
- C) Cebinden telefonunu çıkarıp fotoğrafımızı çekti.
- D) Yanımdaki sandalyede, bir kadın gazete okuyordu.

8.



Numaralanmış görsellerin, olayların oluş sırasına göre dizilişi aşağıdakilerden hangisidir?

- A) 2-3-4-1
- B) 2-4-1-3
- C) 4-2-1-3
- D) 4-3-2-1

9. Ağaç evler tamamen ahşap kullanılarak yapılmaktadır. Üstelik bu evlerin yapımında çivi kullanmak zorunda değilsiniz. Çünkü - - - -

Bu metnin sonuna aşağıdakilerden hangisi getirilebilir?

- A) tahtaları birbirine geçirecek biçimde yontarak da evinizi inşa edebilirsiniz.
- B) ağaç evlerin bakımı zor ve masraflıdır.
- C) bu şehirde genellikle tek katlı ve odaları küçük evler tercih ediliyor.
- D) iyi bir ustayla anlaşp evinizi kısa sürede yaptırabilirsiniz.

10. Sevkan, babasına aldığı hediyeı bir kutuya koyup kargo şirketine gitti. Görevliye, içindeki eşyanın önemli olduğunu bu yüzden üzerine başka bir kutu koyulmaması gerektiğini söyledi. Görevli de kutunun üzerine uyarı amaçlı bir etiket yaptırdı.

Bu metne göre Sevkan'ın, babasına gönderdiği kutu aşağıdakilerden hangisidir?


A)



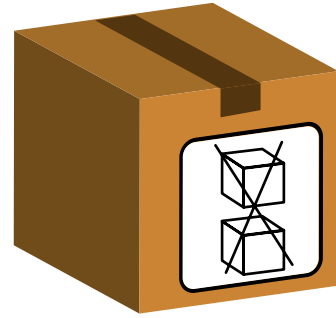
B)



C)



D)



11. Ömer, evinde uzanmış dinleniyordu. Bir ses duydu ve yerinden kalktı. Sesin geldiği bahçe kapısına doğru ilerledi. On üç, on dört yaşlarında bir kız çocuğunu elinde patenleriyle görünce şaşkınlığını gizleyemedi. Kız, çantasından bir kart çıkardı ve gülümseyerek Ömer'e uzattı.

Bu metinde aşağıdaki hikâye unsurlarından hangisi yoktur?

A) Yer

B) Olay

C) Zaman

D) Ana karakter

12. İnsanlar tarih boyunca pek çok farklı nesneyi para yerine kullandılar. Mesela Antik Roma askerlerine, ödemeleri tuz ile yapılıyordu çünkü tuz eskiden zor bulunan bir maddeydi. Kuzey Amerika yerlileri 18. yüzyıla kadar "wampum" denen istiridye kabuğundan yapılmış kolyeleri kullandılar. Pasifik Okyanusu'ndaki Yap Adası'nda fei taşı denen devasa paralar kullanılıyordu.

Bu metne göre aşağıdakilerden hangisi para olarak kullanılmamıştır?

- A) İstiridye kolye
B) Madeni levha
C) Tuz
D) Fei taşı

13. Zorlu kış şartlarında ekibimizle birlikte, dağın zirvesine doğru ilerliyorduk. Bir saattir karları yara yara yürüyorduk ve yürüyeceğimiz bir hayli yol vardı. Hepimiz çok yorulduğumuz için bir an önce kamp kurmak istiyorduk.

Aşağıdaki görsellerden hangisi bu metinde anlatılanları en iyi ifade etmektedir?



14. Babası, kitap alması için kızını kırtasiyeye göndermişti. Kız yolda arkadaşına rastladı. Arkadaşı "Ben lunaparka gidiyorum, birlikte gidelim." dedi. Kız, arkadaşıyla lunaparka gitti ve kitap alacağı paranın hepsini orada harcadı. Ne yaptığıнын farkına varınca babasının kızacağını düşünerek ağlamaya başladı. Bu yüzden eve de gidemiyordu. Onu merak eden babası yollara düşmüştü. Telaşla kızının yanına geldi. Kızı, ona her şeyi anlattı. Babası "Üzülmene gerek yok. Bu kadar istediğini bilseydim seni buraya ben getirirdim." dedi.

Bu metindeki babanın kişilik özelliği aşağıdakilerden hangisidir?

- | | |
|-------------|----------------|
| A) Sabırsız | B) Yardımsever |
| C) Çalışkan | D) Hoşgörülü |

15. 1. Kasabalılar, balıkçı meydanda görünür görünmez etrafında toplandı.
2. Balıkçı, sabah balığa çıkıp öğleden sonra kasabaya döndü.
3. Balıkları on dakika içinde satarak evine gitti.
4. Tuttuğu balıkları satmak için kasabanın meydanına götürdü.

Numaralanmış cümleler olayların oluş sırasına göre nasıl sıralanmalıdır?

- | | |
|------------|------------|
| A) 2-3-1-4 | B) 2-4-1-3 |
| C) 4-2-3-1 | D) 4-3-1-2 |

16. **Aşağıdakilerin hangisinde altı çizili sözcük bir ismin yerine kullanılmıştır?**

- A) Bunu kardeşim dün akşam almış.
B) Penceredeki kuş belli ki çok acıkmış.
C) Çocuklar ormanda gezintiye çıktılar.
D) Bugün nedense başım çok ağrıyor.

17. Yarın sabah yeni oltamı ona göstereceğim.
1 2 3 4

Bu cümledeki numaralanmış sözcüklerden hangisi bir varlığı nitelemektedir?

- A) 1. B) 2. C) 3. D) 4.

18. Aşağıdaki cümlelerden hangisinin sonuna farklı bir noktalama işareti getirilmelidir?

- A) Pazar günü ne yapmayı planlıyorsun
B) Duvar saati için kaç tane pil alayım
C) Siz gelmeseniz daha iyi olacak galiba
D) Yemeğe yetişemeyeceğini mi söyledi

19. Aşağıdaki altı çizili sözcüklerden hangisi sözcük türeten bir ek almamıştır?

- A) Size bugün fıstıklı baklava alacağım.
B) İlçedeki çöplük geçen sene kaldırıldı.
C) Boyacı bir günde evdeki bütün duvarları boyadı.
D) Dağın tepesi yine karla kaplandı.

20. Aşağıdaki cümlelerin hangisinde büyük harflerin kullanımıyla ilgili bir yazım yanlışı vardır?

- A) Seda, Kasım ayındaki geziye katılacaktı.
B) Kek yaparken Dilek de bana yardım etti.
C) Bu mevsimde bile Antalya çok sıcaktır.
D) Köpeğimiz Yumak bugün hiç yerinde durmuyor.

TÜRKÇE TESTİ BİTTİ.
MATEMATİK TESTİNE GEÇİNİZ.



1. Okunuşları "yüz yetmiş üç" ve "iki yüz kırk yedi" olan sayılar yazılıyor. Aşağıdaki rakamlardan hangisi yazılan sayıların her ikisinde de bulunur?

A) 1 B) 2 C) 4 D) 7

2. Murat bir kitabı her gün 16 sayfa okuyarak 6 günde bitiriyor. Ayşe aynı kitabı her gün kaç sayfa okursa 4 günde bitirir?

A) 26 B) 24 C) 22 D) 20

3. Toplamı 870 olan iki sayıdan biri 324'tür. Buna göre toplanan bu iki sayının farkı kaçtır?

A) 546 B) 436 C) 232 D) 222

4.

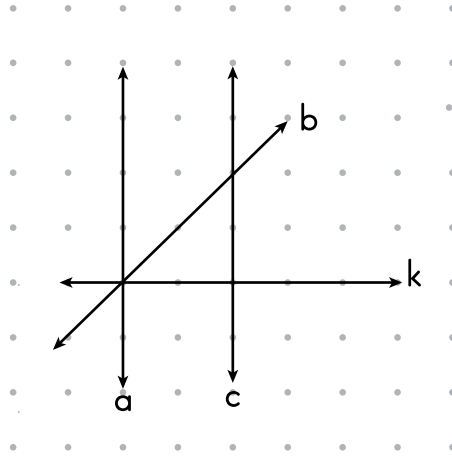
$$\begin{array}{r} \times \quad 1 \blacksquare \\ 38 \\ \hline 1 \blacktriangle 6 \\ + 51 \\ \hline 646 \end{array}$$

Verilen çarpma işleminde \blacksquare ve \blacktriangle birer rakamdır.

Buna göre $\blacksquare \times \blacktriangle$ kaçtır?

A) 4 B) 10 C) 21 D) 35

5.



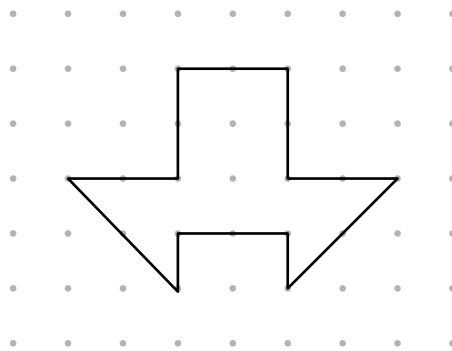
Noktalı kâğıtta verilen şekle göre aşağıdaki ifadelerden hangisi yanlıştır?

- A) a ve k doğruları birbirine paraleldir.
- B) b doğrusu k doğrusunu kesmektedir.
- C) a ve c doğruları birbirine paraleldir.
- D) k doğrusu c doğrusunu dik kesmektedir.

6. $\frac{1}{14}, \frac{1}{9}, \frac{1}{12}$ kesirleri aşağıdakilerden hangisinde doğru sıralanmıştır?

- A) $\frac{1}{9} > \frac{1}{12} > \frac{1}{14}$
- B) $\frac{1}{14} > \frac{1}{9} > \frac{1}{12}$
- C) $\frac{1}{14} > \frac{1}{12} > \frac{1}{9}$
- D) $\frac{1}{9} > \frac{1}{14} > \frac{1}{12}$

7.



Noktalı kâğıtta verilen şekilde kaç tane dik açı vardır?

- A) 4
- B) 5
- C) 6
- D) 7

8. Saat 07.10'da evden çıkan Aydın 9'a çeyrek kala eve dönüyor. Aydın evden çıktıktan kaç dakika sonra eve dönmüştür?

A) 80 B) 95 C) 105 D) 120

9. Bir markette yarım litrelik kutularda satılan ayran ve süt fiyatları aşağıdaki tabloda verilmiştir.

Tablo : Ürünler ve Fiyatları

Ürün	Yarım Litrelik Kutunun Fiyatı
Süt	2 TL
Ayran	1 TL

Bu marketten 2 L süt ve 3 L ayran alan Kaya kaç lira öder?

A) 8 B) 12 C) 14 D) 20

10.

$$\begin{array}{r} 7 \blacktriangle 1 \\ \underline{\blacksquare 92} \\ 209 \end{array}$$

Verilen çıkarma işleminde \blacktriangle ve \blacksquare birer rakam belirtmektedir.

Buna göre $\blacktriangle + \blacksquare$ kaçtır?

A) 4 B) 5 C) 13 D) 14

11. Sevinç Hanım 126 TL elektrik, 47 TL su ve 304 TL doğalgaz faturası ödüyor.

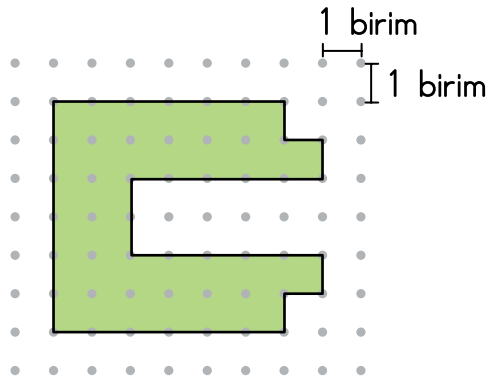
Cüzdanında 76 TL parası kaldığına göre Sevinç Hanım'ın faturaları ödemedenden önce kaç lirası vardı?

- A) 443 B) 477 C) 553 D) 589

12. Aşağıdakilerin hangisi en yakın onluğa yuvarlandığında 380'e eşit olur?

- A) 374 B) 376 C) 385 D) 387

- 13.



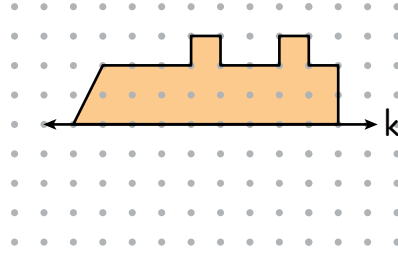
Noktalı kâğıtta verilen şeklin çevresi kaç birimdir?

- A) 24 B) 27 C) 33 D) 36

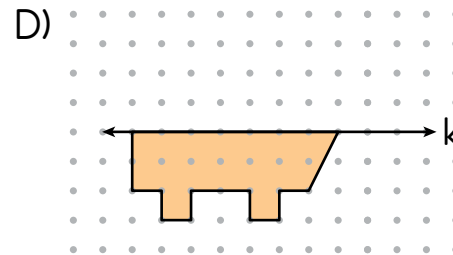
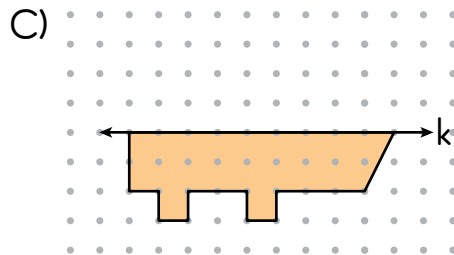
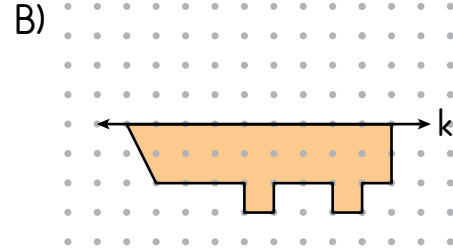
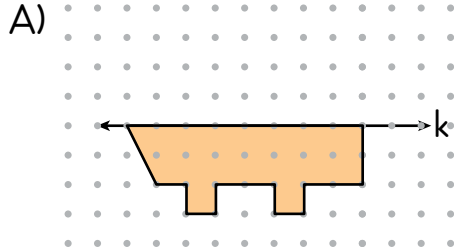
14. Bir tiyatro salonunda 18 sıra ve her sırada 25 koltuk bulunmaktadır. Oyun başlamadan önce tiyatro salonunda 29 koltuk boş olduğuna göre kaç koltuk doludur?

A) 339 B) 421 C) 450 D) 479

15.



Noktalı kâğıtta verilen şeklin k doğrusuna göre simetriği aşağıdakilerden hangisidir?



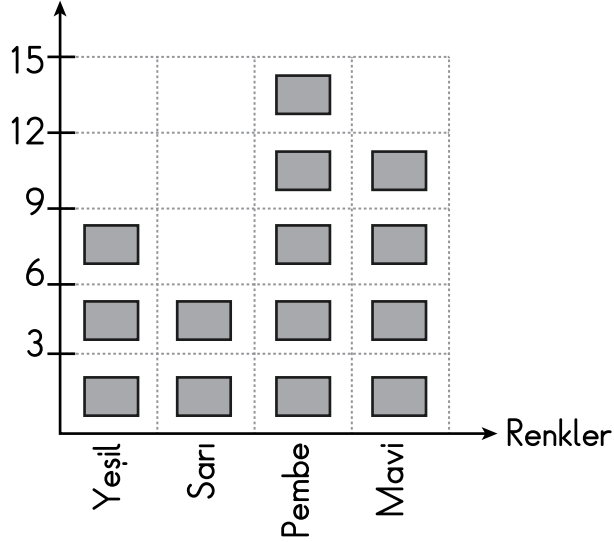
16. Emel'in 2 m 12 cm, Zeynep'in ise 3 m kurdelesı vardır. Zeynep kurdelesinden kaç santimetre keserse kalan parça Emel'in kurdelesıyla eşit uzunlukta olur?


A) 44 B) 49 C) 88 D) 98

17. Bir sınıftaki öğrencilerin en sevdiği renkler aşağıdaki şekil grafiğinde gösterilmiştir.

Grafik : En Sevilen Renkler

Öğrenci Sayısı



Not : Her  3 kişiyi göstermektedir.

Bu grafiğe ait çetele tablosu aşağıdakilerden hangisidir?

A) Tablo : En Sevilen Renkler

Yeşil	III
Sarı	II
Pembe	HHH
Mavi	IIII

B) Tablo : En Sevilen Renkler

Yeşil	HHH IIII
Sarı	HHH
Pembe	HHH I
Mavi	HHH HHH

C) Tablo : En Sevilen Renkler

Yeşil	HHH HHH HHH
Sarı	HHH HHH
Pembe	HHH HHH HHH HHH HHH
Mavi	HHH HHH HHH HHH

D) Tablo : En Sevilen Renkler

Yeşil	HHH IIII
Sarı	HHH I
Pembe	HHH HHH HHH
Mavi	HHH HHH II

18. Bir mağazada satılan tişörtlerin fiyatı 24 liradır. Bu mağazadan alınan her 4 tişört için 3 tişört parası ödeniyor.

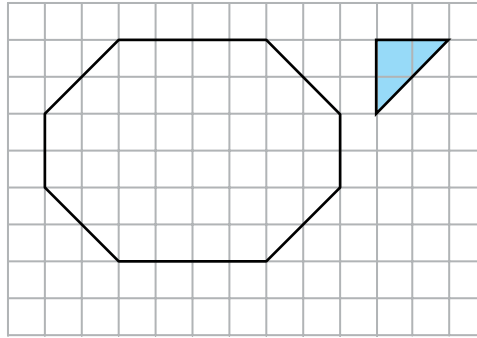
Bu mağazadan 8 tişört alan bir kişi kaç lira öder?

- A) 144 B) 156 C) 168 D) 192

19. Aşağıdaki geometrik cisimlerin hangisinin yüzlerinin sayısı diğerlerinden farklıdır?

- A) Küp B) Üçgen prizma
C) Kare prizma D) Dikdörtgenler prizması

20.



Kareli kâğıtta verilen şeklin tamamı, üçgen şeklindeki mavi eliş kâğıtlarıyla kaplanacaktır.

Bunun için bu mavi eliş kâğıtlarından en az kaç tane gerekir?

- A) 16 B) 18 C) 20 D) 22

**MATEMATİK TESTİ BİTTİ.
HAYAT BİLGİSİ TESTİNE GEÇİNİZ.**



1.



Yukarıdaki bayrağın hangi özelliği Türk bayrağına benzemektedir?

- A) Kenar şeritleri
C) Zemin rengi

- B) Ay-yıldızın şekli
D) Ay-yıldızın rengi

2. Aşağıdakilerden hangisi ülkemizdeki tarihî mekânlardan biridir?

- A) Topkapı Sarayı
C) Manavgat Şelalesi

- B) Peribacaları
D) Pamukkale Travertenleri

3. 23 Nisan'ı bayram olarak kutlamamızın sebebi aşağıdakilerden hangisidir?

- A) Düşmanların yurdumuzdan atılması
B) Sakarya Meydan Savaşı'nın kazanılması
C) Türkiye Büyük Millet Meclisinin açılması
D) Mustafa Kemal Paşa'nın Samsun'a çıkması

4. Atalarımızın, bizlere bıraktığı tarih, kültür ve sanat ile ilgili eserleri görmek için aşağıdakilerden hangisine gitmemiz gerekir?

- A) Mağaza
C) Müze

- B) Tiyatro
D) Park

5. Atatürk, Samsun'a çıktıktan sonra Millî Mücadele'yi başlatmak için Anadolu'nun birçok ilinde toplantılar yapmıştır.

Aşağıdakilerden hangisi bu illerden biri değildir?

- A) Amasya
C) Erzurum

- B) Kayseri
D) Sivas

6. Atatürk, her yıl 19 Mayıs günü kutladığımız bayramı aşağıdakilerden hangisine armağan etmiştir?

- | | |
|-----------------|-------------|
| A) Çocuklara | B) Gençlere |
| C) Öğretmenlere | D) Orduya |

7. Aşağıdakilerden hangisi liderin özellikleri arasında yer almaz?

- A) Topluma yol gösterir.
- B) Toplumun iyiliği için çalışır.
- C) Her dediğini zorla yaptırır.
- D) Toplumu ortak amaçlar etrafında toplar.

8. Mustafa Kemal, lise öğrenimini aşağıdaki illerden hangisinde yapmıştır?

- | | |
|-------------|-------------|
| A) İstanbul | B) Samsun |
| C) Selanik | D) Manastır |

9. Aşağıdakilerden hangisi özel günlerimizi kutlarken paylaştığımız duygulardan biri değildir?

- | | |
|---------------|----------|
| A) Kıskançlık | B) Saygı |
| C) Hoşgörü | D) Sevgi |

10. Kurtuluş Savaşı hangi olayla başlamıştır?

- A) TBMM'nin açılması
- B) Cumhuriyet'in ilan edilmesi
- C) İzmir'in işgal edilmesi
- D) Atatürk'ün Samsun'a çıkması

11. Deprem sırasında bina içindeyseniz güvenliğinizi için aşağıdakilerden hangisini yapmamız doğru olur?

- A) Merdivenlerden koşarak aşağıya inmek
- B) Asansörü kullanarak binayı terk etmek
- C) Balkona çıkıp depremin bitmesini beklemek
- D) Sağlam bir eşyanın yanına kapanmak

12.



1



2



3

Numaralandırılmış ulaşım araçlarının en yavaş olanından hızlıya göre sıralaması hangi seçenekte doğru verilmiştir?





- A) 1, 2, 3
- B) 1, 3, 2
- C) 2, 1, 3
- D) 3, 2, 1

13. Edison, ampulü icat edene kadar bine yakın başarısız deney yapmıştır. Bu deneyler sırasında çok farklı araç ve gereçler kullanmıştır. Bu kadar başarısızlıktan sonra bile umutsuzluğa kapılmamış en sonunda emeklerinin karşılığını tüm bilim insanları gibi almıştır.

Buna göre bilim insanları için hangisi söylenemez?

- A) Çalışkan
B) Sabırlı
C) Azimli
D) Karamsar

14. Yalçın ailesi Ankara'dan İstanbul'a arabalarıyla yolculuk yapacaklardır. Yola çıkacakları güne karar vermek için aşağıdaki dört günlük hava durumu raporunu incelerler.

20 Ocak Cumartesi	21 Ocak Pazar	22 Ocak Pazartesi	23 Ocak Salı
			

Yol güvenliğine önem veren Yalçın ailesi hangi gün yola çıkmalıdır?

- A) Cumartesi
B) Pazar
C) Pazartesi
D) Salı

15. Merhaba, ben Dilara. İzmir'de yaşıyorum. Evimiz, Karşıyaka ilçesinde bir apartman dairesinin en üst katındadır. 3 odası ve bir salonu bulunmaktadır. Yaşadığım şehir Ege Bölgesi'nde deniz kıyısındadır. Burada Akdeniz iklimi görülür. Yazlar çok sıcak, kışlar ise serindir. Buradaki ekonomik faaliyetler: Tarım, sanayi ve turizmdir.

Dilara yaşadığı ev ve bölgeyle ilgili hangi bilgiyi vermemiştir?

- A) Evinin özellikleri
B) Geçim kaynakları
C) İklim özellikleri
D) Çevre sorunları

16. Aşağıda geçmişten günümüze kullanılan bazı iletişim araç ve yöntemleriyle ilgili bilgiler verilmiştir.

Verilenler içinde en hızlı ve güvenilir iletişim yoludur.



1

İnsan duygu ve düşüncelerini kağıda yazar.



2

Konuşmanın yanı sıra fotoğraf çekilmesine de imkân sağlar.



3

Günümüzde bazı ev ve iş yerlerinde hala kullanılmaktadır.



4

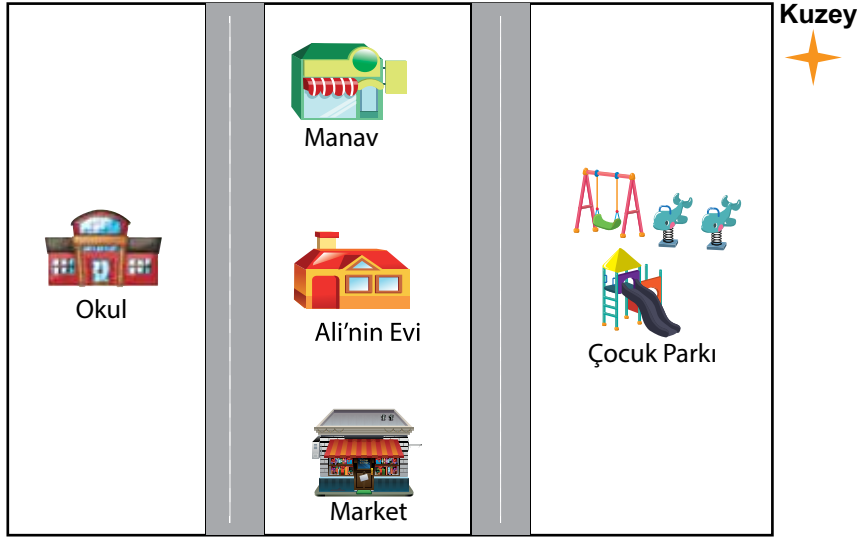
Verilen bu bilgilerden hangisi yanlıştır?

- A) 1. B) 2. C) 3. D) 4.

17. Aşağıdakilerden hangisi evimizde enerji tasarrufu yapmamıza katkı sağlar?

- A) Bulaşık makinesinin tam dolu olarak çalıştırılması
B) Giysilerimizin kirlenmeden sık sık makinede yıkanması
C) Evimizin odalarında gereğinden fazla lamba kullanılması
D) Kış aylarında oda sıcaklığı artınca pencerelerin açılması

18.



Yukarıdaki krokiye göre Ali'nin evinin batısında ne vardır?

- A) Manav
B) Market
C) Okul
D) Çocuk parkı

19.

- Karınca yuvaları
- Ağaç ve taşların yosunlu kısımları
- Cami minarelerinin şerefe kapıları

Yukarıdaki verilenlerin tamamı bize hangi konuda bilgi verir?

- A) Adres belirleme
B) Yön bulma
C) Trafik kuralları
D) Kroki çizme

20.

Ahmet: Büyüyünce suç işleyen insanları yakalayıp adalete teslim ederek, insanların can ve mal güvenliğini sağlamak istiyorum.


Buna göre, Ahmet ilerde hangi mesleği seçmelidir?

- A) Avukat
B) Doktor
C) Polis
D) Öğretmen

HAYAT BİLGİSİ TESTİ BİTTİ.
FEN BİLİMLERİ TESTİNE GEÇİNİZ.



1. Bir sınıf panosuna aşağıdaki resimler yerleştirilmiştir.



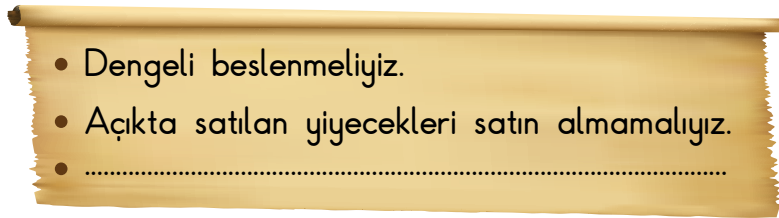
Resimde verilen varlıklar, aşağıdakilerden hangisi gibi gruplandırılabilir?

- A) Bitki - Hayvan
B) Canlı - Cansız
C) Doğal - Yapay
D) Hayvan - Cansız
2. Verilen karta bazı canlılar yazılmıştır.



Aşağıdakilerden hangisi bu canlıların ortak özelliği değildir?


- A) Beslenme
B) Yer değiştirebilme
C) Solunum yapma
D) Tepki verme
3. Öğrenciler sağlıklı yaşam için dikkat edilmesi gereken davranışları bir postere şekildeki gibi yazmaktadırlar.



Bu postere öğrenciler aşağıdakilerden hangisini yazabilir?

- A) Yiyeceklerimizi mevsime uygun olarak seçmeliyiz.
B) Dişlerimizi haftada bir kez fırçalamalıyız.
C) Çevremizdeki bütün bitkileri besin olarak kullanmalıyız.
D) Her gün düzenli olarak ilaç kullanmalıyız.

4. Sınıfta yapılan bir deneyde şekildeki gibi gözleri kapalı olan Ahmet, masa üzerindeki meyveleri eline alıp dokunuyor. Daha sonra meyvelerin kesilmiş kısımlarını diline değdirip isimlerini doğru bir şekilde söylüyor.




Ahmet, meyvelerin ismini söylemek için sırayla hangi duyu organlarını kullanmıştır?

- A) Görme - İşitme
B) Dokunma - Görme
C) Dokunma - Tat alma
D) Görme - Koklama
5. Bir öğrenci eline aldığı sabunla ilgili olarak;
- Beyaz renkliydi.
 - Yüzeyi pürüzlüydü.
 - Güzel kokuyordu.
- tanımlamasını yapmıştır.
- Öğrenci bu tanımlamayı yaparken hangi duyu organından faydalananmamıştır?
- A) Göz
B) Deri
C) Burun
D) Kulak
6. Aşağıdakilerden hangisi göz sağlığımızı korumak için doğru bir davranıştır?

- A) Aşırı sıcak ve soğuk yiyecekler yememek
B) Televizyonu uygun bir uzaklıktan izlemek
C) Yüksek sesli ortamlarda bulunmamak
D) Güneşli ortama çıkarken ellerimize koruyucu krem sürmek

7.



Resimde görülen çevre ile ilgili aşağıdakilerden hangisi doğrudur?

- A) Tamamen kendiliğinden oluşmuş doğal çevredir.
- B) Sadece cansız varlıklardan oluşmuştur.
- C) Sadece canlı varlıklardan oluşmuştur.
- D) İnsanlar tarafından oluşturulmuş yapay çevredir.

8. Ailesi ile kampa giden Tolga, gece rüzgârla sallanan ağaç dallarının çıkardığı sesi duymasına rağmen ağaç dallarını görememiştir. Sabah uyandığında, gece seslerini duyduğu ağaç dallarını görmüştür.



Bu durumla ilgili olarak aşağıdakilerden hangisi söylenebilir?

- A) Işık olmadan maddeleri göremeyiz.
- B) Işık olmadan sesleri işitemeyiz.
- C) Sadece yapay ışık kaynakları sayesinde görürüz.
- D) Sadece gördüklerimizin seslerini işitiriz.



9. Ali ve Esra, Güneş ışınlarının gece yeryüzüne nasıl ulaştığını anlamak için bir deney yapmışlardır. Bu deneyde karanlık bir ortamda el fenerinden çıkan ışığın ayna tarafından yansıtıldığında odayı görebildiklerini fark etmişlerdir.

Buna göre deneyde ayna aşağıdakilerden hangisine benzetilmiştir?

- A) Güneş
B) Ay
C) Dünya
D) Yıldız

10.  ısıtma,  ise başkaları ile haberleşme için kullandığımız elektrikli araçlardır.

Verilen cümlede  ve  ile gösterilen kısımlara aşağıdakilerden hangisi yazılırsa cümle doğru olur?

	
A) Elektrik süpürgesi	telefon
B) Telefon	elektrikli soba
C) Elektrikli soba	telefon
D) Elektrik süpürgesi	tost makinesi

11. Betül Hanım, mutfakta işlerini yaparken su ısıtıcısındaki suyun kaynadığını fark etmiştir. Ellerini kurulamış ve sadece su ısıtıcısının fişinin takılı olduğu prizden, kapatma düğmesine basmadan ısıtıcının fişini çekmiştir.

Betül Hanım elektrikli araçların güvenli kullanımı ile ilgili hangi kuralla uymamıştır?

- A) Yıpranmış kabloları yeni kablolarla değiştirme
B) Elektrikli aletleri kapattıktan sonra fişini prizden çekme
C) Çalışan elektrikli araç-gereçlere kuru elle dokunma
D) Bir prize bir tane fiş takma

12. Mehmet ve babası arabada giderken arkalarından gelen ambulansın siren sesini duymuşlardır. Mehmet'in babası ambulansa yol vermiş, ambulans arabalarının yanına yaklaşırken Mehmet siren sesini daha şiddetli duymuştur.

Mehmet'in ambulans yaklaşırken siren sesini daha şiddetli duymasının nedeni aşağıdakilerden hangisidir?

- A) Ses kaynağına yaklaştıkça sesin şiddetinin artması
- B) Sesin dalgalar hâlinde yayılması
- C) Ambulans sesinin yapay ses olması
- D) Her canlının işitebileceği ses şiddetinin farklı olması


13. Yerküre'nin uzaydan görünümü resimdekine benzetilebilir. Bu benzetmede; mavi renkli alanlar suyu, yeşil renkli olanlar karayı ve gri renkli alanlar da havayı göstermektedir.



Yalnızca bu resme bakılarak Yerküre ile ilgili aşağıdakilerden hangisi söylenemez?

- A) Üzerinde canlıların yaşadığı
- B) Bir kısmının sularla kaplı olduğu
- C) Büyük kara parçalarının bulunduğu
- D) Etrafını saran bir hava tabakasının bulunduğu


14. Mehmet ve ailesinin evlerinin akşamki görüntüsü resimdeki gibidir.



Bu resme bakıldığında Mehmet ve ailesi evde elektriği tutumlu kullanma konusunda aşağıdaki yanlış davranışlardan hangisini yapmışlardır?

- A) Buzdolabının kapağını sürekli olarak açık bırakma
- B) Kalorifer yanarken kapı ve pencereyi açma
- C) Televizyonu ve kullanılmayan yerlerdeki ışıkları açık bırakma
- D) Bulaşık makinesini tam doldurmadan çalıştırma


15. Ahmet, salıncakta sallanmakta olan Ayşe'yi şekildeki gibi bir kez itip bırakarak daha yükseğe çıkmasını sağlıyor. Bir süre sonra salıncak kendiliğinden hareketsiz hâle geliyor.



Bu olayda salıncak aşağıdakilerden hangisini yapmamıştır?

- | | |
|--------------|-------------|
| A) Durma | B) Sallanma |
| C) Yavaşlama | D) Çarpışma |
16. Aşağıdakilerden hangisi oluşabilecek tehlikelere karşı yapmamız gerekenlerden biridir?
- A) Okul merdivenlerini koşmadan inip çıkmak
B) Yokuş aşağı giden bisikleti aniden durdurmak
C) Çok hızlı sallanan arkadaşımızın salıncağını elimizle aniden durdurmak
D) Hareket eden arabadan inmeye çalışmak

17. Hakan ve Ege birlikte, duran masayı ok yönünde hareket ettiriyorlar.



Her ikisi de masanın hareket etmesini sağladıklarına göre aşağıdakilerden hangisi söylenebilir?

- A) Ege, masayı kendine doğru çekmektedir.
 - B) Masaya itme ve çekme kuvveti uygulanmaktadır.
 - C) Hakan, masayı Ege'ye doğru itmektedir.
 - D) Masa iki farklı yönde hareket etmektedir.
18. Bir kaptaki buz, ısıtıcı ile ısıtıldıktan sonra kapta hiç buz kalmadığı, bir miktar su olduğu gözlenmiştir.

Bu gözlemle ilgili olarak aşağıdakilerden hangisi söylenebilir?

- A) Buz tamamen gaz hâline geçmiştir.
- B) Buz başka bir maddeye dönüşmüştür.
- C) Buz tamamen erimştir.
- D) Buz miktarı artmıştır.

19. • Serttir.
• Esnek değildir.
• Masadan yere düşerse kırılmaz.

Bir cisme ait verilen özelliklere göre, bu cisim aşağıdakilerden hangisi olabilir?

- A) Paket lastiği
B) Cam bardak
C) Demir kaşık
D) Oyun hamuru

20. Elif, ellerini yıkamak için banyoya gittiğinde sıvı el sabununun bittiğini fark etmiştir. Banyo dolabında üzerinde etiket bulunan bir şişede gördüğü beyaz renkli sıvının sabun olabileceğini düşünmüştür.

Elif bu düşüncesinin doğru olup olmadığını anlamak için aşağıdakilerden hangisini yaparsa uygun olur?

- A) Sıvıyı burnuna iyice yaklaştırıp koklamalı
B) Sıvının tadına bakmalı
C) Sıvıyı eline döktükten sonra ellerini yıkamalı
D) Şişenin üzerindeki etikette yazılanları okumalı

TEST BİTTİ.
CEVAPLARINIZI KONTROL EDİNİZ.



SINAV BAŞLAMADAN AŞAĞIDAKİ UYARILARI MUTLAKA OKUYUNUZ!

1. Öğrenciler, sınav kurallarına ve salon görevlilerinin tüm uyarılarına uymak zorundadırlar.
2. Cevap kâğıdındaki kimlik bilgilerinin doğruluğunu kontrol ediniz. Bilgiler size ait değilse veya cevap kâğıdı kullanılmayacak durumdaysa sınav görevlilerine bildiriniz.
3. Sınav başladıktan sonra öğrencilerin salon görevlileri ve birbirleri ile konuşmaları, kalem, silgi vb. şeyleri istemeleri yasaktır.
4. Değiştirmek istediğiniz bir cevabı, yumuşak silgiyle cevap kâğıdını yıpratmadan temizce siliniz ve yeni cevabınızı kodlayınız.
5. Cevap kâğıdınızı silinmeyen bir kalemle imzalayınız.
6. Cevaplarınızı, cevap kâğıdındaki ilgili soru numarasını dikkate alarak yuvarlağın dışına taşırmadan kodlayınız.
7. Soru kitapçığının sayfalarını kontrol ediniz, baskı hatası var ise değiştirilmesini sağlayınız.
8. Soru kitapçığı üzerinde yapılp cevap kâğıdına işaretlenmeyen cevaplar değerlendirmeye alınmayacaktır.
9. Soru kitapçığının içindeki boş alanları çözümlerinizi için kullanabilirsiniz.
10. Cevaplamaya istediğiniz sorudan başlayabilirsiniz.
11. Cevabını bilmediğiniz sorular üzerinde fazla zaman kaybetmeden diğer sorulara geçiniz. Zamanınız kalırsa bu sorulara daha sonra dönebilirsiniz.
12. Sınav puanınızın hesaplanmasında 3 yanlış 1 doğru cevabınızı götürcektir. Alt testler bu şekilde hesaplanarak net puanlarının toplamı toplam net puanınızı verecektir.
13. Sınav bitiminde, soru kitapçığı ve cevap kâğıdını salon görevlilerine teslim ediniz.
14. Sınav sırasında çanta, cep telefonu, saat, kablosuz iletişim sağlayan cihazlar ve kulaklık, kolye, küpe, bilezik, yüzük, broş ve benzeri eşyalar ile her türlü elektronik ve/veya mekanik cihazları yanınızda bulundurmayınız. Bu araçları yanınızda bulundurmanız ve kopya çekmeye teşebbüs etmeniz hâlinde sınavınız geçersiz sayılacaktır.
15. Cevap kâğıdınızı sınav süresince hiçbir öğrencinin göremeyeceği şekilde önünüzde bulundurunuz.
16. Sınavınızın değerlendirilmesi aşamasında, toplu kopya tespiti veya başka adayın sınav evrakını kullanmanız durumunda sınavınız geçersiz sayılacaktır.
17. Soruları ve sorulara verdiğiniz cevapları kaydetmeyiniz, hiçbir şekilde dışarı çıkarmayınız.
18. İlk 15 dakika dışarı çıkılmayacaktır.
19. Sınav evraklarını teslim etmeyenlerin sınavı geçersiz sayılacaktır.

SINAV GÖREVLİLERİNCE SINAV BAŞLAMADAN ÖNCE ÖĞRENCİLERE YAPILACAK SON UYARI!

- Soracağınız bir şey var mı? Varsa, şimdi sorunuz.
- Sınav başladıktan sonra sorularınıza cevap verilmeyecektir.
- Başlama zilini bekleyiniz.

Hepinize başarılar dileriz.

(Sınav görevlisi başlama ve bitiş saatini tahtaya yazacaktır.)

Bu kitapçığın her hakkı saklıdır. Hangi amaçla olursa olsun, kitapçığın tamamının veya bir kısmının Millî Eğitim Bakanlığı Ölçme, Değerlendirme ve Sınav Hizmetleri Genel Müdürlüğünün yazılı izni olmadan kopya edilmesi, fotoğraflarının çekilmesi, bilgisayar ortamına alınması, herhangi bir yolla çoğaltılması, yayımlanması veya başka bir amaçla kullanılması yasaktır. Bu yasağa uymayanlar, doğabilecek cezai sorumluluğu ve kitapçığın hazırlanmasındaki mali külfeti peşinen kabullenmiş sayılır.

**9 HAZİRAN 2018 TARİHİNDE YAPILAN TED ANKARA KOLEJİ VAKFI
ÖZEL İLKOKULU VE ORTAOKULU SEÇME SINAVI
4. SINIFLAR “B” KİTAPÇIĞI CEVAP ANAHTARI**

TÜRKÇE	MATEMATİK	HAYAT BİLGİSİ	FEN BİLİMLERİ
1. A	1. D	1. B	1. A
2. B	2. B	2. A	2. B
3. D	3. D	3. C	3. A
4. B	4. C	4. C	4. C
5. C	5. A	5. B	5. D
6. B	6. A	6. B	6. B
7. A	7. C	7. C	7. D
8. C	8. B	8. D	8. A
9. A	9. C	9. A	9. B
10. D	10. A	10. D	10. C
11. C	11. C	11. D	11. B
12. B	12. B	12. B	12. A
13. A	13. D	13. D	13. A
14. D	14. B	14. A	14. C
15. B	15. B	15. D	15. D
16. A	16. C	16. A	16. A
17. B	17. D	17. A	17. B
18. C	18. A	18. C	18. C
19. D	19. B	19. B	19. C
20. A	20. C	20. C	20. D