

Adı Soyadı:

## SOSYAL BİLGİLER

### I. DÖNEM II.SINAVI

**A.** Aşağıdaki cümleleri okuyunuz. Doğru ise cümlenin başına (D), yanlış ise (Y) yazınız. (10 puan)

- ( ) Pusulanın renkli ucu her zaman doğuyu gösterir.
- ( ) Şehirlerde insanlar daha çok beşeri unsurlarla karşılaşır.
- ( ) Bir yerin kuşbakışı çizilmesine kroki denir.
- ( ) Deprem sırasında hemen pencereden aşağı atlamalıyız.
- ( ) Deprem çantasında ilkyardım malzemeleri bulunmalıdır.

**B.** Aşağıdaki cümlelerde boş bırakan yerlere uygun kelimeleri yazınız.(10 P)


ihtiyaç	doğal	doğu
Kutup	hava olayları	

- Güneşin doğduğu yöne ..... denir.
- .....yıldızı her zaman kuzeyi gösterir.
- Göl, akarsu, dağ, güneş..... unsurdur.
- Yağmur, kar, dolu, sis gibi olaylara .....denir.
- Ekmek ,mont, ayakkabı bizim ..... duyduğumuz eşyalardır.

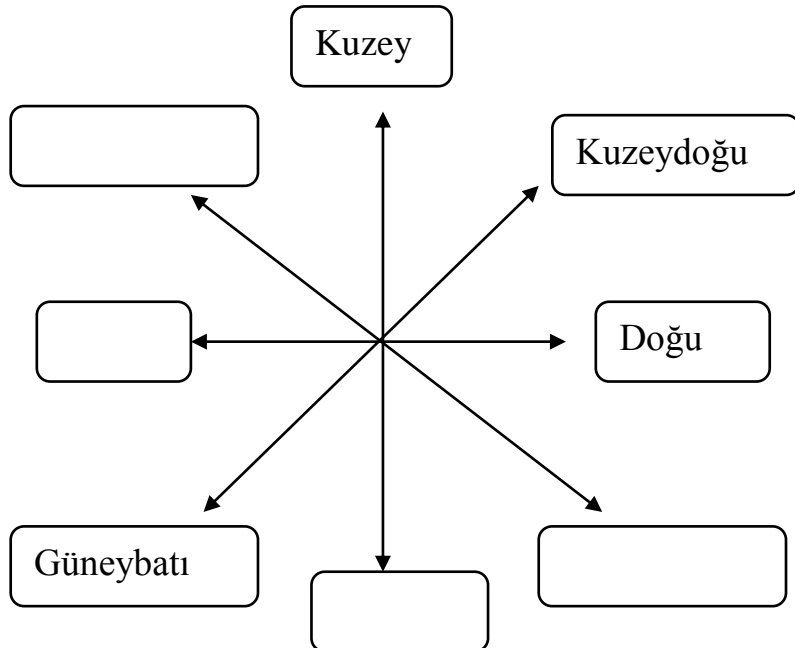
**C.** Aşağıdaki eşyalardan hangilerine ihtiyaç duyarız. Yuvarlak içine alınız. Sekiz tane işaretleyiniz.(12 Puan)

Kazak	Gitar	Bilgisayar	Ekmek
Oyuncak	Kalem	Su	Bisiklet
Çorap	Bisküvi	Kumandalı araba	Tablet
Kaykay	Portakal	Top	Kitap




**Ç.** Deprem çantasında neler olmalıdır? Beş tanesini yazınız. (10 Puan)







**D.** Ana ve ara yönlerimizi yazınız. (8puan)



1. Aşağıdakilerden hangisi **doğal unsur**dur?

- a)  HAVAALANI  
b)  OYUN PARKI  
c)  BARAJ  
d)  IRMAK

2. Aşağıdakilerden hangisi **beşeri unsur**dur?

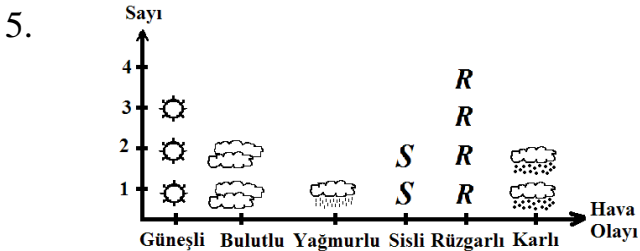
- a)  DAĞ  
b)  DERE  
c)  KÖPRÜ  
d)  GÖL

3. Aşağıdakilerden hangisi **doğal afet değildir**?

- a) Yağmur  
b) Çığ  
c) Deprem  
d) Heyelan

4. Aşağıdakilerden hangisi **çığ felaketi için alınabilecek önlemlerden biri değildir**?

- a) Doğal bitki örtüsü korunmalıdır.  
b) Yamaçlara ev yapılmalıdır.  
c) Yamaçlar ağaçlandırılmalıdır.  
d) Yamaçlar basamaklandırılmalıdır.



İsa, yaşadığı bölgedeki hava olaylarını gözlemleyerek yukarıdaki şekil grafiğini çizmiştir. Buna göre İsa'nın yaşadığı bölgede **en fazla** hangi hava olayı yaşanmıştır?

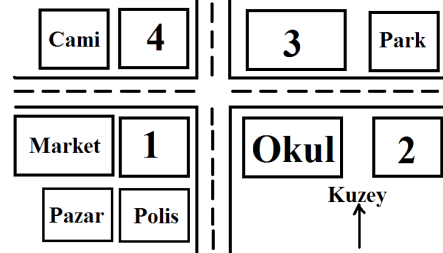
- a) Güneşli  
b) Sisli  
c) Yağmurlu  
d) Rüzgârlı

6. "Semih ve ablası Ordu'da teleferiğe binmişlerdi." Teleferikten kuşbakışı olarak bakan Semih aşağıdakilerden **hangisini göremez**?

- a) Evlerin çatısını  
b) Evlerin kapısını  
c) Oyun parklarını  
d) Arabaların üstünü



7.



"Dayımlar yeni bir mahalleye taşındılar. Biz onlara ilk kez gidecektik. Ama yolu bilmiyorduk. Dayım bize bir kroki verdi. Krokiye göre marketin doğusunda, Polis karakolunun kuzeyinde oturduklarını söyledi." Buna göre dayımlar kaç numaralı evde oturuyorlar?

- a) 1  
b) 2  
c) 3  
d) 4

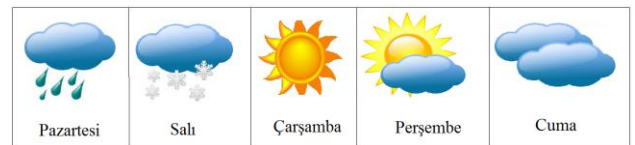
8. Aşağıdakilerden hangisinden yararlanarak yönümüzü **bulamayız**?

- a) Pusula  
b) Güneş  
c) Ay  
d) Kutup yıldızı

9. Dağların yüksek yerlerinden kopup gelen kar kütlelerine ne denir?

- a) Deprem  
b) Sel  
c) Çığ  
d) Heyelan

10.



Yukarıda Ordu için verilen hava durumuna göre, Pazartesi hava nasıldır?

- a) Yağmurlu  
b) Karlı  
c) Güneşli  
d) Bulutlu

Cevaplarınızı kontrol ediniz.  
Her soru 5 puandır.