

**3.**  
**SINIF**



**B**  
**KİTAPÇIK TÜRÜ**

**T.C.**  
**MİLLÎ EĞİTİM BAKANLIĞI**  
**ÖLÇME, DEĞERLENDİRME VE SINAV HİZMETLERİ**  
**GENEL MÜDÜRLÜĞÜ**

**VEHBİ KOÇ VAKFI, KOÇ ÖZEL İLKOKULU VE ORTAOKULU SEVİYE TESPİT SINAVI**  
**(2. Sınıftan 3. Sınıfa Geçenler)**  
**9 HAZİRAN 2018 Saat: 10.00**

Adayın Adı ve Soyadı : .....

Aday Numarası (T.C. No) : .....

DERS ADI	SORU SAYISI	TOPLAM SORU SAYISI	SINAV SÜRESİ (DAKİKA)
TÜRKÇE	20	60	80
MATEMATİK	20		
HAYAT BİLGİSİ	20		

## ÖĞRENCİLERİN DİKKATİNE!

1. Sınıf öğrenci yoklama listesinde belirtilen sınıfta ve sıra numarasında oturunuz.
2. Cevap kâğıdındaki kimlik bilgilerinin doğruluğunu kontrol ediniz.
3. Kitapçık türünü cevap kâğıdındaki ilgili alana kodlayınız.
4. Cevap kâğıdı üzerindeki kodlamaları kurşun kalemle yapınız.

**SINAV BAŞLAMADAN ÖNCE KİTAPÇIĞIN ARKA KAPAĞINDAKİ UYARILARI MUTLAKA OKUYUNUZ.**



1. “Havuz, havalı, havlu” sözcüklerinin sözlükteki sıralaması aşağıdakilerin hangisinde verilmiştir?

- A) Havalı-havlu-havuz
- B) Havuz-havlu-havalı
- C) Havlu-havalı-havuz
- D) Havalı-havuz-havlu

2. Çamaşırlar hâlâ ıslak, giyme onları.

Bu cümledeki altı çizili sözcüğün zıt anlamlısı aşağıdakilerin hangisinde vardır?

- A) Güneş evin duvarlarını ısıttı.
- B) Mangaldaki kuru odunlar çıtır çıtır yandı.
- C) Yaş toprağı bir kürekle kolayca kazdılar.
- D) Sıcak simidin arasına peynir koyup yedik.

3. “Oynamak” sözcüğü, aşağıdakilerin hangisinde “eşyanın herhangi bir parçasının kımıldaması, hareket etmesi” anlamında kullanılmıştır?

- A) Çimenler üzerinde çocuklar güzelce oynadı.
- B) Asansörle oynayan çocukları uyardım.
- C) Bu akşam televizyonda bizim dizi oynayacak.
- D) Sandalyenin ayağı oynuyor, adam düşebilir.

4. Bazı malzemelerden yararlanarak ortaya değişik ürünler koyarız. Bu yapılanlar elbette bir icat değildir - - - yine de insanın yaratıcılığını geliştirir.

Bu metindeki boşluğa aşağıdakilerden hangisi getirilmelidir?

- A) ama                      B) böylece                      C) veya                      D) sanki

5. 1. en zevkli  
2. yelken sporu  
3. dans etmenin  
4. rüzgârla

\_\_\_\_\_ yoludur.

Anlamli bir cümle oluşturmak için numaralanmış sözcükler, yukarıdaki boşluklara hangi sırayla yerleştirilmelidir?

- A) 1-4-3-2                      B) 2-4-3-1  
C) 3-4-2-1                      D) 4-2-1-3

6.



Oluş sırasına göre, bu görsellerin dizilişi aşağıdakilerden hangisidir?

- A) 1-3-4-2                      B) 1-4-2-3                      C) 3-1-2-4                      D) 3-4-2-1

7. Olimpiyat oyunları dört yılda bir yapılan, insanlar ve ülkeler arası barışı hedefleyen geniş kapsamlı bir spor organizasyonudur.

Bu cümlede "olimpiyatlara" ilgili aşağıdakilerden hangisine değinilmemiştir?

- A) Spor oyunu olduğuna
- B) Belirli zaman aralıklarında yapıldığına
- C) Dünyaca ünlü sporcuların yarıştığına
- D) Uluslararası barışı sağlamayı amaçladığına

8. Annem ile ben, Kırşehir'deki köyümüze gitmiştik. Teyzemin çiçeklerine bakıyordum. Çiçeklerin arasında parlayan bir iz dikkatimi çekti. Bu izi takip ettim ve küçük bir salyangoz gördüm. Boynuzları vardı. Daha yakından bakınca onların boynuz değil gözleri olduğunu anladım.

Bu metinde aşağıdaki hikâye unsurlarından hangisi yoktur?

- A) Yer
- B) Ana karakter
- C) Olay
- D) Zaman

9. Yağ hay mübarek  
Şarıl şarıl,  
Yıka taşları toprakları  
Tarlalar yeşerinceye dek.

Bu şiirde şair ne istemektedir?

- A) Güneşin çıkmasını
- B) Yağmur yağmasını
- C) Irmakların akmasını
- D) Kar yağmasını

10. Sunay Akın, 2005 yılında Göztepe’de İstanbul Oyuncak Müzesini kurmuştur. Oyuncak müzesi fikri, şairin 20 yıl önceki Almanya seyahatinde ortaya çıkmıştır. Topladığı eski oyuncakları bu müzede sergilemektedir. Burası, insanların keyifle gezebileceği bir yer. Müzedeki en eski oyuncak, 1817 yılında Fransa’da yapılan bir oyuncak kemandır.

**Bu metnin konusu aşağıdakilerden hangisidir?**

- A) İstanbul Oyuncak Müzesi
- B) Sunay Akın’ın hayatı
- C) Eğitici oyuncaklar
- D) İstanbul’da gezilecek yerler

11. Nihat, ayakkabısını kaybettiğinden maç yapmaya gidemedi.

**Altı çizili sözcük grubu aşağıdaki sorulardan hangisine cevap verir?**

- A) Kim?
- B) Nerede?
- C) Ne zaman?
- D) Niçin?

12. Uzmanlar, kan grubuna göre beslenmenin önemli olduğunu belirtiyor. Bu yüzden son günlerin en gözde diyetlerinden biri de kan grubuna göre beslenme. Örneğin, kan grubu 0 (sıfır) olanlar bol bol inek ve kuzu eti, meyve ve sebze tüketmeli. Süt ürünlerinden, patates ve mısırdan uzak durmalı.

**Metne göre, “0 (sıfır)” kan grubuna sahip biri diyet yaparken aşağıdakilerden hangisini yememelidir?**

- A) Portakal
- B) Yoğurt
- C) Ispanak
- D) Kırmızı et

13. Tatil, bazıları için sessiz sakin bir evde çayını içip kitabını okuyarak dinlenmedir. Bazıları için “deniz, güneş, kum” tatil anlamına geliyor. Bazıları macera arıyor, bazıları da yeni yerler görmeden yapamıyor.

Bu metinde asıl anlatılmak istenen aşağıdakilerden hangisidir?

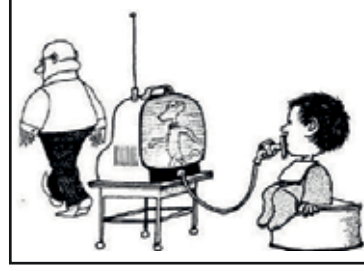

- A) İnsanların tatil anlayışı birbirinden farklı olabilir.
- B) Sakin insanlar tatillerini evde dinlenerek geçirmek ister.
- C) Tatil, herkes için zorunlu bir ihtiyaçtır.
- D) Tatil, görülmeyen yerlerin gezilmesidir.

14. Müzeyyen Çiftçi, son 15 yılda kumaş boyama, cam süsleme, bilgisayar, resim gibi 20'ye yakın kursu başarıyla bitirmiş. Ve okuma yazmayı da 70 yaşından sonra yine bir kursta öğrenmiş. Bu nedenle çevresindekiler ona “süper babaanne” diyor. Müzeyyen Çiftçi, 80 yaşında olmasına rağmen daha da bir şeyler öğrenmek istiyor.

Bu metinde asıl anlatılmak istenen nedir?

- A) Yaşlı insanların zamanı çoktur.
- B) Her şey kursta öğrenilir.
- C) Öğrenmenin yaşı yoktur.
- D) Büyükler daha çok şey bilir.

15.



Bu görseller aşağıdaki sorunlardan hangisi ile ilgilidir?

- A) Şişmanlık  
B) Televizyon bağımlılığı  
C) Oyuncaya düşkünlük  
D) Uykusuzluk

16.

**ANKARA GEZİSİ**

**Gezi Yerleri :** TBMM, Anıtkabir, Mogan Gölü, Elmadağ Kayak Merkezi

**Gidiş :** 22 Mart 2018

**Dönüş :** 25 Mart 2018

**Ücret :** 250 TL

**Geziye Katılabilecekler :** 5, 6, 7 ve 8. Sınıflar

Bu ilandan "Ankara gezisi" ile ilgili aşağıdakilerden hangisine ulaşılır?


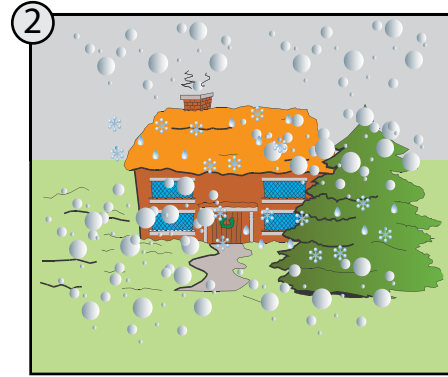

- A) Gidiş ve dönüş otobüsle olacaktır.  
B) Mogan Gölü'nde piknik yapılacaktır.  
C) Geziye ailelerin katılması zorunludur.  
D) Gezinin katılım ücreti bellidir.

17. (1) Anneannemle ben Konak İskelesi'nden vapura bindik. (2) İkinci kata çıkarak vapurun arkasına oturduk. (3) Dalgaları ve martıları izleyerek yolculuk etmek çok hoşuma gitmişti. (4) Vapur, iskeleye yanaşınca denizciler ellerindeki halatları iskeleye bağladılar.

Bu metindeki numaralanmış cümlelerin hangisinde duygu içeren bir ifade vardır?

- A) 1.                      B) 2.                      C) 3.                      D) 4.

18.



Görsellerde verilen olayların oluş sırası aşağıdakilerden hangisidir?

- A) 1-2-4-3                      B) 2-4-3-1  
C) 3-1-4-2                      D) 4-3-2-1

19. Yaaa ( ) Gelmeyecek misiniz ( ) O zaman haftaya görüşürüz ( )

Bu metinde ayraçlarla gösterilen yerlere sırasıyla aşağıdaki noktalam işaretlerinden hangileri gelmelidir?

A) (!) (.) (.)

B) (...) (.) (!)

C) (!) (?) (.)

D) (.) (?) (!)

20. Aşağıdaki altı çizili sözcüklerden hangisinin yazımı yanlıştır?


A) Yolculukta, köpeğim Fındık da yanımdaydı.

B) Sevdiğim tişörtümü kardeşim Barış giydi.

C) Kış mevsiminde Sivas çok soğuk olur.

D) Bahçemize renk renk Çiçek diktik.

TÜRKÇE TESTİ BİTTİ.  
MATEMATİK TESTİNE GEÇİNİZ.



1. 17 24 32 34 47 53

Poyraz yukarıdaki her bir sayının en yakın olduğu onluğu defterine yazıyor.

Poyraz aşağıdaki sayılardan hangisini defterine yazmamıştır?

A) 20

B) 30

C) 40

D) 50

2. Fırat ve kardeşinin paralarının toplamı 65 liradır.

Fırat'ın 27 lirası olduğuna göre kardeşinin kaç lirası vardır?

A) 38

B) 48

C) 82

D) 92

3. Aşağıdaki eşitliklerden hangisi yanlıştır?

A)  $3 + 3 + 3 + 3 = 4 \times 3$

B)  $7 + 7 + 7 = 3 \times 7$

C)  $10 + 10 = 2 \times 10$

D)  $1 + 1 = 1 \times 1$

4. Bir sepetteki portakalların bir kısmı 8 arkadaşta üçer üçer dağıtılıyor. Geriye 17 portakal kalıyor.

Dağıtılmadan önce sepette kaç portakal vardı?


A) 22

B) 24

C) 31

D) 41

5.



Bir köfteci 7 yarım ekmek, 6 çeyrek ekmek arası köfte hazırlıyor.

Bu köfteci bu iş için kaç bütün ekmek kullanmıştır?

A) 4

B) 5

C) 6

D) 9

6. Bir çiçekçi hazırladığı her bukette eşit sayıda karanfil kullanmaktadır. Bu çiçekçi hazırladığı 3 buket için toplam 18 karanfil kullanmıştır.

Buna göre bir bukette kaç karanfil vardır?

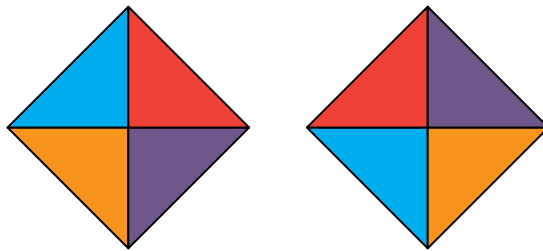
A) 6

B) 15

C) 21

D) 54

7.



1. Şekil

2. Şekil

1. şekle aşağıdaki hareketlerden hangisi uygulanarak 2. şekil elde edilmiştir?

- A) Saat yönünün tersinde yarım dönme
- B) Saat yönünün tersinde çeyrek dönme
- C) Saat yönünde tam dönme
- D) Saat yönünde çeyrek dönme

8. Funda 19'dan başlayıp ileriye doğru dörder sayıyor.

Funda bu saymada aşağıdaki sayılardan hangisini söyler?

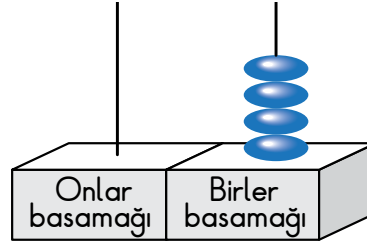
A) 32

B) 36

C) 47

D) 52

9.



Sinem abaküste iki basamaklı bir sayı oluşturacaktır. Oluşturacağı sayının basamak değerleri farkı 46'dır. Abaküste birler basamağının olduğu yere 4 boncuk takmıştır.

Buna göre onlar basamağının olduğu yere kaç boncuk takmalıdır?

A) 2

B) 4

C) 5

D) 6

10. Bir sıranın boyu 45 cm'dir. Sıranın eni, boyundan 17 cm daha kısadır.

Buna göre bu sıranın eni kaç santimetredir?


A) 28

B) 38

C) 42

D) 62

11.



Resimde bir mağazadaki gömlek ve eteğin fiyatları verilmiştir. Bu gömlek ve eteği alan Tülay'ın cebinde 13 lirası kalmıştır.

Tülay'ın başlangıçta kaç lirası vardı?

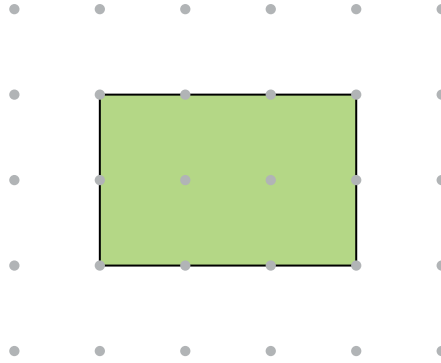
A) 70

B) 83

C) 86

D) 96

12.



Noktalı kâğıtta verilen şekil aşağıdaki geometrik cisimlerden hangisinin bir yüzü olamaz?

A) Küp

B) Üçgen prizma

C) Kare prizma

D) Dikdörtgenler prizması

13.



Tablolarda Suna ve Aylin'in paraları gösterilmiştir.

Buna göre Suna'nın parası Aylin'in parasından kaç lira fazladır?

- A) 14                      B) 16                      C) 29                      D) 45

14.  $54 - 16 = \blacktriangle$

$\blacktriangle - \blacksquare = 24$

Yukarıdaki işlemlerde  $\blacktriangle$  ve  $\blacksquare$  birer doğal sayıdır.

Buna göre  $\blacksquare$  kaçtır?

- A) 14                      B) 24                      C) 52                      D) 62

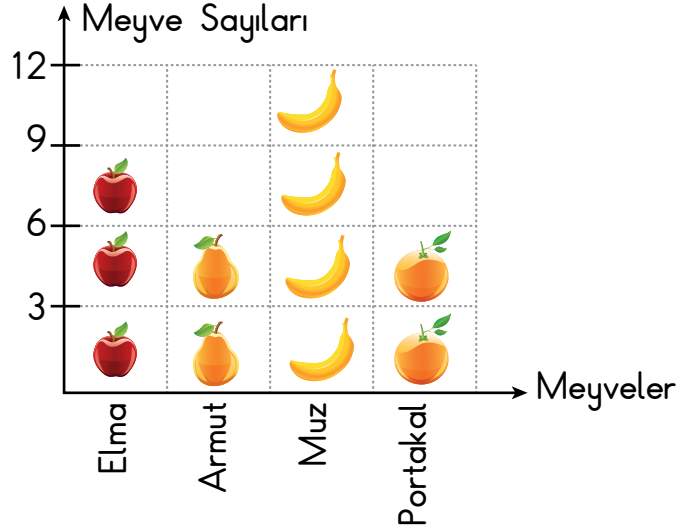
15. Bir toptancıdaki un çuvallarının her birinin kütlesi 15 kg'dır. Bu toptancı 2 çuval un ile 1 çuval şekeri tarttığında toplam kütle 48 kg geliyor.

Buna göre şeker çuvalı kaç kilogramdır?

- A) 6                      B) 9                      C) 12                      D) 18

16. Bir dolaptaki meyvelerin çeşitleri ve sayıları aşağıdaki nesne grafiğinde verilmiştir.

Grafik: Dolaptaki Meyvelerin Sayıları



Not : Her nesne 3 meyveyi göstermektedir.

Bu dolaptaki elma ve portakal dışında tüm meyveler bir kaba konuluyor.

Buna göre kaba konulan meyvelerin sayısı kaçtır?

- A) 6                      B) 12                      C) 18                      D) 24

17. Mehmet'in kol saatine göre duvar saati 45 dakika geri kalmıştır.

Kol saati 11.15'i gösterdiğine göre duvar saati kaç gösterir?

A)



B)



C)



D)



18.



Yukarıdaki nesnelere bir kurala göre dizilmiştir.

Bu örüntüde çizgiler yerine sırasıyla aşağıdakilerin hangisindeki şekiller getirilmelidir?

A)



B)



C)



D)



19. Erdem 80 sayfalık bir kitabı üç günde okumuştur. Birinci gün bu kitabın 26 sayfasını, ikinci gün 19 sayfasını okumuştur.

Buna göre Erdem üçüncü gün kaç sayfa kitap okumuştur?

A) 21

B) 35

C) 47


D) 59

20. "Bir sepetteki 15 yumurtanın 3 tanesi kullanılmıştır. Geriye kaç yumurta kalmıştır?"

Yukarıdaki problemin çözümünde çokluklar arasındaki ilişki aşağıdakilerin hangisinde verilmiştir?

- A) Kalan yumurta sayısı = Sepetteki yumurta sayısı + Kullanılan yumurta sayısı
- B) Sepetteki yumurta sayısı = Kalan yumurta sayısı - Kullanılan yumurta sayısı
- C) Kalan yumurta sayısı = Sepetteki yumurta sayısı - Kullanılan yumurta sayısı
- D) Sepetteki yumurta sayısı = Kullanılan yumurta sayısı - Kalan yumurta sayısı

MATEMATİK TESTİ BİTTİ.  
HAYAT BİLGİSİ TESTİNE GEÇİNİZ.



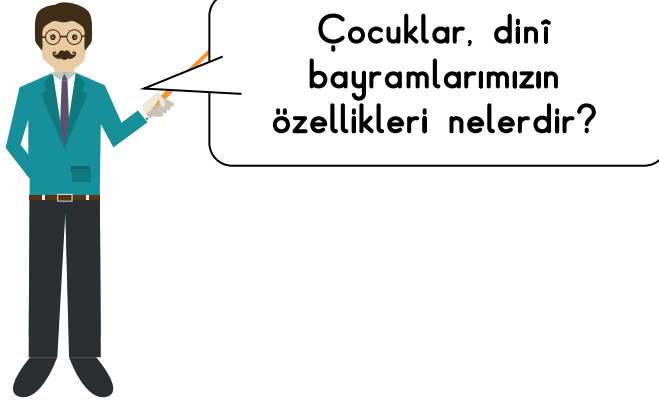
1. Türk Bayrağı kırmızı zemin üzerindeki beyaz ay ve - - - - oluşur.

Bu cümledeki boşluğa yazılması uygun olan kelime aşağıdakilerden hangisidir?

A) kareden  
C) yıldızdan

B) güneşten  
D) oktan

2.



Kemal Öğretmen'in sorusuna öğrencilerin verdikleri cevaplar şunlardır:

**Metin** : Misafirlere ikramlarda bulunulur.

**Kardelen** : Kutlanış şekli millî bayramlarla aynıdır.

**Sibel** : İnsanlar birbirleriyle yardımlaşır.

**Can** : Bayram namazına gidilir.

**Bu öğrencilerden hangisinin verdiği cevap yanlıştır?**

A) Metin

B) Sibel

C) Can

D) Kardelen

3. Aşağıdakilerden hangisi bağımsızlığımızın sembolüdür?

- A) Bayrağımız
- B) Yetiştirdiğimiz ürünler
- C) Türkülerimiz
- D) Yöresel oyunlarımız

4. 23 Nisan'da Türkiye Büyük Millet Meclisini ziyaret etmek isteyen bir çocuk hangi şehre gitmelidir?

- A) Ankara
- B) İstanbul
- C) Samsun
- D) İzmir

5.



Bu resimde aşağıdaki bayramlardan hangisi kutlanıyor olamaz?

- A) Cumhuriyet Bayramı
- B) Kurban Bayramı
- C) Zafer Bayramı
- D) Atatürk'ü Anma ve Gençlik ve Spor Bayramı

6. Serpil Öğretmen, okulların açıldığı hafta öğrencilerine sınıfta düzenin sağlanması için bazı kurallar koyulması gerektiğini söylemiştir.

Uyulması gereken bu kurallar aşağıdakilerden hangisiyle belirlenmelidir?

- A) Sınıf başkanının kararıyla  
B) Müdürün görüşüyle  
C) Öğrencilerin oy çokluğuyla  
D) Velilerin istekleriyle

7. Aşağıda millî bir bayram için poster hazırlayan Ali'nin çalışması gösterilmiştir.



Ali'nin hazırladığı bu poster hangi bayram ile ilgilidir?

- A) Ulusal Egemenlik ve Çocuk Bayramı  
B) Zafer Bayramı  
C) Cumhuriyet Bayramı  
D) Atatürk'ü Anma ve Gençlik ve Spor Bayramı

8. Ece'nin yaşadığı mahallede onarım ve bakım çalışmaları yapılacağı için elektriklerin iki gün kesileceği duyuruldu.

Buna bağlı olarak Ece'nin evi ve mahallesinde aşağıdaki durumlardan hangisinin yaşanması beklenir?

- A) Okullar tatil edilir.
- B) Buzdolabındaki yiyecekler bozulur.
- C) Belediyenin otobüs seferleri iptal olur.
- D) Gazete ve dergi satışları durdurulur.

9. Annesiyle taksiye binen Selin;

- 1 - Çağırıldıkları taksinin arka koltuğuna oturdu.
- 2 - İlk iş olarak emniyet kemerini taktı.
- 3 - Yolculuk boyunca taksi şoförüyle sohbet etti.
- 4 - Okuluna geldiğinde taksi tamamen durunca kaldırım tarafından indi.

Selin, kaç numarayla başlayan cümlede yanlış bir davranış göstermiştir?

- A) 1                      B) 2                      C) 3                      D) 4

10. Türkiye'nin çevresindeki denizler aşağıdaki haritada numaralandırılarak gösterilmiştir.



Bu denizler aşağıdakilerin hangisinde doğru olarak verilmiştir?

	1	2	3
A)	Karadeniz	Ege	Akdeniz
B)	Karadeniz	Akdeniz	Ege
C)	Ege	Akdeniz	Karadeniz
D)	Akdeniz	Ege	Karadeniz

11. Aşağıdakilerden hangisi sel ve taşkın afetine bağlı olarak yaşanmaz?

- A) Ev ve iş yerlerini su basar.
- B) Tarım alanları zarar görür.
- C) Can kayıpları yaşanabilir.
- D) Yer sarsıntısı meydana gelir.




12.



Güneşin doğduğu zamanı gösteren yukarıdaki resimde okulun güneyinde aşağıdakilerden hangisi bulunmaktadır?

- A) Traktör  
B) Çeşme  
C) Bahçe  
D) Evler

13. Aşağıdaki görsellerde doğal yaşam alanlarındaki bazı canlılar verilmiştir.



Resimlerde verilen canlılar için hangisi doğrudur?

- A) Bazen suda yaşarlar.  
B) Yaşamak için havaya ihtiyaç duyarlar.  
C) Hepsi de besinlerini insanlardan alır.  
D) Yedikleri besinler aynıdır.


14. Murat, doğal afetler konusunda aşağıdaki açıklamaları defterine yazmıştır.

- Yer kabuğunun çatlama sonucu oluşur ve şiddetli sarsıntı yapabilir.
- Şiddetli yağın yağmur can ve mal kaybına yol açabilir.
- Toprağın aşağı doğru hareket etmesi ile yerleşim alanları ve yollar zarar görebilir.

Murat'ın yaptığı bu açıklamalar ile aşağıda verilenler eşleştirildiğinde hangisi açıkta kalır?

- A) Deprem      B) Heyelan      C) Sel      D) Rüzgâr

15. Ahmet, bir ağaç fidanını şekildeki gibi saksıya dikmiştir.



Ahmet, diktiği fidanın büyümesi için aşağıdakilerden hangisini yapmalıdır?

- A) Su vermeden odadaki masa üzerine koymalı  
B) Buzdolabına koyup düzenli olarak sulamalı  
C) Kapalı bir kutu içine koymalı  
D) Işık alan bir yere koyup düzenli olarak sulamalı

16. Beril'in babası elektrik, doğal gaz ve su tüketimlerinin fazla olduğunu fark etmiştir. Bunun için ailece kaynak kullanımında bazı önlemler almışlardır.

Aşağıdakilerden hangisi bu önlemlerden biri olamaz?

- A) Evde gereksiz yanan ışıkları söndürmek
- B) Su damlatan muslukları tamir ettirmek
- C) Kalorifer yanarken pencereyi açmak
- D) Diş fırçalarken musluğu gerekli olunca açmak

17. Pınar bir gün boyunca tükettiği besinleri şekildeki gibi yazmıştır.

Sabah kahvaltısı	Öğle yemeği	Akşam yemeği
Ekmek Bisküvi Gazoz	Çorba Nohut yemeği Bulgur pilavı	Fasulye yemeği Marul, domates salatası Ayrın

Buna göre Pınar, hangi öğünlerinde dengeli beslenmiştir?

- A) Yalnız sabah kahvaltısı
- B) Öğle ve akşam yemeği
- C) Sabah kahvaltısı ve öğle yemeği
- D) Sabah kahvaltısı ve akşam yemeği

18. Ali bir konu hakkında aşağıdakileri söylemiştir.



- \* Tuvaletten çıkınca ellerimi yıkarım.
- \* Meyve ve sebzeleri yıkamadan yemem.
- \* Günde iki kez dişlerimi fırçalarım.

Ali, bu ifadeleriyle hangi konuyu anlatmıştır?

- A) Sağlıklı yaşam
- B) Bilinçli tüketim
- C) Büyüme ve gelişme
- D) Dengeli beslenme

19. Aşağıda insanların bazı davranışları verilmiştir:

1. Geç uyuyup, erken kalkmak
2. Yeterli ve dengeli beslenmek
3. Düzenli spor yapmak
4. Sürekli ilaç kullanmak

Verilenlerden hangileri sağlıklı yaşam için doğru davranışlardır?

- A) 1 ve 4.
- B) 2 ve 3.
- C) 3 ve 4.
- D) 2, 3 ve 4.

20. Ayşe, meslekleri incelediği bir çalışmada aşağıdaki görsele bakmaktadır.



Görseldeki kişinin mesleği aşağıdakilerden hangisidir?

A) Hemşire

B) Eczacı

C) Diş doktoru

D) Öğretmen



TEST BİTTİ.  
CEVAPLARINIZI KONTROL EDİNİZ.







## SINAV BAŞLAMADAN AŞAĞIDAKİ UYARILARI MUTLAKA OKUYUNUZ!

1. Öğrenciler, sınav kurallarına ve salon görevlilerinin tüm uyarılarına uymak zorundadırlar.
2. Cevap kâğıdındaki kimlik bilgilerinin doğruluğunu kontrol ediniz. Bilgiler size ait değilse veya cevap kâğıdı kullanılmayacak durumdaysa sınav görevlilerine bildirin.
3. Sınav başladıktan sonra öğrencilerin salon görevlileri ve birbirleri ile konuşmaları, kalem, silgi vb. şeyleri istemeleri yasaktır.
4. Değiştirmek istediğiniz bir cevabı, yumuşak silgiyle cevap kâğıdını yıpratmadan temizce siliniz ve yeni cevabınızı kodlayınız.
5. Cevap kâğıdınızı silinmeyen bir kalemle imzalayınız.
6. Cevaplarınızı, cevap kâğıdındaki ilgili soru numarasını dikkate alarak yuvarlağın dışına taşırmadan kodlayınız.
7. Soru kitapçığının sayfalarını kontrol ediniz, baskı hatası var ise değiştirilmesini sağlayınız.
8. Soru kitapçığı üzerinde yapıp cevap kâğıdına işaretlenmeyen cevaplar değerlendirmeye alınmayacaktır.
9. Soru kitapçığının içindeki boş alanları çözümlerinizi için kullanabilirsiniz.
10. Cevaplamaya istediğiniz sorudan başlayabilirsiniz.
11. Cevabını bilmediğiniz sorular üzerinde fazla zaman kaybetmeden diğer sorulara geçiniz. Zamanınız kalırsa bu sorulara daha sonra dönebilirsiniz.
12. Sınav puanınızın hesaplanmasında 3 yanlış 1 doğru cevabınızı götürcektir. Alt testler bu şekilde hesaplanarak net puanlarının toplamı toplam net puanınızı verecektir.
13. Sınav bitiminde, soru kitapçığı ve cevap kâğıdını salon görevlilerine teslim ediniz.
14. Sınav sırasında çanta, cep telefonu, saat, kablosuz iletişim sağlayan cihazlar ve kulaklık, kolye, küpe, bilezik, yüzük, broş ve benzeri eşyalar ile her türlü elektronik ve/veya mekanik cihazları yanınızda bulundurmuyunuz. Bu araçları yanınızda bulundurmanız ve kopya çekmeye teşebbüs etmeniz hâlinde sınavınız geçersiz sayılacaktır.
15. Cevap kâğıdınızı sınav süresince hiçbir öğrencinin göremeyeceği şekilde önünüzde bulundurunuz.
16. Sınavınızın değerlendirilmesi aşamasında, toplu kopya tespiti veya başka adayın sınav evrakını kullanmanız durumunda sınavınız geçersiz sayılacaktır.
17. Soruları ve sorulara verdiğiniz cevapları kaydetmeyiniz, hiçbir şekilde dışarı çıkarmayınız.
18. İlk 15 dakika dışarı çıkılmayacaktır.
19. Sınav evraklarını teslim etmeyenlerin sınavı geçersiz sayılacaktır.

### SINAV GÖREVLİLERİNCE SINAV BAŞLAMADAN ÖNCE ÖĞRENCİLERE YAPILACAK SON UYARI!

- Soracağınız bir şey var mı? Varsa, şimdi sorunuz.
- Sınav başladıktan sonra sorularınıza cevap verilmeyecektir.
- Başlama zilini bekleyiniz.

**Hepinize başarılar dileriz.**

**(Sınav görevlisi başlama ve bitiş saatini tahtaya yazacaktır.)**

Bu kitapçığın her hakkı saklıdır. Hangi amaçla olursa olsun, kitapçığın tamamının veya bir kısmının Millî Eğitim Bakanlığı Ölçme, Değerlendirme ve Sınav Hizmetleri Genel Müdürlüğü'nün yazılı izni olmadan kopya edilmesi, fotoğraflarının çekilmesi, bilgisayar ortamına alınması, herhangi bir yolla çoğaltılması, yayımlanması veya başka bir amaçla kullanılması yasaktır. Bu yasağa uymayanlar, doğabilecek cezai sorumluluğu ve kitapçığın hazırlanmasındaki mali külfeti peşinen kabullenmiş sayılır.

**9 HAZİRAN 2018 TARİHİNDE YAPILAN VEHBİ KOÇ VAKFI,  
ÖZEL KOÇ İLKOKULU VE ORTAOKULU SEVİYE TESPİT SINAVI  
3. SINIFLAR "B" KİTAPÇIĞI CEVAP ANAHTARI**

<b>TÜRKÇE</b>	<b>MATEMATİK</b>	<b>HAYAT BİLGİSİ</b>
1. A	1. C	1. C
2. B	2. A	2. D
3. D	3. D	3. A
4. A	4. D	4. A
5. B	5. B	5. B
6. C	6. A	6. C
7. C	7. B	7. D
8. D	8. C	8. B
9. B	9. C	9. C
10. A	10. A	10. A
11. D	11. D	11. D
12. B	12. A	12. A
13. A	13. B	13. B
14. C	14. A	14. D
15. B	15. D	15. D
16. D	16. C	16. C
17. C	17. D	17. B
18. B	18. A	18. A
19. C	19. B	19. B
20. D	20. C	20. C