

3.
SINIF



B
KİTAPÇIK TÜRÜ

T.C.
MİLLÎ EĞİTİM BAKANLIĞI
ÖLÇME, DEĞERLENDİRME VE SINAV HİZMETLERİ
GENEL MÜDÜRLÜĞÜ

VEHBİ KOÇ VAKFI, KOÇ ÖZEL İLKOKULU VE ORTAOKULU SEVİYE TESPİT SINAVI
(2. Sınıftan 3. Sınıfa Geçenler)
26 MAYIS 2019 Saat: 10.00

Adayın Adı ve Soyadı :

Aday Numarası (T.C. No) :

DERS ADI	SORU SAYISI	TOPLAM SORU SAYISI	SINAV SÜRESİ (DAKİKA)
TÜRKÇE	20	60	80
MATEMATİK	20		
HAYAT BİLGİSİ	20		

ÖĞRENCİLERİN DİKKATİNE!

1. Sınıf öğrenci yoklama listesinde belirtilen sınıfta ve sıra numarasında oturunuz.
2. Cevap kâğıdındaki kimlik bilgilerinin doğruluğunu kontrol ediniz.
3. Kitapçık türünü cevap kâğıdındaki ilgili alana kodlayınız.
4. Cevap kâğıdı üzerindeki kodlamaları kurşun kalemle yapınız.

SINAV BAŞLAMADAN ÖNCE KİTAPÇIĞIN ARKA KAPAĞINDAKİ UYARILARI MUTLAKA OKUYUNUZ.

1. Şehirden taşınmadan önce en sevdiğim arkadaşıma armağanım, bir kitap oldu.

Bu cümledeki altı çizili sözcüğün eş anlamlısı aşağıdakilerin hangisinde vardır?

- A) Ailem bana doğum günümde sürpriz yaptı.
- B) Kitabevinden, yeni sayısı çıkan çocuk dergilerini aldık.
- C) Annem genellikle bana eğitici oyuncaklar alır.
- D) Yarışmada dereceye girenlerin hediyelerini ben verdim.

2. “Kalmak” sözcüğü aşağıdaki cümlelerin hangisinde “oturmak, yaşamak” anlamında kullanılmıştır?

- A) Hastalanınca üç ay kadar benimle beraber kaldı.
- B) Mağazada bir süre takı tezgâhının önünde kalmış.
- C) Bu köstekli saat ona dedesinden kalmış.
- D) Fırındaki yemek yanınca mutfak duman içinde kaldı.

3. Satrançta başarısız olacağını sanmıştı - - - - galip geldi.

Bu cümlede boş bırakılan yere anlam akışına göre aşağıdaki sözcüklerden hangisi getirilemez?

- A) ama
- B) çünkü
- C) ancak
- D) fakat

4. Aşağıdaki cümlelerin hangisinde zıt anlamlı sözcükler bir arada kullanılmıştır?

- A) Kadın hızlı adımlarla gelip masasının başına oturdu.
- B) Onu soracak birisi olursa adresini vermemi söyledi.
- C) Yaptığım böreğin altı da üstü de güzel pişmiş.
- D) Aslında iyi konuşurdu ama biraz heyecanlandı.

5. Aşağıdaki sözcükler alfabetik sıraya göre dizildiğinde hangisi en sonda yer alır?

- A) Yatırım B) Yakın C) Yatak D) Yaka

6. Aşağıdaki cümlelerin hangisinde beğenme anlamı vardır?

- A) Henüz gün doğmamışken uyanıp çalışmaya başladım.
- B) Küçükken arabalı vapurları hep merak ederdim.
- C) Birbirlerini uzun süredir görmediklerinden hasretle sarıldılar.
- D) Keman çalmayı yeni öğrenmesine rağmen hepimizi etkiledi.

7. 1. korkuluğun
2. şapka
3. tarladaki
4. başına

_____ taktık.

Anlamlı bir cümle oluşturmak için numaralanmış sözcükler yukarıdaki boşluklara hangi sırayla getirilmelidir?

- A) 1-4-2-3 B) 1-2-4-3 C) 3-1-4-2 D) 3-4-2-1

8. Özellikle dağ sporlarında kaza sonucu yaralanmalar olabiliyor. Böyle durumlarda en kısa sürede yardım gelmesi için kazazedenin yerinin bilinmesi çok önemli. İşte bunun için bilim insanları, insansız akıllı uçak icat etti. Bu uçakları, herhangi bir pilotun yönlendirmesi gerekmiyor. Çünkü teknolojik beyinleri var. Bu sayede uçak, kendi başına belirli bir alanı tarayarak tespit ettiği kazazedeleri merkeze bildiriyor. Böylece çok kısa sürede onlara ulaşılabilir.

Bu metnin konusu aşağıdakilerden hangisidir?

- A) Teknolojinin insan ilişkilerine etkisi
B) İnsansız uçakların faydası
C) Dağ sporlarının zorlukları
D) Bilim insanlarının araştırmaları

9. 1. Aldığımız sütün tamamını yoğurt yapmak için kullandık.
2. Ağabeyim sofradan kalkarken market yoğurtlarından daha lezzetli olmuş, dedi.
3. Annemle birlikte, mahallemize gelen sütçüden taze süt aldık.
4. Akşam yemeğinde kendi yaptığımız yoğurdu ailece yedik.

Numaralanmış cümleler olayların oluş sırasına göre nasıl sıralanmalıdır?

- A) 4-2-1-3 B) 4-1-2-3 C) 3-4-1-2 D) 3-1-4-2

10. Ben doğayı ve seyahat etmeyi çok seviyorum. Mesleğim sayesinde vakitimin büyük bir çoğunluğunu doğada geçiriyorum. Sık sık yurt dışı iş seyahatlerine gidiyorum. O yüzden tatil ihtiyacı hissetmiyorum. Mesleğimin özellikle bu yönünü çok seviyorum.

Bu metin aşağıdaki sorulardan hangisine cevap vermektedir?

- A) Doğada nasıl vakit geçiriyorsunuz?
B) Mesleğinizin en sevdiğiniz yanı nedir?
C) Tatil deyince aklınıza ne geliyor?
D) Sürekli seyahat etmek sizi yoruyor mu?

11. Güneş girmeyen eve doktor girer.

Bu sözle anlatılmak istenen aşağıdakilerden hangisidir?

- A) Güneş, insan sağlığı için çok önemlidir.
B) Doktorlar, güneş alan yerde çalışırlar.
C) Binaların pencereleri büyük yapılmalıdır.
D) Evler güneşe karşı inşa edilmelidir.

12. Uçurtma şenliği için hazırlandım. Arkadaşım Kerem de bu şenliğe gitmek için beni kapıda bekliyor. Ama uçurtmamın ipi karışmış, açamıyorum. Uçurtmamın ipini en kolay Ebrar çözebilir, o da alışverişe gitmiş. Ne yapacağımı şaşırmış durumdayım.

Bu parçada aşağıdaki hikâye unsurlarından hangisi yoktur?

- A) Yer B) Kişi C) Zaman D) Olay

13. Güzel bir yaz sabahıydı. Nihal, pencereden cıvı cıvı öten kuşları dinliyordu. Bir süre gökyüzüne baktı. Keşke kuşlar gibi uçabilseydim, diye düşündü. O sırada annesi kahvaltıya çağırdı.

Bu metinde aşağıdaki duyulardan hangisine yer verilmiştir?

- A) Tatma B) İşitme C) Koklama D) Dokunma

14. Milyarlarca yıl önce, yalnız başına dönüp duran, kocaman ama çok kocaman bir gök cismi doğmuş. Biz ona güneş diyoruz. Koca güneş, uzay boşluğunda, diğer gök cisimlerinden çok uzakta dönüp duruyormuş. İssiz bir yerde yalnız başınıza dönüp dursanız, canınız sıkılmaz mı? Sıkılır elbette.

Bu parçada “güneş” ile ilgili aşağıdakilerden hangisine değnilmemiştir?

- A) Tek başına olduğuna
B) Büyüklüğüne
C) Çok sıcak olduğuna
D) Ne zaman ortaya çıktığına

15. Yattığım yerden pencereye baktım. Kar mı yağıyordu () Emin olmak için yataktan kalktım ve pencerenin önüne geldim () Yaşasın () Gerçekten kar yağıyordu.

Bu metinde ayraçlarla gösterilen yerlere sırasıyla aşağıdaki noktalama işaretlerinden hangileri getirilmelidir?

- A) (.) (,) (!) B) (?) (,) (.) C) (!) (,) (?) D) (?) (,) (!)

16. Aşağıdaki cümlelerin hangisinde büyük harflerin yazımıyla ilgili bir yanlışlık yapılmıştır?

- A) Bu sene ramazan bayramı kuzenim Cenk'le çok hareketli geçecek.
B) Tavşanım Kaju sevimliliğiyle mahalledekilerin ilgi odağı oldu.
C) Hafta sonu, yakın arkadaşımın yanına Bolu'ya gideceğim.
D) Derginin mart sayısında Bahar'ın yazdığı şiir de yer alacak.

17. Tablo: Film Türlerinin Yıllara Göre Seyirci Sayısı

	2015	2016	2017
Komedi	5 milyon	6 milyon	6 milyon
Duygusal	5 milyon	5 milyon	3 milyon
Macera	4 milyon	5 milyon	7 milyon

Bu tabloya göre aşağıdakilerden hangisi söylenebilir?

- A) Komedi filmlerinin seyirci sayısı sürekli azalmıştır.
B) Komedi filmleri en çok 2015'te seyredilmiştir.
C) Duygusal filmler en az 2016'da izlenmiştir.
D) Macera filmlerinin seyirci sayısı sürekli artmıştır.

18.



Bu görseldeki bilgilere göre "kangurular" ile ilgili aşağıdakilerden hangisi söylenemez?

- A) Kuyruğuyla dengesini sağlar.
- B) Geriye doğru zıplayamaz.
- C) Yavrularını kesesinde gezdirebilir.
- D) Ön bacakları gelişmemiştir.


19. Fırat, denizi çok severdi. Boğaz'da manzarayı izlemek ve Boğaz'ın serin sularına dalmaktan çok keyif alırdı. Bilmeyenlerin korkulu rüyası olan denizdeki akıntı Fırat için dosttu. Çünkü akıntının onu nereye sürükleyeceğini bilirdi. Boğazın dibindeki akıntıya kapılmış neler vardı, neler! Balık sürüleri, kitaplar, kıyafetler, şapkalar, sahibini bir türlü bulamamış mektuplar...

Bu metni en iyi ifade eden görsel aşağıdakilerden hangisidir?

A)




B)



C)



D)



20. Yaptığı binalar için tasarladığı kapılarla ünlü mimarın eserlerinde; sarı duvar rengi, kabartmalı desenli ve mavi renkli kapılar dikkat çeker. Buna göre aşağıdakilerden hangisi bu mimarın tasarladığı eserlerden biridir?

A)



B)




C)



D)



TÜRKÇE TESTİ BİTTİ.
MATEMATİK TESTİNE GEÇİNİZ.



1. Alya, 4'ten başlayarak ileriye doğru dörder ritmik sayıyor. Berk, 30'dan başlayarak geriye doğru beşer ritmik sayıyor.

Alya'nın söylediği beşinci sayı ile Berk'in söylediği kaçınıcı sayı birbirine eşittir?

- A) İkinci B) Üçüncü C) Dördüncü D) Beşinci

2. ★ ★ ■ ● ● ▲ ★ ★ ■ ● ● ▲ ★ _ _ _ _ _

Verilen örüntüde boş bırakılan yerlere sırasıyla aşağıdakilerden hangisi gelmelidir?

- A) ● ● ▲ ★ ■

- B) ★ ★ ■ ● ●

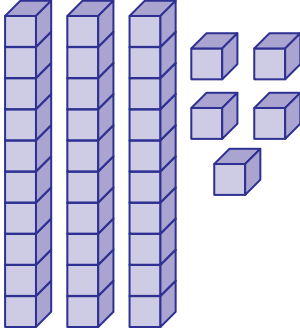
- C) ● ▲ ★ ■ ●

- D) ★ ■ ● ● ▲

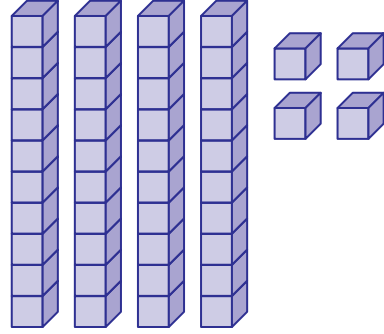
3. İki basamaklı bir sayıdaki rakamların basamak değerleri 40 ve 5'tir.

Buna göre bu sayının modellenmiş şekli aşağıdakilerden hangisidir?

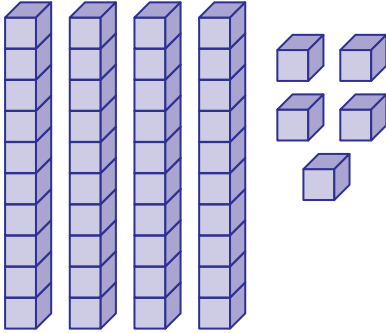
A)



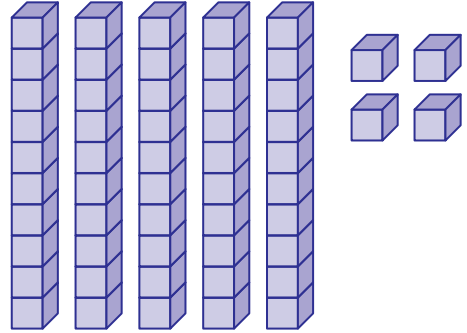
B)



C)



D)



4. Ahmet'in 3 deste, Onur'un 2 düzineden 4 eksik boya kalemi vardır.

Ahmet ve Onur'un toplam kaç boya kalemi vardır?

A) 70

B) 60

C) 50

D) 40

5. Öğretmen, Ali'nin defterine yazdığı sayıdan 26'yı çıkarmasını istiyor. Ali, çıkarma işlemi yerine toplama işlemi yaparak sonucu 56 buluyor.

Ali bu çıkarma işlemini doğru yapsaydı sonucu kaç bulurdu?

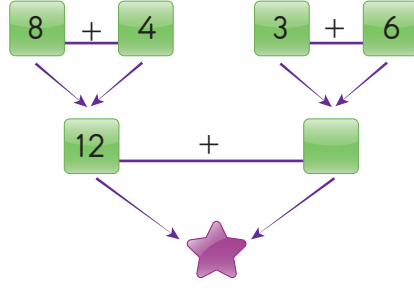
- A) 4 B) 6 C) 26 D) 30

6. Boş bir otobüse ilk durakta yolcular biniyor. İkinci durakta 20 yolcu inip 11 yolcu biniyor.

Son durumda otobüste 40 yolcu olduğuna göre ilk durakta kaç yolcu binmiştir?

- A) 20 B) 29 C) 49 D) 51

7.



Şekildeki toplama işlemine göre  yerine yazılması gereken sayı kaçtır?

A) 14

B) 21

C) 30

D) 33

8.



Vazolardaki toplam çiçek sayısını gösteren işlem aşağıdakilerden hangisidir?

A) 6×2 B) 6×3 C) 6×4 D) 6×5

9. $20 - 4 = 16$ Yandaki ardışık çıkarma işleminin bölme işlemi
 $16 - 4 = 12$ şeklinde gösterilişi aşağıdakilerden hangisidir?
 $12 - 4 = 8$
 $8 - 4 = 4$
 $4 - 4 = 0$

A) $12 \div 4 = 3$

B) $16 \div 4 = 4$

C) $20 \div 5 = 4$

D) $20 \div 4 = 5$

10. Aşağıdakilerden hangisinde verilenler 2 bütün elma oluşturur?

A) 4 çeyrek elma

B) 4 yarım elma

C) 1 yarım, 3 çeyrek elma

D) 1 yarım, 6 çeyrek elma

11. 12 öğrencinin her biri gitar, piyano ve keman kurslarından birine katılmıştır. Her kursta eşit sayıda öğrenci vardır.

Buna göre piyano kursuna kaç öğrenci katılmıştır?

- A) 3 B) 4 C) 6 D) 8

12. Ahmet'in odasında 8 tane raf vardır. Rafların her birinde 5 oyuncak vardır.

Bu raflarda toplam kaç oyuncak vardır?

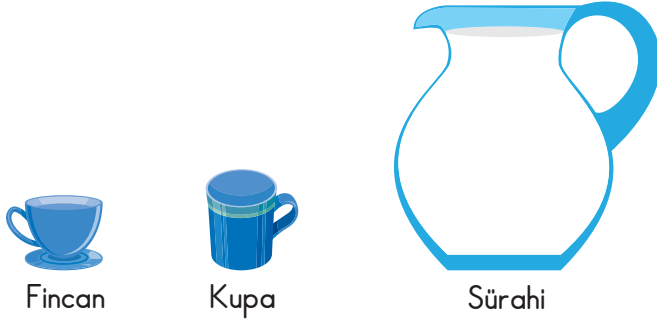
- A) 13 B) 24 C) 32 D) 40

13. Kerem'in 16 tane cevizi vardır. Onur'un cevizlerinin sayısı Kerem'in cevizlerinin sayısından 21 fazladır.

Kerem ve Onur'un cevizlerinin toplam sayısı kaçtır?

- A) 53 B) 42 C) 37 D) 32

14.



Ayşe, Berna ve Fatma şekildeki dolu sürahiden süt içmektedir. Ayşe ve Berna üçer fincan, Fatma 1 kupa süt içmiştir. Sürahi 12 fincan, kupa 2 fincan süt ile dolmaktadır.

Buna göre sürahide kaç fincan süt kalmıştır?

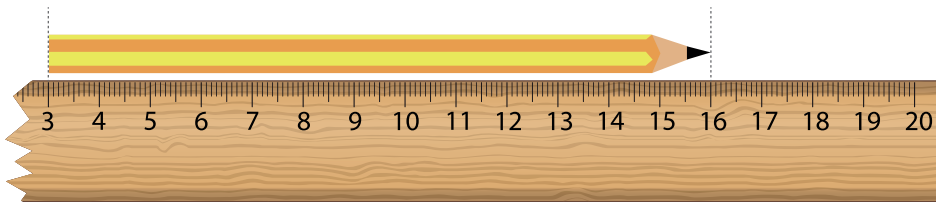
A) 5

B) 4

C) 3

D) 2

15.



Öğretmen tüm öğrencilerden kalemlerinin boyunu cetvelle ölçmesini istemiştir. Özlem'in cetveli kırıldığı için kaleminin boyunu şekildeki gibi ölçmüştür.

Buna göre Özlem'in kaleminin boyu kaç santimetredir?

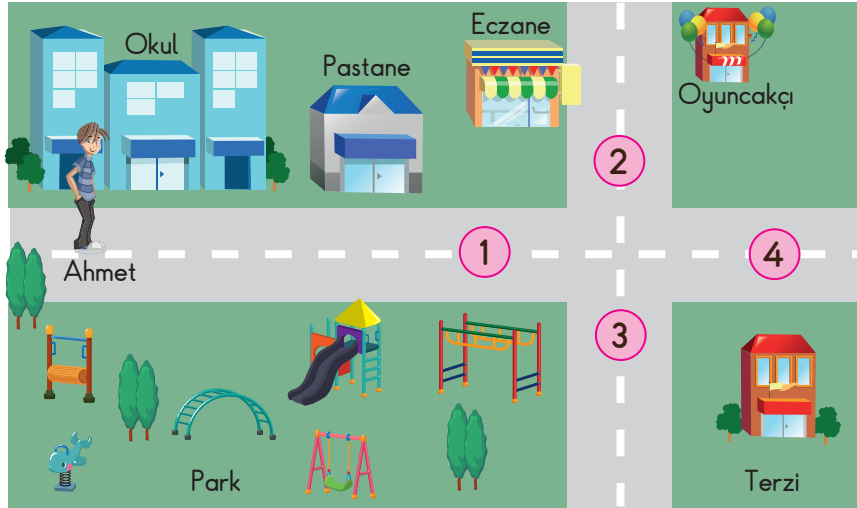
A) 19

B) 16

C) 13

D) 10

16.



Ahmet bulunduğu konumdan oyuncakçıya gidecektir.

Buna göre Ahmet'in gideceği yolun resme göre tarifi aşağıdakilerden hangisidir?

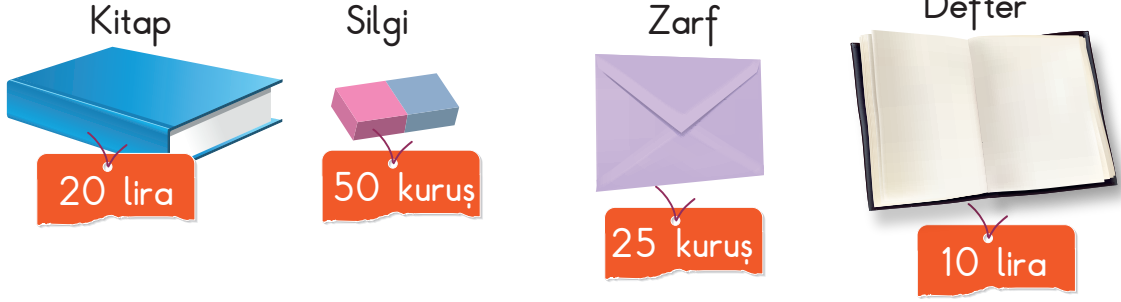
- A) Doğru yürü, 2 nolu yola gir, ileride solda
- B) Doğru yürü, 3 nolu yola gir, ileride solda
- C) Doğru yürü, 3 nolu yola gir, ileride sağda
- D) Doğru yürü, 2 nolu yola gir, ileride sağda

17. "18 Mart Çanakkale Şehitlerini Anma Günü" sebebiyle 18 Mart 2019'da Çanakkale'ye okul gezisi yapılacaktır. Bugünün tarihi 8 Mart 2019 ve günlerden Cuma'dır.

Buna göre okul gezisi hangi gün yapılacaktır?

- A) Pazartesi
- B) Salı
- C) Cumartesi
- D) Pazar

18.



Ceren yukarıda fiyatları verilen ürünlerden 1 kitap, 2 silgi, 4 zarf ve 2 defter satın almıştır.

Buna göre Ceren aldığı ürünler için toplam kaç lira ödemiştir?

A) 42

B) 41

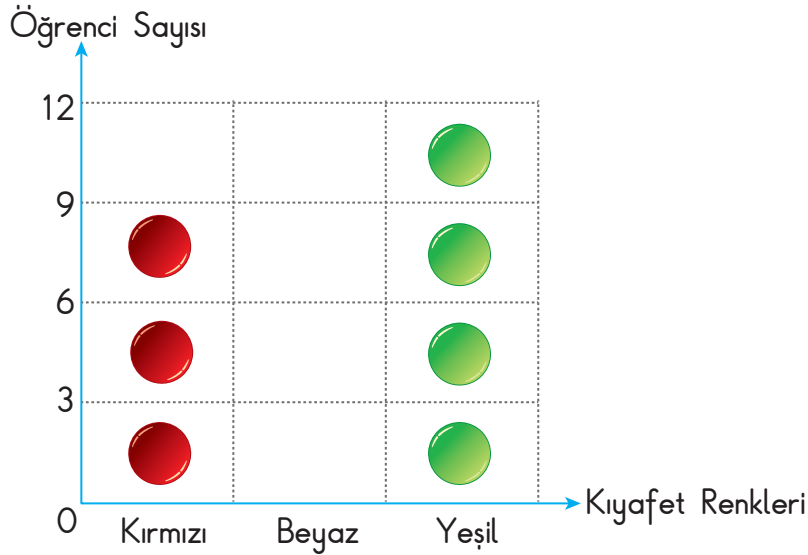
C) 32

D) 31

19. 27 kişilik bir bando ekibinin kıyafetleri kırmızı, beyaz ve yeşildir.

Nesne grafiğinde kırmızı ve yeşil kıyafet giyen öğrenciler gösterilmiştir.

Grafik: Kıyafet Renklerine Göre Öğrenci Sayıları



Not: Her şekil 3 öğrenciyi göstermektedir.

Buna göre grafikte beyaz kıyafet giyen öğrenciler için kaç tane şekil olmalıdır?

A) 6

B) 5

C) 3

D) 2

20. Aşağıdaki geometrik cisimlerden hangisinin köşesi yoktur?


A)



B)




C)



D)



MATEMATİK TESTİ BİTTİ.
HAYAT BİLGİSİ TESTİNE GEÇİNİZ.



1. Aşağıdakilerden hangisi iyi bir dinleyicinin özelliklerinden biri değildir?

- A) Dinlerken başka işlerle uğraşır.
- B) Konuşan kişiyle göz teması kurar.
- C) Konuşan kişinin söylediklerini önemser.
- D) Söz almak için konuşmacının sözünün bitmesini bekler.

2. Mete, aşağıdaki haritada Türkiye'nin bulunduğu yeri boyayacaktır.



Buna göre numaralanmış alanlardan hangisini boyamalıdır?

- A) 1.
- B) 2.
- C) 3.
- D) 4.

3. 19 Mayıs'ta Kurtuluş Savaşımız başladı. Türk milletinin savaş sırasında gösterdiği dayanışma tüm dünyaya örnek oldu. Bu anlamlı günü Atatürk gençlere bayram olarak armağan etti.

Hakkında bilgi verilen bayram aşağıdakilerden hangisidir?

- A) Zafer Bayramı
- B) Cumhuriyet Bayramı
- C) Ulusal Egemenlik ve Çocuk Bayramı
- D) Atatürk'ü Anma ve Gençlik ve Spor Bayramı

4. Aşağıdakilerden hangisi ülkemizdeki yöresel yemeklerimizden biridir?
A) Lahmacun B) Horon C) Güreş D) Bağlama
5. Bir okuldaki öğrenciler İstanbul gezisine otobüsle gidecektir.
Aşağıdakilerden hangisi bu otobüsteki öğrencilerin yolculuk sırasında yapması gereken davranışlardan biridir?
A) Kolunu pencereden uzatmak
B) Şoförün dikkatini dağıtmak
C) Emniyet kemerini takmak
D) Yiyeceklerin çöplerini otobüste bırakmak
6. Selin, Ankara'dan İzmir'e kara yolu taşıtı ile gidecektir.
Buna göre Selin İzmir'e aşağıdaki taşıtlardan hangisiyle gidebilir?
A) Gemi B) Uçak C) Otobüs D) Helikopter
7. Seval Öğretmen derste bir konuyu anlattıktan sonra konu ile ilgili günlük hayatından bir örnek vermiştir.

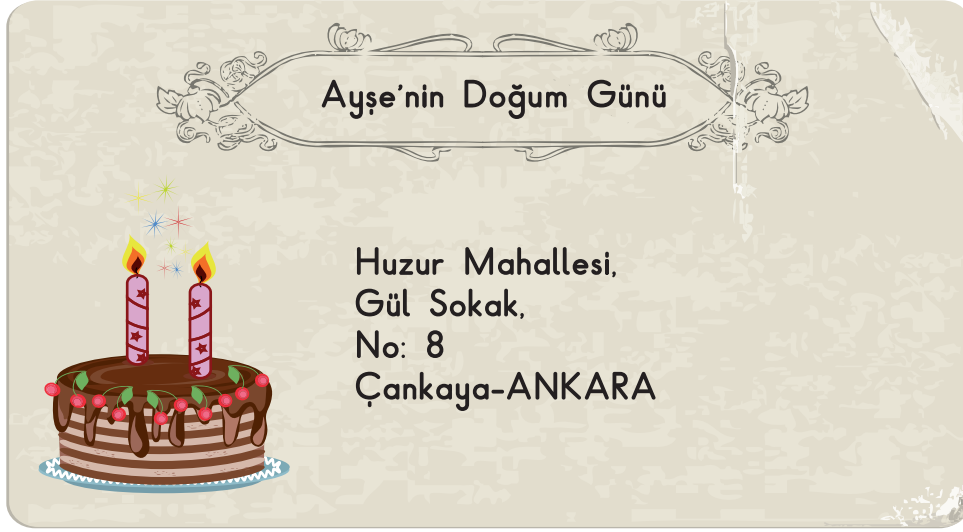


Bugün yaşlı bir teyze yolda yürürken poşetlerini taşımakta zorlanıyordu. Bu nedenle poşetlerinin bazılarını ben taşıdım.

Seval Öğretmen'in örnek verdiği konu aşağıdakilerden hangisi ile ilgilidir?

- A) Beslenme B) Yardımlaşma C) Temizlik D) Tasarruf

8. Ayşe, doğum günü davetiyesine ev adresini aşağıdaki gibi yazmıştır.



Bu adreste aşağıdakilerden hangisiyle ilgili bir bilgi yoktur?

- A) Mahalle ismi
B) Şehir ismi
C) Bina ismi
D) Sokak ismi

9. Kağan ve babası, aile albümlerine bakmaktadır. Albümde Kağan ve ailesinin yakın akrabalarıyla fotoğrafları bulunmaktadır.



Buna göre, konuşmada bahsedilen kişi Kağan'ın nesi olur?

- A) Dayısı
B) Amcası
C) Kuzeni
D) Dedesi

10. Sınıf arkadaşımızdan kalem isterken aşağıdaki ifadelerden hangisini kullanırsak nezaket kurallarına uymuş oluruz?

- A) Bana kalemi uzat.
- B) Kalemlerinden birini bana ver.
- C) Kalemini bana vermek zorundasın.
- D) Fazla kalemin varsa bana verebilir misin?

11. Merve'nin bazı dersler için okula götürmesi gereken malzemeler aşağıdaki gibidir.

Matematik	: Cetvel
Türkçe	: Sözlük
Müzik	: Flüt
Görsel Sanatlar	: Boya kalemi

Merve salı günü ders programına göre çantasına cetvel, sözlük ve boya kalemi koymuştur. Gereksiz ya da eksik malzeme koymamıştır.

Buna göre Merve'nin salı günü ders programında aşağıdaki derslerden hangisi yoktur?

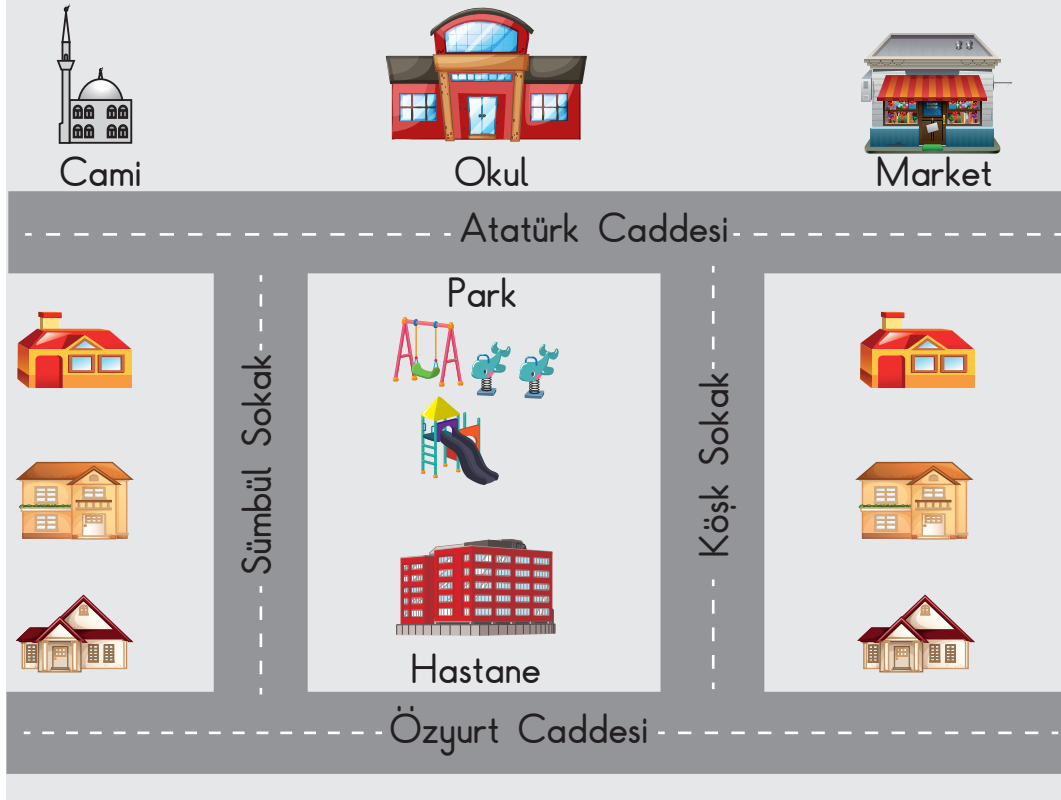
- A) Türkçe
- B) Müzik
- C) Matematik
- D) Görsel sanatlar

12. Can : Okulumuzdaki kaynakları ve eşyaları bilinçli kullanmalıyız.
Ece : Peki bunun için neler yapabiliriz?
Can : - - - -

Verilen konuşmada boş bırakılan yere aşağıdakilerden hangisi yazılırsa Can doğru bir bilgi vermiş olur?

- A) Sıralarımızın üzerini çizmeliyiz.
- B) Lavabolarda suyu boşa akıtmalıyız.
- C) Gereksiz yanan lambaları kapatmalıyız.
- D) Kalorifer yanarken pencereleri açık bırakmalıyız.

13.



Görselde, okulun bulunduğu caddede aşağıdaki yapılardan hangisi yoktur?

- A) Park B) Cami C) Market D) Hastane

14. - - - - bizi diğer insanlardan ayıran fiziksel özelliklerimizden biridir.

Cümledeki boşluğa aşağıdakilerden hangisinin yazılması uygun değildir?

- A) Duygularımız B) Kilomuz
C) Saç rengimiz D) Boyumuz

15. Elif ve ailesi verimli toprakların ve su kaynaklarının fazla olduđu bir bölgede yaşıyor. Bu bölgede iklim koşulları ve yer şekilleri tarım için uygundur.

Buna göre Elif aşağıda resimleri verilen bölgelerden hangisinde yaşıyor olabilir?

A)



B)




C)



D)



16.



Aşağıdakilerden hangisi resimde verilen hayvanlar için ortak bir özellik değildir?

- A) Büyüyüp gelişirler.
- B) Hayatlarını sürdürebilmek için beslenirler.
- C) Uçarak hareket ederler.
- D) Su ve havaya ihtiyaç duyarlar.

17. Sağlığımızı korumak için meyve ve sebzeleri normal olarak yetiştikleri mevsimde taze olarak tüketmeliyiz.

Bu bilgiye göre yazın yemek yapmak için aşağıdakilerden hangisi seçilmelidir?

- | | |
|-------------|------------|
| A) Patlıcan | B) Brokoli |
| C) Lahana | D) Pırasa |

18. Ece aşı olmak için aile sağlığı merkezine gidiyor. Burada sağlık hizmetlerini yapan görevlileri öğreniyor.

Aşağıdakilerden hangisi bu merkezde çalışanlardan biri değildir?

- | | |
|---------------|-------------|
| A) Doktor | B) Hemşire |
| C) Diş hekimi | D) Öğretmen |


19.

Zehra
Öğretmen

Sağlıklı olmak için hem bitkisel
hem hayvansal besinlerle
beslenmeliyiz.

Zehra Öğretmen'in verdiği bilgiye göre aşağıda gruplandırılmış
besinlerden hangisi seçilmelidir?

A)



B)



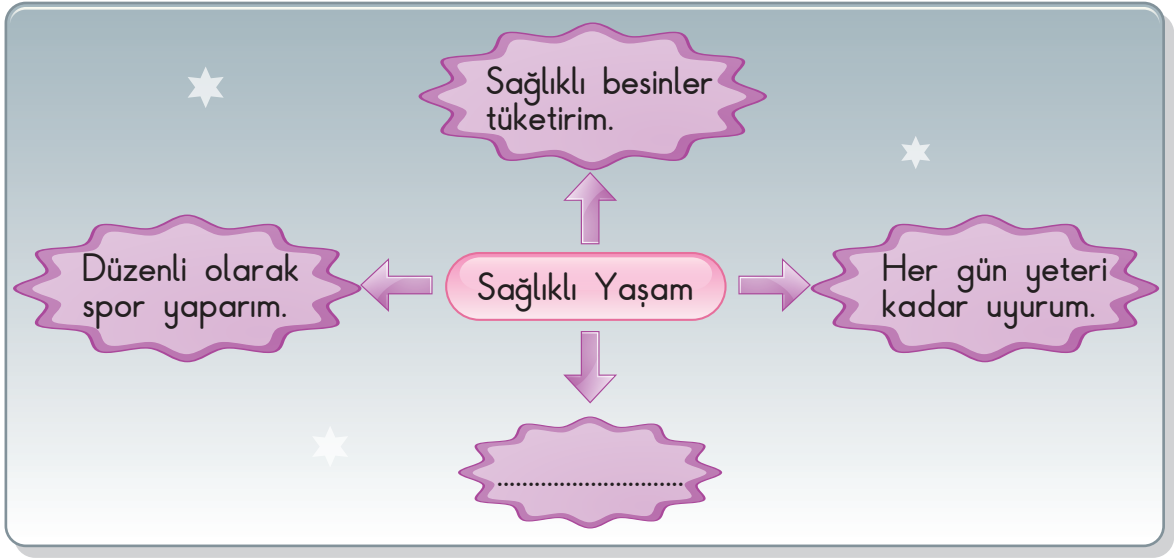
C)



D)



20. Elif, sağlıklı hayat ünitesi ile ilgili aşağıdaki posterini hazırlıyor.



Buna göre Elif'in posterinde boş bıraktığı yere aşağıdakilerden hangisi yazılmalıdır?

- A) Açıkta satılan yiyeceklerden alırım.
- B) Haftada en az iki kere banyo yaparım.
- C) Gazlı içeceklerden çok içerim.
- D) Haftada bir kere dişlerimi fırçalarım.



TEST BİTTİ.
CEVAPLARINIZI KONTROL EDİNİZ.

SINAV BAŞLAMADAN AŞAĞIDAKİ UYARILARI MUTLAKA OKUYUNUZ!

1. Öğrenciler, sınav kurallarına ve salon görevlilerinin tüm uyarılarına uymak zorundadırlar.
2. Cevap kâğıdındaki kimlik bilgilerinin doğruluğunu kontrol ediniz. Bilgiler size ait değilse veya cevap kâğıdı kullanılmayacak durumdaysa sınav görevlilerine bildiriniz.
3. Sınav başladıktan sonra öğrencilerin salon görevlileri ve birbirleri ile konuşmaları, kalem, silgi vb. şeyleri istemeleri yasaktır.
4. Değiştirmek istediğiniz bir cevabı, yumuşak silgiyle cevap kâğıdını yıpratmadan temizce siliniz ve yeni cevabınızı kodlayınız.
5. Cevap kâğıdınızı silinmeyen bir kalemle imzalayınız.
6. Cevaplarınızı, cevap kâğıdındaki ilgili soru numarasını dikkate alarak yuvarlağın dışına taşırmadan kodlayınız.
7. Soru kitapçığının sayfalarını kontrol ediniz, baskı hatası var ise değiştirilmesini sağlayınız.
8. Soru kitapçığı üzerinde yapılp cevap kâğıdına işaretlenmeyen cevaplar değerlendirmeye alınmayacaktır.
9. Soru kitapçığının içindeki boş alanları çözümlerinizi için kullanabilirsiniz.
10. Cevaplamaya istediğiniz sorudan başlayabilirsiniz.
11. Cevabını bilmediğiniz sorular üzerinde fazla zaman kaybetmeden diğer sorulara geçiniz. Zamanınız kalırsa bu sorulara daha sonra dönebilirsiniz.
12. Sınav puanınızın hesaplanmasında 3 yanlış 1 doğru cevabınızı götürcektir. Alt testler bu şekilde hesaplanarak net puanlarının toplamı toplam net puanınızı verecektir.
13. Sınav bitiminde, soru kitapçığı ve cevap kâğıdını salon görevlilerine teslim ediniz.
14. Sınav sırasında çanta, cep telefonu, saat, kablosuz iletişim sağlayan cihazlar ve kulaklık, kolye, küpe, bilezik, yüzük, broş ve benzeri eşyalar ile her türlü elektronik ve/veya mekanik cihazları yanınızda bulundurmamınız. Bu araçları yanınızda bulundurmanız ve kopya çekmeye teşebbüs etmeniz hâlinde sınavınız geçersiz sayılacaktır.
15. Cevap kâğıdınızı sınav süresince hiçbir öğrencinin göremeyeceği şekilde önünüzde bulundurunuz.
16. Sınavınızın değerlendirilmesi aşamasında, toplu kopya tespiti veya başka adayın sınav evrakını kullanmanız durumunda sınavınız geçersiz sayılacaktır.
17. Soruları ve sorulara verdiğiniz cevapları kaydetmeyiniz, hiçbir şekilde dışarı çıkarmayınız.
18. İlk 15 dakika dışarı çıkılmayacaktır.
19. Sınav evraklarını teslim etmeyenlerin sınavı geçersiz sayılacaktır.

SINAV GÖREVLİLERİNCE SINAV BAŞLAMADAN ÖNCE ÖĞRENCİLERE YAPILACAK SON UYARI!

- Soracağınız bir şey var mı? Varsa, şimdi sorunuz.
- Sınav başladıktan sonra sorularınıza cevap verilmeyecektir.
- Başlama zilini bekleyiniz.

Hepinize başarılar dileriz.

(Sınav görevlisi başlama ve bitiş saatini tahtaya yazacaktır.)

Bu kitapçığın her hakkı saklıdır. Hangi amaçla olursa olsun, kitapçığın tamamının veya bir kısmının Millî Eğitim Bakanlığı Ölçme, Değerlendirme ve Sınav Hizmetleri Genel Müdürlüğünün yazılı izni olmadan kopya edilmesi, fotoğraflarının çekilmesi, bilgisayar ortamına alınması, herhangi bir yolla çoğaltılması, yayımlanması veya başka bir amaçla kullanılması yasaktır. Bu yasağa uymayanlar, doğabilecek cezai sorumluluğu ve kitapçığın hazırlanmasındaki mali külfeti peşinen kabullenmiş sayılır.

**26 MAYIS 2019 TARİHİNDE YAPILAN VEHBİ KOÇ VAKFI,
ÖZEL KOÇ İLKOKULU VE ORTAOKULU SEVİYE TESPİT SINAVI
3. SINIF “B” KİTAPÇIĞI CEVAP ANAHTARI**

TÜRKÇE	MATEMATİK	HAYAT BİLGİSİ
1. D	1. B	1. A
2. A	2. D	2. B
3. B	3. C	3. D
4. C	4. C	4. A
5. A	5. A	5. C
6. D	6. C	6. C
7. C	7. B	7. B
8. B	8. C	8. C
9. D	9. D	9. B
10. B	10. B	10. D
11. A	11. B	11. B
12. C	12. D	12. C
13. B	13. A	13. D
14. C	14. B	14. A
15. D	15. C	15. B
16. A	16. D	16. C
17. D	17. A	17. A
18. D	18. A	18. D
19. B	19. D	19. A
20. B	20. B	20. B